

澎湖縣立文光國民中學 110 學年度第 1 學期第 1 次成績評量 7 年級國文科試卷

班級：

姓名：

座號：

讀卡 答案卷

一、國字注音(每題 1 分，共 12 分)

1. 喜上眉「尸么」	2. 「撒」嬌	3. 作法自「勺一、」	4. 隔「闕」
5. 「夕么、」根究柢	6. 「嗜」之如命	7. 消失「勿所、」盡	8. 「剔」透
9. 「勺一、」志	10. 維妙維「肖」	11. 祕「勺口世、」	12. 輕重「緩」急

二、注釋(1-6，每題 2 分；6-9，每題 1 分，共 14 分) 請直接在答案卷上作答。

三、成語配合題(每題 1 分，共 10 分。請填入正確代號)

A. 擇善固執	B. 當仁不讓	C. 錙銖必較	D. 棋逢敵手	E. 道聽塗說
F. 孔融讓梨	G. 琴瑟和鳴	H. 不讓鬚眉	I. 閉月羞花	J. 既往不咎
K. 披星戴月	L. 付之一炬	M. 匹夫之勇	N. 當仁不讓	O. 躍然紙上

- 爸爸是貨車司機，長期過著( )、南北奔波的辛苦生活。
- 他的畫技高超，所畫的花鳥，莫不生動活潑，( )。
- 謠言止於智者，這種( )的話，何必相信？
- 凡事( )，只會徒增困擾。
- 雖然大家都稱讚薇宇的容貌( )，她卻從未因此而驕傲。
- 在這場大火中，所有的家當都( )。
- 他祝福這對新婚夫妻百年好合、( )。
- 只要你能夠誠心改過向善，我們是可以的( )。
- 這場冠亞軍之戰，雙方可說是( )，因此戰況激烈。
- 他為人剛正，( )，是個值得信賴的好朋友。

四、文意理解(每題 2 分，共 30 分)

( ) 1. 「撒了滿天的珍珠和一枚又大又亮的銀幣。」關於這句詩的分析，下列敘述何者**正確**？(A)用閃耀的珍珠為夏夜增添蓬勃的生命力 (B)以明亮的滿月營造出夏夜熱鬧的氛圍 (C)月明星燦之景，給人夏夜華麗的感受 (D)珍珠與銀幣點綴夜空，凸顯夏夜的清涼。

( ) 2. 「只有窗外瓜架上的南瓜還醒著，／伸長了藤蔓輕輕地往屋頂上爬。」這句詩主要在說明下列何者？(A)寧靜的夏夜仍充滿生機 (B)藤蔓的滋長干擾深夜的靜謐 (C)夜晚的來去總是悄無聲息 (D)自然萬物歡迎夏夜的到來。

( ) 3. 「一旦把冰抽離，相信每個人的童年都會黯然失色。」這句話的含義與下列何者**最相近**？(A)冰品添加物的色彩鮮豔，奪人眼目，成為大家最難忘的童年記憶 (B)現代冰品不斷推陳出新，為孩子創造更加愉快美好的童年 (C)吃冰是童年的唯一樂事，而作者的孩子更是嗜冰如命 (D)冰品豐富了許多人的童年，具有無可取代的地位。

( ) 4. 關於〈吃冰的滋味〉的寫作手法，下列敘述何者**錯誤**？(A)開頭採「開門見山法」，直接點明題旨 (B)採順敘法，先寫早年冰品，再寫現代冰品 (C)介紹早年冰品的部分，採用「分述法」，依序介紹冰棒和冰水、刨冰、芋冰等 (D)最後以「抒發情感」作結，主要在抒發懷舊之情。

【第 1 頁結束 背面尚有試題】

( ) 5. 「我們以為善加利用時間，可以同時處理很多事，其實所完成的零星小事，只是創造出非常有效率的假象，當我們一整天都被這些說不清楚的雜事占據了，反而會令我們很沮喪。因為我們需要完整而集中的時間，做真正重要的事，才會覺得生活是有意義的。」根據這段文字，作者認為善用時間的方法為何？ (A)認清何謂重要的事，然後致力處理 (B)在有限時間內，高效率完成很多事 (C)同步處理幾件事以節省時間 (D)利用瑣碎的時間完成許多事。

( ) 6. 關於〈善用時間的方法〉的敘述，下列何者正確？ (A)連續引用名人對於如何善用時間以獲得成功的看法，加強文章說服力 (B)全文以運用時間的要訣為主題，說理脈絡分明 (C)文中多處以對比手法凸顯善用時間的好處 (D)結尾提示管理時間的重點在於找出自己渴望的事，以呼應開頭魯迅的名言。

( ) 7. 「路易斯·勃萊爾幼年時眼睛意外受傷，被一根針刺中，不幸失明，飽受黑暗摸索的痛苦。他有強烈的求知欲，卻受不能閱讀之困，為了克服這點障礙，也為了造福其他和他同樣命運的盲人，他一再地研究試驗，忍受無數的失敗挫折，終於在一八三四年，以針在厚紙上刺出符號，發明了盲人專用的點字法。」根據這段文字，下列關於路易斯·勃萊爾的說明何者正確？ (A)他天生雙眼失明，無法閱讀 (B)發明點字法的動機來自對知識的渴求 (C)他發明的點字法讓盲人恢復視力 (D)會發明點字法是偶然獲取靈感所得。

( ) 8. 「我希望它多學習一點付出的功課，在別人危難時及時伸出援手，但願這也是一雙懂得安慰的手，禱告的手。」以上這段文字，表達出何種理念？ (A)能體諒相同遭遇者的不幸 (B)犧牲小我，以完成大我 (C)具有奉獻和撫慰他人的愛心 (D)擁有包容別人過錯的胸襟。

( ) 9. 「當杜瑞功成名就歸來時，卻發現朋友的一雙手因長年的粗活變得粗糙笨拙，再也無法做精細的雕塑了。」關於這段文字，下列分析何者正確？ (A)杜瑞的功成名就，導致朋友再也無法做精細的雕塑 (B)以杜瑞的功成名就對比朋友的落魄困頓，說明人的際遇如天壤之別 (C)朋友不力求上進，杜瑞即使功成名就，也無法幫助他繼續從事雕塑 (D)以粗糙笨拙的手，說明朋友為杜瑞所做的犧牲奉獻。

( ) 10. 夏夜一詩中，時間推移由「蝴蝶和蜜蜂們帶著花朵的蜜糖回來了」的黃昏，到「當街燈亮起來向村莊道過晚安」的入夜，再到「只有夜風還醒著，／從竹林裡跑出來，／跟著提燈的螢火蟲，／在美麗的夏夜裡愉快地旅行」的深夜。下列選項，何者的時間推移順序也是「從黃昏到深夜」？ (A)春眠不覺曉，處處聞啼鳥。夜來風雨聲，花落知多少 (B)戍鼓斷人行，秋邊一雁聲。露從今夜白，月是故鄉明 (C)夕陽度西嶺，群壑倏已暝。松月生夜涼，風泉滿清聽 (D)朱雀橋邊野草花，烏衣巷口夕陽斜。舊時王謝堂前燕，飛入尋常百姓家。

( ) 11. 「知之者不如好之者，好之者不如樂之者。」指出為學歷程有三種不同的境界：知之、好之、樂之。下列何者與最高境界「樂之」最相近？ (A)性相近也，習相遠也 (B)學而不厭，誨人不倦 (C)日知其所亡，月無忘其所能 (D)發憤忘食，樂以忘憂，不知老之將至云爾。

【第2頁結束 背面尚有試題】

( ) 12. (甲) 每到夏天，糖廠福利社前總是大排長龍，爭購各類冰品，晚到一步的可能就要向隅 (乙) 刨冰的種類繁多，主要有四果冰、粉圓冰、仙草冰、愛玉冰、米苔目，或由其中二至三種混在一起 (丙) 這些刨冰的添加物，像四果、粉圓、仙草、愛玉，或色彩鮮豔、或澄澈剔透、或方塊結晶，看起來都足以奪人眼目 (丁) 串串鈴鐺聲響徹街頭巷尾，人人便知是賣芋冰的小販來了，便一哄而上，團團將小販圍住。以上文句，哪些可反映冰品廣受喜愛？ (A) 甲丙 (B) 乙丙 (C) 丙丁 (D) 甲丁。

( ) 13. 下列文句中的標點符號，何者使用正確？ (A) 鯨魚是獸類，不是魚類。蝙蝠是獸類，不是鳥類。 (B) 牙醫提醒，每天搭配使用牙線、每半年洗牙一次。 (C) 每一刻都是一個新起點、每一次與人握手都是一個承諾、一個表示內心平和的記號。 (D) 於是我也想起了在故鄉童年時代的「搖花樂」，和那陣陣的桂花雨。

( ) 14. 「我們一時一刻的需要□都有無量數的勞動者□無論是勞心或勞力□辛辛苦苦地來供給□而我們坐享其福。」上述文句的缺空處依序應填入何組標點符號？ (A) ， — ， ， (B) ， — — ， (C) ， ; ， 。 (D) ， ! — ，

( ) 15. 「原本應該帶來自由的科技，卻創造了手銬，將我們的思緒網綁在片斷零碎的訊息中。」這句話主要在說明什麼道理？ (A) 人們對科技的過度依賴，反而使思想被制約於片斷不全的資訊中 (B) 科技具有人性，對人類不理性的行為與習慣，會加以反撲 (C) 人類對自由的追求與放縱，反而如被戴上手銬一般，限縮了自由 (D) 思緒被網綁在片斷零碎的訊息中，將使人們更加嚮往科技的自由。

#### 五、閱讀理解(每題 2 分，共 24 分)

( ) 1. 「白頭後的痛苦嘆息，都是在年輕時無聊的時辰裡寫成。」這句話的含義，與下列何者最接近？ (A) 書到用時方恨少，事非經過不知難 (B) 先天下之憂而憂，後天下之樂而樂 (C) 黑髮不知勤學早，白首方悔讀書遲 (D) 沉舟側畔千帆過，病樹前頭萬木春。

( ) 2. 「一位農夫每天用一根扁擔挑著兩個水桶去河邊汲水。兩個水桶中有一個有裂縫，因此每次到家時，這個水桶總是會漏得只剩下半桶水，而另一個水桶卻總是滿的。有裂縫的水桶羞愧的說：『我覺得很慚愧，因為我有裂縫，一路上漏水，只能擔半桶水到家。』農夫回答它：『你注意到了嗎？\_\_\_\_\_，而另外的一側卻沒有。我們每天擔水回家的路上，你就給它們澆水。如果不是因為你所謂的缺陷，怎麼會有美麗的鮮花裝扮我的家呢？』」根據文意，文中畫線處應填入下列何者最恰當？

(A) 在你那一側的路平坦寬闊 (B) 在你那一側的路上開滿了花 (C) 你無形中減省我很多的力氣 (D) 我挑你的這側肩膀高出許多。

【第 3 頁結束 背面尚有試題】

( ) 3. 古蒙仁：「我從小就喜歡流浪。童年的時候在家鄉，每次看著火車從遠處轟隆轟隆的經過，開向不知名的地方，心裡對於外面的天地真是充滿了嚮往，總覺得遠方有什麼東西在召喚。」根據本文推論，古蒙仁是一個怎樣的人？ (A) 從小就對火車感興趣的人 (B) 渴望探索世界的人 (C) 希望搭乘火車去旅行的人 (D) 對現實不滿而想逃離的人。

( ) 4. 「學生問蘇格拉底：『人生是什麼？』蘇格拉底把他們帶到一片蘋果樹林，要每人挑選一隻自己認為最大最好的蘋果。不許走回頭路，不許選擇兩次。等大家穿越蘋果林到另一端時，蘇格拉底笑著問學生：『你們都挑到最滿意的果子嗎？』一個學生說：『我剛進果林時，發現很大很好的蘋果。但我想找更大更好的，走到盡頭，才發現第一個就是最好的。』另一個學生接著說：『我和他恰好相反。我走進果林不久，就摘下了我認為最大最好的果子。可是，後來又發現更好的。所以，有點後悔。』『老師，讓我們再選擇一次吧。』蘇格拉底笑了笑，堅定的搖搖頭說：『孩子們，這就是人生。』」(人生是什麼)本文中，蘇格拉底所謂的「這就是人生」指的是什麼？ (A) 人生是一一次次無法重複的選擇 (B) 人生是貪心而難以滿足現狀的 (C) 人生是錯誤而後悔的一段過程 (D) 人生像蘋果一樣並沒有最好的。

( ) 5. 卓別林：「時間是一個偉大的作者，它會給每個人寫出完美的結局來。」這段文字給予我們什麼啟示？ (A) 在時間的稿紙上，每個人時時刻刻都在寫著自己的歷史 (B) 寫作時若缺乏靈思，可耐心等待，日後靈感自然會湧現 (C) 遇事無法解決時，不必擔憂，時間會帶給你完美的結局 (D) 好的作品經得起時間的考驗，千百年後仍為人們所讚頌。

( ) 6. 「大地是我的□，以軟軟的稻草為蓆，早出的月亮，是天花板上的□□。天色漸暗，一匹黑紗帳自動掛下，那是天底下唯一的一件蚊子進得來出不去的蚊帳，於是，翻身隨手拖一束酥酥鬆鬆的稻草當毯子。竹篋裡正播送著田園交響的最後一個樂章—□□□。」這段文字的空格處，依序應填入下列何者**最恰當**？ (A) 床／吊燈／催眠曲 (B) 家／浮雕／起床號 (C) 夢／掛鐘／安魂曲 (D) 心／天窗／進行曲。

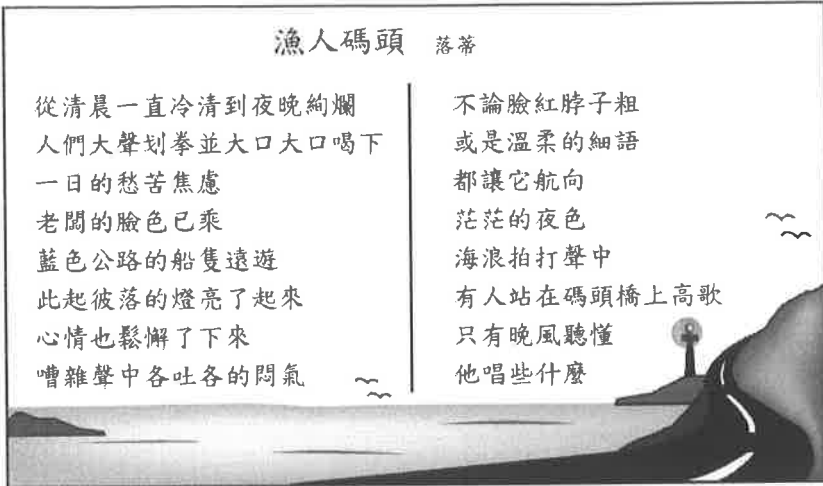
( ) 7. 「我曾住一民宿，老闆夫婦整地花了兩年，蓋木屋又花兩年，我坐在他們的海畔露臺發呆，見兩人不住手地洗曬、打掃、烹煮、修繕……。晚餐過後，終於得空歇手，他們拿來滷菜與我們飲食閒聊，屈指數算每日固定的勞務，就算沒有房客也不可思議地多。大破大立都容易，維持最難；人尋死覓活都容易，賴活最難。」這段文字的意涵與下列何者**最接近**？ (A) 真實的生活一直都是件辛苦的事 (B) 保持悠閒的心情才能愉悅的生活 (C) 小人物就算辛勤工作，也不容易翻身 (D) 歷經大風大浪，方可領略平凡的美好。

【第4頁結束 背面尚有試題】

漁人碼頭 落蒂

從清晨一直冷清到夜晚絢爛  
人們大聲划拳並大口大口喝下  
一日的愁苦焦慮  
老闆的臉色已乘  
藍色公路的船隻遠遊  
此起彼落的燈亮了起來  
心情也鬆懈了下來  
嘈雜聲中各吐各的悶氣

不論臉紅脖子粗  
或是溫柔的細語  
都讓它航向  
茫茫的夜色  
海浪拍打聲中  
有人站在碼頭橋上高歌  
只有晚風聽懂  
他唱些什麼



( ) 8. 關於本詩詩意的解說，下列敘述何者最恰當？ (A) 人們通過抱怨、傾訴、引吭，得以釋放情緒 (B) 老闆的臉色，因為夜晚遊人湧至而轉憂為喜 (C) 乘船夜遊的人們，通宵達旦飲酒划拳以取樂 (D) 晚風吹拂之下，歌者的落寞感染碼頭的遊人。

( ) 9. 「神話是民族的夢。遠古的神話，出自先民的集體創作，由口頭傳說到文字記載。神話雖然是虛構的，卻植根於現實生活的基礎上，反映了先民對於自然現象的解釋和想像，同時又顯現了先民對抗大自然的搏鬥精神、對幸福自由的渴望和追尋，以及偉大愛情的歌頌等。神話不僅為後世的文學藝術提供豐富的美麗題材，更是民族文化的寶藏。」根據這段文字，下列關於神話的敘述何者最恰當？ (A) 神話呈現先民面對大自然的種種心態與想望 (B) 文學藝術作品為神話提供了豐富的靈感與素材 (C) 神話的可貴在於它如實保存了先民生活的樣貌 (D) 先民集體創作的的神話是由文字記載發展為口頭傳說。

( ) 10. 「名利竟如何？歲月蹉跎，幾番風雨幾晴和。愁水愁風愁不盡，總是南柯。」這段文字是鄭板橋經過多年的宦海浮沉，有所感悟而寫下。其中的心境與體會和下列何者最相近？ (A) 悔嘆少年不努力，臨老徒傷懷 (B) 體悟官場雖險惡，仍應潔身自持 (C) 看透世情，視榮祿富貴如夢一場 (D) 主張為官當實事求是，毋枉毋縱。

( ) 11. 「過年病房廊道竟悄悄的，猶如在星際漂浮的太空船，護理站更像是零星一兩個太空人守著空蕩蕩的太空站之感。母親的病房外是一座運動場，平日跑步運動的人不見了，幾個小孩放著沖天炮，偶爾閃過窗邊的鞭炮聲卻十分孤寂。過年了，我說。拉開蘋果綠簾子，母親撇頭忘了窗外一眼，旋即闔上目光，瞳孔一瞬間有點濡溼。這是我見過最寂寥的病房時光，連看護都要請假拜拜與吃年夜飯。病人是回家的回家，送短期安養院的送安養院，剩下沒有其他選項的病人，我聽見廊道的盡頭有一家人在互道新年快樂，我剝了顆柑橘，果皮的氣味瞬間掩過鼻息，我面無表情地一瓣接著一瓣，吃著吃著忽然很想掉淚。」(鍾文音〈捨不得不見你：女兒與母親，世上最長的分手距離〉根據本文，下列推論何者正確？ (A) 母親病房外平時可見小孩玩耍，過年人潮銳減而顯冷清 (B) 母女二人孤苦在醫院過年，以致於連鞭炮聲都顯得孤寂 (C) 作者因必須負擔住院費用而請不起看護，感到萬分無奈 (D) 聽見他人在走廊上相互道賀，作者毫無反應且不以為然

【第5頁結束 背面尚有試題】

( ) 12. 「學習時，我們不應該像螞蟻，單是收集；也不可以像蜘蛛，只從自己肚中抽絲；而應像蜜蜂，既收集，又整理，這樣才能釀出香甜的蜂蜜來。」下列何者最符合這段話所呈現的觀點？ (A)學習時要時時溫故知新 (B)學習時要能夠融會貫通 (C)學習時要勤於蒐集資料 (D)學習時要效法昆蟲生活

六、題組(每題 2 分，共 10 分)

深夜，患者迎來了他生命的最後一分鐘，死神如期來到他的身邊。

隔著氧氣罩，他含糊的對死神說：「再給我一分鐘，就一分鐘，好嗎？」

死神說：「我不能答應你。因為我留了時間給你，你卻沒有珍惜。」

「在你六十年的生命中，你有一半時間在睡覺。在餘下的三十年中，你曾嘆息時間過得太慢的次數是一萬次，其中包括你少年時期在課堂上，青年時期在等待約會的長椅上，中年時期下班前和老年時期等待退休的日子裡。你幾乎每天都覺得時間太慢、太難熬，因此想出許多排遣無聊時間的辦法：打麻將、喝酒，此外，同事之間的應酬，對張三說李四的壞話、對李四又說張三的壞話。」

「除了這些，你還無數次嘆息生命的無聊空虛寂寞，趕潮流學人家上網，化名『溫柔帥哥』，每天十幾小時的泡在聊天室裡和一大群真真假假的女人找感覺。」

「你還開了無數有較強催眠作用的會，而且你又主持了許多類似的會，使更多人的睡眠也和你一樣超標，還有……。」

死神想繼續往下念的時候，發現病人的眼中，生命之火已經熄滅了。

(改寫自死神的帳單)

( ) 1. 文中患者臨終前，請求死神「再給我一分鐘」由此可看出何種人性？ (A)失去才知珍惜 (B)貪婪不知滿足 (C)卑微缺乏自信 (D)自私不顧他人。

( ) 2. 根據本文，下列何者不是一般人用來排遣無聊時間的辦法？ (A)打麻將 (B)喝酒應酬 (C)開無聊的會 (D)上網找異性聊天。

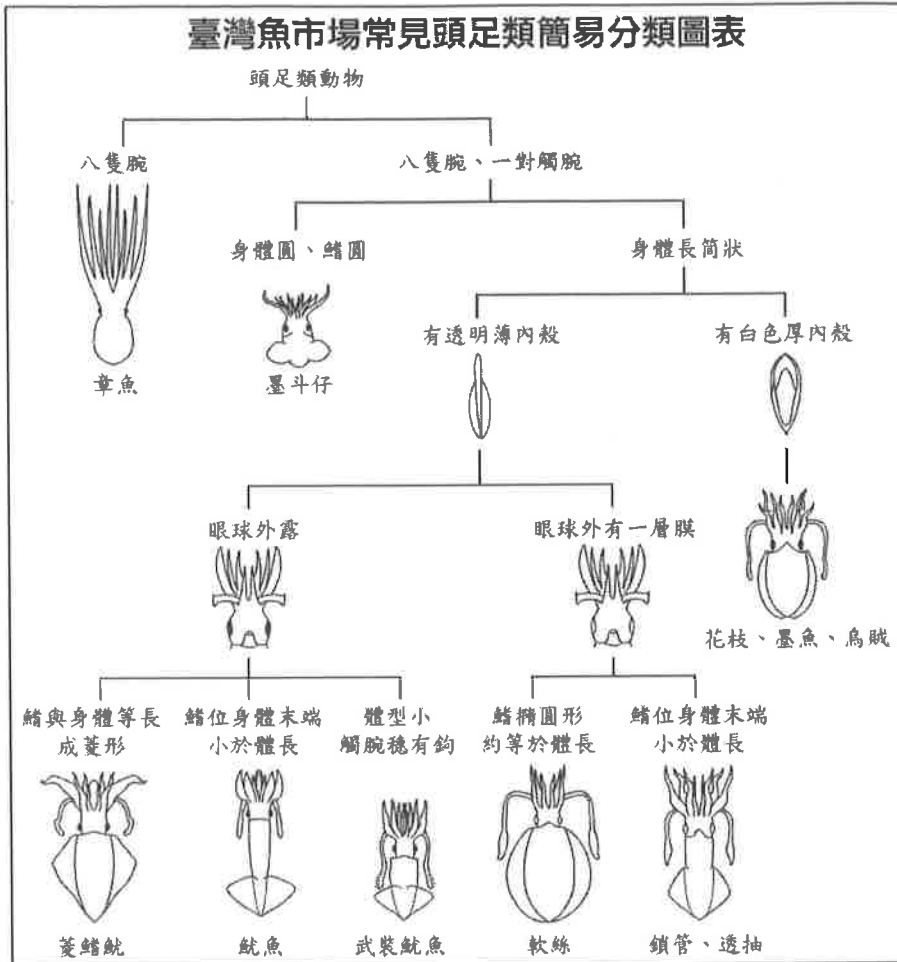
劉丞相在位時，族人偶有逋負 (a) 官租數十萬，丞相不知也。官吏多望風不敢問。程公珣為廬陵縣尉，主賦事，始追逮囚繫，責令盡償而後已。或以告丞相，丞相曰：「賦入不時，吾家之罪，縣官安可屈法也！」乃致書謝之。後珣罷官至京師，丞相延見，禮貌有加。珣出，謂人曰：「劉公偉量，非他人能及，真宰相也。」(改寫自曾敏行《獨醒雜誌》)

【注釋】(a) 逋負：拖欠賦稅。

( ) 3. 根據本文，下列敘述何者最恰當？ (A)劉丞相譴責廬陵縣尉程珣執法不公 (B)族人的欠款最終由劉丞相代為償還 (C)官吏多畏於劉丞相權勢，而不追查欠稅案情 (D)程珣追債過於嚴苛，因此得罪劉丞相而遭罷官。

【第 6 頁結束 背面尚有試題】

### 臺灣魚市場常見頭足類簡易分類圖表



( ) 4. 阿康出海捕到一隻生物，身體呈長筒狀，鰭約等同於體長，八腕，另有一對觸腕，剖開後發現內有白色厚殼。根據此表判斷，這隻生物最可能是下列何者？

(A) 軟絲 (B) 墨魚 (C) 菱鰭魷 (D) 武裝魷魚。

( ) 5. 根據這張圖表，下列敘述何者最恰當？ (A) 透抽的眼球外露，有透明薄內殼 (B) 軟絲身體長，有白色厚內殼，鰭橢圓 (C) 烏賊和墨斗仔的區別在於有無一對觸腕 (D) 菱鰭魷跟魷魚可由身體與鰭的長度比例來區別。

【試題結束—文光 七年級、國文】

班級：

姓名：

座號：

一、國字注音(每題 1 分，共 12 分)

1.	2.	3.	4.	5.	6.
7.	8.	9.	10.	11.	12.

二、注釋(1-5，每題 2 分；6-9，每題 1 分，共 14 分)

1. 童叟無欺：	
2. 朦朧：	3. 山巒：
4. 惶然：	5. 不時之需：
6. 騰：	7. 向「隅」：
8. 垂「涎」三尺：	9. 名聞遐「邇」：

三、成語配合題(每題 1 分，共 10 分。請填入正確代號)

1	2	3	4	5	6	7	8	9	10
---	---	---	---	---	---	---	---	---	----

四、文意理解(每題 2 分，共 30 分)

1.	2.	3.	4.	5.	6.	7.	8.
9.	10.	11.	12.	13.	14.	15.	

五、閱讀理解(每題 2 分，共 24 分)

1.	2.	3.	4.	5.	6.
7.	8.	9.	10.	11.	12.

六、題組(每題 2 分，共 10 分)

1.	2.	3.	4.	5.
----	----	----	----	----

【作答完畢，請記得檢查！】



澎湖縣立文光國民中學 110 學年度第 1 學期 7 年級第一次段考數學科試卷

班級： 姓名： 座號： 讀卡 V 答案卷

一、選擇題 (每題 4 分，共 40 分)

( ) 1. 已知  $2$ 、 $-3$ 、 $-2\frac{1}{2}$ 、 $0$ 、 $-2$ ，則下列何者正確？

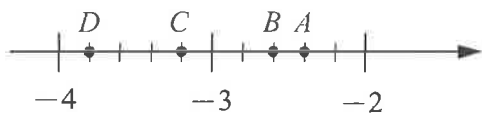
(A)  $-2 < -2\frac{1}{2} < -3 < 0 < 2$

(B)  $-3 < -2\frac{1}{2} < -2 < 0 < 2$

(C)  $-2 < 0 < 2 < |-3| < |-2\frac{1}{2}|$

(D)  $|2| < |0| < |-2| < |-2\frac{1}{2}| < |-3|$

( ) 2. 如附圖，數線上  $A$ 、 $B$ 、 $C$ 、 $D$  四個點中，哪一點代表  $2\frac{2}{5}$  的相反數？



(A) A (B) B (C) C (D) D

( ) 3. 計算  $(-53) \times 118 \times 0 - (-54) \div 6 \div (-3)$  的值為何？

(A) 4 (B) 3 (C) -4 (D) -3

( ) 4. 下列何者為正確的科學記號表示法？

(A)  $0.5 \times 10^{-6}$  (B)  $10 \times 10^5$  (C)  $1 \times 10^{12}$   
(D)  $5.3 \times 7^8$

( ) 5. 下列哪一個式子錯誤？

(A)  $(-3)^3 > (-3)^5 > (-3)^7$

(B)  $3^3 < 3^4 < 3^5$

(C)  $(-3)^3 > (-3)^4 > (-3)^5$

(D)  $-3^3 > -3^4 > -3^5$

( ) 6. 已知  $10 \times 11 \times 12 \times 13 \times 14 = 240240$ ，則  $(-11) \times (-12) \times (-13) \times (-14) \times (-15) = ?$

(A) 320320 (B) 360360

(C) -320320 (D) -360360

( ) 7.  $(8-11)^2 + |5 \times (-3)| - 3 \times (-2)^3 = ?$

(A) 42 (B) 44 (C) 46 (D) 48

( ) 8. 下列哪一個敘述不正確？

(A) 數線上愈右邊的點，所代表的數愈大

(B) 零大於所有的負數

(C) 負數的相反數仍是負數

(D) 負數的絕對值是一個正數

( ) 9. 海關在清查貨品時搜出了 8 大箱的毒咖啡，並發現在每大箱裡有 8 個小箱子，在每個小箱子裡有 8 袋的毒咖啡，而每袋裡裝了 8 小包，則此次查扣的毒咖啡共有幾小包？

(A)  $8 \times 4$  (B)  $8^9$  (C)  $8^4$  (D)  $4^8$

( ) 10. 情人節要到了，俊俊打算購買一束 999 朵的紅玫瑰花送給女朋友花花，表示「愛妳久久久」。已知 1 朵紅玫瑰花賣 39 元，請問俊俊需花費多少元？

(A) 38961 (B) 37961 (C) 38921

(D) 379991

二、填充題 (每題 4 分，共 40 分)

1. 為因應防疫政策，學校規定學生每天都要量體溫，一般人的正常體溫為  $37^\circ\text{C}$ 。若以體溫  $38^\circ\text{C}$  記為 +10，則體溫為  $35.5^\circ\text{C}$  時，應記為\_\_\_\_\_。

2. 若數線上有一點 A (-5)，則與 A 點距離為 9 的點坐標為\_\_\_\_\_。

3. 計算  $175 \times 81 + 19 \times 125 + 81 \times 125 + 175 \times 19 =$ \_\_\_\_\_。

4. (1) 0 的相反數為\_\_\_\_\_； (1 分)

$|-2\frac{1}{2}|$  的相反數為\_\_\_\_\_。(1 分)

(2) -4.7 的絕對值為\_\_\_\_\_； (1 分)

$-(-3)$  的絕對值為\_\_\_\_\_。(1 分)

5. 絕對值等於 12 的數有\_\_\_\_\_個，絕對值小於 12 的整數有\_\_\_\_\_個。(各 2 分)

背面尚有試題，請繼續作答!

6. (1)  $567 \times (-998) =$  \_\_\_\_\_。 (2分)

(2)  $12345 \times 2345 - 12345^2 =$  \_\_\_\_\_。 (2分)

7. 在射擊遊戲中，射中目標可得5分，沒有射中目標則扣2分。已知阿志玩此遊戲共射10發，其中有8發射中目標，則阿志共得\_\_\_\_\_分。

8. 計算  $|237 - 1999| \times 13 + (11 + 227) \times 13$   
 $=$  \_\_\_\_\_。

9. 光1秒約走30萬公里，光1分鐘走\_\_\_\_\_公里。(以科學記號表示)

10. 從-1、-2、-3、-4、-5、-6中任取三個數相乘，則最大乘積為\_\_\_\_\_，最小乘積為\_\_\_\_\_。(各2分)

### 三、計算題 (每題4分，共20分)

1. 畫出一條數線，並在數線上標示出  $P(-2)$ 、 $Q(-3\frac{1}{3})$ 、 $R(2.3)$  三點。

2. 計算下列各式：

(1)  $(-5) \times 7 + (-5)^3 \times (-2)$  (2分)

(2)  $[-(-3)^2 - 6] \div 5 + (-9) \times 4$  (2分)

3. 計算  $1999 \times 19981998 - 1998 \times 19991999 = ?$

4. 若  $|-3\frac{2}{7}| < |甲| < |8\frac{1}{3}|$ ，則滿足甲的整數有多少個？

5. 草履蟲是一種微小的單細胞生物，其身體呈圓筒形，前端較圓，中後部較寬，後端較尖，平面看形狀像倒置的草鞋，故名草履蟲。此外，在適宜的環境之下，草履蟲可以進行分裂，每經過1分鐘，草履蟲數量會增加為原來的2倍。現在器皿中有5隻草履蟲，那麼請問6分鐘後的草履蟲數量有多少隻？

**試題結束**  
**祝各位考試順利~**




澎湖縣立文光國中 110 學年度第一學期第一次定期評量七年級英語科試題

Class : \_\_\_\_\_ Number : \_\_\_\_\_ Name : \_\_\_\_\_

一、辨識句意-根據聽到的內容，選出正確的圖片代碼：2% (每題 2 分)

- ( ) 1. (A) \_\_\_\_\_ (B) \_\_\_\_\_ (C) \_\_\_\_\_  
 0962-330-988      0926-330-988      0926-330-998



- ( ) 2. (A)  (B)  (C) 

二、基本問答-根據聽到的內容，選出合適的回應：4% (每題 2 分)

- ( ) 3. (A) They're dirty. (B) They're geese. (C) That's a nice picture.  
 ( ) 4. (A) No, she is my wife. (B) Yes, she is a doctor. (C) No, she is an actress.

三、言談理解-根據聽到的對話內容與問題，選出正確的答案：4% (每題 2 分)

- ( ) 5. (A) Mike. (B) Lorry. (C) James.  
 ( ) 6. (A) Tony's wife. (B) Peggy's mother. (C) Tony's daughter.

四、文意字彙：20% (每題 2 分)

- \_\_\_\_\_ 1. Bears are big and h\_\_\_\_y.  
 \_\_\_\_\_ 2. There are s\_\_\_\_y minutes(分鐘) in an hour(小時).  
 \_\_\_\_\_ 3. H\_\_\_\_os like to hide (藏) under the water.  
 \_\_\_\_\_ 4. Lisa: What's that on the p\_\_\_\_d? Sandy: It's the Taj Mahal.  
 \_\_\_\_\_ 5. You got 95 p\_\_\_\_ts. You are the winner tonight.  
 \_\_\_\_\_ 6. The TV show is w\_\_\_\_l. I like it very much.  
 \_\_\_\_\_ 7. My father is my mother's h\_\_\_\_d. They love each other(彼此).  
 \_\_\_\_\_ 8. The river is very d\_\_\_\_y, not clean.  
 \_\_\_\_\_ 9. Look! The trees and flowers are so b\_\_\_\_l.  
 \_\_\_\_\_ 10. My father isn't happy. He's very a\_\_\_\_y now.

五、填充：13% (每題 1 分) (每格只填一個字)

A. 填入下列名詞的複數

1. mouse → \_\_\_\_\_  
 2. housewife → \_\_\_\_\_  
 3. puppy → \_\_\_\_\_  
 4. sheep → \_\_\_\_\_  
 5. brush → \_\_\_\_\_

B. 將下列印刷體字母互換(大寫改小寫，小寫改大寫)

6. RABBIT \_\_\_\_\_  
 7. UMBRELLA \_\_\_\_\_  
 8. orange \_\_\_\_\_  
 9. favorite \_\_\_\_\_

C. 填入正確的疑問詞

A :   10.   is that?

B : It is a picture.

A :   11.   are the people in the picture?

B : They are my family. Look! The two children are my cousins, Kevin and Lucy.

A :   12.   old are your cousins?

B : Kevin is seven and Lucy is five.

A :   13.   are they from?

B : They are from Japan.

六、文法測驗：20% (每題 2 分)

- ( ) 1. They are my students, and the pencils are for \_\_\_\_\_ .  
(A) they (B) them (C) he (D) him
- ( ) 2. My sister, Nancy, \_\_\_\_\_ very tall.  
(A) am (B) are (C) is (D) ×
- ( ) 3. 選出正確的句子。  
(A) This toys is dirty.  
(B) They are my pen.  
(C) My mom are very tall.  
(D) A monkey is an animal.
- ( ) 4. Paul: What are your names? Sam: \_\_\_\_\_ names are Sam and Sara.  
(A) Her (B) Our (C) Your (D) Their
- ( ) 5. A: Is \_\_\_\_\_? B: No, it isn't.  
(A) this blue box my (B) my box this blue  
(C) this my blue box (D) my this blue box
- ( ) 6. 選出正確的句子。  
(A) Jenny is a one-year-old girl.  
(B) I'm short, and my brothers aren't.  
(C) The bike is cool. I like them.  
(D) Mike's brother is thirteen year old.
- ( ) 7. Helen: Isn't your brother tall? Rachel: \_\_\_\_\_.  
(A) Yes, he is short (B) No, he is tall  
(C) No, the tall boy is my brother (D) Yes, he is very tall
- ( ) 8. A: Are \_\_\_\_\_ Jack's students?  
B: Yes. And they're playing basketball.  
(A) those; man (B) they; men (C) those; men (D) they; man
- ( ) 9. Max: How are you doing? Victoria: \_\_\_\_\_.  
(A) See you. (B) What's up? (C) Good evening. (D) I'm doing great.
- ( ) 10. Susan: Dad, this is my classmate, Jimmy.  
Freddy: \_\_\_\_\_, Jimmy.  
(A) I'm fine (B) Thank you (C) Who are you (D) Nice to meet you

澎湖縣立文光國中 110 學年度第一學期第一次定期評量七年級英語科試題答案卷

Class :                      Number :                      Name :

一、辨識句意：2% (每題 1 分)

1.	2.
----	----

二、基本問答：4% (每題 2 分)

3.	4.
----	----

三、言談理解：4% (每題 2 分)

5.	6.
----	----

四、文意字彙：20% (每題 2 分)

1.	2.	3.	4.	5.
6.	7.	8.	9.	10.

五、填充：13% (每題 1 分) (每格只填一個字)

1.	2.	3.	4.	5.
6.	7.	8.	9.	
10.	11.	12.	13.	

六、文法測驗：20% (每題 2 分)

1.	2.	3.	4.	5.
6.	7.	8.	9.	10.

七、閱讀測驗：12% (每題 2 分)

1.	2.	3.	4.	5.	6.
----	----	----	----	----	----

八、依提示完成句子：10% (每題 2 分)

1.
2.
3.
4.
5.

九、翻譯：15% (每題 3 分)

1.
2.
3.
4.
5.

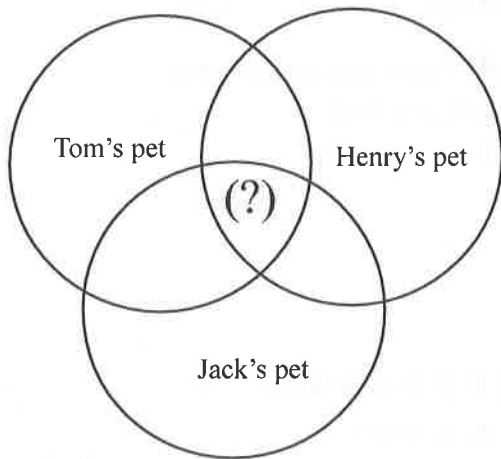
七、閱讀測驗：12%（每題 2 分）

A.

Here are some things (事項) about the three students' pets (寵物)

Students' Names	Pets	Favorites
Henry	A dog (white and yellow)	Bananas. Sleeping with Henry. Playing a ball.
Jack	A cat (black)	Apples. Sleeping in the box. Playing with Jack.
Tom	A duck (white)	Bananas, apples, oranges. Sleeping under the tree. Flying in the park.

( ) 1. What can we write in (?) about the three pets?



- (A) Eating fruit.
  - (B) Playing with dogs.
  - (C) Having white color.
  - (D) Sleeping in the room.
- ( ) 2. I am Kelly. My pet is a rabbit. Her name is Raby. Apples are her favorite fruits and she likes sleeping in a box. What pet is the same (相同的) as Raby about their favorite things?
- (A) Tom's pet.
  - (B) Henry's pet.
  - (C) Jack's pet.
  - (D) No pets are the same as Raby.

B.

Hi, I am Luke Chang. I am a junior high school student. Now I am 14 years old. Emma is my cousin. She is also my classmate. We are in the same class. This is my family. My grandfather, Sam Chang, is a doctor, and his wife is Amanda. She is a nurse. She is from the USA. Their son is Tim. He is my father. He is also a doctor. He is 40 years old. My mother, Carol, is a police officer. She is 38 years old. Hank Chang is a writer. He is 17 years old. He is my brother and my sister, Amy Chang, is a singer. She is 19 years old. We are a happy family.

Hi! My name is Emma Chang. I am 14 years old. This is my father, William Chang. He is a cook. He is 42 years old. His father is Sam Chang. We are from the UK. And Kate from Japan is my mother. She is a teacher in my school. She is 41 years old. My brother, James and I are in the same school in Taiwan now. Oh, that is Tigger. He is our cat. He is 12 years old. A very old cat, right?

 same 相同

- ( ) 3. Where is William from?  
(A) Japan. (B) Taiwan (C) The UK. (D) The USA.
- ( ) 4. Who is Kate?  
(A) She is James and Emma's classmate.  
(B) She is William's sister.  
(C) She is James' aunt.  
(D) She is a teacher in Emma's school.
- ( ) 5. Who are Sam and William?  
(A) They are father and son. (B) They are classmates.  
(C) They are brothers. (D) They are cousins.
- ( ) 6. What is the best title for the reading?  
(A) The ages of the family.  
(B) The jobs of the family  
(C) The Chang family.  
(D) Luke's family.

八、依提示完成句子：10%（每題 2 分）

1. That is a clean goose. (將名詞改為複數並做適當變化)
2. Fruit is my favorite food. (依畫線部分造原問句)
3. number / What's / phone / your / ? (句子重組)
4. Is Peter's mother an actress? (以「職員」回答，先簡答再詳答)
5. The boy is my cousin, Danny. (依畫線部分造原問句)

九、翻譯：15%（每題 3 分）

1. 我們的朋友來自世界各地。
2. 她是個聰明的人。
3. 你們準備好要比賽了嗎？
4. 我是一位來自台灣的國中生。
5. 看!那些是我的腳印。


# 澎湖縣立文光國中110學年度第一學期第一次段考自然科試題

【答案需填入答案卡中】

■讀卡

7年 \_\_\_班 座號：\_\_\_ 姓名：\_\_\_\_\_

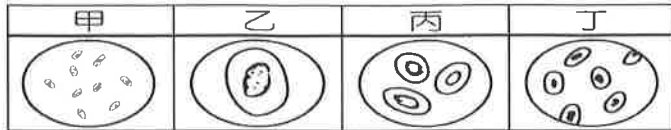
- ( ) 以下是科學方法的數項步驟，(甲)提出問題；(乙)實驗；(丙)觀察；(丁)提出假設；(戊)分析實驗結果並提出結論。其正確的順序為何？ (A)甲丙乙丁戊 (B)乙戊丙甲丁 (C)丙甲丁乙戊 (D)戊丁丙甲乙。
- ( ) 下列關於科學方法之敘述，何者正確？ (A)透過觀察後，提出問題 (B)若實驗結果與假設不符合時，應修改假設或重新設計實驗，使假設與實驗結果相符 (C)用科學方法所成立的學說，是不變的真理，永遠不會被推翻 (D)實驗時，為了節省時間，實驗組與對照組可以同時有多個變因不同。
- ( ) 梅雨季時陰雨連綿，媽媽叫小軒去倉庫的除溼機打開，避免東西發霉，因此小軒心想：水分是否會影響黴菌的生長呢？他查了許多資料後認為「雨季溼度高，水分應該會促進黴菌的生長。」其「」的內容是屬於科學方法中的何者？ (A)觀察 (B)問題 (C)假設 (D)學說。
- ( ) 關於酒精燈的使用方法，下列何者正確？ (A)實驗前，必須將酒精燈內的酒精完全加滿 (B)可用燈罩蓋熄或以口吹熄酒精燈 (C)若不小心打翻酒精燈導致起火燃燒，應迅速用溼抹布蓋熄 (D)可用已點燃的酒精燈引燃另一個酒精燈。
- ( ) 加熱藥品時，使用陶瓷纖維網，是因為以下何種原因？ (A)加熱的藥品可以均勻混合 (B)放在上面的器皿較穩固 (C)增加實驗裝置的美感 (D)可以均勻加熱。
- ( ) 有關生物生存的敘述，下列何者錯誤？ (A)岩石、礦物等屬於非生物 (B)生物能表現出生命現象，非生物則否 (C)大部分生物生存的條件有空氣、水、陽光和養分 (D)若沒有太陽，生活在深海中的魚類完全不受影響。
- ( ) 甲.植物人；乙.石頭；丙.細菌；丁.小草，上述屬於非生物者共有幾項？ (A)1項 (B)2項 (C)3項 (D)4項。
- ( ) 關於生物和非生物的比較，下列何者正確？ (A)生物需要能量，非生物則否 (B)生物不能表現生命現象，非生物則可以 (C)生物和非生物皆需陽光、空氣、水和養分以維持生存 (D)生物無法存在於陽光照射不到的地方，非生物則可以。
- ( ) 下列何者不屬於生命現象？ (A)稻穗在風中搖曳 (B)母雞孵蛋 (C)小樹長成大樹 (D)小狗吐舌頭。
- ( ) 池水內的小東西是否為生物，可根據下列哪一項來初步推論？ (A)顏色種類 (B)形狀、大小 (C)有無氣味 (D)能否能生長或繁殖。
- ( ) 關於解剖顯微鏡的敘述，下列何者錯誤？ (A)使用解剖顯微鏡可觀察到病毒 (B)解剖顯微鏡的最大放大倍率較複式顯微鏡低 (C)解剖顯微鏡適合觀察不透光的樣本 (D)解剖顯微鏡常被用來觀察動、植物的表面構造。
- ( ) 小丸子在載玻片上寫「pd」後，放在解剖顯微鏡下觀察，則他所看到的影像為下列何者？(不計放大倍率) (A)pd (B)qb (C)pb (D)qd。
- ( ) 使用複式顯微鏡觀察時，若光圈和反光鏡不動，則高倍物鏡下的視野與低倍物鏡下的視野有何差異？ (A)高倍物鏡：範圍較大，亮度較亮 (B)低倍物鏡：範圍較大，亮度較暗 (C)高倍物鏡：範圍較小，亮度較亮 (D)低倍物鏡：範圍較大，亮度較亮。
- ( ) 附圖是杰倫使用解剖顯微鏡觀察被麻醉的蜜蜂時，視野中所見的影像。他想將蜜蜂影像移至視野中央，則應將載玻片往哪一方向移動？ (A)右上方 (B)右下方 (C)左上方 (D)左下方。



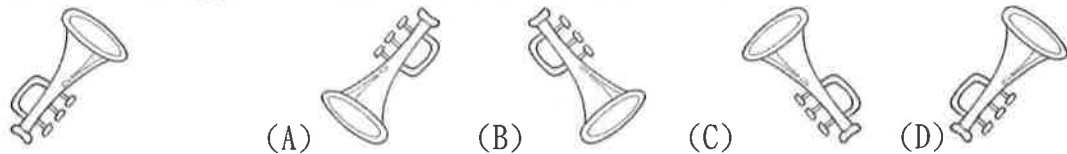
【背面尚有試題】



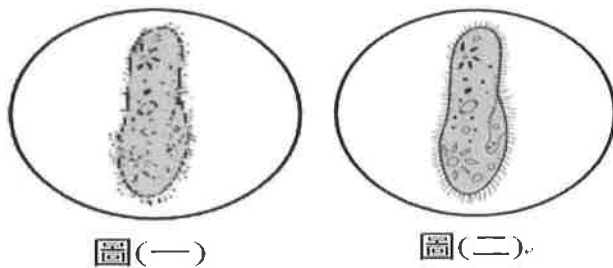
15. ( ) 附圖是細胞在複式顯微鏡不同倍率下所呈現的影像，試問何者的視野亮度最亮？(其餘條件皆相同) (A)甲 (B)乙 (C)丙 (D)丁。



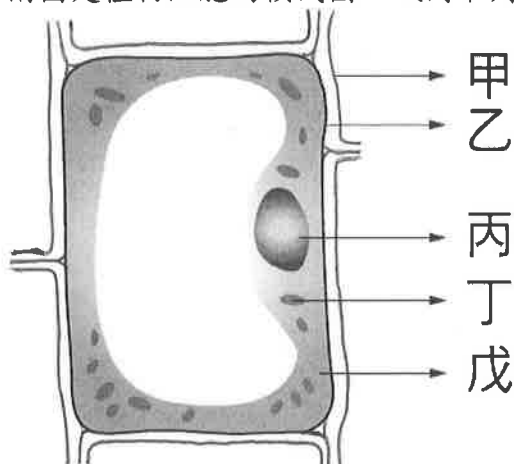
16. ( ) 明螢準備了一小張透明紙，上面畫了一個小小的喇叭圖形(如附圖所示)，請問若將此圖片放入複式顯微鏡下觀察，則所看到的影像為何？



17. ( ) 小麥利用複式顯微鏡觀察如附圖(一)的細胞，發現影像並不清楚，則小麥應調整顯微鏡的何種構造，才能使影像如附圖(二)一樣清楚？ (A)光圈 (B)物鏡 (C)細調節輪 (D)反光鏡。



18. ( ) 綠色植物細胞內的構造有細胞膜、細胞核、細胞質、葉綠體、細胞壁、粒線體和液泡，其中有幾項是一般動物細胞中所沒有的？ (A)2項 (B)3項 (C)4項 (D)5項。
19. ( ) 關於動、植物細胞的敘述，下列何者錯誤？ (A)植物細胞因具有細胞壁，所以有支持的功能 (B)能行光合作用的植物細胞之葉綠體存在於細胞質中 (C)動、植物細胞皆含有細胞核 (D)動、植物細胞皆含有粒線體，但只有植物細胞有液泡。
20. ( ) 許多科學家致力於解開遺傳密碼，從事 DNA 的研究，請問科學家必須從細胞的哪一個構造中取得 DNA？ (A)細胞膜 (B)液泡 (C)細胞核 (D)細胞質。
21. ( ) 附圖是植物細胞的模式圖，試問下列敘述何者錯誤？




- (A)動物細胞沒有甲的構造 (B)丁內含有遺傳物質 DNA，是細胞的生命中樞 (C)若將丙去除，細胞將逐漸衰弱而死亡 (D)乙可控制細胞內、外物質的進出。
22. ( ) 關於人體各細胞的形態，下列敘述何者正確？ (A)口腔皮膜細胞呈不規則突起狀 (B)肌肉細胞呈雙凹圓盤狀 (C)神經細胞有許多突起 (D)紅血球細胞形狀細長。
23. ( ) 植物細胞的構造，由外向內依序為何？甲.細胞核；乙.細胞壁；丙.細胞膜；丁.細胞質。  
(A)甲乙丙丁 (B)丙乙丁甲 (C)乙丙丁甲 (D)甲丁丙乙。

【背面尚有試題】

24. ( ) 關於動物細胞與植物細胞的比較，下列何者有誤？

構造	動物細胞	植物細胞
(A)細胞壁	皆無	皆有
(B)葉綠體	皆無	皆有
(C)液泡	小型	大型
(D)細胞形狀	較不規則	較規則

25. ( ) 葡萄糖是由下列哪三種元素所構成？ (A)碳、氫、氮 (B)碳、氧、氮 (C)碳、氫、氧 (D)氫、氧、氮。
26. ( ) 關於物質進出細胞的作用，下列何者錯誤？ (A)礦物質靠滲透作用進入細胞 (B)細胞膜可以控制細胞內外物質的進出 (C)胺基酸可由細胞膜上特殊蛋白質協助進入細胞 (D)氧氣可經由擴散作用進入細胞。
27. ( ) 關於物質進出細胞的敘述，下列何者錯誤？ (A)氧氣是藉擴散作用直接進出細胞膜 (B)葡萄糖是由擴散作用直接進出細胞膜 (C)礦物質必須由細胞膜上特殊蛋白質的協助進出細胞 (D)胺基酸必須由細胞膜上特殊蛋白質的協助進出細胞。
28. ( ) 若將動物細胞的外圍包上一層纖維素，形成類似細胞壁的構造，再將細胞放入蒸餾水中，一段時間後會觀察到何種現象？ (A)細胞漸漸膨脹破裂 (B)細胞維持原來的大小不改變 (C)細胞漸漸膨脹但是不破裂 (D)細胞漸漸皺縮。
29. ( ) 將紅血球置於生理食鹽水中，紅血球卻不會脹破的原因為何？ (A)紅血球有細胞壁支持 (B)紅血球只會萎縮 (C)生理食鹽水和紅血球的細胞質濃度接近 (D)水分會自紅血球中滲透出來。
30. ( ) 安西將血球細胞放入不同濃度的食鹽水溶液中，其結果如附圖，則食鹽水濃度最高是哪一杯？ (A)甲 (B)乙 (C)丙 (D)丁。



31. ( ) 下列各器官所隸屬的器官系統層次，哪一個組合是正確的？ (A)肺：呼吸系統 (B)血管：消化系統 (C)心臟：消化系統 (D)大腸：呼吸系統。
32. ( ) 關於單細胞生物的敘述，下列何者錯誤？ (A)藉由單一細胞便能表現出所有的生命現象 (B)由一個細胞組成的生物個體 (C)單細胞生物無法獨立生存，必須群體生活才能表現出生命現象 (D)草履蟲屬於單細胞生物。
33. ( ) 關於植物體的組成層次，由簡單到複雜依序為何？ (A)細胞、器官、組織、個體 (B)細胞、組織、器官、器官系統、個體 (C)細胞、組織、器官、個體 (D)個體、器官、組織、細胞。
34. ( ) 阿萍種了一株辣椒，已經開了第一朵花，但還沒結果，試問這株辣椒目前包括幾種器官？ (A)3種 (B)4種 (C)5種 (D)6種。
35. ( ) 阿仁吃的午餐中，含醣類 150 公克、蛋白質 120 公克、脂質 40 公克、維生素 3 公克、礦物質 3 公克、水 650 公克，試問這些食物能提供的能量為多少大卡？ (A)983 (B)1240 (C)1440 (D)2790。
36. ( ) 在「食物中醣類的測定」的活動中，加入本氏液並隔水加熱的目的為何？ (A)破壞酵素結構 (B)加速反應速率的進行 (C)使溶液快速蒸乾 (D)使溶液產生結晶。
37. ( ) 阿男利用本氏液檢驗甲、乙、丙、丁四支試管內的液體是否含有葡萄糖，檢驗的結果如下表，則其中不含葡萄糖的可能是何者？

試管	甲	乙	丙	丁
顏色	紅	藍	黃	橙

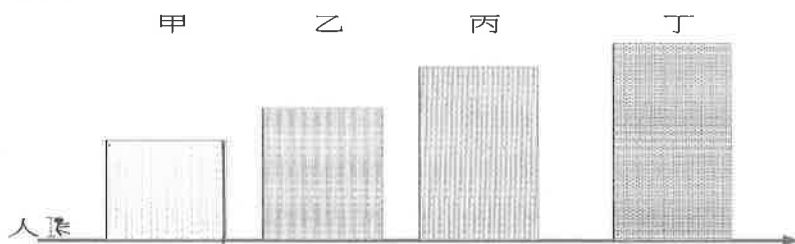
- (A)甲 (B)乙 (C)丙 (D)丁。

【背面尚有試題】

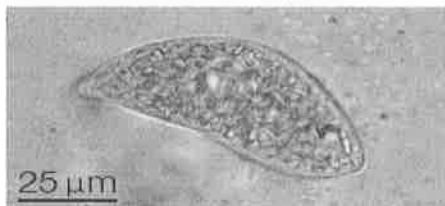
38. ( ) 下述的各種養分，不能經由人體消化產生能量的有哪幾種？甲. 醣類；乙. 維生素；丙. 脂質；丁. 水；戊. 蛋白質；己. 礦物質；庚. 纖維素。(A) 甲丙戊 (B) 乙丁己 (C) 乙丁己庚 (D) 丙丁己。
39. ( ) 阿讓吃飯的時候，不小心把碘液灑到飯裡，試問飯會變成什麼顏色？(A) 黃褐色 (B) 紅色 (C) 白色 (D) 藍黑色。
40. ( ) 小香想要測定溶液中是否含有葡萄糖，在加入本氏液後該怎麼做，才能最快的看到溶液有沒有變色？(A) 放進冰箱半個鐘頭 (B) 放在桌上不管，等溶液自然變色 (C) 用玻棒不停的攪拌 (D) 隔水加熱。
41. ( ) 小柯想測試某樣食物中含有哪些養分，他使用本氏液及碘液來測試，其結果如附表。由此可知此食物最不可能含有下列何種養分？(A) 澱粉 (B) 葡萄糖 (C) 水 (D) 礦物質。

試劑種類	反應前的顏色	反應後的顏色
碘液	黃褐色	藍黑色
本氏液	淺藍色	淺藍色

42. ( ) 下列觀察的物體何者分別屬於巨觀尺度和微觀尺度？(A) 太陽系；細胞 (B) 太陽系；個體 (C) 個體；器官 (D) 細胞；細菌。
43. ( ) 下列哪些生物可以使用放大倍率為 40 到 1000 倍的顯微鏡觀察到全貌？  
甲. 細菌 乙. 病毒 丙. 草履蟲 丁. 人類  
(A) 甲乙丙 (B) 甲丙 (C) 丙丁 (D) 甲乙。
44. ( ) 下列對於物體量測的呈現方式何者較為適當？(A) 樹的高度為 0.6 公里 (B) 臺灣島長共 39400000 公分 (C) 新生嬰兒的體重為 3600 克 (D) 健美選手的體重為 11520g 克。
45. ( ) 下列各物體的長度單位配對何者最不適當？(A) 樹的高度—公尺 (B) 頭髮長度—公分 (C) 病毒大小—奈米 (D) 紅血球的大小—毫米。
46. ( ) 在顯微鏡下視野下 40X 的正方形面積為 1 平方公分，請問在 100X 的放大倍率下視野下該正方形面積為多少？  
(A) 1 平方公分 (B) 2.5 平方公分 (C) 6.25 平方公分 (D) 無法判斷。
47. ( ) 按照下方人與大樓的比例圖來看，若是該成人身高為 170 公分，請問丙大樓最接近多少公尺？



- (A) 14 公尺 (B) 14.5 公尺 (C) 15 公尺 (D) 15.5 公尺。
48. ( ) 人類的小腸是屬於下列哪一種組成層次？  
(A) 細胞 (B) 組織 (C) 器官 (D) 器官系統。
49. ( ) 附圖為顯微鏡下的眼蟲照片，依圖中比例尺推算，眼蟲的實際全長約為何？



- (A) 25 微米 (B) 75 微米 (C) 25 毫米 (D) 75 毫米。
50. ( ) 著名的吸塵器標榜說明能夠將 1 微米的粉塵收集至集塵袋中，請問下方的生物何者無法被有效攔截呢？(A) 大部分細菌 (B) 孢子 (C) 花粉 (D) 流感病毒。

澎湖縣立文光國民中學 110 學年度第 1 學期第 1 次成績評量 7 年級歷史科試卷

班級： 姓名： 座號：  讀卡  答案卷

一、 單選題(1~5 題，每題 1 分；6~20 題，每題 2 分，共 35 分)

- ( ) 某位考古學家參與一處史前文化遺址的挖掘工作，發現遺址裡有石器、人類遺骸、動物骨骼，用火後殘留的灰燼等。請問：在沒有儀器協助的情況下，這位學者該從何處著手研究，才能分辨此遺址屬於舊石器或新石器時代？  
(A) 石器的製作方式 (B) 遺骸的分布情形 (C) 動物的種類 (D) 灰燼的多寡。
- ( ) 臺灣早期人類歷經一段沒有文字記載的史前時代，學者利用考古發掘，了解臺灣史前文化的發展。下表為史前時期三個階段的文化，如按照臺灣史前文化演進，其先後順序如何？  
(A) 甲乙丙 (B) 乙甲丙 (C) 乙丙甲 (D) 丙乙甲。

甲	金屬器時代
乙	舊石器時代
丙	新石器時代

- ( ) 大約在兩千多年前，鐵製工具的生產與製造使臺灣的史前文化產生了重要的變化，此種變化將臺灣的歷史推進到哪一個時代？  
(A) 舊石器時代 (B) 新石器時代 (C) 金屬器時代 (D) 歷史時代。
- ( ) 時間的觀念對歷史研究非常重要，不同的族群使用不同的紀年方法，以便記錄事件發生的時間，請問：下列何者是以中國古代皇帝的年號來紀年？ (A) 令和 (B) 西元 (C) 康熙 (D) 干支。
- ( ) 「西元 1996 年的奧林匹克運動會中，阿美族長老郭英男的嘹亮嗓音，讓   語族的音樂受到全球注目。」請問   當中應該填上什麼？  
(A) 漢藏 (B) 南島 (C) 印歐 (D) 南亞。
- ( ) 附圖是臺灣十七世紀某一群體的分布圖，此族群自日治時代曾有另一名稱，與其他原住民有所區別。請問：這是指當時哪個族群分類名稱？ (A) 生番 (B) 山地同胞 (C) 平埔族 (D) 高砂族。
- ( ) 西元 1624 年，哪一國進占臺灣南部，成為最先占領臺灣的歐洲人？  
(A) 西班牙 (B) 英國 (C) 荷蘭 (D) 葡萄牙。
- ( ) 到荷蘭旅遊，會發現到處可買到印尼的食品，同時也有許多印尼的餐館開立在各城市或鄉鎮，這與想買印尼食品、貨物卻必須刻意找尋的臺灣形成強烈對比。這個歐洲國家竟然比亞洲的臺灣更受印尼文化影響的原因，和荷蘭曾殖民過印尼三百年之久有關。請問：荷蘭當時授權的殖民統治機構「荷蘭聯合東印度公司」在印尼的殖民總部為何處？  
(A) 大員 (B) 澳門 (C) 馬尼拉 (D) 巴達維亞。
- ( ) 在十七世紀的大航海時代中，臺灣扮演了何種角色？  
(A) 漢人移民南洋的轉運站 (B) 英國在亞洲殖民、貿易的總部  
(C) 中國對外通商的出口港 (D) 東亞國際貿易的轉運站。
- ( ) 永哲選擇「顏思齊」作為歷史報告的主題。請問：這份報告中最可能提及他的哪項事蹟？  
(A) 以海商的身分帶領漢人來臺拓墾 (B) 以將領的身分逼退在澎湖的荷人  
(C) 以漢人身分帶領群眾反荷人統治 (D) 以中國官員的身分來臺展開防務。
- ( ) 下表為莉芳從書中整理出來的某地大事記，請從內容判斷該地應為何處？  
(A) 澎湖 (B) 淡水 (C) 大員 (D) 雞籠。

年代	大事
十四世紀後期	明朝實行海禁，此地活動人員銳減
十六世紀	逐漸成為漢人捕魚、走私之地
十七世紀初期	明朝將領勸退想在此地建立基地的荷蘭人

題 6 附圖



12. ( ) 沈有容是臺灣史上的重要人物之一，關於他的事蹟，下列敘述何者正確？  
 (A)為明末著名的海商領袖之一 (B)曾領導在臺漢人反抗荷蘭人  
 (C)曾率兵在澎湖勸退荷蘭人 (D)率兵攻臺結束荷蘭的統治。
13. ( ) 明太祖曾下令禁止中國東南沿海的人民到海上活動，並將澎湖居民全部遣返福建。關於此項政策的敘述，下列何者正確？  
 (A)實施的目的在於防範荷蘭人侵臺之舉動 (B)人民迫於生計，仍私自出海捕魚、走私貿易  
 (C)此政策為「鎖國政策」 (D)澎湖居民遷徙至福建一帶，造成澎湖的沒落。
14. ( ) 荷蘭人占領、統治臺灣有三十餘年的時間，最後在西元 1662 年被何人擊敗才退出臺灣？  
 (A)韋麻郎 (B)沈有容 (C)郭懷一 (D)鄭成功。
15. ( ) 小新在報紙上看到如附圖的報導。請問：這應該是為了紀念郭懷一的哪項事蹟？  
 (A)將西班牙人逐出臺灣 (B)抗議荷人對漢人課重稅  
 (C)反對臺灣與荷蘭人貿易 (D)協助鄭成功驅逐荷蘭人。

永康科技工業區是昔日郭懷一事發的地點。此事件在臺灣史上有重要地位，政府決定將永康科工區北入口意象，規畫作為郭懷一紀念公園。

16. ( ) 明代的海上貿易多為非法走私，有能力的商人常自組防衛武力，以對抗政府軍隊或競爭對手。這些商人也會仗著自己的優勢，掠奪經過的船隻。請問：這些商人被現代學者稱為下列何者？  
 (A)海商 (B)海盜 (C)海賊 (D)海軍。
17. ( ) 鄭氏治臺是第一個漢人在臺政權，因此許多漢人的文化在這時候引進。請問：下列哪項歷史古蹟與鄭氏治臺無關？ (A)臺南孔廟 (B)紅毛城 (C)安平古堡 (D)赤崁樓。
18. ( ) 鄭氏家族在十七世紀縱橫於中國東南沿海，以下有關鄭氏四代領導人事蹟的敘述，何者正確？  
 (A)鄭芝龍承襲顏思齊的地位，在臺南附近利用軍屯發展勢力  
 (B)鄭成功在陳永華的協助下提倡文教，使漢人典章制度移入臺灣  
 (C)鄭經利用祖、父兩代建立的海上優勢，發展走私貿易獲利  
 (D)鄭克塽繼位後，鄭氏政權迅速衰落，臺灣再度成為荷蘭人地盤。
19. ( ) 荷蘭在亞洲設立的商館中，臺灣獲利僅次於日本，而日本商館的利潤又多來自臺灣輸入的商品。請問：下列何者是當時臺灣外銷獲利的主要物產？  
 (A)絲帛、瓷器 (B)稻米、橡膠 (C)稻米、蔗糖 (D)茶葉、樟腦。
20. ( ) 西元 1661 年，鄭成功率領軍隊以金門、廈門為據點，先攻打甲地，之後又圍攻乙地，最終迫使荷蘭投降。請問：甲、乙兩地分別為何者？  
 (A)赤崁樓、普羅民遮城 (B)聖多明哥城、熱蘭遮城  
 (C)熱蘭遮城、安平城 (D)普羅民遮城、熱蘭遮城。

【試題結束—文光七年級、歷史科】

澎湖縣立文光國民中學 110 學年度第 1 學期 第 1 次成績評量 7 年級地理科試卷

班級：\_\_\_\_\_ 姓名：\_\_\_\_\_ 座號：\_\_\_\_\_  讀卡  答案卷

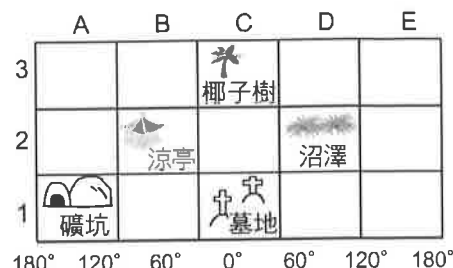
一、單一選擇題 (十題，每題 2 分，共 20 分)

( ) 41. 「臺灣在太平洋的西側，中國的東南方。」以上描述屬於哪種位置表示方法？  
 (A)相對位置 (B)網格坐標 (C)絕對位置 (D)正確位置

( ) 42. 右表是地圖上大、小比例尺的比較，表中哪個選項正確？  
 (A)甲 (B)乙 (C)丙 (D)丁

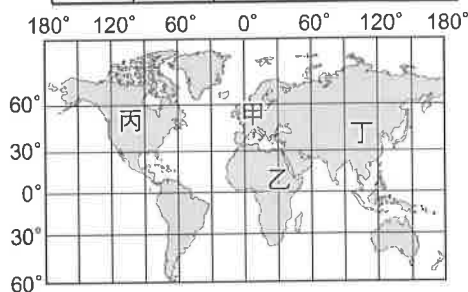
	(甲)縮小程度	(乙)內容	(丙)例子	(丁)涵蓋範圍
小比例尺	較小	較簡略	1:200	較小
大比例尺	較大	較詳盡	1:200,000	較大

( ) 43. 右圖中有多種景觀，我們可在 (C, 3) 的網格中發現哪種景觀？  
 (A)礦坑 (B)墓地 (C)沼澤 (D)椰子樹




( ) 44. 通過英國格林威治天文臺的經線是下列何者？  
 (A)180 度經線 (B)東經 90 度 (C)西經 90 度 (D)0 度經線

( ) 45. 巴黎聖母院 (2°E, 48°N) 在整修時發生火災，失火點位於教堂閣樓處，大火導致其尖頂坍塌。根據經緯度顯示，聖母院可能在右下圖中何處？(A)甲 (B)乙 (C)丙 (D)丁



( ) 46. 臺灣四面環海，多數生物在獨立的環境中演化，孕育出許多特有的物種。下列哪種動物不是臺灣特有種生物？



( ) 47. 阿東非常喜歡南韓的少女團體 TWICE，想飛到南韓去看 TWICE 的演唱會，他應前往右上圖哪個地點？(A)甲 (B)乙 (C)丙 (D)丁

( ) 48. 臺灣生物數量豐富，部分特有種生物，如臺灣黑熊、臺灣水韭、櫻花鉤吻鮭等，更是學者爭相研究的對象。此特徵的形成，與臺灣哪種地理現象關係最密切？  
 (A)地形的起伏 (B)位置的孤立 (C)氣候的複雜 (D)植被的多元

( ) 49. 下列何者是在說明臺灣的絕對位置？ (A)位菲律賓北方 (B)西濱臺灣海峽 (C)位於中國大陸東南沿海 (D)位於東經 121 度，北緯 25 度

( ) 50. 下列何者是臺灣唯一四周環海的縣？  
 (A)嘉義縣 (B)屏東縣 (C)花蓮縣 (D)澎湖縣

【第 5 頁結束—背面尚有試題】

二、題組：(十題，每題1分，共10分)

(一) 附圖為東亞候鳥遷移的路線示意圖，請依據此圖回答下列問題：

- ( ) 51. 臺灣因為下列哪項要素具過渡性，而成為候鳥的中繼站？(A)緯度位置 (B)經度位置 (C)地形種類 (D)洋流性質
- ( ) 52. 此圖的遷移應發生在下列哪個季節？(A)春季 (B)夏季 (C)秋季 (D)冬季

(二) 附圖為地圖的要素之一，每格距離為1公分。請問：

- ( ) 53. 附圖為比例尺的哪種表示方法？(A)表格法 (B)文字法 (C)數字法 (D)圖示法
- 0 2000 4000 6000 公里
- 

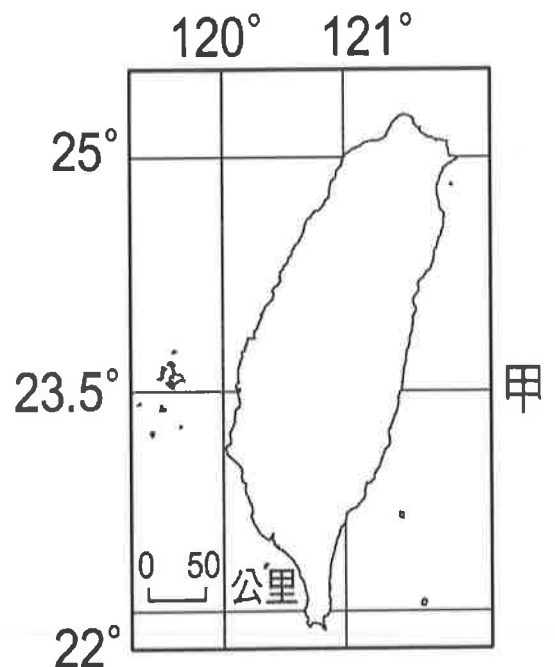
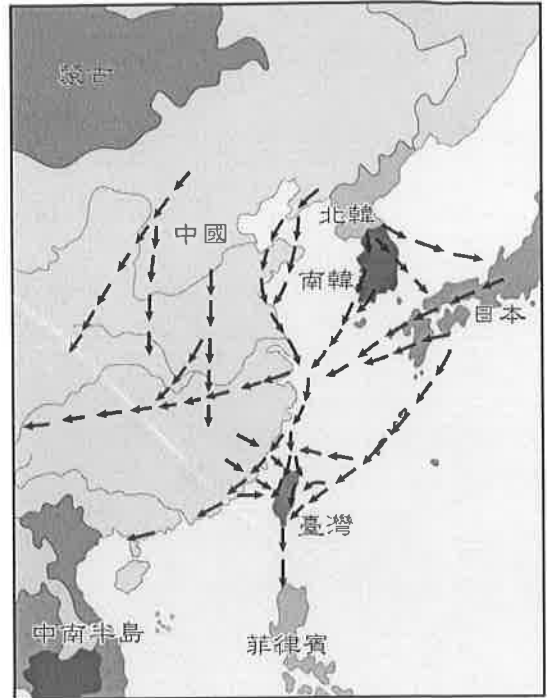
- ( ) 54. 若甲、乙兩地實際距離5,000公里，則甲地與乙地在地圖上相距多少公分？(A)0.25公分 (B)2.5公分 (C)25公分 (D)250公分

(三) 為了讓讀者更了解地圖所呈現出來的內容並加以判讀使用，通常在某些地圖上可看到幾種地圖要素。請問：

- ( ) 55. 將地表現象簡化成為符號標示於地圖上，是指哪種地圖要素？(A)圖名 (B)圖例 (C)方位 (D)比例尺
- ( ) 56. 哪種地圖要素，表示地圖的主要內容？(A)圖名 (B)方位 (C)圖例 (D)比例尺
- ( ) 57. 哪種地圖要素，表示地圖縮小的比例？(A)圖名 (B)方位 (C)圖例 (D)比例尺

(四) 右圖是臺灣位置圖。請問：

- ( ) 58. 右圖中的「甲」線通過臺灣的哪個縣市？(A)嘉義縣 (B)臺北縣 (C)彰化市 (D)屏東縣
- ( ) 59. 由右圖可知，臺灣位於哪兩個半球？(A)東半球、南半球 (B)西半球、北半球 (C)東半球、北半球 (D)西半球、南半球
- ( ) 60. 「甲」線是指下列何者？(A)赤道 (B)北回歸線 (C)南回歸線 (D)本初子午線



【試題結束—文光7年級社會科】

澎湖縣立文光國民中學 110 學年度第 1 學期 第 1 次成績評量 7 年級公民科試卷

班級：\_\_\_\_\_ 姓名：\_\_\_\_\_ 座號：\_\_\_\_\_  讀卡  答案卷

一、單一選擇題（十五題，每題 2 分，共 30 分）

- ( ) 21. 美國 CNN 報導一名美籍臺裔女子被領養後，輾轉到美國為人幫傭，因控訴遭到領養家庭的不人道待遇，引起國際媒體注意；一名我國駐美人員也曾因涉嫌虐待幫傭被逮捕，最終遭遣返回臺。關於上述事件的解讀，下列何者正確？  
 (A)虐待幫傭是人為常態現象，禁止跨國幫傭是根本解決之道(B)幫傭人權之侵害通常只發生在極權或落後國家及人民身上(C)外籍幫傭不具該國的公民身分，因而無法主張其基本人權(D)人權是現代社會的普世價值，不因幫傭的身分而不保障
- ( ) 22. 右圖是針對某一主題所涵蓋的內涵。該主題與下列何者最有關連？(A)潛能 (B)人權 (C)人性 (D)社會福利
- ( ) 23. 下圖為「勞動部勞動力發展署雲嘉南分署」一則海報訊息。依據內容判斷，其主要在保障人民何種權利？

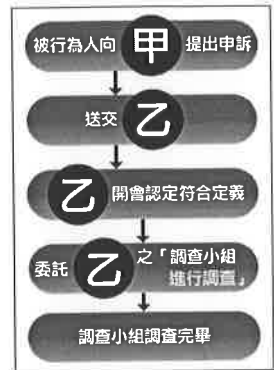


- (A)教育權 (B)醫療權 (C)工作權 (D)人身自由權
- ( ) 24. 父母對性別角色的想法，往往對孩子的影響至深。下列哪一個爸爸對兒子的要求，比較符合性別平等觀念？  
 (A)陳先生：「兒子不要幫忙做家事，讓姊姊做就好。」 (B)徐爸爸：「兒子也是家庭成員，家事本來就要一起分擔。」 (C)黃先生：「兒子應該要專心念書，做家事難免會影響成就。」 (D)王爸爸：「兒子容易打破東西，還是不要做家事比較好。」
- ( ) 25. 我國的性別平權觀念與政策居亞洲之冠，這是因為政府透過法律來保障女性在各方面之權益。男女唯一因性別差異而有所不同的表現，是在下列哪一方面？  
 (A)生理結構 (B)智慧方面 (C)能力方面 (D)個人特質
- ( ) 26. 「男兒有淚不輕彈」、「女子無才便是德」，這些傳統對於男女既定的想法，稱為什麼？ (A)兩性制度 (B)性別特質 (C)性別刻板印象 (D)性別歧視
- ( ) 27. 有關《性別工作平等法》的相關規定，下列哪一項敘述是正確的？  
 (A)禁止雇主在僱用員工時有任何的性別歧視 (B)雇主可以規定女性員工，在懷孕後應自行離職 (C)女性員工有產假八星期，而男性無陪產假 (D)員工可以申請育嬰假，但只限女性可以申請
- ( ) 28. 要促進校園性別平等教育，下列哪項課程的安排最符合性別平等的具體措施？  
 (A)男生只上與體能有關的體育課，家政課可以不用上 (B)安排女生上社會、文學等課程，排除理工課程 (C)男女生依「男理工，女文史」為排課標準 (D)男生可學習家政，女生也可學習理工
- ( ) 29. 孝維喜歡說黃色笑話，尤其愛在班上女生面前講得很大聲。如果你是他的同學，應該如何處理最為適當？ (A)跟他一起講，反正都是同學 (B)明確表達不受尊重的感受，並報告老師處理 (C)找校外人士圍毆他，讓他收斂 (D)要求他講小聲一點，只要男生一起分享即可

【第 3 頁結束—背面尚有試題】



- ( ) 30. 新聞報導：「一名女子搭乘客運上班，期間在車上補眠時，隔壁李姓男乘客多次觸摸女子，全程遭乘客側錄，並向警方檢舉。李男事後向警方供稱，因女子太漂亮，才會情不自禁伸手摸臉。」依據上文判斷，李姓男乘客的行為已經觸犯何種法律？(A)《民法》(B)《性別平等教育法》(C)《性別工作平等法》(D)《性騷擾防治法》
- ( ) 31. 我國某企業女性職員遭遇到如附圖內容的對待。下列關於此事件敘述，何者正確？(A)雇主明顯違反了《性別平等教育法》(B)此為雇主歧視女性的禁孕條款(C)此正是說明企業具性別刻板印象(D)此正是說明企業具有性別平權
- ( ) 32. 小明在學校遭到同學嬉鬧而被脫掉褲子，右下圖為他向學校相關單位提出申訴而進行的處理流程。下列敘述何者正確？(A)代號甲為學務處 (B)代號乙為校務會議 (C)此乃依《性別工作平等法》 (D)此正是說明社會性別概念
- ( ) 33. 小樂在書中看到一段文字如下圖，若以人權的觀點來解讀，下列相關敘述，何者正確？



每一個生命都是獨立的  
每一個人獨一無二  
唯一的共同點，就是自由的靈魂

- (A)人權所保障的內容並不具有普遍性 (B)人有決定自己的生活方式及實現個人理想的自由 (C)只有某些人才能享有自由、安全與幸福生活的權利 (D)人權保障的內容，因不同的文化而有差異，政府可限制特定身分者的人權

- ( ) 34. 《公民權利和政治權利國際公約》第四條明文禁止純粹基於種族、膚色、性別、語言、宗教或社會出身等理由的歧視。上述規定的內涵屬於何種權利？(A)安全 (B)自由 (C)生存 (D)平等
- ( ) 35. 電影《打不倒的勇者》描述南非總統鼓勵黑人民眾，支持隊員以白人為主的國家橄欖球代表隊，建立共同的國家意識，進而促進國家和諧。當南非國家隊終於獲得世界冠軍時，南非人不分彼此的擁抱在一起，可見南非總統的作為，有助於緩南非長久以來的哪項問題？(A)運動簽賭(B)貧富差距(C)種族歧視(D)性別歧視

## 二、題組 (五題，每題 1 分，共 5 分)

(一) 招弟是家中老大，她除了上學外，在家要負責照顧弟弟及大小雜事，而父母較寵愛兒子，給予他較多的關愛及物質享受。當招弟國中畢業後，父母要她放棄學業，在外找工作，分擔家計。請問：

- ( ) 36. 在法律規定中，男女就財產繼承、就學權利、義務及工作機會，兩者的情形應該如何？(A)兩者權利、義務皆平等 (B)招弟權利少，義務多 (C)弟弟權利多，義務多 (D)招弟權利多，義務少
- ( ) 37. 因傳統兩性角色的刻板印象，使得社會對此種分工方式產生質疑。若就如何維持新時代的兩性關係來看，下列敘述何者正確？(A)女性較適於操持家務，以及養育兒女 (B)男性較易成為一位優秀的電機工程師 (C)女兒應由母親照顧，以免過於男性化 (D)家庭分工不應以性別角色為考量因素
- ( ) 38. 下列哪一種法律是為了改善職場的性別歧視而設？(A)《公平交易法》 (B)《家庭暴力防治法》 (C)《性別工作平等法》 (D)《性別平等教育法》

(二) 右表為公民老師針對廣告上男女之間扮演角色特徵所做分析統計。請問：

廣告中男性呈現	廣告中女性呈現
■ 外貌上陽剛、有力	■ 女性的天職是照顧者
■ 先天是領袖與發號施令者	■ 女性上職場，則需家庭與事業兼顧
■ 是家庭高價位財貨的提供者	■ 女性美貌的迷思、物化女性

- ( ) 39. 依文章所示。這是個人藉由何種途徑來認識性別？(A)家庭(B)學校(C)傳播媒體(D)同儕團體
- ( ) 40. 依文章所示。這些廣告正是呈現出下列何種意涵？(A)性別歧視 (B)性別平權 (C)生理偏見 (D)性別刻板印象

【第 4 頁結束—背面尚有試題】