

澎湖縣立文光國中 110 學年度第一學期國文科九年級第一次成績評量

壹.國字與注音：11% 每字 1 分

九年( )班 姓名：

座號：

1. 「繆」思：( ) 2. 擾「攘」：( ) 3. 萬「勿又」鑿：( ) 4. 付之「く口せ」如：( )  
 5. 趨之若「又、」：( ) 6. 令人「咋」舌：( ) 7. 延「宕」：( ) 8. 「出、」躅：( )  
 9. 「擰」開瓶蓋：( ) 10 「摺」倒：( ) 11 心無旁「又、」：( )

貳.成語填空：15% 每題 1 分 ◎請於下列參考選項中的成語，選擇符合句意者，填入代號。

- A.臨淵羨魚 B.得魚忘筌 C.魚沉雁杳 D.鳶飛魚躍 E.民生凋敝 F.老成凋謝 G.異曲同工 H.不分軒輊  
 I.令人髮指 J.惴惴不安 K.鞠躬盡瘁 L.碧血丹心 M.僧多粥少 N.勵精圖治 O.視如草芥 P.虛位以待  
 Q.奉為圭臬 R.翹首引領 S.鳩佔鵲巢 T.耳提面命 U.雪泥鴻爪 V.程門立雪 W.孫康映雪 X.立雪神傷  
 Y.殷憂啟聖 Z.浮雲蔽日

1. 若是一國元首不能擘劃大政方針，官員不能勇於任事，甚至對人民( )，則百姓就無法過著安居樂業的日子。  
 2. 他功成名就之後，竟( )，不知感恩圖報。  
 3. 與其( )，不如見賢思齊——養成每天運動的好習慣，就能擁有健美的身材。  
 4. 這對兄弟的雙人展，一個以國畫為主，一個以西畫為主，畫風雖不同，卻有( )之妙，得到一致的讚賞。  
 5. 這夥搶匪專挑老弱婦孺下手，惡劣的行徑( )。  
 6. 那家公司聘請他擔任總經理，沒想到他竟然乘職務之便( )，侵吞了整家公司的產業。  
 7. 往事就像( )般，令人徒增悵惘之情。  
 8. 你若有( )的精神，虛心求教，張老師一定傾囊相授。  
 9. 中國古代以科舉取士，讀書人將四書五經( )，以求取功名利祿。  
 10 李教授是半導體界的翹楚，高層早就( )，期待他能帶領公司邁向新的里程碑。  
 11 傳統文化的保存是刻不容緩的事，否則( )後，將更難以傳承予後人了。  
 12 經濟不景氣，謀職的人又大增，以致( )，造成嚴重的失業問題。  
 13 自從他去美國後，就像風箏斷了線，( )，不知是否一切平安？真令人掛念。  
 14 她抱持著( )的信念戮力從公，極力為縣民謀福祉，真是一位令人景仰的百里侯。  
 15 球賽中場休息時，只見雙方教練再三( )，希望下半場能有更佳的表现。

參.綜合測驗、肆.題組答案欄：每題 2 分

1.	2.	3.	4.	5.	6.	7.	8.
9.	10	11	12	13	14	15	16
17	18	19	20	21	22	23	24
25	26	27	28	29	30	31	32
33	34	35	36	37			

參.綜合測驗：70% 每題 2 分 ◎請填入答案欄，否則不予計分。

1. 關於苗栗明德水庫寫作手法的分析，何者正確？  
 ①運用擬人讓白鷺回答問題以彰顯水庫的靜謐  
 ②將文字排成圖像表達水庫地勢的變化萬千  
 ③以動態事物增添景致變化之美，並強化寧靜的氛圍  
 ④運用自己與他人觀點的差異凸顯水庫之美

2. 關於飛瀑寫作手法與效果的分析，何者正確？  
 (A)以問句呈現水流面對懸崖的內心掙扎 (B)第一人稱為飛瀑代言，引起讀者共鳴  
 (C)順敘書寫河水自水源地到出海的歷程 (D)排比類疊營造韻律感，讀來琅琅上口
3. 飛瀑一詩，作者將水流擬人。下列詩句，何者未使用擬人法？  
 (A)落日去時，把晚霞交給海峽(余光中·高樓對海) (B)撥通水的聲音撥通鳥的聲音／和整座原始森林的鼾息(余光中·電話亭)  
 (C)你的微笑是雲朵／自你臉頰上飄出(白靈·笑的雲朵) (D)雲想衣裳花想容，春風拂檻露華濃(李白·清平調)
4. 關於李清照武陵春的說明何者正確？  
 (A)「日晚倦梳頭」凸顯作者隨性慵懶的真情流露 (B)「欲語淚先流」直寫情緒的傷痛，點明一切悲苦  
 (C)聞說雙溪春尚好」轉寫作者感到萬物復甦的希望 (D)「載不動許多愁」抽象表達作者具體的深情濃愁
5. 在南鄉子這闕詞中，辛棄疾主要歌詠的三國人物為下列何人？  
 (A)孫權 (B)劉備 (C)曹操 (D)孔明
6. 下列有關辛棄疾西江月的說明，何者錯誤？  
 (A)「明月別枝驚鵲」：描寫農村夜晚的靜謐 (B)「稻花香裡說豐年」：意指迎接豐收的喜悅  
 (C)「七八個星天外」：描寫月明星稀的夜空 (D)「路轉溪橋忽見」：意指忽然看見茆店的驚嚇
7. 下列關於辛棄疾醜奴兒的說明，何者正確？  
 (A)連用兩句「愛上層樓」，描寫作者時常登高懷古，表達濃烈的愛國情操 (B)文中上、下片的「愁」，因不同的年齡經歷，代表不同愁緒的意涵  
 (C)「而今識盡愁滋味，欲說還休」意指作者為國效力的犧牲難以言喻 (D)末句「卻道天涼好個秋」，以倒反手法凸顯作者感慨秋天的淒涼
8. 下列有關辛棄疾西江月和醜奴兒的比較，何者說明正確？  
 (A)西江月表現農村的悠閒安適，醜奴兒寫出秋色的美好想像 (B)西江月著重感官摹寫，醜奴兒對比兩個時期不同的感受  
 (C)兩者皆利用自然景物來襯托作者內心的情緒 (D)兩者末二句皆可窺見作者對當時人生境遇的抒懷
9. 關於詞的特色，下列敘述何者正確？  
 (A)詞的格律：句數、字數、平仄、用韻等都沒有嚴格的規定 (B)詞的地位：是晚唐的文學代表  
 (C)詞的別名：詩餘、曲子詞、長短句、樂府 (D)詞的內容：依詞牌而作
10. 古典詩詞中經常援引典故，可使內容豐富，表達的情感更深刻。下列古典詩詞中，何者未使用典故？  
 (A)又如桃李園，置酒張華燈。既聯群季歡，浩嘆皆同聲。(林幼春) (B)愚者愛惜費，但為後世嗤。仙人王子喬，難可與等齊。(生年不滿百)  
 (C)雄兔腳撲朔，雌兔眼迷離。兩兔傍地走，安能辨我是雄雌？(木蘭詩) (D)天下英雄誰敵手？曹劉。生子當如孫仲謀。(辛棄疾)
11. 關於黑與白——虎鯨一文，下列敘述何者正確？  
 (A)以「虎鯨」點題並貫串全文 (B)作者善用譬喻手法描寫海上天候  
 (C)採用第三人稱觀點，角度客觀公正 (D)記敘作者發現虎鯨的過程與心情轉變
12. 黑與白——虎鯨的文章名稱「黑與白」包括了多種的意義。請問下列何者不屬之？  
 (A)人間是非概念的隱喻 (B)虎鯨真誠直爽的個性  
 (C)尋鯨的焦慮與驚喜 (D)虎鯨背、腹的顏色
13. 海洋與人類的生存關係密不可分，自古以來，人類從海洋習得許多人生的智慧。下列關於海洋的諺語的意涵與成語配對，何者最不相符？  
 (A)不積小流，無以成江海——跬步千里 (B)沒有暗礁，激不起美麗的浪花——金石為開  
 (C)坎井之蛙不知江海之大——蠡測管窺 (D)河海不擇細流，故能就其深——有容乃大
14. 關於春天的聲音的寫作方式，下列說明何者正確？  
 (A)敘述感懷，闡發自身感悟的情感 (B)善用對話，產生身歷其境的效果  
 (C)多方舉例，強調聆聽意見的重要 (D)前後呼應，凸顯外在聲音的感動

- 15 關於春天的聲音的結構分析，何者最為正確？  
 ①開頭採直接描述，寫萬物生長樣貌 ②以時間為序，將春天的景色逐一描寫  
 ③以寫景為主軸，傳達遊歷山林的感動 ④以事例作結，強化愛惜生命的態度
- 16 有關春天的聲音的文意，下列說明何者不正確？  
 ①泰國禪坐大師阿姜查，教導弟子要學習「靜止的流水」的心境；保持這種心靈狀態，智慧才容易受孕生成 ②日本有春天狐狸嫁女兒的傳說提醒世人：春天不要進入森林裡干擾各種生命旺盛的萌發與成長  
 ③印度有支最古老的宗教鼓勵人們在春天要儘量出門，最好打赤足外出 ④印第安人相信：春天是大地懷孕的季節，要避免馬的堅硬蹄鐵劇烈踩踏大地
- 17 苗栗明德水庫詩末採用「以動襯靜」的手法，以驚飛的動態烘托水庫的靜謐。下列詩句何者並未使用相同的技巧？  
 ①江碧鳥逾白，山青花欲燃 ②月出驚山鳥，時鳴春澗中  
 ③蟬噪林逾靜，鳥鳴山更幽 ④空山不見人，但聞人語響
- 18 下列句子皆含有「慣用語」，何者誤用了？  
 ①經濟不景氣，加上工作不力，文雅被老闆「炒魷魚」了  
 ②吳仁是標準的「應聲蟲」，無論別人說什麼，他都連聲附和  
 ③老師希望肇事者能勇於認錯，大家卻互相「踢皮球」  
 ④錯誤不是曾浩造成的，你卻要他「蓋火鍋」，太過分了
- 19 「何處望神州？滿眼風光北固樓。」此句含有登高遠望、收復失土的愛國情懷。下列何者也有關心國事的情懷？  
 ①總為浮雲能蔽日，長安不見使人愁 ②江邊楓落菊花黃，少長登高一望鄉  
 ③薊庭蕭瑟故人稀，何處登高且送歸 ④遙知兄弟登高處，遍插茱萸少一人
- 20 「只恐雙溪舴艋舟，載不動許多愁。」此句以轉化修辭將抽象的「愁」具體化。下列何者亦使用相同技巧？  
 ①路遙知馬力，日久見人心 ②不義而富且貴，於我如浮雲  
 ③桃花潭水深千尺，不及汪倫送我情 ④陽春召我以煙景，大塊假我以文章
- 21 「天下英雄誰敵手？曹劉。」此句所使用的設問方式與下列何者相同？  
 ①人不知而不愠，不亦君子乎 ②飄飄何所似？天地一沙鷗  
 ③求仁而得仁，又何怨 ④何當共剪西窗燭，卻話巴山夜雨時
- 22 「去年元夜時，花市燈如畫。月上柳梢頭，人約黃昏後。今年元夜時，月與燈依舊。不見去年人，淚溼春衫袖。」(歐陽脩 生查子)關於這闕詞的內容，下列說明何者正確？  
 ①以「春衫」暗示事件發生的季節為暮春 ②依詞意推斷，元夜所指即為中秋夜  
 ③上片氣氛孤寂，下片氣氛歡愉 ④這闕詞旨在表達物是人非的惆悵
- 23 「海上鯨豚的處境大概也和我們一樣，全都在舉止不定黑白不明的風浪裡擺盪。」此句作者將自身困境投射在鯨豚身上，為「移情作用」的表現手法。下列何者亦使用相似的方式？  
 ①相看兩不厭，只有敬亭山 ②昨夜雨疏風驟，濃睡不消殘酒  
 ③迢迢牽牛星，皎皎河漢女 ④嗟哉斯徒輩，其心不如禽
- 24 「孔融被收，中外惶怖。時融兒大者九歲，小者八歲，二兒故琢釘戲，了無遽容。融謂使者曰：『冀罪止於自身，二兒可得全不？』兒徐進曰：『大人豈見覆巢之下，復有完卵乎？』尋亦收至。」(劉義慶世說新語)根據這段記事，下列成語何者與孔融兒子的看法最接近？  
 ①朝不保夕 ②旦夕禍福  
 ③唇亡齒寒 ④危如累卵
- 25 「是非成敗轉頭空，青山依舊在，幾度夕陽紅。」被收錄為三國演義的卷頭詞。這段詞的觀點和下列何者最接近？  
 ①人在夕陽美景之下，會忘懷得失 ②是非歷史自有定論，不必爭一時  
 ③只要事物根本還在，仍然有作為 ④少壯時倘若不努力，老邁必吃苦
- 26 下列選項「」中的字，何者意思前後相同？  
 ①向左微「傾」／互相「傾」訴 ②櫛次鱗「比」／「比」肩齊步  
 ③歷歷「如」繪／突「如」其來 ④敬「謝」不敏／再三道「謝」

- 27「凡甘蔗有二種，產繁、廣間，他方合併得其十一而已。似竹而大者為果蔗，截斷生啖，取汁適口，不可以造糖。似荻而小者為糖蔗，口啖即棘傷脣舌，人不敢食，白霜、紅砂皆從此出。」(宋應星 天工開物)根據本文主旨，下列敘述何者正確？  
 (A)敘述作者對甘蔗的喜愛 (B)說明甘蔗的產地及品種 (C)記錄用甘蔗製糖的歷史 (D)描述吃甘蔗的各種方法
- 28「始皇用小篆統一了文字，不久便又有了『隸書』。當時公事忙，文書多，書記雖遵用小篆，有些下行文書，卻不免寫得草率些。日子長了，這樣寫的人多了，便自然而然成了一體，稱為『隸書』，因為是給徒隸等下級辦公人看的。」(朱自清 經典常談)以上文旨，下列何者最恰當？  
 (A)說明隸書形成的過程 (B)比較小篆隸書的異同 (C)指出隸書出現的年代 (D)敘說隸書的使用範圍
- 29「人生最不幸處，是偶一失言而禍不及；偶一失謀而事幸成；偶一恣行而獲小利；後乃視為故常，而恬不為意。則莫大之患，由此生矣。」(弘一法師)以上文句告訴吾人的道理，近似下列何者？  
 (A)尺有所短，寸有所長 (B)千里之行，始於足下 (C)千里之堤，潰於蟻穴 (D)合抱之木，生於毫末
- 30「得即高歌失即休，多愁多恨亦悠悠。今朝有酒今朝醉，明日愁來明日愁。」此詩所展現出的人生態度，與下列哪一選項的觀點相同？  
 (A)人生得意須盡歡，莫使金樽空對月 (B)花開堪折直須折，莫待無花空折枝 (C)光陰似箭催人老，日月如梭趨少年 (D)年年歲歲花相似，歲歲年年人不同
- 31「泰山不讓土壤，故能成其大；江河不擇細流，故能就其深。」下列選項何者不符合此段文字的觀點？  
 (A)登泰山而小天下 (B)宰相肚裡能撐船 (C)竹解虛心是我師 (D)君子量不極，胸吞百川流
- 32「枯木逢春猶再發，人無兩度再少年。」這段文字表達的觀點與下列何者最相近？  
 (A)年年有今日，歲歲有今朝 (B)我的青春小鳥，一去不回來 (C)為人處世，必須能屈能伸 (D)再長的路，一步步也能走完
- 33下列文句，何者沒有冗詞贅字？  
 (A)首領經由代代世襲繼承，擁有統治部落的權力 (B)這兩幅畫作無高下之分，不過是風格不同而已 (C)因遭逢非常大的巨變，他至今還沒能振作起來 (D)列車因對撞而翻覆，許多乘客被受困在車廂中
- 34下列文句「」中的詞語，何者運用正確？  
 (A)秀秀苦等三小時後終於見到偶像一面，真是場美麗的「邂逅」 (B)為了方便讀者查閱，宜將資料按照年代「程序」排放在書架上 (C)他身染惡疾，經過醫師治療與多年「調理」，才終於日漸康復 (D)承豪反覆研讀劇本，「臨摹」劇中角色，希望演出能獲得肯定
- 35下列選項「」中的注音寫成國字後，何者字形前後相同？  
 (A)「ㄇㄨˋ」鼓晨鐘／揭開序「ㄇㄨˋ」 (B)倏「ㄉㄨˋ」即逝／出「ㄉㄨˋ」意料 (C)「ㄊㄨㄣˊ」賓奪主／心照不「ㄊㄨㄣˊ」 (D)西裝革「ㄨㄛˊ」／削足適「ㄨㄛˊ」

肆題組：4% 每題 2 分 ◎請填入答案欄，否則不予計分。

鬱孤臺下清江水，中間多少行人淚？西北望長安，可憐無數山。 青山遮不住，畢竟東流去。江晚正愁余，山深聞鷓鴣。(辛棄疾 菩薩蠻 江西造口壁)

- 36 本詞作者藉登臺望遠抒發國土淪喪之憂。下列何者為其心繫家國的象徵？  
 (A)鬱孤臺下清江水 (B)西北望長安 (C)中間多少行人淚 (D)畢竟東流去
- 37 依據本闕詞內容，下列敘述何者錯誤？  
 (A)作者辛棄疾有愛國詞人之稱 (B)上片寫登樓興感，下片抒發愁思悲嘆 (C)用鷓鴣的哀啼借喻內心悽愴 (D)「青山遮不住，畢竟東流去」暗示自己年華老去

澎湖縣文光國民中學 110 學年度第一學期第一次段考 九年級英語科 **試題卷**

班級：\_\_\_\_\_ 座號：\_\_\_\_\_ 姓名：\_\_\_\_\_

**請將所有答案填寫在答案卷上，否則不予計分**

一、言談理解：每題均有三個選項，請依據所聽到的對話與問題，選出一個最適當的答案（每題 2 分，共 10 分）

1. ( ) (A) He sells cookies.  
(B) He is a street vendor.  
(C) He has many restaurants.
2. ( ) (A) On Christmas Eve.  
(B) On Christmas Day.  
(C) On the day before Christmas Eve.
3. ( ) (A) It's boring.  
(B) It's helpful.  
(C) It's exciting.
4. ( ) (A) They enjoy it.  
(B) They don't like it.  
(C) They have no idea.
5. ( ) (A) Download a food delivery app.  
(B) Find the location of a restaurant.  
(C) Look for some food in the house.

二、文意字彙（每題 2 分，共 20 分）

1. \_\_\_\_\_ Bruce: Daisy! We still have ten chocolate eggs left to find. Have you looked for them in this a\_\_\_\_\_a?  
Daisy: Not yet. Let's do it now!
2. \_\_\_\_\_ Gareth: What is your favorite s\_\_\_\_\_t?  
Helen: Probably music. But I like math and history, too.
3. \_\_\_\_\_ My grandpa was a s\_\_\_\_\_r during the Chinese Civil War(內戰) in 1945. He has fought for his country for his whole life.
4. \_\_\_\_\_ Moon Festival is a national h\_\_\_\_\_y in Taiwan. People here usually don't go to work or school that day.
5. \_\_\_\_\_ Yvonne always finishes her work on time. And she also helps her colleagues(同事) a lot. She is really an e\_\_\_\_\_t and friendly worker.
6. \_\_\_\_\_ Victor: Ryan! Hurry up! Everyone is waiting for us outside. If you don't come out right now, they will be a\_\_\_\_\_y with us!  
Ryan: I know. I'm almost dressed up! Tell them to wait five more minutes!  
Victor: Oh, no... They're going to kill us.
7. \_\_\_\_\_ Miss, it's lucky for you to buy the couch here in our store today. We will send it to your place for free. That means you don't have to pay for the d\_\_\_\_\_y.
8. \_\_\_\_\_ Kay: I'm hungry, and there is no food around in our room now. What can we do?  
Joan: Why don't we just call for room s\_\_\_\_\_e?
9. \_\_\_\_\_ Matt has s\_\_\_\_\_l pets. Even though he has to take care of and pay a lot for them every day, he still loves them very much.

10. \_\_\_\_\_ Nelson: I don't like the l\_\_\_\_\_n of our school.

Bill: Why not?

Nelson: It' s far from all types of stores. Even the nearest restaurant is 2 kilometers(公里) away!

三、文法與對話選擇（每題 2 分，共 30 分）

1. ( ) Mr. and Mrs. Chen have stayed in the hotel \_\_\_\_\_ three days.  
(A) in (B) for  
(C) since (D) between
2. ( ) Karen: Has Audrey made the Teacher's Day card?  
Peter: No, she \_\_\_\_\_.  
(A) hasn't (B) didn't  
(C) already has (D) doesn't have
3. ( ) George: \_\_\_\_\_ I \_\_\_\_\_ you my plan?  
Ursula: Yes, you have. And I'm with you.  
(A) Has; tell (B) Has; told  
(C) Have; tell (D) Have; told
4. ( ) Ben: \_\_\_\_\_ you got the answer \_\_\_\_\_?  
Jim: No, I haven't.  
(A) Can; yet (B) Have; yet  
(C) Do; already (D) Did; already
5. ( ) Laura: Who has \_\_\_\_\_ to Kenting?  
Spencer: I have. I went there with my junior high school classmates last month.  
(A) gone (B) been  
(C) being (D) going
6. ( ) The music is too loud. Would you mind \_\_\_\_\_ down the radio a little?  
(A) turn (B) turned  
(C) to turn (D) turning
7. ( ) It is \_\_\_\_\_ to clean the kitchen alone. Let's do it together.  
(A) tire (B) tires  
(C) tired (D) tiring
8. ( ) Mrs. Lin told me \_\_\_\_\_ I have a gift for music. I am so happy to hear that.  
(A) it (B) this  
(C) that (D) those
9. ( ) Lisa worked hard today. She felt \_\_\_\_\_ after the \_\_\_\_\_ day.  
(A) tired; tired (B) tire; tiring  
(C) tiring; tired (D) tired; tiring
10. ( ) They like my idea. Actually, they were \_\_\_\_\_ it.  
(A) excited (B) exciting  
(C) excited about (D) exciting about
11. ( ) The good news was \_\_\_\_\_ to Mr. Wang. He became very \_\_\_\_\_ after he heard about it.  
(A) surprising; excited (B) surprise; exciting  
(C) surprised; interested (D) surprises; interesting

**背面尚有試題**

- 12.( ) Wilson: Are you \_\_\_\_\_ studying math?  
Hannah: Of course. The subject \_\_\_\_\_ me a lot though it is really hard.  
(A) interested in; interesting  
(B) interesting to; interests  
(C) interesting; interested in  
(D) interested in; interests
- 13.( ) \_\_\_\_\_ since we were elementary school students.  
(A) Frankie and I have known each other  
(B) Frankie and I haven't played baseball yet  
(C) Frankie and I have been to America once  
(D) Frankie and I have just had dinner together
- 14.( ) Al: What's this?  
Bob: It's a shopping list.  
Al: Why do you need it when you are shopping?  
Bob: I will buy many things because I go to the supermarket only once a month. Without it, \_\_\_\_\_  
(A) I won't get a 20% discount  
(B) I will buy one and get one free  
(C) I can buy as many things as I want  
(D) I'm afraid that I will forget to buy something I need
- 15.( ) Rex: Let's not watch this movie.  
Steve: Why not? \_\_\_\_\_  
Rex: Of course not. I just think that I may be bored when I watch it.  
Steve: Come on! You're just afraid of horror movies.  
(A) Are you scary?  
(B) Are you scared?  
(C) This is the best movie ever.  
(D) We have watched this before.

#### 四、克漏字測驗 (每題 2 分, 共 10 分)

- Zack: Mom, what's that smell?  
Mom: Hey, Zack. You're back. Dinner is almost ready. I've prepared something new for you.  
Zack: Mom, the smell is telling me it's not only something new but something scary. Did you cook without following the recipe again?  
Mom: Well, you know... I always believe my instinct more. Why bother reading through all the steps on the recipe book?  
Zack: Mom, I believe 1 you have cooked for your whole life, and most of the time, you're good at it. But if you want to try something new, you should do whatever the recipe says 2 at the first time, or you'll make a lot of cooking mistakes.  
Mom: Come on! What a 3 idea! If you always follow the rules, the result won't 4 you at all.  
Zack: OK. So have you tasted the steak and the tomato soup yourself?  
Mom: Mm... I am still waiting for you to be the first one to taste them and tell me that 5. I am the best mom ever, right? Come and dig in!

- (Zack tasted the food)  
Zack: Mom! The steak is hard and the soup is too salty! I need water now. Oh my! This is a real disaster!  
☐ instinct 直覺 whatever 任何 result 結果 salty 鹹的
- 1.( ) (A) X (B) if  
(C) for (D) about
- 2.( ) (A) for (B) I agree  
(C) at least (D) by the way
- 3.( ) (A) excited (B) bored  
(C) boring (D) exciting
- 4.( ) (A) surprise (B) surprises  
(C) surprised (D) surprising
- 5.( ) (A) delicious (B) enjoys them  
(C) you love them (D) your thoughts about them

#### 五、閱讀測驗 (每題 3 分, 共 15 分)

1. I haven't always been a fan of Christmas. When I was a kid, I saw my dad putting all the gifts under the tree. I was very surprised because I thought a happy old man in a red suit was watching over us kids. After that happened, I knew Santa Claus wasn't real. Also, when I grew up, I found that everyone tried to find a perfect gift at stores. The holiday felt like a big excuse to go shopping.

However, when a friend of mine invited me to celebrate Christmas with her last year, I started to see things differently. I thought we would just have a meal together and give each other gifts, but I was wrong. When the day came, she took me to a food bank. We helped put together and deliver bags of food to the poor. I was scared of getting close to them at first, but that changed quickly. When I handed them their Christmas dinners, their eyes showed nothing but joy, love, and thanks. It was the first real meal in a long time for some of them. Because of that experience, I now know for sure that Santa Claus is real.

☐ suit 套裝 excuse 藉口 joy 喜悅

- 1-1.( ) Which is true?  
(A) Christmas is just about buying the perfect gift.  
(B) The writer stopped believing in Santa Claus when she was a child.  
(C) Most people help at banks during Christmas.  
(D) The writer has never felt differently about Christmas.
- 1-2.( ) What is this reading mostly about?  
(A) Why people celebrate Christmas around the world.  
(B) The best Christmas gift to give a friend.  
(C) How Christmas has changed for a person.  
(D) What old people usually do on Christmas.

請翻至下一張, 繼續作答

1-3.( ) What does the writer mean by saying the last sentence(句子)?

- (A) Santa now only gives gifts to the poor.
- (B) The writer has worked for Santa for many years.
- (C) Every one of us can be a Santa Claus.
- (D) It's right to say that Santa Claus is not real.

2. Anyone who has been to the movies knows what popcorn is. It is something natural and full of taste to eat. Popcorn is not a new type of snacks at all. In fact, it has been around since 4700 BC.

Popcorn comes from the Americas. The Aztecs made popcorn into something around their necks, so it could keep them safe during important events. Later, Native Americans turned popcorn into necklaces.

Native Americans also ate popcorn as a dish. To make it, they used many different ways. In one way, they put whole ears of corn on sticks and cooked them over an open fire. In another way, they cut corn kernels down and threw them right into the fire. Some of the pieces would pop out of fire, and Native Americans would only eat those. In still another way, they heated the sand inside a pot and threw corn kernels onto it. That made people be able to collect and eat more popped corn.

The first popcorn machines came out in the 1880s and was used in the United States. That made popping corn much easier and popcorn more popular. However, what made popcorn really popular was the TV. Soon, everyone was enjoying a bowl of it while they watched their favorite programs.

BC 西元前 Aztecs 阿茲特克人 events 事件 necklace 項鍊 Native American 美洲原住民 corn 玉米 sand 沙

2-1.( ) What do kernels most likely(有可能) mean?

- (A) The fruits of corn.
- (B) The whole corn plants.
- (C) The outside part of an ear of corn.
- (D) The little hair that was grown on corn.

2-2.( ) What is the purpose of the third paragraph(段落)?

- (A) To talk about the different kinds of corn that were used.
- (B) To share all the ways that Native Americans ate corn.
- (C) To tell readers how to prepare corn for popping.
- (D) To show how Native Americans made popcorn.

#### 六、依提示作答(每題3分,共15分)

1. How long has Kent learned that language? (以「自他出生的時候」詳答)

---

---

2. The news was surprising to Gary. (以 Gary 為主詞改寫句子)

---

---

3. 這座國家公園已經擁有這座島上最美味的餅乾和糖果。(中翻英)

---

---

4. Jenny 當時不敢相信那個無趣的男人會給她小費。(中翻英)

---

---

5. 每十個人中就會有七個下載這個應用程式並得到五折的優惠。(中翻英;數字請以阿拉伯數字表示即可)

---

---

試題結束

澎湖縣文光國民中學 110 學年度第一學期第一次段考 九年級英語科 答案卷

班級：\_\_\_\_\_ 座號：\_\_\_\_\_ 姓名：\_\_\_\_\_

★請將所有答案填寫在答案卷上，否則不予計分★

一、言談理解：每題均有三個選項，請依據所聽到的對話與問題，選出一個最適當的答案（每題 2 分，共 10 分）

1.	2.	3.	4.	5.
----	----	----	----	----

二、文意字彙（每題 2 分，共 20 分）

1.	2.	3.	4.	5.
6.	7.	8.	9.	10.

三、文法與對話選擇（每題 2 分，共 30 分）

1.	2.	3.	4.	5.
6.	7.	8.	9.	10.
11.	12.	13.	14.	15.

四、克漏字測驗（每題 2 分，共 10 分）

1.	2.	3.	4.	5.
----	----	----	----	----

五、閱讀測驗（每題 3 分，共 15 分）

1-1.	1-2.	1-3.	2-1.	2-2.
------	------	------	------	------

六、依提示作答（每題 3 分，共 15 分）

1.	
2.	
3.	
4.	
5.	



澎湖縣立文光國中 110 學年度第 1 學期第 1 次段考 9 年級數學科【試題卷】

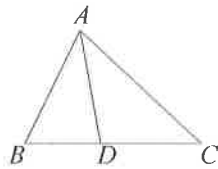
班級

姓名

座號

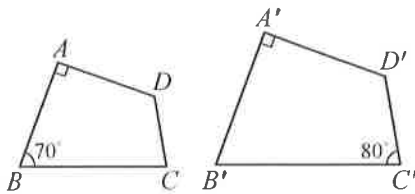
一、選擇：(每題 4 分，共 88 分)

- ( )  $\triangle ABC$  與  $\triangle DEF$  中， $\overline{AB} : \overline{DF} = \overline{BC} : \overline{DE} = 2 : 3$ ，那麼再加上下列哪一個條件中後，可以確定  $\triangle ABC$  與  $\triangle DEF$  相似？  
(A)  $\overline{DF} : \overline{AC} = 2 : 3$  (B)  $\angle A = \angle E$  (C)  $\angle B = \angle D$  (D)  $\angle C = \angle F$
- ( ) 有一個三角形的三內角比為  $1 : 3 : 5$ ，則最大角為多少度？  
(A)  $80^\circ$  (B)  $90^\circ$  (C)  $100^\circ$  (D)  $110^\circ$
- ( ) 若  $xyz \neq 0$ ，且  $3x = 4y$ ， $6y = 5z$ ，則  $x : y : z = ?$   
(A)  $3 : 4 : 5$  (B)  $9 : 12 : 10$  (C)  $15 : 20 : 24$  (D)  $20 : 15 : 18$
- ( ) 設  $a : b = 2 : 3$ ， $a : c = 3 : 4$ ，則  $a : b : c = ?$   
(A)  $1 : 3 : 2$  (B)  $2 : 3 : 4$  (C)  $6 : 9 : 8$  (D)  $6 : 3 : 8$
- ( ) 有一條長一公尺的緞帶，媽媽將它分三段給閃亮三姊妹，三姊妹各得到的比例為  $5 : 11 : 9$ ，請問三人中得到最長的是多少公分？  
(A) 20 (B) 44 (C) 45 (D) 55
- ( ) 如圖，已知  $\triangle ACD$  的面積為 12，且  $\overline{BD} : \overline{CD} = 3 : 4$ ，則  $\triangle ABC$  的面積為何？



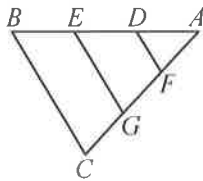
(A) 24 (B) 21 (C) 20 (D) 18

- ( ) 如圖，四邊形  $ABCD \sim$  四邊形  $A'B'C'D'$ ，已知  $\angle A = \angle A' = 90^\circ$ ， $\angle B = 70^\circ$ ， $\angle C' = 80^\circ$ ，則  $\angle C + \angle D' = ?$



(A)  $80^\circ$  (B)  $120^\circ$  (C)  $190^\circ$  (D)  $200^\circ$

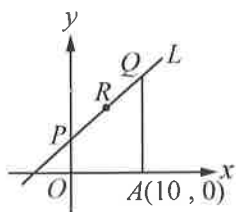
- ( ) 如圖， $D$ 、 $E$  將  $\overline{AB}$  三等分； $F$ 、 $G$  將  $\overline{AC}$  三等分，若  $\overline{EG} = 6$ ，則  $\overline{BC} = ?$



(A) 9 (B) 12 (C) 15 (D) 18

- ( ) 若四邊形  $ABCD \sim$  四邊形  $A'B'C'D'$  ( $A$ 、 $B$ 、 $C$ 、 $D$  的對應點依序為  $A'$ 、 $B'$ 、 $C'$ 、 $D'$ )，且  $\angle A : \angle B : \angle C : \angle D = 3 : 4 : 5 : 6$ ，則  $\angle B' + 2\angle C' = ?$  (A)  $180^\circ$  (B)  $260^\circ$  (C)  $280^\circ$  (D)  $300^\circ$

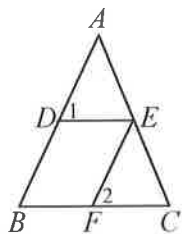
10. ( ) 如圖， $O$  為原點， $A$  點的坐標為 $(10, 0)$ ，直線  $L$  為一次函數  $y=x+4$  的圖形，直線  $L$  交  $y$  軸於  $P$  點， $\overline{AQ}$  垂直於  $x$  軸，且交直線  $L$  於  $Q$  點，已知  $R$  點在  $\overline{PQ}$  上，且  $R$  為  $\overline{PQ}$  中點，則  $R$  點坐標為何？



- (A)  $(5, 0)$  (B)  $(5, 5)$  (C)  $(5, 9)$  (D)  $(10, 14)$

11. ( ) 已知  $\triangle ABC \sim \triangle DEF \sim \triangle PQR$ ，其中  $A$  的對應點為  $D, P$ ， $B$  的對應點為  $E, Q$ ， $C$  的對應點為  $F, R$ ，若  $\angle C = 60^\circ$ ， $\angle Q = 80^\circ$ ，則  $\angle D = ?$  (A)  $40^\circ$  (B)  $50^\circ$  (C)  $60^\circ$  (D)  $90^\circ$

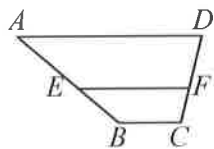
12. ( ) 如圖， $\triangle ABC$  中， $D, E, F$  分別為  $\overline{AB}$ 、 $\overline{AC}$ 、 $\overline{BC}$  的中點，若  $\angle 1 = \angle 2 = 65^\circ$ ，則  $\angle A + \angle C = ?$



- (A)  $65^\circ$  (B)  $95^\circ$  (C)  $115^\circ$  (D)  $125^\circ$

13. ( ) 撲滿裡有五元硬幣  $x$  枚，十元硬幣  $y$  枚，五十元硬幣  $z$  枚，已知  $x : y : z = 3 : 2 : 1$ ，總金額為 340 元，下列何者正確？  
(A)  $x=15$  (B)  $y=9$  (C)  $z=6$  (D)  $x+y+z=24$

14. ( ) 如圖，梯形  $ABCD$  中， $\overline{AD} \parallel \overline{BC} \parallel \overline{EF}$ ， $\overline{AE} : \overline{BE} = 3 : 2$ ， $\overline{EF} = 9$ ， $\overline{BC} = 5$ ，求  $\overline{AD} = ?$



- (A) 10 (B) 15 (C) 20 (D) 25

15. ( ) 設  $\triangle ABC$  的三邊長比為  $2 : 3 : 4$ ，則其三個高的比為何？  
(A)  $3 : 6 : 4$  (B)  $6 : 4 : 3$  (C)  $4 : 6 : 3$  (D)  $3 : 4 : 6$

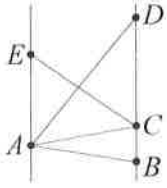
16. ( ) 設  $ab \neq 0$ ，若  $5a = 3b = 7c$ ，則  $a : b : c = ?$   
(A)  $21 : 35 : 15$  (B)  $35 : 21 : 15$  (C)  $15 : 21 : 35$  (D)  $35 : 15 : 21$

17. ( ) 若  $a : b = 8 : 7$ ， $a : c = 0.4 : 5$ ，且  $b = 28$ ，則  $c$  之值為何？  
(A) 35 (B) 50 (C) 100 (D) 400

18. ( )  $\triangle ABC$  中， $\overline{AB} = \overline{AC} = 4$ ， $\angle A = 50^\circ$ ，將  $\triangle ABC$  縮放為 1.2 倍後得  $\triangle A'B'C'$ ，則下列何者錯誤？(A)  $\angle A' = 100$  (B)  $\overline{A'B'} = 4.8$  (C)  $\angle B = 65^\circ$  (D)  $\triangle A'B'C'$  為等腰三角形

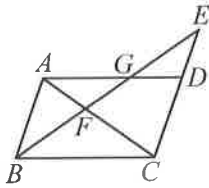
19. ( ) 已知四邊形  $ABCD$  與四邊形  $PQRS$  相似，且  $A、B、C、D$  四點的對應點為  $P、Q、R、S$ 。若  $\overline{AB} : \overline{BC} : \overline{CD} : \overline{DA} = 12 : 9 : 8 : 6$ ， $\overline{PQ}$  與  $\overline{RS}$  相差 16 公分，則四邊形  $PQRS$  的周長為多少公分？(A)70 (B)100 (C)140 (D)210

20. ( ) 如圖， $\overline{AE} \parallel \overline{BD}$ ， $C$  在  $\overline{BD}$  上。若  $\overline{AE} = 10$ ， $\overline{BC} = 4$ ， $\overline{CD} = 12$ ， $\triangle ACD$  的面積為 36，則四邊形  $ABCE$  的面積為何？



(A)36 (B)40 (C)42 (D)48

21. ( ) 如圖，平行四邊形  $ABCD$  中， $E$  在直線  $CD$  上，且  $\overline{BE}$  與  $\overline{AC}$ 、 $\overline{AD}$  分別相交於  $F、G$ ，則下列敘述何者正確？

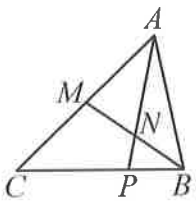


(A)  $\triangle BEC \sim \triangle GBA$  (B)  $\triangle ABF \sim \triangle BFC$   
 (C)  $\triangle EGD \sim \triangle AGF$  (D)  $\triangle ABF \sim \triangle GDE$

22. ( ) 若  $3a=4b$ ， $3b=5c$ ， $a+b+c=88$ ，則  $a : b : (c+2) = ?$   
 (A)6 : 3 : 2 (B)4 : 3 : 2 (C)20 : 15 : 9 (D)4 : 5 : 3

二、計算：(每題 6 分，共 12 分)

1. 如圖， $\triangle ABC$  中， $M、N$  分別為  $\overline{AC}$ 、 $\overline{BM}$  的中點，試回答下列問題：(需列計算過程)



(1)  $\overline{CP} : \overline{PB} = ?$  (2)  $\overline{AP} : \overline{NP} = ?$

2. 若  $15 : 20 : 25 = c : d : 5$ ，則  $c、d$  的值分別為多少？(需列計算過程)

澎湖縣立文光國民中學 110 學年度第 1 學期第 1 次成績評量 9 年級自然科試卷

答案請填入答案卷

9 年\_\_\_\_班 座號：\_\_\_\_\_ 姓名：\_\_\_\_\_

範圍：1-1~2-3+Ch5

一、單選題 (40 題，每題 2 分，共 80 分)

- ( ) 1. 下列哪種現象不適合以慣性定律解釋？ (A)將平放在桌面的書推給對面的同學，書本的速度漸漸變慢而停止 (B)搖動果樹使成熟果實掉落 (C)用力甩掉手上的水珠 (D)抖動衣服去掉灰塵。
- ( ) 2. 若有一物體沿直線做加速度為 4 公尺/秒<sup>2</sup>的等加速度運動，在某時刻速度為 10 公尺/秒，則下列敘述何者正確？ (A)物體每秒速度的變化量為 2 公尺/秒 (B)物體在該時刻的 10 秒後，速度為 50 公尺/秒 (C)該時刻的前 1 秒物體的速度為 12 公尺/秒 (D)該時刻的後 1 秒物體的速度為 8 公尺/秒。
- ( ) 3. 如附圖所示，每一格邊長為 1 公分，一隻螞蟻從 A 點走到 B 點，其位移與路徑長分別為何？ (A)4cm 向上、8cm 向下 (B) 4cm 向下、8cm 向下 (C)4cm 向下、8cm (D)4cm、8cm 向下。
- ( ) 4. 阿修、阿華、阿緯三人各用質量均為 50 公克的擺錘做單擺實驗，其所用的擺長分別為 30 公分、40 公分、50 公分，若擺角固定且不大於 10 度，所測得週期各為  $T_1$ 、 $T_2$ 、 $T_3$ ，則三者大小關係為何？ (A) $T_1 > T_2 > T_3$  (B) $T_1 < T_2 < T_3$  (C) $T_1 = T_2 = T_3$  (D) $T_2 > T_1 > T_3$ 。
- ( ) 5. 小曹在等速度前進的火車上，鉛直往上拋出一枚硬幣，那一瞬間，火車猛然加速前進，則該硬幣將掉落於何處？ (A)小曹前方 (B)小曹後方 (C)原處 (D)視火車行駛的方向而定。
- ( ) 6. 由下列位置與時間關係圖、速度與時間關係圖中，哪張圖可能是表示一個等加速度運動？(加速度不為 0)
- 甲.  $x$

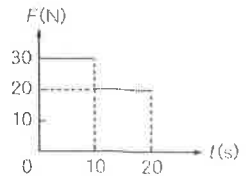
乙.  $x$

丙.  $v$

丁.  $v$
- (A)甲 (B)乙 (C)丙 (D)丁。
- ( ) 7. 阿倫正在學游泳，剛學會漂浮後，教練要阿倫以腳蹬牆，讓身體往前漂，在水中前進，使阿倫能前進的是下列哪一種力的作用？ (A)牆的反作用力 (B)水的反作用力 (C)水的壓力 (D)水的浮力。
- ( ) 8. 甲、乙、丙三物體做直線運動，其速度與時間的關係如附圖所示。假設三物體的受力方向與其運動方向都在同一直線上，且質量分別為 2 公斤、3 公斤、9 公斤，則三物體受力後產生的加速度 (a) 大小順序為？ (A) $a_乙 > a_甲 > a_丙$  (B) $a_丙 > a_甲 > a_乙$  (C) $a_丙 > a_乙 > a_甲$  (D) $a_甲 > a_乙 > a_丙$ 。
- 
- ( ) 9. 一塊大石頭重 20 公斤重，如果阿康用 15 公斤重的力往上抬，石頭仍然不動，則下列敘述何者錯誤？ (A)石頭給阿康的反作用力為 15 公斤重 (B)石頭所受的合力為零 (C)地面給石頭的反作用力為 20 公斤重 (D)石頭給地面的作用力為 5 公斤重。
- ( ) 10. 阿華將一個 4000 公克的鐵球由高樓頂處自由落下，經過 5 秒後鐵球落至地面，接著又將一塊 40 公克的橡皮擦由同一處自由落下，若不考慮空氣阻力，則經過多少秒後橡皮擦會落至地面？(重力加速度 = 9.8 公尺/秒<sup>2</sup>) (A)0.005 (B)0.05 (C)0.5 (D)5。
- ( ) 11. 太空船內有一個質量為 1 公斤的物體，如果太空人用 5 牛頓的力量推它，則此物體所獲得的加速度為多少公尺/秒<sup>2</sup>？ (A)0.5 (B)5 (C)50 (D)500。
- ( ) 12. 關於「平均速度」與「平均速率」的敘述，下列何者正確？ (A)運動的路徑越長，平均速率越大 (B)運動的時間越短，平均速度越大 (C)在相同的時間內，物體運動的位移越長，則平均速度越大 (D)運動的路徑長相等，運動時間越長者，則平均速率越大。
- ( ) 13. 一輛汽車沿直線行駛，其位置與時間的關係如附圖所示，則下列敘述何者正確？ (A)從 2 秒到 4 秒間，汽車行駛了 20 公尺 (B)8 秒時汽車的位置在 160 公尺處 (C) 6 秒時汽車的速度是 5 公尺/秒 (D) 4 秒時汽車的速度是 20 公尺/秒。
- 

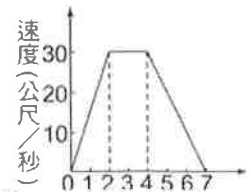
背面尚有試題

- ( ) 14. 一個質量為 10 公斤的物體，靜置於光滑水平面上，若先以 30 牛頓的水平力推 10 秒，再改以同方向 20 牛頓的水平力推 10 秒，其力與時間的關係如附圖所示。請問此物體在 5 秒時及 15 秒時的加速度大小比為何？ (A)1:3 (B)3:2 (C)3:5 (D)4:5。

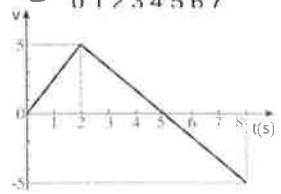


- ( ) 15. 小偉在長 25 公尺的游泳池中，游到對岸後再折返游回到原出發點，全程共游了 50 公尺，費時 50 秒，則下列敘述何者正確？ (A)全程位移為 50m (B)全程平均速度為 1m/s (C)全程平均速率為 0 m/s (D)全程的平均速度為 0 m/s。
- ( ) 16. 一部汽車從靜止狀態啟動，在平坦的公路上直線行駛 100 公尺，共花了 10 秒鐘。下列推論何者最適當？ (A)起動後第 10 秒末，該車的瞬時速度大小為 10m/s (B)起動後第 10 秒末，該車的瞬時加速度大小為  $1\text{m/s}^2$  (C)起動後最初 10 秒期間，該車的平均加速度大小為  $1\text{m/s}^2$  (D) 起動後最初 10 秒期間，車子的平均速度大小為 10m/s。

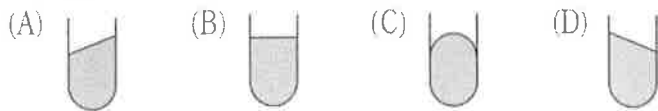
- ( ) 17. 某質量 5 公斤的物體在光滑無摩擦的水平面上受外力作用，其 v-t 圖如附圖所示，則在第 5 秒時該物體所受的合力大小為多少牛頓 ( $g=10 \text{ m/s}^2$ )？ (A)20 (B)30 (C)40 (D)50。



- ( ) 18. 小偉自製了一個冲天炮，當冲天炮一飛冲天時，其 v-t 圖如附圖，若向上的速度為正，則第幾秒時冲天炮開始下降？ (A)第 2 秒 (B)第 5 秒 (C)第 6 秒 (D)第 8 秒。



- ( ) 19. 小豪手持一裝滿水的杯子站在公車上，忽然間，公車由靜止突然向左加速，則小豪手中的那一杯水的狀態應該是用下列哪一張圖描述較適當？

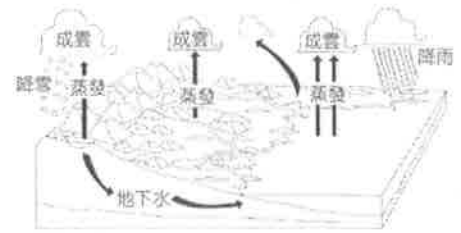


- ( ) 20. 分布在地球表層的淡水，主要是以下列哪一種形態存在？ (A)河流、湖泊 (B)冰 (C)雲朵、水氣 (D)地下水。
- ( ) 21. 臺灣近年來常發生因短時間內大量降雨而導致淹水的情況，請問若要減少人口密集地區發生淹水的頻率，下列哪一種作法較不會破壞環境且排水較快？ (A)大興土木擴建排水系統工程 (B)將部分公園改成大水池，儲存宣洩不及的雨水 (C)興建運河兼具航運之利 (D)將雨水直接引導滲入地下。
- ( ) 22. 原住民石板屋的板岩、建材常用的大理岩，分別是由什麼岩石變質而成？ (A)安山岩、砂岩 (B)玄武岩、砂岩 (C)頁岩、石灰岩 (D)頁岩、安山岩。
- ( ) 23. 許多地區的人生活都仰賴抽取地下水，請問下列哪些是臺灣超抽地下水導致的災害例子？ 甲. 沿海地區地下水被海水滲入而鹹化；乙. 地層下陷造成水庫乾涸缺水；丙. 沿海地區地層下陷造成海水倒灌而淹水；丁. 地層下陷造成房屋地基裸露。 (A)甲丙 (B)甲丁 (C)甲乙丁 (D)甲乙丙丁。
- ( ) 24. 一般來說，有關河床沉積物的描述哪一個正確？ (A)越靠近下游，沉積物顆粒越小 (B)越靠近上游，沉積物重量越輕 (C)越靠近下游，沉積物數量越少 (D)越靠近上游，沉積物顆粒越圓。
- ( ) 25. 海底火山噴出的岩漿，在海水當中經冷卻後會形成岩石，有關此岩石的敘述下列何者正確？ (A)礦物結晶顆粒大 (B)岩漿冷卻極為快速 (C)大多形成頁岩 (D)主要是凝固成大理岩。
- ( ) 26. 小李行經中橫公路，觀察到許多彎曲、傾斜的岩層，他猜測應該是這些岩層受到高溫、高壓作用的緣故，才會扭曲變形。如果中橫公路的岩石大多為何種岩石，則可證明小李的猜測是正確的？ (A)安山岩 (B)砂岩 (C)頁岩 (D)板岩。
- ( ) 27. 如果太陽突然消失且不再出現，則地球上哪一項活動可能會很快大幅減弱，甚至逐漸消失？ (A)岩漿活動 (B)板塊運動 (C)斷層錯動 (D)地表侵蝕。

- ( ) 28. 下列哪一項所描述的不是地球層圈之間的交互作用？ (A)大量生物行光合作用製造出大氣中的氧氣 (B)隕石高速撞擊地球表面形成隕石坑 (C)大氣中的水蒸氣凝結後下雨和下雪，形成河流或冰川 (D)火山噴發出岩漿、火山灰和氣體，影響附近的空氣組成。

- ( ) 29. 花岡岩主要的組成礦物，請問不包括下列何者？ (A)方解石 (B)石英 (C)雲母 (D)長石。

- ( ) 30. 附圖為水循環的過程，試問形成雲的過程屬於水循環的哪一個步驟？ (A)凝結 (B)蒸發 (C)降水 (D)昇華。



- ( ) 31. 實驗課時，老師向同學展示下列四種岩石，試問這些岩石中，哪些能夠和鹽酸作用而產生氣泡？且產生的氣泡為何？甲. 頁岩；乙. 大理岩；丙. 花岡岩；丁. 石灰岩。 (A)甲、乙；水氣 (B)乙、丙；氮氣 (C)乙、丙；二氧化碳 (D)乙、丁；二氧化碳。

- ( ) 32. 附圖為某河流的示意圖，箭頭表示水流的方向，試問河道中哪一側的沉積作用最明顯？ (A)甲側 (B)乙側 (C)丙側 (D)丁側。



- ( ) 33. 在侵蝕作用的自然力量中，造成地表地形最主要的是下列何者？ (A)風 (B)冰川 (C)河流 (D)海水。

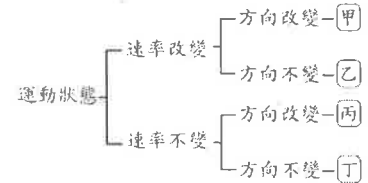
- ( ) 34. 根據岩石變化的循環，下列何種變化不可能發生？ (A)岩漿→火成岩→變質岩 (B)沉積岩→變質岩→岩漿 (C)火成岩→變質岩→岩漿 (D)岩漿→沉積岩→變質岩。

- ( ) 35. 使岩石變成泥土的主要作用是下列何者？ (A)侵蝕作用 (B)風化作用 (C)搬運作用 (D)沉積作用。

- ( ) 36. 一輛汽車行駛於筆直的道路，在  $t=0$  秒時開始由靜止出發， $t=10$  秒時汽車的速度大小為  $20\text{m/s}$ ，已知汽車在  $t=10\sim 20$  秒期間所受合力為  $0$ ，則  $t=20$  秒時，汽車的速度大小應為多少？

(A)  $0$  (B)  $10\text{ m/s}$  (C)  $20\text{ m/s}$  (D)  $40\text{ m/s}$ 。【110 教育會考補考】

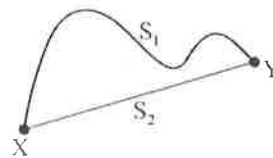
- ( ) 37. 附圖為各種運動的分類，老師請志豪將「等速度運動」的圖卡貼在圖中甲、乙、丙、丁中的一個位置上，則他貼在哪一個位置才是正確的判斷？(A)甲 (B)乙 (C)丙 (D)丁。【103 教育會考】



- ( ) 38. 如附圖所示，圖上 X 點到 Y 點有  $S_1$ 、 $S_2$  兩條路徑可以選擇，小志與阿耀同時由 X 點出發向 Y 點移動，且途中無折返，抵達 Y 點後計算出兩人的平均速度大小與平均速率，如附表所示。有關誰先抵達 Y 點及他們選擇的路徑，下列敘述何者正確？

(A) 小志先抵達，且兩人選擇相同的路徑 (B) 阿耀先抵達，且兩人選擇不同的路徑 (C) 兩人同時抵達，且兩人選擇相同的路徑 (D) 兩人同時抵達，且兩人選擇不同的路徑。【110 教育會考補考】

	小志	阿耀
平均速度大小 (km/h)	40	40
平均速率 (km/h)	60	40




- ( ) 39. 甲、乙、丙三地位於同一條筆直的道路，且乙地位於甲、丙之間，甲、乙二地的距離為  $S_1$ ，乙、丙二地的距離為  $S_2$ 。小明沿著道路由甲地出發經乙地到達丙地後再折返回乙地，其路線即甲→乙→丙→乙，已知此過程小明的平均速度大小為每小時 3 公里，平均速率為每小時 15 公里，則  $S_1:S_2$  為下列何者？ (A)  $1:1$  (B)  $1:2$  (C)  $1:4$  (D)  $1:5$ 。【107 教育會考】

- ( ) 40. 當岩石受到壓力、溫度、海水等因素影響，會逐漸破裂，而海浪長期在破裂的裂隙中反覆作用，使裂隙加大，會形成一塊塊形狀像豆腐的岩石，稱為「豆腐岩」。根據上述資訊，「豆腐岩」的形成原因應以哪兩種地質作用為主？(A)風化作用與侵蝕作用 (B)風化作用與沉積作用 (C)侵蝕作用與沉積作用 (D)搬運作用與沉積作用。【109 教育會考】

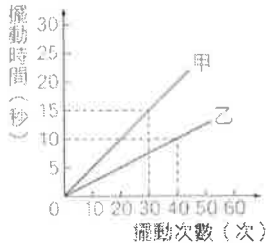
背面尚有試題

二、填充題：(10 格答案，每格 2 分，共 20 分，答案請填入答案卷中)

1. 如附圖所示，用 5 牛頓向右的水平拉力作用於 2 公斤的靜止物體上，10 秒後該物體的速度為 20 公尺/秒，則該物體所受的摩擦為 (A) \_\_\_\_\_ (牛頓)，方向向 (B) \_\_\_\_\_。

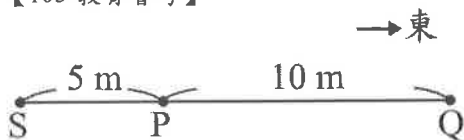


2. 附圖表示在同一地點甲、乙兩單擺的擺動次數與擺動時間之關係圖，請回答以下問題：

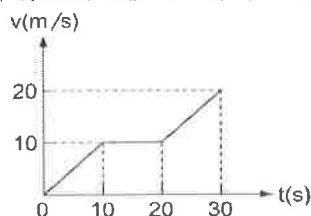


- (1) 甲單擺的週期為 (C) \_\_\_\_\_ 秒，乙單擺的週期為 (D) \_\_\_\_\_ 秒。  
 (2) 甲、乙兩單擺，何者擺長較長？(E) \_\_\_\_\_。
3. 為提升國內維安，警政署更換了新手槍，新手槍槍體質量約為 640 公克，子彈質量約為 80 公克。請問子彈射出槍管的瞬間，槍體與子彈的受力比為 (F) \_\_\_\_\_，槍體與子彈的加速度比為 (G) \_\_\_\_\_。
4. 智耀在筆直的跑道上折返跑，他從 P 點起跑，其路徑為 P→Q→P→Q→P→S，總共歷時 15 s，如附圖所示。下列何者可表示此次智耀折返跑的平均速率為 (H) \_\_\_\_\_ (m/s)，平均速度為 (I) \_\_\_\_\_ (m/s) (注意方向標示，向東為正，向西為負，向東可不標示正號，向西則必須標示負號)

【105 教育會考】



5. 附圖為一輛汽車在筆直公路上行駛時的速度與時間的關係圖 (v-t 圖)。在 0 秒至 30 秒期間，此汽車行駛的位移大小為何？(J) \_\_\_\_\_ (m)



【試題結束—110 學年度第 1 學期第 1 次成績評量 9 年級自然科】

澎湖縣立文光國民中學 110 學年度第 1 學期第 1 次成績評量

9 年級自然科試題

答案卷

9 年\_\_\_\_班 座號：\_\_\_\_\_姓名：\_\_\_\_\_

得分

一、 單選題 (40 題，每題 2 分，共 80 分)

1	2	3	4	5	6	7	8	9	10
11	12	13	14	15	16	17	18	19	20
21	22	23	24	25	26	27	28	29	30
31	32	33	34	35	36	37	38	39	40

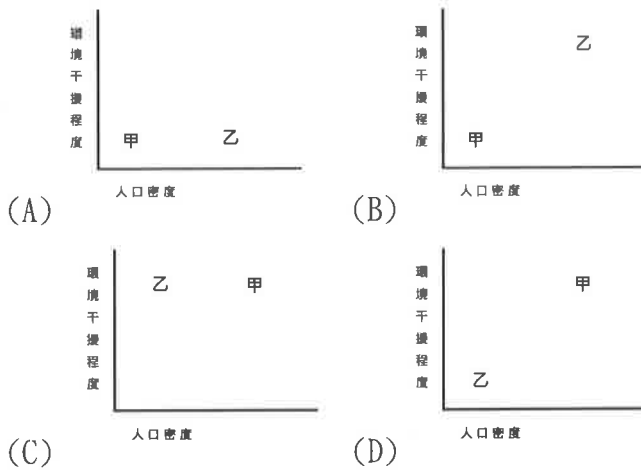
二、 填充題 (10 格答案，每格 2 分，共 20 分)

(A)	(B)	(C)	(D)	(E)
(F)	(G)	(H)	(I)	(J)



一、 單選題(1-15 題每題 2 分，16-20 題每題 1 分，共 35 分)

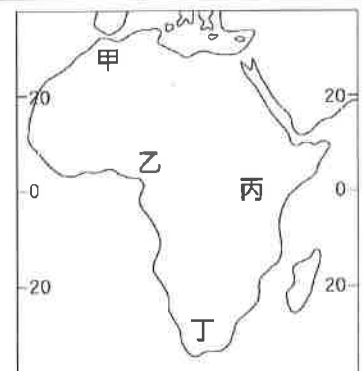
- ( ) 關於公平貿易標章的敘述，何者正確？ (A)確保殖民母國得到最大利益 (B)使漠南非洲農民使用更多化學肥料 (C)消費者以公平低廉價格買到產品 (D)農民在產品的貿易上得到較公平的待遇。
- ( ) 吉利馬札羅山位居赤道附近，山頂卻長年白雪皚皚。下列哪一段敘述最能解釋上述現象？ (A)山頂距海遙遠，因此十分寒冷 (B)熱帶雨林氣候，因此水氣充足 (C)山頂地勢很高，因此氣溫偏低 (D)山頂緯度極高，因此長年積雪。
- ( ) 非洲有一處「裂谷地形」被稱為「地球上最大的傷疤」。請問：關於該地的敘述，何者正確？ (甲)位於非洲東部 (乙)位於非洲幾內亞灣 (丙)由風力侵蝕而成 (丁)由斷層作用形成 (A)甲丙 (B)甲丁 (C)乙丙 (D)乙丁。
- ( ) 世界上許多熱帶國家都有被殖民的經歷，而過程中衍生的經濟發展模式稱為「殖民地式經濟」。在這種經濟模式之下，被殖民者主要從事何種經濟活動？ (A)耕種糧食作物為主 (B)提供經濟作物和礦產 (C)製造業為其主要維生方式 (D)發展科技與世界接軌。
- ( ) 非洲陸塊在地質上十分古老，約有三分之一屬於前寒武紀的岩層。請問：下列何者與此地理特徵有密切關聯？ (A)礦藏豐富 (B)平原分布於幾內亞灣 (C)撒哈拉沙漠遼闊 (D)剛果河下游河流湍急。
- ( ) 不同的產業活動在「人口密度」與「環境干擾」的程度也有差異。下列四張圖表針對 (甲)台灣稻作農業與(乙)漠南非洲游耕的整理，何者正確？



- ( ) 非洲位於南、北回歸線附近的地表呈現熱帶沙漠的景觀，造成該地乾燥少雨的主要原因為何？ (A)高氣壓籠罩 (B)距海遙遠 (C)寒流流經 (D)位於高山的背風側。
- ( ) 右表為西元 2016 年聯合國農糧組織所統計的「低收入缺糧國」的各洲數量，造成非洲較其他洲缺糧嚴重的原因，與下列何者有關？(甲)氣候寒冷 (乙)內戰頻仍 (丙)發展熱帶栽培業 (丁)生態環境遭破壞 (戊)人口負成長 (A)甲乙丁 (B)丙丁戊 (C)甲丁戊 (D)乙丙丁。


洲別	低收缺糧國數量
非洲	37 國
中南美洲	2 國
亞洲	11 國
大洋洲	2 國

- ( ) 非洲大陸的主要氣候帶中，何種氣候類型呈現夏乾冬雨的特色，最適合人居？ (A)熱帶莽原氣候 (B)熱帶雨林氣候 (C)溫帶地中海型氣候 (D)熱帶乾燥氣候。
- ( ) 漠南非洲的人口主要集中在右圖的哪二個區域？ (A)甲乙 (B)乙丙 (C)甲丙 (D)丙丁。
- ( ) 非洲的氣候帶中，面積較廣大的有雨林、莽原、乾燥三種氣候類型。請問：這三類氣候主要的劃分依據為何？ (A)最冷月月均溫 (B)降水量的多寡 (C)盛行風的方向 (D)地勢的高低。



12. ( ) 目前漠南非洲面臨的問題很多，如饑荒、失業率高、生態破壞、醫療設施不足等，下列何者又使得這些問題更加嚴重？ (A)公平貿易的推廣 (B)人口快速成長 (C)工業化發展過快 (D)高齡化的社會到來。

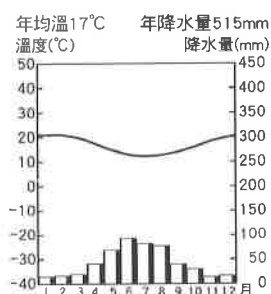
13. ( ) 右圖為非洲地形剖面圖。若從A點到B點，則下列哪一項數據的變化趨勢，會與地勢高低起伏情形最為相近？ (A)年均溫 (B)受信風影響程度 (C)緯度 (D)森林密度。



14. ( ) 漠南非洲許多國家仍延續殖民時期的經濟型態，以礦產與熱帶栽培作物為主要輸出品，此種經營方式，容易面臨下列哪一項經濟問題？ (A)易受國際市場價格影響 (B)國內勞工薪資高漲 (C)基礎建設完善 (D)糧食生產供給過剩。

15. ( ) 位於非洲的貝比隆斯托莊園以盛產葡萄酒為名，其氣候圖如(圖一)所示。請問：貝比隆斯托莊園最有可能位於(圖二)中何處？ (A)甲 (B)乙 (C)丙 (D)丁。

16. ( ) (圖三)為非洲政區圖，非洲各國家的國界如圖中表示，呈現依經緯線的切割與分布。請問：上述情況的成因為下列何者？ (A)M-pesa 手機轉帳服務在漠南非洲迅速發展 (B)昔日列強未考慮族群與部落的界線 (C)人力及太陽能發電提高居民生活品質 (D)漠南非洲雇用童工狀況氾濫。



(圖一)



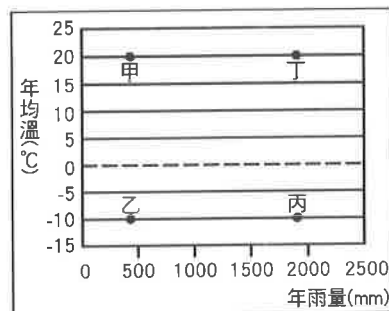
(圖二)



(圖三)

17. ( ) 游耕是漠南非洲傳統部落的維生方式之一，族人通常在森林中找到一塊土地後，以火焚林開闢成耕地，期間不施肥，三、五年後需更換新耕地，因此適合在人口密度較低的地區實施。請問：右圖中的哪一種自然環境，較適合採行游耕的方式？ (A)甲 (B)乙 (C)丙 (D)丁。

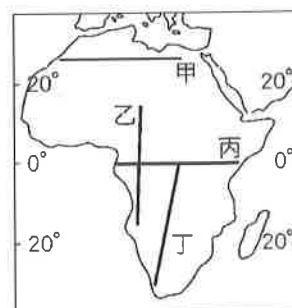
18. ( ) 漠南非洲的糧食不足與貧窮問題一直是全球共同關注的焦點。請問：下列敘述何者錯誤？ (A)人口增加速度超過糧食生產速度 (B)貧窮問題主要顯示在糧食不足的現象上 (C)食物缺乏引起的營養不良會造成兒童發育遲緩 (D)開發雨林與草原，增加耕地可有效改善此問題。



19. ( ) 漠南非洲以熱帶栽培業為主要經濟來源，請問：下述何者正確？ (甲)大量栽種單一作物，可避免受國際價格波動影響 (乙)大部分國家都包含從生產、加工到製成商品的技術 (丙)熱帶栽培業需要投入大量勞力 (丁)經濟作物以出口為主，並非當地居民生活所必需。

(A)甲乙 (B)甲丙 (C)乙丁 (D)丙丁。

20. ( ) 右為非洲簡圖。沿著圖上哪一條路線，才能見到熱帶莽原分布的景觀？ (A)甲 (B)乙 (C)丙 (D)丁。



【第2頁結束 後面尚有試題】

一、 單選題(21-30 題每題 2 分，31-40 題每題 1 分，共 30 分)

21. ( ) 對於「稀少性」的理解情形，下列哪位學生所提的例子有誤？ (A)手機記憶體容量有限，無法一直拍照 (B)只帶 100 元出門，不能買所有想要的東西 (C)上班族收入固定，必須做消費計畫 (D)逛全聯有琳瑯滿目的商品可以選擇。
22. ( ) 生產行為的決策者，稱為生產者。依此判斷，下列何者屬於「生產者」？ (A)經營早餐店的王先生 (B)在 NET 購物的陳小姐 (C)假日到演藝中心看表演的陳先生 (D)去理髮店洗頭的張小姐。
23. ( ) 下列對於資源的敘述，何者正確？ (A)地球的資源，因為資源用之不竭 (B)經濟問題的發生與資源的使用並無關係 (C)資源有限，每個人必須做出選擇 (D)日常生活樣樣皆要消費，所以資源無限不用珍惜。
24. ( ) 生產者從事生產的最終目的為下列何者？ (A)獲取利潤 (B)降低生產成本 (C)促進公益 (D)提高銷貨收入。
25. ( ) 商品價格會左右消費者購買的數量，當市場價格降低時，消費者的購買意願會如何變化？ (A)增加 (B)減少 (C)不變 (D)無法判斷。
26. ( ) 國際新聞：「疫情升溫，某城市宣布即日起關閉公共場所，不少民眾擔心會封城，大賣場出現搶買衛生紙、冷凍食品、生鮮食品等物資的人潮。」根據上述內容，影響民眾消費的因素為下列何者？ (A)商品價格 (B)薪資所得 (C)個人偏好 (D)預期心理。
27. ( ) 父母為了鼓勵孩子學習做家事，以增加 3C 使用時間做為獎勵，這是運用何種誘因影響選擇？ (A)正向誘因 (B)負向誘因 (C)金錢誘因 (D)無法判斷。
28. ( ) 新聞報導：「北韓為了發展飛彈，每年編列大筆國防武器的預算，卻忽略民生政策，使人民的生活無法更進一步改善。」上述內容若採用經濟學角度分析，隱含下列何種概念？ (A)慾望無窮 (B)無限資源 (C)有限欲望 (D)機會成本。
29. ( ) 某偶像接演新電視劇的片酬是 900 萬元，他因此推掉同時間其他的工作機會，一個是報酬 1,000 萬元的廣告代言機會，另一個是一齣片酬 500 萬元的電影，那麼他接演這部新電視劇的機會成本是多少？ (A)500 萬元 (B)900 萬元 (C)1,000 萬元 (D)1,500 萬元。
30. ( ) 市售西裝款式多樣化，價格又便宜，但是陳先生卻喜歡到裁縫店訂做西裝。陳先生認為量身訂做的衣服才合身，雖然需要多花些錢和時間，他仍然堅持這麼做。陳先生訂做衣服的行為，最主要是受到下列何種因素所影響？ (A)商品價格 (B)預期心理 (C)所得水準 (D)消費者偏好。
31. ( ) 某超市新門市開幕慶活動吸引大量人潮搶購商品，活動規則為：凡到店消費的顧客，每筆消費滿 1,000 元，即可折抵 50 元，買得愈多折得愈多。造成大量人潮至該超市採購商品的情況，主要是受到下列何項因素影響？ (A)商品價格 (B)薪資所得 (C)個人偏好 (D)預期心理。
32. ( ) 所謂「魚與熊掌不可兼得」，下列哪個同學對於這句話的解釋比較正確？ (A)松群：「金錢就是消費出的代價。」 (B)佾宸：「輪流使用資源最符合經濟效益。」 (C)冠棋：「個人在消費時都必須做出取捨。」 (D)盛恩：「使用者付費才符合經濟學。」
33. ( ) 以下為四間公司的招募廣告，何者是採取「金錢誘因」吸引應聘者？ (A)旅行社員工享有一年二週旅遊假 (B)飲料店年終獎金 6 個月 (C)火鍋店一年一次員工旅遊 (D)大飯店有明確的晉升機會。
34. ( ) 一群媽媽在聚會中分享對於小孩課業不佳的處理方式，哪個非運用的是正向誘因？ (A)不打不成器 (B)多和孩子溝通，了解學習困境 (C)取消孩子休閒娛樂時間 (D)多讚美缺乏自信的孩子。
35. ( ) 每年夏季 6 至 9 月是國內用電的尖峰期，臺電採取進入尖峰期時會收取較高的電費，以降低用電量。上述電力公司的做法，是運用了下列何種概念？ (A)價格愈高，消費者減少需求 (B)價格愈高，消費者增加需求 (C)價格愈高，生產者減少供給 (D)價格愈高，生產者增加供給。 【第 3 頁結束 背面尚有試題】

36. ( ) 譽楷與同學聊到最近學校購置的一套設備，譽楷：最近學校買了一套任天堂 Switch 放體育館。每次下課去借用，都大排長龍。柏宗：我也很想玩，學校應分配班級輪流使用。祐宏：應該改成付費使用，就能減少排隊人潮。仲宸：我對這個沒興趣，就算免費也不想去玩。根據他們的談話，下列說明何者正確？ (A)祐宏提議將「時間」成本考量進來 (B)柏宗支持用「協調」方式分配資源 (C)譽楷提到的排隊現象，資源利用效率最高 (D)仲宸的說法展現相同資源對每個人滿足程度不同。

工作	時薪收入
英文家教	400 元
超商工讀生	200 元
速食店工讀生	160 元
補習班老師	250 元

37. ( ) 美玲打算利用週末去打工，右表是她可以選擇的工作機會。美玲選擇哪個打工的機會成本最低？ (A)英文家教 (B)超商工讀生 (C)速食店工讀生 (D)補習班老師。

38. ( ) 媒體報導「雞肉可能殘留抗生素」的消息，引起消費者不安，肉價也跟著下跌。此時生產者最可能採取下列何種措施？ (A)增加供給數量 (B)減少供給數量 (C)增加需求數量 (D)減少需求數量。

39. ( ) 下表是好滋味麵包店推出三種均一價的商品，每日各供應 30 份，其單日獲利為 1,800 元

價格 品項	成本 (元/份)	售價 (元/份)	數量 (份/日)
抹茶蛋糕	15	35	30
紅豆麵包	10	35	30
花香餅乾	?	35	30

下列相關敘述，何者正確？ (A)花香餅乾的利潤最高 (B)花香餅乾的成本為 20 元 (C)好滋味麵包店單日銷貨收入為 1,350 元 (D)提高紅豆麵包的成本可增加利潤。

40. ( ) 小君下個月生日，爸爸提出了兩個慶生方案讓小君選擇，小君列出下表，想好好思考再決定。下列敘述何者正確？ (A)小君選擇吃大餐的機會成本最高，開心指數也最高 (B)小君選擇打電動的機會成本最低，開心指數也最低 (C)小君應該選擇打電動，因為開心指數最低 (D)小君應選擇吃大餐，因為其機會成本最低。

方案	吃大餐	打電動
開心指數	95	90

澎湖縣立文光國民中學 110 學年度第 1 學期第 1 次成績評量 9 年級歷史科試卷

班級：

姓名：

座號：

■讀卡 □答案卷

一、 單選題(41~54 題，每題 2 分；共 28 分)

- ( ) 41. 廣播節目正在介紹世界各地區曾建立遼闊帝國的民族。主持人提到了蒙古帝國雖然疆域幅員廣大、族群眾多，但統治者卻能尊重各族的民情風俗。主持人更進一步說到另一個甲民族與蒙古統治方式類似，並與之作比較，呈現表格如右所示。關於甲民族的敘述何者正確？ (A)醫學與幾何學成就最高 (B)強調以牙還牙以眼還眼 (C)生活中使用六十進位法 (D)相信善神最終戰勝惡神。

項目	甲民族	蒙古
興起地區	伊朗高原	蒙古高原
疆域	橫跨歐亞非三洲	橫跨歐亞兩洲
統治方式	重視各地文化	尊重不同風俗

- ( ) 42. 歷史老師在課堂上畫出了一個路線，從北非出發，經過地中海沿岸、小亞細亞、希臘半島、義大利半島再到歐洲各地。請問從此路線來判斷，這應與下列何事件有密切相關？(A)蘇美人的文字傳播 (B)古埃及的宗教發展 (C)波斯帝國的疆域擴張 (D)腓尼基人傳播文字。
- ( ) 43. 大英博物館埃及展區內有一著名的「不幸的木乃伊」蓋板，這蓋板是屬於約西元前 945 年一位上層社會女性木乃伊所有；上面繪有太陽圓盤與老鷹、伸展翅膀的女神努特、靈魂鳥、尼羅河神。相傳蓋板會為持有者帶來不幸，西元 1912 年鐵達尼號沉沒時它也恰巧被裝載在船上。請問：這蓋板代表埃及人對死亡特有的觀念，以下何者敘述錯誤？ (A)製作木乃伊是為了保存肉體而使靈魂能與之結合，達成復活的目的 (B)由蓋板上繪滿人死後世界可知，埃及人相信靈魂輪迴、因果報應 (C)太陽圓盤的圖案代表埃及人對太陽的崇拜 (D)尼羅河神，象徵循環不息的再生力量。
- ( ) 44. 下列資料中的甲、乙、丙、丁分別代表一個國家或城邦，敘述內容則與該國家或城邦有關。希羅多德的《歷史》一書，主要是記載哪些國家或城邦的戰爭？(A)甲乙(B)甲丙(C)甲丁(D)甲乙丙。

甲：官員多經由抽籤產生，成年的男性公民有權參與政治事務，議決城邦大事。

乙：重視人民的道德與紀律，健壯的男性從小就接受嚴格的軍事訓練。

丙：曾經入侵希臘，但被希臘城邦聯合起來打敗，歐洲史上第一本史學名著就是在記錄丙與希臘的戰爭。

丁：某位統治者在繼承王位後，先是征服希臘各城邦，而後一路東征，建立了橫跨歐、亞、非三洲的帝國。這位統治者也鼓勵民族通婚，促進文化交流。

- ( ) 45. 有關「陶片流放制」的相關內容，下列敘述何者正確？ (A)此制度最早出現在斯巴達 (B)以投票陶片多寡來決定城邦領袖 (C)希臘化時期的重要制度 (D)由男性公民進行投票決定。
- ( ) 46. 西元前八世紀，羅馬人在臺伯河南岸建城，自此逐步發展，經歷了王政、共和、帝制三個時期。請問：羅馬最早在哪個時期將地中海納為其內海？ (A)王政時期 (B)共和時期 (C)帝制時期 (D)東西羅馬分裂時期。
- ( ) 47. 這個王國在亞歷山大即位後，展開了政治、軍事、經濟等改革，終於成就一個大帝國。關於這個帝國的敘述，下列何者錯誤？ (A)起源於馬其頓王國 (B)建立橫跨歐、亞兩洲的帝國 (C)東征時最遠到達印度邊境 (D)曾征服波斯。
- ( ) 48. 《伊斯坦堡——一座城市的記憶》為奧罕·帕慕克獲得西元 2005 年諾貝爾文學獎的名著，帕慕克以細膩的筆觸描寫這座曾經輝煌而今澹然，走過悠悠一千多年歲月的土耳其城市。請問：下列敘述何者正確？ (A)伊斯坦堡的歷史可追溯至希臘時代，當時名為尼尼微 (B)羅馬皇帝將之擴建，並改名為君士坦丁堡 (C)四世紀末羅馬帝國分裂，伊斯坦堡為西羅馬帝國首都 (D)伊斯坦堡位於義大利半島上，位置易守難攻。
- ( ) 49. 就讀法律系的恩澧，研究西洋歷史發現古代哪兩個民族皆以法律成就聞名於世？ (A)蘇美、希臘 (B)巴比倫、羅馬 (C)希臘、羅馬 (D)蘇美、巴比倫。
- ( ) 50. 立杰在筆記本上寫著右圖的內容。請問：立杰寫的內容最有可能是上古時期哪個地區學生上課的情況？ (A)印度古文明 (B)埃及古文明 (C)波斯古文明 (D)西亞古文明。

如果我生長在那個年代，上課時我必須用蘆葦桿在柔軟的泥版上刻字寫作業，並且學習六十進位法的計算。

【第 1 頁結束 後面尚有試題】

- ( ) 51. 古羅馬城市龐貝於西元 79 年被維蘇威火山爆發時的火山灰所覆蓋，一夕之間數千人喪失生命。龐貝城遺址於十八世紀首度被挖掘，街道井然有序，大劇場、公共澡堂等一應俱全，亦出土一張有不同容量刻度及註解，以作為交易時使用的標準石桌。請問：關於這個城市的敘述，下列何者不正確？  
 (A)龐貝城應位於巴爾幹半島上 (B)大劇場、公共澡堂等建築顯示羅馬重視公共建設  
 (C)題目中的石桌上刻的文字應為拉丁文 (D)龐貝城被火山灰覆蓋時為羅馬的帝國時期。
- ( ) 52. 映臺在一本歷史書籍中看到一張老照片，此圖中的文物是由考古學家在伊朗高原發掘出來的，圖裡可看到一個刻在玄武岩上的石碑，太陽神夏瑪什坐在寶座上，將權杖賜給漢摩拉比，象徵著君權神授。有關此圖中石碑的相關描述，下列何者正確？ (A)上帝耶和華是唯一真神 (B)崇拜象徵光明的火，相信善惡論 (C)依照月亮運行制訂陰曆，有文字 (D)強調以牙還牙、以眼還眼精神。
- ( ) 53. 西元前 27 年，屋大維開啟了羅馬的帝國時期。請問：此時正值中國的哪一時期？  
 (A)春秋 (B)戰國 (C)秦朝 (D)漢朝。
- ( ) 54. 文正對凱撒的事蹟充滿好奇；如果他想多了解凱撒的生平，下列哪本書最適合他閱讀？  
 (A)《特洛伊戰爭》 (B)《羅馬共和史》 (C)《埃及法老之謎》 (D)《希臘化文化的源由》。

二、題組(第 55 題 2 分，第 56~60 題，每題 1 分，共 7 分)

1. 世界史上，除了大河文化外，海洋文化也值得一提。愛琴海地區為希臘文化的先驅。請參看附圖回答問題：

- ( ) 55. 關於此地區的敘述，何者正確？ (A)愛琴海地區深受埃及文化的影響 (B)此地區的宗教上屬於多神信仰，其中以太陽神、尼羅河神最為重要 (C)希臘人舉辦盛大的運動競賽意在取悅人民 (D)著名的特洛伊戰爭記載於希羅多德的《歷史》一書中。
- ( ) 56. 荷馬被稱為希臘史上最偉大的詩聖，其兩部不朽傑作—〈伊里亞德〉、〈奧德賽〉，前者以特洛伊戰爭「木馬屠城記」為中心，後者描述特洛伊戰爭結束後的奧德賽遭遇的冒險故事。請問：戰爭發生的地點於圖中何處？ (A)甲 (B)乙 (C)丙 (D)丁。
- ( ) 57. 「以抽籤選出政府官員並產生執政官，軍事外交官職由公民大會選出，任期一年。全體公民均可出席公民大會，公民大會可投票放逐危害城邦的人。」這是哪一城邦的特色？(A)甲(B)乙(C)丙(D)丁。



2. 請閱讀《西洋古代史》的引文，回答下列問題：

- ( ) 58. 上文內容中提到希臘、羅馬「在最初時期，兩個地方的政治形態非常接近」，指的應該為何？ (A)都是高度的君主專制 (B)都是民主共和體制(C)都曾採行城邦政治 (D)都是以貴族世襲方式統治國家。
- ( ) 59. 上文內容中提到「被譽為是最棒的政治狀態」，指的應該是什麼？ (A)王政 (B)共和 (C)城邦 (D)帝國。
- ( ) 60. 關於文末提到的「內亂與外患」，其中最為致命，最後導致整個國家滅亡的，是下列哪個問題？ (A)受到亞歷山大帝國的侵略 (B)日耳曼人入侵 (C)軍隊不願征戰 (D)設立東都。

希臘、羅馬一直被視為是西方世界文明的源頭，在最初時期，兩個地方的政治形態非常接近，不過隨著時間的演進，希臘、羅馬逐漸發展出了截然不同的狀態。

羅馬作為一個國家，長久以來，歷經不同政治型態的轉變，其中被譽為是最棒的政治狀態，不僅是維持了國家的強大力量，並且避免單一勢力或集團永久獨霸國家政治與資源，元老院為捍衛這樣的體制，甚至聯合暗殺了當時的獨裁者。

不過，在西元前一世紀，這個制度遭到毀壞，雖然國家仍舊強盛了二百多年，但最終面臨內亂與外患的攻擊，造成分裂。

【試題結束一文光九年級、歷史科】

澎湖縣立文光國民中學一一〇  
學年度第一學期第一次段考  
寫作測驗

九年( )班 姓名： 座號：

※ 測驗時間四十五分鐘，請用本國文字書寫，可不必抄題目。

※ 請用黑色墨水筆(不得使用鉛筆)，由上而下，自右而左書寫，文長三百字以上，不得使用詩歌、小說體裁及網路語言。

※ 答案紙上不得作任何標記或顯示個人身分，否則皆以零分計算。請仔細閱讀以下題目及說明，撰寫一篇作文。

題目：難忘的一餐

說明：俗語說：「民以食為天。」日常生活中，人們也習慣用「吃飽了嗎？」(呷飽未?)來打招呼；由此可見，「吃」這件事在我們的生命中，居於何等的地位。嬰兒周歲時，講究一點的人家會擺「周晬宴」；生日時會設壽宴、結婚時則有「喜宴」「歸寧宴」。上班族還有不得不吃的「應酬飯」、最開心吃的則是「慶功宴」啊。乃至於在韓劇中，劇中人若前往靈堂致哀，接著，就入席喪家準備的饗宴中，默默進食——這也是禮儀的一部分；咱們澎湖鄉下，至今亦保有此一古禮……。試以國中生的身份，敘寫親自經歷之難忘的一餐。