

澎湖縣立文光國民中學 110 學年度第 1 學期第 2 次成績評量八年級國文科試題卷

班級： 姓名： 座號： ■答案卷

一、國字注音：(每一個「」1分，共20分)

1. 解「一ノ」： 2. 褻「瀆」： 3. 「勺么」貶： 4. 拔「出又乙ノ」： 5. 「出亡」傷：
6. 抽「搐」： 7. 壯「尸又乙ノ」： 8. 「一ノ」業： 9. 意興闌「尸ノ」： 10. 花「々ノ」：
11. 「賜」予： 12. 越次「力一せノ」等： 13. 「勺又ノ」贈： 14. 「阿」「口ノ」：
15. 「拳」養： 16. 巧舌如「尸又ノ」： 17. 乾「癟」： 18. 「鴟」「梟」：

二、注釋配合題：(請根據句子的描述，填入正確答案的代號，每題1分，共10分)

1. 「淤」泥 2. 「濯」清漣 3. 「亭亭」淨植 4. 「褻」玩焉 5. 「鮮」有聞
6. 放肆 7. 脈動 8. 「搏」扶搖而直上 9. 斑斕 10. 高「踞」枝頭

※配合選項：

- A 放縱任意、毫無顧忌 B 洗滌 C 蹲、坐，這裡有盤踞之意 D 少 E 沉積、阻塞
F 指大自然的規律或變化 G 拍擊 H 高挺的樣子 I 輕慢 J 形容花紋鮮麗，光彩奪目

三、成語配合題：(請根據句子的描述，填入正確答案的代號，每題1分，共16分)

- 【 (A) 風馳電掣 (B) 秣馬厲兵 (C) 錦上添花 (D) 頤養天年 (E) 馬耳東風
(F) 瓦釜雷鳴 (G) 擲地有聲 (H) 伯仲之間 (I) 雪中送炭 (J) 唯唯諾諾
(K) 馬齒徒長 (L) 童山濯濯 (M) 涇渭分明 (N) 口誅筆伐 (O) 屏氣凝神
(P) 人面桃花 (Q) 曇花一現 (R) 懸崖勒馬 (S) 反求諸己 (T) 兼善天下 】

- 1、他是一位 (1) 的主管，對於部屬的功賞罪罰，絕不含混。
2、對於社會上的不公不義進行 (2)，正是新聞記者的職責所在。
3、宇謙時時不忘 (3)，自我檢討，難怪做人處事絕少有所缺失。
4、戰後他回到家園，但意中人已不知去向，不免興起 (4) 的感嘆。
5、飆車雖可享一時 (5) 的快感，發生意外卻得付出一輩子的幸福。
6、他一度吸毒成癮，幸而後來 (6)，努力戒除，才未造成終身的遺憾。
7、王老先生回憶起自己走過的大半人生，謙虛地說自己不過是 (7) 而已。
8、這次木球比賽，本校除獲得個人組冠軍外，更 (8) 奪得團體組的金牌。
9、運動會即將到來，全校同學們天天 (9)，刻苦訓練，立志要為班級爭光。
10、他倆的實力原本在 (10)，但因接受的訓練不同，差別也就越來越明顯。
11、在比賽主辦單位準備公布比賽名次的緊張時刻，所有參賽隊伍都 (11)，不敢輕舉妄動。

【第1頁結束 背面尚有試題】

- 12、認真學習與有恆的練習，不僅能正確使用成語，又能讓文章（ 12 ），真是一舉兩得。
- 13、我們應該要鼓勵年輕人勇於創新，不能要求他們一味順服，凡事（ 13 ）、毫無主見。
- 14、巨大的工作壓力和長時間睡眠不足，讓他雖然年紀輕輕，但早已（ 14 ）。
- 15、對於師長的諄諄教誨，我們千萬不能當作是（ 15 ），而必須要牢記在心。
- 16、世間美好的事物總如（ 16 ），所以要活在當下，珍惜眼前。

四、選擇：（每題2分，共42分）

1. () 「全家就是你家」這句廣告語的句法結構，與下列何者相同？ (A)勝敗乃兵家常事 (B)她的演技很精湛 (C)故人具雞黍 (D)天下沒有白吃的午餐。
2. () 「對於韓國偶像團體，青少年莫不為之瘋狂。」下列何者是這句話的主語？ (A)韓國 (B)偶像 (C)團體 (D)青少年。
3. () 「天下沒有白吃的午餐」是「有無句」，下列何者也是「有無句」？ (A)沒有人肯跟他講話 (B)他有一顆善良的心 (C)有恆為成功之本 (D)有志者事竟成。
4. () 在不要再吃黑鮪魚了一文中，何者「不是」造成黑鮪魚「魚資源崩潰」的原因？ (A)全球對黑鮪魚的需求量增加 (B)冷凍技術進步與航空運輸的興起 (C)大規模的捕撈技術不斷發展 (D)大型魚類爭食黑鮪魚的魚苗。
5. () 在不要再吃黑鮪魚了一文中，作者原本驕傲的對義大利友人展示東港黑鮪魚驚人的漁獲量，為什麼後來卻為此感到羞慚？ (A)作者竟對講究飲食倫理與永續發展的友人，炫耀國人捕殺瀕臨絕種的黑鮪魚 (B)作者看了海鮮的美味輓歌，後悔自己先前吃了太多黑鮪魚卵沙拉，破壞生態 (C)東港黑鮪魚獲量驚人，作者竟然無暇請遠道而來的義大利友人大啖鮪魚壽司 (D)作者懊惱沒讀過四種魚的悲歌——人類最後的野生食物，對黑鮪魚認識不多。
6. () 以下四首詠花詩，所詠的對象依序為何者？
(甲)冰雪林中著此身，不同桃李混芳塵。忽然一夜清香發，散作乾坤萬里春
(乙)落盡殘紅始吐芳，佳名喚作百花王。競誇天下無雙豔，獨占人間第一香
(丙)花開不並百花叢，獨立疏籬趣未窮。寧可枝頭抱香死，何曾吹墮北風中
(丁)曲沼芙蓉映竹嘉，綠紅相倚擁雲霞。生來不得東風力，終作薰風第一花
(A)曇花／牡丹／桂花／蓮花 (B)梅花／桂花／菊花／桃花 (C)梅花／牡丹／菊花／蓮花
(D)蘭花／桃花／梅花／蓮花。
7. () 關於愛蓮說寫作手法，下列敘述何者錯誤？ (A)藉由蓮花的特質象徵君子的美德，並寄託作者心志 (B)作者藉蓮對世人發出嚴厲的抨擊與批判，表示不屑 (C)本文藉三種花表達三種人格特質，各有其象徵意義 (D)內容先泛論眾花，再聚焦描寫蓮的特質，最後抒懷。

8. () 山豬學校：「過去和父親打獵的日子因為要走很遠的路，當時覺得自己很不幸，不能和別家的小孩子一起玩耍。但現在回想起來，也就是因為這樣，使我比同年齡的孩子，收益得更多，生活也更豐富。」這段話的涵義近似何者？ (A)失之東隅，收之桑榆 (B)山不轉路轉，路不轉人轉 (C)辛勤耕耘者必歡呼收割 (D)如果因錯過太陽而流淚，也將錯過群星。
9. () 郁永河 裨海紀遊：「山豬，蓋野彘也，兩耳與尾略小，毛鬣蒼色，稍別。大者如牛，巨牙出脣外，擊木可斷，力能拒虎。怒則以牙傷人，輒折脣穿腹。行疾如風，獵者不敢射。」關於這段記載的說明，下列何者最為正確？ (A)山豬的耳朵比野豬小，尾巴比野豬短 (B)山豬的毛是白色的，鬃毛看起來較鬆 (C)山豬的大牙可以撞斷樹木，抵擋老虎 (D)山豬行動快速，打獵的人用箭射不到。
10. () 梁實秋喜愛鳥，但課文最後寫道：「但是我不忍看。」請問作者用意為何？ (A)因為會讓作者回想起他的四川老家 (B)感嘆能見到的鳥類已經愈來愈少了 (C)會讓作者想起他以前養的鳥 (D)因為他愛鳥，不忍心看到失去自由的籠中鳥。
11. () 下列何者最符合梁實秋的寫作觀點？ (A)描繪各種作者喜愛的鳥類形體與聲音的特色 (B)用鳥類的立場呼籲世人不要將鳥關在籠子裡 (C)藉書寫對鳥的愛惜之情，說明人應珍惜自由、愛護生命 (D)從反諷角度看鳥的苦悶與可憐，譴責人對鳥類的不友善。
12. () 下列文句都是鳥一文中的敘述，哪一個選項的文意分析錯誤？ (A)我常見提籠架鳥的人，清早在街上踟躕 → 寫人的無聊和鳥的備受禮遇 (B)我想牠的苦悶，大概是僅次於黏在膠紙上的蒼蠅 → 同情鳥類失去自由 (C)世界上的生物，沒有比鳥更俊俏的 → 可見作者的愛鳥欣賞之情 (D)牠像虹似地一下就消逝了 → 寫鳥的動作迅速很快就飛走了。
13. () 在鳥一文中，作者描述鳥的動作各有不同，下列何者屬於靜態摹寫？ (A)有時候「一行白鷺上青天」，背後還襯著黛青的山色和釉綠的梯田 (B)有時候稻田裡佇立著一隻白鷺，拳著一條腿，縮著頸子 (C)抓小雞的鳶鷹，啾啾地叫著，在天空盤旋，也有令人喜悅的一種雄姿 (D)看牠高踞枝頭，臨風顧盼，卻不知是什麼東西驚動了牠，倏地振翅飛去。
14. () 鳥全文主要表達對鳥的憐愛之情，下列何者無法呈現此旨意？ (A)鳶鷹啾啾地叫著，在天空盤旋，也有令人喜悅的一種雄姿 (B)鳥轉清脆嘹亮，有時是獨奏，有時是合唱，簡直是一派和諧的交響樂 (C)鳥的身軀玲瓏飽滿，細瘦而不乾癟，豐腴而不臃腫，真是減一分則太瘦，增一分則太肥那樣地穠纖合度 (D)黃昏時偶爾還聽見寒鴉在古木上鼓噪，入夜也還能聽見鷓鴣的怪叫。
15. () 下列關於愛蓮說一文的文意敘述，何者正確？ (A)「中通外直，不蔓不枝」意指君子端莊正直，不趨炎附勢 (B)「香遠益清，亭亭淨植」意指君子博施濟眾，仁民愛物 (C)「濯清漣而不妖」意指君子虛懷若谷，凜然可畏 (D)「可遠觀而不可褻玩焉」意指君子風格高雅，不逢迎諂媚。

16. () 「噫！菊之愛，陶後鮮有聞。蓮之愛，同予者何人？牡丹之愛，宜乎眾矣！」由這一段話，可知作者在感嘆什麼？ (A)世風日下，人心不古 (B)菊、蓮不如牡丹之富貴可愛 (C)獨善其身者少，兼善天下者多 (D)品德高潔之君子難求，好功名利祿之小人眾多。
17. () 山豬學校一文的作者所想要表達的意旨為何？ (A)學會用人性的態度對待大自然，向大自然學習生命的智慧 (B)傳授捕獵山豬的特殊技巧 (C)介紹屬於原住民狩獵的文化 (D)野外如何防禦山豬的攻擊。
18. () 山豬學校：「當你要結束你獲取的獵物生命時，請讓牠聽到你說的話，讓牠走得安心。」這段話主要想表達什麼？ (A)為動物祈求，希望牠能早日投胎 (B)向獵物宣示自己高超的獵捕技巧 (C)對所獵獲的動物表達誠摯的感謝 (D)與長期鬥爭的動物作不捨的告別。
19. () 炭治郎為了討好禰豆子，詢問她晚餐想吃什麼。選擇有：牛排、壽司和披薩。禰豆子說：「首先，牛排和披薩必吃一樣，但不會兩種都吃。至於壽司和披薩，要嘛一起吃，要嘛全不吃。最後，如果不吃牛排，那也不要吃壽司。」請問禰豆子這番話，可以確定的是什麼？ (A)必吃牛排 (B)必吃壽司 (C)必吃披薩 (D)三者都要吃。
20. () 【甲】春雪滿空來，觸處似花開。不知園裡樹，若個①是真梅？
【乙】牆角數枝梅，凌寒獨自開。遙知不是雪，為有暗香來。 [注]：①若個：哪個。
根據甲、乙兩詩的內涵，下列敘述何者最恰當？ (A)甲詩以梅喻雪，乙詩以雪喻梅 (B)甲詩主題是詠雪，乙詩主題是詠梅 (C)兩詩所描繪的都是暮春夜晚的景致 (D)兩詩作者都無法分辨眼前所見是雪還是梅。
21. () 史記·秦始皇本紀：「趙高欲為亂，恐群臣不聽，乃先設驗，持鹿獻於二世，曰：『馬也。』二世笑曰：『丞相誤邪？謂鹿為馬。』問左右，左右或默，或言馬以阿順趙高。或言鹿（者），高因陰中諸言鹿者以法。後群臣皆畏高。」根據這段故事，下列敘述何者正確？
[注]：①設驗：設計試驗。 ②陰「中」諸言鹿者：音出义厶、，重傷、陷害。
(A)秦王因堅持所見，不願指鹿為馬而被趙高殺死 (B)秦王為了測試大臣是否忠心，指使趙高指鹿為馬 (C)秦王為了鞏固自己的權力處死不願指鹿為馬的大臣 (D)秦王身邊的臣子大都因畏懼趙高的權勢而指鹿為馬。

【第4頁結束 試題尚未結束】

五、閱讀測驗：(每題2分，共12分)

世有伯樂，然後有千里馬。千里馬常有，而伯樂不常有。故雖有名馬，只辱於奴隸人之手，駢死於槽櫪之間，不以千里稱也。

馬之千里者，一食或盡粟一石。食馬者，不知其能千里而食也。是馬也，雖有千里之能，食不飽，力不足，才美不外見，且欲與常馬等，不可得，安求其能千里也？

策之不以其道，食之不能盡其材，鳴之而不能通其意，執策而臨之，曰：「天下無馬。」嗚呼！其真無馬耶？其真不知馬也！
(韓愈 馬說)

註：①「駢」死：齊、併。 ②槽櫪：養馬的地方。 ③執「策」而臨之：馬鞭。

- () 下列哪一個選項是這篇文章寓意所在？ (A)千里馬非不可求，可惜都栽在愚人手中 (B)感嘆伯樂已亡，無人能分辨千里馬 (C)諷喻在位者未能知人善任 (D)抒發在位者對賢才難求的感嘆。
- () 關於「食馬者，不知其能千里而食也」的解說，下列哪一個選項最正確？ (A)因不知千里馬之能力，故食之 (B)因不知千里馬之能力，故不能給予正確的養育 (C)「食」字讀音同「是」，是名詞 (D)因千里馬所食不多，故養育時不能太過。

喝茶加檸檬是美式作法，英國人則不然。早期開始流行茶葉時，英國人模仿中國人使用瓷具泡茶，但若直接倒入熱茶可能導致瓷杯過熱破裂，故先加入牛奶來降溫。當時的上流社會也因此會比較彼此的瓷器等級，若茶具能接受牛奶後加，表示此家族擁有的茶具等級更高。

中上階級的喝茶習慣，是先用茶壺浸泡茶葉，形成淡茶後再倒入單耳瓷杯裡。通常伯爵茶、烏龍茶是上流社會裡常見的茶品，茶色呈淡褐色，加入牛奶飲用，因為多會搭配甜品，通常不會加糖。而勞動階級的飲茶方式，則是以茶包沖泡於馬克杯中形成濃茶後再加入糖，牛奶則可融合濃茶的苦澀味，既濃又甜的阿薩姆故而成為受歡迎的茶，是需要消耗大量熱量的勞工階級喜愛的口味。

在階級制度逐漸模糊的今天，茶葉如何沖泡或牛奶先加後加，已不大有明顯界線。方便快捷的茶包市面上隨處可見，再講究一些的，也能在茶葉專賣店找到喜歡的茶葉。至於是否要加牛奶，英國人會告訴你：「什麼都不加的紅茶，只比白開水好喝一點而已。」 (謝昀瑾 喝茶加不加糖，原來和階級有關)

- () 根據本文，下列何者最可能是以前英國勞動階級的喝茶方式？

	茶具	濃淡	茶種	是否加糖
(A)	瓷器	淡	阿薩姆	是
(B)	瓷器	濃	伯爵茶	是
(C)	馬克杯	淡	阿薩姆	否
(D)	馬克杯	濃	阿薩姆	是

- () 根據本文，可以推知下列何者？ (A)美國人喝茶習慣不加糖 (B)美國人使用的茶具較為高級 (C)英國人喝紅茶大多會加牛奶 (D)英國的高級茶具不能直接注入熱茶。

有些科學家提出「獵人與農夫」的理論，認為 ADHD 者（注意力缺失的過動兒）其實沒有毛病，只是生錯了時空。現在所謂注意力缺失者的特徵—容易分心、衝動、冒險性強，其實是遠古打獵採集時生存必要的特徵。當人類進化到農業社會以後，這些特徵才變得格格不入。也就是說，他們是「獵人」，但是要在「農夫」的社會裡討生活，往往會被視為異類。

這個理論認為，一萬二千年前，人類走向農業生活開始定居下來後，環境的改變使得過去的長處變成現在的短處。在遠古時代，如果不眼觀四面，耳聽八方，早就被其他動物吃掉了，不可能成為我們的祖先；如果事情發生不馬上採取行動，而是三思而後行的話，也只能變成別人的晚餐，活不到成為我們的祖先。

而現在學者又把 ADHD 者叫做有愛迪生基因者，他們的特徵是：思想跳躍、容易分心、精力旺盛、沒有條理、不耐煩、易衝動、很外向、敢冒險、會發明、有創造力，而且通常還有領袖魅力。

他們注意力很短暫，但對感興趣的事物可以專注很久，這不是和獵人要一直不停搜索四周，一旦發現獵物就馬上集中注意力然後追蹤下去相同嗎？他們組織力不強，沒有條理，很衝動，想到什麼做什麼——獵人不就是看到獵物得馬上拔腿就追嗎？他們沒有時間觀念，不知道做一件事需要花多少時間——這其實是表示有彈性，一個人的心意如果隨時可變，那就不需要知道時間。他們容易不耐煩，不能聽從老師的指示——這其實是獵人獨立行事的特性。

上述的理論與觀點尚待可靠證據支持，但如果我們願意換一個角度來看 ADHD 者，他們可能並沒有毛病，只是現在教育制度的限制，未必符合他們的天性罷了。

（改寫自洪蘭 理應外合·獵人與農夫）

5. () 下列對於 ADHD 者的敘述，何者最符合作者原意？ (A)發明家往往是 ADHD 者 (B)不宜以異類眼光看待 ADHD 者 (C)ADHD 者擁有比一般人優秀的基因 (D)缺乏打獵機會是現代 ADHD 者的悲哀。
6. () 下列敘述，何者與本文內涵「最不相關」？ (A)強調現代人應培養多元能力，以順應社會趨勢 (B)推測 ADHD 者的特徵可上溯自遠古人類的行為 (C)引述學者意見，說明注意力缺失者的行為特徵 (D)呼籲教育者應以寬廣的視角引領孩子適性發展。

【試題結束，請仔細檢查—文光八年級國文科】

澎湖縣立文光國民中學 110 學年度第 1 學期第 2 次成績評量八年級國文科試題卷

班級：

姓名：

座號：

一、國字注音：(每一個「」1分，共20分)

1.	2.	3.	4.	5.	6.	7.	8.	9.	10.
11.	12.	13.	14-1.	14-2.	15.	16.	17.	18-1.	18-2.

二、注釋：(填入正確答案的代號，每題1分，共10分)

1.	2.	3.	4.	5.
6.	7.	8.	9.	10.

三、成語配合題：(請根據句子的描述，填入正確答案的代號，每題1分，共16分)

1.	2.	3.	4.	5.	6.	7.	8.
9.	10.	11.	12.	13.	14.	15.	16.

四、選擇：(每題2分，共42分)

1.	2.	3.	4.	5.	6.	7.	8.	9.	10.	11.
12.	13.	14.	15.	16.	17.	18.	19.	20.	21.	

五、閱讀測驗：(每題2分，共12分)

1.	2.	3.	4.	5.	6.
----	----	----	----	----	----

【答案需填寫在答案卷才計分，請仔細檢查，考試加油！】

澎湖縣立文光國民中學一百一十學年度第一學期第二次段考寫作測驗

※ 測驗時間四十五分鐘，請用本國文字書寫，可不必抄題目。 八年 班 座號： 姓名：

※ 請用黑色墨水筆（不得使用鉛筆），由上而下，自右而左書寫，文長三百字以上，不得使用詩歌、小說體裁及網路語言。

※ 答案紙上不得作任何標記或顯示個人身分，否則皆以零分計算。請仔細閱讀以下題目及說明，撰寫一篇作文。

題目：珍藏一個回憶

說明：每個人在生命旅程中都會有許多往事，而有些往事可能會成為值得珍藏的回憶：也許是充滿奇思妙想或歡聲笑語的童年往事，也許是一趟與家人共度的旅遊假期，也許是某一段相知相惜的友情，也是陪伴自己多年寵物在生活間所發生的點點滴滴。你有什麼值得珍藏的回憶呢？為什麼想要好好珍藏這個回憶？請以「珍藏一個回憶」為題，寫出你的經驗或想法。

Large grid area for writing the essay.

請交答案卷即可**一:聽力測驗題**;每題均有三個選項,請依據所聽到的對話與問題,選出一個最適當的答案 10% (每題二分)

1. (A) YouTubers.
(B) Pro gamers.
(C) Video game reporters.
2. (A) After she washed the dishes.
(B) Before she mopped the floor.
(C) When her dad came home.
3. (A) He is acting.
(B) He is uploading his video.
(C) He is crying.
4. (A) Stay up.
(B) Go to sleep.
(C) Play a video game.
5. (A) She is the boy's English teacher.
(B) She didn't come to school today.
(C) She can answer the boy's questions.

二:A 字彙填充 42% (每題二分)

- ☺ A-mei left her hometown, Taitung, and worked in many stores in Taipei. She didn't forget her **f 1. e** to be a singer.
- ☺ I like this restaurant. The food is good and the **w 2. ses** there are nice.
- ☺ **B 3. hes** are long seats for two or more people. We can often see them in the park.
- ☺ Let's not study here. This room is not **b 4. t** enough, and it's not good for our eyes.
- ☺ John is the **s 5. y** of a rich businesswoman. He helps her do a lot of things. For examples, he buys her coffee and drives her everywhere.

B:詞類變化填充;請根據前後文作適當的變化;變化之後,答案可能不只一個字

- ☺ Mary never brushes her teeth before **6.** (go) to bed.
No wonder 難怪 she has bad teeth.
- ☺ Good eating habits **7.** (be) important for everyone.
- ☺ Finally, the housewife finished **8.** (clean) the living room.
- ☺ Mr. Wang forgot **9.** (take) medicine. He took it again.
- ☺ I swear 我發誓! I **10.** (study) English all morning today.
- ☺ When you called me, I **11.** (surf) the Internet.
- ☺ Making teaching ppt 教學簡報 and teaching **12.** (be) easy for Samantha.
- ☺ **13.** (step) forward 向前的, and your dream is never just a dream.
- ☺ In the airport 機場, the famous pro gamer saw his fans, and then he stopped **14.** (shake) hands with them one by one.
- ☺ My mother wants Lucky **15.** (not bark) at the mail carriers.

C:翻譯填充;注意標點符號及大小寫;答案不只一個字

- ☺ 然而,這個工作有兩個面向。
However, there are **16.**
- ☺ 這兩位知名的女演員受到青少年的歡迎。
The two famous actresses **17.**
- ☺ Daniel 昨天說的話導致他和 John、Mary 之間的一場大衝突。所以今天他們都不跟彼此說話。
Daniel's words **18.** between him, Mary and John yesterday. So today they don't talk to **19.**

☺ 那個老人迷路了。我們帶他去警局吧!

The old man 20.! Let's take him to the police station.

☺ 那個男人停下車，並對那個小女孩揮手。

The man stopped his car and 21. the little girl!

三:選擇題 28% (每題二分)

☺ It's half 1. two p.m. Crystal 女子名 is ready to take a ten-minute rest until two forty.

(A) to (B) past (C) before (D) around

☺ Don't talk 2. you're eating. It's not polite 有禮貌的 to eat with your mouth full 滿的.

(A) before (B) because (C) so (D) when

☺ **Kate:** You're really good at playing basketball. Can I team up with you?

Ben: 3.

(A) Well, it's a good basketball game.

(B) Of course! We can work together!

(C) Do it! You can find your dream job.

(D) Everything is OK. Don't worry about me.

☺ **Jessica:** I saw your brother at the park yesterday, and he was throwing baseball. Is he a player on the school team?

Mirada: No, he's not. He's not a serious player. 4.

(A) He only does that for fun.

(B) A dream is not just a dream.

(C) He is good at playing baseball.

(D) He always keeps his body cool.

☺ Jack and I were mopping the floor 5.

(A) last weekend

(B) next Monday and Tuesday

(C) at seven o'clock last night

(D) twice a month

☺ On the one hand, I really want to go to Australia for a trip. On the other hand, 6.

(A) the views there must be beautiful

(B) my aunt wants me to visit her in the USA

(C) I love their kangaroos and koalas

(D) summer comes between the months of December and February there

☺ **Helen:** Leaving 留下 the trash on the beach 7.

Alina: Could you give me an example?

Helen: Sure. Some birds may feed on trash. Because of that, they may get sick or die 死亡.

Alina: Oh, my. That's terrible.

(A) may cause 造成 serious problems to animals

(B) is the first step to help fish find food

(C) can be an exciting activity for kids to do

(D) brings the poor kids big meals

☺ **Anna:** It's important for me to exercise in the gym every day.

Betrice: Why?

Anna: Good for health. And I can get away from my studies for a second when I exercise.

Betrice: That sounds 聽起來 great. 8.

(A) I'll 將會 do some math exercises after school.

(B) I'm taking medicine right now.

(C) I need to give up studying from now on.

(D) I want to start to exercise today.

Dwayne Johnson 巨石強森 is a famous movie star from the USA. He did different jobs before, and life was difficult for him at that time. He was a good football 美式橄欖球 player when he was a college student. To be a world-famous football player was his dream then. When he was 22, he had a chance 機會 to play football for a team in Canada. However, he played there for only two months because he didn't do well 很好地 there. His dream was shattered, and he had only US\$7 with him at that time. Then he started to be a wrestler 摔角選手 in the same year, and he did a great job. Everyone liked him and called him "The Rock." In 2000, the 28-year-old wrestler published 出版 his autobiography 自傳, and it was a best-seller 暢銷書 in many countries. Two years later, he played a role 擔任演出 in a movie. He never made his dream of being a football player come true, but he doesn't feel sorry for that. He really enjoys his life now.

9. When did Dwayne Johnson leave the football team in Canada?
(A) 1994. (B) 2000. (C) 2002. (D) 2018.
10. What does it mean when a man's dream is "shattered"?
(A) He always has bad dreams.
(B) His dream didn't come true.
(C) His dream came true in an easy way.
(D) He spends a lot of money on his dream.
11. Which is NOT true about Dwayne Johnson?
(A) His fans called him "The Rock."
(B) He did different jobs before he played a role in a movie.
(C) The book about his life was popular.
(D) He wanted to be a wrestler when he was a college student.

Jennifer : Look! There are so many claw machine stores along this street.

Mike : People in Taiwan like to play a claw machine 夾娃娃機. Didn't you play one before?

Jennifer : Yes, but it's difficult to win a prize. The claw always grazes 擦過 the prizes before it pulls back up. I don't know why so many people still like to play it?

Mike : That's interesting. It's never easy to win a prize, but claw machines are everywhere.

Jennifer : That's right. I heard that there are more than 10,000 claw machine stores in Taiwan.

Mike : Wow, that's a lot.

Jennifer : True. Many stores closed down because of the weak economy 疲軟的經濟 in Taiwan, so most of them turned into claw machine stores.

Mike : No wonder we can see them everywhere.

Jennifer : Besides, some people don't make enough money for their entertainment 娛樂, but they still want to relax 放鬆 after work. So, they will find a cheaper way to have fun.

Mike : I got it. Every time they play a claw machine, they have to spend only NT\$10.

12. According to 根據 the reading, what happens after the economy in Taiwan goes bad?
(A) People start to buy houses.
(B) People don't want to make money.
(C) People like to stay home after work all the time.
(D) People try to spend less money when they want to have some fun.
13. What's Jennifer's opinion 意見 about the claw machine?
(A) It takes a lot of time to play a claw machine.
(B) It's never easy to get a prize from them.
(C) She really wants to open a claw machine store.
(D) Everyone needs to play a claw machine for fun.
14. Which is NOT true about claw machines?
(A) You need to prepare NT\$10 before you play one of them.
(B) A lot of people in Taiwan like to play them.
(C) There are over 10,000 claw machine stores in Taiwan.
(D) Many businessmen plan to close down their claw machine stores.

四. 寫作練習 ; 請根據提示作答 20% (每句二分)

Class : Number : Name:

一:聽力測驗題: 10% (每題二分)

1.	2.	3.	4.	5.
----	----	----	----	----

二:填充題 42% (每題二分)

1-5 單字填充&6-15 詞類變化填充(答案不只一個字) &16-21 翻譯填充(答案不只一個字)

1.	2.	3.	4.	5.
6.	7.	8.	9.	10.
11.	12.	13.	14.	15.
16.	17.		18.	
19.	20.		21.	

三:選擇題 28% (每題二分)

1.	2.	3.	4.	5.	6.	7.	8.
9.	10.	11.	12.	13.	14.		

四. 寫作練習 20% (每題二分)

1. Before the reporter drove away, he hugged the actor. (用...after...改寫句子, 句意不變)
2. It is seven forty-five p.m. (請寫出另一種英文的時間寫法;意思一樣)
3. Jason <u>likes</u> to dance with his friends. (畫線部分用 enjoy 改寫句子)
4. I saw him <u>before Ms. Martin's afternoon class began.</u> (畫線部分造原問句)
5. It is not easy for these students to speak English. (以動名詞為句首改寫句子)
6. Jack took my cellphone, but he didn't ask me first. (用 without 改寫句子)
7. What do you plan to do after this test? (依事實回答)
8. Henry visited the science museum last Sunday. Henry saw a great 3D movie. (用...when...合併兩句)
9. Please write down one con about being a pro gamer. (依事實回答)
10. Please write down one pro of keeping a school dog. (依事實回答)

澎湖縣立文光國民中學 110 學年度第 1 學期 8 年級數學科第 2 次段考試卷

班級：

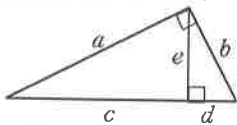
姓名：

座號：

讀卡 答案卷

一、選擇(每題 3 分, 共 42 分)

- () 1. 下列哪一個數與 $\sqrt{6}$ 是同類方根?
(A) $\sqrt{18}$ (B) $\sqrt{20}$ (C) $\sqrt{24}$ (D) $\sqrt{32}$
- () 2. 設一直角三角形的一股長為 12 cm, 斜邊為 15 cm, 則另一股長為多少 cm?
(A)9 (B)12 (C)15 (D)20
- () 3. 坐標平面上有 $P(4, -5)$ 、 $Q(-2, 3)$ 兩點, 則 \overline{PQ} 長為何?
(A)6 (B)8 (C)10 (D)12
- () 4. 下列哪一組數為直角三角形的三邊長?
(A) $\sqrt{32}$ 、 $\sqrt{4}$ 、 $\sqrt{5}$ (B) 3^2 、 4^2 、 5^2
(C) $\sqrt{3}$ 、 $\sqrt{7}$ 、 $\sqrt{10}$ (D)5、10、12
- () 5. 若三角形 ABC 為直角三角形, 且 $\overline{AB}^2 + \overline{BC}^2 = \overline{CA}^2$, 則哪一個角等於 90 度?
(A) $\angle A$ (B) $\angle B$ (C) $\angle C$ (D)無法判定
- () 6. 已知 $\sqrt{7} \doteq 2.646$, 則 $\sqrt{700}$ 的近似值應為下列何者?
(A)264.6 (B)26.46 (C)13.23 (D)1.323
- () 7. 如附圖, 下列哪一個式子是不正確的?



- (A) $(a+b)^2 = c^2 + d^2$ (B) $a^2 + b^2 = (c+d)^2$
(C) $b^2 = d^2 + e^2$ (D) $a^2 = c^2 + e^2$

- () 8. 有一直角三角形, 斜邊長為 $\sqrt{20}$ 公分。若其兩股的長為整數, 則其兩股的長可能為下列何者?
(A)5 公分、4 公分 (B)8 公分、2 公分
(C)4 公分、2 公分 (D)10 公分、10 公分
- () 9. $(x-3)(x+1)$ 和 $(x+4)(x+1)$ 的公因式為何?
(A) x (B) $x-3$ (C) $x+4$ (D) $x+1$
- () 10. 下列何者不是 x^2-4 的因式?
(A) $x+2$ (B) x^2 (C) $x-2$ (D) x^2-4

- () 11. 下列各項中, 哪一個是 $x^2-cx-dx+cd$ 因式分解的結果?
(A) $(x+d)(x-c)$ (B) $(x+c)(x-d)$
(C) $(x+c)(x+d)$ (D) $(x-c)(x-d)$
- () 12. 設 $3x^2+ax+10=(3x-2)(x+b)$, 則下列何者正確?
(A) $a>0, b>0$ (B) $a<0, b<0$
(C) $a>0, b<0$ (D) $a<0, b>0$
- () 13. 下列是甲、乙、丙、丁四位同學所做的根式運算:
甲: $7\sqrt{2}+7\sqrt{3}=7(\sqrt{2}+\sqrt{3})$ 。
乙: $\frac{1}{3}\sqrt{2}+\frac{1}{2}\sqrt{2}=\sqrt{2}(\frac{1}{3}+\frac{1}{2})$ 。
丙: $2\sqrt{3}+5\sqrt{2}=7(\sqrt{3}+\sqrt{2})$ 。
丁: $2+\sqrt{3}=2\sqrt{3}$ 。
則下列敘述何者正確?
(A)只有丁錯誤 (B)丙、丁錯誤
(C)乙、丙、丁錯誤 (D)四位都錯誤

- () 14. 下列何者為最簡根式?

- (A) $\frac{\sqrt{8}}{7}$ (B) $\frac{10}{\sqrt{5}}$ (C) $\sqrt{\frac{4}{7}}$ (D) $\frac{\sqrt{7}}{3}$

二、填充(1~8 每題 4 分, 第 9 題 8 分, 共 40 分)

1. 試比較 $4\sqrt{3}$ 、 $3\sqrt{5}$ 、 $5\sqrt{2}$ 的大小。

答：_____。(順序全對始給分)

2. 計算下列各根式, 並將答案化簡:(各 2 分)

(1) $\sqrt{5} \times \sqrt{15} = \underline{\hspace{2cm}}$ 。

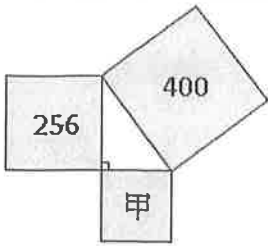
(2) $(-\sqrt{56}) \div \sqrt{7} = \underline{\hspace{2cm}}$ 。

3. 計算下列各式, 並化為最簡根式:(各 2 分)

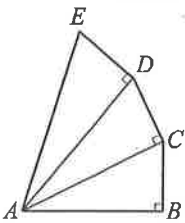
(1) $\sqrt{7} - \sqrt{28} = \underline{\hspace{2cm}}$ 。

(2) $\sqrt{75} + \sqrt{3} = \underline{\hspace{2cm}}$ 。

4. 下圖為以直角三角形的三邊長各作出的正方形，已知其中兩個正方形面積分別為 400 及 256，則甲的面積為_____。



5. 如附圖，已知 $\angle ABC$ 、 $\angle ACD$ 、 $\angle ADE$ 均為直角，且 $\overline{AB} = 2$ ， $\overline{BC} = \overline{CD} = \overline{DE} = 1$ ，則 $\overline{AC} =$ _____； $\overline{AE} =$ _____。(各 2 分)



6. 因式分解下列式子：
 $2x(x+3) - 5(x+3) =$ _____。
7. 因式分解下列式子：
 $3x^2 + 11x + 6 =$ _____。
8. 因式分解下列式子：
 $9x^2 - 6x + 1 =$ _____。
9. 在下列各題的空格中填入適當的數：(各 2 分)
 (1) $x^2 + (\quad)x + 24 = (x + \quad)(x + 3)$
 (2) $3x^2 - (\quad)x + 5 = (x - \quad)(3x - 5)$

三、計算與應用題(每題 4 分，共 18 分)

1. 小琳將因式分解圖卡排成下列長方形，請問
 (1) 以多項式表示此圖形面積為 _____。(2 分)
 (2) 此多項式可因式分解成() × ()
 (各 1 分)

x^2	x^2	x	x	x
x	x	1	1	1
x	x	1	1	1
x	x	1	1	1
x	x	1	1	1

2. (1) 因式分解 $ac + ad + bc + bd$ 。(2 分)
 (2) 設 $a = 2795$ ， $b = -2796$ ， $c = 1978$ ， $d = -1979$ ，求 $ac + bd + bc + ad$ 之值。(2 分)

3. 計算及化簡下列各根式：(各 2 分)

(1) $\frac{4}{\sqrt{3}-1}$ (2) $\sqrt{\frac{6}{7}}$ (3) $(\sqrt{11})^4$

4. 全球性暖化會造成一部分冰川融化。約在冰川消失的十二年後，微小的植物—地衣，會開始在岩石間生長。地衣會以近似圓形的方式成長增大。圓形的直徑與地衣的年齡之間關係約可用下列公式來表示： $d = 7.0 \times \sqrt{t-12}$ ， $t \geq 12$ 其中， d 表示圓形直徑(毫米)， t 表示冰川消失後的年數。(各 2 分)
 (1) 利用公式，算出冰川消失後 16 年的地衣直徑為多少？寫出你的計算過程。
 (答案須加單位，沒寫單位者扣 1 分)

- (2) 安安測量出某地區地衣的直徑為 35 毫米。請問在這地區的冰川是多少年前消失？寫出你的計算過程。

澎湖縣立文光國民中學 110 學年度第學期第 2 次成績評量 8 年級自然科試卷

班級：

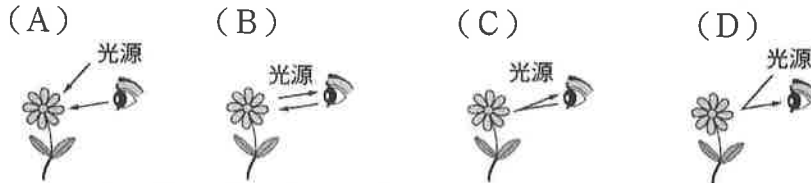
座號：

姓名：

■ 讀卡

一、單選題(50 題，請把答案填入答案卡內)

1. 晏倫在家中的花園看到一朵盛開的花朵，下列哪張圖是晏倫看到這朵花時，光的行進路線？



2. 晏倫在一張白紙上寫上「pqdb」四個英文字母，並在字母左方放置一個平面鏡如下圖所示，透過平面鏡的反射後在鏡中的像應為下列何者？(A)pqdb (B)qpbd (C)bdqp (D)dbpq



3. 秉寓利用黑色紙張、蠟燭和一張描圖紙製成一個簡易的針孔成像，裝置如下圖所示，當針孔向燭火接近、紙屏保持不動時，紙屏上的像將會有何變化？(A)變大(B)變小(C)不變(D)先變大後再變小



4. 秉寓將針孔成像裝置中的針孔，在原有針孔旁又戳了兩個小洞，點燃蠟燭後在紙屏上會有幾個像？(A) 1 個 (B) 2 個 (C) 3 個 (D)無限多個

5. (甲)廁所的梳妝鏡—平面鏡；(乙)汽車的車頭燈—凹面鏡；(丙)道路轉彎處所設的鏡子—凸面鏡。請問哪些對應關係是正確的？(A)甲乙 (B)乙丙 (C)丙 (D)甲乙丙

6. 關於光在各種介質中傳播速率的快慢，由快至慢依序應為下列何者？

(A)空氣 > 水 > 玻璃 (B)空氣 > 玻璃 > 水 (C)玻璃 > 水 > 空氣 (D)水 > 空氣 > 玻璃

7. 天氣晴朗時，有時可以看到地面上的樹影有許多明亮的小圓點，是太陽經針孔成像形成的，此現象是光的何種性質造成的？(A)光的反射 (B)光的直線傳播 (C)太陽光很遠 (D)光速很快

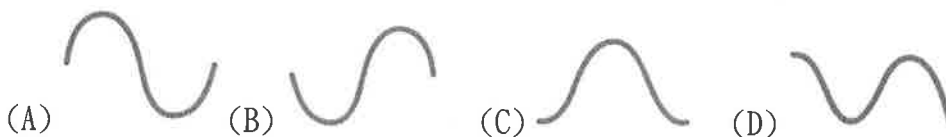
8. (甲)平靜水面；(乙)平面鏡；(丙)凹面鏡；(丁)毛玻璃；(戊)掃地掃起的灰塵顆粒；(己)砂紙上。若將光線投射在下列各物體的表面上時，上述哪些的反射光線會遵守反射定律？

(A)甲乙丙丁 (B)甲乙丙丁己 (C)乙丙 (D)全部都會遵守反射定律

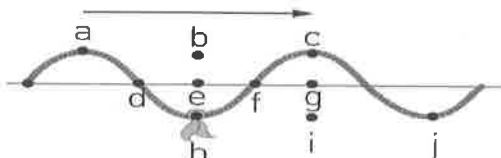
9. 雷聲由甲地傳到乙地時，雷聲傳遞了什麼？(A)空氣 (B)密度 (C)能量 (D)介質

10. 下列哪一種波動不需介質也能進行傳播？(A)聲波 (B)彈簧波 (C)電磁波 (D)水波

11. 小南手持細繩上下擺動，使繩波向右前進，其手部擺動的順序如附圖所示，則產生的繩波波形為何？



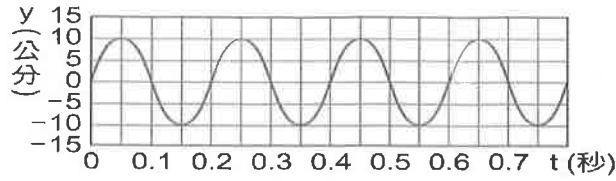
12. 附圖是一連續向右傳播的繩波，緞帶接下來的運動方向依序為何？



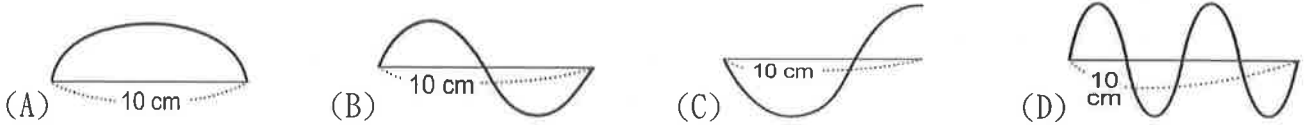
(A)h-d-a (B)h-e-b (C)h-f-c (D)h-i-j

【第 1 頁結束 背面尚有試題】

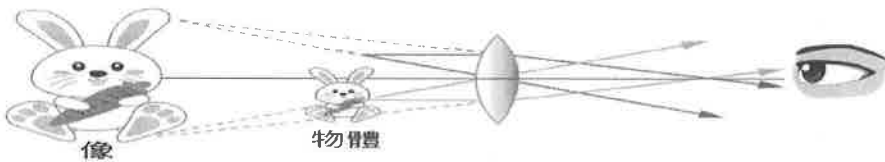
13. 當聲波遇到障礙物而發生反射時，下列哪一項會改變？
 (A)聲波的振幅 (B)聲波的週期 (C)聲波的波長 (D)聲波的頻率
14. 一連續週期波通過介質中某一點時，該點作往復運動的位置坐標與時間關係曲線如附圖，下列敘述何者正確？



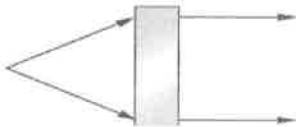
- (A)振幅為 20 公分 (B)週期為 0.1 秒 (C)波長為 0.2 公分 (D)頻率為 5 赫茲
15. 原聲與回聲至少要相隔 0.1 秒，人耳才能聽到回聲，若聲速為 340 公尺/秒，欲聽到回聲，聲源至少要距離障礙物多少公尺？ (A)340 (B)170 (C)34 (D)17
16. 下列哪一種聲音最容易被歸類為嚴重影響生活的噪音污染？
 (A)90 分貝，10000 赫 (B)100 分貝，30000 赫 (C)70 分貝，6000 赫 (D)40 分貝，12000 赫
17. 下列有關聲音三要素的敘述，何者錯誤？ (A)聲波頻率固定時，振幅愈大，響度愈小
 (B)物體振動頻率愈小，音調愈低 (C)物體的音色，由發音的波形決定 (D)分貝是響度的單位
18. 老師背對學生寫黑板時，小南在座位上大聲講話，老師不回頭就能聽出是小南的聲音，主要是依靠聲波的何項性質來辨識？ (A)頻率 (B)波形 (C)振幅 (D)波長
19. 下列為同一條繩子在相同時間的條件下，所振動產生的繩波波形，請問哪個頻率最大？



20. 附圖為凸透鏡成像圖，圖中物體與透鏡的距離為何？



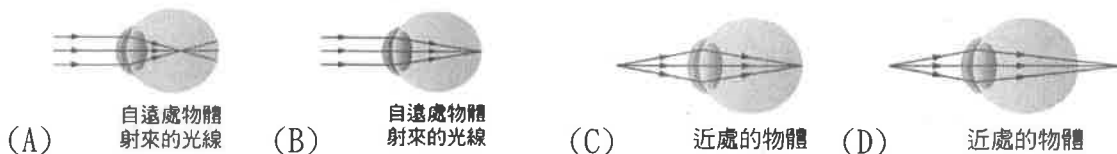
- (A)大於兩倍焦距 (B)介於兩倍焦距與一倍焦距之間 (C)等於一倍焦距 (D)小於一倍焦距
21. 如附圖，若根據光線的行進方向來判斷，右圖中間藍色塊狀物，應放置下列何種鏡面？




- (A)平面鏡 (B)凹面鏡 (C)凹透鏡 (D)凸透鏡
22. 如附圖，在凹透鏡前的焦點外側豎立一根蠟燭，必須如何做才能看到蠟燭經由凹透鏡折射所成的像？(A)必須把蠟燭點燃 (B)鏡後立一紙屏，在紙屏上觀察 (C)人站在鏡後，朝鏡內看 (D)必須將蠟燭置於透鏡的焦點內側



23. 附圖是四個人眼睛的成像情形，下列何者的眼睛為近視眼？

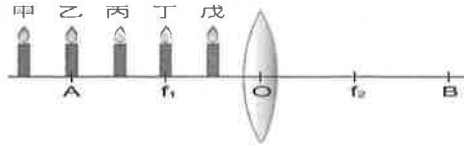


24. 海邊浮潛時，從海裡看天上飛的海鳥，下列何者為合理的光線路徑方向？



25. 光的三原色是指光的哪三種顏色？(A)紅、綠、藍(B)紅、綠、黃(C)藍、橙、紅(D)紅、黃、藍

※ 分別將甲、乙、丙、丁、戊五個相同的物體置於透鏡左側，另置一屏幕於凸透鏡右側，如右圖，試回答 26-30 問題：(圖中 f_1 、 f_2 為透鏡的焦點，A 點及 B 點為焦距的 2 倍)



26. 當物體放在下列的哪一點時，可以得到比物體還大的正立虛像？(A)乙(B)丙(C)丁(D)戊

27. 當物體放在下列的哪一點時，可以得到比物體還大的倒立實像？(A)甲(B)乙(C)丙(D)丁

28. 若燭火由丁處往甲處移動，愈來愈遠離透鏡，成像將會有何變化？

(A)愈來愈小 (B)愈來愈大 (C)倒立變正立 (D)正立變倒立

29. 若要讓物體經透鏡成像在 A 點左側，物體應該放在何位置較合適？

(A) $0 \sim f_2$ 點之間 (B) f_2 點上 (C) $f_2 \sim B$ 之間 (D) B 點上

30. 如果將透鏡的上半部遮掉，則所成之大小將會有何變化？

(A)變大 2 倍(B)變小 2 倍(C)變小 1 倍 (D)大小不變

31. 附圖為行駛在高速公路上一輛汽車的車牌，在這部車子前方一段距離的汽車車主，由凸面鏡後視鏡所看到的車牌成像為何？



32. 如附圖，已知測量視力時，人與檢定表應保持 5 公尺距離，但房間的寬度只有 4 公尺，為了解決問題，小叮噹在檢定表的對面牆上掛平面鏡。請問：測量視力時，小叮噹應面對平面鏡，且人與平面鏡應相距幾公尺，才能正確檢定視力？ (A)1 公尺(B)2 公尺(C)3 公尺(D)4 公尺



33. 阿騰的班級在校慶時，決定設計鬼屋來當作班級主題。同學們將教室的牆壁都貼滿了黑色的書面紙，並在日光燈管上貼上綠色玻璃紙，藉由此種方式來營造鬼屋的氣氛，下列敘述何者正確？ (A)整個牆壁變綠 (B)光量變少 (C)光速變慢 (D)所有物品皆呈綠色

※ 小文有一天到臺北火車站附近，看到了一個電子告示牌(如附圖)，請回答 34-35 問題：

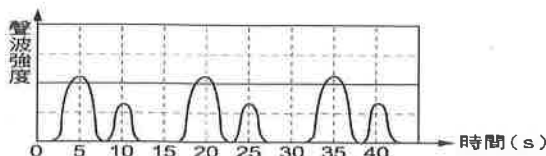


34. 下列敘述何者正確？ (A)當時是上午 (B)附近是一個安靜的環境 (C)這天有寒流過境臺灣 (D)長時間處在這個環境，容易降低人的工作效率

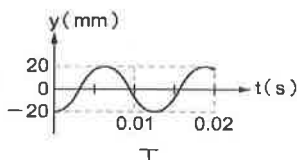
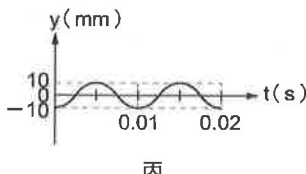
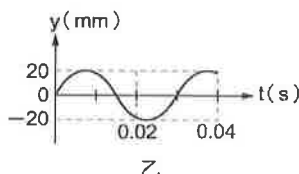
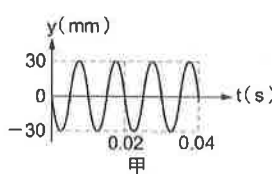
35. 告示牌中 db，這個數字愈大代表： (A)聲音傳的愈快(B)聲音愈高(C)聲音愈美(D)聲音愈大聲

36. 阿龍到棒球場觀賞棒球比賽，當比賽進行到最緊張的時候，投手將球投出後，打者奮力一揮，「ㄎㄨㄤ」的一聲，球飛出了全壘打牆外，頓時之間，球迷尖叫聲掌聲四起，試問下列哪項聲音的傳播速率最快？ (A)「ㄎㄨㄤ」的聲音 (B)球迷尖叫聲 (C)球迷的掌聲 (D)一樣快

37. 聲納 (sonar) 一詞源自於「聲波導航和測距」(sound navigation and ranging)，早期僅用於軍事用途，如潛艇的偵察與導航，現廣泛應用於魚群探測或海底地質測量，其原理為發射聲波，並偵測反射波藉以探測海底深度。為某潛艇為了探測距離海底的深度，其所發出的聲波與其反射波的強度與時間變化圖如下。若已知海水中聲速約為 1500m/s ，則潛艇距離海底約為多少公尺？ (A)3000 (B)3750 (C)7500 (D)11250



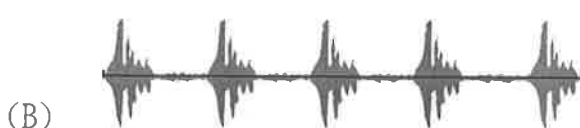
38. 有甲乙丙丁四支音叉，其聲音在儀器上顯示之波形分別如圖所示，橫軸(t)表示時間，縱軸(y)表示聲波震動的位移，則哪兩支音叉可以產生共鳴？



- (A)甲乙 (B)甲丙 (C)乙丁 (D)丙丁

※ 生物發出聲音的目的包含：恐嚇入侵者（防禦）、求偶、協調群體活動等。在眾多的動物聲音中，魚類的聲音很少被觀察到，北美的湖鱒在生殖季時會發出頻率 $25\sim 40$ 赫茲的聲音，由於生殖行為是在淺水中進行的，因此聲音能穿透水面進入空氣，使得附近的人會聽到陣陣微弱的低頻聲音，人們稱為「鱒之雷聲」。魚類發出聲音的機制包括了：魚鰾的震動、身體堅硬結構間的摩擦、水流的擾動、身體或韌帶的震動、體內氣體的排放等，前兩者是較為普遍的機制。不同發音機制所產生的聲音其物理特徵也不同，魚鰾震動所產生的聲音之頻率較低（多在 1000 赫茲左右），且其頻率受到發音肌肉收縮速度的影響。魚鰾振動時對聲音亦會產生聲音強度放大之作用，堅硬構造間的摩擦會產生頻率較高而廣頻的聲音。試根據上文，回答 39-41 問題：

39. 北美的湖鱒在生殖季時會發出的聲音，由水中進入空氣，何項聲音的性質不會改變？
 (A)音調 (B)響度 (C)聲速 (D)波長
40. 現存的 2 萬多種魚類中，根據其骨骼的性質，可分為軟骨魚和硬骨魚兩大類。軟骨魚類骨骼多含膠質，一般不具有魚鰾，例如：鯊魚、魷魚等。硬骨魚類骨骼多含鈣質，大部分魚類屬於硬骨魚類，一般具有魚鰾，例如：鮪魚、鮭魚。依內文判斷，下列何者可能屬於會發出聲音的魚類？ (A)鯊魚 (B)魷魚 (C)吳郭魚 (D)鯨魚
41. 下列為四種魚類在相同時間內所發出的聲波圖，哪隻魚發音肌較強而有力，且收縮速度較快？



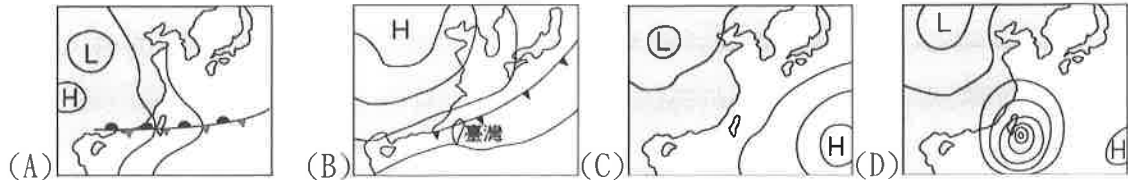
42. 月球之所以被稱做「寂靜的星球」，是因為下列何種原因？
 (A)月球沒有火山爆發 (B)月球引力太少，吸不住聲音，聲音容易跑掉
 (C)月球上沒有空氣可以傳遞聲音 (D)月球上沒有可振動的物質

43. 臺灣常常發生地震的主要原因為何？
(A)臺灣四面環海(B)臺灣位在板塊的交界帶上(C)臺灣人口密集(D)臺灣位處北回歸線通過區域
44. 地震規模是表示發生地震時可以呈現的何種資料或數據？
(A)地面的搖晃程度(B)發生地震時地表搖晃的秒數(C)地震釋放的能量多寡(D)發生地震的深度
45. 目前對於地震的預測，無法達到下列哪一項目標？
(A)地震前預測發生的時間 (B)地震後分析地震強度
(C)地震後分析震源位置 (D)地震前做好防震措施
46. 下列關於地震波的敘述，何者錯誤？
(A) S 波的介質振動方向與震波的傳播方向垂直 (B)P 波是一種縱波，傳遞速度比 S 波快
(C) P 波與 S 波都屬於實體波 (D)S 波僅能在固體中傳遞，故破壞程度較 P 波來得小
47. 下列敘述何者錯誤？(A)傳遞波動的物質稱為介質 (B)介質振動的方向和波前進的方向垂直的波稱為橫波(C)橫波中偏離平衡位置最遠的點，稱為波峰或波谷 (D)橫波又稱疏密波
48. 在空氣中，敲擊頻率分別為 500 赫茲與 200 赫茲的兩個音叉，當兩個音叉發出的聲音傳入水中後，其傳播速率的比為何？
(A)5:2 (B)2:5 (C)2:1 (D)1:1
49. 光走一年的距離為 9.46×10^{12} 公里，天狼星距地球約 8.7 光年，由此可知光從天狼星到地球需時多少年？
(A)8.7 (B) $8.7 \times (9.46 \times 10^{12})$ (C) $8.7 / (9.46 \times 10^{12})$ (D) $(9.46 \times 10^{12}) / 8.7$
50. 有關透鏡折射成像的性質，下列敘述何者正確？
(A)實像和虛像都不能在紙屏上成像 (B)實像和虛像都能在紙屏上成像
(C)實像不能用眼睛看到，但能在紙屏上成像 (D)虛像能用眼睛看到，但不能在紙屏上成像

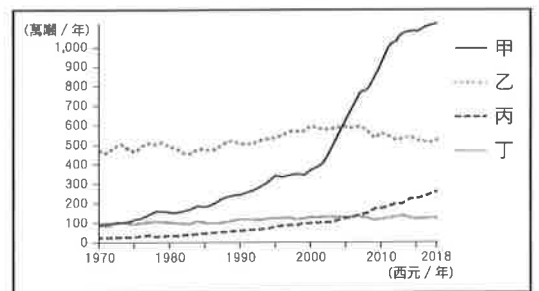
【試題結束—文光 8 年級、理化】

一、 單選題(1-15 題每題 2 分，共 30 分)

- () 中國西部經濟帶與其他地區比較，西部經濟帶具備了下列哪一種發展的優勢條件？
(A)知識密集產業發達 (B)水運交通便捷 (C)天然資源豐富 (D)引進外資方便。
- () 下列關於華南地區經濟特區的敘述，何者錯誤？ (A)位於長江出海口 (B)以出口為導向 (C)成功帶動沿海的經濟發展 (D)豐富的礦產資源吸引外商。
- () 依據世界衛生組織(WHO)的統計數據，南韓每年約有 18,000 人死於和汙染相關的疾病。研究發現愈接近中國、空汙就愈嚴重，而此現象在某個季節時更加顯著。上述汙染顯著之季節所呈現出來的天氣型態，應與下列哪一張地面天氣圖最為相符？

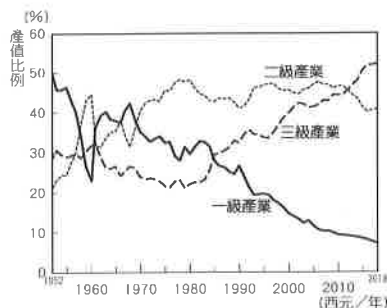
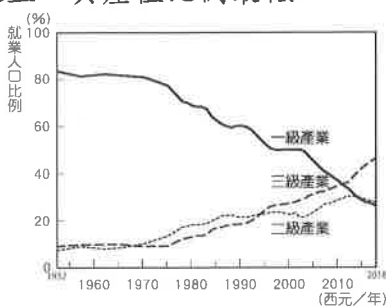


- () 上海市簡稱「滬」，為上海話中小漁村之意。請問：讓上海從小漁村變成中國第一大城市的優勢條件為何？ (A)鄰近香港 (B)華南的交通樞紐 (C)五個經濟特區之一 (D)位置優越。
- () 全球海洋裡的塑膠垃圾 80% 來自陸地。中國政府為此研究制定一份新的防治塑膠垃圾汙染政策，擬在沿海城市實施限塑。此政策對於下列哪一個城市的人民影響最大？
(A)北京 (B)拉薩 (C)重慶 (D)廣州。
- () 中國汽車工業協會公布最新統計，2020 年大陸汽車銷量達 2,527.2 萬輛，中國之所以擁有此驚人的銷售量，與下列何者關連性較小？ (A)人口眾多 (B)國民所得提高 (C)以二、三級產業為經濟主軸 (D)發達的電子金融系統。
- () 中國經濟改革開放以後，沿海、沿江地區的工業發展迅速。請問：下列何者是中國工商業最發達，也是都市化程度最高的地區？ (A)環渤海經濟圈 (B)長三角經濟圈 (C)珠三角經濟圈 (D)珠海經濟特區。
- () 右圖為四個國家於西元 1970~2018 年使用化石燃料的二氧化碳排放量曲線圖。依據現在中國經濟發展的現況，哪一條曲線最有可能是中國？
(A)甲 (B)乙 (C)丙 (D)丁。



- () 中國有超過 14 億的人口，表示在經濟發展過程中具有下列哪些優勢？
(甲)市場 (乙)原料 (丙)動力 (丁)勞力 (A)甲乙 (B)甲丙 (C)甲丁 (D)丙丁。
- () 中國自西元 1978 年改革開放後，經濟快速起飛，但近年來其成長速度卻有逐年減緩的趨勢。為了維持經濟成長，中國提出下列哪一項因應策略？ (A)引進國際移工 (B)進行產業升級 (C)降低出口關稅 (D)降低勞工薪資。
- () 中國積極於一帶一路的開發和投資，這些四通八達的交通網，除了能增加國際貿易幫中國賺錢外，下列哪一個因素也是中國實施此政策的最主要目的？ (A)提高社會增加率 (B)擴大南水北調範圍 (C)發展 3C 產業 (D)增加國際影響力。
- () 下列有關北京的敘述，何者不正確？ (A)北京故宮為保存完好的古代皇宮建築 (B)北京中關村園區因鄰近學術重鎮，為中國高科技的中心，有「中國矽谷」之稱 (C)經濟繁榮，高樓林立，基礎設施完善，是現代化的國際都市 (D)位於中國海岸線中點和長江出海口，地理位置優越。 【第 1 頁結束 背面尚有試題】

13. () 深圳、汕頭經濟特區有許多電子公司原先是幫外國廠商代工組裝 3C 周邊產品，如耳機、電子錶等，這幾年都加碼投資研發，推出自有品牌的產品。此發展顯示中國的製造業正如何轉型？ (A)原料密集→資本密集 (B)勞力密集→技術密集 (C)動力密集→技術密集 (D)資本密集→勞力密集。
14. () 下方二圖為中國三級產業就業人口比例變化圖，以及中國三級產業產值比例變化圖。下列關於兩圖的說明，何者敘述正確？ (A)西元 2015 年時二級產業就業人口與產值比例均最低 (B)一級產業就業人口與其產值比例呈現持續上升的趨勢 (C)西元 2018 年時三級產業就業人口與其產值比例為各級產業之冠 (D)工業就業人口歷年來均在各級產業之上，其產值比例最低。



15. () 中國在北京到天津、上海到杭州、武漢到深圳等沿線興建高速鐵路，時速可達 300 公里以上。關於中國高速鐵路的正確敘述不包括下列何者？ (A)提高運輸效益 (B)一地的經濟發展指標 (C)西部的高鐵路線較密集 (D)促進觀光發展。

二、題組(16-20 題每題 1 分，共 5 分)

- (一) 中國自改革開放以來，歷經 40 年的現代工業發展，已出現數個經濟發展核心地區—長三角、珠三角和環渤海，三大經濟圈各有規模，定位也各不相同。請問：

16. () 該經濟圈以上海為中心，南京、杭州為副中心，包括江蘇、浙江、安徽省境內共 30 個城市。以滬杭、滬寧高速公路以及多條鐵路為樞紐帶，形成一個整體。區內的黃金通道流經 29 個主要城市，把沿海的三角區域引向內陸腹地，是世界與中國連結的重要門戶地區。」文中提到的黃金通道應是下列哪一條河川？

(A)珠江 (B)長江 (C)淮河 (D)黃河。

17. () 珠三角經濟圈是中國最早改革開放的地區，長期的技術累積，加上下列哪兩個地區大量資金的湧入，使珠三角經濟圈成為中國最先進的新創產業中心？ (A)香港、澳門 (B)日本、韓國 (C)英國、美國 (D)臺灣、菲律賓。

18. () 「該經濟圈的形成與發展，得益於現有體制下全國資源向都城的集中，中關村、奧運村的出現均以首都特有的政治文化為背景。」文中的經濟圈應為下列何者？

(A)長三角經濟圈 (B)珠三角經濟圈 (C)環渤海經濟圈。

- (二) 西元 2019 年底，特斯拉在中國上海的超級工廠僅花一年時間就完工，特斯拉電動車就好像是規模放大的智慧型手機，生產線已經高度自動化，整座工廠裡面幾乎都只能看到一座一座的機器人手臂，特斯拉上海廠傾向建立本土化自主供應鏈，請問：

19. () 中國是全球最大車市，智慧化電動車競爭激烈，特斯拉選擇在上海設廠，除了上海市政府的優惠措施外，最主要的原因是下列何者？ (A)最早改革開放 (B)水力發電充足 (C)消費市場廣大 (D)土地成本便宜。

20. () 受到中國經濟快速發展的影響，近年來前往中國投資設廠的臺商逐漸轉向以投資何種性質的產業為主？ (A)原料密集 (B)勞力密集 (C)輕工業為主 (D)技術密集。

【第 2 頁結束 後面尚有試題】

澎湖縣立文光國民中學 110 學年度第 1 學期第 2 次成績評量 8 年級歷史科試卷

班級： 姓名： 座號： 讀卡 答案卷

配合題+題組 (第 21 題~第 40 題, 第 21~35 每題 2 分, 第 36~40 題, 每題 1 分, 共 35 分)

* 在中國歷史的學習上, 目前同學已經學習到了 (甲) 宋 (乙) 元 (丙) 明 (丁) 清, 請依照題目敘述的特色, 回答下列問題:

21. 歷史學家黃仁宇認為: 「從物質生活來講, 十二世紀的中國, 無疑已經領先世界。」請問: 這是針對哪一個朝代發展特色所提出的看法? (A) 甲 (B) 乙 (C) 丙 (D) 丁。
22. 歷史課堂上, 老師針對某一個朝代有以下敘述: 「此時君主權力達到極盛, 但在盛世的表面上, 朝廷卻用文字獄壓迫知識份子。最後, 將台灣、蒙古、新疆、西藏納入版圖。」請問: 這是對於哪一個朝代的形容? (A) 甲 (B) 乙 (C) 丙 (D) 丁。
23. 阿不拉一家人居住在中國西域一帶, 自此朝代統一中國後, 他因擅長理財而受到政府器重, 負責國家徵稅工作。請問: 阿不拉最有可能是哪一個朝代的人? (A) 甲 (B) 乙 (C) 丙 (D) 丁。
24. 中國歷史上民變甚多, 其中有一個朝代曾出現「陝西饑饉, 斗米千錢, 草根樹皮剝削殆盡」的亂象, 導致農民舉事叛亂, 最後更攻佔北京城, 皇帝因而自縊殉國。請問: 這次民變是指發生於哪一個朝代的史實? (A) 甲 (B) 乙 (C) 丙 (D) 丁。

* 在西方進行科學革命與工業革命以前, 當時中國的科技發展可謂是領先全世界, 請同學從以下重大發明 (甲) 印刷術 (乙) 造紙術 (丙) 火藥 (丁) 指南針, 依據題意, 回答下列問題:

25. 在宋朝時期, 某種技術的發明, 使得書本的印量能夠大幅增加, 傳入歐洲後, 促成歐洲文藝復興運動。請問: 上述科技所指為何? (A) 甲 (B) 乙 (C) 丙 (D) 丁。
26. 某種科技經由阿拉伯人轉傳入西方, 有助於歐洲新航路的發現。請問: 上述科技所指為何? (A) 甲 (B) 乙 (C) 丙 (D) 丁。
27. 某種科技透過蒙古西征傳入西方, 改變了戰爭型態, 也促成了歐洲民族國家的興起與發展。請問: 上述科技所指為何? (A) 甲 (B) 乙 (C) 丙 (D) 丁。

* 中國歷史的發展, 簡而言之, 就是一部族群融合史。從宋朝開始, 中國族群互動開啟了新的紀元, 請同學從以下草原民族中 (甲) 女真人 (乙) 蒙古人 (丙) 匈奴人 (丁) 契丹人, 請同學依據題意, 回答下列問題:

28. 關於宋朝 (北宋、南宋) 外患的敘述, 下列何者錯誤? (A) 宋朝的主要外患皆是被 (乙) 所滅 (B) 北宋前期的主要外患是 (丁) (C) 南宋前期主要外患是 (甲) (D) (甲) 是北宋與南宋共同的外患。
29. 北宋真宗在位期間, 因為北方國家入侵, 真宗接受宰相寇準建議, 由皇帝御駕親征, 結果戰局逆轉, 雙方簽訂澶淵之盟。請問: 關於「澶淵之盟」的敘述, 下列何者錯誤? (A) 這是北宋與 (甲) 之間的外交盟約 (B) 此盟約使農業民族開始與周邊的草原民族政權建立對等外交關係 (C) 北宋每年須以「歲幣」給予此草原民族 (D) 雙方維持一百多年的和平。
30. 承上, 此草原民族之所以可以持續向南擴張, 與什麼原因有關? (A) 聯合蒙古人, 夾擊漢人 (B) 取得漢人農業生產區, 強化國力 (C) 利用貿易優勢, 吸引南方民族投降 (D) 拒絕吸收他族文化, 保有強悍風格。
31. 顏老師上課時配合課程播放一部電影, 內容描述一名勇敢的領導者及其子孫, 率領部族軍隊不斷向外征戰, 最終建立人類歷史上最大帝國。請問: 關於此草原民族的敘述, 下列何者錯誤?

(A) 這名領導著為 (乙) 部族的領袖 (B) 前後三次西征，建立橫跨歐亞的大帝國 (C) 其子孫統治中國期間，實施差別待遇種族歧視政策 (D) 攻滅南宋，造成所謂的「靖康之禍」。

32. 請問：上述草原民族中，成為農業民族主要外患的先後順序為何？(A) 丙甲丁乙 (B) 丁甲乙丙 (C) 丙丁甲乙 (D) 丁乙丙甲。

* 宗教扮演撫慰人心的角色，請同學從中國歷史的發展中，從以下外來宗教 (甲) 佛教 (乙) 祇教 (丙) 摩尼教 (丁) 景教 (戊) 伊斯蘭教，依據題意，回答下列問題：

33. 唐代當時人們稱呼的「三夷教」不包括下列何者？(A) 甲 (B) 乙 (C) 丙 (D) 丁。
34. 關於 (甲) 宗教的敘述，下列何者錯誤？(A) 起源於印度，在西漢時從絲路傳入中國 (B) 魏晉南北朝時期，雲岡石窟、龍門石窟成為其宗教代表藝術古蹟 (C) 唐代時期，與中國思想結合，形成許多具有中國文化特色的教派 (D) 清朝時期，因其教徒介入宮廷政爭，故被宣布禁絕在中國傳布。
35. 關於 (戊) 宗教的敘述，下列何者錯誤？(A) 起源於阿拉伯半島，經由商人貿易傳入中國 (B) 其著名代表為義大利籍傳教士利瑪竇 (C) 北宋年間，曾經在泉州建立清真寺，元、明兩代曾經重修 (D) 影響了宋、元以後曆法、天文學發展，為中西交流帶來貢獻。

* 題組：人類在貿易史的發展上，十五世紀前半葉之前，主要是以沿海岸線地較近的城市作為航海貿易航線的主要發展地點，我們稱之為「沿海貿易」：唐、宋時期海上絲路，明代鄭和下西洋所拓展的貿易路線皆是其典範代表。而歐洲人發現新航路之後，由於航海技術進步，貿易路線開始穿越大海，往往一趟航行下來，獲取的利潤相當可觀，開啟了以「海洋貿易」為主體的大航海時代。除了商人之外，傳教士也相繼東來，為中西文化交流開啟了一的篇章。請同學依據題意，回答下列問題：

36. 唐、宋時期，為因應海外貿易的需要而增設「市舶司」。請問：下列有關於市舶司的敘述，何者錯誤？(A) 市舶司始設於唐代 (B) 只有在廣州一地設有市舶司 (C) 除了招徠外商，接待使節外，還負責管理商船、檢查貨物等業務 (D) 後來成為政府主要稅收來源。
37. 關於鄭和下西洋的敘述與影響，下列何者正確？(A) 所謂「下西洋」是指大西洋及太平洋 (B) 引發探險風氣，延續歐洲海外拓殖熱潮 (C) 使中國聲威遠播，奠定華人移居東南亞基礎 (D) 肅清倭寇勢力，東南沿海因此得以安定。
38. 關於明清時期對外貿易的敘述，下列何者正確？(A) 明初與清初皆頒佈禁海令，分別是為了對付倭寇與鄭氏政權 (B) 明清時期隨著對外貿易開展，銅錢大量流入中國 (C) 鄭和下西洋的航線，最遠到達美洲西岸 (D) 明朝自以為是天朝上國，故不願意與其他海外國家進行貿易。
39. 自新航路發現後，對世界歷史的發展造成重大影響。下列何者是其對當時中國的影響？(A) 為了購買美洲作物，白銀大量流出中國 (B) 世界各地與中國的聯繫增強，貿易蓬勃發展 (C) 中國對外貿易增加，解決了走私貿易的問題 (D) 中國沿海居民開始大量移居台灣。
40. 清康熙時，許多西方傳教士在中國傳教，原本未受到限制，皇帝也任命教士在欽天監工作，並翻譯西方書籍。自康熙四十六年以後，卻將教廷派來的專使逐出國境，並禁止基督教在中國傳布。請問：導致此一改變的可能原因是下列何者？(A) 教宗禁止中國信徒敬天祭祖，使皇帝不滿 (B) 因西方文化入侵，中國學習日本實施鎖國 (C) 流寇與基督教士勾結，皇帝才禁止基督教 (D) 皇帝開始重視滿洲文化，以建立本土信仰。

【~ 試題結束，文光八年級、歷史科 ~】

澎湖縣立文光國民中學 110 學年度第 1 學期第 2 次成績評量 8 年級公民科試卷

班級： 姓名： 座號： 讀卡 答案卷

一、 配合題+題組 (第 41 題~第 60 題, 第 41~50 每題 2 分, 第 51~60, 每題 1 分, 共 30 分)

*實施地方自治, 是民主國家中不可或缺的重要機制, 關於中央政府與地方政府的權限, 明確規定在我國憲法本文中, 其中就地方政府負責的地方自治事項, 因內容複雜多元, 因此大概可歸類於以下事項: (甲) 教育文化 (乙) 社會服務 (丙) 經濟發展 (丁) 安全衛生, 請依題目敘述, 回答下列問題:

41. 依我國憲法規定, 當中央與地方權限劃分發生爭議時, 應由下列何者處理此爭議? (A) 總統 (B) 立法院 (C) 司法院 (D) 監察委員。
42. 中央與地方的權限劃分上, 會依據事務性質來區分; 但在行政、立法、司法、考試、監察五權中, 有哪些權利是由中央完全管轄? (A) 司法、考試、監察 (B) 行政、立法、司法 (C) 行政、考試、監察 (D) 立法、司法、考試。
43. 王老師家中遭到了小偷光顧, 導致財物損失慘重, 於是向警方報案, 警方查緝之後逮捕了小偷, 找回失物。請問: 上述警方的做法, 屬於地方政府哪一項自治事項? (A) 甲 (B) 乙 (C) 丙 (D) 丁。
44. 據新聞報導, 澎湖縣政府為了發展離島觀光旅遊, 每年均會舉辦花火節等相關活動刺激地方經濟發展, 由此之故, 來到菊島旅遊的觀光客人數逐年倍增。請問: 上述澎湖縣政府的做法, 屬於地方政府哪一項自治事項? (A) 甲 (B) 乙 (C) 丙 (D) 丁。
45. 台南是一座歷史古都, 市政府在赤崁樓舉辦露天古蹟電影院活動。請問: 上述台南市政府的做法, 屬於地方政府哪一項自治事項? (A) 甲 (B) 乙 (C) 丙 (D) 丁。
46. 新北市政府啟用加強身心障礙者照顧及工作技能培訓的小型作業所「三重五華日間照顧服務中心」, 市長表示多照顧一個身心障礙者就能多幫助一個家庭, 減輕其家庭的經濟負擔。請問: 以上敘述屬於何種地方政府自治事項? (A) 甲 (B) 乙 (C) 丙 (D) 丁。
47. 為了防範新冠肺炎的傳播, 喵喵市政府的具體作法如下: 「對所屬機關學校的學生實施疫苗接種, 落實社區關懷據點長者及身心障礙者居家照顧服務, 並派遣志工進行定期訪查, 以期做到『全面防護』的防疫目的」。請問: 以上屬於哪些地方政府自治事項? (A) 甲、乙 (B) 甲、丙 (C) 乙、丁 (D) 丙、丁。

*小小郭是一位單車運動愛好者, 為了體驗愛台灣的決心, 決定在寒假進行一場「台灣各縣市美食觀光巡禮活動」, 利用他的瑪莎拉蒂小折 (折疊式腳踏車), 進行環島遶境行程: 首先, 他從 (甲) 馬公市出發, 搭乘飛機前往 (乙) 台北市, 休息一夜後, 前往 (丙) 基隆市, 逛完著名基隆廟口夜市, 前往 (丁) 宜蘭縣參觀著名童玩節活動, 稍作休息後, 抵達 (戊) 花蓮市, 品嚐當時著名的扁食, 吃飽喝足後, 繼續出發抵達了 (己) 高雄市, 參觀落成不久的義享天地百貨公司, 然後繼續出發前往 (庚) 嘉義市品嚐好吃的沙鍋魚頭火鍋, 然後繼續邁向以肉圓著著名的 (辛) 彰化縣, 回台北搭機前, 為了觀賞可愛的石虎, 所以特別繞到 (壬) 苗栗縣與當地石虎保育團體會面, 了解目前石虎保育的困境, 最後抵達台北搭機, 回到了最溫暖的家 (癸) 澎湖縣, 請依題目敘述, 回答下列問題:

48. 請問上述地方自治層級中, 哪一個與 (甲) 屬於同一個層級? (A) 丁 (B) 戊 (C) 庚 (D) 壬。
49. 請問上述地方自治層級中, 哪一個與 (乙) 屬於同一個層級? (A) 丙 (B) 丁 (C) 戊 (D) 己。

50. 請問上述地方自治層級中，哪一個與（丙）不屬於同一個層級？(A)丁 (B)戊 (C)庚 (D)辛。
51. 關於（己）中桃源區區長及區民代表是如何產生的？(A)由該區公民選出 (B)由（己）市長指派 (C)由行政院長提請總統任命 (D)經考試院舉辦的考試及格後任用。
52. 請問下列何者非地方立法機關所負責的事項？(A)審議地方政府所提出的教育預算 (B)對地方政府施政不當提出糾正案 (C)質詢相關機關首長 (D)審查發展觀光產業的各項地方自治法規。

*民意政治是民主政治的特色之一，所謂的民意，在多元民主社會中，具有（甲）議題性（乙）複雜性（丙）影響性（丁）變動性等特徵，請依題目敘述，回答下列問題：

53. 交通建設與民眾生活息息相關，如果澎湖縣政府委託專業機構進行「台澎大橋（台灣連結澎湖的跨海大橋）興建支持度」之民意調查，結果發現受訪者呈現正反兩極的意見。請問：針對此項調查，是符合公共意見的哪一項特性？(A)甲 (B)乙 (C)丙 (D)丁。
54. 承上題，調查結果發現，興建台澎大橋各有其利弊，因此有人贊同，有人反對，甚至有其他的想法。請問：針對此調查結果，呈現公共意見的哪一項特性？(A)甲 (B)乙 (C)丙 (D)丁。
55. 「民意如流水，東飄西飄無常軌；民意像月亮，初一十五不一樣。」請問：上文應是指公共意見的哪一項特性？(A)甲 (B)乙 (C)丙 (D)丁。
56. 1990年3月16日，將近6000名來自全國各地的大學生，在中正紀念堂（現自由廣場）上靜坐抗議，提出「解散國民大會」、「廢除臨時條款」、「召開國是會議」等訴求。後來總統與學生代表見面，承諾政府會接受訴求並進行改革，開啟了台灣政治民主化的新時代，成為亞洲民主政治發展的典範。請問：上文敘述中呈現公共意見的哪一項特性？(A)甲 (B)乙 (C)丙 (D)丁。
57. 公共意見能影響政府施政，在民主政治中扮演重要角色。就公共意見的意義來看，下列敘述何者正確？(A)公共意見是指多數人意見，因此是超過半數以上民眾的共識 (B)民主社會中公共意見是多元的，因此可以和國家公共事務無關 (C)公共意見屬於民眾公開表達的意見，也是個人言論自由的展現 (D)公共意見必須由政黨匯集民眾的意見才能形成，並具備公信力。
58. 在民主國家中，民眾會組成利益團體向政府反映意見，藉此影響政府的政策，使其較符合該團體的訴求。下列何者最可能是利益團體為實現其訴求而採取的行動？(A)規劃具體政策後，送交立法機關審議並表決 (B)質詢有關單位的官員，並要求修正政策或法案 (C)糾正推動政策不力的政府部門，要求期限改善 (D)對有關單位進行遊說，直接表達訴求。
59. 利益團體與政黨皆是民眾向政府反映公共意見的重要媒介，下列關於兩者的敘述何者正確？(A)為了影響政府的政策，推派代表參選是利益團體主要的活動方式 (B)為防止被民眾認定有政治立場，利益團體會避免參與選舉活動 (C)政黨為獲得更多民眾支持，通常會與利益團體進行合作 (D)政黨的成員數目通常比利益團體多，所以對政策的影響力非常大。
60. 利益團體又稱為壓力團體，是人民透過集體行動，去影響政府政策，以實現共同理想或利益。請問：下列哪一項主張最有可能是利益團體提出的訴求？(A)提高國民年平均所得 (B)刪除政府人事的經費 (C)提高工資降低工時 (D)加強邦交國家聯繫。

【～試題結束，文光八年級、公民科～】