

一、國字注音：(每題 1 分，共 10 分)

1. 「囑」咐：	2. 妥「帖」：	3. 迎「迓」：	4. 殺「戮」：	5. 「瑰」寶：
6. 交「丌一廿」：	7. 「彳弓」扶：	8. 「弓乂乙」弱：	9. 田「彳又ノ」：	10. 「乂弓ノ」扇：

二、解釋：(每題 2 分，共 20 分)

1. 蹣跚：	2. 躊躇：
3. 大去：	4. 天籟：
5. 具體而微：	6. 乍暖還寒：
7. 羊腸小徑：	8. 嫻靜：
9. 會晤：	10. 惦記：

三、成語配合題：(每題 1 分，共 10 分)

A. 目不暇給	B. 如膠似漆	C. 仁心仁術	D. 茲事體大	E. 爾虞我詐
F. 百步穿楊	G. 汲汲營營	H. 囫圇吞棗	I. 遺珠之憾	J. 暴殄天物

1. 這間診所上面掛著一塊寫著( )的匾額，想必這裡的醫生應該都是善良且醫術高明的。
2. 烏俄戰爭所涉及的層面很廣，關於何時停戰一事，( )，需經過多方會談，才有轉機。
3. 每餐都剩那麼多，為何不少煮些？這種( )的情景，令人心痛。
4. 敬驥在演完《刻在你底心的名字》後聲名大噪，卻無緣入圍金馬獎，成為今年的( )。
5. 讀書時務必要了解來龍去脈，切忌( )，一味追求死記硬背，最終還是無法活用。
6. 這空間，充斥著( )的氛圍，人與人之間都不願意看見對方的好，一心只想算計。
7. 手機裡的世界是如此龐大，內容包羅萬象，讓人( )，一不注意，時間就消失了。
8. 經過此番經歷，堅貞的友誼使得她們更是( )地黏在一起，誓言永不分離
9. 他為了名利，每天( )，哪還能妥善的照顧家庭。
10. 她練就一身( )的絕技，就是希望有機會可以代表國家，和國際上的射擊名人競技。

四、單選題：(每題 2 分，共 30 分)

- ( ) 1. 「他和我走到車上，將橘子一股腦兒放在我的皮大衣上，於是撲撲衣上的泥土，心裡很輕鬆似的。」這段文字中，作者父親心裡輕鬆的原因為何？
- (A) 因從此不必再負擔作者的生活費用，而感到輕鬆許多
- (B) 當時親子關係並不融洽，所以離別前夕反而鬆了一口氣
- (C) 因作者同意他把橘子放在昂貴的皮大衣上，這分善意讓他略感寬慰
- (D) 擺好橘子後，他認為自己已經替作者打點好旅程所需，所以稍微寬心。
2. ( ) 「信中說道：『我身體平安，惟膀子疼痛得厲害，舉箸提筆，諸多不便，大約大去之期不遠矣。』我讀到此處，在晶瑩的淚光中，又看見那肥胖的青布棉袍、黑布馬褂的背影。」根據這段文字，下列敘述何者正確？

- (A) 父親說他膀子疼，是要暗指作者的不孝
- (B) 作者因擔心父親的身體狀況而流淚，並因此信而勾起回憶
- (C) 讀完父親的來信，作者回想過往，不禁喜極而泣
- (D) 父親在信中提到身體平安，膀子疼痛只是個小毛病，請作者不必操心。
3. ( ) 關於〈背影〉一文的寫作手法，下列敘述何者正確？
- (A) 全文採順敘法，從第二段開始敘寫與父親相關的往事
- (B) 文中採第三人稱的敘事手法，客觀描述父子間的互動變化
- (C) 首段以背影破題，末段以背影作結，前後呼應，緊扣主題
- (D) 以誇飾手法極力描寫父親買橘子的經過，令人印象深刻。
4. ( ) 「那清脆、鄉土的叫喊雖然只有幾個音節，但宛轉有致的抑揚頓挫卻讓你以為回到了古典臺灣。你聽，那一聲聲拉長的吟唱：『鹹—芭樂，鹹—甜—脆—，甘—的哦！』這簡直是人間天籟，臺語的瑰寶—具體而微地把整個民族、整塊土地的生命濃縮進一句呼喊。」關於這段文字的含義，下列說明何者正確？
- (A) 吟唱聲悅耳動聽，可見小販自創廣告歌的才華
- (B) 叫賣聲宛轉有致，象徵臺灣人溫柔敦厚的民族性
- (C) 具有鄉土味的叫賣聲，呈現古典臺灣的風韻
- (D) 吟唱般的叫賣聲，具備臺語情歌的韻味。
5. ( ) 「昨天晚上你也許還吃著燒仙草，今天你忽然聽到他改叫『冷豆花哦』。」這句話主要在強調什麼？
- (A) 小販勤奮努力的工作 (B) 小販叫賣聲的優美
- (C) 春天到來的美好 (D) 季節的轉換變化。
6. ( ) 關於〈聲音鐘〉一文的分析，下列敘述何者正確？
- (A) 叫賣聲具有放鬆心情的療癒效果，故文中將其比作古典樂
- (B) 文章首尾呼應，藉以凸顯對小販叫賣聲的喜愛
- (C) 全文特別著墨於小販的動作，筆法鮮活有趣
- (D) 主要藉由聲音鐘說明時光易逝，應好好珍惜把握。
7. ( ) 〈今夜看螢去〉一文引用了許多古典詩句，關於下列詩句的說明，何者錯誤？
- (A) 「簾疏巧入坐人衣」描寫流螢停在衣服上的景象
- (B) 「未足臨書卷」說明螢火的亮度無法用來照明讀書
- (C) 「騰空類星隕」描摹螢飛舞於夜空中的絢爛美麗
- (D) 「拂木若花生」點出螢的嫺靜與弱質蕙心。
8. ( ) 「老人們都說螢是腐草所化，以露水為食，因而牠弱質蕙心，想著這些說法，都覺得對螢應該格外的體貼善待。」關於這段文字的分析，下列敘述何者正確？
- (A) 說明螢火蟲是因食腐草飲露水，體質不良，以致近年數量銳減
- (B) 認為老一輩對流螢的看法只是以訛傳訛，不應輕信
- (C) 藉由從前關於螢的傳說，強調人類應該更珍惜憐愛螢火蟲
- (D) 透過老人們善待螢的行為，暗諷現代人破壞自然生態的自私。

9. ( ) 夕度下午四點五分发學之後，就迫不及待的跑去找易辰，因為兩人約好要準備去看晚上六點半的《劇場版 咒術迴戰 0》。請問這段時間橫跨了哪兩個時辰？
- (A) 子、丑  
(B) 未、申  
(C) 申、酉  
(D) 戌、亥。
10. ( ) 〈再見，西莎〉一文中，有些部分是作者親眼所見，有些則是作者的想像。關於文中對西莎的描述，下列何者並非作者親眼所見？
- (A) 那隆起的肩胛、寬大的骨架，予人雄性的感覺  
(B) 腰腹凹扁，長毛灰黃骯髒、糾結成絮，肩背有一塊暗褐潰爛，溼濡的嘴毛則因口涎浸染，一片鏽紅汗漬  
(C) 步履蹣跚，不時停下搔癢，百無聊賴過街  
(D) 來到一個陌生城市、從不曾到過的地方，車門打開，主人將他往外一推，引擎啟動，絕塵離去。
11. ( ) 關於〈再見，西莎〉一文的內容，下列敘述何者正確？
- (A) 作者因曾到蘇格蘭旅遊而對西莎特別有好感  
(B) 作者從黃昏開始跟隨西莎，一直到華燈初上  
(C) 作者的朋友不假思索的認定西莎正在尋找新的飼主  
(D) 作者的朋友猜測西莎遭主人棄養的經過，得到作者認同。
12. ( ) 「我再次想起罐頭上，那惹人喜愛、吸睛無數的西莎明星。他原也該如此神氣漂亮的，不是嗎？」根據這段文字，下列敘述何者正確？
- (A) 作者心痛眼前的西莎由明星淪為流浪狗，往日神氣已不復見  
(B) 作者譴責商人短視近利，捧紅了西莎之後便狠心棄養  
(C) 作者感嘆西莎狼狽的模樣，與罐頭上同種類的狗相去甚遠  
(D) 作者認為西莎是最適合拍廣告的明星犬種，成為流浪狗的機率很低。
13. ( ) 蘭芳想要向外國朋友介紹「楷書」，下列敘述何者正確？
- (A) 這是書寫速度最快的字體，它的筆畫連在一起，有些部分甚至被簡化了  
(B) 這是秦代統一使用的字體，在大篆的基礎上加以簡化，筆畫粗細一致  
(C) 這種文字又稱為「卜辭」，線條纖細，筆畫常帶有稜角  
(D) 這種文字的特點是筆畫方正勻稱，便於書寫，是能作為典範的字體。
14. ( ) 「有人曾說\_\_\_\_\_是篆書的不肖後代，因為它破壞了篆書的筆畫及字的形態和結構。此言差矣。公平的說，恰恰相反，它可是個承先啟後，創業興家的好子孫，正是它及它的革命性演變才使得漢字和書法家族能夠風行於人間百代，翱翔於藝術九霄。」根據這段文字，缺空處應填入下列何種字體？
- (A) 甲骨文 (B) 金文 (C) 隸書 (D) 行書。
15. ( ) 「清光緒二十五年，一位畢生研究金石文字的學者在中藥鋪買來的藥材裡看到一些骨骸殘片。他拿起來端詳，彷彿那些屍骨忽然隔著三、四千年的歷史，努力擁擠著說：

『我在這裡！我在這裡！』學者在殘片上看到一些明顯的符號，他拂去灰塵積垢，那符號更清晰了，用手指去觸摸，感覺得到硬物契刻的凹凸痕跡。」根據文意，這位學者發現的是下列何種字體？

(A) 甲骨文 (B) 金文 (C) 草書 (D) 行書。

### 五、閱讀題：(每題2分，共12分)

- ( ) 「這時候我們的心變得柔軟／放下了父子的身段／知道時間太晚／不要躲不要散／我要爬上你的肩膀／我要眺望你的遠窗／我忘了問什麼樣的倔強讓我們不說一句真心話／我要長成你的翅膀／我要拂去你的滄桑／我忘了說心裡面的願望始終是要你的肯定啊／從你溫柔眼眶綻放」(蘇打綠 小時候)關於這段歌詞，下列說明何者正確？  
(A) 寫詞者和父親的感情很好  
(B) 寫詞者和父親在某個關鍵時刻和解  
(C) 寫詞者從小在父親的肯定與認同之下長大  
(D) 寫詞者年紀尚小，才能爬上父親的肩膀。
- ( ) 「寇萊公少時，不修小節，頗愛飛鷹走狗。太夫人性嚴，嘗不勝怒，舉秤錘投之，中足，流血。由是折節從學。及貴，母已亡，每捫其痕，輒哭。」(司馬光 涑水記聞)根據這段文字，下列敘述何者正確？(飛鷹走狗：打獵。折節：改變舊有的志向或作為)  
(A) 母親因恨鐵不成鋼而投秤錘擊中寇萊公的腳  
(B) 寇萊公少時不拘小節，後來棄文就武而當官  
(C) 寇萊公因母親管教過嚴而濺血，故自暴自棄  
(D) 母親投秤錘擊傷寇萊公，母逝後公仍怒不可遏。
- ( ) 《聲音鐘》作者對叫賣聲的深切觀察與情感，近似於下列哪一段文字？  
(A) 我們每天住在盒子一樣的樓房裡，坐在盒子一樣的汽車裡，吃盒子一樣的便當  
(B) 如果你住在花蓮，你一定聽過一位歐吉桑，推著腳踏車在街上急促地叫賣：「麻——糰，麻糰、麻糰哦！」……對我而言，他的麻糰已經成為整個童年與鄉土的象徵了。  
(C) 髮的速度是花與月的速度，或繁或疏，或肥或瘦，在不知不覺中變化你的情緒  
(D) 我知道坐在教室裡的我的五十位學生是五十本不同的旅遊指南，指向五十座不同的城。
- ( ) 「【記者何敏琳／和平報導】雪管處表示，又到了螢火蟲飛舞的季節。在人們大量使用農藥、開發土地、汙染河川的情況下，螢火蟲的食物大減，其喜愛棲息的溼地也被剝奪。而電力開發的結果，夜間到處有照明設施，也影響了螢火蟲的傳宗接代。生命短促的螢火蟲失去棲息空間後，若不及時復育，恐難逃滅絕命運。」由這則新聞可知，下列何者不是危害螢火蟲生存的因素？  
(A) 夜間的照明設備 (B) 螢火蟲的生命短促  
(C) 溼地大量減少 (D) 土地過度的開發利用。
- ( ) 白居易〈烏〉：「莫道群生性命微，一般骨肉一般皮。勸君莫打枝頭鳥，子在巢中盼母歸。」這首詩展現的情懷，與下列何者最相近？

(A) 仁民愛物 (B) 感時傷逝 (C) 潔身自愛 (D) 同甘共苦。

6. ( ) 「海上垃圾桶的概念始於兩位衝浪者，他們在世界各地目睹聚集在碼頭的大量汙染物，故而想改善這個現象。海上垃圾桶是由大型纖維網製成，架設於碼頭附近且漂在海面上，以收集不同尺寸的汙染物，最小可攔住直徑 2 mm 的浮動碎屑，當發生溢油事件時，也能派上極大的用場。」依據這段文字，下列關於海上垃圾桶的作用何者正確？
- (A) 收集海底的垃圾 (B) 預防溢油事件發生  
(C) 攔截沿海的汙染物 (D) 清除所有尺寸的垃圾。

六、題組：(每題 2 分，共 18 分)

(一)

說起冬天，忽然想到豆腐。是一「小洋鍋」(鋁鍋)白煮豆腐，熱騰騰的。水滾著，像好些魚眼睛，一小塊一小塊豆腐養在裡面，嫩而滑，彷彿反穿的白狐大衣。鍋在「洋爐子」(煤油不打氣爐)上，和爐子都熏得烏黑烏黑，愈顯出豆腐的白。這是晚上，屋子老了，雖點著「洋燈」，也還是陰暗。圍著桌子坐的是父親跟我們哥兒三個。「洋爐子」太高了，父親得常常站起來，微微地仰著臉，覷著眼睛，從氤氳的熱氣裡伸進筷子，夾起豆腐，一一地放在我們的醬油碟裡。我們有時也自己動手，但爐子實在太高了，總還是坐享其成的多。這並不是吃飯，只是玩兒。父親說晚上冷，吃了大家暖和些。我們都喜歡這種白水豆腐，一上桌就眼巴巴望著那鍋，等著那熱氣，等著熱氣裡從父親筷子上掉下來的豆腐。

無論怎麼冷，大風大雪，想到這些，我心上總是溫暖的。(朱自清 冬天)

- ( ) 1. 根據本文，作者的父親為何「仰著臉，覷著眼睛」？
- (A) 天氣太冷 (B) 笑得很開心  
(C) 室內的燈光太暗，視線不清楚 (D) 鍋子太高，要站起來從熱氣中夾豆腐。
- ( ) 2. 根據本文，下列敘述何者錯誤？
- (A) 「魚眼睛」形容滾水所冒的泡  
(B) 「反穿的白狐大衣」指的是白色的鋁鍋  
(C) 「這並不是吃飯，只是玩兒」理由是坐著等父親送上熱豆腐  
(D) 「我心上總是溫暖的」，原因是和家人聚在一起吃豆腐鍋。
- ( ) 3. 本文中的「小洋鍋」、「洋爐子」、「洋燈」，都帶有「洋」字。其共同點最有可能是下列何者？
- (A) 比較貴重 (B) 需要插電 (C) 最新的產品 (D) 由外國引進的。

(二)

我是市場養大的孩子，每次前往菜市場時，最熟悉的感受就是亂糟糟的喊賣聲，市場的喊賣聲各有特色，無所不喊，有時甚至使用擴音器小喇叭，每個攤位各用奇招，這樣的喊賣聲起起落落，也是市場永遠熱鬧的一大因素。

喊賣是有學問的，既不能一開口就得罪顧客，又要第一時間吸引注意。第一線的攤商們喊賣具有特色，不但有經典口號，甚至引領潮流。無論臺語國語，文言白話都具有對應特色：幾乎來市場的女性都可叫做媽媽；有些攤商自己年輕，看到四十歲女人全部叫妹妹，年紀大的叫姐姐，即使頭髮全白也只能叫做大姐；遇見五十歲以下男人叫帥哥，頭髮全白的阿公即叫大哥叫爸爸。

要叫阿公阿媽，那必須先等買過東西，確認過對方不介意再開始這樣叫，在市場叫年輕了還能道歉撒嬌，沒人會因為被叫年輕而真的生氣，這種說錯話可以自然可以故意，能

和顧客多說話就有機會再上門。

有的喊賣聲經典而深刻，「來唷來唷俗俗賣唷！」短、促、剛、強、準無一不有，這種經典叫賣值得回味再三，一聽就感覺到臺灣；有的叫賣聲如同電影開場口白「今仔日到這就是要乎各位媽媽尚好ㄟ……」，邊說邊動手展示商品的優越做起業務生意；有些說唱俱佳，直接演起臺灣殺價法欲拒還迎「五百？免！三百？免！三支兩百乎哩送厝邊」，這都能圍著一群人自爽自演，這些喊賣聲在整個吵雜卻又如此鮮活的市場中點綴。小商小販的即興口白舞臺也就這樣自我展現。

這些能喊賣的攤商多是夫妻搭檔，有時兄弟或是姐妹也會前來，市場這樣的地方海納百川，一個霹靂腰包或斜背包掛上，裡面滿滿零錢就可以各顯本事。喊賣的主力必須大聲招攬，時不時的觀察客戶，精準描述並且吸引即將過路的人是一大技能。

(林立青 我很喜歡市場的喊賣聲)

- ( ) 4. 由本文可知，市場永遠熱鬧的一大因素是什麼？
- (A) 販賣的東西多又好吃 (B) 市場的喊賣聲各有特色  
(C) 價格親民便宜又不欺 (D) 男女老少都喜歡菜市場。
- ( ) 5. 由本文可知，下列敘述何者錯誤？
- (A) 頭髮全白的女性也只能叫做大姐  
(B) 第一線的攤商們喊賣具有特色，引領潮流  
(C) 這些能喊賣的攤商多是朋友搭檔  
(D) 小販即興口白舞臺的自我展現。

(三)

到了距雪蘭莪河口不遠的沼澤地，那裡早已是名聞遐邇的賞螢勝地。河道兩側的澤地裡雜錯地長著棕櫚及紅樹。螢火蟲在紅樹叢裡棲息和求偶，凡有紅樹之處，就螢火點點，恍若繁星。

乘坐電動小舢舨，沿著河道一路上行，兩側樹叢迤邐，棕櫚樹不為螢火蟲喜愛，在夜色裡一片幽黑。但紅樹則否，它們被閃爍的螢光裝點得一片燦然，有些甚至有如耶誕樹那樣的火樹銀花。幾百萬或幾千萬隻螢火蟲，一路明滅起伏，真是自然奇觀。舢舨碼頭的小房間有本留言簿，有個遊客這樣寫道：「看到這麼多螢火蟲，想哭！」

有時微風吹過，螢花飛舞，會落在薄衣上，彷彿一種私密的迎迓和邂逅。駕駛舢舨的船工說，近年來那裡的螢火蟲已比以前少，由此可以想像它在以前是何等盛況。

那晚的賞螢是次奇特的經驗，彷彿穿過幽暗河道，闖入一個充滿神祕的光之國度，它訴說著業已消失的繁華。坐在舢舨上，水面無波，四周靜謐，只有閃亮的螢光是唯一的聒噪，看著看著，人都彷彿在光裡醉了。

(南方朔 雪蘭莪河口螢火如燈)

- ( ) 6. 根據本文，下列敘述何者正確？
- (A) 「螢火點點，恍若繁星」是寫螢火蟲聚集在棕櫚樹下的情景  
(B) 紅樹被閃爍的螢火蟲裝扮得有如耶誕樹  
(C) 火樹銀花是形容螢火蟲在空中四散紛飛的奇景  
(D) 文中「想哭！」一語是說螢火蟲日漸稀少，不覺悲從中來。
- ( ) 7. 「有時微風吹過，螢花飛舞，會落在薄衣上，彷彿一種私密的迎迓和邂逅。」這種情境，可用下列何句加以形容？
- (A) 未足臨書卷 (B) 拂木若花生 (C) 騰空類星隕 (D) 時能點客衣。

(四)

近日，烏克蘭好不容易從俄軍手中奪回馬卡里夫 (Makariv)，這是個位於基輔近郊約60公里處，相對落後的城鎮。馬卡里夫缺乏基礎建設、商業活動、醫療設備或是軍事設施，幾週前，頻頻遭受到俄軍的襲擊。

如今，基輔聚集了來自烏克蘭及世界各地想救援馬卡里夫的人們，各式物資也持續送入，從防彈衣、無線電、食物、衣服到急救包等。即便承擔著隨時可能被砲擊或是受重傷的風險，熱心的志工們無不希望第一線的士兵及身處基輔州 (Kyiv Oblast) 郊區的民眾，能好好存活到勝利之日。

「大家現在都變得很自私，但我希望能用溫柔和善意的行動調和緊繃的氛圍，在這個時刻，能幫助人是好事。」20歲的伊莉莎白 (Elizabeth) 正坐在公寓房間裡用著筆電，希望能協助一切流程更有效率的進行，不論是物資蒐集、配送或是人力調度。

在公寓的另一處，氣氛則有些不同。

20歲的約翰是人道救援行動的司機，他正在陽台上和他的家人、朋友講電話，一邊點煙、再熄了菸，他等等準備要上路。站在他身旁的，是一名護衛，手持一把萊福槍，他也正做著相同的事情——點煙、熄菸。前往馬卡里夫救援的路程很漫長，護衛們開著5輛車駛過無數個檢查哨，這些檢查哨嚴格監控著一切物資的進出，只要有任何可能對烏克蘭的軍方造成威脅的物品出現，將一律摧毀。此外，車上乘客的護照、身分證明被一一檢查，車輛的零組件也要經過檢驗，司機們會被軍方質問為何要開往其他城市，但這都不是最可怕的部分。

公路旁是一整排的房子，在路途中，我們可以看到無數俄軍侵略過的痕跡，不只是被破壞的建築，還有滿身是傷、甚至喪命的烏克蘭民眾。殘忍的每一幕，都和俄軍大力宣傳的狀況南轅北轍。

從普丁政府下令攻打烏克蘭、粉碎歐洲和平的現況至今，已超過一個月，而普丁總是告訴俄羅斯人民，「我們是要幫助烏克蘭非軍事化 (demilitarise) 和去納粹化 (de-Nazify)。」

隨著俄軍持續的轟炸，烏克蘭的傷亡人數也不斷攀升，城市遭到毀壞、數以百萬計的難民在其他的國家流亡。

國際上的持續制裁以及譴責，無不嘗試要阻止莫斯科對烏克蘭的入侵。

儘管雙方嘗試要擬定停火協議及開啟人道走廊，但這場戰爭何時會畫下句點、如何畫下句點，我們不得而知。

不過，可以確定的是，國際上對俄軍的「戰犯」指控，並非無憑無據，我們每日在基輔所見，那些怵目驚心、斷垣殘壁的畫面，就是證明。

(節錄自公視新聞網 戰地之聲：烏克蘭仍在人間)

( ) 8. 根據本文，下列說明何者錯誤？

- (A) 由第一段可知近日馬卡里夫不斷遭受到俄軍襲擊
- (B) 由第二段可知各式各樣的物資從馬卡里夫運出去
- (C) 由第三段可知伊莉莎白坐在公寓裡安排物資運送等各項整理事宜
- (D) 由第四段可知約翰冒著生命危險在運送物資。

( ) 9. 根據最末段的文意，下列何者最適合說明作者對這場戰爭的看法？

- (A) 這一切都是假新聞，烏俄戰爭根本沒開打
- (B) 儘管戰爭仍在進行，但國際找不到任何證據去證明任何一方的迫害
- (C) 俄國恐怕難逃國際輿論，因為那些怵目驚心、斷垣殘壁的畫面，就是證明
- (D) 這場戰爭很快就會畫下句點了。

試題結束

※請注意，答案卷在背面，請在後方作答。

一、國字注音：(每題 1 分，共 10 分)

1	2	3	4	5	6	7	8	9	10

二、解釋：(每題 2 分，共 20 分)

1.		2.	
3.		4.	
5.		6.	
7.		8.	
9.		10.	

三、成語配合題：(每題 1 分，共 10 分)

1	2	3	4	5	6	7	8	9	10

四、單選題：(每題 2 分，共 30 分)

1	2	3	4	5	6	7	8	9	10
11	12	13	14	15					

五、閱讀題：(每題 2 分，共 12 分)

1	2	3	4	5	6				

六、題組：(每題 2 分，共 18 分)

1	2	3	4	5	6	7	8	9	



**請交答案卷即可**

一:聽力測驗題: 辨識句意-根據聽到的內容, 選出正確的圖片代碼: 10% (每題二分)

( ) 1. (A)



(B)




(C)




( ) 2. (A)

X O




(B)

X O



(C)

X O



( ) 3. (A)



(B)



(C)



( ) 4. (A)



(B)



(C)



( ) 5. (A)



(B)



(C)



二: 填充 30%

A: 介係詞填充; 若不必加介係詞便打 X (每題一分)

- ☺ The word means dirty 1. English.
- ☺ The Bio-Buses can go from Magong 馬公 to Xiyu 西嶼 2. a tank of gas 3. poop and waste.
- ☺ Green energy is good 4. the Earth.
- ☺ My parents have to take me home from school 5. noon 6. every Wednesday.
- ☺ I put the rice noodles 7. a screen and dry it 8. the sun.
- ☺ Look! These two boxes are different 9. each other.
- ☺ **F** comes 10. **E** in the alphabetical order 英文字母順序

B: 字彙填空 (每題二分)

- ☺ 今天是 Samantha 25 歲生日。  
Today is Samantha's 11 birthday.
- ☺ Don't play ball on the s-12-t. It's not safe.

- ☺ It rains a lot in the mountain **a-13-a**.
- ☺ We have special **c-14-ns** during 期間 the Chinese New Year.
- ☺ We use **c-15-l** paper to wrap 包 the Christmas gifts.
- ☺ Wash your own 自己的 **u-16-r**. I don't want to do it for you.
- ☺ Food and water are the basic 基本的 **h-17-n** needs.
- ☺ Can you tell me your **f-18-l** name and phone number?
- ☺ Simon likes to **c-19-t** toy cars. He has many now.
- ☺ We can give our old **c-20-s** to a charity to help people.

三: 選擇題 30% (每題二分)

- ☺ We have 1. bread, ham, and cheese here. We can make some sandwiches.  
(A)many (B)much (C)a lot (D)any
- ☺ 2. is the third day of the week.  
(A)Sunday (B)Monday (C)Tuesday (D)Friday
- ☺ The shop doesn't open 3.  
(A)on every weekends (B)in Sunday afternoon (C)at summer (D)on January 1st
- ☺ There 4. some apple juice on the table.  
(A)is (B)are (C)has (D)have
- ☺ **Anna:** 5.  
**Tracy:** She only has two sons.  
(A)How many child does Karen have?  
(B)How many children does Karen has?  
(C)How much children does Karen have?  
(D)How many children does Karen have?
- ☺ Tomorrow is my birthday, so I will 將會 invite 6. of my friends to join my birthday party.  
(A)little (B)a little (C)few (D)a few
- ☺ We need 7.  
(A)three dozen eggs (B)three dozens eggs  
(C)three dozen of eggs (D)three dozens egg
- ☺ **Joseph:** 8.  
**Anita:** Yes. It's the Indian New Year.  
(A)What do you do? (B)How do you celebrate Holi?  
(C)Is Holi a holiday? (D)What's Holi?
- ☺ **Max:** 9. do you need?  
**Kathy:** I am not that hungry. One, please.  
(A)How much cups of coffee  
(B)How many milk tea  
(C)How much beef noodles  
(D)How many pieces of pizza
- ☺ **Vivian:** How's your day? Is everything all right?  
**Alex:** Yes, 10. How about you?  
**Vivian:** I am good. Thank you.  
(A)be a volunteer (B)all is well (C)I get it (D)let's get our hands dirty
- ☺ First, clean the poop. And then, boil 11.  
(A)these (B)this (C)it (D)them

**Kevin:** Look at my cool GORORO Scooter 機車, an electronic 電的 scooter. It 12. power from electricity 電.

**Judy:** Why do you like this kind of scooter?

**Kevin:** It is eco-friendly 環保的. 13., it saves energy, too.

12. (A) takes (B) puts (C) gets (D) makes

13. (A) For example (B) Next (C) First (D) In other words

There are many kinds of green energy in Taiwan, such as water, wind, and solar 太陽的 energy. With the green energy, our mother Earth can be healthy and clean. That is why Taiwan plans to subsidize 補助 setting 設置 rooftop solar panel 屋頂太陽能面板. From 2018 to 2020, the government 政府 can give money to set the panels at the factories 工廠, the cities 城市, and the houses in the country 城鎮. This way, we can make more green energy and people can also sell electricity 賣電 back to Taipower Company 台電. The panels may be a high price 高價 at first, but it is important 重要的 to protect 保護 our Earth. Making green energy is the way to make 使 the world better 更好的.

14. What is NOT right about green energy?

- (A) It can make people get money from Taipower Company.
- (B) It can make the Earth clean.
- (C) It can make the government have a lot of money.
- (D) It can make the Earth healthy.

15. Why does the government want 想要 people to set the solar panels?

- (A) To make the houses beautiful.
- (B) To be good to the Earth.
- (C) To make people happy.
- (D) To make the Taipower Company have a lot of money.

Gina and Billy are buying food in a supermarket 超級市場. Here is their shopping list 清單.

*Shopping List*

Milk *3 bottles	\$225
Cookies *1 bag	\$30
Cola *5 cans	\$100
Grape juice * 4 cartons 罐	\$120
Coffee *8 cans	\$160
Bread *2 pieces	\$60

16. How much is a bottle of milk?

- (A) \$65. (B) \$75. (C) \$85. (D) \$225.

17. Gina wants more coffee. She wants ten cans.

How much are ten cans of coffee?

- (A) \$20. (B) \$40. (C) \$160. (D) \$200.

18. How many kinds of drinks are on the list?

- (A) 2. (B) 3. (C) 4. (D) 5.

19. How much do we need to buy all drinks and food?

- (A) Five hundred seventy-five dollars.
- (B) Six hundred eighty-five dollars.
- (C) Six hundred ninety-five dollars.
- (D) Seven hundred dollars.

20. Billy is thirsty. What DOESN'T he want?

- (A) Cola. (B) Grape juice. (C) Coffee. (D) Bread.

四. 寫作練習 ; 請根據提示作答 20% (每題二分)

【試題結束—文光國中七年級英文】

## 請交答案卷即可

一：聽力測驗題：辨識句意      10% (每題二分)

1.	2.	3.	4.	5.
----	----	----	----	----

二：填充題      30% (1-10 每題一分; 11-20 每題二分)

1.	2.	3.	4.	5.
6.	7.	8.	9.	10.
11.	12.	13.	14.	15.
16.	17.	18.	19.	20.

三：選擇題      40% (每題二分)

1.	2.	3.	4.	5.	6.	7.	8.	9.	10.
11.	12.	13.	14.	15.	16.	17.	18.	19.	20.

四. 寫作練習      20% (每題二分)

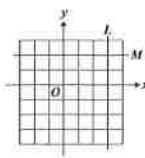
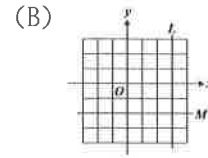
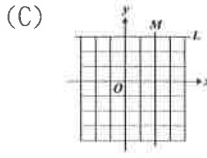
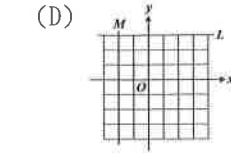
- 復活節 Easter 今年在四月的第三個星期日。(請翻成英文; 勿寫阿拉伯數字)
- Which color do you like, purple, black, or orange?* (請依事實回答, 並利用草寫詳答)  
\_\_\_\_\_
- How much water does Samantha need? (請以半桶水詳答)
- In Thailand, what is Songkran? (請依事實詳答)
- What kind of green energy do we have in Penghu? (請依事實詳答)
- Do people in Taiwan wear white clothes on the Chinese New Year? (請依事實詳答)
- Jennifer drinks two bottles of cola every day. (請造原問句)
- 信不信由你, 他們沒有任何共同點。(請翻成英文)
- Animal poop can build houses. (請利用草寫寫下句子)  
\_\_\_\_\_
- is/ birthday/ Her/ September/ on/ twenty-third/ Monday/ , / . (句子重組)

一、選擇題(每題 4 分，共 28 分)

( ) 1. 下列哪一個方程式的圖形會通過原點？

- (A)  $3x+5y=7$  (B)  $\frac{1}{3}y=-2x$  (C)  $-x+3y=11$  (D)  $y=\frac{7}{6}x-2$

( ) 2. 已知直線 L 的方程式為  $x=3$ ，直線 M 的方程式為  $y=-2$ ，判斷下列何者為直線 L、直線 M 畫在坐標平面上的圖形？

- (A)  (B)  (C)  (D) 

( ) 3. 下列敘述中， $x$ 、 $y$  成反比的選項為何者？

- (A) 全班 36 人的數學小考，及格  $x$  人，不及格  $y$  人  
 (B) 每 100 公克價格為 25 元的魚，魚的重量  $x$  公克，其價格為  $y$  元  
 (C) 高為 50 公分的三角形，其面積為  $x$  平方公分，底為  $y$  公分  
 (D) 體積為 60 立方公分的長方體，其高為  $x$  公分，底面積為  $y$  平方公分

( ) 4. 若  $a:b=3:4$ ，則下列關係式何者錯誤？

- (A)  $4a:5b=3:5$  (B)  $\frac{1}{a}:\frac{1}{b}=4:3$  (C)  $a^2:b^2=3:4$  (D)  $(4a+3b):(2a-b)=12:1$

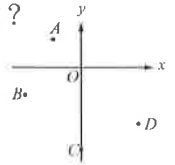
( ) 5. 媽媽準備了紅茶、鮮奶及若干個完全相同的杯子，並將所有的紅茶及一部分的鮮奶以 3:1 的體積比混合成鮮奶茶。若

鮮奶茶剛好倒滿 6 個杯子，而剩下的鮮奶剛好倒滿 4 個杯子，則媽媽準備的紅茶與鮮奶的體積比為何？

- (A) 1:1 (B) 3:5 (C) 6:4 (D) 9:11

( ) 6. 如右圖，坐標平面上有 A、B、C、D 四點。根據圖中各點位置判斷，哪一個點在第二象限？

- (A) A (B) B (C) C (D) D



( ) 7. 陳群將他兩個名牌包包在網路上皆用 49500 元賣出，其中一個包包賺了原價的 10%，另一個賠了原價的 10%，請問他最後是賺或賠？

- (A) 賠 1000 元 (B) 賠 1200 元 (C) 不賺不賠 (D) 賺 1000 元

二、填充題(每題 4 分，共 48 分)(需化至最簡分數)

1. 坐標平面上， $L:3x-by+18=0$  通過 A(-4, 3)，試求：

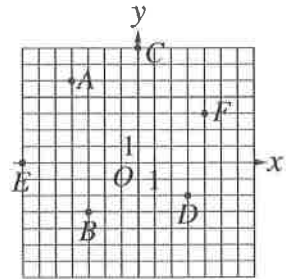
- (1)  $b = \underline{\hspace{2cm}}$ 。 (2) 直線 L 不通過第          象限

2. 求下列各比例式中的  $x$  值：

- (1)  $12:x=9:12$ ， $x = \underline{\hspace{2cm}}$   
 (2)  $(x+1):4=(3x+6):14$ ， $x = \underline{\hspace{2cm}}$

3. 如右圖，寫出以下的坐標：

- (1) C 點坐標為          (2) 由坐標          向右 3 格，向下 4 格會到達 B 點



4. 如果  $x=5$  時， $y=16$ ，請回答下列問題：

- (1) 設  $x$  與  $y$  成反比，當  $x=10$  時， $y = \underline{\hspace{2cm}}$  (2) 設  $x$  與  $y$  成正比，當  $x=10$  時， $y = \underline{\hspace{2cm}}$

5. 現有大圓和小圓，大圓半徑為  $R$ ，小圓半徑為  $r$ ，已知  $R:r=13:9$ ，則大圓面積：小圓面積 =         

6. 若  $x:y=5:4$ ，且  $2x-y=18$ ，求  $x+y = \underline{\hspace{2cm}}$

7. 直角坐標平面上， $A(3, 4)$ ， $B(-3, 2)$ ， $C(1, -3)$ ，求三角形 ABC 的面積 =

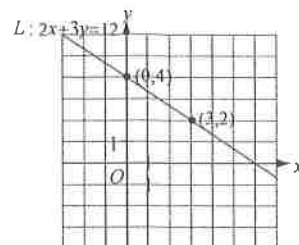
8. 文光國中福利社歷史悠久，其中有不少長青的熱賣商品，其中，廣告詞「熟悉的麥香最對味」的麥香奶茶長年都在熱賣排行榜前幾名，右圖是陳群從文光福利社買的麥香奶茶的營養標示，如果陳群這禮拜喝文光國中福利社買的麥香奶茶並從中攝取 2.7 克的蛋白質，那陳群這禮拜從文光國中福利社喝了\_\_\_\_\_毫升的麥香奶茶

營養標示		
每一份量 300 毫升	本包裝含 1 份	
	每份	每 100 毫升
熱量	118 大卡	39.4 大卡
蛋白質	0.9 公克	0.3 公克
脂肪	0.6 公克	0.2 公克
飽和脂肪	0.6 公克	0.2 公克
反式脂肪	0 公克	0 公克
碳水化合物	27.3 公克	9.1 公克
糖	26.1 公克	8.7 公克
鈉	51 公克	17 公克

三、計算及應用題(每小題 4 分，共 24 分)(需寫計算過程，並化至最簡分數)

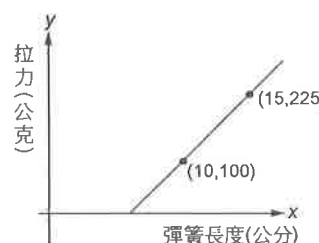
1. 在坐標平面上畫出二元一次聯立方程式  $\begin{cases} 2x+3y=12 \\ x-3y=6 \end{cases}$  中兩個方程式的圖形，並回答下列問題：

(1) 求出兩個二元一次方程式圖形的交點坐標。(2)於右圖畫出  $x-3y=6$  的圖形。

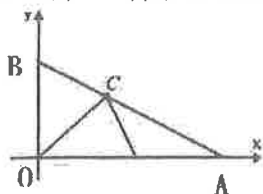


(3) 求出這兩個二元一次方程式的圖形與 y 軸所圍成區域的面積

2. 英國科學家虎克於西元 1678 年提出著名的虎克定律：在彈性限度內，當固體材料受力之後，材料所受之力與變形量之間成線性關係。依據虎克定律，彈簧秤在其彈性限度下時，拉力 y 與彈簧秤長度 x 關係為二元一次方程式  $y=ax+c$ ，其圖形為一直線。有一彈簧秤在其彈性限度下，經過二次測量，拉力與彈簧長度的關係如右圖，求彈簧秤原來長度為多少公分？



3. 如圖，三角形 OAB 被分為三個等面積的三角形，其中  $A(8, 0)$ ， $B(0, 3)$ ， $C(a, b)$ ，則  $a+b=?$



4. 有濃度為 2.6% 的糖水若干公克，加入 n 公克清水後，糖水濃度變成 2%。若再加入 n 公克清水後，則糖水濃度會變成多少%？(換算成百分比後，以四捨五入計算至小數點以下第二位) (糖水濃度 = (糖重量) / (糖重量 + 清水重量) \* 100%)

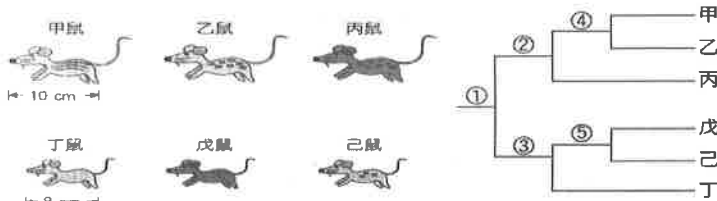
澎湖縣立文光國民中學 110 學年度第二學期第二次段考七年級自然科試卷

單選題 (每題 2 分, 共 100 分)

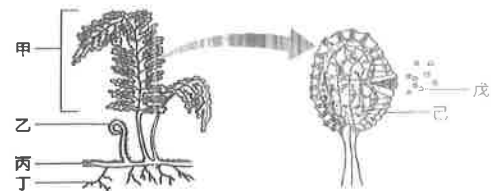
班級: 座號: 姓名:

讀卡  答案卷

- ( ) 下列有關地球生物演化方向的敘述, 何者不正確? (A)構造由簡單演化為複雜 (B)由單細胞生物演化為多細胞生物 (C)由水生生物演化出陸生生物 (D)由多數物種演化到少數物種
- ( ) 下列關於化石的敘述, 何者不正確? (A)可由生物遺體經長時間地質作用而形成 (B)恐龍腳印不屬於化石 (C)可用來認識古生物的形態 (D)可用來推測地球環境的變化。
- ( ) 關於「學名」的敘述, 下列何者正確? (A)國際學術交流時以拉丁文書寫, 在國內則以本國文字書寫 (B)可以表達出生物的體型與食性關係 (C)由屬名與種小名組成 (D)組成學名的兩個字, 字首都需要大寫。
- ( ) 近年常有腸病毒所引起之疾病, 造成許多嬰幼兒死亡。下列有關引起此疾病病原的敘述, 何者錯誤? (A)體內有遺傳物質 (B)外有細胞膜, 內有細胞核和細胞質 (C)一定要在活細胞內才能繁殖 (D)和引起愛滋病的病原屬於同類。
- ( ) 科學家將附圖六種野鼠建立了一個檢索表, 分類如下, 請依表選出正確的敘述為何?



- (A)表中①處是根據耳朵的長度分類 (B)表中②處是根據體毛顏色分類 (C)表中③處是根據體型大小分類 (D)表中⑤處是根據尾巴長短分類。
- ( ) 下列關於藍綠菌的敘述, 何者錯誤? (A)不具有核膜及細胞核 (B)具有葉綠素、可行光合作用 (C)許多種類外部具有黏滑的膠質 (D)屬於原生生物界。
  - ( ) 下列關於真菌界生物的敘述, 哪一項是正確的? (A)多為單細胞生物 (B)個體多由菌絲構成 (C)具細胞壁和葉綠體 (D)利用種子繁殖。
  - ( ) 若將藻類、蘚苔、蕨類、種子植物四種生物依附圖的檢索表加以分類, 則下列何者為其分類依據? (A)種子的有無 (B)維管束的有無 (C)花的有無 (D)葉片角質層的有無。
- 藻類、蘚苔  
— 蕨類、種子植物
- ( ) 觀察附圖中的生物時, 並不會在其身上發現下列哪一個構造? (A)種子 (B)孢子 (C)葉子 (D)根。
  - ( ) 下列關於裸子植物的敘述, 何者正確? (A)蘇鐵會開花 (B)松子是松樹的果實 (C)雲杉的雌球果內有胚珠, 成熟後會隨風落在花粉粒上, 受精發育成種子 (D)柏樹的球果有雌雄之分, 雌球果較大。
  - ( ) 沒有脊椎骨的動物中, 哪一個動物門的物種種類最多? 哪一個動物門中有成員可行出芽生殖? 甲.刺絲胞動物門、乙.扁形動物門、丙.節肢動物門、丁.棘皮動物門 (A)丙; 甲 (B)乙; 丙 (C)丙; 乙 (D)丁; 丙。
  - ( ) 下列特徵中, 哪一項是爬蟲類比兩生類更能適應陸生環境的原因之一? (A)體溫恆定 (B)體表有鱗片或骨板 (C)體外受精 (D)卵不具卵殼。
  - ( ) 植物有助於水土保持的原因為何? 甲.植物的根能夠抓住土壤。乙.有些植物的根和根瘤菌共生, 進而利用環境中的氮氣。丙.植物葉片能阻擋雨水直接沖刷地表。丁.植物的莖具有維管束, 可將養分運輸至需要的部位。 (A)甲乙丙丁 (B)甲乙丙 (C)乙丙丁 (D)甲丙。



14. ( ) 關於植物與空氣環境的描述，下列何者正確？ (A)植物能夠透過光合作用吸收二氧化碳，釋放氧氣 (B)植物的蒸散作用能減少空氣中的懸浮微粒 (C)所有植物皆能有效分解空氣中對人體有害的物質 (D)植物能透過呼吸作用，減少空氣中的甲醛。
15. ( ) 馬為了適應草原生活所產生的構造變化中，下列何者無法由化石得知？ (A)體型越來越大 (B)前肢腳趾數由四趾變為單趾 (C)牙齒咀嚼面越來越大 (D)小腸越來越長。
16. ( ) 下列哪些生物所遺留下來的東西，我們可以稱之為「化石」？甲.恐龍的糞便；乙.古生物在岩壁上所留下的爬痕；丙.三葉蟲棲息所留下的凹槽；丁.爺爺年輕時所掉落的牙齒；戊.始祖鳥的羽毛。 (A)僅有甲乙丙戊 (B)僅有甲乙丙 (C)僅有乙戊 (D)甲乙丙丁戊。

【題組】在墾丁國家公園內的社頂自然公園，發現許多含有貝類化石的珊瑚礁岩。請根據此現象，回答 17~18 題：

17. ( ) 請問這些貝類化石是如何產生的？ (A)民眾來此遊玩，遺留下來的 (B)因海浪拍打，從海底沖上來的 (C)因地層變動，從海底上升所帶上來的 (D)這些貝類已能離水生活，自己爬行上來的。
18. ( ) 根據含有貝類化石的珊瑚礁岩來推論，社頂自然公園的早先環境，可能具有什麼特點？ (A)和現在一樣，沒有任何變化 (B)以前是一塊平地 (C)以前是一個寒冷的深海海域 (D)以前是一個溫暖且清澈的淺海海域。
19. ( ) 郊狼的學名為 *Canis latrans*，灰狼的學名為 *Canis lupus*，斑貓的學名為 *Felis silvestris*。則由學名判斷哪兩者的親緣關係比較相近？ (A)郊狼、斑貓 (B)灰狼、斑貓 (C)郊狼、灰狼 (D)無法判斷。
20. ( ) 「騾」是由馬和驢以人工受精的方式產生，不具生殖能力。有關以上三種生物的敘述，何者正確？ (A)馬和驢同種，但與騾不同種 (B)馬、騾和驢三者為同種生物 (C)馬和驢不同種 (D)馬和騾同種，但和驢不同種。


21. ( ) 在分類上，狼、狐、豹、鯨四種動物和犬的關係如表，則犬和何者的親緣關係最接近？ (A)狼 (B)狐 (C)豹 (D)鯨。

狼	同屬不同種
狐	同科不同屬
豹	同目不同科
鯨	同綱不同目

22. ( ) 下列各分類階層中，哪一個階層包含生物種類最少？ (A)動物界 (B)食肉目 (C)兩生綱 (D)脊索動物門。

23. ( ) 下列哪些不是真核生物？甲.桿菌；乙.藍綠菌；丙.黏菌；丁.草履蟲；戊.單胞藻。 (A)甲乙丙 (B)丁戊 (C)甲乙 (D)乙丙。

24. ( ) 附圖是某類生物的三種不同形態，由左到右依序為桿狀、球狀、螺旋狀，則該生物可能是下列何者？ (A)細菌 (B)真菌 (C)病毒 (D)矽藻。



25. ( ) 已知「紅潮」是因為藻類大量繁殖，而造成了水生生態被破壞的現象，試問造成此現象的生物具有下列何項特徵？ (A)不具有核膜 (B)能行光合作用 (C)以攝食其他微生物維生 (D)體內只有葉綠素，而沒有其他色素。

26. ( ) 附圖為草履蟲，下列有關草履蟲的描述何者正確？甲.屬於原生生物中的原生動物；乙.不具有細胞核及細胞膜；丙.為多細胞生物；丁.可行無性生殖；戊.靠體表的纖毛來運動。 (A)甲丙丁戊 (B)乙丙戊 (C)乙丙丁 (D)甲丁戊。



27. ( ) 甲.香菇；乙.酵母菌；丙.木耳；丁.昆布。以上四種生物中哪一種生物與其他三者的親緣關係最遠？ (A)甲 (B)乙 (C)丙 (D)丁。

28. ( ) 遙香利用下頁圖一中的生物釀造小米酒，試問下列關於該種生物的敘述何者錯誤？ (A)此

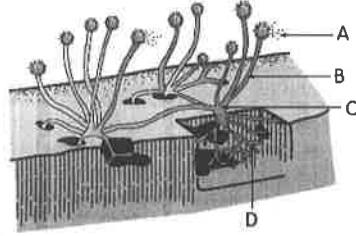


生物無法自行製造葡萄糖 (B)具有細胞壁、細胞核及葉綠體 (C)此生物為單細胞生物 (D)此生物正在進行出芽生殖。


29. ( ) 下列關於菇類的敘述，何者正確？ (A)是指大型的真菌 (B)所有有毒的菇類均是顏色鮮豔 (C)具有行光合作用的能力 (D)與蕈類分屬不同界的生物。
30. ( ) 下圖二為麵包上的某種生物，試問圖中何者可以隨風飄揚，到適當地點後又可以萌發成新個體？ (A)A (B)B (C)C (D)D。
31. ( ) 下圖三是某種植物的花，則該植物不具有下列何種特徵？ (A)葉脈為網狀脈 (B)精、卵結合須以水為媒介 (C)為種子植物 (D)種子有兩枚子葉。



圖一



圖二



圖三

32. ( ) 下列有關蕨類與蘚苔類之比較何者正確？

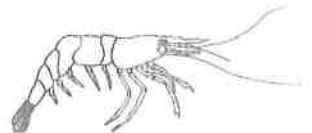
	蕨類	蘚苔類
(A)	有維管束	缺維管束
(B)	缺根、莖、葉	有根、莖、葉
(C)	生長在乾燥環境	生長在潮濕環境
(D)	行光合作用製造養分	以菌絲吸收有機養分

33. ( ) 種子植物之所以能稱霸植物界的主要原因為何？(A)具有維管束能有效率的運送氧氣及養分 (B)葉片表面特化出角質層，能防止水分的過度散失 (C)以種子繁殖，且種子能長期保存 (D)具有根、莖、葉的構造。
34. ( ) 圖為數種植物的生殖器官與營養器官示意圖，則下列配對何者不可能出現在同一植物體中？



選項	營養器官	生殖器官
(A)	乙	庚
(B)	丁	辛
(C)	甲	丙
(D)	乙	戊

35. ( ) 下列的「生物-特徵-分類」配對正確的為何？(A)珊瑚-具刺絲胞-棘皮動物門 (B)文蛤-體外附兩片外殼-軟體動物門 (C)蚯蚓-身體分節-節肢動物門 (D)蜈蚣-身體分節-環節動物門。
36. ( ) 根據動物的分類依據，蝙蝠和下列哪一種動物的親緣關係最為接近？ (A)老鷹 (B)飛魚 (C)翼手龍 (D)兔子。
37. ( ) 醫師呼籲民眾不要生食豬肉，以免誤食豬肉條蟲的卵。下列關於條蟲的敘述何者正確？ (A)腹背扁平，具有外骨骼 (B)有可保護身體的外殼 (C)具有神經 (D)屬於環節動物門。
38. ( ) 下列何種特徵並非與鳥類適應飛行有關？ (A)具有角質化且形狀多變的喙 (B)骨骼中空，堅硬但質輕 (C)眼睛具有透明瞬膜 (D)肺延伸出許多氣囊。
39. ( ) 小雯在溪中撈到了一隻動物，如附圖，則此種動物和下列何者的親緣關係最接近？ (A)水母 (B)渦蟲 (C)水蛭 (D)蜘蛛。



阻擋雨水直接沖刷土壤 (C)每一種植物對水土保持的作用都是相同的 (D)植物覆蓋越密集，水土保持的效果越好。

41. ( ) 下列何項行為較能減少山崩和土石流的發生機率？(A)集水區水質好，適合種植高經濟價值的農作物 (B)開發道路使交通更方便 (C)開發森林成為遊樂區 (D)維持原生的森林生態。
42. ( ) 關於植物對環境溫度的調節，下列敘述何者錯誤？(A)植物的蒸散作用可帶走環境中的熱 (B)人站在樹蔭下，感覺較涼快 (C)植物的根吸收了土壤中的水分，使地表更熱 (D)樹葉可遮陽，使地表降溫。
43. ( ) 大氣中的二氧化碳濃度越高，全球暖化的現象就會越嚴重，我們可以做哪些事來減緩全球暖化呢？甲.減少原始森林的砍伐；乙.控管工廠排出的廢氣量；丙.多使用私人交通工具如機車、汽車；丁.多種樹，增加城市的綠覆率。(A)甲乙丙丁 (B)甲丙丁 (C)甲乙丁 (D)甲丁

44. ( ) 小喬找到有關「小白鷺、中白鷺、大白鷺」的資料，並整理如附表所示。根據此表，成年的小白鷺學名應為下列何者？(A) *Egretta garzetta* (B) *Egretta intermedia* (C) *Ardea alba* (D) *Egretta alba*。

俗名	學名
小白鷺	<i>Egretta garzetta</i>
中白鷺	<i>Egretta intermedia</i>
大白鷺	<i>Ardea alba</i>

45. ( ) 已知仙人掌有針狀葉及肥厚可儲水的莖，並可開花結果。根據上述說明，有關仙人掌的分類及其依據，下列何者最合理？(A)屬於裸子植物，因具有果實 (B)屬於裸子植物，因具有針狀葉 (C)屬於被子植物，因具有花的構造 (D)屬於被子植物，因具有特殊功能的莖。

46. ( ) 某研究機構估計出臺灣各類別的植物物種數量百分比，如附表所示。根據此表分析，下列何者所涵蓋的植物物種數量百分比最合理？(A)雙子葉植物占 61.5% (B)不會開花的植物占 38.5% (C)沒有維管束的植物占 37.0% (D)可產生果實的植物占 63.0%。

類別	物種數量百分比
蘚苔植物	26.1%
蕨類植物	10.9%
裸子植物	1.5%
被子植物	61.5%

47. ( ) 小杰將五種臺灣特有種生物進行分類，如附表所示，甲、乙、丙、丁分別代表不同的分類依據，關於甲、乙、丙、丁的敘述，下列何者最合理？臺灣藍鵲為一種鳥類 (A)甲：是否為卵生動物 (B)乙：是否為體內受精 (C)丙：是否為卵生動物 (D)丁：是否為體內受精。



48. ( ) 有四支透明且密閉的試管，分別培養草履蟲、酵母菌、藍綠菌和大腸桿菌，已知此四支試管內皆含 CO<sub>2</sub>，但不含有機物，其他環境條件則皆適合上述生物的生存。在每日各 12 小時光照黑暗交替的情況下，下列哪種生物最可能在其試管內生長及繁衍子代？(大腸桿菌為細菌的一種) (A)草履蟲 (B)酵母菌 (C)藍綠菌 (D)大腸桿菌。
49. ( ) 在演化過程中，各類植物曾產生一些有利於適應陸地環境的構造。若依陸地植物演化的順序，推論種子、果實及維管束三構造出現的先後，下列何者最合理？(A)維管束→果實→種子 (B)維管束→種子→果實 (C)果實→種子→維管束 (D)果實→維管束→種子。
50. ( ) 都市因大量水泥覆蓋，常出現熱島效應，使居住變不易，為因應這種現象，我們可多種植植物協助環境降溫，請問下列何者可能是植物能降低溫度的原理？熱島效應：城市有密集的建築物與大量人工熱源，加上綠地面積較少，造成城市地區的氣溫比周遭地區還要高的現象。(A)濃密的樹蔭可減少陽光直射降低溫度 (B)植物的光合作用可吸收太陽能降低溫度 (C)綠色的葉片可反射大部分的陽光降低溫度 (D)植物的根可協助吸收土壤中的熱降低溫度。

班級：


姓名：

座號：

■讀卡 □答案卷

## 一、 單選題(1-15 題每題 2 分，共 30 分)

1. ( ) 報導指出：「印尼蘇門答臘島外海發生海底地震，引發強大海嘯，在印度洋和印尼沿岸造成 22 萬人喪生，其中包括印尼本地 16 萬 8 千人死亡。」從當時至今，陸續又發生數起地震，因地震而傷亡的狀況時有所聞。請問：印尼群島常發生地震的原因為何？  
(A)位於低緯度區 (B)屬板塊交界處 (C)流經洋流影響 (D)熱帶氣候居多。
2. ( ) 經濟學者據已開發國家的共同發展經驗，將一國的經濟發展歷程分成不同階段，多半依循著第一級產業→第二級產業→第三級產業的轉型模式。但印度的經濟發展模式與此歷程不甚相符，其產業轉型具何種特徵？ (A)由第一級產業→第二級產業 (B)由第三級產業→第二級產業 (C)由第三級產業→第一級產業 (D)由第一級產業→第三級產業。
3. ( ) 秀吟在馬來西亞參加沙巴神山健行之旅，聽導遊介紹每年 5~7 月是多雨季節，神山公園可能會封閉登頂最後一段路，以防意外發生，因為一過正午就雷聲陣陣，雨點劈頭蓋臉的打下來。請問：當地這種降水型態是受到下列哪一個因素影響？ (A)日照強對流旺盛 (B)迎風坡攔截水氣 (C)滯留鋒盤據溼潤 (D)低氣壓生成颱風。
4. ( ) 印度東北部的乞拉朋吉是世界降水量最多的幾個地區之一，此區的降水類型應為下列何者？



5. ( ) 東南亞國家協會以泰國南端為界線，分成北方的緬甸、越南、柬埔寨、寮國(北東協)，和南方的馬來西亞、新加坡、菲律賓、印尼、汶萊(南東協)。下列關於北東協與南東協的敘述何項為事實？ (A)地理區域 (B)主要氣候 (C)宗教信仰 (D)主要發展方向。

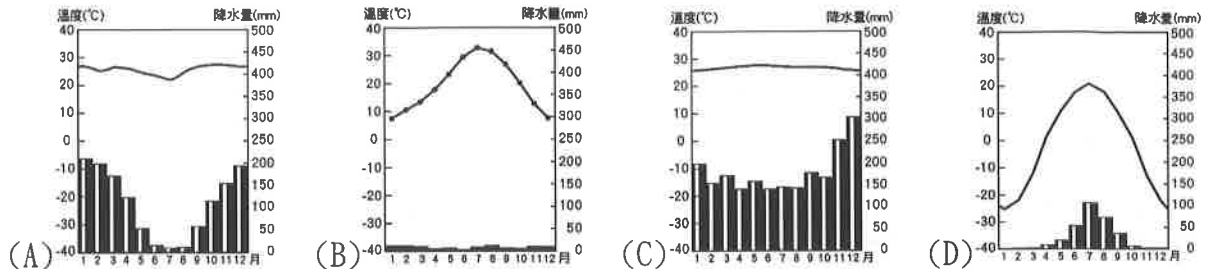
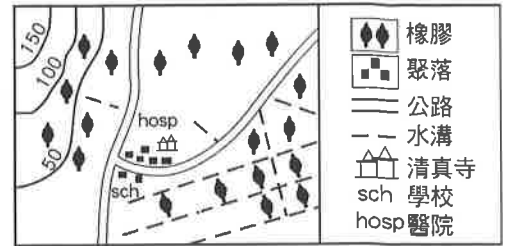
項目	北東協	南東協
地理區域	中南半島	南洋群島
主要氣候	熱帶雨林	熱帶季風
宗教信仰	伊斯蘭教為主	佛教較多
主要發展方向	經濟上推動不結盟運動	

6. ( ) 東南亞與南亞許多國家都以熱帶栽培作物作為主要的出口產品，此現象與這兩個區域的哪些共同點密切相關？ (甲)溼熱的氣候 (乙)眾多的人口 (丙)殖民的歷史 (丁)多樣的地形 (A)甲乙丙 (B)甲乙丁 (C)甲丙丁 (D)乙丙丁。
7. ( ) 下列何者是東南亞自由貿易區(AFTA)建立之後，可以明顯取得進步的區域經濟發展優勢？ (A)勞工薪資降低 (B)文化族群統一 (C)代工比例下滑 (D)消費市場擴大。
8. ( ) 「中南半島的地勢北高南低，山地與河川多源自亞洲大陸。」由上段文字可知，中南半島有下列何種情形？ (A)降水乾溼分明 (B)河川南北縱貫 (C)火山活動頻繁 (D)受種姓制度影響很深。
9. ( ) 婁萊想效法鄭和下西洋的情節，從中國南京出發，前往泰國，他應該利用下列哪一種風向航行？ (A)↘ (B)↗ (C)↙ (D)↖。
10. ( ) 許多伊斯蘭教國家把穆罕默德的生日訂為國定假日，全國均放假一天。而下列哪一個國家在當天仍須正常上班？ (A)泰國 (B)印尼 (C)馬來西亞 (D)汶萊。
11. ( ) 電影《世界是平的》為美國總公司將客服部門設立在印度所發生的故事。其中，有一幕臺詞：「明天是星期日，美國客服不上班，你(印度)星期一客服準備爆單吧！」請問：會發生上述情節，是因兩國之間的何項因素所致？ (A)美、印約有 12 小時時差 (B)印度人不喜歡星期日上午 (C)兩國分別位在南、北半球 (D)兩國人口數量非常懸殊。

【第 1 頁結束 背面尚有試題】

12. ( ) 「這個國家是次大陸上最強的國家，該國自第二次世界大戰迄今的外交政策有顯著的轉變。該國是昔日不結盟運動的推動國之一，但近年來推出一連串的東進政策，曾一度加入區域全面經濟夥伴協定(RCEP)，也是美國提出的印太戰略重要伙伴。」請問：文中提及的國家應為下列何者？ (A)不丹 (B)印度 (C)孟加拉 (D)巴基斯坦。

13. ( ) 右上圖為亞洲某地的農業土地利用圖，下列何者最有可能是當地的氣候圖？



14. ( ) 長久以來，東南亞成為歐美強權殖民地的結果，造成東南亞地區的文化帶有許多殖民色彩。請問：下列哪一個東南亞人文特徵與其殖民歷史較無關連？ (A)人口密度高 (B)礦產輸出興盛 (C)部分國家信奉天主教 (D)熱帶栽培業發達。
15. ( ) 下列有關印度半島的敘述，何者敘述正確？ (A)印度廢除階級制度，社會衝突和對立逐漸消失 (B)印度文化以基督教為代表，南亞地區信徒眾多 (C)印度人口眾多，雖勞力充足，但也是經濟負擔 (D)印度河三角洲降水量充沛，是主要的稻米產區。

## 二、題組(16-20 題每題 1 分，共 5 分)

(一)印度孟買近日來遭受大雨侵襲，三日累積降水量就已超過年平均降水量，各地淹水成災。同時，東北部的阿薩姆邦也遭受豪雨襲擊，不僅水災頻仍甚至還有土石流的現象發生，除了造成人民的生命財產損失外，農作物的收成也大受影響。請回答下列問題：

16. ( ) 上述災害最可能出現在哪一個月分？ (A)1月 (B)4月 (C)8月 (D)11月。
17. ( ) 豪雨影響了阿薩姆邦哪一項農作物的收成？ (A)茶樹 (B)水稻 (C)甘蔗 (D)小麥。

(二)西元 2020 年，受到新冠肺炎(COVID-19)疫情影響，美國、日本等大國陸續將企業生產線遷回本國或移往東南亞國家，我國的鴻海集團也傳出撤資中國，iPhone 手機改在印度生產等訊息。其實中國面對國內經濟的轉變，早已作出因應，如提升高技術產業的投資，減少高耗能、高污染、高勞力需求的產業在國內成長等；此外，中國自身企業也早已逐年提高對東南亞國家的投資比例。因此中國雖已逐漸喪失「世界工廠」的地位，但其「世界市場」的角色，卻仍深深影響世界經濟走向。請問：

18. ( ) 文中提到，除了美國、日本、我國將企業生產線移往東南亞之外，其實連中國自身企業也早已提高對東南亞國家的投資，最主要是因為這些東南亞或南亞國家普遍具有下列哪一項優勢？ (A)生產技術高超 (B)工資相對低廉 (C)礦產資源豐富 (D)消費能力強大。
19. ( ) 依上文敘述，從中國外移至東南亞及南亞的企業類型應不包含下列何者？ (A)製鞋業 (B)成衣加工業 (C)電子代工業 (D)通訊設備研發。
20. ( ) 鴻海集團將 iPhone 手機生產線移往印度，除了配合美國及蘋果公司以外，其實是印度還具有下列哪一項優勢？ (A)國內市場龐大 (B)政府資金雄厚 (C)恆河水力充足 (D)基礎設施完善。

【第 2 頁結束 後面尚有試題】

澎湖縣立文光國民中學 110 學年度第 2 學期第 2 次成績評量 8 年級歷史科試卷

班級： 姓名： 座號： 讀卡 答案卷

配合題+單一選擇 (第 21 題~第 40 題, 第 21~35 每題 2 分, 第 36~40 題, 每題 1 分, 共 35 分)

一、 配合題 (第 21~第 30 題, 每題 2 分, 共 20 分)

\* 顏老師在整理歷史資料的時候, 發現有一些跟「數字」有關的歷史事件, 例如: (甲) 五九國恥 (乙) 九一八事件 (丙) 七七事變 (丁) 五四運動 (戊) 黃金十年 (己) 八年抗戰, 請依據題意說明, 回答下列問題:

21. 一本書中寫者:「日本軍隊於民國 20 年進攻中國東北, 中國政府知道當時還沒有與日軍決戰實力, 乃採不抵抗策略, 東北三省很快就淪入日本掌中。」請問: 這是對哪一事件的描述?  
(A)甲 (B)乙 (C)丙 (D)丁。
22. 中國在民國 17 年至 26 年間的建設工作, 提升了國家的實力, 有助於日後長期對抗日本侵略, 我們稱之為?(A)丙 (B)丁 (C)戊 (D)己。
23. 顏老師看了一部電影, 名為南京·1937 的電影, 劇情描述西元 1937 年, 南京城內的中國軍民遭到敵對勢力殘酷殺害的情景。上述影片的歷史背景為何?(A)乙 (B)丙 (C)丁 (D)己。
24. 上述哪些事件的發生大都跟哪一個國家的意圖侵略有關?(A)日本 (B)美國 (C)英國 (D)蘇聯。

\* 顏老師在整理「中國近代史名人傳」的時候, 整理出一下列著名人物: (甲) 張學良 (乙) 蔣中正 (丙) 毛澤東 (丁) 李宗仁 (戊) 孫中山 (己) 溥儀, 請依據題意說明, 回答下列問題:

25. 某人曾說過:「現在我們國家正是憂外患相逼之時, 一方面國內有狂暴的土匪, 天天拼命殺人放火; 一方面國外有日本帝國主義, 天天向我們猛烈侵略。日寇敢來侵略我們的土地, 甚至公然來滅亡我們國家, 就是因為我們國內有土匪擾亂, 不能統一」請問: 這是出於何人之言?  
(A)甲 (B)乙 (C)丙 (D)丁。
26. 某報報導:「為爭取中華民族生存, 某人發動兵諫, 要求停止內戰、一致抗日、改組南京國民政府」。請問報導中某人是指?(A)甲 (B)乙 (C)丙 (D)丁。
27. 有人評價某一個歷史人物惟:「建國有功、治國無能、文革有罪」。請問: 某人是指?  
(A)甲 (B)乙 (C)丙 (D)丁。
28. 根據某人所著作的「建國大綱」, 因中國特殊歷史背景, 貿然施行憲政, 會導致國家混亂, 因此將國家實施憲政的階段分為「軍政、訓政、憲政」三個時期, 請問某人是指?(A)乙 (B)丙 (C)丁 (D)戊。
29. 民國 36 年, 中華民國實施憲政, 透過國民大會選舉出第一任總統、副總統各為何人?  
(A)戊、乙 (B)乙、丁 (C)戊、丙 (D)乙、甲。
30. 「學校師生要向日本天皇及當時在位的滿帝遙拜, 唱國歌, 背誦滿帝的詔書, 且學生必須學習日語, 並被灌輸『日滿一體』的思想。」上述所指的「滿帝」係指何人?(A)丙 (B)丁 (C)戊 (D)己。

二、 單一選擇題 (第 31~第 35 題, 每題 2 分; 第 36~40 題, 每題 1 分, 共 15 分)

31. 有位中國老農夫回憶:「當時煉鋼要超英趕美, 因此人人將鍋鏟全丟進煉鐵爐燒煉。因為上級交代蓋一條用來運鋼的道路, 所以只好將鄭和墓塚的石頭拿去墊路基, 但我們一直沒有煉出足夠的數量, 讓卡車來載運。」請問。上述情形最可能跟何者有關?(A)大躍進 (B)文化大革命 (C)土地改革 (D)計劃經濟。

32. 有部電影劇情如下：「祥子回到故鄉，那裡充斥著『破四舊、立四新』的標語，他看到村長被劃分『地主』階級而遭受到殘酷的公審。後來，祥子的妻子難產，醫院裡的醫生卻已在「打倒學術權威」的口號下被迫離開……。」請問：這部電影的時空背景最可能是下列何者？(A)國共內戰下台灣 (B)軍閥混戰時期的華北 (C)滿洲國成立後的東北 (D)文革時期的中國。
33. 1930年代日本軍國主義昂揚，促使該國積極以軍事力量展開對外擴張。下列何者可能是造成日本軍國主義高漲的原因之一？(A)全球性經濟危機，使日本經濟面臨嚴重困境 (B)中國日益強大，威脅日本在東亞領導地位 (C)日本國內軍人勢力減弱，政府得以積極改革 (D)共產主義興盛，日本朝野一致投入共產革命。
34. 美國總統羅斯福曾經發表一篇演說，當中提到：「昨天，西元1941年12月7日，美利堅合眾國遭到日本帝國海空軍預謀的突然襲擊。美國當時與日本處於和平狀態，而且應日本的請求，與其政府進行對話，希望維持太平洋和平。……不論要用多長的時間才能戰勝這次預謀侵略，美國人興正義之師必將贏得勝利。……」請問：羅斯福發表此演說的背景為何？(A)日軍攻入南京，殘殺軍民行為缺乏正義 (B)日本成功佔領台灣，阻礙美國勢力擴張 (C)日本攻擊珍珠港，破壞太平洋地區和平 (D)中本終止美國石油進口，引發商貿衝突。
35. 自民國18年美國發生金融風暴以來，經濟的恐慌蔓延全世界，各國相繼修訂貨幣政策，企圖解決經濟困境。中華民國亦捲入這場國際經濟動盪漩渦中，財政部於是積極思考改進方法，一方面因應世界趨勢，另一方面配合國內情況，規劃新貨幣政策，並於民國24年11月3日公布實施。請問：上述政策應為何項？(A)推動專賣，增加政府財政收入 (B)發行法幣，解決幣制混亂的情形 (C)發行新台幣，停止與法幣兌換 (D)銀銅並用，因應國際匯率變化。
36. 中華人民共和國有一句順口溜如下：「生活集體化，食堂如我家」、「吃飯不花錢，努力搞生產」、「人人進入新樂園，吃喝穿用不用錢；雞鴨魚肉未到鮮，頓頓可吃四個盤；天天可以吃水果，各樣衣服穿不完。」這些順口溜的內容是指下列何者？(A)外資到上海建設的大型遊樂園 (B)共產主義社會實施的人民公社 (C)台商在中國所投資的工廠 (D)中國創辦的新式綜合大賣場。
37. 中共建國後，有一段期間報紙紛紛報導某某公社發表產量高達12萬斤的小麥、木棉5000斤、一棵白菜500斤的神話。請問：這是有關下列哪一項運動的報導？(A)四個現代化 (B)大躍進 (C)改革開放 (D)文化大革命。
38. 中國在哪一個時期通貨膨脹嚴重，造成同樣100元法幣，在民國26年可以買兩頭牛，到了民國38年只能買到一張紙，法幣購買力大幅下降。請問：上述是下列哪一個時期？(A)八年抗戰 (B)文化大革命 (C)國共內戰 (D)改革開放。
39. 中共建國初期，應未經過戰爭洗禮，到處滿目蒼夷，為了恢復正常，開始推動一連串措施。請問：下列何者有誤？(A)推動工商私有化 (B)實施一黨專政 (C)控制知識分子思想 (D)採集體生產與糧食分配制度。
40. 請問：下列有關於文化大革命的敘述，下列何者正確？(A)利用知識份子鬥爭中國傳統文化 (B)批判佃農與勞工階層 (C)以外爭主權、內除國賊為口號 (D)毛澤東思想影響中南美洲共產黨。

【～試題結束，文光八年級、歷史科～】

澎湖縣立文光國民中學 110 學年度第 2 學期第 2 次成績評量 8 年級公民科試卷

班級：

姓名：

座號：

讀卡

答案卷

單一選擇題 (第 41 題 ~ 第 60 題, 第 41 ~ 50 每題 2 分, 第 51 ~ 60, 每題 1 分, 30 分)

一、 單一選擇題

41. 下列有關刑法的敘述, 何者正確? (A)規範私人之間權利義務關係的法律 (B)是為了處罰犯罪而制定的法律 (C)每個人皆可以依刑法內容處罰犯罪者 (D)是為了控制人民, 展現統治權而制定。
42. 下列是顏老師在公民與社會課教到「犯罪與刑罰」時所寫的板書, 內容為: 國家行使刑罰權時須遵守的原則、強盜犯罪和處罰都需有法律明文規定、刑法最高指導原則, 請問: 標題應為何者? (A)權力分立 (B)監督制衡 (C)罪刑法定 (D)以暴制暴。
43. 小芮向秉哥經營的地下錢莊借錢, 由於利息太高, 以至於小芮如法償還, 秉哥討債不成, 唆使小弟將他毆打成傷, 以至於小芮忍無可忍決定報警處理。最後法官判定秉哥教唆傷害罪成立, 依法秉哥最可能受到何種處罰? (A)拘留 (B)罰鍰 (C)勒令歇業 (D)有期徒刑。
44. 現代法治社會, 若人民不遵守法律的規定, 就必須負擔法律責任。小賢利用私人物品長期占用門口道路, 被依竊佔罪移送法辦, 其所需負擔的法律責任與下列何者相同? (A)小辰騎機車出門買東西沒有戴安全帽 (B)秀秀為了購買新款手機, 向同學勒索取財 (C)宣萱深夜在社區唱歌, 妨礙安寧 (D)花媽怕兒子學壞, 不讓他受國民義務教育。
45. 觸犯刑法規定應透過司法審判程序, 接受刑罰的制裁, 下列相關敘述何者正確? (A)刑罰雖然能懲罰犯罪, 但仍須以其他措施以達教化及預防犯罪的功能 (B)無期徒刑、有期徒刑、拘役、拘留等, 都是屬於剝奪自由的刑罰 (C)罰鍰是一種依法剝奪犯罪者財產的處罰, 是可以單獨科處的刑罰 (D)刑罰有主刑與從刑之分, 從刑必須附隨於主刑才能科處, 如沒收。
46. 為了預防犯罪、維護社會安寧, 國家對於施用毒品成癮者通常會採取下列何者措施? (A)驅逐出境 (B)入監服刑 (C)社會勞動 (D)強制勒戒。
47. 褫奪公權是指剝奪犯罪者哪些資格? (甲) 參與投票選舉 (乙) 提起訴願、行政訴訟 (丙) 擔任公職候選人 (丁) 成為公務員 (A)甲乙 (B)甲丙 (C)乙丁 (D)丙丁。
48. 下列何者是「修復式司法」的主要內涵? (A)讓被害人及其家屬可直接對犯罪者採取報復手段 (B)讓犯罪事件當事人溝通、共同修復傷害以及尋找彌補的方式 (C)透過教化的方式取代入監服刑以保障被害人人權 (D)由國家提供心理治療的方式撫平被害人及其家屬的傷害。
49. 近年, 法務部在各監所積極加強傳統工藝技術訓練, 廣為行銷受刑人巧手精心製作的工藝品, 讓監所成為傳承台灣本土工藝文化的重鎮, 也培養受刑人一技之長, 達成下列哪一目的? (A)協助其重返社會生活且不致再次犯罪 (B)投入生產活動, 使政府財源收入增加 (C)讓受刑人在監所可以打發時間 (D)使受刑人建立自給自足的觀念。
50. 下列是市政府公告的戶政宣導: 「冒領國民身分證會判刑! 請勿以身試法! 冒用身分而使用他人交付或遺失之國民身分證, 足以損害於公眾或他人者, 處 3 年以下有期徒刑。」目的為提醒民眾小心、誤觸法。請問: 以上是希望藉由刑罰來達到下列哪一個目的? (A)制裁犯罪行為 (B)阻嚇犯罪行為 (C)矯正犯罪行為 (D)懲罰犯罪行為。
51. 請問兒少保護專線為? (A)113 (B)165 (C)1999 (D)1922。

52. 老師在課堂上帶領同學討論：「兒童及少年為什麼應該學習法律？」並請同學踴躍發表自己意見。下列4位同學的見解，何者是由「維護權益」的角度來回答？(A)重恩：可以避免自己因無知而觸犯法律 (B)家訓：可以有助於觸法所需承擔的結果 (C)文惠：可以知道如何藉由法律尋求救助 (D)好翔：可以培養法學素養並增加辯論能力。
53. 小提在校園看到宣導某國際法的海報如下：「兒童的事，大家的事；優先考慮，最佳利益！」。請判斷其所宣導的法規最有可能為下列何者？(A)兒童權利公約施行法 (B)民法 (C)兒童及少年性剝削防制條例 (D)兒童及少年福利與權益保障法。
54. 請問下列哪些對象為兒童權利公約所宣示保護的對象？(甲) 3歲的小土豆 (乙) 14歲的小佳佳 (丙) 滿18歲的月老 (丁) 19歲的大學生原神 (戊) 7歲還沒入學的丁丁 (己) 15歲在夜市打工的小飾(A)甲乙丙丁 (B)甲丙丁己(C)甲乙丁戊 (D)甲乙戊己。
55. 警方破獲多起未成年少女陪酒性交易案件，案件主嫌在年輕人常用的交友軟體上釋出「輕鬆、好賺」等訊息，引誘中輟、逃家少女加入，再沒收她們的證件、手機，並雇用職業打手統一看管她們生活起居，使她們無法與外界聯繫。涉案的未成年少女多達20餘人，年紀最輕者僅14歲。請問：下列敘述何者正確？(A)本案處理適用性騷擾防治法 (B)案中業者將被處以罰鍰 (C)民眾可以撥打165通報此案件 (D)案中主嫌將被安置於中途學校。
56. 請根據下列新聞資料「日前一位父親帶著國小兒女喝高粱酒，還洋洋得意地表示孩子酒量向自己一樣好，還將父子三人對飲的照片 po 在社群網路，目前遭警方介入調查。」，判斷這位父親所違反的法律，與下列何者相同？(A)國小3年級學童惡作劇致同學摔倒重傷 (B)許先生和未滿17歲的高中生進行性交易 (C)國小6年級學童未經同意轉載流行樂曲 (D)漫畫店老闆將18禁的漫畫租給未成年者。
57. 「不醉不歸KTV」老闆為了增加客源，即使在深夜12點以後，還是允許未成年少年在店內消費飲酒，並祭出打八折優惠吸引他們繼續消費。請問該老闆的行為已違反何項法律？(A)勞動基準法 (B)民法 (C)兒童及少年福利與權益保障法 (D)兒童及少年性剝削防制條例。
58. 依據《勞動基準法》的規定，僱用童工須符合下列哪些規定？(甲) 每日工作時間不得超過八小時 (乙) 不得從事繁重而具危險性工作 (丙) 須得童工本人同意 (丁) 例假日不得工作 (A)甲乙丁 (B)乙丙丁 (C)甲乙丙 (D)甲丙丁。
59. 十七歲的柏翔從網路上下載歌曲並製成光碟販賣。請問：這種行為是否違法？(A)柏翔因為是少年故無法律責任 (B)已侵害他人權利故須負法律責任 (C)不知法律可免除法律責任 (D)法律未規範網路犯罪行為。
60. 某次同學會中，大家聊到曾發生在小勛身上的事件，如下列所述。若僅依年齡判斷，這四件事發生的先後順序應為下列何者？(甲) 現在剛好符合「童工」的年齡 (乙) 同學給他生日賀卡寫「恭喜今年你不再受《兒童權利公約施行法》的保護」 (丙) 爸爸說我現在符合《兒童及少年福利與權益保障法》的兒童範圍 (丁) 成為候選人，擔任民意代表 (A)甲、丙、乙、丁 (B)甲、丙、丁、乙 (C)丙、甲、乙、丁 (D)丙、乙、甲、丁。

【～試題結束，文光八年級、公民科～】



澎湖縣立文光國民中學 110 學年度第 2 學期第二次段考寫作測驗

姓名：  
班 號：  
七 年

※ 測驗時間四十五分鐘，請用本國文字書寫，可不必抄題目。

※ 請用黑色墨水筆（不得使用鉛筆），由上而下，自右而左書寫，文長三百字以上，不得使用詩歌、小說體裁及網路語言。

※ 答案紙上不得作任何標記或顯示個人身分，否則皆以零分計算。請仔細閱讀以下題目及說明，撰寫一篇作文。

**題目：**疫情之下**說明：**嚴重特殊傳染性肺炎（COVID-19）從 2020 年末被發現至今，已經邁入第三年了。在這段期間，人類的生存面臨了嚴重的考驗；同樣的，身在臺灣的你我，也躲不開這場來自病毒界的反撲。

而近期，全世界的疫情已經開始有趨緩的跡象，回望臺灣，儘管確診數不斷攀升，但似乎人們也已經漸漸地重新找到了新的生活的方式，正努力試著與它共存活。在你的生活經驗裡，這場突如其來的疫情帶給你什麼樣的影響？過程中，你如何去調

適自己的心態？最後，在這個即將慢慢解封的未來，你有什么願望想完成呢？請試著將它撰寫下來。