

澎湖縣立文光國民中學 111 學年度第一學期第一次成績評量七年級國文科試卷

□讀卡 ■答案卷

七年 班 座號： 姓名：

一、注音國字 16% (每字1分)

1. 「皎」潔： 2. 「撒」嬌： 3. 「愆」息： 4. 「懲」罰： 5. 通「緝」犯：
6. 審「度」： 7. 修「葺」： 8. 感「慨」： 9. 車禍「出幺」事：
10. 痠「ㄉㄨㄛˇ」： 11. 「彳亍」奪公權： 12. 諄諄教「ㄉㄨㄛˇ」：
13. 眼「一」病： 14. 「ㄉㄨㄛˇ」章： 15. 拱手作「一」： 16. 「ㄉㄨㄛˇ」菌：

二、注釋 14% (1-2題，每題1分；3-8題，每題2分)

1. 「撒」了珍珠： 2. 「荷」槍實彈：
3. 朦朧： 4. 彌補：
5. 說嘴： 6. 廣漠：
7. 「輕薄」的話： 8. 心悚：

三、成語配合題 10% (每題1分，請填入正確代號)

A. 當仁不讓 B. 既往不咎 C. 孑然一身 D. 披星戴月 E. 道聽塗說 F. 鏡花水月 G. 春花秋月
H. 錙銖必較 I. 夜闌人靜 J. 付之一炬 K. 目光如炬 L. 通宵達旦 M. 巧言令色 N. 躍然紙上

1. 為了養活這一家子，爸爸必須()地工作著。
2. 他是一個()的人，所以最好不要跟他有金錢上的往來。
3. 我看他兩眼布滿紅絲，必定是為了應付今天的考試而()地苦讀吧！
4. 在這場大火中，他收集多年的藏書都()了。
5. 一個人的理想可以遠大，但如果不努力以赴，那也只是()，淪為幻想罷了！
6. 謠言止於智者，像這種()，不經證實的話，為何要相信呢？
7. 這個畫家擅長畫馬，筆鋒過處，一匹駿馬便()。
8. 他是個()的人，對長官極盡阿諛奉承之能事，只希望快快升官。
9. 為人服務，我們要秉持著()的精神。
10. 過去的恩怨，我們就此()，從今以後依然是好朋友。

四、選擇題 50% (每題2分)

- ()1. 下列「」中的注音寫成國字後，何組字形相同？ (A)「尸幺」來喜訊／「尸幺」縱即逝
(B)「彳亍」揚思想／「彳亍」除異己 (C)逐年「ㄉㄨㄛˇ」減／從門縫「ㄉㄨㄛˇ」出來
(D)隱「ㄉㄨㄛˇ」不明／「ㄉㄨㄛˇ」人不倦。
()2. 「幾可亂真」的「幾」字意思與下列何者相同？ (A)「幾」乎忘記 (B)「幾」經破壞
(C)相差無「幾」 (D)曾「幾」何時。

【第1頁結束 背面尚有試題】

- () 3. 下列各句，何者用詞最為簡潔？ (A) 忽略或是漠視自身的弱點或短處，是最愚笨不聰明的方式 (B) 只要決心除去那些不良的習性，你便會生活得格外特別快樂 (C) 最後一秒鐘，在許多人看來是沒什麼微不足道，但在面臨重大抉擇時，往往決定一個人未來的人生 (D) 能尋獲讀書的樂趣，便多了一副對抗外在誘惑的力盾。
- () 4. 無心的錯誤文中，作者妻子告訴他留學生開玩笑要劫機卻遭逮捕一事，其用意為何？ (A) 她認為美國社會仍有種族歧視的現象，令人遺憾 (B) 她擔心兒子也會因他人的煽動而犯下類似的行為 (C) 她感嘆青少年愛開玩笑，又常遊手好閒惹事生非 (D) 她擔憂作者乘坐飛機，會遇上劫機而有生命危險。
- () 5. 下列文句「 」中的詞語經替換後，何者意思仍然相同？ (A) 這一帶「山巒」起伏，氣勢雄偉一山嵐 (B) 他「告別」了父母，搭上飛機到國外求學一辭別 (C) 今晚月色「朦朧」，到公園散步，別有一番情趣一皎潔 (D) 有隻五色鳥，停在「樹梢」上迎風鳴唱一樹根。
- () 6. 「面對所有的事情，你給我的解釋都是：『他們沒有惡意，我也無心！』」文中作者的兒子說這句話，推論出他是何種意思？ (A) 只要沒有惡意就不會犯錯誤 (B) 只要事後道歉就可以不受罰 (C) 只要是無心的都不算是過錯 (D) 只要不是存心就不會有危險。
- () 7. 下列是母親的教誨一文中的句子，何者敘述正確？ (A) 我在我母親的教訓之下住了九年，受了極大極深的影響：感佩母親對作者所做的一切 (B) 娘（涼）什麼！老子都不老子呀：除了慈母的身分，尚得身兼嚴父一職 (C) 她從來不在別人面前罵我一句，打我一下：母親脾氣溫和、愛面子，捨不得責罵他 (D) 犯的事小，她等到第二天早晨我睡醒時才教訓我：大清早家人尚未起床，責備孩子才不會被撞見。
- () 8. 「一對恩愛夫妻／同嘗酸甜苦辣」，這是利用譬喻法描寫什麼物品？ (A) 筷子 (B) 刀叉 (C) 手套 (D) 眼鏡。
- () 9. 下列有關夏夜一詩的敘述，何者「有誤」？ (A) 以「提燈的螢火蟲」作為夏夜的代表象徵 (B) 詩中所提到的「珍珠」與「銀幣」分別代表了「星星」和「月亮」 (C) 詩中首次點出黑夜已經來臨的句子是「夏天的夜就輕輕地來了」 (D) 以「(小河) 低聲地歌唱著溜過彎彎的小橋」，襯托出夏夜的寧靜。
- () 10. 下列各句所表達出來的語氣，何者敘述「有誤」？ (A) 娘（涼）什麼！老子都不老子呀——輕薄 (B) 你沒有老子，是多麼得意的事——詢問 (C) 你總要踏上你老子的腳步——勸勉 (D) 你要學他，不要跌他的股——告誡。
- () 11. 劉墉：「有個年輕人，在與人爭強鬥狠時吃了虧，於是拜師習武，一心雪恥。初學武，才沒練幾招，年輕人就摩拳擦掌地打算尋仇，但是被師父攔了下來。『要教訓對方，就給他幾下厲害的，所以等功夫高了再去，三兩下將他撂倒，才有面子啊！』師父說。年輕人覺得很有道理，便繼續苦練，但是當他的功夫真的練成了，卻再也沒有昔日的爭強鬥狠。因為他發覺只要自己出手，對方根本不堪一擊，而當人們知道他武藝高強，卻不計早年恩怨時，更是尊敬有加，連那曾經欺侮過他的人，也偷偷跑來請罪。所以他雖不動手，卻早已贏了。」請問這位年輕人贏在哪裡？ (A) 技巧與攻擊方式 (B) 氣度與值得禮敬 (C) 面子與武藝高強 (D) 復仇與成功雪恥。
- () 12. 下列哪一個「老子」的意思與其他三者「不同」？ (A) 「老子」今天不上班了 (B) 你沒有「老子」，是多麼得意的事 (C) 「老子」都不老子呀 (D) 你總要踏上你「老子」的腳步。

【第2頁結束 背面尚有試題】

- ()13. 下列文句所表達的意思，何者與其他三者明顯不同？ (A)誰最期待放假？是學生！
(B)放假，是學生最期待的！ (C)最期待放假的，是學生？ (D)放假，學生難道不期待？
- ()14. 有塊招牌上寫：「過往人等不得於此丟垃圾」，小葵、妙妙、阿慶、珠妹四人各自加上標點符號，請問誰的標點方式表達出「禁止丟垃圾」的意思？ (A)小葵說：「過往人，等不得，於此丟垃圾。」 (B)妙妙說：「過往人等不得，於此，丟垃圾。」 (C)阿慶說：「過往人等，不得於此丟垃圾。」 (D)珠妹說：「過往，人等不得，於此丟垃圾。」
- ()15. 文章裡用來標明語意轉變、聲音延續、時空起止或用為夾注的符號，稱為破折號。下列各句破折號的使用，何者正確？ (A)電視公司為了賺錢——不惜拍一些荒誕無稽的電視劇來取悅觀眾 (B)我們擁有秀麗的山川——豐富的物產，多元的文化，安樂的生活
(C)這樣一來，一場，二場，三場，——就接二連三的兵敗如山倒了 (D)這個企畫案愈修改問題愈多——也罷，反正我們不可能盡善盡美。
- ()16. 下列各「 」中的字，何者「不當」動詞用？ (A)當街燈亮起來向村莊「道」過晚安 (B)跟著提「燈」的螢火蟲 (C)夏天的夜就輕輕地「來」了 (D)只有夜風還醒著，從竹林裡「跑」出來。
- ()17. 夏夜一詩中，最使人有清涼感覺的是何者？ (A)街燈 (B)夜風和小河 (C)南瓜
(D)螢火蟲。
- ()18. 「當飛機降落時，地面已經有近百位荷槍實彈的警察，把飛機層層包圍。」由此可推知，航空公司是如何看待這張寫著「我身上有炸彈，我要劫機」的紙條？ (A)輕鬆以對 (B)一笑置之 (C)置之不理 (D)嚴陣以待。
- ()19. 下列「 」中的字，何組意義相同？ (A)待人接「物」／言之有「物」 (B)都「得」感謝我的慈母／氣「得」發抖 (C)如果我能體「諒」人／敬請見「諒」 (D)獨自「混」了二十多年／「混」著青草味。
- ()20. 夏夜一詩中「只有綠色的小河還醒著，低聲地歌唱著溜過彎彎的小橋」，具有以聲音反襯環境寂靜的作用。下列何者也有異曲同工之妙？ (A)明月出天山，蒼茫雲海間 (B)空山不見人，但聞人語響 (C)床前明月光，疑是地上霜 (D)眾鳥高飛盡，孤雲獨去閒。
- ()21. 無心的錯誤一文中，作者的兒子三番兩次地讓朋友在住家範圍內進行放炮及打靶，如此的行為可用下列何者來形容？ (A)是一種有義氣的情感 (B)是象徵對父母的抗議 (C)是展現謙虛有為的態度 (D)是一種無知自私的行為。
- ()22. 「春蠶到死絲方盡」句中的「絲」是「思」的諧音，借春蠶吐絲來形容思念綿長，至死方休。下列何者「沒有」使用同樣的技巧？ (A)無所味噴霧劑，讓你神清氣爽 (B)為拉抬人氣，網站使出渾身勁 (C)好字在原子筆，讓你的書寫更流暢 (D)業者開發新冰品，消費者清涼一夏。
- ()23. 根據無心的錯誤一文，下列事例何者屬於無心的錯誤？ (A)虎大恐嚇攤販繳交保護費 (B)阿龍在社群軟體辱罵網友 (C)燦燦拿著薯條餵動物園的猴子 (D)筱蝶用他人名義在網路上散播謠言。

- () 24. 下列文句中驚嘆號的使用，何者為命令用法？ (A) 唉！你為何總是這麼粗心！ (B) 你看！班上的同學多認真啊！ (C) 同學們！考試時要謹慎作答喔！ (D) 記住！考試時一定要將題目看清楚！
- () 25. 「飄流的雲沒有家，天一陰就急得不住地流眼淚」句中用「沒有家」與「流眼淚」將雲「人性化」，下列選項何者也使用這種寫作手法？ (A) 深情一眼摯愛萬年，幾度輪迴戀戀不滅 (S. H. E. 演唱一眼萬年) (B) 逛公園散步，你木訥得像植物 (孫盛希演唱稀有植物) (C) 聽！海哭的聲音，這片海未免也太多情，悲泣到天明 (張惠妹演唱聽海) (D) 你是太陽，我的星光顯得多黯淡 (鄧紫棋演唱透明)。

五、閱讀測驗 10% (每題 2 分)

喇叭花早就知道夏天從哪兒來，
 她塗得滿臉都是脂粉，
 歡喜地爬出籬笆等著迎接他。
 小荷花看著小魚兒高興地捉迷藏，
 她躲在河邊只是靜靜地笑。
 小草有月亮媽媽給他披上露珠的被，
 就是再熱的晚上，
 他也能安靜地睡。
 青蛙們最怕熱，
 一天到晚鼓起肚皮大聲地罵。

(楊喚 毛毛是個好孩子)

- () 1. 「青蛙們最怕熱，一天到晚鼓起肚皮大聲地罵」這是描寫青蛙們如何？ (A) 仇人相見分外眼紅 (B) 只有井底之見 (C) 在夏天恣肆的鳴叫 (D) 缺乏包容的度量。
- () 2. 根據詩意，請問小草為何能安靜地睡？ (A) 月亮媽媽唱搖籃曲給他聽 (B) 身上沾滿露珠，所以一點都不熱 (C) 有青蛙的陪伴 (D) 睡在溫暖的床上。
- () 3. 「喇叭花塗得滿臉都是脂粉」是形容喇叭花如何？ (A) 嬌豔盛開 (B) 化妝技術不好 (C) 被風吹紅了臉 (D) 喝醉了。
- () 4. 本詩充分運用擬人手法。下列「 」中的詞語，何者「沒有」利用這種手法？ (A) 小魚兒高興地「捉迷藏」 (B) 喇叭花歡喜地爬出「籬笆」等著迎接他 (C) 青蛙們鼓起肚皮大聲地「罵」 (D) 月亮媽媽給他「披上」露珠的被。
- () 5. 本詩主要在描寫何種景象？ (A) 夏天的炎熱 (B) 花草動物都討厭夏天 (C) 夏夜的月色最美 (D) 夏天活潑的生機。

【第 4 頁結束】

~~~ 試題結束 ~~

澎湖縣立文光國民中學 111 學年度第一學期第一次成績評量七年級國文科試卷

■答案卷

七年 班

座號：

姓名：

一、注音國字 16% (每字1分)

|   |    |    |    |    |    |    |    |
|---|----|----|----|----|----|----|----|
| 1 | 2  | 3  | 4  | 5  | 6  | 7  | 8  |
|   |    |    |    |    |    |    |    |
| 9 | 10 | 11 | 12 | 13 | 14 | 15 | 16 |
|   |    |    |    |    |    |    |    |

二、注釋 14% (1-2題，每題1分；3-8題，每題2分)

|            |            |
|------------|------------|
| 1. 「撒」了珍珠： | 2. 「荷」槍實彈： |
| 3. 朦朧：     | 4. 彌補：     |
| 5. 說嘴：     | 6. 廣漠：     |
| 7. 「輕薄」的話： | 8. 心悚：     |

三、成語配合題 10% (每題1分，請填入正確代號)

|   |   |   |   |   |   |   |   |   |    |
|---|---|---|---|---|---|---|---|---|----|
| 1 | 2 | 3 | 4 | 5 | 6 | 7 | 8 | 9 | 10 |
|   |   |   |   |   |   |   |   |   |    |

四、選擇題 50% (每題2分)

|    |    |    |    |    |    |    |    |    |    |
|----|----|----|----|----|----|----|----|----|----|
| 1  | 2  | 3  | 4  | 5  | 6  | 7  | 8  | 9  | 10 |
|    |    |    |    |    |    |    |    |    |    |
| 11 | 12 | 13 | 14 | 15 | 16 | 17 | 18 | 19 | 20 |
|    |    |    |    |    |    |    |    |    |    |
| 21 | 22 | 23 | 24 | 25 |    |    |    |    |    |
|    |    |    |    |    |    |    |    |    |    |

五、閱讀測驗 10% (每題2分)

|   |   |   |   |   |
|---|---|---|---|---|
| 1 | 2 | 3 | 4 | 5 |
|   |   |   |   |   |

作答完畢，請詳細檢查！

澎湖縣立文光國民中學 111 學年度第一學期第一次定期評量七年級英語科試題

Class:

Number:

Name:

一. 聽力測驗 10%

基本問答：每題均有三個選項，請依據所聽到的內容，選出一個最適合的回應。

1. (A) They're Chinese.  
(B) They're farmers, too.  
(C) They're Ted's parents.
2. (A) She's a nice girl.  
(B) No, she's my aunt.  
(C) Yes, he's my child.
3. (A) His birth year is 1989.  
(B) Yes. He is nice and warm.  
(C) No, his animal sign is a goat.
4. (A) What size are you?  
(B) These shoes aren't the same.  
(C) Yes, they are the right size.
5. (A) Yes, they're my parents.  
(B) No, I'm not. I'm their uncle.  
(C) That's true. We're like a family.

二. 文意字彙 20%

1. \_\_\_\_\_ It's to late. Let's go home.
2. \_\_\_\_\_ The boy is an orphan(孤兒). His parents are dad.
3. \_\_\_\_\_ Tom is my friend. He is my cousin, too.
4. \_\_\_\_\_ Andy is a father of three children.
5. \_\_\_\_\_ These are my grandfather's old pants. They are black and white.
6. \_\_\_\_\_ Cats are animals, but flowers are not.
7. \_\_\_\_\_ Mr. and Mrs. Wang have a son and a dughter.
8. \_\_\_\_\_ A: Are Jane and Jenny in the same class? B: Yes. They are both(都) in Class 911.
9. \_\_\_\_\_ A: Your grandfather is our new Chinese teacher? Is that the? B: Yes, it is.
10. \_\_\_\_\_ Elephants have big ears and long trunks(鼻).

三. 填充 10%

A. 填入正確的疑問詞

1. A: \_\_\_\_\_ old is your sister? B: She is four years old.
2. A: \_\_\_\_\_ is the boy? B: He is Mr. Lin's son.
3. A: \_\_\_\_\_ is your name? B: Amy.

B. 填入正確的所有格

4. Are you these cute \_\_\_\_\_ (girl) friend?
5. These are those \_\_\_\_\_ (man) books.

C. 填入下列名詞的複數

6. mouse \_\_\_\_\_
7. ox \_\_\_\_\_
8. sheep \_\_\_\_\_
9. family \_\_\_\_\_
10. wife \_\_\_\_\_

四. 文法測驗 20%

- ( ) 1. Tony: Dad, this is Irene.  
Dad: \_\_\_\_\_  
(A) Irene is a good girl. (B) Is she at home?  
(C) Who is he? (D) Nice to meet you, Irene.
- ( ) 2. A: Is your uncle a farmer?  
B: \_\_\_\_\_ He's a doctor.  
(A) Yes, he is. (B) No, she isn't.  
(C) Yes, I am. (D) No, he's not.
- ( ) 3. This is \_\_\_\_\_ house. It's big.  
(A) Irene and Tony (B) Irene's and Tony  
(C) Irene's and Tony's (D) Irene and Tony's
- ( ) 4. A: Is that \_\_\_\_\_ eraser new?  
B: No, it's \_\_\_\_\_ eraser.  
(A) a; a new (B) an; an old  
(C) X; an old (D) X; a new
- ( ) 5. These \_\_\_\_\_ are expensive(貴的) but good.  
(A) brush (B) fish  
(C) pen (D) watch
- ( ) 6. A: Are those Matt's books?  
B: No, \_\_\_\_\_.  
(A) they aren't (B) those not  
(C) they are (D) they not
- ( ) 7. Jenny's brother is \_\_\_\_\_ tall. He is short.  
(A) not (B) X  
(C) a (D) no
- ( ) 8. 選出正確的句子  
(A) Amy is great teacher.  
(B) Andy is an eleven-year-old boy.  
(C) It is Tom book.  
(D) The robot are cool.
- ( ) 9. 選出正確的句子  
(A) My dad is a tall.  
(B) They are my eraser.  
(C) Tony and Irene are husband and wife.  
(D) The boys is young and cute.
- ( ) 10. 選出正確的句子  
(A) I'm a English teacher. What about you?  
(B) This people are my high school friends.  
(C) Are those the teachers cups?  
(D) They are the two men's watches.

#### 五. 克漏字測驗 10%

Hi, my name is Amy. I'm a teacher. Look at this picture. 1 my friends. These tall men are 2. They are twin brothers. They look alike. They are not teachers. 3. And the short boy is George. He is a 4. He is a school nurse. The young woman is Jane. She is an actress. She is beautiful. Her movies are great. And 5. They are small and cute, right?

。 twin 孿生的 alike 相似的 actress 女演員

- ( ) 1. (A) This is (B) These (C) We are (D) They are  
( ) 2. (A) Tom and John's (B) Tom and John (C) Tom's and John's (D) Tom

- ( ) 3. (A) They are Tom and John (B) They aren't my friends.  
 (C) They are teachers, too. (D) They are cooks.
- ( ) 4. (A) people (B) nice people (C) nice person (D) my friend
- ( ) 5. (A) those are Jane's dogs (B) those are Jane's movies  
 (C) they are actresses (D) Jane's pets are big dogs

六. 閱讀測驗 12%

Henry: Listen, someone is singing. His voice is beautiful!

Gina: Oh, it's the talent show. My cousin is in the show, too.

Henry: That's cool! Can we go there?

Gina: Sure. Let's go.

Henry: Is your cousin tall?

Gina: No, she's a short girl. She's over there.

Henry: Wow, she's cute. And that's a very popular song.

Gina: You're right. My cousin wants to be a singer.

Henry: No wonder. By the way, who is the man in front of your cousin?

Gina: Who? The young man?

Henry: No. the big and old man.

Gina: Um.... That's her father.

Henry: Sorry!

◦ someone 某人 sing 唱歌 voice 聲音 talent show 才藝表演 popular 受歡迎的  
 song 歌曲 singer 歌手 in front of 在...前面

- ( ) 1. Who's in the show?  
 (A) Gina (B) Henry (C) Gina's father (D) Gina's cousin
- ( ) 2. Gina's cousin is \_\_\_\_\_.  
 (A) tall (B) a short (C) cute (D) old
- ( ) 3. Gina's cousin's father is \_\_\_\_\_.  
 (A) a young man (B) big (C) short (D) popular

Leo: Look at the photo in the book. Isn't the rabbit strange?

Susan: Yes, it is. It is too big, isn't it?

Leo: And it looks like an elephant.

Susan: Yeah, that is strange.

Leo: What about this animal? Is it a tiger or a horse?

Susan: Look at its head. It is a lion.

Leo: But look at its legs. They are a horse's legs.

Susan: You are right. It's so strange.

Leo: Where are they from?

Susan: They're not in the real world. They are in the dreams.

Leo: Dreams?

Susan: They are from people's mindset. People create them.

Leo: Are they people's good friends?

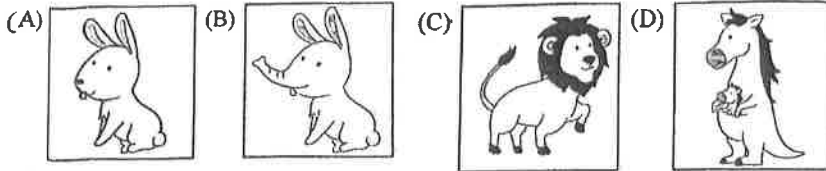
Susan: Yes, they are people's good friends. They help people in their dreams.

Leo: That's cool!

◦ photo 照片 strange 奇怪的 or 或者 head 頭 leg 腳 real world 真實的世界  
 dream 夢 mindset 思想 create 創造 help 幫助

- ( ) 4. Which is the horse in the book?





- ( ) 5. What are Leo and Susan talking about?  
 (A) People's pets at home.  
 (B) A book about friends.  
 (C) Some cute animals at a zoo.  
 (D) A book about strange animals.
- ( ) 6. Which(哪一個) is true?  
 (A) The strange animals in the book can help people.  
 (B) Leo and Susan are talking about their pets.  
 (C) The strange animals are from the real world.  
 (D) Leo and Susan are in a zoo now.

七. 依提示完成句子 6%

1. Amy is a nice person. Jane is a nice person, too. (用 Amy and Jane 開頭合併句子)
2. No, these oranges are on the table. (改成單數並依畫線部分造原問句)
3. is / My / doctor. / grandma / nice / a (句子重組)

八. 翻譯 12%

1. 那個年輕的男人是那間高中的新老師。
2. 那些小獅子像貓。
3. 在照片裡的動物是隻可愛的小老虎。
4. 這是來自我爺爺的生日禮物。

澎湖縣立文光國民中學 111 學年度第一學期第一次定期評量七年級英語科試題答案卷

Class:

Number:

Name:

一. 聽力測驗 10%

|    |    |    |    |    |
|----|----|----|----|----|
| 1. | 2. | 3. | 4. | 5. |
|----|----|----|----|----|

二. 文意字彙 20%

|    |    |    |    |     |
|----|----|----|----|-----|
| 1. | 2. | 3. | 4. | 5.  |
| 6. | 7. | 8. | 9. | 10. |

三. 填充 10%

|    |    |    |    |     |
|----|----|----|----|-----|
| 1. | 2. | 3. | 4. | 5.  |
| 6. | 7. | 8. | 9. | 10. |

四. 文法測驗 20%

|    |    |    |    |     |
|----|----|----|----|-----|
| 1. | 2. | 3. | 4. | 5.  |
| 6. | 7. | 8. | 9. | 10. |

五. 克漏字測驗 10%

|    |    |    |    |    |
|----|----|----|----|----|
| 1. | 2. | 3. | 4. | 5. |
|----|----|----|----|----|

六. 閱讀測驗 12%

|    |    |    |    |    |    |
|----|----|----|----|----|----|
| 1. | 2. | 3. | 4. | 5. | 6. |
|----|----|----|----|----|----|

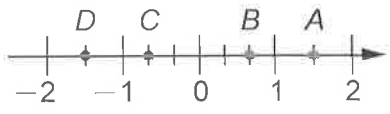

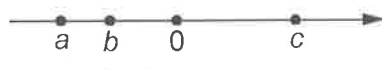
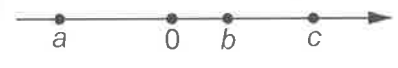
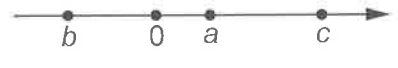
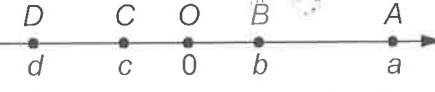

七. 依提示完成句子 6%

- \_\_\_\_\_
- \_\_\_\_\_
- \_\_\_\_\_

八. 翻譯 12%

- \_\_\_\_\_
- \_\_\_\_\_
- \_\_\_\_\_
- \_\_\_\_\_

一、選擇題(60%)

- 1.( ) 下列哪一個等式是正確的？(A)  $2^3=3^2$  (B)  $(-1)^5=-5$  (C)  $0^6=0$  (D)  $5^3=5\times 3$
- 2.( ) 下列何者為正確的科學記號表示法？(A)  $0.5\times 10^{-6}$  (B)  $10\times 10^5$  (C)  $1\times 10^{12}$  (D)  $5.3\times 7^8$
- 3.( ) 試問下列哪一個數值最大？(A)  $3\times 10^{-7}$  (B)  $5.6\times 10^{-8}$  (C)  $2.5\times 10^{-6}$  (D)  $4\times 10^{-8}$
- 4.( ) 已知兩數  $a$ 、 $b$ ，且  $|a|>|b|$ ，試問下列選項哪一個不可能是  $a$ 、 $b$  與 0 的大小關係？(A)  $a>b>0$  (B)  $a>0>b$  (C)  $0>a>b$  (D)  $b>0>a$
- 5.( ) 民國 106 年 8 月 15 日，大潭發電廠因跳電導致供電短少約 430 萬瓩，造成全臺灣多處地方停電。已知 1 瓩等於 1 千瓦，求 430 萬瓩等於多少瓦？(A)  $4.3\times 10^7$  (B)  $4.3\times 10^8$  (C)  $4.3\times 10^9$  (D)  $4.3\times 10^{10}$
- 6.( ) 已知  $p=7.52\times 10^{-6}$ ，下列關於  $p$  值的敘述何者正確？(A) 小於 0 (B) 介於 0 與 1 兩數之間，兩數中比較接近 0 (C) 介於 0 與 1 兩數之間，兩數中比較接近 1 (D) 大於 1
- 7.( ) 如右圖，數線上  $A$ 、 $B$ 、 $C$ 、 $D$  四個點中，哪一點代表  $-\frac{2}{3}$  的相反數？(A)  $A$  (B)  $B$  (C)  $C$  (D)  $D$
- 
- 8.( ) 已知  $a$ 、 $b$ 、 $c$  三數中， $|a|<|b|<|c|$ ，那麼  $a$ 、 $b$ 、 $c$  在數線上的相對位置，可能為下列何者？(A)  (B)  (C)  (D) 
- 9.( ) 數線上，若點  $A(-78)$  向右移動 25 個單位到達點  $B(b)$ ，則  $b$  是下列哪一個？(A)  $-103$  (B)  $103$  (C)  $53$  (D)  $-53$
- 10.( ) 下列哪一個敘述不正確？(A) 數線上愈右邊的點，所代表的數愈大 (B) 零大於所有的負數 (C) 負數的相反數仍是負數 (D) 負數的絕對值是一個正數
- 11.( ) 當  $a=6$ ， $b=-9$  時，下列何者最小？(A)  $|a+b|$  (B)  $|a-b|$  (C)  $|a|+|b|$  (D)  $|a|-|b|$
- 12.( ) 已知某公司去年的營業額為四千零七十億元，則此營業額可用下列何者表示？(A)  $4.07\times 10^9$  元 (B)  $4.07\times 10^{10}$  元 (C)  $4.07\times 10^{11}$  元 (D)  $4.07\times 10^{12}$  元
- 13.( ) 設  $a$ 、 $b$  是正整數，則下列哪一個數一定是負數？(A)  $(-a)\times(-b)$  (B)  $(-a)\div(-b)$  (C)  $(-a)^3\times(-b)^5$  (D)  $(-a)^3\times(-b)^2$
- 14.( ) 右圖是數線上  $A$ 、 $B$ 、 $C$ 、 $D$  四點的位置關係，它們所代表的數分別為  $a$ 、 $b$ 、 $c$ 、 $d$ ，根據各點的位置，下列哪個選項不可以用來表示  $A$ 、 $C$  之間的距離？(A)  $|a|+|c|$  (B)  $|a|+|b|+|c|$  (C)  $|a-d|-|c-d|$  (D)  $|a-b|+|b-c|$
- 
- 15.( ) 如右圖，數線上有  $A$ 、 $B$  兩點，若  $A$  點的坐標為  $10^5$ ， $B$  點的坐標最接近的數為何？(A)  $3\times 10^5$  (B)  $6\times 10^5$  (C)  $10^6$  (D)  $2\times 10^6$
- 

二、應用題(40%)

1、計算下列各式(30%)

(1)  $84 \div (-6)$

(2)  $(-169) \div (-13)$

(3)  $(-1200) - (378 - 1199)$

(4)  $2^3 \times 5^3$

(5)  $743 \times 369 - 741 \times 370$

(6)  $19 - (-2) \times [(-12) - 7]$

(7)  $(-9) + 3 \times (-6) + (-153) \div (-3) - 37$

(8)  $15 - |22 + 3 \times (-8)| - 63 \div (-7)$

(9)  $|6 \times (6 - 9)| \times (-2) \div 12$

(10)  $12 - 7 \times (-32) + 16 \div (-4)$

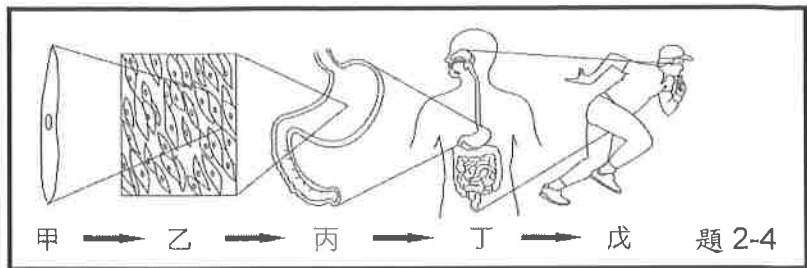
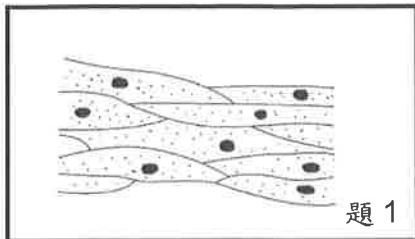
2、若  $A = 101 \times 9996 \times 10005$ ， $B = 10004 \times 9997 \times 101$ ，則  $A - B$  之值為何？(5%)

3、已知  $10 \times 11 \times 12 \times 13 \times 14 = 240240$ ，則  $(-11) \times (-12) \times (-13) \times (-14) \times (-15) = ?$  (5%)

一、選擇題。全部 38 題。每題 2 分。共 76 分

( ) 01. 請問下左圖為人體中哪種細胞，此細胞形狀細長，可藉由收縮協助個體運動？

(A)神經細胞 (B)紅血球細胞 (C)保衛細胞 (D)肌肉細胞。



※上右圖是人體組成層次示意圖，請回答 2-4

( ) 02 請問，植物缺乏哪種組成層次？(A)甲 (B)乙 (C)丙 (D)丁。

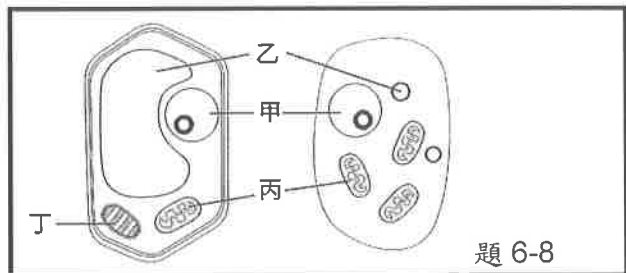
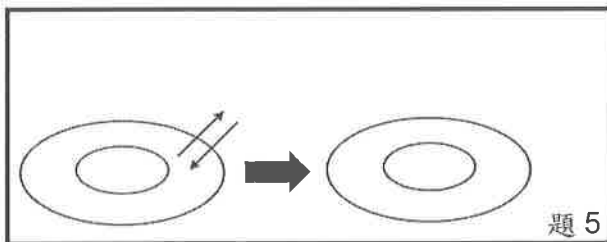
( ) 03 請問，臺灣獼猴的肝臟相當於圖中的哪一組成層次？(A)甲 (B)乙 (C)丙 (D)丁。

( ) 04. 請問，關於人體的組成層次，根據代號甲乙丙丁戊，依序名稱為何？

- (A)器官系統、細胞、器官、組織、個體
- (B)細胞、組織、器官、器官系統、個體
- (C)細胞、組織、器官系統、個體、器官
- (D)個體、器官系統、器官、組織、細胞。

( ) 05. 大雄把紅血球放入哪一種水溶液中之後，會發生如下左圖的情形？

(A)礦泉水 (B)生理食鹽水 (C)濃食鹽水 (D)水。



※上右圖為植物細胞與動物細胞構造示意圖，請回答 6-8

( ) 06. 請問甲構造名稱為何？(A)細胞核 (B)細胞質 (C)葉綠體 (D)液泡。

( ) 07. 請問哪一個構造為細胞中發電廠，可將養分轉化成能量供細胞使用？(A)甲 (B)乙 (C)丙 (D)丁。

( ) 08. 請問哪一個構造是植物細胞才具有的構造 (A)甲 (B)乙 (C)丙 (D)丁。

※依下圖所示，請回答 9-10



( ) 09. 請問人的大小約是細菌大小的幾倍大？ (A)20 (B)200 (C)1000 (D)1000000。

( ) 10. 承上題，若將細菌放大到人的大小，則人相當於是下列何者的大小？請選出最接近的比例。


- (A)一座 2 公里長的大橋 (B)1300 公里長的日本 本州島
- (C)一棵 10 公尺的大樹 (D)有 100 公尺直線跑道的學校操場。

( ) 11. 科學方法一般包括以下數項步驟，

(甲)觀察；(乙)提出假設；(丙)分析實驗結果並提出結論；(丁)提出問題；(戊)實驗。

請問正確的順序為何？(A)戊丙乙甲丁 (B)甲丁乙戊丙 (C)乙丙甲丁戊 (D)丙甲戊丁乙。

- ( ) 12. 胖虎將水蘊草放到某未知溶液內 15 分鐘後，再用複式顯微鏡觀察其細胞的變化，其結果如下圖，請問此溶液最可能為何？(A)礦泉水 (B)生理食鹽水 (C)濃食鹽水 (D)水。



- ( ) 13. 阿康看到網路上寫著「維生素 C 可以預防感冒」，想要證明這個說法是否正確，因此設計了實驗分組如下表，請問哪一組是對照組？(A)甲 (B)乙 (C)丙 (D)丁。

| 組別 | 每日服用的藥丸成分           |
|----|---------------------|
| 甲  | 5g 葡萄糖              |
| 乙  | 5g 葡萄糖+100mg 維生素 C  |
| 丙  | 5g 葡萄糖+500mg 維生素 C  |
| 丁  | 5g 葡萄糖+1000mg 維生素 C |

- ( ) 14. 小安在內政部的網站上看見民國 105 年臺灣有 210000 個嬰兒出生，請問：小安應如何利用科學記號表示該年度的新生兒人數呢？

(A)210 千人 (B)210000 人 (C)2.1 百萬人 (D) $2.1 \times 10^5$  人。

- ( ) 15. 下列哪些生物可以使用放大倍率為 40 到 1000 倍的顯微鏡觀察到全貌？

甲.細菌；乙.病毒；丙.人類；丁.草履蟲。(A)甲丁 (B)甲丙 (C)乙丁 (D)甲乙丙。

- ( ) 16. 下列何種物質可以直接通過細胞膜，不須藉由細胞膜上特殊蛋白質的幫助？

(A)胺基酸 (B)葡萄糖 (C)礦物質 (D)氧氣。

- ( ) 17. 請將下列物質由小至大排序：甲.澱粉、乙.葡萄糖、丙.碳

(A)丙乙甲 (B)乙甲丙 (C)甲乙丙 (D)乙丙甲。

- ( ) 18. 生物體能表現許多生命現象，請問「生物分解食物中的養分，合成身體所需物質」，是屬於哪種生命現象？(A)繁殖 (B)感應 (C)代謝 (D)生長。

- ( ) 19. 細胞的種類雖然不同，但基本組成皆相似，下列何者不是細胞基本組成所必需構造？

(A)細胞膜 (B)細胞壁 (C)細胞核 (D)細胞質。

- ( ) 20. 下列各種元素及其通用符號的配對，何者正確？(A)氮：N (B)碳：H (C)氧：C (D)氫：O。

- ( ) 21. 觀察鴨跖草的下表皮細胞，除了表皮細胞外還會見到保衛細胞，請問下列哪一項不是保衛細胞的特點？(A)呈半月形 (B)排列緊密 (C)具有葉綠體 (D)兩兩成對。

- ( ) 22. 氣體分子，如：二氧化碳、氧氣等，可經由什麼作用直接通過細胞膜進出細胞？

(A)光合作用 (B)滲透作用 (C)擴散作用 (D)重力作用。

- ( ) 23. 下列何組物質皆需由細胞膜上的特殊蛋白質協助才能進入細胞？

(A)葡萄糖、胺基酸 (B)水、氧氣 (C)氧氣、二氧化碳 (D)葡萄糖、氧氣。

- ( ) 24. 使用解剖顯微鏡時，若想要讓兩眼所觀察的視野一致，應該調整解剖顯微鏡上的哪一項構造？

(A)倍率調整輪 (B)調節輪 (C)眼距調整器 (D)光源開關。

- ( ) 25. 人類細胞中，具有許多突起，可傳遞訊息至全身各部位的是下列何種細胞？

(A)皮膜細胞 (B)肌肉細胞 (C)神經細胞 (D)紅血球細胞。

- ( ) 26. 下列觀察的物體何者依序屬於巨觀尺度和微觀尺度？

(A)太陽系；細胞 (B)太陽系；個體 (C)個體；器官 (D)細胞；細菌。

- ( ) 27. 下列對於物體量測的呈現方式，何者較為適當？

(A)健美選手的體重為 11520g 克 (B)新生嬰兒的體重為 3600 克。

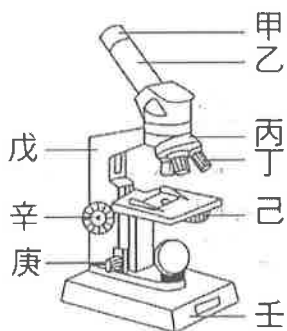
(C)樹的高度為 0.6 公里

(D)臺灣島長共 39400000 公分

- ( ) 28. 有關顯微鏡使用方法的敘述，下列何者正確？  
 (A) 拿取顯微鏡時，僅需以單手緊握住鏡臂即可  
 (B) 觀察樣本時可閉上一眼，僅以單眼觀察即可  
 (C) 若光線不足時，可轉換至高倍率鏡以提高亮度  
 (D) 使用低倍率鏡時，可轉動調節輪以調整焦距。
- ( ) 29. 根據細胞學說，生物體的基本單位為何？(A) 組織 (B) 細胞 (C) 器官 (D) 個體。
- ( ) 30. 下列何者僅由一個細胞便能完成所有的生命現象？  
 (A) 非生物 (B) 任何生物 (C) 單細胞生物 (D) 多細胞生物。
- ( ) 31. 在實驗室中，不應出現下列何種行為？  
 (A) 將器材歸回原位後排放整齊 (B) 等老師解說完才開始操作實驗器材  
 (C) 實驗室內禁止飲食、追逐或嬉戲 (D) 未用完的藥物全部丟到垃圾桶。
- ( ) 32. 實驗室中，蓋玻片的功能為下列何者？  
 (A) 放置觀察樣本 (B) 覆蓋樣本 (C) 覆蓋容器的瓶口 (D) 可做為樣本切割時的底墊。
- ( ) 33. 小夫來到加拿大的白陽市，為了欣賞美麗的極光，必須忍受零下 30°C 的刺骨寒冷，這時他因為穿在身上的禦寒衣物無法保暖，而冷得發抖，試問「冷得發抖」是生物表現哪一種生命現象？(A) 代謝 (B) 繁殖 (C) 生長 (D) 感應。
- ( ) 34. 大雄想要研發新口味的珍珠奶茶，所以設計了「水量對珍珠軟硬度的影響」實驗，希望可以找出煮好吃的珍珠的方法，其中變因種類包含水量、電磁爐規格、加熱時間、珍珠的品質與重量，珍珠的軟硬度。根據實驗的目的，請問哪一個變因為「操縱變因」？  
 (A) 加熱時間 (B) 電磁爐規格 (C) 水量 (D) 珍珠的軟硬度。
- ( ) 35. 海洋深處和黑暗洞穴裡，沒有綠色植物的主要原因是下列哪一項？  
 (A) 缺乏光線 (B) 壓力太大 (C) 空氣稀薄 (D) 溫度低。
- ( ) 36. 有關葡萄糖的敘述，下列何者錯誤？  
 (A) 葡萄糖是分子 (B) 葡萄糖由碳、氫、氧原子構成  
 (C) 葡萄糖可相連形成澱粉 (D) 葡萄糖可相連形成纖維素。
- ( ) 37. 請問，下列哪一種構造屬於植物營養器官？(A) 花 (B) 果實 (C) 種子 (D) 葉。
- ( ) 38. 實驗室中，以下哪一項是量筒的功用？  
 (A) 用來測量溶液體積 (B) 用來加熱溶液 (C) 用來測量溶液質量 (D) 用來配置溶液。

二、實驗題。全部 8 題。每題 3 分。共 24 分

※下圖為複式顯微示意圖，請回答 41-43



- ( ) 39. 請問名稱己是哪一個構造？(A) 載物臺 (B) 光圈 (C) 細調節輪 (D) 目鏡。
- ( ) 40. 請問哪一個構造是物鏡，為靠近玻片樣本的鏡頭？(A) 甲 (B) 戊 (C) 丁 (D) 庚。
- ( ) 41. 若想提高視野的亮度應調整哪個構造？(A) 乙 (B) 丙 (C) 己 (D) 辛。
- ( ) 42. 下列四種的目鏡與物鏡的組合中，請問哪一種組合的放大倍率為 40 倍？  
 (A) 20 X 40 (B) 15 X 10 (C) 10 X 10 (D) 10 X 4。

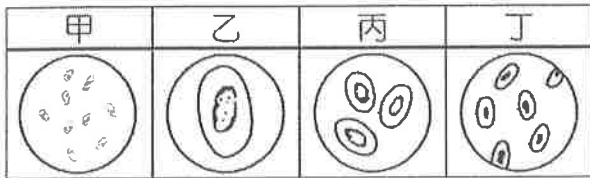
- ( ) 43. 當波普於載玻片上寫下英文字母 DF 字樣後，如下左圖，置於解剖顯微鏡下觀察時，請問觀察到的影像可能是哪一種結果(不考慮放大結果，只考慮方向)?




- ( ) 44. 當波普於載玻片上寫下英文字母 DF 字樣後，如下左圖，置於複式顯微鏡下觀察時，請問觀察到的影像可能是哪一種結果(不考慮放大結果，只考慮方向)?



- ( ) 45. 靜香觀察同一片標本玻片，得到以下四種影像結果，請問哪一種影像結果所使用的倍率最低?  
(A)甲 (B)乙 (C)丙 (D)丁。



- ( ) 46. 下圖是大雄使用解剖顯微鏡觀察被麻醉的蜜蜂時，視野中所見的影像。他想將蜜蜂影像移至視野中央，則應將載玻片往哪一方向移動?  
(A)右上方 (B)右下方 (C)左上方 (D)左下方。



【試題結束—文光、七年級、自然科】



班級：

姓名：

座號：

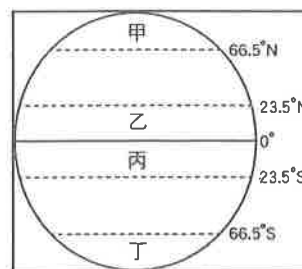
■讀卡 □答案卷

一、單選題(1-15 題每題 2 分，15-20 題每題 1 分，共 35 分)

1. ( ) 黑潮途經菲律賓、臺灣、日本，是洄游性魚類喜歡搭乘的超通暢海洋高速公路，其年平均水溫約 24°C 至 26°C，冬季約 18°C 至 24°C，夏季可達約 22°C 至 30°C，厚約 500 至 1,000 公尺，寬度約 200 公里。下列有關「黑潮」的特性何者正確？ (A)寒流，高緯區流向中緯區 (B)涼流，中緯區流向高緯區 (C)暖流，低緯區流向高緯區 (D)暖流，高緯區流向低緯區。
2. ( ) 「跨年就是要看第一道曙光！」每年元旦前夕，大家都想要調查最早日出的景點與日出時間。看著太陽從山巒或海濱緩緩升起，橘黃的陽光慢慢將天空渲染成一片金黃，用這樣美麗的場景來迎接新年。請問：造成世界各地日出時間不同的主要原因為何？ (A)地軸傾斜 (B)地球由西向東自轉 (C)緯度不同 (D)太陽照射角度。
3. ( ) 若從臺北出發南下高雄，則在地理特性上會呈現何種情形？ (A)從北半球跨入南半球 (B)從東半球跨入西半球 (C)經度的數字愈來愈大 (D)緯度的數字愈來愈小。
4. ( ) 夏季時，屏東東港的漁民捕撈太平洋溫暖的海水流經時帶來的黑鮪魚；冬季則有烏魚順著中國沿岸的寒冷海水南下，變成烏魚子的來源。臺灣夏、冬兩季能品嚐到不同漁獲的主因為何？ (A)臺灣位於板塊交界帶 (B)臺灣位於寒、暖流交會的位置 (C)臺灣具有島嶼孤立性 (D)臺灣位於熱帶與溫帶的交界處。



5. ( ) 依據右圖，若小美離開行政大樓後要返回教室，則應往哪一個方向移動？ (A)東北方 (B)東南方 (C)西北方 (D)西南方。
6. ( ) 位置的表達方式大致有絕對位置及相對位置兩種，下列何者表達方式與其他三者不同？ (A)臺北市位於新竹市的東北方 (B)臺灣位於日本的西南方 (C)蘭嶼在綠島的南方 70 公里處 (D)澎湖群島位置：北緯 23°12 至 23°47，東經 119°19 至 119°43。



7. ( ) 每年 12 月 13 日是瑞典的聖露西亞節，每年的這一天，瑞典會舉辦大遊行，一群穿著白袍且腰間繫紅絲帶的女孩，邊唱耶誕歌曲邊發放糕餅和熱飲，希望在寒天大雪中為大家帶來溫暖。那天過後，白天的時間才開始慢慢變長。請問：瑞典最可能位於右圖中哪一區？ (A)甲 (B)乙 (C)丙 (D)丁。
8. ( ) 七年一班四位同學針對全球海陸分布特性提出看法，下列何者說法完全正確？

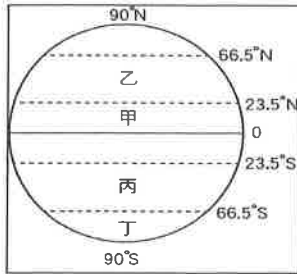
- (A)建安：「海洋與陸地面積比約為 3：7。」
- (B)喬斌：「三大洋中太平洋的面積最小。」
- (C)礎元：「北半球的陸地面積較南半球大。」
- (D)侑澄：「全球一半以上陸地位於南半球。」

9. ( ) 閔至的表哥利用暑假去澎湖探親，他計畫坐船直接向西行，以較短的航行時間抵達澎湖本島，從右上圖中判斷，他會從哪一個縣市出發？ (A)臺中 (B)嘉義 (C)臺南 (D)臺北。



10. ( ) 西元 2019 年的元旦，福隆、三仙台和阿里山三地共同合作，推出網路直播迎接曙光活動，希望參與的民眾能倍感幸福。其中，三仙台被預測為本島第一道曙光出現的地點，除了邀請表演團體共襄盛舉外，也提供限量曙光明信片，寄給親朋好友新年的祝福。請問：三仙台最可能位在臺灣哪個縣市？ (A)新竹市 (B)臺南市 (C)臺東縣 (D)澎湖縣。
11. ( ) 「臺灣位於溫帶和熱帶的交界。」這句話說明臺灣具有下列哪一項位置特徵？ (A)位於東經 121 度附近 (B)位於赤道附近 (C)位於國際換日線附近 (D)位於回歸線附近。
12. ( ) 生物若長期與外界隔絕，會因為適應環境與近親交配的結果，而逐漸演化成特有種。臺灣島豐富的動植物擁有極高比例的特有種，主要是肇因於下列哪一種環境變遷？ (A)火山爆發 (B)劇烈地震 (C)海平面上升 (D)地層下陷。【第 1 頁結束 背面尚有試題】

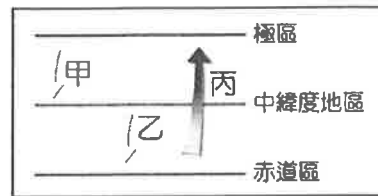
13. ( ) 雅淳在國家地理雜誌上看到一幅圖，備註寫道「南極沿岸的美麗冰山，夕陽光線剛好撒落在上頭，顏色實在非常驚人」，請問：此景最有可能出現在(圖一)哪裡？ (A)甲 (B)乙 (C)丙 (D)丁。
14. ( ) 「藻礁可說是海洋生物的育嬰房，亦是絕佳的環境教育場域。臺灣藻礁主要分布於桃園觀音至新屋的沿海地帶，而新北三芝、石門以及花蓮石梯坪、臺東杉原、屏東九屏、澎湖白沙的沿海地帶亦可見到其蹤跡。」依據上文判斷，前往(圖二)哪一個行政區，看到藻礁的機率最大？ (A)甲 (B)乙 (C)丙 (D)丁。
15. ( ) 俗話說：「烏節食烏正當時」、「鹹水烏勝過雞肉箍」，每年冬至前後十天為捕烏魚的最佳時間，此時大批烏魚會乘著中國沿岸流南下產卵，故多渾圓飽滿，有「烏金」之稱。請問：依照中國沿岸流流動的區域判斷，其洋流性質較屬(圖三)中何者？ (A)甲 (B)乙 (C)丙 (D)以上皆非。



(圖一)

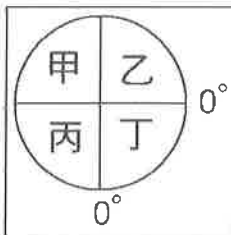


(圖二)

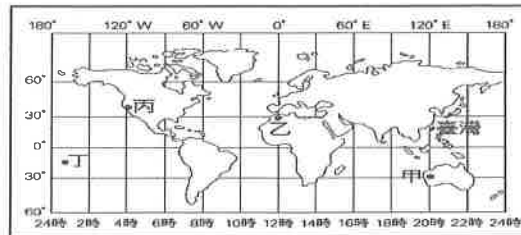


(圖三)

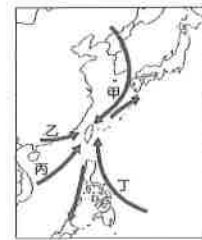
16. ( ) 咨涵旅遊時，她用具有 GPS 功能的手錶所查到的經緯度位置是(W121°33' 05.3"，S25°02' 23.1")。她旅遊的地點在(圖四)哪一個地區？ (A)甲 (B)乙 (C)丙 (D)丁。
17. ( ) (圖五)為世界時區簡圖。請依圖判斷，當臺灣的學生晚上 8 點晚自習時，圖中何地的學生正在吃午餐？ (A)甲 (B)乙 (C)丙 (D)丁。
18. ( ) 黑面琵鷺是第一級瀕臨絕種的保育類野生動物。近幾年來，在臺灣嘉義地區，黑面琵鷺每年到達臺灣的數量已超過 600 隻，是黑面琵鷺相當重要的棲息地，上文中提到的黑面琵鷺遷徙的路線應為(圖六)哪一代號所示？ (A)甲 (B)乙 (C)丙 (D)丁。



(圖四)

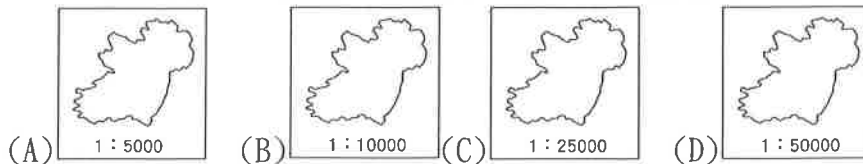


(圖五)



(圖六)

19. ( ) 下列四張分別是不同比例尺的島嶼地圖，哪一張的島嶼實際面積最小？




20. ( ) 下表是有關於大、小比例尺的比較，表中何者錯誤？ (A)甲 (B)乙 (C)丙 (D)丁。

|         | 大比例尺    | 小比例尺      |
|---------|---------|-----------|
| (甲)縮小程度 | 較小      | 較大        |
| (乙)內容   | 較詳細     | 較簡約       |
| (丙)實際範圍 | 較小      | 較大        |
| (丁)實例   | 1:10000 | 0.3888889 |

## 一、單選題(21-35 題每題 2 分, 36-40 題每題 1 分, 共 35 分)

21. ( ) 「西元 1683 年 6 月, 他指揮清軍水師在海戰中大勝鄭氏水師, 使在臺的鄭氏統治者率臣民降清, 他也因功授靖海將軍, 並封靖海侯。」由上述判斷, 這位靖海侯即為何人?  
(A)沈有容 (B)施琅 (C)顏思齊 (D)鄭成功。
22. ( ) 永濬在某篇介紹臺灣史前文化的文章中, 發現一張如右圖的照片, 人獸形狀的玉質耳飾, 相當精美。另外, 還有大型村落和石板棺遺跡的介紹。根據上述內容判斷, 這篇文章的內容最有可能在探討下列何者? (A)圓山文化 (B)長濱文化 (C)大坌坑文化 (D)卑南文化。
23. ( ) 宇豪選擇「顏思齊」作為歷史報告的主題。請問: 這份報告中最可能提及他的哪項事蹟? (A)以海商的身分帶領漢人來臺拓墾 (B)以將領的身分逼退在澎湖的荷人 (C)以漢人身分帶領群眾反荷人統治 (D)以中國官員的身分來臺展開防務。
24. ( ) 阿一老師教授閩南語多年, 發現有些語言竟與臺灣歷史的發展有關(如附表)。請問: 這些詞彙可能與臺灣被哪一個國家統治過有關? (A)日本 (B)中國 (C)荷蘭 (D)西班牙。
25. ( ) 阿君老師帶著學生們去參訪一個文化遺址, 發現這個遺址的特色是出土了大量的貝殼。請問: 阿君老師帶學生參訪的遺址最有可能為何?  
(A)圓山文化 (B)卑南文化 (C)大坌坑文化 (D)十三行文化。
26. ( ) 文光國中舉辦校外考古體驗營, 內容如右圖活動說明。請問: 學校將帶參加活動的學生們前往何處?  
(A)臺東史前博物館 (B)臺南歷史博物館 (C)新北十三行博物館 (D)臺北圓山文化園區。
27. ( ) 十七世紀以來, 臺灣成為海商重要活動地點, 著名的海商集團掌握臺灣對中國及日本的貿易, 當時在臺掌控貿易的海商是下列何者? (A)郭懷一 (B)鄭成功 (C)鄭芝龍 (D)沈有容。
28. ( ) 就臺灣歷史的發展而言, 鄭經對臺灣的統治有何重要意義? (A)首先引進漢人, 大舉開發臺灣北部 (B)將荷蘭人逐出臺灣 (C)首先引進甘蔗與稻米成為臺灣主要的農產品 (D)設機關、立學校, 使漢人典章制度在臺灣奠下基礎。
29. ( ) 鄭成功進攻臺灣, 迫使荷蘭人撤離臺灣, 他攻取台灣的主要目的為何? (A)在臺灣建立海商根據地, 獲取貿易利益 (B)開採臺灣石油以籌措購買槍炮的經費 (C)不想再管政治, 打算在臺灣退休養老 (D)利用臺灣儲備人力與糧食以繼續抗敵。
30. ( ) 十七世紀大航海時代, 許多歐洲國家紛紛到亞州開拓貿易市場。如果我們想要研究荷蘭在臺灣的發展概況, 可以參考下列哪一本著作? (A)《熱蘭遮城日誌》 (B)《西班牙人在臺灣》 (C)《近世臺灣鹿皮考》 (D)《臺灣鄭氏始末》。
31. ( ) 南島語族的分布範圍極廣, 東至復活節島, 西到馬達加斯加島, 臺灣位於此一範圍中的最北端。關於南島語族的敘述, 下列何者錯誤? (A)臺灣、南洋群島與紐西蘭的原住民語言同出一源 (B)數千年前開始陸續移居臺灣 (C)所包含的民族都使用完全相同的語言 (D)泛指分布在太平洋與印度洋海面的島嶼民族。
32. ( ) 右表是臺灣歷史的發展過程, 依表中史事發展的先後順序, 何者排列正確? (A)乙丁丙甲 (B)丙乙丁甲 (C)丙丁甲乙 (D)丁丙甲乙。



| 閩南語 | 國語 |
|-----|----|
| 紅毛土 | 水泥 |
| 番仔火 | 火柴 |
| 荷蘭豆 | 豌豆 |

## 考古體驗營行程表

上午：動手製作石器與陶器

中午：河邊餐廳享用海產

下午：參觀珠飾瑪瑙及煉鐵爐

|   |           |
|---|-----------|
| 甲 | 鄭成功圍攻荷蘭人  |
| 乙 | 施琅率兵攻臺    |
| 丙 | 荷蘭人占領臺灣南部 |
| 丁 | 西班牙人占領臺灣北 |

33. ( ) 右圖為十七世紀臺灣與日本兩地貿易情形。請問：下列敘述何者錯誤？ (A)大員為荷蘭重要轉運港 (B)長崎為日本重要貿易港 (C)日本鎖國之後，無法出口至日本 (D)日本鎖國，重創西班牙人的貿易收益。



34. ( ) 品睿和家人參加臺灣離島旅遊活動，在當地的天后宮看到一塊石碑，上面有「沈有容諭退紅毛番韋麻郎等」幾個字。有關此事的敘述，下列何者正確？ (A)紅毛番指的是西班牙人 (B)離島指的是馬祖 (C)此離島地最終為荷蘭人占領 (D)沈有容為明朝將領。

35. ( ) 一般人常以「茹毛飲血」來形容史前人類的生活方式。如果要證明這句話的真實性，下列何者是最好的依據？ (A)採訪當地的居民 (B)研究當時人留下的文字敘述 (C)分析當時人類留下的遺物與遺跡 (D)這是現代人隨意編造的成語，不具真實性。

36. ( ) 清帝國時期，臺灣原住民被區分為「生番」和「熟番」，所謂「熟番」必須具備某些官方要求的條件。請問下列對於「熟番」的敘述，何者正確？ (A)符合族群地域：必須退居土牛堆界線之後，居住於高山地區 (B)全體遵守教化：應服從官府政令，全戶進私塾接受教育 (C)應服勞役：須協助官府從事遞送公文、搬運、工事的工作 (D)應服兵役：接受清帝國徵召擔任兵丁。

37. ( ) 這時期因為產生許多重大的變革，因此有「新石器革命」之稱，其中使人類有閒暇可從事創造活動的關鍵為下列何者？ (A)已知煉鐵，發明新工具 (B)開始利用磨製石器，種類繁多 (C)已知農耕、畜牧，進入產食階段 (D)發展出國家，足以保護人民。

38. ( ) 臺灣因為地理位置的關係，成為國際貿易的轉運站，歷史上某時期的貿易交易對象主要有日本、東南亞、英國、中國，進口商品以軍需品為大宗。請問：臺灣此時期的國際貿易特色，與下列哪個原因有關？ (A)利用大量軍需品拓展海上殖民地 (B)利用貿易收入作為抗清的重要財源 (C)為了供應西班牙對抗荷蘭之軍需 (D)利用軍需品成為世界貿易的重要轉運站。

39. ( ) 愷駿是位考古學家，前往南投縣考古，發現一顆巨石上刻有泰雅族傳說故事的文字，以此認定南投為泰雅族的發源地。請問關於愷濟所提出的論點，下列分析何者正確？ (A)論點正確，因現今泰雅族多分布於此 (B)論點正確，與泰雅族口耳相傳的傳說故事相符 (C)論點錯誤，早期泰雅族並無使用文字紀錄傳說 (D)論點錯誤，泰雅族傳說故事均與巨石無關。

40. ( ) 下列臺灣的地名，何者受到鄭氏政權時期軍屯的影響？ (A)淡水 (B)前鎮 (C)鹿耳門 (D)打狗。

【第4頁結束 後面尚有試題】

一、單選題(41-50 題每題 2 分，51-55 題每題 1 分，共 25 分)

41. ( ) 近年來「偽娘」的次文化興起，意即有一些生理性別為男性者會裝扮成可愛的女性角色。此種裝扮在社會中有些人可以接受，但有些人認為此種裝扮導致男女不分而無法接受。人們對男、女生的外表有一種既定的要求與看法，此稱之為何？ (A)性別偏見 (B)性別歧視 (C)生理性別 (D)性別刻板印象。
42. ( ) 現今是大數據與人工智慧的時代，據專家預測，以後將有愈來愈多人再怎麼工作也無法溫飽。西元 2017 年，芬蘭政府推出「全民基本收入」的實驗：定期定額的現金給付。當局隨機挑選二千名市民參與實驗，也不強制工作，讓人民維持最低的生活保障。這種新穎的想法，是為了下列哪個目的？ (A)維持經濟成長 (B)維護人性尊嚴 (C)調和人際互動 (D)促進產業升級。
43. ( ) 《勞動基準法》是我國最基礎的勞動法律，主要是規定勞動條件最低標準，保障勞工權益，加強勞雇關係，為促進社會與經濟發展而制定。由此可見，《勞動基準法》與勞工尊嚴的維護息息相關，請問：上述畫線部分實現人權保障的哪一項內涵？ (A)個人的生命與身體應該維持完整 (B)政府應積極提供人民工作的保障 (C)個人擁有自由選擇的能力與機會 (D)個人有免受政府非法侵害的權利。
44. ( ) 警方統計今年截至 8 月底，台北捷運發生 34 件性騷擾案件，犯案手法多以觸碰被害人胸部跟臀部。婦女團體分析，這類案件不排除藏有黑數，也呼籲被害人，如果遭遇性騷擾，當下一定要立即呼救，尋求協助。上述事件應依據哪一法律處理？ (A)《性別平等教育法》 (B)《性別工作平等法》 (C)《性騷擾防治法》 (D)《民法》。
45. ( ) 一名郭姓女子任職苗栗縣的一家診所，半年後發現自己懷孕，將懷孕的喜訊告訴診所，最後卻被該診所開除。苗栗縣政府認定此為性別歧視(懷孕歧視)，將處該診所 30 萬元罰款。上述苗栗縣政府是依據哪一部法律開罰該診所？ (A)《民法》 (B)《性別平等教育法》 (C)《性別工作平等法》 (D)《性騷擾防治法》。
46. ( ) 教育部日前在審核自然領域課程綱要時，有委員提出教科書在編排時應注意性別平等議題，例如：談及居禮夫人時，應該恢復當事人原本姓名，不要以其先生的姓氏來替代，這樣的作法是希望維護哪一項性平原則？ (A)家務承擔的責任分配 (B)工作貢獻的肯定 (C)利益分配的公平性 (D)個人需求是否被滿足。
47. ( ) 耀文正在參加一場「人性尊嚴」的研討會，以下是四則研討會的報告題目，請問：哪一則主題最不可能出現在這場的研討會上？ (A)做自己的主人 (B)平等尊重的重要 (C)選擇與行動的自由 (D)人工智慧機器人(AI)。
48. ( ) 馬公市有名三個孩子的爸爸，在網路上分享在餐廳廁所內，把兒子放在自己的大腿上，用深蹲方式替兒子換完尿布的行爲，此舉吸引許多奶爸抱怨平時也可能用到不同招式完成換尿布的照片，該地政府官員看到此內容後，決定於市內廣設親子廁所及男廁增設尿布臺，讓爸爸不用再以深蹲、放地板、放洗手臺的方式幫寶寶換尿布。針對上述馬公市的變化，下列何項敘述正確？ (A)三個孩子的爸爸呈現出責任承擔的問題 (B)爸爸們透過照片表達對貢獻肯定的不滿 (C)政府官員發現需求滿足上的不公平狀況 (D)社會對換尿布舉動存在著性別刻板印象。
49. ( ) 何者對社會中破除「性別刻板印象」有正確的認知？ (A)男性的智商在統計上高於女性 (B)男性比女性較適合擔任公司高階主管的職位 (C)女性相較於男性，較不適合擔任家中幼兒的主要照顧者 (D)男性與女性僅僅在生理條件上有所差異，其餘並無不同。
50. ( ) 知名導演李安在尚未成名前，曾在家中當了六年的家庭煮夫，照顧家庭，這段時間由妻子在外工作養家，他成名後，曾不只一次在公開場合感謝太太對他的體諒與支持。關於李安導演的故事，下列何者敘述較正確？ (A)對於家庭煮夫是沒出息的評價，屬於性別歧視 (B)李安夫婦在家庭責任承擔的分工，也符合性別平等的原則 (C)妻子在外工作無法獲得和其他男性相同的薪資，是因為女性貢獻不足 (D)因為李安導演是男性，依規定無法申請育嬰假。 【第 5 頁結束 背面尚有試題】

51. ( ) 人權觀察組織 HRW 推出《2021 世界人權報告》，針對世界各國的人權狀況進行年度回顧：在中國的部分，主要聚焦過去一年香港、新疆等地的人權問題，以及新冠肺炎(COVID-19) 疫情期間中國各地發生的各類噤聲和打壓事件，認為中國人權狀況「惡化」；在美國的部分，關注黑人命也是命運動引發的抗議示威，顯示對少數族裔權利的保護不力，以及政府對新冠肺炎疫情的處置不當等問題進行分析，認為美國人權有「重大缺失」；報告中也列出亞、非、拉美、歐、澳等國家不同的人權事件，並有相關的綜述評估。針對上述可做出何項結論？ (A)各國均積極改善人性尊嚴的維護 (B)人權的保障仍有賴世界付出行動 (C)中美現況即等同於其他國家問題 (D)各國人性尊嚴已獲得充分的維護。
52. ( ) 以下是某篇文章的部分文字：「亞洲女性大多表現溫婉、柔順，穿著端莊、保守，如華人和日本人。最極端的例子出現在中東地區，女性平日大門不出，二門不邁，即使出門，全身也包裹在一襲長袍裡，只露出一雙眼睛……」。根據內容判斷，造成這種情形的最主要原因為何？ (A)先天身體結構的差異 (B)與生俱來的個性使然 (C)後天社會文化的要求 (D)性別平等觀念的影響。
53. ( ) 臺灣領有身心障礙手冊者已逾 117 萬人，但因屬弱勢，其人權與福利仍未完全受到政府及社會應有的重視。就以工作權而言，百萬的身障朋友有工作者的就業率約只有 1/4，比率確實太低。《身心障礙者權益保障法》雖已修訂要求業者一定比例的進用，讓身障者的權益有更多的保障，但事實上身障者或其家人仍常為找尋就醫與就學的社福資源，急得像熱鍋上的螞蟻。依據上述內容判斷，下列說明何者正確？ (A)政府無法強制企業提供工作機會 (B)政府忽略身障者權益以致來不及修法 (C)社會大眾對於身障者權益普遍是漠視的 (D)政府對身障者權益的相關政策措施可以再提升。
54. ( ) 瑞士的非營利組織「尊嚴」(DIGNITAS)，是由人權律師莫奈利在西元 1998 年創立，組織目標是在病人活著和臨終時，通過醫師諮詢，依照病人的自由選擇，讓病人選擇以「藥物」結束自己的生命。請問：站在人性尊嚴的角度，下列敘述何者正確？ (A)該組織的作法使人們免於受到社會不公平對待 (B)該組織的作法會使個人的人性尊嚴受到侵犯 (C)該組織的作法侵犯個人隱私，故政府應該禁止實施 (D)對於個人的生命擁有自我決定權是該組織推行此作法的目標。
55. ( ) 新冠肺炎(COVID-19)肆虐，高文戴上粉紅色口罩，手比愛心，在 IG 上發文表示，「顏色沒有性別之分，我們不應該用顏色來區別彼此，無論口罩顏色是什麼，只要正確配戴，能夠保護我們的，就會是最美、最合適的口罩。」顯示防疫不容易，人民必須互相扶持，才能保護自己也保護身邊的人。依據四個檢視不公平的原則來判斷，上述高文的行為最符合其中的哪一項？ (A)責任承擔 (B)貢獻肯定 (C)利益分配 (D)需求滿足。

## 二、題組(56-60 題每題 1 分，共 5 分)

- (一) 新聞報導：「三名培訓中的航空公司空服員指控，已婚的公司總顧問，利用權勢與職務之便，在職場對她們伸出鹹豬手，讓她們感到很不舒服。」請回答下列問題：
56. ( ) 上述空服員所指控的「伸出鹹豬手，讓她們感到很不舒服」的行為，稱為下列何者？ (A)性侵害 (B)性騷擾 (C)性別歧視 (D)性別刻板印象。
57. ( ) 上述三名空服員可以依下列哪一部法律的規定，尋求協助？ (A)《性騷擾防治法》 (B)《家庭暴力防治法》 (C)《性別平等教育法》 (D)《性別工作平等法》。
58. ( ) 當我們遇到上述問題時，應採取何種作法較能解決問題？ (A)委曲求全 (B)若無其事 (C)勇於制止 (D)默默忍耐。
- (二) 新聞報導：「彰化縣社頭鄉斗山祠每年的蕭家祖祭，是該家族一年一度大事。民國 96 年的祖祭大典，首度出現由已經出嫁的『女主祭』蕭昭君主持。蕭昭君認為，平等是普世價值，『每個家族的人，都應該看到女性祖先的貢獻。女人可以祭祖，也可以進族譜。』」請問：
59. ( ) 上述新聞主要提供我們何種啟示？ (A)能在上百人參加的祖祭大典中主祭，值得大肆炫耀 (B)改寫歷史、締造創舉，就可常出現在新聞版面 (C)顛覆幾千年的傳統，「去傳統化」是時髦的事 (D)不論性別為何，每個人都應該享有同等的機會。
60. ( ) 蕭昭君的努力事蹟，提醒我們何者的重要？ (A)性別刻板印象 (B)社會性別的強化 (C)性別平等的觀念 (D)性教育的推廣。【社會科試題 結束】

