

澎湖縣立文光國中 111 學年度上學期第一次成績評量九年級國文科試題卷

九年 () 班 姓名： 座號：()

壹. 國字與注音：1 字 1 分 12% *請將答案填入答案欄，否則不予計分。

1. 盤「飧」 2. 作繭自「匕メノ」 3. 租「賃」 4. 「嬪」妃 5. 衣食無「口ノ」
6. 「沏」茶 7. 好高「メ、」遠 8. 一「闕」詞 9. 青「力厶、」 10. 陰「霾」
11. 天崩地「彳亡、」 12. 鉅細「冂一ノ」遺

1.	2.	3.	4.	5.	6.
7.	8.	9.	10	11	12

貳. 注釋：1 題 1 分 12% *請將答案填入答案欄，否則不予計分。

1. 玉「砌」 2. 朱顏 3. 萬「兜鍪」 4. 罹難 5. 「倖」存 6. 俄而 7. 覓
8. 「逾」一時許 9. 「祝融」肆虐 10 坐斷 11 虛應「故事」 12 「仆」而復起

1.	2.	3.	4.
5.	6.	7.	8.
9.	10	11	12

參. 成語與名句填空：1 題 1 分 8% *請在提示選項中擇取適當者，在 () 內填入代號。

- A. 勵精圖治 B. 地靈人傑 C. 化干戈為玉帛 D. 殷憂啟聖 E. 鳶飛魚躍 F. 虛位以待
G. 功同良相 H. 雪泥鴻爪 I. 關公面前耍大刀 J. 鳩占鵲巢 K. 別時容易見時難
L. 千里共嬋娟 M. 奉為圭臬 N. 明槍易躲，暗箭難防 O. 花開三月想桃園

1. 張總經理笑問：「你什麼時候可以正式上任？咱們這裡可是 () 哦。」
2. 李勤眼睜睜地看著同僚 ()，搶了自己的研究成果，卻只能徒呼負負、毫無辦法。
3. 人生苦短，我們更應該把握青春，留下彌足珍貴的 ()。
4. 身上多帶幾把刷子的人，才能在競爭白熱化的職場上 ()，大展長才。
5. 杜甫的詩歌被後世諸多詩評家、註釋家與詩人 ()，對古典詩歌的影響甚鉅。
6. 這次你們舉家移民智利，()，不知我們何時才能再相聚啊！
7. 他是柔道九段高手，你竟敢在他面前賣弄身手，真是 ()。
8. 經過別人勸和、調解後，他倆終於 ()，由仇人變為朋友了。

肆. 綜合測驗：1 題 2 分 68% *請將答案填入答案欄，否則不予計分。

1.	2.	3.	4.	5.	6.	7.	8.	9.	10
11	12	13	14	15	16	17	18	19	20
21	22	23	24	25	26	27	28	29	30
31	32	33	34						

1. 關於吳晟秧一詩，下列敘述何者錯誤？
 ①全詩呈現農民無怨無悔的辛勤耕種
 ②透過類疊的方式，表現出詩的節奏
 ③末句點出農夫不受鄉民尊重的遭遇
 ④使用閩南語詞彙，呈現出鄉土風格

2. 關於唐代李紳憫農這組詩的敘述，下列何者正確？
 (A)兩首詩都道出了辛勤耕耘後的豐收
 (B)兩首詩都可以看出農人耕種的辛勤
 (C)兩首詩都藉問句表達對農夫的哀憫
 (D)兩首詩皆反映農人生活貧困的狀況
3. 關於秋與憫農二首的比較，下列何者正確？
 (A)皆表現出對農民際遇的不捨與哀憫之情
 (B)皆透過汗水刻畫出農民辛勤耕種的形象
 (C)皆透過稻苗的生長，描繪出農作物豐收的情形
 (D)皆點出即使豐收，農民仍無法溫飽
4. 吳晟感慨說：「果真積極奮發，當能善加把握餘暇，不然有再多空閒也無濟於事吧！」下列何者無法呼應吳晟的話？
 (A)書山有路勤為徑，學海無涯苦作舟（俗諺）
 (B)謂學不暇給者，雖暇亦不能學（淮南子）
 (C)拋棄時間的人，時間也拋棄他（莎士比亞）
 (D)時間就像海綿裡的水，只要願意擠，總還是有的（魯迅）
5. 「近體詩」和「詞」都是中國文學上的重要文體。關於這兩種文體的比較，下列敘述何者正確？
 (A)詩題與詞牌都可看出作品的主旨涵義
 (B)二者皆須偶數句押韻，而且一韻到底
 (C)二者皆須按譜創作，以呈顯音韻之美
 (D)近體詩分為五、七言，詞多為長短句
6. 「驛外斷橋邊，寂寞開無主。已是黃昏獨自愁，更著風和雨。無意苦爭春，一任群芳妒。零落成泥碾作塵，只有香如故。」（陸游卜算子 詠梅）本闕詞藉詠梅以抒懷，詞中哪一句最能看出作者堅守高尚節操的心志？
 (A)驛外斷橋邊，寂寞開無主
 (B)已是黃昏獨自愁，更著風和雨
 (C)無意苦爭春，一任群芳妒
 (D)零落成泥碾作塵，只有香如故
7. 李煜虞美人一詞旨在表達何種情感？
 (A)追思亡妻的感傷
 (B)亡國之思的悲痛
 (C)時間流逝的無奈
 (D)壯志未酬的慨嘆
8. 辛棄疾南鄉子一詞的主旨為何？
 (A)讚頌孫權叱咤風雲，功業彪炳
 (B)抒發朝代興衰更迭的感傷
 (C)藉古諷今，慨嘆朝中官員無能
 (D)感慨江山易主，無限悲痛
9. 「年少萬兜鍪，坐斷東南戰未休。天下英雄誰敵手？曹劉。生子當如孫仲謀。」關於本段的說明，何者正確？
 (A)年少萬兜鍪，坐斷東南戰未休：指戰火連綿不斷，國力衰微
 (B)本段旨在感嘆戰亂讓人民流離失所，抒發對太平盛世的渴望
 (C)生子當如孫仲謀：期望兒子能繼承己志，成就光復神州大業
 (D)天下英雄誰敵手？曹劉：藉曹操、劉備凸顯孫權的英雄形象
10. 關於李煜虞美人與辛棄疾南鄉子的比較，下列敘述何者錯誤？
 (A)皆藉歌詠古人抒發己志
 (B)皆透過提問法抒發感懷
 (C)皆以無盡江水抒寫愁緒
 (D)皆抒發國土淪陷的悲痛
11. 詞，興於晚唐五代，至宋代大盛，詞家輩出，作品風格大致分為婉約與豪放兩派。下列詞家何者並非婉約派的代表人物？
 (A)陸游
 (B)柳永
 (C)周邦彥
 (D)秦觀
12. 承上題，豪放派的描述內容，不包含下列何項？
 (A)弔古傷今
 (B)請纓報國
 (C)人生哲理
 (D)惜春悲秋

13. 關於李煜虞美人與辛棄疾南鄉子的比較，下列敘述何者為非？
 ①前者有換韻，後者一韻到底 ②前者以問起筆，以答作結；後者三問三答，藉古諷今
 ③前者上下片均運用對比手法；後者上片寫景抒情，下片敘事、議論 ④二者皆只有詞牌，而無題目。
14. 「明月別枝驚鵲，清風半夜鳴蟬。稻花香裡說豐年，聽取蛙聲一片。七八個星天外，兩三點雨山前。舊時茆店社林邊，路轉溪橋忽見。」（辛棄疾西江月 夜行黃沙道中）本闕詞主要在描寫什麼？
 ①農家因豐收而忙碌，及鄉村熱鬧的景象 ②夜行的閒適，及鄉村恬靜的風光 ③蓬門今始為君開的歡欣 ④少小離家老大回的心境
15. 承上題，詞中「鵲噪」「蟬鳴」「蛙叫」的摹寫有何作用？
 ①牽引作者的鄉愁情懷 ②反襯鄉村的寧靜安詳 ③凸顯熱鬧的景象 ④破壞寧靜的氣氛
16. 下列何者並非與921 說再見：20 年的生命練習題一文的寫作手法？
 ①透過倖存者彼此間的對話呈現他們內心的傷痛 ②藉由實際統計數字，具體呈現九二一災害之大 ③以倖存者的回憶呈現九二一大地震當夜的情況 ④首尾呼應，以呈現倖存者自我成長的心路歷程
17. 從倖存者的口述中，可看出何者已能面對傷痛？
 ①為什麼是我？為什麼你們都離開了，就丟下、剩下我一個人 ②憑什麼全家只有我活下來了，是不是因為我做了什麼事，害了他們 ③後來我說著說著就哭了，直到那時候才發現，我其實從來沒有好好去面對那段傷痛的過往 ④與其說是和逝去的家人說再見，其實比較像是和過去的自己說再見
18. 古代反映某個時代社會現象的詩歌，其性質近似於現代的報導文學。請問下列絕句中，何者不屬於這種類型？
 ①春種一粒粟，秋收萬顆子。四海無閒田，農夫猶餓死 ②嶺外音書絕，經冬復歷春。近鄉情更怯，不敢問來人 ③有弟皆分散，無家問死生。寄書長不達，況乃未休兵 ④低頭獨長嘆，此嘆無人喻。一叢深色花，十戶中人賦
19. 關於大明湖一文的敘述，下列何者正確？
 ①全文以倒敘手法，記載旅途所見所聞 ②文章開頭對投宿濟南的過程敘述詳盡 ③文中穿插古人聯語，豐富遊記內容 ④對千佛山、大明湖的春景描繪深刻
20. 有關大明湖—清代章回小說一文的文句，下列何者說明正確？
 ①一盞寒泉薦秋菊，三更畫舫穿藕花：寫大明湖風景，並指出當地人以泉水虔誠敬奉菊花 ②歷下此亭古，濟南名士多：讚美濟南歷史悠久，人才薈萃 ③家家泉水，戶戶垂楊：說明濟南常有水患 ④四面荷花三面柳，一城山色半城湖：寫濟南人非常喜歡荷花
21. 依據大明湖—清代章回小說一文，讀者若跟隨老殘遊大明湖，其遊歷景點依序應為下列何者？（甲）鐵公祠堂（乙）古水仙祠（丙）鵲華橋（丁）歷下亭
 ①（甲）（乙）（丙）（丁） ②（丙）（丁）（甲）（乙） ③（丙）（乙）（丁）（甲） ④（乙）（甲）（丁）（丙）

22. 語言隨著時代演變，有時所指稱的事物相同，但古今的用語卻不同。下列古今用語的對應關係，何者有誤？ ①盤纏：旅費 ②細作：法醫 ③百里侯：縣市長 ④廷尉：司法院院長
23. 甄曉仁升官後，居然過河拆橋，陷害昔日的好友。氣憤的艾亞送他一副對聯：「忠悌節孝禮義廉，貞潔賢惠容言功」，旨在諷刺其什麼？ ①得意忘形 ②出爾反爾 ③阿諛奉承 ④無恥缺德
24. _____。螢光幕上的偶像，為了迎合「大眾」，用浮濫的口語自以為雅俗共賞。以報紙標題為例，形容詞用「爆」，用「不行」……，某個東西好吃，說法是「好吃到不行」，還有「好看到不行」、「好聽到不行」，一個「不行」，囊括了所有的感覺。當人們不再用準確的文字描述世界時，有一天，世界的細緻之處會不會也消失不見？這段文字開頭畫線處點出段落要旨。據此判斷，應填入下列何者最恰當？ ①偶像總能帶動風潮，使青少年趨之若鶩 ②媒體已注意到生活語言有庸俗化的傾向 ③文字的奧妙之處，在於能兼顧小眾與大眾的品味 ④文字的口語化與粗俗化，正壞蝕我所理解的世界（107年會考）
25. 【甲】春雪滿空來，觸處似花開。不知園裡樹，若個是真梅？【乙】牆角數枝梅，凌寒獨自開。遙知不是雪，為有暗香來。根據甲、乙兩詩的內涵，下列敘述何者最恰當？ ①甲詩以梅喻雪，乙詩以雪喻梅 ②甲詩主題是詠雪，乙詩主題是詠梅 ③兩詩所描繪的都是暮春夜晚的景致 ④兩詩作者都無法分辨眼前所見是雪還是梅（註釋：若個，哪個）（107年會考）
26. 袁宏道與友人書云：「人情必有所寄，然後能樂。故有以弈為寄，有以色為寄，有以技為寄，有以文為寄，古之達人，高人一層，只是他情有所寄，不肯浮泛虛度光景。」這段文字的主要涵義，與下列何者最接近？ ①以物為寄應該有所節制，不可浮濫 ②古之達人寄懷於民，不求一己之樂 ③情感有所依託，生命方能愉悅自適 ④習得多種才藝，方能晉身達人之列（104年會考）
27. 「書，飢讀之以當肉；寒讀之以當裘；孤寂而讀之，以當友朋；幽憂而讀之，以當金石琴瑟也。」這句話的涵義，與下列何者最接近？ ①讀書百遍義自現，尋根求源探其妙 ②處逆何妨將書讀，興味來時百憂除 ③紙上得來終覺淺，方知此事要躬行 ④求學當如飢索食，問道應似寒需衣（104年會考）
28. 「人之學文，其功力所能至者，陳理義必明當，布置取捨、繁簡廉肉不失法，吐辭雅馴不蕪而已。古今至此者，蓋不數數得。」（註釋：1. 廉肉：指文章之疏略與豐腴 2. 數數：音尸义乙、尸义乙、，常常）這段話主要在說明下列何者？ ①好文章所需具備的條件 ②說理議論文的創作步驟 ③古今學文者的文章樣貌 ④文體形式的運用與取捨（105年會考）

29. 歐陽脩：「蔡君謨既為余書集古錄目序刻石，其字尤精勁，為世所珍。今饋以鼠鬚栗尾筆、銅錄筆格、大小龍茶、惠山泉等物為潤筆。」根據這段文字，下列敘述何者正確？
 (A) 蔡君謨文筆已甚精勁，經歐陽脩稍加潤飾，即成世所稱道的佳文
 (B) 蔡君謨為集古錄目序書刻石，歐陽脩贈予許多物品以為酬謝
 (C) 為作集古錄目序，歐陽脩耗費財物蒐求蔡君謨珍奇稀有的刻石
 (D) 刻寫集古錄目序需使用鼠鬚栗尾筆、銅錄筆格，方成上乘之作 (105年會考)
30. 揚州鹽商宴請新任鹽官，滿桌清淡菜色，盡是名貴刁鑽的盛饌，甲魚僅用裙邊，鱈魚只取鮓下兩塊蒜瓣肉，河鮓配上素炒蘆蒿，素炒紫芽薑，素炒萵苣尖……，鹽官食畢還淡然說：「咬得菜根，則百事可做。」下列何者最適合用來形容這場宴會？
 (A) 菜根蔬食之味，尤勝珍饈名饌
 (B) 蔬食與清淡，暗藏著豪奢的事實
 (C) 粗茶淡飯，隨遇而安，方見真性情
 (D) 滿席炊金饌玉，填補不了精神的空虛 (105年會考)
31. 諸葛武侯文采不豔，然其出師二表至今為學者膾炙，有志之士擊節讀之，有至於嗟嘆流涕者。六朝、隋、唐文人動輒百數十篇，穠華纖巧，極其雕飾，或卒無一語可傳。然則文之為文，豈必多且麗乎哉？」根據這段文字，下列何者最符合作者的觀點？
 (A) 文章之優劣，取決於作者的學識修養與文采表現
 (B) 寫作不宜過度雕章琢句，當以抒發情志、感動人心為佳
 (C) 六朝文人多投注心力於雕飾辭藻，以致作品質精而量少
 (D) 諸葛武侯文采不豔，唯出師二表典麗華美，膾炙人口 (108年會考)
32. 「少了史記，這個歷史會少掉多少故事？會少掉多少可歌可泣的人物？而那在韓信落魄時給他一碗飯吃的漂母，使我不敢小看在河邊漂洗衣服的無名女人。那和屈原對話的漁父，也使我相信捕魚人中有大智若愚的隱者。史記書寫了主流價值之外的另一種信仰。」根據這段文字，下列何者最符合作者對史記的看法？
 (A) 呈現市井小民在歷史上的意義
 (B) 描寫史事詳盡，考證鉅細靡遺
 (C) 透過平凡人物襯托主角的不凡
 (D) 顛覆大智若愚的傳統主流價值 (108年會考)
33. 「淳于恭，字孟孫，北海人。人有盜刈恭禾者，恭見之，念其愧，因伏草中，至去乃起。」根據這則故事，下列敘述何者最恰當？
 (A) 當時五穀歉收，盜賊四處搶糧
 (B) 淳于恭個性溫厚寬容，能體恤他人
 (C) 北海地區盜賊兇悍，人民不敢與之對抗
 (D) 淳于恭伏於草中，乃因心中有愧，不欲見人(註釋：刈，音一、，割取) (110年會考)
34. 「必備匙箸兩副，食前多品。擇取欲食者，以別箸取之，置一器中，食之必盡。飯前以別匙分而另置，始膳。吳后嘗問其故，曰：『不欲以殘食與宮人食也。』」這段文字記載宋高宗的用膳習慣，據此可看出他具備什麼樣的特質？
 (A) 用餐講究排場
 (B) 飲食注重養生
 (C) 對妻言聽計從
 (D) 待下體貼細心 (110年會考)

班級：_____ 座號：_____ 姓名：_____

★請將所有答案寫在答案卷上，否則不予計分★

一、聽力測驗：言談理解——每題均有三個選項，請依據所聽到的對話與問題，選出一個最適當的答案。(每題 2 分，共 10 分)

1. () (A) It's boring.
(B) It's helpful.
(C) It's exciting.
2. () (A) Yes. He's been there once.
(B) No. He's never been there.
(C) Yes. He went there last week.
3. () (A) He has been hungry for days.
(B) He has eaten up some chocolate.
(C) He wants to heat the chocolate milk.
4. () (A) The woman's shopping list
(B) The woman's location now.
(C) The woman's reason for getting lost.
5. () (A) A soldier's life.
(B) Their favorite subjects.
(C) The topics of their reports

二、文意字彙 (每題 2 分，共 20 分)

1. _____ Not only Matzu(馬祖) and Kingmen(金門) but Penghu is one of Taiwan's offshore(離岸的) islands.
2. _____ I like night markets in Taiwan because there are a lot of food vendors on the streets.
3. _____ Billy: How do you usually celebrate your birthday?
Kathy: Well... I usually invite my friends to my place and have a birthday cake together.
4. _____ Melissa: Wow, your necklace is beautiful. Where did you get it?
Percy: My dad gave me this before he passed away. So I always take it as a symbol of his love for me.
5. _____ My grandpa was a soldier when he was young. He always told me the things that happened in the army(軍隊).
6. _____ An earthquake hit yesterday, and several buildings fell down. Many people are still under those buildings.
7. _____ Diana: Why do you always wear the same clothes to work? Are they your uniforms?
Jean: Yes. I have to wear them to work.
8. _____ Shelly: Did Henry tell you why he won't go to your birthday party?
Jack: He just said he won't come, but he didn't tell me the reason.
9. _____ Mr. Wang is a good bus driver. It is safe to take his bus.
10. _____ My parents let me make the choice. They let me decide what job I want to do.

背面尚有試題

三、文法與對話選擇 (每題 2 分, 共 30 分)

1. () Gina has _____ to Japan three times. She loves the country a lot.
(A) be (B) went (C) been (D) gone
2. () Mike: _____ you _____ the sausages?
Tony: Sure.
(A) Has; froze (B) Has; frozen (C) Have; froze (D) Have; frozen
3. () Vickie: Has Mom added sugar to the coffee?
Shelly: No, she _____.
(A) hasn't (B) haven't yet (C) never did (D) didn't
4. () Hank fell asleep in the movie theater because he was _____ the movie.
(A) bored (B) boring (C) bored with (D) boring to
5. () James is _____ of doing the housework. He wants to buy a cleaning robot.
(A) tire (B) tires (C) tired (D) tiring
6. () Aaron: Hey! Would you mind _____ me the paper?
Jenny: No problem. Here you go.
(A) pass (B) passed (C) passes (D) passing
7. () Tom: How long _____ Amanda _____ on the playground?
Leon: I don't know. I think she started running at five.
(A) did; run (B) has; run (C) be; ran (D) has; ran
8. () Alan knows _____ he shouldn't lie when he makes a mistake. What a good kid!
(A) X (B) it (C) this (D) these
9. () The news _____ we can go abroad without quarantine(隔離) is _____ everyone.
(A) X; excited about (B) it; excited with (C) that; exciting to (D) this; exciting about
10. () Could you please go to another room to use the hairdryer? You have used it _____ 20 minutes.
And I can't hear the sound of the video on my phone.
(A) at (B) for (C) with (D) about
11. () Kelly: Jasper! You ordered too much food again! How are we going to eat it up?
Jasper: Don't worry. _____
Kelly: You say that every time. But the truth is I have to throw away most of the food. Please don't make me do that again.
(A) I will add it to the basket.
(B) I am as hungry as a horse now.
(C) I got a 50% discount when I ordered it.
(D) It will only take 15 minutes to have the food here.
12. () Terry: Have Mr. and Mrs. Wang started baking cookies?
Becky: Yes. _____
Terry: I can't wait!
(A) They have eaten them up.
(B) They have boiled the water.
(C) They will finish baking cookies soon.
(D) They were going to make some bread.


請接續下一張作答

13. () Jessica: Have you ever tried Stinky Tofu in Taiwan?
 Joanna: No. _____ She likes the city a lot.
 (A) But my sister has.
 (B) I have never tried that.
 (C) In fact, I like tofu a lot.
 (D) But I lived there five years ago.
14. () Yvette: Sorry. I worked late today, and I don't have time to prepare dinner.
 James: That's OK. Let's eat at the famous Chinese restaurant.
 Yvette: But there are always a lot of people standing in line. It might take us one hour to get seats.
 James: Don't worry. We can use this food delivery app. _____
 Yvette: Wow, it's very convenient and helpful.
 (A) It may take much time to get food.
 (B) But we have to pay a lot for the delivery service.
 (C) But we may not have many choices to make.
 (D) It can save us a lot of time.
15. () Tim has been sick for two months, but _____. I'm happy for him.
 (A) he was still healthy
 (B) he hasn't come home
 (C) he has already stayed in the hospital
 (D) he is getting better now

四、克漏字測驗 (每題 2 分, 共 10 分)

How to Make New Friends

Some teenagers have problems making new friends. 1 If you want to make new friends, always be ready to hold out your hand and show people you are interested 2 making friends with them. Try to start with small talk. 3, such as sports, music, or movies. People usually feel comfortable when they find they have something in common with you. But don't talk about yourself all the time. Nobody likes to be a listener forever. Allow others to have a chance to share their ideas or experiences. Don't 4 when they talk. If they feel you are listening to them, they will enjoy your company even more. 5, always remember that friendship is a two-way thing. If you are friendly to others, others will be friendly to you, too.

 listener 聽話者 forever 永遠地 allow 允許 company 陪伴

1. () (A) What makes a good friend and why?
 (B) Have you ever had this problem before?
 (C) Do you think it's wrong not to want any friends?
 (D) Which type of people do you want to be your friends?
2. () (A) in (B) at (C) for (D) about
3. () (A) Make a list
 (B) Celebrate holidays
 (C) Pick a popular subject
 (D) Take a class to meet people
4. () (A) look bored (B) feel scared (C) fell excited (D) be surprised
5. () (A) However (B) In a word (C) Since then (D) First of all

五、閱讀測驗 (每題 3 分, 共 15 分)

[A]

Paddy: Oh, no. Roger Federer is retiring.

Alex: Who is he?

Paddy: He is my favorite tennis player in the whole world. He has won the champion of Grand Slam twenty times. Also, he has played over 1,500 games and left 1,251 wins in singles matches.

Alex: Wow. He is really a somebody!

Paddy: Yes. I started to learn to play tennis at six because of him. Look at me now. I have won the champion twice in the city. He is a shining star in my life. He made me who I am.

Alex: You are a big fan of him, aren't you? Then why is he retiring?

Paddy: For the last two years, he has had three knee operations. He believes that his body cannot get back to what it was like before, so he decides to retire from his career.

Alex: That is sad. Hey! Look! Here it says that Federer will keep playing tennis after he retires, so that means you might be able to see him in tennis games in the future.

Paddy: Yeah! I'm so excited!

□ retire 退休 champion 冠軍 Grand Slam 大滿貫比賽 singles match 單打賽 operation 手術
career 職業

1. () What does a somebody mean in the dialogue?
(A) An unknown person.
(B) A man that people don't like.
(C) A stranger that people are afraid of.
(D) A person of influence(影響) or importance.
2. () Which is true?
(A) Alex is a fan of Federer.
(B) Federer started to play tennis at six.
(C) Federer will no longer play tennis games after he retires.
(D) Paddy has won the champion of a tennis game in the city twice.

[B]

How important is plastic in your life? As we all know that plastic is bad for our planet. But because of its convenience and its low cost, most of us cannot quit using it in our life. For example, when we shop for some meat or vegetables in a supermarket, plastic bag is needed. When we buy a bottle of water in a convenience store, the bottle is made of plastic for sure. Most of kids' toys in the world are made of plastic, too. Our life is full of plastic products. However, is it really impossible to live without plastic?

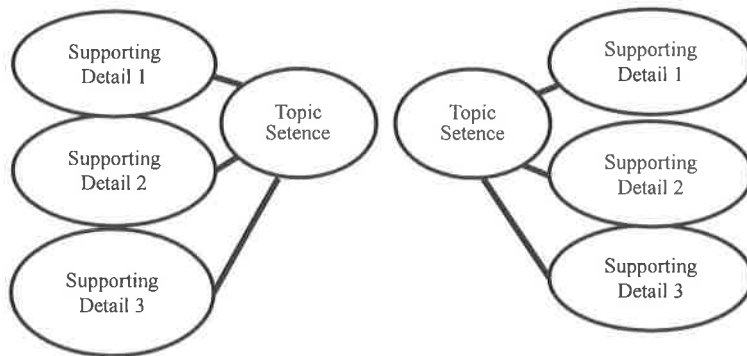
France now is giving it a chance to get plastic out of their life step by step. The country has begun its new law that supermarkets and shops cannot sell fruits and vegetables in plastic packages since the first day of this year. Restaurants in France cannot provide their meals with plastic toys, either. Also, it has set up water fountains in many public areas, so people no longer have to buy bottled water and just need to prepare their own bottles to get the water. The country believes that they can make single-use plastic disappear by 2040.

Plastic is polluting the earth, so there are more and more countries trying so hard to reduce the use of it. That means we might start to live in a different way even though it may cause a little inconvenience. Protecting the earth is always our responsibility. Remember, we have only one home, and we cannot lose it.

請接續下一張作答

convenience 便利 quit 放棄 made of ... 做成的 law 法律 provide 提供
 water fountains 飲水機 single-use 一次性 disappear 消失 reduce 減少

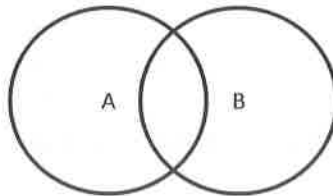
3. () Which graphic organizer can help you understand the first two paragraphs better?
 (A)



(B)

Topic	
Pros	Cons
...	...
...	...

(C)



(D)

Timeline	Events
First	
Then	
Finally	

4. () Which is true about the new law of France?

- (A) All French people haven't used plastic since this January.
- (B) France thinks they can get all kinds of plastic out of their country before 2040.
- (C) The supermarkets in France can sell vegetables in plastic packages to keep the products fresh.
- (D) They put water fountains in many places, so people there can drink water without buying bottled water.

5. () In the last paragraph, the author says "live in different way." Which of following lifestyles might the author tell us to have?

- (A) Order food delivery often.
- (B) Eat more vegetables and fruits.
- (C) Bring our own bags when we go shopping.
- (D) Break the rules of reducing the use of plastic.

背面尚有試題

六、依提示作答（第 1~3 題，每題 2 分；第 4~6 題，每題 3 分；共 15 分）

1. Hank started to be a student 12 years ago.

Hank is still a student now. (以完成式合併兩句)

2. I was angry at David.

David didn't know it. (以名詞子句方式合併兩句)

3. This game was exciting to me. (以 I 為主詞改寫句子)

4. 我不介意下載這個食物外送的應用程式到我的智慧型手機上。(中翻英)

5. 自那時起，他便已經開始節省了購買點心的支出。(中翻英)

6. 每十個美國人裡，就有七個對這個語言感興趣。(中翻英)

試題結束

澎湖縣文光國民中學 111 學年度第一學期第一次段考 九年級英語科 答案卷

班級：_____ 座號：_____ 姓名：_____

★請將所有答案寫在答案卷上，否則不予計分★

一、聽力測驗：言談理解——每題均有三個選項，請依據所聽到的對話與問題，選出一個最適當的答案。(每題 2 分，共 10 分)

1.	2.	3.	4.	5.
----	----	----	----	----

二、文意字彙 (每題 2 分，共 20 分)

1.	2.	3.	4.	5.
6.	7.	8.	9.	10.

三、文法與對話選擇 (每題 2 分，共 30 分)

1.	2.	3.	4.	5.
6.	7.	8.	9.	10.
11.	12.	13.	14.	15.

四、克漏字測驗 (每題 2 分，共 10 分)

1.	2.	3.	4.	5.
----	----	----	----	----

五、閱讀測驗 (每題 3 分，共 15 分)

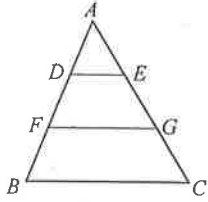
1.	2.	3.	4.	5.
----	----	----	----	----

六、依提示作答 (第 1~3 題，每題 2 分；第 4~6 題，每題 3 分；共 15 分)

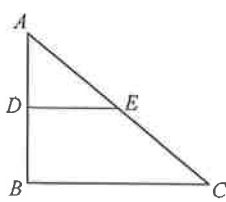
1.	
2.	
3.	
4.	
5.	
6.	

一、 選擇：(每題 3 分，共 45 分)

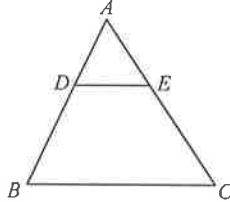
- () $\triangle ABC$ 中， $\overline{DE} \parallel \overline{BC}$ ，且 \overline{DE} 分別交 \overline{AB} 、 \overline{AC} 於 D 、 E 兩點。若 $\overline{DE} = 9$ ， $\overline{BC} = 21$ ， $\overline{DB} = 3x - 19$ ， $\overline{AB} = 4x - 22$ ，則 $x = ?$ (A)8 (B)8.5 (C)9 (D)9.5
- () 用量角器量一角為 32 度。若將量角器放大 3 倍後，再來量同一個角，則其角度變化為何？
(A)變大為 64 度 (B)變大為 96 度 (C)變小為 16 度 (D)不變，仍為 32 度
- () 如下圖(一)， $\overline{DE} \parallel \overline{FG} \parallel \overline{BC}$ 。若 $\angle A = 53^\circ$ ， $\angle B = 68^\circ$ ，則 $\angle AGF = ?$ (A) 56° (B) 57° (C) 58° (D) 59°



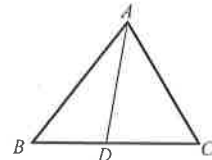
圖(一)



圖(二)

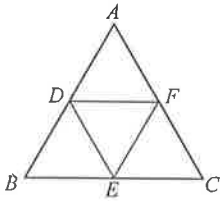


圖(三)

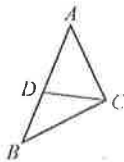


圖(四)

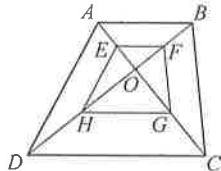
- () 如上圖(二)， $\overline{BC} \parallel \overline{DE}$ ，且 D 為 \overline{AB} 中點，則 $\overline{BC} : \overline{DE} = ?$ (A)1 : 1 (B)1 : 2 (C)2 : 1 (D)1 : 4
- () 如上圖(三)， $\triangle ABC$ 中， $\overline{DE} \parallel \overline{BC}$ 。若 $\overline{AD} = 2$ ， $\overline{BD} = 3$ ， $\overline{AC} = 6$ ，則 $\overline{EC} = ?$ (A)3.6 (B)2.4 (C)4 (D)2
- () 如上圖(四)， $\triangle ABC$ 中， $\overline{BD} = 12$ ， $\overline{CD} = 15$ 。若 $\triangle ABD$ 面積為 120，則 $\triangle ABC$ 面積為何？
(A)265 (B)270 (C)275 (D)280
- () 如下圖(五)， $\triangle ABC$ 為邊長 12 公分的正三角形，且 D 、 E 、 F 為三邊的中點，求 $\triangle DEF$ 的周長為多少公分？
(A)18 (B)12 (C)9 (D)6



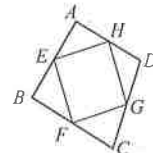
圖(五)



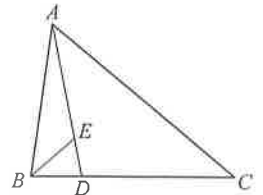
圖(六)



圖(七)



圖(八)



圖(九)

- () 如上圖(六)， $\triangle ABC$ 面積為 70 cm^2 ， $\triangle ACD$ 面積為 40 cm^2 ，則 $\overline{AD} : \overline{BD} = ?$ (A)4 : 3 (B)3 : 4 (C)7 : 4 (D)4 : 7
- () 如上圖(七)， $ABCD$ 為梯形，且 E 、 F 、 G 、 H 分別是 \overline{AO} 、 \overline{BO} 、 \overline{CO} 、 \overline{DO} 之中點，則四邊形 $EFGH$ 為何種圖形？
(A)菱形 (B)梯形 (C)平行四邊形 (D)長方形
- () 如上圖(八)， E 、 F 、 G 、 H 分別是四邊形 $ABCD$ 四邊的中點。若四邊形 $EFGH$ 的周長為 36，則 $\overline{AC} + \overline{BD} = ?$
(A)36 (B)38 (C)42 (D)46
- () 如上圖(九)，若 $\overline{DB} : \overline{CD} = \overline{DE} : \overline{AE} = 1 : 3$ ，則 $\triangle BDE$ 面積是 $\triangle ABC$ 面積的多少倍？
(A) $\frac{1}{4}$ (B) $\frac{1}{8}$ (C) $\frac{1}{12}$ (D) $\frac{1}{16}$
- () 下列何者不一定是相似形？
(A)兩個等腰直角三角形 (B)邊長 5 公分的正五邊形與邊長 7.8 公分的正五邊形 (C)兩個菱形 (D)兩個正三角形
- () 下列何者不是判別兩個三角形相似的條件？ (A)AA (B)SSA (C)SSS (D)SAS
- () 下列哪一個長方形與另外三個長方形不相似？ (A)長 12 公分，寬 8 公分的長方形 (B)長 2 公分，寬 $\frac{4}{3}$ 公分的長方形
(C)長 60 公分，寬 40 公分的長方形 (D)長 36 公分，寬 26 公分的長方形
- () 小林有 30 根一樣長的火柴棒，他用其中 3 根拼成一個三角形，從剩下的火柴棒中，小張最多可以用幾根火柴棒拼出和小林相似形狀的三角形？ (A)26 (B)27 (C)25 (D)24

二、 填充：(每個答案 3 分，共 30 分)

1. 試求下列各題的連比：

(1) 若 $x : y = 5 : 6$ ， $y : z = 4 : 3$ ，則 $x : y : z = \underline{\hspace{2cm}}$ 。

(2) 若 $x : y = 5 : 6$ ， $x : z = 4 : 3$ ，則 $x : y : z = \underline{\hspace{2cm}}$ 。

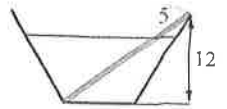
(3) 若 $x : z = 5 : 6$ ， $y : z = 4 : 3$ ，則 $x : y : z = \underline{\hspace{2cm}}$ 。

(4) 若 $x : z = \frac{1}{4} : \frac{1}{6}$ ， $y : z = \frac{1}{8} : \frac{1}{10}$ ，則 $x : y : z = \underline{\hspace{2cm}}$ 。

2. 已知 $x : y : z = 4 : 5 : 7$ ，若 $z = -28$ ，則 $x + y = \underline{\hspace{2cm}}$ 。

3. $\triangle ABC$ 中， D 、 E 分別在 \overline{AB} 、 \overline{AC} 上。若 $\overline{DE} \parallel \overline{BC}$ ， $\overline{BD} : \overline{DA} = 3 : 4$ ，則 $\overline{BC} : \overline{DE} = \underline{\hspace{2cm}}$ 。

4. 有一條彩帶長 100 公分，若按 5 : 4 : 3 的比例剪成三段後，再將此三段彩帶分別圍成正方形，則大、中、小正方形的面積比為_____。
5. 甲、乙、丙三人要合買一個禮物，甲錢數的 3 倍和乙錢數的 2 倍相等，乙錢數的 5 倍和丙錢數的 4 倍相等。

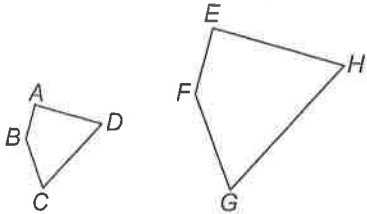


- (1) 甲、乙、丙三人的錢數比為_____。
- (2) 如果甲、乙、丙三人要合買一個 700 元的禮物，則甲出_____元。
6. 如上圖(十)，在一個高度是 12 公分的梯形容器內倒入沙子，並將一根長度為 20 公分的細棒插入沙中，細棒的一端剛好落在容器邊緣，觀測細棒露在沙子外面的部分，發現剛好有 5 公分在容器內，則沙子高度=_____公分。

圖(十)

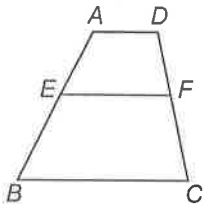
三、計算：(共 25 分)

1. 如附圖，四邊形 $ABCD \sim$ 四邊形 $EFGH$ 。A、B、C、D 的對應點分別為 E、F、G、H。若 $\overline{AB} = 2$ 、 $\overline{BC} = 3$ 、 $\overline{CD} = 5$ 、 $\overline{DA} = 4$ ，且 \overline{EF} 與 \overline{GH} 相差 6 公分，求四邊形 $EFGH$ 的周長。(5 分)



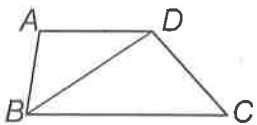
2. 如附圖，梯形 $ABCD$ 中，E、F 兩點分別在 \overline{AB} 、 \overline{CD} 上， $\overline{AD} \parallel \overline{EF} \parallel \overline{BC}$ ，且 $\overline{AE} : \overline{EB} = 3 : 4$ 。

- (1) 梯形 $Aefd$ 與梯形 $ABCD$ 相似嗎？請說明理由。(4 分)
- (2) 若梯形 $Aefd$ 與梯形 $EBCF$ 相似，則 $\overline{AD} : \overline{EF} : \overline{BC} = ?$ (3 分)

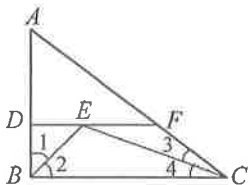


3. 如附圖，在梯形 $ABCD$ 中， $\overline{AD} \parallel \overline{BC}$ ， $\overline{AD} = 9$ ， $\overline{BD} = 12$ ， $\overline{BC} = 16$ 。試問：

- (1) $\triangle ABD$ 與 $\triangle DCB$ 是否相似？(3 分)
- (2) $\frac{\overline{AB}}{\overline{CD}} = ?$ (3 分)
- (3) $\angle ABD$ 和哪一個角的度數相等？(3 分)



4. 如附圖， $\triangle ABC$ 中， $\overline{DF} \parallel \overline{BC}$ ， $\angle 1 = \angle 2$ ， $\angle 3 = \angle 4$ 。若 $\overline{AB} = 3$ ， $\overline{AC} = 5$ ， $\overline{BC} = 4$ ，則 $\overline{DF} = ?$ (4 分)



澎湖縣立文光國民中學 111 學年度第 1 學期第 1 次成績評量 9 年級自然科試卷

答案請填入答案卷

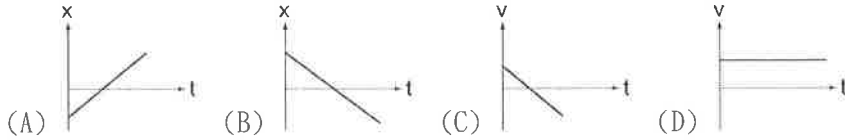
9 年____班 座號：_____姓名：_____

範圍：第 1 章直線運動、第 5 章我們身邊的大地、第 2 章力與運動 (2-1~2-3)

讀卡 答案卷

一、單選題 (40 題，每題 2 分，共 80 分)

() 1. 根據下列圖形，判斷何者是等加速度運動？



() 2. 如附圖，一物體作直線運動，自 A 點向右移動到 B 點，再由 B 點折返移動到 C 點，最後回到 O 點。則總位移及總路程分別為多少？ (A)總位移 1cm，總路程 19cm (B)總位移 19cm，總路程 -1cm (C)總位移 -1cm，總路程 -19cm (D)總位移 19cm，總路程 19cm。



() 3. 在向東等速行駛的火車上，有一盛水的燒杯靜置於桌面，忽然間，火車緊急煞車，則此燒杯內水面的狀態最有可能為下列何種圖形？(設右方為東方)

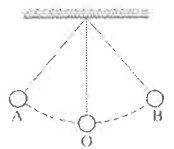


() 4. 甲物的質量為 3 公斤，施力使其產生 2 公尺/秒²的加速度，若施相同大小的力作用於質量為 2 公斤的乙物時，則乙物產生的加速度為多少公尺/秒²？ (A)3 (B)2 (C)1.5 (D)1。

() 5. 關於物體的加速度，下列何者正確？ (A)加速度一定時，物體可能做等加速度運動 (B)加速度的方向一定與速度的方向相同 (C)加速度減小，速度必減小 (D)速度為零，加速度必為零。

() 6. 下列有關自由落體的敘述(不計空氣阻力)，何者正確？ (A)物體質量不同時，落下的加速度也不相等 (B)物體落下過程中，每秒的速度變化量相等 (C)物體落下過程中，速度和加速度同時增大 (D)落下高度不同時，落下的加速度也不相等。

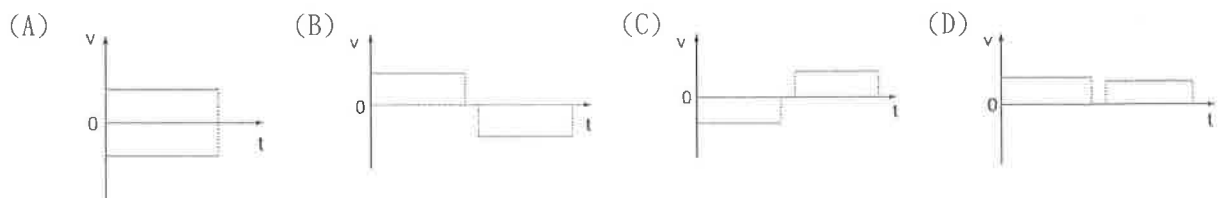
() 7. 小銘做單擺實驗，單擺每擺動一個週期，擺錘所走的路徑是？ (A)A→O→B (B)A→O→B→O (C)A→B→A→B (D)A→O→B→O→A。



() 8. 當物體作等速度運動時，其受力情形如何？ (A)受到固定大小的力作用 (B)一定沒有受到力的作用 (C)若受有力作用，所有外力的合力為零 (D)至少受到一個力的作用。

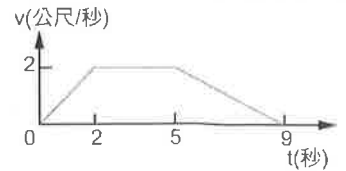
() 9. 下列有關牛頓第一運動定律的敘述，何者正確？ (A)靜置在水平桌面上的物體，並未受到任何外力作用 (B)牛頓經由軌道實驗和觀察，建立物體慣性的觀念 (C)公路上以等速度行駛的汽車，符合牛頓第一運動定律(D)物體不受任何外力作用時，必為靜止狀態。

() 10. 某人沿一直線街道以等速步行到郵局去寄信，在郵局內停留一會兒，再朝同方向，以比原來還慢的固定速率向前走到街口的便利商店買咖啡。如果往郵局的方向為正，則能近似描寫其運動情況的速度(v)－時間(t)關係圖為何？

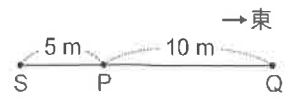


背面尚有試題

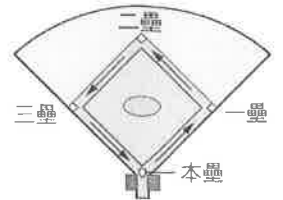
- () 11. 阿祿搭乘電梯由一樓直接上升到五樓，當電梯由靜止啟動後，電梯的速度 (v) - 時間 (t) 關係如附圖所示，下列敘述何者錯誤？ (A) 第 0 秒至第 2 秒之間，電梯做等加速度運動 (B) 第 2 秒至第 5 秒之間，電梯靜止不動 (C) 第 5 秒至第 9 秒之間，電梯速度與加速度方向相反 (D) 整個過程，電梯移動距離為 12 公尺。



- () 12. 阿銘在筆直的跑道上折返跑，他從 P 點起跑，其路徑為 P→Q→P→Q→P→S，總共歷時 15 s，如附圖所示。下列何者可表示此次阿銘折返跑的平均速度？ (A) 0.33 m/s (B) 0.33 m/s，方向向西 (C) 3 m/s (D) 3 m/s，方向向西。

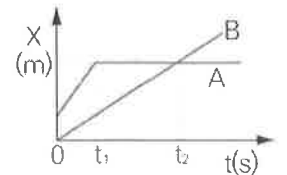


- () 13. 阿君在棒球比賽中擊出全壘打後，由本壘出發依序經過一壘、二壘、三壘後回到本壘，所經過的路線形成一個正方形。如附圖所示，已知每個壘包之間的距離為 27.4 公尺，則阿君擊出全壘打後跑動的路程及位移各為多少？ (A) 路程 109.6 公尺；位移 0 公尺 (B) 路程 109.6 公尺；位移 109.6 公尺 (C) 路程 0 公尺；位移 109.6 公尺 (D) 路程 27.4 公尺；位移 0 公尺。

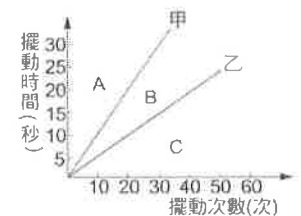


- () 14. 有一個 20 公斤重的冰桶，阿欣用 10 公斤重的力往上抬，冰桶仍靜止不動，下列敘述何者正確？ (A) 冰桶受到的合力為 10 公斤重 (B) 地面給冰桶摩擦力為 10 公斤重 (C) 冰桶給阿欣的反作用力為 10 公斤重 (D) 地面給冰桶的反作用力為 20 公斤重。

- () 15. A、B 兩車運動的位置 - 時間關係如附圖所示，請問下列敘述何者正確？ (A) 在 $t=0$ 時，A 車在 B 車前方 (B) A 車比 B 車先出發 (C) 在 t_2 時，B 和 A 車的速率相等 (D) 在 $t_1 \sim t_2$ 期間，A 車為等速度運動，持續穩定向前運動。



- () 16. 在同一地點，甲、乙兩單擺的擺動次數與擺動時間之關係如附圖所示，甲、乙兩單擺的擺角皆小於 5 度，若以 $L_甲$ 、 $L_乙$ 分別代表甲、乙兩單擺的擺長，以 $M_甲$ 及 $M_乙$ 分別代表甲、乙兩單擺的擺錘質量。此時若製作一個新的單擺丙，其擺長 $L_丙 < L_甲$ ， $L_丙 < L_乙$ ，而擺錘質量 $M_丙 = M_甲 + M_乙$ 。當單擺丙的擺角亦小於 5 度，此時測出的單擺週期為 $T_丙$ ，則單擺丙的週期曲線應該畫在圖中 A、B、C 區之中的哪個位置？ (A) A 區 (B) B 區 (C) C 區 (D) 與甲重疊。



- () 17. 下列對水循環的敘述何者正確？ (A) 人類可用的水資源，主要是水由雲層落至地表起至流入海洋為止的期間 (B) 水從液態轉變成氣態的能量變化為放出熱量 (C) 水經由凝結進入大氣 (D) 水經由循環可再被利用，因此我們可毫無節制地使用。

- () 18. 沉積岩是野外常見的岩石，關於其特徵，以下的描述何者正確？ (A) 常可見多種礦物，且結晶顆粒大 (B) 常可觀察到層狀構造 (C) 表面呈扁平狀，似經高壓作用 (D) 滴上稀鹽酸，均可產生氣泡。

- () 19. 在下列物質滴上稀鹽酸後，何者不會產生二氧化碳氣泡？ (A) 方解石 (B) 玄武岩 (C) 石灰岩 (D) 大理石。

- () 20. 北海岸的野柳地質公園以奇特岩石與地形聞名。附圖為公園內突出的蕈狀岩，請判斷此景的形成原因不包含下列何者？ (A) 冰川的侵蝕作用 (B) 岩石堅硬程度不同，而產生差異侵蝕 (C) 海浪的侵蝕作用 (D) 風化作用。



- () 21. 下列何者是地表最主要的地質作用力？ (A) 流水 (B) 波浪與海流 (C) 冰川 (D) 風。

- () 22. 關於河流侵蝕、搬運與沉積作用的敘述，下列何者錯誤？ (A) 沖積扇常出現於山腳下河川流速變慢之處 (B) 流速愈快，侵蝕、搬運的能力也愈強 (C) 河流在下游的侵蝕作用造成河流長度增加 (D) 在中、下游地區，河流侵蝕常形成寬廣的河道。

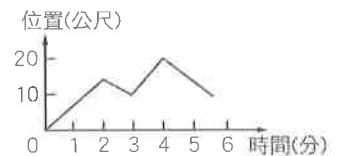
- () 23. 地質調查單位比對臺灣北部部分地區三十年前與近期的海岸線變化，發現某些海岸以每年約 2 公尺的速率後退。下列敘述何者並非造成此現象的原因？ (A)海浪的侵蝕 (B)在河川上游興建水庫或攔砂壩 (C)砍伐森林，減少山坡的植被 (D)在河道上濫採砂石。
- () 24. 花岡岩是建築上常見的石材，主要組成的礦物為石英、長石、雲母。下列敘述何者正確？ (A)長石風化後成為黏土礦物 (B)雲母為製造玻璃的原料 (C)陽明山盛產花岡岩 (D)花岡岩為岩漿噴發至地面急速冷卻形成。
- () 25. 關於頁岩和花岡岩之比較，下列何者正確？ (A)後者的礦物結晶顆粒較小 (B)前者常有生物遺骸的顆粒，後者則否 (C)前者是建築上常見的石材 (D)兩者都是火成岩。
- () 26. 下列何者不是政府禁止在河道上濫採砂石的原因？ (A)影響橋樑安全 (B)可能導致海岸線往陸地方向退縮 (C)影響砂石的價格 (D)改變流水對河道的侵蝕速率。
- () 27. 下列哪一種現象是河流搬運至河口的泥砂，多於被波浪及海流帶走的泥砂而形成？ (A)防風林被淹沒 (B)海水離村落住家愈來愈近 (C)海蝕平台範圍縮 (D)海埔新生地擴大。

- () 28. 右圖是某地區海岸線在某段時期的變化圖，關於此處海岸線的變遷，下列敘述何者正確？ (A)若河流上游興建多處攔砂壩，海岸線可能從 B 往 A 方向移動 (B)若河流持續帶來泥砂沉積，海岸線將從 B 往 A 方向移動 (C)颱風帶來的大浪持續衝擊，海岸線可能從 A 往 B 方向移動 (D)在海岸線 A 處興建海堤，即可讓海岸線位置不再變化。



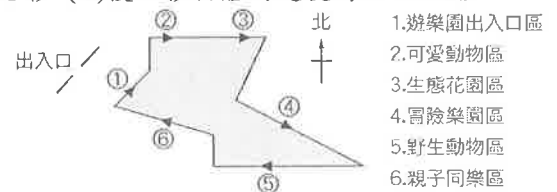
- () 29. 傑哥參加 2022 澎湖跳島 101K 自行車活動，若去程的平均速率為 15 公尺/秒、回程的平均速率為 5 公尺/秒。若去程與回程的路程相同，請問他來回的平均速率為多少？ (A) 7.5 m/s (B) 6.5 m/s (C) 10 m/s (D) 9 m/s。

- () 30. 小玲自學校向北出發，其位置與時間的關係如附圖所示，請問在圖形所示的期間內，小玲總共折返幾次？ (A)1 (B)2 (C)3 (D)4。




- () 31. 若有一物體沿直線做加速度為 2 公尺/秒²的等加速度運動，在某瞬間速度為 10 公尺/秒，則下列敘述何者正確？ (A)物體每秒速度的變化量為 10 公尺/秒 (B)物體再過 10 秒後的速度為 30 公尺/秒 (C)前 1 秒物體的速度為 12 公尺/秒 (D)後 1 秒物體的速度為 8 公尺/秒。

- () 32. 小欣與家人一起到遊樂園遊玩，剛入園的時候，從服務中心拿取遊園小火車路線圖，如附圖所示。圖中右方為遊園小火車路線上的各站名稱，箭頭表示小火車行駛的方向。請問搭乘小火車在哪兩站之間移動時，其位移大小與路程相等？ (A)⑥到① (B)②到③ (C)④到⑤ (D)⑤到⑥。



- () 33. 如附圖所示，每一格邊長為 1cm，一隻螞蟻從 A 點走到 B 點，其位移與路程分別為何？ (A)8 cm、4 cm (B)4 cm、8 cm (C)4 cm 向下、8 cm (D)4 cm、8 cm 向下。



- () 34. 下列有關「時間」的敘述，下列何者錯誤？ (A)一平均太陽日等於 86400 秒 (B)一分鐘等於 1/1440 平均太陽日 (C)一太陽日恰好為 24 小時 (D)一分鐘等於 60 秒。

- () 35. 如右圖，甲、乙兩人的質量分別為 60 kg 及 40 kg，兩人坐在水平地面的滑板車上，同時互拉。假設滑板車的質量、滑板車與地面的摩擦力忽略不計，則甲與乙的加速度之比，下列何者正確？ (A)3 : 2 (B)9 : 4 (C)4 : 9 (D)2 : 3。



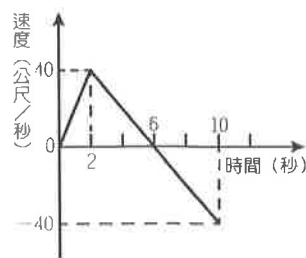
如附圖，甲、丙兩斜面與乙平面皆視為完全光滑，對於在其上運動的物體，不會產生摩擦力。當球自離地 20 公分處的 a 點靜止釋放後，在滾動至丙斜面的過程中，若空氣阻力可忽略不計，回答下列 36~37 題



- () 36. 小球在甲、乙兩個面的運動狀態分別為：(A)等速度運動、等速度運動 (B)等加速度運動、等速度運動 (C)等速度運動、等加速度運動 (D)等加速度運動、等加速度運動。
- () 37. 根據理論，小球最高應該可以到達哪一個位置？(A) b(高度 5 cm) (B) c(高度 0 cm) (C) e(高度 12 cm) (D) f(高度 20 cm)。

附圖為沖天炮升空到下墜的速度與時間的關係圖，請回答 38~40 題：

- () 38. 若沖天炮的質量為 0.1 公斤，則沖天炮在剛升空加速往上的時候受到的外力為：(A) 1 N (B) 2 N (C) 10 N (D) 20 N。
- () 39. 沖天炮上升到最高點離地面的距離為：(A) 40 m (B) 80 m (C) 120 m (D) 160 m。
- () 40. 依據關係圖，下列敘述何者正確？(A) 沖天炮上升到最高點的時刻為第 2 秒 (B) 第 10 秒時，沖天炮已墜落至地面 (C) 2 秒到 10 秒時，沖天炮正往下落 (D) 沖天炮發射後的第 5 秒，仍處於上升階段。



二、填充題：(10 格答案，每格 2 分，共 20 分，答案請填入答案卷中)

1. 甲、乙兩村位於河道兩岸，甲側河道有堅硬的岩層突出如附圖，試回答下列問題：

(1) 流水遇堅硬岩層流速降低，因此，甲處河流的侵蝕作用 (A) _____ 沉積作用；甲處受阻的河水流向乙處，乙處水量增多流速較快，此時乙處河流的侵蝕作用 (B) _____ 沉積作用。(以 >、= 或 < 填入)。



(2) 甲、乙哪一村的建築物，未來可能有些會面臨地基遭掏空的處境，必須興建堤防來預防。
答：(C) _____。

2. (甲) U 形谷；(乙) 風稜石；(丙) 海蝕平臺；(丁) V 形谷；(戊) 三角洲；(己) 恆春的風吹砂；(庚) 海蝕拱門；(辛) 河道中的鵝卵石；(壬) 沙洲。上述各種地形、景觀，分別是哪種作用力造成？

(1) 河流的侵蝕作用：(D) _____。


(2) 冰川的侵蝕作用：(E) _____。

(3) 風的搬運與沉積作用：(F) _____。

(4) 波浪與海流的沉積作用：(G) _____。

3. 小耕自高樓頂上釋放一個銅球，球到達地面需花費 10 秒，銅球從高樓釋放 (不計空氣阻力)，落下時的重力加速度為多少 m/s^2 ？(H) _____。此高樓的高度多少公尺？(I) _____。

4. 如圖，置於光滑平面上的 A、B 兩個物體，以兩條不計其質量的輕繩連結，且 $A=2\text{ kg}$ 、 $B=1\text{ kg}$ 。今以 T_1 的拉力向右拉 A 物體，A、B 物體一起移動， T_2 為向右拉 B 物體的拉力，而使兩木塊皆獲得一相同的加速度，則 $T_1:T_2$ 為何？(J) _____。



澎湖縣立文光國民中學 111 學年度第 1 學期第 1 次成績評量

9 年級自然科試題

答案卷

得分

9 年____班 座號：_____姓名：_____

一、 單選題 (40 題，每題 2 分，共 80 分)

1	2	3	4	5	6	7	8	9	10
11	12	13	14	15	16	17	18	19	20
21	22	23	24	25	26	27	28	29	30
31	32	33	34	35	36	37	38	39	40

二、 填充題 (10 格答案，每格 2 分，共 20 分)

(A)	(B)	(C)	(D)	(E)
(F)	(G)	(H)	(I)	(J)

澎湖縣立文光國民中學 111 學年度第 1 學期第 1 次成績評量 9 年級地理科試卷

班級： 姓名： 座號： 讀卡 答案卷


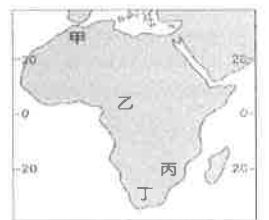
單一選擇題（第 1 題～第 20 題，第 1～15 每題 2 分，第 16～20 題，每題 1 分，共 35 分）

*簡易選擇題：（第 1 題～第 7 題，每題 2 分，共 14 分）

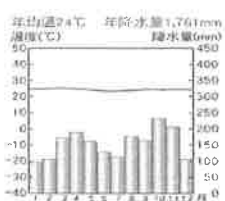
- 小至觀察地理課本中的非洲地形圖，發現圖中以不同顏色表示不同高度，非洲許多地區大的面積顏色相同，僅部分地區因板塊運動在小範圍內顏色變化明顯。小至發現的「小範圍內顏色變化明顯」的地理區，最有可能位於非洲何處？(A)剛果盆地 (B)東非大裂谷 (C)撒哈拉盆地 (D)尼羅河三角洲。
- 非洲蘊藏豐富的礦產資源，世界上最重要的 53 種礦產在非洲都有，如鉻、鎳、鈷、鉑、金、鈾、銅等，非洲蘊含豐富礦產，與下列何者的關係最密切？(A)多濃密的原始森林 (B)沙漠面積十分廣大 (C)地層為古老結晶岩 (D)河流侵蝕切割劇烈。
- 漠南非洲多數居民所從事的維生活動，在部分人眼中，似乎是「落後且產量低」，但從漠南非洲的自然環境來看，卻是合乎生態平衡的原則。下列漠南非洲的經濟活動中，哪些對自然環境的干擾最小，最符合「生態平衡」？(甲)採集 (乙)漁獵 (丙)採礦 (丁)熱帶栽培業 (A)甲丙 (B)甲乙 (C)丙丁 (D)乙丙。
- 現今非洲許多國家的國內政治及經濟活動，深受早期殖民母國的影響，形成該地區國家的發展問題。請問：這些殖民母國當時以掠奪非洲哪些資源為主要目標？(甲)漁業資源 (乙)人力資源 (丙)林業資源 (丁)農、礦資源 (A)甲乙 (B)乙丙 (C)甲丙 (D)乙丁。
- 四位同學地理課時上台報告漠南非洲大部分地區的人口特徵，哪一位敘述最符合事實？(A)西瓜：勞動力嚴重不足 (B)哈密瓜：貧窮人口比例高 (C)冬瓜：移入率大於移出率 (D)南瓜：出生率低、死亡率高。
- 雜誌報導：「受限於某項發展上的限制，非洲東部的肯亞直接跳過固網（只透過金屬線等固態媒體傳送訊號的電信網路）而發展行動網路，跳過銀行而由電信公司發展支付系統，成為非洲的科技中心。手機目前是居民做生意的工具，以及與銀行往來的媒介。」由文中推論，「發展上的限制」是指下列何者？(A)平均壽命較低 (B)人民普遍貧窮 (C)基礎設施不足 (D)識字人口不多。
- 發生於 1994 年的「盧安達事件」，起因為境內的胡圖族對圖西族展開殘暴的大屠殺，在 100 天中有近百萬人慘遭殺害，震驚全球。以上顯示漠南非洲的哪一個問題？(A)貧富不均 (B)族群問題 (C)礦產缺乏 (D)環境惡化。

*圖形判讀題：（第 8 題～第 11 題，每題 2 分，共 8 分）

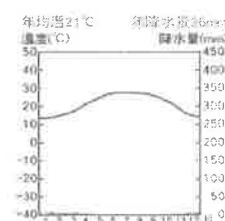
- 許同學來到非洲某一處地方，四周被高山、高原圍繞，且叢林密布，四處都可見到高大的雨林。請問：許同學最有可能到達右圖中何處？(A)甲 (B)乙 (C)丙 (D)丁。
- 小華和羽喬是文光國中學生，他們利用寒假期間到非洲旅行，以下是他們對話內容：小華：「這個葡萄園裡有一望無際的葡萄，看了真令人垂涎欲滴啊！」羽喬：「這個季節不常下雨，也是葡萄採收的季節，喝紅酒賞美景真陶醉！」由上述兩人的對話推斷，兩人的旅遊地點應位於右圖何處？(A)甲 (B)乙 (C)丙 (D)丁。
- 安安同學前往非洲進行田野調查，每一年居住在一個地區，沿途觀察記錄各地的氣候數據，如附圖所示。請問：由安安的田野調查記錄推判，其在非洲的前進路線，大致方向為何？(A)由北向南 (B)由南向北 (C)由東向西 (D)由西向東。



2019 年居住地

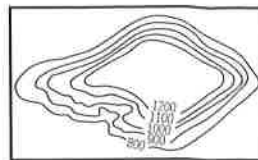


2020 年居住地



2021 年居住地

11. 非洲因某地形占 60% 以上，故被稱為「○○型大陸」，如右圖。請問：
其地形主體稱之為？(A)平原 (B)山地 (C)盆地 (D)高原



*題組：(第 12 題～第 20 題，12～15，每題 2 分，16～20，每題 1 分)

*非洲國家數目眾多，各國發展差異甚大，請問：

12. 非洲是目前世界上國家數目最多的一洲，此現象與哪一個因素關係最密切？(A)聯合國強制劃分 (B)殖民地的背景 (C)地形崎嶇不利統一 (D)種族複雜語言差異
13. 該國盛產黃金、鑽石與鈾礦，是目前非洲經濟最發達的國家，近年來努力引進外資，從事產業升級。請問：上述國家為何？(A)埃及 (B)肯亞 (C)奈及利亞 (D)南非共和國。
14. 該國是世界上著名的咖啡豆生產地，為了改善農民生活，該國政府在美國替其生產地申請商標權，如耶加雪菲、西達摩等，以彰顯其產地特色。請問：該國為何？(A)衣索比亞 (B)象牙海岸 (C)剛果共和國 (D)阿爾及利亞。

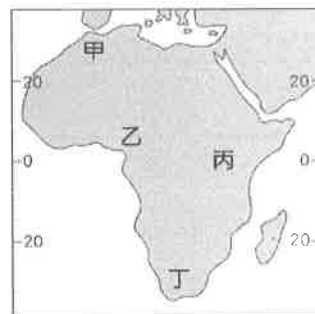
*非洲知名的動物大遷徙，每年有超過 200 萬頭的牛鈴、斑馬、羚羊等動物，為尋找食物而大規模移動，主要分佈在塞倫蓋提大草原，其範圍涵蓋肯亞、坦尚尼亞二國。每年 6~7 月，位於南半球的坦尚尼亞進入旱季，故動物移往北部的肯亞（此時正值雨季過後，水草豐美），在 11 月短雨季來臨前，又千里迢迢地返回坦尚尼亞，估計牠們每年要走 3 千多公里的路。

15. 若想欣賞數百萬動物集體遷徙的壯觀場面，應前往非洲哪一部地區旅遊？(A)東部非洲 (B)南部非洲 (C)西部非洲 (D)中部非洲。
16. 坦尚尼亞在每年 6~7 月進入旱季，12 月~隔年 5 月則為雨季。請問：坦尚尼亞的氣候類型應為何者？(A)溫帶地中海型氣候 (B)熱帶莽原氣候 (C)高地氣候 (D)熱帶雨林氣候。

*顏老師在週末前往台北進修時，在校園附近發現了一家以標榜「公平貿易」以及眾多貓咪陪伴為主體的咖啡店，在好奇心驅使下，前往該店進行消費，發現原來所謂的「公平貿易咖啡」的發想是由於咖啡的價格受制於期貨市場來決定，小農沒有議價的自由，而全球四大跨國咖啡企業的投機炒賣，造成咖啡豆的價格暴起與暴跌。許多咖啡小農付出的成本比他們的收入還低，一杯一百元的卡布奇諾，讓遠在衣索比亞的農民，所獲得的利潤甚至少於一塊美金！「不公平咖啡」讓 250 多萬的咖啡小農處於飢餓、三餐吃不飽的生活，甚至需要接受醫療餵食，小朋友沒辦法就學，社區沒有乾淨的飲水設備。有鑑於此，「公平貿易」的機制至此產生，以「友善小農」、「友善環境」、「友善消費者」三大理念來改善當地種植情況，以增加產地收入，消弭資本主義帶來貧富差距的問題。

請問：

17. 顏老師所喝到的公平貿易咖啡，其標註的產地最可能位於附圖中何處？(A)甲 (B)乙 (C)丙 (D)丁。
18. 從文中敘述判斷，沒有公平貿易制度的非洲農民面臨哪些問題？
(A)兒童充分學習，無暇協助農耕 (B)缺乏乾淨水源，生病無處就醫
(C)農民工時過短，收入普遍低落 (D)過度栽種稻米，咖啡耕地缺乏
19. 下列哪一項敘述，最符合公平貿易組織的成立的宗旨？ (A)改善農民生活環境，給予合理報酬 (B)獨占商品生產，提高企業生產利潤
(C)拉攏第三世界，加強殖民的控制力 (D)提升人民經濟收入，達到世界尖端。
20. 衣索比亞農民長期貧困，是由天然環境與外在人為因素交互影響而成。請問，下列哪一段的敘述，並非非洲經濟貧困的原因？(A)被迫從事利潤低的稻作農業 (B)人口過多瓜分經濟發展成果
(C)原料價格由西方企業控制 (D)易受市場價格影響。



【～試題結束，文光九年級、地理科～】

澎湖縣立文光國民中學 111 學年度第 1 學期第 1 次成績評量 9 年級歷史科試卷

班級：

姓名：

座號：

讀卡

答案卷

單一選擇題 (第 21 題 ~ 第 40 題, 第 21 ~ 35 每題 2 分, 第 36 ~ 40 題, 每題 1 分, 共 35 分)

21. 這個宗教的特徵是二元論, 認為世上有善神與惡神相互對抗, 但最後善神會戰勝惡神。此外, 信徒必須確實遵守善思、善言、善行, 一生皆應學習與跟隨這三項真理。請問: 關於這個宗教的說明, 下列敘述何者正確? (A)這是古巴比倫人的信仰 (B)這個宗教崇拜象徵光明的火 (C)信徒認為自己是上帝的選民 (D)這個宗教特別崇拜尼羅河神。
22. 上歷史課時, 同學們正在討論古代某一民族的特色。冬刮: 這個民族曾建立歷史上第一個橫跨歐、亞、非三洲大帝國; 希瓜: 帝國建立後採取中央集權統治, 各地區由由中央任命官員管理; 晨辰: 他們信仰祆教, 認為火是光明的象徵由內容判斷, 同學們討論的應該是哪一個民族? (A)蘇美人 (B)波斯人 (C)希伯來人 (D)巴比倫人。
23. 西亞某一個民族尊奉耶和華為唯一真神, 並堅信是上帝的選民, 並且編成一部聖經, 後世稱為聖經。請問: 這個民族為下列何者? (A)埃及人 (B)阿拉伯人 (C)希伯來人 (D)巴比倫人。
24. 《漢摩拉比法典》是目前已知較早的成文法典, 下面列舉的是部分條文內容: 秀秀假如傷害真真的眼睛, 那麼真真也可以傷害秀秀的眼睛。請問: 這些內容反映出哪一種立法精神? (A)以牙還牙的報復主義 (B)強調寬容的博愛精神 (C)和平理性的補償觀念 (D)嚴以律己的犧牲精神。
25. 承上, 該法典是用哪一種文字刻寫的? (A)象形文字 (B)甲骨文 (C)拼音文字 (D)楔形文字。
26. 在某個古文明展覽會中, 有一塊解說牌上寫著: 「死亡不是生命的終結, 而是邁向永生的必經過程。……為了達到這個目的, 必須保存肉身完整, 因為肉身的毀壞代表永遠不能死而復生。」這個展覽可能是介紹哪一個文明? (A)蘇美 (B)埃及 (C)印度 (D)中國。
27. 承上, 在死後審判的觀念下, 人們會將希望寄託於復活的來生, 因此可能出現下列何種作為? (A)將死者製作成木乃伊 (B)頒布報復主義的法典 (C)虔誠信奉光明善神 (D)發明六十進位法。
28. 關於埃及古文明的敘述, 下列何者錯誤? (A)尼羅河深刻影響埃及人的生活 (B)金字塔的興建, 帶動幾何學以及測量學的發展 (C)古埃及人的文字, 後來經腓尼基人的改良, 傳到地中海一代, 成為西方拼音文字的基礎 (D)為了掌握尼羅河氾濫週期, 制定了陰曆。
29. 關於西亞古文明的敘述, 下列何者錯誤? (A)主要文明帶位於幼發拉底河以及底格里斯河, 又稱之為肥沃月灣 (B)最早在這裡建立城邦的是巴比倫人 (C)波斯人征服西亞, 埃及等地, 建立了橫跨歐亞非的波斯帝國 (D)希伯來人的猶太教為一神信仰。
30. 老師在課堂上講解四大古文明 (中國、西亞、埃及、印度) 的發展趨勢時, 歸納出這四大古文明發展的共通特色, 請問下列哪一項特色? (A)這些古文明皆發源於河流附近 (B)這些地區都有發達的農業特色 (C)這些文明都發展出特別的一神信仰 (D)這些文明強盛時, 均發展出橫跨歐亞非三洲的大帝國。
31. 雅典的民主政治被視為是民主政治的源頭。關於雅典的民主政治與現代民主政治的差異, 下列說明何者正確? (A)現代的民主政治強調主權在民, 人民皆能參與投票 (B)雅典的民主政治無分

男女或奴隸，均有權議決政事 (C)現代民主政治，婦女、外來人口皆無法表達意見 (D)雅典的民主政治是公民抽籤，輪流擔任城邦官員。

32. 「這個城邦的男性從小接受嚴格的軍事訓練，成為無畏無懼的戰士，在面對敵人時勇往直前，絕不退讓。因此，作戰實力堅強，即是此城邦的特色之一。」請問：上述的城邦應該是指何者？(A)羅馬 (B)雅典 (C)斯巴達 (D)巴比倫。
33. 一本傳記中提到：「這位領導者以卓越的智慧和強硬的手段，完成了羅馬由共和邁向帝國的轉變，並解決了羅馬共和末期的種種危機，締造了一個新的帝國時代……。」請問：此傳記的標題應為何者？(A)凱薩傳 (B)屋大維傳 (C)君士坦丁傳 (D)亞歷山大傳。
34. 「居住在奧林帕斯山上的希臘眾神，將要舉辦海洋女神賽蒂斯下嫁凡人英雄佩柳斯的婚禮。婚宴那天，希臘眾神都接到了喜帖，卻只有搗亂女神厄里斯沒有被邀請。憤怒的厄里斯，在眾神酒酣耳熱之際，將一顆寫著『獻給最美麗的女神』的金蘋果，丟進婚禮現場，立刻引來了眾女神的紛搶爭奪、互不相讓……」請問：從這篇故事中，可知希臘眾神具有何種特色？(A)與凡人沒有差別，嚮往舉行盛大的婚禮 (B)都住在奧林帕斯山上，和諧快樂的相處 (C)都聽從厄里斯所言，爭奪金蘋果的榮耀 (D)具有突出的個性，擁有喜怒哀樂的情感。
35. 欣欣到埃及旅遊，除了參觀著名的金字塔及獅身人面像外，也看到具有古希臘風格的神殿遺跡，這種風格的神殿建築會出現在埃及，與下列何者關係最密切？(A)羅馬帝國擴張 (B)亞歷山大東征 (C)波斯帝國入侵 (D)腓尼基人的傳播。
36. 在西方歷史中，有一段時期被史學家稱之為「羅馬和平」，這段時期是以下列何者作為開端？(A)凱撒遠征邊族，消除危害羅馬政權的勢力 (B)屋大維即位，掌握大權重建政治社會秩序 (C)君士坦丁將基督教合法化，解除宗教衝突 (D)查士丁尼頒布新法典，革除民間傳統陋習。
37. 一位法學家說道：「羅馬曾三次征服世界，第一次是武力、第二次是宗教、第三次是法律。而第三次也許是其中最和平、最持久的征服。」若想印證這位法學家的說法，可以舉下列何者為例？(A)荷馬史詩 (B)歷史 (C)幾何原本 (D)十二表法。
38. 請問：「希臘化文化」是融合哪些地區的文化而形成？(A)希臘、埃及、波斯、羅馬 (B)希臘、羅馬、埃及、印度 (C)希臘、西亞、埃及、波斯 (D)波斯、羅馬、西亞、印度。
39. 關於羅馬帝國的敘述，下列何者正確？(A)政治上：帝國時期，由於凱撒專權，導致最後被政敵刺殺 (B)版圖上：共和時期已經遠征至不列顛地區 (C)文化上：吸收希臘文化的科學知識，應用於公共建築上 (D)制度上：「十二表法」包含羅馬人的傳統法律以及各地的風俗習慣，使公民的權利獲得保障。
40. 關於「東羅馬帝國」的敘述，下列何者錯誤？(A)查士丁尼大帝任內，以恢復「古羅馬的光榮」為號召，積極對外擴張版圖 (B)政治上維持中央集權體制，在經濟、文化與宗教等方面與西歐地區差異漸大 (C)完善保存古希臘、羅馬的典籍，有助於日後歐洲文化的發展 (D)最後為日耳曼蠻族所滅。

【～試題結束，文光八年級、歷史科～】

澎湖縣立文光國民中學 111 學年度第 1 學期第 1 次成績評量 9 年級公民科試卷

班級： 姓名： 座號：

■讀卡 □答案卷

一、 單選題(41~50 題，每題 2 分；51~55 題，每題 1 分。單選題共 25 分)

- () 41. 附表為某間咖啡店的四項熱銷商品，在上個月的銷售情形。根據表中資料判斷，哪一個商品為店家帶來最高的利潤？ (A)國王的拿鐵 (B)皇后的卡布奇諾 (C)公主的焦糖瑪奇朵 (D)王子的海鹽咖啡。

商品	銷貨收入	成本
國王的拿鐵	10 萬	2 萬
皇后的卡布奇諾	15 萬	4 萬
公主的焦糖瑪奇朵	18 萬	8 萬
王子的海鹽咖啡	7 萬	1 萬

- () 42. 以下為輕鬆購百貨公司於 11 月舉行的週年慶宣傳文宣：從文宣中的活動規畫，可觀察到這兩項活動有什麼差異？

(甲)第一部分活動 卡友消費滿額送好禮 11.01~11.03 持有單筆 299 元發票 贈可愛設計手提袋(送完截止)
(乙)第二部分活動 整月持○○信用卡，刷滿 15,000 元 即送香氛沐浴乳

- (A)甲活動採用輪流使用的分配方法
(B)乙活動採取先占先贏的分配方法
(C)甲的分配方法可能出現爭取資源的衝突
(D)乙的分配方法需要耗費較多時間來協調。

商品	商品價格	銷貨數量
甲	100	1,000
乙	150	2,000
丙	120	1,500
丁	80	3,000

- () 43. 右表為某間公司生產的四樣商品—— 因為上一季四項商品的利潤都一樣，公司檢討之後打算下一季要增加生產「生產成本最低者」及停產「生產成本最高者」。依據表中數據判斷，下一季增產與停產的兩項商品應分別為下列何者？ (A)甲；乙 (B)乙；丙 (C)丙；丁 (D)丁；甲。

價格	項目	喜好順序
1,000 元	遊戲軟體	2
1,000 元	樂高積木	1
1,000 元	機器人	4
1,000 元	小熊撲滿	3

- () 44. 小安安要選購生日禮物，媽媽說可以從遊戲軟體、樂高積木、機器人、小熊撲滿四種商品中挑選。附表是小安安對這四種商品的喜好順序—小安安最後決定購買樂高積木，則他做此選擇的機會成本為何？ (A)遊戲軟體 (B)樂高積木 (C)機器人 (D)小熊撲滿。

- () 45. 從事消費行為者稱為「消費者」。依此判斷，下列何者可以稱為消費者？ (A)「鄭恩」捐款給慈善團體 (B)「夏鈞」經營小吃店 (C)「陳宇」購買書籍 (D)「陳元」進行垃圾分類與資源回收。

- () 46. 陳經理跟朋友聊天時提到：「一天只有二十四小時，我每天都分身乏術，忙不過來，寫報告就沒辦法開會，拜訪客戶就不能進行小組討論。」陳經理的說法顯示了哪項概念？ (A)機會成本 (B)資源無限 (C)欲望有限 (D)選擇自由。

- () 47. 澎湖某飯店，原本周遭就有許多同業競爭，新冠肺炎的疫情一來，遊客減少，營收大減，即使房東願意降低房租，仍不敵疫情造成的損失衝擊，宣布停止營運。根據上述內容，影響飯店業者結束營業的原因，下列何者正確？ (A)銷貨收入減少 (B)生產成本增加 (C)商品價格下滑 (D)同業惡性競爭。

- () 48. 右表是謝老師請同學完成的學習單—下列哪個同學的答案是正確的？ (A)宣宣：「甲是銷貨收入，乙是利潤。」 (B)敏敏：「甲是銷貨收入，乙是機會成本。」 (C)浩浩：「甲是利潤，乙是銷貨收入。」 (D)瑋瑋：「甲是利潤，乙是機會成本。」

甲 = 乙 - 生產成本
乙 = 商品價格 × 銷售量
請問：甲、乙依序為何？

- () 49. 就讀國中的小凱頻頻惹事，媽媽為了能夠全心全意照顧他，乃辭去某出版社月薪收入 50,000 元的編輯工作，且為了讓小凱能考上公立高中，另外花費 15,000 元請家教老師。小凱媽媽做出這樣的決定，其「機會成本」會是多少？ (A)15,000 元 (B)35,000 元 (C)50,000 元 (D)65,000 元。

- () 50. 從事各種經濟選擇的最終目的為下列何者？ (A)製造出無限的資源，滿足人類所有的欲望 (B)斷絕人類所有的欲望，避免浪費資源 (C)將無限的資源做最有效率的使用，追求個人欲望最小的滿足 (D)將有限的資源做最有效率的使用，追求個人欲望最大的滿足。

【第 1 頁結束 後面尚有試題】

- () 51. 下列各項消費行為當中，何者是受到預期心理所影響？(A)百貨公司週年慶大特賣，採購人潮爆滿 (B)汽油價格即將上漲，加油站前等著加油的車輛大排長龍 (C)張先生被公司裁員，平日省吃儉用減少消費 (D)小林買了廣告主打的新款手機。
- () 52. 一群媽媽在聚會中分享對於小孩課業不佳的處理方式——右表分享的內容中，哪些運用的是正向誘因？(A)小薰、阿玲 (B)筱雯、淑美 (C)小薰、筱雯 (D)阿玲、淑美。
- () 54. 如果市場上麵包價格下跌，饅頭價格上漲，請問消費者及生產者的資源分配，下列敘述何者錯誤？(A)消費者會少買饅頭 (B)生產者會改賣麵包 (C)消費者會多買麵包 (D)生產者會改賣饅頭
- () 55. 大多數停車場對身心障礙者有專屬的停車位，主要是基於下列哪一項考量？(A)機會成本 (B)公平正義 (C)使用人數 (D)最大效益。

小薰：我家採取不打不成器的方式，只要出現不良習慣，就用懲罰來制止。

阿玲：我和小孩會一起討論，如果課業表現良好，要買什麼物品作為獎勵。

筱雯：孩子課業欠佳一定是缺乏練習，唯有犧牲玩樂時間才能夠迎頭趕上他人。

淑美：我家小孩較缺乏自信，所以我都曾用讚美來加強她的各項表現。

二、題組(第 56~60 題，每題 1 分，共 5 分)

1. 新冠肺炎疫情期間，曾有媒體報導：「由於新冠疫苗分配數量有限，民眾即使登記施打疫苗，也不一定能施打到自己想要廠牌的疫苗。此外，由於現有疫苗不足以施打全國民眾，政府優先開放第一到三類對象施打，各縣市也優先安排高齡長者施打疫苗。」根據報導內容，請回答下列問題：

- () 56. 有關疫苗的施打情形，下列說明何者正確？(A)疫苗取之不盡用之不竭 (B)疫苗具有稀少性，面臨選擇問題 (C)疫苗被少數人把持，缺乏公平正義 (D)每人可選擇兩種以上的疫苗。
- () 57. 文中情形，與下列哪一句話的概念有關？(A)雞蛋不要放在同一個籃子 (B)魚與熊掌不可兼得 (C)天生我材必有用 (D)三天捕魚兩天晒網。

2. 根據(甲)《路透社》報導，受到新冠肺炎的疫情衝擊，麥當勞過去一年的收入大幅下降，因此計畫透過促銷方式，增加買氣。西元 2021 年 5 月 26 日起，(乙)麥當勞與南韓人氣團體(丙)防彈少年團(BTS)合作，在 50 個地區推出聯名套餐。臺灣在 6 月 9 日開賣後同樣引發熱潮，限賣 20 天。除了主打紫色系包裝的餐點，還有限量聯名合作商品，包含連帽衫、紫色浴袍、襪子、涼鞋等周邊，都讓(丁)粉絲為之瘋狂。請根據上文內容，回答以下問題：

- () 58. 下列何者的身分不屬於生產者？(A)甲 (B)乙 (C)丙 (D)丁。
- () 59. 文中企業的做法，主要考量哪些因素對消費者行為的影響？(A)商品價格 (B)預期心理 (C)個人偏好 (D)薪資所得。
- () 60. 文中企業的做法，其目的在於透過何者來提高利潤？(A)提高商品價格 (B)降低生產成本 (C)刺激銷售數量 (D)削價惡性競爭。

【試題結束—文光九年級、公民科】

