

澎湖縣立文光國民中學 111 學年度第 1 學期第 2 次成績評量九年級國文科【試題卷】

班級：

姓名：

座號：

讀卡

答案卷

一、國字注音：(每格 1 分，共 12 分)

1. 「惴」慄不安	2. 雪山「ムメノ」道	3. 抽「搐」	4. 「莘」莘學子
5. 獨占「幺ノ」頭	6. 「庠」序之教	7. 罹「斃ノ」	8. 難「巧巧」
9. 「妣」紫嫣紅	10. 「旖」旖風光	11. 孤苦「力一ムノ」行	12. 羞「赧」

二、解釋：(每題 2 分，共 14 分)

1. 水到渠成	2. 「拂」士	3. 「縹」碧	4. 炒魷魚	5. 吠畝	6. 曾益其所不能	7. 願景
---------	---------	---------	--------	-------	-----------	-------

三、選出適當的成語，將正確的答案代號填入各題空格處：(每題 1 分，共 16 分)

A. 長袖善舞	B. 防微杜漸	C. 子虛烏有	D. 紅燈綠酒	E. 慘綠少年	F. 緣木求魚	G. 蜀犬吠日
H. 杯水車薪	I. 重作馮婦	J. 雞鳴狗盜	K. 苟延殘喘	L. 繁絃急管	M. 沸沸揚揚	N. 三緘其口
O. 以管窺天	P. 尺有所短，寸有所長	Q. 摩頂放踵	R. 寧為雞口，不為牛後			
S. 棋高一著	T. 道貌岸然					

- 對這件事情完全不了解，只好()，不好插嘴。
- 那些()經過輔導後，努力充實自己，終於獲得大家的肯定。
- 大地震之後，許多人()為災區重建而奔走。
- 今天我們所以要注意這些小地方，目的在()，免得日後釀成大問題。
- 不是我愛批評，那些連這點常識都沒有，就大聲嚷嚷的人，不是()又是什麼？
- 兩隊因為實力懸殊，下半場時，弱隊只能()，勉強撐到終場。
- 如果是一些小事，那我這招()的小技巧，也許可以幫上忙。
- 為了唬住對方，他一反平日的嘻笑態度，裝得一副()的樣子。
- 判斷事情如果過於狹隘武斷，以偏概全，譬猶()，往往會影響個人的判斷與學習能力。
- 還是您()，三兩下就把這個棘手的問題解決了。
- 在()的都市中，容易迷失自我，不可不慎。
- 他憑著廣大的人脈和()的本事，很快將事業做了起來。
- 雖然有個升遷的機會，但幾經思量，他決定()，還是留在原單位，不調動。
- 這位江姓影后息影多年，在導演力邀下()，復出影壇。
- 想要減肥就要節制飲食、多運動，若單靠藥物無疑是()。
- 對於一切()的指控，我們將保留所有具體證據，並委由專業律師提出申訴。

四、選擇題：(每題 2 分，共 40 分)

- 朱峻打算題字一幅贈送友人，希望藉此鼓勵他滌盡俗慮，忘卻官場紛擾，樂享逍遙寫意的生活。下列何者最不適合贈予朱峻之友？
 (A) 世事洞明皆學問，人情練達即文章 (B) 久在樊籠裡，復得返自然
 (C) 採菊東籬下，悠然見南山 (D) 鳶飛戾天者，望峰息心；經綸世務者，窺谷忘返。
- 吳均與宋元思書：「泉水激石，泠泠作響；好鳥相鳴，嚶嚶成韻。蟬則千轉不窮，猿則百叫無絕。」這段文字想表達下列何者？ (A) 富春江沿岸物種豐富多元，令人目不暇給

(B)摹寫大自然中各種聲響，呼應「異水」二字

(C)描寫途中各種聽覺之美，襯托出山谷的幽靜

(D)描繪峰谷中的生態景觀，呈現富春江山水之美。

- 3.「遠望方覺風浪小，凌空乃知海波平。山阻石攔，大江畢竟東流去，雪辱霜欺，梅花依舊向陽開。」(李燕傑)關於這段文字的說明，下列何者「有誤」？(A)勸人努力跨越困難 (B)以堅毅的態度克服挑戰 (C)不怕欺凌，堅守一身傲氣 (D)面對困境可以選擇逃避。
- 4.陳老師指導學生將「 」中詞語替換成意思相近者。下列何者作答正確？
(A)正哲：鳥鳴啁啾，在花樹間「嚶嚶成韻」——蕭蕭嘶鳴
(B)家玫：從山巔俯瞰，眼前氣勢雄渾，景色「天下獨絕」——舉世無雙
(C)冠甫：溪流清澈見底，水草石縫間的游魚「直視無礙」——望穿秋水
(D)儀雯：他年紀輕輕，在官場上就已「飛黃騰達」，令人羨慕不已——雞犬升天。
- 5.下列文句所用的描述筆法，何者含有最濃厚的主觀想像成分？
(A)放眼望去，老舊的城牆磚縫裡，蔓生許多藤蘿與雜草
(B)寂寞街燈的星芒，化作展翅的天使，迎接著夜歸的我
(C)溪邊一棵苦楝樹上，一隻畫眉正引吭高唱，鳴聲響遍四野
(D)高腳玻璃杯托住一球細勻結實的冰淇淋，透著鮮嫩的色澤。
- 6.「一九八〇年代曾有記者前往賈伯斯家中進行採訪，只見在偌大客廳裡僅擺放著兩把十七世紀風格的古典木椅，其他家具則盡付闕如。走進臥室一看，整個房間裡竟然連一張床都沒有，只擺上一張床墊。因為賈伯斯看過很多張床，但沒有一張令他滿意，便直接睡在床墊上。」根據上述內容，賈伯斯只睡在床墊上的可能原因為何？
(A)創業初期的收入有限，只買得起床墊 (B)生活奢靡而人不敷出，只剩床墊可睡
(C)其個性崇尚完美主義，因此寧缺勿濫 (D)其個人喜好過於獨特，難覓舒適床鋪。
- 7.賈伯斯以「永不滿足，長保傻勁」為演講主題，其用意為何？
(A)鼓勵大家把握機會，勇於創新 (B)期望大家虛心學習，勿與他人比較
(C)告誡學子要繼續深造，鑽研高深學問 (D)勉勵學子熱愛學習，堅持理念，不計得失。
- 8.永不滿足，長保傻勁——賈伯斯的人生三堂課一文中賈伯斯認為「被蘋果炒魷魚反而是人生中最棒的一件事」，其原因可能為下列何者？
(A)面對現實，不再受人情世故牽絆 (B)危機就是轉機，因而開創人生新局
(C)因職場的殘酷而更懂得保護自己 (D)認清自己缺乏領導能力而另謀他就。
- 9.「手機是一種不斷翻新的科技產品。從心理學的角度分析，人們的天性對新生事物總帶有無盡的好奇心和主觀意識上的認同感，往往在極力開發新生事物內在潛質的同時，卻忽視了去警惕新生事物對自身產生的某些新的不利因素，更嚴重的，還因商業利益在極力掩蓋問題的存在。手機作為一種新媒介，它帶來了新文化。但是任何新文化並不就是完美的，唯有不斷將問題排除，人類的優秀文化才能不斷向前發展。」(馬歇爾)下列何者是本文想要傳達的想法？
(A)手機的發展將破壞人類原有的文化 (B)手機只能滿足好奇心，卻無法帶來進步
(C)創新的科技還需剔除雜質，才能繼續發展
(D)只要跟商業利益扯上關係，就永遠不是好文化。
- 10.「沒有哪一個人生故事是單獨存在的。有時候，故事與故事會在轉角相遇；有時候，一個故事會疊上另一個故事，像河床底下的石頭層層疊起。」這句話的涵義，與下列何者最接近？
(A)故事鋪陳了生活中的喜怒哀樂，有了故事，心情才有宣洩的出口
(B)人與人之間是交織的網路，無論相逢與否，都存在不同程度的關連

- (C)人生是由一連串的故事組合而成，認真生活，就會是一本精彩的小說
(D)沒有一個人能單獨生活，珍惜與朋友相遇的機會，把它化成未來的助力。
11. 生於憂患死於安樂一文中六位歷史人物的事例，用什麼俗諺、佳句來形容最貼切？
(A)將相本無種，男兒當自強 (B)人窮可致富，志高能成事
(C)行遠必自邇，登高必自卑 (D)三十年河東，三十年河西。
12. 生於憂患死於安樂文中「徵於色，發於聲，而後喻」這段話可用來形容下列何種人？
(A)生而知之者 (B)學而知之者 (C)困而學之者 (D)困而不學者。
13. 「生於憂患，而死於安樂」所要表達的道理，與下列何者最相近？
(A)自作孽不可活 (B)業精於勤荒於嬉
(C)塞翁失馬，焉知非福 (D)憂勞興國，逸豫亡身。
14. 關於生於憂患死於安樂一文的寫作手法，下列何者敘述正確？
(A)採用先舉例後論證的手法 (B)運用邏輯上的演繹法，修辭上的誇飾法
(C)第二段討論由個人推到家庭，提出正面例證
(D)開頭兩句為全文主旨，點出「憂勞興國、逸豫亡身」之理。
15. 「法官：『那天有人看到你偷東西。』小偷：『絕不可能！因為那天晚上很黑。』」根據這段對話，最後小偷被法官認定有罪的原因為何？
(A)強詞奪理 (B)血口噴人 (C)目中無人 (D)不打自招。
16. 你的減碳目標訂了嗎？看英國氣候變遷法案的頒布與成效：「沒有不能做的理由，只有不做的理由。」此句話作為全文總結的用意為何？
(A)說明氣候變遷法的支持者與反對者有各自的理由
(B)強調臺灣應當像英國一樣責無旁貸推動能源轉型
(C)表明臺灣已經全面性地推動並落實各項能源轉型
(D)說明臺灣在能源轉型上仍有許多需要解決的問題。
17. 根據你的減碳目標訂了嗎？看英國氣候變遷法案的頒布與成效一文，下列何者並非氣候變遷造成的結果？ (A)地球的溫室氣體減少 (B)地球的平均溫度上升
(C)地球的許多冰層融解 (D)鳥類改變了遷移行為。
18. 「慣用語」是口語中習慣的用語，例如把團體中的領導人稱為「領頭羊」，意即在羊群前面領路的羊。下列文句「」中的慣用語，何者使用「錯誤」？
(A)無論是懷疑還是猜忌，它們都是快樂生活的一塊「絆腳石」
(B)見利忘義的人，向來是「牆頭草」隨風倒，毫無中心思想可言
(C)這兩個歹徒看起來很兇悍，其實都是「笑面虎」，不需要害怕
(D)人們去看病時，最怕一個急驚風卻遇上了一位「慢郎中」。
19. 下列文句何者最通順且邏輯正確？
(A)陽光強烈的日子要記得擦上防晒乳液，還得時時補充水分
(B)為防止交通事故不再發生，警方已加強取締交通違規者
(C)製造紛爭並惡意霸凌的行為，真值得給予嚴厲的懲罰
(D)他花了整整兩小時左右，才把房間澈底打掃乾淨。
20. 「澳洲獨立智庫『氣候委員會』在新的研究中警告，大堡礁珊瑚礁群連續兩年白化，超過 2 / 3 『完全沒有機會』復育。若進一步受創，恐流失每年超過 100 萬名觀光客和高達 10 億澳元（約新臺幣 233 億元）收益。專家呼籲政府正視全球氣候變遷問題，盡快開始控管溫室氣體排放。」上述文字內容，適合以下列何者為標題？

- (A) 澳洲列為一生中必遊的旅行景點 (B) 遭受颶風肆虐，滿目瘡痍的大堡礁
 (C) 南半球海洋汙染嚴重且持續擴大 (D) 全球暖化威脅澳洲世界遺產的存亡。

五、閱讀測驗：(每題 2 分，共 18 分)



1. 關於圖表所示的內容，以下敘述何者不正確？

- (A) 不能推測所有彈性放假的日期 (B) 不能推測所有連假日期是星期幾
 (C) 能看出彈性上課的日期 (D) 能看出想要延長連假時，需要請假的日期

2. 范成大詩有云：「灑灑沾巾雨，披披側帽風。花燃山色里，柳臥水聲中。石馬立當道，紙鳶鳴半空。墦間人散後，烏鳥正西東。」請問詩中所述景象最有可能出現在哪個連假？

- (A) 農曆春節 (B) 兒童清明 (C) 端午節 (D) 中秋節

3. 美華因職務的緣故，每星期只能請一天的假。若美華想要參加「小資女郵輪五天四夜紓壓之旅」，她可以參加哪個日程航次的？

- (A) 2/26~3/2 (B) 4/3~4/7 (C) 4/28~5/2 (D) 9/29~10/3

你所屬的公司是叢林還是動物園？Line 前任 CEO (執行長) 兼社長森川亮表示，員工在太滿足、太幸福的狀況下，就像長期生活在「動物園」狀態，容易失去生存的本能。如果在不必競爭的環境，幸福無妨；但是，網路時代瞬息萬變，就像在叢林般，失去競爭能力，很快就會被淘汰。

森川亮提出一套「動物園理論」的管理法則。他重新調整所有員工的薪資，過去累積的薪水與頭銜全部歸零，把薪資優先給做出成果、提供更大價值的員工。此舉當然引起很大反彈，但他觀察到激烈的反對者，都是薪資高於工作能力的人。

森川亮認為，就算是獅子，若長期待在動物園，習慣被餵養，最後仍會失去生存本能。牠頂多不高興的時候會吼一下，但也只是吼一聲，不會有什麼作為。他指出：「野生動物型的員工，不陪社長打球，敢說出與社長不同的意見。」他們把心思集中在工作上，而非逢迎，因此被認為是不受歡迎、配合度不佳的員工。但這樣的人反而懂得隨機應變，在任何環境都能生存。

「在日本，習慣走平路，突然出現階梯，就會摔倒。」森川亮說，他不是要員工過得不幸，而是不要太滿足於現在的幸福。你有聽過，在草原的野生動物出現「最近實在提不起勁」這樣的說法嗎？根本不可能，他們只會拚命想著怎麼活下去。在公司工作，不也是如此嗎？

——改寫自聯合報〈你待的公司是叢林或動物〉

4.有關森川亮的「動物園理論」管理法則，下列說明何者正確？

- (A) 員工們全樂於接受 (B) 頭銜與薪水成正比
(C) 有能力的人易出頭 (D) 年資有助薪資提升

5.根據本文，下列哪一個人會是森川亮心目中的好員工？

- (A) 小心謹慎，唯命是從的李兼守 (B) 專注工作，勇於表達的郝仁元
(C) 揣摩上意，一味附和的鄭力亥 (D) 安於現狀，守舊不變的甄用新

6.文中末段作者所要表達的觀點為何？

- (A) 生於憂患，死於安樂 (B) 謀事在人，成事在天
(C) 明槍易躲，暗箭難防 (D) 寧為玉碎，不為瓦全

東晉陽羨許彥於綏安山行。遇一書生，年十七八，臥路側，云：脚痛，求寄彥鵝籠中。彥以為戲言，書生便入籠。籠亦不更廣，書生亦不更小。宛然與雙鵝並坐，鵝亦不驚。彥負籠而去，都不覺重。

前行息樹下，書生乃出籠。謂彥曰：「欲為君薄設。」彥曰：「甚善。」乃於口中吐一銅盤奩¹子，奩子中具諸饌肴，海陸珍羞方丈，其器皿皆是銅物，氣味芳美，世所罕見。酒數行²，乃謂彥曰「向將一婦人自隨，今欲暫要之。」彥曰：「甚善。」又於口中吐一女子。年可十五六，衣服綺麗，容貌絕倫，共坐宴。俄而書生醉臥。此女謂彥曰：「雖與書生結好，而實懷外心，向亦竊將一男子同來，書生既眠，暫喚之，願君勿言。」彥曰：「甚善。」女人於口中吐出一男子，年可二十三，亦穎悟可愛，仍與彥敘寒溫。書生臥欲覺，女子吐一錦行障³，書生仍留女子共臥。男子謂彥曰：「此女子雖有情，心亦不盡，向復竊將女人同行，今欲暫見之，願君勿泄言。」彥曰「善。」男子又於口中吐一女子，年二十許，共讌⁴酌。戲調甚久，聞書生動聲，男曰「二人眠已覺。」因取所吐女子，還內口中。須臾，書生處女子乃出，謂彥曰「書生欲起。」更吞向男子，獨對彥坐。書生然後謂彥曰「暫眠遂久，君獨坐。當悒悒⁵耶。日已晚，便與君別。」還復吞此女子，諸銅器悉內口中。留大銅盤，可廣二尺餘。與彥別曰：「無以藉君，與君相憶也。」

——節錄自〈陽羨書生〉，出處吳均〈續齊諧記〉

1. 奩子：指盛裝用具的匣子。 2. 行：量詞。計算酌酒奉客的單位。 3. 障：類似屏風的帷幕或物品。 4. 讌：宴飲。 5. 悒悒：憂愁鬱悶的樣子。

7.在這個故事裡總共出現幾個人？

(A) 三個人 (B) 四個人 (C) 五個人 (D) 六個人

8.請問以下文句「」中的字詞經過替換後，意思不變者為何？

(A) 籠亦不「更」廣，書生亦不更小→愈益 (B)「向」將一婦人自隨，今欲暫要之→嚮往
(C) 向將一婦人自隨，今欲暫「要」之→邀請 (D) 雖與書生結好，而實懷「外」心→奔放

9.關於本文的寫作手法，下列敘述何者正確？

(A) 透過詳細的觀察記錄，展現陽羨書生的特異之處
(B) 以批判的口吻，寫出男女間庸俗不忠的醜事
(C) 運用層層堆疊的方式，帶來情節的高潮
(D) 從許彥簡短的答話，推知他懼怕的心理

澎湖縣立文光國民中學 111 學年度第 1 學期第 2 次成績評量九年級國文科【答案卷】

班級： 姓名： 座號： 讀卡 答案卷

一、國字注音(每題 1 分，共 12 分)

1.	2.	3.	4.	5.	6.
7.	8.	9.	10.	11.	12.

二、解釋(每題 2 分，共 14 分)

1.	2.
3.	4.
5.	6.
7.	

三、成語配合(每題 1 分，共 16 分)

1.	2.	3.	4.	5.	6.	7.	8.
9.	10.	11.	12.	13.	14.	15.	16.

四、選擇題(每題 2 分，共 40 分)

1.	2.	3.	4.	5.	6.	7.	8.	9.	10.
11.	12.	13.	14.	15.	16.	17.	18.	19.	20.

五、閱讀題組(每題 2 分，共 18 分)

1.	2.	3.	4.	5.	6.	7.	8.	9.
----	----	----	----	----	----	----	----	----

請交答案卷即可

一：聽力測驗題；基本問答：請依據所聽到的內容，選出一個最適合的回應。 10% (每題二分)

1. (A) But everything I said to you was from the heart.
(B) Thank goodness. I couldn't agree with you more.
(C) I hate to say it, but all my friends like it except you.
2. (A) Why doesn't he like these lovely animals?
(B) It's very kind of you to say so.
(C) I know he likes all kinds of cats.
3. (A) It's commonly used all over the world, isn't it?
(B) I believe you can get what you want if you put on your glasses.
(C) Look it up in the dictionary, and you'll know how it is defined.
4. (A) Doing housework is women's duty.
(B) People lose their jobs because of their age.
(C) People often make jokes about fat people on the Internet.
5. (A) I'm going to give you a present from Japan.
(B) I'll show everyone the dark side of fast fashion.
(C) Don't worry. I will be there at three o'clock.

二：填充 30% (每題二分)

A: 字彙、片語填充；答案可能不只一個字 (每題二分)

- ☉ The terrible joke 1. racial discrimination.
這個糟糕的笑話充滿了種族歧視。
- ☉ I 2. in the middle of the movie.
我忍不住在電影中哭了。
- ☉ 3., language carries many things of its speaker.
如你所見，語言乘載著說該語言的人許多事。
- ☉ Can't you smell a rat? The kid didn't cut himself 4..
你不覺得事有蹊蹺？這小孩不是意外割傷自己的。
- ☉ Tea such as black tea or oolong tea is often 5. milk in drinks.
飲品中，紅茶或烏龍茶這類的茶常與牛奶結合使用。
- ☉ In my o 6. n, *Spider-Man* is the best movie this year. I've seen it five times in the theater. ◦
- ☉ Gary: I don't think this picture is beautiful.
Alan: Same here. It is u 7. y to me.
- ☉ When Lisa just moved here, she felt h 8. s. She had no money and didn't know anyone here.
- ☉ To Emily's surprise, the taste of the chocolate cake was still on her t 9. e and that made her really happy.
- ☉ Thanks for your useful t 10. ps, I made a great progress 進步 on the English test.

B: 附加問句；答案不只一個字

- ☉ There are many snakes in the grass, (11.)?
- ☉ The toy is quite lovely, (12.)?
- ☉ Miranda(女子名) didn't put the hen into the henhouse, (13.)?
- ☉ Let's reuse 重複使用 the go-cup, (14.)?
- ☉ We have to protect 保護 the Earth, (15.) we? It's not just for us but for our future generations

一代人。

三：選擇題 30% (每題二分)

- ☺ “To be, or not to be. That is the question.” is a famous 1. from Shakespeare’s *Hamlet*.
 (A) power (B) ending (C) quote (D) page
- ☺ The school gym is closed. Now, we don’t know 2. practice badminton after school.
 (A) where we can (B) where can we (C) what we can (D) what can we
- ☺ **Agnes** : Rita 3. four languages, doesn’t she?
Abraham : Yes, she’s multilingual 使用多種語言的。
 (A) has spoken (B) is speaking (C) speaks (D) spoke
- ☺ Lisa was made 4. the report tomorrow, so she can’t go to the party with us tonight.
 (A) present (B) to present (C) presented (D) presenting
- ☺ We want to hold a welcome party for Mr. and Mrs. Lee, but we are not sure 5. tomorrow.
 (A) will they come (B) if they come (C) if will they come (D) whether they will come
- ☺ **Beryl** : The garbage 6. here. Who 6. it here?
Winnie : I don’t know. Not me.
 (A) shouldn’t put; was thrown (B) shouldn’t be put; threw
 (C) shouldn’t put; threw (D) shouldn’t be put; was thrown
- ☺ **Vanessa** : The washing machine 7. since 2005.
Barry : Wow, it’s really old. I can’t believe that it is still 7. well.
 (A) has used; worked (B) has been used; working
 (C) is used; working (D) been used; worked
- ☺ **Victor** : 8., but I’m glad 高興的 Jason and Liz have broken up 分手.
Sandra : You’re right. Jason wasn’t honest, and he broke Liz’s heart.
 (A) I hate to say it (B) I really hope so
 (C) I couldn’t agree more (D) To be honest
9. Except Allen and Betty, Cherry is allowed to enter the office.
 (A) Besides Allen and Betty, Cherry is allowed to enter the office.
 (B) Allen, Betty, and Cherry are allowed to enter the office.
 (C) Allen and Betty are allowed to enter the office.
 (D) Only Cherry is allowed to enter the office.


People have great ideas for their own shops and companies. However, they don’t always have the funds to get them off the ground, do they? They have several ways of getting the money. The old way is to go to a bank, apply for a loan 申請貸款, and hope they get it. That takes time, doesn’t it? Also, people don’t know if they will get the loan because it depends on 取決於 what a small group of people think of their idea. Now, there’s a new way to get things started.

It is an international 國際的 money collecting website 網站 called Indiegogo. The company is in San Francisco and was started by Eric Schell, Slava Rubin, and Danae Ringelmann in 2008. Indiegogo helps people get their interesting ideas out there. It also gives them control 控制 over their own projects 企劃. Basically 基本上, people with the ideas make a webpage for their projects, and on it, they tell others that are using the Internet what they are doing and what kind of help they need. The more people see their page and donate 捐錢, the more money they will raise. If none is raised, nothing is owed 欠 to Indiegogo. For those that have raised enough money to start their projects, a small fee 費用 is required 需要 for using Indiegogo’s website. It’s a win-win for both sides, isn’t it?

10. What does “funds” mean?
 (A) Ideas. (B) Time. (C) Money. (D) People.
11. What is the problem with bank loans?
 (A) They take too long to get.
 (B) Banks give them out to everyone.
 (C) They are the old way for people to donate.
 (D) People never get enough money from them.
12. What do people on Indiegogo have to do?
 (A) Tell banks all their money problems.
 (B) Pay a fee if they raise enough money.
 (C) Take care of other people’s webpages.
 (D) Ask the website to talk about their projects.
13. What do we learn about Indiegogo?
 (A) Three bank workers started it.
 (B) It has offices all over the USA.
 (C) It is only for people with money.
 (D) People all over the world can use it.

Picture it. You have just gotten into a car, and in no time at all, it drives you home. The surprising thing is that the steering wheel 方向盤 doesn’t need to be controlled. Also, the pedals 踏板 don’t have to be pushed to make the car go or stop, and you don’t have to pay any mind to or see what’s happening on the roads. What’s more, no person has been paid to do all that for you. That’s because the car is doing it by itself. You might want to know if you are dreaming, but you are not, because it is in fact a driverless car.

A driverless car is also called a self-driving car, and it works just like the ones people have now. The biggest difference 差異 between them is that the driverless car doesn’t need a person to control 控制 it. The car can sense 感覺到 what is around it. Also, it is built with so much new technology 科技 that it knows where it is and where it is going. A lot of great things are going to come about because of driverless cars, such as fewer problems on the roads. At the moment, self-driving cars are being tested. However, it won’t be long before driverless cars are actually seen on the roads.

14. What is the reading mainly about?
 (A) How driverless cars see the roads.
 (B) Why driverless cars are created.
 (C) When driverless cars will come out.
 (D) What a driverless car is.
15. How are traditional cars not the same as driverless ones?  traditional 傳統的
 (A) They don’t have pedals to make them go and stop.
 (B) They need to be controlled by people.
 (C) They have no steering wheels.
 (D) They have never been tested.

16. According to 根據 the reading, which is true about driverless cars?

- (A) They will make the roads safer.
- (B) They are made with little technology.
- (C) They can be seen on the roads now.
- (D) Making them will produce a lot of pollution.

Do you know what gender stereotypes are? You might not have heard that term 專有名詞 before. However, I'm sure you know what they are, right? The reason I know that is because we have all been exposed 暴露 to those common ideas of how boys and girls should be and act. In fact, we were exposed to them not long after we were born.

You know what I'm talking about. Soon after babies are born, they 17. differently because of their gender. Boy babies are put in blue blankets, while 然而 girl babies are put in pink ones. That's not surprising to people in this day and age. However, did you know that blue was first a color for girls and pink for boys? In the past, the first color was seen as softer, and the second one was seen as stronger. 18.

The gender stereotypes don't stop there. 19., they are told and taught different things about their gender. Girls are encouraged to play with dolls, be quiet, and act like little princesses 公主. 20., boys are encouraged to play with trucks, be active 活潑的, and like sports. I don't know if you believe that's how boys and girls are, but you should know that those stereotypes aren't good for either gender.

17. (A) have been treated (B) were treating (C) treat (D) are treated

18. (A) I think they're weak and helpless.

- (B) Now, that's surprising, isn't it?
- (C) I don't know whose duty that is.
- (D) We got that right, didn't we?

19. (A) If you think they're interesting

- (B) When you've experienced them
- (C) As babies grow into kids
- (D) Before the problem became worse

20. (A) On the other hand

- (B) At the end of their lives
- (C) As a result
- (D) To be honest

四. 寫作練習；請根據提示作答 20% (每句二分)

【試題結束—文光國中九年級英文】

Class : Number : Name:

一：聽力測驗題；基本問答：請依據所聽到的內容，選出一個最適合的回應。10%（每題二分）

1.	2.	3.	4.	5.
----	----	----	----	----

二：填充題；答案可能不只一個字 30%（每題二分）

1.	2.	3.	4.	5.
6.	7.	8.	9.	10.
11.	12.	13.	14.	15.

三：選擇題 40%（每題二分）

1.	2.	3.	4.	5.	6.	7.	8.	9.	10.
11.	12.	13.	14.	15.	16.	17.	18.	19.	20.

四：寫作練習 20%（每題二分）

1. The e-mail was sent to you by Jerry yesterday. （請改成主動句）
2. What happened to Kitty? （用 Do you know...合併兩句）
3. Does the movie raise gender questions? （用 Everyone knows...合併兩句）
4. People have created a great number of new English words so far. （請改成被動句）
5. What will make you blown away? （依事實回答；勿用簡句形式回答）
6. Adam isn't sure <u>how she can say "ear" in Hakka.</u> （請用不定詞片語改寫畫線部分）
7. Movies are about helping people dream. Movies are about making people think more, too. （請用...not only...but also 合併兩句）
8. Can you define and explain what "usie" means? （請翻成中文）
9. What do you get used to doing before you go to bed? （依事實回答；勿用簡句形式回答）
10. <u>I am having butterflies in my stomach now</u> because my parents know I lied to them. （請將畫線的部分翻成中文）

澎湖縣立文光國民中學 111 學年度第 1 學期 9 年級數學科第 2 次段考試卷

班級：

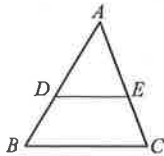
姓名：

座號：

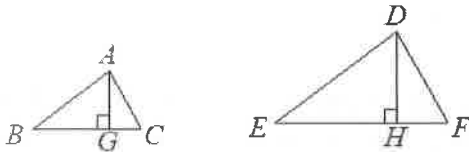
□讀卡 V 答案卷

一、單選題(每題 4 分，共 40 分)

- () 1. 如附圖， $\triangle ABC$ 中，若 $\overline{DE} \parallel \overline{BC}$ ，且 $\overline{AD} : \overline{BD} = 3 : 2$ ，則 $\triangle ADE$ 的面積與 $\triangle ABC$ 面積的比值為多少？(A) $\frac{2}{3}$ (B) $\frac{4}{9}$ (C) $\frac{3}{5}$ (D) $\frac{9}{25}$

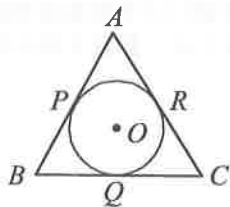


- () 2. 如附圖，若 $\triangle ABC \sim \triangle DEF$ 且 $\overline{AG} \perp \overline{BC}$ ， $\overline{DH} \perp \overline{EF}$ ， $\overline{AB} : \overline{DE} = 5 : 8$ ，則 $\overline{AG} : \overline{DH} = ?$

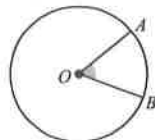


- (A) 8 : 5 (B) 64 : 25 (C) 5 : 8 (D) 25 : 64

- () 3. 已知圓 O 的半徑為 10 公分，若 P 點至圓心 O 的距離為 5 公分，則 P 點位於圓 O 之何處？
(A) 圓上 (B) 圓內 (C) 圓外 (D) 圓心
- () 4. 半徑為 8 公分的圓 O ，其圓心到三弦 \overline{AB} 、 \overline{CD} 、 \overline{EF} 的弦心距分別是 2 公分、3 公分、4 公分，則這三弦中哪一條弦最短？
(A) \overline{AB} (B) \overline{CD} (C) \overline{EF} (D) 一樣長
- () 5. 如附圖， $\triangle ABC$ 之內切圓 O ， P 、 Q 、 R 分別為切點。若 $\overline{AP} = 3$ ， $\overline{BQ} = 2.5$ ， $\overline{CR} = 4$ ，則 $\triangle ABC$ 之周長為多少？(A) 16 (B) 17 (C) 18 (D) 19

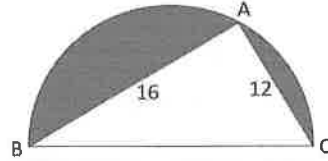


- () 6. 坐標平面上，已知 $A(-2, 3)$ 、 $B(4, -5)$ 為圓 O 直徑的兩端點，則此圓的面積為何？
(A) 16π (B) 25π (C) 36π (D) 49π
- () 7. 若 \overline{AB} 為圓 O 的一弦，且圓 O 的半徑為 12，則下列何者不可能為 \overline{AB} 的弦長？
(A) 26 (B) 6 (C) 24 (D) 12
- () 8. 如附圖，已知圓 O 的半徑為 6， \widehat{AB} 的弧長是 2π ，則 $\angle AOB = ?$



- (A) 40° (B) 50° (C) 60° (D) 80°

- () 9. 附圖為一個半圓， A 點在圓上，則圖中灰色部分的面積為下列何者？

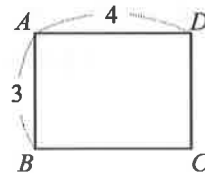


- (A) $50\pi - 96$ (B) $100\pi - 96$
(C) $50\pi - 192$ (D) $100\pi - 192$

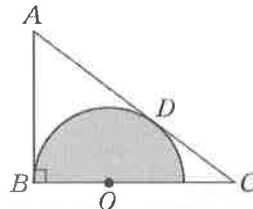
- () 10. $\triangle ABC$ 中，若 $\angle A = 30^\circ$ ， $\angle B = 60^\circ$ ， $\angle C = 90^\circ$ ，則 $\overline{AB} : \overline{BC} : \overline{AC} = ?$
(A) $1 : \sqrt{3} : 2$ (B) $\sqrt{3} : 1 : 2$ (C) $1 : 2 : \sqrt{3}$
(D) $2 : 1 : \sqrt{3}$

二、填充題(共 40 分)

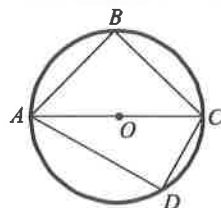
1. 如附圖，在矩形 $ABCD$ 中，以 A 為圓心， \overline{AD} 為半徑畫一圓，則 A 、 B 、 C 、 D 四點中，共有 _____ 個點在圓內；若改以 \overline{AB} 為半徑畫一圓，則 A 、 B 、 C 、 D 四點中，共有 _____ 個點在圓內。(各 2 分)



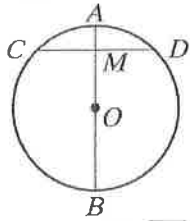
2. 如附圖， \overline{AB} 與半圓相切於 B 點， \overline{AC} 與半圓相切於 D 點，半圓的圓心 O 在 \overline{BC} 邊上。已知 $\overline{AC} = 10$ ， $\overline{BC} = 8$ ，求： (各 2 分)
(1) \overline{AB} 的長度 = _____。(2) \overline{CD} 的長度 = _____。



3. 附圖圓 O 中， \overline{AC} 為直徑，其中 $\overline{AB} = 5$ ， $\overline{BC} = 5$ ， $\overline{AD} = 6$ ，則 (各 2 分)
(1) $\angle B + \angle D =$ _____。
(2) $\overline{CD} =$ _____。

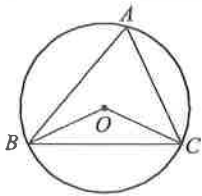


4. 如圖，圓 O 的直徑 \overline{AB} 平分弦 \overline{CD} 於 M 。圓的直徑為 20， $\overline{CD}=14$ ，則： (各 2 分)



(1) $\overline{MD} = \underline{\hspace{2cm}}$ 。 (2) $\overline{OM} = \underline{\hspace{2cm}}$ 。

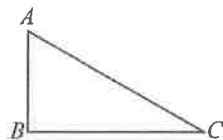
5. 如附圖，已知 $\angle BOC=130^\circ$ ， $\angle ABO=25^\circ$ ，則
 (1) $\angle A = \underline{\hspace{2cm}}$ 度。 (2) $\angle OBC = \underline{\hspace{2cm}}$ 度。
 (3) $\angle ACO = \underline{\hspace{2cm}}$ 度。 (4) $\widehat{AB} = \underline{\hspace{2cm}}$ 度。



(各 2 分)

6. 若圓 O_1 與圓 O_2 的周長比為 5 : 3，則 (各 2 分)
 (1) 圓 O_1 與圓 O_2 的半徑比為 $\underline{\hspace{2cm}}$ 。
 (2) 圓 O_1 與圓 O_2 的面積比為 $\underline{\hspace{2cm}}$ 。

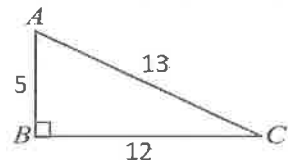
7. 如附圖，已知 $\angle A=60^\circ$ ， $\angle C=30^\circ$ ，且 $\overline{BC}=10$ ，則
 $\overline{AB} = \underline{\hspace{2cm}}$ ， $\overline{AC} = \underline{\hspace{2cm}}$ 。 (各 2 分)



8. 如下圖，試填出下列各題三角函數的值。 (各 2 分)

(1) $\sin A = \underline{\hspace{2cm}}$ 。 (2) $\cos A = \underline{\hspace{2cm}}$ 。

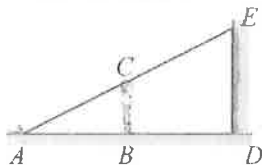
(2) $\sin C = \underline{\hspace{2cm}}$ 。 (2) $\tan C = \underline{\hspace{2cm}}$ 。



三、計算題(每題 4 分，共 20 分)

1. 地面 A 點處有一光源，往牆面照射。身高 \overline{BC} 為 150 公分的健康，自 A 點向牆面走 300 公分至 B 點，牆上的人影 \overline{DE} 恰好是 300 公分，試問： (各 2 分)
 (1) A 點到牆面的距離為多少公分？

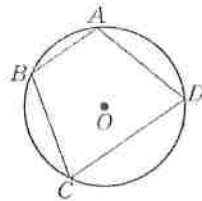
- (2) 健康距離 A 點多少公分時，才能讓牆上的人影為 400 公分？



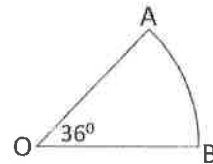
2. 如附圖， \overline{AB} 、 \overline{CD} 是圓 O 的兩弦，且 $\overline{AB} \parallel \overline{CD}$ 。

已知 $\widehat{AB}=60^\circ$ ， $\widehat{CD}=120^\circ$ ，求： (各 2 分)

(1) $\angle A = \underline{\hspace{2cm}}$ 度。 (2) $\angle C = \underline{\hspace{2cm}}$ 度。



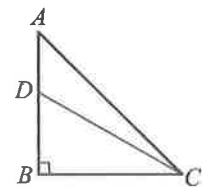
3. 如附圖為一扇形， $\overline{OA}=10$ ，求： (各 2 分)
 (1) 扇形面積。 (2) 扇形的周長。



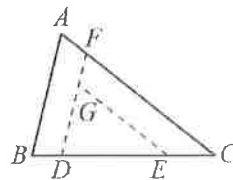
4. 如附圖， $\triangle ABC$ 中，已知 $\angle B=90^\circ$ ， $\angle BCD=30^\circ$ ， $\angle ACD=15^\circ$ 。若 $\overline{AD}=1$ ，則

(1) $\tan A = \underline{\hspace{2cm}}$ 。 (1 分)

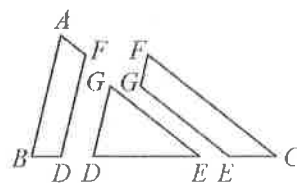
(2) $\overline{AC} = \underline{\hspace{2cm}}$ 。 (3 分)



5. 如附圖，將一張 $\triangle ABC$ 紙片沿虛線剪成梯形 $ABDF$ 、梯形 $CEGF$ 、 $\triangle DEG$ 三塊。已知 $\overline{BD}=2$ ， $\overline{DE}=8$ ， $\overline{CE}=4$ ，則梯形 $ABDF$ 面積 : 梯形 $CEGF$ 面積 : $\triangle DEG$ 面積 = ? (4 分，若算對圖(二)中任意兩個圖形的比給 1 分；算對 2 個比給 2 分、算對 3 個比給 3 分)



圖(一)



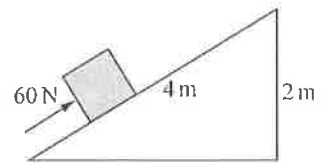
圖(二)

班級： 座號： 姓名： 讀卡 答案卷

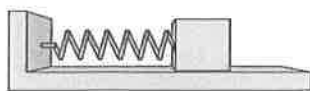
一、 選擇題 (每題 2 分，共 80 分，請將答案填到第六頁答案卷上)

- () 1. 洗衣機脫水槽是利用下列何種原理脫水？(A)衣服上之水分與衣服間附着力不足，水分從切線方向脫離衣服 (B)牛頓第一運動定律，衣服有慣性，得以脫水 (C)牛頓第二運動定律，脫水槽旋轉施力於水分而脫離衣服(D)牛頓第三運動定律，水分因反作用力而脫離衣服。
- () 2. 下列關於萬有引力的敘述，何者正確？ (A)任何物體都具有萬有引力，是物體質量的來源 (B)萬有引力大小，和物體間距離有關 (C)物體的重量會影響萬有引力的大小(D)人造衛星受到的萬有引力，和重力抵銷，得以環繞地球轉動。
- () 3. 下列哪個運動過程，其做功不為零？ (A)手提籃子站著不動 (B)手提皮箱水平等速度前進，過程中手施力對皮箱所作的功 (C)單擺擺繩拉力對擺錘所作的功 (D)將鉛筆盒在桌上往前推一段距離再移回原位置，過程中手對鉛筆盒所作的功。

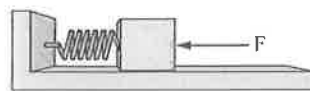
【題組】 如右圖所示，斜面長4公尺、高2公尺，沿斜面方向施力60牛頓，將10千克重的物體，在5秒內自底部推至頂端。試回答第4~5題：



- () 4. 根據這段敘述，同學各自提出看法：
小南：物體升高了2公尺，因此施力對物體作的功是 $60 \times 2 = 120$ 焦耳
小伊：可是物體移動了4公尺，施力對物體作功應該是 $60 \times 4 = 240$ 焦耳；以上的敘述，哪位同學回答得較為正確？ (A)小南的敘述是正確的 (B)小伊的敘述是正確的 (C)兩位同學敘述都是正確的 (D)兩位同學敘述都是錯誤的。
- () 5. 這段敘述中，5秒內施力對木塊作功的功率為多少瓦特？(A)24 (B)30 (C)48 (D)60。
- () 6. 用力將小球擲向空中，在到達最高點的上升過程中，假設不考慮空氣阻力和摩擦力的影響，下列敘述何者正確？ (A)小球的動能漸增 (B)手對小球作的功，轉換為小球的重力位能 (C)上升過程中，小球在任一位置的動能，皆等於重力位能 (D)小球的力學能逐漸減少。
- () 7. 下圖①彈簧在水平方向沒有受到外力；下圖②彈簧受到水平力作用，產生形變。下列敘述何者正確？



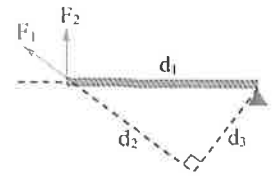
圖①



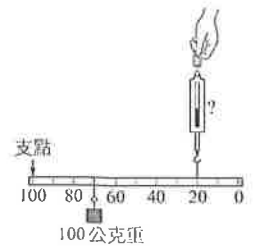
圖②

- (A)彈簧在圖①雖沒有受到水平外力，仍具有彈力位能
 (B)彈簧由圖①到圖②的過程中，彈力位能維持守恆
 (C)彈簧由圖①到圖②的過程中，彈力位能變大
 (D)彈簧在圖②受力壓縮時，若外力突然消失，則物體到達圖①位置的動能等於零。

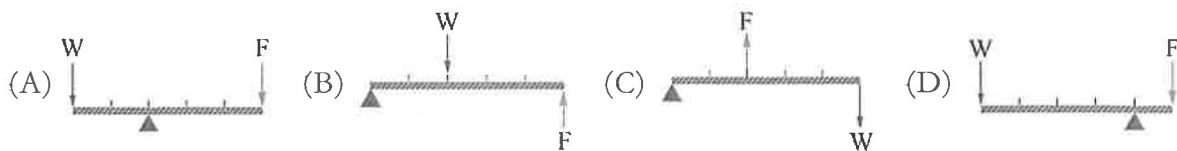
- () 8. 如右圖所示， F_1 和 F_2 大小相等，同時作用於木棒上的同一點，下列敘述何者正確？ (A) F_2 產生的力矩等於 $d_1 F_2$ (B) F_1 和 F_2 產生的力矩大小相等 (C) F_1 和 F_2 產生的力矩方向相反 (D) F_1 產生的力矩大於 F_2 產生的力矩。



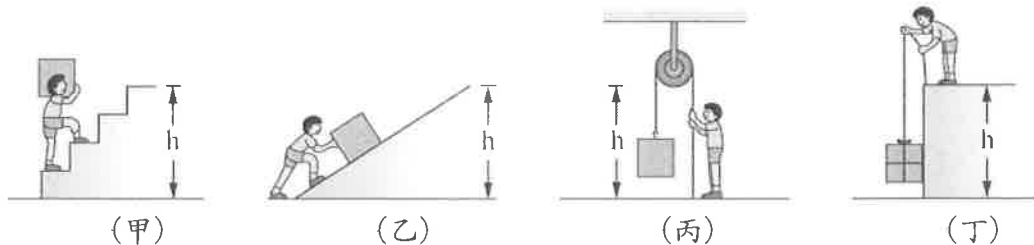
- () 9. 如右圖所示，將 100 gw 的懸吊砝碼，掛在均勻木尺上，木尺重為 60 gw，欲使木尺維持水平平衡，彈簧秤的讀數為多少公克重？ (A) 60 (B) 75 (C) 100 (D) 160。



- () 10. 如下圖所示，將重量皆為 W 的物體，分別置於不同槓桿上。若要使槓桿保持水平平衡，何者施力最小？



- () 11. 如下圖所示，小傑以甲、乙、丙、丁四種方式，將相同重量的物體等速移至離地 h 公尺的高處，假設不考慮摩擦力與空氣阻力，下列敘述何者正確？



- (A) 甲的方式須對物體作的功最大 (B) 乙的方式對物體作的功最小
(C) 丙最省力 (D) 四種方式對物體作的功皆相等。

- () 12. 下列何種發電方式是臺灣目前為止使用比例最高的再生能源？ (A) 風力發電 (B) 水力發電 (C) 垃圾沼氣發電 (D) 太陽能發電。

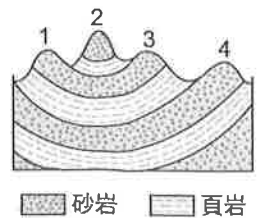
- () 13. 下列有關未來能源科技的敘述，何者錯誤？ (A) 利用煤炭淨化技術，可以提高煤炭使用效率並減少汙染 (B) 甲烷水合物是轉換成燃料後使用 (C) 太陽可源源不絕產生太陽能，主要就是靠核分裂反應產生 (D) 再生能源可以與現有產業結合，發展出相輔相成的共生模式。

- () 14. 右圖為固體地球內部一部分的結構，下列敘述何者正確？ (A) 地殼的範圍包含甲乙丙 (B) 岩石圈的範圍包含甲乙丙丁 (C) 密度：甲 > 乙 > 丙 (D) 此圖是分析地震波波速變化後推論得知。

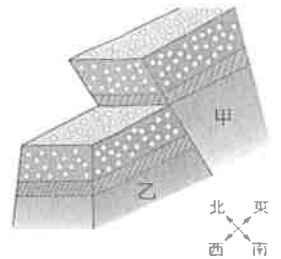


- () 15. 有關地球內部垂直分層的敘述，下列何者正確？ (A) 軟流圈位於地函中 (B) 地殼主要成分是鐵、鎳 (C) 密度：地函 > 地核 (D) 地核的厚度最小。

- () 16. 右為某地區的地層剖面示意圖。依據圖中地形所示，推論下列有關 1、2、3、4 四座山頭形成原因的敘述，何者最合理？(A)此現象為泥沙順著原先高低起伏之地勢沉積形成 (B)岩層受侵蝕作用產生下凹，受沉積作用形成突起 (C)地層受擠壓後，岩層因差異侵蝕而形成 (D)地層因張力作用後，發生火山活動而形成。



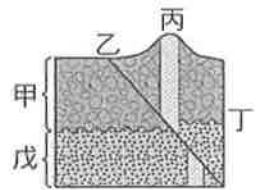
- () 17. 右圖為某地區地層斷裂產生位移情形的示意圖。圖中甲、乙分別為斷裂後所形成之岩塊，則下列敘述何者最正確？(A)此種斷層稱為正斷層 (B)甲相對於乙往上錯動 (C)此斷層是由張力作用所造成 (D)若原先地表有一河流由西向東流，則在斷層處易形成瀑布。



- () 18. 地震常造成重大災害。下列有關地震的敘述，何者正確？(A)地震的規模愈大，出現的次數愈少 (B)地震強度的分級，全世界通用 (C)震央位於地下深處 (D)地震強度不會受震源深度影響。
- () 19. 臺灣地區地貌多樣，地形變化大，造成此現象的原因，下列敘述何者錯誤？(A)降雨量大且集中 (B)板塊推擠導致地勢陡峭 (C)溫度常在 0°C 上下變化 (D)風化侵蝕等作用劇烈進行。

- () 20. 下列何種臺灣地質現象不能用板塊構造學說解釋？(A)荖濃溪的沖積扇 (B)陽明山的火山地形 (C)東部頻繁的地震 (D)中央山脈常見的傾斜岩層。

- () 21. 右圖中，各地質事件發生的先後順序為何者？(A)丙甲丁乙戊 (B)戊甲丁丙乙 (C)甲乙丙丁戊 (D)戊丁甲丙乙。



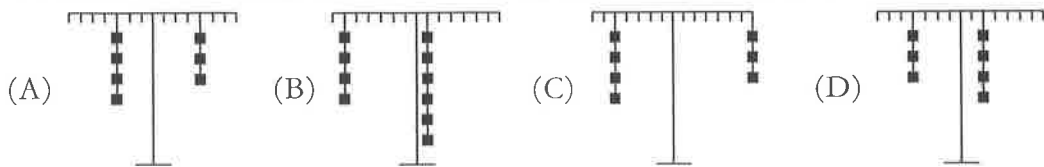
- () 22. 小新參觀地質博物館，在展示區看到了珊瑚礁與菊石化石的展出，也看到了礫岩層與煤層的地層剖面。下列是他的心得紀錄，請問哪一項推論最合適？(A)有煤層，主要是動物遺體經過地質作用後所形成 (B)菊石化石出現在中生代陸相的沉積環境 (C)在礫岩層中，可觀察到沉積物顆粒的大小都很接近 (D)珊瑚的生長環境在熱帶的淺海海域。

- () 23. 一早突如其來的大雨打亂許多人的步調，陳雯撐著雨傘從外面回到家中，她進屋內後將淋溼的雨傘快速旋轉時，發現水滴會沿切線方向飛去，這是由什麼原因所造成的？(A)向心力和離心力互相抵消 (B)傘面無摩擦力和向心力 (C)摩擦力大於向心力 (D)水滴在傘面上所受的摩擦力不足以作為向心力。

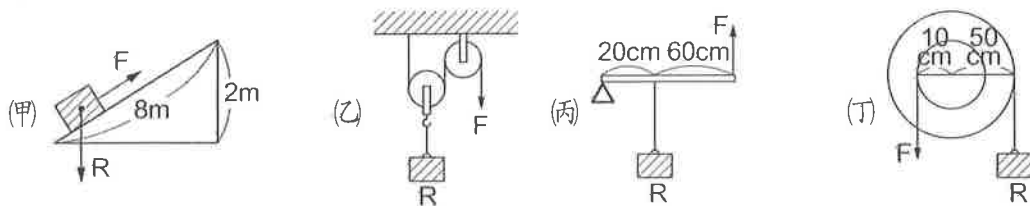
- () 24. 在 2021 年 1 月 24 日發射到外太空的「飛鼠」立方衛星，至今仍環繞地球作圓周運動，如右圖。下列各項敘述何者正確？(A)提供衛星繞地球運轉的向心力，來自於地球與衛星間的萬有引力 (B)衛星在做等加速度運動 (C)衛星對地球的吸引力小於地球對衛星的吸引力 (D)若向心力突然消失，衛星將沿 A 方向飛出。



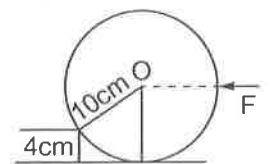
- ()25. 開學時立維、城輝、丞亨三位同學，分別將同重量的理化課本搬到三樓，立維耗時 30 秒，城輝耗時 45 秒，丞亨耗時 60 秒，則三者對書包作功如何？ (A)立維作功最大 (B)城輝作功最大 (C)丞亨作功最大 (D)三者作功一樣大。
- ()26. 甲、乙兩物體質量比為 1:3，靜置在水平桌面上，兩物體同時受相同之力作用而開始運動，兩物體分別移動 5 公尺時，動能比為多少？(A)1:3 (B)1:1 (C)3:1 (D)1:9。
- ()27. 石門水庫會將低水位的水抽至高處後，再經大鋼管將水下沖推動發電機發電的過程。有關水力發電能量的轉換，下列敘述何者錯誤？(A)水的位能減少，動能增加 (B)減少的位能可全部轉換成電能 (C)產生電能也會有熱能散失 (D)仍然遵守「能量守恆」定律。
- ()28. 下列是掛著不同數量砝碼的天平，若所有砝碼的質量都相同，則何者可產生順時鐘的力矩？



- ()29. 下圖裝置中物體重量均為 10 kgw，且滑輪重與摩擦力不計，使用哪種機械裝置，施力 (F) 最大？(A)甲 (B)乙 (C)丙 (D)丁。

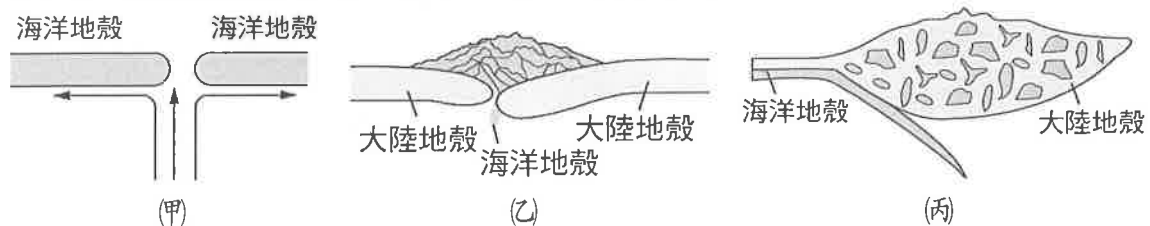


- ()30. 段老師將一金屬球停靠在臺階上，如右圖所示，已知小球的半徑為 10 cm、重量為 3 kgw，臺階的高度為 4 cm，若想把這顆金屬球滾上臺階，則金屬球的重量產生的力矩為多少 kgw-cm？(A)30 (B)24 (C)20 (D)16。




- ()31. 關於地球的敘述，下列何者錯誤？(A)由地層沉積物的化石種類，可知固體地球內部的分層 (B)岩石圈包括地殼及軟流圈以上的上部地函 (C)固體地球可分三層，其中地殼最薄 (D)因地函熱對流而使板塊移動、大陸漂移。
- ()32. 地球的層圈構造，由地表往地心排列依序是地殼、地函和地核，三者當中組成物質的平均密度最大的為下列何者？(A)地核 (B)地函 (C)地殼 (D)地殼、地核、地函三處密度一樣大。

【題組】下列各圖為板塊交界帶的示意圖，試回答下列問題：



- ()33. 上列各種岩層中，何者為喜馬拉雅山形成的板塊運動形式？(A)甲 (B)乙 (C)丙 (D)甲乙丙。

- ()34. 小萬和小莉兩人想在疫情趨緩後計畫到冰島遊玩，右圖是冰島的國旗，三種色彩分別象徵著組成冰島的三種元素：紅色十字象徵冰島火山中的火焰；白色象徵覆蓋冰島的冰雪；四個藍色矩形則象徵大西洋。有關冰島的形成應是最接近上列何種板塊運動型式，所形成的地質景觀？ (A)甲 (B)乙 (C)丙 (D)甲乙丙。

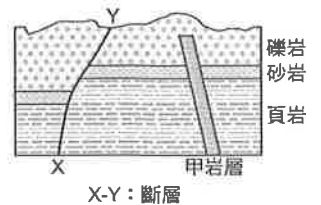


- ()35. 臺灣的形成是因為板塊互相推擠而形成，此種板塊交界處不會有下列哪一個現象？ (A)造山運動 (B)火山噴發 (C)產生新地殼 (D)地震。

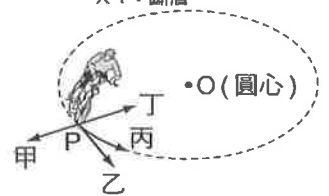
- ()36. 右圖是澎湖、臺北、嘉義、綠島四個地點，哪一個地點是位於菲律賓海板塊上？ (A)澎湖 (B)臺北 (C)嘉義 (D)綠島。



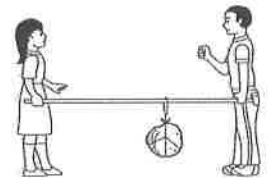
- ()37. 右圖為某處之地層剖面示意圖。有關地質事件發生的先後順序，下列何者錯誤？(A)此處地質事件最早為頁岩 (B)甲岩脈形成比礫岩層晚 (C)X-Y 斷層形成比甲岩脈早 (D)甲岩脈中不易發現化石。



- ()38. 自行車選手在一個小廣場上，快速的以等速率做圓形軌道的繞場表演，如右圖。關於人車所受的力及其所做的運動，下列敘述何者正確？ (A)做等速度運動，所受的合力為零 (B)所受合力方向一直在改變，但皆指向圓心 (C)所受合力方向一直在改變，但皆指向切線方向 (D)所受合力方向一直在改變，但皆指離圓心。



- ()39. 如右圖，兄妹兩人用一木棒合提一重物，重物掛在距兄 1.6 公尺，距妹 2.4 公尺處達靜力平衡。設棒重可忽略，若兄的上提力為 30 公斤重，則重物為多少公斤重？ (A) 20 (B) 36 (C) 45 (D) 50。



- ()40. 一顆芒果 200 公克，由 2 公尺的果樹上掉落到地面上，則重力對它作功多少？ (1 公斤重 = 9.8 牛頓) (A) 0.4 焦耳 (B) 3.92 公斤重-公尺 (C) 3.92 焦耳 (D) 3920 焦耳。

班級： 座號： 姓名： 得分：

一、 選擇題 (每題 2 分，共 80 分)

1	2	3	4	5	6	7	8	9	10
11	12	13	14	15	16	17	18	19	20
21	22	23	24	25	26	27	28	29	30
31	32	33	34	35	36	37	38	39	40

二、 填充題 (每格 2 分，共 20 分，請直接填入空格中)

1. 通訊衛星繞行地球為一種圓周運動，需要向心力，通訊衛星向心力的來源為何？

答：_____

2. 雲霄飛車在下降的過程中可能會受到重力、摩擦力、空氣阻力與軌道正向力作用，這些力是否有對雲霄飛車作功？請將這些力作功的情況填入以下表格。

作用力	重力	摩擦力	空氣阻力	正向力
正功/負功/不作功		負功	負功	

3. 如下圖所示，生活中的器具時常應用槓桿原理：(甲)使用剪刀剪紙、(乙)使用鉗子剪鐵絲、(丙)使用鑷子夾物、(丁)使用開瓶器打開瓶蓋；哪些器具在正常使用時，屬於省力的槓桿？試以代號回答。答：_____。



(甲)



(乙)



(丙)



(丁)

- 臺灣目前為止使用比例最高的再生能源是_____。
- 地球分層內地殼部分分成海洋地殼與大陸地殼，何者密度較大？_____。
- 我國中央氣象局將地震強度分為 0 級～_____級。
- 臺灣位於歐亞板塊與_____板塊的交界，以_____為交界帶。
- 某地層內發現有三葉蟲化石，則可推論該地層的地質年代為_____代。

澎湖縣立文光國民中學 111 學年度第 1 學期第 2 次成績評量 9 年級地理科試卷

班級： 姓名： 座號： 讀卡 答案卷

單一選擇題 (第 1 題~第 20 題, 第 1~15 每題 2 分, 第 16~20 題, 每題 1 分, 共 35 分)

*簡易選擇題：(第 1 題~第 13 題, 每題 2 分, 共 26 分)

1. 歐洲三面環海, 南歐及北歐兩個分區多半島, 因為海洋與陸地交錯分佈, 使海灣得以深入內陸地區, 而有利於航運與貿易的發展。請問: 下列哪一個半島所在的分區, 與其它三者不同?
(A)義大利半島 (B)巴爾幹半島 (C)斯堪地那維亞半島 (D)伊比利半島。
2. 在法國留學的秀秀, 為自己規劃了一趟旅行, 他從學校附近搭車, 一路往東欣賞沿途的美景, 幾天的旅程中, 經過了比利時、荷蘭, 最後到達波蘭的首都華沙。請問: 秀秀沿途所看到的景色中, 多屬於哪一種地形景觀? (A)平原 (B)山地 (C)盆地 (D)高原。
3. 歐洲有句俗諺: 「上帝造海, 荷蘭人造陸。」是形容荷蘭人在沿海低窪地區興築提防, 填海造陸, 以增加可以使用的國土面積。由於填海而來的土地較為低窪、含鹽分較高, 無法直接用於種植穀物等作物, 為了充分利用這些土地, 近年荷蘭利用其區位優勢, 在這些土地上發展下列何項產業? (A)園藝農業 (B)汽車製造業 (C)熱帶栽培業 (D)高科技工業。
4. 曼徹斯特工業區位於本寧山西側, 是英國最古老的工業地帶之一, 其興起與工業革命後, 大量的紡織廠設置於此有關。請問: 當時紡織廠設置於此地, 是因為周圍的山區蘊藏何種礦產, 為推動紡織機的主要動力來源? (A)鐵礦 (B)煤礦 (C)石油 (D)天然氣。
5. 真真在整理歐洲國家地理報告時, 寫道: 「這個國家擁有豐富的煤礦資源, 也與鄰國交換鐵礦, 並結合四通八達的水運網, 發展各項工業。由於生產的工業產品素質精良、品質卓越, 是歐洲工業產值最大的國家。」請問: 她報告最有可能是說明哪一個國家的特色? (A)法國 (B)西班牙 (C)希臘 (D)德國。
6. 受到自然環境的影響, 歐洲的酪農業以哪些地區較為發達 (甲)地中海沿岸 (乙)北極海沿岸 (丙)阿爾卑斯山區 (丁)北海沿岸? (A)甲乙 (B)甲丙 (C)乙丙 (D)丙丁。
7. 法國不但重工業發達, 輕工業亦著稱世界。請問: 何者屬於法國著名的輕工業? (A)服裝設計、化妝品 (B)鐘錶、儀器 (C)玩具、樂器 (D)鞋類、健康器材。
8. 下列何者為歐洲與亞洲的界山? (A)烏拉爾山、喀爾巴阡山 (B)庇里牛斯山、阿爾卑斯山 (C)亞平寧山、阿爾卑斯山 (D)烏拉爾山、高加索山。
9. 哪一個國家在許多政策上的態度與歐盟不同, 故已脫離歐盟? (A)挪威 (B)義大利 (C)葡萄牙 (D)英國。
10. 新冠肺炎爆發期間, 歐盟各國出現自行關閉邊境、爭奪資源的情形, 顯示歐盟發展面臨哪一個問題? (A)人口數龐大 (B)經濟發展遲緩 (C)政策不一致 (D)民生資源缺乏。
11. 近年來, 俄羅斯積極改善國內投資環境, 希望能吸引外國企業投資設廠, 主要的目的為何? (A)避免經濟太過依賴自然資源出口 (B)調整產業結構, 轉型發展重工業 (C)引進外國技術, 擴大礦產開採 (D)促進本地勞工基本工資提升。
12. 西歐和北歐的氣候特徵為雨季較長, 且降水量較豐, 年均溫較高, 且年溫差較歐洲其他氣候類型小。此一氣候特色除了受到北大西洋暖流的影響之外, 還與下列哪一方向的盛行風向有關?
(A)← (B)→ (C)↑ (D)↓
13. 總部位於法國的空中巴士, 是歐洲最大的民航飛機製造公司, 由數個國家共同出資成立, 並跨國合作研發與設計, 再由法國負責生產飛機控制系統、英國製造引擎、德國生產機體, 而西班牙負責尾翼製造等。請問: 歐洲國家共同製造發跡的主要原因為何? (A)各國市場狹小, 工廠規模不大 (B)技術人才難得, 生產效率不彰 (C)資金籌措不易, 公司營運困難 (D)整合各國優勢, 建立歐洲品牌。

*圖形判讀題：(第 14 題~第 20 題, 第 14~15 每題 2 分, 第 16~20 題, 每題 1 分, 共 9 分)

14. 右表為歐洲三個城市的經緯度和年溫差資料。請問：造成三地年溫差不同的主要原因為何？

(A)緯度高低 (B)距海遠近 (C)植被多寡 (D)地勢高低。

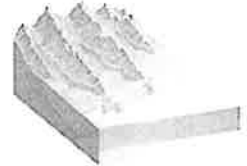
城市	經緯度	年溫差
倫敦	(51°N, 0°)	13.0°C
柏林	(52°N, 13°E)	18.5°C
莫斯科	(55°N, 37°E)	27.6°C

15. 右圖甲~丁為歐洲的四個國家，請問：這四個國家中，何者境內主要為歐洲的高地氣候分布區域？



(A)甲 (B)乙 (C)丙 (D)丁。

16. 圖(一)為北歐的挪威海岸地區典型景觀。圖中海灣地形的成因最可能為下列何者？(A)冰河侵蝕後，海水入侵 (B)河流侵蝕後，海水上升 (C)火山爆發後，陸地下沉 (D)珊瑚礁石堆積後，陸地下沉。



圖(一)

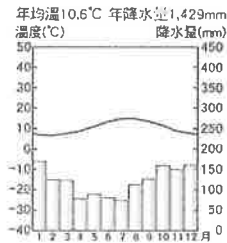
17. 璇以想前往歐洲度假，上網查詢住宿飯店，相關資料顯示：「這是位於極圈附近的夢幻樹屋酒店，有直入雲霄的針葉樹林，朝北的落地窗提供欣賞極光的絕佳機會，寬敞天窗可仰望星空。」請問：根據資料顯示，璇以正在計畫前往圖



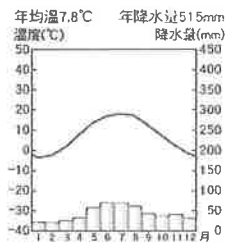
圖(二)

(二)中歐洲哪一個區域度假？(A)甲 (B)乙 (C)丙 (D)丁。

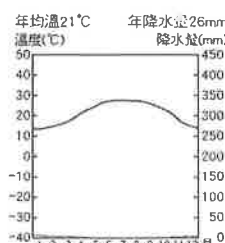
18. 「東歐地區受到距大西洋遠近的影響，愈往東部，年溫差愈大，年降水量愈少，屬於溫帶大陸性氣候。」請根據引文判讀以下四張氣候圖，哪一張氣候圖的城市最可能位於東歐？



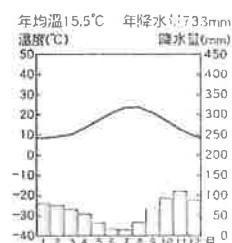
(A)



(B)



(C)



(D)

*俄羅斯是世界上面積最大的國家，由於國土廣大、氣候寒冷，各地的往來交通多以陸運為主，下圖是俄羅斯的鐵路幹線分佈，請問：

19. 俄羅斯鐵路分佈的疏密情形，與下列哪一個因素有關？(A)河川流向 (B)人口分布 (C)氣候乾濕 (D)鄰國多寡

20. 宥侑想要挑戰世界上最長的單一國境鐵路旅行，於是從圖中乙搭車向東的列車，準備橫跨歐亞兩洲，到達甲地。請問：宥侑搭上這班列車後，沿途最常見到的景觀可能為何？(A)低濕的苔原 (B)高大的雨林 (C)廣闊針葉林 (D)稀疏的莽原。



【~ 試題結束，文光九年級、地理科~】

澎湖縣立文光國民中學 111 學年度第 1 學期第 2 次成績評量 9 年級歷史科試卷

班級： 姓名： 座號： 讀卡 答案卷

單一選擇題（第 21 題～第 40 題，第 21～35 每題 2 分，第 36～40 題，每題 1 分，共 35 分）

到目前為止，我們已經學過許多宗教，例如（甲）佛教（乙）基督教（丙）伊斯蘭教（丁）婆羅門教（戊）祆教，請依下列敘述，回答第 21～28 題：

21. 比瓜說道：「我們相信因果報應與輪迴觀念，人們一出生便注定了自己的身分階級，每個人都必須嚴守自身的本分，不可以逾越階級而通婚，否則便可能影響來世的生活。」請問：他所信奉的宗教應該是下列何種宗教？(A)甲 (B)乙 (C)丙 (D)丁。
22. 這個宗教的特徵是二元論，認為世上有善神與惡神相互對抗，但最後善神會戰勝惡神。此外，信徒必須確實遵守善思、善言、善行，一生皆應學習與跟隨這三項真理。請問：這個是哪一個宗教？(A)乙 (B)丙 (C)丁 (D)戊。
23. 自外族入侵羅馬帝國以來，各地陷入失序及混亂的局面，但「某一個組織」卻扮演救濟貧困與扶助傷患的角色，成為一股穩定社會秩序的重要力量，對中古歐洲的社會與文化影響深遠。請問：上述說明的某一組織是隸屬於哪一個宗教？(A)甲 (B)乙 (C)丙 (D)戊。
24. 一部經典中提到：「奉至仁至慈的真主阿拉之名，一切讚頌全歸真主，眾世界的主，至仁慈的主，報應日的主，我們只崇拜你，只求你襄助，求你引領我們正路，你所襄助者的路，不是受譴怒者的路，也不是迷誤者的路。」請問：上述應該是哪一個宗教的經典？(A)甲 (B)丙 (C)丁 (D)戊。
25. 如以創立的時間先後順序來看，（甲）、（乙）、（丙）、（丁）創立的先後順序為何？(A)甲、乙、丙、丁(B)丁、甲、乙、丙 (C)甲、丁、丙、乙 (D)丁、甲、丙、乙。
26. 關於（甲）的敘述，下列何者正確？(A)建立種姓制度，嚴格訂定各階層行為規範以維護社會秩序 (B)發展出靈魂輪迴的思想與因果報應等主張 (C)後來致力向外傳播，使該信仰從印度擴及至鄰近國家 (D)至今仍為印度地區民眾信奉的主要信仰。
27. 關於（乙）的敘述，下列何者錯誤？(A)猶太人耶穌自稱為世界的救世主、神的兒子，批評猶太久的腐敗，主張人愛世人，人人平等，最後被釘在十字架上，後續的門徒繼續宣揚其理念，最後形成此信仰 (B)發展初期，由於不肯服兵役以及拒絕向羅馬皇帝膜拜，故受到羅馬帝國的迫害 (C)西元 313 年，君士坦丁皇帝頒布著名的「米蘭詔令」，承認該宗教為羅馬帝國唯一合法的宗教 (D)西元 1054 年，發生了第一次分裂，形成羅馬公教（即天主教）與希臘正教（即東正教）。
28. 關於（丙）的敘述，下列何者錯誤？(A)以聖經的內容為主要教義，必須以阿拉伯文書寫，不能翻譯 (B)創立後，將鬆散的阿拉伯人團結起來，透過聖戰擴張領地，建立橫跨歐、亞、非的阿拉伯帝國 (C)重視文化發展，大量翻譯古希臘、羅馬的典籍，以巴格達為中心建立長城貿易路線 (D)後來土耳其人也信奉該宗教，並於 13 世紀時建立強大的鄂圖曼土耳其帝國。
29. 冬瓜跟欣欣到歐洲旅遊，導遊說：「在歷史上，這個國家曾被羅馬帝國、賽爾柱土耳其帝國統治過，擁有基督教及伊斯蘭教的文化發展特色，為多元文化特色的國家」。請問：以上敘述最可能是下列哪一個國家？(A)英國 (B)法國 (C)德國 (D)西班牙。
30. 中世紀以後，因受到拜占庭帝國的影響，斯拉夫民族至今大多信奉哪一個宗教？(A)東正教 (B)天主教 (C)伊斯蘭教 (D)佛教。

31. 文藝復興運動促成近代歐洲文化的形成，開啟了歐洲歷史的新紀元。這個運動的主要內涵是什麼？(A)以人為本，肯定人生現世價值 (B)闡明教義，重新領會基督教精神 (C)提倡科學方法，建立科學宇宙觀 (D)應用科學精神，以解決社會問題。
32. 登蹂這趟來到歐洲旅遊，主要的目的是來一趟文藝復興之旅。請問：下列哪一個城市是登蹂必經的一個城市？(A)巴黎 (B)倫敦 (C)法蘭克福 (D)佛羅倫斯。
33. 著名小說曾經解釋著「蒙娜麗莎的微笑」、「人體比例」、「最後的晚餐」、「岩窟聖母」等四大名畫的玄機。請問：這四大名畫是出自於哪一個文藝復興時期畫家之手？(A)米開朗基羅 (B)達文西 (C)拉斐爾 (D)但丁。
34. 16世紀歐洲宗教改革後，「新教」林立，這些新教雖然教義各不同，但也有些共同理念。請問：下列何者為當時新教共同理念？(A)鼓吹成立耶穌會 (B)強調贖罪卷的功能 (C)否定羅馬教會權威 (D)反對君主權力高於教會。
35. 西元1517年，馬丁路德在威丁堡發表《95條論綱》，開啟了日後一連串反省宗教義理和組織的改革活動。下列何者是促使他採取上述行動的原因？(A)教會內部腐化，信仰流於形式 (B)各國放任信仰，教派糾紛日烈 (C)修道人數銳減，傳教事業受阻 (D)教義艱澀難懂，民眾拒絕閱讀。
36. 承上，下列哪一段敘述最可能是馬丁路德的主張？(A)國王，我們最高的統治者，和他的繼承者，應該被接受且被尊為英格蘭教會唯一至高的首領 (B)靈魂獲得赦罪不需仰賴神職人員，只需要《聖經》，而《聖經》的領會只能依靠信仰 (C)你們從我主耶穌基督的代理人那裡得到了贖罪卷，你就能完全獲得赦免 (D)耶路撒冷現在被基督的敵人占領，為了免除你們的罪惡，而在天國得到不朽的光榮，趕緊前往援助吧！
37. 澔翔是一位虔誠的信徒，他一生勤儉，相信人能否得救早已由上帝預先選定，自己所能做的就只是努力工作，以現世成就來榮耀上帝。依此推論，他最可能是下列哪一個教派的信徒？(A)路德教派 (B)喀爾文教派 (C)英國國教派 (D)天主教耶穌會。
38. 「他因為王位繼承問題，請求羅馬教廷允許離婚，並希望迎娶侍女安蓀琳為后，但遭教宗拒絕。因而在1543年創立英國國教派，自己擔任教會的最高領袖。」請問：上述資料說明下列何人的事蹟？(A)查理一世 (B)詹姆士二世 (C)威廉三世 (D)亨利八世。
39. 明末清初之際，許多西洋傳教士如：利瑪竇、湯若望等，遠渡重洋來到中國，除傳播宗教思想外，也促進中西文化交流。請問：他們是屬於哪一個教派的傳教士？(A)路德教派 (B)喀爾文教派 (C)英國國教派 (D)天主教耶穌會。
40. 下列有關於中世紀「阿拉伯人的社會及文化」的敘述，何者有誤？(A)支票、股份公司皆為其發明的制度 (B)《天方夜譚》是阿拉伯著名的文學 (C)重視教育，並翻譯希臘、羅馬古籍 (D)將中國的印刷術、指南針傳入歐洲。

【～試題結束，文光八年級、歷史科～】

澎湖縣立文光國民中學 111 學年度第 1 學期第 2 次成績評量 9 年級公民科試卷

班級：

姓名：

座號：

■讀卡 □答案卷

一、單選題(41~50 題，每題 2 分；51~55 題，每題 1 分。單選題共 25 分)

- () 41. 同樣的商品在便利商店的售價往往比在大賣場貴一些，但還是吸引很多消費者上門。這是因為便利商店不是只販售商品，也包辦許多生活上的大小事，提供非常多元的服務，例如：沖印相片、影印文件、收取包裹、繳費服務、兌換中獎發票等。業者提供多元化的超商服務屬於何種競爭方式？ (A)價格競爭 (B)建立認同 (C)品牌形象 (D)非價格競爭。
- () 42. 竣鈞大學畢業後決定要開一家麵包店，他希望以純手工製作麵包為主打，且第一波推出的就是便宜又分量多的肉鬆麵包，鎖定附近的國中學生。文中畫線部分呈現竣鈞在生產過程中考慮的何種課題？ (A)為誰生產 (B)如何生產 (C)生產什麼 (D)何時生產。
- () 43. 某官員在接受質詢時說：「近來因國際投資客將大筆資金投入我國金融市場，使得新臺幣相對美元大幅升值，為避免過度升值對我國出口貿易產生不利影響，我們將會適時介入影響新臺幣的匯率、控制貨幣數量，以維持物價的穩定。」下列何者最可能是上述官員任職的政府機關？ (A)財政部 (B)經濟部 (C)臺灣銀行 (D)中央銀行
- () 44. 舒媞看了一部連續劇，文中主角穿越在古代與現代的時空中，劇中下列情境，何者是採用「商品貨幣」進行交易？ (A)用牛換馬 (B)用黃金換魚 (C)用硬幣買水 (D)用紙鈔買衣服。
- () 45. 廠商間若有任何妨礙公平交易的行為，可能違反下列哪一部法律？ (A)《社會秩序維護法》 (B)《消費者保護法》 (C)《勞動基準法》 (D)《公平交易法》。
- () 46. 一顆茶葉蛋 8 元、一臺電腦價值新臺幣 20,000 元、一輛腳踏車 7,000 元。從上述的「8 元」、「20,000 元」、「7,000 元」可以看出貨幣的何種功能？ (A)交易媒介 (B)債務清償 (C)價值衡量 (D)價值儲存。
- () 47. 關於「儲值卡」特性的說明，下列何者正確？ (A)屬預付性質，卡片內須有餘額才能消費 (B)由發卡銀行代墊支付消費款項 (C)在信用額度內「先消費後付款」 (D)刷卡後須以貨幣支付帳單。
- () 48. 泓宇是一名貨幣學專家，右表為其所研究這三個月以來，1 單位的甲、乙、丙、丁四種貨幣，所能購買的瓶裝水數量—由表中資料可以得知，其中哪一種貨幣的「價值穩定性」最高？(A)甲 (B)乙 (C)丙 (D)丁。
- | 甲 | 乙 | 丙 | 丁 |
|---|---|---|---|
| 5 | 3 | 4 | 1 |
| 3 | 3 | 2 | 2 |
| 1 | 3 | 2 | 2 |
- () 49. 老師在課堂上抽點學生說明「外匯」的定義，下列何者的說法正確？ (A)甲生：作為國際支付工具的外國貨幣 (B)乙生：作為國際支付工具的本國貨幣 (C)丙生：匯款至國外的本國貨幣 (D)丁生：國內交易用的本國貨幣。
- () 50. 右圖是一則新聞報導—根據內容判斷，甲國的外國企業轉往乙國投資，主要是考量下列哪項因素？ (A)增加銷售量 (B)提高商品價格 (C)降低生產成本 (D)增加銷貨收入。
- () 51. 下列四位同學針對「貨幣」提出個人的看法，其中何者的敘述最恰當？ (A)靜香：我國的法定貨幣由各銀行分別發行 (B)大雄：貨幣的價值由貨幣上人物的貢獻程度而定 (C)胖虎：貨幣價值若不穩定，會降低人們接受的意願 (D)小夫：當要用更多貨幣才能買到相同的商品時，代表貨幣升值。
- () 52. 創新科技公司為了讓其產品「LED 省電燈泡」的銷售量增加，在各大報紙刊登廣告，內容如附圖所示。根據圖中內容判斷，該公司最可能是採取下列何種方式來達成目標？ (A)降低成本 (B)價格競爭 (C)建立品牌形象 (D)延長營業時間
- () 53. 在 20 多年前，40 元新台幣可以換到 1 美元。2021 年，約 28 元新台幣可以換到 1 美元。從上述現象可知新台幣幣值為何？ (A)貶值 (B)升值 (C)沒有變化 (D)難以判斷。

【本報訊】甲國逐步取消過去對外資企業徵收較低稅收的做法，使得原本在該國投資設廠的外國企業紛紛轉往乙國，因為到乙國投資的外國廠商前 4 年不需繳稅，第 5 年到第 8 年還享有優惠稅率。

憑此廣告購買創新牌 LED 省電燈泡
 可享 七折優惠價 原價 200 元/個 優惠價 140 元/個
 一次購買 10 個 再優惠 100 元
 有效期限：109/11/1 - 109/11/30

【第 1 頁結束 後面尚有試題】

- ()54. 以下為歡歡國居民彩英與俊偉的對話內容——
 彩英：最近樂樂國貨幣升值，太好了！ 俊偉：那要趁這時候換回歡歡國貨幣。
 請根據內容判斷，兩人的身分最可能為下列何者？
 (A)準備到樂樂國旅遊 (B)要到樂樂國投資設廠 (C)歡歡國的出口商 (D)歡歡國的進口商。
- ()55. 臺灣使用信用卡的人數日趨增加，但是信用卡仍無法被當成真正貨幣，其原因為何？
 (A)沒有防偽的設計 (B)其屬於商品貨幣 (C)無法被民眾普遍接受 (D)仍須以貨幣清償債務。

二、題組(第 56~60 題，每題 1 分，共 5 分)

1. 「貨幣冷戰」是指透過干預以外的手段，改變本國貨幣的升值或貶值，進而影響到各國的進出口價格。其也對部分民眾產生影響，例如：最近幾天，周先生收到銀行理財專員寄來的「美元價格特報」，內容呈現未來美金走向，建議他趕快把股票賣掉換成美元定存，將是歷年來投資選購美元上，最佳、最划算的選擇。

- ()56. 由「美元價格特報」的內容，可以得知未來新臺幣和美元的關係為何？ (A)新臺幣升值
 (B)新臺幣貶值 (C)新臺幣和美元皆升值 (D)新臺幣和美元皆貶值。
- ()57. 關於此時機點的敘述，下列何者較為適當？ (A)我國出口業者的售價更具競爭力 (B)進口臺灣商品的美國廠商，成本降低 (C)要至美國就學的留學生，減輕不少負擔 (D)購買美國汽車的臺灣消費者，面臨漲價問題。

2. 晏容經營了一間藥妝店，其這幾年的生產成本分析圖如右表——

針對上表資料，晏容提出第一項經營策略的改變，以減少最大項的生產成本支出。另外，她觀察下來發現化妝年齡層愈來愈低，因此決定第二項經營策略為鎖定年輕族群，將訂價落在不會太高又實用的彩妝用品上。請回答下列問題：

項目	占比
人事成本	20%
店面租金	45%
進貨成本	30%
雜支	5%

- ()58. 晏容針對上表進行的分析說明，下列何者正確？ (A)薪資占比最高，其次為地租 (B)為節省薪資支出，請家人顧店可不計入成本中 (C)銷貨收入低於生產成本，造成入不敷出 (D)須尋求生產成本最低的組合方式。
- ()59. 下列何者較可能是晏容的第一項經營策略？ (A)改由網路管道販售商品 (B)改聘國際移工投入生產 (C)增加新店鋪的營業據點 (D)所有商品一律對折販賣。
- ()60. 晏容的第二項經營策略，是考慮下列哪項生產課題？
 (A)生產什麼 (B)如何生產 (C)為誰生產 (D)何時生產。

【試題結束—文光九年級、公民科】

教師評語：

- 深入切題，符合文旨。
- 敘述詳盡，內容豐富。
- 取材適切，結構完整。
- 文筆流暢，情節生動。
- 論點圓融，首尾呼應。
- 段落分明，標點清晰。
- 舉例得當，引人入勝。

- 修辭優美，詞彙豐富。
- 用詞恰當，深具巧思。
- 字跡端正，版面整潔。
- 內容尚佳，取材不足。
- 行文尚佳，分段欠當。
- 文雖切題，未能深入。
- 佈局平穩，內容貧乏。

- 虎頭蛇尾，文末終篇。
- 詞句冗贅，文詞反覆。
- 平鋪直敘，不夠生動。
- 文不對題，篇幅雜亂。
- 錯字連篇，用詞欠妥。
- 字體潦草，標點不清。
- 體裁誤用，違反規則。

其他評語及評分：