

澎湖縣立文光國民中學 111 學年度第 2 學期第 2 次成績評量 8 年級國文科試卷

班級： 姓名： 座號： 讀卡 答案卷

一、國字注音(每題一分，共十分)

- 「夕一ㄥ」請：
- 裊裊「夕ㄨㄟ」煙：
- 視同「ㄇㄛˋ」路：
- 犯「ㄅㄨˋ」：
- 乘「ㄌㄨˋ」：
- 怯「ㄑㄩㄟ」：
- 一「縷」炊煙：
- 「ㄅㄨˋ」橋下：
- 「翳」入：
- 「糝」上：

二、解釋題(每題二分，共二十分)

- 風流：
- 荒誕：
- 嫵媚：
- 水溶溶：
- 廷尉奏「當」：
- 「令」他馬：
- 「固」不敗傷我乎：
- 天下之「平」也：
- 破釜沉舟：
- 防不勝防：

三、成語配合題(每題一分，共十分)

A. 萍水相逢 B. 泛泛之交 C. 總角之交 D. 籠鳥檻猿 E. 滿腹經綸 F. 剛愎自用 G. 鋌而走險
H. 尸位素餐 I. 惺惺相惜 J. 蓬門華戶 K. 躊躇滿志 L. 謙沖自牧 M. 滄海桑田 N. 銜石填海

- 田舜妮編字典就像(1)，非有堅忍的毅力難成其事
- 事業的成功讓林胖丁顯得(2)的樣子。
- 江直樹雖然身為主管，卻隨時都能(3)地接納部屬意見，真是難能可貴。
- 袁湘琴雖生在(4)，但擁有了青春和知識這兩種財富。
- 林包包和王點點同是音樂界的奇才，晤談之後，更是(5)，視對方為知己。
- 徐伊布(6)，博古通今，學貫中西，年紀輕輕就功成名就了。
- 包鯉龍不願讓人說他(7)，所以從上任至今，都夙夜匪懈，戮力盡忠職守。
- 為了生活，王呆呆只好(8)地去從事高危險性的工作。
- 劉卡比如今已是(9)，沒有半點自由。
- 洛奇亞和凱羅斯是(10)，闊別五十年，重新聚首，感到分外親切。




四、單題(每題二分，共五十分)

- 「慘白」的「慘」字與下列何者意思相同？ (A) 悲「慘」 (B) 損失「慘」重 (C) 「慘」無人道 (D) 悽「慘」。
- (甲) 朦朧 (乙) 澎湃 (丙) 尷尬 (丁) 窈窕。以上屬於雙聲關係的詞語有哪幾項？ (A) 甲丁 (B) 乙丁 (C) 乙丙 (D) 甲丙。
- (甲) 紅色朝暾 (乙) 亭午 (丙) 夜夜夜半啼 (丁) 天才矇矓亮 (戊) 薄暮時分 (己) 向晚意不適 (庚) 透露著漠楞楞的曙色。上述提到的時間，何者與早晨有關？ (A) 甲乙丙 (B) 甲丁庚 (C) 乙丁戊 (D) 乙丙庚。
- 「嫵媚的康河也望不見蹤跡」一句運用轉化修辭技巧，下列何者與之不同？ (A) 我是天空裡的一片雲，偶爾投影在你的波心 (B) 當街燈亮起來向村莊道過晚安 (C) 石碑立在山坡上，無限哀怨地凝視著路過的行人 (D) 這一系列清貧的火車，穿過山洞，經過綠野，在一片秋光裡慢慢停下來。

【第 1 頁結束 背面尚有試題】

5. 「有村舍處有佳蔭，有佳蔭處有村舍」一句運用回文修辭技巧，下列何者與之相同？
 (A) 山不轉路轉，路不轉人轉 (B) 來者不善，善者不來
 (C) 桂林山水甲天下，陽朔山水甲桂林 (D) 何夜無月？何處無竹柏。
6. 徐志摩在我所知道的康橋一文中連用四個「你如愛」，表現出何種神情？
 (A) 眉飛色舞，津津樂道 (B) 愛不釋手，喃喃自語 (C) 悠然暢寄，隨心所欲
 (D) 重複詠嘆，強調誇飾。
7. 我所知道的康橋一文所描述的季節，與下列何者相同？ (A) 不覺商意滿林薄
 (B) 霜葉紅於二月花 (C) 吹面不寒楊柳風 (D) 瑤琴一曲來薰風。
8. 「廷尉當是也」中「當」字的用法與下列何者相同？ (A) 廷尉奏「當」 (B) 一人犯蹕，
 「當」罰金 (C) 而廷尉乃「當」之罰金 (D) 「當」仁不讓。
9. 下列選項「 」中敬稱詞的使用，何者正確？ (A) 我們這群好朋友就屬「麾下」最有成就
 (B) 太子「陛下」仁民愛物，將來必是明君 (C) 初次見面，請問先生「芳名」
 (D) 「閣下」神機妙算，在下深感佩服。
10. 漢文帝從原本不滿判決，到後來轉而接受，可用以下何者形容他？ (A) 擇善固執
 (B) 優柔寡斷 (C) 察納雅言 (D) 見風轉舵。
11. 「上行出中涓橋，有一人從橋下走出，乘輿馬驚。於是使騎捕，屬之廷尉。」上述這段文字擺在
張釋之執法一文的前面，在寫作上有何含義？ (A) 說明原因，交代事件 (B) 前後呼應，
 預留伏筆 (C) 開門見山，引人入勝 (D) 製造懸疑，營造氣氛。
12. 「法者，天子所與天下公共也。今法如此而更重之，是法不信於民也。」這段話的意思為何？
 (A) 法律本由國君與人民共同制定，不可由國君擅自改變，以免破壞信任
 (B) 法律是國君和人民都要共同遵守的，不宜隨意更改，以免破壞法律威信
 (C) 國君若不守法，法律就算再嚴苛，人民也不需要遵守
 (D) 法律是由國君頒布給天下人的，天子應該當人民表率來遵守，樹立模範。
13. 「近代以前，歐洲盛行傭兵制度，農民生活無著時，只得加入傭兵隊，為錢而戰。」根據文意，
 下列何者最適合用來形容農民所做的抉擇？ (A) 流離失所，顛沛流離 (B) 鋌而走險，窮
 途末路 (C) 休戚與共，塞翁失馬 (D) 懷才不遇，仰人鼻息。
14. 關於罐頭由來一文的修辭說明，下列何者錯誤？ (A) 古語說得好：「皇帝不差餓兵」，自古
 征戰之際，首先要解決吃飯問題／引用 (B) 一般糧食要不就是烹調不易，要不就不耐久放／
 類疊 (C) 罐頭一旦交到士兵手中，還得要費一番功夫，刺刀、斧頭全都用上／誇飾 (D)
 講起軍隊埋鍋造飯，有幾人能夠體會／設問。
15. 根據罐頭由來一文，拿破崙在罐頭發明的歷史過程中，扮演何種關鍵性角色？ (A) 下令解決
 軍糧供應的難題，促使玻璃罐頭的誕生 (B) 為了解決開罐不方便的困擾，加速了開罐器的發明
 (C) 因自身是美食愛好者，引起法國人研發罐頭的念頭 (D) 向民間收購不同形制的罐
 頭，篩選出最佳者供軍隊使用。
16. 「英國商人杜蘭在法國食品保存技術的基礎上，繼續研究。他把三十多磅的肉品調製處理後，放
 在鐵皮罐中密封，由英國海軍帶上出航船隻，實況測試。六個月後，船隻返航，罐頭肉質仍然完
 好，風味未曾改變，英國政府隨即頒發專利。」根據文意，下列說明何者正確？ (A) 杜蘭是
 第一個研發罐頭食品保存方法的人 (B) 官方並不承認杜蘭的研究 (C) 杜蘭以行動證明自
 己研製的東西禁得起考驗 (D) 杜蘭攜帶罐頭上船，以滾動方式測試罐頭品質。
17. 根據罐頭由來一文，罐頭發明與演進的歷史中，阿佩特、杜蘭、巴斯德三人分別做出何種貢獻？
 (A) 阿佩特：研發出玻璃罐密封／杜蘭：研發出鐵皮罐密封／巴斯德：提出食品腐敗與細菌的
 關係 (B) 阿佩特：研發出鐵皮罐密封／杜蘭：研發出玻璃罐密封／巴斯德：提出食品腐敗與
 細菌的關係 (C) 阿佩特：研發出玻璃罐密封／杜蘭：提出食品腐敗與細菌的關係／巴斯德：研
 發出鐵皮罐密封 (D) 阿佩特：研發出鐵皮罐密封／杜蘭：提出食品腐敗與細菌的關係／巴斯
 德：研發出玻璃罐密封。

18. 「當年在德國念書時，經常拿東歐牛肉罐頭，攪點五香、八角一燉，便是一鍋牛肉湯，麵條白菜同入，一頓飯就有著落，稱得上物美價廉。」關於這段文字的分析，下列何者正確？（A）可推知東歐的罐頭比較昂貴（B）採追憶法，敘述當年出國旅遊的經驗（C）以細筆摹寫烹調的過程，讀來歷歷如在眼前（D）此處主要連結自己的經驗，與主題較無關聯。
19. 「比起醫護人員，只會拍痰的她們懂得最少，卻也懂得最多。」關於這段文字，下列敘述何者正確？（A）外籍看護擁有的醫學知識量，不輸給醫護人員（B）拍痰是救命的關鍵，只要學會拍痰就能稱上是「懂得最多」（C）比起醫護人員，外籍看護更能理解病人的心情（D）外籍看護在工作中習得許多專業醫療知識，可媲美醫護人員。
20. 拍痰一文中，下列文句何者最能表現出外籍看護「緊張羞怯」的模樣？（A）幾乎身旁都有一位黝黑的外籍看護。大眼、微胖，略捲的黑髮（B）睡眠惺忪從一旁陪客椅上掙扎著爬起來的她們（C）她會慌亂地拿出手機，小小聲地用不流暢的中文打給她的老闆（D）他們的外籍看護就站在身後聊天，陽光斜斜打在她們臉上，深邃五官映出堅毅的影子。
21. 「她們總被定位為家屬與醫師之間，像答錄機或接線生之類，常被人忽視的存在。」關於這段文字，下列何者最能與之相呼應？（A）每一個病弱的老人，幾乎身旁都有一位黝黑的外籍看護（B）彷彿她們只是病房中一抹淡淡的異國香水，沒有實質地位（C）他們身後母親般的外籍看護則把握一天中難得的悠閒時光，與同鄉用流暢的母語談笑（D）她們臉上線條和緩，這是一天之中，難得不用拍痰、灌食或更換尿布的悠閒時光。
22. 朋友的奶奶過世，如果要致贈輓幛，下列題辭何者最恰當？



23. 關於東帖的說明，下列何者正確？（A）是一種簡短的文書，原為書信的一種（B）東帖的內容包括時間、地點、目的、發帖人姓名等，其中「目的」可以省略（C）可用於婚嫁、慶賀及喪葬等特殊事件，極少用於普通的應酬上（D）「東」原意是將文字寫在絹帛上，「帖」原意是將文字刻在竹片上。
24. 卉喬前幾天生了女兒，如果要包禮金給她，下列何者最適合題寫在紅包上？（A）弄璋之喜（B）之子于歸（C）熊夢徵祥（D）明珠入掌。
25. 根據〈張釋之執法〉一文，下列敘述何者正確？（A）犯人在答話時，語氣從容且態度不慌不忙（B）張釋之考量犯人非故意，酌量減輕其刑（C）文帝不滿判決時，張釋之忿忿不平的回應（D）文帝最後從善如流，接受了張釋之的判決。

五、題組(每題二分，共十分)

世界就像一個很大的圖框，每個人都是其中的一小塊拼圖。人人都不知道自己屬於哪一個部分，雖然微小，卻都是很重要的個體，缺少了任何一個人，就無法拼湊成一幅完整的圖畫。

至於這幅圖畫的內容是什麼呢？沒有人知道，只有不停流轉的時間，可能會在某個時機透露出一點解答。因此人們終其一生都在找尋自己的定位，也自然地想要尋覓和自己相似、相合、相吸引的「其他人」，因為這樣的人就是在拼圖板上離自己最近、最合適、擁有最相似圖形的人。

有時會以為自己找到了，但其實只是乍看之下相合，真正拼起來就知道錯了，也就是有格格不入的感覺。

如果真的出現了相合的拼圖，不管其圖形是絢爛、是美麗、是平凡、是空白，他們總會聚在一起，因為這是最自然的相遇，最不勉強的結合。不管他們佔了整個世界的哪一部分，他們都不會在乎，因為他們已經找到了真正屬於自己的定位。

(改寫自世界拼圖)

1. 本文的第一段中，「個人之於世界」的關係，與下列何者相當？ (A) 風之於風車 (B) 種子之於花朵 (C) 印表機之於電腦 (D) 螺絲釘之於汽車。
2. 根據本文所述，「缺少了任何一個人，就無法拼湊成一幅完整的圖畫。」這句話的寓意與下列何者最相近？ (A) 一幅偉大的拼圖，必須靠許多人通力合作才能完成 (B) 人是圖畫的一部分，所以要站在圖畫前才顯得完整 (C) 每個人在世界舞台上都有其位置，不要輕視自己的分量 (D) 人是群居的動物，少了一個人就不能呈現出人生的意義。
3. 本文的第四段中，「他們」找到了屬於自己的定位。由此推論，下列何者是「他們」已經體會到的道理？ (A) 萬物靜觀皆自得 (B) 天生我才必有用 (C) 情人眼裡出西施 (D) 天涯何處無芳草。

王子猷 (1) 居山陰 (2)。夜大雪，眠覺，開室命酌酒，四望皎然；因起彷徨，詠左思 (3) 招隱詩，忽憶戴安道。時戴在剡 (4)，即便夜乘小船就之，經宿方至，造門不前而返。人問其故，王曰：「吾本乘興而行，興盡而返，何必見戴！」

(劉義慶 世說新語)

【注釋】(1) 王子猷：東晉書法家王羲之之子。(2) 山陰：今浙江省紹興縣。(3) 左思：西晉文學家。(4) 剡：音尸弓丿，今浙江省剡縣。

4. 從王子猷的言行來看，下列何者最適合用來形容他的表現？ (A) 三心二意 (B) 虎頭蛇尾 (C) 隨興自得 (D) 熱愛自然。
5. 下列文句的解釋，何者正確？ (A) 「四望皎然」是因為大雪覆地，一片銀白 (B) 「因起彷徨」是因為思念友人戴安道 (C) 「經宿方至」是因為缺乏交通工具 (D) 「造門不前而返」，是因為沒有人在家。

澎湖縣立文光國民中學 111 學年度第 2 學期第 2 次成績評量 8 年級國文科答案卷

班級： 姓名： 座號： 讀卡 答案卷

一、國字注音(每題一分，共十分)

1.	2.	3.	4.	5.
6.	7.	8.	9.	10.

二、解釋(每題二分，共二十分)

1. 風流：
2. 荒誕：
3. 嫵媚：
4. 水溶溶：
5. 廷尉奏「當」：
6. 「令」他馬：
7. 「固」不敗傷我乎：
8. 天下之「平」也：
9. 破釜沉舟：
10. 防不勝防：

三、成語配合題(每題一分，共十分)

1.	2.	3.	4.	5.
6.	7.	8.	9.	10.

四、單題(每題二分，共五十分)

1.	2.	3.	4.	5.
6.	7.	8.	9.	10.
11.	12.	13.	14.	15.
16.	17.	18.	19.	20.
21.	22.	23.	24.	25.

五、題組(每題二分，共十分)

1.	2.	3.	4.	5.
----	----	----	----	----

澎湖縣立文光國民中學一一一
學年度第二學期第二次成績評
量 寫 作 測 驗

八年 () 班 座號：

姓名：

※ 測驗時間四十五分鐘，請用本國文字書寫，可不必抄題目。
※ 請用黑色墨水筆(不得使用鉛筆)，由上而下，自右而左書寫，文長三百字以上，不得使用詩歌、小說體裁及網路語言。

※ 答案紙上不得作任何標記或顯示個人身分，否則皆以零分計算。請仔細閱讀以下題目及說明，撰寫一篇作文。

題目：說真話的勇氣

說明：曾有人說：「在這個世界上，最悲哀的事，莫過於說謊。」而最需要勇氣的事，莫過於在面對龐大壓力時，還能不昧著自己的良心說出真話。「張釋之執法」一課中，廷尉張釋之面對皇帝時仍能直言抗辯、不徇私枉法的形象，是否令你印象深刻呢？究竟，「由衷地說出真話」應具有多大的勇氣呢？而這個勇氣是人人都可以擁有的嗎？在你的生活裡，你遇過「需要你說真話」的事件嗎？你又是如何展現你的勇氣呢？

請以「說真話的勇氣」為題，寫出你對說實話一事的相關經驗、體會或想法。

澎湖縣立文光國民中學 111 學年度第二學期第二次段考八年級英文科試卷

班級 座號 姓名

一、言談理解-根據聽到的對話內容與問題，選出正確的答案(每題 2 分；共 10 分)

- () 1. (A) A seafood restaurant.
(B) A hospital.
(C) A beach.
- () 2. (A) At eight.
(B) At six-forty five.
(C) At seven-fifteen.
- () 3. (A) He sent Jane some fruit.
(B) He helped Jane carry the fruit.
(C) He bought some fruit for Jane.
- () 4. (A) There will be a party tomorrow.
(B) Nina will go to the supermarket.
(C) The man will make cakes for Nina.
- () 5. (A) Making a plan and following it.
(B) Listening to the English news.
(C) Read something that interest you in English.

二、文意字彙(每題 2 分；共 20 分)

1. A q_____r of an hour is fifteen minutes.
2. Jay Chou is the most p_____r singer over the past twenty years.
3. I lost two b_____s on my coat, so I don't wear it today.
4. Air is important for us because we can't b_____e without it.
5. Children are always happy when they play at the park, so it is really a p_____e for them.
6. Our new n_____r, Mr. Brown, just moved near us last week.
7. This is really an e_____t restaurant. It's clean, and the food is very yummy.
8. I am s_____ly grateful (感激的) for Mandy's help. I will never forget her kindness.
9. W_____r from factories(工廠)and houses is killing sea animals and plants.
10. The sun s_____e all day long, and I was all sunburned(曬傷). I need to take a rest now.

三、文法選擇(每題 2 分；共 40 分)

- () 1. There used to _____ a clean beach over here, but now it is full of trash.
(A)is (B)be (C)have (D)being
- () 2. My boss(老闆) _____ me to finish the work.
(A)had (B)helped (C)let (D)made
- () 3. He finally got good grades because of his _____.
(A)hard work (B)works hard (C)hard works (D)hard-working
- () 4. Samuel's teacher asked him _____ writing in English and _____ more English books.
(A)practice; read (B)to practice; reading (C)to practice; read (D)practicing; reading
- () 5. A: Why is Terry _____ to school? B: I have no idea. He usually goes to school _____.
(A)late; late (B)lately; lately (C)late; lately (D)lately; late

- () 6. The turtle is walking more slowly than all the other animals. It is walking _____ of them.
(A)less fastest (B) the slower (C) the least faster (D)the most slowly
- () 7. Nancy _____ go swimming on Saturday, and she felt happy about it.
(A)used to (B)gets used to (C)used to be (D)was used to
- () 8. Joy, I need the chair over there. Can you _____?
(A)give me it (B)buy it to me (C)give it for me (D)help me to get it
- () 9. Because Stacy was afraid (害怕的), she ran _____ last night.
(A)faster and faster (B)fastest and fastest (C)fast and fast (D)the faster
- () 10. His efforts with computers made him _____.
(A)successful (B)successfully (C)successful man (D) more successfully
- () 11. Emma: Happy Mother's Day. These are for you. I love you.
Mom: Wow, you wrote a card _____ me and bought me _____ some flowers. You are so sweet!
(A)for; to (B)to; for (C)X; for (D)to; X
- () 12. Ms. Lin asked Vicky an _____ question, and she answered it _____.
(A)easily; easy (B)easy; easily (C)easily; easily (D)easy; easy
- () 13. 選出錯誤的句子
(A)James bought a cellphone for his son. (B)Mandy made some cookies for us.
(C)Josh wrote them some letters last year. (D)At my birthday party, Chloe gave a big cake for me.
- () 14. When Jerry won the game, he looked _____. They were proud of him.
(A) so happy (B)so sad (C) happily (D) sadly
- () 15. The dress looks very pretty, so Ken wants to _____.
(A) buy his daughter it (B)buy it his daughter
(C)buy his daughter for it (D)buy it for his daughter
- () 16. My classmate _____ the toy car for me this morning.
(A) made (B)sent (C)showed (D)gave
- () 17. The math test is not easy, so we need to study _____ for it to get good grades.
(A) hardly (B)more hardly (C) harder (D) more harder
- () 18. That kind of music always makes me _____, so I don't like it.
(A)angrily (B)feel angrily (C)feel angry (D)to feel angrily
- () 19. Donna: The climate in Taiwan changes a lot! Joe: _____.
(A)Oh, the houses in Taiwan change a lot. (B)Well, we study climate change at school.
(C)Yes, I can't believe it's so hot in November. (D)Cool, the climate change happens in four seasons.
- () 20. Please make your voice much louder, so that you can let everyone in the classroom _____.
(A) hear clear (B)hear clearly (C)hearing clearly (D)to hear clearly

四、閱讀測驗：(每題 2 分；共 6 分)

Customer (顧客) Comment
(意見) Card

1. Quality (品質)
 Good Not as good
 About the same Poor

2. Delivery (運送)
 Good Not as good
 About the same Poor

3. Safety (安全)
 Good Not as good
 About the same Poor

4. Price
 Good Not as good
 About the same Poor

5. Thank you for buying our toys. If there's anything you'd like to tell us, please leave a message.
As a Mom, I care about the safety of the toys the most. That's why I bought one of your products (產品) online quickly, even though it costs much more than others.
When I got the product soon after the day I ordered it, I held it happily and couldn't wait to open it.
However, I became very disappointed after I looked at it carefully. It's poorly made and not safe for my kid. I don't want it anymore! Please give my money back!

Product Name: Tomas the train
Date of Purchase (購買):
2017, 4, 14
Your Name: Amy Lee
Telephone: 0910-212-003
Date: 2017, 4, 24

() 1. According to (根據) the information (資料) on the left, how may Mrs. Lee tick (打勾) on the Customer Comment Card?

(A)

1. Quality
 Good Not as good
 About the same Poor

2. Delivery
 Good Not as good
 About the same Poor

3. Safety
 Good Not as good
 About the same Poor

4. Price
 Good Not as good
 About the same Poor

(B)

1. Quality
 Good Not as good
 About the same Poor

2. Delivery
 Good Not as good
 About the same Poor

3. Safety
 Good Not as good
 About the same Poor

4. Price
 Good Not as good
 About the same Poor

(C)

1. Quality
 Good Not as good
 About the same Poor

2. Delivery
 Good Not as good
 About the same Poor

3. Safety
 Good Not as good
 About the same Poor

4. Price
 Good Not as good
 About the same Poor

(D)

1. Quality
 Good Not as good
 About the same Poor

2. Delivery
 Good Not as good
 About the same Poor

3. Safety
 Good Not as good
 About the same Poor

4. Price
 Good Not as good
 About the same Poor

() 2. What may disappointed on the Customer Comment Card mean here?

(A) Unhappy. (B) Happy. (C) Good. (D) Careful.

() 3. Which might be the letter from the company?

(A) Dear Mrs. Lee,
We are happy to tell you that we have a gift for the birthday person this month. You can get one free toy as long as you pay for more than NT\$1,500 for our products. Please visit our website to know more.
Manager (經理) Calvin Li

(B) Dear Mrs. Lee,
We are terribly sorry that you got a bad experience in our company. We promise (承諾) to improve (增進) the quality of our products in the near future. We will send someone to get the toy back and return (歸還) the money back to you!
Manager Calvin Li

(C) Dear Mrs. Lee,
Thank you for being our customer for a long time. We always want to give the best service to each of our customers. If there's anything you'd like to tell us, please feel free to let us know.
Manager Calvin Li

(D) Dear Mrs. Lee,
We are sorry that you got our product so late. We promise to improve it and give you a discount (折扣) next time. Please come again.
Manager Calvin Li

五、克漏字選擇：(每題 2 分；共 4 分)

Taiwan's Irwin mangoes are delicious and popular summer fruit. Taiwanese love them, and a lot of foreigners come to Taiwan for them. What's more, eating a bowl of mango shaved ice (雪花冰) is the most wonderful experience on hot summer days. It will make you cold down fast and never forget the amazing taste. During the season, people can get Irwin mangos and enjoy the amazing shaved ice everywhere in Taiwan. (1) _____? Usually speaking, it starts from May in Fangshan, Pingtung, to August in Yujing, Tainan. People can check the right days on the Net.

(2) _____? The story started in 1954. The government (政府) imported (進口) more than 40 kinds of new mango trees from the US. Among (在...之間) them, Irwin mango was thought (被認為) the best for Taiwan. In 1962, Cheng Han-chih planted 100 Irwin mango saplings (young trees), but a year later, 96 trees died because of the very cold weather. Cheng never gave up and worked harder to find ways to grow the delicious fruit well and sell it to the markets successfully. Besides, he taught the farmers in need, shared everything about growing it with them, and helped to make Irwin mangoes popular. Then, more and more farmers grew Irwin mangoes, and people called Cheng Han-chih the "father of Irwin mango."

- () 1. (A) When can we start to taste Irwin mango ice
(B) Where can we taste the best Irwin mango ice
(C) Where does the season of Irwin mangos start
(D) When is the season of Irwin mangoes in Taiwan
- () 2. (A) Who brought Irwin mango trees from the US for farmers
(B) Who let us have delicious Irwin mangos to eat in summer
(C) Who helped farmers sell Irwin mangos to foreign countries
(D) Who grew the sweetest Irwin mangos in Pingtung and Tainan

六、依提示作答(每題 2 分；共 20 分)題目在答案卷上，請直接作答

10. (看圖回答問題)



澎湖縣立文光國民中學111學年度第二學期第二次段考八年級英文科答案卷

班級

姓名

座號

一、聽力測驗(每題2分;共10分)

1.	2.	3.	4.	5.
----	----	----	----	----

二、文意字彙(每題2分;共20分)

1.	2.	3.	4.	5.
6.	7.	8.	9.	10.

三、文法測驗(每題2分;共40分)

1.	2.	3.	4.	5.	6.	7.	8.	9.	10.
11.	12.	13.	14.	15.	16.	17.	18.	19.	20.

四、閱讀測驗:(每題2分;共6分)

1.	2.	3.
----	----	----

五、克漏字測驗(每題2分;共4分)

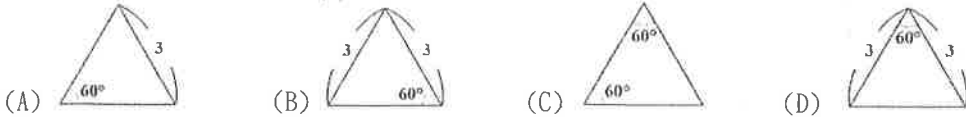
1.	2.
----	----

六、依提示回答問題(每題2分;共20分)

1. I help my mom to give the dog a bath. My mom asks me to do it. (合併句子)
2. Nicole goes to bed at ten. Her daughter goes to bed at nine thirty. (用 early 的比較級合併句子)
3. Those kids/ sing/ more/ terrible/ us/ the park/ yesterday. (依提示字完成句子)
4. Mom makes Ken <u>do the dishes</u> every day. (依畫線部分造原問句)
5. Alan sent a box of oranges to his grandparents from America. (把 to 去掉改寫句子)
6. 他努力工作了好幾年，並創造出新品種的美味西瓜。(翻成英文)
7. 我的朋友幸運地得到看棒球比賽的機會。(翻成英文)
8. 在我長大後，我將不再依靠我的父母。(翻成英文)
9. What can you do to help save the ocean?(依事實回答)
10. What did the teacher ask the students?(看圖回答問題)

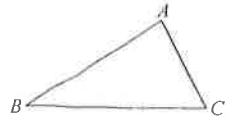
一、選擇題(32分，每題4分)

() 1. 依據圖中標示的邊長和角度，判斷下列何者不是正三角形？



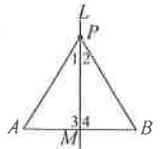
() 2. 如右圖，若陳群老師欲在 $\triangle ABC$ 內找一點 P ，使得 $\overline{PB} = \overline{PC}$ ，且 P 點到 \overline{BC} 、 \overline{AB} 的距離相等，則陳群老師應採用下列哪一個交點？

- (A) $\angle B$ 的角平分線與 \overline{BC} 的中垂線的交點 (B) \overline{BC} 的中垂線與 \overline{AB} 的中垂線的交點
(C) $\angle B$ 的角平分線與 $\angle C$ 的角平分線的交點 (D) $\angle C$ 的角平分線與 \overline{AB} 的中垂線的交點



() 3. 若 $\triangle ABC$ 與 $\triangle DEF$ 中， $\overline{AB} = \overline{DE}$ ， $\angle B = \angle E$ ，則加入下列哪一個條件後， $\triangle ABC$ 與 $\triangle DEF$ 不一定會全等？

- (A) $\overline{BC} = \overline{EF}$ (B) $\angle C = \angle F$ (C) $\overline{AC} = \overline{DF}$ (D) $\overline{BC} = \overline{EF}$



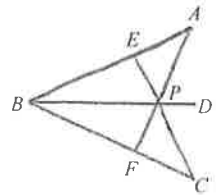
() 4. 如右圖， L 為 \overline{AB} 的垂直平分線交 \overline{AB} 於 M ， P 為 L 上任一點，則下列敘述何者不一定正確？

- (A) $\triangle PAB$ 是等腰三角形 (B) $\angle 1 = \angle 2$ (C) $\triangle PAM \cong \triangle PBM$ (D) $\angle A$ 與 $\angle B$ 互餘

() 5. 如右圖， P 點在 \overline{BD} 上，連接 \overline{AP} 並交 \overline{BC} 於 F 點，連接 \overline{CP} 並交 \overline{AB} 於 E 點，則下列哪一個選項可以證明 $\triangle BPE \cong \triangle BPF$ ？

- (甲) $\angle BAP = \angle BCP$ (乙) $\angle PEB = \angle PFB = 90^\circ$ (丙) $\overline{PB} = \overline{PB}$ (丁) $\overline{PE} = \overline{PF}$

- (A) 甲、乙、丙 (B) 甲、乙、丁 (C) 甲、丙、丁 (D) 乙、丙、丁

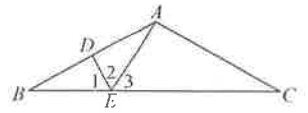


() 6. 只利用垂直平分線作圖將 \overline{AB} 分成16等分，則至少須作幾次垂直平分線作圖？

- (A) 4 (B) 8 (C) 15 (D) 16

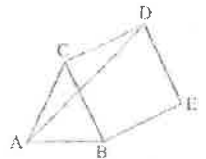
() 7. 如右圖， $\triangle ABC$ 中， D 點在 \overline{AB} 上， E 點在 \overline{BC} 上， \overline{DE} 為 \overline{AB} 的中垂線。若 $\angle B = \angle C$ ，且 $\angle EAC > 90^\circ$ ，則根據圖中標示的角，判斷下列敘述何者正確？

- (A) $\angle 1 = \angle 2$ ， $\angle 1 < \angle 3$ (B) $\angle 1 = \angle 2$ ， $\angle 1 > \angle 3$ (C) $\angle 1 \neq \angle 2$ ， $\angle 1 < \angle 3$ (D) $\angle 1 \neq \angle 2$ ， $\angle 1 > \angle 3$



() 8. 如右圖， $\triangle ABC$ 中， D 點在 \overline{BC} 上， $\overline{AC} = \overline{BC}$ ，以 $\triangle ABC$ 的邊 \overline{BC} 向外側作正方形 $BCDE$ ，若 $\angle DAB$ 的度數為 x ，則下列何者正確？

- (A) x 視 $\triangle ABC$ 而定 (B) x 與 $\triangle ABC$ 無關 (C) x 可能等於 $\angle CAD$ (D) x 大於 45° 而小於 90°



二、填充：(56分，每格4分)

1. 如圖一， \overline{PA} 為 $\angle BAC$ 的角平分線， $\overline{PB} \perp \overline{AB}$ ， $\overline{PC} \perp \overline{AC}$ ，且 $\overline{AD} = 12$ ， $\overline{AE} = 14$ ，若 $\triangle ADE$ 的面積為65平方單位，則 $\overline{PB} =$ _____。

2. 如圖二， $\triangle ABC$ 中， $\angle B$ 與 $\angle A$ 的角平分線相交於 I ，如果 $\angle C = 90^\circ$ ，則 $\angle AIB =$ _____度。

3. 如圖三，求 $\angle A + \angle B + \angle C + \angle D + \angle E$ 等於_____度。

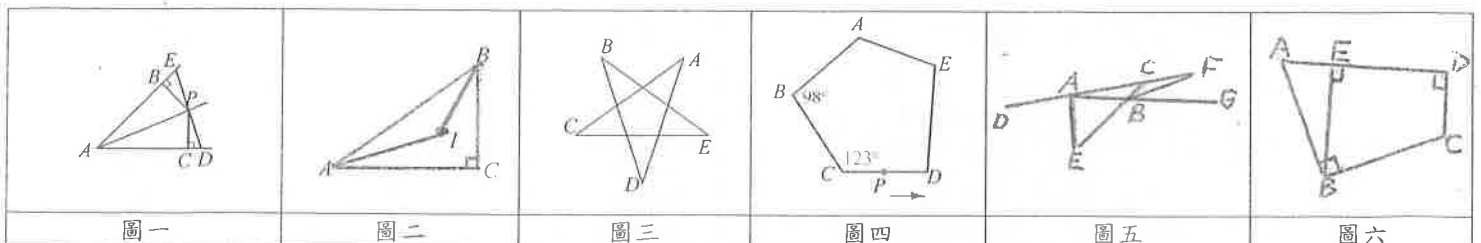
4. 如圖四，有一個五邊形 $ABCDE$ 的步道，小美從 P 點出發，沿步道散步，經過 D 、 E 、 A 後到達 B ，則小美共轉了_____度。

5. 八邊形的內角和為_____度。

6. 若一正 n 邊形的每一個內角為 135° ，則 $n =$ _____。

7. 如圖五， $DACF$ 四點共線， ABG 三點共線， CBE 三點共線。若 \overline{AE} 及 \overline{BF} 分別是 $\angle DAB$ 和 $\angle CBG$ 的角平分線，且 $\overline{AE} = \overline{AB} = \overline{BF}$ ，則 $\angle ACB =$ _____度。

8. 如圖六，四邊形 $ABCD$ 中， $\overline{AB} = \overline{BC}$ ， $\angle ABC = \angle CDA = 90^\circ$ ， $\overline{BE} \perp \overline{AD}$ 。若四邊形 $ABCD$ 的面積為27，則 $\overline{BE} =$ _____。

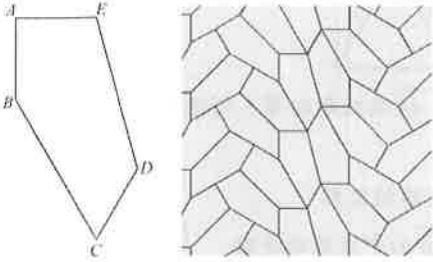


9. $\triangle ABC$ 是邊長為8的正三角形，則 $\triangle ABC$ 面積=_____


10. $\triangle ABC$ 中，若三個內角的度數比為3:4:5，則 $\triangle ABC$ 中最大的內角=_____度。

11. 已知 $\triangle ABC \cong \triangle DEF$ ，且點A、B、C分別對應於點D、E、F，若 $\overline{AB} = 6$ 、 $\overline{BC} = 2x + 3$ 、 $\overline{AC} = x + 3$ 、 $\overline{EF} = 5x$ ，則 $\overline{BC} =$ _____

12. 與五邊形ABCDE全等的五邊形可以填滿平面，如下圖所示，則 $\angle ABC =$ _____度



13. 在下圖A~E中，依全等性質填入全等的三角形。(請填入代號，全對才給分)



答：(1) _____ 和 _____ (RHS 性質) (2) _____ 和 _____ (SSS 性質)

三、計算題(需寫計算過程)：(4分)

1. 如圖，在等腰 $\triangle ABC$ 中，已知 \overline{AD} 平分 $\angle BAC$ ，若 $\overline{AB} = \overline{AC} = 25$ ， $\overline{BC} = 14$ ，試問 $\triangle ABC$ 的面積=?



四、畫圖題及證明題(8分，不需寫作法，需留作圖軌跡，證明需寫過程)

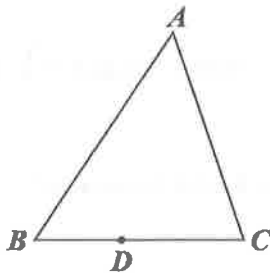
1. 如圖， $\triangle ABC$ 中， $\overline{AB} > \overline{AC} > \overline{BC}$ ，且D為 \overline{BC} 上一點。

(1)請依下列作法完成下圖：(4分)

(2)請證明 $\triangle APQ \cong \triangle DPQ$ (4分)

連接 \overline{AD} ，作 \overline{AD} 的中垂線分別交

\overline{AB} 、 \overline{AC} 於P點、Q點，畫出 $\triangle APQ$ 與 $\triangle DPQ$



澎湖縣立文光國中 111 學年度第二學期第二次段考 自然科 考試卷

八年 ___ 班 座號：___ 姓名：_____ ■讀卡

答案請填在答案卡上

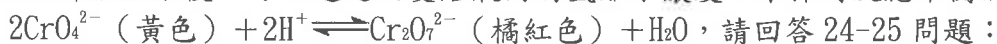
一、選擇 50 題（每題 2 分，共 100 分）

1~10 題為是非題，○的話請選 A，X 的話請選 B

1. 鹼性溶液摸起來有滑膩感，並可溶解油脂。
2. 任何水溶液都含有 H^+ 和 OH^- 。
3. 酸性溶液稀釋，水加越多，pH 值越大，最終 pH 值會大於 7。
4. 硫酸與氫氧化鈉溶液反應，酸鹼中和的條件是 $[H^+] = [OH^-]$ 。
5. 固體反應物磨成越小顆粒，總表面積越小。
6. 進行化學反應時，反應溫度越高，反應速率越快，兩者呈正比關係。
7. 反應達到動態平衡時，反應物與生成物的莫耳數與反應式的係數成正比關係。
8. 有機化合物都一定含有碳與氫兩種元素，所以燃燒後會產生二氧化碳和水。
9. 醇類必含有 OH 原子團，所以醇類水溶液是鹼性。
10. 在飽和食鹽水中再加入食鹽，不會破壞原有的平衡。
11. 甲、乙、丙三試管分別盛裝不同液體：甲. 蒸餾水；乙. 鹽酸 1 滴+蒸餾水；丙. 氫氧化鈉水溶液。若婷婷將廣用試紙投入試管中，則試紙將分別呈現何種顏色？
(A) 甲：靛色、乙：綠色、丙：紅色 (B) 甲：綠色、乙：橙色、丙：紫色
(C) 甲：綠色、乙：紫色、丙：橙色 (D) 甲：橙色、乙：紅色、丙：藍色。
12. 若將固體氫氧化鈉投入水中，則下列哪一個現象不可能發生？
(A) 溶液能導電 (B) 溶液溫度升高
(C) NaOH 解離成 Na^+ 及 OH^- (D) NaOH 與水作用產生氫氣。
13. 小明欲使氣球升上天空，可灌入哪一個反應的氣體產物？（不考慮安全性）
(A) 大理岩與醋酸 (B) 鹽酸與鎂帶 (C) 雙氧水加二氧化錳 (D) 碳酸鈣加稀鹽酸。
14. 在敘述水溶液時，一般使用中括號 [] 表示哪一種性質？
(A) 重量百分率濃度 (B) 體積百分率濃度 (C) 百萬分點 (D) 莫耳濃度。
15. 已知甲溶液的 pH 值比乙溶液大，則下列敘述何者正確？
(A) 甲溶液必為鹼性溶液 (B) 乙溶液必為酸性溶液
(C) 甲溶液有可能是中性溶液 (D) 甲溶液中的氫離子濃度比乙溶液中的氫離子濃度大
16. 有關醋酸水溶液加水後的敘述，下列何者正確？
(A) 醋酸莫耳數不變 (B) 氫離子濃度不變 (C) 酸味強烈程度不變 (D) 溶液體積不變。
17. 純水會進行少量的解離，所以一杯純水中應不會出現下列哪種物質？
(A) H_2O (B) H^+ (C) OH^- (D) H_2O_2 。
18. 下列有關鹽類的敘述，何者錯誤？
(A) 鹽類並不一定易溶於水 (B) 鹽類溶液為中性
(C) 金屬與酸作用可產生鹽類 (D) 酸鹼中和會產生鹽類。
19. 有關鹽類的敘述，下列何者錯誤？
(A) 碳酸鈉為白色固體，又稱洗滌鹼 (B) 碳酸氫鈉是白色固體，俗稱小蘇打
(C) 碳酸氫鈉粉末遇熱會分解出二氧化碳 (D) 大理岩和貝殼的主要成分都是硫酸鈣。
20. 下列何種物質可作為乾燥劑，且其水溶液可用來檢驗二氧化碳的存在？
(A) 氫氧化鈉 (B) 氯化鈣 (C) 硫酸鈣 (D) 氧化鈣。
21. 鹽酸 (HCl) 與硫代硫酸鈉 ($Na_2S_2O_3$) 反應後，所生成的沉澱物是什麼顏色？
(A) 黃色 (B) 紅棕色 (C) 黑色 (D) 藍色。
22. 下列何者是可逆反應？(A) 鐵生鏽 (B) 氯化鈉解離 (C) 酒精燃燒 (D) 煙火爆炸。
23. 下列有關可逆反應平衡狀態的敘述，何者正確？
(A) 反應物與生成物的濃度必相等 (B) 正、逆反應完全停止，不再變化
(C) 正、逆反應速率必相等 (D) 反應物與生成物質量必相等

【第 1 頁結束 背面尚有試題】

* 鉻酸鉀溶於水後，可以透過改變溶液內的氫離子濃度，來探討反應平衡的移動，其反應式：



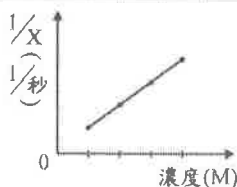
24. 若欲使溶液的橘紅色加深，可加入下列何種物質？
 (A) 食鹽 (B) 蒸餾水 (C) 氫氧化鈉 (D) 硫酸。
25. 下列關於此可逆反應的敘述，何者錯誤？
 (A) 若加入某溶液後，使鉻酸鉀溶液的 pH 值增加，則溶液由橘紅色變黃色
 (B) 加入酸性溶液後，平衡被破壞，反應無法再達成平衡
 (C) CrO_4^{2-} 在鹼性溶液比在酸性溶液中不易變化
 (D) 加入水會使反應向左進行。

* 小軒準備了白砂糖、麵粉、食鹽以及小蘇打，放在蒸發皿中加熱，請回答 26-27 問題：

26. 請問哪些物質加熱後都會產生含有碳元素的黑色物質？
 (A) 白砂糖和食鹽 (B) 麵粉和小蘇打 (C) 麵粉和食鹽 (D) 白砂糖和麵粉。
27. 請問下列物質中何者加熱後的變化和食鹽相同？
 (A) 米粉 (B) 地瓜粉 (C) 蘇打 (D) 方糖。
28. 有關烴類的敘述，下列何者錯誤？
 (A) 烴類易溶於水 (B) 燃燒不完全時，會產生一氧化碳
 (C) 甲烷是烴類 (D) 碳數少的烴類在常溫常壓下是氣態。
29. 有關酯類的敘述，下列何者錯誤？
 (A) 醱類和有機酸反應，會產生酯和水 (B) 通常酯類不溶於水，而且會浮在水面上
 (C) 酯化反應常會加入濃硫酸作為催化劑 (D) 有特殊的香味。
30. 被螞蟻咬到後皮膚會紅腫，此種引起皮膚紅腫物質的化學式為何？
 (A) $\text{C}_2\text{H}_5\text{OH}$ (B) C_3H_8 (C) HCOOH (D) CH_3COOH
31. 下列哪些因素會影響有機化合物的性質？
 甲. 組成元素的種類；乙. 組成元素的來源；丙. 組成的原子個數；丁. 組成原子的排列方式
 (A) 甲、乙、丙 (B) 乙、丙、丁 (C) 甲、丙、丁 (D) 全部
32. 小憲欲探討反應物的四種濃度與應變變因 X 的關係，經由實驗結果，得到「反應物濃度上升，應變變因 X 之值越小」的結論。根據上述結論，小憲的實驗紀錄和應變變因 X 的倒數 ($1/X$) 與反應物濃度的關係圖，可能為下列何者？

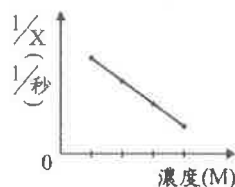
(A)

反應物濃度(M)	0.1	0.2	0.3	0.4
應變變因X(秒)	100	50	33	25



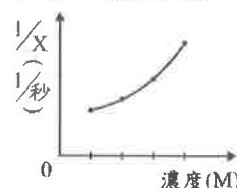
(B)

反應物濃度(M)	0.1	0.2	0.3	0.4
應變變因X(秒)	25	33	50	100



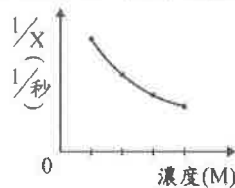
(C)

反應物濃度(M)	0.1	0.2	0.3	0.4
應變變因X(秒)	10	20	30	40



(D)

反應物濃度(M)	0.1	0.2	0.3	0.4
應變變因X(秒)	40	30	20	10

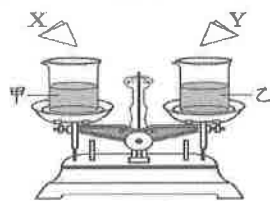


33. 蘋果酸是蘋果等水果中含有的成分，化學式為 $\text{C}_4\text{H}_6\text{O}_5$ ，分子中含有兩個 $-\text{COOH}$ 原子團，是蘋果的酸味來源，常作為食品添加劑。關於蘋果酸的說明，下列何者正確？
 (A) 屬於有機化合物，也是電解質 (B) 屬於有機化合物，也是非電解質
 (C) 屬於無機化合物，也是電解質 (D) 屬於無機化合物，也是非電解質

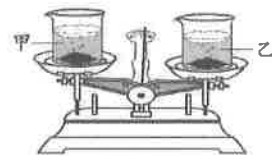
【第 2 頁結束 背面尚有試題】

34. 為避免攝取過量咖啡因，可先降低咖啡豆中的咖啡因含量。
將咖啡豆浸泡在有機溶劑中，咖啡因會溶於溶劑中，之後取出咖啡豆加熱，使溶劑揮發掉。二氯甲烷是過往常用的有機溶劑，去除咖啡因效果好又易揮發，但後來因安全疑慮而棄用，並改用乙酸乙酯。因為酯類_____，所以較無安全性疑慮，美國食品藥物管理局許可使用乙酸乙酯來去除咖啡因，且無明定殘留許可標準。依據上述資訊，畫線處適合填入下列何者？
(A)只由碳和氫兩種原子所組成 (B)是香蕉、柳丁等水果就含有的物質
(C)沸點比二氯甲烷高，而不易揮發去除 (D)是油脂與鹼性物質進行皂化反應後的產物
35. 「新聞報導某處養殖池的白蝦大量暴斃，調查後初步推測是高溫與暴雨，使養殖池的溶氧量和 pH 值劇烈變化，導致水質改變所造成的。專家建議為避免白蝦大量死亡，應注意水溫變化，可先用水車調整水中的溶氧量，並監控水中的 pH 值，投放熟石灰(氫氧化鈣)調整至合適的 pH 值。」關於上述專家建議的方法，下列說明何者最合理？
(A)使水中的溶氧量增加，pH 值增加 (B)使水中的溶氧量增加，pH 值減少
(C)使水中的溶氧量減少，pH 值增加 (D)使水中的溶氧量減少，pH 值減少
36. 野外露營或攀登高山時，鎂塊常是求生必備的物品之一。將鎂塊削成碎片，在潮濕環境或強風吹襲中，仍然能引燃柴火，是一種較不受環境限制的野外生火方式。關於將鎂塊「削成碎片」的動作，主要是考慮下列何種影響反應速率的因素？
(A)溫度 (B)催化劑 (C)物質本質 (D)接觸面積
37. 市售防曬霜依其阻擋紫外線的原理，分為物理性和化學性兩種。物理性防曬霜的主要成分為二氧化鈦(TiO_2)或氧化鋅(ZnO)；化學性防曬霜的主要成分為柳酸酯($\text{C}_{15}\text{H}_{22}\text{O}_3$)或肉桂酸酯($\text{C}_{18}\text{H}_{26}\text{O}_3$)，均為酯類。根據上述，判斷物理性和化學性防曬霜的主要成分分別屬於有機或無機化合物？
(A)物理性和化學性皆屬於有機化合物 (B)物理性和化學性皆屬於無機化合物
(C)物理性屬於有機化合物，化學性屬於無機化合物
(D)物理性屬於無機化合物，化學性屬於有機化合物
38. 天平兩邊秤盤上分別有甲、乙兩燒杯，燒杯中盛有濃度、體積均相同的鹽酸，靜止時指針指在中央的位置。將質量相同但顆粒大小不同的 X、Y 兩份大理石碎塊，同時分別倒入甲、乙兩燒杯，如圖(八)所示。反應剛開始冒出氣體，使兩杯質量均減輕，且指針往右偏轉，如圖(九)所示。請判斷燒杯內初始反應速率的快慢及其原因，下列說明何者正確？
(A)甲燒杯較快，因為 X 的顆粒較大
(B)甲燒杯較快，因為 X 的顆粒較小
(C)乙燒杯較快，因為 Y 的顆粒較大
(D)乙燒杯較快，因為 Y 的顆粒較小

溶氧量：溶解於水中的氧氣量



圖(八)



圖(九)

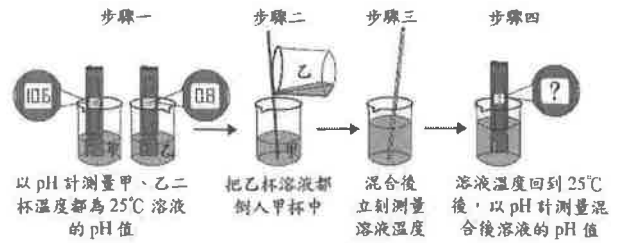
39. 室溫下，小綺分別配製甲、乙、丙三杯濃度皆為 0.2 M 的水溶液，其溶質種類與說明，如表(二)所示。這三杯水溶液 pH 值的大小關係，應為下列何者？

水溶液	溶質	說明
甲	HCl	強酸
乙	CH_3COOH	弱酸
丙	NaOH	強鹼

- (A)甲 > 乙 > 丙 (B)甲 = 乙 > 丙 (C)丙 > 乙 > 甲 (D)丙 > 乙 = 甲
40. 市面上販售的茶丸，其主要成分為「茶」，可用來驅蟲。已知茶是一種有機烴類化合物，下列何者所含有的原子種類與茶完全相同？
(A) CO_2 (B) C_6H_6 (C) CH_2Cl_2 (D) $\text{CH}_3\text{COOC}_2\text{H}_5$
41. 昱誠泡一杯 1M 的糖水 100cc，覺得太甜，加水稀釋到 400cc，濃度應變成原來的幾倍？
(A) 4 (B) 2 (C) 0.25 (D) 0.2

【第 3 頁結束 背面尚有試題】

42. 圖為小玟進行水溶液混合實驗的步驟示意圖：他在步驟三和步驟四所測得數據，依序應為下列何者才合理？



- (A) 小於 25°C；大於 10.6 或小於 0.8
 (B) 小於 25°C；在 0.8~10.6 之間
 (C) 大於 25°C；大於 10.6 或小於 0.8
 (D) 大於 25°C；在 0.8~10.6 之間。

43. 小華取食鹽、小蘇打、方糖三種白色的物質，觀察其固體在滴入數滴濃硫酸後的反應，並另將此三種物質配置成水溶液後，觀察其導電性與加入酚酞指示劑後的變化。附表為小華的實驗紀錄，依據此表判斷甲、乙、丙分別為何種物質？

實驗物質	滴入濃硫酸	水溶液的導電性	水溶液加入酚酞
甲	變黑色	不可導電	呈無色
乙	不變色	可導電	呈無色
丙	產生氣泡	可導電	呈粉紅色

- (A) 甲為方糖、乙為食鹽、丙為小蘇打 (B) 甲為方糖、乙為小蘇打、丙為食鹽
 (C) 甲為食鹽、乙為小蘇打、丙為方糖 (D) 甲為小蘇打、乙為方糖、丙為食鹽。

44. 「真金不怕火煉」在字面上的意思是指純正的黃金不怕被火烤，這是因為黃金不易與氧發生反應。依上述對黃金性質的描述判斷，下列哪一類元素對氧的活性與黃金對氧的活性最接近？
 (A) 放入水中能與水反應而產生氫氣的元素 (B) 在自然界中，多以氧化物狀態存在的元素
 (C) 在自然界中，以元素狀態存在的金屬元素 (D) 在煉鐵過程中，可使氧化鐵還原成鐵的元素。

45. 患有「胃酸過多症」的患者，即使空腹也會大量分泌胃酸(HCl)，使胃液的 pH 值在____左右，並引起胃灼熱或胃痛等症狀。此時，可服用胃藥，胃藥中的成分如碳酸氫鈉，能與胃酸發生中和反應，使胃液的 pH 值暫時____，並緩解胃灼熱及胃痛等症狀。上述畫線處，依序應填入下列何者才比較合理？
 (A) 1~2；上升到 5~7 (B) 8~9；下降到 5~6
 (C) 7~8；上升到 8~9 (D) 3~4；下降到 1~2。

*附圖為君君購買、食用與保存蛋糕的一段過程：請回答 46-47 問題：



46. 君君因蛋糕中的哪一類物質含量高而不敢多吃？
 (A) 碳氫化合物 (B) 碳水化合物 (C) 合成聚合物 (D) 無機化合物。
47. 關於影響下列反應速率快慢的因素，何者與君君保存蛋糕的方式，使蛋糕不易變壞的主要因素最接近？ (A) 酯化反應時，將反應物隔水加熱比沒加熱的反應快 (B) 加熱金屬銅與金屬鎂，後者的反應會比前者激烈 (C) 以雙氧水製氧時，有加二氧化錳比沒加二氧化錳反應快 (D) 大理石與鹽酸反應時，用 1M 鹽酸反應比用 0.1M 鹽酸快。

*在四個錐形瓶中分別裝

(甲)40ml 硫代硫酸鈉溶液+10ml 蒸餾水，(乙)30ml 硫代硫酸鈉溶液+20ml 蒸餾水，

(丙)20ml 硫代硫酸鈉溶液+30ml 蒸餾水，(丁)10ml 硫代硫酸鈉溶液+40ml 蒸餾水；

(硫代硫酸鈉溶液的濃度是相同的)

再分別取 3M 鹽酸 5ml 加入錐形瓶中，使溶液均勻混和，在白紙上畫相同大小的『+』號，觀察沉澱物把『+』號遮住所需的時間，請回答 48-49 問題：

48. 四個錐形瓶中，沉澱物把十字遮住的快慢為下列何者？

(A)甲 > 乙 > 丙 > 丁 (B)甲 = 乙 = 丙 = 丁 (C)甲 < 乙 < 丙 < 丁 (D)以上皆非

49. 影響硫代硫酸鈉與鹽酸反應速率的因素為下列何者？

(A)溫度(B)濃度(C)催化劑(D)固體表面積大小

50. 將物質隔絕空氣加熱分解的過程稱為甚麼？此過程屬於何種變化？

(A)乾餾，物理變化(B)乾餾，化學變化(C)分餾，物理變化(D)分餾，物理變化

【試題結束】

澎湖縣立文光國民中學 111 學年度第 2 學期第 2 次成績評量 8 年級歷史科試卷

班級：

姓名：

座號：

讀卡 答案卷

一、 單選題(1~15 題，每題 2 分；共 30 分)

- () 1. 中共統治期間，為了順利推動各項政策與活動，於是喊出了許多口號，下列哪一項口號並非毛澤東統治時期的口號？ (A)「超英趕美」 (B)「破四舊、立四新」 (C)「革命無罪、造反有理」 (D)「外爭主權，內除國賊」。
- () 2. 近代史上，協定關稅讓中國的經濟一直遭外人商品傾銷而大受打擊，請問協定關稅是中國何時喪失的主權？直至何時才收回關稅自主權？ (A)南京條約；中日戰爭期間 (B)南京條約；黃金十年期間 (C)馬關條約；中日戰爭期間 (D)馬關條約；黃金十年期間。
- () 3. 有一段歷史敘述如下：「他原本是清朝的末代皇帝，被軍閥趕出紫禁城後，日本人扶持他在東北地區成立政權，但他並未握有實質的權力，只是個被日本控制之下的傀儡。」請問：這段敘述中最有可能是指下列哪個歷史事件？ (A)滿洲國的成立 (B)九一八事變 (C)山東問題 (D)西安事變。
- () 4. 張學良曾以「關懷之殷，情同骨肉；政見之爭，宛若仇讎」，說明自己與蔣中正的關係。請問：之所以由「情同骨肉」轉變為「宛若仇讎」，是受到什麼事情的影響？(A)西安事變 (B)九一八事變 (C)一二八事變 (D)滿洲國的成立。
- () 5. 附圖是蔣中正在中日戰爭期間，公開發表談論日本「南進政策」的內容。請問：從附圖的文字中，我們可以推論蔣中正認為日本「南進政策」的根本目標是？(A)驅逐南洋的殖民勢力，讓南洋國家得到獨立與尊嚴(B)掠奪南洋的資源，擊垮中國，實踐日本稱霸太平洋的夢想(C)掠奪南洋的資源，替未來發動珍珠港事變作準備(D)驅逐南洋的殖民勢力，實現獨立稱霸太平洋的美夢。
- () 6. 某時期的中國，基於國家領導人的信念，相信人定勝天，號召人民為了國家經濟全力以赴，集中管理人民，集體從事生產，上千萬人投入「土法煉鋼」，期待以鋼為綱，帶領中國「超英趕美」。關於上述時期的中國，下列敘述何者正確？ (A)人民公社提高農民的生產意願 (B)糧食不足使數千萬人死於飢荒 (C)紅衛兵高唱「破四舊，立四新」 (D)新知識分子批判中國傳統文化。
- () 7. 電視裡播報著新聞快訊：「張學良於夏威夷檀香山與世長辭，享嵩壽 100 歲。」這時，小明突然想起歷史老師曾經在課堂上介紹過人稱「少帥」的張學良，老師是這樣介紹的：「國家因他而統一，但是，國家的分裂，他也要負一部分責任。」請問：有關張學良的事蹟，何者錯誤？ (A)父親張作霖遭到日本人炸死，使張學良對日本心生不滿 (B)民國 17 年宣布歸順中央，北伐得以完成 (C)在蔣中正在的要求下，前往東北進行剿共 (D)發動西安事變，希望國家可以積極對日本作戰
- () 8. 臺灣總督小林躋造上任後提出「皇民化、工業化、南進基地化」，要打造臺灣成為南進的前哨站，在此氛圍下臺灣進入皇民化時期，凡事皆以服務日本戰爭為優先。請問：小林總督推動皇民化運動時，日本正在進行哪一項軍事行動？ (A)進軍東北亞的朝鮮 (B)派軍前往東南亞 (C)進軍中國東北滿洲 (D)派軍前往中國山東。
- () 9「蝴蝶效應」指的是在一個動力系統中，初始條件下微小的變化能引起整個系統長期而巨大的連鎖反應。綜觀中國現代史上的政治發展，的確有政治人物為了維護個人利益推動政治運動，卻引發全國乃至於全世界的風潮。請問：前文所述的政治運動，最可能與下面哪個選項有關？ (A)爹親娘親不如毛主席親 (B)停止內戰，一致抗日 (C)吃飯不花錢，努力搞生產 (D)以空間換取時間。
- () 10. 軍國主義是一種利用強大且具侵略性的軍事力量，獲取其國家利益或推廣其國家價值，並將軍事力量視作社會最重要目標的意識型態。一九三〇、一九四〇年代，日本軍國主義昂揚，逐步發動侵略行動，下列各項日本侵略事件：(甲)七七事變 (乙)南京大屠殺 (丙)珍珠港事變 (丁)日軍進攻上海。按時間先後排列，何者正確？(A)甲丁乙丙 (B)乙甲丙丁 (C)丙乙甲丁 (D)丁乙甲丙。

「敵所謂「大」東亞新秩序和「大」東亞共榮圈，更是對於我們和整個東亞莫大的侮辱！為什麼在東亞新秩序上要加一個「大」字？其意義無非是要侵奪廣大之南洋資源領土，增強其侵略暴力，澈底封鎖中國，削弱我國抗戰力量，以便最後實現他獨霸太平洋與滅亡中國的迷夢。」

【第 1 頁結束 後面尚有試題】

- () 11. (甲)共產黨不斷擴張勢力 (乙)日本引發九一八事變 (丙)俄國在東北成立滿洲國 (丁)各國增加對中國的關稅。中日戰爭前夕，各式建設如火如荼展開，許多問題也接踵而至。請問：中華民國政府在對中日戰爭前夕面臨到以上哪些問題？ (A)甲乙 (B)甲丁 (C)乙丙 (D)丙丁。
- () 12. 《人民日報》在西元 1958 年左右公布了各地區的稻米產量資料如右表，其中河北的徐水縣，更號稱一年收穫糧食 12 億斤。當時毛澤東視察時非常高興，並大力跨讚徐水縣的相關人員，並期望其他地方效法。
- | |
|----------------------------|
| 7 月 31 日，湖北應城春光公社，10,597 斤 |
| 8 月 1 日，湖北孝感長風公社，15,361 斤 |
| 8 月 10 日，安徽樅陽高峰公社，16,227 斤 |
- 根據上述內容，一年稻米產量 12 億斤實屬不可能的事情，而當時可能是因為什麼原因，使地方官員需要如此虛報稻米的產量？(A)大躍進運動(B)土地改革(C)物資通貨膨脹(D)爭奪日軍受降地區
- () 13. (甲)九一八事變 (乙)七七事變 (丙)西安事變 (丁)國民政府分裂為南京國民政府和武漢國民政府。上述事件中，哪些為日本策畫對中國的侵略？ (A)甲乙 (B)甲丙 (C)乙丁 (D)丙丁。
- () 14. 中華民國從立國開始即紛爭不斷，請問國民軍政府成立至抗戰結束，政府所在地的變化，下列何者正確？ (A)南京—廣州—武漢—重慶—南京 (B)廣州—重慶—武漢—重慶—南京 (C)廣州—武漢—南京—重慶—南京 (D)北京—南京—重慶—南京—北京。
- () 15. 中共建國初期，因為經過戰爭的洗禮，到處滿目瘡痍，為了恢復正常，開始推動一連串的措施。請問下列何者有誤？ (A)控制知識分子思想 (B)推動工商私有化 (C)實施一黨專政 (D)採集體生產與糧食分配制度。

二、題組(第 16~60 題，每題 1 分，共 5 分)

1. 《牛棚雜憶》的作者季羨林是一名中國學者，他曾在某一時期遭到悲慘的待遇，此後他將這段經歷記錄了下來。請閱讀引文並回答以下問題：

- () 16. 根據作者的待遇看來，文章記錄的是中國的哪一段歷史？
(A)文化大革命導致社會混亂 (B)大躍進造成中國倫理不復存在 (C)國共內戰期間，政府打壓知識分子 (D)八年抗戰期間，日軍占領區的情形。
- () 17. 作者講述的這個事件，除了在當下造成許多人的心理創傷外，也造成了許多後續的影響。請問：以下何者不是這個事件的影響？ (A)中國發展停滯十年 (B)傳統文化受到破壞 (C)革命風潮影響全球 (D)數千萬人死於饑荒。

隔了幾天，東方語文系的批鬥開始了，原本我只是配角，今天他們將我升級成了主角。一陣激烈的敲門聲後，兩個紅衛兵進來，他們站的直挺挺的，臂章閃著耀眼的紅光，他們把我壓解到外文大樓……我在東語系已經二十幾年，這些人都是我的學生或是同事。會議室裡的那個位置，我已經坐了二十幾年，那時候我是系主任；可是如今我是站著的，而且身分變成了「反革命分子……」

(修改自季羨林《牛棚雜憶》)

2. 西元 1991 年曾有位記者向美國總統布希詢問，是否會為了西元 1945 年的某件事情向「某國」道歉。以下節錄當時的報導，請閱讀完後回答問題：

布希說：「現任總統絕不會道歉。」布希本人當時曾在一次戰鬥任務中，駕駛一架海軍「復仇者」魚雷轟炸機在太平洋上空被擊落，他在海上浮沉了兩個小時，後來被潛艇救起。

布希回憶起杜魯門總統面臨的困難抉擇，他說：「羅斯福總統去世後，杜魯門突然當政，並被告知美國正在發展一項祕密的原子彈計畫。」他說：「他做了一項困難而縝密的決定，那是對的，因為這項行動挽救了數百萬美國人的性命，而我們當時正在打仗，正遭到攻擊。……所以過去我們曾做過，我們也將繼續該做的是療傷止痛，並且對任何戰爭的受害者表示適當的關切和同情。」

但他堅定的說：「沒有道歉的必要，不必向現任的總統提出這項要求。」

- () 18. 報導中布希總統拒絕道歉的「某國」是哪一個國家？ (A)中國 (B)日本 (C)蘇聯 (D)德國
- () 19. 報導中提到「拯救了數百萬美國人性命的困難決定」，其影響為？(A)美國決定加入二次世界大戰 (B)二次世界大戰因此結束 (C)美國實施對日本石油禁運 (D)美國決定發起珍珠港的軍事行動。
- () 20. 報導中寫到「而我們正在打戰、正遭到攻擊」，這最可能是指哪個事件？ (A)珍珠港事件 (B)南京大屠殺 (C)盧溝橋事件 (D)馬尼拉淪陷。

【試題結束—文光八年級、歷史科】

澎湖縣立文光國民中學 111 學年度第 2 學期 第 2 次成績評量 8 年級公民科試卷

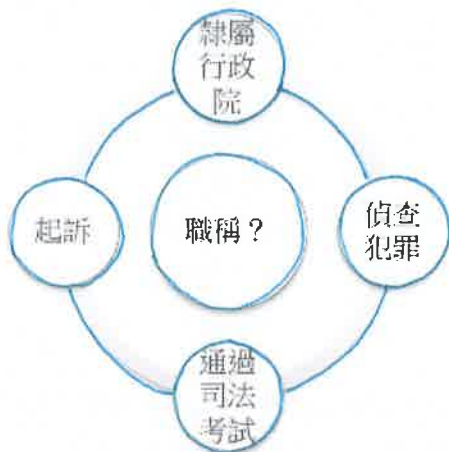
班級：_____ 姓名：_____ 座號：_____ ■ 讀卡 □ 答案卷

一、單一選擇題（十五題，每題 2 分，共 30 分）

21. () 《刑法》的內容主要包含右列哪些要點？
(A)甲丙 (B)甲丁 (C)乙丙 (D)乙丁。 甲、政府職權
22. () 下列何者是民眾觸犯《刑法》而需要負起刑事責任的行為？(A)在商店的圍牆外塗鴉 (B)持刀搶劫他人的皮包 (C)未依規定申報所得稅 (D)騎機車時未依交通號誌行駛。
乙、何種行為構成犯罪
丙、人民基本權利
丁、犯罪行為如何處罰
23. () 魯夫上班途中不小心撞倒鄰居橋巴，橋巴懷恨在心，某日找來幾名朋友將魯夫逼到社區角落揍了一頓。下列對橋巴和其好友行為的敘述，何者正確？
(A)並不構成犯罪行為 (B)是有效解決紛爭的方法
(C)屬校園事務，法律不得介入 (D)侵害魯夫的身體利益，違反《刑法》。
24. () 育恆在某網站上看到一句話：「行為當下，法律並未規定這行為構成犯罪，即便行為違反道德或其他規範，國家也不能將其視為犯罪行為加以處罰。」請問：上文內容應是下列哪一個概念的敘述？
(A)誠實信用原則 (B)罪刑法定原則 (C)無罪推定原則 (D)法治政治。
25. () 電視新聞經常報導有詐騙或人蛇集團利用「瘖啞人」進行犯罪，其原因主要是下列何者？(A)瘖啞人無法指認幕後主謀 (B)瘖啞人為無責任能力人
(C)瘖啞人為完全責任能力人 (D)瘖啞人為限制責任能力人。
26. () 下列四人中，何者與瘖啞人屬於相同的責任能力人？(A)15 歲的名偵探柯北
(B)74 歲的阿利博士 (C)19 歲已經結婚的橘子 (D)32 歲輕度智能不足的光彥。
27. () 李先生是一位球鞋收藏家，年輕時就開始對某品牌的鞋款情有獨鍾，收集了該品牌在不同時期生產的各種鞋款，甚至還珍藏了一雙已經絕版的經典鞋款。日前有一名買家表示願意花天價數字購買，於是雙方約定交易細節。兩人買賣交易中的相關權利，受下列何項法律保障？
(A)《刑法》 (B)《商標法》 (C)《民法》 (D)《社會秩序維護法》。
28. () 炳晨在下班途中不小心與前方的機車騎士發生擦撞，由於雙方都沒有受傷，炳晨不想滋生事端，當下就拿了 1,000 元給對方，而對方也覺得沒有什麼損失，收下錢後就各自離開了。這種解決紛爭的方式是屬於下列何者？
(A)調解 (B)仲裁 (C)訴訟 (D)和解。
29. () 靈泉和人發生衝突，想要聲請調解。下列相關敘述何者正確？(A)調解委員會設置在各縣市警察局 (B)調解委員全數由政府官員擔任 (C)調解成立後，由當事人製作調解書 (D)經法院核定後，調解書與法院的確定判決具相同效力。
30. () 聯聯下課路過隔壁鄰居家時，經常聞到一股奇臭無比的塑膠味，觀察一陣子後，發現原來是鄰居在吸毒，於是她到警察局報案，請求警方協助。聯聯的行為屬於下列何者？(A)自訴 (B)公訴 (C)告發 (D)自首。
31. () 新聞報導：「一名男子酒後因噪音問題與鄰居發生爭執，鄰居拿菜刀找男子理論，男子則持水果刀刺傷鄰居。案發後男子立刻撥打 110 報警，但鄰居送醫急救後傷重不治死亡。法院考量男子符合○○的條件而獲減刑，依殺人罪判處有期徒刑。」文中○○應為下列何者？(A)告發 (B)告訴 (C)自訴 (D)自首。

【第 3 頁結束—背面尚有試題】

32. () 發生刑事案件時，偵查人員蒐集、鑑定相關證據，並研判嫌疑人的心態、動機等，以呈現犯罪事實，其目的在提供下列何人作為「起訴」的依據？
 (A)法官 (B)檢察官 (C)律師 (D)警察。
33. () 在法院當中，分別有不同職位的人負責不同的工作，下列相關敘述何者錯誤？
 (A)法官身穿黑袍鑲白邊，主要負責提起公訴 (B)書記官身穿黑袍鑲黑邊，負責製作筆錄 (C)律師接受當事人委託，進行辯護的工作 (D)通譯在法庭中負責翻譯。
34. () 下列敘述與其相對應的身分，何者配對正確？ (A)我依法審判作出公正的判決——檢察官 (B)在這場車禍中被撞受傷的人——被告 (C)接受當事人的委託，為他辯護——律師 (D)我不是故意的，卻不小心害你受傷——被害人。
35. () 勇為參加職業探索活動，下列為某職業的線索提示，其最有可能為下列何者？
 (A)法官 (B)警察 (C)檢察官 (D)書記官。



二、題組 (五題，每題 1 分，共 5 分)

(一) 針對下列刑罰所欲達成的目的，請從答案選項中選出正確的配對。

A. 懲戒犯罪 B. 嚇阻犯罪 C. 矯正犯罪

36. () 一名藝人透過網拍販售名牌假貨，遭判處 2 年 6 個月有期徒刑。
37. () 一旦犯罪而遭受法院的宣判，就會留下前科紀錄，因此社會大眾應謹言慎行，勿以身試法。
38. () 監獄收容人學習製作糕餅與餐點，期使他們擁有一技之長後，能順利重返社會不致再犯罪。

(二) 臺南發生員警在追捕竊盜通緝犯時，遭對方持刀攻擊殉職的憾事。這起案件獲得社會大量關注，在媒體持續報導下，網路社群出現許多與案件相關的討論，形成全民一同緝凶的現象。但在案發之初，警方曾鎖定一名陳姓嫌犯，在警方發布消息不久後，陳男的照片開始在網路社群流傳，其個人資訊也遭到公開，許多網友到他的臉書頁面留言謾罵。幸好最後並沒有發生抓錯人的狀況，否則後果不堪設想。請回答下列問題：

39. () 文中案件發生後，由誰負責受理與偵查？ (甲)警察 (乙)檢察官 (丙)法官 (丁)公設辯護人 (A)甲乙 (B)乙丙 (C)丙丁 (D)乙丁。
40. () 文中案件在審判的過程中，法官應秉持何種原則進行審判？
 (甲)契約自由原則 (乙)無罪推定原則 (丙)罪刑法定原則
 (丁)誠實信用原則 (A)甲乙 (B)乙丙 (C)丙丁 (D)乙丁。

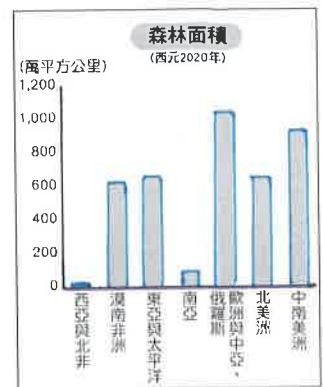
【第 4 頁結束—背面尚有試題】

澎湖縣立文光國民中學 111 學年度第 2 學期 第 2 次成績評量 8 年級地理科試卷

班級：_____ 姓名：_____ 座號：_____ 讀卡 答案卷


一、單一選擇題 (十題，每題 2 分，共 20 分)

41. () 右圖為世界森林資源的各區域分布概況圖，藉由右圖的資訊，我們可以合理推測西亞與北非具有下列哪一種地理特色？ (A) 人口分布平均 (B) 地形崎嶇多山 (C) 氣候乾旱少雨 (D) 國際貿易低落。



42. () 伊斯蘭教起源於西亞的阿拉伯半島，隨著阿拉伯帝國的擴張及經貿活動向外擴張。其中，往東在非洲地區的傳播僅分布於北非地區。請問：該宗教之所以無法往非洲中南部傳遞，與哪一沙漠的阻隔有密切的關連性？ (A) 塔爾沙漠 (B) 撒哈拉沙漠 (C) 喀拉哈里沙漠 (D) 塔克拉馬干沙漠。

43. () 右圖是一種乾燥地區的特殊灌溉方式，居民挖掘豎井和暗渠，將珍貴的雪水資源從高山地區導引至山麓地帶的蓄水池，以進行農業活動。此灌溉設施最可能出現於下列何處？ (A) 美索不達米亞平原 (B) 尼羅河下游 (C) 伊朗高原 (D) 約旦河沿岸。



44. () 土耳其是全球地震活動最頻繁的國家之一，西元 2020 年 1 月，發生規模 6.8 的淺層強震，包含鄰近的伊拉克、敘利亞和黎巴嫩等國，也感受到此強震的威力。請問：土耳其地震頻繁的原因為何？ (A) 北回歸線經過 (B) 板塊擠壓影響 (C) 高山攔截水氣 (D) 暴雨造成山崩。

45. () 「儘管環境嚴苛，但是西亞卻有一片肥沃的平原，取水便利，物產豐饒，自古為兵家必爭之地，當地的城市巴格達曾發展成為的世界學術中心與商業貿易樞紐。」請問：上述這片肥沃的平原應為下列何者？ (A) 關東平原 (B) 印度大平原 (C) 尼羅河三角洲 (D) 美索不達米亞平原。

成立宗旨.....

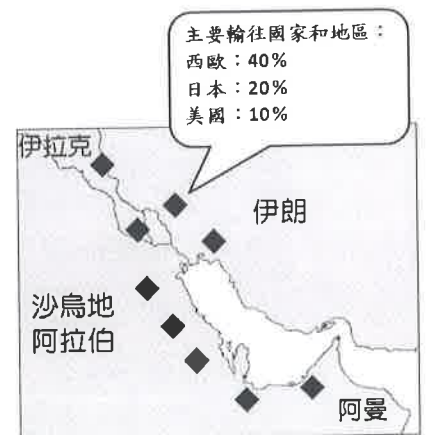
- 一、協調統一成員國的石油政策與價格。
- 二、確保石油市場的穩定。
- 三、提供有效、經濟而穩定的石油供應。
- 四、(以下省略)。

46. () 右圖是某一經濟組織的成立宗旨，依據其內文敘述，該組織應為下列何者？ (A) WTO (B) APEC (C) OPEC (D) ASEAN。

47. () 「1、2、3、4、5、6、7、8、9、0」是我們熟悉的阿拉伯數字，這些數字其實最早是在印度地區發明創造的，後來被阿拉伯人掌握、改進，並傳到了西方，西方人便將這些數字稱為阿拉伯數字。請問：上述阿拉伯數字的傳播過程，應與下列哪一種宗教的傳播息息相關？ (A) 猶太教 (B) 基督教 (C) 伊斯蘭教 (D) 藏傳佛教。

48. () 亞太地區消耗全球三分之一的石油生產量，本身的產量卻只有全球的十分之一，未來需求增長絕大部分會來自「這個地區」，日本、南韓、菲律賓、新加坡、臺灣等國的石油進口量有超過四分之三就是來自此處。請問：文中所述此一重要地區應是指 (A) 太平洋 (B) 地中海 (C) 波斯灣 (D) 渤海灣。

49. () 右圖「◆」是全球某種礦產資源的主要分布區之一及輸往國家或地區的分佈情形，依據圖中資訊判斷，其所指的最可能是下列何種礦產資源？ (A) 煤礦 (B) 鐵礦 (C) 金礦 (D) 石油。



【第 5 頁結束—背面尚有試題】

50. () 由於乾燥氣候區陽光強烈，在農作栽種時，農民常在糧食作物間種植較高的樹木，遮蔽陽光及減少水分的散失。其中下列哪一種樹木，果實有「沙漠麵包」之稱，是農民在栽種樹木的首選？ (A)橡膠 (B)油棕 (C)橄欖 (D)棗椰。

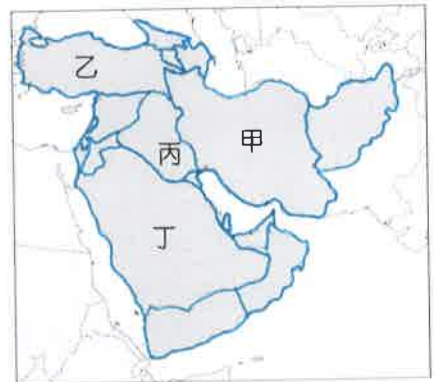
二、題組：(十題，每題1分，共10分)

(一)右圖為阿拉伯聯合大公國的清真(Halal)認證標誌。Halal指合法或經真主許可的意思，由於教義規定禁止吃自死物、血液、◎◎肉以及誦非真主之名而宰殺的動物，透過認證標誌教徒可迅速辨識，避免誤食。而清真認證不僅是針對飲食，各項用品也可申請認證。請回答以下問題。



51. () 上述提到的清真認證為哪一個宗教的特色？
(A)佛教 (B)基督教 (C)印度教 (D)伊斯蘭教。
52. () 文中的◎◎肉最可能為下列何者？
(A)牛 (B)豬 (C)羊 (D)駱駝。
53. () 清真認證最可能在其它哪些國家大力推廣？
(甲)沙烏地阿拉伯 (乙)埃及 (丙)泰國 (丁)英國
(A)甲乙 (B)乙丙 (C)丙丁 (D)甲丁。

(二)每年參加的朝聖活動是穆斯林們的重要活動，該活動每年動輒都有幾百萬人參加，但西元2020年受到新冠肺炎疫情的影響，考量往年參加朝聖人擠人、長時間相處下的高風險，因此該國朝覲事務部僅開放一萬人參與活動，再也看不到數百萬人繞行天房的壯觀場景。不過為了讓眾多信徒可以有親臨體驗的感受，德國研發了一款線上虛擬朝聖軟體，讓無法前往的信徒得以隔空體驗盛會。請問：



54. () 文中提到的限制朝聖人數的國家為右圖中何者？
(A)甲 (B)乙 (C)丙 (D)丁。
55. () 下列哪一個國家的民眾下載虛擬朝聖軟體的比
例可能最高？(A)印尼 (B)日本 (C)台灣 (D)南韓。
56. () 文中提及的宗教信徒，其日常生活所依循的是下列哪一部經典？
(A)佛經 (B)聖經 (C)古蘭經 (D)吠陀經。

(三)九世紀時，由穆斯林所建立的阿拔斯王朝在某地成立了國家圖書館，稱為「智慧之家」，囊括了歐洲、波斯、印度等地的知識典籍，並翻譯成當地的文字，再傳播到世界各地，這可說是伊斯蘭黃金年代最璀璨的花朵。請問：

57. () 上文提及的「智慧之家」大約位於現今世界哪一國家？
(A)汶萊 (B)印尼 (C)伊拉克 (D)馬來西亞。
58. () 文中提及「當地文字」其所指為何？(A)英文 (B)中文 (C)泰文 (D)阿拉伯文。

(四)《塔木德》裡寫到：「上帝給了世界十分美麗，九分給了耶路撒冷。」而世人則說：「世界若有十分哀愁，九分也在耶路撒冷。」從古至今，耶路撒冷都交織著世間的最美麗與人間的最哀愁，不同的文化、宗教、民族和社會階層在這裡碰撞出強烈的色彩。每當人們聽到「耶路撒冷」，或許會想到各種激烈的衝突和動亂不安，但事實上這座城市是相對安定的，老城雖然割據四方，但平日裡不同宗教的人民，都過著各自為安的日子。請問：

59. () 文中所提及的耶路撒冷，是宗教意味十分濃厚的城市，下列哪些宗教將此地視為聖地？(甲)伊斯蘭教 (乙)基督教 (丙)佛教 (丁)猶太教 (戊)印度教。
(A)甲乙丁 (B)甲丙戊 (C)乙丁戊 (D)丙丁戊。
60. () 目前耶路撒冷由何國所控制，並且定為其首都所在？
(A)伊朗 (B)阿富汗 (C)土耳其 (D)以色列。

【試題結束—文光8年級 社會科】