

澎湖縣立文光國中 111 學年度第二學期九年級畢業考國文科試卷

\*共 50 題選擇題 每題 2 分\*採電腦讀卡，違者不予計分。班級：\_\_\_\_\_姓名：\_\_\_\_\_座號：\_\_\_\_\_

1. 在鄒忌諷齊王納諫一文中，「令初下，群臣進諫，門庭若市；數月之後，時時而間進；期年之後，雖欲言，無可進者。」有關本段的說明，下列何者正確？  
(A)從「門庭若市」可以得知，諸侯各國前來朝貢的人非常多 (B)「時時而間進」一句可說明臣民已經不再熱衷於進諫齊王 (C)齊國得以步入正軌而大治的關鍵因素是齊王願意接納諫言 (D)「無可進者」是指因為沒有賞金，所以沒有臣民願意進諫。
2. 下列何者是鄒忌諷齊王納諫的寫作重點？ (A)說明鄒忌不及徐公俊美的原因 (B)鼓勵齊王要能重用賢良的大臣 (C)勸諫齊王不要被蒙蔽，應廣納諫言 (D)譏諷齊王被小人蒙蔽，故國勢衰微。
3. 人不可以無癖一文中，「蘭茝蓀蕙之芳眾人之所好，海畔亦有逐臭之夫。」這段話旨意為何？ (A)擁有高雅的癖好，往往就能造就良好的人際關係 (B)結交朋友要留意「近朱者赤，近墨者黑」的情形 (C)人要適時檢視自己的特殊癖好能否為他人所接受 (D)世人癖好雖各有不同，但各種事物皆有其喜好者。
4. 人不可以無癖一文的主旨為何？ (A)一個人未來的成就能從自身的癖好中窺知一二 (B)說明癖好的各種作用，以此勉勵讀者培養癖好 (C)結交朋友時，須注意對方癖好是否與自己相同 (D)呈現不同時代的古人所擁有的癖好和生活雅趣。
5. 根據人不可以無癖一文所述，歐陽脩晚年自號「六一居士」，此名號具有何種涵義？ (A)興趣廣泛 (B)虔誠信佛 (C)生活奢華 (D)交友廣闊。
6. 關於人不可以無癖一文所舉的例子，下列何者錯誤？ (A)白居易、歐陽脩依靠自身癖好調整心情，度過人生困境 (B)孔子能夠「發憤忘食，樂以忘憂」是因為有求知的癖好 (C)張岱認為無癖之人因為缺乏修養，所以不適合與之結交 (D)援引的幽夢影章句說明癖好能使生活展現出美感、意境。
7. 在鄒忌諷齊王納諫一文的末句，「燕、趙、韓、魏聞之，皆朝於齊。此所謂戰勝於朝廷。」關於這段話的詮釋，下列何者錯誤？ (A)從鄰國「皆朝於齊」的現象可以得知齊威王治國有很好的成效 (B)「戰勝於朝廷」指齊王善於用兵，故能在詭譎的世局中獲勝 (C)從鄰國的態度可知，國力的強弱是決定外交地位極重要的憑據 (D)外交是內政的延伸，故國家能否揚威國際和整治內政極為相關。
8. 在鄒忌諷齊王納諫一文中，「宮婦左右，若不私王；朝廷之臣，莫不畏王；四境之內，莫不有求於王。由此觀之，王之蔽甚矣！」對於上述文句的說明，下列何者錯誤？ (A)宮婦左右偏愛齊王，因而無法客觀地勸諫齊王 (B)朝廷大臣因有求於齊王，故蒙蔽良心屈從齊王 (C)君王的地位最高，被蒙蔽的程

\_\_\_\_\_ 題目未完，請繼續作答 p6-1\_\_\_\_\_

度往往最為嚴重 (D)依親疏遠近的關係，敘述齊王遭受蒙蔽的情形。

9. 依據捍衛性別平權的鬥士—金斯伯格一文所述，下列有關金斯伯格夫婦二人的敘述何者正確？ (A)金斯伯格求職時一帆風順，馬丁則多次遇到職場性別歧視 (B)金斯伯格負責賺錢養家，馬丁則負責打理家中雜務和烹飪 (C)金斯伯格和孩子的關係十分緊張，馬丁和孩子則打成一片 (D)金斯伯格在工作上表現傑出，馬丁則扮演支持、協助角色。
10. 在捍衛性別平權的鬥士—金斯伯格一文中提到：「我從未要求特殊禮遇，我只要求男性同胞把腳從我們的脖子上移開。」這段話的涵義最接近何者？ (A)男性常不經意造成性別不平等，故必須合理補償權益受損的女性 (B)「女士優先」不僅是紳士風範的展現，更是性別平權的基本要件 (C)呼籲男性不要再壓迫女性，剝奪女性原本就應該享有的基本權益 (D)女性因長期被壓迫而喘不過氣，故呼籲大眾應給女性特有權益。
11. 依據捍衛性別平權的鬥士—金斯伯格一文所述，下列有關金斯伯格的敘述何者錯誤？ (A)「惡名昭彰的金斯伯格」稱號反映出人們對金斯伯格的評價兩極 (B)金斯伯格任內提倡性別平等觀念，專為受職場歧視的婦女發聲 (C)金斯伯格和馬丁的相處之道打破性別刻板印象，為性別平權典範 (D)金斯伯格罹癌多次仍專注工作，並持續健身，顯露其堅毅的性格。
12. 依據捍衛性別平權的鬥士—金斯伯格一文所述，下列何者最不符合金斯伯格母親眼中的淑女形象？ (A)敢愛敢恨，總是勇於表達內心感受的家蓁 (B)能以理性駕馭情緒，冷靜解決問題的芊芊 (C)懂得活出自我，不依附他人過生活的欣嵐 (D)婚姻幸福美滿，仍不放棄追求理想的嘉媛。
13. 「宮婦左右，莫不私王。」句中「左右」的意思同於下列何者？ (A)這塊蛋糕約莫一百元「左右」 (B)他很有主見，旁人都「左右」不了他 (C)這件事著實讓我「左右」為難 (D)請「左右」退下，有機密之事相談。
14. 鄒忌諷齊王納諫：「令初下，群臣進諫，門庭若市。」其原因為何？ (A)人民紛紛前來一睹鄒忌與徐公的風采 (B)齊王受蒙蔽已久，有很多需要改進之處 (C)齊王大赦天下，罪臣趕緊攜家帶眷來謝恩 (D)群臣為了領取獎賞，捕風捉影製造不實謠言。
15. 「臣之妻私臣，臣之妾畏臣」中，上句末字與下句首字相同，稱為「頂真」。下列何者也是使用「頂真」修辭？ (A)前不見古人，後不見來者 (B)何處合成愁，離人心上秋 (C)君子務本，本立而道生 (D)如人飲水，冷暖自知。
16. 白居易山中獨吟詩云：「人各有一癖，我癖在章句。萬緣皆已消，此病獨未去。」句中的「此病」是指什麼？ (A)吟詩、寫詩的愛好 (B)寄託在飲酒當中 (C)觀賞山水之樂 (D)隱居山林的悠閒。
17. 根據以下三項線索：(甲)非一時一地一人之作 (乙)多記載戰國策士、謀臣的談論與活動 (丙)為先秦歷史散文名著 可以推斷出此為下列哪一本書？

(A)史記 (B)戰國策 (C)論語 (D)呂氏春秋。

18. 宋代詩人黃庭堅收到別人從遙遠的南方帶回的贈紙，寫了一首答謝的詩，其中有一句是「千里鵝毛意不輕」。句中的「千里鵝毛」的涵義為何？ (A)極為珍貴的贈禮 (B)特指遠方送來的禮物 (C)盛產於千里外的物產 (D)禮物雖輕而情意深厚。
19. 鄒忌諷齊王納諫一文中，鄒忌對齊王說：「王之蔽甚矣！」關於這句話的解釋，下列何者正確？ (A)大王宮殿的屋簷遮蔽性太棒了 (B)大王您的個性太嚴苛了 (C)大王您所受的蒙蔽太嚴重了 (D)大王您的君威遍布天下。
20. 柳永蝶戀花：「佇倚危樓風細細，望極春愁，黯黯生天際。草色煙光殘照裡，無言誰會憑闌意。擬把疏狂圖一醉，對酒當歌，強樂還無味。衣帶漸寬終不悔，為伊消得人憔悴。」下列何句最能呈現詞中人無怨無悔的情感？ (A)佇倚危樓風細細 (B)無言誰會憑闌意 (C)擬把疏狂圖一醉 (D)衣帶漸寬終不悔。
21. 陶淵明歸園田居：「種豆南山下，草盛豆苗稀。晨興理荒穢，帶月荷鋤歸。道狹草木長，夕露沾我衣。衣沾不足惜，但使願無違。」依據本詩的內容，下列何者是陶淵明最大的心願？ (A)五穀豐登，六畜興旺 (B)恬淡自適，心靈自由 (C)縮衣節食，開源節流 (D)兼善天下，利國福民。
22. 「花不可以無蝶，山不可以無泉，石不可以無苔，水不可以無藻」這文句運用排比修辭，下列何者不屬於排比修辭法？ (A)颱風突然襲來，捲起了落葉，捲起了報紙，捲起了塑料袋 (B)毛羽不豐滿者，不可以高飛；文章不成者，不可以誅罰；道德不厚者，不可以使民 (C)文化五千年，匯群流而歸大海；圖史十萬冊，開寶藏以利後人 (D)藏書不難，能看為難；看書不難，能讀為難；讀書不難，能用為難。
23. 「花無心招蝶，蝶無心尋花；花開蝶自來，蝶來花已開；我亦不知人，人亦不知我，人我互不知，相偕從帝則。」以上所要表達的意境為何？ (A)有心栽花花不開，無心插柳柳成蔭 (B)萬物之間的和諧關係，是循著自然的原則而產生 (C)自然是最偉大的一部書，傳遞出最深奧的消息 (D)一沙一世界，一花一天堂；雙手掌握無限，剎那便是永恆。
24. 「涉江采芙蓉，蘭澤多芳草，采之欲遺誰，所思在遠道，還顧望舊鄉，長路漫浩浩，同心而離居，憂傷以終老。」若不論其創作的時代，如何從其格律判斷它不是律詩？ (A)句數不合規定 (B)首句不入韻 (C)偶數句押韻有第三、四聲，不合律詩押韻規定 (D)頸聯、領聯均無對仗。
25. 下列各組字音，何組前後相同？ (A)謗議於市「朝」／「朝」於齊 (B)「期」年／「期」許 (C)師「說」／遊「說」 (D)審時「度」勢／「度」日如年
26. 下列各組的音義，何者正確？ (A)「遺」其雙鶴：音一ㄎ，贈送 (B)「鍛」其翮：音尸ㄩㄥˇ，剪掉 (C)蘭「茝」蓀蕙：音ㄔㄨㄛˇ，香草名 (D)針「砭」

\_\_\_\_\_ 題目未完，請繼續作答 p6-3 \_\_\_\_\_

：音勺一弓，針砭二字為比喻規勸過失

27. 下列選項中，何者字型無誤？(A)人為刀阻，我為魚肉 (B)懲慝他人 (C)冀土之牆不可汙也 (D)頑禿子弟。
28. 下列字詞用法何者有誤？(A)金斯伯格致力性別平權，引來保守派的「抨擊」(B)金斯伯格因胰臟癌復發過世，全美「哀悼」(C)金斯伯格的母親年輕時，放棄進大學的機會，真是「遺珠之憾」(D)莎拉葛林克是性別平權的「先驅」。
29. 「花不可以無蝶，山不可以無泉，石不可以無苔，水不可以無藻，喬木不可以無藤蘿，人不可以無癖。」這段話的涵義為何？(A)強調結交朋友的重要性(B)說明大自然處處都是美景(C)說明人要有自己的癖好(D)表達癖好和人際關係的重要。
30. 下列「 」內的形似字，何者使用不正確？(A)「掇」拾片言 (B)傷心「憒」泣 (C)點「綴」生輝 (D)中途「輟」學。
31. 下列對聯，何者最適合貼在楊韻采教授書房的門口？(A)門集春夏秋冬福，戶納東西南北財 (B)萬戶春風為子壽，半窗松雪論天倫 (C)春風得意千條綠，快馬加鞭萬里程 (D)立節可為千載道，成文自足一家言。
32. 從句型來看，「嗜好是人個性的象徵」是判斷句。下列選項的句型，何者也屬於判斷句？(A)舉頭三尺有神明 (B)滾滾的泥流傾洩而下 (C)年輕，是尋找英雄的時刻 (D)這事是非曲折得弄清楚。
33. 「明日，徐公來。熟視之，自以為不如；窺鏡而自視，又弗如遠甚。」關於這段敘述，我們可用下列哪一句話來讚美鄒忌的行為？(A)不遷怒，不貳過 (B)言必信，行必果 (C)知人者智，自知者明 (D)窮當益堅，老當益壯。
34. 「於千萬人之中遇見你所遇見的人，於千萬年之中，時間的無涯的荒野裡，沒有早一步，也沒有晚一步，剛巧趕上了。那也沒有別的話可說，惟有輕輕地問一聲：『喔！你也在這裡嗎？』」(張愛玲)根據這段文字，愛情的發生需要什麼條件？(A)時空交集的緣分 (B)真心誠摯的心意 (C)門當戶對的背景 (D)瞬間碰撞的火花。
35. 下列「 」中的字，何組意思兩兩相同？(A)三「旦」／「旦」旦而學之 (B)面「刺」寡人之過／「刺」殺 (C)友多「聞」／百「聞」不如一見 (D)發人深「省」／反「省」自己。
36. 「蘭茝蓀蕙之芳眾人之所好，海畔亦有逐臭之夫。」這段話旨意為何？(A)各人有各人的特色，各種事物都有喜好者 (B)有怪癖的人，往往能擁有良好的人際關係 (C)若想在厄運時得到援助，就應該培養特殊癖好 (D)當你有怪癖時要時時反省能否被接受。
37. 關於羅密歐與茱麗葉樓臺會一文，下列何者敘述較不具有畫面感？(A)妳看皎潔的月光把樹梢染成一片銀白 (B)明天我會派人去找你，確定婚禮的時間和地點 (C)愛情的蓓蕾會在夏日和風的吹拂下，開出美麗的花朵 (D)夜空

\_\_\_\_\_ 題目未完，請繼續作答 p6-4 \_\_\_\_\_

中，她在我的頭頂閃耀，有如舞動雙翅的天使，輕踩著雲朵在天空悠然而過。

38. 有一些報紙的標題，除了簡要敘述事實之外，還帶有評論的性質，表達出撰寫者的看法。下列哪一則新聞的標題帶有評論性質？ (A)加拿大賞楓行，美麗舒適，處處充滿驚奇 (B)根據科學研究指出，南極最容易找到隕石 (C)水情告急，四月將啟動限水方案，政府呼籲民眾節約用水 (D)腸病毒肆虐，中南部幼稚園全面停課一週。
39. 下列「 」中的注音寫成國字後，何組字形相同？ (A)散失亡「一、」／形貌「一、」麗 (B)無遠「ㄇ、」屈／自嘆「ㄇ、」如 (C)坐南「ㄨ、」北／愛如「ㄨ、」水 (D)時時而「ㄩ、」進／諷齊王納「ㄩ、」。
40. 「今日不雨」中的「雨」字是「名詞轉動詞」用，下列何者不是這樣的用法？ (A)「衣」錦還鄉 (B)亡「羊」補牢 (C)「枕」戈待旦 (D)春風「風」人。
41. 下列各句「 」中的詞語，何者運用錯誤？ (A)他們兄弟的程度差太多了，簡直就是「霄壤之別」 (B)這條鑽石項鍊超顯眼，讓人不禁要「望其項背」 (C)他的手藝真的不錯，只是不知為什麼他開的店卻「乏人問津」 (D)他上臺太緊張，說話「期期艾艾」的，大家都無法理解他的表達。
42. 下列文句「 」中的疊字，何者與聲音沒有關係？ (A)「啾啾」馬鳴聲響起，戰士們準備赴沙場 (B)溪谷傳來「濺濺」流水聲，讓人感覺涼爽 (C)魔術師的精湛演出，讓在場觀眾「嘖嘖」稱奇 (D)她老是「喋喋」不休地數落他人的不是。
43. 「客從外來，與坐談。」句中「與」字上面省略「鄒忌」二字。下列何者也使用省略法？ (A)城北徐公，齊國之美麗者也 (B)熟視之，自以為不如 (C)朝廷之臣，莫不畏王 (D)上書諫寡人者，受中賞。
44. 談生一文中，談生妻說：「我和常人不同，三年內你千萬不可用燈火照我。」假如談生真的在三年內都未使用燈火照他的妻子，他的行為可用下列哪一個成語來形容？ (A)出爾反爾 (B)食言而肥 (C)信口雌黃 (D)尾生抱柱。
45. 「項莊舞劍，意在沛公」意喻：(A)借刀殺人 (B)另有所圖 (C)乘人之危 (D)出奇制勝
46. 行政機關應遵守對人民的承諾，不可「出爾反爾」。此即下列何種原則表現？ (A)比例原則 (B)誠信原則 (C)平等原則 (D)公益原則
47. 下列文句「 」中的成語，何者使用正確？ (A)他最近正在減重，本著「虛懷若谷」的意志力，吃得很節制 (B)當鳳凰花開季節，就是同學們要互道珍重、「分庭抗禮」的時候 (C)公司財務面臨危機，幸好老決定轉賣閒置廠房，堪稱「見異思遷」 (D)人應該要學習負責，這位母親「李代桃僵」，為女兒頂罪，反而害了她

48. 下列行業題辭何者使用最正確？

- (A) 國中班導退休了，全班同學合送她一塊「懸壺濟世」的匾額
- (B) 出版社要贈送來訪的日本暢銷作家村上春樹「洛陽紙貴」的匾額
- (C) 好友開發的新款手機上市，我贈送「聞香下馬」的匾額以資慶賀
- (D) 昔年同窗順利考上法官一職，我贈送匾額「為國干城」以慶賀。

49. 「王荊公病喘，藥用紫圍山人參，不可得。時薛師政自河東還，適有之，贈公數兩，不受。人有勸公曰：『公之疾非此藥不可治，疾可憂，藥不足辭。』公曰：『平生無紫圍參，亦活到今日。』竟不受。公面黧黑，門人憂之，以問醫。醫曰：『此垢汙，非疾也。』進澡豆令公頰面。公曰：『天生黑於予，澡豆其如予何！』」（沈括 夢溪筆談）依據本文內容，可看出王荊公的何種性格？（註：①藥用紫圍山人參：這裡指藥方中需要用到紫圍山出產的人參。②薛師政：人名，即薛向，字師政。③頰：音ㄉㄨㄚˋ，洗臉。）

(A) 勇者不懼 (B) 耿介固執 (C) 去惡揚善 (D) 逞凶鬥狠。

50. 潘耒日知錄序：「崑山顧寧人先生，生長世族，少負絕異之資，潛心古學，九經諸史，略能背誦。精力絕人，無他嗜好，自少至老，未嘗一日廢書。出必載書數簾自隨，旅店少休，披尋搜討，曾無倦色。」下列成語，何者最適合用來形容顧寧人先生的讀書態度？（註：①簾：竹子編成的箱子。）

(A) 博古通今 (B) 孜孜不倦 (C) 數往知來 (D) 披星戴月。

\_\_\_\_\_ 題目結束，請仔細檢核答案 p6-6 \_\_\_\_\_

澎湖縣立文光國中 111 學年度第二學期第二次定期評量九年級英語科試題

Class :                      Number :                      Name :

一、聽力測驗：10%（每題 2 分）

- ( ) 1. (A) Fix the ring for him.  
(B) Invite Gwen to the shop.  
(C) Take out the ring for him to check out.
- ( ) 2. (A) He was ugly. (B) He felt weak. (C) He looked good.
- ( ) 3. (A) Talk to her god. (B) Chat with her mother. (C) Climb into her parents' bed.
- ( ) 4. (A) A date the woman went on.  
(B) A test they're going to have.  
(C) A report they need to finish this week.
- ( ) 5. (A) His shirt is too small.  
(B) He hurt a part of his body.  
(C) He is afraid to show the woman his shoulder.

二、單題測驗：50%（第 6~30 題，共 25 題，每題 2 分）

- ( ) 6. The milk is no longer \_\_\_\_\_. Let's not drink it.  
(A) heavy (B) fresh (C) terrible (D) new
- ( ) 7. Gas is sent to all the houses through \_\_\_\_\_ here. Therefore, try not to break them, or the gas inside will leak (溢出). (A) masks (B) nails (C) belts (D) pipes
- ( ) 8. After Kylie finished her dancing, she took a \_\_\_\_\_ to the judges (評審). Then she listened to what they said before leaving the stage (舞台).  
(A) bow (B) bench (C) belt (D) bat
- ( ) 9. A woman who was riding a scooter was \_\_\_\_\_ by a truck. After that, she was taken to a hospital right away.  
(A) cheered up (B) knocked down (C) kicked down (D) woken up
- ( ) 10. There is a round table in the room. Five people are seated in a \_\_\_\_\_.  
(A) square (B) circle (C) hill (D) farm
- ( ) 11. Lucas didn't understand what "knock out" meant in the reading below:  
*Everyone was knocked out by what they heard. "The song sounds so good and very different from anything I've heard before," Tony said.*  
He looked it up in the dictionary and found more than one meaning. What does "knock out" mean here?  
(A) To surprise somebody very much.  
(B) To hit someone so that they cannot get up.  
(C) To break something so that it does not work.  
(D) To work very hard in order to do something well.
- ( ) 12. Can you imagine that? I \_\_\_\_\_ my ex-girlfriend on the street the other day when taking a walk with my wife. (A) ran out of (B) ran through (C) ran into (D) ran away
- ( ) 13. Anna: My smartphone has not been working for days.  
Simon: What?! You've done nothing about it since it went \_\_\_\_\_? I can't live without my smartphone even for a moment. (A) blind (B) dead (C) crazy (D) stolen
- ( ) 14. The old man who is a \_\_\_\_\_ to me walks his dog at the park every night. I am a little afraid of them. (A) plant (B) stranger (C) proud (D) ticket
- ( ) 15. Tom's relationship (關係) with his girlfriend is up and down like a \_\_\_\_\_. Sometimes it's good, but sometimes it's bad. (A) pipe (B) drum (C) piano (D) seesaw
- ( ) 16. On weekends, my mom always \_\_\_\_\_ me clean the house.  
(A) asks (B) tells (C) makes (D) wants

- ( )17. Teresa wanted to know \_\_\_\_\_ Emily went to the party with last weekend, but she didn't ask Emily. She asked Linda \_\_\_\_\_ she knew that.  
(A) when; who (B) where; that (C) how; if (D) who; whether
- ( )18. Jack: Sherry seldom eats fried chicken, \_\_\_\_\_?  
Angela: No, she doesn't. She is controlling her weight.  
(A) does she (B) doesn't she (C) is she (D) isn't she
- ( )19. Mrs. Lee has her son \_\_\_\_\_ the violin every day.  
(A) practice play (B) practice playing (C) to practice to play (D) to practice playing
- ( )20. Both \_\_\_\_\_ mothers come from the USA. That's why they can speak English.  
(A) the twins' (B) Peter and Kevin's (C) Kelly's and Kitty's (D) my brother's
- ( )21. Don't buy that car. Although it is cheaper than the other, you may actually end up \_\_\_\_\_ more money \_\_\_\_\_ it.  
(A) spend; to fix (B) to spend; to fix (C) spending; to fix (D) spending; fixing
- ( )22. Cindy \_\_\_\_\_ a comic book while Judy was listening to music.  
(A) read (B) was reading (C) has read (D) reads
- ( )23. Max needs to finish his homework before \_\_\_\_\_ the video game.  
(A) play (B) plays (C) playing (D) played
- ( )24. Not only the children but also their mother \_\_\_\_\_ going shopping on the weekend.  
(A) enjoys (B) enjoy (C) are enjoying (D) were enjoyed
- ( )25. A: Do you know \_\_\_\_\_? B: No, I don't.  
(A) where is David's shop (B) who does David work with  
(C) how is David's business (D) David is going to open a new shop
- ( )26. Christmas is coming. I want to \_\_\_\_\_ a special gift \_\_\_\_\_ my girlfriend.  
(A) buy ; to (B) give ; for (C) send ; to (D) ask ; of
- ( )27. Look! The tall man I met last night \_\_\_\_\_ on the street.  
(A) dance (B) to dance (C) is dancing (D) danced
- ( )28. \_\_\_\_\_ ten pounds a month, Ricky eats less and jogs in the park every day.  
(A) To lose (B) Lose (C) Losing (D) Loses
- ( )29. The board game is \_\_\_\_\_ easier than the other.  
(A) a lot of (B) more (C) very (D) much
- ( )30. Ruby has longer hair than \_\_\_\_\_ in her class.  
(A) any girl (B) all the girls (C) other girls (D) any other girl

三、題組測驗：40% (第 31~50 題，共 20 題，每題 2 分)  
(31~35)

Tommy is a busy office worker. He enjoys 31 outside with his family when he is free. They go fishing near the river, go picnicking in the park, and go camping 32 the mountains. However, they saw 33 garbage at the beach when they went swimming last weekend. Tommy and his family plan to go there again and try their best to 34 the beach. They hope there isn't any garbage, and people can have 35 fun at the beautiful beach with their family.

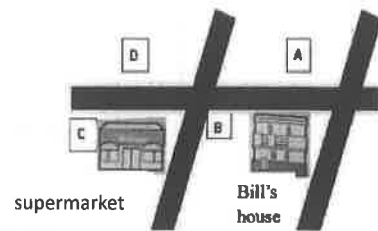
- ( )31. (A) going (B) go (C) to go (D) goes
- ( )32. (A) over (B) in (C) under (D) below
- ( )33. (A) few (B) many (C) any (D) lots of
- ( )34. (A) look up (B) pick up (C) clean up (D) throw up
- ( )35. (A) no (B) a few (C) full of (D) a lot of



(36~38)

Mike: You moved to your new house last week, right? Do you like it?  
 Bill: Well, it has its good and bad points.  
 Mike: What are its bad points then?  
 Bill: It cost me an arm and a leg. And it is a little far away from my office. It takes me about 30 minutes to drive to work now.  
 Mike: I see. What are its good points?  
 Bill: There is a clean, big park across from my house. I can jog there every morning. And there is a restaurant next to the supermarket. It sells delicious beef noodles. And most important of all, our neighbors are friendly.  
 Mike: Sounds great. How many rooms does your house have?  
 Bill: Three. And there are two bathrooms, a living room and a kitchen. By the way, I am going to hold a housewarming party this Sunday. Want to come?  
 Mike: Yes. Count me in.

- ( ) 36. Look at the map. Which one is the restaurant?  
 (A) A (B) B (C) C (D) D
- ( ) 37. Why do people hold a housewarming party?  
 (A) To celebrate their birthday.  
 (B) To celebrate moving to a new house.  
 (C) To celebrate having a baby.  
 (D) To celebrate passing a test.
- ( ) 38. Bill said his new house had good points. What are they?



- (a) It is very convenient for him to do exercise every morning.  
 (b) It won't take long to drive to his office from his house.  
 (c) He only spent little money on the house.  
 (d) His new neighbors are nice.  
 (e) There is a supermarket across from his new house

- (A) (a)(b)(c)(d)(e) (B) (a)(b)(d)(e) (C) (a)(d)(e) (D) (a)(d)

(39~41)

?	
You carried me on your shoulders when I was little You put a smile on my face With your <u>silly</u> joke I grew stronger but you became weaker You tried to catch up with me When I sailed out into the sea But your body did not listen to you I pulled you under	You never stop working Until the day I saw you falling I tried to catch you when you are falling It was too late. God was calling You gave me wings, so I could fly on my own But I have to see you lying in the cold box, alone Someday, maybe, when I see you again You will smile at me, with your healthy body

- ( ) 39. What does the word silly mean?  
 (A) Funny. (B) Terrible. (C) Sad. (D) Boring.
- ( ) 40. What is true about the poem?  
 (A) The poem is about following our dreams.  
 (B) The poem is about a child. He died very young.  
 (C) The writer misses a person a lot.  
 (D) The writer has wings because he is a bird.
- ( ) 41. What is the best title for the poem? title 標題  
 (A) An Unfortunate Experience (B) A Man I Love  
 (C) A Happy Moment (D) A Magic Man

(42~44)

**Peter Pan Pizza**  
The magical taste that will sweep you off your feet!  
**FREE DELIVERY** for orders of NT\$300 or more  
Order Hotline: 04-413-2983

All our pizzas are made with the freshest ingredients,  
our homemade pizza sauce, and 100% real cheese.

Cheese pizza:	Small (12"—6 pieces)	NT\$150
	Medium (14"—8 pieces)	NT\$250
	Large (16"—10 pieces)	NT\$350
Our pizza specials:	Small (12"—6 pieces)	NT\$280
	Medium (14"—8 pieces)	NT\$380
	Large (16"—10 pieces)	NT\$480

**Pizza Specials**

**1. HOUSE SPECIAL**  
pepperoni, black olives, Italian sausage, bell pepper

**2. ALOHA**  
Bacon, pineapple, black olives


**3. ALL MEAT**  
pepperoni, Italian sausage, beef, bacon, chicken

**4. VEGGIE SPECIAL**  
(For those who don't eat meat)  
mushroom, onion, olives, bell pepper, tomato



**Discount**


★NT\$150 off	Any 2 large pizzas
★NT\$100 off	Any 2 medium pizzas
★NT\$ 50 off	Any 2 small pizzas
★Free coke	With total cost of NT\$500 or more




 delivery 配送 ingredient 材料 sauce 醬料 sausage 香腸

- ( ) 42. All pizzas are made with all the followings except \_\_\_\_\_.
- (A) Homemade pizza sauce (B) 100% real cheese  
(C) 100% homemade meat (D) The freshest ingredients
- ( ) 43. How many pieces are there in two medium pizzas?  
(A) 12 (B) 14 (C) 16 (D) 8
- ( ) 44. If Angela buys 2 medium cheese pizzas, what will she get?  
(A) A free pizza. (B) NT\$150 off. (C) Free delivery. (D) Free coke only.

(45~47)

Scientists found that the way you sleep may say something about what kind of person you are. The findings came from a study of around 1,000 people. Here are the six common sleeping positions that were studied.



		
Yearner (13%)	Log (15%)	Fetus (41%)

**Starfish:** People who sleep on their backs with arms up make good friends because they are helpful and always ready to listen to others. However, they hate being the center of people.

**Freefall:** These people lie on their stomach with arms up. They are friendly and they enjoy meeting and talking to people. However, they care too much about what others think of them.

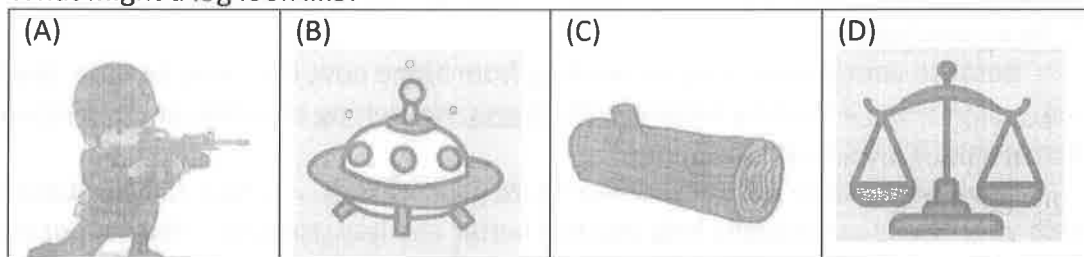
**Soldier:** In this one, people lie on their back with arms down at their sides. These sleepers are quiet and don't like to share their feelings and thoughts.

**Yearner:** Yearners are people who sleep on their side with both arms out in front. They are slow to make up their minds, but once they have made a decision, they don't want to change it.

**Log:** People who sleep on their side with both arms down are social and easy to get along with. They trust strangers and may be easily tricked.

**Fetus:** This is the most common sleeping position. People who sleep like this are thought to be strong on the outside but soft on the inside. They are shy but warm up quickly. The rest of the study said that the positions (姿勢) they fell asleep changed a lot or they didn't even know what their sleeping positions were.

( )45. What might a log look like?



( )46. What can we learn about the people in the study?

- (A) More than 500 of them sleep in the freefall position.
- (B) About one-tenth of them don't belong to any of the positions.
- (C) Over half of them sleep like a fetus.
- (D) The yearner position is less common than the soldier position.

( )47. Read and find out what Anna's sleeping position is?

Elsa: My sister Anna likes to help others and her friends love to talk to her about their feelings or thoughts. But when anyone wants to hold a birthday party for her, she always says no.

Grace: \_\_\_\_\_

Elsa: Yeah. How do you know? I am the one who shares a room with her, not you.

Grace: I read an article about sleeping positions. It says people sleeping in that position are nice and kind but don't want others to notice them.

Elsa: How interesting!

- (A) Does she sleep on her back with arms up?
- (B) Does she sleep on her back with arms down at their sides?
- (C) Is her sleeping position like a fetus?
- (D) Does she sleep on her stomach with arms up?

From the TV to the dinner table, you're probably hearing a lot about something called coronavirus, or COVID-19. But what do these strange-sounding words mean? Coronavirus is a new germ that is making some people sick with an illness called COVID-19. People who get sick may have a cough, a fever, a sore throat or feel like they are having a hard time breathing. Doctors and scientists are still learning about coronavirus and COVID-19. Here are five big things you should know to help keep everyone healthy:

**1. Wash your hands.**

Washing your hands with soapy water for twenty seconds helps you and your family avoid getting sick and spreading germs to other people. You could sing "Mary Had a Little Lamb," while washing your hands.

**2. No in-person playdates — for now.**

The coronavirus can spread from one person to another, like when we share toys or hold a friend's hand. Right now, it's safer not to have playdates with friends. Although you can't visit your friends, you can still see each other in other ways: you can talk on the phone or over video chat. You can also stay in touch by writing letters or postcards.

**3. Masks are safe, not scary.**

If you're going out in public, like to the playground, you may see lots of people wearing masks over their faces. Don't be scared: People are doing this to help protect the person wearing them from breathing in germs or, if they are sick, from spreading the germs to others.

**4. Cover your cough or sneeze.**

Coronavirus germs can travel through coughs and sneezes. That's why it's important to cover your nose and mouth with your elbow or a tissue when you cough or sneeze. Wash your hands afterwards, and, if you use a tissue, make sure to throw it away.

**5. Be a good helper.**

Because your parents may be working from home now, they may be busy, tired or stressed-out. Give them a hand by helping with **chores**, like setting the table or cleaning up your toys. Remember, it's OK to ask questions.

Don't be afraid to ask questions or share your feelings. In fact, talking about your feelings with your family can actually help you feel better and less stressed. You cannot control everything, but you can control what you do. If we all work together as a team, we can help keep ourselves, friends and family healthy.

📖 germ 病菌 illness 疾病 soapy 沾滿肥皂的 spread 散布 cough 咳嗽 sneeze 打噴嚏 elbow 肘 afterwards 之後 tissue 面紙 control 控制

- ( ) 48. What is NOT TRUE about this article?  
 (A) COVID-19 is caused by a germ called coronavirus.  
 (B) People wear masks to keep them from breathing.  
 (C) It's better to meet your friends over video chat than in person.  
 (D) It helps you feel better to talk about your feelings with your family.
- ( ) 49. What may also be a **chore**?  
 (A) Sweeping the floor.  
 (B) Wearing a mask to help keep healthy.  
 (C) Singing songs while you are washing hands.  
 (D) Saying something nice to your parents.
- ( ) 50. What is the best title for this article?  
 (A) What should adults do to keep their kids away from COVID-19?  
 (B) Coronavirus is not scary.  
 (C) Be a good helper.  
 (D) Things kids need to know about coronavirus.

澎湖縣立文光國民中學 111 學年度第 2 學期 9 年級數學科畢業考試卷

班級：

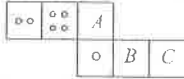
姓名：

座號：

讀卡 答案卷

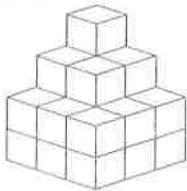
一、單選題(每題 3 分, 共 36 分)

- ( ) 1. 下列敘述何者是錯誤的?  
 (A)正六角錐的側面是等腰三角形  
 (B)正六角錐共有 7 個頂點  
 (C)正六角錐共有 7 個面  
 (D)正六角錐共有 7 個邊
- ( ) 2. 如附圖, 為一骰子的展開圖, 若骰子相對的兩面點數之和皆為 7, 則下列選項何者正確?



- (A)A 代表 3 點 (B)B 代表 5 點 (C)C 代表 6 點  
 (D)A 代表 6 點

- ( ) 3. 附圖是由每個邊長為 2 公分的小正方體堆疊而成的立體圖形, 試問這個立體圖形的體積為多少立方公分?




- (A)92 (B)180 (C)184 (D)200

- ( ) 4. 附表為三年 A 班學生體重 (公斤) 的最小值、 $Q_1$ 、 $Q_2$ 、 $Q_3$  與最大值, 則下列哪一區間的資料分布可能較分散?

最小值	$Q_1$	$Q_2$	$Q_3$	最大值
38	49	51	57	82

- (A)38~49 (B)49~51 (C)51~57 (D)57~82

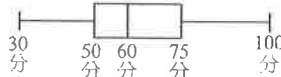
- ( ) 5. 附圖為建成國中三年第一次段考數學成績的圓形百分圖, 則段考成績的第 1 四分位數落在哪一組?



- (A)40~60 分 (B)60~80 分

- (C)80~100 分 (D)20~40 分

- ( ) 6. 附圖為某班學生段考成績盒狀圖, 則哪一組分數範圍之人數最多?



- (A)30~50 分 (B)50~75 分 (C)75~100 分  
 (D)以上三組人數都一樣多

- ( ) 7. A、B、C 排成一列, 求 B 排在 C 的右邊的機率為何? (A) $\frac{1}{3}$  (B) $\frac{1}{2}$  (C) $\frac{1}{4}$  (D) $\frac{1}{5}$

- ( ) 8. 生男生女機率相同, 若毛毛已經生了 2 個女孩, 則第三胎是男生的機率為多少?

- (A)0 (B) $\frac{1}{3}$  (C) $\frac{1}{4}$  (D) $\frac{1}{2}$

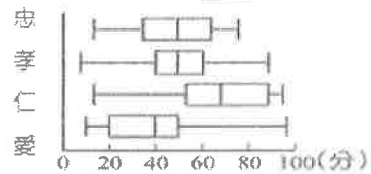
- ( ) 9. 甲、乙兩地有 5 條路徑, 小賢由甲走到乙, 阿幸由乙走到甲, 則兩人相遇的機率是?

- (A) $\frac{1}{5}$  (B) $\frac{7}{20}$  (C) $\frac{1}{25}$  (D) $\frac{1}{4}$

- ( ) 10. 文光百貨所有商品訂價的算數平均數 50 元, 中位數 54 元, 第 1 四分位數 30 元, 第 3 四分位數 70 元, 眾數 56 元, 因應政府油電雙漲政策, 小北百貨也將提高訂價反應成本, 若將訂價先減 10 後再乘以 1.5 後為所訂價, 則下列選項何者錯誤?  
 (A)四分位距 45 元 (B)中位數 66 元  
 (C)算術平均數 60 元 (D)眾數 69 元

- ( ) 11. 下列敘述何者正確?  
 (A)三角錐的側面一定是正三角形  
 (B)正四面體是三角錐的一種  
 (C)圓錐的側面打開是一個長方形  
 (D)埃及金字塔是三角錐

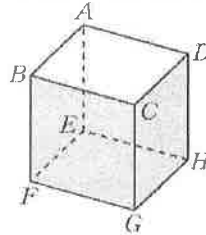
- ( ) 12. 附圖為忠、孝、仁、愛四班的數學段考成績盒狀圖, 下列敘述何者錯誤?



- (A)忠班的全距最小  
 (B)孝班大多數學生的成績表現最好  
 (C)仁班的四分位距較大  
 (D)愛班中間 50% 的學生成績表現最差

二、填充題(每格 3 分, 共 36 分)

1. 依據附圖的長方體, 回答下列各題:



- (1) 與  $\overline{CG}$  垂直的線段為何?

- (A)  $\overline{AC}$  (B)  $\overline{CE}$  (C)  $\overline{CF}$  (D)  $\overline{CH}$  答: \_\_\_\_\_。

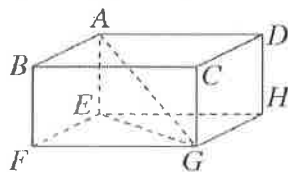
- (2) 與  $\overline{EH}$  垂直的矩形為何?

- (A) 矩形  $ABCD$  (B) 矩形  $ABFE$   
 (C) 矩形  $ABGH$  (D) 矩形  $ADGF$  答: \_\_\_\_\_。

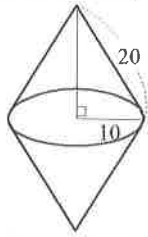
- (3) 與矩形  $ABFE$  平行的矩形為何?

- (A) 矩形  $ABCD$  (B) 矩形  $CDEF$   
 (C) 矩形  $CDHG$  (D) 矩形  $BCHE$  答: \_\_\_\_\_。

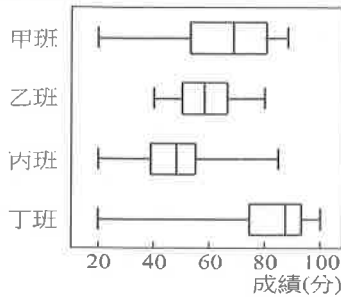
2. 附圖為一長方體, 其中  $\overline{AD} = 4$ ,  $\overline{AE} = 2$ 。若  $\overline{AG} = \sqrt{29}$ , 則  $\overline{EF} =$  \_\_\_\_\_。



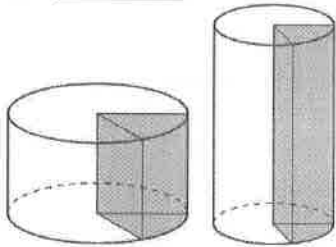
3. 阿銘將兩個相同的圓錐合併在一起形成另一立體圖形，如附圖所示。若重疊的部分面積不計，則此立體圖形的表面積為\_\_\_\_\_。



4. 附圖是甲、乙、丙、丁四班之數學成績盒狀圖，則：

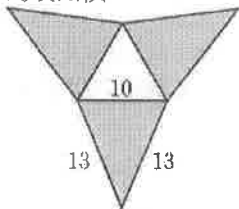


- (1) 哪一班全距最大？答：\_\_\_\_\_。
- (2) 哪一班四分位距最大？答：\_\_\_\_\_。
- (3) 成績最高的出現在哪一班？答：\_\_\_\_\_。
5. 附圖是某公司員工每月薪資的盒狀圖，試回答下列問題：
- 
- (1) 該公司員工的最高薪資為\_\_\_\_\_元，最低薪資\_\_\_\_\_元。
- (2) 該公司員工薪資的四分位距為\_\_\_\_\_元。
6. 小小兵買了兩塊切片蛋糕，他們分別是大圓柱體蛋糕的  $\frac{1}{9}$  切片和小圓柱體蛋糕的  $\frac{1}{8}$  切片，若此兩塊切片蛋糕的體積相同，則大蛋糕的  $\frac{1}{6}$  切片體積：小蛋糕的  $\frac{1}{5}$  切片體積 = \_\_\_\_\_。



### 三、計算題(第2題8分，其餘每題4分，共28分)

1. 附圖為三角錐的展開圖，已知底面是邊長為10的正三角形，側面是腰長為13的等腰三角形，試求此三角錐的表面積。



2. 玉山籃球隊有18名球員，其身高(單位：公分)分別如下：160、166、167、169、169、170、170、171、171、173、174、175、176、178、178、179、180、210 試求此球隊隊員身高的：
- (1)  $Q_1$ 、 $Q_2$  以及  $Q_3$ 。 (各2分，共6分)

(2) 畫出盒狀圖 (2分)

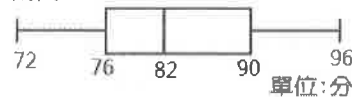
3. 甲乙兩人猜剪刀、石頭、布的拳，猜了兩回合，則：
- (1) 兩回合中，恰有一局雙方平手的機率為何？(各2分)

(2) 甲兩回合都獲勝的機率為何？

4. 一籤筒內有35支籤，號碼分別是1~35號，且每支籤被抽出的機會相等。若從籤筒中任意抽出一支籤，若抽到的籤號為  $x$ ，則：
- (1)  $2x-1$  為奇數的機率是多少？ (各2分)

(2)  $\sqrt{x}$  為整數的機率是多少？

5. 附圖為甲、乙、丙、丁、戊、己六人數學成績的盒狀圖。若甲得72分，乙得76分、丙得90分、丁得96分，請問：



(1) 戊與己兩人的分數總和為多少分？

(2) 此六人分數的平均數為多少分？

6. 陳建宏要用保麗龍球和竹筷做一個角柱和一個角錐的立體圖形，也就是拿保麗龍球做頂點，竹筷做成邊，最後她一共用了29個保麗龍球，48根竹筷，則她做的立體圖形分別為哪一個角柱和哪一個角錐？ (各2分)

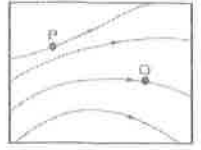
班級： 座號： 姓名：

■ 讀卡 □ 答案卷

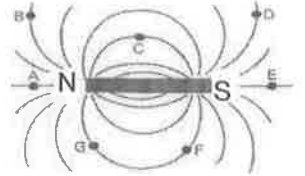
單選題 (每題 2 分, 共 100 分)

1. ( ) 對於磁鐵性質的敘述, 下列何者正確? (A)能吸引金屬材質的物體 (B)有些磁鐵僅有N極, 沒有S極 (C)只能吸引鐵粉 (D)鐵釘不需要接觸磁鐵就可以被磁化, 具有磁性。

2. ( ) 如右圖表示某磁鐵的磁場圖像, 圖中P、Q兩點以何點的磁場較強?  
(A)P (B)Q (C)P、Q一樣強 (D)無法決定。



3. ( ) 右圖為棒狀磁鐵周圍的磁力線, 則哪兩點的磁場方向相同?  
(A)A、E (B)B、D (C)C、E (D)G、F。



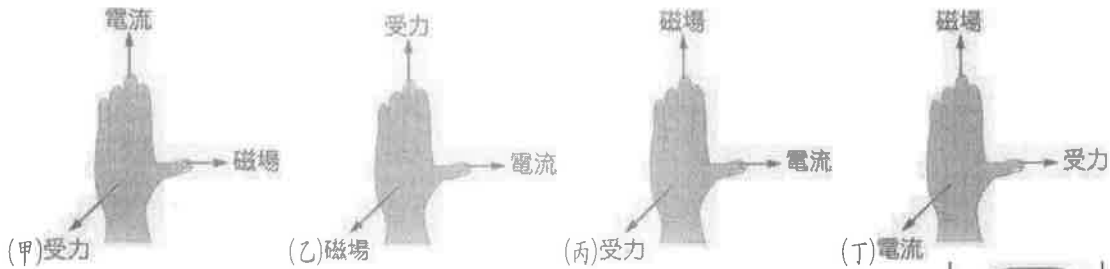
4. ( ) 若要使電磁鐵產生的磁場更強, 則以下哪一種方法是無效的?  
(A)增加螺線管電流 (B)將螺線管繞得更緊密 (C)增加軟鐵棒數目  
(D)將軟鐵棒改用導電性更好的銅棒或銀棒。

5. ( ) 實驗裝置如右圖所示, 若考慮地球磁場的影響, 當電流通入長直導線時, 甲、乙、丙、丁四個磁針中, 何者的偏轉角度最大? (A)甲 (B)乙  
(C)丙 (D)丁。

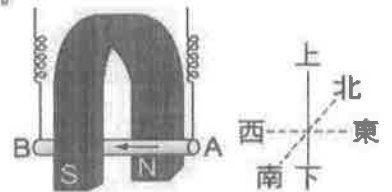


6. ( ) 承上題, 四個磁針中, 何者的偏轉角度最小? (A)甲 (B)乙 (C)丙 (D)丁。

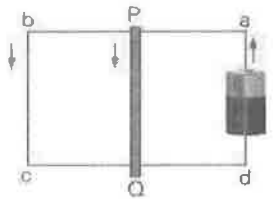
7. ( ) 置於磁場中且垂直於磁場方向的載流導線, 會受到磁力的作用。下列何者可正確表示磁場、電流及受力方向的關係?  
(A)甲 (B)乙 (C)丙 (D)丁。



8. ( ) 如右圖所示, 以兩金屬線懸掛住一段金屬線 AB, 並置於一馬蹄形磁鐵中。當金屬線 AB 通以由東向西的電流時, 則金屬線 AB 的受力情形為何? (A)向上 (B)向南 (C)向東 (D)不受力。



9. ( ) 水平擺放一矩形的銅線abcd, 在迴路中央放置一金屬棒PQ, 接上電池後均通有電流 (如右圖)。金屬棒PQ受到bc、da的電流所產生的磁場作用, 則所受的磁力方向為何?  
(A)方向向右 (B)方向向左 (C)方向向上 (D)合力為零。



10. ( ) 下列何者主要是利用電磁感應的原理設計? (A)電動機 (B)電磁鐵 (C)發電機 (D)電暖器。

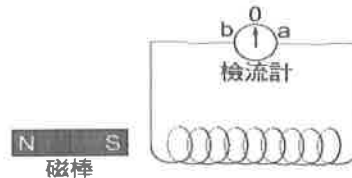
11. ( ) 如右圖所示，將磁棒平移向右插入線圈內，下列敘述何者正確？

(A)以 S 極平移向右接近線圈，檢流計指針先向 a，再向 b 偏轉

(B)磁棒向右平移接近線圈的速率大小，不會影響指針偏轉角度

(C)磁棒不動，將線圈向左平移靠近磁棒，檢流計指針先向 b，再向 a 偏轉

(D)磁棒和線圈以同樣速率向右平移運動，指針會維持在 0 刻度。

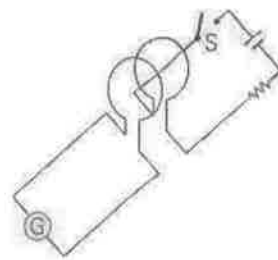


12. ( ) 如右圖所示，將兩個線圈平行相向排列，當開關 S 閉合瞬間，有關

檢流計指針的偏轉變化，下列何者正確？(A)因為沒有相對運動，

所以指針不會偏轉 (B)指針發生偏轉，但立即回到 0 刻度 (C)指針偏

向一端且維持不動 (D)將電池反接，指針偏轉方向仍相同。



13. ( ) 有關北太平洋地區表層洋流的流況敘述，下列何者錯誤？(A)北太平洋地區表層洋流為逆時

鐘方向 (B)加利福尼亞洋流為冷流 (C)黑潮的流向為由南向北 (D)北赤道洋流由東向西流

14. ( ) 黑潮為北太平洋主要海流之一，有關黑潮的敘述，下列何者錯誤？(A)由北赤道洋流而來

(B)黑潮夏天往北流，冬天往南流 (C)流速快，黑潮主流流經臺灣東部 (D)海水溫暖，

給臺灣帶來溫暖潮溼氣候。

15. ( ) 大量使用化石燃料，對環境的主要衝擊為何？(A)消耗大量氧氣使臭氧層破洞更明顯

(B)加速全球暖化效應 (C)消耗大量氧氣使生物呼吸供氧不足 (D)排放大量二氧化碳促進

植物生長。

16. ( ) 造成地球的溫室效應現象，主要原因為何？(A)大氣中的臭氧吸收紫外線 (B)大氣中的溫

室氣體吸收太陽的輻射 (C)大氣中的溫室氣體吸收地表釋放的輻射 (D)因臭氧層的破洞，

陽光中的紫外線直射地球表面所造成。

17. ( ) 造成土石流的發生，最直接因素為何？(A)發生地震 (B)大量降雨 (C)砍伐森林 (D)坡

度陡峭。

18. ( ) 要降低洪水災害的發生頻率及受災程度，下列作法何者較不適當？(A)興建堤防 (B)做好

水土保持 (C)設置疏洪道 (D)加強洪氾地區的開發。

19. ( ) 為了解決臭氧層破洞的問題，世界各國在 1987 年在加拿大簽訂議定書限制何種氣體的排

放？(A)氟氯碳化物 (B)二氧化硫 (C)氮氧化物 (D)二氧化碳。

20. ( ) 有關臭氧的敘述，下列何者正確？(A)臭氧濃度在對流層最高 (B)臭氧在大氣中濃度固

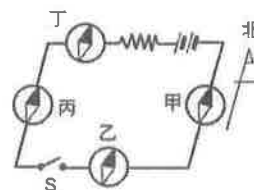
定不變 (C)臭氧可以吸收紫外線 (D)臭氧層的臭氧濃度因氟氯碳化物而日漸增大。

21. ( ) 有關磁力的各項敘述，下列哪一項不正確？(A)磁力屬於非接觸力 (B)迴紋針靠近磁鐵時，

會感應而具有磁性 (C)金屬物質都屬於磁性物質 (D)鋼釘若被磁化，其磁性不易消失。

22. ( ) 如右圖，甲、乙、丙、丁磁針皆位於導線上方，當 S 開關接通後，

哪個磁針會指向北方？(A)甲 (B)乙 (C)丙 (D)丁。



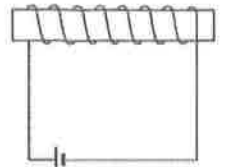


23. ( ) 李老師解說磁力線概念後，請四位同學解說磁力線的特性，下列哪一位同學的說法有誤？  
 (A)峻榮說：磁力線上任一點的切線方向，磁場方向都相同 (B)秉寓說：磁力線分布的密度可表示磁場的強度 (C)立維說：任一條磁力線永不相交 (D)城輝說：磁力線必為封閉曲線。

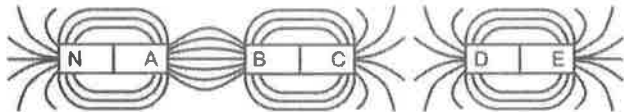
24. ( ) 一南北方向的直導線，通以電流後，發現至於其上方的磁針 N 極向東偏轉，則導線上的電流方向：(A)由南向北流 (B)由北向南流 (C)由東向西流 (D)由上向下流。

25. ( ) 美如在課堂中講解電磁鐵的概念後，提問：改變通電螺線管的強度的方法，則哪一位同學提出的方法是錯誤的？(A)綵宸說：改變通過螺線管的電流方向 (B)綵靜說：改變螺線管的匝數 (C)以樂說：改變通過螺線管的電壓大小 (D)愛陽說：在螺線管內插入更多的軟鐵棒。

26. ( ) 段老師用漆包線對一支軟鐵棒纏繞如右圖，此線圈的相關敘述何者錯誤？  
 (A)可透過安培右手定判斷 N 極位置 (B)並聯同規格電池則磁力變更强  
 (C)此時線圈右方為 N 極 (D)將電池正負極互換不影響磁力大小。



27. ( ) 如圖所示為三條磁鐵及磁力線的分布情形，下列敘述何者正確？



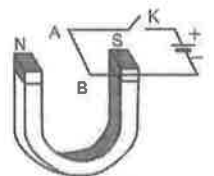
(A) B 端為 S 極 (B) C 端為 N 極 (C) D 端為 N 極 (D) E 端為 N 極。

28. ( ) 一條長直導線南北向水平放置，在其正上方有一磁針，當導線內通以南向北的電流時，若將磁針移離到導線約 10 cm 處，在移動的過程中磁針的方向會有何變化？(A)磁針保持向東偏 (B)磁針保持向南偏 (C)磁針會由東方逆時針方向偏轉至北方 (D)磁針會由東方順時針方向偏轉至北方。

29. ( ) 導線通入直流電源，則導線和磁場方向的交角在下列哪一種情形所受的磁力最大？(A)  $10^\circ$  (B)  $30^\circ$  (C)  $60^\circ$  (D)  $90^\circ$ 。

30. ( ) 高雄市政府為了便民與節能減碳，捷運站附近設置 U-bike 腳踏車供民眾使用，腳踏車設置無需電池的小型車燈，騎乘時可供照明，當前輪轉動時車燈就會被帶動發亮。試問此種車燈所應用的原理與下列何者相同？(A)馬達 (B)電磁爐 (C)發電機 (D)微波爐。

31. ( ) 清文將電線、開關和電源組裝好後，再以 U 型磁鐵靠近 AB 導線如右圖所示，當開關 K 按下，接通電路時，迴路 AB 段受力的方向為何？(A)向右 (B)向左 (C)向下 (D)向上。



32. ( ) 心渝將兩條同規格的導線通以相同大小的電流後，再將兩條導線互相平行靜置在水平桌面上，如右圖所示。A、B 兩平行導線通電後，會有何種現象發生？(A)兩導線互相排斥而遠離 (B)兩導線互相排斥而接近 (C)兩導線互相吸引而遠離 (D)兩導線互相吸引而接近。

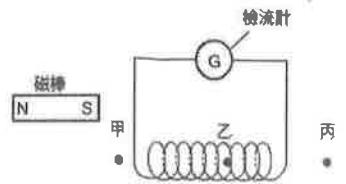


33. ( ) 下列何者是使用電磁感應原理設計的電器？(A)充電電池 (B)發電機 (C)電磁鐵 (D)電暖器。

34. ( ) 右圖為某種儀器，當電子流由正端子 (+) 流入時，則指針的偏轉方向為下列何者？(A)指針在 0 的位置 (B)指針偏向左側 (C)指針偏向右側 (D)指針忽左忽右的偏轉。



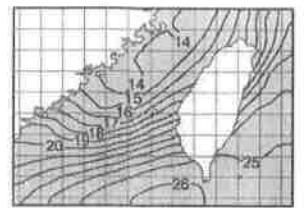
35. ( ) 如圖所示，沛婕將同一根磁棒分別靜置於甲、乙、丙三位置 2 秒後，比較三處的感應電流，下列敘述何者正確？(A)在甲位置感應電流最大 (B)在乙位置感應電流最大 (C)在丙位置感應電流最大 (D)在三個位置都沒有感應電流。



36. ( ) 下列各圖的箭頭代表磁鐵或線圈的移動方向，則哪一個圖形不會有感應電流生成？



37. ( ) 右圖是冬季臺灣四周海水等溫線圖，其中臺灣苗栗海域附近水溫約 16°C，此時主要受到何種洋流影響？(A)中國沿岸流 (B)黑潮 (C)親潮 (D)南海海流。



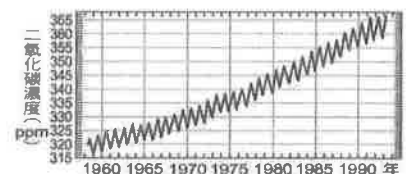
38. ( ) 臺灣附近海域有許多洋流經過，可帶來較溫暖海水的為下列何者？(甲)黑潮、(乙)南海海流、(丙)南極海流、(丁)中國沿岸流。  
(A)甲乙丙丁 (B)甲乙 (C)甲丁 (D)乙丙。

39. ( ) 右圖是某季節時臺灣附近海域的海水流動情形，箭頭代表海水流動方向，甲為臺灣東部海域洋流，乙為臺灣海峽海域洋流，則下列敘述何者錯誤？(A)此為夏季的海水流動情形 (B)甲為溫暖的海水 (C)乙為黑潮支流 (D)乙的流向在夏季時，會受較強的中國沿岸流而被迫改變流向。



40. ( ) 大規模的海水流動稱為海流，依照溫度高低分成暖流與冷流，關於洋流的敘述，下列何者錯誤？(A)大量船隻行進會造成洋流 (B)赤道地區吹東風，表示海水會往西流動 (C)洋流可調節地球能量的分布 (D)黑潮由赤道北上，帶來溫暖的海水。

41. ( ) 右圖為地球二氧化碳濃度的「變化趨勢」，有關 1960 年至 1990 年的二氧化碳濃度變化趨勢為何？(A)不斷震盪上升 (B)不斷震盪下降 (C)有時上升；有時下降 (D)先上升；後下降。

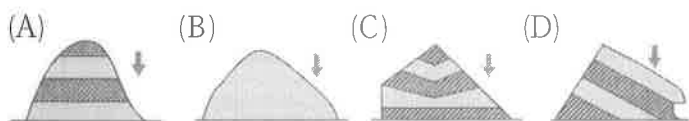


- ◎ 地球大氣可以吸收和反射輻射線，達到像玻璃溫室一般的效果，稱為溫室效應，其示意圖如右所示。溫室效應的強弱實際上與溫室氣體的含量多寡有直接的關係。試回答 42~43 題：

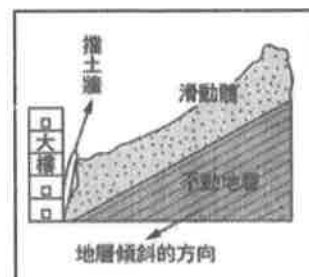
42. ( ) 下列哪一種氣體是造成地球溫室效應的氣體，且該氣體又屬於有機化合物？(A) CH<sub>4</sub> (B) CO<sub>2</sub> (C) O<sub>3</sub> (D) H<sub>2</sub>O。



43. ( ) 由上圖可以得知，太陽輻射到地表的能量中，會被何種物質反射而再度對地表加熱？  
 (A)大氣 (B)雲層 (C)地表 (D)溫室氣體。
44. ( ) 臺灣的降雨集中在5~8月，山區降下大量的雨水將易造成土石流，若要設計土石流預警系統，則何項因素可做為預警的主要根據？(A)氣壓值 (B)風速 (C)降雨量 (D)當天氣溫。
45. ( ) 下列選項為各種坡面，圖中箭號標示處，何者最容易發生山崩？



46. ( ) 為降低人為引起的溫室效應增強對全球氣候的影響，聯合國於西元1997年擬定《京都議定書》，其主要的內容為何？(A)維持生物的多樣性 (B)降低CFC<sub>s</sub>的使用率 (C)管制有害健康物質跨國移動 (D)管制溫室氣體的排放。
47. ( ) 聯合國所制定的17項永續發展目標(Sustainable Development Goals, SDGs)，哪一個目標是有關於風能、太陽能等綠色能源的應用？(A)目標6：淨水與衛生 (B)目標13：氣候行動 (C)目標7：可負擔的永續能源 (D)目標15：陸域生態。
48. ( ) 民國86年溫妮颱風過境後，汐止的林肯大郡社區因為設計不當造成房屋和人員的傷亡。右圖為其崩塌前的岩層示意圖，災變時整個滑動體沿著潛在滑動面下滑，由右圖判斷，造成此次滑動的主要原因有哪些？(甲)雨水增加土體重量；(乙)雨水降低岩盤間的摩擦力；(丙)滑動體的坡腳被挖去；(丁)大樓處於順向坡。



- (A)甲乙丙丁 (B)僅甲乙丁 (C)僅甲丁 (D)僅乙丙
49. ( ) 人類若大量使用氟氯碳化物CFC<sub>s</sub>，下列何者不正確？(A)進入地表的紫外線會增加 (B)臭氧會與氟氯碳化物反應而分解 (C)臭氧層濃度在南極上空較低而形成臭氧洞 (D)紫外線增加對地球生物都是無害處。
50. ( ) 關於紫外線和臭氧的敘述，下列何者正確？(A)在地面製造的臭氧不易上升至高空，故高空臭氧濃度不會因此增加 (B)冷媒、噴霧劑與清潔劑中的物質是溫室氣體的成員 (C)臭氧含量越高時，地表接收的紫外線越多 (D)紫外線是一種波長較長的可見光。

澎湖縣立文光國民中學 111 學年度第 2 學期第 2 次成績評量 9 年級歷史科試卷

班級：

姓名：

座號：

讀卡

答案卷

單一選擇題（第 21 題～第 40 題，第 21～35 每題 2 分，第 36～40 題，每題 1 分，共 35 分）

21. 西元 1915 年，滿載著乘客的郵輪「盧西塔尼亞號」從紐約出發，在愛爾蘭外海遭遇濃霧，被在附近巡邏的潛艇發現，並以魚雷擊沉，造成船上一千多名乘客和船員死亡。此事件激起美國民眾的憤怒，國內要求參戰的聲浪四起……。當時美國民眾不滿的應該是哪個國家的措施？  
(A)德國 (B)法國 (C)俄國 (D)英國。
22. 俄國因為參與一次大戰，各地出現經濟衰退、糧食不足的問題，不滿政府的工人集結遊行，並高喊「打倒沙皇君主制度」、「以戰爭反對戰爭」、「臨時革命政府萬歲」等口號。當時發動的起事行動應是下列何者？(A)二月革命 (B)辛亥革命 (C)十月革命 (D)法國大革命。
23. 附圖是一張政治宣傳海報，海報上的政治人物之所以獲得德國人民的支持，與他提出何種主張有關？(A)廢除《凡爾賽條約》(B)恢復古羅馬光榮 (C)族群地位一律平等 (D)重新分配地主土地。
24. 一位日本軍官說道：「我國的石油只能維持半年的時間，除非我們從中國撤兵，停止對外擴張，外交上向美國靠攏。不然只能南下奪取石油、橡膠等戰略資源，繼續加強對外侵略……。但這樣一來，就等於向三國宣戰。」為達成此目標，日本可能策畫下列哪場事變？  
(A)七七事變 (B)牡丹社事件 (C)九一八事變 (D)珍珠港事變。
25. 二次大戰削弱了西方列強的殖民統治勢力，動搖帝國主義的殖民體系，同時也使殖民地國家的人民經歷各式苦難，逐漸增強民族獨立意識。因而，戰後亞、非地區的許多殖民地國家先後獲得獨立。有關這些新興國家的說明何者正確？(A)他們多半依附美國或蘇聯 (B)獨立之後多半政治、經濟穩定 (C)他們強調反帝國、反殖民主義 (D)這些新獨立國家即為第一世界國家。
26. 「此一組織成立的宗旨在於透過安全理事會來維護國際和平與安全，並尊重各國人民的平等權利，進行國與國間的國際合作，以解決國際間經濟、社會、文化和人道主義的問題，並促進對於全人類的人權和自由的尊重。」上述應是指哪個組織？(A)聯合國 (B)國際聯盟 (C)華沙公約組織 (D)北大西洋公約組織。
27. 一篇人物專題介紹中提到：「他是蘇聯解體的重要推手，為了解決國內民生經濟困頓的問題，開放外來資本投資，並對加盟國進行政治鬆綁，造成東歐國家的共產政權紛紛垮臺……。」上述人物專題介紹的應該是何人？(A)列寧 (B)史達林 (C)墨索里尼 (D)戈巴契夫。
28. 一位政治人物曾說：「蘇聯自西元 1924 年～西元 1953 年間，國家的發展有了根本變化。蘇聯從農業國家變成了工業國家，帶動了國家軍事實力大幅提升，而這時蘇聯是由○○所領導。」上述的○○應是何人？(A)列寧 (B)史達林 (C)希特勒 (D)墨索里尼。
29. 第一次世界大戰是人類有史以來面臨的重大戰役之一，帶來的影響十分深遠。下列有關一次大戰的影響何者正確？(A)男性社會地位高於女性 (B)社會形成宗教寬容精神 (C)造成大量人員死傷慘重 (D)各國形成社會主義思潮。



30. 一位君王說道：「我們乃是世界上的偉大民族，將會帶領斯拉夫的小兄弟們抵禦侵略，並積極發揚斯拉夫文化，聯合斯拉夫民族進行反抗西方世界的鬥爭。」由上述內容可知，此位君王應該是下列哪一國人？(A)英國 (B)俄國 (C)法國 (D)德國。
31. 西元1948年，埃及、敘利亞、約旦、黎巴嫩及伊拉克五國，以維持安全秩序為由，派兵進駐巴勒斯坦地區，歷時一年半的戰爭後，最後由以色列獲得勝利。上述應是指哪場戰爭？(A)韓戰 (B)越戰 (C)以阿戰爭 (D)古巴危機。
32. 小玉閱讀一本書後有以下感想：「在這一場戰爭中，交戰雙方為了能贏得勝利，將自己的新式武器，如：飛機、坦克、毒氣等使用於戰場中，遠程大炮更造成交戰雙方很大的傷害。」小玉閱讀的可能是下列哪本書籍？(A)《細探法國大革命始末》 (B)《俄國二月革命的浪潮》 (C)《一次大戰的戰火風雲》 (D)《探析法西斯政權的崛起》。
33. 一篇文章提到：「西元1914年6月28日為塞爾維亞的國慶日，奧匈帝國皇位繼承人斐迪南夫婦被塞爾維亞民族主義者暗殺。此一事件發生後引發各國關注，奧匈帝國要求塞爾維亞懲凶以及賠償。」此篇文章的主題最可能為下列何者？(A)帝國主義思想的形成 (B)塞拉耶佛事件的始末 (C)民族自決思想的提出 (D)巴黎和會的召開與影響。
34. 小軒說道：「此一組織成立的初始目的，是為了避免世界再次陷入戰爭，以維持各國之間的和平，但沒想到它在維持和平局勢方面卻顯得軟弱無力。」造成此組織軟弱無力的原因為何？(A)民族自決思想盛行 (B)英國盛行孤立主義 (C)列強紛紛拒絕參與 (D)缺乏軍事武裝力量。
35. 「他為了避免國與國的戰爭再度爆發，並希望維持戰後世界的安寧與秩序，倡議籌組國際組織，強調民族自決思想，帶動了各地民族復興運動的發展。」上述的人物應該是何人？(A)羅斯福 (B)威爾遜 (C)勞合喬治 (D)克里蒙梭。
36. 美國歷任總統中，哪一位在一九三〇年代採取多項社會經濟改革措施，並推動大型公共工程來減緩當時的經濟困境？(A)羅斯福 (B)威爾遜 (C)門羅 (D)林肯。
37. 在帝國主義的支持下，歐洲各國相競對外擴張。此外，國家間彼此亦會結盟，以便壯大自身實力。這也讓歐洲局勢愈發緊張。請問，關於第一次世界大戰的背景，下列何者**錯誤**？(A)二十世紀初，已漸形成同盟國與協約國兩大陣營 (B)與鄂圖曼帝國的衰落、巴爾幹半島的局勢有關 (C)起初為德國與俄國之間的勢力擴張爆發衝突 (D)其餘各國雖未有直接衝突，卻也因結盟關係捲入。
38. 「西元1940年開始，發動閃電戰術，迅速的攻陷了荷蘭、比利時、法國等國家，並且派遣大量的轟炸機，不斷的對英國進行轟炸，希望迫使英國投降。」請問：指的是哪個國家？(A)德國 (B)美國 (C)俄國 (D)義大利。
39. 第三世界通常指亞洲、非洲、中南美洲等開發中國家，沒有絕對明確的界定，而且不同國家有不同的解釋。請問：下列何者無論何種解釋都**不會被認為**是第三世界國家？(A)美利堅合眾國 (B)中華民國 (C)印度共和國 (D)中華人民共和國。
40. 聯合國成立於第二次世界大戰結束後，從原先51個創始會員國，到了西元2021年時增加至193個會員國。請問：聯合國主要的宗旨為何？(A)推動全球混亂 (B)反對法西斯主義 (C)建立世界政府 (D)維護世界和平，促進國際合作。

【～試題結束，文光九年級、歷史科～畢業快樂！】

澎湖縣立文光國民中學 111 學年度第 2 學期第 2 次成績評量 9 年級地理科試卷

班級：

姓名：

座號：

讀卡

答案卷

單一選擇題（第 1 題～第 20 題，第 1～15 每題 2 分，第 16～20 題，每題 1 分，共 35 分）

1. 一般來說，食物生產後由產地運送到消費者手中的產銷流程可以分成數種類型，下列何者的食物里程最短？(A)全國性生產與銷售 (B)地方性生產與銷售 (C)全球性生產與銷售 (D)洲際性生產與銷售。
2. 新聞報導指出：「臺灣的水果如鳳梨、釋迦、蓮霧等，被中國農業單位驗出含有過量的農藥，甚至有害蟲殘存在水果表面上，讓不少農民疾呼臺灣農業單位應針對部分害群之馬進行查核，以維護臺灣農業在國際的地位。」請問：上述農民訴求的主要問題為何？(A)對農產品價格管控 (B)政府加強查核農產品 (C)運輸方式阻礙 (D)農村勞動力太少。
3. 有關食物生產與銷售的模式中，哪個模式最符合臺灣早期的傳統社會？(A)地方性生產、地方性銷售 (B)地方性生產、全國性銷售 (C)全國性生產、地方性銷售 (D)全國性生產、全國性銷售。
4. 食物的加工與運銷的過程中，為了追求何種目的，可能採取一些不當的加工手段，造成危害人體健康的問題？(A)降低運送成本 (B)提升銷售成本 (C)獲取產銷履歷證明 (D)保持產品新鮮外觀。
5. 自從臺灣在西元 2002 年加入 WTO 之後，各國農產品紛紛進入臺灣，使消費者在農產品的選購上更加多元，但也產生何種經濟問題？(A)臺灣農業更具競爭力 (B)小農經濟大受衝擊 (C)農民收入增加 (D)讓臺灣的農作物產量銳減。
6. 由於現今不少人在飲食上對於口味十分講究，所以很多食材的製造與生產過程中會提升食物口味，因此衍生出何種食品在市面上日漸盛行？(A)有機天然的食材 (B)精緻加工食品 (C)有機的農產品 (D)進口高級食物。
7. 「我們的產品自然無添加，強調原始美味與保存，如有自然沉澱物，實屬正常現象。」上述是表達部分廠商在食材製造上，採取何種方式來達到販售的目的？(A)使用相關化學物質 (B)強調少油少糖 (C)以有機方式栽種 (D)避免不當使用添加物。
8. 臺灣自從西元 2002 年加入某一全球性的經濟組織之後，國外農產品進口量增加，衝擊在地小農，也使得食物里程變長，食安問題風險提高。因此，國內專業人士提出「地產地消」的概念。請問：前文中提及的「全球性經濟組織」簡稱為何？(A)WHO (B)WTO (C)OPEC (D)APEC。
9. 下列四種購買習慣，何者較能降低食品安全的風險？(A)購買有產銷履歷的產品 (B)購買使用化學肥料的產品 (C)購買食品添加物較多的產品 (D)購買賣相佳、外觀漂亮的產品。
10. 劃分農業類型的指標有很多種，主要是依照何種指標區分為自給性農業與商業性農業？(A)單位面積產量 (B)單位勞力產量 (C)農業生產目的 (D)產出物品種類。

11. 下列哪種方式，使消費者可能可以買到較安全的食品？(A)購買能存放長時間的食物 (B)購買有機肥料種植的農產 (C)購買使用殺蟲劑的水蜜桃 (D)購買價格非常便宜的肉品。
12. 在食品安全問題頻傳的現代社會，消費者無法透過下列何種方式提高食物來源的安全性？(A)購買有生產履歷的產品 (B)提高有機農產品的消費 (C)利用小農市集選購食物 (D)選擇已開發國家的農產。
13. 目前國際社會對於是否接受基因改造作物，最主要的疑慮來自於下列何者？(A)基因改造作物會降低生物的多樣性 (B)基因改造作物耗費更多珍貴水資源 (C)種植基改作物會導致社會財富分配不平均 (D)基改作物對環境和人體有不確定性的影響。
14. 現代農民在選擇種植的作物時，通常會優先考量下列哪一項因素？(A)傳統習俗 (B)市場需求 (C)政府政策 (D)田地規模。
15. 「隨著時代演進，我們所吃的食物，從產地到餐桌之間的距離逐漸拉長。」請問：這一句話可以用下列哪一個概念進行解釋？(A)生產技術進步 (B)經濟快速起飛 (C)食物里程加長 (D)自然環境變遷。
16. 關於有機農業的運作，下列敘述何者正確？(A)利用套袋方式減少蟲害問題 (B)售價偏低，吸引消費者購買 (C)使用除草劑，減少雜草蔓延 (D)大規模種植以減少生產成本。
17. 下列農業產銷的案例，何者不符合「農業企業化」的特色？(A)稻農合作種植，創立經營品牌 (B)菜農種植多種蔬菜以應付市場的需要 (C)茶農與連鎖飲料店合作，穩定供應茶葉 (D)肉雞養殖場定期清理環境，以符合檢驗標準。
18. 食品業者將食物進行加工，其最主要是基於下列哪些原因？(甲)保持食物色澤鮮豔 (乙)使食物口感更佳 (丙)增加食物的熱量 (丁)讓食物更容易保存 (A)甲乙丙 (B)乙丙丁 (C)甲乙丁 (D)甲丙丁。
19. 若以臺灣消費者的角度而言，下列食物的食物里程，由短至長的排序應為何？(甲)美國葡萄 (乙)泰國椰子 (丙)臺東釋迦 (丁)智利櫻桃 (A)乙丙甲丁 (B)丙甲丁乙 (C)丙乙甲丁 (D)丙丁乙甲。
20. 臺灣早年的飲食，多以在地生產的食物為主，其主要原因為下列何者？(A)貿易壁壘障礙 (B)運輸條件限制 (C)宗教習俗約定 (D)國家政策規範。

【～試題結束，文光九年級地理科～畢業快樂！】

澎湖縣立文光國民中學111學年度9年級畢業考公民科試卷

班級： 姓名： 座號： ■讀卡 □答案卷

一、 單選題(41~50題，每題2分；51~55題，每題1分。單選題共25分)

- ( ) 41. 西元1947年11月，聯合國安理會通過了巴勒斯坦分治的決議，文中聲明在現今以色列土地上建立一個猶太人的國家，一個巴勒斯坦的國家。以色列接受了聯合國的決議，宣布獨立建國，然而阿拉伯世界的國家拒絕接受，立即向剛建國的以色列開戰，自此戰火不斷，直到一九七〇年代末期，一些阿拉伯國家領袖才接受以色列建國既存的事實，開始和平協談。所謂「戰火不斷」亦即指出以、巴的互動是屬於下列何種型態？ (A)國際交流 (B)國際合作 (C)國際援助 (D)國際衝突。

- ( ) 42. 文光國中舉辦辯論比賽，題目如右列所示。九年甲班的參賽團隊抽到擔任「正方」。下列何者是此參賽團隊可引述的論點？ (A)應尊重契約自由原則讓勞資之間自行訂立工作內容 (B)家務勞動市場化的勞資關係屬公益問題應讓法律介入 (C)家務工通常可領高薪因此納入勞基法有助於縮短貧富差距 (D)看護工或家務工納入勞基法會讓雇主的家庭落入不利的處境。

【辯論題目】  
我國《勞動基準法》適用對象是否納入看護工或家務工？



- ( ) 43. 為規定勞動條件最低標準，保障勞工權益，加強勞雇關係，促進社會與經濟發展，特制定本法；本法未規定者，適用其他法律之規定。上文中的「本法」應是下列何者？ (A)《民法》 (B)《刑法》 (C)《勞動基準法》 (D)《性別工作平等法》。
- ( ) 44. 國際綠色和平組織過去曾發布《失控的生魚片戰爭》報告書及三部影片，呼籲過度捕撈與非法作業已嚴重破壞海洋生態，造成海洋資源枯竭。各界應重視海洋資源保育、永續經營的理念。上述國際綠色和平組織的作法，有助於發揮國際組織的何種功能？ (A)維護國際安全與和平 (B)協助經濟發展 (C)保障基本人權 (D)推動環境保育。
- ( ) 45. 國際組織的種類很多，可分為政府的國際組織與非政府的國際組織兩種。下列關於兩者的比較，何者錯誤？ (A)非政府的國際組織可彌補政府的國際組織之不足與限制 (B)政府的國際組織較非政府的國際組織更具強制力 (C)非政府的國際組織能發揮更為積極與多元的功能 (D)政府的國際組織主要是解決單一國家的政治問題。
- ( ) 46. 下列關於「國際組織——努力方向」的配對，何者正確？ (A)無國界醫生——對遭受戰爭肆虐，缺乏醫療資源地區的民眾，提供醫療協助 (B)世界展望會——致力保護地球環境 (C)歐洲聯盟——提供各國難民庇護與經濟安全 (D)世界貿易組織——維持國際和平及安全。
- ( ) 47. 政府透過國際組織的參與，有助於處理各種國際問題。當各國政府面臨全球普遍性議題時，會透過全球性國際組織，以增進全人類的和平與福祉。下列哪一個組織並非為全球性國際組織？ (A)聯合國(UN) (B)歐洲聯盟(EU) (C)世界衛生組織(WHO) (D)世界貿易組織(WTO)
- ( ) 48. 就讀大學法律系的酷妹在蒐集學期報告參考資料時，在一份聯合國的文件上看到如右圖所示的內容——右圖聯合國發表的此份文件，有助於下列何者的推動？ (A)維護兒童人權 (B)推動環境保育 (C)促進多元文化 (D)維護國際安全與和平。
- ( ) 49. 在瞬息萬變的國際局勢中，可說是「牽一髮而動全身」，國際社會發生任何事情，都可能影響彼此的和平與安全。關於國際社會中的互動情況，下列敘述何者錯誤？ (A)國家是國際社會的重要角色 (B)國際社會的互動多元而頻繁 (C)衍生出交流、合作、援助及衝突等互動型態 (D)國與國間透過結盟或簽訂條約等方式以達到利益共享的目的，稱為國際交流。
- ( ) 50. 亞太經濟合作會議(APEC)是亞洲太平洋地區定期舉行的經濟諮商組織，臺灣與中國都是這個組織的會員。根據上述資料判斷，在國際組織的分類上，該組織應屬於下列何者？ (A)非政府組織 (B)全球性組織 (C)營利組織 (D)區域性組織。

兒童應受到特別保護，並應用健康、正常的方法及自由、尊嚴的狀況下，獲得適當的成長機會。為保障此機會，應以法律及其他手段來訂定。為了達成此目的所制定的法律，必須以兒童的最佳利益為前提做適當的考量。

【第1頁結束 後面尚有試題】



- ( ) 51. 愈來愈多臺灣人認為，在母親節時送媽媽洗衣機、掃地機器人等家電來「幫媽媽的忙」是不合理的。送家電產品的人之所以會認為自己「幫上忙」，正是因為他們認為「家事是媽媽的工作」。根據上文內容判斷，下列描述何者正確？ (A)送家電幫忙媽媽做家事最符合性別平等的觀念 (B)只是重現家務分工不公平的性別刻板印象 (C)爸爸必須外出上班，家務當然由媽媽來完成 (D)買好家電幫媽媽的忙，才能讓家務勞動轉為市場勞動。

- ( ) 52. 某國媒體在西元 2015 年及 2020 年分別進行一次大規模調查，訪問民眾以下議題：「請問你是否贊同已婚婦女有全職工作時，會妨害家庭生活的經營」。調查結果顯示表態「贊同」的看法比例如附表所示。關於此相隔 5 年的調查結果，下列推論何者最適當？ (A)多數已婚婦女不認為家庭生活與全職工作無法兼顧 (B)女性持贊同意見的比例，兩個年度都比男性的比例高 (C)該國大多數民眾認為家務工作仍該由女性來承擔較為適合 (D)男性認為已婚婦女擁有全職工作會妨害家庭生活的比例逐漸增加。

項目 \ 西元	2015	2020
男性	60	50
女性	30	10
全體	45	30

單位：(%)

- ( ) 53. 臺北市政府啟動「聘雇移工家庭安心支持計畫」，帶入移工資源與協助，完善落實照護政策。下列針對移工來臺工作的描述，何者錯誤？ (A)由於全球分工使得移工來臺工作 (B)市政府該舉動提供了移工勞動的需求 (C)移工的工作補足國內勞動力的缺口 (D)移工來臺無法協助家庭的照顧功能。

- ( ) 54. 「亞太防制洗錢組織」(Asia/Pacific Group on Money Laundering, APG)成立於西元 1997 年，旨在確保各會員有效執行有關打擊洗錢犯罪、防制資助恐怖份子及大規模毀滅性武器擴散之國際標準。我國為 APG 創始會員國，並從西元 2011 年起參與 APG 提供其太平洋島國會員及觀察員提升防制洗錢及打擊資助恐怖份子能力之計畫。根據上文內容判斷，下列描述何者正確？ (A)我國是以民間團體的名義加入 (B)組織性質與紅十字會相同 (C)屬於我國的國際參與 (D)加入該組織可促進經貿的發展。

(甲)臺灣的藝術表演團體到歐洲公演與訪問。

(乙)各國政府透過各種方式協調、監督武器管制。

(丙)臺灣世界展望會發起「資助兒童計畫」，援助偏遠國家或地區的飢民和兒童。

(丁)透過跨國司法互助，順利將嫌犯逮捕歸案。

(戊)兩岸三地的大學共同舉辦的漢語教學研討會。

- ( ) 55. 國際社會的互動方式大約可分為四種。右列哪些活動不屬於國際交流的互動型態？(A)甲乙丁(B)甲乙戊(C)乙丙丁(D)乙丁戊。

## 二、題組(第 56-60 題，每題 1 分，共 5 分)

1. 「臺灣世界展望會」每年都會舉辦「飢餓三十」與「愛心麵包」等活動，透過禁食三十小時，讓人們體會飢餓，進而發揮人飢己飢的精神，這樣的活動集合社會人士的愛心與關懷，照顧臺灣與世界上需要幫助的貧童。除此之外，有一群平凡的上班族放棄自己的休閒時間，隨著「世界展望會」下鄉傳講愛與生命，透過生動活潑的遊戲和故事，協助偏遠地區的學童從中探索生命的意義。請回答下列問題：

- ( ) 56. 根據上述內容判斷，「世界展望會」的工作內容與作法，主要發揮了國際組織的何種功能？

(A)維持國際和平 (B)促進經貿發展 (C)改善社會生活 (D)推動環境保育。

- ( ) 57. 「世界展望會」協助偏遠地區的學童，這是希望達到下列何種目的？

(A)國際交流 (B)官方外交 (C)公平正義 (D)社區發展。

2. 建誠與慧琳結婚四年，近日慧琳生下第二個孩子，並且向公司請了半年育嬰假，(甲)每天在家專職照顧新生兒及處理家務，經濟來源主要靠(乙)建誠開早餐店的營業收入，一家四口雖不富裕，但相處和樂相當幸福美滿，慧琳打算在育嬰假期滿後(丙)聘請保母來照顧小孩，她就可以(丁)重返職場工作。

- ( ) 58. 上文中的家庭型態應屬於下列何者？ (A)大家庭 (B)小家庭 (C)折衷家庭 (D)單親家庭。

- ( ) 59. 上文中的(甲)應屬於下列何種勞動的類型？ (A)無酬的家務勞動 (B)有酬的市場勞動 (C)有酬的家務勞動 (D)無酬的市場勞動。

- ( ) 60. 有關上文中所提及的勞動行為，下列組合何者皆屬市場勞動型態？

(A)甲、乙 (B)甲、丙 (C)乙、丁 (D)甲、乙、丙。

【試題結束—文光九年級、公民科】