

澎湖縣立文光國民中學 111 學年度第二學期第三次成績評量七年級國文科試卷

□讀卡 ■答案卷

七年 班 座號： 姓名：

一、注音國字 16 % (每字1分)

1. 「褐」色： 2. 「脊」椎： 3. 「互」古： 4. 「噤」若寒蟬：
5. 尷「尬」： 6. 「鑄」造： 7. 「黔」婁： 8. 大言不「慚」：
9. 酣「尸尤」： 10. 搖「一、」： 11. 味同嚼「力、」： 12. 披荊「出、」棘：
13. 「出、」抖： 14. 範「彳、」： 15. 「、」足不前： 16. 面目「出、」獍：

二、注釋配合題 14% (每格2分)請將適當的詞語代號填入，詞語不重複

- A. 榮利 B. 閑靜 C. 環堵蕭然 D. 短褐穿節 E. 戚戚 F. 汲汲 G. 嶄新 H. 亙古
I. 尷尬 J. 蹭躑 K. 怨天尤人 L. 操之在己 M. 謙抑 N. 遺愛 O. 掙 P. 胸襟

陶曉明是個(1.)少言的年輕人，雖然家中(2.)，但他沒有因此而喪志。成長路上，他從來不(3.)，反而認為命運是(4.)，所以為了能改善家中生活，他努力(5.)錢，並以(6.)的心，在職場上受到長官的提拔，加上自己的努力奮鬥，終於擁有一個(7.)的生活了！

三、成語配合題 10% (每題1分，請填入正確代號)

- A. 遺珠之憾 B. 嶄露頭腳 C. 大相逕庭 D. 暴殄天物 E. 捉襟見肘 F. 蒲柳之姿 G. 義憤填膺
H. 鳥盡弓藏 I. 殺雞儆猴 J. 適得其所 K. 虛懷若谷 L. 車水馬龍 M. 如履薄冰 N. 結草銜環

1. 她從小開始學琴，中學時期已()，在大型音樂比賽中屢獲殊榮。
2. 奶奶告誡我，碗裡的食物不可以浪費，否則()會遭天打雷劈。
3. 他雖是公司的主管，卻能()地接納部屬意見，真是難能可貴。
4. 舊市區顯然沒落了，昔日()的熱鬧景象，已不復存在。
5. 如果能量入為出，自然可避免每到月底就會出現()的窘態。
6. 法官必須嚴懲酒駕肇事的駕駛，以達到()的效果。
7. 對於歹徒殘暴的行徑，每個人都()，咬牙切齒。
8. 承蒙恩人鼎力相助，日後必()，以酬謝您的大恩大德。
9. 自從接受此一重任，我如臨深淵、()，絲毫不敢大意。
10. 有些公司為求降低經營成本，把老職員資遣，真是標準的()。

四、選擇題 50% (每題2分)

- ()1. 下列各項「其」字，何者「不是」用來稱代五柳先生？ (A)不詳「其」姓字 (B)極「其」言 (C)親舊知「其」如此 (D)以樂「其」志。
()2. (甲)不戚戚於貧賤(乙)於心不忍(丙)取之於社會(丁)留蚊於素帳中(戊)祖母之於我家。以上的「於」字，哪幾項意思相同？ (A)甲乙戊 (B)乙丙丁 (C)丙丁戊 (D)甲丙丁。
()3. 下列各選項「」中的詞語，何組意思相同？ (A)他說的話與事實有「出入」／禁止閒雜

【第1頁結束 背面尚有試題】

人等「出入」 (B)他正值「春秋」鼎盛之年／禽流感好發於「春秋」 (C)生教組長體格「結實」／樹上「結實」累累，令人垂涎 (D)暑假到北海道「泡湯」／到知本「泡湯」也不錯。

- () 4. 下列有關五柳先生傳一文的敘述，何者「不正確」？ (A)五柳先生傳一文是陶淵明的自述 (B)作者託名五柳先生是為了自命清高 (C)五柳先生傳一文分「傳」與「贊」兩部分 (D)「晏如也」寫出作者樂天知命的生活情態。
- () 5. 隨著電腦網路搜尋系統的發達，在網路上尋找資料越來越方便，如果你想找陶淵明的詩，除人名外，還可以輸入哪些意象關鍵詞？ (A)悲笳、戎馬、征夫 (B)東籬、菊花、荊扉 (C)詠絮、倚樓、落花 (D)國破、濺淚、驚心。
- () 6. 五柳先生傳一文最後以「無懷氏之民歟！葛天氏之民歟！」作結尾，其用意是什麼？ (A)佩服無懷氏與葛天氏具有民胞物與的胸襟 (B)感傷自己生不逢時，無法遇見無懷氏與葛天氏兩人 (C)暗喻自己逍遙自適，有如上古淳樸社會的人 (D)嘲諷為官者不如無懷氏與葛天氏聖賢。
- () 7. 「那老子彭澤縣懶坐衙，倦將文卷押，數十日不上馬，柴門掩上咱，籬下看黃花，愛的是青山綠水，見一個白衣人來報，來報五柳莊幽靜煞！」(佚名紅錦袍)這首詩句中所歌詠的人物，應為下列何者？ (A)姜太公 (B)陶潛 (C)李白 (D)蘇軾。
- () 8. 「狀聲詞」是模擬自然界聲音的一種詞彙，下列何組全是「狀聲詞」？ (A)飢腸「辘辘」／「嘖嘖」稱奇 (B)「侃侃」而談／「琅琅」上口 (C)「娓娓」道來／「喋喋」不休 (D)「牙牙」學語／「滔滔」不絕。
- () 9. 「牡蠣面臨一個選擇」句中的「選擇」一詞是由「選」和「擇」意思相同的兩個字所組成的「同義複詞」。下列「」中的詞語，何者是同義複詞？ (A)不管你們有什麼「恩怨」，都不應該動手打人 (B)教室裡鴉雀無聲，一點「動靜」也沒有 (C)在馬路上飆速前進「駕駛」是危險的行為 (D)身為晚宴的主辦人，希望大家都能「賓主」盡歡。
- () 10. 下列文句，何者用詞最為簡潔？ (A)雅量是現代每個人和群眾都必須最好具備的美德 (B)現代人經常總是承受生活中許多無窮的壓力 (C)養成了讀書的好習慣，等於就猶如像是擁有一筆珍貴的資產 (D)時時反省改過，才能使明天比今天更好。
- () 11. 下列報導文句，何者主觀判斷的意味最濃厚？ (A)歹徒搶劫未果，繼而持刀殺人，受害者傷重送醫急救 (B)大陸冷氣團今晨報到，淡水氣溫創歷史新低 (C)醫生提出警告，這一波腸病毒可能導致孩童死亡，民眾須有所防範 (D)吳姓嫌犯未能提出不在場證明，殺害死者的應該是他。
- () 12. 牡蠣有容，珍珠乃大一文中，「要知道在大自然之中，挫折是常態而不是例外……人類憑什麼一有挫折便怨天尤人，跟自己過不去呢？」根據這段文字，可推知當你在生活中遇到不順遂的事情時，所採的面對方法與態度，下列何者「不適合」？ (A)不能改變環境，就改變心境 (B)當你學會接受事實，才有能力做出改變 (C)蓄積自己的能量，試圖去改變 (D)蒙住眼睛，不看周遭，生命就不會有痛苦。
- () 13. 「生命像五線譜，有高昂的音符，也有低沉的音符。我們如果只選擇高昂而捨棄低沉，就不能奏出美妙的樂章。」這段話的涵義，與下列何者最接近？ (A)音樂的魅力，來自旋律的高低起伏 (B)人生應致力向上提升，拒絕向下沉淪 (C)音樂使生命更豐富，生命使音樂

【第2頁結束 背面尚有試題】

更美妙 (D)生命的精彩，來自於在得意與失意交錯中成長。

- ()14. 「創業的人都會自然而然地想到上天，而敗家的人卻無時不想到自己。」原因在於什麼？
(A)前者創業維艱，後者守成不易 (B)前者能飲水思源，後者不知感恩惜福 (C)往者不諫，來者可追 (D)順境不足喜，逆境不足憂。
- ()15. 「松鼠對大山說：『若說我扛不了森林，你也撬不開核桃。』」這段話的意思與下列何者最接近？
(A)為了減少摩擦，我們必須努力培養雅量 (B)各有所長，我們不能加以鄙視，也無從加以軒輊 (C)越是真正做過一點事，越是感覺自己的貢獻之渺小 (D)有限生命發揮出無限價值，使我們活得更精彩。
- ()16. 貓的天堂一文文末讓老公貓與安拉貓話別，點出了哪一個重點？
(A)對美食的定義不同 (B)對天堂的認知不同 (C)對街頭的感受不同 (D)對身分的定位不同。
- ()17. 「富足的生活只適合軟弱的貓，自由的貓絕不會為了鮮肉和羽絨軟墊而甘願被囚禁。」關於這段話的解讀，下列何者正確？
(A)精神的富有必凌駕物質的富足 (B)生活上衣食無缺才能得到自由 (C)富足的人最軟弱之處在於自我封閉 (D)性格軟弱將無法獲得富足的生活。
- ()18. 貓的天堂一文中，下列何者「不是」安哥拉貓離開家之後所遇到的挫折？
(A)對母貓獻殷勤卻被其他貓咬傷 (B)沿著溝槽走，腳爪陷在細軟的泥裡 (C)為了吃排骨，被女僕用掃帚打痛背脊 (D)找不到可吃的食物而餓得發慌。
- ()19. 依據貓的天堂一文的文意，老公貓為什麼覺得安哥拉貓生來就不配享受那艱辛的自由？
(A)一出生就肥胖成疾，體弱多病 (B)家庭環境太好，不屑自由生活 (C)生活過度優渥，必定吃不了苦 (D)不懂得分享，注定孤獨一輩子。
- ()20. 根據本文內容，下列何者「不是」新住民在臺灣遇到的問題？
(A)剛到臺灣的外籍新娘常遭受到歧視，被認為是買賣的標的 (B)新住民的母國文化常和臺灣文化有衝突，產生誤會與悲劇 (C)總被要求快速融入臺灣社會，甚至不要被認出是外籍配偶 (D)臺灣社會期待新住民遵守三從四德，要成為丈夫的賢內助。
- ()21. 根據陳鳳凰：越南女兒·臺灣母親一文，陳鳳凰為人妻、為人母後，「不斷學習的一堂課」是什麼？
(A)在不同文化、不同世代，尋找適合彼此的生活方式 (B)努力精進中文，開口說話時不會被認出是外籍新娘 (C)學習三從四德，在家教養子女，使丈夫無後顧之憂 (D)輔助丈夫的事業，並且積極參與子女學校志工團隊。
- ()22. 讀完陳鳳凰：越南女兒·臺灣母親一文，下列何者為作者寫作本文的目的？
(A)分析隔代教養會產生的社會問題，讓國人理解做好生育計畫的重要性 (B)面對不同國籍的新住民，要能尊重多元文化的差異，並思考共存之道 (C)宣導三代同堂的優點，老、中、青共同生活，可縮小不同世代的代溝 (D)肯定臺商配偶對社會的貢獻，因為她們在臺灣母兼父職辛苦教養子女。
- ()23. 林肯說：「你可以為玫瑰長滿刺而抱怨，或為刺上長滿玫瑰花而喜悅。」這句話的涵義與下列何者「不同」？
(A)悲觀的人在每個機會裡都只看到困難，樂觀的人卻能在每個困難裡看見機會 (B)憂鬱是一種習慣，快樂也是一種習慣；要哪一種，是你的選擇 (C)所有事情，在它們經由嘗試而成為簡單的事情之前，都是困難的 (D)無論遇到什麼困難，提醒自己，你可以選擇如何看待它們。

【第3頁結束 背面尚有試題】

- () 24. 愛因斯坦說：「聰明的人絞盡腦汁去解決問題，而有智慧的人則避免產生問題。」這句話的涵義在說明哪一種處理事情的態度較合宜？ (A)集思廣益，問題才能迅速解決 (B)事前未雨綢繆，勝過於事後補救 (C)沒有周詳的計畫，不可貿然行動 (D)信賴專業，依賴專家解決問題。
- () 25. 五柳先生「不戚戚於貧賤，不汲汲於富貴」的態度，最接近下列何者？ (A)子夏：日知其所亡，月無忘其所能 (B)子路：願車、馬、衣、裘，與朋友共，敝之而無憾 (C)子曰：一簞食，一瓢飲，在陋巷，人不堪其憂，回也不改其樂 (D)曾子：吾日三省吾身，為人謀而不忠乎？與朋友交而不信乎？傳不習乎？

五、閱讀測驗 10% (每題 2 分)

有一座龐大的旅館，設備陳舊，管理鬆懈，營業額一落千丈。旅館的所有人聘請一位專家來從事革新和整頓。三個月後，專家對旅館的現況有了透澈的了解，提出一份詳細的計畫，主張把房子拆掉重新建造大樓，現有工作人員一律遣散，重新招考訓練。

旅館所有人無法接受這樣的計畫，聘請另一位專家來擔任經理。這位專家在視察旅館的業務之後，下令換裝所有房間的自來水龍頭。新的龍頭，式樣美麗，操作方便，絕不漏水，旅客在半夜再也聽不到滴漏之聲，可以安享一夜好睡了。

就這樣，新任經理從小處著手，積小為大，終於使旅館的作風煥然一新。旅客們發現，這家旅館的房子雖然陳舊，但是堅固；式樣雖然古老，但是引人。於是近者悅，遠者來。

長於治事的人總是「大處著眼，小處著手」，他們深知「為大於微，圖難於易」。小問題容易解決，從小處著手，遭遇的抵抗力也最小。經過一連串的「小勝」，自己的聲望、別人的信心都建立起來，這時再考慮比較大的興革，就順利得多了。

(王鼎鈞 改造)

- () 1. 文中旅館起死回生的最重要原因為何？ (A)新任經理大刀闊斧，將旅館拆除重建 (B)新任經理由小地方開始改革，重新建立旅客的信心 (C)新任經理將旅館的工作人員全部換新 (D)新任經理採用最新的行銷策略，為旅館打廣告。
- () 2. 本文啟示我們什麼道理？ (A)做事要當機立斷，不要拖泥帶水 (B)良好的人際關係是事業成功的主要原因 (C)真正的專家才能取信於人 (D)想成就大事者須由做好小事開始。

細雨濛濛夜沉沉，梁上君子進我門。
屋內詩書存千卷，床頭金銀無半文。
出門休驚黃尾犬，越牆莫損蘭花盆。
天寒不及披衣送，趁著夜色趕豪門。

(鄭板橋 幽默詩)

- () 3. 由這首詩的內容來看，小偷最後在作者家中偷得什麼東西？ (A)奇花異草 (B)金銀財寶 (C)珍貴書籍 (D)什麼都沒偷到。
- () 4. 在本詩中，哪幾句「不是」作者對小偷所說的話？ (A)第一、二句 (B)第三、四句 (C)第五、六句 (D)第七、八句。
- () 5. 根據本詩的內容，下列哪一個詞語「不適合」用來形容作者？ (A)家徒四壁 (B)藏書眾多 (C)尖酸小氣 (D)性格詼諧。

~~~試題結束~~~

澎湖縣立文光國民中學 111 學年度第二學期第三次成績評量七年級國文科試卷

■答案卷

七年 班 座號： 姓名：

一、注音國字 16 % (每字1分)

|   |    |    |    |    |    |    |    |
|---|----|----|----|----|----|----|----|
| 1 | 2  | 3  | 4  | 5  | 6  | 7  | 8  |
|   |    |    |    |    |    |    |    |
| 9 | 10 | 11 | 12 | 13 | 14 | 15 | 16 |
|   |    |    |    |    |    |    |    |

二、注釋配合題 14% (每格 2 分) (請將適當的詞語代號填入，詞語不重複)

|   |   |   |   |   |   |   |
|---|---|---|---|---|---|---|
| 1 | 2 | 3 | 4 | 5 | 6 | 7 |
|   |   |   |   |   |   |   |

三、成語配合題 10% (每題1分，請填入正確代號，成語不重複)

|   |   |   |   |   |   |   |   |   |    |
|---|---|---|---|---|---|---|---|---|----|
| 1 | 2 | 3 | 4 | 5 | 6 | 7 | 8 | 9 | 10 |
|   |   |   |   |   |   |   |   |   |    |

四、選擇題 50% (每題2分)

|    |    |    |    |    |    |    |    |    |    |
|----|----|----|----|----|----|----|----|----|----|
| 1  | 2  | 3  | 4  | 5  | 6  | 7  | 8  | 9  | 10 |
|    |    |    |    |    |    |    |    |    |    |
| 11 | 12 | 13 | 14 | 15 | 16 | 17 | 18 | 19 | 20 |
|    |    |    |    |    |    |    |    |    |    |
| 21 | 22 | 23 | 24 | 25 |    |    |    |    |    |
|    |    |    |    |    |    |    |    |    |    |

五、閱讀測驗 10% (每題2分)

|   |   |   |   |   |
|---|---|---|---|---|
| 1 | 2 | 3 | 4 | 5 |
|   |   |   |   |   |

作答完畢，請詳細檢查！

澎湖縣立文光國民中學111學年度第二學期第3次成績評量七年級英語科試卷 **題目卷**

【題目卷共5頁，答案請寫在作答卷上】


一、聽力測驗：(每題2分，共10分)

★辨識句意：每題均有三張圖片，請依據所聽到的句子，選出符合描述的圖片。

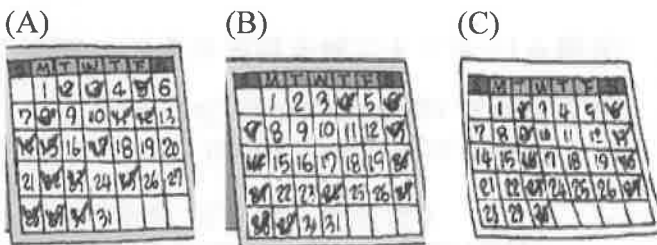
1.



2.



3.



★言談理解：每題均有三個選項，請依據所聽到的對話與問題，選出一個最適當的答案。

4. (A) He was a rich businessman ten years ago.  
(B) He was a student ten years ago.  
(C) He works for Willie at a toy factory.
5. (A) He was Amy's classmate.  
(B) He doesn't like to exercise.  
(C) He is short and thin.

二、對話與完成句子：(每題2分，共8分)

1. ( ) A: You were not in the classroom this morning.  
B: \_\_\_\_\_  
(A) I am at home.  
(B) Where were you?  
(C) We are in the classroom.  
(D) I was in a basketball game.

七年 \_\_\_ 班 座號：\_\_\_ 姓名：\_\_\_\_\_

2. ( ) My brother is good at basketball. \_\_\_\_\_  
(A) He likes everything but sports.  
(B) This sport is too difficult for him.  
(C) He was on the school team before.  
(D) I play baseball with him every weekend.
3. ( ) It was warm and sunny this morning, but \_\_\_\_\_.  
(A) it was hot last night  
(B) it is always warm here  
(C) it is cold and rainy now  
(D) it was still cloudy in the evening
4. ( ) Maggie: How often do you clean the bathroom?  
Tony: \_\_\_\_\_  
Maggie: Yuck. That's terrible.  
(A) I don't like my toilet.  
(B) I clean it three times a day.  
(C) In fact, I clean it once a year.  
(D) I always clean it at six in the morning.

三、文意字彙：(每題2分，共20分)

1. A: What's the a\_\_\_\_\_r to question(問題) three?  
B: Sorry, I don't know.
2. Jack always uses his cellphone in the dark (暗處). He needs to c\_\_\_\_\_e his bad habit.
3. Kenny is a worker (工人) in the car f\_\_\_\_\_y. He works from 9 a.m. to 6 p.m. every day.
4. My grandfather and father are both f\_\_\_\_\_n. They work at sea (海) to catch (抓) fish.
5. Grace doesn't live(住) here. She is a v\_\_\_\_\_r from the USA.
6. A: It's going to rain.  
B: How do you know that?  
A: Don't you see those black c\_\_\_\_\_ds?
7. Joe, look at your dirty room; there's trash everywhere (到處). Please c\_\_\_\_\_n it right now.
8. Don't b\_\_\_\_\_e the woman. Her story isn't true. She's lying (說謊).
9. We live (住) on a busy s\_\_\_\_\_t. There are a lot of cars and people every day.
10. Today is your birthday. Let's eat out, and you can choose your favorite r\_\_\_\_\_t. It's on me.

四、填充：(每題 1 分，共 6 分)

\*填入正確的次數：

1. May : How often do you go shopping (購物) ?  
Ken : \_\_\_\_\_ a month. It's my favorite time of the month.

2. Jeff : How often do you take out the trash?  
Amy : \_\_\_\_\_ a week. I take it out on Tuesdays and Fridays.

3. Ivy : How often do you brush your teeth?  
Jill : \_\_\_\_\_ a day, after breakfast, after lunch, and after dinner.

\*填入正確的疑問詞：

4. Tina : \_\_\_\_\_ do you take out the trash?  
Carl : Four times a week.

5. A : \_\_\_\_\_ was the weather like in Kaohsiung yesterday?  
B : It was rainy.

6. A : \_\_\_\_\_ does spring start in Taiwan?  
B : In April.

五、依提示作答：(每題 2 分，共 12 分)

- Does Dora usually break the class rules?  
(以 never 先簡答，再詳答)
- He is a junior high school student now.  
(將 now 改成 twelve years ago 並改寫句子)
- Alex 一天查看他的手機二十八次。(中翻英)
- 臺灣夏天的天氣通常很熱。(中翻英)
- 去年冬天這裡下很多雪。(中翻英)
- Joe 上周末不在台灣。他去美國旅行。  
(中翻英)

六、克漏字選擇：(每題 2 分，共 26 分)

1.

Welcome to KS Talent School! The 1-1. is the weekly schedule. As you can see, we have many different classes. You can join our sports teams or learn languages here. There are 1-2. too many people in our basketball classes. But don't worry because we have a basketball class every day. For swimming, make sure you have free time 1-3. if you want to join the class. We also have Japanese and Korean classes. Check out our website for 1-4. classes at [www.kstalent.com.tw](http://www.kstalent.com.tw).

|        | Mon.       | Tue.       | Wed.       | Thur.      | Fri.       |
|--------|------------|------------|------------|------------|------------|
| 16:00~ | Swimming   | Basketball | Swimming   | Basketball | Swimming   |
| 18:00  | Basketball | Badminton  | Basketball | Badminton  | Basketball |
| 19:00~ | Japanese 1 | Japanese 2 | Guitar     | Japanese 1 | Japanese 2 |
| 21:00  | Korean 1   | Korean 2   | Art        | Korean 1   | Korean 2   |

talent 才藝 weekly schedule 一週行程表 language 語言 because 因為 swim 游泳 if 如果 website 網站

- ( ) 1-1. (A) free (B) first  
(C) last (D) following
- ( ) 1-2. (A) always (B) never  
(C) seldom (D) three times
- ( ) 1-3. (A) one week three days  
(B) three days a week  
(C) once three days  
(D) three a week
- ( ) 1-4. (A) clean (B) rich (C) more  
(D) dirty

2.

Ada : The weather is so strange. It was so hot today, but it's only January!

Dad : You're right. 2-1. is not so cold these years.

Ada : 2-2. when you were little?

Dad : 2-3. many trees around us. We never needed air conditioners in summer.

Ada : Yeah, trees cool down the temperature.

Now in big cities we have many buildings but no trees.

Dad : There are many factories, so the air is very dirty now.

Ada : Teachers at my school said it's not just about temperature. We have a lot of 2-4. in a very short period of time more often, and that causes more floods around the world.

Dad : Right, years later there will be only two seasons—winter and summer.

strange 奇怪的 air conditioner 冷氣機 period 一段時間 cause 造成 temperature 溫度 so 所以 flood 水災

- ( ) 2-1. (A) Spring (B) Summer  
(C) Autumn (D) Winter
- ( ) 2-2. (A) How often do you grow trees  
(B) What was the weather like  
(C) What do you do  
(D) How old were you
- ( ) 2-3. (A) there have (B) There had  
(C) There was (D) There were
- ( ) 2-4. (A) clouds (B) wind  
(C) rain (D) snow

3.

### Steve's Smartphone Use

|           | Friday            | Saturday          | Sunday            |
|-----------|-------------------|-------------------|-------------------|
| Morning   | check e-mails     | play video games  | take pictures     |
| Afternoon | surf the Internet | surf the Internet | play video games  |
| Evening   | play video games  | play video games  | surf the Internet |
| Night     | watch videos      | watch videos      | watch videos      |

Steve is a quiet person. He doesn't like to go out, 3-1. He doesn't like change, either. Because of that, he 3-2. does the same things every Friday to Sunday. First, he 3-3. on Fridays. He doesn't have to worry about them after that. Then he watches videos, plays video games, and surfs the Internet on all three days. He does the second activity twice 3-4. Steve likes his life, so he is 3-5. going to change it.

e-mail 電子郵件 surf the Internet 上網 because of 由於 be going to 將

- ( ) 3-1. (A) so he doesn't have many friends in his life  
 (B) but he seldom uses his smartphone on the weekends  
 (C) and he doesn't like to do the same things again and again  
 (D) because he never stays at home on Saturdays and Sundays
- ( ) 3-2. (A) never (B) always  
 (C) seldom (D) sometimes
- ( ) 3-3. (A) won't take any pictures  
 (B) seldom looks at pictures  
 (C) doesn't check his e-mails  
 (D) usually checks his e-mails
- ( ) 3-4. (A) on weekends  
 (B) on Saturdays  
 (C) on Saturday mornings  
 (D) on Sundays
- ( ) 3-5. (A) often (B) usually  
 (C) always (D) never

七、閱讀測驗：(每題 2 分，共 18 分)

1.

**Welcome to South City**

Want to have fun at night?  
 Want to try some special food?  
 Let's go to the night market!

**In South City, you can go to a night market from 17:00~01:00 EVERY DAY.**

|              | Mon. | Tue. | Wed. | Thur. | Fri. | Sat. | Sun. |
|--------------|------|------|------|-------|------|------|------|
| Night Market | Da   | Da   | Wu   | Hua   | Da   | Wu   | Hua  |

**Da = Dadong Night Market**  
**Wu = Wushen Night Market**  
**Hua = Huayuan Night Market**

In a night market, you can:

- \* play fun games
- \* have yummy food
- \* buy cool stuff
- \* have a great time with your family and friends

**What are you waiting for?**  
**Put on your slippers and go to a night market!**

try 嘗試 stuff 東西 put on 穿上 slipper 拖鞋

- ( ) 1-1. Sandy is visiting South City on Thursday. She wants to go to a night market in the evening. Which night market can she go to?
- (A) She can't visit any night markets on that day.  
 (B) Dadong Night Market.  
 (C) Wushen Night Market.  
 (D) Huayuan Night Market.

( ) 1-2.

Dan : I'm hungry.  
 Joy : Do you want some banana cake?  
 Dan : Sure. Thanks! Hmm... it's yummy!  
 Joy : My mom sells banana cakes in Dadong Night Market.  
 Dan : Really? Great! I can go there to buy more.  
 How often does Joy's mom work?

sell 賣

- (A) One day a week.  
 (B) Two days a week.  
 (C) Three days a week.  
 (D) She works every day.



( ) 1-3. Which is NOT true about the poster?

poster 海報

- (A) People can play games at a night market.
- (B) People can wear slippers to a night market. wear 穿
- (C) People can go to Wushen Night Market twice a week.
- (D) People can go to a night market at one o'clock in the afternoon.

2.

Maggie : The earthquake was scary last night. Where were you last night during the earthquake?

Susan : I was on a bus. I didn't feel it at all.

Lisa : Really? You didn't know there was an earthquake?

Susan : I fell asleep on the bus. I was so tired after my basketball practice. And you, Maggie?

Maggie : I was at home watching TV. My brother and I jumped up from the sofa and rushed to the refrigerator.

Susan : Why did you rush to the refrigerator?

Maggie : If the house fell and I was trapped, I could eat the food in the refrigerator.

Lisa : It's not safe to hide next to it. It might fall on you.

Maggie : I didn't know that. Thank you for telling me that.

Susan : What about you, Lisa? Where were you during the earthquake?

Lisa : I was taking a shower in the bathroom.

Susan : Was everything OK?

Lisa : I put on my bathrobe quickly and came out to hide under the table.

Maggie : I'm so happy that no one was hurt. We should always be calm when an earthquake hits.

Susan : That's true.

earthquake 地震 during 在……期間

rush 衝去 refrigerator 冰箱 rap 困住

bathrobe 浴袍 hide 躲藏 calm 冷靜的

hurt 使受傷 hit 襲擊

( ) 2-1. What are the names of the girls from picture 1 to picture 3?



- (A) Maggie→Susan→Lisa.
- (B) Maggie→Lisa→Susan.
- (C) Lisa→Maggie→Susan.
- (D) Susan→Lisa→Maggie.

( ) 2-2. Why shouldn't we hide next to a refrigerator during an earthquake?

- (A) The refrigerator might fall on us.
- (B) The refrigerator might have no food in it.
- (C) The refrigerator is too small.
- (D) There isn't enough food in the refrigerator for two people.


( ) 2-3. What can we learn from the reading?

- (A) Always prepare enough food in the refrigerator.
- (B) Bring a bathrobe before you take a shower.
- (C) Know some dos and don'ts when an earthquake hit.
- (D) Never fall asleep on a bus.

3.

Before your trip to Sydney, always ask one question—what's the weather like there? There's one tip that you can keep in mind. Because Sydney is in the southern hemisphere, the seasons are the opposite of the north. Here's a guide that can help you plan your trip.

From December to February, which are the summer months in Sydney, it is sunny and warm with water temperature at about 21-23°C. It is a perfect time to enjoy Sydney's beaches and water sports activities. Then it's autumn, when it could be a little cool at night with the temperature below 15°C. Be sure to bring a jacket when you go for a walk along the beach. June to August are the coldest months in Sydney. However, it usually rains but seldom snows in winter. Just because the days are shorter doesn't mean there is less fun. At the Light Show, the biggest event in winter, you can watch the light dances between the sky and Sydney Opera House at night! When it's spring, days are warmer and dryer, getting people ready for the summer fun again.

 tip 訣竅 southern hemisphere 南半球  
 temperature 溫度 below 低於  
 bring 帶來 jacket 夾克






( ) 3-1. In Sydney, what's the weather like in January?

- (A) It's cool and rainy.
- (B) It's cold and snowy.
- (C) It's warm and sunny.
- (D) It's cloudy and windy.

( ) 3-2. What does "opposite" mean?

- (A) Careful. (B) Different.
- (C) Magic. (D) Dirty.

( ) 3-3. Here is how the weather is for the next week. Which season is Sydney in right now?

|         | Mon.<br>6/15                                                                              | Tue.<br>6/16                                                                             | Wed.<br>6/17                                                                             | Thur.<br>6/18                                                                             | Fri.<br>6/19                                                                              |
|---------|-------------------------------------------------------------------------------------------|------------------------------------------------------------------------------------------|------------------------------------------------------------------------------------------|-------------------------------------------------------------------------------------------|-------------------------------------------------------------------------------------------|
| Weather | <br>11°C | <br>9°C | <br>8°C | <br>11°C | <br>13°C |

- (A) Winter.
- (B) Autumn.
- (C) Summer.
- (D) Spring.

【本份試卷到此結束，請仔細作答並將答案填寫在作答卷上】

澎湖縣立文光國民中學111學年度第二學期第3次成績評量七年級英語科試卷 **作答卷**

七年 \_\_ 班 座號：\_\_ 姓名：\_\_

一、聽力測驗：(每題 2 分，共 10 分)

|   |   |   |   |   |
|---|---|---|---|---|
| 1 | 2 | 3 | 4 | 5 |
|---|---|---|---|---|

二、對話與完成句子：(每題 2 分，共 8 分)

|   |    |   |    |
|---|----|---|----|
| 1 | 2. | 3 | 4. |
|---|----|---|----|

三、文意字彙測驗：(每題 2 分，共 20 分)

|   |   |    |    |    |
|---|---|----|----|----|
| 1 | 2 | 3. | 4. | 5. |
| 6 | 7 | 8  | 9  | 10 |

四、填充：(每題 1 分，共 6 分)

|    |    |    |
|----|----|----|
| 1. | 2. | 3. |
| 4. | 5. | 6. |

五、依提示作答：(每題 2 分，共 12 分)

|   |
|---|
| 1 |
| 2 |
| 3 |
| 4 |
| 5 |
| 6 |

六、克漏字選擇：(每題 2 分，共 26 分)

|      |      |      |      |      |      |      |      |
|------|------|------|------|------|------|------|------|
| 1-1. | 1-2. | 1-3. | 1-4. | 2-1. | 2-2. | 2-3. | 2-4. |
| 3-1. | 3-2. | 3-3. | 3-4. | 3-5. |      |      |      |

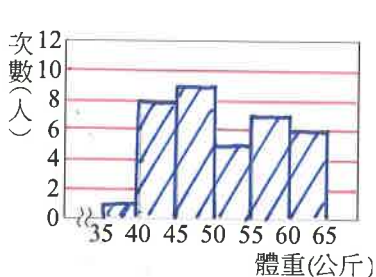
七、閱讀測驗：(每題 2 分，共 24 分)

|      |      |      |      |      |      |      |      |      |
|------|------|------|------|------|------|------|------|------|
| 1-1. | 1-2. | 1-3. | 2-1. | 2-2. | 2-3. | 3-1. | 3-2. | 3-3. |
|------|------|------|------|------|------|------|------|------|

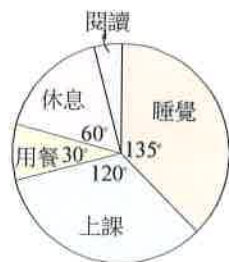
澎湖縣立文光國民中學 111 學年度第 2 學期第三次段考七年級數學科試題卷

一、 選擇題(每題 4 分, 共 60 分)

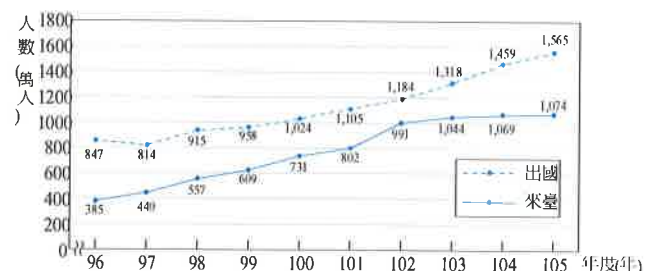
- 某次段考中，阿志的數學考了 90 分，宜華考了  $a$  分。已知宜華的分數不比阿志高，則下列哪一個不等式合乎題意？(A)  $a > 90$  (B)  $a < 90$  (C)  $a \geq 90$  (D)  $a \leq 90$ 。
- 如果  $a > b$ ，那麼下列哪一個敘述是錯的？(A)  $a + 3 > b + 3$  (B)  $a + (-3) > b + (-3)$  (C)  $3a > 3b$  (D)  $-3a > -3b$ 。
- 若  $a > b$ ，則下列選項何者正確？(A)  $a - b > 0$  (B)  $a - 3 < b - 3$  (C)  $\frac{a}{2} < \frac{b}{2}$  (D)  $-a > -b$ 。
- 若  $(a, b)$  在第二象限且  $ax \geq b$  時，下列哪一個選項正確？(A)  $x \geq \frac{b}{a}$  (B)  $x \leq \frac{b}{a}$  (C)  $x \geq -ab$  (D)  $x \leq -\frac{b}{a}$ 。
- 設  $a, b$  都是負數，且滿足  $a = \frac{3}{2}b$ ，那麼下列哪一個選項是正確的？(A)  $\frac{3}{2}b > b$  (B)  $a < b$  (C)  $a = b$  (D)  $a > b$ 。
- 下列各敘述中，哪一個符合不等式  $x \geq 3$ ？(A)  $x$  大於 3 (B)  $x$  超過 3 (C)  $x$  不大於 3 (D)  $x$  不小於 3。
- 雪山隧道全長約為 13 公里，有一輛車以每小時 70 到 90 公里的速度通過該隧道，下列何者可能是該車通過的時間？(A) 3 分鐘 (B) 9 分鐘 (C) 12 分鐘 (D) 15 分鐘。
- 七年甲班學生共 36 人，其體重的次數分配直方圖如下圖一，則體重小於 55 公斤的人數有幾人？(A) 9 人 (B) 14 人 (C) 18 人 (D) 23 人
- 下圖二為小巴一天中的作息時間分配圓形圖，那麼小巴的閱讀時間為多少分鐘？(A) 15 分鐘 (B) 48 分鐘 (C) 60 分鐘 (D) 105 分鐘。
- 呈上題，那麼小巴的用餐時間為多少分鐘？(A) 30 分鐘 (B) 60 分鐘 (C) 120 分鐘 (D) 135 分鐘。
- 下圖三為 96 年到 105 年來臺旅客及國民出國人數變化，試問哪一年出國和來臺人數差距最小？(A) 96 年 (B) 98 年 (C) 102 年 (D) 105 年。
- 呈上題，哪一年出國和來臺人數差距最大？(A) 96 年 (B) 98 年 (C) 102 年 (D) 105 年。



圖一



圖二

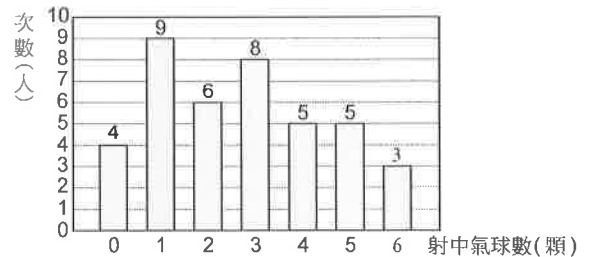


圖三

13. 某籃球隊隊員共16人，每人投籃6次，且下表為其投進球數的次數分配表。若此隊投進球數的中位數是2.5球，則眾數為何？(A) 2球 (B) 3球 (C) 4球 (D) 8球

|         |   |   |     |     |   |   |   |
|---------|---|---|-----|-----|---|---|---|
| 投進球數(球) | 0 | 1 | 2   | 3   | 4 | 5 | 6 |
| 次數(人)   | 2 | 2 | $a$ | $b$ | 3 | 2 | 1 |

14. 有一攤射氣球的老闆統計了某一天來遊玩的顧客一回合射中氣球的次數，每一回合有六隻飛鏢，射中氣球數量統計後繪製成長條圖如右圖；請問射中氣球數量的平均數為何？(A) 2.5顆 (B) 2.7顆 (C) 3顆 (D) 3.5顆。



15. 呈上題，射中氣球數量的眾數為多少？(A) 9顆 (B) 1顆 (C) 8顆 (D) 3顆。

## 二、應用題(共 40 分)

1、在數線上圖示下列各不等式的解：(12%)

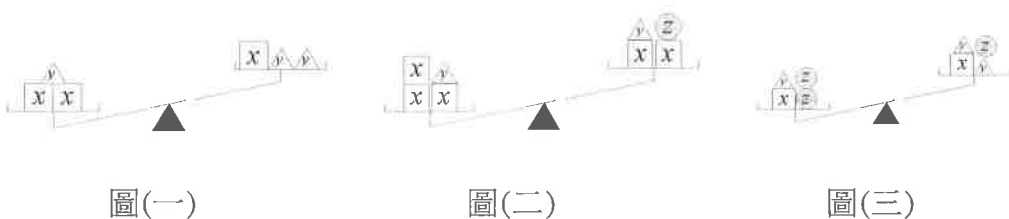
- (1)  $x \geq -3$       (2)  $x \leq -\frac{3}{2}$       (3)  $-2 < x < 0$       (4)  $-3 \leq x < 3$



2、解下列各一元一次不等式：(16%)

- (1)  $-3x+1 < 10$       (2)  $9-2x \leq 3(x-7)$       (3)  $1.2x+6 > 1.8(x+2)$       (4)  $1 + \frac{2x-3}{5} \leq \frac{x+3}{3}$

3、下圖是將積木放在等臂天平上的三種情形。若一個方體、錐體、球體的積木重量分別以  $x$ 、 $y$ 、 $z$  表示，則  $x$ 、 $y$ 、 $z$  的大小關係為何？(4%)



圖(一)

圖(二)

圖(三)

4、下表為阿貢公司所有人的月薪薪資分布，試問：(8%)

|        |     |     |     |     |     |     |     |      |
|--------|-----|-----|-----|-----|-----|-----|-----|------|
| 月薪(萬元) | 2~3 | 3~4 | 4~5 | 5~6 | 6~7 | 7~8 | 8~9 | 9~10 |
| 次數(人)  | 8   | 15  | 24  | 16  | 10  | 4   | 0   | 3    |

- (1) 根據此表求該公司月薪的平均數。  
 (3) 該公司月薪的中位數在哪一組？

澎湖縣立文光國民中學 111 學年度第 2 學期第三次段考七年級數學科答案卷

七年\_\_\_\_\_班座號\_\_\_\_\_姓名\_\_\_\_\_得分\_\_\_\_\_

一、 選擇題 60%

|    |    |    |    |    |    |    |    |    |    |     |     |     |     |     |     |
|----|----|----|----|----|----|----|----|----|----|-----|-----|-----|-----|-----|-----|
| 題號 | 1. | 2. | 3. | 4. | 5. | 6. | 7. | 8. | 9. | 10. | 11. | 12. | 13. | 14. | 15. |
| 答案 |    |    |    |    |    |    |    |    |    |     |     |     |     |     |     |

二、 應用題 40%

1、在數線上圖示下列各不等式的解：(12%)

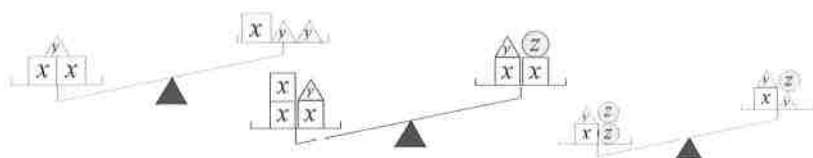
(1)  $x \geq -3$                       (2)  $x \leq -\frac{3}{2}$                       (3)  $-2 < x < 0$                       (4)  $-3 \leq x < 3$



2、解下列各一元一次不等式：(16%)

(1)  $-3x+1 < 10$                       (2)  $9-2x \leq 3(x-7)$                       (3)  $1.2x+6 > 1.8(x+2)$                       (4)  $1 + \frac{2x-3}{5} \leq \frac{x+3}{3}$

3、下圖是將積木放在等臂天平上的三種情形。若一個方體、錐體、球體的積木重量分別以  $x$ 、 $y$ 、 $z$  表示，則  $x$ 、 $y$ 、 $z$  的大小關係為何？(4%)



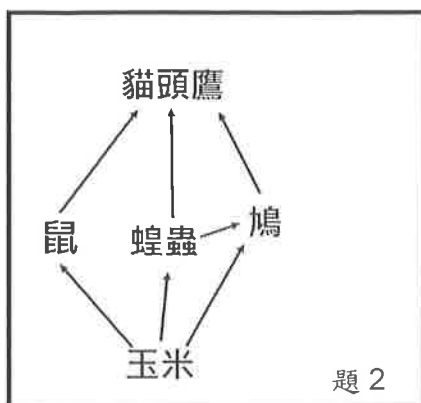
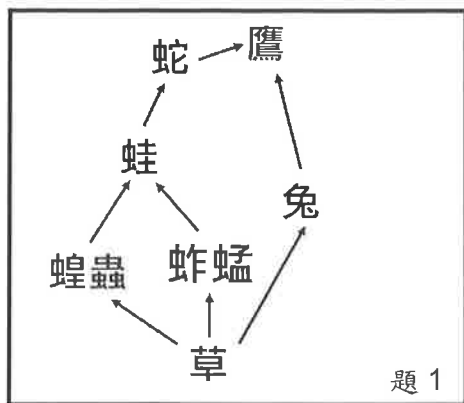
圖(一)                      圖(二)                      圖(三)

4、下表為阿貢公司所有人的月薪薪資分布，試問：

|        |     |     |     |     |     |     |     |      |
|--------|-----|-----|-----|-----|-----|-----|-----|------|
| 月薪(萬元) | 2~3 | 3~4 | 4~5 | 5~6 | 6~7 | 7~8 | 8~9 | 9~10 |
| 次數(人)  | 8   | 15  | 24  | 16  | 10  | 4   | 0   | 3    |

- 請根據此表求該公司月薪的平均數為何?(4%)
- 該公司月薪的中位數在哪一組？(4%)

- ( ) 01. 下圖為某生態系的食物網，若當地受到重金屬汙染，則下列哪種生物，何者體內的重金屬累積量可能最多？(A)蝗蟲 (B)草 (C)蛙 (D)鷹。

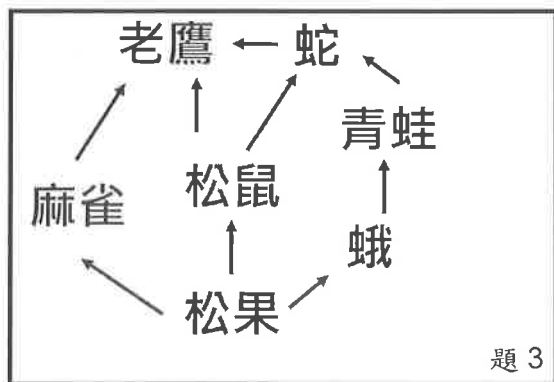


- ( ) 02. 有關上圖食物網的敘述，下列何者正確？

(A)貓頭鷹只扮演次級消費者的角色 (B)玉米→蝗蟲→鼠為其中一條食物鏈  
(C)玉米為消費者 (D)蝗蟲為初級消費者。

- ( ) 03. 附圖為某地區的食物網，下列關於此食物網中生物交互關係的敘述，何者正確？

(A)青蛙和麻雀—競爭 (B)老鷹和松果—共生 (C)蛾和松鼠—寄生 (D)老鷹和蛇—掠食。



※目前環保署提倡資源使用 5R 原則，分別是減量、拒絕、重複使用、回收、再生。請回答下列問題：

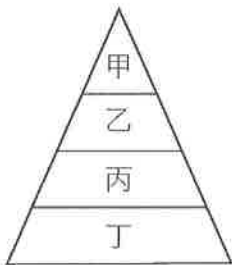
- ( ) 04. 阿康媽媽每次去菜市場買菜回來都會帶回大量的塑膠袋，他會將這些較乾淨的塑膠袋收集起來當作垃圾袋或包裝其他物品，請問媽媽這樣的行為符合 5R 原則的哪一項？  
(A)重複使用 (B)減量 (C)拒絕 (D)回收。
- ( ) 05. 阿康去購買運動服裝，發現服裝原料標示為再生聚脂纖維，是由廢棄寶特瓶的原料重新製成。阿康決定購買來支持環保。請問這款運動服裝的製造符合 5R 原則的哪一項？  
(A)減量 (B)再生 (C)拒絕 (D)重複使用。
- ( ) 06. 在海洋生態系中，下列哪一區域的物種最為豐富？  
(A)大洋區的透光水域 (B)淺海區 (C)大洋區的無陽光水域 (D)深海的海床。
- ( ) 07. 下列何項研究是以群集為單位？  
(A)臺灣高山田鼠密度的調查 (B)黑面琵鷺棲地監控  
(C)淡水紅樹林內各種生物的調查 (D)臺灣梅花鹿的復育。
- ( ) 08. 優養化發生時，將不會發生下列何種現象？  
(A)水底下植物無法行光合作用 (B)藻類過度繁殖 (C)水中溶氧量大增 (D)魚、蝦大量死亡。
- ( ) 09. 下列何者不是應在日常生活中落實的環保觀念？  
(A)使用太陽能發電 (B)搭乘大眾運輸系統 (C)使用免洗餐具 (D)使用碳足跡較小的產品。

- ( ) 10. 下列何種情形可稱為演替？  
(A)宜蘭 松羅溪中的苦花魚數量逐漸增加 (B)經常打網球，使手臂肌肉變結實  
(C)馬的前肢由四趾變為單趾 (D)年紀越大，記憶力越不好。
- ( ) 11. 請問下列何者是生產者？(A)松鼠 (B)藍綠菌 (C)靈芝 (D)大冠鷲。
- ( ) 12. 若將危害生物多樣性的五個因素英文字首組起，恰好與英文「河馬 HIPPO」相同，請問【棲地破壞】的英文字首是哪個字母？(A)O (B)H (C)P (D)I。
- ( ) 13. 地球上生物所消耗的能量絕大部分來自於何處？(A)水分 (B)太陽 (C)土地 (D)空氣。
- ( ) 14. 下列有關「外來生物引入」的敘述，何者錯誤？  
(A)外來生物可能經由船隻捕撈漁獲時引入  
(B)進行生物防治時也有可能造成外來生物的引入  
(C)引入外來生物並不會影響生態系中原有生物的交互作用。  
(D)外來生物有可能使當地物種減損。
- ( ) 15. 大氣中的碳元素是藉由下列哪一種方式被植物利用？  
(A)光合作用 (B)燃燒化石燃料 (C)呼吸作用 (D)微生物分解。
- ( ) 16. 試問下列對「寄生」的敘述，何者錯誤？  
(A)寄生的生物可由被寄生的生物身上獲得利益  
(B)在寄生關係中，被寄生的生物是受害的一方  
(C)鳥巢蕨附生於其他樹木上，所以兩者為寄生的關係  
(D)臺灣獼猴身上有蝨子吸取其血液，所以兩者為寄生的關係。
- ( ) 17. 河口生態系中有水筆仔、彈塗魚、招潮蟹和白鷺鷥等不同的生物族群；試問上述情形屬於生物多樣性的哪一個層次？  
(A)物種多樣性 (B)遺傳多樣性 (C)生態系多樣性 (D)以上都不是。
- ( ) 18. 海水深度多少公尺以上屬於大洋區？ (A)100 (B)150 (C)200 (D)300。
- ( ) 19. 對於生物多樣性的敘述，下列何者正確？  
(A)生態系中，單一種的生物數量越多，代表生物多樣性越高  
(B)生態系中所存在的生物種類是固定不變的  
(C)生態系中，生物多樣性越高就越不穩定  
(D)地球上不同的環境中存在著各式各樣、形形色色的生物，稱為生物多樣性。
- ( ) 20. 大雄在報紙上看到「華盛頓公約」這個名詞，然後上網去查了相關的資料，請問大雄查到「華盛頓公約」的目的應該為何？  
(A)保護溼地 (B)管制野生動植物的交易 (C)保育熱帶雨林的野生植物 (D)減少碳的排放量。
- ( ) 21. 關於生物圈中生物的分布，下列敘述何者錯誤？  
(A)海溝裡沒有任何生物 (B)陸地上有植物及動物 (C)空氣中有細菌 (D)極地裡有生物生存。
- ( ) 22. 「螳螂捕蟬，黃雀在後」，這表示生物間的何種關係？  
(A)掠食 (B)寄生 (C)共生 (D)競爭。
- ( ) 23. 當族群變大時，可能有哪些現象同時發生？  
甲. 出生率提高；乙. 死亡率提高；丙. 遷入率提高；丁. 遷出率提高。  
(A)甲乙 (B)丙丁 (C)乙丁 (D)甲丙。
- ( ) 24. 下列哪一項人類活動不會破壞生態環境？  
(A)過度漁撈 (B)物種保存 (C)道路開發 (D)港口擴建。
- ( ) 25. 若以海平面為零，垂直以上為「+」，垂直以下為「-」，則目前所知生物圈的範圍是在多少公尺之間？(A)±100,000 (B)±10,000 (C)±1000 (D)±100。



- ( ) 26. 將種植單一樹種的人工林與原始林相比較，下列敘述何者正確？  
 (A)人工林的生產者種類較少 (B)人工林的食物網較複雜  
 (C)原始林環境單純，故生物多樣性較低 (D)人工林中之生態系較為穩定。
- ( ) 27. 西元 1950 年代，有人引進「小花蔓澤蘭」這種植物來綠化環境，今日這種植物已經在臺灣中南部地區造成許多原生植物死亡，甚至危害農作物，因此有「綠色癌症」之稱。關於此現象，下列敘述何者正確？  
 (A)這是天擇的結果，應讓其自然演化  
 (B)應引入小花蔓澤蘭的天敵，以控制此植物的繁衍  
 (C)外來種植物可增加本地的生物種類  
 (D)不當引入外來生物，破壞了原本的生態平衡。
- ( ) 28. 目前許多環境保護團體鼓勵民眾使用再生紙，是為避免何種資源的浪費？  
 (A)化石燃料 (B)水 (C)糧食 (D)森林。
- ( ) 29. 試問下列何者不是保育野生生物的目的？  
 (A)維護生物多樣性 (B)維持食物網的複雜度 (C)滿足人類的口腹之慾 (D)維持生態系的平衡。
- ( ) 30. 蚜蟲會分泌蜜液給螞蟻食用，而螞蟻會幫助蚜蟲抵禦瓢蟲的攻擊。試問螞蟻和瓢蟲的關係為何？  
 (A)捕食 (B)寄生 (C)競爭 (D)共生。
- ( ) 31. 在我們的周遭環境中充滿了細菌和黴菌，試問細菌與黴菌在生態系中扮演什麼角色？  
 (A)生產者 (B)消費者 (C)分解者 (D)以上皆非。
- ( ) 32. 若人類大量使用化石燃料，會造成下述哪些現象？  
 甲.造成空氣汙染；乙.使大氣中的二氧化碳濃度增加；丙.使溫室效應加劇；丁.形成酸雨。  
 (A)甲乙丙丁 (B)只有甲丁 (C)只有乙丙 (D)只有乙丙丁。
- ( ) 33. 一些有機菜園常利用瓢蟲或螳螂等肉食性昆蟲，來捕食危害農作物的昆蟲，這種防治害蟲的方法稱為什麼？(A)化學防治 (B)生物防治 (C)有機防治 (D)物理防治。
- ( ) 34. 請問陸域生態系分為沙漠、草原、森林的主要依據為何？  
 (A)溫度 (B)緯度 (C)地形 (D)年雨量。
- ( ) 35. 草原生態系中的生產者主要是下列何者？  
 (A)質地柔軟的草本植物 (B)隨水流移動的浮游藻類 (C)葉演化為針狀的仙人掌 (D)大型的樹木。
- ( ) 36. 有關生態保育的目的，下列何者錯誤？  
 (A)保存野生物種的遺傳基因，使其永續生存  
 (B)維持生物多樣性  
 (C)大量繁殖瀕臨絕種的生物作為寵物  
 (D)保育生態環境亦是保障人類未來的生存環境。
- ( ) 37. 政府希望經由一些政策來改善我們的環境，試問經由什麼政策可以減低人類對於自然環境的破壞？  
 (A)資源回收再利用 (B)大量使用化石燃料 (C)多使用免洗餐具 (D)耕作時，多施肥及噴灑農藥。
- ( ) 38. 下列哪一項活動最可能達到使民眾體會自然之美，以體會自然保育的重要性？  
 (A)百貨公司週年慶 (B)國家公園生態導覽 (C)美食展 (D)溫泉飯店泡湯卷低價促銷。
- 二、題組題。全部 8 題。每題 3 分。共 24 分
- ( ) 39. 某一地區的食物網中，甲為三級消費者、乙為次級消費者、丙為初級消費者、丁為生產者，若該地區遭受重金屬汙染，則各生物體內重金屬含量多寡的關係為何？  
 (A)甲 = 乙 = 丙 = 丁 (B)甲 > 乙 > 丙 > 丁 (C)丁 > 甲 = 乙 = 丙 (D)丙 > 乙 > 甲 > 丁。
- ( ) 40. 請問捉放法不適合用在估計下列哪一種生物的數量？  
 (A)魚池中的石斑魚 (B)草地上的天人菊 (C)森林中的猴子 (D)紫蝶谷的紫斑蝶。

- ( ) 41. 下列有關生物圈的敘述，何者錯誤？
- (A) 生物圈包含了低層大氣與部分地表及水域  
 (B) 生物圈為生物能夠生存的空間  
 (C) 生物圈的範圍是永遠不會變動的  
 (D) 生物圈的垂直上下範圍共約二萬公尺。
- ( ) 42. 有關溪流生態系的敘述，下列何者正確？
- (A) 下游水流較急，所以含氧量較低  
 (B) 生產者包含紅樹林植物  
 (C) 消費者包含鳥類和魚類  
 (D) 常自成一個獨立的生態系，不與其他水體相連。
- ( ) 43. 小明看到一片荒地從滿布雜草慢慢長成一片矮樹叢，五年後發現這裡已經變成一片小樹林，請問此稱為何種現象？(A) 演替 (B) 演化 (C) 代謝 (D) 遺傳。
- ( ) 44. 下列何者不是應在日常生活中落實的環保觀念？
- (A) 搭乘大眾運輸系統  
 (B) 以個人餐具取代免洗餐具  
 (C) 砍伐森林，以木材取代所有房屋建材  
 (D) 物品回收再利用以減少自然資源的消耗。
- ( ) 45. 小智要估算森林中兔子的數目，他先捉了 40 隻兔子，綁上項圈後再放回森林；一週後再度設置陷阱捕捉，共捉到 45 隻兔子，而其中有 2 隻帶有項圈，請問這個森林的兔子大約有多少隻？(A) 80 (B) 180 (C) 225 (D) 900。
- ( ) 46. 若某一陸域生態系食物鏈中，根據生物所含能量多寡的關係繪製而成的能量塔，如下圖所示，則下列敘述何者正確？
- (A) 丁可藉由光合作用自行產生生存所需的能量  
 (B) 乙可能為草食動物  
 (C) 食物鏈為：甲→乙→丙→丁  
 (D) 能量由丙到乙損失約 5/10。



【試題結束—文光、七年級、自然科】

班級：

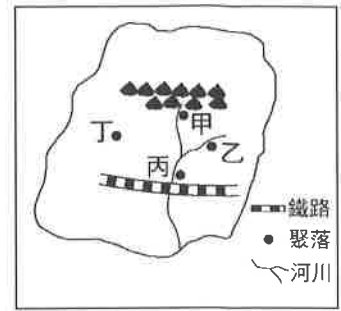
姓名：

座號：

■讀卡 □答案卷

一、單選題(1-18 題每題 2 分，共 36 分)

1. ( ) 右圖是一假想島嶼上四個聚落的位置圖。由圖研判，何者較不易形成都市？ (A)甲 (B)乙 (C)丙 (D)丁。



2. ( ) 民國 41~109 年，臺灣的都市人口數占人口總數的比例由 29% 提升到近 80%，這種變化也呈現出臺灣社會發生下列何種轉變？ (A)社會增加大於自然增加 (B)人口移入率大於移出率 (C)出生人數大於死亡人數 (D)由農業社會轉為工商業社會。

3. ( ) 臺灣區域差異的現象日益擴大，北部區域的擴展速度最快，與下列哪一項條件的關係最密切？ (A)各項服務較完善，吸引工廠及商店集中 (B)農礦資源較豐富，促使工廠及商店集中 (C)開發最早，文化吸引大量學生集中 (D)生活環境品質佳，吸引農村人口進入。

4. ( ) 亞州最新、最大的星夢郵輪—世界夢號，於西元 2019 年首航進入臺灣最大的港灣城市，預估約有 3,000 名外國旅客在此一城市進行消費，帶來約 5,400 萬元觀光產值。請問：文中敘述最有可能是哪一個城市？ (A)基隆市 (B)臺中市 (C)花蓮市 (D)高雄市。

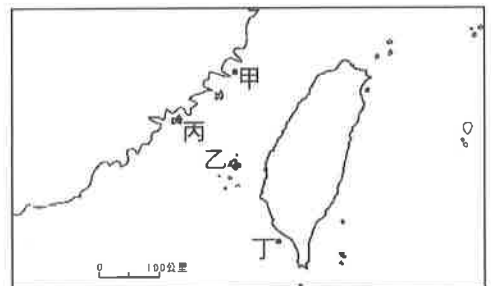
5. ( ) 右表所示是甲、乙、丙、丁四個聚落的人口產業結構資料。請問：何者最可能是鄉村聚落？ (A)甲 (B)乙 (C)丙 (D)丁。

| 產業<br>聚落 | 第一級 | 第二級 | 第三級 |
|----------|-----|-----|-----|
| 甲        | 84% | 7%  | 9%  |
| 乙        | 23% | 40% | 37% |
| 丙        | 9%  | 32% | 59% |
| 丁        | 15% | 50% | 35% |

6. ( ) 根據西元 2020 年臺灣各縣市人口統計資料指出，臺北市過去一年人口減少 42,623 人，是人口減少最多的城市，而桃園市則增加 19,770 人，是人口增加最多的城市。有學者研究指出，此一人口增減現象，有可能是因為臺北市房價過高，許多民眾寧可搬到房價合理且各項津貼補助較臺北市高的桃園市居住。請問：此一人口移動的現象，可以用下列哪一個概念來說明？ (A)都市化 (B)郊區化 (C)高齡化 (D)全球化。

7. ( ) 據行政院主計處公布的民國 109 年家庭收支調查結果顯示，全臺家庭平均可支配所得，臺北市 142 萬元居全臺之冠，其次分別為新竹縣 129 萬(1,294,404)元、新竹市 129 萬(1,294,305)元。請問：新竹市所得收入高的原因主要為何？ (A)發展在地特色轉型觀光 (B)政策吸引青年返鄉務農 (C)高科技產業的進入 (D)重化工業發展基地。

8. ( ) 右圖為臺灣與離島簡圖。品睿到某一地區旅遊，導遊帶著他們參觀了許多傳統的閩南式建築和老舊的洋樓，同時還參觀著名的戰地史蹟；道路邊和屋簷上還常可看到不同造型的風獅爺。請問：品睿最可能到圖中哪一個島嶼旅遊？ (A)甲 (B)乙 (C)丙 (D)丁。



9. ( ) 臺灣的民主制度採取代議政治方式進行，除最低保障名額外，各地依照人口分布與比例，計算該地區的民意代表數量，以負責監督政府單位。右表為西元 2020 年立委選舉中區域立委在六都的席次統計表，請問表格中乙應為何者？ (A)臺北市 (B)新北市 (C)桃園市 (D)高雄市。

| 縣市 | 席次 |
|----|----|
| 甲  | 8  |
| 乙  | 12 |
| 丙  | 6  |
| 丁  | 8  |
| 戊  | 6  |
| 己  | 8  |

10. ( ) 近來政府欲施行「能源稅」政策，引起自行開車通勤的民眾反彈，請問：臺灣哪一個區域因產業發展最為發達、大眾交通運輸最為便捷，上述政策可能造成的影響較其他區域小？

(A)北部區域 (B)中部區域 (C)南部區域 (D)東部區域。

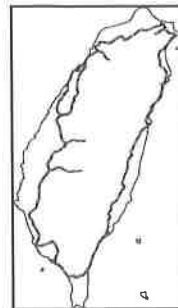
11. ( ) 右表為臺灣四大區域某年平均每戶可支配所得最高與最低的縣市資料，由此可知哪一個區域內的差異最小？ (A)北部 (B)中部 (C)南部 (D)東部。

|    | 最高        | 最低       |
|----|-----------|----------|
| 北部 | 臺北市 162 萬 | 宜蘭縣 93 萬 |
| 中部 | 臺中市 102 萬 | 雲林縣 77 萬 |
| 南部 | 高雄市 110 萬 | 嘉義縣 77 萬 |
| 東部 | 臺東縣 85 萬  | 花蓮縣 83 萬 |

12. ( ) 臺灣目前已興建了中山、福爾摩沙及蔣渭水等高速公路。請問：興建這些高速公路的主要目的為何？  
(A)加強東西部產業移轉 (B)促進東部工商業發展  
(C)提高運輸經濟效益 (D)避免都市和郊區交通阻塞。

13. ( ) 高鐵的運行改變臺灣的區域發展，藉由此便捷快速的交通工具，實現「一日生活圈」的概念。請問：下列有關高鐵路線的相關敘述中，何者正確？ (A)路線遍布全臺各地  
(B)以工業產品運輸為主 (C)縮短東部長程運輸的時間 (D)車站連結西部主要城市。

14. ( ) 右圖為臺灣鐵路分布圖。由圖中路線的分布判斷，下列哪一項敘述正確？  
(A)路線主要沿河川流向興建 (B)路線受地形影響而呈環狀 (C)東部幹線是最早興建的鐵路 (D)圖中由北而南的三條鐵路支線分別為集集線、內灣線、阿里山森林鐵路。

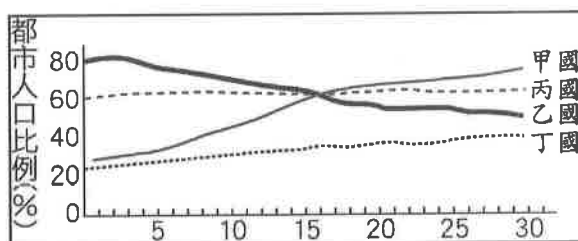


15. ( ) 目前臺灣常見的交通方式有水運、陸運及空運等，以下敘述何者正確？  
(A)臺灣河流流量變化大，利於航運 (B)海運缺點為速度慢，較費時  
(C)國內航空站連接離島和本島交通為主 (D)鐵路較具適應地形的能力。

16. ( ) 「第 29 屆夏季世界大學運動會於西元 2017 年 8 月 19 日至 8 月 30 日在臺北市舉行，賽事期間同步向亞洲、美洲、歐洲等地以 4K UHD 畫質播送開幕、閉幕典禮，讓民眾不管在國內外，都能即時以超高解析度，觀看並享受現場情形！」根據上文描述，判斷下列何者正確？ (A)通訊衛星的發展使資訊傳遞無遠弗屆 (B)通訊衛星已取代運輸系統在交通方面的重要性 (C)資訊科技時代傳播的工具主要控制在政府手中 (D)上文所描述的屬於交通類型中的「運輸」。

17. ( ) 現今都市化的社會，雖然帶來許多便利的生活，但也衍生出許多都市問題，請問下列何者並不是都市化後所造成的社會問題？ (A)來自四面八方的人群使得人際關係疏離  
(B)大量人口遷入導致地價上漲和住宅昂貴 (C)人口過多造成交通擁擠和環境汙染  
(D)科技通訊發達，縮短城鄉發展的差距。

18. ( ) 依下圖判斷，下列哪一個國家三十年來的經濟發展程度最低？  
(A)甲 (B)乙 (C)丙 (D)丁。

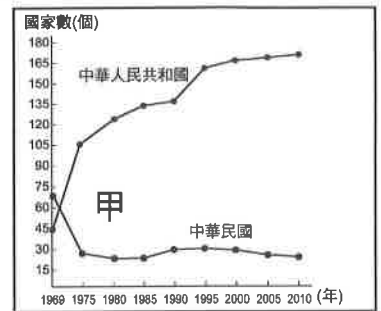


【第 2 頁結束 後面尚有試題】

一、單選題(19-33 題每題 2 分，共 30 分)

19. ( ) 西元 1946 年，日本投降後次年，正在南洋等待遣返回臺的兩位年輕臺灣兵……撈取了好幾百尾的魚苗，放在鐵罐中帶回臺灣，之後換成臺灣的日常用水培育，成為臺灣吳郭魚的始祖。吳郭魚的生命力及繁殖力非常強，人為棄養或逃出養殖池的魚，就在臺灣各地的溪流、溝渠流竄……為打破吳郭魚是低等魚的印象，從種苗、飼養技術到飼料，品質控管產出的優良品種，命名為「臺灣鯛」。請問：上述新聞反映出臺灣何種經濟狀況？  
(A)政府與民間為提振傳統產業，加強扶植農林漁牧等產業發展 (B)為解決國際競爭的增加與工資上揚，政府致力於推動產業轉型 (C)由於加入 WTO 與 APEC 等組織，臺灣種苗、飼養技術獲得成長 (D)外來種吳郭魚氾濫，破壞臺灣地方生態。
20. ( ) 兩岸關係由政治對峙轉變為民間交流，主要是受到下列哪件事情的影響？ (A)韓戰的結束 (B)我國退出聯合國 (C)美國與中華人民共和國建交 (D)我國解除戒嚴。
21. ( ) 臺灣光復後，實施多項土地改革，包括：(甲)三七五減租 (乙)耕者有其田 (丙)公地放領。如果依照推行時間順序排列，下列何者是正確的？ (A)甲丙乙 (B)乙甲丙 (C)丙甲乙 (D)丙乙甲。
22. ( ) 小馬是來自於花蓮縣某個小村落的青年。因長期在家鄉找不到工作，於是昨日參加了縣政府舉辦的座談會，討論如何提振各鄉鎮的傳統產業，以吸引返鄉青年定居工作。請問：下列何者是小馬在座談會中，有可能聽到的政府建議？ (A)推行土地改革 (B)致力產業轉型 (C)實行十大建設 (D)發起社會運動。
23. ( ) 宜蘭縣羅東林業文化園區，前身為日治時期太平山林場。現今設有羅東自然教育中心，並將昔日辦公廳、員工宿舍、運載機具與貯木池等歷史建築登錄為文化資產，假日吸引不少人潮前往參觀遊憩。由上述可知，政府如何解決現今臺灣林業衰微的問題？  
(A)促進製造業產業升級 (B)整合觀光資源 (C)召募高科技人才 (D)擴大農產外銷。
24. ( ) 「民國 67 年 12 月，雲門舞集正在嘉義體育館公演《薪傳》。舞者演出先民渡海、拓荒克服難關的一幕幕場景，激起不少共鳴，觀眾除了起立拍手，也有人因為國家面臨的局勢而淚流滿面，齊聲高呼『中華民國萬歲』。」請問：當時我國面臨什麼情況？  
(A)時值八二三炮戰發生三十週年，民眾感懷國軍保衛金門的英勇表現 (B)美國即將和中華人民共和國建交 (C)中華民國秉持「漢賊不兩立」政策，堅持退出聯合國 (D)李登輝出任中華民國第七任總統。
25. ( ) 目前臺灣唯一加入的政府間區域經貿組織是下列何者？ (A)亞太經濟合作會議 (B)歐洲聯盟 (C)聯合國 (D)東南亞國協。
26. ( ) 某學者想要寫一本《臺灣經濟起飛史》，他安排了如下的章節：(甲)渡過世界經濟不景氣的法寶：十大建設 (乙)吸引外商投資的祕技：加工出口區 (丙)安定農民的貼心政策：耕者有其田 (丁)創造世界第一名：竹科的誕生。請問：按照這些政策實施的時間，應如何安排章節的先後？ (A)甲乙丙丁 (B)甲乙丁丙 (C)乙丙丁甲 (D)丙乙甲丁。
27. ( ) 《聽！我們的童謠》一書由越南、菲律賓、印尼籍作者聯合創作，意在透過繪本分享作者家鄉的童謠，並讓臺灣社會進一步認識新住民的文化與生活背景。請問：此繪本凸顯出臺灣文化發展歷程中的哪一特點？ (A)反共精神昂揚 (B)美國文化風靡 (C)關注鄉土發展 (D)大眾多元文化。
28. ( ) 歷史課時同學在討論二次大戰後我國的外交，他們的對話如下：  
耀文：1950 年代，美國與共產勢力對抗下，積極找東亞地區的盟友。  
永濬：我國在此國際局勢下與美國簽訂條約，成為美國西太平洋反攻防衛體系的一環。  
請問：這應該是指下列哪個條約？ (A)《馬關條約》 (B)《中美共同防禦條約》 (C)《臺灣關係法》 (D)《動員戡亂時期臨時條款》。

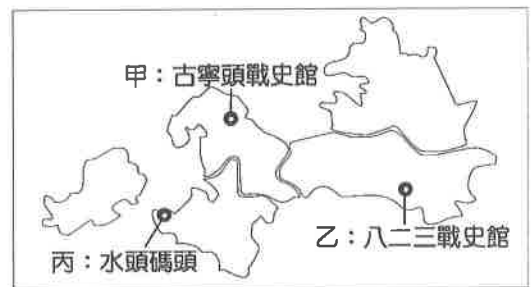
29. ( ) 西元 2019 年是美國總統卡特簽署《臺灣關係法》滿四十週年。自該法案實施後，臺海未見重大衝突，臺灣經濟持續成長，政治亦民主化。請問：《臺灣關係法》的通過，與下列何者最為相關？ (A) 中華人民共和國與美國建交 (B) 國共內戰的爆發 (C) 我國退出聯合國 (D) 大三通全面實施。
30. ( ) 西元 1981 年，中華人民共和國全國人大委員長葉劍英公開發表演說，提出有關和平統一的九條方針，宣稱共產黨和國民黨可對等談判，統一後的臺灣可作為特別自治區，保有自己的軍隊，並可進行通商、通郵、通航、探親等交流。其主張被認為是往後「一國兩制」的前身。請問：葉劍英發表演說的歷史背景為何？ (A) 美國與中華民國斷交不久 (B) 中華民國剛退出聯合國 (C) 八二三炮戰久攻不下金門 (D) 臺灣剛解除戒嚴。
31. ( ) 民國五十年代，政府設立□□，提供完善的投資環境，吸引外商與華僑來臺投資，並給予區內廠商進口原料免稅、簡化手續等優惠，帶動中小企業蓬勃發展，使對外貿易持續成長。□□代表什麼？ (A) 新竹科學園區 (B) 國營企業 (C) 加工出口區 (D) 外貿出口區。
32. ( ) 當「婦女要求兩性平權；環保人士要求反汙染、反核；農民要求更多對等的保障；一般人民要求居住正義；弱勢群體要求公平對待；原住民族要求正名。」再往下個階段前進，我們的社會可能會出現什麼樣最新的權利訴求？ (A) 兒童擁有表達意見的權利 (B) 廢除《戒嚴令》 (C) 支持反攻大陸 (D) 合法組織政黨。
33. ( ) 右圖是中華民國與中華人民共和國邦交國變化曲線表。表中兩條曲線相交的甲，發生了何事？ (A) 我國與美國斷交 (B) 韓戰爆發 (C) 我國退出聯合國 (D) 兩岸開始小三通。



## 二、題組(34-36 題每題 2 分，共 6 分)

(一) 宇豪一家正在規畫到臺灣某縣市出遊的行程，該縣市相連海洋交通要道，又有獨特戰地風光，他們在右圖標註了幾個必訪景點：

34. ( ) 宇豪一家應是前往臺灣哪一個縣市旅遊？ (A) 基隆市 (B) 宜蘭縣 (C) 金門縣 (D) 屏東縣。



35. ( ) 宇豪看地圖中的丙，今為對渡中國東南沿海的港口。請問：丙的規畫和建設應與下列何項政策有關？ (A) 反共文學 (B) 三不政策 (C) 新南向政策 (D) 小三通。
36. ( ) 宇豪到甲、乙兩處聽導覽時，發現在甲、乙發生的戰役結束後，兩岸關係都有轉變。請問：甲、乙可分別代表兩岸關係何種轉變？ (A) 甲：兩岸進入分裂對峙、乙：兩岸不再有軍事衝突 (B) 甲：兩岸不再有軍事衝突、乙：兩岸進入分裂對峙 (C) 甲：兩岸進入分裂對峙、乙：兩岸開啟和平談判 (D) 甲：兩岸關係陷入停頓、乙：兩岸進入軍事緊張時期。

【第 4 頁結束 後面尚有試題】

一、單選題(37-46 題每題 2 分，47-54 題每題 1 分，共 28 分)

37. ( ) 新冠肺炎疫苗施打初期，需透過網路平臺預約，許多長者不會使用網路登記及預約，或是家裡沒有相關設備而造成困擾。因此有地方政府與鄉鎮市公所組成疫苗登記服務團，到各村里協助長者登記及預約施打疫苗。上文呈現何種現象？ (A)性別刻板印象造成社會變遷 (B)社會變遷帶來的不公平現象 (C)社會文化影響社會規範 (D)社會變遷影響科技發展。
38. ( ) 政府為保障國民有適合居住的住宅，對於有居住需求的家庭或個人，應提供適宜的協助。若要達成上述目標，政府最可能採取下列何種措施？ (A)推動長照服務提供長者醫療照護 (B)補貼民眾住宅的貸款利息 (C)推動無歧視與無障礙設施 (D)提供低收入戶、中低收入戶生活補助。
39. ( ) 為了使社會福利措施發揮最大的效益，政府應採取下列何種做法最適當？ (A)改由民間團體全權負責社會福利工作 (B)針對各族群訂定完全相同的福利政策 (C)和民間團體共同合作共構福利社會 (D)呼籲民眾自力救濟，自己才能幫自己。
40. ( ) 新聞報導：「臺灣國際女性影展以影像為教材、以議題為導引，透過女性及性別的影像創作，傳遞尊重差異、包容多元的性別觀念，省思性別刻板印象，尊重不同性別者的權益。」上述主要展現出社會變遷的何種影響？ (A)改善國際移工的職場待遇 (B)改善身障者不公平處境 (C)性別平權觀念的普及 (D)解決貧富差距的問題。
41. ( ) 小芳產後在網路上分享心得，並張貼許多寶寶的照片與朋友分享。相較於早期的母親用紙筆記錄孩子的成長，小芳則是利用電腦記錄育兒經驗，這是屬於社會變遷中哪個面向的改變？ (A)社會制度 (B)器物發明 (C)價值觀念 (D)生活目標。
42. ( ) 「民眾所拿的藥，有 1/4 沒有服用，這種浪費每年約 300 億臺幣。」「過去曾做過藥物回收高達 100 多噸！」「毫無病痛的人，只因方便、便宜，就三不五時前去診所拿取藥物，認為自己繳了保費，不拿白不拿。」從上述說法可看出健保實施後出現的哪一項問題？ (A)保費收費不公，無法縮小貧富差距 (B)政府稅收過低，無法支付健保支出 (C)民眾未建立正確觀念，資源過度浪費 (D)民間力量有限，無法彌補協助範圍。
43. ( ) 「喘息咖啡」是中華民國家庭照顧者關懷總會(簡稱「家總」)對於家庭照顧者的關注，他們發現除了生病的人需要關懷外，往往忽略有照顧者在長期照顧親人下，儘管有他人接手部分時間，卻不知該做什麼或是不知如何休息。因此家總與有意願的店家合作，每年提供照顧者一定額度的「喘息咖啡」，鼓勵困在照顧工作中的照顧者有動力走出來，讓疲憊的身心重新獲得能量，更能得到現實生活需要的資源與協助。「喘息咖啡」的規畫在達成哪一項目的？ (A)可達到維護人性尊嚴及維持生活基本保障 (B)政府整合民間資源以實踐合理的差別待遇 (C)民間彌補社會福利中易忽視的項目與對象 (D)建立民眾正確觀念有助減少社福經費支出。
44. ( ) 為了落實醫藥分級制度與控制健保支出，中央健保局積極向民眾宣導「小病在小診所就診，大病到大醫院就醫」。上述中央健保局所做的教育宣導，用意在於改變下列何者？ (A)物質文明 (B)生活用具 (C)社會制度 (D)價值觀念。
45. ( ) 為了防止流感疫情擴散，政府陸續實施嬰幼兒、國中小學生流感疫苗接種措施。上述政府的作為，符合哪項社會福利政策？ (A)社會救助 (B)福利服務 (C)健康與醫療照護 (D)社會保險。
46. ( ) 美國亞特蘭大槍擊案造成 8 人喪命，其中有 6 名亞裔女性。此案引發在美亞裔人士的恐慌及憤怒，擔憂自身成為目標。根據「停止仇恨亞裔和太平洋島居民」組織報告指出，過去一年間，全美發生近四千起針對亞裔人士的仇恨攻擊事件，以言語騷擾為大宗，其他包含刻意忽略、人身攻擊等。上文探討何種因素造成的不公平現象？ (A)性別觀念 (B)族群身分 (C)社會制度 (D)民主精神。

47. ( ) 西元 1833 年，英國制定《工廠法》，禁止嚴苛的兒童勞動——
1. 未滿九歲的小孩禁止勞動。
  2. 未滿十三歲的小孩，一週的勞動時間上限為四十八小時。
  3. 未滿十八歲的小孩，一週的勞動時間上限為六十九小時。
- 上述《工廠法》的制定是想達到什麼目的？ (A)善用民間互助形式救濟貧困 (B)政府將保障弱勢權益制度化 (C)制訂提升所有成員福祉的政策 (D)團體與個人可共享社會資源。
48. ( ) 協助低收入戶維持基本生活的需求是屬於哪項社會福利政策？ (A)社會保險 (B)社會救助 (C)福利服務 (D)健康與醫療照護。
49. ( ) 空氣汙染日益嚴重，有民眾上街頭抗議，希望政府重視環境議題，政府因此修改法規要求民眾定期進行車輛排氣檢驗。上述情形屬於何種層次間的變遷？ (A)理念帶動器物 (B)制度帶動理念 (C)理念帶動制度 (D)器物帶動理念。
50. ( ) 社會福利政策的制訂能解決社會問題，改善弱勢群體的生活處境、保障全民權益。下列措施與其欲解決之社會問題的配對，何者正確？ (A)蓋安養院→解決少子化現象 (B)社區營造→解決老人問題 (C)職業訓練→解決失業問題 (D)無障礙空間→解決犯罪問題。
51. ( ) 內政部推動「社會住宅包租代管計畫」，期盼有效利用空屋資源、活化閒置住宅，讓有閒置房產的屋主增加收入，獲得政府修繕、減稅等補助；並幫助需要租屋、居住空間的民眾。針對上述計畫的敘述，下列何者正確？ (A)個人努力推動社會改革 (B)民間團體督促政府行動 (C)企業出租廠辦協助弱勢 (D)政府政策促進公平正義。
52. ( ) 有關我國福利政策的目標，何者敘述正確？ (A)社會救助——滿足人民因各方面差異而產生的需求 (B)社會保險——保障人民在面臨各種風險時獲得給付 (C)就業安全——協助人民滿足基本生活需求 (D)福利服務——保障勞動者工作權利。
53. ( ) 近年來，政府在各地成立職業訓練中心，目的是要讓失業者學習第二專長，擁有再次就業的機會。上述做法應屬於哪項社會福利政策？ (A)社會救助 (B)福利服務 (C)就業安全 (D)社會保險。
54. ( ) 小豪的媽媽今年 40 歲，目前沒有工作，選擇待在家裡當家庭主婦，她每天處理各種家務，還是忙得團團轉，覺得時間不太夠用。小豪的媽媽應適用下列哪一種社會保險？ (A)勞工保險 (B)農民保險 (C)國民年金保險 (D)公教人員保險。

【七年級社會科試題 結束】