

澎湖縣立文光國民中學 112 學年度第一學期第一次成績評量七年級國文科試卷

□讀卡 ■答案卷

七年 班 座號： 姓名：

一、注音國字 16 % (每字1分)

1. 「鶴」雀： 2. 「倏」忽： 3. 「比」肩： 4. 熱鐵「烙」膚： 5. 「尉」遲恭：
6. 泥「滓」： 7. 靜「悄」悄： 8. 「擰」開： 9. 雕「出又丂ノ」： 10. 隔「厂乚ノ」：
11. 「勺丂ノ」來品： 12. 可見一「勺ノ」： 13. 坐以待「勺一ノ」：
14. 按部就「勺ノ」： 15. 「丁一ノ」著臉： 16. 情有獨「出又ノ」：

二、注釋 14% (1-2題，每題1分；3-8題，每題2分)

1. 依山「盡」： 2. 山巒：
3. 斑雜： 4. 倏忽：
5. 「歷歷」如繪： 6. 氣派儼然：
7. 熱鐵烙膚：

三、成語配合題 10% (每題1分，請填入正確代號)

A. 當仁不讓 B. 既往不咎 C. 孑然一身 D. 披星戴月 E. 道聽塗說 F. 鏡花水月 G. 春花秋月
H. 錙銖必較 I. 夜闌人靜 J. 付之一炬 K. 目光如炬 L. 通宵達旦 M. 巧言令色 N. 躍然紙上

1. 爸爸為了家計，()，終日奔波，十分辛苦。
2. 他是一個()的人，對於所有事情總是計較萬分，逐漸地朋友都疏遠他了。
3. 為了這次段考，小花()的苦讀，希望能考得好成績！
4. 在這場大火中，公司廠房都()，也折損了四名消防員，令人不勝唏噓！
5. 一個人的理想可以遠大，但如果不努力以赴，那也只是()，淪為幻想罷了！
6. 謠言止於智者，像這種()，不經證實的話，為何要相信呢？
7. 這個畫家擅長畫馬，筆鋒過處，一匹駿馬便()。
8. 他是個()的人，對長官極盡阿諛奉承之能事，只希望快快升官。
9. 小杰工作積極認真，對於公司業務他一向是()，從不推拖。
10. 過去的恩怨，我們就此()，從今以後依然是好朋友。

四、選擇題 50% (每題2分)

- () 1. 有關夏夜一詩的敘述，以下何者正確？
(A)詩中描寫夜風和小河，讓人有溫馨的感覺 (B)詩中所提到的「珍珠」代表月亮，「銀幣」代表星星，呈現富麗之感 (C)點出黑夜已經來臨的是「當街燈亮起來向村莊道過晚安」
(D)「來了！來了！從山坡上輕輕地爬下來了！」表現出看到流星的驚喜
- () 2. 「水田是鏡子／照映著藍天／照映著白雪／照映著青山／照映著綠樹 農夫在插秧／插在綠樹上／插在青山上／插在白雲上／插在藍天上」(詹冰 插秧)關於本詩，下者何者敘述正確？
(A)本詩主旨在展現農夫的無所不能 (B)運用類疊、排比的手法，來增加詩的變化性

【第 1 頁結束 背面尚有試題】

- (C)「水田是鏡子」是運用擬人修辭 (D)本詩風格平鋪直敘，沒有新鮮感
- () 3. 關於「新詩」基本常識的敘述，以下何者正確？
 (A)又名「白話詩」、「現代詩」、「近體詩」 (B)有固定形式與格律 (C)書寫自由，句數、字數不拘 (D)新詩強調聲韻之美，故押韻是必要的
- () 4. 「雪白的頭髮」中的「雪」字，詞性同於下列「 」中何字？
 (A)滾「火」輪子 (B)「火」紅太陽 (C)放一把「火」 (D)紅的像「火」
- () 5. 夏夜作者在詩中提及只有「南瓜、小河、夜風、螢火蟲」都「還醒著」，其主要目的是想藉此來凸顯夏夜的：
 (A)寧靜與生機 (B)悶熱難眠 (C)溫暖又親切 (D)神祕詭異
- () 6. 有關夏夜的作法分析，何者正確？
 (A)透過成人的眼睛和口吻來敘寫 (B)以擬人手法描寫夏夜鄉間的景致 (C)採用順敘法，由中午而黃昏而夜晚 (D)利用人在夏夜中的各種活動貫串全詩
- () 7. 尼莫要寫絕句選的作業，多莉自告奮勇跑來幫忙，請問多莉對文句的說明何者正確？
 (A)「白日依山盡，黃河入海流」是指眼前景象，皆為作者親身感受 (B)「故人西辭黃鶴樓，煙花三月下揚州」是說作者本身告別友人到揚州去 (C)「姑蘇城外寒山寺，夜半鐘聲到客船」因為夜半鐘聲突然響起，所以導致作者失眠 (D)「欲窮千里目，更上一層樓」勉人要百尺竿頭，更進一步
- () 8. 「倒裝法」經常出現在古文或詩句中，將語詞順序顛倒的作法。下列哪一詩句經倒裝後，意思便與原句不同？
 (A)黃河入海流—黃河流入海 (B)江楓漁火對愁眠—愁對江楓漁火眠 (C)欲窮千里目—目欲窮千里 (D)月落烏啼霜滿天—滿月烏啼天霜落
- () 9. 「借代法」是指不直接說出所要表達的人事物的本來名稱，而借用原事物的局部特徵代替整體，或用與它有密切關係的事物來代替。例如：「孤帆遠影碧山盡」句中的「帆」借代為船，下列各句「 」中的詞語所借代的對象說明，何者不正確？
 (A)孔子遊乎緇帷之林，休坐乎「杏壇」之上：醫學界 (B)何以解憂，唯有「杜康」：酒類 (C)紅顏棄「軒冕」，白首臥松雲：達官顯貴 (D)開筵面場圃，把酒話「桑麻」：農作物
- () 10. 海賊王一行人路經文學詩句島。島上藏有豐富的寶藏。魯夫看到一些詩句，請你幫他把提示的詩句，依照春夏秋冬的季節排出正確的順序，讓魯夫得到寶藏：
 (甲)千里黃雲白日曛，北風吹雁雪紛紛 (唐 高適 別董大其一)
 (乙)接天蓮葉無窮碧，映日荷花別樣紅 (宋 楊萬里 曉出淨慈寺送林子方)
 (丙)月落烏啼霜滿天，江楓漁火對愁眠 (唐 張繼 楓橋夜泊)
 (丁)沾衣欲溼杏花雨，吹面不寒楊柳風 (宋 僧志南 絕句)
 (A)甲乙丙丁 (B)丁甲乙丙 (C)丁乙甲丙 (D)丁乙丙甲
- () 11. 鄭花甲繳交有關唐代詩人的研究報告，但是不小心把某位詩人的資料弄錯誤了，你可以幫他找出來嗎？
 (A)王之渙，盛唐詩人，擅寫邊塞風光 (B)王維，詩多描寫山水田園，世稱「詩佛」 (C)李白，號青蓮居士，詩作豪放，自然率真，世稱「詩仙」 (D)杜甫，社會寫實詩人代表，其詩具有「感傷」的色彩

【第2頁結束 背面尚有試題】

- () 12. 老師講完課後要針對「絕句」的格律進行有獎徵答，請問下列哪一位同學的回答有誤，無法拿到禮物？
 (A) 圓佑：每首四句，其字數為二十字或二十八字 (B) 淨漢：押韻有一定的限制，第二、四句一定要押韻 (C) 順榮：古音聲調分為平、上、去、入四聲 (D) 勝寬：絕句對於平仄並無嚴格限制
- () 13. 洛夫的詩：「去吧！提起你的酒壺／挾起你的詩冊，詩冊中的清風和明月／邊走邊飲去遊你的三江五湖／去黃河左岸洗筆／右岸磨劍／讓筆鋒與劍氣／去刻一部輝煌的盛唐」請問這首詩描寫的是哪一位人物？
 (A) 杜甫 (B) 孟浩然 (C) 李白 (D) 張繼
- () 14. 「對仗」是指上下兩個詩句的字數相等、平仄相反、語法結構相似。絕句可以對仗，也可以不對仗，本課絕句選三首絕句中，下列何者是對仗的句子？
 (A) 白日依山盡，黃河入海流 (B) 故人西辭黃鶴樓，煙花三月下揚州 (C) 孤帆遠影碧山盡，唯見長江天際流 (D) 姑蘇城外寒山寺，夜半鐘聲到客船
- () 15. 下列各項出自紙船印象的句子，何者不是在描寫紙船？
 (A) 因雨勢而定，或急或緩，或大或小 (B) 花色斑雜者，形態怪異者，氣派儼然者 (C) 或列隊而出，或千里單騎，或比肩齊步，或互相追逐 (D) 或者乾脆是曹操的戰艦——首尾相連
- () 16. 大雄今年已經到了志學之年；同班的靜香則正值二八年華；小夫今年剛過而立之年卻尚未成親；胖虎打算過兩天慶祝花甲之年的生日；哆啦A夢利用時光機讓自己回到始龕之年。以上五人依年齡大小由大到小排列，何者正確？
 (A) 小夫、胖虎、大雄、靜香、哆啦A夢 (B) 胖虎、小夫、靜香、大雄、哆啦A夢 (C) 哆啦A夢、胖虎、小夫、靜香、大雄 (D) 胖虎、小夫、靜香、哆啦A夢、大雄
- () 17. 紙船印象文句的文意分析，下列何者有誤？
 (A) 「在童年的無三尺浪的簷下水道航行」：寫無憂無慮的童年歲月 (B) 「禁得住風雨的船」：指可以承受挫折與苦難的人生 (C) 「那雨一下就是十天半月」：傳達對母親綿長的愛與思念 (D) 「不致愧對紙船了」：表示不致辜負母親的愛心
- () 18. 紙船印象文中提到「只盼望自己能以母親的心情，為子女摺出一艘艘未必漂亮但卻堅強的、禁得住風雨的船，如此，便不致愧對紙船了。」句中「禁得住風雨」意謂作者希望他的子女成長以後能夠如何？
 (A) 記得祖母的辛勞 (B) 承受生活的挫折和磨鍊 (C) 懂得知錯能改，善莫大焉 (D) 發揮己長，進一步光宗耀祖
- () 19. 洪醒夫的母親即使為農事操煩，仍心平氣和地為孩子折出漂亮紙船，她的心情與下列哪一位長輩的心情相同？
 (A) 胡適的媽媽教導他，要做個和他父親一樣完美的人 (B) 宋太祖教導女兒不可用鳥羽製衣，否則將帶頭殺生 (C) 佐賀阿嬤即使貧窮，仍給孫子添了滿滿的一碗飯 (D) 琦君的母親先責備女兒出言不遜，再安慰表姑
- () 20. 在紙船印象文中，作者運用許多譬喻句來描寫一生所遭遇過的事。以下花家成員的解釋何者正確？

(A)花爸：有些像飛鳥掠過天邊——一輩子也無法忘記發生過的事 (B)花媽：夏日的小河、冬天的落葉——微小平凡的事，卻有不凡意義 (C)橘子：有些是熱鐵烙膚——事情一過即逝，完全沒有印象 (D)柚子：有些是過眼雲煙，倏忽即逝——表示記憶像雲霧一樣，久久不散

- () 21. 「象徵」是以具體的意象表達出抽象的意念或情感。下列各項所表現出的「象徵」意義何者錯誤？
- (A)紙船印象：「為子女摺出一艘艘未必漂亮但卻堅強的、禁得住風雨的船」，其中「風雨」象徵惡劣的天氣 (B)紙船印象：「如此，便不致愧對紙船了」，其中「紙船」象徵母愛 (C)紙船印象：「它們大都出自母親的巧思和那雙粗糙不堪、結著厚繭的手」，其中「粗糙長繭的手」象徵母親為家人的辛勞 (D)李白 黃鶴樓送孟浩然之廣陵：「孤帆遠影碧山盡，唯見長江天際流」，其中「長江」象徵綿綿不盡的離愁
- () 22. 紙船印象中由記敘（眷戀紙船）轉為抒情（懷念母愛）的轉折處，應是下列哪一文句？
- (A)一旦思想起，便歷歷如繪 (B)我們所得到的，是真正的快樂 (C)紙船是其中之一 (D)這些紙船都是有感情的
- () 23. 「桂花紛紛落下來，落得我們滿頭滿身，我就喊：『啊！真像下雨，好香的雨啊！』」下列的敘述，何者有誤？
- (A)寫出桂花繽紛飄落的美，呼應主題 (B)描寫作者如願以償的歡欣、興奮之情 (C)描寫桂花被雨打落散發花香的景象 (D)可見作者有豐富想象力與率真性情
- () 24. 請根據下列各句之文意，判斷下列何者的節日配對正確？
- (A)每個人跑到河邊，等著放水燈——元宵節 (B)今天全家人一起到山上去掃墓——清明節 (C)欣賞著天空的一輪明月，我們一起吃著月光餅——端午節 (D)划完龍舟，大家就可以吃粽子和喝雄黃酒了——中元節
- () 25. 席慕蓉：「鄉愁是一棵沒有年輪的樹／永不老去」這句話有何含義？
- (A)鄉愁不因歲月增長而消逝 (B)鄉愁給人的印象是模糊的 (C)鄉愁能讓人保有年輕心態 (D)愁會讓人忘卻年華老去

五、閱讀測驗 10% (每題2分)

花與果實 楊 喚

花是無聲的音樂，／果實是最動人的書籍，／當它們在春天演奏，秋天出版，／我的日子被時計的齒輪／給無情地嚙咬，絞傷；／庭中便飛散著我的心的碎片，／階下就響起我的一片嘆息。

- () 1. 「我的日子被時計的齒輪／給無情地嚙咬。」此句使用的修辭法是屬於下列何者？
- (A)擬人 (B)排比 (C)誇飾 (D)映襯
- () 2. 讀完本詩，可知作者為何而嘆息？
- (A)花朵凋謝 (B)感情不順 (C)果實不甜 (D)時光流逝

渭城曲 王 維

渭城朝雨浥輕塵，客舍青青柳色新。勸君更盡一杯酒，西出陽關無故人。

註：①朝雨：早晨的雨。 ②浥：潤溼。 ③客舍：旅店。 ④更：再。

- () 3. 詩中描寫的時間為何？ (A)春天傍晚 (B)秋天黃昏 (C)春天早晨 (D)夏天上午
- () 4. 詩中描寫何種情境？ (A)迎友 (B)送別 (C)出遊 (D)賞雨
- () 5. 這首詩帶有何種情意？ (A)興奮 (B)忿恨 (C)感傷 (D)慶賀

【第4頁結束】~~~試題結束~~

澎湖縣立文光國民中學 112 學年度第一學期第一次成績評量七年級國文科試卷

■ 答案卷

七年 班 座號： 姓名：

一、注音國字 16 % (每字1分)

1	2	3	4	5	6	7	8
9	10	11	12	13	14	15	16

二、注釋 14% (每題 2 分)

1. 依山「盡」：	2. 山巒：
3. 斑雜：	4. 倏忽彌補：
5. 「歷歷」如繪：	6. 氣派儼然：
7. 熱鐵烙膚：	

三、成語配合題 10% (每題1分，請填入正確代號)

1	2	3	4	5	6	7	8	9	10

四、選擇題 50% (每題2分)

1	2	3	4	5	6	7	8	9	10
11	12	13	14	15	16	17	18	19	20
21	22	23	24	25					

五、閱讀測驗 10% (每題2分)

1	2	3	4	5

作答完畢，請詳細檢查！

教師評語：

- 深入切題，符合文旨。
- 修辭優美，詞彙豐富。
- 用詞恰當，深具巧思。
- 文筆流暢，情節生動。
- 論點圓融，首尾呼應。
- 段落分明，標點清晰。
- 字跡端正，版面整潔。

- 敘述詳盡，內容豐富。
- 論點圓融，首尾呼應。
- 取材得當，引人入勝。
- 內容尚佳，取材不足。
- 虎頭蛇尾，文末終篇。
- 文雖切題，未能深入。
- 詞句冗贅，文詞反覆。

- 行文尚佳，分段欠當。
- 佈局平穩，內容貧乏。
- 平鋪直敘，不夠生動。
- 字體潦草，標點不清。
- 錯字連篇，用詞欠妥。
- 文不對題，篇幅雜亂。
- 體裁誤用，違反規則。

其他評語及評分：

澎湖縣文光國中 112 學年度第一學期第一次段考七年級英文科試卷

班級 座號 姓名

一、聽力測驗：言談理解—根據聽到的對話內容與問題，選出正確的答案(每題 2 分；共 10 分)

- () 1. (A) Mike.
(B) Lorry.
(C) James
- () 2. (A) A tall girl.
(B) A theme park.
(C) A famous place.
- () 3. (A) The boy is short.
(B) His mother is short.
(C) His father and mother are tall.
- () 4. (A) He's from Japan.
(B) He's Alex's friend.
(C) He's Mary's friend.
- () 5. (A) Emma.
(B) The man.
(C) The man's brother.

二、字彙填空：請寫出完整的單字(每題 2 分；共 20 分)

1. My father isn't happy. He's very a y now.
2. Nancy: What is your f e animal? Tina: Cats.
3. You get ninety-five p ts. You are the winner tonight.
4. Mrs. Wang and Mrs. Lau are h es. They don't go to work.
5. The f t is very big. The trees here are very tall.
6. Mike: See you t w. Dean: Good-bye.
7. Walt Disney World is a w l place for all.
8. The park is a good p e for running.
9. A: Who is that b l girl? Is she your classmate? B: Yes, she is good-looking. (好看的)
10. These good books are from a f s writer (作家).

三、文法選擇：(每題 2 分；共 32 分)

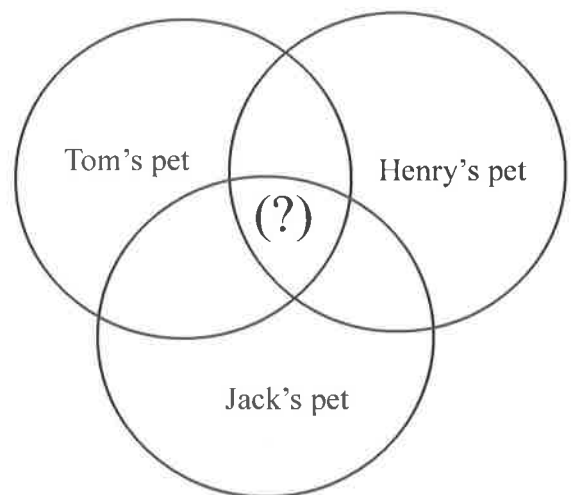
- () 1. Miss White is the teacher.
(A) girl (B) girls (C) girl's (D) girls's
- () 2. The boy is my friend. This card is from .
(A) he (B) him (C) his (D) he's
- () 3. Angie: Are the women young? Kevin:
(A) No, she isn't. (B) Yes, they are.
(C) No, they're young women. (D) Yes, she's a young woman.
- () 4. Rick: What's this? Linda: orange.
(A) It's (B) They're (C) That's (D) An

- () 5. Jenny _____ happy, but her sisters _____.
(A)is; isn't (B)isn't; is (C)are; isn't (D)is; aren't
- () 6. _____ are in the film room.
(A)I and Sue (B) Ted and I (C)Amy (D)Ken
- () 7. The pen is green. It _____ black. (A)aren't (B)isn't (C)not (D)no
- () 8. Linda: Who is Sakura? Sam: _____
(A)She's Sakura. (B)She's very short. (C)She is my teacher. (D)She is from Taiwan
- () 9. A: Is _____? B: No, he isn't.
(A)the clerk smart (B) smart a clerk (C) he smart clerk (D) clerk the smart
- () 10. Jim: _____ toys are for you. Tina: Really? Thank you so much.
(A)This (B) That (C) These (D) They
- () 11. A: What are those in the park? B: They are _____.
(A)birds (B)two goose (C)a hippo (D)a monkeys
- () 12. Jacky: _____ is your uncle from? Mr. Lee: He's from the UK. (英國) He lives in London.
(A)Who (B) How (D) What (D) Where
- () 13. Max: How are you doing? Victoria:
(A)Nice to meet you, too. (B)What's up? (C)Good evening. (D)I'm doing great.
- () 14. Lucy: What are those in the picture? Patrick: They are _____.
(A)two and big buses (B)five small leafs (C)three watches (D)an egg and two bananas
- () 15. Owen: It is cute and hairy, but it is not a bear. What is it? Bruce: It is _____.
(A)a small tiger (B)little cat (C)a yellow bee (D) elephant
- () 16. Tom: Where are they from? Linda: _____
(A)Aren't they from England? (英國) (B) Yes, they are From China.
(C) They aren't from Germany. (德國) (D) We are from France. (法國)

四、閱讀測驗(每題 2 分; 共 10 分)

Here are some things (事項) about the three students' pets (寵物).

Students' Names	Pets	Favorites
Henry	A dog (white and yellow)	Bananas. Sleeping with Henry. Playing a ball.
Jack	A cat (black)	Apples. Sleeping in the box. Playing with Jack.
Tom	A duck (white)	Bananas, apples, oranges. Sleeping under the tree. Flying in the park.



- () 1. What can we write in (?) about the three pets?
(A) Like eating fruit. (B) Playing with dogs.
(C) Having white color. (D) Sleeping in the room.
- () 2. I am Kelly. My pet is a rabbit. Her name is Raby. Apples are her favorite fruits and she likes sleeping in a box. What pet is the same (相同的) as Raby about their favorite things?
(A) Tom's pet. (B) Henry's pet. (C) Jack's pet. (D) No pets are the same as Raby.

Hi, my name is Eric. I am 15 years old. I am from Japan. This is my family picture.

My father, Jeff, is fifty-two and he is a police officer. My mother, Beth, is a high school English teacher and she is fifty years old. My sister, Emily, is also a student. She is younger (較年輕的) than (比) me. We are a close family. Oops, I forget (忘記) to introduce (介紹) our cute puppy (小狗), Cutie. She is two years old, and she is in Emily's arms (手臂) in the picture.

- () 3. How old might (可能) Emily be?
(A) 20. (B) 17. (C) 13. (D) 2.
- () 4. How many (多少) people (人) are in Eric's family?
(A) Five. (B) Three. (C) Two. (D) Four.
- () 5. Which is wrong (錯的)?
(A) Eric and Emily are brother and sister. (B) Jeff is fifty-two years old.
(C) Beth is an English teacher. (D) Cutie is a two-year-old baby cat.

五、填充題:依照上下文寫出答案;每格限填一字(每題1分;共8分)

1. A: What's your phone number? B: _____ 0958-882-5252.
2. Welcome _____ Wen Guang Junior High School. I'm your new teacher, Miss Chen.
3. This is _____ (we) erasers, and please don't take them away. (拿走)
4. There are ten _____ (sheep) on the farm. They are very cute.
5. I'm late _____ the math (數學) class.
6. The tree is standing over here for _____ (48) years. (用英文表示數字)
7. _____ is the actress from? She's from Japan.
8. A: Isn't the rabbit cute? _____, it isn't. I don't think so. (我不這麼認為)

六、依提示作答(每題2分;共10分)

1. 他的棕色帽子(cap)乾淨嗎?(翻成英文)
2. 她是一名來自美國的女演員。(翻成英文)
3. No, she isn't Jack's friend. (造原問句)
4. How old are you? (依照事實回答;數字用英文表示)
5. It is a heavy box. (依畫線部分造原問句)
6. The colorful (多彩的) fish are small. (改為否定句)
7. Those are dirty mice. (將名詞改為單數並做適當的變化)
8. Where are your friends from? (以「來自世界各地」回答)
9. Is Micky Mouse a cartoon star? (肯定回答,先簡答再詳答)
10. It's a piece of cake. (翻成中文)

【試題結束—文光國中七年級英文】

澎湖縣立文光國民中學112學年度第一學期第一次段考七年級英文科答案卷

班級

姓名

座號

一、聽力測驗10% (每題2分)

1.	2.	3.	4.	5.
----	----	----	----	----

二、文意字彙：20% (每題2分)

1.	2.	3.	4.	5.
6.	7.	8.	9.	10.

三、文法測驗32% (每題2分)

1.	2.	3.	4.	5.	6.	7.	8.	9.	10.
11.	12.	13.	14.	15.	16.				

四、閱讀測驗：10% (每題2分)

1.	2.	3.	4.	5.
----	----	----	----	----

五、填充題：8% (每題2分)

1.	2.	3.	4.
5.	6.	7.	8.

六、依提示回答問題20% (每題2分)

1. 他的棕色帽子(cap)乾淨嗎? (翻成英文)
2. 她是一名來自美國的女演員。(翻成英文)
3. No, she isn't Jack's friend. (造原問句)
4. How old are you? (依照事實回答; 數字用英文表示)
5. It is a <u>heavy box</u> . (依畫線部分造原問句)
6. The colorful (多彩的) fish are small. (改為否定句)
7. Those are dirty mice. (將名詞改為單數並做適當的變化)
8. Where are your friends from? (以「來自世界各地」回答)
9. Is Micky Mouse a cartoon star? (肯定回答, 先簡答再詳答)
10. It's a piece of cake. (翻成中文)

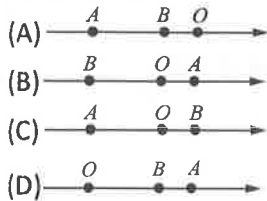
澎湖縣立文光國民中學 112 學年度第 1 學期 7 年級數學科第 1 次段考試卷

班級： 姓名： 座號： 讀卡 答案卷

一、單選題(每題 4 分，共 48 分)

- () 1. 石門水庫的水位標高以 100 公尺為基準，水位高 98 公尺記作 -2 公尺，則水位高 210 公尺應記作下列何者？
 (A) +100 公尺 (B) -100 公尺
 (C) +110 公尺 (D) -110 公尺

- () 2. 在數線上，O 為原點，A 點的坐標為 a，B 點的坐標為 b。已知 $|a| < |b|$ ，則下列圖形何者可能為 A、B、O 三點在數線上的位置關係？



- () 3. 小新書局去年的上半年淨賺 375 萬元，但下半年淨賠 169 萬元，則該書局去年一年是賺或賠多少萬元？
 (A) 賺 169 萬元 (B) 賠 206 萬元
 (C) 賠 196 萬元 (D) 賺 206 萬元

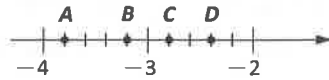
- () 4. 有一個裝了水的量筒，若原水位在 A 點的地方，第一次上升 7cm，第二次下降 5cm，第三次再下降 4cm，最後水位的位置在 3cm 的地方，則 A 點所表示的水位可用下列哪一個式子求得？
 (A) $3+4+5-7$ (B) $7-5+4+3$
 (C) $5+4-7-3$ (D) $7-5-4-3$

- () 5. 已知數線上 A(-9)、B(25) 兩點，若將 A 點向左移 5 個單位，則 B 點應向哪一個方向移動幾個單位，才能使新的兩點所代表的數互為相反數？
 (A) 向右 11 (B) 向左 11 (C) 向右 12
 (D) 向左 12

- () 6. 設 $a < 0$ ， $b > 0$ ，則下列何者正確？
 (A) $a-b < 0$ (B) $a-b > 0$ (C) $a+b > 0$
 (D) $a+b < 0$

- () 7. 阿一有 20 萬元存款，未還清的債務剛好有 210 萬元，後來他又收到 30 萬元的款項。他決定把他所有的錢都先拿來還債，未還完的部分，平均分成 4 年清償完畢。試問他每年要還多少萬元？(不考慮利息部分)
 (A) 40 (B) 42 (C) 60 (D) 65

- () 8. 如附圖，數線上 A、B、C、D 四個點中，哪一點代表 $3\frac{1}{5}$ 的相反數？



(A) A (B) B (C) C (D) D

- () 9. 若 $a < 0$ 且 $b > 0$ ，又 $|a|=6$ ， $|b|=7$ ，那麼 $a+b=?$
 (A) 13 (B) -1 (C) -13 (D) 1

- () 10. 在 \square 內應填入下列哪一種運算符號才會使「 $(-54)-18\square(-3)=-48$ 」成立？
 (A) + (B) - (C) \times (D) \div

- () 11. 附表為五位同學身高減去班上平均身高的值：

學生	差值(公分)
小琦	+4
小進	0
小薇	-4
小杰	+5
小廷	-5

若班上的平均身高為 165 公分，則下列敘述何者正確？

- (A) 小琦身高為 161 公分
 (B) 小進與小廷相差 4 公分
 (C) 小琦與小薇相差 8 公分
 (D) 五人的平均身高為 164 公分
- () 12. 下列敘述何者錯誤？
 (A) 0 的相反數為 0
 (B) -7 的相反數為 $-(-7)$
 (C) $5-(-3)$ 的相反數為 $5+(-3)$
 (D) $|(-3)-8|=8-(-3)$

二、填充題(每題 4 分，共 32 分)

1. 已知 A、B 兩點到原點的距離分別為 7、3，則 $\overline{AB} =$ _____ or _____。(各 2 分)
2. 若 a、b、c 皆是負整數，且 _____ (各 2 分)
 $a \times (-7) = b \times (-8) = c \times (-9)$ ，則：
 (1) a、b、c 的大小順序是 _____。
 (2) 比較 $|a|$ 、 $|b|$ 、 $|c|$ 的大小。

答：_____。

3. 寫出下圖數線上各點的坐標： (各 2 分)



(1) B(_____) (2) C(_____)

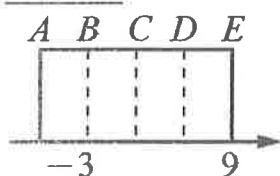
4. (1) 比 $-5\frac{1}{2}$ 小的整數中，最大的整數為_____。
 (2) 比 $-5\frac{1}{2}$ 大的整數中，最小的整數為_____。
 (各 2 分)

5. 絕對值等於 10 的數有_____個，絕對值小於 7 的整數有_____個。 (各 2 分)

6. 數線上有兩點 A、B，若 A 點坐標為 7，A、B 的中點坐標為 -3，則 B 點坐標為_____。

7. 從 1、2、-3、-4、-5、-6、-7 中任取三個數相乘，則最大乘積為_____，最小乘積為_____。 (各 2 分)

8. 阿國將一張長方形紙張對折再對折後，打開貼齊附圖的數線（虛線為折痕）。已知 B、E 兩點所表示的數為 -3、9，則 A 點所表示的數為_____。



三、計算題(第 4 題 8 分，其餘每題 4 分，共 20 分)

1. 某電腦工廠每日的生產目標為 74 臺，但實際生產量略有增減，附表為某一週的生產情形，則：

星期	一	二	三	四	五	六	日
實際生產量-目標產量	-5	+3	甲	-8	-2	乙	+5
實際生產量	69	77	82	丙	72	68	丁

甲、乙、丙、丁的值分別是多少？(各 1 分)

2. 若 $a \times 125 = 6826440$ ，則： (各 2 分)

(1) $(a+4) \times 125 = ?$

(2) $125 \times (8-a) = ?$

3. 某考試題目共有 25 題，做對 1 題得 4 分，做錯 1 題倒扣 2 分，未作答的題目不算分。(各 2 分)
 (1) 若小智答了 23 題，2 題未作答，結果答錯 2 題，則小智得多少分？

(2) 若聰穎答了全部的試題，得 88 分，則聰穎答對多少題？

4. 計算下列各式： (各 2 分)

(1) $7 + (-6) \times (-3) + 54 \div (-6) = \underline{\hspace{2cm}}$ 。

(2) $(-158) \times 9 + 57 \times 9 = \underline{\hspace{2cm}}$ 。

(3) $(-110) - (57 - 109) = \underline{\hspace{2cm}}$ 。

(4) $|-24 + 5| - 8 + (-11) = \underline{\hspace{2cm}}$ 。

試題結束

澎湖縣立文光國中112學年度第一學期第一次段考自然科試題
【答案需填入答案卡中】

■讀卡

7年 ___ 班 座號：___ 姓名：_____

一、選擇

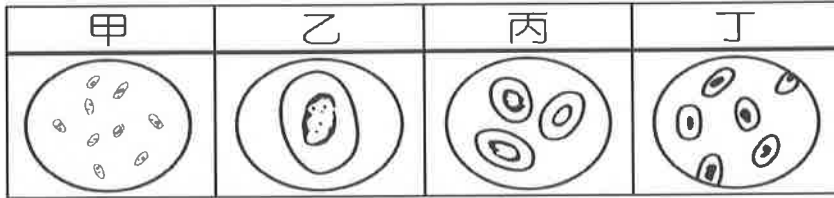
1. () 以下是科學方法的數項步驟，(甲)提出問題；(乙)實驗；(丙)觀察；(丁)提出假設；(戊)分析實驗結果並提出結論。其正確的順序為何？ (A)甲丙乙丁戊 (B)乙戊丙甲丁 (C)丙甲丁乙戊 (D)戊丁丙甲乙。
2. () 阿康看到網路上寫著「維生素C可以預防感冒」，想要證明這個說法是否正確，因此設計了實驗分組如附圖，請問哪一組是對照組？ (A)甲 (B)乙 (C)丙 (D)丁。

組別	每日服用的藥丸成分
甲	5g 葡萄糖
乙	5g 葡萄糖 + 100mg 維生素 C
丙	5g 葡萄糖 + 500mg 維生素 C
丁	5g 葡萄糖 + 1000mg 維生素 C

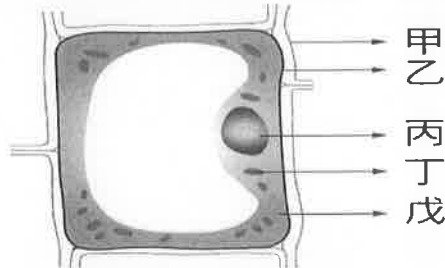
3. () 下列關於科學方法之敘述，何者正確？ (A)透過觀察後，提出假設 (B)若實驗結果與假設不符合時，應修改假設或重新設計實驗，使假設與實驗結果相符 (C)用科學方法所成立的學說，是不變的真理，永遠不會被推翻 (D)實驗時，為了節省時間，實驗組與對照組可以同時有多個變因不同。
4. () 關於酒精燈的使用方法，下列何者正確？ (A)實驗前，必須將酒精燈內的酒精完全加滿 (B)可用燈罩蓋熄或以口吹熄酒精燈 (C)若不小心打翻酒精燈導致起火燃燒，應迅速用溼抹布蓋熄 (D)可用已點燃的酒精燈引燃另一個酒精燈。
5. () 以下哪一項是量筒的功用？ (A)用來加熱溶液 (B)用來測量溶液質量 (C)用來配置溶液 (D)用來測量溶液體積。
6. () 加熱藥品時，使用陶瓷纖維網，是因為以下何種原因？ (A)加熱的藥品可以均勻混合 (B)放在上面的器皿較穩固 (C)增加實驗裝置的美感 (D)可以均勻加熱。
7. () 海洋深處和黑暗洞穴裡，沒有綠色植物的主要原因是下列哪一項？ (A)壓力太大 (B)空氣稀薄 (C)溫度低 (D)缺乏光線。
8. () 甲.植物人；乙.石頭；丙.細菌；丁.小草，上述屬於非生物者共有幾項？ (A)1項 (B)2項 (C)3項 (D)4項。
9. () 下列何項不是一般生物皆共同具有的特徵？ (A)需要養分 (B)有延續生命的能力 (C)能感應環境的刺激而表現出反應 (D)有主動遷移的能力。
10. () 甲.稻草人；乙.鐘乳石；丙.筆筒樹；丁.木耳；戊.乾燥花、以上具有生命現象的有幾項？ (A)2項 (B)3項 (C)4項 (D)5項。
11. () 下列何者不是生命生存所需要的條件？ (A)陽光 (B)養分 (C)閃電 (D)水。
12. () 校園中的杜鵑花為生物，是因為其表現了哪些生命現象？甲.生長；乙.代謝；丙.感應；丁.繁殖。 (A)甲乙丙丁 (B)甲乙丁 (C)甲丁 (D)乙丙。
13. () 極地內生物稀少，深海中難找到綠色植物，限制生物在此兩區分布的主要因素，依序排列分別為下列何者？(A)空氣、水分 (B)溫度、陽光 (C)空氣、壓力 (D)壓力、陽光。
14. () 關於生命現象的說明，何者錯誤？ (A)感應是指生物感受環境變化並產生反應的能力 (B)生長是指個體由小到大的變化 (C)代謝是指生物增加個體數的行為 (D)繁殖是生物延續種族生命的行為。
15. () 池水內的小東西是否為生物，可根據下列哪一項來初步推論？ (A)顏色種類 (B)形狀、大小 (C)有無氣味 (D)能否生長或繁殖。
16. () 若要利用解剖刀切割、觀察蝴蝶觸角標本，則應該選擇哪一種儀器最恰當？ (A)放大鏡 (B)電子顯微鏡 (C)解剖顯微鏡 (D)老花眼鏡。

【背面尚有試題】

17. () 關於顯微鏡操作的敘述，下列何者正確？ (A) 拿取顯微鏡時，必須以單手拿，否則易導致顯微鏡不平衡而翻落 (B) 當發現鏡頭有灰塵時，必須使用拭鏡紙來回用力擦拭 (C) 在低倍鏡中找到目標物，而要改為高倍鏡觀察時，必須轉動粗調節輪更換物鏡 (D) 在觀察時若亮度不足，可調整光圈大小及反光鏡的角度。
18. () 小丸子在載玻片上寫「pd」後，放在解剖顯微鏡下觀察，則他所看到的影像為下列何者？(不計放大倍率) (A)pd (B)qb (C)pb (D)qd。
19. () 附圖是細胞在複式顯微鏡不同倍率下所呈現的影像，請問何者的視野亮度最亮？(其餘條件皆相同) (A)甲 (B)乙 (C)丙 (D)丁。



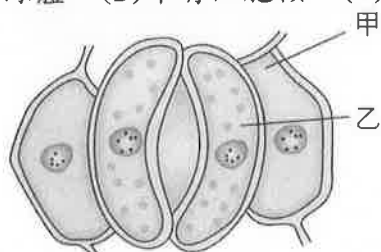
20. () 千千利用複式顯微鏡觀察數隻喇叭蟲，從低倍物鏡轉換為高倍物鏡時，則在視野下看到的情形，下列何者正確？ (A) 亮度會增加 (B) 喇叭蟲影像會變小 (C) 視野會由小變大 (D) 視野中的喇叭蟲數目會減少。
21. () 關於動、植物細胞的敘述，下列何者錯誤？ (A) 植物細胞因具有細胞壁，所以有支持的功能 (B) 能行光合作用的植物細胞之葉綠體存在於細胞質中 (C) 動、植物細胞皆含有細胞核 (D) 動、植物細胞皆含有粒線體，但只有植物細胞有液泡。
22. () 小宇分別觀察動物及植物細胞的玻片標本，並做了下列四項判斷，試問哪一項較正確？ (A) 植物細胞的顏色一定都是綠色的 (B) 形狀完整、輪廓規律、具有大形液泡的，應為植物細胞 (C) 具有較黑的輪廓，內部透亮且無明顯胞器，較可能是多細胞生物 (D) 構造規則，且具有細胞核的必定是植物細胞。
23. () 附圖是植物細胞的模式圖，請問下列敘述何者錯誤？



- (A) 動物細胞沒有甲的構造 (B) 丁內含有遺傳物質 DNA，是細胞的生命中樞 (C) 若將丙去除，細胞將逐漸衰弱而死亡 (D) 乙可控制細胞內、外物質的進出。
24. () 附圖為動物體內的某種細胞，則下列關於此種細胞的敘述何者錯誤？ (A) 此細胞沒有葉綠體 (B) 此細胞的功用為運輸氧氣 (C) 此細胞成熟後具有較大的液泡 (D) 此細胞呈雙凹圓盤狀。

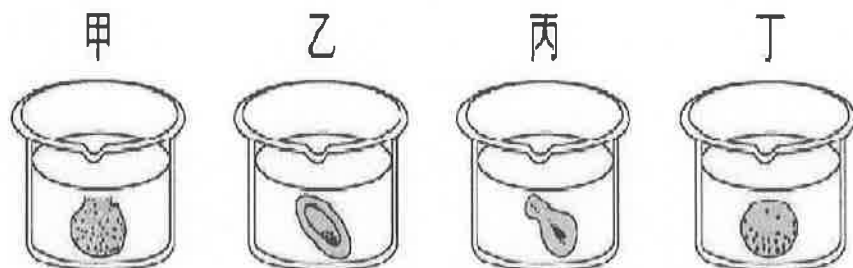


25. () 亮暉用複式顯微鏡觀察鴨跖草的表皮細胞如附圖所示，下列敘述何者錯誤？ (A) 甲有葉綠體 (B) 甲有細胞核 (C) 乙有葉綠體 (D) 乙有細胞核。



【背面尚有試題】

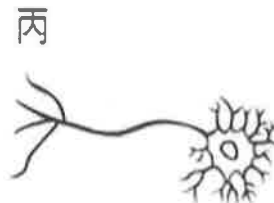
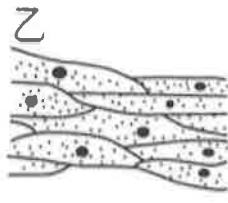
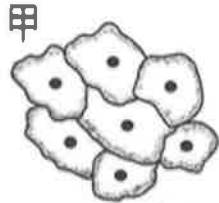
26. () 將人體紅血球細胞置入哪一種液體中，比較容易因滲透作用而脹破？ (A)濃食鹽水 (B)海水 (C)生理食鹽水 (D)清水。
27. () 若將動物細胞的外圍包上一層纖維素，形成類似細胞壁的構造，再將細胞放入蒸餾水中，一段時間後會觀察到何種現象？ (A)細胞漸漸膨脹破裂 (B)細胞維持原來的大小不改變 (C)細胞漸漸膨脹但是不破裂 (D)細胞漸漸皺縮。
28. () 下列哪些與滲透作用相關？甲. 水分穿透細胞膜的現象；乙. 泡菜的製作過程；丙. 動物細胞置於清水中會膨脹以致破裂；丁. 胺基酸能進入細胞中。 (A)甲、乙、丙 (B)甲、乙、丁 (C)甲、丙、丁 (D)甲、乙、丙、丁。
29. () 關於物質進出細胞方式的敘述，下列何者錯誤？ (A)葡萄糖、胺基酸可藉由特殊蛋白質的協助進出細胞 (B)蛋白質可藉由擴散作用進出細胞 (C)滲透作用是指水分通過膜的現象 (D)氣體分子可藉由擴散作用進出細胞。
30. () 將紅血球置於生理食鹽水中，紅血球卻不會脹破的原因為何？ (A)紅血球有細胞壁支持 (B)紅血球只會萎縮 (C)生理食鹽水和紅血球的細胞質濃度接近 (D)水分會自紅血球中滲透出來。
31. () 下列哪一個構造可控制物質進出細胞？(A)細胞膜 (B)細胞核 (C)細胞壁 (D)細胞質。
32. () 下列何種物質可以直接通過細胞膜，不需藉由細胞膜上特殊蛋白質的幫助？ (A)胺基酸 (B)氧氣 (C)礦物質 (D)葡萄糖。
33. () 安西將血球細胞放入不同濃度的食鹽水溶液中，其結果如附圖，則食鹽水濃度最高是哪一杯？ (A)甲 (B)乙 (C)丙 (D)丁。



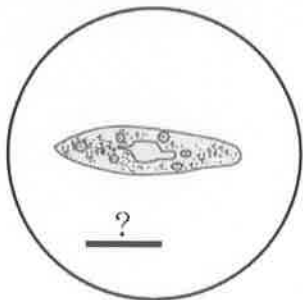
34. () 草履蟲、變形蟲、毛毛蟲、鍬形蟲，雖然都有「蟲」字，但四者的外形、結構及組成，卻有很大的差異，若將四種生物個體以細胞多寡區分為單細胞生物及多細胞生物時，下列哪兩者為單細胞生物？ (A)草履蟲、變形蟲 (B)毛毛蟲、變形蟲 (C)毛毛蟲、鍬形蟲 (D)鍬形蟲、草履蟲。
35. () 下列各器官所隸屬的器官系統層次，哪一個組合是正確的？ (A)肺：呼吸系統 (B)血管：消化系統 (C)心臟：消化系統 (D)大腸：呼吸系統。
36. () 下列何者不屬於葉片中的組織？ (A)表皮組織 (B)皮膜組織 (C)葉肉組織 (D)輸導組織。
37. () 關於單細胞生物的敘述，下列何者錯誤？ (A)藉由單一細胞便能表現出所有的生命現象 (B)由一個細胞組成的生物個體 (C)單細胞生物無法獨立生存，必須群體生活才能表現出生命現象 (D)草履蟲屬於單細胞生物。
38. () 下列為構成高等動物個體各種組成層次，試問由簡單到複雜的排列順序為何？甲. 細胞；乙. 器官；丙. 器官系統；丁. 組織。 (A)甲丁丙乙 (B)甲丁乙丙 (C)丁甲乙丙 (D)丁乙甲丙。
39. () 以下植物的構造中，何者不屬於器官層次？ (A)根 (B)花 (C)葉綠體 (D)種子。
40. () 人體中血液、血管及心臟共同組成了心血管系統，關於上述的組成層次，下列敘述何者正確？ (A)心血管系統是組織層次 (B)心臟是器官層次 (C)血管是器官系統層次 (D)血液是細胞層次。
41. () 阿萍種了一株辣椒，已經開了第一朵花，但還沒結果，試問這株辣椒目前包括幾種器官？ (A)3種 (B)4種 (C)5種 (D)6種。

【背面尚有試題】

42. () 附圖為人體的三種構造，則此三種構造所屬的組成層次依序為何？ (A)細胞、細胞、細胞 (B)組織、組織、細胞 (C)細胞、組織、細胞 (D)組織、組織、組織。



43. () 下列對於物體量測的呈現方式何者較為適當？ (A)樹的高度為 0.6 公里 (B)臺灣島長共 39400000 公分 (C)新生嬰兒的體重為 3600 克 (D)健美選手的體重為 11520g 克。
44. () 下列各物體的長度單位配對何者最不適當？ (A)樹的高度—公尺 (B)頭髮長度—公分 (C)病毒大小—奈米 (D)紅血球的大小—毫米。
45. () 已知一線段長 1 微米，若用 40X 和 100X 倍率觀察，則此線段的實際長度為多少？ (A)1 微米、1 微米 (B)40 微米、100 微米 (C)1 微米、40 微米 (D)無法判斷。
46. () 根據觀察到的現象，發現並提出可進行科學研究的問題，屬於科學方法中的哪個步驟？ (A)提出問題 (B)提出假設 (C)提出推論 (D)提出解釋。
47. () 實驗設計中，與假設相符的裝置組別稱為什麼？ (A)假設組 (B)對照組 (C)對應組 (D)實驗組。
48. () 關於巨觀尺度與微觀尺度的敘述，下列何者正確？ (A)能用儀器看到的物體，都屬於巨觀尺度 (B)能用儀器看到的物體，都屬於微觀尺度 (C)巨觀與微觀是以是否需用儀器做觀察來概分 (D)巨觀與微觀是以肉眼是否可見來概分。
49. () 沛沛打掃教室時發現有的抹布較容易吸水，有的則不易吸水，他想觀察兩布料的織線排列方式是否有差異，他應選擇下列哪種器材來做觀察最方便合適？ (A)放大鏡 (B)複式顯微鏡 (C)望遠鏡 (D)電子顯微鏡。
50. () 阿寶利用複式顯微鏡觀察池塘水樣時，發現了草履蟲，他趕緊先拍攝下來。老師教他用顯微測量，算出這隻草履蟲約有 250 微米。阿寶想將照片放在報告中，如附圖，請問照片中的比例尺應標註為多少，才能表達草履蟲的實際長度？



- (A)1 微米 (B)2.5 微米 (C)10 微米 (D)100 微米。

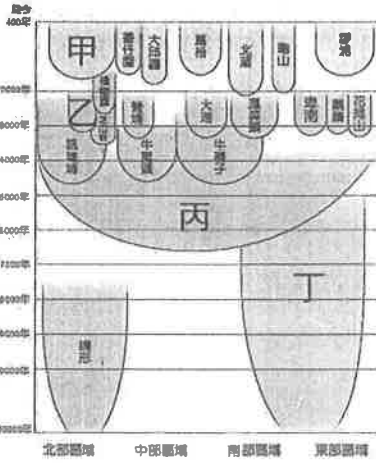
【試題結束—文光國中 7 年級、自然科】

班級：_____ 姓名：_____ 座號：_____ 讀卡 答案卷


一、單一選擇題（十三題，每題 2 分，共 26 分）

- () 人類的發展，可以分成史前時代和歷史時代，前者最大的特徵是什麼？
(A) 沒有文字 (B) 已發展出國家觀念 (C) 不使用石器 (D) 無用火的經驗。
- () 長濱文化、蔦松文化、卑南文化等史前文化，是以何種方式命名？
(A) 發現處的地點 (B) 出土器物的特色 (C) 發現者的姓名 (D) 發現地的地形景觀。
- () 智昌在歷史博物館的公布欄上，看到如附圖的海報，從海報的內容判斷，歷史博物館即將展出哪個史前文化的文物？
(A) 長濱文化 (B) 卑南文化
(C) 十三行文化 (D) 大盆坑文化。
- () 圖(一)為史前文化時空架構圖，鄧小棋除了唱歌之外，還對歷史非常有興趣，某日在《臺灣歷史圖說》中看到圖(二)，是某個文化遺址出土的貝類殘骸，夾雜時人的生活用具，請問這應該是史前文化時空架構圖中的何者？

年代：距今3000~2000年間
發現位置：臺灣東部
生活方式：漁獵、農耕
文化特色：石板屋、石棺、陪葬玉飾、陶器



圖(一)



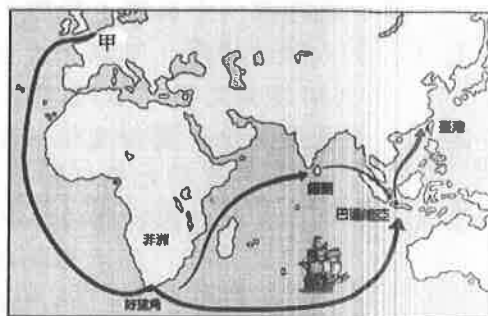
圖(二)

- (A) 甲 (B) 乙 (C) 丙 (D) 丁
- () 南島語族的分布範圍極廣，東至復活節島，西到馬達加斯加島，臺灣位於此一範圍中的最北端。關於南島語族的敘述，下列何者錯誤？
(A) 臺灣、南洋群島與紐西蘭的原住民語言同出一源
(B) 數千年前開始陸續移居臺灣
(C) 所包含的民族都使用完全相同的語言
(D) 泛指分布在太平洋與印度洋海面的島嶼民族。
 - () 以下是風見的課程筆記，請問他的整理何者有誤？
(A) 原住民以分布地來區分，可分為高山族與平埔族
(B) 清代以繳納稅賦與否作區分，分成「生番」和「熟番」
(C) 「熟番」必定等同於平埔族
(D) 日治時期，高山族被稱作高砂族。

【第 1 頁結束—背面尚有試題】

7. () 從十九世紀日本殖民臺灣開始，日本的人類學家們便開始展開對原住民傳說的記錄工作。觀其紀錄，我們可以發現各個原住民族都會提及洪水為主題的傳說，雖然細節會有些許差異，但是內容骨幹基本類似。請問：原住民族擁有相似的洪水傳說的原因最可能為何？
- (A)這只是文明發展過程中的巧合，各族雷同並沒有任何意義
 (B)原住民族的祖先可能皆曾經遭遇洪水等天災的肆虐
 (C)這些原住民族來自四面八方，祖先各異，但因住在同個島嶼互相影響
 (D)原住民族碰到西方人後改信基督教，受《聖經》影響而開始出現類似的神話傳說。

8. () 附圖為十六~十七世紀甲國到亞洲貿易的路線圖，根據圖中的航海路線，和在亞洲設立據點的位置判斷，甲國最可能為下列何者？



- (A)英國 (B)荷蘭 (C)西班牙 (D)葡萄牙。
9. () 西班牙人占領臺灣北部的目的除為傳教外，亦想以臺灣作為發展對某國貿易的跳板，不料該國實施鎖國政策，導致西班牙外貿受挫。請問：西班牙人原先欲與哪一國家發展貿易關係？
- (A)越南 (B)日本 (C)緬甸 (D)英國。
10. () (甲)鄭成功圍攻荷蘭人 (乙)海商在澎湖、臺灣活動
 (丙)荷蘭人占領臺灣南部 (丁)荷蘭人驅離在臺的西班牙人。
 根據臺灣歷史的發展，上列史事的排列順序應該為何？
- (A)甲丁丙乙 (B)乙丙丁甲 (C)乙丁丙甲 (D)丙乙甲丁。
11. () 鄭氏政權在對抗大清帝國的同時，仍繼續與歐洲哪一國家進行貿易？
- (A)日本 (B)荷蘭 (C)西班牙 (D)英國。
12. () 「有一位軍隊首領叫林圯，配合當時政府的政策率領部屬來到今日南投縣竹山一帶屯墾，開墾成農地後稱此地為林圯埔。」根據上文判斷，今日南投竹山(舊時稱林圯埔)一地應是在何時開墾為農地？
- (A)荷蘭在臺時期 (B)鄭氏政權時期 (C)清帝國統治時期 (D)日本帝國統治時期。
13. () 鄭成功驅逐荷蘭人後不久即病死，因此鄭氏政權時期的政教建設，大體都是在鄭經時期完成。鄭經的政教建設，最主要是在何人的輔佐推動下完成？
- (A)沈有容 (B)郭懷一 (C)陳永華 (D)鄭成功。

二、題組 (兩題，每題 2 分，共 4 分)

這是十七世紀時，鄭成功與某個歐洲國家簽訂的文件，請根據內容回答下列問題：

14. () 從文件提到「巴達維亞」推斷，此文件簽署者應是來自哪個國家？
- (A)西班牙 (B)荷蘭 (C)英國 (D)日本。
15. () 此公司來到臺灣後，輸出臺灣的哪些物品？
- (A)茶葉、蔗糖 (B)鴉片、紡織品
 (C)稻米、蔗糖 (D)軍火、布料。

1. 雙方都要把所造成的一切仇恨遺忘。

2. 熱蘭遮城及其城外的工事、大炮及其他武器，糧食、商品、貨幣及所有其他物品，凡屬於□□公司的都要交給國姓爺。

3. 這政府全部文件簿記，現在都得以帶往巴達維亞。

三、配合題 (五題，每題 1 分，共 5 分)

自大航海時代以來，多方勢力紛紛在東亞競逐貿易，以下是各方勢力在東亞的活動，請將其填入相對應的說明之中。

A. 顏思齊 B. 鄭芝龍 C. 西班牙人 D. 荷蘭人

16. () 透過成立聯合東印度公司來主導在東亞地區的貿易活動，並以巴達維亞為據點。
 17. () 曾帶人在臺發展貿易活動，並鼓勵漢人開墾今日雲林、嘉義地區。
 18. () 主導中國東南沿海、日本、東南亞與臺灣之間的貿易，成為雄霸一方的海商勢力。
 19. () 在菲律賓馬尼拉進行殖民及貿易，積極對中、日進行貿易活動。
 20. () 曾在台灣北部建聖多明哥城，因對日本貿易受挫，減少駐臺守軍，後遭驅離。

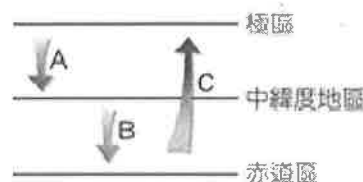
【試題結束—文光 7 年級 歷史科】

澎湖縣立文光國民中學 112 學年度第 1 學期 第 1 次成績評量 7 年級地理科試卷

班級：_____ 姓名：_____ 座號：_____ 讀卡 答案卷

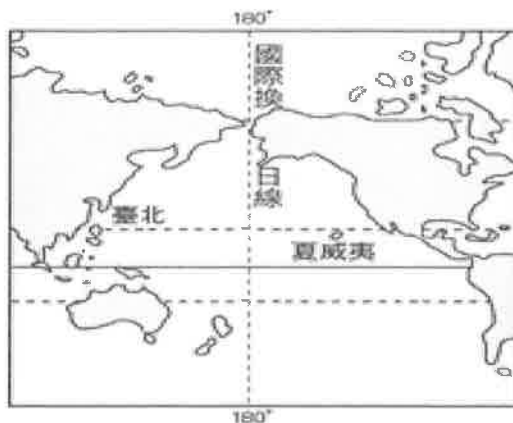
一、單一選擇題（十題，每題 2 分，共 20 分）

41. () 下列哪一種位置的表示方式屬「絕對位置」？(A)彰化車站距員林車站 15 公里
(B)綠島位於墾丁國家公園的東北方(C)臺北市政府在 101 大樓北方 300 公尺處
(D)東華大學在花蓮縣壽豐鄉大學路二段 1 號。
42. () 為了便於劃分全球時區，國際上以通過哪一個城市的格林威治天文臺之時間為標準時間？(A)法國巴黎 (B)德國柏林(C)英國倫敦 (D)瑞士伯恩
43. () 臺灣因位於黑潮與中國沿岸流的交會處，而有豐富的海洋資源。附圖為洋流示意圖，中國沿岸流應屬於哪一種類型？(A)A (B)B (C)C (D)以上皆非



44. () 為何在同一個地球上，東邊的時間會比西邊早？
(A)因為地軸傾斜 23.5 度 (B)因為地球由西向東自轉
(C)因為地球繞太陽公轉 (D)因為地球是橢圓形。

45. () 附圖中的國際換日線貫穿太平洋。假設今天臺北是 6 月 6 日早上，而此線右側的夏威夷應是下列哪一個日期？(A)6 月 4 日
(B)6 月 5 日(C)6 月 6 日(D)6 月 7 日。



46. () 臺灣的離島眾多，除了澎湖、金門及馬祖之外，其餘都隸屬臺灣本島的行政區下管轄，且管轄權多屬鄰近該島嶼的行政區。據此判斷，位於臺灣島西南方的東沙島及太平島，最可能隸屬於下列哪一個行政區管轄？
(A)宜蘭縣 (B)新北市 (C)臺中市 (D)高雄市
47. () 面積狹小的臺灣島能夠擁有多樣生態環境的原因不包括下列何者？(A)海陸交界的地理位置，兼有海陸域生態 (B)寒、暖洋流交會，帶來豐富的海洋資源(C)溫帶與熱帶交界位置，動物遷移必經地 (D)島嶼人口密度較低，環境保育觀念極佳
48. () 臺灣自十七世紀以來，便以國際貿易為其主要的發展動力。臺灣之所以能長期在國際貿易中占有一席之地，其主要原因與下列何者有關？
(A)地理位置優越 (B)天然資源豐富 (C)土地面積廣大 (D)於板塊接觸帶
49. () 新聞氣象報導：「賓森颱風在菲律賓發威後，正穿過巴士海峽向正北方前進。」依據上文敘述，下列哪一個縣市會最快進入暴風圈的範圍內？
(A)基隆市 (B)屏東縣 (C)高雄市 (D)苗栗縣。
50. () 下列哪一個縣市不位在臺灣本島？
(A)南投縣 (B)花蓮縣 (C)澎湖縣 (D)臺東縣。

【第 5 頁結束—背面尚有試題】

二、題組：(十題，每題1分，共10分)

(一) 附圖為假設的地球表面。請問：

51. () 圖中哪一條線為赤道？(A)A (B)B (C)C (D)D
 52. () 圖中哪一個地區的平均氣溫最高？
 (A)甲 (B)乙 (C)丙。

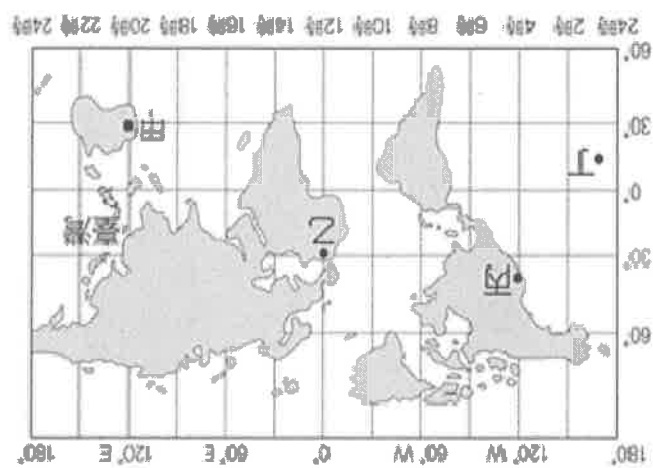
53. () 下列何項是造成地球隨緯度不同，而有不同的氣候帶的因素？(A)地球自轉 (B)地形的差異 (C)海洋的影響 (D)太陽的照射角度。

(二) 附圖為世界地圖。請問：

54. () 圖中哪一個地點與臺灣沒有時差的問題？
 (A)甲 (B)乙 (C)丙 (D)丁

55. () 圖中臺灣和丙地兩地約相差多少個時區？
 (A)2個 (B)6個 (C)12個 (D)16個。

56. () 當臺灣時間為中午12時，則乙地時間為何？
 (A)早上4時 (B)上午9時
 (C)下午4時 (D)晚上9時



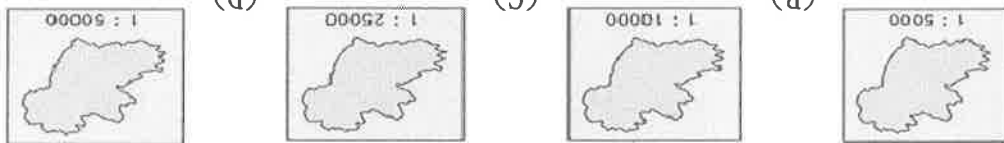
(三) 地圖是生活中常用的工具，因使用目的不同而有不同種類，為了使讀者能了解地圖的內

容以利判讀，並達成使用目標，因此地圖具備各種要素。請問：

57. () 「將地表上的地景地物資料簡化為地圖符號」，是指下列何種地圖要素？

(A)圖名 (B)圖例 (C)方位 (D)比例尺。

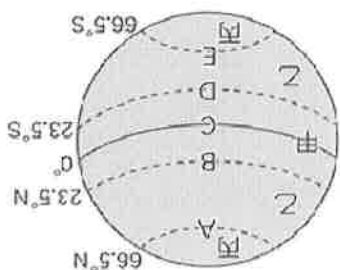
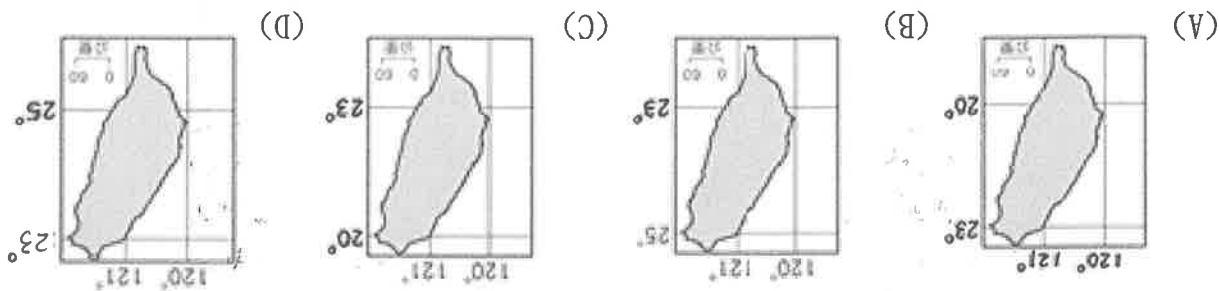
58. () 下列四張不同比例尺的島嶼地圖，其中哪一張的島嶼實際面積最小？



59. () 三一東日本大地震，使日本遭受嚴重海嘯及核安危機。若當地救難隊欲進行詳細的搜索，則使用下列哪一張比例尺地圖最適合？

(A)1:250 (B)1:2,500 (C)1:10000 (D)1:100,000。

60. () 附圖為四張經緯度位置不同的臺灣地圖。下列何者為正確的臺灣島絕對位置？



澎湖縣立文光國民中學 112 學年度第 1 學期 第 1 次成績評量 7 年級公民科試卷

班級：_____ 姓名：_____ 座號：_____ ■ 讀卡 □ 答案卷

一、單一選擇題（十五題，每題 2 分，共 30 分）

21. () 高中職免試入學放榜，一名桃園市某公立國中的學生，以優異成績選讀職校，他表示自己的會考成績可上公立高中，但因對電腦、科技有興趣，且對數理較擅長，才會選擇就讀北科附工電子科，未來打算往科大邁進。根據上述內容，下列描述何者最相關？(A)該名學生的志願選填受到性別的影響很大 (B)尊重該名學生自主選擇是對其人性尊嚴的維護 (C)該名學生的志願選填應該依照父母的意見 (D)該名學生高分選讀高職，代表對自我的認識不足。
22. () 我國通過《社會救助法》，該法制定的宗旨，在於照顧低收入戶、中低收入戶及救助遭受急難或災害者，並協助其自立。政府制定《社會救助法》主要在維護人性尊嚴的哪一個內涵？(A)維護生命與身體自主權完整 (B)享有身為人的生存基本條件 (C)擁有自我決定能力活出自我 (D)盡情發展自我價值的選擇自由。
23. () 「人性尊嚴」是指每個人都是獨立自主的個體，具有存在的意義與價值，可以選擇自己想要的生活方式和人生方向，不會被當成他人的工具，且應受到平等的尊重。下列何國的作法最符合「人性尊嚴」的保障？(A)杜拜政府限制外籍移工的居住和移動自由，以維持社會秩序 (B)我國政府制定《性別工作平等法》，保障不同性別者同工同酬 (C)美國政府刪減身心障礙者社會福利的補助，以避免國家財政惡化 (D)法國政府限制伊斯蘭教徒在公共場所穿著傳統服飾，促進族群融合。
24. () 臺灣的「世界展望會」設立於西元 1964 年，多年來照顧國內貧困弱勢的足跡，由偏遠山區、離島、濱海地區，擴大至現代化大都會所衍生的社會問題，並帶動國人愛心投入關懷全球貧童與人道救援的行列。上述「世界展望會」的行動宗旨展現下列哪一個概念的重要性？(A)防止疾病擴散 (B)促進經濟成長 (C)保護國家安全 (D)維護人性尊嚴。
25. () 酒駕常造成嚴重的傷害，政府因而制定法律，懲罰酒測值超過標準的駕駛。請問：下列敘述何者錯誤？(A)政府透過法律來保障用路人的生命完整(B)限制喝酒駕駛人的用路權益是為了保護其他民眾的人權 (C)酒後是否開車上路是駕駛的自我決定權，必須受到保障 (D)國家透過法律保障人權，但也必須從人性尊嚴角度來考量是否傷害人權。
26. () 維護人性尊嚴的具體方式就是要落實人權的保障，而一個重視人權的國家通常會以何種方式來落實人權保障的內容，最能讓民眾的權利得到保障，不受到政府或他人的非法侵害？(A)制定法律 (B)網路公告 (C)透過教育 (D)公開呼籲。
27. () 為維護社會上弱勢群體的人性尊嚴，使其能得到應有的尊重，並享有追求理想生活的機會。請問：政府下列哪一做法不正確？(A)於各公共場所設置無障礙廁所 (B)強制企業發放白米給獨居老人 (C)減免中低收入戶學生午餐費用 (D)制定法律保障身障者工作權利。
28. () 右圖為阿興在教育部官網看到的一則公告，根據內容，政府的作法是為了保障哪一方面的人權？(A)身心障礙 (B)性別 (C)國籍 (D)族群
29. () 電影「超人特攻隊 2」裡強調女力萬歲！超能先生在家裡學習當一個家庭主夫，彈力女超人成為打頭陣的超級英雄。此一電影情節安排落實了何種理念？(A)性騷擾的防治 (B)性別平等的革除 (C)性別刻板印象的破除 (D)生理性別與社會性別的整合。

立法院三讀通過《原住民族教育法》(簡稱原教法)修正草案，以建立完整原住民族教育體制、保障原住民族教育權為目標，將原住民族教育實施對象自原住民學生擴大到全體師生及國民，以促進族群相互尊重與多元文化發展。

【第 3 頁結束—背面尚有試題】

【第4頁結束一背面尚有試題】

38. ()公司因為婦人懷孕了，便將該名婦人資遣，公司這樣的行為可稱之為何？
 (A)性別刻板印象 (B)性別偏見 (C)性別歧視 (D)性別認同。
39. ()婦人就公司資遣因此提出申訴，經市府調查後認定違法，因此裁罰30萬元。該公司的行為已違反下列哪一部法律的規定？ (A)《民法》 (B)《性別平等教育法》 (C)《性別工作平等法》 (D)《性別騷擾防治法》。
40. ()承上題，下列何種行為規範的法源和其相同？ (A)在課程設計上針對不同性別給予不同要求 (B)受雇者可請育嬰假照顧孩子 (C)在公車上遇到色狼可依法處罰 (D)在校園中遭到性騷擾，可依法組成性平會調查。

桃園有一位婦人在一家通運公司擔任行政助理，三個月後懷孕，但卻在告和主管「懷孕了」的第二天，就遭公司資遣，她因此提出申訴，市府調查後認為公司作法已違法，因此裁罰公司30萬元。公司不服打官司，法官審理時，最後認定公司的作為的確不當，判裁罰有理。請問：

36. ()根據上文判斷，勵馨基金會舉辦該活動的用意應該為何？ (A)破除性別刻板印象 (B)改善法律制度 (C)推動經濟發展 (D)強調生理性別差異。
37. ()勵馨基金會舉辦成年禮活動，其主要目的應是想要倡導下列何種觀念？ (A)自我否定 (B)性別平等 (C)消除性別認同 (D)強化社會性別。

(一)勵馨基金會舉辦一場別具新意的臺灣女孩成年禮，邀請近百名就讀汽車修護、食品加工等科系的高中生參加，象徵能勇敢做自己，努力築夢不受限制。上述都是傳統價值觀中認為適合男性就讀的科系，汽車修護科的李同學說，她希望成為一名黑手，顛覆一般傳統價值觀對女孩的期待。請回答下列問題：

二、題組：(五題，每題1分，共5分)

34. ()右圖是阿龍公司的規定事項，其中何者違反性別平等原則？
 (A)甲 (B)乙 (C)丙 (D)丁。
35. ()有研究指出，各國的主管階層仍以男性為主。這份研究顯示了下列何種意義？ (A)男性天生具有較高的領導能力 (B)性別工作平等是社會文化的問題，不需要政府立法介入 (C)對於不同性別的期待，不影響職場的升遷 (D)需要從破除負面性別刻板印象與政府立法兩方面來執行。

甲：不遲到、不早退
 乙：須注意儀容整潔
 丙：女性不得穿褲裝
 丁：請假須有代理人

33. ()一名吳姓女子任職苗栗縣的一家診所，半年後發現自己懷孕，將懷孕的喜訊告訴診所，最後卻被該診所開除。苗栗縣政府認定此為性別歧視(懷孕歧視)，將處該診所數萬元罰款。上述苗栗縣政府是依據哪一部法律開罰該診所？ (A)《民法》 (B)《性別平等教育法》 (C)《性別工作平等法》 (D)《性騷擾防治法》。
32. ()下列有關性騷擾的敘述何者正確？ (A)男生被摸一下是沒有關係的 (B)言語上的騷擾不構成性騷擾 (C)被騷擾代表被騷擾者長得不錯 (D)性騷擾的界定標準是以被騷擾者的主觀感受為主。

31. ()絕大多數的家庭中，負責煮飯做菜的人是以女性為主，然而職場上頂尖的廚師卻是以男性居多，甚至知名節目「廚神當道」的三名大廚兼主持人也都是男性。針對上述的現象，下列哪一種說法與事實較為接近？ (A)「男主外，女主內」的觀念符合世界潮流 (B)男性的工作能力往往比女性為佳 (C)兩性在職場上仍多未有公平的競爭機會 (D)女性從事家務工作較符合經濟效益。

(A) 進入青春期，第二性徵日趨明顯

(B) 昨天我媽媽生了一個弟弟，真的好可愛囉

(C) 我上了國中後聲音變得低沉，也有了一顆鬍鬚

(D) 媽媽覺得我是女生，就應該要幫忙做家事

30. ()性別存在著差異，一般分為「生理性別」及「社會性別」。請判斷下列何者所描述的性別定義和其他有異？