

澎湖縣立文光國民中學 112 學年度第 1 學期第 1 次成績評量八年級國文科試題卷

班級：

姓名：

座號：

■答案卷

一、國字注音：(每一個「」1分，共14分)

1. 震「懾」： 2. 潔「癖」： 3. 星「宿」： 4. 悲「慟」： 5. 一語成「讖」：  
6. 亮「晃晃」： 7. 晶瑩「剔」透： 8. 氣勢「攸尤」礪： 9. 病「冂乙」： 10. 青「ㄉㄛ」：  
11. 拔「出ㄨㄛ」： 12. 匍「匍ㄨㄛ」： 13. 艱「ㄇㄛ」： 14. 「ㄣㄛ」躬盡瘁：

二、注釋配合題：(請根據句子的描述，填入正確答案的代號，每題1分，共10分)

1. 氣脫委頓： 2. 「肆」虐： 3. 「逞」英雄： 4. 皎皎： 5. 「擢」素手：  
6. 脈脈： 7. 「反哺」心： 8. 悲不「任」： 9. 熹微： 10. 魂牽夢縈：

※配合選項：

- A 山脈綿延不絕的樣子 B 用爪抓取 C 擔任職務 D 含情凝視的樣子 E 顯露、展示  
F 失神無力，疲乏困頓 G 明亮的樣子 H 白皙光滑 I 陽光微弱的樣子 J 報答父母的恩情  
K 氣喘吁吁，無神停頓 L 放縱、任意 M 舉起 N 承受 O 形容極為思念，連夢中都無法忘懷

三、成語配合題：(請根據句子的描述，填入正確答案的代號，每題1分，共14分)

- 【(A) 響遏行雲 (B) 駑馬十駕 (C) 烏合之眾 (D) 肆無忌憚 (E) 雷霆萬鈞  
(F) 千鈞一髮 (G) 如泣如訴 (H) 朋比為奸 (I) 路不拾遺 (J) 靡靡之音  
(K) 子虛烏有 (L) 一日三秋 (M) 獨善其身 (N) 孺慕之情 (O) 以儆效尤  
(P) 開門揖盜 (Q) 壯志未酬 (R) 握髮吐哺 (S) 仰人鼻息 (T) 樹倒猢猻散】

- 1、澎湖地方的社會治安良好，人人( 1 )，家家夜不閉戶。  
2、臨終之前，他回想自己勞碌一生卻( 2 )，不禁感慨萬分。  
3、在世風敗壞的今日，他卻能( 3 )，不同流合汙，真是令人敬佩。  
4、這群倉促成軍的( 4 )，怎麼可能贏得了訓練有素的籃球校隊呢？  
5、陳老師為了樹立威嚴，特地將問題學生嚴懲，藉此殺雞儆猴、( 5 )。  
6、就在歹徒掏出槍來的( 6 )之際，警察及時將他制服，危機才得以解除。  
7、這位世界一流的男高音，歌聲( 7 )，每到各處巡迴演唱，總是一票難求。  
8、自從丈夫離家後，她天天望君早歸，宛如( 8 )，這種心情，旁人很難體會。  
9、有鑑於社會治安逐漸惡化，因此政府集中全國警力，以( 9 )之勢，大舉掃黑。  
10、在這個職場競爭激烈的環境下，老闆若不( 10 )，又怎麼能挑選到好的員工呢？  
11、他富貴的時候，許多阿諛求進的人常陪侍在旁，如今失勢，面臨了( 11 )的光景。  
12、不要因資質魯鈍或基礎薄弱而畫地自限，只要發揮( 12 )的精神，照樣能取得好成績。

【第1頁結束 背面尚有試題】

13、這部小說描寫的雖然是（ 13 ）的幻想世界，所要表達的意念，卻比現實世界還要真實深刻。

14、電視劇配樂的悲傷曲調，透過女歌手（ 14 ）的歌聲，讓觀眾沉浸在男女主角的虐戀情緒中。

#### 四、選擇：（每題2分，共46分）

- ( ) 1. 田園之秋選作者描寫西北雨的手法，下列何者**有誤**？（A）第二段以「大雨滂沱，霹靂環起」點出主題（B）二、三段分四層次「烏雲」、「雷電」、「大雨」、「天晴」將整個過程一氣呵成寫完，展現西北雨「快、急」的特色（C）四、五段補述雷電及西北雨是為了強化、凸顯其氣勢（D）文末透過聆聽貝多芬田園交響曲，來表達雨過天青的喜悅。
- ( ) 2. 田園之秋選中「大雨滂沱，霹靂環起」一句描繪出西北雨特色之一——「狂風暴雨」，下列哪一詩句所描寫的景象與此**差異最大**？（A）雷霹老松疑虎怒，雨沖煙洞覺龍醒（唐殷文圭九華賀雨吟）（B）風聲撼山翻怒濤，雨點飛空射強弩（宋陸遊夏五月方閔雨忽大風雨三日未止）（C）天外黑風吹海立，浙東飛雨過江來（宋蘇軾有美堂暴雨）（D）山河破碎風飄絮，身世浮沉雨打萍（宋文天祥過零丁洋）。
- ( ) 3. 讀完田園之秋一文，可以發現作者運用何種方式，讓讀者有身歷其境的感覺？（A）使用大量的排比句型，營造出大西北雨驚人的氣勢（B）運用映襯對比的效果，呈現大自然的威力（C）白描記錄下雨過程，讓讀者震懾於大自然的威力（D）靈活運用譬喻和誇飾技巧，展現出大自然戲劇性的變化。
- ( ) 4. 「盡向地面攔來」的「盡」字，與下列何者意思相同？（A）白日依山「盡」（B）舌一吐而二蟲「盡」為所吞（C）孤帆遠影碧山「盡」（D）樹木在「盡」力縮矮。
- ( ) 5. 迢迢牽牛星的寫作手法，下列何者**錯誤**？（A）善用疊字增添節奏感及音韻之美（B）以天上星宿傳說類比人間戀人處境（C）採先敘事後寫景再抒懷的布局方式（D）藉織女無心織布的情景表達相思苦。
- ( ) 6. 下列選項所傳達的情感，何者與慈烏夜啼一詩中「聲中如告訴，未盡反哺心」最相近？（A）勞苦莫教爹娘受，憂愁莫教爹娘擔（B）樹欲靜而風不止，子欲養而親不待（C）身體髮膚，受之父母，不敢毀傷，孝之始也（D）今之孝者，是謂能養。至於犬馬，皆能有養。不敬，何以別乎。
- ( ) 7. 慈烏夜啼一詩中，各詩句的語氣說明，何者正確？（A）應是母慈重，使爾悲不任——肯定（B）嗟哉斯徒輩，其心不如禽——讚揚（C）慈烏復慈烏，鳥中之曾參——反諷（D）百鳥豈無母，爾獨哀怨深——反詰。
- ( ) 8. 下列有關古詩十九首的敘述，何者說明**不正確**？（A）內容多半為感時之作，充滿離愁別緒、感慨生命無常，反映東漢末年社會的紛亂（B）古詩十九首最早收錄於昭明文選（C）因為作者失傳，寫作年代無法確定，因此總題為「古詩十九首」（D）其形式全部為七言體，是早期七言詩的代表作。
- ( ) 9. 關於下雨天，真好一文的寫作手法，下列哪一項說明**不正確**？（A）屬於「順敘法」的寫作技巧（B）本文以第一人稱為敘述觀點（C）首段「今天一清早，掀開簾子看看，玻璃窗上已撒滿了水珠，啊，真好，又是個下雨天。」是以開門見山法點出主題（D）利用關鍵性的場景描述，使文章生動寫實。
- ( ) 10. 下列和「雨」有關的成語，何者運用正確？（A）老師的諄諄教誨有如「呼風喚雨」，讓同學茅塞頓開，恍然大悟（B）這一則假新聞已經鬧得「風雨如晦」，讓他蒙受不白之冤，百口莫辯（C）本店因租約到期，遷移至左邊巷弄內，歡迎「舊雨新知」光臨惠顧（D）明翰料中法國隊會贏得世足賽冠軍，大家都很佩服他能「未雨綢繆」。

- ( ) 11. 下雨天，真好一文中，作者認為「下雨天，真好」，但文末卻說「下雨天，我有一股淒涼寂寞之感」，原因為何？(A)母親年邁多病，卻無法陪伴照顧 (B)在杭州求學，獨自面對課業壓力 (C)離鄉背井，童年的歡樂已然逝去 (D)缺乏朋友相伴，心中苦樂無人訴。
- ( ) 12. 「那些有趣的好時光啊，我要用兩珠的鍊子把它串起來，繞在手腕上。」(下雨天，真好)根據這句話，下列敘述何者正確？(A)以雨天的歡愉映襯晴天的愁苦 (B)以鍊子象徵生活中的重重束縛難以掙脫 (C)「繞在手腕上」意味對過去的珍視與不捨 (D)充滿對歡樂不再的緬懷與感傷。
- ( ) 13. 下列文句「    」中的字，何者分別作介詞與動詞使用？(A)阿奇正為數學題「傷」腦筋，一不留神撞到桌角而受「傷」 (B)字弘不「為」名利所惑，堅持本心，常常「為」善不欲人知 (C)郭將軍率兵「平」定戰亂，天下終於太「平」，百姓可恢復過往安居樂業的生活 (D)病重的母親請人代筆寫「信」，要讓遠在異鄉求學的兒子放心，深「信」家中一切安好。
- ( ) 14. 請判斷下列「詞性」的說明，何者正確？(A)你「溫暖」的關懷，「溫暖」了我的內心——第一個「溫暖」是『形容詞』，第二個「溫暖」是『動詞』 (B)「成功」最難的事便是繼續保持「成功」。——第一個「成功」是『形容詞』，第二個「成功」是『動詞』 (C)遠處的山腰上，有許多「蜿蜒」的小路「蜿蜒」著——第一個「蜿蜒」是『形容詞』，第二個「蜿蜒」是『名詞』 (D)那張「模糊」的舊照片，「模糊」了我的雙眼——第一個「模糊」是『名詞』，第二個「模糊」是『形容詞』。
- ( ) 15. 下列何組詞語的詞性結構兩兩相同？(A)天崩地裂／山明水秀 (B)先憂後樂／有勇無謀 (C)煙消雲散／兔死狗烹 (D)避重就輕／寧缺勿濫。
- ( ) 16. 下列「    」中的量詞，何者**有誤**？(A)一「段」鼓兒詞 (B)一「股」淒涼之感 (C)一「粒粒」的麩 (D)一「棵棵」炒豆子。
- ( ) 17. 有關世說新語一書的說明，下列敘述何者**錯誤**？(A)屬於筆記小說，是中國志人小說的傑出作品 (B)由南朝宋劉義慶編撰，依時代分類，屬於歷史小說 (C)全書共三十六類，記載東漢到東晉間高士名流的軼聞瑣事 (D)文字簡潔精鍊，故事精彩有趣，對中國後世小說影響深遠。
- ( ) 18. 王羲之聽到王藍田食雞子的事笑說：「即使他父親安期有這種個性，我都認為一無可取了，何況是藍田呢！」王羲之這段話透露出什麼訊息？(A)讚美王安期虎父無犬子 (B)肯定王安期的教子有方 (C)譏諷安期父子都性急魯莽 (D)認為王安期比王藍田穩重。
- ( ) 19. 根據六朝名士畫廊——世說新語選一文，魏文帝曹丕召見鍾家兄弟。對於魏文帝「為什麼流這麼多汗」、「為什麼不冒汗」的提問，鍾家兄弟都能緊扣同一個主軸，巧妙回答。請問兩兄弟回答的內容，都對魏文帝表達什麼意思？(A)不幸身患疾病 (B)自己辯才無礙 (C)內心敬畏魏文帝 (D)對自我的要求很高。
- ( ) 20. 俊美挺拔的王濟曾感嘆：「只要我的外甥衛玠出現，就如同珠玉在身旁，讓我覺得自己形貌醜陋。」根據這段話，下列哪一個成語**不適合**用來形容王濟？(A)自知之明 (B)自嘆不如 (C)自命不凡 (D)自慚形穢。
- ( ) 21. 下列詞語描寫的季节，何組相同？(A)金風送爽／東風拂面 (B)鶯啼燕語／桃紅柳綠 (C)老圃黃花／臘鼓頻催 (D)朔風捲地／黃梅時節。
- ( ) 22. 「據說收集七顆龍珠後，便可呼喚出神龍。神龍可以實現你一個願望。有位外國人收集七顆龍珠後，神龍便出現了，祂說：『我能實現你一個願望。』外國人聽不懂祂說的話，便說：『Can you speak English?』結果神龍說完『Sure.』之後，就消失了。」這則笑話能應用到下列哪種演講主題呢？(A)一言九鼎的承諾 (B)謹言慎行的重要 (C)知足常樂的人生 (D)功成不居的美德。

- ( ) 23. 「夜市直至三更盡，才五更又復開張。如要鬧去處，通曉不絕。尋常四梢遠靜去處，夜市亦有胡餅、和菜餅、果木翹羹、灌腸、香糖果子之類。冬月雖大風雪陰雨，亦有夜市：葉子薑、抹臙、水晶臙、蛤蜊、螃蟹、胡桃、糍糕、團子、鹽豉湯之類。至三更方有提瓶賣茶者。蓋都人公私营幹，夜深方歸也。」(宋 孟元老 東京夢華錄) 下列對於此文中「夜市」的說明何者正確？(A)在每日夜晚十點時，夜市的攤商都已歇業 (B)當時夜市販賣的種類眾多，但全都為蔬食類 (C)冬天時因為天氣寒冷有雨，夜市並不會營業 (D)此種夜市文化，可能是因生意人夜歸而興起。

### 五、延伸閱讀題：(一題2分，共16分)

荔枝生巴、峽間。樹形團團如帷蓋，葉如桂，冬青；華如橘，春榮；實如丹，夏熟。朵如葡萄，核如枇杷，殼如紅繒，膜如紫綃，瓢肉瑩白如冰雪，漿液甘酸如醴酪。大略如彼，其實過之。若離本枝，一日而色變，二日而香變，三日而味變，四五日外，色香味盡去矣。元和十五年夏，南賓守樂天命工吏圖而書之蓋為不識者與識而不及一、二、三日者云。(白居易 荔枝圖序)

- ( ) 1. 關於這段文字的寫作手法，下列何者正確？(A)利用明確的定義說明，介紹荔枝的品種及外形 (B)先分述後總說，面向由小到大、由細節到整體 (C)透過視覺及味覺摹寫，陳述荔枝的外形和口感 (D)以虛擬傳奇故事為題材，凸顯荔枝的神異色彩。
- ( ) 2. 根據本文，下列敘述何者正確？(A)作者以春夏秋冬四季描寫荔枝葉子的變化 (B)果實一旦離開樹枝，便會失去甜美的香氣 (C)為了讓百姓更認識荔枝，白樂天寫下此序 (D)白居易畫出荔枝樹的形狀並獻給南賓太守。

文帝嘗令東阿王七步中作詩，不成者行大法。應聲便為詩曰：「煮豆持作羹，漉菽以為汁。其在釜下燃，豆在釜中泣。本是同根生，相煎何太急？」帝深有慚色。(世說新語文學篇)

註：①東阿王：即曹植。曹丕即位後，封曹植為東阿王。

②漉菽：漉，過濾滲透。菽，豆類的總名。③萁：豆莖。④釜：鍋子。

- ( ) 3. 下列文句，何者具有手足相互迫害的意思？  
(A)煮豆持作羹 (B)漉菽以為汁 (C)相煎何太急 (D)本是同根生。
- ( ) 4. 魏文帝為何露出慚愧的臉色？(A)感念與曹植的手足情深 (B)自嘆才學不如曹植 (C)被曹操責罵 (D)領略曹植詩中的諷語。

生年不滿百，常懷千歲憂。

晝短苦夜長，何不秉燭遊？

為樂當及時，何能待來茲？

愚者愛惜費，但為後世嗤。

仙人王子喬，難可與等期。(古詩十九首之十五)

- ( ) 5. 這首詩旨在勉勵我們應如何？  
(A)及時努力 (B)把握青春年華 (C)及時行樂 (D)積極樂觀。
- ( ) 6. 這首詩的思想較接近於下列何家的思想？  
(A)儒家 (B)墨家 (C)法家 (D)道家。

小時候陪母親上市場，夏天裡總要買塊冬瓜回去煮湯。母親將冬瓜削皮切成小片，用蝦米和蔥爆香油鍋，再將它們投進煮沸了水的湯鍋中。煎成焦黃的蝦米吱吱叫著，冬瓜片一進鍋裡就安靜下來，蝦米的燙熱和疼痛彷彿都獲得了安撫。我一直覺得，媽媽的冬瓜湯，已經是冬瓜最好的料理方式了，這想法被鄰居賈媽媽的冬瓜盅徹底顛覆。

賈媽媽有次宴客，當她將一顆矮矮的冬瓜蓋子打開來，我看見裡頭的羹湯時，驚訝到說不出話來。香菇與干貝的氣味混著冬瓜的清香，那湯汁說不得混也說不得清。賈媽媽說她先將肥大香菇泡發，加上金黃色的干貝燉湯，倒進挖空的冬瓜裡再蒸一遍。那夜賈家姐妹來叫我，說賈媽媽留了冬瓜盅給我，他們家的客人已經離開了。我們穿越煙霧瀰漫混著酒氣的客廳，走進杯盤狼藉的廚房，冬瓜盅裡的湯汁僅剩一點點，我們拿起小湯匙，挖著冬瓜肉吃，被湯汁潤透的冬瓜肉透明著，不可思議的美味。

很多年後，我在一家餐廳吃飯，冬瓜盅上了桌，我起鬨說要用湯匙舀起瓜肉來吃才過癮。興致勃勃的舀起冬瓜的那一刻，眼睛忽然酸熱起來。我想起賈家早逝的那個兄弟，各自遠嫁卻又不斷飄泊的姐妹，想起我們擠在一起挖冬瓜吃的那個永遠不會返來的童年時光。

此刻，我獨自提著一片薄薄的冬瓜回家，仍是用母親煮湯的方式料理，而我的心裡藏著的是繁複美麗的冬瓜盅。我有時候羨慕冬瓜煮過就透明了，人生卻要經歷多少的烹煮，才能夠明明白白？

（改寫自張曼娟 一片薄薄的冬瓜）

- ( ) 7. 根據本文，下列敘述何者最恰當？(A)母親的冬瓜湯會加入泡發的香菇和干貝 (B)賈媽的冬瓜盅須用蝦米和蔥爆香油鍋 (C)作者覺得吃過最好的料理是母親的冬瓜湯 (D)作者認為賈媽媽的冬瓜盅的做法較為繁複。
- ( ) 8. 關於本文的寫作分析，下列敘述何者最恰當？(A)以倒敘的手法鋪陳對冬瓜料理的情感 (B)依序使用視覺、聽覺、嗅覺來摹寫冬瓜盅 (C)藉著容易煮透的冬瓜思索不易透澈的人生 (D)由多年後再喝母親的冬瓜湯勾起童年的回憶。

【試題結束，請仔細檢查—文光八年級國文科】

澎湖縣立文光國民中學 112 學年度第 1 學期第 1 次成績評量八年級國文科答案卷

班級：

姓名：

座號：

一、國字注音：(每一個「」1分，共14分)

1.	2.	3.	4.	5.	6.	7.
8.	9.	10.	11.	12.	13.	14.

二、注釋配合題：(填入正確答案的代號，每題1分，共10分)

1.	2.	3.	4.	5.	6.	7.	8.	9.	10.
----	----	----	----	----	----	----	----	----	-----

三、成語配合題：(請根據句子的描述，填入正確答案的代號，每題1分，共14分)

1.	2.	3.	4.	5.	6.	7.	8.	9.	10.	11.	12.	13.	14.
----	----	----	----	----	----	----	----	----	-----	-----	-----	-----	-----

四、選擇：(每題2分，共46分)

1.	2.	3.	4.	5.	6.	7.	8.	9.	10.	11.	12.
13.	14.	15.	16.	17.	18.	19.	20.	21.	22.	23.	

五、延伸閱讀題：(一題2分，共16分)

1.	2.	3.	4.	5.	6.	7.	8.
----	----	----	----	----	----	----	----

【考卷填寫完畢，請仔細檢查—文光八年級國文科】

※ 測驗時間四十五分鐘，請用本國文字書寫，可不必抄題目。 八年 班 座號： 姓名：

※ 請用黑色墨水筆（不得使用鉛筆），由上而下，自右而左書寫，文長三百字以上，不得使用詩歌、小說體裁及網路語言。

※ 答案紙上不得作任何標記或顯示個人身分，否則皆以零分計算。請仔細閱讀以下題目及說明，撰寫一篇作文。

題目：一個令我後悔的決定

說明：一生中會面臨許多抉擇，有時因思慮不周或一時衝動，會做出令人後悔的決定。請試著回想，你過去曾在何種情況下做出後悔的決定？這個決定對你有何影響？你從中獲得哪些感悟？並以「一個令我後悔的決定」為題，寫下你的體驗或感想。





澎湖縣立文光國中 112 學年度第一學期第一次定期評量八年級英語科試題答案卷

Class :                      Number :                      Name :

一、聽力測驗：10% (每題 2 分)

1.	2.	3.	4.	5.
----	----	----	----	----

二、文意字彙：20% (每題 2 分)

1.	2.	3.	4.	5.
6.	7.	8.	9.	10.

三、填充題：8% (每題 1 分)

1.	2.	3.	4.
5.	6.	7.	8.

四、文法測驗：20% (每題 2 分)

1.	2.	3.	4.	5.
6.	7.	8.	9.	10.

五、克漏字測驗：10% (每題 2 分)

1.	2.	3.	4.	5.
----	----	----	----	----

六、閱讀測驗：14% (每題 2 分)

1.	2.	3.	4.	5.	6.	7.
----	----	----	----	----	----	----

七、依提示完成句子：18% (每題 2 分)

1. Kevin joined a science camp <u>this summer vacation</u> . (依畫線部分造原問句)
2. Candy bought us <u>some interesting books</u> . (將畫線部分改為代名詞，並作適當變化)
3. { Helen caught a bad cold. Helen couldn't go to the beach with us. (用 so 合併句子)
4. 我昨天感到難過，因為 Jack 沒有給我生日禮物。(用...because...中翻英)
5. 在辦桌的最後，我用打包袋裝了一些剩菜回家。(中翻英)
6. 即使在炎炎夏日，我穿上了一件厚外套。(中翻英)
7. Selina surfed the Internet and read comic books in her room yesterday afternoon. (英翻中)
8. Scott used his "cool ways" for his cold. What do "cool ways" refer to (提到)?
9. How was your summer vacation? What did you do? (依實際情況回答)

澎湖縣立文光國中 112 學年度第一學期第一次定期評量八年級英語科試題

Class :                      Number :                      Name :

一、聽力測驗：10% (每題 2 分)

- ( ) 1. (A) Wait in a line for the tickets.  
(B) Buy the tickets on the Internet.  
(C) Take the hot air balloon ride.
- ( ) 2. (A) It's the man's car now.  
(B) The woman bought it five years ago.  
(C) The woman's dad washed it once a week before.
- ( ) 3. (A) He took out the trash.  
(B) He put his shoes in the sun.  
(C) He moved his shoes into the house.
- ( ) 4. (A) Because she took some medicine last night.  
(B) Because she worked too late last night.  
(C) Because she didn't sleep last night.
- ( ) 5. (A) Betty didn't do her homework.  
(B) Lily didn't do her homework.  
(C) Lily didn't do her homework, and Betty didn't, either.

二、文意字彙：20% (每題 2 分)

- \_\_\_\_\_ 1. My sister is downloading (下載) pictures to her c\_\_\_\_\_. It is for her art homework.
- \_\_\_\_\_ 2. To stay h\_\_\_\_\_, my grandpa exercises every day. Also, he eats lots of fruit and vegetables (蔬菜).
- \_\_\_\_\_ 3. Queen (女王) Elizabeth II is very important (重要的) in the h\_\_\_\_\_ of the UK. Almost all the English people know her.
- \_\_\_\_\_ 4. You got a bad cold. You must take the m\_\_\_\_\_ on time and drink a lot of water.
- \_\_\_\_\_ 5. In Taiwan, we usually have a barbecue (烤肉) on the Moon F\_\_\_\_\_. We can enjoy the delicious food and watch the moon (月亮) at the same time.
- \_\_\_\_\_ 6. I just got a m\_\_\_\_\_ on my cellphone. It was from Richard, and he would be five minutes late.
- \_\_\_\_\_ 7. Noise from the car factory is a s\_\_\_\_\_ problem for the students here. They have more difficulty (困難) in learning.
- \_\_\_\_\_ 8. The man c\_\_\_\_\_t my eye because he looked like my father a lot.
- \_\_\_\_\_ 9. Visiting markets is a good way to experience the life of a foreign (外國的) c\_\_\_\_\_. You can try different kinds of food there.
- \_\_\_\_\_ 10. Gina: I'm hungry. Is there any food?  
Duke: There're some l\_\_\_\_\_r noodles from last night's dinner.

三、填充題：填入正確的動詞變化(答案只限一個字)8% (每題 1 分)

My cousin, Thomas, visited my parents and me this summer. We all liked the beach very much, so we (1) (go) there one Sunday morning. The sky was blue, and the water was clean. We (2) (take) a walk and (3) (see) some small animals. After lunch, we (4) (swim) and played in the water. We even dived (潛水) down and (5) (say) hello to the colorful (五彩繽紛的) fish. They were beautiful. Then we were tired (疲累的), so we (6) (come) home and (7) (have) a big dinner. We really (8) (have) a great time at the beach.

四、文法測驗：20% (每題 2 分)

- ( ) 1. Lily was a doctor \_\_\_\_\_. However, she teaches science at a junior high school \_\_\_\_\_.  
(A) ago; now (B) now; before (C) ten years ago; now (D) now; ten years ago
- ( ) 2. These are my brother's shoes, and mine are over there. My mom made \_\_\_\_\_ as our birthday gifts.  
(A) it to us (B) them to us (C) it for us (D) them for us
- ( ) 3. A: Look! Mike \_\_\_\_\_ soccer over there.  
B: Really? I just \_\_\_\_\_ him to play it two hours ago.  
A: Maybe he will (將) be a soccer star one day.  
(A) plays; teach (B) is playing; teach (C) played; taught (D) is playing; taught
- ( ) 4. Jack: How does Lucy look different \_\_\_\_\_ her twin (孿生) sister?  
Cindy: Lucy is thin, but her sister, Judy, is strong.  
(A) about (B) from (C) as (D) of
- ( ) 5. My brother \_\_\_\_\_ like papayas before, but he \_\_\_\_\_ them now.  
(A) wasn't; likes (B) wasn't; liked (C) didn't; likes (D) don't; like
- ( ) 6. A: Who \_\_\_\_\_ the word on the blackboard last Friday? B: Emma \_\_\_\_\_.  
(A) writes; does (B) wrote; does (C) write; did (D) wrote; did
- ( ) 7. Sorry, I'm late. \_\_\_\_\_ I didn't bring my cellphone with me \_\_\_\_\_ I couldn't call you on my way here.  
(A) × ; ,so (B) × ; because (C) So ; because (D) Because ; ,so
- ( ) 8. My skirt is not \_\_\_\_\_ my sister's. My skirt is purple, and hers is red.  
(A) the same with (B) the same as (C) same with (D) same as
- ( ) 9. Alex: Hi, this is Alex. May I speak to Rachel?  
Ray: \_\_\_\_\_ May I take a message?  
(A) I don't know her. (B) Ok. You can see her now.  
(C) We watched a movie last night. (D) She's not here right now.
- ( ) 10. \_\_\_\_\_ It was really difficult for me to run 42 km in the race. Although (雖然) I was the last one, I still felt happy to get to the finish line (終點線).  
(A) I joined a running race for the first time last Sunday.  
(B) I watched a movie about a great runner yesterday.  
(C) I didn't join the running race last weekend.  
(D) I won the running race last Sunday.

五、克漏字測驗：10%（每題 2 分）



Dean: Why didn't you come to school today? I (1) you, but there was no answer.  
 Ross: My mom stayed at the hospital (2) the flu, so I was with her all day today. (3), she has to stay there for one week.  
 Dean: (4) Where is your father?  
 Ross: He is in Singapore on business for two weeks.  
 Dean: I see. You must be very tired. What can I do for you?  
 Ross: Can you (5) some masks (5) me? I only have one with me now.  
 Dean: OK. No problem.

📖 flu 流行性感冒 has to 必須 tired 疲累的 mask 口罩

- ( ) 1. (A) caught (B) held (C) called (D) kept
- ( ) 2. (A) so (B) but (C) because (D) because of
- ( ) 3. (A) Because the flu is serious  
 (B) She goes to the hospital almost every week  
 (C) She doesn't treat her flu with any medicine  
 (D) Because she doesn't always see a doctor for a cold
- ( ) 4. (A) Of course. (B) Here you are. (C) That's too bad. (D) Give me a break.
- ( ) 5. (A) show; for (B) bring; to (C) write; to (D) give; for

六、閱讀測驗：14%（每題 2 分）

A.

New Arrival	
	NT\$2800 Colors: Yellow / Green / Blue / Red Sizes: <input type="checkbox"/> S <input type="checkbox"/> M <input type="checkbox"/> L <input type="checkbox"/> XL Shopping Info: 3-5 business days. Discount: 10% off now.
<div style="border: 1px solid black; width: 30px; height: 30px; margin: 0 auto; display: flex; align-items: center; justify-content: center;">  </div>	
Customer Reviews	
Helen ★★★★★ The dress is beautiful and it's perfectly fit though it's a little expensive.	
Kelly ★☆☆☆☆ I ordered the dress but I waited for more than 10 days. I felt angry.	
Lisa ★★★★★ It's cute. I like it very much.	
Elsa ★★★★★ It looks great. I'll wear it very often.	
Angela ★★★★★ The color yellow is beautiful.	

- ( ) 1. Which is not true about the customer reviews?  
 (A) Most customers are happy with the dress.  
 (B) Angela thinks the color of the dress is good.  
 (C) Kelly doesn't like the dress because it's too expensive.  
 (D) Helen and Elsa love the dress.
- ( ) 2. Who might shop on the website?  
 (A) Jim. He loves jogging, and he needs some comfortable shoes.  
 (B) Mina. She wants to buy some clothes for her pet.  
 (C) Teresa. She is a badminton player, and she is looking for something she could wear during the game.  
 (D) Jack. His girlfriend's birthday is coming. He wants to buy her a gift.
- ( ) 3. How much is the dress if you place the order now?  
 (A) 2800. (B) 2520. (C) 280. (D) 2000.

B.

### TikTok

TikTok is an app for short-form mobile videos. It wants to inspire creativity and bring joy. TikTok has over one billion users in over 150 countries. It's free and fun to use. It has many tools. You can make your own videos and put them on the Internet. You can use it to make yourself look cute, cool, or funny. The app has many kinds of music, and you can use these songs in your videos, so your videos can be special and different. Just like Facebook and Instagram, people all over the world can watch your videos, like them, and leave notes under your videos. You can know other people's ideas.

The TikTok challenges are also great fun. They can be songs, dances, or actions. You can copy **them**, and when you do well, many people will see your videos, and then you can become famous. What's more, you can use TikTok to do good. Some challenges can encourage people or raise awareness for special organizations. Feel interesting? Download now and try it!

📖 inspire 啟發 creativity 創意 billion 十億 challenge 挑戰 encourage 鼓勵  
 raise 提高 awareness 意識 organization 組織 download 下載

- ( ) 4. What does "them" mean in the reading?  
 (A) Challenges. (B) Apps. (C) Countries. (D) Organizations.
- ( ) 5. Jolin wants to use TikTok to do good for animals, what challenge can she join?  
 (A) #MyEarthHour2019 (B) #ForClimate  
 (C) #PetLove (D) #BetterMeBetterInternet 📖 climate 氣候
- ( ) 6. According to the reading, who may try TikTok?  
 (A) Nini, an outgoing girl, loves to sing, dance, and have fun.  
 (B) Ian, a shy boy, always watches TV at home.  
 (C) Oliver, a handsome boy, likes to play computer games.  
 (D) Amy, a quiet girl, often surfs the Net to know more about her idols. 📖 idol 偶像
- ( ) 7. What can we learn from the reading?  
 (A) You have to pay some money for the app.  
 (B) TikTok is fun but helpless.  
 (C) Everyone can make creative videos by the app.  
 (D) We can only watch videos in our country. 📖 helpless 無助的 creative 創意的

七、依提示完成句子：18%（每題2分）

【試題結束~文光國中八年級英文】

澎湖縣立文光國民中學 112 學年度第 1 學期第 1 次成績評量 8 年級數學科試題卷

班級：

姓名：

座號：

讀卡 V 答案卷

一、選擇題 (每題 4 分, 共 32 分)

- ( ) 1. 下列等式何者正確?  
 (A)  $(4+3)^2=4^2+3^2$   
 (B)  $(20-8)^2=20^2-20\times 8+8^2$   
 (C)  $(15+5)(15-5)=15^2-5^2$   
 (D)  $101^2-100^2=(101-100)^2$
- ( ) 2. 下列有關平方根的敘述, 何者正確?  
 (A) 因為沒有任何整數的平方等於 2, 所以 2 沒有平方根  
 (B) 已知  $a=2^2$ , 所以  $a$  是 2 的平方根  
 (C) 若  $-2^2=-4$ , 則  $-2$  是  $-4$  的平方根  
 (D) 若  $a$  是 2 的平方根, 則  $-a$  也是 2 的平方根
- ( ) 3. 計算  $(3x-2)(x+1)$  的結果, 與下列哪一個式子相同?  
 (A)  $3x^2+x-1$  (B)  $3x^2+x-2$   
 (C)  $3x^2-2x+1$  (D)  $3x^2-2x-2$
- ( ) 4. 計算  $(320^2-160^2)\times\frac{1}{160}$  之值為何?  
 (A) 3 (B) 160 (C) 320 (D) 480
- ( ) 5.  $\sqrt{19}$  的值介於下列哪兩數之間?  
 (A) 1, 2 (B) 3, 4  
 (C) 4, 5 (D) 17, 18
- ( ) 6. 若  $a, b$  為兩質數且相差 2, 則  $ab+1$  之值可能為下列何者?  
 (A)  $39^2$  (B)  $40^2$  (C)  $41^2$  (D)  $42^2$
- ( ) 7. 已知  $A, B$  皆為  $x$  的多項式, 若  $A$  為二次多項式,  $B$  為一次多項式, 則  $A\times B$  為下列何者?  
 (A) 常數  
 (B) 一次多項式  
 (C) 二次多項式  
 (D) 三次多項式
- ( ) 8. 若比較  $\sqrt{65}, \sqrt{70}, 8, 9$  的大小, 其結果為下列何者?  
 (A)  $8 < \sqrt{65} < \sqrt{70} < 9$   
 (B)  $\sqrt{65} < 8 < \sqrt{70} < 9$   
 (C)  $\sqrt{65} < 8 < 9 < \sqrt{70}$   
 (D)  $8 < \sqrt{65} < 9 < \sqrt{70}$

二、填充題 (除第 1 題外每格 3 分, 共 52 分)

1. 下列各多項式分別是幾次多項式? 各項係數為何? 請完成下表: (每格 1 分)

多項式	次數	$x^3$ 項 係數	$x^2$ 項 係數	$x$ 項 係數	常數項
$2x^2+x-7$					
$-5x^3+\frac{4}{3}x$					

2. 利用乘法公式計算下列各式:

- (1)  $107^2 = \underline{\hspace{2cm}} \textcircled{1}$ 。  
 (2)  $89^2 - 2\times 89\times 39 + 39^2 = \underline{\hspace{2cm}} \textcircled{2}$ 。  
 (3)  $99.4 \times 100.6 = \underline{\hspace{2cm}} \textcircled{3}$ 。

3. 求下列各數的值:

- (1)  $(5x^3-x^2+8x+9)-(9-2x^2+4x^3) = \underline{\hspace{2cm}} \textcircled{4}$ 。  
 (2)  $(3x^2+2x+1)(x-2) = \underline{\hspace{2cm}} \textcircled{5}$ 。  
 (3)  $(5x-14)^2 = \underline{\hspace{2cm}} \textcircled{6}$ 。

4. 求  $(8x^2-1)\div(2x+3)$  的商式與餘式:

商式:  $\underline{\hspace{2cm}} \textcircled{7}$   
 餘式:  $\underline{\hspace{2cm}} \textcircled{8}$

5. 求下列各數的值:

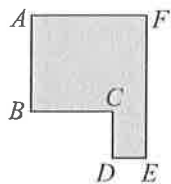
- (1)  $\sqrt{1.69} = \underline{\hspace{2cm}} \textcircled{9}$ 。  
 (2)  $\sqrt{\frac{81}{25}} = \underline{\hspace{2cm}} \textcircled{10}$ 。  
 (3)  $2^2\times 3^4\times 7^2$  的平方根 =  $\underline{\hspace{2cm}} \textcircled{11}$ 。

6. 右圖相鄰兩邊的線段均互相垂直，

其中  $\overline{AB} = 2x^2 - 2$ ， $\overline{CD} = x + 1$ ，

$\overline{DE} = x^2 - x$ ， $\overline{AF} = x^2 + x + 1$ ，則

$\overline{BC} =$  \_\_\_\_\_ (12) \_\_\_\_\_。

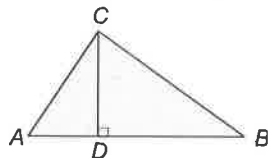


(以  $x$  的多項式表示)

7.  $\sqrt{146\frac{1}{144}} =$  \_\_\_\_\_ (13) \_\_\_\_\_。

8. 如附圖，已知  $\triangle ABC$  的面積為  $6x^2 + 13x + 6$ ，若  $\overline{AB} = 6x + 4$ ，求  $\overline{AB}$  所對應的高為 \_\_\_\_\_ (14) \_\_\_\_\_。

(以  $x$  的多項式表示)



三、計算題 (每題 4 分，共 16 分)

(須列計算過程，否則不予計分)

1. 若多項式  $20x^2 + 2x - 5$  除以多項式  $B$  得商式為  $4x + 2$ ，餘式為  $-1$ ，求多項式  $B$ 。

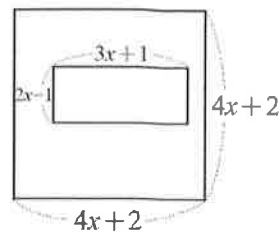
2. 已知  $5x - 2$  的平方根為  $\pm\sqrt{13}$ ，求  $x$  的值。

3. 已知  $x + \frac{1}{x} = 5$ ，求下列各式的值：

(1)  $x^2 + \frac{1}{x^2}$

(2)  $x - \frac{1}{x}$

4. 如附圖，有一個邊長為  $4x + 2$  的正方形土地。若歲歲集團規畫在內部蓋一個長為  $3x + 1$ ，寬為  $2x - 1$  的VIP停車場，則剩餘的土地面積為多少？(以  $x$  的多項式表示)



試題結束

祝各位考試順利~

澎湖縣立文光國民中學 112 學年度第 1 學期第 1 次成績評量 8 年級數學科答案卷

班級：                      姓名：                      座號：

一、選擇題 (每題 4 分，共 32 分)

1.	2.	3.	4.	5.	6.	7.	8.
----	----	----	----	----	----	----	----

二、填充題 (第 1 題每格 1 分，其餘每格 3 分，共 52 分)

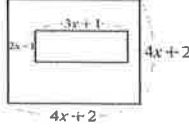
(每格 1 分)

多項式	次數	$x^3$ 項係數	$x^2$ 項係數	$x$ 項係數	常數項
$2x^2+x-7$					
$-5x^3+\frac{4}{3}x$					

(每格 3 分)

①	②	③	④	⑤
⑥	⑦	⑧	⑨	⑩
⑪	⑫	⑬	⑭	

三、計算題 (每題 4 分，共 16 分)

<p>1. 若多項式 <math>20x^2+2x-5</math> 除以多項式 <math>B</math> 得商式為 <math>4x+2</math>，餘式為 <math>-1</math>，求多項式 <math>B</math>。</p>	<p>2. 已知 <math>5x-2</math> 的平方根為 <math>\pm\sqrt{13}</math>，求 <math>x</math> 的值。</p>
<p>3. 已知 <math>x+\frac{1}{x}=5</math>，求下列各式的值</p> <p>(1) <math>x^2+\frac{1}{x^2}</math>      (2) <math>x-\frac{1}{x}</math></p>	<p>4. 如附圖，有一個邊長為 <math>4x+2</math> 的正方形土地。若歲歲集團規畫在內部蓋一個長為 <math>3x+1</math>，寬為 <math>2x-1</math> 的 VIP 停車場，則剩餘的土地面積為多少？</p> 



澎湖縣立文光國民中學 112 學年度第 1 學期第 1 次成績評量 8 年級自然科試卷

答案請填入答案卷

8 年\_\_\_\_班 座號：\_\_\_\_\_ 姓名：\_\_\_\_\_

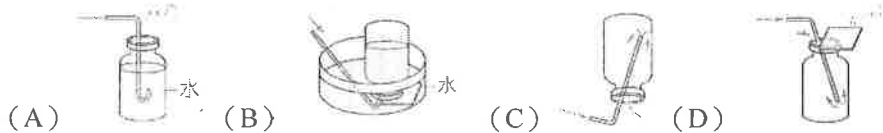
範圍：緒論、第 1 章基本測量、第 2 章物質的世界、跨科主題 物質的分離

題目卷總共 2 張 4 面，請檢查。

讀卡 答案卷

一、單選題 (40 題，每題 2 分，共 80 分)

( ) 1. 在實驗室裡製造二氧化碳氣體，用哪一種方法收集氣體最理想？



( ) 2. 下列物質中，何者屬於純物質？(A) 空氣 (B) 碘酒 (C) 食鹽 (D) 氣泡水。

( ) 3. 物質的狀態大致上可區分為固態、液態和氣態，請問下列何者屬於液態物質的共通性質？

(A) 具有固定的體積 (B) 無色無味 (C) 形狀固定 (D) 具有可燃性。

( ) 4. 物質變化可以區分為物理變化與化學變化，請判斷下列選項中，何者的物質變化與其他三者不同？

(A) 露水蒸發 (B) 光合作用 (C) 乾冰昇華 (D) 冰雪熔化。

( ) 5. 使用上皿天平測量物體，若右盤放置的砝碼為 50 公克 1 個、10 公克 2 個、5 公克 1 個、200 毫克砝碼 1 片、100 毫克砝碼 1 片，則此物體質量應記錄為多少公克？(此天平可測量的最小刻度單位為 100 毫克) (A) 75.30 (B) 78.00 (C) 80.30 (D) 83.00。

( ) 6. 小吃店老闆利用撈網，將煮熟的水餃從沸水中撈起，請問此作法所應用的原理，與下列何者相同？

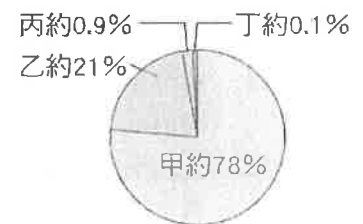
(A) 晒鹽是將海水中的水分蒸發分離出來，留下食鹽結晶 (B) 將混濁的泥漿靜置一段時間後，泥沙會沉澱在下層，而上層則為清澈的水 (C) 泡咖啡時，會利用濾紙把咖啡豆渣和咖啡液分離 (D) 利用濾紙，將一種彩色筆的色彩，分離出不同的色素。

( ) 7. 下列同學們所描述的數值中，何者不會因為測量工具的最小刻度限制，而產生估計誤差？

(A) 小峻：我的身高是 170.5 cm (B) 小永：量筒內有 23.0 mL 的酒精 (C) 阿童：教室內有 25 張桌子 (D) 阿彥：講臺的長度是 4.3 m。

( ) 8. 人類的生存離不開空氣，附圖為乾燥空氣 (不含水氣) 組成成分示意圖，請問下列有關空氣的敘述何者正確？

(A) 丙、丁均為純物質 (B) 丁氣體不易發生反應，屬於鈍氣 (C) 點燃的線香在乙氣體中會燃燒更旺盛 (D) 乙氣體可用於焊接金屬時，防止金屬與氧反應。




( ) 9. 小薇整理了「誤差」概念的筆記，下列內容何者錯誤？

(A) 正確測量後得到的測量值，仍可能與實際值不同 (B) 多次測量求平均值時，應先把明顯與其他數據相差太多的測量結果刪除，再求平均值 (C) 選用最小刻度越小的測量儀器，測量結果就會越準確 (D) 不同測量者只要使用相同工具進行測量，就一定能得到相同的測量結果。

( ) 10. 下列煤炭的特性中，哪些屬於其物理性質的描述？甲、呈黑色或棕黑色 乙、密度約為 1.2~1.8 g/cm<sup>3</sup> 丙、為可燃性礦物 丁、無法溶於水 戊、無法導電。(A) 丙 (B) 丙戊 (C) 丙丁戊 (D) 甲乙丁戊。

( ) 11. 生活中的汗水若直接排入河川，會造成水域發臭，因此需經由汗水下水道系統運送至汗水處理廠，進行以下的



流程，其中阻截垃圾所使用的原理，與下列甲~戊的哪些相同？

(A) 甲乙戊 (B) 丙 (C) 甲丙丁 (D) 乙戊。

甲、煮咖啡時，使用濾紙過濾咖啡粉與咖啡；乙、冷氣加裝濾網可減少室內空氣中的懸浮物；丙、鹽田中曝曬海水得到鹽；丁、透過色層分析法發現彩虹糖的顏色由不同色素組成；戊、雨撲滿中的濾水器。

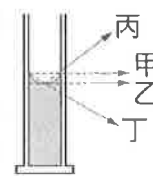
背面尚有試題，請翻頁作答

- ( ) 12. 取三個完全相同的燒杯，裝入等量的沙拉油，分別放入質量相同的銀塊（密度： $10.5 \text{ g/cm}^3$ ）、鐵塊（密度： $7.9 \text{ g/cm}^3$ ）、鋁塊（密度： $2.7 \text{ g/cm}^3$ ），若金屬塊皆完全沒入沙拉油中，且燒杯內的沙拉油皆沒有溢出，則哪個燒杯中的液面上升最少？  
 (A) 放入銀塊的燒杯 (B) 放入鐵塊的燒杯 (C) 放入鋁塊的燒杯 (D) 三個燒杯液面上升一樣多。
- ( ) 13. 歐盟訂定野苜蓿藥「普拔克」的殘留容許量是 20ppm。請問 20 ppm 代表的意義為何？  
 (A) 每公克中含有 20 公克的普拔克 (B) 每公克中含有 20 毫克的普拔克 (C) 每公斤中含有 20 公克的普拔克 (D) 每公斤中含有 20 毫克的普拔克。
- ( ) 14. COVID-19 疫情期間，加強環境消毒，普遍使用酒精在做消毒工作。根據研究，酒精（乙醇）水溶液的體積百分率濃度在 75% 左右時，其消毒效果最好。小童買了一罐 1000 毫升、75% 的防疫用酒精水溶液，請問當中含有多少毫升的乙醇？  
 (A) 7.5 (B) 75 (C) 750 (D) 7500。
- ( ) 15. 老師請 5 位同學測量同一個書櫃的寬度，5 位同學的測量結果如附表，請問哪一個選項是表達該書櫃寬度測量結果的正確方式？

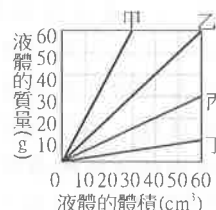


測量者	小歆	小薇	小婕	小庭	小箴
測量結果	60.02	60.04	23.63	60.01	60.05

- (A) 60.02 公分 (B) 60.03 公分 (C) 60.04 公分 (D) 60.05 公分。
- ( ) 16. 有兩個容積相等、質量都為 100 公克的寶特瓶容器，一瓶裝滿水之後，總質量為 250 公克，另一瓶裝滿果汁之後，總質量為 280 公克，則果汁的密度約為多少  $\text{g/cm}^3$ ？  
 (A)  $1.2 \text{ g/cm}^3$  (B)  $1.25 \text{ g/cm}^3$  (C)  $1.33 \text{ g/cm}^3$  (D)  $1.5 \text{ g/cm}^3$ 。
- ( ) 17. 小淞在家中意外檢到一枚金屬戒指，他利用天平測得此枚戒指質量為 48.25g，並利用排水法測得此枚戒指體積  $2.5 \text{ cm}^3$ ，對照表中密度，請問小淞檢到的是哪一種戒指？  
 (A) 金戒指 (B) 銀戒指 (C) 銅戒指 (D) 鐵戒指。
- | 金屬                     | 金    | 銀    | 銅   | 鐵   |
|------------------------|------|------|-----|-----|
| 密度 ( $\text{g/cm}^3$ ) | 19.3 | 10.5 | 8.9 | 7.9 |
- ( ) 18. 小遠想要知道黑色的彩色筆內，黑色是由哪些顏料所組成，你會建議他用哪種方法進行實驗最為快速方便？(A) 排水法 (B) 溶解過濾法 (C) 色層分析法 (D) 蒸發結晶法。
- ( ) 19. 已知冰的密度為  $0.93 \text{ g/cm}^3$ ，常溫水的密度大約為  $1.0 \text{ g/cm}^3$ 。當一塊質量 200 克的冰在常溫下完全融化為水，則水的體積最接近多少？(A)  $100 \text{ cm}^3$  (B)  $200 \text{ cm}^3$  (C)  $93 \text{ cm}^3$  (D)  $186 \text{ cm}^3$ 。
- ( ) 20. 已知體積為  $10 \text{ cm}^3$  的鋁塊，其質量為 27.0g。阿哲將 54.00g 的鋁塊放入量筒，若原本量筒中裝有 50mL 的水，且放入鋁塊後水未溢出，則此時水面讀數為多少？  
 (A) 70mL (B) 77 mL (C) 104 mL (D) 60 mL。
- ( ) 21. 使用有刻度之量筒，量取水的體積時，甲、乙、丙、丁四位觀察者之視線如下圖所示，哪一位所得之讀數較正確？(A) 甲 (B) 乙 (C) 丙 (D) 丁。
- ( ) 22. 由以下資訊判斷，哪一些液體為純物質？甲：沸點  $61 \sim 92 \text{ }^\circ\text{C}$ ；乙：沸點  $120 \text{ }^\circ\text{C}$ ；丙：沸點  $88 \text{ }^\circ\text{C}$ ；丁：沸點  $92 \sim 98 \text{ }^\circ\text{C}$ ；戊：沸點  $38 \sim 105 \text{ }^\circ\text{C}$ ？  
 (A) 甲乙丙 (B) 乙丙 (C) 甲丁戊 (D) 乙丙戊。
- ( ) 23. 小硯測量某液體的密度，將液體分次裝入量筒中量體積，再放在天平上量質量，得到附表數據，附圖則是利用表中數據做成此液體的體積與質量的關係圖，則圖中哪一條線才是該液體？  
 (A) 甲 (B) 乙 (C) 丙 (D) 丁。



次數	液體的體積 ( $\text{cm}^3$ )	「量筒+液體」的質量 (g)
1	5	100
2	10	110
3	15	120
4	20	130
5	25	140



- ( ) 24. 有關有顏色之未飽和溶液的性質敘述，下列何者錯誤？(A) 有顏色之未飽和溶液再加入相同的溶質後顏色會變深 (B) 有顏色之未飽和溶液再加入相同溶質仍可繼續溶解 (C) 有顏色之未飽和溶液再加入相同溶質，其濃度會再增加 (D) 只有增加溶質這個方式才能使有顏色之未飽和溶液變成飽和溶液。

- ( ) 25. 使用直尺測得鉛筆的長度為 18.42 公分，則哪一個數字是估計數值？(A) 1 (B) 8 (C) 4 (D) 2。
- ( ) 26. 在常壓下，不同溫度時，1 mL 的水中可溶解甲、乙、丙、丁四種氣體的體積如附表，依據表中資料，在常壓、常溫下，下列何者最不適合使用排水集氣法收集氣體？(A) 甲 (B) 乙 (C) 丙 (D) 丁。

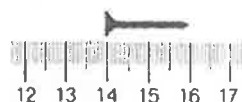
氣體 溫度	甲	乙	丙	丁
0°C	600cm <sup>3</sup>	1.71cm <sup>3</sup>	0.021cm <sup>3</sup>	0.024cm <sup>3</sup>
20°C	450cm <sup>3</sup>	0.88cm <sup>3</sup>	0.018cm <sup>3</sup>	0.015cm <sup>3</sup>
40°C	390cm <sup>3</sup>	0.53cm <sup>3</sup>	0.016cm <sup>3</sup>	0.012cm <sup>3</sup>

- ( ) 27. 將密度 1.8 g/cm<sup>3</sup> 的水溶液 360 g，用水稀釋至體積為原來的 20 倍，則混合液的密度為多少 g/cm<sup>3</sup>？  
(A) 0.09 (B) 1.04 (C) 1.40 (D) 1.60。

- ( ) 28. 小琳操作雙氧水製氧的實驗，以二氧化錳與雙氧水製造氧氣，其裝置如附圖所示，有關此實驗的敘述，何者錯誤？(A) 二氧化錳為此實驗的催化劑  
(B) 若氧氣的生成速率太快時須從薊頭漏斗處添加蒸餾水 (C) 雙氧水的濃度越高氧氣的生成速率越快 (D) 充滿氧氣的廣口瓶從水中取出後，瓶口朝上，以玻璃片蓋住，置於桌面。



- ( ) 29. 用最刻度是公厘 (mm) 的直尺測量鐵釘長度，圖中數字代表公分，則鐵釘的長度應記為多少公分？



- (A) 2.000 公分 (B) 16.00 公分 (C) 2.00 公分 (D) 16.0 公分。
- ( ) 30. 在一般的實驗過程中，為了釐清不同因素對結果的影響，通常一次實驗操作只會改變某一項可能影響結果的因素，將其他因素則固定不變，則這些固定不變的因素稱為？

- (A) 操作變因 (B) 控制變因 (C) 應變變因 (D) 隨機變因。
- ( ) 31. 甲、乙兩物體的體積比為 4:3，質量比為 2:3，則甲、乙兩物體的密度比為何？  
(A) 1:2 (B) 2:3 (C) 8:9 (D) 9:8。

- ( ) 32. 一杯重量百分濃度為 6% 的 200 公克糖水，若小婷一口氣喝掉其中的 100 公克，則剩下的糖水溶液重量百分濃度應為何？ (A) 3% (B) 6% (C) 8% (D) 12%。

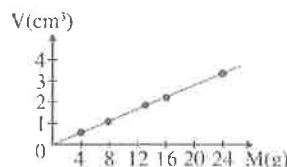
- ( ) 33. 一壺冷水置於瓦斯爐上方加熱，加熱時不加蓋子，以方便觀察水中的變化，開始加熱後就發現有氣泡從下方湧上，約十幾分鐘後，發現整個水沸騰，冒出大量白煙。請問一開始所冒出來的氣泡主要的成分應該是以下何種物質：(A) 溶在水中的空氣 (B) 二氧化碳 (C) 水蒸氣 (D) 液態水。

- ( ) 34. 承上題，一般認為，如果使用煮開過而降至常溫的開水，不適合養魚，其原因應該為何？(A) 存在的氧氣太多 (B) 魚的生存條件不能太乾淨 (C) 裡面的礦物質消失了 (D) 存在的氧氣太少。

- ( ) 35. 眼藥水散瞳劑中阿托平 (Atropine) 所含的重量百分濃度為 1%，若此散瞳劑的密度為 1.2g/cm<sup>3</sup>，則容量為 200mL 的散瞳劑中的阿托平 (Atropine) 含量大約為多少公克？  
(A) 1.2 (B) 2.4 (C) 120 (D) 240。

- ( ) 36. 已知常溫下 100 克水最多只能溶解 36 克食鹽，小婕取 40 克食鹽置於杯子內，再加 100 克水入此杯中，攪拌至完全溶解時，此杯中食鹽水的重量百分濃度為下列何者？  
(A) (40/100) × 100% (B) (40/60) × 100% (C) (40/140) × 100% (D) (36/136) × 100%。

- ( ) 37. 有五個大小不同的實心金屬球，小箴分別將這些金屬球丟入水中，利用金屬球排開水的體積來量得這些金屬球的體積 (V)，並以天平量測其質量 (M)，最後將結果描繪如附圖。他發現圖上各點恰可連成一條直線，且此直線通過原點，則他提出下列哪一個說明來解釋此一現象最合適？  
(A) 因為量測球體積的方法相同 (B) 因為這些金屬球的比熱相同  
(C) 因為這些金屬球的形狀相同 (D) 因為這些金屬球的密度相同。



- ( ) 38. 有一未飽和食鹽水溶液的重量百分濃度計算式，如附圖所示。有關此食鹽水溶液的敘述，下列何者正確？ (A) 當水為 15 g 時，溶質為 1.2 g (B) 當溶液為 15 g 時，溶質為 13.8 g (C) 當水為 15 g 時，溶質為 13.8 g (D) 當溶液為 15 g 時，溶質為 1.2 g。



背面尚有試題，請翻頁作答

題組：(39~40題)

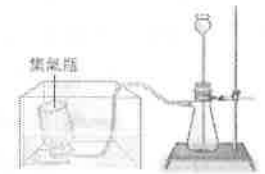
美國德州一家化學肥料工廠發生大爆炸，疑似因為原料無水氨儲存不當而造成。如圖新聞畫面所示，無水氨在此處指的是液態的氨氣，無水氨在高溫環境下突然汽化而產生高壓，或是遇到強氧化劑(例如含硝酸根離子  $\text{NO}_3^-$  的物質)，都可能爆炸。而無水氨常溫下為氣態，本身是「無色的」，「密度」比空氣小，有「強烈刺激氣味」，「極易溶於水」(常溫常壓下，1單位體積水可溶解700倍體積的氨，不須考慮解離)，屬於「強鹼」，往往具有強烈「腐蝕性」，對健康也有破壞性；一旦吸入有毒氣體，不但可能休克，有時還會致死。



- ( ) 39. 文中有關「無水氨」性質的敘述，「」中屬於物理性質的有幾項？(A) 2 (B) 3 (C) 4 (D) 5。  
 ( ) 40. 根據圖中判斷，從正常狀態到形成「無水氨」，最可能經過下列何種過程？  
 (A) 凝結的化學變化 (B) 汽化的物理變化 (C) 汽化的化學變化 (D) 凝結的物理變化。

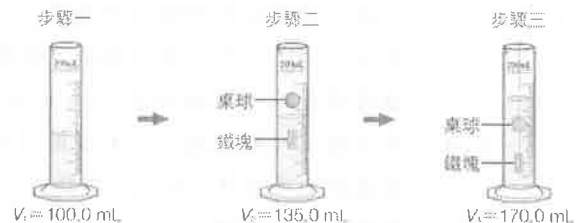
二、填充題：(10 格答案，每格 2 分，共 20 分，答案請填入答案卷中)

1. 附圖為實驗室製造氧氣的裝置，請回答下列問題：



- (1) 實驗室中為了製造氧氣，可以選用下列哪些藥品？(A) \_\_\_\_\_ (填代號)  
 甲、雙氧水 乙、鹽酸 丙、二氧化錳 丁、大理石。  
 (2) 氧氣應該具有下列哪種特性，才需要使用圖中的收集方式？(B) \_\_\_\_\_ (填代號)  
 甲、易溶於水 乙、不易溶於水 丙、密度比水大 丁、密度比水小。  
 (3) 若是氣體產生太快，以致於吸濾瓶內液體由薊頭漏斗上升，甚至快要噴出，此時最好的處理方法是下列四種方法中的 (C) \_\_\_\_\_。(填代號)  
 甲、用橡皮塞塞住薊頭漏斗 乙、由薊頭漏斗加入水 丙、暫時把橡皮管移出水面 丁、由薊頭漏斗加入二氧化錳。


2. 阿綺為了得知桌球的體積，設計如附圖的測量方式，如果步驟一~三的水位分別為  $V_1=100.0$  毫升、 $V_2=135.0$  毫升、 $V_3=170.0$  毫升，且懸掛桌球與鐵塊細線的體積可忽略不計，請回答下列問題：(答案表示到小數點後 1 位)



- (1) 鐵塊的體積為 (D) \_\_\_\_\_ 立方公分。  
 (2) 桌球的體積為 (E) \_\_\_\_\_ 立方公分。  
 (3) 若鐵的密度是  $7.9 \text{ g/cm}^3$ ，則圖中的鐵塊質量應該是 (F) \_\_\_\_\_ 公克。  
 3. 小安取 153 公克乾燥的沙子，放入量筒內，再倒入 100 毫升的水，並以玻璃棒充分攪拌後，靜置一段時間，整個過程的量筒讀數變化如附圖所示，請回答下列問題：



- (1) 沙子的實際體積為多少  $\text{cm}^3$ ？(G) \_\_\_\_\_  $\text{cm}^3$ 。(答案表示到小數點後 1 位)  
 (2) 沙子的密度為多少  $\text{g/cm}^3$ ？(H) \_\_\_\_\_  $\text{g/cm}^3$ 。(答案表示到小數點後 1 位)  
 4. 小雯買了一瓶米酒，米酒瓶上貼著如右圖的標示。小雯在料理燒酒雞前將 200mL 的米酒加入 800mL 的水中，假設混合後的體積是 1000mL，則：  
 (1) 混合液內酒精的含量？(I) \_\_\_\_\_ mL。  
 (2) 混合液內酒精的體積百分濃度是？(J) \_\_\_\_\_ %。



【試題結束—112 學年度第 1 學期第 1 次成績評量 8 年級自然科】

澎湖縣立文光國民中學 112 學年度第 1 學期第 1 次成績評量

8 年級自然科試題

答案卷

得分

8 年\_\_\_\_班 座號：\_\_\_\_\_ 姓名：\_\_\_\_\_

一、 單選題 (40 題，每題 2 分，共 80 分)

1	2	3	4	5	6	7	8	9	10
11	12	13	14	15	16	17	18	19	20
21	22	23	24	25	26	27	28	29	30
31	32	33	34	35	36	37	38	39	40

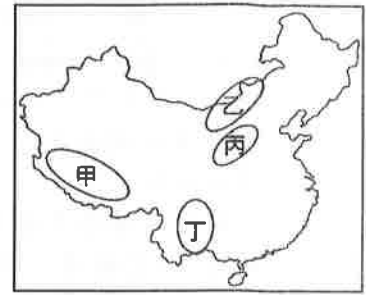
二、 填充題 (10 格答案，每格 2 分，共 20 分)

(A)	(B)	(C)	(D)	(E)
(F)	(G)	(H)	(I)	(J)

一、 單選題(1-14 題每題 2 分，15-18 題每題 1 分，共 32 分)

1. ( ) 中國以何處作為水稻農業區與小麥農業區的分界？ (A)黑河至騰衝 (B)四川盆地 (C)雲貴高原 (D)秦嶺、淮河。

2. ( ) 「這裡是世界上面積最大的黃土分布區域，被河川侵蝕成河谷、盆地，形成千溝萬壑、崎嶇不平的地表景觀，於是政府在山頂上建起了森林公園，20 年來這裡的森林覆蓋率大幅提高，居民終於擺脫粉塵的嗆鼻，可以深呼吸運動了！」請問：上文所述的景觀可以在右圖中哪一個地區看見？




(A)甲 (B)乙 (C)丙 (D)丁。

3. ( ) 中國地勢最高階梯因受限於自然環境，土地生產力較低，居民主要的經濟活動為何？ (A)農業 (B)林業 (C)漁業 (D)畜牧。

4. ( ) 中國現行的行政分區中，特別行政區分別為下列何者？ (A)澳門和廣東 (B)香港和福建 (C)香港和澳門 (D)香港和上海。

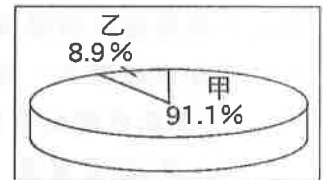
5. ( ) 右圖為中國某高原的地形剖面圖。由圖中資料判斷，其最有可能是下列哪一個高原？ (A)黃土高原 (B)雲貴高原 (C)青藏高原 (D)內蒙古高原。



6. ( ) 中國的蒙古、新疆等地氣候乾燥，形成草原或沙漠景觀，其主要的原因為何？ (A)距海遙遠 (B)地勢較高 (C)高壓籠罩 (D)寒流經過。

7. ( ) 西元 2020 年，中國新生兒性別比例約為 113，此數字代表的意義為何？ (A)每 200 個新生兒當中，有 113 個是女嬰 (B)每 200 個新生兒當中，有 113 是男嬰 (C)每 100 個男嬰對應 113 個女嬰 (D)每 100 個女嬰對應 113 個男嬰。

8. ( ) 下列何者是因中國人口分布不均所造成的問題？ (A)少數民族分布於邊疆地帶 (B)自然資源分布不均 (C)文盲人口高達 11% (D)東部沿海地區環境壓力大。



9. ( ) 右圖為中國民族比例圖，圖中代號「甲」最可能為下列何者？ (A)壯族 (B)漢族 (C)維吾爾族 (D)54 個少數民族。

10. ( ) 中國華北地區(例如北京市)的夏季季風風向應為下列何者？



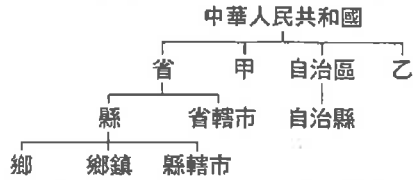
11. ( ) 中國東北地區冬季嚴寒主要受何種因素影響？ (A)緯度 (B)地形 (C)季風 (D)距海遠近。

12. ( ) 右圖為中國目前常見的家庭結構。導致此結構產生的主要原因與中國曾經施行的人口政策有關，而該政策可能衍生出的人口問題不包括下列何者？ (A)少子化顯著 (B)高齡化嚴重 (C)性別比失衡 (D)人口素質低。

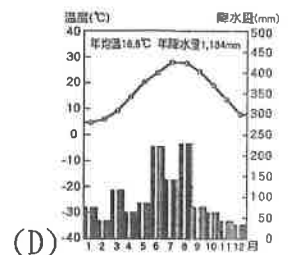
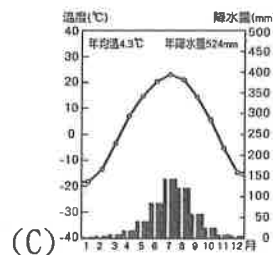
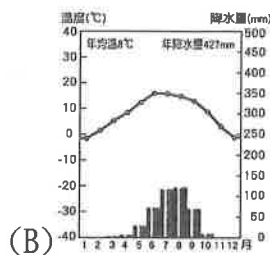
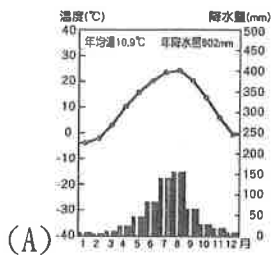


13. ( ) 若將中國百萬人以上的大都市以紅點標示在中國地圖上，則下列哪一個地區內的紅點數量會最少？ (A)東北平原 (B)華北平原 (C)塔里木盆地 (D)長江中下游平原。

14. ( ) 下圖為建安上完地理課後所整理出的中國行政區劃圖。圖中甲、乙兩種省級行政區的數量合計為何？ (A)3個 (B)4個 (C)5個 (D)6個。



15. ( ) 地勢高低影響一地的自然環境及人文特色。下列哪一個現象與中國地勢較無關？ (A)人口持續快速成長 (B)人口集中東半部 (C)主要河川東流入海 (D)有利海洋暖溼氣流深入內陸。
16. ( ) 中國東半部為季風氣候。某一季節季風的吹拂風向是從海洋吹向陸地，此季節最可能為何？ (A)春季 (B)夏季 (C)秋季 (D)冬季。
17. ( ) 中國的人口總數眾多，此說明中國具有何種優勢？ (甲)礦產資源豐富 (乙)勞動人力充足 (丙)消費市場廣大 (丁)就業機會較多 (A)甲乙 (B)甲丙 (C)乙丙 (D)丙丁。
18. ( ) 下列為中國四個城市的氣候圖。請由圖中的資料判斷，何地最有可能是位於青藏高原的拉薩市？



## 二、題組 (19-20 題每題 1 分，共 2 分)

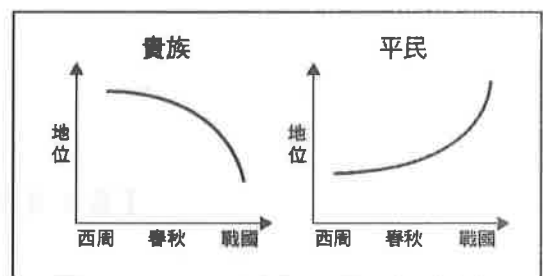
中國自古以農業立國，主要人口構成也都是農民。秦代以前的農業生產就已經有相當高水準，明代中後期由美洲輾轉傳入玉米等作物，更是在中國人民飲食生活中發揮重要作用，為當時的人口增長減輕壓力。請問：

19. ( ) 早期中國的農民透過下列哪些方式，發展傳統農業，以提高土地的生產力？  
 (甲)改良農具 (乙)製作堆肥 (丙)逐水草而居 (丁)作物基因改造  
 (A)甲乙 (B)甲丁 (C)乙丙 (D)丙丁。
20. ( ) 荒地開發是增加糧食生產的方式之一，下列哪些地區屬於荒地？ (甲)湖岸 (乙)三角洲 (丙)沖積平原 (丁)沙漠邊緣  
 (A)甲乙 (B)甲丁 (C)乙丁 (D)丙丁。

【第 2 頁地理科結束 後面尚有試題】

## 一、 單選題(21-34 題每題 2 分, 35-37 題每題 1 分, 共 31 分)

21. ( ) 中國某一時期中央派任「中正官」評定地方人士選拔人才，選拔標準為家世背景、才能、道德，將人分為上上、上中、上下、中上、中中、中下、下上、下中、下下的九個等級，並加以評語，作為授官的依據。依據上述內容，較有可能產生下列哪一種社會現象？  
(A) 貴族獨占教育之權 (B) 經學傳家，累世當官 (C) 上品無寒門，下品無士族 (D) 萬般皆下品，唯有讀書高。
22. ( ) 世界遺產委員會評價：「龍門地區的石窟展現了中國北魏至唐代期間，最具規模和最具特色的造型藝術。這些詳實描述宗教題材的藝術作品，代表了中國石刻藝術的最高峰。石窟歷經四百餘年才建成，迄今已有一千五百多年的歷史，可說是一座大型的石刻藝術博物館。」請問：上述石刻博物館展現了哪一宗教藝術？ (A) 佛教 (B) 道教 (C) 基督教 (D) 伊斯蘭教。
23. ( ) 宋伯伯為歷史故事書籍的主編，昨日他剛完成一份稿件：西元前 771 年，申侯聯合鄩國與犬戎進攻幽王。最後周幽王在驪山下被殺。請問：下列何者可能是此書下一章的標題？  
(A) 漢帝減輕賦稅，休養生息 (B) 商王實行封建，統治東方 (C) 天子地位低落，諸侯爭霸 (D) 秦王避免苛政擾民，政權穩定。
24. ( ) 一篇文章中提到：「『他們』憑藉著家世背景便得以坐擁高官、享有厚祿，但實際上許多人能力欠乏，但卻可以掌握政治大權，並且擁有眾多的土地，還可以減免賦稅以及勞役，形同享有政治以及經濟上的特權。」文章中提到的「他們」指的應該是何者？  
(A) 西周的奴隸 (B) 秦漢的學子 (C) 魏晉的世族 (D) 隋唐的官員。
25. ( ) 喬斌說道：「就中國歷史發展的進程來看，甲時代看重禮樂的重要性，貴族階層必須依禮行事，不得逾越，禮制成為一種區別身分地位的象徵。」由上述內容來判斷，甲時代為何？ (A) 商朝 (B) 西周 (C) 秦朝 (D) 漢朝。
26. ( ) 西元前四世紀，秦國商鞅推行變法。其中提到成年男子要向政府登記，並繳納戶稅。如果有成家但沒有另行向政府登記者，需要加倍繳納戶稅。此外，也按照登記來獎勵開墾荒地，增加農業生產。商鞅變法中，執行政令必須先掌握哪一項資源？ (A) 徵稅項目 (B) 統一度量衡 (C) 戶籍人口 (D) 土地多寡。
27. ( ) 高仙芝是唐代名將，其家族原本是來自朝鮮半島的高句麗人，他後來隨父親遷至中國內地，並且志願從軍，長期鎮守西域一帶。他為唐朝立下不少戰功，卻在怛羅斯一役敗給阿拉伯帝國。此戰的失利使唐朝逐漸失去對中亞的控制權，也促成何種中國文物西傳？  
(A) 造紙術 (B) 指南針 (C) 火藥 (D) 印刷術。
28. ( ) 秦始皇廢除封建改行郡縣，郡縣的長官由朝廷調派。這項重要行政措施的轉變，對當時的政局有何影響？ (A) 造成外戚與宦官的奪權 (B) 促使犬戎入侵 (C) 中國自此中央集權 (D) 引發民亂。
29. ( ) 礎元翻閱歷史書籍看到一個圖表，如右圖所示。請問：西周到東周時期，貴族和平民地位曲線的變化，是下列何種因素所造成？  
(A) 各國國君強調「用人唯才」 (B) 郡縣制度的推行 (C) 科舉制度的實施 (D) 戰爭多而貴族負責作戰。
30. ( ) 中國於西元 1978 年，在湖北省挖掘出一組曾侯乙編鐘，考古學家如獲至寶，發現這組編鐘是目前規模最大、音域最齊全且最廣的編鐘系統。這套編鐘除了象徵古代青銅器的高超技術外，還代表著這套編鐘主人的社會地位。請問：使用這些青銅樂器象徵身分地位，最早發源於哪個朝代？ (A) 商周時期 (B) 秦漢時期 (C) 魏晉時期 (D) 隋唐時期。





31. ( ) 中國科舉制度實行近一千三百年，總計考取進士十六萬多人。武進士兩萬餘人，狀元近千人。其中，明清曾舉辦進士考試 201 科，取中進士五萬多人。請問；此份資料最有可能自下列何朝開始計算？ (A)秦朝 (B)漢朝 (C)隋朝 (D)宋朝。
32. ( ) 在商周之際，草原民族與農業民族的分界並不明顯，但是自東周晚期以來的「某種變革」，標誌著草原民族與農業民族的永遠分隔。上述「某種變革」應為何者？ (A)郡縣的確立 (B)中央的集權 (C)絲路的興起 (D)長城的建立。
33. ( ) 每個姓氏皆有其起源及發展的歷史，有些姓氏的出現，甚至可以反映出一個時代的局勢或變革。下表為中國歷史上某一政權推行政策，要求人民改用新姓的規定，下列敘述何者正確？

原姓	拓跋	獨孤	賀賴
新姓	元	劉	賀

- (A)政策規定漢姓需改為鮮卑姓 (B)此政策由北魏孝文帝所推行 (C)改用新姓的規定屬胡化政策 (D)漢人政權藉此同化境內胡族。
34. ( ) 唐朝時期，國內呈現兼容並蓄的多元文化，對外文化輸出也有斐然的成績。關於唐朝對外輸出文化的敘述，下列何者正確？ (A)影響範圍擴及新羅、日本和西亞內陸 (B)中國文字、法律等影響新羅和日本 (C)對外主要輸出胡服、葡萄酒等胡風文化 (D)偏重文字器物傳播，思想制度影響甚微。
35. ( ) 中國古代的選才制度因朝代更迭而時有變動，制度往往會因應時代需求而有所調整，因此學者們也經常透過選才制度來了解當時的時代背景。請問：「布衣卿相」透露出當時的何種社會氛圍？ (A)魏晉南北朝戰爭頻繁，貴族沒落 (B)秦始皇中央集權，在用人上刻意重用百姓、冷落貴族 (C)唐代以後實施科舉考試，百姓較以前更無法參與政府運作 (D)東周時期各國國君用人唯才，平民有機會擔任官員。
36. ( ) 依據漢代律法的規定，家庭中應該遵守長幼尊卑有序的規範，律法中規定「不孝」之罪，幼者不得告發長輩犯罪，更不得毆打長輩，否則以不孝罪論處，但長輩對晚輩則有極大的懲戒權力。由此可知，漢代的律法中有何特色？ (A)「孝廉」為政府取才的方式 (B)強調透過嚴刑峻法威嚇人民 (C)倫理道德思想融入律法之中 (D)僅有平民需遵守律法的規定。
37. ( ) 永嘉之禍後，胡人統治黃河流域大部分地區，北魏孝文帝為了解決胡漢衝突，並鞏固統治，推動胡漢融合，實施了一些政策，請問：下列哪項政策不是為了解決胡漢衝突所制定的？ (A)將首都從平城遷都洛陽 (B)胡人改漢姓 (C)鼓勵胡漢通婚 (D)開辦太學。

【第 4 頁歷史科結束 後面尚有試題】

一、 單選題(38-52 題每題 2 分，53-57 題每題 1 分，共 35 分)

38. ( ) 下列是老師上課時說的一段話：「清帝國末期，代表國家至高無上的政治權力受到干涉，辦一個小小犯人，都要聽外國人做主。」上述所說「代表國家至高無上的政治權力」，是指下列何者？ (A)人民 (B)領土 (C)政府 (D)主權。
39. ( ) 以下是某日的新聞報導：「臺灣四面環海，除了遠洋漁業占全國總體漁業產值 40% 以上，臺灣也是全球水產貿易龍頭。為加強及管理我國遠洋漁業，立法院經濟委員會舉辦公聽會，邀集產官學界共同討論「漁業三法」，包含《遠洋漁業條例》、《投資經營非我國籍漁船管理條例》及《漁業法》部分條文修正草案。」上述召開公聽會的做法，展現出民主政治的何種特色？ (A)政黨政治 (B)責任政治 (C)法治政治 (D)民意政治。
40. ( ) 三權分立學說將政府的統治權分散給不同機關，並使其相互制衡，這種設計的主要用意為何？ (A)促進經濟發展 (B)促進社會正義 (C)避免濫用私人 (D)避免專制濫權。
41. ( ) 侑澄正在製作公民課要報告的簡報：  
★民主國家的主權屬於國民全體。  
★國家擁有主權，政府擁有統治權。  
★國家是永久性的整體，政府會更替。  
★政府是國家的組成要素之一。  
根據簡報內容判斷，侑澄報告的主題應為下列何者？ (A)國家與政府之間的差異 (B)國家提供的福利與權益 (C)國家存在的最主要目的 (D)民主國家應具備的要素。
42. ( ) 西元 2020 年 11 月，美國總統大選結果出爐，共和黨的總統川普(Donald Trump)連任失敗，民主黨的總統候選人拜登(Joe Biden)當選為第 46 任美國總統。下列有關此次美國總統選舉的結果分析，何者敘述最正確？ (A)川普必須將美國的領土移交給拜登 (B)拜登當選提升美國在國際上的地位 (C)川普的施政獲得肯定而取得執政權 (D)拜登可以組成新的政府行使統治權。
43. ( ) 一個國家的成立皆會組織政府，下列關於政府的組成，哪些敘述是正確的？ (A)甲乙丙 (B)甲乙丁 (C)甲丙丁 (D)乙丙丁。  
(甲)會因選舉或革命而更替  
(乙)制訂及執行政策、法令  
(丙)管理國家公共事務  
(丁)擁有主權且永久性的政治團體
44. ( ) 以下是有關沙烏地阿拉伯的新聞報導：「沙烏地阿拉伯於西元 2022 年 3 月處決 81 名男子，國際特赦組織(Amnesty International)認為，沙國的司法系統有嚴重缺陷，諸多司法審判皆在對當事人極不公平的環境下進行，如犯人在關押期間遭嚴刑拷打、逼迫招供，而被判處死刑等。」下列相關敘述何者正確？ (A)沙國的政策因朝令夕改而受到抨擊 (B)沙國司法審判的過程可能侵害人權 (C)沙國的審判權掌握在全國人民手中 (D)沙國是依法定程序審判的民主國家。
45. ( ) 中國人至今都是一個重「人情」的民族，其缺點之一是用人時常只問「關係」，不問能力。為了防止行政機關濫用私人，於是孫中山主張將下列何種權力從行政權中獨立出來？ (A)監察權 (B)考試權 (C)立法權 (D)司法權。
46. ( ) 以下是閱至在網路上看到的一則新聞：「一名男子疑似喝醉酒、闖紅燈，攔腰撞上一臺白色轎車，坐在後座的兩名乘客全身多處骨折，送醫後傷重不治。肇事的酒駕男子被警察依過失致死與公共危險罪送辦。」上述警察將該名酒駕民眾移送法辦的做法，是在實現國家成立的哪項目的？ (A)發展社會福利 (B)維持社會秩序 (C)保衛國家安全 (D)保障基本人權。

47. ( ) 臺中市政府環保局稽查區域開發及大型公共工程，發現幾處工地有土方堆置及裸露地表未完整覆蓋、車輛行駛揚塵等缺失，開出罰單並要求業者限期改善。環保局表示，未來會不定時前往土方開挖量大的工地稽查，加強空氣汙染防治。下列何者為文中機關這麼做的主要目的？ (A)展現臺中市政府的公權力 (B)希望能避免政府違法濫權 (C)行使公權力保障人民權利 (D)處罰未依法行政的市政府。
48. ( ) 以下是老師上課時的講解：「國家統治機關的總稱，為近代國家構成要素之一，是具有制定法律及執行法律之權力的政治組織。」根據內容判斷，老師是在說明哪一項國家組成要素？ (A)人民 (B)領土 (C)政府 (D)主權。
49. ( ) 孫中山指出，《憲法》是「人民權利之保障書」，因為《憲法》制定之後，無論政府或人民，都要遵守《憲法》的規範，這說明了民主政治具有何種特色？ (A)民意政治 (B)政黨政治 (C)法治政治 (D)責任政治。
50. ( ) 雅淳在報上看到：「某高中舉行一關於【甲】的成果發表會，這是以學生為主體提出的報告，學生們探討隱私權、傾聽權、休息權、身心障礙四大議題，藉此更了解自身權益。」請問：【甲】應該是指下列哪一項概念？ (A)主權 (B)權力 (C)權利 (D)人治。
51. ( ) 新冠肺炎疫情期間，學生的停課標準引起各界關注，臺北市政府召開防疫記者會，依據教育部的指引，將臺北市的停課標準更動為1班1位確診停課10天、超過全校3分之1或超過10班，則全校停課。下列敘述何者不正確？ (A)涉及政府公權力的行使 (B)此情景出現在人治社會 (C)行政機關必須依法行政 (D)政府依法保障人民權利。
52. ( ) 西元2020年，韓國瑜代表中國國民黨角逐我國總統大選，蔡英文則代表民主進步黨爭取再次執政的機會，宋楚瑜也代表親民黨參加選戰。上述三個政黨透過選舉競爭執政機會，這是民主政治的何種特色？ (A)民意政治 (B)責任政治 (C)法治政治 (D)政黨政治。
53. ( ) 咨涵利用暑假到國外自助旅行，途經某個國家，看到廣場布告欄上張貼了右圖告示單，請由告示單的內容判斷，下列何種情況最可能在該國出現？ (A)法律由人民共同決定 (B)執行法律沒有一致的標準 (C)政府受到法律約束，必須依法施政 (D)以人民的意見為主，落實主權在民。

### 法令公告

國王頒定防疫生活公約，即刻生效。所有人都應恪守遵行，不得違反，若有違反情形，由國王下令懲處。

54. ( ) 上完公民課後，仔之對於國家和政府的概念有些疑惑，請幫她選出哪個答案最能代表國家與政府涵蓋範圍？ (A)國家和政府無關聯 (B)國家等於政府 (C)國家包含政府 (D)政府包含國家。
55. ( ) 慧恩看到一段歷史敘述：「二里頭文化遺址中發現當時政治中心——規模宏大的宮殿基址，以及各種青銅器，反映出政治威權的強化……顯示當時已有國家組織的出現。」從上述二里頭文化遺址的描述內容判斷，最能看出哪些國家組成要素？ (A)人民、領土 (B)領土、主權 (C)主權、政府 (D)政府、人民。
56. ( ) 在民主國家中，政府的政權會因選舉結果而有所更替。故各國對於政權交接皆有其規定。以下是相關案例——「美國制定《總統交接法》，歷年來美國前後任總統即是根據這項法律進行交接，為期約二個半月。法國則設有獨立的三個檔案管理局管理政府檔案，不受一般行政部門管轄，在相關法律的保護下，法國政府施政經驗得以傳承，也有利新舊政府交接。」關於上述各國政府的做法，主要目的為何？ (A)透過法令制定，確保新政府順利取得國家統治權 (B)避免政府的更迭，進而影響國家對外主權的獨立性 (C)確保政府統治權的來源是以執政者的利益為考量 (D)確保政府更替的過程不會影響該國在國際上的地位。
57. ( ) 西元2019年4月，北非國家蘇丹傳出軍事政變，執政長達30年的巴席爾在軍隊包圍總統府的狀況下，宣布請辭。這起政變後，蘇丹轉由軍政府暫時接管。上述事件代表下列何種意義？ (A)國家更換對內的主權 (B)人民授權更換新政府 (C)國家滅亡而主權消失 (D)政府的統治組織變更。【第6頁 社會科考題結束】