

澎湖縣立文光國民中學 112 學年度第 1 學期第 2 次成績評量七年級國文科試題卷

班級： 姓名： 座號： ■答案卷

一、國字注音：(每一個「」1分，共14分)

1. 刀「𠄎ㄨㄚˋ」： 2. 「𠄎ㄨㄚˋ 𠄎ㄨㄚˋ」教誨： 3. 「ㄍㄨㄥˋ」負： 4. 數「一ㄎㄨㄥˋ」：  
5. 「ㄍㄨㄥˋ ㄍㄨㄥˋ」門： 6. 自顧不「ㄊㄩㄥˋ」： 7. 精「ㄍㄨㄥˋ」： 8. 避「ㄉㄨㄥˋ」：  
9. 「ㄒㄩㄥˋ」涼： 10. 光風「ㄑㄩㄥˋ」月： 11. 剝「ㄒㄩㄥˋ」： 12. 肉「ㄉㄨㄥˋ」飯：  
13. 「ㄅㄩㄛˋ」透： 14. 風馳電「ㄑㄩㄥˋ」：

二、注釋配合題：(請根據句子的描述，填入正確答案的代號，每題1分，共10分)

1. 大費周章： 2. 「殆」盡： 3. 俄頃： 4. 童叟無欺： 5. 「沁」涼：  
6. 恍然大悟： 7. 風馳電掣： 8. 精湛： 9. 剝削： 10. 向隅：

※配合選項：

- A 很短的時間 B 精良深厚 C 壓榨、搜刮 D 風雨交加，氣候不佳 E 比喻因錯失良機而得不到  
F 滲入或透出 G 心裡忽然明白 H 去除物體的皮殼 I 心裡仍執迷不悟 J 指商家非常講求信用  
K 比喻快速 L 將近 M 承受 N 分泌液體 O 事情麻煩瑣碎，必須耗費許多時間和精力來處理

三、成語配合題：(請根據句子的描述，填入正確答案的代號，每題1分，共14分)

- 【(A) 疾風勁草 (B) 作繭自縛 (C) 刻骨銘心 (D) 垂涎三尺 (E) 韋編三絕  
(F) 破釜沉舟 (G) 巧奪天工 (H) 責無旁貸 (I) 心堅石穿 (J) 刻舟求劍  
(K) 病入膏肓 (L) 不恥下問 (M) 理屈詞窮 (N) 狐假虎威 (O) 撒手人寰  
(P) 不苟言笑 (Q) 渾然天成 (R) 可見一斑 (S) 成人之美 (T) 水能載舟，亦能覆舟】

- 1、在這麼多確鑿的證據面前，他( 1 )，再也無法辯解了。  
2、現在只有( 2 )地奮力一搏，才有機會扭轉目前的局勢。  
3、禁絕犯罪，保護人們生命財產安全，是政府( 3 )的事。  
4、( 4 )，經過這陣子的考驗，大家總算見識到他堅強的意志了。  
5、我們的校長為人嚴肅，平時( 5 )，但其實對每個學生都充滿關愛。  
6、老師誨人不倦、有教無類的教學熱誠，讓學生們( 6 )，畢生難忘。  
7、從健康檢驗報告來看，他已( 7 )，病況很不樂觀，所以終日唉聲嘆氣。  
8、所謂「( 8 )」，網際網路雖然帶來生活的便利，卻也造成網路成癮的問題。  
9、積沙成塔，( 9 )，只要你下定決心，全力以赴，相信必有功成名就的一天。  
10、報章媒體紛紛報導今年各行業的年終獎金銳減，國內經濟不景氣的情況( 10 )。  
11、他因車禍腦溢血而( 11 )，留下二個孤苦無依的小孩，急需社會善心人士救助。

【第1頁結束 背面尚有試題】

- 12、今天媽媽大展身手，煮了一桌令人（ 12 ）的菜，我真恨不得馬上能大快朵頤一番。
- 13、霍博士每次下鄉田野調查，就四處向當地農民請教水土情形，（ 13 ）的精神令人敬佩。
- 14、處理事情本來就要考慮各種情況，然後提出最適當的因應措施，絕不能（ 14 ），不知變通。

#### 四、選擇：（每題2分，共46分）

- ( ) 1. 老師的十二樣見面禮：「一個老師大費周章準備二十三個紙袋，確認每個紙袋都裝齊了東西，開學第一天，送給每個孩子當見面禮，還寫了信，充滿濃厚的人文氣息與溫暖情懷。」請問哪句成語可以形容當時情景？（A）青出於藍（B）光風霽月（C）太平盛世（D）如沐春風。
- ( ) 2. 「人們往往就是太執著，而有分別心。是你、是我，劃分得清清楚楚，以致對自己所愛的拚命去爭、去求、去嫉妒，因為心胸狹窄，所以處處都是障礙。」這段話所指的「障礙」的含義，與下列何者最接近？（A）邀功之人非常多（B）失敗者的阻撓（C）不利於己的事物（D）無法通過的考驗。
- ( ) 3. 生活中常會使用諧音雙關的用語，如送人橘子祝福他人「大吉大利」，下列同學舉出生活中常見的諧音雙關用法，請問何人說明有誤？（A）雙雙：過年時會親手製作年糕給家人們吃，希求能大家「步步高升」（B）小婉：前陣子參加姑姑的喜宴，宴客桌上擺有紅棗與桂圓，這代表「早生貴子」的意思（C）武銘：探望病人時，除了攜帶補品，也能攜帶時鐘前往，因時鐘有生命永無止盡的意涵（D）廷升：大考前學校午餐特別提供包子與粽子給考生，是期許考生們能夠「包中」。
- ( ) 4. 上完老師的十二樣見面禮的課文之後，擔任衛生股長的皮皮，跑來向亮亮哭訴，亮亮安慰他說：「你的想法總是固執己見，因此容易遭到責難，反而自己心裡受傷。」當下便給他兩樣小禮物，請皮皮根據課文禮物的象徵意義，提醒自己。綜上所述，請推測下列何者可能為亮亮給皮皮的禮物？（A）牙籤、鉛筆（B）牙籤、口香糖（C）口香糖、巧克力（D）橡皮筋、巧克力。
- ( ) 5. 老師的十二樣見面禮：「作為媽媽，誰不希望孩子開學第一天得到這樣一個牛皮紙袋呢？」此句使用「激問」修辭法，下列何者亦使用了相同的修辭技巧？（A）你知道這支手機要多錢嗎？三萬元！我的天啊（B）還有什麼比貓足更能表現出那輕且軟、落地無聲的霧呢？（C）什麼是路？就是從沒有路的地方踏出來的，從祇有荊棘的地方開闢出來的（D）聰明的你，告訴我，為什麼我們的日子一去不復返呢？
- ( ) 6. 下列文句「    」中的成語，何者使用最恰當？（A）本以為這次的計畫萬無一失，沒想到「黯然失色」，最後竟無法實行（B）多年之後重回故鄉，不禁有「移山倒海」、世事多變之嘆（C）春天來了，綠地毯似的草坪上開滿了「五花八門」的野花（D）這家臺菜館味美價廉，難怪客人絡繹不絕、「戶限為穿」。
- ( ) 7. 關於吃冰的滋味一文，下列文意敘述何者錯誤？（A）「近人講究包裝，較重外表，內容則能省則省，一般消費者很難逃過這種障眼法，品質就缺乏保障了。」這段話點出了現代冰品「金玉其外，敗絮其中」的缺點（B）「糖廠福利社前總是大排長龍，爭購各類冰品。晚到一步的可能就要向隅。」由此可知糖廠的生意「門可羅雀」（C）「每到夏天吃冰時，我都會想起這些往事，像鄉愁般地隨著現代化的冰淇淋一一嚥下。」這段文字充滿了「懷舊」的心情（D）「一旦把冰抽離，相信每個人的童年都會黯然失色。」由此可見「冰」在孩童心目中的重要性。
- ( ) 8. 摹寫修辭可細分為「視覺、聽覺、嗅覺、觸覺、味覺」幾類。（甲）這家麵攤的牛肉麵嘗起來既新鮮又不油膩。（乙）放學回家聞到的飯菜香，那是屬於愛的味道。（丙）一路騎來，串串鈴鐺聲響徹街頭巷尾。（丁）五月黃梅天，到處黏糊糊的。（戊）桃樹、杏樹、梨樹，你不讓我，我不讓你，都開滿了花趕趟兒。紅的像火，粉的像霞，白的像雪。上列文句若要依視覺、觸覺、味覺之順序排列，則應選擇下列何者？（A）乙甲丙（B）戊丙乙（C）戊丁甲（D）乙甲丁。



- ( ) 20. 下列對於「工具書」的說明何者正確？ (A)如果課後作業要查閱一些成語的出處及意義，百科全書是較好的選擇 (B)要查「陳」這個字，必須先知道它是「阜」部，然後算出此字的總筆畫數，便可以在字典中翻查到此字 (C)百科全書因內容較為繁多，所以在使用之前，最好先閱讀編輯方式，了解編排順序，才能迅速查到所要的資訊與內容 (D)將資訊以網路的方式呈現不能算是一種工具書。
- ( ) 21. 想藉由「全唐詩全文檢索系統」蒐集有關田園山水生活為題材的詩歌，輸入下列哪一組詞語可以最快找到相關作品？ (A)戰爭、暴政 (B)農家、清泉 (C)宮廷、晶簾 (D)大漠、單于。
- ( ) 22. 「智慧是寶石，如果用謙虛鑲邊，就會更加燦爛奪目。」(高爾基) 這段話主要在強調下列何者？ (A)智慧 (B)謙虛 (C)寶石 (D)燦爛。
- ( ) 23. 「老師和學生的親密關係，是要慢慢培養的。剛起頭，老師和學生彼此都很陌生，當然感受不到你所說的親切。但是大家在一起的日子多了，由陌生變成熟悉，那種親切就會出現。你們期待老師的親切，老師何嘗\_\_\_\_\_。你們也可以努力，讓你們\_\_\_\_\_。那時候，你們一定會相信，學校真是一個溫馨的好地方！」(林良林良爺爺的三十封信) 請問文中畫線處最適合填入下列何者？ (A)覺得陌生是重要的；所期待的親切早日消滅 (B)不期待你們的親切；所期待的親切早日出現 (C)覺得親切是重要的；所期待的親切早日出現 (D)不期待你們的陌生；所期待的陌生早日消滅。

### 五、延伸閱讀題：(一題2分，共16分)

出席

作者：渡也

我的學生經常不到學校／有的曠課／有的請假

他們不了解人生

我含淚要求他們／不准缺席

以便應付人生

他們不知道／艱困的人生／沒有請假單／天天都要／出席

- ( ) 1. 本詩的主題是什麼？ (A)慨嘆學生求學態度偷懶、欠認真 (B)惋惜學生不敢面對壓力，選擇逃避 (C)告誡學生要培養勇於面對現實的能耐，以積極迎向人生 (D)提醒學生，求學歲月是人生中最簡單輕鬆的時光，應當把握。
- ( ) 2. 作者詩末說：「艱困的人生／沒有請假單／天天都要／出席」的原因應是下列何者？ (A)環境悲苦的人，沒有偷懶的權利 (B)人就活在現實中，現實是無法逃避的 (C)現實冷酷，稍一怠惰，便被他人迎頭趕上 (D)要成就大事的人，唯有勤奮耕耘，才能有志者事竟成。

生活科技——吃冰簡史 (節錄)

作者：陳雅茜

現代人吃冰是理所當然的一件事，不過古人沒有冰箱怎麼吃冰呢？西元前第四世紀的亞歷山大大帝與第一世紀的羅馬暴君尼羅，都是在冬天派人山上取冰，加入蜂蜜、水果後享用。

不過中國人吃冰吃得更早。幾千年前，中國的帝王已經知道享受夏天吃冰的樂趣。他們在冬天把冰塊存入地窖，等到夏天再取出來享用。到了一千多年前，唐朝人發現硝石溶於水可以吸熱，把水溫降到冰點，於是夏天製冰變成了一件可能的事。

元朝時出現了奶製冰品，與現代的冰淇淋類似。傳說中，馬可孛羅十三世紀到中國旅行時，才把冰品的配方帶回歐洲。

冰淇淋原本是皇親貴族用來款待佳賓的美食。十七世紀的英王查理一世為了保有冰淇淋的秘密，不惜花費重金收買廚師。十九世紀初，美國 麥迪遜總統就職時，也特別端出了冰淇淋這道美食，以饗賓客。

- ( ) 3. 根據本文，關於世界各地吃冰的歷史，下列何者說法正確？ (A) 中國的帝王領先其他地區知道享受夏日吃冰的樂趣 (B) 亞歷山大大帝是世界上最早開啟吃冰歷史的人 (C) 奶製的冰淇淋正是馬可孛羅在中國旅行時意外發明的 (D) 美國人將他們製冰技術傳至中國，目的用來招待嘉賓。
- ( ) 4. 根據本文，下列對於吃冰的描述，何者最正確？ (A) 羅馬君王尼羅必須派人到冰河邊取冰，才能夠享用冰品 (B) 唐朝君王一定要在冬天時派人將冰存到地窖才能吃 (C) 在英國冰淇淋配方是一級機密，國王為了保有其秘密，不惜重金收買廚師 (D) 在古代每個平民百姓都能在夏日輕易的享用冰品。

老麵在國外早有上百年的歷史。老麵的酸味來自於其中的乳酸菌，乳酸菌正是讓麵團聞起來酸、入口香的主要因素，而且老麵能讓麵包的質地比較溼潤，老化慢，將保存時間拉長。所以使用老麵的歐式麵包，雖然外表看起來硬，但裡面卻溼潤許多，放幾天也不會乾掉。

培養老麵並不難，從無到有只要七天，但後繼的維護（養老麵）卻不容易，每天不但要注意保持溫度，還得不斷補充食物（小麥粉、水），就像對小孩子一樣，隨時注意他穿暖沒、吃飽沒，還要適時進行溝通、撫慰，我就聽說過有人試著讓老麵聽音樂。

事實上，和老麵熟悉後，我常常覺得老麵就是我，我就是老麵，親切無比，因為老麵就像我小時候一樣，調皮、不定性。而我對老麵的照顧，就像媽媽小時候照顧我一樣，噓寒問暖、無微不至，即使我表現不好，也不會罵我、責怪我，反而會安慰我。

（節錄自吳寶春 柔軟成就不凡）

- ( ) 5. 以下對於文中「老麵」的描述何者正確？ (A) 放很久的麵條 (B) 作者朋友的綽號 (C) 作者的寵物 (D) 麵包香味的來源。
- ( ) 6. 「我常常覺得老麵就是我，我就是老麵」意思為何？ (A) 作者與老麵無話不談 (B) 想研發更多新口味麵包 (C) 自己與製麵包工作合而為一 (D) 天生是製麵包高手。

為自己開一扇窗子 作者：邵 憫

有人覺得自己是世上深陷不幸的人，所以懶得跟人說話，懶得臉上出現笑容，懶得去關心別人；彷彿要把自己封錮在一間密不通風、黑暗的石室中。

這種自囚方式是很危險的。

因為現代畢竟沒有很多俠客去石室救人。

而且我們也不是王子和公主，也不是員外和官爺，所以一個人應該及早的為自己開一扇窗子，越大越好；那時候心靈不但能自由，同時也容易和外界起共鳴。

開這扇窗子的先決條件是「誠懇」，我們要把誠懇當作玻璃擦拭得乾乾淨淨，一塵不染，讓別人能把我們的裡外作一番徹底的透視，瞭解這是一處可以存在友誼的地方；沒有偽裝，沒有自私，天空溫暖的陽光都會喜歡來這裡作客。假使窗內有了友誼，我們便會有了關懷的晤談、開朗的歡笑，到時候石室的囚卒——孤獨，也會嚇得走遠了。

- ( ) 7. 根據本文內容，下列何者是開啟心靈之窗的條件？ (A) 虛偽 (B) 誠懇 (C) 自私 (D) 自信。
- ( ) 8. 為什麼說「一個人應該及早的為自己開一扇窗子」呢？ (A) 方便觀賞室外風景 (B) 災難時較易向人呼救 (C) 能讓溫暖的陽光照進來 (D) 開放的心靈較易和外界起共鳴。

澎湖縣立文光國民中學 112 學年度第 1 學期第 2 次成績評量七年級國文科答案卷

班級：

姓名：

座號：

一、國字注音：(每一個「」1分，共14分)

1.	2.	3.	4.	5.	6.	7.
8.	9.	10.	11.	12.	13.	14.

二、注釋配合題：(填入正確答案的代號，每題1分，共10分)

1.	2.	3.	4.	5.	6.	7.	8.	9.	10.
----	----	----	----	----	----	----	----	----	-----

三、成語配合題：(請根據句子的描述，填入正確答案的代號，每題1分，共14分)

1.	2.	3.	4.	5.	6.	7.	8.	9.	10.	11.	12.	13.	14.
----	----	----	----	----	----	----	----	----	-----	-----	-----	-----	-----

四、選擇：(每題2分，共46分)

1.	2.	3.	4.	5.	6.	7.	8.	9.	10.	11.	12.
13.	14.	15.	16.	17.	18.	19.	20.	21.	22.	23.	

五、延伸閱讀題：(一題2分，共16分)

1.	2.	3.	4.	5.	6.	7.	8.
----	----	----	----	----	----	----	----

【考卷填寫完畢，請仔細檢查—文光七年級國文科】







請交答案卷即可

Class :

Number :

Name:

一:聽力測驗題;基本問答,根據聽到的內容,選出合適的回應 10% (每題二分)

- ( ) 1. (A) It's a bag.  
(B) It's on the sofa.  
(C) They're between the chairs.
- ( ) 2. (A) It's a pin from my brother.  
(B) This jacket is a surprise for you.  
(C) Yes, there is something in my jacket.
- ( ) 3. (A) Ok. See you at the party.  
(B) Wear something from your country.  
(C) Halloween is just around the corner.
- ( ) 4. (A) Yes, it is.  
(B) No, there isn't.  
(C) Yes, that is my car.
- ( ) 5. (A) I am fine.  
(B) I am sorry.  
(C) That's right.

二:填充 40%; 1-10 為單字填充; 11-20 答案可能不只一個字 (每題二分)

- ☺ Amy: Beef noodles are my favorite. They are d 1. s.  
Brain: Really? I like beef noodles, too. It's 12:00. Let's go get some.
- ☺ People in Taiwan eat rice 米飯 with c 2. ks.
- ☺ Pandas eat b 3. os
- ☺ There are many a 4. ls in Kiki's Pet Shop 寵物店. They're all very cute.
- ☺ Please write an e 5. l to your friend in English, Kevin.
- ☺ My mom is a doctor. She is h 6. ing.
- ☺ Students w 7. r uniforms 制服 at school.
- ☺ Jasper: There's something on my sh 8. er. What's it?  
Ben: It's a bird.
- ☺ Our Easter Egg H 9. t 復活節尋蛋活動 is for any people under 16 years old. Come and join us.
- ☺ J 10. t put your book on the desk.
- ☺ Don't play 11. the knife. It is dangerous 危險的.
- ☺ Carol: This gift is 12. you.  
Mimi: Thank you. It's so kind 13. you.
- ☺ Let's plan 14. our Thanksgiving party.
- ☺ You are welcome to my house 15. the potluck.



This is Denny's bedroom. He is lying 躺 on the bed in his bedroom. He is reading comic 漫畫 books, not studying now. They are his favorite. They are his birthday gifts 16. his uncle in the USA. There are many things in his bedroom. His schoolbag is 17. the bed and his book is on the floor beside it. The desk is 18. his bed. There 19.(be) a computer 電腦, a robot 機器人, and a fishbowl 魚缸 on it. Inside the fish bowl 20.(be) Golden, a fish.

### 三:選擇題 30% (每題二分)

- ☺ 1. open the door for me.  
(A)Please Jason (B)Jason, please (C)Please, Jason (D)Jason please
- ☺ A small bird 2. on Michael's shoulder.  
(A)there is (B)there are (C)is (D)are
- ☺ **Fiona:** Are there many people in your family?  
**Benet:** 3.  
(A)Yes, they are. (B)Yes, there is. (C)No, they aren't. (D)No, there aren't.
- ☺ Please 4. sad, Alice.  
(A)not be (B)be not (C)don't (D)don't be
- ☺ **Jenny:** Mom, we have a party at school today.  
**Mom:** That's nice. Are Tina and Amit with you?  
**Jenny:** Yes. We're good friends.  
**Mom:** 5. But don't come home late.  
**Jenny:** OK. Thanks, Mom.  
(A)Have fun. (B)Invite them. (C)Come on in. (D)Talk to them.
- ☺ There 6. any fruit at home. Let's go to the supermarket超市.  
(A)is (B)are (C)isn't (D)aren't
- ☺ **Tim:** What's there under the car?  
**Sue:** 7.  
(A)Yes, there's a dog under it. (B)It's a red car, not blue.  
(C)There are three dogs. (D)No, there isn't a cat under it.
- ☺ The rabbits inside the box 8. cute  
(A) is (B) am (C) are (D)be

Dear class,

We are going to 將 visit 拜訪 the Taipei World Flora Exposition 花卉博覽會 tomorrow! Let's meet at Taichung Station 台中車站 at 8 a.m. Don't be late! See you tomorrow!

Things to bring (攜帶):	Rules (規則) to follow (遵循):
1. Student ID card	1. Don't be too noisy (吵鬧地).
2. Water	2. Wear your uniforms (制服).
3. Umbrella (傘)	3. Always wait in line.
4. Cellphone or money (Call your parents to pick you up (接送).)	4. Don't eat or drink on the bus.
5. A small bag	5. Don't <u>wander off</u> . Always (總是) stay with the class!

9. Who may write this?

- (A) The bus driver.  
(B) The parents.  
(C) The teacher.  
(D) The class leader.

10. Which DOESN'T the students need 需要 to follow?

- (A) Always be on time.  
(B) Wait in line.  
(C) Always be quiet in class.  
(D) Don't talk on the bus.

11. What may wander off mean 意指?

- (A) Leave 離開 somewhere 某地.  
(B) Stand up.  
(C) Get up.  
(D) Stay somewhere.

*The rules 規則 at the museum*

1. Don't talk loudly 大聲地.
2. Don't take pictures.
3. Don't touch 觸摸 anything.
4. Don't sit.
5. No food or drinks.
6. No cellphones.
7. No pets 寵物.

12. Which sign 哪一個標誌 is NOT at the museum?

(A)



(B)



(C)



(D)



13. "Carter, don't take pictures." Which rule is Carter breaking 正在破壞?

- (A) Rule 7 (B) Rule 5. (C) Rule 3. (D) Rule 2.

14. Simon is eating cake at the museum. Which rule is Simon breaking?

- (A) Rule 7. (B) Rule 6. (C) Rule 5. (D) Rule 4.

15. Who is welcome to the museum?

(A)



(B)



(C)




(D)



四. 寫作練習 ; 請根據提示作答 20% (每句二分)

圖 A



【試題結束—文光國中七年級英文】

Class :

Number :

Name:

一：聽力測驗題；基本問答，根據聽到的內容，選出合適的回應

10% (每題二分)

1.	2.	3.	4.	5.
----	----	----	----	----

二：填充題；1-10 為單字填充；11-20 答案可能不只一個字 40% (每題二分)

1.	2.	3.	4.	5.
6.	7.	8.	9.	10.
11.	12.	13.	14.	15.
16.	17.	18.	19.	20.

三：選擇題 30% (每題二分)

1.	2.	3.	4.	5.	6.	7.	8.	9.	10.
11.	12.	13.	14.	15.					

四：寫作練習 20% (每題二分)

1. 派對在雙十節，從上午 11 點到下午 1 點。(翻譯成英文)
2. there / Is / behind / a / swimming pool / house? / the (重組)
3. 飯廳在廚房與客廳的中間。(翻譯成英文)
4. Let's get on the bus. (改為否定句)
5. Spell your name. (加入 Peter 與 Please)
6. Please invite everyone in your class to the party. (翻譯成中文)
7. Is Lucy behind the house? (見圖 A;勿用簡句形式回答)
8. Where is Leo? (見圖 A;勿用簡句形式回答)
9. Are there any geese in the garden? (請用一隻鵞回答)
10. Please bring some dishes from your country. (翻譯成中文)

澎湖縣立文光國民中學 112 學年度第 1 學期第 2 次成績評量 7 年級數學科試卷

7 年 \_\_\_\_\_ 班 座號： \_\_\_\_\_ 姓名： \_\_\_\_\_

一、 選擇：(每題 3 分，共 45 分)

- ( )  $a=2^3 \times 3^2 \times 5^4 \times 7$ ,  $b=2^2 \times 5^2 \times 7^2 \times 11$ , 則  $[a, b] = ?$   
(A)  $2^2 \times 5^3 \times 7$  (B)  $2^2 \times 3^2 \times 5^4 \times 11$  (C)  $2^3 \times 3^3 \times 5^2 \times 11$  (D)  $2^3 \times 3^2 \times 5^4 \times 7^2 \times 11$
- ( ) 關於  $\frac{15 \div 3}{18 \div 3}$  的敘述，下列何者不正確? (A) 它的值比 0.5 小 (B) 它一定是最簡分數  
(C) 它與  $\frac{10}{12}$  是等值分數 (D) 15 與 18 的最大公因數是 3
- ( ) 已知  $3^{\square} - 1$  為質數，其中  $\square$  為正整數，則  $\square$  的值為何?  
(A) 1 (B) 2 (C) 3 (D) 4
- ( ) 用科學符號 (即科學記號) 可將 1234 表示成「 $1.234 \times 10^3$ 」。若 A 的科學符號可表示成「 $1.23456 \times 10^8$ 」，則 A 為幾位數? (A) 6 (B) 7 (C) 8 (D) 9
- ( ) 若 A 為一數，且  $A = 2^5 \times 7^6 \times 11^4$ ，則下列選項中所表示的數，何者是 A 的因數?  
(A)  $2^4 \times 5$  (B)  $7^7 \times 11^3$  (C)  $2^4 \times 7^4 \times 11^4$  (D)  $2^6 \times 7^6 \times 11^6$
- ( ) 在 30~50 的正整數中，將與 48 互質的數由小到大排列，則第 5 個數為何?  
(A) 37 (B) 41 (C) 43 (D) 47
- ( )  $A = \frac{1}{20} - \frac{1}{21} + \frac{1}{22} - \frac{1}{23} + \frac{1}{24} - \frac{1}{25}$ ,  $B = (\frac{1}{20} - \frac{1}{21}) + (\frac{1}{22} - \frac{1}{23}) + (\frac{1}{24} - \frac{1}{25})$ ,  
 $C = |\frac{1}{20} - \frac{1}{21}| + |\frac{1}{22} - \frac{1}{23}| + |\frac{1}{24} - \frac{1}{25}|$ , 則下列敘述何者正確?  
(A)  $A = B = C$  (B)  $A = B < C$  (C)  $A < B = C$  (D)  $A < B < C$
- ( ) 有多少個正整數  $n$ ，使得  $\frac{2}{n} + \frac{3}{n} + \frac{5}{n} + \frac{7}{n} + \frac{11}{n} + \frac{13}{n}$  為整數? (A) 1 (B) 2 (C) 3 (D) 4
- ( ) 計算  $(\frac{1}{2} - 1) \times (\frac{1}{3} - 1) \times (\frac{1}{4} - 1) \times \dots \times (\frac{1}{50} - 1) = ?$
- ( ) 已知觀看某廚藝教學影片時，除選擇正常速度播放外，還可選擇正常速度之 1.2 倍、1.5 倍或 1.8 倍播放。若曉雲、阿芬、大雄三人分別以 1.2 倍速、1.5 倍速、1.8 倍速的播放速度觀看同一部教學影片，播放過程均不暫停，且曉雲觀看此影片花了 30 分鐘才看完，則阿芬、大雄觀看完此影片所花的時間會相差多少分鐘? (A) 4 (B) 7.5 (C) 9 (D) 10.8
- ( ) 若 1、2、3 為三個相異的正整數，則下列四個選項中的式子，哪一個是正確的?  
(A)  $-1 \div (2-3) = -1 \times \frac{1}{2} - 1 \times \frac{1}{3}$  (B)  $-1 \div (2-3) = -1 \times \frac{1}{2} + 1 \times \frac{1}{3}$  (C)  $-1 \div (2-3) = 1 \times \frac{1}{2+3}$   
(D)  $-1 \div (2-3) = 1 \times \frac{1}{3-2}$
- ( ) 試問下列哪一個數值最大? (A)  $3 \times 10^{-7}$  (B)  $5.6 \times 10^{-8}$  (C)  $2.5 \times 10^{-6}$  (D)  $4 \times 10^{-8}$
- ( ) 計算  $(-1)^0 \times (-1)^1 \times (-1)^2 \times (-1)^3$  的值為何? (A) 1 (B) -1 (C) 0 (D) -6
- ( ) 下列選項何者是錯誤的?  
(A)  $2^6 < 8^3$  (B)  $(3-5) \div 2 = 3 \div 2 - 5 \div 2$  (C)  $|a| > |b|$ , 則  $a$  一定比  $b$  大 (D) 數線上，A 在原點的右邊，B 在原點的左邊，則  $A - B > 0$
- ( ) 下列哪一個數和 441 互質? (A) 21 (B) 35 (C) 40 (D) 84

二、 填充：(每個答案 3 分，共 42 分)

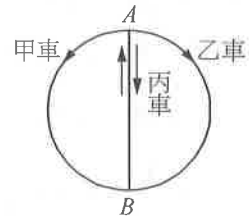
1. 用科學記號表示下列各數：

- (1) 0.00000000421 = \_\_\_\_\_。 (2)  $\frac{13}{10000} =$  \_\_\_\_\_。 (3) 1600000 = \_\_\_\_\_。

- 介於  $\frac{2}{7}$  和  $\frac{1}{3}$  之間，且分母是 63 的最簡分數為\_\_\_\_\_，其中分子是質數的為\_\_\_\_\_。
- 比較  $-\frac{4}{3}$ 、 $-\frac{5}{4}$ 、 $-\frac{7}{6}$  的大小為\_\_\_\_\_，且其絕對值的大小為\_\_\_\_\_。
- 數線上  $C(-1\frac{4}{7})$ 、 $D(-1\frac{2}{5})$  兩點間的距離為\_\_\_\_\_。
- 在括號內填入適當的整數，使  $\frac{15}{12} = \frac{5}{( )} = \frac{( )}{-4}$ 。
- 計算  $[3 - (-2)] \div (1 - \frac{1}{3}) =$ \_\_\_\_\_。
- 將 1288 寫成標準分解式可得\_\_\_\_\_。
- 求最大公因數與最小公倍數：
  - $(105, 196, 112) =$ \_\_\_\_\_。
  - $[105, 196, 112] =$ \_\_\_\_\_。

### 三、計算：(共 13 分)

- 如附圖，甲車依逆時針方向繞著圓周行駛，每 16 分鐘繞一周；乙車依順時針方向繞圓周行駛，每 18 分鐘繞一周；丙車在直徑  $AB$  來回行駛，每 12 分鐘來回一趟。若甲、乙、丙 3 車同時由  $A$  點出發，則 3 車幾分鐘後會在  $A$  點第 1 次同時相遇？(3 分)



- 已知一長方體積木的長、寬、高分別是 20 公分、16 公分、10 公分，則至少需要這樣的長方體積木多少塊，才能堆成一個正方體？(3 分)
- 已知南一國中的所有學生裡，有  $\frac{1}{4}$  是搭乘校車上、下學， $\frac{1}{8}$  是騎腳踏車上、下學， $\frac{1}{10}$  是由父母接送，其他的學生都是步行回家，則步行回家的學生占總人數的幾分之幾？(3 分)
- 七位數  $43a35b2$  為 12 的倍數，試求這種七位數有哪些可能？(4 分)

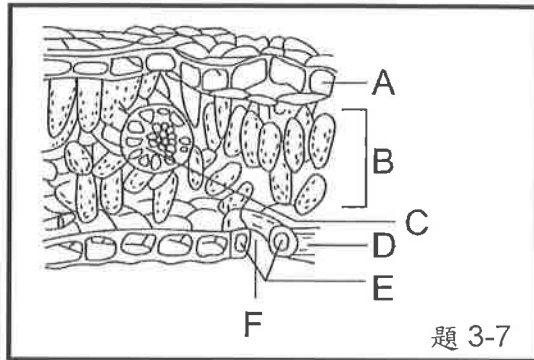
一、選擇題。全部 38 題。每題 2 分。共 76 分

※大雄發現食品包裝上有營養成分標示，如下左圖所示。請回答 1-2

- ( ) 01. 此食品可提供的熱量共約多少? (A)570 大卡 (B)335 大卡 (C)570 卡 (D)335 卡。  
 ( ) 02. 此食品所含的五種營養成分中，無法提供人體熱量的有幾種? (A)1 (B)2 (C)3 (D)4。

碳水化合物：100公克 蛋白質：20公克 脂肪：10公克 維生素C：200毫克 鈉：5毫克
---

題 1-2

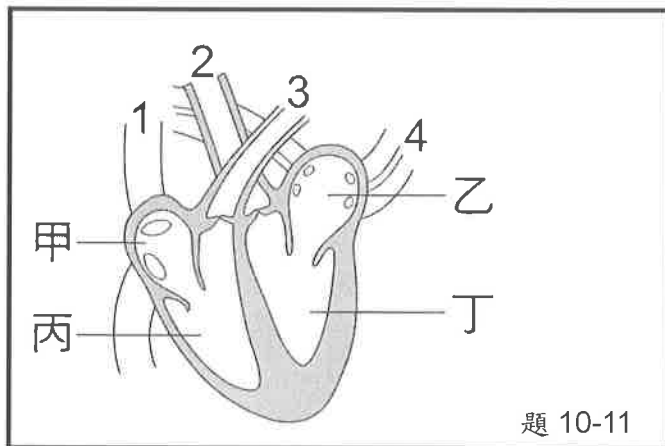
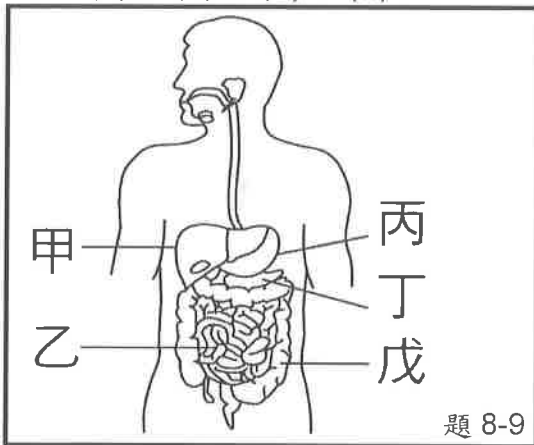


※上右圖為葉的構造示意圖，請回答 3-7

- ( ) 03. 請問構造 B，主要功能為何? (A)光合作用 (B)支撐葉片 (C)保護作用 (D)呼吸作用。  
 ( ) 04. 哪個部位是葉脈，是植物體內的維管束? (A)A (B)B (C)C (D)D。  
 ( ) 05. 請問何處構造的細胞可以產生氧氣? (A)A (B)B (C)C (D)D。  
 ( ) 06. 光合作用所產生的氧氣由哪一部位釋出? (A)C (B)D (C)E (D)F。  
 ( ) 07. 哪些部位的細胞中含有葉綠體，可行光合作用? (A)A、B (B)C、D (C)E、F (D)B、E。

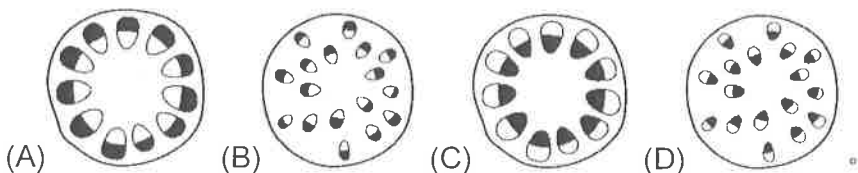
※下左圖為消化系統的構造示意圖，請回答 8-9

- ( ) 08. 請問，胃是指哪一個代號? (A)甲 (B)丙 (C)丁 (D)戊。  
 ( ) 09. 小華的爸爸因為膽囊切除，導致脂質消化受到影響，試問膽汁是由哪一個器官所分泌?  
 (A)甲 (B)乙 (C)丙 (D)丁。

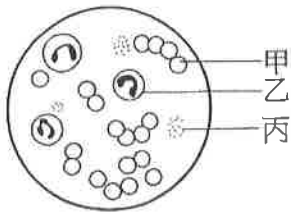


※上右圖為人體心臟構造示意圖，請回答 10-11

- ( ) 10. 請問，丁構造名稱為何? (A)左心室 (B)右心房 (C)右心室 (D)左心房。  
 ( ) 11. 請問，哪一個代號是指主動脈? (A)1 (B)2 (C)3 (D)4。  
 ( ) 12. 將水稻枝條插於裝有黑色墨水的量筒中，1 小時之後將莖橫切，取一薄片置於顯微鏡下觀察，此時黑色墨水分布於維管束中，最可能為下列何者?



※下圖是人體三種血球細胞示意圖，請回答 13-14



- ( ) 13. 請問，紅血球是指哪一個代號? (A)甲 (B)乙 (C)丙。
- ( ) 14. 請問，乙細胞的功用為何? (A)攜帶氧氣 (B)吞噬病原體 (C)促使血液凝固。
- ( ) 15. 大雄晚餐吃下牛肉(主成分為蛋白質)，經由消化作用後，牛肉主要會轉變成哪一種小分子養分?  
(A)甘油 (B)胺基酸 (C)脂肪酸 (D)葡萄糖。
- ( ) 16. 哪種食物中的養分在生物體內有溶解、運送體內物質的功能? (A)醣類 (B)維生素 (C)水 (D)脂質。
- ( ) 17. 人體內主要吸收養分和水分的器官為下列何者? (A)胰臟 (B)大腸 (C)小腸 (D)胃。
- ( ) 18. 人類唾液中的澱粉酶可針對哪種物質作用? (A)纖維素 (B)脂質 (C)澱粉 (D)水。
- ( ) 19. 腸腺中消化液可以促進分解那些養分?  
(A)澱粉、蛋白質、脂質 (B)脂質 (C)澱粉、蛋白質 (D)蛋白質。
- ( ) 20. 下列哪一種植物的維管束呈現環狀排列? (A)向日葵 (B)水稻 (C)玉米 (D)竹子。
- ( ) 21. 木材主要由維管束的什麼細胞堆積而成的? (A)形成層 (B)木質部 (C)韌皮部 (D)表皮細胞。
- ( ) 22. 關於葉片上氣孔的敘述，下列何者錯誤?  
(A)為氣體出入的主要管道 (B)通常是白天關閉，晚上張開  
(C)由兩個保衛細胞圍成 (D)陸生植物的氣孔大都分布在葉片的下表皮。
- ( ) 23. 有些靜脈為了防止血液逆流，而有什麼構造? (A)淋巴結 (B)橫膈 (C)厚實的肌肉組織 (D)瓣膜。
- ( ) 24. 請問，淋巴在淋巴管內流動，最後注入哪種血管重新回歸血液循環? (A)動脈 (B)微血管 (C)靜脈。
- ( ) 25. 在維管束內，水分的運輸方向為何?  
(A)只能由下往上 (B)只能由上往下  
(C)可以由上往下，也能由下往上 (D)春天由上往下，夏天由下往上。
- ( ) 26. 下列敘述何者不是酵素的特性或功能?  
(A)可以增加反應的生成物總量 (B)活性有溫度範圍限制  
(C)只能催化特定反應的進行 (D)活性有酸鹼性的範圍限制。
- ( ) 27. 生物體內酵素的主要成分是什麼? (A)葡萄糖 (B)蛋白質 (C)礦物質 (D)水分。
- ( ) 28. 關於血管的敘述，下列何者正確?  
(A)捐血是由動脈抽取血液 (B)靜脈將血液注入心室  
(C)管壁最薄的是微血管 (D)測量靜脈才能測得脈搏。
- ( ) 29. 小哀不小心跌倒，膝蓋上的傷口出現紅、熱、腫、痛現象。請問下列敘述何者正確?  
(A)這是發炎反應 (B)此為專一性防禦作用  
(C)感染部位血流量減少 (D)會促使大量紅血球聚集在傷口吞噬病原體。
- ( ) 30. 植物行光合作用所產生的養分，可利用下列哪一構造向下運送至根部儲存?  
(A)形成層 (B)木質部 (C)韌皮部 (D)木材。
- ( ) 31. 人體可透過注射疫苗來預防疾病，主要是因為專一性防禦作用具有何種特性?  
(A)易變性 (B)記憶性 (C)吞噬性 (D)多樣性。
- ( ) 32. 靜香為了催化某種合成作用，在燒杯中加入 5 公克的酵素及 5 公克的反應物，請問反應後，酵素的重量為多少公克? (A)0 (B)25 (C)10 (D)5。



- ( ) 33. 下列何者屬於保護身體的第一道防線? (A)紅血球 (B)白血球 (C)血漿 (D)皮膚。
- ( ) 34. 下列哪一個運輸構造，不屬於循環系統?  
(A)人類的血管 (B)人類的淋巴管 (C)魚類的心臟 (D)植物的維管束。
- ( ) 35. 元太不小心吃太多胃酸抑制劑，造成胃中酸性減弱，則何種養分消化會受到影響?  
(A)蛋白質 (B)澱粉 (C)脂質 (D)醣類。
- ( ) 36. 小夫患有夜盲症，請問他可能缺乏什麼? (A)維生素 B (B)維生素 D (C)維生素 C (D)維生素 A。
- ( ) 37. 有一段原木的橫切面年輪清晰，其中有一圈的環紋顏色較深，細胞比較小，  
請問此部分細胞可能是在哪一種氣候下形成?  
(A)溫暖乾燥的季節 (B)溫暖多雨的季節 (C)寒冷乾燥的季節 (D)寒冷多雨的季節。
- ( ) 38. 植物的根部有許多細細的根毛，其主要功能為何?  
(A)增加植物的抓地力 (B)保持土壤的溼度  
(C)加速光合作用 (D)增加植物在土壤中吸收水分與礦物質的表面積。

二、實驗題。全部 8 題。每題 3 分。共 24 分

- ( ) 39. 食物中醣類的測定實驗中，請問用哪種物品檢測澱粉的存在?  
(A)本氏液 (B)碘液 (C)水 (D)亞甲藍液。
- ( ) 40. 食物中醣類的測定實驗中，實驗結束後，該物質與澱粉相遇後，會呈現哪種顏色?  
(A)藍黑色 (B)黃褐色 (C)淡藍色 (D)橘色。
- ( ) 41. 分別測量柯南在運動前和運動後，每分鐘的心搏與脈搏次數，結果如下表，請比較下列各數值的大小，哪一項正確? (A) $W=Y$  (B) $Y<X$  (C) $W<Z$  (D) $Y>Z$ 。

運動前		運動後	
心搏	脈搏	心搏	脈搏
W	X	Y	Z

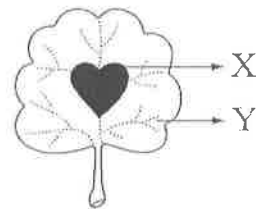
- ( ) 42. 食物中醣類的測定實驗中，請問用哪種物品檢測糖類的存在?  
(A)碘液 (B)本氏液 (C)水 (D)亞甲藍液。
- ( ) 43. 食物中醣類的測定實驗中，實驗結束後，該物質與糖類相遇後，糖類濃度最低時，會呈現哪種顏色?  
(A)綠色 (B)黃色 (C)橙色 (D)紅色。

※某生進行生物課的光合作用實驗進行步驟如下：

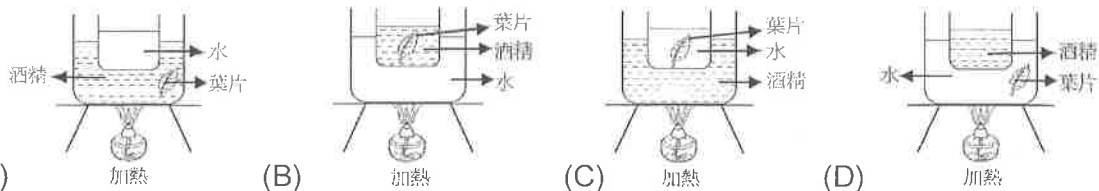
甲、將某植物其中一枚葉片用黑色貼紙貼在葉片中間(如附圖 X 所示)，然後置於陽光下，連續照光七天

乙、摘取這枚葉片後以沸水加熱數分鐘，再用酒精隔水加熱

丙、在葉片上滴碘液，觀察葉片的顏色變化。請回答 44-46



- ( ) 44. 步驟乙中，為何需要將葉片置於沸水中加熱數分鐘?  
(A)軟化葉片表面的角質層 (B)溶解葉綠素 (C)增加葉綠素中酵素的活性 (D)提高光合作用的速率。
- ( ) 45. 步驟乙中，用酒精隔水加熱的裝置圖應該是下列哪種?



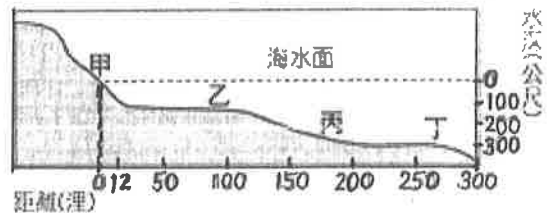
- ( ) 46. 步驟丙中，葉片之 X 部位與 Y 部位最後會如何變化?  
(A) X-黃褐色；Y-黃褐色 (B) X-藍黑色；Y-藍黑色 (C) X-黃褐色；Y-藍黑色 (D) X-藍黑色；Y-黃褐色。

澎湖縣立文光國民中學 112 學年度第 1 學期 第 2 次成績評量 7 年級地理科試卷

班級：\_\_\_\_\_ 姓名：\_\_\_\_\_ 座號：\_\_\_\_\_ ■ 讀卡 □ 答案卷

一、單一選擇題 (十題，每題 2 分，共 20 分)

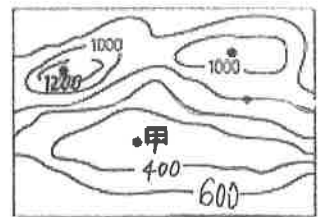
41. ( ) 臺灣是個溫泉寶島，有多處溫泉湧泉，北至金山和陽明山、南至屏東，就連離島綠島也有溫泉。溫泉的形成及分布，與下列哪一項臺灣的地理現象有關？ (A)大量抽取地下水 (B)位於板塊交界帶 (C)地處副熱帶氣候 (D)河川侵蝕力旺盛。
42. ( ) 臺灣的人口、都市、產業活動大多集中於西部地區，主要是受到下列哪一個因素影響？ (A)氣溫較適中 (B)水資源豐富 (C)地形較平坦 (D)降水量較多。
43. ( ) 下列何者是臺灣面積最大的平原？ (A)屏東平原 (B)嘉南平原 (C)蘭陽平原 (D)濁水溪沖積平原。
44. ( ) 若照位置「由南到北」排列，以下地形的正確順序應為何？ (甲)臺北盆地 (乙)嘉南平原 (丙)桃園台地 (丁)屏東平原 (A)甲乙丙丁 (B)乙甲丁丙 (C)丙乙甲丁 (D)丁乙丙甲。
45. ( ) 若大雄想繪製一張富士山地區的地形剖面圖，他需要何種資料的輔助，才能正確繪製出富士山地區的地形起伏情形？ (A)航空照片 (B)衛星雲圖 (C)分層設色圖 (D)等高線地形圖。
46. ( ) 近年來在山坡地栽培蔬果，甚至為興建高爾夫球場而砍伐地表植物，導致當地環境劣化，其所造成的後果為何？ (A)氣候失調 (B)地層下陷 (C)土壤流失 (D)海水倒灌。
47. ( ) 如果以海岸性質與形成作用力來判斷，則臺灣西部的海岸類型應屬於下列何者？ (A)岩岸、侵蝕 (B)岩岸、堆積 (C)沙岸、侵蝕 (D)沙岸、堆積。
48. ( ) 附圖為某個地區海域的剖面圖，想要在海中探勘石油的外國船隻應在下列何地進行，才不會侵犯到附近國家的權益？ (A)甲 (B)乙 (C)丙 (D)丁。



49. ( ) 金門和馬祖位於中國東南沿海，是防衛臺灣的前哨。金門和馬祖形成的原因為何？ (A)海底火山噴出岩漿堆積而成 (B)地殼變動和大陸分離而形成 (C)由海底珊瑚礁露出海面而形成 (D)沿海丘陵受到海平面上升，陸地沒入海中而形成。
50. ( ) 臺灣鄰近的哪一座島群因擁有豐富的海洋生態，在西元 2007 年於當地設立臺灣第七座國家公園？ (A)綠島 (B)琉球嶼 (B)龜山島 (D)東沙島。

二、題組：(十題，每題 1 分，共 10 分)

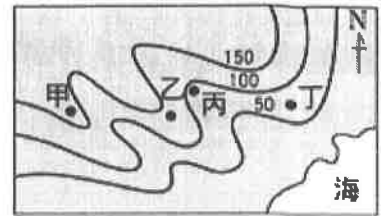
51. ( ) 附圖是某地的等高線地形圖。請問：圖中甲地屬於何種地形？ (A)山地 (B)台地 (C)盆地 (D)高原。



52. ( ) 在分層設色圖中，是利用不同的顏色層次來代表下列哪一種地形要素？ (A)距離 (B)高度 (C)長度 (D)坡度。

【第 5 頁結束—背面尚有試題】

53. ( ) 附圖為右昌村的等高線地形圖。圖中哪一個地點可能是河流經過的「河谷」地區，最需防範水患？  
 (A) 甲 (B) 乙 (C) 丙 (D) 丁



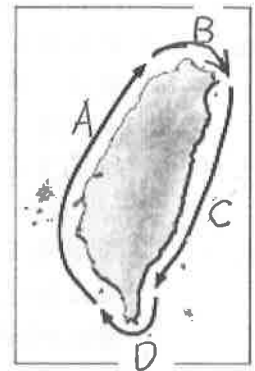
附圖為臺灣的五大山脈簡圖。請問：

54. ( ) 臺灣河川的主要分水嶺應是哪一座山脈？  
 (A) 乙 (B) 丙 (C) 丁 (D) 戊。
55. ( ) 小花一家開車從臺東往花蓮的方向前進，沿途發現左右兩邊都有山脈。請問：此時位於小花右邊的山脈為何？  
 (A) 甲 (B) 乙 (C) 丙 (D) 戊。
56. ( ) 讓北部交通更為暢通的北宜快速公路，其隧道是穿越附圖中的哪一座山脈？ (A) 甲 (B) 丙 (C) 丁 (D) 戊。



附圖為臺灣的海岸簡圖。請問：

57. ( ) 哪一段海岸的特徵，為珊瑚礁石遍布、地形崎嶇？  
 (A) A (B) B (C) C (D) D。
58. ( ) 哪一段海岸因為岬角和灣澳相間，是臺灣最曲折的海岸？  
 (A) A (B) B (C) C (D) D。



附圖為臺灣的離島位置示意圖。請問：

59. ( ) 「島嶼上的居民多以捕魚為主。當地人就地取材，用珊瑚礁石堆砌成了房子、石滷；而島上的柱狀玄武岩是當地的特殊地形景觀。」上述島嶼應位於圖中何處？ (A) 甲 (B) 乙 (C) 丙 (D) 丁。
60. ( ) 日本 311 大地震所產生的核能危機震驚全球，我國的核廢料儲存地——蘭嶼，也一直是國人關注的焦點。蘭嶼所在地位於圖中何處？  
 (A) 甲 (B) 乙 (C) 丙 (D) 丁。



【試題結束—文光 7 年級 社會科】

澎湖縣立文光國民中學 112 學年度第 1 學期 第 2 次成績評量 7 年級歷史科試卷

班級：\_\_\_\_\_ 姓名：\_\_\_\_\_ 座號：\_\_\_\_\_  讀卡  答案卷

一、單一選擇題（十五題，每題 2 分，共 30 分）

- ( ) 熱蘭遮城日誌是荷蘭聯合東印度公司派駐臺灣長官所寫的日記，目前留存在荷蘭國家檔案館，是十七世紀臺灣史的珍貴史料之一。請問：熱蘭遮城日誌中會記載下列哪一事件？  
(A) 日本要求高山國進貢 (B) 鄭成功歸降清朝政府  
(C) 馬尼拉的社會經濟現況 (D) 荷蘭人在臺灣傳教與貿易
- ( ) 十七世紀他們來臺時，除了占領今日的基隆、淡水以外，更將勢力擴張到宜蘭一帶，並積極宣揚天主教信仰，試圖改變當地漢人及原住民的信仰文化。上述的「他們」指的應該是何人？  
(A) 荷蘭人 (B) 英國人 (C) 西班牙人 (D) 葡萄牙人
- ( ) 臺灣的原住民族原本沒有文字，多半透過口傳的方式留下族群發展的紀錄。十七世紀時，受到外來統治的影響，原住民族開始拼寫自身語言，掌握書寫能力，甚至留下不少與漢人簽訂的土地契約文書，這是在哪個政權影響下所出現的變化？  
(A) 荷蘭人 (B) 英國人 (C) 西班牙人 (D) 葡萄牙人
- ( ) 荷蘭在臺初期，對於不願意歸順的原住民，多採取鎮壓的統治手段，當時反抗統治最為激烈的主要是哪一原住民族？  
(A) 泰雅族 (B) 布農族 (C) 賽德克族 (D) 西拉雅族。
- ( ) 在荷蘭、西班牙、鄭氏政權統治的範圍內，原住民的生活及文化都受到很大的衝擊。在原漢不斷的衝突中，原住民爆發了多次的抗官事件，例如：鄭氏在臺時期，曾有中部原住民族以武力反抗其統治。請問：這是指哪一個原住民族群？  
(A) 大肚王勢力 (B) 西拉雅族 (C) 麻豆社 (D) 新港社。
- ( ) 鄭氏集團來到臺灣後鼓勵屯田拓墾，因此吸引不少漢人來臺灣進行耕種，而這樣的舉動卻也逐漸壓縮了原住民的生活空間，進而引發雙方的矛盾並發生衝突。下列何者最不可能是當初鄭氏政權拓墾的範圍？  
(A) 臺北 (B) 臺中 (C) 臺南 (D) 花蓮。
- ( ) 十七世紀時，鄭氏政權來臺，曾與臺灣原住民接觸，請問下列何者不是鄭氏和原住民的互動？  
(A) 在原住民部落設立學校 (B) 派遣軍隊前往中部拓墾  
(C) 率兵征伐大肚王領地 (D) 以羅馬字母拼寫新港社的語言。
- ( ) 十七世紀時，荷蘭人與鄭成功先後治理臺灣，對於臺灣造成了許多影響。請問：有關荷蘭人與鄭氏政權在臺灣的治理，下列敘述何者有誤？  
(A) 都有設立學校 (B) 都曾經武力鎮壓 (C) 都有在臺灣傳播基督教 (D) 都有與原住民貿易。

9. ( )附圖為清帝國頒行的公文部分內容，根據內容判斷，這最可能是下列哪一個命令？

(A)遷界令 (B)海禁令 (C)渡臺禁令 (D)劃定番界。

\*內地人民要領取地方政府頒發的證照  
\*不准攜家帶眷到台灣

10. ( )西元 1684 年，清朝哪一位皇帝決定將臺灣正式納入版圖？

(A)康熙 (B)雍正 (C)乾隆 (D)嘉慶。

11. ( )臺灣俗語說「有唐山公，無唐山媽」，這種社會現象與下列何者關係最為密切？

(A)吏治不良 (B)族群複雜 (C)男女比例失衡 (D)漢原衝突。

12. ( )清帝國統治臺灣初期，雖然實施禁止無照渡臺的政策，但臺灣人口仍不斷上升的主要原因是什麼？

(A)原住民生育率相當高 (B)偷渡來臺情形嚴重  
(C)清廷將福建一帶多餘的人口移往臺灣 (D)申請來臺者多為大家族。

13. ( )同治 10 年，有一外國船隻在臺灣遭遇海難，漂至今日恆春附近，船員與當地原住民發生衝突，而造成船員的傷亡。當時遇難的是哪一個地方的船員？

(A)英國 (B)荷蘭 (C)琉球 (D)西班牙。

14. ( )清同治末年，日本以「懲辦凶手」為藉口，出兵攻打臺灣。請問：這是指下列哪一歷史事件？

(A)英法聯軍 (B)牡丹社事件 (C)林爽文事件 (D)朱一貴事件。

15. ( )沈葆楨被清廷派來臺灣治理之後，首先在行政區劃增加了一府，這是指哪一府？

(A)臺灣府 (B)臺南府 (C)臺北府 (D)臺中府。

## 二、配合題（五題，每題 1 分，共 5 分）

清帝國時期臺灣行政區劃隨著民變、外力入侵等事件進行調整，請依行政劃分與事件填入相對應的皇帝。

A.康熙皇帝 B.雍正皇帝 C.乾隆皇帝 D.嘉慶皇帝

16. ( ) 發生朱一貴事件。

17. ( ) 林爽文事件後，諸羅縣改為嘉義縣。

18. ( ) 增設噶瑪蘭廳。

19. ( ) 設置一府三縣。

20. ( ) 朱一貴事件後增設彰化縣、淡水廳。

【試題結束—文光 7 年級 歷史科】

澎湖縣立文光國民中學 112 學年度第 1 學期 第 2 次成績評量 7 年級公民科試卷

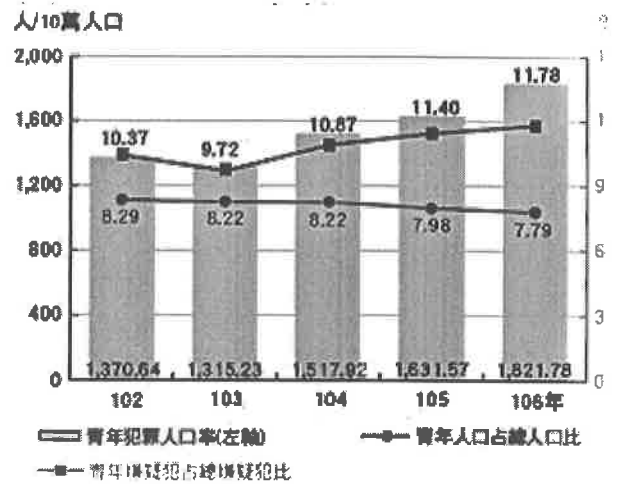
班級：\_\_\_\_\_ 姓名：\_\_\_\_\_ 座號：\_\_\_\_\_  讀卡  答案卷

一、單一選擇題（十五題，每題 2 分，共 30 分）

21. ( ) 結婚後一直沒有孩子的叔叔，上個星期經法定程序收養了一名養子，叔叔和其養子是屬於何種親屬關係？ (A) 姻親 (B) 自然血親 (C) 法定血親 (D) 沒有關係。
22. ( ) 根據《民法》的規定，下列哪一組彼此之間是姻親中的「配偶的血親」關係？ (A) 伯母和媽媽 (B) 公公與小姑 (C) 姨丈與外婆 (D) 姑丈和姨丈。
23. ( ) 虎爸(媽)指的是父(母)親對子女因有過高的期待，所以採取過度嚴厲的教育方式。近期有一名虎爸因不滿女兒學業表現不佳，接連以腳踹的方式進行管教，被法院判刑。為何法院會做出此判決？ (A) 法律並未賦予父母享有管教權利 (B) 父母未以適當方式管教子女 (C) 關心課業並不屬父母的親權範圍 (D) 親子間並未做到相互扶養的義務。
24. ( ) 藝人賈靜雯與前夫離婚後，獨自帶著女兒在臺灣生活，後來遇到了現在的老公修杰楷，並生下了兩名可愛的女兒，一家五口過著幸福平凡的生活。請問這樣的家庭生活模式稱之為何？ (A) 兩地家庭 (B) 繼親家庭 (C) 單親家庭 (D) 頂客家庭。
25. ( ) 「青銀共居」是指讓沒有血緣關係的長者和青年住在同一個屋簷生活。此作法可讓長者避免獨居產生的孤獨感，也在都市釋出更多的居住資源提供給青年人，減輕青年人房租負擔的壓力，而相互陪伴也能讓雙方都能感受到心理的依靠。上述劃線的敘述主要是希望補足家庭的何項功能？ (A) 生育 (B) 保護與照顧 (C) 教育 (D) 經濟。
26. ( ) 研究發現，手機和平板電腦等裝置已深植家庭生活，許多人花更多時間與家人在一起，卻可能「人在心不在」，大家對著螢幕各看各的，全家人「一起獨處」。上述情形可能會造成下列何種影響？ (A) 家人長時間共處一地，彼此間安全感增加 (B) 家庭共同活動，成員間相互支持 (C) 家人間互相尊重認同彼此的興趣，而形成強烈的歸屬感 (D) 家庭成員間缺少互動，無法理解彼此，導致親密感降低。
27. ( ) 小敏聽到長輩們在聊天中提到，幾位表哥、表姐都不急著結婚，還認為婚姻是個人的自由選擇，讓長輩們無法早點享受含飴弄孫的天倫之樂。依據上述，下列何者較可能是小敏的表哥、表姐不急著結婚的主要原因？ (A) 生活中的經濟壓力 (B) 婚姻價值觀的轉變 (C) 先立業再成家的堅持 (D) 居住與就業場域的變遷。
28. ( ) 臺中市社會局調查，受虐兒少案件數高達 600 多件，然而經常對這些孩童施虐的，往往都是孩童最親近的人，也就是父母、養父母、繼父母和父母同居人。面對身邊最親近的人虐待，社會局最可能採取以下何種方式來協助兒少，以避免受虐？ (A) 給予金錢的補助 (B) 聲請停止父母的親權 (C) 教育兒少反擊 (D) 協助兒少離家出走。
29. ( ) 根據聯合國世界衛生組織的定義，當一個國家幾歲以上的老年人口比例超過 7% 以上時，就是「高齡化社會」？ (A) 60 歲 (B) 65 歲 (C) 70 歲 (D) 75 歲。
30. ( ) 我國《民法》有關家庭平權相關條文修訂，其中一項明定手足之間不分性別皆有平等繼承遺產的權利，亦有扶養父母的義務。《民法》做此修訂主要可彰顯下列何種精神？ (A) 配偶平權 (B) 家務分工 (C) 手足平權 (D) 生活隱私。
31. ( ) 為因應少子化的衝擊，政府制定某部法律，以生育給付、育嬰留職停薪津貼或育兒津貼等方式，鼓勵國人生養子女，這部法律應為下列何者？ (A) 《民法》 (B) 《幼兒教育及照顧法》 (C) 《家庭暴力防治法》 (D) 《性別平等教育法》。

背面尚有試題

32. ( )為了發揮家庭的功能，我國民法明確規範家庭成員間的權利義務關係。下列關於家庭成員間的權利義務關係之敘述，何者正確？
- (A)為了保障配偶之間的婚姻關係，雙方並無法繼承對方財產的權利  
 (B)從事全職家務勞動者由於沒有所得，無權自由使用部分家庭收入  
 (C)若是父母沒有善盡照顧與扶養子女的義務，將會受到法律的處罰  
 (D)父母對子女無論成年與否皆擁有親權，有保護及教養的權利義務。
33. ( )新聞報導，行政院擬修法規定兒女惡意不扶養父母，有重大虐待、侮辱或無正當理由不扶養，經父母以遺囑、書面、錄音或錄影等方式舉證後，經(甲)機關判決，兒女將喪失(乙)權利。上文敘述甲、乙分別為以下何者？
- (A)甲：法院、乙：繼承 (B)甲：法院、乙：親權  
 (C)甲：警察局、乙：繼承 (D)甲：社會局、乙：親權
34. ( )早期男性多數是施以家庭暴力者，現今社會男性成為家暴被害人的比例也逐年增加，政府機關呼籲家暴案件中的男性被害人應勇敢求助，勿礙於面子問題而隱忍，也要學會利用各種管道求援。以下關於家暴問題的敘述何者正確？
- (A)家庭暴力的被害人僅限女性  
 (B)保護令只能柔性勸導、不具有強制力  
 (C)被害人可向警察局聲請保護令  
 (D)交往中的同居男女，也受《家庭暴力防治法》保障。
35. ( )附圖是我國警政署統計民國102年~106年青少年的犯罪概況，根據此圖判斷，我們應加強哪一家庭功能的發揮？
- (A)生育功能 (B)教育功能  
 (C)經濟功能 (D)保護與照顧功能。



## 二、題組 (五題，每題1分，共5分)

(一)眾所矚目的《長期照顧服務法》於西元2015年在立法院三讀通過。按本法的規定，只要身心失能已達或預期達6個月以上，需要生活及醫事長期照護的人，都可以透過長照機構聘用合格的長照人員或外籍看護，並按患者的需求採取居家式、社區式、機構住宿或家庭式服務。如為自行照護失能家屬的人，可以申請「喘息服務」，讓專業照護人員暫時接手照護工作。請回答下列問題：

36. ( )文中法律的通過與臺灣所面臨的哪一個問題直接相關？

- (A)少子化 (B)人口高齡化 (C)死亡率 (D)失業率。

37. ( )「喘息服務」主要是為了解決哪一方面的問題？

- (A)失能患者帶來龐大的經濟負擔 (B)家屬的照護專業能力不足  
 (C)專業照護人員的工作負擔過重 (D)自行照護患者的家屬承受龐大的身心壓力。

(二)來自越南的新住民黎秋娥，13年前嫁來臺灣，一開始語言不通，但為了能早日獨當一面，努力學習中文，在小孩出生後，除照顧小孩外，也與老公幫著婆婆經營小吃生意。接手小吃生意後，她和老公一起研究食譜、試味道，開始轉賣碗粿，即使每天清晨3點就要起床備料，夫妻倆也甘之如飴，她也主動關心其他新住民的生活狀況，非常熱心替大家解決問題，因此，榮獲該縣的新住民模範母親，這是繼5年前她的婆婆當選過模範媽媽後，家中再次得獎，她老公引以為傲的說：「人家出一個模範母親就很困難了，我家還出兩個模範媽媽呢！」

38. ( )上文中兩個得獎的模範媽媽彼此間，應是屬於哪一種親屬關係？

- (A)配偶 (B)自然血親 (C)法定血親 (D)姻親。

39. ( )從上文中可以看到新住民黎秋娥發揮家庭的哪一種功能？

- (A)努力學習中文展現出教育的功能 (B)透過收養方式來延續生育的功能  
 (C)與老公一起經營生意屬於經濟功能 (D)協助其他新住民發揮家庭照顧的功能。

40. ( )根據上文內容判斷，新住民黎秋娥在家中享有什麼樣的權利義務關係？

- (A)與丈夫互有扶養彼此的義務 (B)有使用家中所有財物的權利  
 (C)和子女共同承擔家計的義務 (D)對婆婆享有扶養照顧的親權。

【試題結束—文光7年級公民科】