

澎湖縣立文光國中 112 學年度上學期七年級國文科第三次成績評量 試題卷

*請將答案填入答案卷，否則不予計分。

七年 () 班 姓名：

座號：

壹. 國字與注音：每字 1 分 13%

1. 「ㄉㄨˋㄨㄢˊ」流 2. 「ㄩˊ一ㄝˇ」倖 3. 「ㄛㄨㄥˋ」怒 4. 「ㄛㄨㄥˋ」釀
5. 絡「一ㄟ」不絕 6. 自嘆「ㄘㄨˋ」如 7. 不屈不「撓」 8. 追「溯」期
9. 素「稔」 10. 「酗」酒 11. 乾「涸」 12. 「庇」護 13. 功虧一「篑」

貳. 注釋配合題：每題 1 分 13%

1. 襲擊 2. 不屈不撓 3. 不亦「說」乎 4. 友「便佞」 5. 人不學，不「知道」
6. 友「便辟」 7. 赤裸裸 8. 林林總總 9. 若干 10. 友「諒」 11. 必有我「師」焉
12. 日知其所「亡」 13 譬如「平地」

***參考選項**—— A. 死亡 B. 通「無」，不知的 C. 原諒、寬恕 D. 善於迎合他人
E. 巧言善辯，阿諛逢迎 F. 信實、誠信 G. 明白事理 H. 知曉 I. 大約計算之詞，多少、幾許的意思
J. 可作為學習榜樣或自我警惕的人 K. 以他人言行作為自己的警惕
L. 教書的人 M. 填平窪地 N. 平坦地面 O. 向人說話 P. 使人愉快 Q. 趁人沒有防備的時候，突然發動攻擊
R. 形容人或事物眾多 S. 不因為受阻礙而屈服 T. 善以和悅或柔媚的情態誘惑人 U. 比喻毫無掩飾

參. 成語配合題：每題 1 分 10%

***參考選項**—— A. 嗤之以鼻 B. 按部就班 C. 爐火純青 D. 水到渠成 E. 望其項背
F. 風聲鶴唳 G. 鬼斧神工 H. 鞭辟入裡 I. 鞭長莫及 J. 黔驢技窮 K. 曲突徙薪
L. 江心補漏 M. 好高騖遠 N. 薪盡火傳 O. 洞燭機先 P. 信手拈來 Q. 欲深谿壑

1. 太魯閣國家公園峭壁千仞的雄偉景色，令人讚嘆大自然 () 的奧妙。
2. 這位棋士鑽研棋藝多年，已到了 () 的地步。
3. 那位魔術師近年來總是表演同一套把戲，看來已經 () 了。
4. 這篇文章立論弘富精當，句句 () ，值得取法。
5. 最近意外災害頻傳，大家有必要再加強 () 、防患未然的觀念。
6. 不論讀書或做事，都要 () ，不可躐等躁進，才能有所成就。
7. 公司傳出財務吃緊的狀況，一時間 () ，人人都害怕遭到裁員。
8. 對於他那種暗箭傷人的小人行徑，大家都 () 。
9. 「火箭阿伯」吳宗信博士在航太領域的研發成績斐然，同儕皆難以 () 。
10. 學習任何技藝都要腳踏實地，從根本處下功夫，一味 () ，終難有所成就。

肆. 綜合測驗：每題 2 分 56%

1. 依據鮭魚產卵，力爭上游一文，大海中的鮭魚歷經種種困難與危險，竭盡所能逆流返鄉其

最終的目的為何？(A)要躲避水獺、大熊的襲擊 (B)要逃避人類的捕捉 (C)要結束攝食返鄉過冬(D)要完成傳宗接代的任務

2. 根據鮭魚產卵，力爭上游一文，下列何者不是鮭魚可能知道返鄉途徑的原因？(A)鮭魚能依水溫的冷熱變化，判斷哪一條為自己的母河 (B)鮭魚能認得母河的味道，依據味道找到自己出生之處 (C)鮭魚能像候鳥一樣，根據太陽來判定方向 (D)鮭魚能像候鳥一樣，依據星辰來判定方位

3. 根據鮭魚產卵，力爭上游一文的敘述，臺灣的櫻花鉤吻鮭會喪失洄游移棲的習性，其最主要的原因為何者？(A)為了適應臺灣的副熱帶型氣候(B)為了適應臺灣的荒溪型河川(C)為了延續下一代避免遭受捕殺(D)為了避免找不到返鄉的路

4. 鮭魚產卵，力爭上游一文末段賦予鮭魚人性，讚美牠永不放棄的奮鬥精神，請問本文最適合用來給予下列哪一種人忠告？(A)意氣用事的人 (B)刻意逞強的人 (C)不守信用的人 (D)畫地自限的人

5. 從論語選第一則短文，可以知道孔子對學習的想法，不包括下列何者？ (A)學會之後要常常溫習 (B)與志同道合的好友一起學習 (C)模仿君子的優異言行 (D)自己的修養勝過別人的評價

6. 「(甲)見賢思齊(乙)填平窪地(丙)結交益友(丁)積土成山」，在論語選第二則短文中，孔子舉哪些例子說明學習要持之以恆，不可半途而廢？(A)甲丙 (B)甲乙 (C)丙丁 (D)乙丁

7. 根據論語選第三則短文，善者本身就是值得學習的榜樣，而孔子說不善者仍可以為師。請問原因為何下列何者？(A)每個人都會犯錯，要原諒別人的無心之過 (B)不善的言行可以用來警惕自己，別犯相同錯誤 (C)人各有天賦和不足，要學會看別人的優點 (D)社會價值日漸多元，要廣泛學習每個人的長處

8. 古代有許多字詞的用法，和我們熟悉的現代用語不同。請問以下字義的說明，何者正確？(A)不亦「說」乎：使愉快 (B)不亦「君子」乎：位高權重者(C)三人行必有我「師」：品學兼優者 (D)譬如「平」地：地勢平坦的

9. 下列文句中的「而」字，何者字義解作「但是」，有「轉折的作用」？(A)學「而」時習之 (B)人不知「而」不愠 (C)擇其善者「而」從之 (D)其不善者「而」改之

10. 下列文句，何者主旨在強調「修身自好」的學習態度？(A)欲窮千里目，更上一層樓 (B)學如不及，猶恐失之 (C)有朋自遠方來，不亦樂乎 (D)人不知而不愠，不亦君子乎

11. 孔子注重學生的個別差異，給予不同的勸戒及鼓勵，這一點和現代多元適性的教育理念相通。下列成語中，何者最符合這樣的理念？(A)因材施教 (B)一以貫之 (C)溫故知新 (D)有教無類
12. 孔子希望學生在接收知識的同時，也能認真思考，親自經歷推究事理後突破原本障礙的過程，才能真正有所領會和進步。請問下列何者與這樣的教育原則最接近？(A)教學相長 (B)舉一反三(C)當仁不讓 (D)以文會友
13. 根據飛翔的舞者課文的內容，下列敘述何者正確？(A)種子上的薄膜僅是為了乘風飛翔 (B)種子的構造特殊，更能適應邊坡 (C)透過陽光照射，讓種子更快發芽 (D)種子的散播主要藉由水流移動
14. 「在有些國家，許多植物是沒有名字的，只有有用的植物，在地人才會為其命名。其實名字代表『存在』，不該受到有沒有用的影響。」關於這段話的詮釋，下列何者正確？(A)只有少部分區域會習慣替植物命名(B)任何地區的人都會替各種植物命名 (C)作者認為不管有沒有用都應該命名 (D)植物一直都存在，不一定要被命名
15. 有關飛翔的舞者一文的解析，下列敘述何者正確？(A)透過題目暗喻臺灣樂樹的外型特徵 (B)藉由名言佳句開頭，引出文章主題 (C)全文主在介紹臺灣樂樹的實用功能 (D)在說明後連結個人經驗來進行說理
16. 「每個人都有著不同享受生活的方式，有人喜歡美食、有人喜歡旅行、有人喜歡烘焙、也有人喜歡埋在書堆裡，人生就好像一幅旅行圖畫，繽紛的色彩由自己盡情揮灑，只有自己可以主宰自己的人生色彩。」下列何者可用來說明這段文字的主旨？(A)命運掌握在自己手裡 (B)人生就是幅旅行圖畫 (C)人人都有自己的喜好 (D)興趣決定人們的生活
17. 「我走在黑暗的小巷／沒有人看我一眼／我蹲在閃爍的陽光下／沒有人看我一眼／我躺在公園的椅子上／沒有人看我一眼／我暴斃在一家店鋪的門口／卻吸引成群看熱鬧的人」(鄭炯明乞丐)，下列何者是這首詩想要表達的旨意？(A)強烈指控社會對乞丐的排斥 (B)寫出社會對貧富差距的困境 (C)暗示店鋪對於乞丐的冷酷 (D)委婉反映大眾對乞丐的冷漠
18. 「寫作題材何處尋？其實，你我周遭就有許多溫潤動人的故事。這些擠不上社會版的新聞，有的寫在小孩兒天真無邪的雙頰上；有的烙在市場老叟滄桑的皺紋裡；有的刻在巷子口婦人滿足的笑靨中；更多的是鑲在拷貝清晰的記憶長流裡。」這段文字的主要含義，與下列何者最接近？(A)人的遊歷愈豐富、見識愈廣，文章自然精妙 (B)每個小人物的悲歡喜樂都反映了社會的現象 (C)能時時關切生活中的人事物，下筆自然左右逢源 (D)擷取作品素材時，應謹慎安排現實與想像的比例
19. 掄元在課堂中上完關於日記的知識後，與同學們合力整理關於本課的筆記，請問下列哪些

筆記是正確的？甲：商用日記注重實用，近乎應用文。乙：為得高分，日記裡要使用華美詞藻。丙：內容不拘，什麼都可以寫。丁：是記錄自己每天的所知、所感。答案是何者？
(A)甲乙丙 (B)乙丙丁 (C)甲丙丁 (D)甲乙丁

20. 日記的材料是個人每天的見聞、行事或感想。而好的選材則是揀選值得記錄的幾件事扼要寫記。請問下列選項中，哪些事件符合好的日記材料？甲：班級在大隊接力中扭轉劣勢，順利奪金。乙：好朋友轉學，記錄與好友間的往日情懷。丙：因粗心考試不及格，寫下自我反思紀錄。丁：記錄例行性的早、午、晚餐的用餐時間。答案是何者？ (A)甲乙丁 (B)甲乙丙 (C)乙丙丁 (D)甲丙丁

21. 日記寫作的目的，其一是備查檢，為方便日後查找所需資訊，平時在日記中哪些資料的紀錄有助於快速翻找？甲：天氣。乙：日期。丙：特殊事件。丁：例行事件。答案是何者？
(A)甲丙丁 (B)乙丙丁 (C)甲乙丁 (D)甲乙丙

22. 「寫日記可以幫助修養。因可隨時檢閱，發覺自己的缺點所在。」這段話與論語中的哪一句話意境相似？(A)吾日三省吾身 (B)三人行必有我師 (C)朝聞道，夕死可矣 (D)見不賢而內自省也

23. 請根據茶葉的分類所學的內容，關於泡茶的注意事項，下列哪一個是正確的？(A)第一泡的茶湯通常不飲用，避免雜質過多影響茶湯品質 (B)茶葉沖泡的次數愈久，茶味愈濃，風味愈佳 (C)沖泡綠茶的水溫約攝氏九十度，沖泡紅茶的水溫約攝氏一百度 (D)比重愈重的茶，沖泡時所需的茶葉分量就愈多

24. 幼任處事總是拖拖拉拉、效率不彰。若要從論語中擇一名言錦句送他作為座右銘，下列何者最合適？(A)不遷怒，不貳過 (B)逝者如斯夫，不舍晝夜 (C)君子坦蕩蕩，小人長戚戚 (D)朝聞道，夕死可矣

25. 「文山包種茶以其濃郁高雅的香氣、甘醇潤滑的口感而廣受歡迎，將茶的『香、濃、醇、韻、美』表現無疑。一般通稱的文山茶區泛指：坪林、石碇、深坑、新店、汐止等地，其中又以坪林最負盛名。坪林屬丘陵地形，氣候溼潤，很適合茶樹生長。當地種植的茶樹以青心烏龍為主，青心烏龍芽嫩柔軟，是製造包種茶的上選茶葉。民國六十四年坪林的茶農獲得第一屆全省優良茶比賽特等獎，『文山包種茶』從此享譽全台，並行銷至海外各地。」關於這段文章，文山包種茶得以廣受歡迎的主要原因為何？(A)榮獲全省優良茶比賽的冠軍 (B)屬丘陵地形，氣候溼潤，很適合茶樹生長 (C)茶樹青心烏龍芽嫩柔軟，是製造包種茶的上選茶葉 (D)濃郁高雅的香氣、甘醇潤滑的口感

26. 山泉煎茶有懷：坐酌泠泠水，看煎瑟瑟塵。無由持一碗，寄與愛茶人。 (白居易)

【注釋】有懷：懷念親朋至友。泠泠：清涼。瑟瑟：碧色。塵：研磨後的茶粉。

無由：不需什麼理由。

這首詩的主旨在抒發作者的什麼情懷？(A)抒發作者豁達的心境，不畏風雨的勇氣 (B)展現

作者對於生活品質的講究與重視 (C)表現作者對於煎茶、品茶的喜愛，以及樂於分享的性格 (D)呈現作者交友滿天下的人際關係

27. 論語中常使用列舉、比較和比喻的方式說明事理。請辨別「見善如不及，見不善如探湯」一句使用哪些說理的方法？(A)列舉、比較、比喻說明 (B)列舉、比較說明 (C)列舉、比喻說明 (D)比較、比喻說明

28. 「簠是中國古代祭祀和宴饗時盛放黍、稷、粱、稻等飯食的器具。簠的基本形制為長方形器，蓋和器身形狀相同，大小一樣，上下對稱，合則一體，分則為兩個器皿。簠出現於西周末期，主要盛行於西周末春秋初，戰國晚期以後消失。」根據上述的說明，請問下列哪一個圖片是簠？



(A)



(B)



(C)



(D)

伍. 閱讀題組：每題2分 8%

子路問：「聞斯行諸？」子曰：「有父兄在，如之何其聞斯行之！」冉有問：「聞斯行諸？」子曰：「聞斯行之！」公西華曰：「由也問：『聞斯行諸？』子曰：『有父兄在』；求也問：『聞斯行諸？』子曰：『聞斯行之』。赤也惑，敢問？」子曰：「求也退，故進之；由也兼人，故退之。」(論語 先進)

1. 下列關於論語的說明，何者正確？(A)是以對話形式為主的「語錄體」 (B)篇幅較長，旨意深刻 (C)由孔子與其弟子合力編輯而成 (D)篇名取各篇首章二三字而訂，概括全篇意旨
2. 「子路問：『聞斯行諸？』子曰：『有父兄在，如之何其聞斯行之！』」由這段對話可知子路的個性如何？(A)不聽人言(B)好勇躁進 (C)粗魯無禮 (D)鄙俗無知
3. 由本文可知冉有是個怎樣的人？(A)不拘小節 (B)行不由徑 (C)見聞廣博 (D)畏縮不前
4. 由本文可推知孔子對學生的教育注重下列哪一項？(A)因材施教 (B)有教無類 (C)博古通今 (D)恪遵倫理

文光國中 112 學年度上學期七年級國文科第三次成績評量答案卷

壹. 國字與注音：每字 1 分 13%

七年（ ）班 姓名：

座號：

1.	2.	3.	4.	5.	6.	7.
8.	9.	10	11	12	13	

貳. 注釋配合題：每題 1 分 13%

1.	2.	3.	4.	5.	6.	7.
8.	9.	10	11	12	13	

參. 成語配合題：每題 1 分 10%

1.	2.	3.	4.	5.	6.	7.	8.	9.	10
----	----	----	----	----	----	----	----	----	----

肆. 綜合測驗：每題 2 分 56%

1.	2.	3.	4.	5.	6.	7.
8.	9.	10	11	12	13	14
15	16	17	18	19	20	21
22	23	24	25	26	27	28

伍. 閱讀題組：每題 2 分 8%

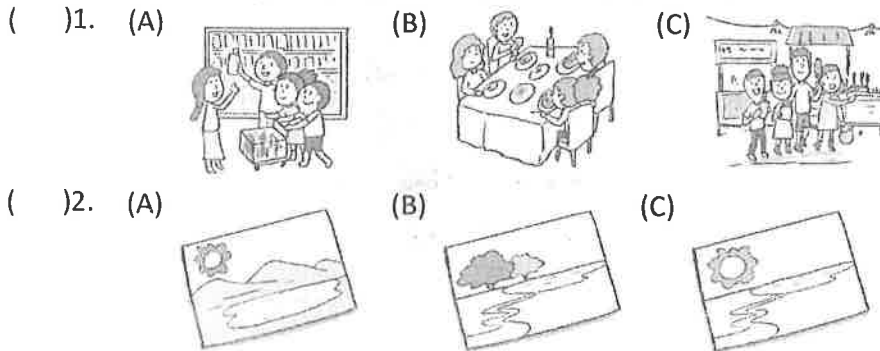
1.	2.	3.	4.
----	----	----	----

澎湖縣立文光國中 112 學年度第一學期第三次定期評量七年級英語科試題

Class : Number : Name :

一、聽力測驗：14% (每題 2 分)

(一) 辨識句意-根據聽到的內容，選出正確的圖片代碼：



(二) 基本問答-根據聽到的內容，選出合適的回應：

- () 3. (A) It's our breakfast.
(B) Let's line up for the ticket.
(C) It's for the basketball game.
- () 4. (A) They aren't in the garden.
(B) From the man over there.
(C) Show me around, please.

(三) 言談理解-根據聽到的對話內容與問題，選出正確的答案：

- () 5. (A) In a park.
(B) In a shop.
(C) In a restaurant.
- () 6. (A) Bed.
(B) Table.
(C) Boxes.
- () 7. (A) It's at 6:30.
(B) It's at 5:20.
(C) It's at 7:00.

二、文法測驗：20% (每題 2 分)

- () 8. Sam: _____ can we go tomorrow?
Amy: How about the theme park in Hsinchu? It is so fun.
(A) Where (B) Who (C) What (D) How
- () 9. The party is great. Everyone _____ a good time.
(A) have (B) is having (C) am having (D) are having
- () 10. The math teacher is talking _____ the cellphone on the bus now.
(A) in (B) to (C) on (D) for
- () 11. Listen! Your sister _____ an English song in the living room.
(A) sing (B) is singing (C) sings (D) to sing
- () 12. A: What is the book _____? B: Famous snacks in Taiwan.
(A) to (B) about (C) of (D) from
- () 13. My dog can play frisbee, _____ can't run fast.
(A) so (B) and (C) but (D) even

- () 14. Bill: Who ____ the chickens on the farm? Lisa: Grandparents ____.
 (A) feeding ; are (B) are feeding, ; is (C) is feeding; are (D) feeding; is
- () 15. Our English class is ____ 10:05 a.m.
 What time is it now? It's ____ 9:40 now.
 (A) at; × (B) × ; at (C) on; × (D) for ; at
- () 16. Our little brother can play pinball and _____ ring toss.
 (A) playing (B) plays (C) to play (D) play
- () 17. Choose the **WRONG** sentence.
 (A) A monkey can climb trees and walk on its legs.
 (B) A snake can't walk or run.
 (C) What can Jenny do? She can cook.
 (D) Can't you dance? Yes, I can't

三、克漏字測驗：6%（每題 2 分）

Welcome to Green Shop. This is a great shop for the Earth. We use cloth shopping bags. You can use the bags again. We have a beautiful garden and farm. You can buy flowers and organic (有機的) foods (1) _____ there. We also have many delicious foods at our restaurant. You can take chopsticks, spoons, and cups with you. It can cut (2) _____ waste (浪費). Every Sunday you can recycle here and get a gift. Let's (3) _____ the Earth.

- () 18. (A) from (B) × (C) shop (D) shops
- () 19. (A) on (B) down (C) about (D) off
- () 20. (A) saving (B) to save (C) save (D) saves

四、閱讀測驗：28%（每題 2 分）

A.

A little monkey is wearing new clothes (衣服) on Mondays (週一).
 He is full of (充滿) grace (優雅).
 Two little monkeys are going swimming on Tuesdays (週二).
 They are full of laughter (笑聲).
 Three little monkeys are going mountain climbing (爬山) on Wednesdays (週三).
 They have far (遙遠地) to go.
 Four little monkeys are having a test (考試) on Thursdays (週四).
 They are full of woe (悲痛).
 Five little monkeys are dancing on Fridays (週五).
 They are loving and giving.
 Six little monkeys are singing on Saturdays (週六).
 They are full of joy (歡愉).
 But seven little monkeys are having a picnic (野餐) on **Sabbath Day**.
 They are bonny (健康活潑的) and blithe (無憂無慮的) and _____ and healthy (健康的).

- () 21. Which may be the name of the nursery rhyme (童謠)?
 (A) *Weeks in a Month* (B) *Monkey's Song*
 (C) *I Love Weekends* (D) *Saturdays and Sundays*
- () 22. What may Sabbath Day be?
 (A) Sunday. (B) Monday. (C) Tuesday. (D) Saturday.
- () 23. Which may _____ be?
 (A) sad (B) happy (C) sick (D) angry

B.

Do you like to read books late at night? Of course, you need to turn on the lights, don't you? A bookstore in Kaohsiung is trying something new. Its name is "Wuguan Books", and it wants you to try reading in the dark (黑暗)! You can't use flashlights, and you can't take any flash (閃光) pictures inside the store.

They have 400 bookshelves (書架) in the store. With only a very small light behind each book, it looks like the books are floating (漂浮)!

There are other fun things in the store, too, like Harry Potter jokes (笑話). Also, you can see some signs. They tell you what to do if (如果) someone steps on your foot in the dark store.

The name of the bookstore "Wuguan Books" means "Have nothing to do with books". The owner (老闆) of the store says, the bookstore does not really want to sell books. But it is trying to help readers "read with the heart", or "talk with the one inside their heart" because people see more, feel more, and think more in the dark.

That is really an interesting bookstore. Do you want to go there and have a look at it? But, before going, if you're reading at home, be sure to turn on the lights (燈)!

- () 24. What can be the best title (標題) of the reading?
 (A) Bookstore Rules
 (B) Harry Potter Jokes
 (C) The Name of a Bookstore
 (D) A Bookstore in the Dark
- () 25. What does They mean (意指)?
 (A) The signs. (B) The bookstore. (C) The jokes. (D) The books.
- () 26. Which dialogue (對話) is **NOT** from the readers in this bookstore?
 (A) A: It's so dark here. How can people read?
 B: Be quiet and read with the light behind the book.
 (B) A: Excuse me, Sir. Please turn off your flashlight here.
 B: Oh, I'm sorry.
 (C) A: There are so many books floating in the air.
 B: Wow, this library is cool!
 (D) A: Oops! Is that your foot? Sorry! B: That's OK.

C.

Lovely Zoo

-Lovely animals are waiting for you-

-Giraffes, tigers, bears, lions, horses, penguins, pandas, rhinos, sea animals-

● Open hours: 8:00 a.m.—17:00 p.m. (closed on Mondays (星期一))

● Tickets (票) : (1) children under 12 → \$ 60

(2) students (12-18) → \$ 80

(3) adults (成人) (19-64) → \$ 100

(4) kids under 6 & adult over (超過) 65 → free (免費)

(5) parking fee (停車費) : \$ 30

● Penguins feeding show: 15:00—15:30

● Panda house: 10:00—15:00

● Aquarium (水族館) : 9:00—16:00

● Delicious food and drinks for sale. (販賣)

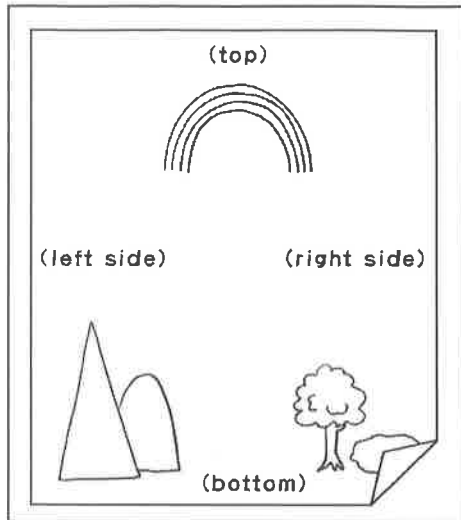
● Traffic (交通) : (1) car [we have a big parking lot (停車場)]

(2) bus [203, 207, 315 get off (下車) at Zoo Stop]

(3) metro [get off at Museum Stop and walk for 5 minutes]


- () 27. Miss Chen is an elementary school teacher. She and her ten students will visit (將遊覽) the zoo by bus. How much (多少錢) will they pay (付費) for the tickets?
(A) \$100. (B) \$600. (C) \$700. (D) \$730.
- () 28. When can (可以) Mr. Wang and his family go to the zoo?
(A) Monday morning. (B) Saturday (星期六) evening.
(C) Friday (星期五) afternoon. (D) Monday night.
- () 29. Eddie wants (想要) to watch the penguins feeding show. What time is it?
(A) It's at 12:00 at noon. (B) It's at 3:00 in the afternoon.
(C) It's at 3:30 in the afternoon. (D) It's at 10:00 in the morning.
- () 30. Wendy gets to (到達) the zoo at 15:00. What animals CAN'T (不能) she see?
(A) Tigers. (B) Pandas. (C) Giraffes. (D) Sea animals.
- () 31. Which is true?
(A) There isn't a parking lot at Lovely Zoo.
(B) People can't go to the zoo by bus or metro.
(C) There are free food and drinks at Lovely Zoo.
(D) People over 65 years old can go into the Zoo without (沒有) tickets.

D.



Jack: Hi, I'm Jack. Welcome to *Draw Your Surprise* again. Are you ready for today's gift, a Sunny Dog? It can bring you joy every day. Just follow (跟隨) me and draw on your A4 paper. Now, draw two mountains at the left bottom and a big tall tree next to them. And a pool next to the tree. There are two ducks swimming on the pool. A rabbit is under the tree and looking at the ducks. Don't draw dogs or cats, please. At the top, there is a rainbow. How about the right side? Please draw a flying bird. E-mail your picture to my e-mail box, lincolnclassroom.fmail.com, before (在...之前) next *Draw Your Surprise* show. Don't send (寄送) it on LINE. Call me at the number 0901-123456 after sending it, please. Now send your picture! **YOUR SURPRISE IS WAITING FOR YOU!**

- () 32. What is YOUR SURPRISE in the reading?
 (A) A dog. (B) A bird. (C) A duck. (D) A rabbit.
- () 33. Now you finish (完成) your picture. How can you give the picture to Jack?
 (A) I can give it to Jack in class. (B) I can tell Jack on the phone.
 (C) I can send it to Jack on LINE. (D) I can mail it to Jack's mail box.
- () 34. Which is most likely (最有可能) the right picture?
 (A) (B) (C) (D)



五、文意字彙：20% (每題 2 分)

- _____ 1. Today is Mother's Day. Let's have dinner(晚餐) at that r_____t.
- _____ 2. The little girl is in a deep(深的) swimming pool. She is in d_____r.
- _____ 3. It's hot today and the ice is m_____ting.
- _____ 4. Tina is posting(張貼) a s_____e on her Instagram.
- _____ 5. Many people are lining up to get t_____ts for the concert.
- _____ 6. Taiwan is an i_____d with beautiful mountains and rivers.
- _____ 7. The cat family is a big one. The lion and the tiger are also m_____rs of it.
- _____ 8. It's seven a.m. David is eating b_____t in the dining room.
- _____ 9. It's raining(下雨). The water l_____l of the river is rising.
- _____ 10. *The National Palace M_____m* is a great place. There are many artworks.

六、依提示完成句子：12% (每題 2 分)

題目在 **答案卷** 上

【試題結束~文光國中七年級英文】

澎湖縣立文光國中 112 學年度第一學期第三次定期評量七年級英語科試題答案卷

Class : Number : Name :

一~四、選擇題：68%

(選擇題 1~34 題)請將答案填在答案卡上

五、文意字彙：20% (每題 2 分)

六、依提示完成句子：12% (每題 2 分)

1. Fiona is playing <u>badminton</u> at the park. (依畫線部分造原問句)
2. Is the woman our new teacher this semester? (改以助動詞 Can 造問句)
3. 讓我帶你四處逛逛並且一起試試一些有名小吃吧。(中翻英)
4. 海平面正在上升。這些島嶼有麻煩了。(中翻英)
5. 我的妹妹正在跟我們的阿姨視訊。(中翻英)
6. What super power do you want to have to save the Earth? Why? (自行回答)

澎湖縣立文光國民中學 112 學年度第 1 學期第 3 次成績評量 7 年級數學科試卷

班級：7 年 班 姓名： 座號： 讀卡 答案卷

答對 題數	1	2	3	4	5	6	7	8	9	10	11	12	13	14	15	16	17	18	19	20
分數	5	10	15	20	25	30	35	40	45	50	54	58	62	66	70	72	74	76	78	80

一、選擇題

- () 1. 下列四個敘述中，哪一個是正確的？
 (A) $2x$ 表示 $2+x$ (B) x^2 表示 $x+x$ (C) $2x^2$ 表示 $2x \cdot 2x$ (D) $2x+5$ 表示 $x+x+5$
- () 2. $x=2$ 是下列哪一個一元一次方程式的解？
 (A) $2x+1=6$ (B) $x+2=3x-4$ (C) $3x+1=x+5$ (D) $2x-2=-x+2$
- () 3. 下列哪一個方程式的解與 $0.2x+3=0.3x-0.5$ 的解相同？
 (A) $2x+3=3x-0.5$ (B) $2x+3=3x-5$ (C) $2x+30=3x-5$ (D) $2x+30=3x-50$
- () 4. 智晴解方程式 $\frac{3}{2}(3x+2)=2x+3$ 的步驟如下，請問智晴是從哪一個步驟開始發生錯誤？
 (A) 步驟一：將兩邊同乘以 2，得 $3(3x+2)=2(2x+3)$
 (B) 步驟二：將兩邊去括號，得 $9x+6=4x+6$
 (C) 步驟三：將兩邊同減 6，得 $9x=4x$
 (D) 步驟四：將兩邊同除以 x ，得 $9=4$
- () 5. 下列何者是方程式 $x \div 4 - 3 = 45$ 的解？
 (A) $x = (45 - 3) \times 4$ (B) $x = (45 + 3) \times 4$ (C) $x = 45 \times 4 + 3$ (D) $x = 3 \times 4 + 45$
- () 6. 小華帶 x 元去買甜點，若全買紅豆湯圓剛好可買 30 杯，若全買豆花剛好可買 40 杯。已知豆花每杯比紅豆湯圓便宜 10 元，依題意可列出下列哪一個方程式？
 (A) $\frac{x}{30} = \frac{x}{40} + 10$ (B) $\frac{x}{40} = \frac{x}{30} + 10$ (C) $\frac{x}{40} = \frac{x+10}{30}$ (D) $\frac{x+10}{40} = \frac{x}{30}$
- () 7. 下列選項何者正確？
 (A) $(0.7)^4 > (0.7)^6$ (B) $(\frac{4}{3})^4 > (\frac{4}{3})^6$ (C) $2^6 \div 2^3 = 2^{6 \div 3} = 2^2$ (D) $2^2 \times 2^3 = 2^{2 \times 3} = 2^6$
- () 8. 在 1~9 中選一個數字，把這個數字乘以 3，再加上 3 後，再乘以 3，得到一組數字，然後將十位數字和個位數字相加之和可能是多少？
 (A) 9 (B) 12 (C) 15 (D) 不確定

二、填充題(需化為最簡分數)

1. (1) $[(\frac{2}{3})^2]^2 \times [(\frac{3}{2})^2]^3 =$ _____ (2) $(-3)^4 - 7^2 - \frac{2^6}{(-2)^3} =$ _____

2. (1) $4x - 7 = -15$, $x =$ _____ (2) $2x + 19 = 3x + 5$, $x =$ _____

3. 化簡下列一元一次式

(1) $4x - 7 - x + 9 =$ _____ (2) $2(3x - 1) - 3(x + 2) =$ _____ (3) $\frac{5x+1}{3} - \frac{2x+3}{2} =$ _____

4. 若 $x = -1$ 為方程式 $a(x + 3) + 2(x - 1) = x + 3$ 的解，則 $a =$ _____。

5. 以 x 列出下列各式

(1) 華氏溫度為攝氏溫度的 $\frac{9}{5}$ 倍多 32 度，當攝氏溫度為 $x^{\circ}\text{C}$ 時，華氏溫度為 _____ $^{\circ}\text{F}$

(2) 便利超商買 2 瓶相同運動飲料可加 1 元再送 1 瓶。

若依促銷方案買 3 瓶運動飲料一共要付 x 元，則此運動飲料原價一瓶 _____ 元

6. 定義： $n! = n \times (n-1) \times (n-2) \times (n-3) \times \cdots \times 3 \times 2 \times 1$ ，例如： $4! = 4 \times 3 \times 2 \times 1$ ，若 $x! = 6! \times 7!$ ，則 $x =$ _____

7. x 為滿足 $x^{2002} + 2002^{2001} = x^{2001} + 2002^{2002}$ 的整數，則 $x =$ _____ (寫出一組答案)

三、計算及應用題 (需寫計算過程，且答案要化為最簡分數) (20 分)

1. 解出下列 x 的值 (12 分，每題 4 分)

(1) $x - 2 \div \frac{5}{6} = \frac{1}{30}$

(2) $2(x + 20) = 3(x - 10)$

(3) $\frac{3-x}{6} = \frac{x+11}{8}$

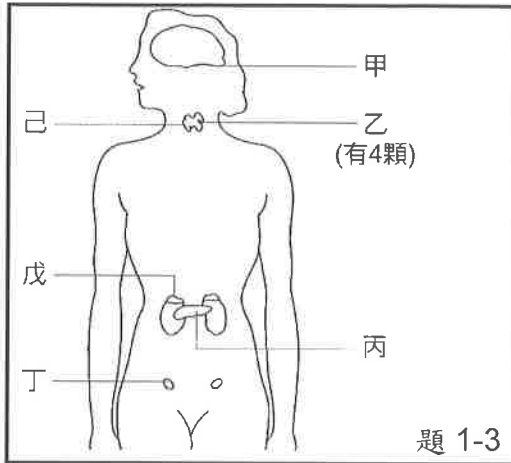
2. 齊倫和弘宇一起到福利社買運動飲料，齊倫買 2 瓶，用 50 元來付錢，弘宇買 7 瓶，用 100 元鈔票來付錢。如果兩人找回的錢一樣多，請問運動飲料 1 瓶多少元？(4 分)

3. 代數之父丟番圖(Diophantus)是一位古希臘的大數學家，他是第一個懂得使用符號代表數來研究問題的人。在他的墓誌銘上，有一段文字記載他一生中重要的事：這段文字的大意是說：丟番圖的童年占了他生命的六分之一，少年時期是有生之年的十二分之一，再過了生命的七分之一後他結了婚，五年後兒子出生，但兒子只活了丟番圖的一半歲數便過世了，丟番圖在悲痛之中度過他人生的最後四年。試問丟番圖享年幾歲？(4 分)

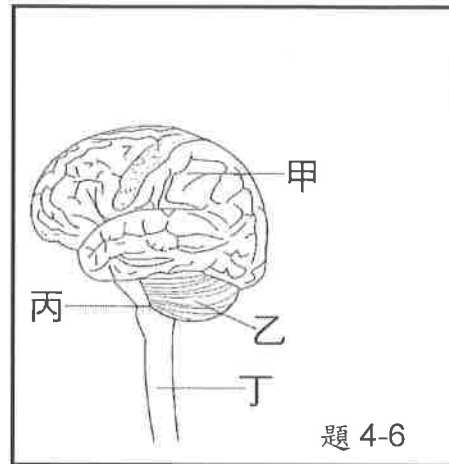
一、選擇題。全部 38 題。每題 2 分。共 76 分

※下左圖為人體的內分泌系統示意圖，請回答 1-3

- () 01.大力水手卜派總是在吃了一罐波菜之後，就會力大無窮，打敗壞人兼情敵布魯托，這和哪個腺體所分泌之激素的作用最有關？(A)甲 (B)乙 (C)丙 (D)戊。
- () 02.哪一個腺體失調時可能會造成巨人症或侏儒症？(A)甲 (B)乙 (C)丙 (D)丁。
- () 03.何者在幼年時期分泌不足會影響智力發展？(A)甲 (B)丙 (C)丁 (D)己。



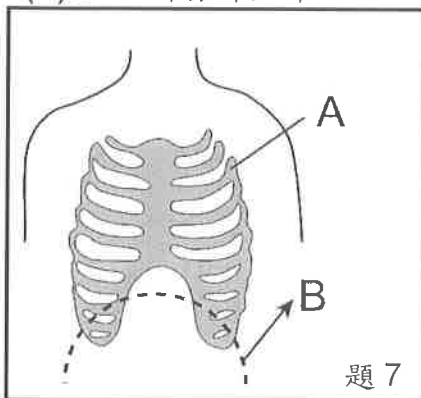
題 1-3



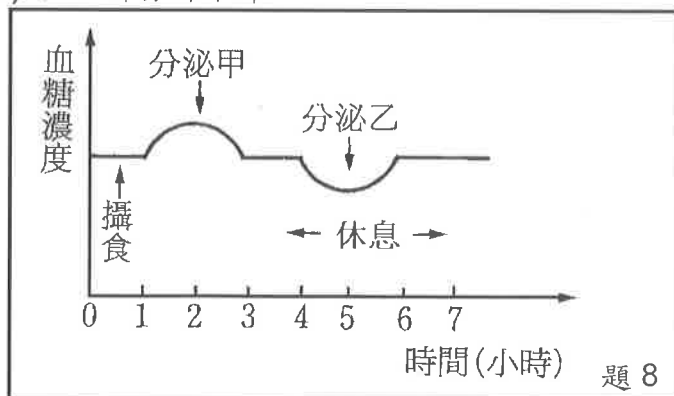
題 4-6

※上右圖為人體神經系統的構造圖，請回答 4-6

- () 04.體操選手可以經由訓練來提升身體的平衡感，主要是因為訓練可以加強哪個部位？(A)甲 (B)乙 (C)丙 (D)丁。
- () 05.請問，哪一個代號是指腦幹？(A)甲 (B)乙 (C)丙 (D)丁。
- () 06.人體所產生的反射作用，其控制中樞位於哪兩個部位？(A)甲、乙 (B)乙、丙 (C)乙、丁 (D)丙、丁。
- () 07.請根據下左圖判斷，人體在【呼氣】時胸腔會如何變化？(A)A 部分下降，B 部分上升 (B)A 部分上升，B 部分下降 (C)A、B 部分都上升 (D)A、B 部分都下降。



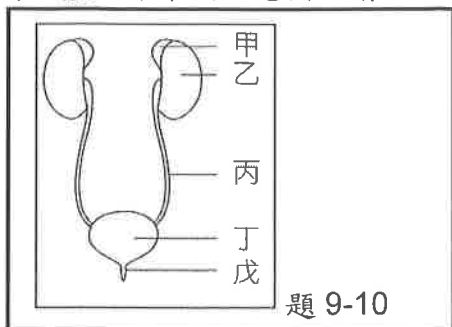
題 7



題 8

- () 08.上右圖為大雄中午吃飯後，到下午休息這段時間中，體內的血糖濃度變化，則圖中的分泌乙相當於下列何者？(A)胰島素 (B)副甲狀腺素 (C)升糖素 (D)生長激素。

※下圖為人體泌尿系統示意圖，請回答 9-10



- () 09.尿液是在哪裡形成的? (A)甲 (B)乙 (C)丙 (D)丁。
- () 10.尿液排出體外的正確途徑為何?
 (A)甲→乙→丙→丁→戊 (B)戊→丁→丙→乙
 (C)戊→丁→丙→乙→甲 (D)乙→丙→丁→戊。
- () 11.人類的腦神經數量為何? (A)12 對 (B)12 條 (C)31 對 (D)31 條。
- () 12.下列動物中，哪一類不是外溫動物? (A)魚類 (B)爬蟲類 (C)兩生類 (D)哺乳類。
- () 13.小夫連打 10 小時的電動，過程中一直表現出緊張、刺激的情緒，連飯都忘了吃。
 此時他體內哪些激素應該會大量分泌，使其血糖濃度不至於過低?
 (A)升糖素、腎上腺素 (B)甲狀腺素、胰島素
 (C)腦垂腺、胰島素 (D)雄性激素、副甲狀腺素。
- () 14.下列何種生物會直接將氮排出體外? (A)蝗蟲 (B)烏鴉 (C)單細胞眼蟲 (D)猴子。
- () 15.動物的行為，大都受到哪兩個器官系統的協調與控制?
 (A)神經與消化系統 (B)消化與循環系統
 (C)內分泌與神經系統 (D)循環與內分泌系統。
- () 16.動物接受環境刺激的構造稱為受器，分布在各感覺器官中，下列各構造何者不是感覺器官? (A)唾腺 (B)眼睛 (C)舌頭 (D)皮膚。
- () 17.人類的泌尿系統的作用為何?
 (A)排出氣體 (B)排出代謝廢物 (C)排除水分與含氮廢物 (D)排出養分。
- () 18.生物細胞利用氧氣，將養分分解產生二氧化碳、水及能量的過程，稱作什麼?
 (A)呼吸作用 (B)光合作用 (C)消化作用 (D)排泄作用。
- () 19.下列有關神經系統和內分泌系統的比較，哪一項是【錯誤】的?

	神經系統	內分泌系統
(A)訊息傳遞方式	由血液傳遞	由神經元傳遞
(B)作用速率	迅速	緩慢
(C)作用時效	短暫	持久
(D)作用範圍	局部	廣泛


- () 20.動物對光線、溫度、化學物質及地球引力等環境刺激，產生趨向或背離的反應稱為什麼? (A)向性 (B)趨性 (C)意識行為 (D)反射作用。

- () 21.動物體內調節水分的主要機制是下列何者?
(A)飲水量與出汗量 (B)出汗量與呼出水蒸氣的量
(C)飲水量與排尿量 (D)唾液量與呼吸量。
- () 22.人類的學習能力比烏龜的學習能力強，請問學習能力與哪一器官系統的發達程度最有關?(A)消化系統 (B)排泄系統 (C)生殖系統 (D)神經系統。
- () 23.下列生物體的構造，何者不是為了減少或防止水分的散失?
(A)人類小腸的絨毛 (B)烏龜的骨板 (C)仙人掌的針狀葉 (D)眼鏡蛇身上的鱗片。
- () 24.關於生物呼吸構造的敘述，下列何者錯誤?
(A)魚類用鰓呼吸 (B)生活在海中的綠蠔龜用鰓呼吸
(C)山椒魚的皮膚可進行氣體交換 (D)狗用肺呼吸。
- () 25.打羽毛球時，從看到球再用球拍接球的整個過程中，訊息的傳導途徑依序為何?
甲.大腦；乙.脊髓；丙.感覺神經元；丁.運動神經元。
(A)眼睛→丁→甲→乙→丙→手部肌肉 (B)眼睛→丙→甲→乙→丁→手部肌肉
(C)眼睛→丙→乙→甲→丁→手部肌肉 (D)眼睛→丁→乙→甲→丙→手部肌肉。
- () 26.下列何種疾病，不是因為內分泌腺分泌異常所引起的?
(A)侏儒症 (B)甲狀腺亢進 (C)夜盲症 (D)巨人症。
- () 27.影響植物向地性的因素為何?
(A)地球引力 (B)土壤成分 (C)地表硬度 (D)光線強度。
- () 28.關於反射作用，下列何者錯誤?
(A)脊髓是反射中樞 (B)腦幹是反射中樞
(C)和同學比賽眨眼的快慢是一種反射 (D)吸入胡椒粉打噴嚏是一種反射。
- () 29.甲狀腺亢進的症狀，不包括下列何者?
(A)個體異常消瘦 (B)智力減退 (C)容易緊張 (D)經常感到煩躁。
- () 30.在夜晚時，酢漿草的葉片會下垂，這種反應稱為?
(A)觸發運動 (B)睡眠運動 (C)捕蟲運動 (D)莖的向觸性。
- () 31.運動後臉色較紅潤的原因是什麼?
(A)皮膚表面血液量增加，減少散熱 (B)皮膚表面血液量增加，加速散熱
(C)皮膚表面血液量減少，加速散熱 (D)皮膚表面血液量減少，減少散熱。
- () 32.正常狀態下，成人呼吸運動每分鐘約有幾次?
(A)90~110 (B)70~80 (C)25~40 (D)15~18。
- () 33.人在吃飽後因何種激素的分泌，而使血糖恢復正常濃度?
(A)甲狀腺素 (B)胰島素 (C)腎上腺素 (D)升糖素。
- () 34.當體溫過低時，下列何種情況無法促進身體產熱?
(A)流汗 (B)進食 (C)運動 (D)顫抖。
- () 35.下列何者不是大部分生物呼吸器官的特徵?
(A)表面溼潤 (B)布滿微血管 (C)具有纖毛 (D)具有較大的表面積。

- () 36.下列哪些選項，符合植物短時間的感應的敘述？
甲、需經生長而表現；乙、反應較快；丙、可以恢復原狀。
(A)A、B (B)A、C (C)B、C (D)A、B、C。
- () 37.下列何種現象屬於恆定性？
(A)習慣用左手寫字 (B)每天吃一顆綜合維他命
(C)每天固定慢跑 30 分鐘 (D)體溫維持在 37°C 左右。
- () 38.肚子餓的感覺可能是因為血液中何種物質濃度過低所致？
(A)蛋白質 (B)纖維素 (C)脂質 (D)葡萄糖。

二、實驗題。全部 8 題。每題 3 分。共 24 分

- () 39.宜靜凝視附圖中的圖案 30 秒後，將視線移至白紙上，下列何者是宜靜會看到的



- () 40.在「呼吸作用的觀察」實驗中，請問使用哪種物品來檢測【二氧化碳】的存在？
(A)澄清石灰水 (B)碘液 (C)氯化亞鈷試紙 (D)本氏液。
- () 41.承上題，在進行實驗之後，該物品會呈現哪種顏色或狀態？
(A)藍色 (B)白色沉澱 (C)粉紅色 (D)澄清。
- ※甲、乙兩人做接尺實驗，請回答 42-44
- () 42.主試者甲放開尺，受試者乙看見尺開始掉落，立即接尺。
請問，乙接受測試時，乙接受環境刺激的受器主要分布於何處？
(A)手部皮膚 (B)手部肌肉 (C)耳 (D)眼。
- () 43.在接尺實驗中，乙受試者體內的神經傳導途徑為何？
(A)受器→感覺神經元→大腦→脊髓→運動神經元→動器
(B)受器→運動神經元→大腦→感覺神經元→動器
(C)受器→感覺神經元→脊髓→運動神經元→動器
(D)受器→運動神經元→脊髓→大腦→感覺神經元→動器。
- () 44.下列何者不是因為「視覺暫留」所造成的現象？
(A)煙火在空中呈現出絢麗的圖案
(B)卡通影片中的卡通人物表現出可愛的動作
(C)滴入水中的墨汁逐漸均勻散布至整杯水中
(D)綿綿春雨如細絲般地降落地面。
- () 45.在「呼吸作用的觀察」實驗中，請問使用哪種物品來檢測【水氣】的存在？
(A)氯化亞鈷試紙 (B)澄清石灰水 (C)碘液 (D)本氏液。
- () 46.承上題，在進行實驗之後，該物品會呈現哪種顏色？
(A)白色沉澱 (B)澄清 (C)粉紅色 (D)藍色。

【試題結束—文光、七年級、自然科】

班級：

姓名：

座號：

讀卡 答案卷

一、 單選題(十五題，每題 2 分，共 30 分)

1. () 清朝將臺灣納入版圖後，漢人陸續移民來臺，當時移居臺灣的漢人大部分來自中國大陸的哪兩省？
(A)福建、廣東 (B)廣東、廣西 (C)浙江、福建 (D)江蘇、浙江。
2. () 清帝國時期，早期來臺的漢人在宗族祭祀上，最先是以祭拜何種對象為主？
(A)唐山祖 (B)開臺祖 (C)媽祖 (D)三山國王。
3. () 早期來臺移民常透過原鄉信仰來凝聚向心力，並增進彼此的情感；來自各地的移民各有不同的主要信仰。請問：三山國王主要是哪個族群的祭祀對象？
(A)泉州人 (B)漳州人 (C)潮州人 (D)平埔族。
4. () 清帝國時期不斷建設大型的水利設施，對當時臺灣社會有什麼直接的影響？
(A)沒有影響 (B)漢人地位提高 (C)糧食產量增加 (D)加強軍屯的設立。
5. () 清帝國統治時期，臺灣出現多條水利建設，有助於農地的開發與利用。其中瑠公圳的修築，對臺北盆地的開發貢獻極大。請問：瑠公圳修建時，應隸屬於哪一個行政區？ (A)諸羅縣 (B)彰化縣 (C)淡水廳 (D)噶瑪蘭廳
6. () 「一府二鹿三艋舺」是清帝國統治臺灣早期，因與中國大陸對渡而興起的三大貿易港口。請問：「一府」是指當時的哪一個地方？
(A)臺北府 (B)臺灣府 (C)臺南府 (D)承天府。
7. () 清帝國統治時期，臺灣對中國大陸的貿易已相當興盛，當時設有類似現今的同業公會組織。請問：這類型組織我們稱之為何？
(A)郊 (B)會 (C)社 (D)商會。
8. () 清帝國時期，在開港通商之前，臺灣對外出口的貨品為何？
(A)茶葉、樟腦 (B)稻米、蔗糖 (C)茶葉、稻米 (D)蔗糖、樟腦。
9. () 康熙 23 年，清廷同意開放_____與廈門進行貿易，此後臺灣各地生產的米穀，會先用牛車、小船載運至_____，然後裝載於大船上運往廈門，_____成為當時唯一與中國大陸進行商業貿易的港口。請問：_____應填入哪一個地點較適當？ (A)淡水 (B)基隆 (C)八里坌 (D)鹿耳門
10. () 十九世紀中期臺灣開港通商，吸引了各國勢力前來發展，彷彿又回到大航海的時代。請問：這種轉變，當時臺灣哪一個城市並未直接受影響？
(A)淡水 (B)雞籠 (C)打狗 (D)鹿港。
11. () 「這項作物產於西南部，起初多由打狗或安平出口到國外，而後由打狗出口者逐漸增多，其出口總值約占臺灣當時 36%，排名第二。」請問：這項作物應為下列何者？ (A)稻米 (B)茶葉 (C)樟腦 (D)蔗糖。
12. () 這個地方製茶工房林立，茶葉產期，茶行必須雇用許多女工，多則五、六十人，少則二、三十人，甚至有漳、泉婦女來此短期工作，每日工資四、五錢不等。請問：這個地方應是下列何地？
(A)大稻埕 (B)艋舺 (C)安平 (D)打狗

【第 1 頁結束 背面尚有試題】

13. () 開港通商對臺灣社會造成很大的影響，也對原住民族群產生巨大的衝擊，除了西方宗教的傳入、對原始山林的破壞等情況之外，清廷的「開山撫番」行動，導致原住民族嚴重的死傷。下列哪一事件即是清帝國時期的原漢衝突事件？ (A) 牡丹社事件 (B) 郭懷一事件 (C) 大港口事件 (D) 林爽文事件
14. () 臺灣開港之後，基督教長老教會對臺灣的影響很大，下列何者是長老教會在臺灣的貢獻？ (A) 設立郵局 (B) 設立炮臺 (C) 興築縱貫鐵路 (D) 設立醫院、學校
15. () 綜觀臺灣的歷史發展，曾有數次接觸西方文化。第一次為大航海時代，第二次為開港通商之後。請問：第一次與第二次西方文化傳入臺灣，其共同點為下列何者？ (A) 皆有傳教行為 (B) 皆有設女學堂 (C) 皆有控制全島 (D) 荷蘭皆有參與。

二、題組(五題，每題1分，共5分)

(一) 下列是清帝國時期臺灣水圳的特色，請填入與其相對應的水圳名稱。

A. 八堡圳 B. 瑠公圳 C. 貓霧揀圳 D. 曹公圳

16. () 官方主導興建的水圳
17. () 臺北地區最重要的灌溉渠道
18. () 漢人與原住民合作共享的水圳

(二) 請參考清代臺灣產業分布圖，並回答下列問題：

19. () 茶葉、蔗糖、樟腦的產地分別位於圖中哪個區域？ (A) 甲、乙、丙 (B) 甲、丙、乙 (C) 乙、甲、丙 (D) 丙、乙、甲。
20. () 開港通商後，關於臺灣主要外銷商品的敘述，何者正確？
 (A) 甲地所產商品是開港後最大宗輸出品
 (B) 乙地所生產的商品出口歷史最為悠久
 (C) 丙地商品的產地主要分布於丘陵地區
 (D) 這些輸出品主要經由郊商外銷到全球。



【試題結束—文光 7 年級、歷史科】

一、 單選題(十五題，每題 2 分，共 30 分)

21. () 國中生在校學習，認識自己獨特之處，並發掘興趣所在，對自己有何助益？
(A) 藉此投老師所好 (B) 可以把同學比下去
(C) 找到自己的發展方向 (D) 大幅提升課業成績。
22. () 學生在校就學期間，每天要與無數的同學相處互動，接觸多了難免會有摩擦，以下何者是化解衝突的適當方式？
(A) 以同理心體諒與對方溝通，化解爭議
(B) 配合他人的意見，盡量退讓才会有好人緣
(C) 人善被人欺，懂得反擊才不會被霸凌
(D) 自行處理不可能公平，應請朋友來助陣。
23. () 華人傳統的教育理念認為「不打不成器」、「棒下出孝子」，然而，隨著時代與觀念變遷，這種高壓教育方式已成過去式。下列何者明確揭示了「零體罰」的校園教育政策？
(A) 《憲法》(B) 《性別平等教育法》
(C) 《家庭暴力防治法》(D) 《教育基本法》。
24. () 關於讓嚴重干擾上課的學生去學務處，有人認為這樣的作法損害學生的受教權；但也有人認為，干擾同學上課的學生，已經影響同學的受教權。雙方爭執的是學生哪方面的權利？
(A) 學習 (B) 身體自主 (C) 名譽與隱私 (D) 財產。
25. () 關於校園中所發生的事件，下列何者並非對名譽與隱私的侵犯？
(A) 在課堂進行中辱罵老師辯話
(B) 未經同學同意，在網路上公開幫他徵友
(C) 私下偷翻閱同學日記，看他是否向老師打小報告
(D) 上課講話影響隔壁同學聽課。
26. () 校園霸凌不但影響校園中的和諧，也嚴重侵害他人權益，是相當受到重視的校園問題。下列關於校園霸凌的類型何者正確？
(A) 在臉書上留言羞辱同學：肢體霸凌 (B) 罵同學娘娘腔：性霸凌
(C) 嘲笑同學是矮冬瓜：關係霸凌 (D) 在校外暴力毆打同學：言語霸凌。
27. () 在學生自治的過程中，國中生可以學習到下列何種民主素養？
(A) 如何否決別人的意見 (B) 如何尊重別人的意見
(C) 如何與學校師長抗爭 (D) 如何表現自己的優點。
28. () 七年甲班召開班會，小沈的角色任務包括：賦予參加人員發言地位、維持會場秩序、裁決秩序問題與權宜問題，並主持表決等。依此判斷，小沈應是擔任下列何種角色？ (A) 導師 (B) 司儀 (C) 主席 (D) 紀錄。
29. () 在會議中，有人提出口頭動議時，原則上必須徵得多少人的附議，動議才能成立？
(A) 無須附議 (B) 一人以上 (C) 二人以上 (D) 三人以上。

【第 3 頁結束 背面尚有試題】

30. () 在學校中，我們會透過班會來討論與決定班級的公共事務，下列有關班會進行方式的說明何者正確？
 (A)由導師宣布會議的開始及開會的目的(B)會議之前提出動議並由一人以上附議
 (C)表決採取先提名先表決及多數決原則(D)討論事項完畢後交由導師報告及講評。
31. () 社區乃是因一群人彼此常往來接觸且生活息息相關，自然而然形成的生活領域。下列關於「社區構成要素」的敘述，何者正確？
 (A)共同關係指居民們是親屬關係
 (B)社區是政府所劃分的法定單位
 (C)社區意識乃指居民對社區的認同感以及歸屬感
 (D)居民共同維護生活環境整潔，不屬於社區參與。
32. () 傳統農業社會的居民由於共同生活，而建立深厚的情感，對生長的土地產生認同，加上信仰、生活習慣相接近，就形成了所謂的「鄰里意識」。而這種「鄰里意識」也就是今日構成社區不可或缺的何種要素？
 (A)國家認同 (B)自我認同 (C)社區意識 (D)民族意識。
33. () 近年來愈來愈多地方為推動在地文化復興，紛紛辦理了許多活動，如「守護黃蝶生態」、「看見老街之美」、「實施部落自治」等。下列何者為上述活動的主要目的？
 (A)促進在地就業(B)再造社區組織(C)重建部落會議(D)追求社區及部落永續發展。
34. () 關於「部落」與「社區」的差異，下列敘述何者正確？
 (A)只是名稱的差異，本質上並無差別
 (B)以居民的多寡區分，人數少的稱為部落
 (C)以分布區域劃分，位於偏鄉的稱為部落
 (D)以生活方式與傳統規範區分，由原住民主管機關核定的稱為部落。
35. () 臺灣首支國產火箭「飛鼠一號」在發射前，獲得當地原住民族召開部落會議認可後，也將由部落舉行傳統祈福儀式，請祖靈保佑發射順利。上述政府或私人於原住民族土地或部落及其周邊一定範圍內之公有土地從事土地開發、資源利用等，應諮商並取得原住民族或部落同意或參與，這是依據下列何項法律的規定？
 (A)《國家語言發展法》(B)《中華民國憲法》
 (C)《原住民族基本法》(D)《原住民族教育法》。

二、題組(五題，每題1分，共5分)

(一)在會議中，主席要維持會場秩序，並裁決權宜問題、秩序問題。請從答案選項中，選出最適合的配對。(36-37題) 選項：A. 權宜問題 B. 秩序問題

36. () 小美發現主席未徵求附議，就決定候選人名單。

37. () 在會議進行中，突然停電，會場陷入一片混亂。

(二)下列與社區有關的概念，請依其性質從答案選項中選出最恰當的配對。(38-40題)

選項：A. 社區意識 B. 社區參與 C. 永續社區

38. () 社區在居民與政府配合下，將社區公園規畫得清靜幽雅，使社區欣欣向榮。

39. () 來旺鄉鄉民陳水木比賽獲得金牌，領獎時大聲的說：「我是來旺鄉的人！」

40. () 為拒絕色情行業進駐社區影響生活環境，康軒社區居民向政府機關陳情。

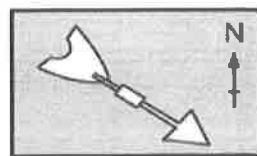
【試題結束—文光7年級公民科】

澎湖縣立文光國民中學 112 學年度第 1 學期 第 3 次成績評量 7 年級地理科試卷

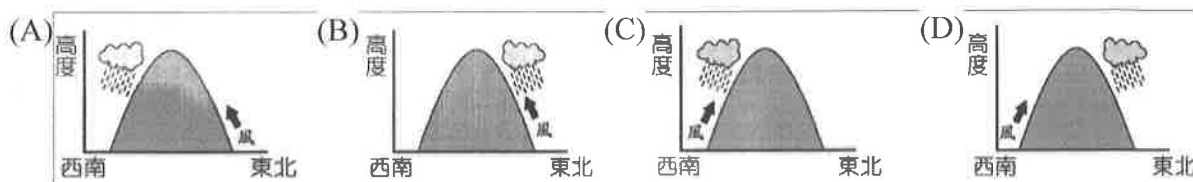
班級：_____ 姓名：_____ 座號：_____ ■ 讀卡 □ 答案卷

一、單一選擇題 (12 題，每題 2 分，共 24 分)

41. () 附圖為氣象觀測站的風向標。此時的風向為何？
 (A) 東北風 (B) 西北風 (C) 東南風 (D) 西南風。



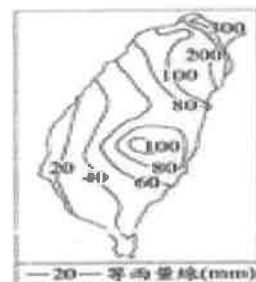
42. () 每年冬季時，宜蘭地區的降水量豐富，因而有「竹風蘭雨」的稱號。該地區的降水型態為下列何者？



43. () 氣壓是構成天氣的要素之一，下列有關氣壓的特性，哪一項是正確的？ (A) 高度愈高，氣壓愈高 (B) 冷空氣容易形成低氣壓 (C) 熱空氣容易形成高氣壓 (D) 低氣壓容易成雲致雨。
44. () 對流雨是常見的降水類型，關於對流雨的特性，下列敘述何者正確？
 (A) 雨區較小 (B) 雨時較長 (C) 雨勢較小 (D) 經常發生在冬季。
45. () 阿里山與嘉義的緯度相當，但是在一月及七月月均溫都較嘉義溫度低，形成此種現象的主因為何？ (A) 地勢較高 (B) 人口較少 (C) 氣壓較高 (D) 距海較遠。
46. () 附表為某都市氣溫，該地的年溫差為何？ (A) 14°C (B) 18.5°C (C) 31.4°C (D) 39.3°C。

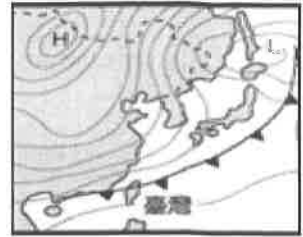
月分	1月	2月	3月	4月	5月	6月
均溫(°C)	21.1	24.2	30.0	36.2	36.3	37.3
月分	7月	8月	9月	10月	11月	12月
均溫(°C)	39.6	37.3	33.9	32.9	28.3	23.0

47. () 受到地理環境影響，臺灣的河川上游多興建水庫，蓋水庫的好處不包含下列何者？
 (A) 水力發電 (B) 調節水源 (C) 攔截泥沙 (D) 儲存用水。
48. () 地理課時同學們熱烈討論臺灣河川的特色，下列哪一位同學的敘述最正確？
 (A) 伯賢：河川多是東西分流，因為臺灣島主要分水嶺為南北縱走的玉山山脈
 (B) 佳閩：臺灣主要分水嶺位在島嶼的中央偏西，所以西部河流的長度較東部短
 (C) 加修：受到降水季節分布不均的影響，臺灣北部河川終年少雨，流量變化很大
 (D) 云云：臺灣東西狹窄，且山脈地勢高聳，所以河川普遍短小，汛期河水流速快。
49. () 附圖如右，為臺灣某月分的月平均等降水量圖，根據圖中降水量的分布狀況判斷，此時臺灣地區的盛行風向應為下列何者？
 (A) 東北風 (B) 西北風 (C) 東南風 (D) 西南風。




50. () 天氣預報是由氣象預報人員根據專業的數據、資料，分析預測後再呈現給民眾。下列何者並非氣象預報前所需蒐集的資料？ (A)衛星雲圖 (B)等高線地形圖 (C)地面天氣圖 (D)各地氣象測站蒐集的相關氣象資料。

51. () 附圖是臺灣某時間的地面天氣圖，此時臺灣最可能出現何種天氣現象？ (A)低溫酷寒 (B)高溫難耐 (C)梅雨侵襲 (D)強風豪雨



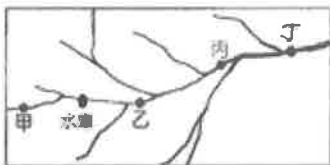
52. () 附圖為臺灣某日的衛星雲圖，從圖中資料判斷，關於臺灣各地天氣狀況的敘述，下列何者正確？ (A)因鋒面籠罩而有較大雨勢 (B)臺灣東部即將受颱風侵襲 (C)西南氣流北移使降水機率提高 (D)受到高壓影響使全臺天氣晴朗炎熱。



二、選擇題：(6題，每題1分，共6分)

53. () 下列哪一項資料最適合用來判別一地水資源豐缺情況？ (A)年降水量 (B)年平均溫度 (C)年蒸發(散)量 (D)平均每人可再生水資源量。

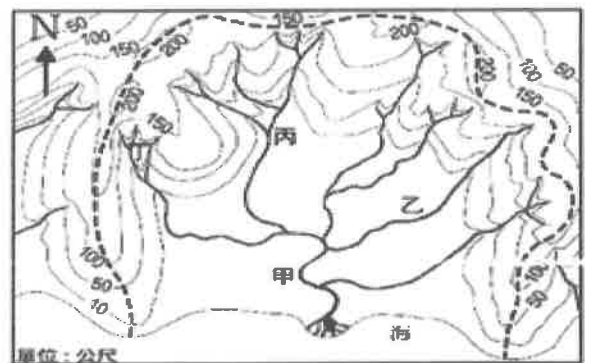
54. () 攔砂壩是臺灣河川上常見的水土保持方法之一，尤其在水庫集水區內的河段為避免大量砂石進入水庫，常會設有此設施。依據上述判斷，附圖中哪一個地區最可能設有上述的設施？ (A)甲 (B)乙 (C)丙 (D)丁



附圖是某地區流域的等高線地圖。請問：

55. () 該條河川主流的流向為何？ (A)向北(B)向南(C)向東北(D)向西南。

56. () 該條河川流域的哪一個點水量最大？ (A)甲 (B)乙 (C)丙 (D)丁。



臺灣島嶼面積雖小，但大小河川多達 150 多條。附圖是臺灣河川長度較長的四條河川，請問：

57. () 「這條河川流量穩定，是臺灣少數具航運之利的河川，自清領時期起沿岸的商業即相當發達，如艋舺、大稻埕等均為其沿岸的聚落。」上文中提及的河川為右圖中何者？ (A)甲 (B)乙 (C)丙 (D)丁

58. () 右圖中哪一條河川的名稱由來與其河水中的泥沙含量偏高有關？ (A)甲 (B)乙 (C)丙 (D)丁

