

澎湖縣立文光國中 112 學年度第二學期七年級國文科第二次成績評量試題卷

一. 國字與注音：12% 每題 1 分 七年級__班 姓名：_____ 座號：__

1. 地窄人「稠」
2. 軟「塌」
3. 包「紮」
4. 「斃」扭
5. 前「倨」後恭
6. 陶「冶」
7. 生活「廿一世」据
8. 大「勺」美食
9. 轉「廿一世」點
10. 面面相「口」
11. 鏗「一尤」有力
12. 驚鴻一「廿一世」

二. 詞語填空：10% 每題 2 分 *請將提示的詞語選擇合乎句意者填入代號。

- A. 如獲至寶 B. 微不足道 C. 熾烈 D. 明察秋毫 E. 燠熱 F. 神遊 G. 呀然
H. 遊歷 I. 盡釋前嫌 J. 風聲鶴唳 K. 龍蟠虎踞 L. 壟斷
1. 不到一個鐘頭，那棟大樓就被（ ）的火焰給吞噬了。
 2. 那對兄弟經過徹夜的懇談後，彼此（ ），言歸於好。
 3. 雖然我至今無緣一覽美國大峽谷的風光，但夢裡不知已（ ）多少回了。
 4. 在警方（ ）的偵辦下，這件懸案終於宣告偵破。
 5. 目前諸多消息都是以訛傳訛，先別把自己嚇得（ ）、驚恐萬分。

三. 成語填空：10% 每題 1 分 *請將提示的成語選擇合乎句意者填入代號。

- A. 古道熱腸 B. 一語中的 C. 茲事體大 D. 囫圇吞棗 E. 爾虞我詐 F. 無的放矢
G. 目不暇給 H. 趾高氣揚 I. 汲汲營營 J. 頤指氣使 K. 欲蓋彌彰 L. 傾囊相授
M. 恃才傲物 N. 躊躇滿志 O. 自顧不暇 P. 動輒得咎 Q. 光風霽月 R. 弦歌不輟
1. 他連贏了數盤棋後，顯出（ ）的神情。
 2. 在政府大力提倡與民間努力經營之下，舉國處處（ ），國民的精神生活品質也隨之提升了。
 3. 原本對廚藝一竅不通的雅美，經過母親的（ ）之後，如今已是烹飪高手了。
 4. 楊先生是個慣老闆，對員工總是（ ），難怪該公司離職率特別高。
 5. 國家正值多事之秋，陳部長想要有所作為卻（ ）；但他決定置個人榮辱於度外，將既定政策推動下去。
 6. 為人處世應該實事求是——若無真憑實據或親眼目睹，便不宜胡亂評論、（ ）。
 7. 「人非聖賢，孰能無過」——一旦做錯事，勇於認錯並改過，才是上策；若一心想掩飾，終究是（ ），卻紙包不住火。
 8. 在跨年晚會上，各色各樣的表演節目應有盡有，令人（ ）。
 9. 有一些文章或書籍不可（ ），要細嚼慢嚥、一再反芻，才能體會個中滋味。
 10. 為了競選公司的董事會，他們兩人私下暗自較勁，（ ），可說無所不用其極。

四. 綜合測驗：58% 每題 2 分

1. 請根據土芭樂的生存之道一文內容推論，作者的寫作意圖為何？ (A)描寫土芭樂的生長特性，說明優勝劣敗的道理 (B)比較土芭樂與其他品種的差異，推崇本土水果 (C)記敘童年與現在對於土芭樂的不同觀感，抒發個人感悟 (D)強調土芭樂外表平凡但香氣十足，反諷社會只重外表忽略內涵
2. 「突然間，我對土芭樂為什麼要長得這麼彆扭，有了盡釋前嫌的理解。」作者為何使用「盡釋前嫌」來形容與土芭樂之間的關係？ (A)作者不喜歡品嚐土芭樂 (B)土芭樂太多籽讓作者不喜歡 (C)作者認為土芭樂的外觀不討好是正常的 (D)作者對土芭樂長得這麼彆扭一直有偏見
3. 「只有等到最後一株樹被砍掉了，最後一條河被汙染了，最後一條魚被捕食了，人們才會發現金錢不能充飢。」下列何者最適合做為這段文字的標題？ (A)人定能勝天 (B)奉獻的種子 (C)與自然共舞吧 (D)一葉可以知秋
4. 下列文句，何者的描述具有「誇飾筆法」？ (A)見藐小微物，必細察其紋理 (B)忽有龐然大物，拔山倒樹而來 (C)余年幼，方出神，不覺呀然驚恐 (D)定神細視，以叢草為林，蟲蟻為獸
5. 下列選項中，哪一個並非「倒裝」？ (A)一切「唯你是問」 (B)眾人唯他「馬首是瞻」 (C)一言以蔽之 (D)觀之，興正濃
6. 「見藐小微物」中的「藐」和「小」都是微小的意思，稱為同義複詞。下列「」中的詞語，何者也是如此？ (A)千里「跋涉」 (B)擦拭「窗戶」 (C)豎耳「聆聽」 (D)照顧「彼此」
7. 兒時記趣中，作者經由「想像」獲得物外之趣，下列選項何者配對正確？ (A)將「土礫」想像成「樹林」 (B)將「叢草」想像成「丘壑」 (C)將「鶴鳥」想像成「蚊子」 (D)將「蟲蟻」想像成「野獸」
8. 「天才是不足恃的，聰明是不可靠的，順手揀來的偉大科學發明是不可想像的。」這段文字最可能是在傳達下列何者的重要性？ (A)務實 (B)機會 (C)想像力 (D)創造力
9. 法國雕塑家羅丹說：「這世界不是缺少美，而是缺少發現美的眼睛。」這句話提醒我們要用用心去觀察、體驗生活周遭事物，便可感受其超乎想像的美。下列哪一個選項中的意涵與題幹意思相差最遠？ (A)萬物靜觀皆自得 (B)好鳥枝頭亦朋友，落花水面皆文章 (C)好的觀察者，會用自己的眼睛去讀「世界」這一部活書 (D)美必須乾乾淨淨，清清白白，在形象上如此，在內心中更是如此
10. 依據張騰蛟的說法，溪頭的竹子與其他地方的竹子有什麼不同？ (A)格外翠綠、高大而範圍廣布 (B)十分纖細、優雅而丰姿綽約 (C)特別稠密、高挺而講究秩序 (D)非常筆直、細瘦而分節明顯
11. 「溪頭是一簇迷人的風景，而擁簇在這裡的那些茂密的竹林，乃是風景中的風景。」這段話所要表達的意思是什麼？ (A)溪頭的竹林是溪頭的美景之一

- (B)溪頭的竹林不及溪頭公園之美 (C)溪頭的竹林是溪頭最美的景致
(D)溪頭的竹林很美，但溪頭不美

12. 溪頭的竹子一文想要表達的意涵是什麼？(A)從不同角度多方切入，專寫竹子挺拔的姿態 (B)描寫颱風過後的溪頭竹林從斷枝殘幹中茁壯 (C)以擬人法描述竹子的青蔥翠綠，獨具美感 (D)描述竹子的蓬勃生命力，與其獨特的姿態
13. 關於溪頭的竹子一文的敘述，下列何者說明正確？(A)作者運用誇飾手法，抒寫自己對溪頭竹林的觀察、想像與感受 (B)溪頭竹子的獨特之處是不願與其他竹子分享陽光、獨善其身 (C)作者描寫颱風過後的溪頭竹林凌亂，以表現寧死不屈的精神 (D)作者欽佩這些竹子生長茂密、青壯、高挺、盡力拚搏的傻勁
14. 「一節復一節，千枝攢萬葉。我自不開花，免撩蜂與蝶。」(鄭板橋)本段詩句在歌詠下列哪一項事物？(A)松 (B)竹 (C)梅 (D)柏
15. 「美的事實，就在我們的四周，甚至醜陋之中，也藏著美麗；不起眼裡，也包含著神奇。毛蟲形體雖醜，色彩卻斑斕耀眼；蜂鳥小如姆指，卻有空中停飛的本事。這些全賴有心欣賞、有暇觀照之人才能領略。」根據文意，下列何者適合作為此短文的標題？(A)追求自然的宴饗 (B)美就是心中有愛 (C)點滴留心皆是美 (D)缺憾也是一種美
16. 「青蔥乍下鍋時帶著刺激意味的茲啦一聲，以及頃刻後瀰漫整個廚房、微帶焦味的蔥香」。有關這段課文何者說明有誤？(A)寫起油鍋爆香蔥段的場景 (B)佐證正月是食蔥的好時節 (C)為作者烹調蔥的生活經驗 (D)運用了聽覺、嗅覺的摹寫
17. 漢字演變的過程概括為：「甲骨文→(甲)→篆書→(乙)→(丙)」，請問(甲)、(乙)、(丙)依序為何種字形？(A)甲：金文／乙：楷書／丙：隸書
(B)甲：隸書／乙：楷書／丙：金文 (C)甲：楷書／乙：隸書／丙：金文
(D)甲：金文／乙：隸書／丙：楷書
18. 「秦漢之間，正體的篆字太過繁複，實際從事書寫的書吏為了記錄的快速，破圓為方，把曲線的筆畫斷開，建立漢字隸書橫平豎直的方形結構。」根據這段文字，下列敘述何者正確？

	篆字	隸書
(A)	時代較晚	時代較早
(B)	結構較簡單	結構較繁複
(C)	破圓為方	化直為曲
(D)	較不便書寫	較便於書寫

19. 有關漢字字形的敘述，下列何者正確？(A)小篆是由金文簡化而來 (B)行書

- 是漢字定型的轉折點 (C)楷書自魏、晉以來，就一直通用至今
(D)秦始皇統一六國後，以隸書為官方字體
20. 對四位書法名家的評價，何者正確？ (A)王羲之被後世尊為「草聖」
(B)張旭的草書世稱「狂草」 (C)顏真卿是隸書的書寫名家 (D)柳公權的書體以行書最為有名
21. 「白露是九月頭一個節氣。露是由於早上溫度降低，水氣在地面或近地物體上凝結而成的水珠。因此俗諺說：『白露身勿露，赤膊當豬糞。』」可見白露時的氣候特徵最可能是下列何者？ (A)天冷開始降霜 (B)早晚溫差大
(C)暑氣逐漸消退 (D)降雨量增加
22. 土芭樂的生存之道云：「但年紀老大了，再吃到這種童年貧窮時充饑的小水果，智慧難免略有增長。」下列何者與這段文字的涵義最接近？ (A)智慧不憑年齡憑心靈 (B)年齡漸長而更深思熟慮 (C)不鳴則已，一鳴驚人
(D)不登高山，不顯平地
23. 下列有關兒時記趣一文的說明，何者正確？ (A)以「明察秋毫」四字貫串全文 (B)善用誇飾與轉化的修辭，使全文頗為生動 (C)作者對週遭事物先通過想像再加以觀察 (D)全文多用視覺摹寫，先「總說」再「分述」
24. 下列出自兒時記趣一文的句子，何者最具動態感？ (A)昂首觀之，項為之強 (B)龐然大物，拔山倒樹而來 (C)張目對日，明察秋毫 (D)神遊其中，怡然自得
25. 下列何者能總括食蔥有時一文的題旨？ (A)在戲將落幕、菜臨上桌時方上陣 (B)喜以青蔥添味增香者何止我一人而已 (C)萬物有定時，食亦應合時
(D)農曆正月倏忽將至，大啖青蔥的好時節又來了
26. 食蔥有時引用臺灣農諺：「正月蔥，二月韭，三月莧……」關於此農諺的意涵，下列何者說明有誤？ (A)現代生活日新月異，提醒人不可墨守成規 (B)說明一月正是食用青蔥的好時節 (C)飲食作息須應合自然之道
(D)先民將豐富的經驗，提煉成生活智慧的結晶
27. 「誇飾」的作用，可使平淡無奇的句子充滿趣味，並增強文句的氣勢，挑動讀者的視聽。下列選項何者並未使誇飾法？ (A)白髮三千丈，緣愁似個長 (B)千山鳥飛絕，萬徑人蹤滅 (C)朝辭白帝彩雲間，千里江陵一日還
(D)松柏雖寒苦，羞逐桃李春
28. 下列兒時記趣中的「之」字，何者並非代詞？ (A)項為「之」強 (B)為「之」怡然稱快 (C)驅「之」別院 (D)物外「之」趣
29. 下列文句「」中的詞語，何者使用最恰當？ (A)災民困在地基被掏空的房舍中，如「魚游沸鼎」，岌岌可危 (B)社區居民應守望相助，「以鄰為壑」，維護住家平安 (C)他在山上隱居，過著「浮雲蔽日」的生活 (D)祭拜祖先時要「舉案齊眉」，以示虔敬

五. 閱讀測驗：10% 每題 2 分

1. 請判斷下列詩句的主角並非竹子？(A)生葉青青不肯黃，枝條處處耐寒霜。
昭蘇萬物春風裡，更有
筍頭出土忙 (B)不論臺閣與山林，愛爾豈惟千畝陰。未出土時先有節，便凌
雲去也無心 (C)咬定青山不放鬆，立根原在破巖中。千磨萬擊還堅勁，任爾
東西南北風 (D)碧玉妝成一樹高，萬條垂下綠絲條。不知細葉誰裁出，二月
春風似剪刀
2. 中國古代文人常於詩詞中歌詠植物以自喻心志。下列配對何者錯誤？(A)寧
可枝頭抱香死，何曾吹落北風中：蘭 (B)凜凜冰霜節，修修玉雪身：竹
(C)無意苦爭春，一任群芳妒。零落成泥碾作塵，只有香如故：梅
(D)露滌鉛粉節，風搖青玉枝。依依似君子，無地不相宜：竹
3. 揚州鹽商宴請新任鹽官，滿桌清淡菜色，盡是名貴刁鑽的盛饌，甲魚僅用裙
邊，鱈魚只取鮓下兩塊蒜瓣肉，河魴配上素炒蘆蒿，素炒紫芽薑，素炒萵
苣尖……，鹽商食畢還淡然說：「咬得菜根，則百事可做。」下列何者最適
合用來形容這場宴會？(A)菜根蔬食之味，尤勝珍饈名饌 (B)粗茶淡飯，
隨遇而安，方見真性情 (C)蔬食與清淡暗藏著豪奢的事實 (D)滿席炊金饌
玉，填補不了精神的空虛
4. 韓良憶：「人之有異於動物者，即在——□□……使飲食不再只是口腹之事，
而變成與心連結；在懷念從前味時，也同時珍惜著從前人。」此作家認為人
與動物在飲食上的差異主要在於下列何者？(A)欲望 (B)品味 (C)品德
(D)有情
5. 「常常我們只記得結果的不完美，卻忘記收穫滿滿的過程。就像吹泡泡，其
實不須要太在意泡泡不免會破掉。」這句話的涵義與下列何者最接近？
(A)過程中的收穫比結果是否完美重要 (B)收穫滿滿的過程有助於結果的完美
(C)真正完美的結果是不可期待的 (D)無論過程或結果都應力求圓滿

澎湖縣立文光國中 112 學年度第二學期七年級國文科第二次成績評量答案卷

*請將答案依指示填入答案欄位，否則不予計分。

七年級__班 姓名：_____ 座號：__

一. 國字與注音：12% 每題 1 分

1.	2.	3.	4.	5.	6.
7.	8.	9.	10.	11.	12.

二. 詞語填空：10% 每題 2 分

1.	2.	3.	4.	5.
----	----	----	----	----

三. 成語填空：10% 每題 1 分

1.	2.	3.	4.	5.
6.	7.	8.	9.	10.

四. 綜合測驗：58% 每題 2 分

1.	2.	3.	4.	5.	6.
7.	8.	9.	10.	11.	12.
13.	14.	15.	16.	17.	18.
19.	20.	21.	22.	23.	24.
25.	26.	27.	28.	29.	

五. 閱讀測驗：10% 每題 2 分

1.	2.	3.	4.	5.
----	----	----	----	----

——作答完畢，請仔細檢核答案——

澎湖縣立文光國民中學一一二
學年度第二學期第二次成績評
量 高 作 測 驗

七年 ()班 姓名： 座號：

※ 測驗時間四十五分鐘，請用本國

文字書寫，可不必抄題目。

※ 請用黑色墨水筆（不得使用鉛
筆），由上而下，自右而左書寫，

長三百字以上，不得使用詩

歌、小說體裁及網路語言。

※ 答案紙上不得作任何標記或顯示
個人身分，否則皆以零分計算。

請仔細閱讀以下題目及說明，撰
寫一篇作文。

題目：面對未來，我應該具備的能力

說明：褪去稚嫩的你，已漸漸長成一個小大人了。當然，將來成長之路必定充滿各式各樣的挑戰；面對未來，你認為自己最應該具備的能力是什麼？也許是培養專業技術、發展多元思考；也許是觀察生活、了解周遭情勢；又或者是在學習包容與體諒，積極與他人溝通……。這些能力可能是你此刻缺乏的、也可能你應該提前準備，以因應瞬息萬變的社會。
請寫出你面對未來時，應該具備的哪些能力，並說明其中的理由。

Class :

Number :

Name:

請交答案卷即可**一:聽力測驗題:** 言談理解-根據聽到的對話內容與問題, 選出正確的答案 16% (每題二分)

- () 1. (A) August 31st.
(B) September 1st.
(C) September 2nd.
- () 2. (A) Eggs.
(B) Chicken.
(C) Noodles.
- () 3. (A) They are garbage.
(B) They are old.
(C) They are from a charity.
- () 4. (A) The boy is hungry.
(B) They're having breakfast.
(C) The girl can have the boy's vegetables.
- () 5. (A) They are buying food for breakfast.
(B) The woman has a cup of coffee every day.
(C) The milk is famous and delicious in this shop.
- () 6. (A) She doesn't like parties.
(B) She is having a picnic with the boy.
(C) She invites the boy to her brother's party.
- () 7. (A) It's July 16.
(B) It's July 26.
(C) It's July 31.
- () 8. (A) He is a farmer.
(B) He is a bus driver.
(C) He is a tour guide.

二:填充 24%**A: 介係詞填充;** 若不必加介係詞便打 x (每題一分)

- ☺ The Bio-Buses can go from Magong 馬公 to Pengnan 澎湖 1. a tank of gas 2. waste.
- ☺ Look! These two bags are different 3. each other.
- ☺ My grandfather has to take me home from school 4. noon 5. every Wednesday.
- ☺ Let's play basketball on the basketball court 6. Tuesday morning .
- ☺ We can build houses 7. cow poop.
- ☺ Our summer vacation is 8. July and August.
- ☺ Green energy is good 9. the Earth.
- ☺ My mom puts fish 10. a screen and dries them 11. the sun.
- ☺ People in Brazil wear yellow underwear 12. money on January 1st.

B: 字彙填空 (每題二分)

- ☺ She walks a k-13-r from school to the bus stop.
- ☺ **Andy:** The restroom is so s-14-y. What's going on?
Brian: No one wants to clean it.
- ☺ I am not hungry, so I only want to eat h-15-f.
- ☺ It rains a lot in the mountain a-16-a.
- ☺ Samantha likes to c-17-t action figures 公仔, especially Satoru Gojo 五條悟. She has twenty now.
- ☺ Can you tell me your f-18-l name and phone number?

三: 選擇題 40% (每題二分)

- ☺ There 1. some apple juice on the table.
(A)is (B)are (C)has (D)have
- ☺ First, clean the poop. And then, boil 2. .
(A)these (B)this (C)it (D)them
- ☺ 3. comes after September.
(A)November (B)June (C)August (D)October
- ☺ We need 4. .
(A)three dozen eggs (B)three dozens eggs
(C)three dozen of eggs (D)three dozens of egg
- ☺ Mom buys 5. grapes and juice.
(A)a (B)some (C)very much (D)any
- ☺ How many 6. are coming to the birthday party tomorrow?
(A)child (B)player (C)people (D)guy
- ☺ **Karen:** I want to take three days off.
Ben: 7.
Karen: My father is sick. I need to take care of照顧him.
(A)Is everything okay? (B)Excuse me. (C)All is well. (D)You bet.
- ☺ **Max:** 8. do you need?
Kathy: I am not that hungry. One, please.
(A)How much cups of coffee (B)How many milk tea
(C)How much beef noodles (D)How many pieces of pizza
- ☺ **Joseph:** 9.
Anita: Yes. It's the Indian New Year.
(A)What do you do? (B)How do you celebrate Holi?
(C)Is Holi a holiday? (D)What's Holi?
- ☺ **Janet:** 10.
Steve: She needs forty-five minutes.
(A)How much time does Mom need to cook?
(B)How many time do you need?
(C)Do you need more time?
(D)Does she need three minutes?
- ☺ **Jessica:** In Brazil, people wear white clothes to celebrate the New Year.
Jack: 11.
Jessica: People in India throw colorful powders at each other. And in Scotland, people have torchlight parade火炬遊行.
(A)What do they do on the New Year? (B)What's the date of the New Year?
(C)Where do they celebrate the New Year? (D)How do other countries celebrate it?

Hermione's eighth album 專輯, *I care*, and her new book, *I understand*, are coming out.

I care is coming out on December seventh!!!!!!!

- * You can pre-order 預購 *I care* from now on.
- Pre-order one album online, and you can get a picture.
 - Pre-order two albums online, and you can get clothes.

I understand is coming out one week later 後.

- * Hermione is going to meet you on these dates and at these places!
- December 21 (Sat.) 3~5 p.m., River Bank Cafe 咖啡館
 - December 29 (Sun.) 2~4 p.m., Red House
 - January 1 (Wed.) 7~9 p.m., NTU gym
 - January 11 (Sat.) 3~5 p.m., TICC Mall

- () 12. Hermione is shaking hands with her fans in the New Year. Where are they?
- (A) In River Bank cafe. (B) In Red House.
(C) In NTU gym. (D) In TICC Mall.
- () 13. Jack gets clothes today. What might 可能 he pre-order online?
- (A) He might pre-order one album.
(B) He might pre-order two albums.
(C) He might pre-order one book.
(D) He might pre-order two books.
- () 14. When is the album coming out?
- (A) On December 7. (B) On December 14.
(D) On January 1. (C) On December 21.

Look at the timetables 時刻表 of the four theaters 戲院.

Fox Theater Haikyu!!: The Dumpster Battle 劇場版排球少年!! 垃圾場的決戰 10:00 a.m. 12:00 p.m. 4:00 p.m. 6:00 p.m. August 12 - August 21	Bear Theater Kung Fu Panda 4 功夫熊貓4 1:00 p.m. 3:20 p.m. 5:40 p.m. 8:00 p.m. August 1 - August 9	Elephant Theater Godzilla x Kong: The New Empire 哥吉拉與金剛：新帝國 2:00 p.m. 4:30 p.m. 6:30 p.m. 9:00 p.m. July 28 - August 4	Horse Theater Exhuma 破墓 12:30 p.m. 2:30 p.m. 4:30 p.m. 6:30 p.m. 8:30 p.m. August 14 - August 23
---	--	--	--

- () 15. Today is Father's Day in Taiwan. Sarah and Philip want to see a movie.
Which movie can they see?
- (A) **Haikyu!!: The Dumpster Batt** (B) **Kung Fu Panda 4**
(C) **Godzilla x Kong: The New Empire** (D) **Exhuma**
- () 16. Today is July thirtieth. Oliver wants to see a movie. Which movie can he see?
- (A) **Haikyu!!: The Dumpster Batt** (B) **Kung Fu Panda 4**
(C) **Godzilla x Kong: The New Empire** (D) **Exhuma**
- () 17. Today is August seventeenth. Jake usually has dinner at 6:30 p.m. He wants to see a movie after dinner. Which movie can he see?
- (A) **Haikyu!!: The Dumpster Batt** (B) **Kung Fu Panda 4**
(C) **Godzilla x Kong: The New Empire** (D) **Exhuma**

Jason: It's hot today.

Adam: Yes, it is. Let's buy some drinks.

Jason: OK. There's a new 7-24 near here.

Adam: What's a 7-24?

Jason: It's a shop. It opens 24 hours a day.

Adam: Wow! That's really convenient.

(At the shop)

Jason: I want water. What do you want?

Adam: I want green tea, and Sam does, too.

Jason: How about some hot dogs? They're two for \$10.

Adam: Let's get four. By the way, is one bottle of water enough for you?

Jason: Well, get me two, please.

Adam: No problem. So we need four drinks.

Jason: How much money do we need, Adam?

Adam: Don't worry about it. Drinks and hot dogs are on me. It's my treat.

Jason: Thanks, Adam.

- () 18. What do they NOT get from the shop?
 (A) Green tea (B) Water (C) Hot dogs. (D) Pizza.
- () 19. What is true?
 (A) Adam is very hungry.
 (B) Sam doesn't want any green tea.
 (C) Jason wants two bottles of water
 (D) The hot dogs are three for ten dollars.
- () 20.

<i>Menu</i>	
Hot dog	\$6
Water	\$30
Green tea	\$25
Milk	\$35
Milk tea	\$40
Banana cake	\$150

How much does Adam pay 支付?

- (A)\$122. (B)\$125. (C)\$130. (D)\$134.

四. 寫作練習；請根據提示作答 20% (每題二分)

圖 A



Class : Number : Name:

請交答案卷即可

一:聽力測驗題:言談理解-根據聽到的對話內容與問題,選出正確的答案 16% (每題二分)

1.	2.	3.	4.	5.	6.	7.	8.
----	----	----	----	----	----	----	----

二:填充題 24% (1-12 介係詞填充每題一分; 13-18 單字填充每題二分)

1.	2.	3.	4.	5.	6.
7.	8.	9.	10.	11.	12.
13.	14.			15.	
16.	17.			18.	

三:選擇題 40% (每題二分)

1.	2.	3.	4.	5.	6.	7.	8.	9.	10.
11.	12.	13.	14.	15.	16.	17.	18.	19.	20.

四.寫作練習 20% (每題二分)

1. 復活節 Easter 今年在三月的第五個星期日。(請翻成英文;勿寫阿拉伯數字)
2. Let's get our hands dirty! (請翻成中文)
3. How many apples do we need? (請以 <u>不需要</u> 回答)
4. When is Samantha's birthday? (請依以 <u>二月 19 日</u> 詳答;勿寫阿拉伯數字)
5. Which festival do you like, Moon Festival or Dragon Boat Festival? Why? (請依事實 <u>詳</u> 答)
6. On the Chinese New Year, what celebration is your favorite? (請依事實 <u>詳</u> 答)
7. What are they doing in the park? (請依 <u>圖 A</u> 內容詳答)
8. Oscar needs <u>four</u> bottles of juice. (依畫線部分造 <u>原</u> 問句)
9. 信不信由你,人類糞便是有用的。(請翻成英文)
10. Songkran is just around the corner. (請翻成中文)

範圍：3-1-4-2

班級：7 年 班

座號：

姓名：

讀卡

答案卷

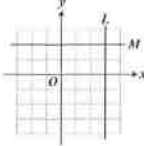

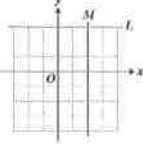
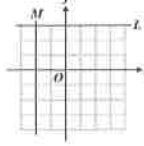
答對 題數	1	2	3	4	5	6	7	8	9	10	11	12	13	14	15	16	17	18	19	20
分數	5	10	15	20	25	30	35	40	45	50	54	58	62	66	70	72	74	76	78	80

一、選擇題

() 1. 下列哪一個方程式的圖形會通過原點？

- (A) $3x+5y=7$ (B) $\frac{1}{3}y=-2x$ (C) $-x+3y=11$ (D) $y=\frac{7}{6}x-2$

() 2. 已知直線 L 的方程式為 $x=3$ ，直線 M 的方程式為 $y=-2$ ，判斷下列何者為直線 L、直線 M 畫在坐標平面上的圖形？

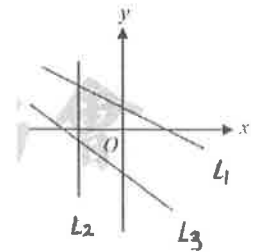
- (A)  (B)  (C)  (D) 

() 3. 下列敘述中， x 、 y 成反比的選項為何者？

- (A) 班上共有 25 位同學，其中男生 x 人，女生 y 人
 (B) 東東以一樣的速度跑操場，2 分鐘跑一圈，跑了 x 圈，總共花了 y 分鐘。
 (C) 高為 50 公分的三角形，其面積為 x 平方公分，底為 y 公分
 (D) 體積為 60 立方公分的長方體，其高為 x 公分，底面積為 y 平方公分

() 4. 如右圖，已知 $L_1: x+my=a$ ， $L_2: x=b$ ， $L_3: x+ny=c$ ，請問 a ， b ， c 三數的大小關係為何？

- (A) $c > a > b$ (B) $c > b > a$ (C) $a > c > b$ (D) $a > b > c$



() 5. 若 $a:b=3:4$ ，則下列關係式何者錯誤？

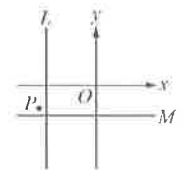
- (A) $4a:5b=3:5$ (B) $\frac{1}{a}:\frac{1}{b}=4:3$ (C) $a^2:b^2=3:4$ (D) $(4a+3b):(2a-b)=12:1$

() 6. 陳群想調 5L 橘色油漆，其中紅色油漆和黃色油漆的比例為 2:3，但陳群眼花看錯使用 3L 紅色油漆和 2L 黃色油漆，結果得到 5L 調錯的橘色油漆，以致沒有調成正確的橘色色調。請問他必須丟棄多少調錯的橘色油漆，用剩下的橘色油漆加上額外加的紅色或黃色油漆，重新調出 5L 正確的橘色油漆？

- (A) $\frac{5}{3}$ L (B) $\frac{3}{2}$ L (C) $\frac{2}{3}$ L (D) $\frac{3}{5}$ L

() 7. 如右圖，坐標平面上直線 L 的方程式為 $x=-5$ ，直線 M 的方程式為 $y=-3$ ，P 點的坐標為 (a, b) 。根據圖(二)中 P 點位置判斷，下列關係何者正確？

- (A) $a < -5, b > -3$ (B) $a < -5, b < -3$ (C) $a > -5, b > -3$ (D) $a > -5, b < -3$



() 8. 已知 x 和 y 是正數且 x 和 y 成反比，若 x 增加了 $p\%$ ，則 y 減少了多少%？

- (A) $p\%$ (B) $\frac{p}{1+p}\%$ (C) $\frac{100p}{100+p}\%$ (D) $\frac{p}{100+p}\%$

二、填充題(需化至最簡分數，全對才給分)

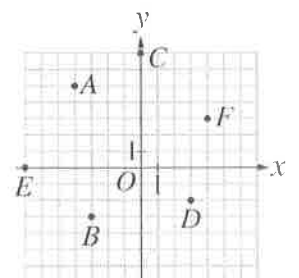
1. 坐標平面上， $L: 3x-by+18=0$ 通過 $A(-4, 3)$ ，試求：

- (1) $b =$ _____ (2) 直線 L 不通過第 _____ 象限

2. 現有大圓和小圓，大圓半徑為 R ，小圓半徑為 r ，已知 $R:r=11:8$ ，則大圓面積：小圓面積 = _____

3. 如右圖，寫出以下的坐標或回答問題：

- (1) B 點坐標為 _____ (2) 由坐標 _____ 向右 3 格，向下 4 格會到達 B 點
 (3) D 點在第 _____ 象限



4. 如果 $x=10$ 時, $y=24$, 請回答下列問題:

(1) 設 x 與 y 成反比, 當 $x=15$ 時, $y=$ _____ (2) 設 x 與 y 成正比, 當 $x=15$ 時, $y=$ _____

5. 求下列各比例式中的 x 值:

(1) $2:3=5:x$, $x=$ _____

(2) $(x-2):3=(x+4):5$, $x=$ _____

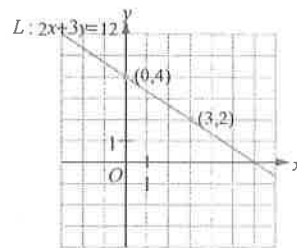
6. 若 $\frac{x}{5}=\frac{y}{4}$, 且 $x+y=36$, 求 $x-y=$ _____

7. 已知物體重量和它距地心距離的平方成反比。設地球半徑為 R , 有一枚火箭重 1000 公斤, 若火箭升空至離地面 $3R$ 時, 則火箭此時的重量為 _____ 公斤

三、計算及應用題(每小題 4 分, 共 20 分)(需寫計算過程, 並答案要化為最簡分數)

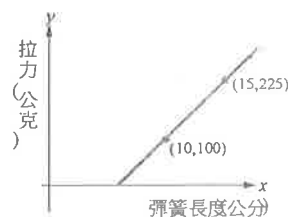
1. 在坐標平面上畫出二元一次聯立方程式 $\begin{cases} 2x+3y=12 \\ x-3y=6 \end{cases}$ 中兩個方程式的圖形, 並回答下列問題:

(1) 求出兩個二元一次方程式圖形的交點坐標。(2) 於右圖畫出 $x-3y=6$ 的圖形。




(3) 求出這兩個二元一次方程式的圖形與 y 軸所圍成區域的面積

2. 英國科學家虎克於西元 1678 年提出著名的虎克定律: 在彈性限度內, 當固體材料受力之後, 材料所受之力與變形量之間成線性關係。依據虎克定律, 彈簧秤在其彈性限度下時, 拉力 y 與彈簧秤長度 x 關係為二元一次方程式 $y=ax+c$, 其圖形為一直線。有一彈簧秤在其彈性限度下, 經過二次測量, 拉力與彈簧長度的關係如右圖, 求彈簧秤原來長度為多少公分?



3. 如圖, A 、 B 、 C 、 D 為森林公園的四個頂點, 小泐和安妮相約從 P 點同時出發繞著公園散步, 小泐依順時針方向每分鐘走 5 個單位長, 安妮依逆時針方向每分鐘走 3 個單位長, 請問兩人出發後, 第一次相遇的坐標為何?



7 年____班 座號：____ 姓名：_____

■讀卡


一、選擇題。全部 38 題(1-38)。每題 2 分。共 76 分

() 01.下列哪一種生物，以五界分類原則來說很難納入任何一界？

(A)大腸桿菌 (B)百合 (C)單胞藻 (D)登革熱病毒。

() 02.臺灣曾是香菇的生產大國，試問香菇的細胞型態屬於表中的哪一種？

	細胞壁	細胞膜	葉綠體	細胞核
(A)	有	有	無	無
(B)	有	有	無	有
(C)	無	有	有	有
(D)	無	有	無	有



() 03.右上圖是某種植物的花，則該植物還具有下列何種特徵？

(A)根的形式為軸根系 (B)種子只有一枚子葉

(C)葉脈為平行脈 (D)莖內維管束散生。

() 04.阿嘉在墾丁海邊浮潛時看到許多的水母群，則水母應歸類於下列何者？

(A)棘皮動物門 (B)刺絲胞動物門 (C)節肢動物門 (D)軟體動物門。

() 05.下列何者不是扁形動物門的成員？(A)渦蟲 (B)條蟲 (C)瘧原蟲 (D)吸蟲。

() 06.真核生物是指具有細胞核的生物，請判斷下列何者屬於真核生物？

(A)藍綠菌 (B)酵母菌 (C)乳酸菌 (D)葡萄球菌。

() 07.根據地層中挖出的化石，我們無法作出下列何項判斷？

(A)將化石復原，觀察原本生物身上的斑紋和保護色

(B)可幫助推測當時的氣候

(C)可由牙齒結構推測生物的食性。

(D)可從化石種類推測此地當時是海洋或陸地

() 08.關於節肢動物門生物的敘述，下列何者正確？

(A)只生存於陸地

(B)具有外殼可保護身體、防止水分散失

(D)蚯蚓、水蛭屬於節肢動物門

(D)是動物界中種類最多的一門。

() 09.關於植物對環境溫度的調節，下列敘述何者錯誤？

(A)植物的根吸收了土壤中的水分，使地表更熱 (B)樹葉可遮陽，使地表降溫

(C)植物的蒸散作用可帶走環境中的熱

(D)人站在樹蔭下，感覺較涼快。

() 10.鳴人在潮間帶發現了一種生物，解說員告訴他這是海星，則下列關於海星的敘述何者錯誤？

(A)與水螅屬於同一個門 (B)可行斷裂生殖 (C)海星屬於棘皮動物門 (D)表面有棘。

() 11.原核生物與原生生物的細胞構造，最大的差別在於下列何者？

(A)遺傳物質的有無 (B)細胞膜的有無 (C)核膜的有無 (D)細胞質的有無。

() 12. 靜香發現從市場買回來的橘子表面，長出一些毛茸狀的物體，試推測這種物體可能與下列何者是同一界的生物？(A)毒瓢蟲 (B)線鞭蟲 (C)石花菜 (D)石蓴。

() 13. 紅魚和小丑魚最大的差別在於下列哪一項？

(A)用肺或用鰓呼吸 (B)軟骨或硬骨 (C)有無脊椎骨 (D)水生或陸生。

() 14. 植物與水士保持的關係，下列敘述何者錯誤？

(A)每一種植物對水士保持的作用都是相同的

(B)植物的根可抓住土壤

(C)植物的葉片可阻擋雨水直接沖刷土壤

(D)植物覆蓋越密集，水士保持的效果越好。

() 15. 有關植物的分類，下列何者敘述正確？

(A)龍柏以球果協助生殖，屬於被子植物

(B)水苔沒有維管束，屬於蘚苔植物

(C)百合的根為鬚根系，屬於雙子葉植物

(D)榕樹不開花，屬於裸子植物。

() 16. 科學家將原生生物界中的生物分成三類，其主要分類依據為何？

(A)運動方式 (B)個體大小 (C)生長環境 (D)獲得養分的方式。

() 17. 下列何種動物具有胎盤？(A)斑龜 (B)白鸞鷲 (C)海豚 (D)鴨嘴獸。

() 18. 生活博物館展示珍貴的化石標本，但是眼尖的大雄馬上就發現其中一項並不是化石，請問是哪一項呢？

(A)永凍層中的長毛象

(B)恐龍的石化糞便

(C)吃剩的文蛤殼

(D)三葉蟲留下的爬痕。

() 19. 植物在生態系中扮演下列何種角色？

(A)消費者 (B)生產者 (C)清除者 (D)分解者。

() 20. 下列何者不是細菌？(A)螺旋菌 (B)桿菌 (C)球菌 (D)黏菌。

() 21. 臺灣獼猴的學名正確寫法應該是下列哪一項？

(A)Macaca cyclops (B)Macaca cyclopis

(C)macaca cyclopis (D)macaca Cyclopis。

() 22. 人類為了都市開發與經濟需求，大量砍伐森林，使得近半世紀以來，大氣中哪種氣體顯著增加而加劇全球暖化的現象？

(A)水氣 (B)一氧化碳 (C)氧氣 (D)二氧化碳。

() 23. 關於藻類的敘述何者錯誤？

(A)皆為綠色 (B)具細胞壁 (C)部分種類可食用 (D)能行光合作用。

() 24. 下列何種生物不是真菌？(A)蘇鐵 (B)靈芝 (C)黑黴菌 (D)酵母菌。

() 25. 根據化石的推測，馬為了適應草原生活在形態或構造上產生哪種變化？

(A)牙齒咀嚼面越來越小 (B)前肢腳趾數由單趾變為四趾

(C)小腸越來越長

(D)體型越來越大。

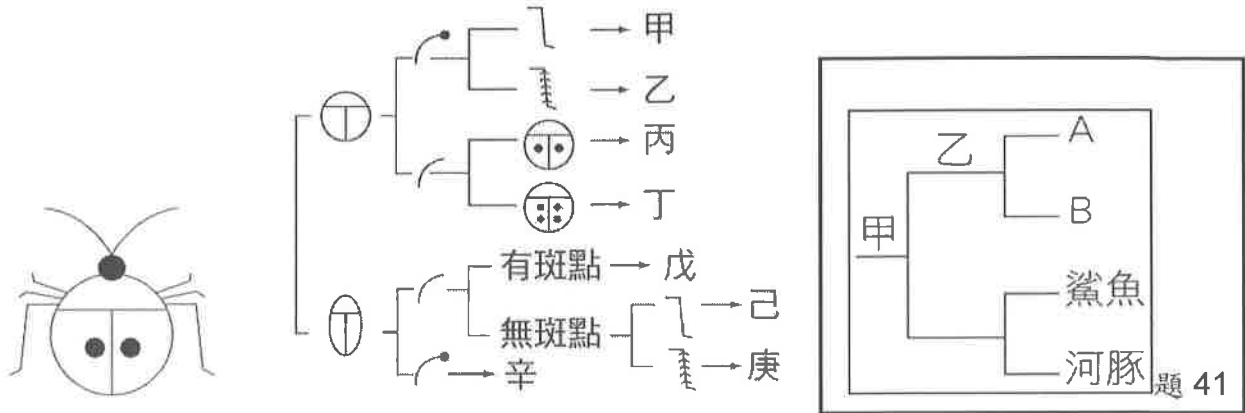
【第 2 頁結束，背面尚有試題】

二、選擇題。全部 8 題(39-46)。每題 3 分。共 24 分

() 39. 下列關於藍綠菌的敘述，何者錯誤？

- (A) 許多種類外部具有黏滑的膠質 (B) 屬於原生生物界。
 (C) 不具有核膜及細胞核 (D) 具有葉綠素、可行光合作用。

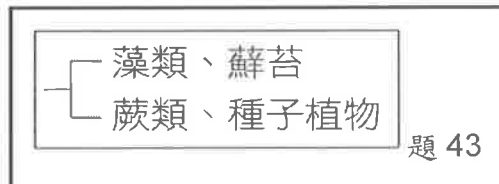
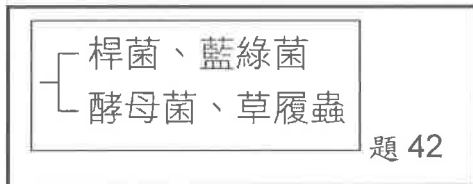
() 40. 小櫻在樹林中發現如下左圖之昆蟲，根據檢索表可查出圖中昆蟲所屬的類別為下列何者？ (A) 昆蟲甲 (B) 昆蟲乙 (C) 昆蟲丙 (D) 昆蟲己。



() 41. 上右圖的檢索表中，甲處以魚鰭的有無來區分，而乙處則以受精場所來區分，若 A 生物是蝴蝶，那麼 B 生物應為下列何者？ (A) 珊瑚 (B) 烏龜 (C) 螞蟻 (D) 紅鶴。

() 42. 大雄將四種生物分類如下左圖，其分類依據應為何？

- (A) 是否有核膜 (B) 是否有遺傳物質 (C) 是否有菌絲 (D) 是否有細胞壁。



() 43. 若將藻類、蘚苔、蕨類、種子植物四種生物依上右圖的檢索表加以分類，則下列何者為其分類依據？

- (A) 維管束的有無 (B) 種子的有無 (C) 花的有無 (D) 葉片角質層的有無。

() 44. 下列何者是甲蟲與螃蟹的共同特徵？

- (A) 都是水生 (B) 都是內溫動物 (C) 都有外骨骼 (D) 都是六隻腳。

() 45. 下列有關蕨類的敘述，何者正確？

- (A) 幼葉為羽狀複葉，成熟葉呈捲曲狀 (B) 莖通常埋於地下
 (C) 以種子繁殖 (D) 不具有維管束。

() 46. 關於植物與空氣環境的描述，下列何者正確？

- (A) 所有植物皆能有效分解空氣中對人體有害的物質
 (B) 植物的蒸散作用能減少空氣中的懸浮微粒
 (C) 植物能透過呼吸作用，減少空氣中的甲醛
 (D) 植物能夠透過光合作用吸收二氧化碳，釋放氧氣。

【試題結束—文光、七年級、自然科】

- () 26. 在地球的長久歷史中，生物的體型和構造會隨著環境的變化而改變，這種改變的過程稱為什麼？(A)突變 (B)演化 (C)遺傳 (D)育種。
- () 27. 松樹的學名為 Pinus luchuensis，下列何者敘述正確？
 (A)第一個字是形容詞，第二個字為名詞
 (B)松樹是臺灣的學名，Pinus luchuensis 是國際公認的學名
 (C)Pinus luchuensis 是英文
 (D)第一個字是屬名，第二個字為種小名。
- () 28. 流行性感冒，是一種由病毒引起的疾病，秋冬時很容易在臺灣流行，造成嚴重的呼吸道感染。下列有關引起此疾病病原的敘述，何者正確？
 (A)比細菌大
 (B)一定要在活細胞內才能繁殖
 (C)外表有細胞膜，內有細胞核和細胞質
 (D)和引起肺結核的病原是屬於同類。
- () 29. 下列關於細菌的敘述，何者正確？
 (A)依形態可分為球菌、桿菌和螺旋菌 (B)屬於原生生物界
 (C)具細胞核 (D)對人類有害無利。
- () 30. 下列何者為不具菌絲的單細胞真菌？(A)香菇 (B)毒蠅傘 (C)酵母菌 (D)竹筴。
- () 31. 哪位學者採用二名法，讓二名法成為國際通用的生物學名？
 (A)林奈 (B)虎克 (C)許旺 (D)孟德爾。
- () 32. 醫學上可用下列何者提煉抗生素？(A)黑黴菌 (B)酵母菌 (C)球菌 (D)青黴菌。
- () 33. 以下是小夫對分類階層的說明，其中何者正確？
 (A)同種必同屬 (B)同綱必同目 (C)同目必同科 (D)同科必同屬。
- () 34. 下列各分類階層中，哪一個階層包含生物種類較少？
 (A)動物界 (B)哺乳綱 (C)犬科 (D)脊索動物門。
- () 35. 下列敘述哪些為鐵線蕨和土馬騮的共同點？
 甲.靠風力傳播種子；乙.不會開花；丙.具有根、莖、葉的構造；丁.行光合作用。
 (A)甲乙丙 (B)丙丁 (C)甲丙丁 (D)乙丁。
- () 36. 腎蕨的葉緣有數團褐色物，每一團可稱為什麼？
 (A)種子 (B)孢子 (C)孢子囊堆 (D)孢子囊。
- () 37. 下列哪一項所述之兩種生物可以確定為同種？
 (A)非洲鬣狗與臺灣土狗體型外貌相近
 (B)馬和驢可以交配
 (C)波斯貓與短毛貓所生下的後代具有生殖能力
 (D)鯨和海豚皆群居並以肺呼吸。
- () 38. 種子植物與其他植物相比較，更能夠生存在乾旱環境中，主要是演化出哪些構造？
 (A)維管束與花粉管 (B)花粉管與種子 (C)角質層與根莖葉 (D)孢子與根莖葉。

澎湖縣立文光國民中學 112 學年度第 2 學期 第 2 次成績評量 7 年級歷史科試卷

班級：_____ 姓名：_____ 座號：_____ ■ 讀卡 □ 答案卷

一、單一選擇題 (15 題，每題 2 分，共 30 分)

- 1.() 8 歲的花田一路與家人在西元 1903 年從日本搬遷到臺灣定居，根據當時政府規定，8 歲的學童都要接受學校的正式教育，則一路最可能會就讀下列哪一所學校？
(A)金瓜石小學校 (B)艋舺公學校 (C)角板山蕃童教育所 (D)總督府中學校
- 2.() 根據日治時期臺灣教育的發展狀況，下列敘述何者為非？
(A)初等教育以教授日語為目的，中等教育則以實用為原則
(B)對日本人、臺灣人及原住民施行差別待遇的教育方針
(C)臺灣人在臺升學容易，因此許多臺灣人考進當時的臺北帝國大學
(D)當時經濟條件富裕的臺人前往日本留學。
- 3.() 日治時期，臺灣社會有顯著的變遷，其中包括下列哪些？
(甲)人口的激增 (乙)普遍纏足辮髮 (丙)建立守時、守法的觀念 (丁)建立現代衛生的觀念
(A)甲乙丙丁 (B)甲乙丁 (C)甲丙丁 (D)乙丙丁
- 4.() 日治初期，總督府積極建立近代公共衛生制度，其內涵或建設不包括下列哪一項？
(A)設立公立醫院 (B)修築城市地下排水工程 (C)興築水圳工程 (D)宣導預防疾病觀念
- 5.() 下列哪一項活動，不在臺灣文化協會所辦的活動範疇內？
(A)發行會報，傳播新知識 (B)在各地設讀報社
(C)舉辦演講會傳播新知 (D)開辦台北帝國大學，傳播現代知識
- 6.() 一九三〇年代，為了促進臺灣的觀光產業發展，總督府製作了許多出版品，展示臺灣的風景人文並提供旅遊指南，希望能夠吸引日本本土遊客到臺灣遊玩。請問：在這些旅遊指南中，最有可能推薦遊客利用哪一種交通工具遊歷全臺？
(A)郵輪 (B)牛車 (C)火車 (D)汽車
- 7.() 第二次世界大戰後，由於中華民國政府實行什麼措施，使戰後初期臺灣物價飛漲更加嚴重？(A)統一貨幣 (B)鼓勵農業生產 (C)土地收回國有 (D)將米糧等物資運往中國大陸
- 8.() 因為國共內戰的緣故，政府為了防止共產思想滲透到臺灣，下令戒嚴，並限制人民應有的權利。下列何者並非戒嚴時期人民被限制的權利？
(A)言論自由 (B)出版書籍的自由 (C)集會自由 (D)信仰宗教的自由
- 9.() 臺灣某段時間，政府常以肅檢「匪諜」、「叛亂者」為名逮捕異議分子，使冤案、錯案、假案頻傳。請問：上述是臺灣哪個時期的狀況？
(A)臺灣光復初期 (B)白色恐怖期間 (C)皇民化運動時期 (D)宣布解嚴後
- 10.() 中華民國自行憲以來，歷經六位總統，其中蔣中正的任期從西元 1948 年一直延續到 1975 年，是任期最久的國家元首。請問：這樣的情形與下列何者最有關係？
(A)成立臺灣省政府 (B)《中華民國憲法》(C)《戒嚴令》(D)《動員戡亂時期臨時條款》
- 11.() 臺灣人民曾經因為《戒嚴令》而失去言論、出版、集會、結社、營業時間等自由。這項法令，是由哪一位總統宣布解除？(A)蔣中正 (B)蔣經國 (C)李登輝 (D)馬英九

【第一頁結束—背面尚有試題】

- 12.() 臺灣在終止動員戡亂、廢除《臨時條款》後逐漸步入民主化歷程，後又修訂《憲法》保障人民權益，更加落實民主政治。上述說明皆是在哪一位總統任內達成？
 (A)蔣中正 (B)蔣經國 (C)李登輝 (D)陳水扁
- 13.() 民國 68 年 12 月 10 日，黨外人士發起遊行要求政府解除戒嚴，遊行人士與軍警發生嚴重衝突，事後多人被捕。關於這個事件的敘述，下列何者正確？
 (A)文中所敘述的是「美麗島事件」
 (B)事件發生的地點在「臺北」
 (C)選在 12 月 10 日舉辦遊行是因那天為「國際自由日」
 (D)黨外人士後來於民國 75 年組成「臺灣民眾黨」
- 14.() 中華民國政府針對臺灣原住民實施多項政策，但不少施政卻導致原住民族對於自身傳統文化的喪失。下列哪一政策的實施可以用來說明上述現象？
 (A)將「山胞」改為「原住民」(B)要求參拜神社 (C)要求說國語、改漢姓 (D)理蕃政策
- 15.() 民國七十年代以來，原住民族為了恢復族群尊嚴，維護經濟、文化權益，展開正名運動。下列何者是正名運動的結果？
 (A)將「原住民族」納入《憲法》 (B)設置保留地 (C)使用漢人姓名 (D)說國語

二、題組 (5 題，每題 1 分，共 5 分)

- (一)楊肇嘉(西元 1892~1976 年)是日治時期臺灣政治社會運動的重要人物，有「臺灣獅子」之稱。他在西元 1925 年時與林獻堂等人共赴東京國會請願設立臺灣議會。又在西元 1927 年成為「臺灣民眾黨」的駐日代表，積極向日本爭取臺人參政權。
- 16.() 「西元 1925 年時與林獻堂等人共赴東京國會請願設立臺灣議會」與下列哪一時代背景相關？
 (A)臺灣各地發起武裝抗日 (B)世界瀰漫民族自決風氣
 (C)日本鼓勵臺人成立議會 (D)抗議總督府推動皇民化運動
- 17.() 在楊肇嘉等知識分子的努力下，最後臺灣人取得的合法參政權為何？
 (A)成立臺灣議會 (B)罷工罷市罷課 (C)選舉地方議員 (D)臺灣總督直選
- (二)二二八事件是目前在臺灣仍被經常討論的一個重大歷史事件，源於此事件對臺灣造成了相當廣泛的影響。對於二二八事件的起因、發生經過，以及造成的影響，至今仍有許多研究者從事相關史料的整理。中華民國政府也從視其為禁忌的刻意忽略、漠視這段歷史，到正式面對，甚至對於受難者進行賠償措施。
- 18.() 關於二二八事件爆發的主要原因，應不包含下列何者？
 (A)政府接收時的貪腐現象 (B)因戰爭致使經濟狀況陷入混亂
 (C)兩岸人民的語言與文化差異頗大 (D)臺灣人民一直不願接受日本戰敗的事實
- 19.() 當二二八事件爆發時，臺灣的最高行政長官陳儀處置態度為何？
 (A)以寬容態度對待參與的群眾 (B)運用臺灣軍隊鎮壓
 (C)從中國大陸調派軍隊來臺進行清鄉活動 (D)在各地設立紀念碑
- 20.() 政府最早於下列何時終於公開承認對二二八事件處置失當，並由總統公開道歉？
 (A)民國五十年代 (B)民國六十年代 (C)民國七十年代 (D)民國八十年代。

澎湖縣立文光國民中學 112 學年度第 2 學期 第 2 次成績評量 7 年級公民科試卷

班級：_____ 姓名：_____ 座號：_____ ■ 讀卡 □ 答案卷

一、單一選擇題（十五題，每題 2 分，共 30 分）

21. () 人類的交通工具，從腳踏車的發明，到汽車、火車、飛機、高鐵的演進過程，不斷發展與創新。上述顯示出文化的哪一項特性？
(A) 普遍性 (B) 差異性 (C) 累積性 (D) 制約性。
22. () 每個國家都有自己的飲食特色，例如：日本壽司、拉麵、美國漢堡、臺灣鳳梨酥，不同的美食文化，相互交流，形成多元文化。上述顯示出文化的哪一項特性？
(A) 普遍性 (B) 差異性 (C) 累積性 (D) 制約性。
23. () 豎起大拇指的手勢，在我國表示「真棒」，但在孟加拉卻是侮辱人的意思。上述顯示了文化具有何種特性？ (A) 普遍性 (B) 差異性 (C) 累積性 (D) 制約性。
24. () 中國文字由商代的甲骨文，進化成周代的大篆、小篆，漢唐的隸書、楷書、行書，顯示了文化的哪種特性？ (A) 普遍性 (B) 差異性 (C) 累積性 (D) 制約性。
25. () 新聞報導：「3 名信仰伊斯蘭教的印尼籍家務移工因信仰關係不能吃豬肉，卻遭雇主強逼吃豬肉，明令一餐不吃就扣薪 500 元，他們在被迫吞下豬肉的同時暗自落淚，懷抱著莫大的罪惡感，向真主阿拉懺悔。」依據上文推測，雇主從事此行為的心態為何？ (A) 尊重各族群文化的差異性 (B) 多元交流下學習文化尊重 (C) 刻意貶抑其他族群的尊嚴 (D) 認識自我文化並積極傳承。
26. () 以自我的觀點去評斷他人文化、想法、生活方式等，經常造成人際間的誤解與衝突。因此，若是想要維持良善的互動關係，應抱持何種態度面對其他文化？
(A) 評比不同文化，淘汰弱勢文化 (B) 利用自我好惡，評斷其他文化
(C) 尊重多元文化，給予發展空間 (D) 爭取文化資源，排斥其他文化。
27. () 現在幾乎已經很少看到木偶傀儡戲，因為要學習這種技藝非常不容易，年輕一輩不願意學，也讓這種傳統的老技藝面臨老師傅衰老凋零、後繼無人的狀況。依上所述，木偶傀儡藝術面臨著何種困境？ (A) 未受到政府的重視 (B) 不同文化群體間發生衝突 (C) 文化傳承面臨斷層 (D) 本土文化瀕臨淘汰。
28. () 下列何種做法可以增加文化的內涵，並對外國文化多一層了解？
(A) 到外商公司開設的速食餐廳吃飯 (B) 認真研讀數理課本
(C) 參加伊斯蘭教開齋節活動 (D) 參加示威遊行活動。
29. () 愈來愈多民眾出門自備環保餐具，減少一次性塑膠垃圾的產生，顯示何種觀念逐漸受到重視？ (A) 宗教信仰 (B) 法律制度 (C) 風俗習慣 (D) 環境倫理。
30. () 我國政府為了響應環保並避免海洋生物誤食人類廢棄物，於西元 2019 年 7 月 1 日開始，政府部門、學校、購物中心和連鎖速食店等業者，「內用」不得提供一次性塑膠吸管，違者將開罰。上述政府做法應屬於下列哪一種社會規範？
(A) 法律 (B) 風俗習慣 (C) 倫理道德 (D) 宗教信仰。
31. () 警方大動作舉行檢肅黑幫記者會，掃蕩幫派並逮捕數十人到案，查扣多把改造槍械，以及犯案用的棍棒刀械等。上述凸顯下列何種社會規範的作用？
(A) 倫理道德 (B) 風俗習慣 (C) 宗教信仰 (D) 法律。

【第 3 頁結束—背面尚有試題】

32. () 下列為幾位同學針對不同社會規範所舉的例子——

甲：汽車駕駛人路邊違規停車，會被開罰單或拖吊。	乙：清明節是重要節日之一，民眾掃墓、祭祖，慎終追遠。
丙：大甲媽祖繞境進香活動，是全臺最盛大的繞境活動。	丁：廟宇響應環保政策，實施封爐方式，減少燒香、燒金紙。

甲、乙、丙、丁依序分別指何種社會規範？

(A)法律、倫理道德、宗教信仰、風俗習慣 (B)法律、風俗習慣、宗教信仰、倫理道德 (C)風俗習慣、宗教信仰、法律、倫理道德 (D)風俗習慣、法律、倫理道德、宗教信仰。

33. () 一個人的行為模式與價值觀念一定會受到社會規範的影響，而下列哪種社會規範最具有強制力？ (A)戒律 (B)法律 (C)正義 (D)習俗。
34. () 法律是國家經由一定程序，明確制定人民及政府應該遵守的事項。下列關於法律的敘述，何者正確？ (A)又稱為非正式規範 (B)主要是啟迪人的內在良知 (C)有公權力作為後盾 (D)「舉頭三尺有神明」屬之。
35. () 在印度，習慣用右手抓食物吃；在日本，吃麵會發出聲響表示好吃。我們應如何面對不同社會的習俗？ (A)尊重不同的社會規範 (B)置之不理嗤之以鼻 (C)改變當地習俗 (D)堅持不予配合。

二、題組：(五題，每題1分，共5分)

(一) 當歐洲人來到美洲新大陸，白人與印地安原住民間的衝突從未停止。白人為奪取土地，奴役或殺害許多印地安原住民。原住民們被迫逃離家園，就連原本的生活方式、宗教信仰等也受到歐洲人很大的影響。後來，美國設置印地安保留區，除了讓原住民族有一塊棲息地外，也期望保留區的自治能讓其文化得以保留與傳承。以目前的情況來看，保留區的族人大多仍過著貧窮的生活，年輕人則被迫離開保留區出外謀生。請回答下列問題：

36. () 印地安原住民的文化屬於下列何者？
(A)主流文化 (B)網路文化 (C)強勢文化 (D)弱勢文化。
37. () 文中白人的文化屬於下列何者？
(A)主流文化 (B)網路文化 (C)強勢文化 (D)弱勢文化。
38. () 文中設置保留區的目的為何？
(A)保留文化傳統 (B)建立文化位階 (C)產生強勢文化 (D)形成主流文化。

(二) 曾有自稱密宗法師的男子，向被害女子騙說其有惡靈附身，但可施法協助驅魔，女子因此陸續付款上百萬元以消災解厄，檢察官遂將該男子起訴。請回答下列問題：

39. () 宗教信仰是藉由下列何者來約制個人行為，強化社會規範的約束力量？
(A)法律 (B)輿論 (C)戒律 (D)公權力。
40. () 宗教透過超自然力量來約束信徒行為，影響一個人的價值觀與是非善惡的判斷標準。下列何者是以宗教信仰來勸世人為善？ (A)舉頭三尺有神明 (B)尊敬師長、孝順父母 (C)我們只有一個地球 (D)長幼有序、朋友有信。

【第4頁結束—背面尚有試題】

澎湖縣立文光國民中學 112 學年度第 2 學期 第 2 次成績評量 7 年級地理科試卷

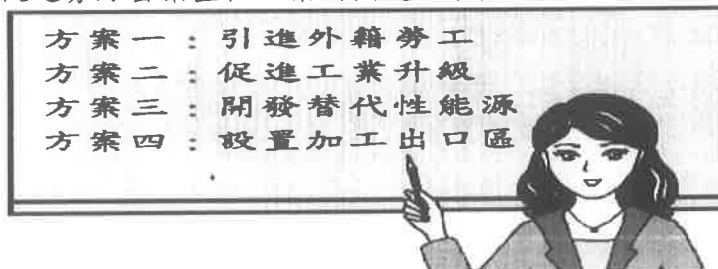
班級：_____ 姓名：_____ 座號：_____ ■ 讀卡 □ 答案卷

一、單一選擇題（十題，每題 2 分，共 20 分）

41. () 附表為臺北市各級產業登記之公司行號參考資料，根據表中數據判斷，臺灣產業結構有何特徵？ (A) 國際貿易發達 (B) 以第三級產業比重最高 (C) 第一級產業產值持續上升 (D) 第二級產業超越第三級產業。

	公司數(間)	比重(%)
第一級產業	2,335	1.04
第二級產業	51,769	23.11
第三級產業	169,924	75.85

42. () 來臺灣觀光的友子最喜歡臺南的小吃，如虱目魚湯、蚵仔煎、蝦捲等，這些小吃的材料，主要來自當地沿海的繁殖魚塭，此應屬於下列何種漁業？ (A) 沿岸漁業 (B) 遠洋漁業 (C) 養殖漁業 (D) 近海漁業。
43. () 下列哪些產業屬於重工業？ (甲) 石油化學工業 (乙) 魚罐頭加工業 (丙) 紡織工業 (丁) 鋼鐵工業 (戊) 奈米科技業 (己) 機械工業 (A) 甲乙丁 (B) 甲丁己 (C) 乙丙戊 (D) 乙戊己。
44. () 下列何者是臺灣第一個設立的科學園區，具有指標性的意義？ (A) 內湖科技園區 (B) 新竹科學園區 (C) 中部科學園區 (D) 南部科學園區。
45. () 地理老師在課堂上講述臺灣工業的發展歷程，列出了政府提過的四個產業方案，如附圖。請問：民國五十年代政府曾採行哪一個方案政策，以吸引國外的資金與技術，促進勞力密集型輕工業的興起？ (A) 方案一 (B) 方案二 (C) 方案三 (D) 方案四。



46. () 附表為臺灣三級產業的產值變化。由表中資料可以了解到，臺灣經濟目前的發展主力產業較可能屬於何組產業類別？ (A) 製造、營建 (B) 金融、通訊 (C) 冶鐵、煉油 (D) 畜牧、漁撈。

年分 \ 類別	第一級產業	第二級產業	第三級產業
1980	7.68	45.75	46.57
1990	4.10	42.50	53.30
2000	2.60	34.50	62.90
2007	1.42	25.46	73.12

47. () 經濟部統計處於西元 2019 年 8 月公布的資料顯示，臺灣的製造業指數年增加 3.1%，其中又以電腦、電子光學項目最為出色。請問：上述的製造業與下列哪一選項性質相同？ (A) 第一級產業 (B) 第二級產業 (C) 第三級產業。
48. () 近年來臺灣的便利商店如雨後春筍般設立，店數多且分布廣，對消費者而言，最大的好處為何？ (A) 提供大量購物的便利 (B) 商品價格低廉 (C) 購物空間廣大 (D) 民眾可就近消費。

【第 5 頁結束—背面尚有試題】

49. () 雅婷有一份作業需要調查親友的職業類型，下列何者的工作類型不屬於服務業？
 (A)爸爸：鋼鐵廠員工 (B)嬸嬸：銀行保險業務經理 (C)舅舅：宅急便貨運司機
 (D)姑姑：泰國料理餐廳老闆娘。
50. () 「臺灣由於礦產不豐，遂從各國進口原料，將之製成產品後輸往世界各地。」由上述可知，下列哪一項是臺灣經濟發展的命脈？
 (A)低廉勞工 (B)國際貿易 (C)廣大市場 (D)雄厚資本。

二、題組：(十題，每題1分，共10分)

(一)附圖是工業區位示意圖。請問：



51. () 製糖廠應考慮的區位因素為下列何者？
 (A)甲 (B)丙 (C)丁 (D)戊。
52. () 魚罐頭工廠考慮的區位因素為下列何者？
 (A)甲 (B)丙 (C)丁 (D)戊。
53. () 臺灣石油化學廠考慮的區位因素為下列何者？
 (A)甲 (B)乙 (C)丙 (D)戊。
54. () 前往越南設廠製造球鞋，其主要考慮的區位因素為何？
 (A)甲(B)丙(C)戊(D)庚。

(二)附表是臺灣主要貿易地區進出口統計表(單位：億美元)。請問：

國家	年度	西元2015年		西元2018年	
		進口	出口	進口	出口
日本		386.9	193.5	441.4	231.9
南韓		130.5	126.2	194.9	161.3
美國		263.3	342.2	346.8	396.6
中國(含香港)		455.6	1,093.8	553.2	1,384.6
總值		2,289.2	2,804.6	2,866.4	3,360.6

55. () 西元 2015 年，臺灣對哪一個國家及地區出超最多？
 (A)日本 (B)南韓 (C)美國 (D)中國。
56. () 西元 2018 年，何者是臺灣進出口貿易的最主要國家及地區？
 (A)日本 (B)南韓 (C)美國 (D)中國。
57. () 由附表資料可知，臺灣在進出口總值的變化為何？
 (A)持續出超 (B)持續入超 (C)出超轉為入超 (D)入超轉為出超。

(三)育乘計畫在週末休假期間到中部一座農場住宿，行程中可參與擠牛奶、喝牛奶，並參觀奶油製作過程，實在是一次難得的體驗。請問：

58. () 此種以生產乳製品為主的畜牧業，可稱之為何？
 (A)酪農業 (B)有機農業 (C)集約農業 (D)粗放農業。
59. () 該農場的經營模式，較符合下列哪一敘述？ (A)臺灣中部為主要發展畜牧業
 (B)以欄牧方式轉變為農家主業 (C)牧場結合觀光遊憩轉型發展 (D)資金來源少故採小規模經營。
60. () 目前臺灣的民間與政府相關單位相繼提出「智慧加值」計畫，嘗試讓科技加入農業，以提升農業的產值與價值。請問：上敘述符合臺灣農業的何種特色？
 (A)農業商品化 (B)受自然環境影響大 (C)農業技術先進 (D)農村勞動力老化。

【試題結束—文光7年級社會科】