

澎湖縣立文光國民中學一百零八學年度第一學期第一次段考國文科試題【題目卷】

八年 班 座號： 姓名：

讀卡 答案卷

一、國字注音：15%（共 15 字，每字一分）【請將答案寫在答案卷中】

1. 磨「乚尤」 2. 遞「尸弓、」 3. 「尸又∨」咒 4. 郵「尸又乙」 5. 「く一ノ」視
6. 情有獨「出又厶」 7. 「尸一么∨」盡腦汁 8. 「尸又、」忽即逝 9. 「去又ノ」靡
10. 情「尸又、」初開 11. 林淇「濛」 12. 「躡」足 13. 鄭「燮」 14. 「喟」嘆 15. 成「哇」

二、解釋：10%（共 8 題，1~2 每題二分，3~8 每題一分）【請將答案寫在答案卷中】

1. 大快朵頤 2. 大塊文章 3. 「褻」玩 4. 「宜」乎眾矣
5. 「擢」素手 6. 泣涕「零」如雨 7. 相「去」復幾許 8. 「粲」亮

三、選擇題：50%（共 25 題，每題二分）【請將答案寫在答案卷中】

- () 1. 關於碧沉西瓜一文之內容，以下敘述何者有誤？
(A)以「后土之上段落鮮明的大塊文章」、「幾何學裡最精整富麗的平面」描寫一望無際的西瓜田
(B)「菜花耀眼的黃，是染坊裡新調和成的色彩，成片潑濺出來的結果」從色彩和面積描繪菜花
(C)作者以綠色西瓜和黃色菜花的色彩調和，凸顯大自然作手之妙與鄉土景觀的清麗淳樸
(D)作者以西瓜皮與肉碧沉與朱紅、碧沉與金黃的鮮活對比，塑造出熱鬧繽紛的視覺景象。
- () 2. 鄭板橋田家四時苦樂歌：「原上摘瓜童子笑，池邊濯足斜陽落，晚風前個個說荒唐，田家樂。」一詩寫出「田家樂」的景象，下列關於本詩的解析說明，何者正確？
(A)稚子因為不瞭解大人摘瓜的辛勞，所以還能天真的玩樂嘻笑
(B)藉「濯足」、「說荒唐」寫出辛苦忙碌之後，放鬆暢快的景象
(C)「斜陽落」傳達夕陽無限好，也隱含「只是近黃昏」的慨嘆
(D)透過家人間分享生活放肆荒唐的過往，換取內心的平靜歡愉。
- () 3. 下列各組「 」中的字，何者詞性相同？
(A)星「羅」棋布 / 森「羅」萬象 (B)「暮」春時節 / 朝三「暮」四
(C)「瓜」瓞綿綿 / 「瓜」分土地 (D)功「成」名就 / 一「成」不變。
- () 4. 下列選項中的「之」字，何者當代名詞使用？
(A)事「之」以禮 (B)物外「之」趣 (C)送孟浩然「之」廣陵 (D)菊「之」愛。
- () 5. 下列「 」中的顏色，那一組完全不是實指色彩？
(A)「丹」楓 / 「青」絲 (B)「皓」齒 / 掃「黃」
(C)「翠」柏 / 「黑」店 (D)「紅」利 / 「白」丁。
- () 6. 由兩個意思相同或相似的單詞組成的複詞稱之為「同義複詞」。以下何者不屬於同義複詞？
(A)福祉 (B)朱紅 (C)遭遇 (D)醍醐。
- () 7. 下列「 」中詞語的意思，何者與其他三者不同？
(A)他把財產「一股腦兒」捐給政府 (B)「電掣星馳」之間又湧來一波強震
(C)此作品將「斗轉星移」變成永恆 (D)時光匆匆「兔走烏飛」又過了三年。
- () 8. 迢迢牽牛星一詩中，哪兩句最能看出織女的心思雜亂不安？
(A)纖纖擢素手，札札弄機杼 (B)終日不成章，泣涕零如雨
(C)河漢清且淺，相去復幾許 (D)盈盈一水間，脈脈不得語
- () 9. 以下有四個人想約琪琪一起共度七夕情人節，請問以下哪一位可以順利在七夕當天約到琪琪？
(A)金城武：「『正是浴蘭時節動，菖蒲酒美清罇共』的那天，我們到觀音亭約會吧？」
(B)金秀賢：「『千門萬戶瞳瞳日，總把新桃換舊符』的那天，記得來校門口找我喔！」
(C)李敏浩：「『占得清秋一半好，算來明月十分圓』的那天，妳就在教室裡等我吧？」
(D)朴寶劍：「『年年乞與人間巧，不道人間巧幾多』的那天，我們在頂樓上見面吧！」

- () 10. 班上同學正討論關於陳子昂的登幽州臺歌這首古詩，請問誰的說法正確？
 (A) 瑄瑄：這首詩每一句都押韻，而且句式整齊，沒有換韻
 (B) 碧碧：這首詩要表達的是登樓遠望之後奮發向上的心境
 (C) 玲玲：詩中「不見」兩字是全詩感情的重心，也是詩眼
 (D) 晨晨：作者在詩中主要表達懷才不遇、知音難尋的感嘆。
- () 11. 有關古體詩與近體詩的敘述，下列何者錯誤？
 (A) 近體詩是指唐代的律詩和絕句 (B) 古體詩不講究對仗、平仄可換韻，格律比近體詩自由
 (C) 古體詩從唐代後就無人再創作 (D) 近體詩字數、句數固定，講求平仄和對仗，不可換韻。
- () 12. 關於古詩十九首的敘述，下列何者錯誤？
 (A) 作者姓名失傳 (B) 內容多寫生活的悠閒自適與逸遊之樂
 (C) 每首都沒有題目，後人便以首句為題 (D) 是東漢末年五言詩的代表作。
- () 13. 雅雅到廟裡求籤詩，經廟祝解籤後說：「做人不可昧於世道，應該通情達理，盡力培養正直的個性，日子久了，對你自然有幫助。」請問她求到的籤詩與愛蓮說中的哪一句話最相近？
 (A) 出淤泥而不染 (B) 中通外直 (C) 不蔓不枝 (D) 香遠益清。
- () 14. 「蓮之愛」的「之」字是結構助詞，無義，表示賓語提前，原本應為「愛蓮」。下列選項「 」中的字，何者不是這樣的用法？
 (A) 挑撥「是」非 (B) 馬首「是」瞻 (C) 主義「是」從 (D) 唯你「是」問。
- () 15. 下列有關愛蓮說一文的說明，何者錯誤？
 (A) 藉比較菊、牡丹和蓮的形象，來說明隱士、世人和君子的人格特質
 (B) 「說」是文體的一種，內容在對某種事物提出看法
 (C) 在文末嚴厲譴責世人只知追求富貴的不當心態
 (D) 文中描述蓮的各種特質來象徵君子的高尚品格。
- () 16. 關於周敦頤的愛蓮說，以下何者說法錯誤？
 (A) 「出淤泥而不染」比喻君子能潔身自愛，不同流合汙
 (B) 「噫！菊之愛，陶後鮮有聞。」感嘆在陶淵明之後就完全沒有隱逸之士
 (C) 「蓮之愛，同予者何人？」隱含自我感嘆的意味
 (D) 「牡丹之愛，宜乎眾矣！」意指世人多追逐名利。
- () 17. 試依下列四組句子當中的季節線索，將蓮的生態依春夏秋冬排列：(甲) 蓮葉何田田，小鎮添新裝
 (乙) 寒風枯土黃，殘荷生藕紅 (丙) 朝露映晨曦，魚戲動新荷 (丁) 清風送涼意，蓮池墜粉紅
 (A) 丙丁甲乙 (B) 甲丙乙丁 (C) 丙甲丁乙 (D) 丙乙甲丁。
- () 18. 下列文句「 」中的字，何者不是助詞？
 (A) 予獨愛蓮「之」出淤泥而不染 (B) 菊，花「之」隱逸者也
 (C) 「噫」！菊之愛，陶後鮮有聞 (D) 牡丹之愛，宜「乎」眾矣。
- () 19. 下列關於歇後語(俏皮話)的解讀何者不貼切？
 (A) 瞎子吃湯圓 → 別有滋味 (B) 拾芝麻丟西瓜 → 因小失大
 (C) 老頭打哈欠 → 一望無涯 (D) 種瓠仔生菜瓜 → 倒楣透頂。
- () 20. 下列文句「 」中的詞語，何者不是實詞？
 (A) 「在」別人有需要時，他伸出友誼的雙手 (B) 「書」和音樂是我寂寞時最好的朋友
 (C) 他「非常」喜歡現在的生活，不想改變 (D) 空虛的「心靈」比什麼都來得可怕。
- () 21. 請問下列歲月跟著詩句中，哪一個選項暗示「生命生生不息、永遠長存」的意涵？
 (A) 歲月跟著貓爪偷偷地移 / 緩慢的時針是貓的腳步
 (B) 翻閱著六月的綠色大地 / 翻閱著你我粗糙的掌紋
 (C) 歲月跟著馬蹄不停地跑 / 滴答的秒針是蹄的聲音
 (D) 熟透的花果在十二月凋 / 土底的種籽正開始抽芽。
- () 22. 下列關於歲月跟著一詩各句象徵意涵的分析，何者不正確？
 (A) 圓柔的鐘面是生命的枷：象徵個體生命的有限
 (B) 躡走了老人眼角的水霧：象徵坦然面對生命的遺憾
 (C) 熟透的花果在十二月凋：象徵人生成就的瓜熟蒂落
 (D) 歲月跟著犁耙沉穩地耕：象徵踏實地耕耘夢想。

- () 23. 下列何者未使用「層遞」修辭？
 (A) 知者不惑，仁者不憂，勇者不懼
 (B) 知之者不如好之者，好之者不如樂之者
 (C) 知止而後有定，定而後能靜，靜而後能安，安而後能慮，慮而後能得
 (D) 少年讀書，如隙中窺月；中年讀書，如庭中望月；老年讀書，如臺上玩月。
- () 24. 下列關於「時間」的名言，何者最具積極鼓勵的作用？
 (A) 不要將時間花在你知道一定會後悔的事件上去 (巴克斯特)
 (B) 時間的無聲腳步，是不會因為我們有許多事情需要處理而稍停片刻的 (莎士比亞)
 (C) 瞬刻的時間，價值與黃金無異 (愛因斯坦)
 (D) 無端的空耗別人的時間，其實是無異於謀財害命。 (魯迅)
- () 25. 中國文字多為一字中就具備形音義，但也有一字本身並沒有意義，如：「琵琶」，必須組合成為「琵琶」才有意義，這樣構成的詞語稱作聯綿詞。請問下列選項中哪一選項皆為聯綿詞？
 (A) 徘徊、絲竹、教師 (B) 忘懷、天地、聆聽 (C) 蹣跚、坎坷、學問 (D) 躊躇、滂沱、窈窕。

四、閱讀理解測驗：25% (共 15 題，1~10 每題二分，11~15 每題一分)【請將答案寫在答案卷中】

- () 1. 下列與植物相關的詩句，何者描述的主要對象為蓮花？
 (A) 素花多蒙別艷欺，此花真合在瑤池。無情有恨何人覺？月曉風清欲墮時
 (B) 灞岸晴來送別頻，相偎相倚不勝春。自家飛絮猶無定，爭把長條絆得人
 (C) 落盡殘紅始吐芳，佳名喚作百花王。競誇天下無雙豔，獨占人間第一香
 (D) 花開不並百花叢，獨立疏籬趣味窮。寧可枝頭抱香死，何曾吹落北風中。
- () 2. 「舌祭蓮花」之於「拙於言詞」，猶如「妙筆生花」之於下列何者？
 (A) 江郎才盡 (B) 七步成詩 (C) 文不加點 (D) 大筆如椽。
- () 3. 古人常在分別時透過贈花木來表達深厚的情誼，下列各詩詞中，何者詩中的花木不是表達此意？
 (A) 桃花淺深處，似勻深淺妝 (B) 攀條折其榮，將以遺所思
 (C) 紅豆不堪看，滿眼相思淚 (D) 江南無所有，聊贈一枝春。
- () 4. 「而蓮花的果實『蓮子』，因其生長於蓮房中，一子一隔，互不干涉，又與中國傳統倫理『多子多福』、『兄弟有序』的觀念極為吻合，因此被賦予了『多子』的意義。又因『蓮』與『連』諧音，所以民間還有以蓮來象徵_____，用『蓮生貴子』來祝賀他人多生兒子的說法。」根據文意，缺空處最適合填入下列何者？
 (A) 往生淨土 (B) 生殖繁衍 (C) 和氣生財 (D) 容姿端麗。
- () 5. 「花之最能持久，愈開愈盛者，山茶、石榴是也。然石榴之久，猶不及山茶；榴葉經霜即脫，山茶戴雪而榮。則是此花也者，具松柏之骨，挾桃李之姿，歷春夏秋冬如一日。」(李漁〈閒情偶寄〉)根據文意，下列何者最適合用來形容作者賦予山茶的人格之美？
 (A) 樸實無華，謙遜有節 (B) 堅忍不拔，內外皆美
 (C) 豔冠群芳，溫柔嬌媚 (D) 長生不老，青春如故。

論 花 林語堂

蘭花和牡丹的品格截然不同，是幽雅的象徵。因為蘭花是常生於幽谷的，文人稱它具有「孤芳獨賞」的象徵；它從不取媚於人，也不願移居於城市之中，而即使移植了，灌溉看顧也須特別當心，否則便立刻枯死。所以中國書中常稱深閨的美女和隱居山僻不求名利的高人為「空谷幽蘭」。蘭花的香味是如此的文靜，它不取悅於人，但能領略者則知道它的香味是何等的高潔啊！有一本古書上說：「入芝蘭之室，久而不聞其香。」就因為這人的鼻已充滿了花香了。依李笠翁之說，蘭花不宜於遍置各處，而只宜限於一室，方能於進出之時欣賞其幽香。

- () 6. 蘭花之所以有「孤芳獨賞」的象徵，是由於下列何者？
 (A) 經常洗濯，一塵不染 (B) 生在高山 (C) 不宜居城市之中 (D) 不取媚於人。
- () 7. 李笠翁的說法偏重在蘭花的哪一種特性？
 (A) 性格 (B) 環境 (C) 實用 (D) 香味。

植於汙泥性自清，
挺拔出碧水，
綻殊容。
蓮輝萬里霞光澄，
法輪轉，
佛果現層層。

蓮種覆泥行，
上千黑暗夜，
心淨平。
萬千紅蓮照中空，
映穹宇，
誰知幾多重？ (艾麗絲 詠蓮)

- () 8. 「植於汙泥性自清」意同於「出淤泥而不染」，那麼「挺拔出碧水」意近於下列何者？
(A) 中通外直 (B) 不蔓不枝 (C) 香遠益清 (D) 亭亭淨植。
- () 9. 所謂「法輪轉／佛果現層層」，所指的應該是蓮花的哪一種特徵？
(A) 花朵顏色 (B) 花朵大小 (C) 花開形狀 (D) 花瓣紋路。
- () 10. 關於本詩的寫作風格說明，下列何者最恰當？
(A) 雄渾豪邁 (B) 清麗超然 (C) 華美綺麗 (D) 率真隨性。

我蘭州的朋友范克峻先生是一位歷盡磨難之人，經常帶我到一家鋪子吃牛肉麵。掌勺的馬師傅年事已高，見范先生來便親自料理一切，不容有半點差池。范先生輕聲告訴我，這位馬師傅實在是一位俠義之士，別看他每天只是切肉煮麵，你完全可以把一切信託於他。三十多年前，一位每天到這兒吃麵的演員突然遭冤被捕，關在監獄裡，判刑不輕。妻子親朋都離他而去，過年過節時也沒人來探望。他萬萬沒有想到，竟然是這位馬師傅出現在鐵窗之前，手提一包乾切牛肉，無言捧上。如此者每年不斷，一直延續整整二十年之久。二十年後，演員的冤案昭雪平反，他又重登舞臺，名震全城。不管他用什麼方式來邀請和感謝，馬師傅全不接受，只在他每天早晨來吃牛肉麵時，投以輕輕一笑。

正說著，馬師傅的牛肉麵已經煮好端來，只一口，我就品出蘭州的厚味來了。

(余秋雨 五城記)

- () 11. 若為這篇文章訂一個主題，下列何者不適合？
(A) 料理鐵人 (B) 義薄雲天 (C) 蘭州小故事 (D) 牛肉麵的故事。
- () 12. 文章提到「只一口，我就品出蘭州的厚味來了」，這句話除了指蘭州馬師傅煮的牛肉麵味道濃厚，還包含什麼含義？
(A) 香料味美 (B) 牛肉大塊 (C) 湯汁有味 (D) 人情深重。
- () 13. 「昭雪平反」一詞可用下列何者替代？
(A) 眾目昭彰 (B) 昭冤申枉 (C) 沉冤莫白 (D) 冰雪聰明。

世說新語

劉義慶

王子猷居山陰。夜大雪，眠覺，開室命酌酒，四望皎然；因起彷徨，詠左思 招隱詩，忽憶戴安道。時戴在剡，即便夜乘小船就之，經宿方至，造門不前而返。人問其故，王曰：「吾本乘興而行，興盡而返，何必見戴！」

注：① 王子猷：東晉書法家王羲之之子。 ② 山陰：今浙江省紹興縣。 ③ 左思：西晉文學家。
④ 剡：音尸弓、，今浙江省剡縣。 ⑤ 宿：音丁一又V，夜。

- () 14. 從王子猷的言行來看，下列何者最適合用來形容他的表現？
(A) 興師動眾 (B) 隨興自得 (C) 夙興夜寐 (D) 望洋興歎。
- () 15. 下列文句的解釋，何者正確？
(A) 「四望皎然」是因為大雪一片銀白 (B) 「因起彷徨」是因為思念友人戴安道
(C) 「經宿方至」是因為缺乏交通工具 (D) 「造門不前而返」是因為沒有人在家。

【試題結束，請再檢查答案是否完整、正確！】

澎湖縣立文光國民中學一百零八學年度第一學期第一次段考國文科試題【答案卷】

八年 班 座號： 姓名：

一、國字注音：15%（每字一分）

1	2	3	4	5	6	7	8
9	10	11	12	13	14	15	

二、解釋：10%（1~2 每題二分，3~8 每題一分）

✧ 1. 大快朵頤：

5. 「擢」素手：

✧ 2. 大塊文章：

6. 泣涕「零」如雨：

3. 「褻」玩：

7. 相「去」復幾許：

4. 「宜」乎眾矣：

8. 「粲」亮：

三、選擇題：50%（每題二分）

1	2	3	4	5	6	7	8	9	10
11	12	13	14	15	16	17	18	19	20
21	22	23	24	25					

四、閱讀理解：25%（1~10 每題二分，11~15 每題一分）

1	2	3	4	5	6	7	8	9	10

11	12	13	14	15

請交答案卷即可

Class :

Number :

Name :

一：聽力測驗題；依據所聽到的對話回答問題 10% (每題二分)

1. (A) Tom won the game.
(B) Everyone cheered for Tom when he won the game.
(C) Tom helped Lily during the game.
2. (A) At home. (B) At the zoo. (C) At the TV station.
3. (A) The man asked Mary for money.
(B) May didn't talk to the man last week.
(C) The man didn't show up出現 on his first date約會.
4. (A) No. She did that in the morning.
(B) Yes. She did that in the afternoon.
(C) Yes. She did that in the evening.
5. (A) The boy didn't sleep last night.
(B) The boy has a high fever.
(C) The boy needs some sleep.

二：選擇題 40% (每題二分)

☉ Max : I got good grades on the test today!

Kenny : _____ 1. _____. Which can't be Kenny's response 反應?

- (A) My goodness, you made it. (B) I am really proud of you.
(C) As you sow, so shall you reap. (D) What's wrong with you?

☉ Jack : Do you like math?

Pete : I didn't like it before, _____ 2. _____.

- (A) and now I love it (B) but now I did (C) and now I do (D) but now I love it

☉ It is time for lunch. Let's _____ 3. _____ and take a rest.

- (A) stopped working (B) stop to work (C) stop working (D) to stop working

4. Which sentence is right?

- (A) What did you happen? (B) All we like the teacher now.
(C) What happened to your sister? (D) My all sisters like the movie.

☉ I _____ 5. _____ ready _____ the show.

- (A) don't; for (B) don't; to watch (C) am not; to (D) am; for

☉ Joe worked eleven hours. He must _____ 6. _____ very tired.

- (A) be (B) is (C) to be (D) x

☉ The kid played with his dog _____ 7. _____.

- (A) on the way to home (B) all the way home (C) all the way to home (D) all way home

☉ There are two _____ 8. _____ in a school year for all the schools in Taiwan.

- (A) camps (B) semesters (C) sports (D) stations

☉ He _____ 9. _____ after school every day before.

- (A) played the piano (B) played the basketball (C) plays the piano (D) plays the basketball

☉ My brother _____ 10. _____ on the sea every summer. It is exciting for him.

- (A) hikes (B) reads (C) jogs (D) surfs

☉ In the supermarket, you can use the _____ 11. _____ to carry your things.

- (A) race (B) cart (C) camp (D) skill

☉ Father _____ 12. _____ us many funny stories during the meal last night.

- (A) said (B) spoke (C) talked (D) told

Michael went to the hospital.

Dentist: What's wrong with you?

Michael: Ouch. It hurts. I even can't say anything.

Dentist: Let me check your teeth. Does this hurt?

Michael: Wait! Don't touch that! It hurts.

Dentist: It looks terrible. Do you brush your teeth every day?

Michael: No, I don't have time. I'm busy doing....

Dentist: Come on! You should do it every day. By the way, do you eat candy or snacks before you sleep?

Michael: Of course, I have a sweet tooth. I usually eat two bags of candy every day.

Dentist: Oh, that's too bad. You shouldn't eat too much candy. Besides 此外, don't forget to brush your teeth before you sleep every day.

13. Why did Michael go to the hospital?
 (A) He had a fever. (B) He had a sore throat.
 (C) He had a headache. (D) He had a toothache.
14. What should Michael do every day?
 (A) He should eat candy every day. (B) He should brush his teeth every day.
 (C) He should take some medicine every day. (D) He should play basketball every day.
15. Which is true?
 (A) Candy is Michael's favorite. (B) The doctor told him to eat much candy every day.
 (C) Michael has a sore neck. (D) Michael brushes his teeth every day.

Miss Lin: Why doesn't Jason come to school today?

Jack: He is sick and has to lie 躺 in bed.

Miss Lin: How can you know about it?

Jack: Jason's mom called my aunt, Aunti. And she told me about it. Jason had a fever and a sore throat.

Miss Lin: Poor boy! Who can go to see him after school?

Jack: Jessie, Hank, Bruce, and I.

Miss Lin: Thank you. Please say hello to him for me. Now, let's start our new lesson. Joe, you have to teach Jason the new lesson.

Joe: Yes, I will 將會.

16. Where does the dialogue 對話 happen?
 (A) In the car wash. (B) At Jack's home. (C) In the hospital. (D) In the classroom.
17. Who is she in Jack's talking?
 (A) Miss Lin. (B) Jason's mom. (C) Jack's aunt. (D) Jessie.
18. Who does Miss Lin call Poor boy?
 (A) Jason. (B) Jack. (C) Hank. (D) Joe.
19. Who is Miss Lin?
 (A) Jason's mom. (B) John's aunt. (C) John's friend. (D) Bruce's teacher.
20. Which is true?
 (A) Miss Lin can go to see Jason after school.
 (B) Jason is Joe's classmate.
 (C) Joe can go to Jason's home and teach him the new lesson.
 (D) Aunti is a student in John's class.

三: 填充 30%

A: 介係詞填充 (每題一分)

- ☺ I need a black pen 1. the test.
- ☺ **Maggie:** I am sorry 2. that.
Ken: It is very nice 3. you.
- ☺ **Apple:** Who is Samantha?
Ben: She is the 2019 Teacher 4. the Year.
- ☺ We learned 5. the good news from TV.
- ☺ He is still a good boy 6. his parents' eyes.
- ☺ Don't laugh 7. the poor kid.
- ☺ Jason went out alone, and he rode east 8. the river.
- ☺ Do you have any good idea 9. the party?
- ☺ You have a dirty look 10. your face. 你的臉很臭耶。

B: 動詞詞性變化 ; 請根據前後文作適當的變化 ; 變化之後, 答案可能不只一個字

- ☺ Lucy, a junior high school English teacher, often (11. take) a trip every summer vacation. She (12. go) to South Africa 南非 this summer vacation and she had a lot of fun there. There (13. be) a lot of wild animals 野生動物 in South Africa and the scenery 風景 was wonderful. She enjoyed her vacation a lot.
- ☺ **Edward :** Who (14. push) the boat?
Timmy : I am.
- ☺ Last summer, Johnny (15. hit) the book in the library every morning.
- ☺ (16. Not exercise) much after dinner.
- ☺ He cut the apple and (17. eat) one piece of it.
- ☺ The girl (18. fall) down from the wall, and she (19. feel) sick two days ago.
- ☺ Don't give up (20. try) ! Someday you will succeed.

四. 寫作練習 ; 請根據提示作答 20% (每句二分)

請交答案卷即可

Class : Number : Name :

一：聽力測驗題；依據所聽到的對話回答問題 10%（每題二分）

1.	2.	3.	4.	5.
----	----	----	----	----

二：選擇題 40%（每題二分）

1.	2.	3.	4.	5.	6.	7.	8.	9.	10.
11.	12.	13.	14.	15.	16.	17.	18.	19.	20.

三：填充題 30%（1-10 每題一分；11-20 每題二分）

1.	2.	3.	4.	5.
6.	7.	8.	9.	10.
11.	12.	13.	14.	15.
16.	17.	18.	19.	20.

四. 寫作練習 20%（每題二分）

- Gina finally won the triathlon medal 獎牌.
Gina failed many times. (~ after~ 合併句子)
- After Susan climbed the rocks 攀岩, she ate three mangoes. (Before + Ving 改寫句子)
- Peter isn't happy today.
Peter can't find his CD player. (用 Because~合併兩句)
- Mom bought a basket of fruit and visited the old man. (請將此句改成疑問句)
- 為了替才藝表演的服裝籌錢, 每星期日我為我的鄰居遛狗。 (請翻成英文)
- Mary did many different jobs last year. (請將此句改成否定句)
- Learn to walk before you run. (請翻成中文)
- Teacher Samantha:** What's the holdup? Why don't you hand your homework to me right now?
(請回答; 回答不知道相關一律不給分)
- 她重感冒, 所以她祖父母幫她準備雞湯。 (請翻成英文)
- Cathy held a cute baby in her arms and smiled at it. (請翻成中文)

澎湖縣立文光國民中學 108 學年度第 1 學期第 1 次成績評量 8 年級數學科試卷

班級： 姓名： 座號： 讀卡 V 答案卷

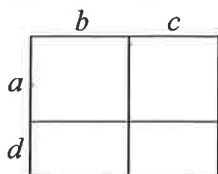
一、選擇(每題 4 分，共 40 分)

1. () 下列有關多項式 $-2+2x^2-x$ 的敘述哪一個是錯誤的？
 (A) 為 x 的二次多項式 (B) x^2 項的係數為 2
 (C) x 項的係數為 1 (D) 常數項為 -2
2. () 多項式 A 、 B 分別是 x 的四次與七次多項式，則多項式 $3A+B$ 的次數為何？
 (A) 十九次 (B) 十一次 (C) 七次 (D) 四次

3. () 若 $2x \cdot () = -\frac{4}{5}x^2$ ，則 () 應填入下列何者？

(A) $-\frac{8}{5}$ (B) $-\frac{8}{5}x$ (C) $-\frac{2}{5}$ (D) $-\frac{2}{5}x$

4. () 四個長寬均不相等的長方形恰組成一個大長形(長、寬如圖所標示)，則大長方形的面積與下列何者相同？



(A) $ac+ad+bc+bd$ (B) $ab+bd+ac+cd$
 (C) $ab+ad+bc+cd$ (D) $a^2+b^2+c^2+d^2$

5. () $3.99^2 - 8 \times 3.99 + 16 = ?$
 (A) -0.01 (B) -0.0001 (C) 0.01
 (D) 0.0001
6. () 若 $20.5^2 = 20^2 + a$ ，則 a 的值與下列何者相同？
 (A) 10.25 (B) 11.25 (C) 3.5^2 (D) 4.5^2

7. () 有四位同學想要算出 8.5^2 的值，他們的方法如下：

冠丞： $8.5^2 = (8+0.5)^2 = 8^2 + 2 \times 8 \times 0.5 + 0.5^2$

育芯： $8.5^2 = (\frac{17}{2})^2 = \frac{17^2}{4}$

羽晨： $8.5^2 = 8^2 + 0.5^2$

敏中： $8.5^2 = (9-0.5)^2 = 9^2 - 2 \times 9 \times 0.5 - 0.5^2$

如果這四人接下來都沒有計算或其他方面的錯誤，那麼誰的答案是正確的？

(A) 冠丞 (B) 育芯 (C) 羽晨 (D) 敏中

8. () 化簡 $-x(2-3x) - 2(x+1) = ?$
 (A) $3x^2 - 4x - 2$ (B) $3x^2 - 2$
 (C) $3x^2 - 4x$ (D) $3x^2 - 4x + 2$

9. () $\sqrt{27}$ 介於哪兩個連續整數之間？

(A) 6、7 (B) 5、6
 (C) 4、5 (D) 3、4

10. () 計算 $\sqrt{0.81} = ?$
 (A) ± 0.09 (B) ± 0.9 (C) 0.09 (D) 0.9

二、填充題(每題 4 分，共 40 分)

1. 已知 $(2x^3 - 3x^2 + 1) - (3x^2 + 2x + 2) = ax^3 + bx^2 + cx + d$ ，則 $a + b + c + d =$ _____。

2. 計算下列各式，並將答案以降冪排列。(各 2 分)

(1) $(2x^2 + 3x + 4) + (4x^2 + 2x + 1) =$ _____。

(2) $(3 - 2x + x^2) + (3x^2 + 6x - 7) =$ _____。

3. 計算 $2345^2 - 345^2 =$ _____。

4. 若 $97.5^2 = 100^2 + 2.5^2 + \square$ ，則 $\square =$ _____。

5. 若 $3x+1$ 的平方根是 ± 7 ，則 $x =$ _____。

6. 設 9 是 $3a+12$ 的一個平方根，144 的負平方根為 b ，則 $a+b =$ _____。

7. 下列哪些式子是 x^2 的同類項？答：_____。
 (全對才給分)

(A) $3x$ (B) $4x^3$ (C) $\frac{5}{2}x^2$ (D) $-8x^2$ (E) $4x^2$

8. 試比較下列各數的大小。

$\sqrt{70}$ 、 $\sqrt{80}$ 、 $9 \Rightarrow$ _____。

9. 若有一個三角形的面積是 $(x^2 + x - 6)$ ，底邊為 $(2x - 4)$ ，則底邊上的高為 _____。

10. 已知 A 、 B 均為多項式，其中 $B \neq 0$ ， $A \div B$ 的商式為 $3x+2$ ，餘式為 $x-3$ ，則 $A \div 3B$ 得到的商式為 _____。

4. 利用下表，查出下列各數的值或近似值。(以四捨五入法求到小數點後第 2 位，各 1 分)。

N	N^2	\sqrt{N}	$\sqrt{10N}$
42	1764	6.480 741	20.49390
43	1849	6.557 439	20.73644
44	1936	6.633 250	20.97618
45	2025	6.708 204	21.21320

(1) $\sqrt{45}$ (2) $\sqrt{450}$ (3) $\sqrt{2025}$ (4) 42^2

5. 若 $x^3 - 7x^2 + kx$ 能被 $x-4$ 整除，求 $k = ?$

三、計算題(每題 4 分，共 20 分)

1. 利用和的平方公式 $(a+b)^2 = a^2 + 2ab + b^2$ ，計算下列各式之值。(各 2 分)

(1) $(9\frac{1}{3})^2$ (2) $97^2 + 2 \times 97 \times 3 + 3^2$

2. 如果有一多項式 B 除以 $2x^2 - x + 3$ ，得商式為 $x+1$ ，餘式為 6，求此多項式 B 。


3. 求下列各數的平方根。(各 2 分)

(1) 1.96 (2) $12\frac{1}{4}$

試題結束
文光八年級數學科

一、單選題（每題 2 分，共 70 分）

- () 下列何者為量筒的功用？(A)加熱溶液 (B)配製溶液 (C)測量溶液體積 (D)測量溶液質量。
- () 若不慎誤觸醋酸水溶液，應立即如何處置較為適當？(A)醋酸為弱酸，所以無須理會 (B)用鹼性水溶液中和 (C)以大量清水沖洗 (D)以酒精消毒。
- () 下列何者符合實驗室安全規則？(A)嚴禁在實驗室飲食 (B)把燃燒中的酒精燈置於書本上墊高 (C)用溫度計攪拌溶液 (D)用已點燃的酒精燈引燃另一個酒精燈。
- () 佑嘉想做實驗了解「水溫高低與紅糖溶解時間的關係」，則下列哪一項是操縱變因呢？(A)水溫 (B)水量 (C)紅糖的量 (D)溶解所需的時間。
- () 下列哪一個敘述不會有誤差？(A)昨日降雨量為 12 毫米 (B)書桌長度為 80 公分 (C)今日氣溫為 21°C (D)二年級的學生中有 123 人近視。
- () 小安、小緯、小穎三人利用直尺測量書桌的寬度，測量結果為：小安 40.05 公分、小緯 39.95 公分、小穎 40.00 公分，則下列敘述何者正確？(A)直尺的最小刻度為 0.01 公分 (B)三人測量結果的平均值為 40.00 公分 (C)小緯的測量結果是錯誤的 (D)小穎的測量結果最接近平均值，故最準確。
- () 如附圖，小瑜將綠豆放入空量筒中，輕敲量筒後，綠豆堆積到量筒刻度約為 50.0 毫升處。之後，小瑜把 40.0 毫升的水，倒入盛綠豆的量筒中，而水面的刻度到達 87.0 毫升處。若綠豆皆沉在水面下，則綠豆的體積大約為多少立方公分？(A)50.0 (B)47.0 (C)40.0 (D)37.0。
- () 雪凝測量自己的課本長度後，紀錄結果為 0.2731 公尺，則下列哪一個數字是估計值？(A) 2 (B) 7 (C) 3 (D) 1。
- () 承上題，他所使用的直尺最小刻度為多少公分？(A) 1 (B) 0.1 (C) 0.01 (D)0.001。
- () 興哲利用直尺測量十元硬幣的周長，所得結果分別為 82.5 毫米、81.2 毫米、79.3 毫米及 50.6 毫米，則硬幣的周長應記錄何者較為合理？(A) 73.4 毫米 (B) 75.2 毫米 (C) 81.0 毫米 (D) 80.0 毫米。
- () 已歸零的歸懸吊式等臂天平左盤放置一待測物，右盤放置 10 公克砝碼一個、5 公克砝碼一個、2 公克砝碼一個，騎碼的位置在第 18 個刻度線上，若此時天平達平衡，則此待測物的質量為多少？(A) 18.8 公克 (B) 20.80 公克 (C) 18.80 公克 (D) 28.8 公克。
- () 雯雯使用已歸零的懸吊式等臂天平來測量物體的質量，因一時粗心將砝碼放在左盤，而待測物體則放在右盤，當達平衡時，左盤中有一個 10 公克的砝碼、三個 2 公克的砝碼，且騎碼在平衡橫梁的第 15 個刻度線上，假設天平的橫梁上每一個刻度代表 0.1 公克，則右盤待測物體的質量為多少公克？(A) 13.00 (B) 14.50 (C) 16.00 (D) 17.50。
- () 量筒中裝有質量 1360 g、體積 100 cc 的水銀；若倒出 80 cc，則量筒中剩餘水銀密度是多少？(A) 10.9 g/cm³ (B) 13.6 g/cm³ (C) 1.36 g/cm³ (D) 68 g/cm³
- () 伊索寓言中提到一則烏鴉喝水的故事：一隻烏鴉想喝瓶中水，但嘴巴太短伸不進瓶中。假設附近有多顆不同材質，但質量皆為 10 公克的金屬小球，烏鴉將一些球放入水中，使水面上升，最後順利地喝到水。試問以下何種材質的金屬球，可讓牠利用最少的數量就能喝

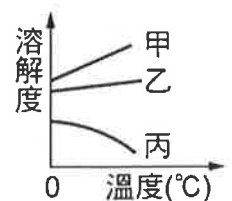


到水（密度：鋁=2.7 g/cm³；鉛=11.4 g/cm³；銅=8.9 g/cm³）？(A)鋁球 (B)鉛球
(C)銅球 (D)無論何種材質所需金屬球數皆相同

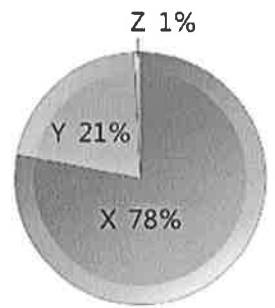
15. () 將某液體倒入量筒中，下表為液體的體積及量筒和液體的總質量關係，由表可知此液體密度為若干 g/cm³？(A) 0.3 (B) 0.6 (C) 0.9 (D) 1.0。

次 別	第 1 次	第 2 次	第 3 次	第 4 次
體積 (cm ³)	5	10	15	20
質量 (g)	38	41	44	47

16. () 承上題，量筒質量為若干 g？(A) 10 (B) 25 (C) 30 (D) 35。
17. () 下列何者屬於純物質？(A)粗鹽 (B)100%鮮奶 (C)蒸餾水 (D)空氣。
18. () 以下為四種不同物質在一般環境下，經多次測量所得的沸點，請依此判斷其中哪一種是混合物？(A)甲：沸點 70°C~80°C (B)乙：沸點 56°C (C)丙：沸點 79°C (D)丁：沸點 100°C。
19. () 在蠟燭燃燒的過程中，會經過：甲·固態蠟會逐漸融化成液態蠟；乙·液態蠟再變成氣態蠟；丙·氣態蠟燃燒產生了二氧化碳和水蒸氣等物質。以上過程中哪些是物理變化呢？(A)甲、乙、丙 (B)甲、乙 (C)乙、丙 (D)甲、丙。
20. () 常溫常壓下，若將液態空氣緩慢蒸發，會發現氮氣比氧氣先蒸發出來。則有關此現象的敘述，下列何者錯誤？(A)蒸發屬於物理變化 (B)氧氣的沸點比氮氣高 (C)該液態空氣不可能是純物質，一定是混合物 (D)該空氣必定為化合物。
21. () 青峰榨西瓜汁時，使用篩網將西瓜汁與籽分離，此是利用何種特性的不同來分離物質？(A)熔點 (B)沸點 (C)顆粒大小 (D)燃點。
22. () 下列何者是化學性質的描述？(A)鐵在潮溼的環境中容易生鏽 (B)鐵可以導電 (C)水沸騰時溫度維持在 100°C (D)乾冰在舞台上製造白色的煙霧。
23. () 將食鹽水溶液 100 公克加熱蒸發，當水分完全蒸發後留下的食鹽經秤重為 15 公克，則蒸發失去的水分為多少公克？(A)15 (B)55 (C)85 (D)100。
24. () 有關擴散現象，下列敘述何者不正確？(A)擴散是溶質在溶液中不停運動的現象 (B)溫度越高擴散現象越明顯 (C)由於粒子擴散，最終使溶液中各處濃度相等 (D)粒子均勻分布於水中時即停止運動以維持各處濃度均勻。
25. () 從 300 毫升的 30% 食鹽水溶液中，取出 100 毫升，則剩餘 200 毫升溶液的濃度為多少？(A)30% (B)20% (C)15% (D)10%。
26. () 若糖在 20°C 時的溶解度為 200 公克糖 / 100 公克水，則 20°C 下飽和糖水的重量百分濃度應為何？(A)20% (B)33.3% (C)50% (D)66.7%。
27. () 子奇將 50 cc 純水加入 25 公克食鹽後，發現不論如何搖晃仍有 5 公克食鹽未能溶解，試問該食鹽水的重量百分濃度為多少？
(A) $\frac{25}{50+25} \times 100\%$ (B) $\frac{25-5}{50+20} \times 100\%$ (C) $\frac{25-5}{50+25} \times 100\%$ (D) $\frac{50}{50+20} \times 100\%$
28. () 20 公克的糖加入 60 公克的水中，若有 8 公克的糖沉澱而未溶解，試問此糖水溶液至少需要再加多少公克水才可以將剩下的糖完全溶解？(A) 20 (B) 30 (C) 40 (D) 50。
29. () 右圖是甲、乙、丙三種不同的溶質在 100 公克水中，其溶解度與溫度的關係，則下列何者可能是丙物質？(A)氧氣 (B)食鹽 (C)硝酸鉀 (D)蔗糖。



30. () 人類的生存離不開空氣，右圖為空氣組成成分示意圖，請問下列有關空氣的敘述何者正確？ (A)X、Y、Z均為純物質 (B)Z氣體不易發生反應，屬於鈍氣 (C)點燃的線香在Y氣體中會燃燒更旺盛 (D)X氣體可用於焊接金屬時，防止金屬與氧反應。



31. () 杰倫上台比賽鋼琴獨奏之前先深深吸入一口氣，再緩緩地吐出氣來緩和緊張的情緒，試問他吐出來的氣中含量最多的氣體是哪一種？

(A)氫氣 (B)氮氣 (C)氧氣 (D)二氧化碳。

32. () 下列關於氣體的敘述，何者正確？ (A)填入信號燈及霓虹燈使其發出紅光的氣體不為惰性氣體 (B)空氣中含量第二位的氣體活性很小 (C)空氣中含量第一位的氣體，可用來充填包裝食品，防止食品變質 (D)氫氣為密度最小的氣體。

在 25°C 時，甲、乙、丙燒杯內放入的物質如下表所示，經充分攪拌後，丙燒杯無固體殘留且恰好成飽和溶液，試回答 33.~34. 題：

物質	甲	乙	丙
硫酸銅	1.0 g	6.0 g	6.0 g
蒸餾水	5.0 g	10.0 g	15.0 g

33. () 甲、乙燒杯何者是未飽和溶液？ (A)甲 (B)甲、乙皆是 (C)乙 (D)甲、乙皆不是。

34. () 三溶液顏色由深至淺順序為何？ (A)乙 = 丙 > 甲 (B)乙 > 丙 > 甲 (C)甲 > 丙 = 乙 (D)甲 = 乙 = 丙。

35. () 一罐 200 公克的糖漿，包裝外有一標籤標示著成分，如右圖所示，請問葡萄糖的含量為多少公克？


(A) 140 (B) 126 (C) 14 (D) 10。

品名：高果糖糖漿
 原料：天然植物性食用澱粉
 主要成分：糖分70%、水分30%
 糖主要成分：果糖90%、葡萄糖5%

二、填充題 (每格 2 分，共 30 分)

1. 游泳池長 50 公尺、寬 10 公尺、裝水深 1.5 公尺，則含水體積 A 公升。

2. 可惟以直尺 (圖中的數字代表公分) 測量其長度，物體的長度應記錄為 B 公分。

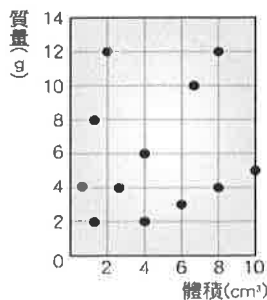


3. 空瓶質量 30 公克，盛滿水後質量為 150 公克，如改盛密度為 1.03 公克 / 立方公分的海水，則總質量為 C 公克。

4. 有 12 個形狀、大小皆不同，但各由單一物質所組成的物體，分別測量其質量與體積的關係如附圖，請回答下列問題：

(1) 此 12 個物體中共有幾種不同的密度？ D 。

(2) 當中密度最大者的密度為密度最小者的 E 倍。



5. 俊傑欲由食鹽與木炭粉的混合物中分離出食鹽，根據下圖回答問題：



(1) 正確步驟應為 F。(請以代號按照先後順序填寫)

(2) 乙步驟中分離蒸發皿中兩物質是利用兩者何種性質的不同呢？G。

6. 榮浩將 150 公克的水加入 250 公克重量百分濃度為 40% 的糖水中，混合均勻後的重量百分濃度變為 H。

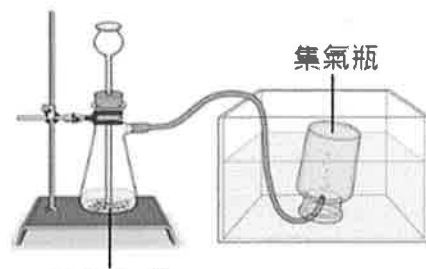
7. 在 20°C 時，食鹽的溶解度為 36 公克 / 100 公克水。同溫下，在 500 公克的水中加入 200 公克的食鹽，則此食鹽水溶液的重量百分濃度為 I；從這杯溶液中取出 200 公克的食鹽水，則所含的溶質總共有 J 公克。

8. 附圖為實驗室製造氧氣的裝置，請回答下列問題：

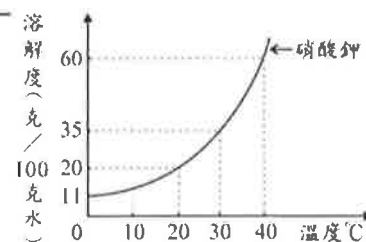
(1) 此實驗需要用到的藥品為 K 和二氧化錳。

(2) 此收集氣體的方法稱 L。

(3) 將燃燒的碳粉放入氧氣瓶中會燃燒得更劇烈，可以證明氧氣具有 M。



9. 右圖為硝酸鉀在 100 水中的溶解度對溫度的關係圖，爾軒在水溫 40°C 時調配出一杯飽和的硝酸鉀水溶液，當水溫降到 20°C 時，水溶液的重量百分濃度大小為 N。



10. 阿基米德將質量 2kg 的皇冠放到水中用排水法測體積，結果發現體積比質量同為 2kg 的金塊多出約 120cm³，則根據下表推測此頂皇冠的材質應為 O。

物質	金	銀	銅	鐵	鋅
密度(g/cm ³)	19.3	10.5	8.9	7.9	7.1

澎湖縣立文光國民中學 108 學年度第一學期第一次成績評量八年級自然科答案卷

班級： 座號： 姓名： 得分：

一、單選題（每題 2 分，共 70 分，請將答案依序填入下表中）

1.	2.	3.	4.	5.	6.	7.	8.	9.	10.
11.	12.	13.	14.	15.	16.	17.	18.	19.	20.
21.	22.	23.	24.	25.	26.	27.	28.	29.	30.
31.	32.	33.	34.	35.					

二、填充題（每格 2 分，共 30 分，請依序將答案填入空格中）

A.	B.	C.
D.	E.	F.
G.	H.	I.
J.	K.	L.
M.	N.	O.

班級：

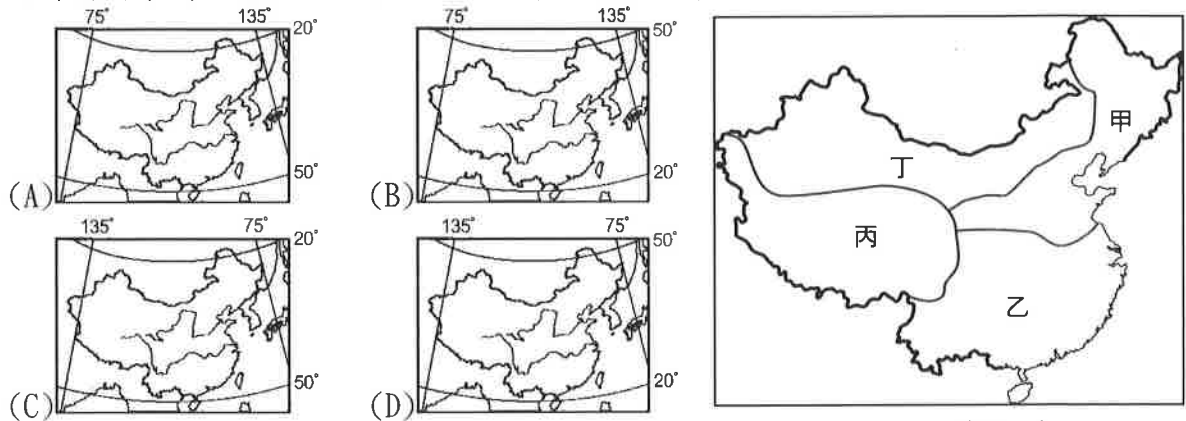
姓名：

座號：

讀卡 答案卷

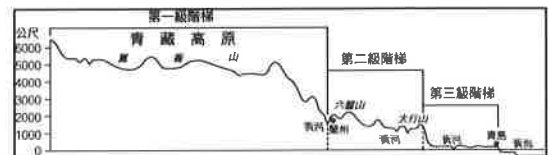
一、單一選擇題(1-10 題，每題 2 分，11-15 題，每題 1.5 分，共 27.5 分)：

- () 1. 住在上海(約東經 120°)的志緯在 12 月 3 日晚間 10 點，打電話給住在倫敦(0°)的朋友政新。此時政新所在的倫敦是幾點？
 (A)12 月 3 日 14 點 (B)12 月 2 日 22 點 (C)12 月 3 日 16 點 (D)12 月 4 日 6 點
- () 2. 漢朝張騫往西域打通古代著名的「絲路」，明朝鄭和下西洋，使中國聲威遠播，這樣的歷史成就得利於中國哪項優越地理條件？
 (A)領土廣大 (B)氣候溫和 (C)面海背陸 (D)形狀完整
- () 3. 老師要同學們指出中國正確位置的經緯度，下列哪張地圖符合中國的絕對位置？



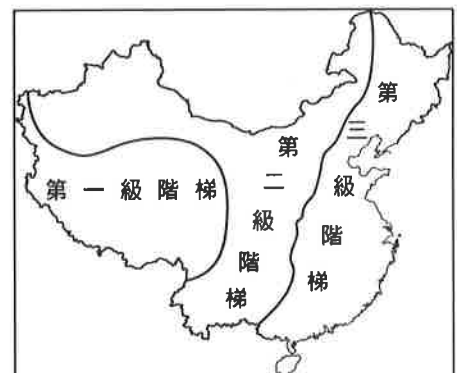
- () 4. 省、自治區、直轄市、特別行政區是中國目前的四大行政區劃。(圖一)
 (圖一)中，哪個區域同時擁有這四種行政區劃？(A)甲 (B)乙 (C)丙 (D)丁

- () 5. 右圖為中國三級地形階梯剖面圖。對於影響中國諸多地理現象的地形特徵描述，下列何者錯誤？



- (A)大河多由東往西流 (B)海洋氣流更能向西深入內陸 (C)東半部多沖積平原 (D)平原是精華區

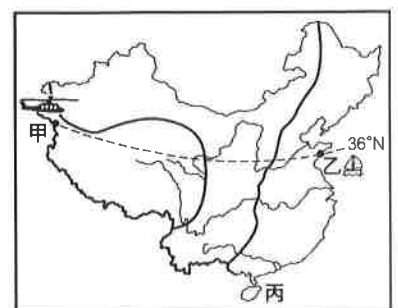
- () 6. 若依照分層設色圖的繪製原則，中國的三大階梯應分別著上什麼顏色？(請依「第一級—第二級—第三級」排列)(A)綠色—黃色—咖啡色 (B)黃色—咖啡色—綠色 (C)咖啡色—綠色—黃色 (D)咖啡色—黃色—綠色



- () 7. 「中國有世界最高的喜馬拉雅山，也有低於海平面的吐魯番窪地。」此敘述最足以說明哪項地理事實？
 (A)地勢高低起伏很大 (B)疆域面積廣闊 (C)地勢向東級級下降 (D)主要河川由西向東入海

- () 8. 中國哪個盆地位於第一級階梯內，該地擁有鹽湖與沼澤等自然景觀？
 (A)四川盆地 (B)準噶爾盆地 (C)塔里木盆地 (D)柴達木盆地

- () 9. 冒險王念丞受製作單位委託至中國拍攝影片如右圖，他從甲地乘坐直升機沿著 36°N 至乙地，旅程中他會依序看到哪些地形？



- (A)黃土高原→青藏高原→華北平原 (B)華北平原→青藏高原→黃土高原 (C)青藏高原→華北平原→黃土高原 (D)青藏高原→黃土高原→華北平原

【第 1 頁結束 背面尚有試題】

- () 10. 住在中國四大高原的代表，齊聚一堂，聊著自己家鄉的特色。何者說錯自家的地理環境？
 (A) 青藏高原代表：「我住的地方，地勢高聳，多冰河與高山湖泊。」 (B) 雲貴高原代表：「我住的地方，溫溼多雨，石灰岩地形發達。」 (C) 黃土高原代表：「我住的地方，黃土相當堅硬，地形平坦遼闊。」 (D) 蒙古高原代表：「我住的地方，是冬季高氣壓發源地，易受風蝕作用影響。」
- () 11. 中國的東半部比西半部能更早見到 2020 年的第一道曙光。中國各地日出時間的差異，和哪一種地理條件有關？ (A) 經度位置 (B) 緯度位置 (C) 地形起伏 (D) 氣候多元
- () 12. 「中國西南部某地形區因山河縱行排列，當地居民為了來往兩地，運用智慧克服了山高水深的地形阻隔，利用溜索一頭高、一頭低固定在兩岸上，能載人、貨物以及牲畜。」上述地形區為何？ (A) 青藏高原 (B) 雲貴高原 (C) 橫斷山脈 (D) 浙閩丘陵
- () 13. 主翔計畫前往中國北京開設「手工吉他」作坊，因為對於當地路況不熟而迷路，還好手機有衛星定位系統，標示出位置在 (116° ，40°)。上文空格應分別填入哪兩個英文字母？ (A) E, N (B) E, S (C) W, N (D) W, S
- () 14. 新聞報導：「中國經濟成長趨緩，但今年以來仍有 9 個省級行政區調高最低工資。據了解，中國多數省區的最低工資會依經濟發展程度分級訂定。」在右圖中哪個地區的省級行政區最容易調高工資？(A) 甲 (B) 乙 (C) 丙 (D) 甲、乙
- () 15. 中國的海岸線以杭州灣為界，以北和以南的海岸有明顯的不同。下列有關中國海岸的表格整理，何者正確？



	(A) 主要分布	(B) 海岸線	(C) 適合產業	(D) 天然灣澳
岩岸	杭州灣以北	海岸平直且水淺	農業、養殖漁業	較多
沙岸	杭州灣以南	海岸曲折且水深	航運、遠洋漁業	較少

二、題組(16-20 題，每題 1.5 分，共 7.5 分)：

(一) 大導演李安預計拍新片，打算在中國的重慶、香港及上海取景，請參考下圖回答以下問題。

- () 16. 李安導演結束了香港的拍攝，預計由香港搭乘飛機，前往重慶取景，飛機應是往哪個方向飛？
 (A) 東北 (B) 西北 (C) 東南 (D) 西南
- () 17. 導演在香港的「維多利亞港」取景。此處地名由來，是因為香港曾經是哪個國家的殖民地？
 (A) 法國 (B) 英國 (C) 葡萄牙 (D) 西班牙
- () 18. 新片上映時，依照導演取景的城市判斷，觀眾可能在電影當中看見哪些氣候帶的景觀？
 (A) 溫帶 (B) 熱帶、溫帶 (C) 溫帶、寒帶
 (D) 熱帶、溫帶、寒帶



(二) 中國地形的風貌除了大地內部板塊運動的作用外，更有水、風、冰等力量在進行改造地表的工程，使中國呈現出多樣且不斷改變的豐富地貌。右下圖為中國分區的簡圖，請回答下列問題。

- () 19. 何處因海拔高度所造成的低溫，使得冰河的發育完整，也塑造了中國極為壯觀、多樣的冰河地形景觀？ (A) 甲 (B) 乙 (C) 丙 (D) 己
- () 20. 圖中哪個地區因日夜溫差大，強烈的熱脹冷縮效應，使得地表岩層風化碎裂，大大小小的石礫及細沙散布地表，形成礫漠與沙漠這兩種特殊地形？
 (A) 甲 (B) 乙 (C) 丙 (D) 己



澎湖縣立文光國民中學 108 學年度第 1 學期第 1 次成績評量 8 年級歷史科試卷

班級： 姓名： 座號： 讀卡 答案卷

一、 單選題(21-30 題，每題 2 分；31-34 題，每題 1.5 分，共 26 分)

() 21. 中國歷史上曾出現過「禪讓」，請問：「禪讓」是何種政治型態？ (A) 父死子繼 (B) 兄終弟及 (C) 部落聯盟的推舉 (D) 封建社會的聯姻方式。

() 22. 右圖是戰國時期的形勢圖。請問：最後爭霸並統一天下的是圖中哪個地區的國家？ (A) 甲 (B) 乙 (C) 丙 (D) 丁。



() 23. 關於西周與東周的建國與亡國之比較，下列敘述何者正確？ (A) 東周最後是被齊國統一天下 (B) 東周的建國者是周幽王 (C) 西周的最後一位天子是因犬戎入侵而被殺 (D) 周平王是西周的開創者。

() 24. 若以現今的歷史研究觀點，解讀傳說中的三皇五帝。何者應屬於舊石器時代的領導者？ (A) 黃帝 (B) 神農氏 (C) 燧人氏 (D) 伏羲氏。

() 25. 趙昕在《大漢風雲》一書中，看到如附圖的人物介紹，從圖中人物的介紹內容判斷，這位人物最可能是下列何者？ (A) 劉邦 (B) 項羽 (C) 王莽 (D) 劉秀。

我以外戚的身分篡漢。



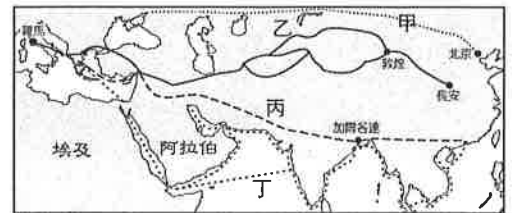
() 26. 考古學家在河南偃師縣二里頭村發掘出大約西元前 1900~前 1500 年的遺址，對此遺址以下推論何人「最不足採信」？ (A) 柯南：考古的年代與夏代大致重疊 (B) 小蘭：遺址中有大型宮殿說明已初具國家組織的出現 (C) 光彥：出土的大量青銅器應多用於祭祀與兵器 (D) 園子：遺址中出土文字證明夏代已進入信史時代

() 27. 一位政治評論家在網路發文指出：「我期待新內閣能秉持清靜無為的治國理念，過去政府管太多不該管的事，反而引發更多的民怨。」這位評論家希望新內閣能採納類似下列哪個學派的觀點？ (A) 法家 (B) 墨家 (C) 道家 (D) 儒家。

() 28. 敏中剛寫好一篇歷史報告，主題是「西周的社會階級」，內文可能出現哪一段文字？ (A) 當時社會階級由上而下為貴族、平民、奴隸三個階級 (B) 卿大夫為貴族階級中的最低階級 (C) 士農工商等人民屬於平民階級 (D) 平民擁有土地，自給自足。

() 29. 春秋五霸包含齊、宋、晉、秦、楚等國，戰國七雄則涵蓋韓、趙、魏、齊、楚、燕、秦等國。請問：關於「五霸」與「七雄」的比較，下列何者正確？ (A) 五霸主要是東方各國對抗西方秦國的局勢，七雄則是北方六國對抗南方楚國 (B) 五霸是各國先後稱霸，七雄則是同時並立的七大強國 (C) 五霸採行法家思想，七雄強調道家思想 (D) 七雄比五霸更尊重周天子。

() 30. 絲路是指右上圖中的哪一條路線？ (A) 甲 (B) 乙 (C) 丙 (D) 丁



() 31. 從秦始皇到漢武帝，採用政治思想的歷經多次變化，若將這些思想流派依其成為主流思想的時間排序，下列何者正確？

- (A) 法家→道家→儒家 (B) 道家→法家→儒家
(C) 儒家→法家→墨家 (D) 法家→墨家→儒家

() 32. 右表是貝貝上課時所做的筆記。請問：其中哪一個項目是錯誤的？ (A) 甲 (B) 乙 (C) 丙 (D) 丁

項 目	西 漢	東 漢
(甲)建國者	劉 邦	劉 秀
(乙)定 都	長 安	洛 陽
(丙)建國風氣	休養生息	注重氣節
(丁)滅亡之因	群雄割據	外戚宦官

() 33. 于愷為了歷史報告收集資料，其中某份資料寫著：「...挖掘出距今約七千年前的稻穀，因碳化而呈現黑色的，此項發現說明了中國的稻米文化應是本土植栽，推翻了米作可能由他地傳入中國的說法...」。請問：于愷可能正在收集何時何地的資料？ (A) 舊石器時代的長濱文化 (B) 金屬器時代的十三行文化 (C) 新石器時代的河姆渡文化 (D) 新石器時代的龍山文化

() 34. 三代時期，政權幾經更迭，亡國之君的下場通常都是很悲慘的。關於各個政權及其亡國君主的配對，下列哪一組內容正確？ (A) 夏朝—桀 (B) 商朝—幽王 (C) 西周一紂王 (D) 東周一盤庚。

【第 1 頁結束 後面尚有試題】

二、題組(每題1.5分，共9分)

1. 秦漢時代的主要外患是來自北方的游牧民族，秦朝連結戰國時代各國的長城，東西長達數千公里。西漢初期，朝廷無力對抗敵國，只好採取屈辱方式換取邊境的和平，某個年輕的皇帝即位後，決定以軍事力量對付敵國，開始採行進攻戰略。請回答下列問題：

- ()35. 所謂的北方敵國，是指下列哪個民族？ (A)犬戎 (B)月氏 (C)匈奴 (D)朝鮮。
- ()36. 秦朝連結戰國時代哪些國家的長城？ (A)秦、燕、趙 (B)晉、韓、齊 (C)齊、宋、秦 (D)魏、楚、吳。
- ()37. 文中提到的屈辱方式，可以下列哪一段史實為代表？ (A)諸侯提出尊王攘夷策略 (B)與外族簽訂停戰協議 (C)直接投降，並獻出土地 (D)以漢室公主嫁給北方敵國的領袖換取和平。
- ()38. 文中出現的年輕皇帝，歷史上如何稱呼？ (A)漢高祖 (B)漢景帝 (C)漢武帝 (D)漢文帝。

2. 聰仁正在編寫一齣歷史劇，其中有這樣的劇情：「井田制度崩解後，農夫們終於可以拿著農具辛勤耕種自己的土地，再藉由便利的交通，將農作物運到天子所在的國都進行交易；在城中還可見到不少商人販賣自己製造的各式物品。」請回答下列問題：

- ()39. 以歷史事實的角度觀察，郁涵編寫的歷史劇內容，最可能是下列哪個時代？ (A)夏朝 (B)商朝 (C)西周 (D)戰國時代。
- ()40. 當時的農夫最可能使用哪一種最新材質的農具耕種？ (A)石頭 (B)陶土 (C)青銅 (D)鐵器。

【試題結束—文光九年級、歷史科】

班級： 姓名： 座號： 讀卡 答案卷

一、單一選擇題(41-49 題，每題 1.5 分，共 13.5 分)：

- () 41. 「在某個國家的領土範圍內出生的小孩，便可以取得該國國籍。」這是因為哪項原則的關係？
(A)屬人主義 (B)屬地主義 (C)婚姻主義 (D)效忠主義
- () 42. 國家統治權行使的特定範圍稱為「領土」。一個國家的領土包括下列哪些範圍？
(甲)領空；(乙)領陸；(丙)領海；(丁)經濟海域
(A)甲乙丙 (B)甲丙丁 (C)乙丙丁 (D)甲乙丁
- () 43. 學者主張現代民主政府應採用分權制衡的方式設計，其主要的目的為何？
(A)人民推翻政府統治比較方便 (B)避免政府濫權侵害人民權利 (C)避免人民干涉政府處理國事 (D)加強人民與政府之間的對立
- () 44. 立法院自第七次修憲後，立法委員席次改為 113 席，任期四年。下列何者不屬於立法院的職權？
(A)制定法律 (B)審定決算 (C)質詢政府官員 (D)審查預算
- () 45. 我國主權行使區域目前僅及於臺澎金馬地區，因而有民眾提議變更我國目前領土範圍以釐清事實。下列何者可以提出領土變更案？
(A)考試院 (B)司法院 (C)立法院 (D)監察院
- () 46. 為了振興國內低迷已久的生技產業，行政院擬透過匡列百億元的科技預算，推動旗艦科技方案，或者，透過聯合產業界，由民間出力規劃「產業聯盟」的方式，打造生技旗艦。根據上述內容，此項措施屬於國家發揮的何種功能？
(A)保存文化 (B)提供福利 (C)發展經濟 (D)保障安全
- () 47. 行政院院長的產生方式是下列何者？ (A)人民投票產生 (B)總統直接任命 (C)總統提名，經立法委員同意後產生 (D)司法院院長提請總統任命後產生
- () 48. 總統府於政黨輪替後，積極重劃府內一樓迴廊展覽，將以「人民的總統府」為主題，介紹我國歷任總統與總統府建築，預計於「國際古蹟日」開放民眾參觀。下列何者屬於總統的職權內容？ (A)對行政院院長提出不信任案 (B)制定法律案與公布命令 (C)依法發布緊急命令 (D)接受立法委員之覆議
- () 49. 新聞報導：「中東伊斯蘭國家普遍父權至上，女性很少有發表意見的空間，人身自由與□□也時常遭受迫害，但中東女性仍持續以各種方式爭取平等。」上文中的□□應該要填入哪種概念？
(A)權力 (B)權利 (C)公權力 (D)憲法效力

二、題組(50-60 題，每題 1.5 分，共 16.5 分)：

(一)港星梁朝偉與劉嘉玲選擇在不丹(Bhutan)完成終身大事，這個神祕小國，頓時成為媒體焦點，熱切的討論著這個小國的施政主軸「國家快樂力」(Gross National Happiness, GNH)。請問：

- () 50. 2008 年 3 月不丹舉行歷史上的首次國會選舉，而國會選舉後，不丹國王仍是一國之尊，但不掌控行政權。請問：下列敘述何者正確？
(A)國體是指國家統治型態 (B)政體是指國家型態 (C)不丹屬君主立憲
(D)不丹屬君主獨裁
- () 51. 不丹國會議員指控中國侵占該國土地，一名議員說：「中國政府未遵守 1998 年兩國簽署的協議，在我國境內鋪設多條道路……。」由上述可知，中國侵犯了不丹的哪些構成要素？ (A)主權、領土 (B)政府、領土 (C)人民、領土
(D)主權、政府

(二)試想今天如果沒有政府，我們的國家將會是一個怎麼樣的局面？可想而知，問題會一大堆，我們知道政府是為民服務而存在的，它的重要性不可言喻。所以國家設置政府來實現安全、秩序、正義、自由、福利、服務這些功能，讓我們人民生活更順利、圓滿。身為國民的我們也要負起責任來配合政府政策，不要因為私心而壞了公德，這也是我們國民急需培養的素養。請問：

- () 52. 警察取締非法行為，使人民安居樂業，是為了實現國家組成的哪項目的？
(A)保障安全 (B)維持秩序 (C)維護人權 (D)伸張正義
- () 53. 國家設立司法機關，使人民權利不受政府或他人的非法侵害，這是為了要實現國家組成的哪項目的？
(A)伸張正義 (B)保障安全 (C)維持秩序 (D)提供福利
- () 54. 對於低收入戶或有殘障人士的家庭，政府皆在學費或生活費上予以補助，這是政府要實現國家組成的哪項目的？
(A)維護人權 (B)維持秩序 (C)提供福利 (D)伸張正義

(三)2008年總統大選時，中選會同時舉辦「是否要爭取入聯或返聯」的公民投票。請問：

- () 55. 公民投票是民主政治中哪一項特色的表徵？
(A)政黨政治 (B)民意政治 (C)法治政治 (D)政黨政治
- () 56. 政府提出「是否要增加經費採買國防武器」的議題，主要是想加強國家組成的哪項目的？ (A)維持秩序 (B)維護人權 (C)提供福利 (D)保障安全

(四)2011年我國爆發「塑化劑事件」，引起社會恐慌，讓消費者心生警覺，爭取消費權益，同時也考驗政府的施政能力，檢驗生產者的企業良心與承擔風險的能力。請問：

- () 57. 若衛生署長因為塑化劑事件處理不當，因此辭職下臺。符合民主政治的哪項特色？ (A)民意政治 (B)法治政治 (C)政黨政治 (D)責任政治
- () 58. 業者不慎進口了含有塑化劑的飲料，必須依法下架。此舉符合民主政治何項特色？ (A)民意政治 (B)法治政治 (C)政黨政治 (D)責任政治

(五)下列是針對815全臺大停電事件的相關新聞摘要：

新聞一：「行政院院長到立法院針對815停電事件進行專案報告，林院長指出，單一突發事件不會影響政府推動能源轉型的決心，此次事件也提醒我們未來必須更加重視電力系統安全，提升備轉容量率。院長也再度向全體國人致歉。」

新聞二：「全臺大跳電，民怨四起！經濟部部長李世光稍早舉行記者會時強調，該負的責任絕對不會閃躲，據(甲)院發言人表示，李世光已向院長口頭請辭，院長也已經接受其請辭，李世光確定下臺。」請問：

- () 59. 根據上述內容判斷，下列針對815全臺大停電事件的敘述，何者認知錯誤？
(A)行政院院長必須為此事向立法院提出專案報告 (B)立法委員有權在會議中對相關部會官員提出質詢 (C)相關主管機關的首長必須為此負起政治責任 (D)監察院可因此對行政院院長提出不信任案
- () 60. 「新聞二」中所提到的(甲)機關最可能是下列哪個單位？
(A)行政院 (B)司法院 (C)監察院 (D)考試院