

澎湖縣立文光國中 108 學年度第一學期第二次成績評量九年級國文科試題卷
壹. 國字與注音：每字 1 分 15%

- | | | |
|------------|---------------|-------------|
| 1. 「狙」擊手： | 2. 「ㄎㄨㄟㄟ」違許久： | 3. 閣「ㄎㄨㄟㄟ」： |
| 4. 「泫」然欲泣： | 5. 「拮」据： | 6. 慧「黠」： |
| 7. 羞「ㄋㄨㄨ」： | 8. 「ㄅㄨ」回一城 | 9. 時「ㄇㄨ」： |
| 10. 「ㄉㄨ」格： | 11. 「墨」花一現： | 12. 摩頂「放」踵： |
| 13. 「瑩瑩」： | 14. 「ㄉㄨ」棄： | 15. 「鑄」記： |

貳. 注釋：每題 1 分 12%

- | | |
|------------|----------------|
| 1. 部分： | 2. 或「不給」： |
| 3. 眾狙皆「寤」： | 4. 「賦」什一以自「奉」： |
| 5. 挑釁： | 6. 狡「狎」： |
| 7. 空乏其身： | 8. 法家拂士： |
| 9. 以術使民： | 10. 貨殖： |
| 11. 賑災黎： | 12. 貽笑大方： |

參. 成語填空：每題 1 分 10% *請將合乎下列各句句意的成語代號，填入()中。

- A. 瑕不掩瑜 B. 臨淵羨魚 C. 司空見慣 D. 滿目瘡痍 E. 鸚鵡學舌 F. 鹿死誰手 G. 魚游釜中
H. 魯魚亥豕 I. 自出機杼 J. 得魚忘筌 K. 錐處囊中 L. 蕭規曹隨 M. 摩頂放踵 N. 跬步千里
O. 尺璧寸陰 P. 池魚之殃 Q. 防微杜漸

1. 政黨之間的惡鬥，往往使國家陷入()的險境——此公共議題，頗值深思。
2. 古代流傳下來的書籍由於傳抄之誤，()的情形很常見。
3. 他熱心公益，為協助遊民問題而()，在所不惜。
4. 他功成名就之後，竟然()，不知感恩圖報！
5. 颱風肆虐之後，縣境內()，亟待政府動員搶修。
6. 這家餐廳的主廚手藝精湛，常能()，推出新菜，難怪大受饕客歡迎。
7. 與其()，不如上課專心聽講，遇有不懂之處虛心請教師長，成績自會進步。
8. 他雖然脾氣暴躁了點，但()，大致上是個思慮正向、積極有為的青年。
9. 公司制度已很完備，你到任後只要()就可，不必作太多更動。
10. 讀書之道：首先要培養獨立思考的能力，只會拾人牙慧或()是行不通的。

肆. 將下列文言文寫成白話文：7% (第1題4分 第2題3分)

1. 舜發於畎畝之中，傅說舉於版築之間，膠鬲舉於魚鹽之中，管夷吾舉於士，孫叔敖舉於海，百里奚舉於市。

答：

2. 人恆過，然後能改；困於心，衡於慮，而後作；徵於色，發於聲，而後喻。

答：

伍. 默寫：孟子「天將降大任……所不能。」4% *請審酌錯、漏、冗字給分。
答：

陸. 綜合測驗答案欄：每題 2 分 52%

1.	2.	3.	4.	5.	6.	7.	8.	9.	10
11	12	13	14	15	16	17	18	19	20
21	22	23	24	25	26				

陸. 綜合測驗：每題 2 分 52% (■請作答於上方答案欄 否則不予計分)

- 有關楚人養狙的分析，下列何者有誤？
 ①全文由故事和議論兩部分所組成 ②採用擬人法虛構了猴子反抗的故事
 ③議論部分指出統治者要有包容心 ④故事部分是以順敘法來發展情節
- 楚人養狙的故事最後：「狙公卒餒而死」的原因為何？
 ①眾狙怠惰，收集的食物不夠吃 ②遇饑荒之年，貯存的食物不足
 ③沒有眾狙可使喚幫忙收集食物 ④將多數食物分給了暴動的眾狙
- 有關楚人養狙課文文句的解讀，下列何者正確？
 ①「惟其昏而未覺也，一旦有開之，其術窮矣」：批評人民都執迷不悟
 ②「世有以術使民而無道揆者，其如狙公乎」：期盼統治者能還政於民
 ③「相攜而入于林中，不復歸」：表示狙公帶領眾狙回歸山林中
 ④「言未既，眾狙皆寤」：點出小狙引發眾狙醒悟，為全文轉折
- 下列古往今來的事例，何者符合楚人養狙所闡述的道理？
 ①敘利亞內戰持續多年，數百萬難民流離失所
 ②流亡海外的猶太人回到以色列終於復國
 ③埃及民眾發動民主革命，推翻獨裁統治者
 ④美國總統林肯因解放黑奴，引發南北戰爭
- 有關奶油鼻子的分析，下列何者正確？
 ①筆調隨性，段落結構不明顯 ②記敘在前，說理在後，可謂深入淺出
 ③先提出奶油鼻子「平易近人」的既有印象，文末再加以推翻
 ④深刻且細膩地描繪出人與海豚之間情感的流動
- 下列狀聲詞之使用，何組有錯誤？
 ①「琅琅」的讀書聲／「唧唧」蟲鳴 ②「隆隆」炮聲／「嗡嗡」蚊蚋聲
 ③泉水激石「玲玲」作響／「淙淙」流水聲 ④無邊落木「蕭蕭」下／「蕭蕭」班馬鳴
- 生於憂患死於安樂一文中，一開始舉了舜、傅說等六位古代賢人的出身為何是想說明何種道理？
 ①見賢思齊 ②生於憂患 ③天生我材必有用 ④書中自有黃金屋
- 文言文中常出現「其」字。以下出現在楚人養狙一文的「其」字，何者詞性與眾不同？
 ①「其」如狙公乎 ②惟「其」昏而未覺也
 ③「其」術窮矣 ④取「其」積
- 探究生於憂患死於安樂，為何上天欲將重責大任交付某個人，就要先「苦其心志，勞其筋骨，餓其體膚……」？
 ①先瞭解自己短處，才能發揮自己長處

- Ⓑ給他魚，不如給他釣竿 Ⓒ困苦的環境才能磨練心志、增加能力 Ⓓ天下沒有白吃的午餐
10. 下列哪一句課文是從反面角度論述「死於安樂」的情形？Ⓐ入則無法家拂士，出則無敵國外患者，國恆亡 Ⓑ徵於色，發於聲，而後喻 Ⓒ困於心，衡於慮，而後喻 Ⓓ人恆過，然後能改
11. 下列歷史人物事蹟中，何者符合生於憂患死於安樂一文所提「生於憂患，死於安樂」的道理？Ⓐ孟母擇鄰處 Ⓑ劉備三顧茅廬訪賢才 Ⓒ句踐臥薪嘗膽以復國 Ⓓ陶潛辭官耕讀
12. 「舜發於畎畝之中」「天將降大任於是人也」「苦其心志」「空乏其身」「動心忍性」——以上文句中的動詞是哪些？Ⓐ發、將降、苦、空乏、動、忍 Ⓑ發、降、苦、空乏、動、忍 Ⓒ發、降、苦、空、動、忍 Ⓓ發、將、苦、空乏、動
13. 下列有關傘季一文的說明，何者正確？Ⓐ採藉物抒情的寫作方式 Ⓑ以習見的雨為文章素材 Ⓒ旨在敘寫傘的實用價值 Ⓓ夾敘夾議而具客觀筆調
14. 下列成語，何者無「時間短暫」之意？Ⓐ海枯石爛 Ⓑ白駒過隙 Ⓒ彈指之間 Ⓓ流光瞬息
15. 下列成語，何者無「時間長久」之意？Ⓐ日不移晷 Ⓑ曠日持久 Ⓒ經年累月 Ⓓ億萬斯年
16. 傘季一文提到「三堂會審」，指的是公堂上主審、陪審共三人，故「三」屬於實數。請判斷下列何組成語中的數字，皆為實數？Ⓐ三姑六婆／三元及第 Ⓑ三顧茅廬／三令五申 Ⓒ文房四寶／烽煙四起 Ⓓ八面玲瓏／永字八法
17. 關於孟子其人，下列說明何者正確？Ⓐ其言行多記載於孟子一書 Ⓑ戰國時鄒人，主張「性惡說」 Ⓒ提出「民輕君貴」的思想 Ⓓ曾受業於孔子弟子曾參的門人
18. 關於論語和孟子的比較，何者有誤？Ⓐ二書皆為語錄體 Ⓑ二書皆為「四書」之一 Ⓒ二者皆主張國君須實施仁政 Ⓓ論語作者為孔子與再傳弟子，孟子作者為孟子及其弟子
19. 下列各句皆出自生於憂患死於安樂一文。各句中「」內的字何者經替換後，意思改變了？Ⓐ「曾」益其所不能：增 Ⓑ傳說舉於「版」築之間：阪 Ⓒ法家「拂」士：弼 Ⓓ「衡」於慮：橫
20. 關於生於憂患死於安樂一文的說明，何者不正確？Ⓐ列舉舜 傳說 膠鬲 管仲 孫叔敖 百里奚六人為實例 Ⓑ運用歸納法 Ⓒ採先舉例後論證的手法 Ⓓ內容主要以層遞及映襯修辭組成
21. 下列選項中的文句，何者為映襯修辭？Ⓐ苦其心志，勞其筋骨，餓其體膚，空乏其身 Ⓑ然後知生於憂患，而死於安樂也 Ⓒ徵於色，發於聲，而後喻 Ⓓ困於心，衡於慮，而後作
22. 「琴瑟琵琶，八大王一般頭面／魑魅魍魎，四小鬼各自肚腸」，這是使用「拆

合法」所作的對聯，其中「琴瑟琵琶」拆成「八大王」；「魑魅魍魎」包含「四小鬼」。以下哪副對聯也是使用拆合的技巧寫成？
Ⓐ 明日逢春好不晦氣／終年倒運少有餘財
Ⓑ 花開春富貴／竹報歲平安
Ⓒ 一明分日月／五岳總丘山

Ⓓ 人生易老／歲月難留

23. 關於「對聯」的說明，下列何項有誤？
Ⓐ 最早產生的對聯是春聯，而春聯源於古代過年懸掛桃符的習俗
Ⓑ 所謂桃符，即是在兩塊桃木上書寫「神荼」「鬱壘」之名或繪上二人畫像，掛於左右門以鎮邪
Ⓒ 一副對聯字數之多寡、句子之長短皆有嚴格規定
Ⓓ 貼對聯時，人面對著門，右邊貼上聯(仄聲收尾)，左邊貼下聯(平聲收尾)
24. 下列對聯與處所之配對，何者有錯？
Ⓐ 英雄三國無雙士／正氣千秋第一人：關帝廟
Ⓑ 大塊文章百城富有／名山事業千古永留：日月潭風景區
Ⓒ 瓦壺水沸邀清客／茗碗香騰遣睡魔：茶坊
Ⓓ 好大膽，敢來求我／快回頭，莫再害人：城隍廟
25. 下列各句中的「通同字」，何者敘述有誤？
Ⓐ 舉「箸」提筆：通「筴」
Ⓑ 民安所「錯」其手足：通「措」「厝」
Ⓒ 「凭」欄而坐：通「憑」
Ⓓ 眾狙皆「寤」：通「惡」，討厭
26. 關於基本國學常識之敘述，下列何者有誤？
Ⓐ 「永字八法」依序是：側 勒 努 趯 策 掠 啄 磔
Ⓑ 「六書」是學者把漢字的構成和使用方式歸納為六種類型
Ⓒ 王羲之有「書聖」美譽，其蘭亭集序有「天下第一行書」之稱
Ⓓ 西漢許慎編纂的說文解字為中國現存最早的字典

澎湖縣文光國民中學 108 學年度第一學期第二次月考 九年級英文 題目卷

班級：

座號：

姓名：

一、聽力測驗：每題 2 分，共 10 分。

(一) 聽 CD，選出符合句意的選項。

1. _____

- (A) My neighbor took away my bike.
- (B) The owner of the bike is my neighbor.
- (C) My neighbor found my bike.

2. _____

- (A) I didn't know what to say when I understood what happened.
- (B) I couldn't say a word because I got a fever.
- (C) I didn't want to say anything because I was tired.

3. _____

- (A) Cathy asked Bob to make a new cap for her.
- (B) Cathy wants to know whether Bob has a cap.
- (C) Cathy doesn't know if her cap has been found.

(二) 言談理解：每題均有三個選項，請依據所聽到的對話與問題，選出一個最適當的答案

4. _____

- (A) She doesn't like using social media.
- (B) She thinks it's more convenient for her.
- (C) Nobody can set up a bank account for her.

5. _____

- (A) She wanted to keep bad luck away.
- (B) She helped to clean up the house.
- (C) She celebrated the Chinese New Year with her family.

二、字彙填充：每題 2 分，共 20 分。

1. Henry bought a scary m_____ k_____ for the Halloween party.
2. Facebook can be a c_____ t_____ tool if you use it wisely.
3. I don't c_____ y_____ a handbag (手提包). I just put money in my pocket.
4. You need to f_____ s_____ on your schoolwork.
5. You can link (連結) your Instagram and Facebook a_____ ts_____ to share posts directly (直接) from Instagram to Facebook.
6. She got full m_____ ks_____ on all the tests because of her hard work.
7. A boy is lying on that b_____ h_____ in the park. Is he all right?
8. My dog was m_____ g_____ for seven hours. Then someone found it at an MRT station.
9. To make this cake, we need 175 g_____ ms_____ of flour, five spoonfuls(湯匙的量) of sugar, and two eggs.
10. Don't use tissues (面紙) to clean your g_____ ses_____. These can scratch (刮) the lenses (鏡片).

三、完成對話：每題2分，共10分。

- A. Mom: Anna, come and have some watermelon. 1
Anna: Thanks, Mom. I love watermelon. Wait! 2 How come it's not red or yellow.
Mom: That's because it's a special kind of watermelon. In Chinese, we call it chia-pao kua.
It only grows in Penghu.
- B. Beck: I want to buy some local specialties for my friends. What do you recommend(推薦)?
Tammy: If you want to buy some snacks, we have brown sugar cake, salted crackers, and peanut cake. 3 It is soft and sweet. And...
Beck: That's it! 4 My friends love sweets so much. And what're these? Noodles?
Tammy: Yes, these are Penghu handmade noodles. 5
Beck: Oh! I know. I have tried handmade noodles with squids once. It's yummy. I would take three boxes of brown sugar cake and two bags of handmade noodles.

- (A) Brown sugar cake is a famous snack.
(B) The inside of it is orange in color.
(C) The noodles can be cooked with fresh fish or gourds.
(D) This is the one I need.
(E) This is your slice.

四、文法與字彙選擇：每題2分，共30分。

- Our school was _____ twenty years ago.
(A) build (B) built (C) building (D) been built
- I don't know _____. I'm speechless.
(A) what to say (B) what can I say (C) to say what (D) can say what
- Each of my friends likes the movie, _____ John. He thinks it's boring.
(A) besides (B) below (C) except (D) what's more
- The awarding ceremony (頒獎典禮) was _____ on Nov. 12th.
(A) hold (B) holding (C) held (D) be held
- The boy is _____ shy to sing in public.
(A) so (B) such (C) to (D) too
- Where is the movie theater?
It's _____ the fourth floor of the department store.
(A) above (B) between (C) in (D) on
- Fish are _____ from eggs.
(A) bear (B) bore (C) born (D) burn
- Matt wants to know _____ the store is open or not.
(A) where (B) whether (C) when (D) why
- Please tell me when _____.
(A) can leave (B) can I leave (C) I can leave (D) did I leave
- The picture _____ on the wall since twenty years ago.
(A) have hung (B) has hung (C) have been hung (D) has been hung

11. Emma was _____ excited that she couldn't sleep.
(A) so (B) such (C) to (D) too
12. I forgot where _____.
(A) to my key (B) my key (C) was my key (D) my key was
13. A Japanese tatami is a 90 cm by 180 cm _____.
(A) sidewalk (B) mat (C) railway (D) envelope
14. The typhoon has _____ down all the trees on the road.
(A) burned (B) reached (C) knocked (D) marked
15. We have to wear life _____ before rowing boats on the river.
(A) vest (B) cap (C) bow tie (D) ring

五、 依提示造句：每題 2 分，共 20 分。

1. Kelly hasn't fed the dogs. (改寫成被動句)
2. Albert has no idea who he should ask for help. (用 wh 不定詞改寫句子)
3. The jacket is too small for Jon to wear. (用 so...that...改寫句子)
4. What are you burning? (再句首加上 Can you tell me 改寫句子)
5. Will it bring me good luck?
I'm not sure. (用 if 合併句子)
6. The lion is kept in the cage. (加入 must 改寫句子)
7. 我不知道你在說什麼。(中翻英)
8. 你的眼睛下面有黑眼圈，而且你的嘴唇很蒼白。(中翻英)
9. If you love art, go to a vocational high school. (英翻中)
10. Once they noticed their beepers going off, they would go and find a phone to call the number back.
(英翻中)

六、 閱讀測驗：每題 2 分，共 10 分。

A. Let's find out some interesting facts about good and bad luck. The following list shows what people do and don't do for luck.

Bad Luck	Good Luck
1. Walking under a ladder	1. Knocking on wood
2. Breaking a mirror	2. Crossing fingers
3. Opening an umbrella inside the house	3. Finding a four-leaf clover
4. Putting new shoes on a table	4. Seeing a peacock
5. Getting a number 13	5. Picking up a penny

ladder 梯子 mirror 鏡子 cross 交叉 four-leaf clover 四葉草 peacock 孔雀 penny 一分硬幣

- () 1. What is the list about?
- (A) Collecting stories about good luck.
 - (B) Some interesting facts about numbers.
 - (C) The ways to make friends with lucky people.
 - (D) Common superstitions about good and bad luck.

第三頁結束，尚有試題。

() 2. Which is a symbol of bad luck?

- (A) The number 13.
- (B) A piece of wood.
- (C) A four-leaf clover.
- (D) An old pair of shoes.

B. Have you ever suffered from insomnia? Busy days and exciting nights have made it a common problem for many people nowadays. Here are some useful tips for getting a good night's rest :

1. Don't exercise too much before going to bed. It may make you too excited to sleep.
2. Listen to some light music, like the sounds of nature. It can relax not only your body but also your mind.
3. Don't bring your work to bed. A relaxing sleeping environment helps you fall asleep faster.
4. Before going to bed, don't use your computer or cellphone for too long. The light from the screens will keep you awake when you really need to sleep.
5. Relax your body and muscles by taking deep breaths. That can help you get rid of any stress.
6. Have some warm milk or take a warm bath for less than 30 minutes.

If these tips don't work for you, find someone to talk to. Friends and family are sometimes the best cure.

☞ suffer from 罹患 nowadays 現今 tip 提示 relax 放鬆 environment 環境 muscle 肌肉 deep breath 深呼吸 stress 壓力 cure 療方

() 3. Who is suffering from "insomnia"?

- (A) Steven. He can't move his hands or legs.
- (B) Doris. Her life is boring and not exciting.
- (C) Cindy. She needs to use computers for long hours.
- (D) Kevin. He's not able to sleep, and he's really tired.

() 4. According to the reading, who is going to sleep well tonight? ☞ according to 根據

- (A) Jill is in bed and listening to a CD of birds singing.
- (B) Frank used his cellphone on the sofa until very late.
- (C) Simon is listening to rock music in the living room. ☞ rock 搖滾的
- (D) Emily exercised hard for three hours before going to bed.

() 5. What is the best title for this reading? ☞ title 標題

- (A) *Tips for Sleeping Better*
- (B) *Children's Problems Nowadays*
- (C) *With a Little Help from Your Friends*
- (D) *The Importance of Using Cellphones* ☞ importance 重要性

澎湖縣文光國民中學 108 學年度第一學期第二次月考 九年級英文 答案卷

答案卷請交回

班級：

座號：

姓名：

一、聽力測驗：每題 2 分，共 10 分。

1.	2.	3.	4.	5.
----	----	----	----	----

二、字彙填充：每題 2 分，共 20 分。

1.	2.	3.	4.	5.
6.	7.	8.	9.	10.

三、完成對話：每題 2 分，共 10 分。

1.	2.	3.	4.	5.
----	----	----	----	----

四、文法與字彙選擇：每題 2 分，共 30 分。

1.	2.	3.	4.	5.	6.	7.	8.	9.	10.
11.	12.	13.	14.	15.					

五、依提示造句：每題 2 分，共 20 分。

1.
2.
3.
4.
5.
6.
7.
8.
9.
10.

六、閱讀測驗：每題 2 分，共 10 分。

1.	2.	3.	4.	5.
----	----	----	----	----

澎湖縣立文光國民中學 108 學年度第 1 學期第 2 次成績評量 9 年級數學科試卷

班級：

姓名：

座號：

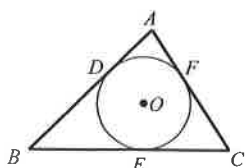
讀卡 答案卷

一、 單選題(每題 4 分，共 40 分)

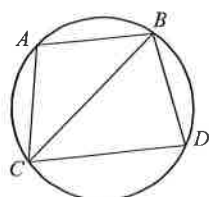
- () 1. 下列敘述何者正確？ (A)弦心距越長，弦越短 (B)弦心距越長，弦越長 (C)弦心距一定等於半徑 (D)弦心距與弦無關
- () 2. 下列關於兩圓位置與公切線的敘述，何者錯誤？(A)兩圓外切，有兩條外公切線(B)兩圓內切，有一條內公切線(C)兩圓外離，共有四條公切線(D)兩圓內離，沒有任何公切線
- () 3. 已知圓 O 的半徑為 10， P 為圓 O 內部一點。若 $OP=8$ ，則下列哪一項敘述是錯誤的？ (A)過 P 點的弦中，最長的弦長為 18 (B)過 P 點的弦中，最短的弦長為 12 (C)設 Q 為圓 O 上任一點，則 PQ 長最短為 2 (D)設 Q 為圓 O 上任一點，則 PQ 長最長為 18
- () 4. 兩圓的關係為下列何者時，公切線數最多？(A)內切 (B)相交於兩點 (C)外切 (D)外離
- () 5. 已知圓 O 的直徑為 10，若 \overline{AB} 為其上的一弦，且其弦心距為 3，則 $\overline{AB} = ?$
(A)8 (B)4 (C)5 (D) $\sqrt{55}$
- () 6. 半徑為 8 公分的圓 O ，其圓心到三弦 \overline{AB} 、 \overline{CD} 、 \overline{EF} 的弦心距分別是 2 公分、3 公分、4 公分，則這三弦中哪一條弦最短？ (A) \overline{AB} (B) \overline{CD} (C) \overline{EF} (D)一樣長
- () 7. 平面上，圓 O 的直徑是 20，直線 L 、 T 、 M 、 N 與圓心的距離分別為 8、10、11、21，則下列何者是圓 O 的切線？ (A) L (B) T (C) M (D) N
- () 8. 平面上有兩圓，其半徑分別為 3 公分與 4 公分。若這兩圓的連心線長為 5 公分時，則此兩圓共有幾條公切線？ (A)0 (B)1 (C)2 (D)3
- () 9. 平面上兩圓外切，且連心線長為 21，則此兩圓之半徑 (R ， r) 可能是下列何者？
(A)(10，10) (B)(8，13) (C)(24，13) (D)(5，26)
- () 10. 在一平面上，已知圓 O 的半徑為 6， P 為圓 O 內部一點。設 $OP=t$ ，則 t 的範圍為何？ (A) $0 < t \leq 6$ (B) $0 \leq t \leq 6$ (C) $0 < t < 6$ (D) $0 \leq t < 6$

二、 填充題(每格 3 分，共 30 分)

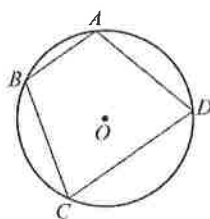
1. 如附圖一，圓 O 是 $\triangle ABC$ 的內切圓， $\overline{AD}=2$ ， $\overline{BE}=4$ 。若 $\triangle ABC$ 的周長為 20，則 $\overline{CF} = \underline{\hspace{2cm}}$ 。
2. 如附圖二， $\overline{AB} \parallel \overline{CD}$ ， $\overline{AB} = \overline{AC}$ 。若 $\angle ABC=35^\circ$ ，則 $\widehat{CD} = \underline{\hspace{2cm}}$ 度。
3. 如附圖三， \overline{AB} 、 \overline{CD} 是圓 O 的兩弦，且 $\overline{AB} \parallel \overline{CD}$ 。已知 $\widehat{BC}=90^\circ$ ， $\widehat{CD}=100^\circ$ ，則 $\angle C = \underline{\hspace{2cm}}$ 度。
4. 如附圖四， \overline{PA} 、 \overline{PB} 均與圓 O 相切， $\angle P$ 為直角， \overline{AB} 通過圓心 O ，且 $\overline{PA}=4$ 、 $\overline{PB}=6$ ，則圓 O 的半徑 = $\underline{\hspace{2cm}}$ 。
5. 如附圖五， $\widehat{AC}=80^\circ$ ， $\angle AED=130^\circ$ ，則 $\widehat{BD} = \underline{\hspace{2cm}}$ 度。



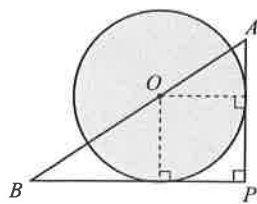
圖一



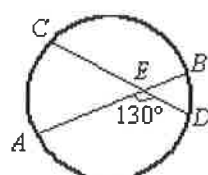
圖二



圖三



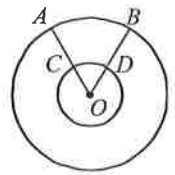
圖四



圖五

【第 1 頁結束 背面尚有試題】

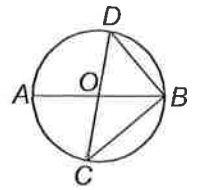
6. 如附圖六，兩同心圓的半徑分別為 5 及 12。若 \widehat{CD} 的長度為 $\frac{5}{3}\pi$ ，則 $\angle COD =$ _____



圖六

度， \widehat{AB} 的長度為 _____。

7. 如附圖七， \overline{AB} 、 \overline{CD} 為圓 O 的直徑。若 $\widehat{AC} = 80^\circ$ ，則：

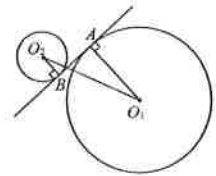


圖七

(1) $\angle ABC =$ _____ 度。(2) $\widehat{BD} =$ _____ 度。(3) $\angle ABD =$ _____ 度。

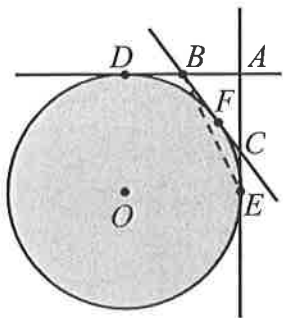
三、非選題(每題 5 分，共 30 分)

1. 如附圖，若圓 O_1 、圓 O_2 的半徑分別為 9 公分、3 公分，A、B 分別為內公切線切兩圓的切點，且 $\overline{AB} = 5$ 公分，則 $O_1 O_2$ 為多少？

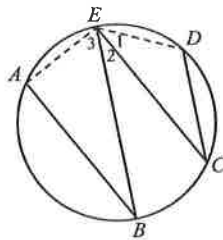


4. 已知大小兩圓的面積比為 16:9，當兩圓內切時連心線段長是 7 公分，則兩圓外切時連心線段長為何？

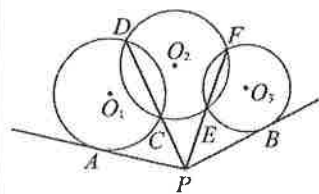
2. 如圖， $\triangle ABC$ 中， $\overline{AB} = 3$ 、 $\overline{AC} = 4$ 、 $\overline{BC} = 5$ 。若三直線 AB、AC、BC 分別與圓 O 切於 D、E、F 三點，則： $\overline{OA} = ?$



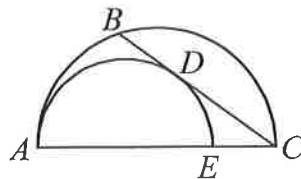
5. 如圖，A、B、C、D、E 為圓上五點，已知 $\overline{AB} \parallel \overline{CE}$ 、 $\overline{BE} \parallel \overline{CD}$ 。若 $\angle 1 = 20^\circ$ 、 $\angle 3 = 55^\circ$ ，則 $\angle 2$ 的度數為何？



3. 如圖， \overline{PA} 、 \overline{PB} 為圓 O_1 、圓 O_2 上的切線，A、B 為切點， $\overline{PA} = 12$ ， $\overline{PC} = 8$ ， $\overline{PE} = 9$ ，求 $\overline{CD} + \overline{EF} + \overline{PB} = ?$



6. 如圖， \overline{AE} 、 \overline{AC} 分別為兩半圓的直徑， \overline{BC} 切小半圓於 D 點。已知 $\widehat{AB} : \widehat{BC} = 2 : 3$ ，則 $\widehat{AD} : \widehat{DE} = ?$



澎湖縣立文光國中108學年度第一學期第二次段考自然科試題
《答案需填入答案卷》

9年 ___班 座號：___ 姓名：_____

一、選擇題：每題2分 共80分

1	2	3	4	5	6	7	8	9	10
11	12	13	14	15	16	17	18	19	20
21	22	23	24	25	26	27	28	29	30
31	32	33	34	35	36	37	38	39	40

二、填充題：每格2分 共20分

1	2	3	4	5
6	7	8	9	10

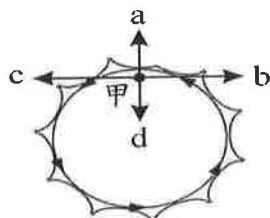
澎湖縣立文光國中108學年度第一學期第二次段考自然科試題

《答案需填入答案卷》


9年 ___ 班 座號：___ 姓名：_____

一、選擇題：每題2分 共80分

- () 有關人與地球間的萬有引力，下列敘述何者錯誤？ (A)人的體重即是地球對人的萬有引力大小 (B)人吸引地球的引力小於地球吸引人的引力 (C)人在赤道的重量小於人在南北極的重量 (D)越接近地表，人的體重越重。
- () 有關做等速率圓周運動的物體，下列敘述何者正確？ (A)此物體的運動是等速度運動 (B)向心力與物體速度方向平行 (C)此物體做等加速度運動 (D)若此物體為繞地球運轉的衛星，則向心力由其與地球間的萬有引力提供。
- () 附圖為沾有兩滴的雨傘旋轉的情形，當雨傘逆時鐘旋轉速度太快時，甲處的兩滴會沿哪個方向飛出？(A)a (B)b (C)c (D)d。

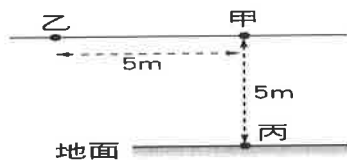


- () 光滑水平面上，以 10 牛頓的力分別作用於甲、乙兩靜止物體，已知質量甲 > 乙，則 2 秒內力對物體所作的功何者較大？ (A)甲 (B)乙 (C)相等 (D)無法判定。
- () 某人施 5N 的力推動 2kgw 的物體，在一粗糙水平面上等速前進了 10 公尺，再沿同路線將物體等速推回，則此人共作功多少焦耳？ (A)0 (B)50 (C)100 (D)392。
- () 一 80 公斤的行李箱在光滑水平面上受外力的合力作用，以 2 公尺 / 秒等速度前進 10 公尺。則合力對行李箱作功多少焦耳？ (A)0 (B)80 (C)800 (D)8000。
- () 如圖所示，花輪將一物體以 10N 的力量沿著光滑斜面由底部推到最頂端，則花輪對物體所作的功為多少焦耳？

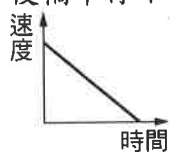


(A)0 (B)50 焦耳 (C)120 焦耳 (D)130 焦耳。

- () 甲~丙三處的位置如附圖所示，若將一質量為 10 公斤的物體由地面丙處抬高至 5m 高的甲處，再將物體由甲處移至乙處，則重力所作的功分別為多少焦耳？ (A)-490; 490 (B)-490; 0 (C)490; 490 (D)0; -490。(g=9.8m/s²)



- () 有一輛質量為 2000 公斤的轎車，以 10m/s 的速度行駛，突然遇到緊急狀況而煞車，5 秒後轎車停下。附圖為其速度與時間的關係圖，請問下列敘述何者是錯誤的？



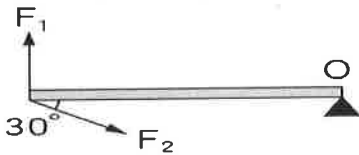
- (A)轎車的煞車過程為等速度運動 (B)轎車的動能在煞車期間會逐漸減少 (C)轎車最後的速度為 0 (D)轎車減少的動能為 100000 焦耳。
- () 下雨時，自空中等速度下降的雨滴，有關其能量變化的敘述，下列何者正確？ (A)重力位能漸減，動能漸增 (B)重力位能漸增，動能漸減 (C)重力位能漸減，動能漸減 (D)重力位能漸減，動能不變。

【背面尚有試題】

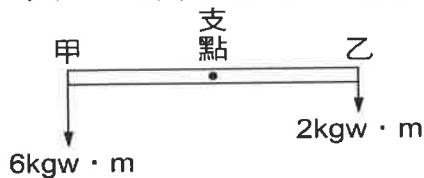
11. () 滑板比賽都會在一個標準高度的滑板臺上進行，如圖所示。若一名選手從甲點下滑，經過乙點再滑到丙點，能量在這三點的轉換應該為何？(不計任何阻力)



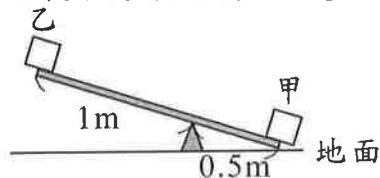
- (A) 動能→位能→動能 (B) 位能→動能→位能 (C) 動能不斷增加 (D) 位能不斷增加。
12. () A、B 兩球，質量比 $M_A : M_B = 3 : 1$ ，同時自 10 公尺高樓自由落下，當球即將著地時，下列何者正確？(不計空氣阻力) (A) 動能比為 3 : 1 (B) 時間比為 3 : 1 (C) 速度比為 3 : 1 (D) 加速度比為 3 : 1。
13. () 電能轉換成光能和熱能可用來照明，在整個過程中，下列哪一項定律是成立的？(A) 能量守恆 (B) 力學能守恆 (C) 動能守恆 (D) 重力位能守恆。
14. () 槓桿平衡時，支點兩側的物理量，下列何者必相等？(A) 力矩大小 (B) 質量 (C) 所受重力 (D) 力臂。
15. () 一個物體受到數個力的作用而發生轉動，但沒有移動的現象，這是何種原因所造成？(A) 合力與合力矩皆為零 (B) 合力為零，但合力矩不為零 (C) 合力不為零，但合力矩為零 (D) 合力與合力矩皆不為零。
16. () 附圖為兩力 F_1 、 F_2 對 O 點產生的力矩方向，下列何者正確？(A) F_1 為逆時鐘， F_2 為順時鐘 (B) F_1 為順時鐘， F_2 為逆時鐘 (C) F_1 、 F_2 均為逆時鐘 (D) F_1 、 F_2 均為順時鐘。



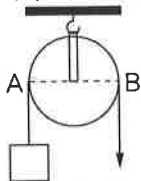
17. () 如圖所示，對支點而言，甲產生 $6\text{kgw}\cdot\text{m}$ 逆時鐘方向的力矩，乙產生 $2\text{kgw}\cdot\text{m}$ 順時鐘方向的力矩。則甲、乙兩力所產生的合力矩為何？



- (A) $4\text{kgw}\cdot\text{m}$ 逆時鐘 (B) $4\text{kgw}\cdot\text{m}$ 順時鐘 (C) $10\text{kgw}\cdot\text{m}$ 逆時鐘 (D) $10\text{kgw}\cdot\text{m}$ 順時鐘。
18. () 如附圖所示，蹺蹺板呈靜止狀態。已知甲物重 40kgw ，乙物重 10kgw ，板重不計，則地面給板子支撐力是多少 kgw ？(A) 10 (B) 20 (C) 30 (D) 40。



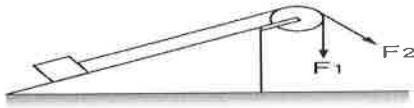
19. () 掃地用的掃把，其槓桿原理的利用為何？(A) 省時省力 (B) 費時費力 (C) 省時費力 (D) 省力費時。
20. () 若於附圖的 A 點處掛一個 150kgw 的物體，則需於 B 點處向下施力多少 kgw 才可達平衡？(摩擦力忽略不計) (A) 50 (B) 75 (C) 100 (D) 150。



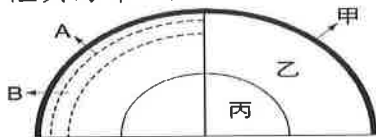
21. () 若使用某輪軸可以 25 公斤的力舉起 100 公斤的重物，則輪軸半徑比為何？(A) 4 : 1 (B) 1 : 4 (C) 16 : 1 (D) 1 : 16。
22. () 一般常見的無障礙坡道是屬於何種形式的機械？(A) 滑輪 (B) 槓桿 (C) 斜面 (D) 輪軸。

【背面尚有試題】

23. () 如圖所示，若將光滑斜面上的物體分別以 F_1 、 F_2 的力將物體等速提升，則此兩種狀態下的施力大小關係為何？ (A) $F_1 > F_2$ (B) $F_1 < F_2$ (C) $F_1 = F_2$ (D) 無法判斷。



24. () 螺絲起子和螺絲這兩樣工具，各是何種簡單機械的應用？ (A) 螺絲起子為輪軸、螺絲為螺旋 (B) 螺絲起子為螺旋、螺絲為輪軸 (C) 螺絲起子和螺絲皆為輪軸 (D) 螺絲起子和螺絲皆為螺旋。
25. () 太陽能、石油、煤、天然氣、核能、風、水、地熱、潮汐；以上有幾種屬於非再生能源？ (A) 2種 (B) 3種 (C) 4種 (D) 5種。
26. () 在煤、石油與天然氣這三項非再生能源形成的過程與特性中，共通的部分為何者？ (A) 形成的年代幾乎同一時期 (B) 皆由物理變化形成 (C) 皆必須經過高溫高壓作用，緩慢形成 (D) 皆為同一種狀態的有機化合物。
27. () 目前臺灣地區的核能電廠用來發電的能量，來自於下列何者？ (A) 原子核的電子轉移 (B) 原子核與電子的撞擊反應 (C) 原子核的分裂反應 (D) 原子核的融合反應。
28. () 下列何者在產生電力的過程中，成本較低且安全，但產生的廢物容易造成酸雨的污染？ (A) 火力發電 (B) 水力發電 (C) 核能發電 (D) 風力發電。
29. () 天然氣在氧氣充足的條件下，完全燃燒後的產物應為下列何者？ (A) 一氧化碳 (B) 甲烷 (C) 二氧化硫 (D) 二氧化碳和水。
30. () 火力發電是臺灣相當倚重的發電方式，請問下列何者不能作為火力發電的燃料來源？ (A) 煤 (B) 石油 (C) 天然氣 (D) 鈾-235。
31. () 利用附圖的地球內部分層，下列關於各層組成的描述，何者為非？ (A) 甲的主要成分為氧、矽 (B) 丙為鐵、鎳等金屬構成 (C) A層分裂成大小不等的板塊 (D) B層包含大陸與海洋地殼。



32. () 下列何者不是歐亞板塊的範圍？ (A) 中央山脈 (B) 八卦山 (C) 嘉南平原 (D) 臺東外海。
33. () 每個板塊移動的方向和速度並不相同，而彼此產生相對運動，造成此現象的原因為何？ (A) 每個板塊的面積大小不同 (B) 地球內部熱對流系統不只有一處 (C) 各板塊上方的大氣壓力不同 (D) 各板塊上岩石風化的程度不一。
34. () 下列有關中洋脊和海溝處的地球內部熱對流運動方向，何者正確？

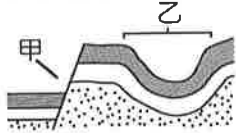
選項	中洋脊	海溝
(A)	熱對流上升	熱對流下降
(B)	熱對流下降	熱對流上升
(C)	熱對流上升	熱對流上升
(D)	熱對流下降	熱對流下降

35. () 魯夫知道斷層分類為正斷層、逆斷層和平移斷層三種類型，請問他分類的主要依據為何？ (A) 斷層處的岩石種類 (B) 斷層兩側岩石的相對錯動方向 (C) 斷層面的傾斜角度 (D) 地函熱對流的流動方向。
36. () 如圖所示，圖中地層呈現彎曲的地質構造，下列敘述何者正確？ (A) 此地質構造稱為斷層 (B) 未發生地殼變動前，此處岩層的排列方式就是彎曲的 (C) 此區域岩層的可塑性較小 (D) 此地層曾受擠壓力量的作用。



【背面尚有試題】

37. () 當逆斷層發生時，最可能發生下列何種現象？ (A)在斷層附近形成峽谷 (B)上盤段河流改向 (C)在上盤附近，積水成湖 (D)在斷層附近形成瀑布或落差大的河床段。
38. () 如圖為地層剖面分析圖，圖中甲、乙兩處為何種地質構造？ (A)甲為正斷層、乙為向斜 (B)甲為正斷層、乙為背斜 (C)甲為逆斷層、乙為向斜 (D)甲為逆斷層、乙為背斜。



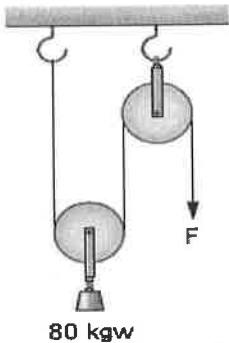
39. () 甲岩層中有恐龍化石；乙岩層中有三葉蟲化石；丙岩層中沒有化石。則甲乙丙三岩層形成的先後順序，不可能為下列何者？ (A)甲→乙→丙 (B)乙→甲→丙 (C)乙→丙→甲 (D)丙→乙→甲。
40. () 臺灣主要的變質岩區集中在下列何處？ (A)中央山脈 (B)大屯火山群 (C)海岸山脈 (D)林口臺地。

二、填充題：每格2分 共20分

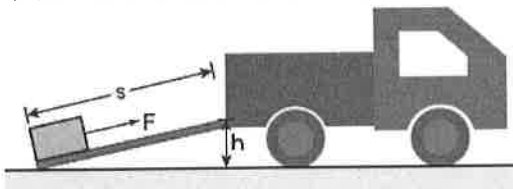
1. 小華上課遲到了，背著 10 公斤重的書包在 10 秒內，沿著樓梯衝上 12 公尺高的教室。假設小華的體重為 40 公斤重，且重力加速度為 10 公尺 / 秒²，則小華作功的功率為多少瓦特？

1

2. 岩層中的褶皺，是由於岩層受 2 的作用力造成。(填擠壓或張裂)
3. 臺灣島是 3 板塊和 4 板塊互相推擠隆起而形成。
4. 將一顆 2 公斤的球，拋高 3 公尺，若重力加速度為 10 公尺 / 秒²，則球拋高 3 公尺所增加的重力位能為多少？ 5 (須加單位)
5. 利用一滑輪組，在動滑輪下放置一個 80 公斤重的物體(滑輪重及各處摩擦力均不計)，如圖所示。則：



- (1) 若欲將該物體舉起，F 至少需施力多少？ 6。(須加單位)
- (2) 若欲使重物上升 40 公分，則施力處需拉下多少長度的繩子？ 7。(須加單位)



6. 一搬運工人利用斜面把重物搬運到貨車上，如上圖所示，汽車車廂底板高度 h 為 2 公尺，斜面長度 S 為 5 公尺，若工人施力 F 為 1200 牛頓，沿斜面方向把 2000 牛頓的重物等速推動到車上，則：物體所受的摩擦力大小為多少？ 8。(須加單位)
7. 兩個板塊迎面互相推擠時，形成 9 板塊交界。如果交界處一邊是大陸地殼，另一邊是海洋地殼，則會在交界處的海底形成 10。

【試題結束、九年級、自然科】

澎湖縣立文光國民中學 108 學年度第 1 學期 第 2 次成績評量 9 年級公民科試卷

班級：_____ 姓名：_____ 座號：_____ ■ 讀卡 □ 答案卷

一、單一選擇題（十五題，每題 2 分，共 30 分）

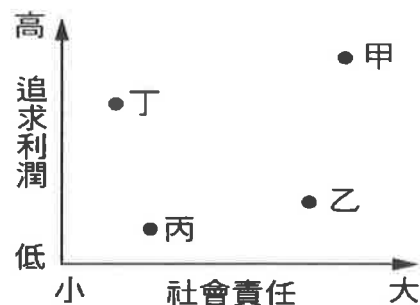
- () 1. 臺灣近幾年來由於產業結構的變化與轉型，造成了部分民眾失業。而縣市政府也成立了職業訓練中心，提供各項職業訓練。職業訓練的最主要作用為何？
 (A)提升求職者的就業意願 (B)幫助求職者培養工作能力 (C)提高失業者的鬥志
 (D)靠關係幫失業者安插職位
- () 2. 勞動部勞動保險司指出，勞工因雇主遷廠而選擇自行離職，不論雇主是否已提供必要協助，仍屬「非自願離職」，勞工在失業期間可依「法」申請失業給付。上述的「法」是指哪部法律？
 (A)《性別工作平等法》 (B)《民法》 (C)《勞動基準法》 (D)《就業保險法》
- () 3. 對國中生而言，下列何者不是目前應盡的本分？
 (A)上課專心，用心學習課業 (B)課餘在家，幫忙分擔家務
 (C)愛惜家庭資源，充實自己的能力 (D)休學去打工，賺錢以補貼家用
- () 4. 右表是首政這個月的收支表。依據資料判斷，他這個月的儲蓄是多少？
 (A)10,000 元 (B)20,000 元 (C)30,000 元 (D)40,000 元
- | 項目 | 費用(元) |
|--------|--------|
| 薪水收入 | 40,000 |
| 存定期存款 | 10,000 |
| 生活開銷 | 20,000 |
| 捐慈善機構 | 5,000 |
| 給爸媽孝親費 | 5,000 |
- () 5. 馨楓在美元、歐元等貨幣貶值時，大量買進，待日後升值再賣出，賺取價差。馨楓最有可能使用哪種投資工具進行理財？
 (A)股票 (B)債券 (C)外幣 (D)房地產
- () 6. 現在有許多科技公司都提供免費的員工餐廳，視為體恤員工福利的一環，成為人人稱許的「責任企業」。科技公司的作法最符合企業倫理的哪種內涵？
 (A)重視消費者權益 (B)保障員工權益 (C)重視環境保護 (D)從事社會公益
- () 7. 奇美企業創辦人許文龍先生為了深扎南臺灣的文化藝術推廣，蓋了「奇美博物館」，提供民眾參觀。這樣的行為是企業倫理中哪種內涵的具體表現？
 (A)重視消費者權益 (B)保障員工權益 (C)重視環境保護 (D)從事社會公益
- () 8. 少博投資的公司依法可向民眾招募資金，出資的股東則依投資額分享利潤並承擔虧損風險，但公司資產不足以承擔虧損時，股東無須以私人財產來支付債務。上述少博投資的公司應是屬於哪種經營型態？
 (A)獨資企業 (B)跨國公司 (C)合夥企業 (D)股份有限公司
- () 9. 絲琳上臺報告說：「這種合作方式的優點是籌資能力較強；但缺點是容易因意見不合而拆夥。」絲琳報告的是哪一種企業經營型態？
 (A)合夥企業 (B)股份有限公司 (C)無限公司 (D)獨資企業
- () 10. 獨資是最原始、最簡單的廠商組織型態，屬於個人企業，是由一人出資的企業，並負責經營的成敗。下列何者最可能是獨資的廠商型態？
 (A)視寶股份有限公司 (B)斗六醫院 (C)家銀小吃店 (D)高雄農產運銷合作社

【第 1 頁結束—背面尚有試題】

- () 11. 右表是臺雞店公司老闆在檢討會報時所公佈的 2017 年新措施，該老闆此舉最可能會導致下列何種結果？
 (A) 企業的支出減少而獲利更高
 (B) 經營成本太大被迫裁員
 (C) 別間公司的員工大量跳槽到本公司，造成員工太多
 (D) 員工對公司的向心力更強

項目	2017 年臺雞店公司行政措施
甲	員工子女可以免費就讀公司附設安親班
乙	設置員工績效獎金制度
丙	員工於上班時間可以健身一小時
丁	公司固定拿出 20% 盈餘分紅

- () 12. 追求利潤是企業經營的目標，但亦須顧及社會責任。右圖是社會責任與追求利潤間的關係圖，圖中甲、乙、丙、丁哪個位置，最能代表企業與社會的共榮發展？
 (A) 甲 (B) 乙 (C) 丙 (D) 丁



- () 13. 許多大學生除了用功讀書爭取獎學金外，還利用課餘時間到超商、加油站打工，有些甚至還會在晚上兼差當家教，想辦法增加收入。這些大學生所做的經濟規畫，是著重哪一項理財觀念？
 (A) 分配 (B) 節流 (C) 開源 (D) 消費
- () 14. 為保障自己及家人的幸福，在從事理財時，必須注意到風險分散的原則。下列哪一句話可用來說明風險分散的意義？
 (A) 天下沒有白吃的午餐 (B) 不要把雞蛋放在同一籃子中 (C) 塞翁失馬焉知非福 (D) 魚與熊掌不能兼得
- () 15. 世杰打算拿出 30 萬元進行投資，他希望「較快獲利、短期操作」。下表是宇恆針對世傑日前投資環境所作的評估，根據內容判斷，下列哪一種工具最符合他的理財需求？

理財工具	安全性	獲利性	說明
黃金存摺	★★★	☆☆☆	根據國際金價之變動而變動
股票期貨	★	☆☆☆☆	短期致富，風險高
共同基金	★★	☆☆	大小金額皆可
定期存款	★★★★	☆	可選擇長短期合約

- (A) 定期存款 (B) 共同基金 (C) 黃金存摺 (D) 股票期貨

二、題組：(五題，每題 1 分，共 5 分)

就業與失業都需具備工作的意願、能力與找工作的行動等條件，如果能夠順利獲得雇用，稱為就業；反之則為失業。判斷下列各項敘述，若為

就業狀態，請填(A)；失業狀態，請填(B)；既非失業也非就業，則填(C)。

- () 16. 在銀行擔任副理的祐霆。
 () 17. 大學畢業正四處投遞履歷的晴倫。
 () 18. 一心想要打工賺錢的國中八年級學生。
 () 19. 獨資經營早餐店的鏗凌。
 () 20. 剛辭職想要轉換跑道，但仍無新工作的玉虹。

【第 2 頁結束—背面尚有試題】

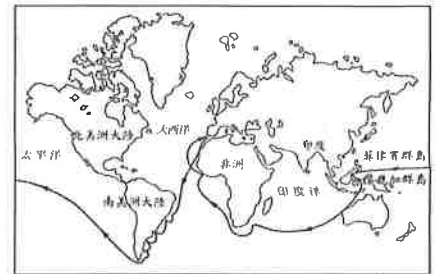
澎湖縣立文光國民中學 108 學年度第 1 學期第 2 次成績評量 9 年級歷史科試卷

班級： 姓名： 座號： 讀卡 答案卷

一、 單選題(21~30 題，每題 1.5 分；31~35 題，每題 2 分，共 25 分)

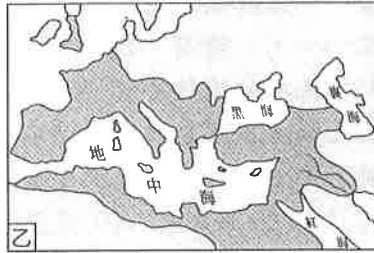
- () 21. 與文化交流有關的戰爭如下：(甲)十字軍東征 (乙)亞歷山大東征 (丙)恒羅斯之役(丁)蒙古西征，依時間順序排列為何？(A)乙丙甲丁 (B)乙甲丙丁 (C)丙乙甲丁 (D)丙甲乙丁。
- () 22. 「令人悲傷的瘟疫蔓延了整個海岸區，從南漢普敦到布里斯托，這裡，受到突然來臨死亡的襲擊，城鎮的全部力量幾乎消耗殆盡……由於缺乏收割工人，農作物多腐爛田間；但在瘟疫盛行的一年，穀物如此豐收，竟無人去割收……。」請問：這一段資料是形容下列哪一件史實？
(A)基督教的第一次分裂 (B)黑死病的流行 (C)蒙古西征的影響 (D)十字軍東征的展開。
- () 23. 「西元 989 年，俄羅斯的基輔大公弗拉基米爾將與『安娜公主』聯姻，大公不僅自己接受希臘正教信仰，也強迫俄國人跳下河受洗。」上述的『安娜公主』可能是哪一帝國的公主？
(A)波斯帝國(B)查理曼帝國(C)神聖羅馬帝國 (D)東羅馬帝國。
- () 24. 中世紀後期有一種人擁有財富，地位介於農民與貴族之間，關於此階級的民眾之敘述何者錯誤？
(A)由於商業復甦、城市擴張而形成的新階級 (B)為「市民階級」，包括商人、銀行業者等
(C)為古典文化復興的重要支持者(D)重視財富的追求，對文化藝術不感興趣
- () 25. 右圖是小可對自己所信仰宗教的介紹。請問：小可信仰的是哪個宗教？
(A)佛教 (B)基督教 (C)印度教 (D)伊斯蘭教。
- () 26. 母語教學是現代教育中普遍被接受的觀念。在西方歷史上，哪一個階段開始使用母語從事寫作？ (A)希臘化時代 (B)中世紀時期 (C)文藝復興時代 (D)羅馬帝國時期。
- () 27. 右圖是中世紀後期歐洲的某個歷史事件，從圖中的航線可以看出這與下列哪個歷史事件有關？(A)麥哲倫繞行世界(B)馬可波羅東來 (C)達伽馬繞行非洲南端 (D)哥倫布發現新大陸。
- () 28. 中世紀西歐社會中，作戰的主力是下列何者？(A)騎士(B)武士 (C)農奴 (D)市民階級。
- () 29. 中國西周時代與中世紀西歐均出現封建制度，但兩者性質有相當的不同，下列敘述何者正確？(A)中國西周的封建制度是建立在土地與契約的關係上(B)中世紀西歐的領主與附庸之間必定存在著血緣關係 (C)中國的西周與中世紀的西歐都只有貴族才能擁有土地 (D)中世紀西歐的封建制度特別強調嫡長子的繼承
- () 30. 「西印度群島中的聖多明各，是歐洲人最早取得的殖民地之一。當地原住民在十五世紀末時原有 40 多萬人，但到了十六世紀末卻差不多絕跡了。」上述情形最有可能是何種因素所造成？ (A)歐洲人的殘害和傳染病的傳入 (B)當地環境衛生不良，疾病叢生 (C)當地內戰頻仍，傷亡慘重 (D)當地天災嚴重，糧食缺乏。
- () 31. 紫媧閱讀一本書籍，書中介紹說：「法國偏遠地區一個小村落的少女貞德，帶領法軍對抗英軍，但她後來被俘，以女巫罪名而遭處死。」請問，從書中敘述的內容來看，這應是哪一件史事？
(A)十字軍東征 (B)宗教戰爭(C)英法百年戰爭 (D)查理曼帝國的擴張
- () 32. 郁庭在圖書館中找到一張照片(如右圖)，於是開始蒐集有關這張圖片的資料。下列哪一項資料不符合史實？(A)文藝復興時期的作品 (B)強調以人為主要的情感表現 (C)作者是米開朗基羅 (D)以宗教人物為題材。
- () 33. 西方歷史上一些民族武功強盛、四處征伐，致力於版圖的擴張。下列為曾橫跨歐、亞、非三洲的大帝國，請依出現時間先後順序排列？
(甲)亞歷山大帝國 (乙)波斯帝國 (丙)阿拉伯帝國 (丁)羅馬帝國 (戊)鄂圖曼土耳其帝國
(A)甲乙丁戊丙 (B)乙甲丁丙戊 (C)丙乙甲丁戊 (D)丁甲丙乙戊。

我所信仰的宗教對近代的商業制度有極大的貢獻，除了將印度數字系統改良之外，還發明了支票和股份公司的商業概念。



【第 1 頁結束 後面尚有試題】

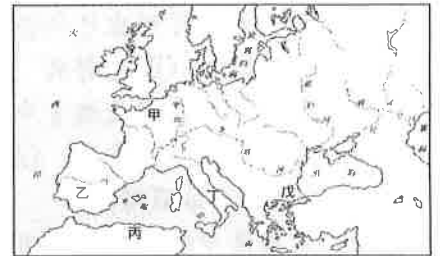
- ()34. 中世紀時，查理曼與鄂圖一世兩位君主，分別於西元 800 年與 962 年被教宗加冕為「羅馬人的皇帝」，留下各國君主登基時由教宗行加冕禮的傳統，這代表何種意義？(A)政教合一，皇帝主導教會事務 (B)世俗君主的權力遠高於教宗 (C)歐洲地區均承認教宗為太陽神的化身 (D)中世紀西歐基督教信仰居於主導力量。
- ()35. 下列三圖均是歷史上疆域跨三洲的大帝國，若依出現的時間先後排列應該為何？(A)甲丙乙(B)乙甲丙(C)丙乙甲(D)甲丙乙。



二、題組(每題 2 分，共 10 分)

1. 請根據附圖，回答下列問題：

- ()36. 哪一個國家保存豐富的希臘古典文獻，對後來西歐文藝復興的發生有推波助瀾之效？(A)乙國 (B)丙國 (C)丁國 (D)戊國。
- ()37. 日耳曼民族建立的國家中，哪一國實力最強，其君主查理曼於八世紀末時建立龐大的帝國？(A)甲國(B)乙國(C)丙國(D)丁國。
- ()38. 中世紀時期統治今日伊比利半島的「乙」，是下列哪一個國家？(A)東哥德王國(B)西哥德王國(C)法蘭克王國(D)汪達爾王國。



2. 十一世紀時，教宗發表一則演說：「你們所居住的土地……由於你們人數太多，已經顯得狹窄了……現在，你們的憎恨可以停止了，你們不必互相仇視了……你們登上參拜聖墓的征途吧！把聖地從邪惡的民族手裡奪回來。」
- ()39. 文中「邪惡的民族」是指下列哪個民族？(A)蒙古人 (B)阿拉伯人 (C)塞爾柱土耳其人 (D)鄂圖曼土耳其人
- ()40. 文中所提的「聖地」只是哪一個城市？(A)巴格達 (B)羅馬 (C)麥地那 (D)耶路撒冷。


【試題結束—文光九年級、歷史科】

澎湖縣立文光國民中學 108 學年度第 1 學期 第 2 次成績評量 9 年級地理科試卷

班級：_____ 姓名：_____ 座號：_____ ■ 讀卡 □ 答案卷

一、單一選擇題（十題，每題 2 分，共 20 分）

- () 41. 「該國的銀行一直被認為是全球最令人信賴的銀行，世界上約有四分之一的個人財富存放在這裡，各國政要、商界鉅子和演藝明星對存款放在該國感到安心，這造就了該國聞名於世的金融業。鐘錶生產也是該國著名的產業，Swatch 及勞力士手錶，都出於此。」上述這個國家是指何者？ (A)英國 (B)瑞士 (C)法國 (D)德國
- () 42. 下列哪二項因素最可能造成西歐境內水氣豐沛、溫和溼潤的氣候特色？
(A)西風吹拂、北太平洋暖流流經 (B)東北信風吹拂、北太平洋暖流流經
(C)西風吹拂、北大西洋暖流流經 (D)東北信風吹拂、北大西洋暖流流經
- () 43. 瑞萱到歐洲某個城市旅遊，在這個城市內可以喝到香醇的紅酒，買到最流行的服飾及包包，高級的化妝品與香水，而且有「花都」之稱。上文所描述的是哪個城市？
(A)阿姆斯特丹 (B)倫敦 (C)維也納 (D)巴黎
- () 44. 義焮利用「音樂之都」及「維也納」等字樣，搜尋期中報告的相關資訊。由此判斷，義焮要報告的主題是哪個國家？
(A)奧地利 (B)英國 (C)比利時 (D)荷蘭
- () 45. 在歐洲某國中，其 1/4 的土地低於地平面，自古以來就有「低地國」之稱。此段敘述是在形容下列哪個國家？
(A)荷蘭 (B)英國 (C)法國 (D)德國
- () 46. 西歐河流流量穩定，水運發達，其中又以哪條河流的航運最盛？
(A)多瑙河 (B)塞納河 (C)萊茵河 (D)羅亞爾河
- () 47. 俄羅斯除了少數地方有工業區的開發之外，大部分是人煙稀少的景象。造成上述現象的主要原因為何？(A)火山活動頻繁 (B)氣候寒冷 (C)天災不斷 (D)地表崎嶇
- () 48. 右圖為某地區的漫畫示意圖，該地區為下列何者？
(A)歐俄平原 (B)中亞盆地 (C)印度半島
(D)北美大平原
- () 49. 東歐各國環境互異，經濟發展自有差別。其中煤、鐵藏量豐富，以工礦業為經濟基礎，首都為布拉格的是哪個國家？ (A)羅馬尼亞 (B)匈牙利 (C)捷克
(D)斯洛伐克
- () 50. 多瑙河的長度比萊茵河長，流經的國家數也比萊茵河多，但是多瑙河的航運價值卻遠低於萊茵河，主要原因是下列何者？
(A)多瑙河的汙染嚴重 (B)多瑙河的水位變化太大
(C)多瑙河注入黑海 (D)多瑙河的坡度變化大

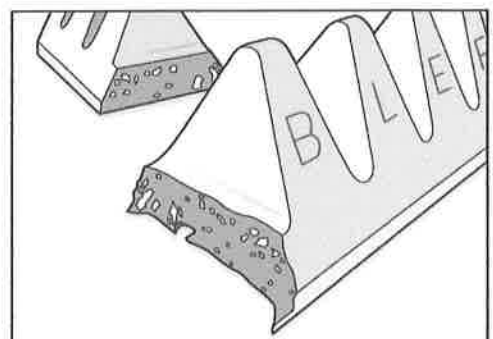


二、題組：（十題，每題 1 分，共 10 分）

- (一) 右圖是西歐某國家的巧克力品牌，巧克力外型是以當地阿爾卑斯山為靈感設計而成。請問：

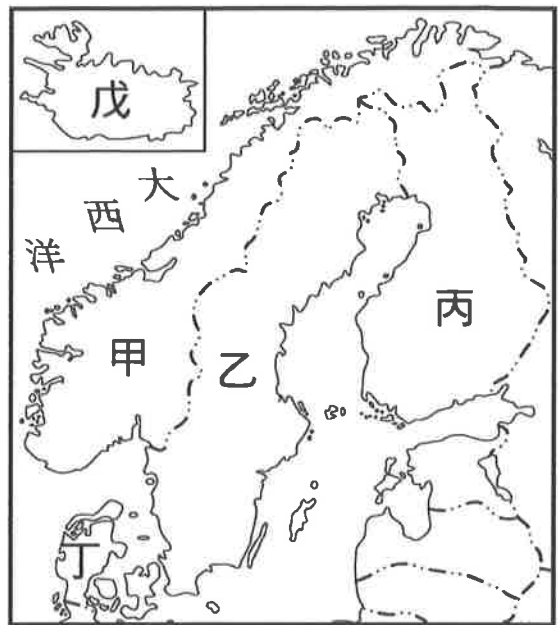
- () 51. 此巧克力品牌可能來自哪個西歐國家？
(A)挪威 (B)瑞士 (C)捷克 (D)希臘
- () 52. 此山峰外型的形成，主要是受到下列哪種地形營力的影響？ (A)冰河侵蝕 (B)板塊擠壓
(C)火山噴發 (D)風力侵蝕

【第 5 頁結束—背面尚有試題】



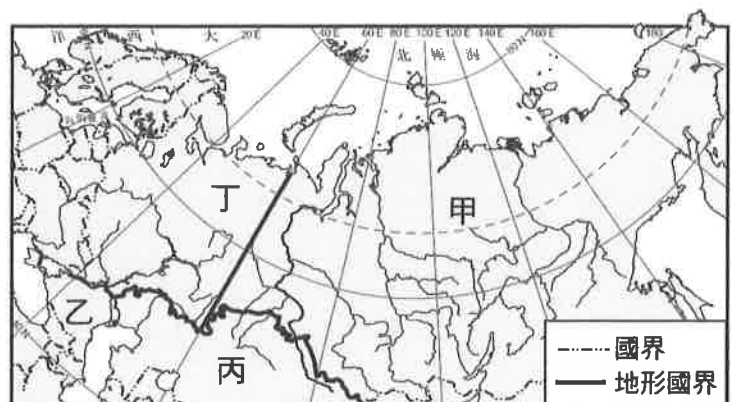
(二) 近年來，走訪北歐的人數與日俱增。到了北歐，可以參觀安徒生的童話王國、享受滑雪的樂趣、遊覽壯麗的峽灣景色等，豐富的自然與人文資源，使得北歐成為旅遊勝地。請問：

- () 53. 哪個國家有「千湖國」之稱，世界知名手機大廠 NOKIA 的發跡地也是這個國家？
 (A) 甲 (B) 乙 (C) 丙 (D) 丁
- () 54. 哪個國家藏有豐富的鐵礦和森林，著名的宜家家居 (IKEA) 來自於此國？
 (A) 甲 (B) 乙 (C) 丙 (D) 丁
- () 55. 北歐的冰河地形隨處可見，該種地形和海岸對經濟活動的發展，最具有直接關係的是哪個國家的產業？
 (A) 甲的海運業 (B) 乙的工礦業
 (C) 丁的畜牧業 (D) 戊的漁業
- () 56. 哪個國家交通便利，有「北歐十字路口」、「歐洲牧場」之稱？
 (A) 甲 (B) 乙 (C) 丙 (D) 丁
- () 57. 關於戊的說明，下列何者正確？
 (A) 利用地熱、溫室栽種蔬果、花卉 (B) 位於南極圈內，可看到午夜的陽光
 (C) 地勢平坦，畜牧業發達 (D) 為北歐人口最多的國家



(三) 西伯利亞位於亞洲北部，面積約 1310 萬平方公里，比中國的面積還大。蒙古語稱為「沉睡大地」。廣大的地表，覆蓋著無邊的森林，冬季一片銀白雪景，夏天綠草如茵，一望無際。請問：

- () 58. 西伯利亞目前屬於哪個國家的領土？ (A) 波蘭 (B) 烏克蘭
 (C) 俄羅斯 (D) 蒙古
- () 59. 「廣大的地表，覆蓋著無邊的森林。」這裡的森林是指下列何者？ (A) 闊葉林 (B) 混合林
 (C) 針葉林 (D) 苔原
- () 60. 西伯利亞位於右圖中的哪個地區？ (A) 甲 (B) 乙
 (C) 丙 (D) 丁



【試題結束—文光九年級、社會科】

