

澎湖縣文立光國民中學 108 學年度第 1 學期第 3 次成績評量 8 年級 國文科試卷

班級：_____ 座號：_____ 姓名：_____

一、單選題：50%（每題 2 分，共 25 題）

- 有關蘇軾的介紹，請問下列何者是正確的？
(A)號東坡居士，是南宋著名的文學家 (B)是文學史上「三蘇」之大家長 (C)名列「唐、宋古文八大家」之一 (D)詩、畫俱精，後人譽為「詩中有畫，畫中有詩」。
- 「月色入戶，欣然起行」一句中，「月色入戶」便是導致作者「欣然起行」的原因，這種句型稱為「因果句」。下列何句不是這種用法？ (A)宅邊有五柳樹，因以為號焉 (B)劍外忽傳收蘄北，初聞涕淚滿衣裳 (C)橫看成嶺側成峰，遠近高低各不同 (D)喪事完畢，父親要到南方謀事，我也要回北京念書，我們便同行。
- 關於「庭下如積水空明，水中藻荇交橫」這句話的解釋，下列何者正確？
(A)庭中的積水映照出皎潔的月色，水中還有交錯的藻荇 (B)庭院裡的月光有如積水那樣澄澈清明，水中似有藻荇交錯縱橫 (C)庭院中種滿了竹柏，竹柏斑雜，倒映在水裡面，像月亮一樣清澈 (D)庭下的積水，如月光一般皎潔，與水草相互輝映。
- 下列是句型的分類，何者的答案是正確的？ (A)庭下如積水空明，蓋竹柏影也——敘事句 (B)何夜無月——有無句 (C)欣然起行——表態句 (D)相與步於中庭——判斷句。
- 月亮題材在中國的詩詞中是很常見的，如記承天夜遊的蘇軾也是因為月光皎潔而興起夜遊的念頭。請問下列各詩句中，何者與「月色入戶」的「月亮型態」相近？
(A)今夜明珠色，當隨滿月開 (B)初月如弓未上弦，分明掛在碧霄邊 (C)嗟爾殘月勿相疑，同光共影須臾期 (D)曆星臨夜燭，眉月隱輕紗。
- 「但少閑人如吾兩人耳！」句中隱含了蘇軾何種感慨？
(A)感嘆自己虛度年華，一事無成 (B)世人庸庸碌碌，缺少閑情逸致 (C)世上無所事事，尸位素餐的人眾多 (D)慶幸自己能忙裡偷閑，乘興出遊。
- 下列的句子，何者敘述的內容是指蘇軾？
(A)心似已灰之木，身如不繫之舟，問汝平生功業，黃州、惠州、儋州 (B)車子已開出成都路／猶聞浣花草堂的吟哦不絕／再過去是白帝城／是兩岸的猿嘯／從巴峽而巫峽／心事如急流的水勢／一半在江上／另一半已到了洛陽 (C)剛正不阿，留得正氣凌霄漢；幽而發憤，著成信史照塵寰 (D)高視兩三州，何論二分月色；曠觀八百載，難忘六一風流。
- 蘇軾在記承天夜遊中自稱「閑人」，一方面指自己有閑情逸致，一方面暗指自己是有名無實的閑官。這種「詞義雙關」的用法，和下列何者相同？
(A)總為浮雲能蔽日，長安不見使人愁 (B)禮、義、廉、恥，國之四維；四維不張，國乃滅亡 (C)我的怒中有燧人氏，淚中有大禹 (D)海內存知己，天涯若比鄰。
- 【甲】摩頂放「踵」：後腳跟 【乙】圓「顛」方趾：胸膛 【丙】三折「肱」而成良醫：胳膊 【丁】連「袂」而來：袖子 【戊】趨之若「鶩」：貓頭鷹 【己】棄若敝「屣」：稻穀 【庚】懸梁刺「股」：大腿 【辛】破「釜」沉舟：斧頭。上列是古今用語的辨別，請問下列何組是對的？ (A)【甲】【乙】【戊】【己】 (B)【甲】【丙】【丁】【庚】 (C)【乙】【丁】【戊】【己】【庚】 (D)【丙】【戊】【己】【庚】【辛】。
- 下列關於史記的說明，何者是錯誤的？
(A)對後世的史學、文學發展有著深遠的影響 (B)書中所記述的人物，身分皆為帝王將相 (C)記載從黃帝到漢武帝年間的歷史 (D)它是中國第一部以紀傳體寫成的史書。
- 身為司法人員應秉持大公無私的精神。你認為在張釋之執法一文中，哪一段話最能代表此種精神？ (A)法者，天子所與天下公共也。今法如此而更重之，是法不信於民也 (B)令他馬，固不敗傷我乎？而廷尉乃當之罰金 (C)廷尉，天下之平也，一傾而天下用法皆為輕重，民安所錯其手足 (D)且方其時，上使立誅之則已。

【第 1 頁結束 背面尚有試題】

12. 「廷尉當是也」的「當」與下列哪一句之「當」詞性相同？ (A)廷尉奏「當」 (B)一人犯蹕，「當」罰金 (C)而廷尉乃「當」之罰金 (D)「當」之無愧。
13. 史記分五類：「本紀」包括帝王世系及國家大事；「表」以譜列歷史大事件；「書」對經濟、文化及典章制度專門論述；「世家」記諸侯國興衰存亡及影響較大的人物；「列傳」專記歷史上的重要人物。由此判斷下列哪一段史事，可以在史記的「列傳」部分查到？
(A)劉邦赴鴻門宴 (B)秦始皇修築萬里長城 (C)孔子興學 (D)荊軻刺秦王。
14. 梁啟超先生說：「雖有良法，不得人而用之，亦屬無效。」意指左右法律公平性的關鍵在何？
(A)制法者考慮周延 (B)人民知法、守法 (C)執法人依法辦案 (D)媒體公正報導。
15. (甲)於是使騎捕，屬「之」廷尉 (乙)而廷尉乃當「之」罰金 (丙)且方其時，上使立誅「之」則已 (丁)廷尉，天下「之」平也 (戊)今法如此而更重「之」，是法不信於民。以上各句中的「之」字，指「人」的有幾項？ (A)一項 (B)二項 (C)三項 (D)四項。
16. 文光國中為了推行「法治教育」，特舉辦名人名言配對活動，本次主題是關於公平執法者的重要性，下列哪句名言與張釋之的作為，最為相近？ (A)自由不是無限制的自由，自由是一種能做法律許可的任何事的權力 (孟德斯鳩) (B)真正高明的人，就是能夠借重別人的智慧，來使自己不受矇蔽的人 (蘇格拉底) (C)用道德的示範來造就一個人，顯然比用法律約束他更有價值 (希臘諺語) (D)一切背離了公平的知識都應叫做狡詐，而不應稱為智慧 (柏拉圖)。
17. 下列各句「」中的字義，何者與其他三者不同？
(A)於是「使」騎捕，屬之廷尉 (B)「若」不隨時多注意，予以糾正 (C)「設」非你相救，我命休矣 (D)「令」他馬，固不敗傷我乎。
18. 「肉粽→燒肉粽→土窯雞→土窯雞→高級的A衛生紙→好吃的黑豬肉水餃→緊來買→燒酒螺→燒酒螺→芋頭冰→芋頭冰→正港的草湖芋頭冰……。」下列有關這段叫賣聲內容的敘述何者正確？ (A)一共八項商品 (B)這是草湖特有的小販叫賣聲 (C)「正港」是芋頭冰的品牌名聲 (D)所賣的芋頭冰是草湖出產。
19. 陳黎的聲音鐘告訴我們：聲音鐘所構築的是「心性、心情的時間」，而並非物理的時間。下列生活中常聽見的聲音，哪一種聲音不符合此特性？
(A)夜讀時，巷口那頭傳來一聲聲低沉沙啞的「燒——肉粽，燒——肉粽，燒喔！」 (B)小瑛最喜歡家中壁上的卡通掛鐘，每到了整點時分，便會跑出一隻皮卡丘「皮卡，皮卡，皮卡丘」地向大家報時 (C)曉華聽到窗外不客氣傳來的「豆奶喔，煎包喔，飯糰喔」叫賣聲，才想起原來自己忘了吃早餐 (D)當小美還在夢境中時，突然媽媽不耐煩的一聲大吼：「太陽都晒屁股啦！還不快起床準備上學！」把他嚇得趕緊跳下了床。
20. 某國中師生欣賞維也納合唱團的演唱後，引用陳黎的話：「這簡直是人間天籟，具體而微地把整個民族、整塊土地的生命濃縮進一句呼喊。」請問他們的心情最貼近下列何者？
(A)嘈嘈切切錯雜彈，大珠小珠落玉盤 (B)淚溼羅衣脂粉滿，四疊陽關，唱到千千遍 (C)此中有真意，欲辯已忘言 (D)此曲只應天上有，人間哪得幾回聞。
21. 由外國語言演變而來的詞語，我們稱為「外來語」。下列何組詞語是源於日本的「外來語」？
(A)阿奇毛/蚵仔 (B)拷貝/引擎 (C)的士/紅不讓 (D)便當/運將。
22. 即將擔任主管的阿葉，就職前父親遞給他一張紙條：「做人要有如『聲音鐘』——充滿有情世界的趣味，聲調鮮活又有變化。」根據內容，父親是要提醒阿葉什麼道理？
(A)行事一板一眼，不苟且隨便 (B)馬到成功，光宗耀祖 (C)處事要圓融，有彈性 (D)廣結善緣，樂於助人。
23. 輔導老師為了輔導幾位剛失戀的同學，說了一個故事「一個失戀的人在公園哭泣，這時一位哲學家走來，輕聲的問他說：『你怎麼啦？為何如此傷心？』失戀的人回答說：『我好難過。為何他要離我而去？』哲學家說：『傻瓜！這根本不必難過啊，真正該難過的是他——因為你只是失去了一個不愛你的人，而他卻失去了一個愛他的人。』」以下是同學聽完故事後所寫下的回饋，請問哪一位同學的回答與老師所要傳達的觀點相去最遠？

(A)小雅：逃避問題，無濟於事 (B)小妮：塞翁失馬，焉知非福 (C)小文：人常常只看見自己失去的東西 (D)小瑩：換個角度想，將有不同的體悟。

24.「象徵」是以具體的意象表達抽象的觀念與情感，如以「酸橘子」象徵「青少年的感情是青澀的」即是一例。下列哪一項未運用象徵？

(A)綠樹村邊合，青山郭外斜 (B)舊時王謝堂前燕，飛入尋常百姓家 (C)夕陽無限好，只是近黃昏 (D)胡馬依北風，越鳥巢南枝。

25.酸橘子一文的作者葉涵，對年輕人的讀書和談戀愛有什麼看法？

(A)譴責年輕人因戀愛而荒廢課業，是種不可原諒的行為 (B)指出年輕人須珍惜年少時光，讀書之餘也應學習戀愛 (C)希冀年輕人認真讀書，從書中學習愛人的正確方式(D)認為年輕人應有足夠的學識，才能獲得最圓滿的愛情。

二、閱讀題組：10%(每題1分，共10題)

(A) 三月七日沙湖道中遇雨，雨具先去，同行皆狼狽，余獨不覺，已而遂晴，故作此。

莫聽穿林打葉聲，何妨吟嘯且徐行，竹杖芒鞋輕勝馬，誰怕？一蓑煙雨任平生。料峭春風吹酒醒，微冷！山頭斜照卻相迎，回首向來蕭瑟處，歸去！也無風雨也無晴。(定風波 蘇軾)

(1)本文旨在描繪何種狀況？ (A)雨淋後酒醒的狼狽 (B)迷路山林的無措 (C)歸途遇雨的情況 (D)好友結伴共遊的情景。

(2)文中的穿林打葉聲是指什麼？ (A)風聲 (B)雨聲 (C)鳥鳴 (D)蟲鳴。

(3)下列何句最能顯示不被環境所苦的意味？

(A)莫聽穿林打葉聲，何妨吟嘯且徐行 (B)料峭春風吹酒醒，微冷！ (C)山頭斜照卻相迎 (D)竹杖芒鞋輕勝馬，誰怕？一蓑煙雨任平生。

(B) 齊景公時有一人犯罪，景公怒，令支解之。語曰：「敢諫者誅。」晏子左手持其頭，右手執刀，仰問景公曰：「自古聖主名王，支解人從何而始？」景公遽捨之。(獨異志 李亢)

(4)由上文可知，晏子是一位什麼樣的人？

(A)阿諛奉承 (B)神鬼莫測 (C)聰明機智 (D)工於心計。

(5)下列敘述何者正確？ (A)古之聖主未有支解人犯之事 (B)景公因不知古之聖主支解的步驟而改變了心意 (C)晏子取下了犯人的頭 (D)景公最後還是支解了罪人。

(C) 目前勞基法所規範的「假」都是讓勞工休息，以維持勞動力及平衡家庭生活為目的，而「颱風假」並不屬於受勞基法保障的假期。縣市政府根據天然災害停止上班及上課作業辦法宣布之停班停課，效力僅限於「政府各級機關及公、私立學校」，在法律上民間企業並無遵守的必要。由於許多公司仍然會按照政府公告決定是否正常上班，才會產生有「颱風假」的錯覺。

基於安全勞動條件的考量，勞動部訂定的天然災害發生事業單位勞工出勤管理及工資給付要點規定，若在颱風天勞工不上班，老闆不得視為曠工、遲到或強迫勞工以事假或其他假別處理，且不得強迫勞工補行工作、扣發全勤獎金、解僱或為其他不利之處分。

由於颱風假不是勞基法所保障的假期，因此當勞工選擇不來上班，老闆也可以不發當天的工資。所以，「勞工可以不上班」，而「老闆不可以處罰」，但是可以不給錢；另外，也因為颱風假不是假，因此就算員工在颱風來時如同平日般正常上班，並不能要求加班費。

(6)身為鼎泰豐員工的小玟，正好遇到強烈颱風來襲，故小玟選擇不去上班，請問公司下列處置何者不違反勞基法？ (A)強制員工以病假處理 (B)視為遲到並記警告 (C)扣颱風假當日的薪水 (D)請員工下星期補上班。

(7)關於颱風假的相關敘述，下列何者正確？ (A)縣市政府宣布停班停課，效力及於縣市內所有公司 (B)若員工颱風假選擇不上班，雇主可以視狀況解僱 (C)勞基法內有明文規定颱風時勞工停止上班的標準 (D)颱風天，若勞工選擇來上班，依法無法領到加班費。

(D) 大風起兮雲飛揚，威加海內兮歸故鄉，安得猛士兮守四方。(大風歌 漢高祖)

(8)這首大風歌，是屬於哪一種性質的詩歌？ (A)氣勢宏偉的言志詩 (B)悲天憫人的憂國詩 (C)意境幽遠的寫景詩 (D)意興風發的記遊詩。

【第3頁結束 背面尚有試題】

- (9)就詩的內容釋義，下列何者錯誤？ (A)「大風起」，比喻秦末英雄四起 (B)「威加海內兮歸故鄉」，寫回到故鄉後賞罰分明的情形 (C)「雲飛揚」，比喻高祖不可一世的氣概 (D)「安得猛士兮守四方」，是興起守成之思。
- (E)【本報訊】以中山堂為圓心，在中華路以東，二二八和平紀念公園以西之間，隆記、正中書局、力霸百貨、明星咖啡館、黑松牛軋糖等等地點，曾經是臺北城內繁華與文人聚集的見證。現在，我們要您翻箱倒櫃找出那一年您在這些地點的情影，讓我們從您的寫真中，讀出難忘的臺北萬般風情。
- (10)如果要幫這段文字下標題，下列何者最不適合？
 (A)臺北城的故事 (B)未來·希望·臺北城 (C)尋找臺北城 (D)臺北城的記憶。

三、閱讀理解：5%(每題1分，共5題)

- 「在有智慧的人看來，並沒有所謂『不好』的事情。只要善加運用，人生的各種經歷都是成長的階梯。」此段話所表達意涵與下列何者最相近？
 (A)最豐滿的稻穗，最貼近地面 (B)己欲立而立人，己欲達而達人 (C)持續努力是開啓成功的鎖匙 (D)患難困苦是磨鍊人的最高學府。
- 蘇軾水調歌頭中有一句：「人有悲歡離合，月有陰晴圓缺，此事古難全。但願人長久，千里共嬋娟。」中「但願人長久，千里共嬋娟」這句話的意思是什麼？
 (A)期許每個人都可以長命百歲 (B)期許人和人之間的感情可以永久存在 (C)期許人和人不要常分隔千里 (D)期許相隔千里的朋友可以常見面。
- 「摘不到的星星，總是最閃亮的。溜掉的小魚，總是最美麗的。錯過的電影，總是最好看的。失去的情人，總是最懂我的。我始終不明白，這究竟是什麼道理？」(幾米摘星星)下列何者最接近上述引文的意思？
 (A)人往往不能記取教訓，總是在失敗中悔恨 (B)把握不了的人事物，永遠有最寬廣的想像空間 (C)喜歡挑三揀四，結果總與最好的擦身而過 (D)人總喜歡比較，永遠不能知足。
- 「愛玉子鮮果為長橢圓形，外表有白色斑點，長相可愛，主要產期在每年夏季的8~10月間。其種子加水搓洗可洗出果膠凝結成愛玉凍，高纖低脂，消暑解渴又有助於養顏美容，是味美可口的天然保健飲料，因此，愛玉是深受民眾喜愛的甜品之一」，看完上文，我們無法得知下列何訊息？ (A)外觀長相 (B)製作過程 (C)每年產量 (D)食用功效。
- 「夜市直至三更盡，才五更又復開張。如要鬧去處，通曉不絕。尋常四梢遠靜去處，夜市亦有胡餅、和菜餅、果木翹羹、灌腸、香糖果子之類。冬月雖大風雪陰雨，亦有夜市：葉子薑豉、抹臍、水晶臍、蛤蜊、螃蟹、胡桃、糍糕、團子、鹽豉湯之類。至三更方有提瓶賣茶者。蓋都人公私營幹，夜深方歸也。」(宋孟元老東京夢華錄)下列對於此文中「夜市」的說明何者正確？ (A)在每日夜晚十點時，夜市的攤商都已歇業 (B)當時夜市販賣的種類眾多，但全都為蔬食類 (C)此種夜市文化，可能是因居民夜歸而興起 (D)冬天時因為天氣寒冷有雨，夜市並不會營業。

四、字音、字形：15%(每題1分，共15題)

- 紳士名「媛」： 2. 「逮」捕： 3. 超「夯」： 4. 芋「粿」： 5. 酒「斫」： 6. 「翊」衛：
- 鬼影「幢」幢： 8. 詭「譎」： 9. 橘「臼」： 10. 範「彳」： 11. 乘「口」馬驚：
- 不著痕「一」： 13. 文字「ㄣ」： 14. 「ㄣ」室： 15. 「出」殺：

五、注釋：10%(1-4題各1分，5-7題各2分，共7題)

- 不知「凡」幾： 2. 「瑰」寶： 3. 「芳醇」： 4. 民「安所」錯其手足：
- 「陞」下： 6. 犯「蹕」： 7. 「廷尉」：

六、改錯：10%(每字1分，共4題)

- 為維持媽祖鑿架繞境期間交通的順暢與安全，警察局公布交通管治措施。…… ()
- 皎潔的月光流洩在悠靜的山林中，清澈的湖泊也汎著粼粼光芒，美得彷彿仙境。……()
- 司法人員因職責所在，所以要稟持毋往毋蹤的精神，來伸張社會正義。…… ()
- 這棵樹在凜冽的寒冬中仍顛放花朵，另人驚豔。…… ()

澎湖縣文立光國民中學 108 學年度第 1 學期第 3 次成績評量 8 年級 國文科答案卷

班級：_____ 座號：_____ 姓名：_____

一、單選題：50% (每題 2 分，共 25 題)

1.	2.	3.	4.	5.	6.	7.	8.	9.	10.
11.	12.	13.	14.	15.	16.	17.	18.	19.	20.
21.	22.	23.	24.	25.	請繼續作答				

二、閱讀題組：10% (每題 1 分，共 10 題)

1.	2.	3.	4.	5.	6.	7.	8.	9.	10.

三、閱讀理解：5% (每題 1 分，共 5 題)

1.	2.	3.	4.	5.

四、字音、字形：15% (每題 1 分，共 15 題)

1.	2.	3.	4.	5.	6.	7.	8.	9.	10.
11.	12.	13.	14.	15.	請耐心作答				

五、注釋：10% (1-4 題各 1 分，5-7 題各 2 分，共 7 題)

1.	2.
3.	4.
5.	
6.	
7.	

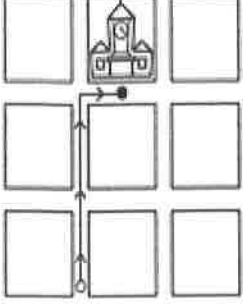



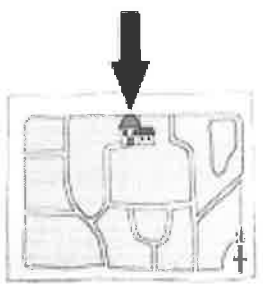
六、改錯：10% (每字 1 分，共 4 題)

1.	2.
3.	4.

請交答案卷即可

Class : Number : Name :

一：聽力測驗題；聽CD，若符合圖一或表格內容的選A，否則選B 10% (每題二分)

<p>1. (A) True (B) False</p> 	<p>2. (A) True (B) False</p> 	<p>3. (A) True (B) False</p> 	<p>4. (A) True (B) False</p> 	<p>5. (A) True (B) False</p> 
---	--	--	---	--

二：選擇題 40% (每題二分)

☺ There 1. two English tests in the near future, so I have to study now.

- Ⓐ are going Ⓑ is going to Ⓒ will have Ⓓ will be

☺ Gins is going grape picking next weekend, and her friend 2., too.

- Ⓐ won't Ⓑ will Ⓒ is Ⓓ isn't

3. Which month is between July and October ?

- Ⓐ April Ⓑ August Ⓒ November Ⓓ June

4. Which is a bad manner ?

- Ⓐ Stay away from trouble. Ⓑ Pick nose in front of others.
 Ⓒ Give friends a big hand. Ⓓ Don't talk back to teachers.

☺ **Cherry:** What time did you 5. ?

Sue: I got here at 7 p.m.

- Ⓐ leave Ⓑ arrive Ⓒ ask Ⓓ have

☺ **Bob:** Do you have snow in your winter?

May: 6. I don't like rainy days.

- Ⓐ Yes, it's hot and sunny. Ⓑ No, but we have lots of rain.
 Ⓒ No, we never have snow here. Ⓓ No, we stay inside the house.

☺ It was raining then. We didn't go on a picnic but had a barbecue 烤肉 7.

- Ⓐ anyway Ⓑ instead Ⓒ perhaps Ⓓ even

☺ Before you 8. the road, look both ways.

- Ⓐ across Ⓑ cross Ⓒ past Ⓓ turn

☺ Our first stop is Taichung 台中. It's 9. of Taiwan.

- Ⓐ in the middle Ⓑ in middle Ⓒ the middle Ⓓ middle

☺ Lisa: Achoo!

Pete: 10.

- Ⓐ Let's celebrate it. Ⓑ Bless you. Ⓒ It's very nice of you. Ⓓ No comment.

Emma works at the Museum of Natural History. 11., so it takes 花費 her more than an hour to get there by bus every day. If 如果 she's in a hurry, she will take the subway because it will get her there a little faster.

Today was one of those days. She got up late, so 12.. At first, everything was fine, and 13.. Suddenly, the train 14., and then the lights went out. After some time, the conductor 車掌 made an announcement 通知. They weren't moving because some workers accidentally 意外地 hit the power line 電力線. Then, he told everyone to get comfortable 舒適的 because they were going to be stuck 被困住 for a long time. When Emma heard that, she made up her mind. 下定決心. When she gets out, 15.. Then she can drive to work every day in the future.

C: 動詞詞性變化；請根據前後文作適當的變化；變化之後，答案可能不只一個字

- ☺ **Cathy:** Who (11.go) to the USA tomorrow?
Ben: Stella and her parents are.
- ☺ This year, January 25th (12.be) the Chinese New Year.
- ☺ **John:** Why not (13.eat) spaghetti?
Mary: No, the fact is I don't like it at all.
- ☺ When he (14.come) tomorrow, I will give him the gift.
- ☺ There (15.be) snow in some places, and some people like to go skiing.
- ☺ No (16.peek). 不准偷看
- ☺ My mom always has us (17.think) about things from a different angle.
- ☺ Use this app, or you (18.be) late for your date 約會.
- ☺ **Sue:** Let's go (19.bike), shall we 好嗎?
Patrick: Of course. I can't wait (20.ride) around this city heart.

四: 寫作練習；1-4 請根據提示作答，;5-10 為翻譯 20% (每句二分)

This is Samantha's diary 日記.

Jan. 17th, Wed.

rainy

It rains a lot in Taiwan in early spring. 5 請將此句翻譯成中文

I hate this kind of weather.

The winter vacation is coming. 6 請將此句翻譯成中文

After this holiday, I am going to take a trip to America with Kent this February.

我們可以騎 Citi Bike 去看看 Brooklyn 大橋。 7 請將此句翻譯成英文

我們要怎麼從旅館搭地鐵到 Times Square 啊? 8 請將此句翻譯成英文

I have to make sure first.

Google Maps 顯示我們可以直直走兩個街區到 7th Avenue 第七大道，然後再左轉。 9 請將此句翻譯成英文

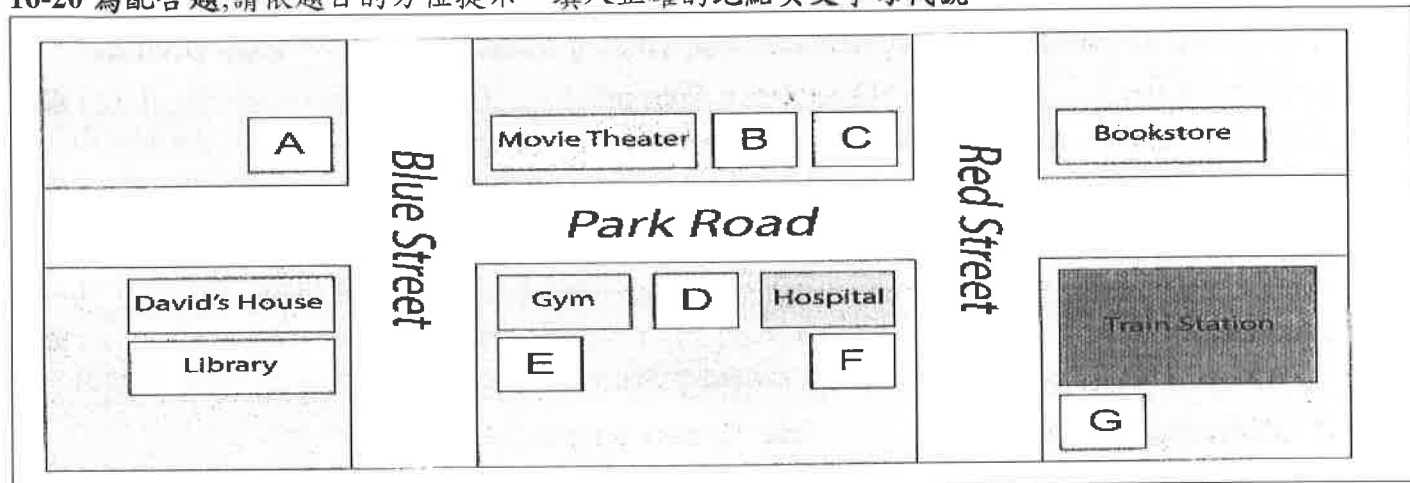
And it is on the corner of Broadway and 7th Avenue. 10 請將此句翻譯成中文

God...perhaps Kent will propose to 求婚 me. ☺☺☺☺☺

【試題結束—文光國中八年級英文】

11. (A) She enjoys walking (B) It is right next to her house
(C) She doesn't like working there (D) It is in the heart of the city
12. (A) she slowed down (B) she wanted to drive
(C) she had to take the subway (D) she took a cable car
13. (A) she was resting 休息 on her seat (B) she was worried about being early
(C) being late would get her into trouble (D) her feet hurt because she stood for long hours
14. (A) stopped (B) was stopping (C) stops (D) will stop
15. (A) she is moving away (B) she will buy a car
(C) she won't leave her job (D) she is going to stop running

16-20 為配合題;請依題目的方位提示,填入正確的地點英文字母代號



16. The park is on Park Road. It's next to the movie theater.
17. The cram school is also on Park Road, but it's not on the same side with the movie theater.
18. The coffee shop is across from David's house.
19. It's easy to find the supermarket. It's on Blue street, and it's beside the gym.
20. David is walking to the noodle restaurant from his house. He has to go along Park Road. After he turns right on Red Street, the restaurant is on his right.

三: 填充 30%(1-10 一題一分; 11-20 一題兩分)

A: 介係詞填充

- ☺ Lily: How do you go to the Met?
Alex: Definitely 絕對 we won't go 1. foot. Maybe we will go 2. a train.
- ☺ A word is enough 3. the wise. 對聰明的人, 只要一句話就夠了。
- ☺ For many people, winter is the season 4. enjoying hot spots 火鍋.
- ☺ Water Lilies 睡蓮 is one of Monet's successful paintings 5. sure.

B: 單字填充

- ☺ Paper, s-6-rs, stone. 剪刀石頭布。
- ☺ As a s-7-y, you have to help your boss with his schedule 行程.
- ☺ Ellen always wants a house with a big b-8-y, so she can grow many plants there.
- ☺ When walking along the Thames River, you can see many beautiful s-9-ts.
- ☺ Thanks to t-10-y, we can keep in touch with people easily.

【第2頁結束 尚有試題】

請交答案卷即可

Class : Number : Name :

一：聽力測驗題；聽 CD，若符合圖一或表格內容的選 A，否則選 B 10% (每題二分)

1.	2.	3.	4.	5.
----	----	----	----	----

二：選擇題 40% (每題二分)

1.	2.	3.	4.	5.	6.	7.	8.	9.	10.
11.	12.	13.	14.	15.	16.	17.	18.	19.	20.

三：填充題 30% ((1-10 一題一分;11-20 一題兩分))

1.	2.	3.	4.	5.
6.	7.	8.	9.	10.
11.	12.	13.	14.	15.
16.	17.	18.	19.	20.

四：寫作練習 20% (每題二分)

1. What do people in Australia call "typhoons?" (請依事實回答)
2. What's your English teacher like? (請依事實回答;不符事實不予計分)
3. Stella practices playing tennis every day. (請用 next Sunday 改寫此句)
4. What does the Big Apple in Lesson Nine mean? (請依事實回答)
5. It rains a lot in Taiwan in early spring. (請將此句翻譯成中文)
6. The winter vacation is coming. (請將此句翻譯成中文)
7. 我們可以騎 Citi Bike 去看看 Brooklyn 大橋。 (請將此句翻譯成英文;請用 by+交通工具)
8. 我們要怎麼從旅館搭地鐵到 Times Square 啊? (請將此句翻譯成英文)
9. Google Maps 顯示我們可以直直走三個街區到 7 th Avenue，然後再左轉。 (請將此句翻譯成英文)
10. And it is on the corner of Broadway and 7 th Avenue. (請將此句翻譯成中文)

澎湖縣立文光國民中學 108 學年度第 1 學期第 3 次成績評量 8 年級數學科試卷

班級：

姓名：

座號：

讀卡 V 答案卷

一、選擇(每題 4 分，共 40 分)

- () 下列有關解方程式 $2x^2+3x+1=x^2-1$ 的步驟，何者開始發生錯誤？
(A)因式分解得 $(2x+1)(x+1)=(x+1)(x-1)$
(B)消去 $x+1$ 得 $2x+1=x-1$
(C)移項得 $2x-x=-1-1$
(D)化簡後得 $x=-2$
- () 已知 a 為整數，若 x^2+ax-6 可被分解為兩個一次因式的乘積，則下列何者不可能為 a 的值？
(A)6 (B)-1 (C)1 (D) -5
- () 將 x^2+6x 配成完全平方時，應加上下列哪一個選項？
(A)-3 (B)3 (C)6 (D)9
- () 3 是下列哪一個方程式的解？
(A) $(x-1)(x+3)=0$
(B) $(x-2)(2x-3)=0$
(C) $-2(x+5)(x-3)=0$
(D) $4(x+3)^2=0$
- () 設 $x^2+px+q=(x+a)(x+b)$ ，若 $p<0$ ， $q>0$ ，則下列何者正確？
(A) $a>0$ 、 $b<0$ (B) $a<0$ 、 $b<0$
(C) $a>0$ 、 $b>0$ (D) $a<0$ 、 $b>0$
- () 試判斷下列哪一選項為一元二次方程式？
(A) $x^2-\frac{4}{3}y^2=0$ (B) $2x+5=7x$
(C) $-x^2+2x+1$ (D) $x^2=4$
- () 因式分解 $x^2+7x-18$ ，可得下列哪一個結果？
(A) $(x-2)(x+9)$ (B) $(x+2)(x-9)$
(C) $(x-3)(x+6)$ (D) $(x+3)(x-6)$
- () 下列何者不是完全平方式？
(A) x^2+6x+9 (B) $4x^2-4x+1$
(C) $9x^2-24x+16$ (D) $3x^2-18x+9$
- () 判斷方程式 $2x^2-14x+49=0$ 的兩根為何種關係？ (A)兩相異根 (B)有重根
(C)無解 (D)無法判斷

- () a 為下列何值時，方程式 $x^2-ax+3=0$ 有相異的兩根？
(A)1 (B)2 (C)3 (D)4

二、填充題(每題 4 分，共 40 分)

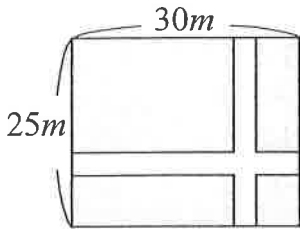
- 解方程式 $2x^2+7x+3=0$ ，可得 $x=$ _____和_____。
(各 2 分)
- 若 h 是 $5+2x-x^2=0$ 的一個解，則 $h^2-2h-4=$ _____。
- 已知 $x^2+px+q=0$ 的兩根分別為 -4 和 7 ，則 $p=$ _____， $q=$ _____。(各 2 分)
- 因式分解 $x^2+8x-20=$ _____。
- 已知下列各式都是完全平方式，分別在空格中填入適當的數。(各 1 分)
(1) x^2+18x+ _____= $(x+$ _____) 2
(2) x^2-x+ _____= $(x-$ _____) 2
- 若方程式 $(x+4)^2=49$ ，則此方程式的解為_____和_____。(各 2 分)
- 若一元二次方程式 $x^2-3x+1=0$ 的兩根為 a 和 b ，則 $a+b$ 的值等於_____。
- 兩個正整數的差為 7，積為 44，則此兩整數的和為_____。
- 若 $x^2-\sqrt{625}=0$ 的兩根為 a 與 b ，且 $a>b$ ，則 $a-b=$ _____。
- 懷萱今年的年齡與 12 年後年齡的乘積，恰好是媽媽 4 年後年齡的 3 倍，已知媽媽今年 32 歲，假設懷萱今年為 x 歲，則解題方程式應為_____。

三、計算題(每題 4 分，共 20 分)

1. 下表是某年七月分的月曆，已知 $x^2 + y^2 + z^2 = 434$ ，試求出 x 、 y 、 z 的答案，並計算該年七月一日是星期幾？ (各 1 分)

日	一	二	三	四	五	六
<div style="border: 1px solid black; width: 80%; margin: auto; padding: 5px; display: flex; justify-content: space-around;"> x y z </div>						

2. 如圖，有一長方形草坪，其中開闢了兩條相同寬度的長方形步道，已知剩下的草坪面積為 594 平方公尺，請問路寬為多少公尺？



3. 解下列各一元二次方程式。(各 2 分)
 (1) $(x+3)^2 = 19$ (2) $3x^2 + 5x + 1 = 0$

4. 騏碧解某題一元二次方程式時，將題目中的常數項係數的正負號看錯，解得答案為 $x=1$ 或 $x=2$ ，則原來正確的方程式應為何？並求出原方程式正確的解。 (各 2 分)

5. 解一元二次方程式 $(x-1)^2 + 6(x-1) + 8 = 0$ 。

*參考公式：

一元二次方程式通式： $ax^2 + bx + c = 0$

公式解為 $x = \frac{-b \pm \sqrt{b^2 - 4ac}}{2a}$

試題結束
文光八年級數學科

澎湖縣立文光國中 108 學年度第一學期第三次段考 理化科 考試卷

八年 __ 班 座號：__ 姓名：_____ ■讀卡

答案請填在答案卡上

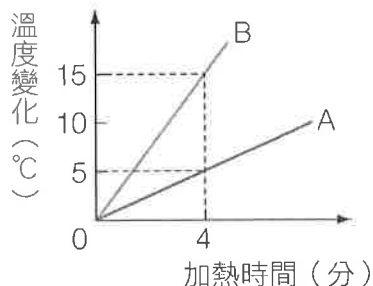
一、習作基本題：(每題 2 分，共 40 分)

- 下列哪一現象與蒸發無關？(A)硝酸鉀在水中逐漸溶解 (B)溼衣服逐漸晾乾 (C)以溼布擦拭黑板，一段時間後，黑板逐漸變乾 (D)打針時，手臂擦了酒精棉片後覺得涼涼的。
- 下列何種變化過程中，會釋放出能量？(A)木炭燃燒(B)冰融化(C)酒精蒸發(D)植物行光合作用。
- 有關元素與週期表的敘述，下列何者錯誤？
(A)第 18 族元素於常溫下不易與其他物質發生反應 (B)週期表中同族元素化學性質相似 (C)週期表中元素的性質隨著原子序的遞增，具有週期性的變化 (D)道耳頓是最早提出元素週期表者。

■用酒精燈加熱 40 公克的水，使水從 20°C 升高至 80°C，請回答 4~5 題：

- 酒精燈提供給水多少卡的熱量？(A)1200 (B)1600 (C)2000 (D)2400。
- 如果酒精的比熱為 0.6 卡/(公克·°C)，則相同熱量能使 400 公克的酒精由 24°C 升高至多少°C？
(A)34 (B)30 (C)26 (D)10。

■取相同的兩個燒杯 A、B，盛水後在發熱均勻的酒精燈上加熱，得到溫度變化與加熱時間的關係如附圖所示，請問：



- A、B 兩杯所盛的水何者質量較大？(A)A (B)B (C)一樣 (D)無法比較。
- A 杯水的質量為 B 杯水的多少倍？(A)2 (B)3 (C)4 (D)5。
- 若 B 杯水的初溫為 25°C，則 B 杯水加熱至沸騰，需多少分鐘？(A)20 (B)25 (C)30 (D)35。

■下列分別為四種物質的組成粒子示意圖，請回答下列問題：



- 哪些屬於元素？(A)乙 (B)甲、乙 (C)丙、丁 (D)甲、丙、丁。
- 哪一個可能是氫氣？(A)甲 (B)乙 (C)丙 (D)丁。
- 哪一個可能是氮氣？(A)甲 (B)乙 (C)丙 (D)丁。
- 哪一個可能是水分子？(A)甲 (B)乙 (C)丙 (D)丁。
- 哪一個是混合物？(A)甲 (B)乙 (C)丙 (D)丁。
- 某水銀溫度計與冰、水混合液接觸時，得一水銀高度 B；與 60°C 熱水接觸時，得一水銀高度 A，測得 A、B 點相距 15 公分；若與某物接觸時，水銀面在 A、B 兩點間，且距離 B 點 5 公分處，則某物的溫度為何？(A)-5°C (B)0°C (C)5°C (D)20°C。
- 有關元素的敘述，下列何者錯誤？(A)元素可概分為金屬元素與非金屬元素 (B)金屬元素為電與熱的良好導體 (C)石墨是由矽元素構成的，可以導電 (D)銅和鋅製成的合金稱之為黃銅。
- 夜市中常見有人賣糖炒栗子，把栗子與石子一起炒。此加熱過程中利用了石子的何種特性？
(A)比熱大 (B)比熱小 (C)硬度大 (D)沸點高。

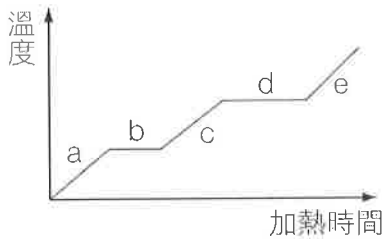
【第 1 頁結束 背面尚有試題】

■請依據附表回答下列問題：

原子	質子數	中子數
甲	12	13
乙	13	14
丙	12	14

17. 三種原子何者質量最大？ (A)甲 (B)乙 (C)丙 (D)三者相等。
 18. 表中哪些原子的化學性質可能是一樣的？ (A)甲、乙 (B)乙、丙 (C)甲、丙 (D)三者相同。

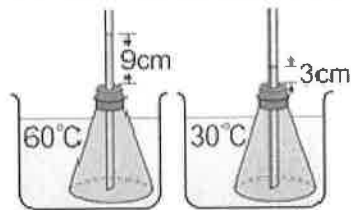
■某物質由固態開始加熱的曲線如附圖所示，請回答下列問題：



19. 在哪一區域時，可觀察到液態與氣態共存的現象？ (A)a (B)b (C)c (D)d。
 20. 承上題，此物質不可能為下列何者？ (A)純物質 (B)混合物 (C)元素 (D)化合物。

二、選擇題:(每題 2 分，共 60 分)

21. 下列有關溫度計的敘述何者正確？ (A)利用溫度計測量白天氣溫，應手持溫度計頂端，站在陽光下測量 (B)若某一液體是「熱縮冷脹」，則不能把它做成溫度計 (C)氣體、液體、固體等材質皆可製成溫度計 (D)溫度計可以測量物質內部所含的熱量
 22. 將一錐形瓶裝滿水，塞上橡皮塞，並插上細玻璃管。再將此錐形瓶依序放入 60°C、30°C 兩杯水中，水柱升高結果如右圖所示。由此結果推論：若將此錐形瓶放入 55°C 的水中，水柱高度應為多少公分？ (A) 8 cm (B) 6 cm (C) 5 cm (D) 4 cm



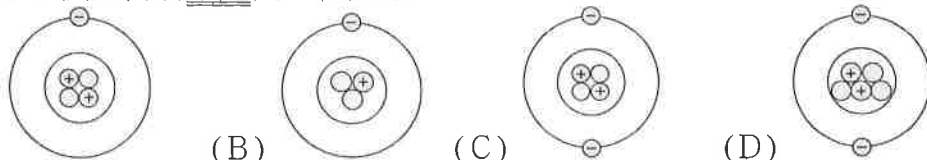
23. 三隻條件均相同的試管，甲管盛 10g 0°C 的水，乙管盛 20g 15°C 的水，丙管盛 30g 30°C 的水，以發熱率同為每分鐘 120 卡的三具瓦斯爐，分別同時加熱，若能量不消耗時，何者最慢達到 50°C 的水溫？ (A) 甲管 (B) 乙管 (C) 丙管 (D) 同時到達
 24. 有關鈉離子 (Na⁺) 與鈉原子 (Na) 的比較，下列敘述何者正確？ (A)兩者的化學性質相同 (B)兩者所含的質子數相等 (C)兩者所帶的電荷相等 (D)兩者所含的電子數相等
 25. 物質的分類方式如右下圖所示，下列相關敘述何者正確？ (A)甲為混合物 (B)乙為純物質 (C)丙可能為白金 (D)丁可能為鹽酸水溶液



26. 酒精分子式為 C₂H₅OH，則下列敘述何者錯誤？ (A)酒精是混合物 (B)酒精含 3 種原子 (C)含 6 個氫分子 (D)一個酒精分子含 9 個原子
 27. 氧化汞經照光而發生變化，可用以式子表示：
 「氧化汞→汞+氧」，根據上述反應，下列敘述何者錯誤？ (A)此變化為放熱反應 (B)氧化汞是由汞和氧組成的化合物 (C)汞與氧為元素 (D)氧化汞是純物質

【第 2 頁結束 背面尚有試題】

28. 下列原子模型何者不是同一種元素？



29. 已知在週期表同一橫列中，由左而右依序有甲、乙、丙三種元素，則其中原子序最大者為下列何者？ (A)甲 (B)乙 (C)丙 (D)無法確定

30. 一大氣壓下，水的冰點為 5°Y ，沸點為 125°Y ，則一杯 5°C 的冰水，相當於多少 $^{\circ}\text{Y}$ ？

(A) 6°Y (B) 11°Y (C) 16°Y (D) 21°Y

31. 某一中性原子 A 的正離子 A^{3+} 中含有電子數 10 個，中子數 14 個，則 A 原子是下列何者？

(原子序： $\text{Na}=11$ ； $\text{Mg}=12$ ； $\text{Al}=13$ ； $\text{Si}=14$)

(A)鋁 (B)鎂 (C)矽 (D)鈉

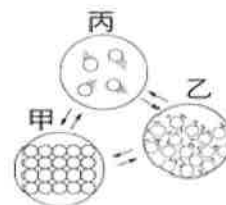
32. 下圖為水三態變化時的粒子示意圖，下列敘述何者正確？

(A)凝結是由丙變成乙，為放熱反應

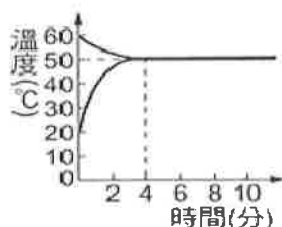
(B)在甲、乙狀態時，其體積，形狀皆不隨容器而改變

(C)由甲變成丙時為吸熱反應，叫熔化

(D)甲乙丙間的變化為化學變化，分子間的距離以丙最大



33. 以 60°C 的熱水 150 克與未知質量、溫度為 20°C 的冷水混合後，其溫度與時間的關係如圖所示，若混合的過程中沒有熱量散失，則冷水質量為多少公克？(A) 50 (B) 80 (C) 100 (D) 120 公克

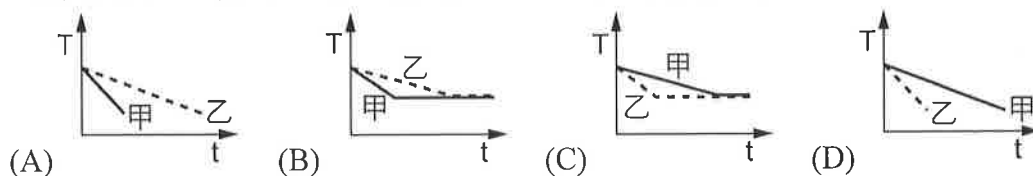


34. 古代煉丹士，期望能夠找到「點石成金」方法，下列敘述中，何者可說明這個想法是不可能的？

(A)原子是最小的粒子(B)不同的原子，大小不同(C)化合物由不同原子以固定比例組合而成

(D)普通化學變化只是原子間重新排列

35. 同質量、同溫度的甲、乙兩金屬，比熱分別為 0.2 、 0.4 卡/克· $^{\circ}\text{C}$ ，將甲、乙兩金屬自沸水中取出，置於室溫，一段時間後，則溫度 T 與時間 t 的關係為何？



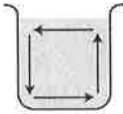
36. 下列元素在常溫常壓下的顏色和狀態，何者敘述錯誤？(A) He 為無色氣體 (B) I 為紫黑色固體 (C) Br 為紅棕色液體 (D) Cl 為黃綠色液體

37. 甲物體以溫度計測得為 -40°C ，乙物體以溫度計測得為 -40°F ，則甲、乙物體何者溫度較低？ (A)甲 (B)乙 (C)相等 (D)單位不同，無法比較

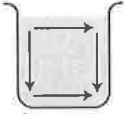
38. 下圖為一湖泊的剖面圖。有關其深度與水溫的關係，下列敘述何者正確？(A)當湖面為 20°C ，下層湖水因為有上層湖水的保溫而溫度高於 20°C (B)上層湖水的平均密度大於下層湖水 (C)當湖面為 0°C 時，下層湖水溫度必為 0°C 以下而開始結冰 (D)當湖面開始結冰時，下層湖水可保持一段時間不結冰，因為下層 4°C 的水比其他溫度的水密度都大



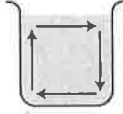
【第 3 頁結束 背面尚有試題】

39. (甲)鉀 (乙)葡萄糖 (丙)水銀 (丁)黃金 (戊)鑽石 (己)黃銅 (庚)白金 (辛)硫酸 (壬)小蘇打
屬於化合物者有哪些?
(A)甲乙丙 (B)乙辛壬 (C)丁戊己庚 (D)丙己庚辛
40. 已知酒精和水銀凝固的溫度分別為 -114°C 及 -37°C ，沸騰的溫度分別為 78°C 及 357°C ，今欲測量 -20°C 的冰，則下列敘述何者正確?
(A)只能用酒精溫度計(B)只能用水銀溫度計(C)兩種溫度計均可使用(D)兩種溫度計均不可使用
41. 君君將鋁、鉛、鐵三個同體積的金屬塊丟入一裝水的燒杯中，再以穩定熱源加熱 15 分鐘，若燒杯內已呈熱平衡，此時何者的溫度最低？(比熱大小：鋁 $>$ 鐵 $>$ 鉛)
(A)鋁塊 (B)鉛塊 (C)鐵塊 (D)三者溫度相同
42. 元元坐在花園的椅子上，剛開始覺得有些冰冷，但隔了一會兒便覺得溫暖點了，請問造成此現象的原因為何？(A)椅子能夠自行升溫(B)坐下之前椅子的溫度低於體溫(C)元元有點發燒(D)坐下之前椅子的溫度高於體溫。
43. 有關鈉，鉀的比較，何者有誤？
(A)元素符號分別是 Na、K
(B)鈉和水的反應比較劇烈，會放出大量的熱，使產生的氫氣起火燃燒
(C)都可儲存在石油中，避免氧化
(D)兩者都是鹼金屬，最外層的電子數只有一個。
44. 以下關於兩物體間熱傳播方式的敘述，何者正確？
(A)由高溫傳到低溫 (B)質量大傳到質量小 (C)比熱大傳到比熱小 (D)高熱量傳到低熱量。
45. 下列何種顏色的物體最容易吸收或放出輻射熱？
(A)黑白相間 (B)白色(C)灰色(D)黑色
46. 以穩定熱源在燒杯的左下角加熱，則一開始加熱時杯中的水對流情形為何？
- 

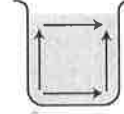
(A)



(B)



(C)



(D)
47. 下列敘述何者錯誤？(A)日光燈管、水銀電池易造成環境汙染，理由是水銀有毒
(B)鋁鎂合金質輕強度佳，導熱性良好，可作為筆記型電腦的機身材料
(C)二氧化鈦是一種無毒的白色粉末，是修正液的成分之一
(D)純金 24K，而 18K 金飾物是含金 75%，其餘 25% 是銅和銀，目的是降低成本。
48. 原子的體積大小決定於下列何者？
(A)質子、中子、電子的體積總和 (B)電子運動的範圍 (C)原子核的半徑 (D)原子的質量。
49. 右圖為元素週期表的一部分，下列相關敘述何者錯誤？
- (A)甲代表週期 (B)乙為元素的中文名稱 (C)丙代表原子量
(D)丁代表元素符號。

甲	—	${}^2\text{He}$	—	丁
乙	—	氦	—	
丙	—	4.003	—	
50. $\text{Ca}(\text{OH})_2$ 、 OCu 、 IK 、 H_2SO_4 、 $\text{C}_6\text{H}_{12}\text{O}_6$ ，以上化學式寫錯的有幾個？
(A)1 個(B)2 個 (C)3 個 (D)4 個

【試題結束】

澎湖縣立文光國民中學 108 學年度第 1 學期 第 3 次成績評量 8 年級地理科試卷

班級：_____ 姓名：_____ 座號：_____ ■ 讀卡 □ 答案卷

一、單一選擇題（十五題，每題 2 分，共 30 分）

- () 1. 中國以何處作為水田農業區與旱地農業區的分界線？ (A)黑河至騰衝 (B)南嶺 (C)長城 (D)秦嶺、淮河。
- () 2. 青藏高原南部的雅魯藏布江河谷地區，受到何種季風影響，氣候較為暖溼，可種植農作物？ (A)東北風 (B)西北風 (C)東南風 (D)西南風。
- () 3. 中國東部沿海地區有許多耕地至今已消失。請問：下列何者為傳統農耕景觀改變的主要原因？ (A)氣候變遷 (B)人口流失 (C)工商發展 (D)礦產開發。
- () 4. 中國西半部灌溉農業區發展綠洲農業的主要用水來源為何？ (A)雨水 (B)湧泉 (C)淡化海水 (D)高山雪水。
- () 5. 下列哪個經濟帶人口眾多，對外交通便利，進出口貿易發達，科技產業密集且居民文教水準較高，是中國經濟發展的核心地區？ (A)東部經濟帶 (B)中部經濟帶 (C)西部經濟帶。
- () 6. 中國水資源分布不均的問題，長期以來一直是主政者急欲解決的難題，在鄧小平主政時期即說過：「北方水少，那就向南方借點水來用用！」爾後中國果真提出調水計畫。請問：調水計畫主要是將哪條河川的水源輸往缺水地區？ (A)珠江 (B)淮河 (C)海河 (D)長江。
- () 7. 近年來中國農、牧業已從傳統的自給自足轉變為以商業性為主，為使專業化生產的農、牧產品，能更有效率的輸送至各地，並降低成本，下列哪個配套措施更顯得重要？ (A)改善交通系統 (B)改良農業技術 (C)更新宣傳方法 (D)改進灌溉設施。
- () 8. 正銘到青藏高原旅行，看到當地牧民帶著牲畜轉場。請問：當地最主要的牲畜為下列何者？ (A)駱駝 (B)犛牛 (C)三河牛 (D)細毛羊。
- () 9. 下列關於中國第一級階梯土地資源利用的敘述，何者正確？ (A)地肥土沃，土地生產力高 (B)溫溼多雨，經濟活動以農業為主 (C)資源豐富，環境負載力高 (D)生態環境脆弱，不利大規模開發。
- () 10. 附圖為中國四大高原分布圖。圖中哪個地區因人口較多，森林覆蓋率低，土地缺乏植被保護，易被侵蝕，水土流失的問題最為嚴重？ (A)甲 (B)乙 (C)丙 (D)丁。



- () 11. 中國湖南地區推行「圍湖造田」、「向湖要糧」的改革，結果使得糧米產量增加，卻也造成環境問題，其中以下列何者最為嚴重？ (A)土壤鹽鹼化 (B)灌溉減少 (C)水患頻繁 (D)航運降低。
- () 12. 中國東部沿海地帶最主要的三個工業區為：(甲)珠三角 (乙)環渤海 (丙)長三角。若由南而北排列，下列順序何者正確？ (A)甲乙丙 (B)甲丙乙 (C)丙乙甲 (D)乙丙甲。

- () 13. 附圖為中國「一帶一路」示意圖。根據附圖判斷，下列何者不在中國「絲綢之路經濟帶」的經濟發展範圍內？ (A)中亞 (B)西亞 (C)歐洲 (D)南亞。



- () 14. 哈瑪是新疆天山地區的牧民，每年固定趕著細毛羊，過著山牧季移的生活。請問：哈瑪在哪個季節要開始趕羊群上山吃草？ (A)春季 (B)夏季 (C)秋季 (D)冬季。
- () 15. 「上游飽經亂砍濫伐和耕地化，使山的保水能力下降，水土流失面積已達到 35%。專家警告說：『它可能成為第二條黃河。』」這樣的狀況最有可能出現在哪條河川？ (A)長江 (B)黑龍江 (C)塔里木河 (D)雅魯藏布江。

二、題組：(五題，每題 1 分，共 5 分)

(一) 中國的水資源豐富，但是因人口眾多，每個人所分配到的水資源很少，而且水資源分布的時間和空間也很不均。

- () 16. 有關中國水資源分布的特徵，下列何者敘述正確？ (A)南多北少 (B)冬多夏少 (C)西多東少 (D)春多秋少。
- () 17. 高地氣候區雖然水資源總量不及季風氣候區，但是平均每人所擁有的水資源量卻為三區之冠，其主要的原因為何？(A)植物茂密 (B)融雪量豐 (C)人口稀少 (D)土壤肥沃。
- () 18. 若河川跨越國界，水資源的使用便成為與鄰國之間的重要課題，必須謹慎處理，否則可能會引發國際衝突。請問：中國哪個地區較沒有河川跨國界問題？ (A)東北地區 (B)華中地區 (C)華南地區 (D)青藏地區。

(二) 中國地勢西高東低，大致呈三級階梯，如圖所示。請問：



- () 19. 第一級階梯內的土地利用多以哪種產業為主？ (A)農業 (B)畜牧業 (C)工業 (D)酪農業。
- () 20. 橫貫中國的許多大河水源，多來自於哪一級階梯地形區內？ (A)第一級階梯 (B)第二級階梯 (C)第三級階梯。

澎湖縣立文光國民中學 108 學年度第 1 學期第 3 次成績評量 8 年級歷史科試卷

班級：

姓名：

座號：

讀卡 答案卷

一、單選題(21-30 題，每題 2 分，共 20 分)

- () 21. 下列關於朝貢貿易的敘述，何者正確？(A)簽訂合約，雙方平等互惠貿易 (B)只有接受中國冊封，才能以進貢的名義通商 (C)自願成為中國藩屬，才能平等通商貿易 (D)只有中國沒有生產的商品，才能朝貢到中國。
- () 22. 唐代、宋代、元代、明清時期均有代表性的文學體裁。請問：下列配對何者正確？
(A)唐—詞；宋—詩；元—曲；明清—小說 (B)唐—詩；宋—詞；元—小說；明清—曲
(C)唐—詩；宋—曲；元—詞；明清—小說 (D)唐—詩；宋—詞；元—曲；明清—小說。
- () 23. 羽絮閱讀中國歷史故事時，看到書上對三個不同朝代的官員描述如下：(甲)官員聽聞皇帝廢除丞相，多不敢有異議，深怕得罪皇帝而被施以廷杖。(乙)官員大多出身科舉，皇帝常和他們討論如何應付北方遼國的入侵。(丙)官員下朝後相約討論《紅樓夢》裡面之內容，娛樂身心。下列哪個選項最符合上述官員在歷史上出現的朝代順序？
(A)甲→乙→丙 (B)乙→甲→丙 (C)丙→甲→乙 (D)丙→乙→甲
- () 24. 盛清時期的哪一位皇帝，曾平定三藩之亂，並派施琅攻取臺灣？(A)康熙(B)雍正(C)乾隆(D)皇太極
- () 25. 下列哪些朝代皆因外族入侵而亡？(甲)西周(乙)東周(丙)西漢(丁)東漢(戊)西晉(己)東晉(庚)北宋(辛)南宋 (A)甲丙戊庚 (B)乙丁己辛 (C)甲戊庚辛 (D)甲丙庚辛
- () 26. 以下四句話皆在形容中國歷朝選才任官制度對社會造成的影響，請照朝代的先後順序排列。
(甲)十年寒窗無人問，一舉成名天下知 (乙)上品無寒門，下品無世族
(丙)諸子百家爭鳴，社會變動劇烈 (丁)萬般皆下品，唯有讀書高。
(A)丙乙丁甲 (B)丙甲乙丁 (C)丙乙甲丁 (D)丙丁乙甲。
- () 27. 秉鈞在上歷史課時，迷迷糊糊地打瞌睡，突然間，被吵雜的聲音喚醒，他發現自己身在一個很熱鬧的地方，雖然是夜晚，但燈火通明，攤販雲集。而且好多人都穿著古裝。正在疑惑之際，正前方迎來一個熟悉的面孔，定神一看，竟是同班的詣程同學，手裡還拿著烤番薯和烤玉米呢!!請問，秉鈞可能穿越時空到哪個時期了？(A)秦漢 (B)隋唐 (C)宋元 (D)明清
- () 28. 騏賢說道：「中國歷代王朝中，有王朝在面臨外患威脅時，採取『聯夷制夷』的策略。這種方式雖然解除了原先外患的威脅，卻使國家被新崛起的強權所滅。」騏賢說的應該是下列哪個王朝的情形？
(A)北宋 (B)明朝 (C)唐朝 (D)清朝。
- () 29. 這本書是中國第一部編年體通史，記述戰國至五代的史事。作者與多人合編，先寫成草稿，進行考異與刪定，最後由作者成書，全書取材豐富且史料價值高。關於這本書的敘述，下列何者正確？
(A)此書完成於明代 (B)這本書作者為司馬遷 (C)這本書為《史記》 (D)內容按照年代編寫。
- () 30. 維勁參加梅林舉辦的機智問答大賽。維勁過關斬將，終於到了最後一題，題目為「中國元代與清代，兩者的相同點為何？」維廷最後獲得大獎—歷史故事書全套，他的答案應為何？
(A)皆實施「種族歧視」政策，將人民分成四等 (B)皆以「恩威並重」的方式統治
(C)皆是邊疆民族入主中國 (D)皆建立橫跨歐、亞的大帝國。

【第 3 頁結束 後面尚有試題】

二、題組(每題1.5分，共15分)

1. 小凱居住在北宋首都，是一位從事進出口貿易的商人。小凱閒暇之餘，會到「正店」裡喝酒、到「瓦子」欣賞雜劇、說書，也喜歡和三五好友一起出門逛夜市。小凱的朋友小銘住在四川，他告訴小凱，為了攜帶方便，當地發行了一種輕薄的貨幣以供交易使用。請回答下列問題：
- () 31. 小凱做生意時須接受下列哪一單位的管理？ (A)會館 (B)市舶司 (C)巡檢司 (D)公行。
- () 32. 小銘所說的貨幣是下列哪一種？ (A)交子 (B)寶鈔 (C)會子 (D)通寶。
2. 諺宏是明朝人，通過最後一個階段的考試後，被分發到河北某縣當官，工作穩定後，他開始培養收藏精美瓷器的嗜好，隨著城市印刷產業的發達，市面上流通許多小說，他認為閱讀小說有助於了解社會脈動，因此也收集了不少版本。請問：
- () 33. 文中提及的「最後一個階段考試」，應是指下列何者？ (A)會試 (B)殿試 (C)童試 (D)鄉試。
- () 34. 為了收集精美的瓷器，諺宏最可能派人前往下列哪一個地方進行採購？
(A)江西景德鎮 (B)江蘇盛澤鎮 (C)河南開封府 (D)四川成都府。
- () 35. 諺宏收集的小說中，最不可能出現下列哪一部？
(A)《水滸傳》 (B)《西遊記》 (C)《紅樓夢》 (D)《三國演義》。
3. 明朝「天妃靈應之碑記」中記載：「皇上嘉其忠誠，命和等率官校旗軍數萬人，乘巨舶百餘艘，貨幣往貨之，所以宣德化而柔遠人也。自永樂3年，奉使西洋，迨今七次，所歷番國，由占城國、爪哇國、三佛齊國、暹羅國，直逾南天竺、錫蘭山國……。」請回答下列問題：
- () 36. 上文中的「皇上」是指誰？ (A)明太祖 (B)明成祖 (C)明神宗 (D)明思宗。
- () 37. 鄭和到過的「番國」不可能包括今日哪一個國家或地區？(A)印尼 (B)東非 (C)印度 (D)法國。
- () 38. 鄭和下西洋所造成的影響不包括下列哪一項？ (A)促進中西文化交流 (B)使明朝國威遠播
(C)使日後政府樂於從事大規模的航海活動 (D)奠定華僑在東南亞的基礎。
4. 林安出生於南宋中期，長大後參加國家考試，成為地方父母官，自勉為官不收賄、不擾民，將薪資的一部分用來救濟社會上的窮苦人家，他最喜歡的休閒活動是搭船出遊，欣賞海天相連的風光。請回答下列問題：
- () 39. 林安所參加的國家考試，呈現什麼特色？(A)考生必須熟讀元曲作品 (B)錄取名額是歷代中最少的
(C)試卷出現彌封等防弊的情形 (D)當時政府以九品官人法選拔人才。
- () 40. 林安為官潔身自愛，又積極投入社會救濟事業，這應是受到哪一股學術思想的影響？
(A)佛學 (B)理學 (C)玄學 (D)西方科學。

【試題結束—文光八年級、歷史科】

澎湖縣立文光國民中學 108 學年度第 1 學期 第 3 次成績評量 8 年級公民科試卷

班級：_____ 姓名：_____ 座號：_____ ■ 讀卡 □ 答案卷

一、單一選擇題（十題，每題 2 分，共 20 分）。

- () 41. 在民主國家中，下列何種行為不屬於政治參與？ (A)組織利益團體 (B)競選立法委員 (C)參與選舉 (D)看報紙了解藝人動態。
- () 42. 利益團體常透過各種方式，反映民眾的需求，提供立法者與決策者相關的資訊。下列何者不是利益團體應該採取的手段？ (A)陳情 (B)示威 (C)助選 (D)賄賂。
- () 43. 政黨與利益團體都是民主政治運作中不可或缺的團體，下列有關「兩者影響政治的方式」之敘述，哪項最符合實際的狀況？ (A)兩者都會提名候選人，積極參與競選活動 (B)政黨會提名候選人，利益團體則支持立場與其一致的候選人 (C)利益團體會提名候選人，政黨則支持立場與其一致的候選人 (D)兩者都不提名候選人，在選舉中保持中立。
- () 44. 下列四人的作為，何者屬於利益團體的活動？ (A)甲 (B)乙 (C)丙 (D)丁。

甲：星期天我要代表學校去參加全國國樂社絲竹賽。

乙：我要爭取黨內的提名，參與年底的直轄市長選舉。

丙：我要參加社區成立的守望相助巡守隊。

丁：我們基金會要走上街頭，要求政府重啟美牛輪臺談判。

- () 45. 戶籍地一直設在花蓮縣的泰希，今年剛滿 30 歲，若想要參加今年年底的地方選舉，僅依照戶籍地與年齡限制，他符合哪些公職人員的參選資格？ (甲)直轄市長 (乙)直轄市議員 (丙)縣市長 (丁)縣市議員 (戊)鄉鎮市長 (己)鄉鎮市民代表 (庚)直轄市山地原住民區長 (辛)直轄市山地原住民區民代表 (壬)村里長 (A)甲乙戊己庚辛壬 (B)丙丁戊己庚辛 (C)丙丁戊己壬 (D)丙丁庚辛壬。
- () 46. 以下是公民老師講述某項選舉原則時，所出示的圖例，

	張三	李四	王五	趙六	孫七	周八

- 根據選票內容判斷，選舉人已違反下列哪項選舉原則？ (A)普通 (B)平等 (C)直接 (D)無記名。
- () 47. 幸福國新聞報導：「颱風來臨前，執政黨的水利官員前往各地抽水站，了解抽水設備的運作及防洪措施的完整與否。」上述報導顯示出執政黨的何種功能？ (A)增加與民眾接觸機會 (B)監督政策落實程度 (C)批評政府施政績效 (D)擔負起施政的責任。

- () 48. 下列有關各政黨制度型態的敘述，何者正確？ (A)一黨專政通常發生在國體為君主國的國家 (B)兩黨制的國家，其國內只有兩大政黨存在，並藉由選舉形成輪流執政的狀態 (C)多黨制因各黨政治主張多不相同，可反映出社會多元的意見 (D)民主政治愈成熟的國家，愈容易呈現一黨專政的現象。
- () 49. 政黨與利益團體的共同點為何？ (A)關心的事務範圍、對象都相同 (B)都是個人參與政治的管道 (C)屬於同一類的人民團體 (D)都會提名候選人參與選舉。
- () 50. 我國中央與地方的公職人員均由人民直接選舉產生，其當選後的任期為幾年？ (A)3年 (B)4年 (C)5年 (D)6年。

二、題組：(十題，每題1分，共10分)

(一)請依文句的敘述，填入正確的答案。

A.普通原則 B.平等原則 C.直接原則 D.無記名原則

- () 51. 只要符合選舉人的條件，不分性別、宗教、種族、階級、黨派等，皆有選舉權。
- () 52. 投票時不得在選票上簽名、蓋印章或駐記符號。
- () 53. 人民親自出席投票，選出心目中的公職人員。
- () 54. 強調落實「一人一票、票票等值」的概念。
- () 55. 在選票投入匱前，不得將選票內容公開。

(二)阿里國舉行總統大選，該國的陽光黨、白雲黨和雷鳴黨都參與競爭，想要爭取執政權。其中白雲黨為原先的執政黨。選舉結果，各黨得票率如表所示。請回答下列問題：

政黨	得票比例
陽光黨	56%
白雲黨	40%
雷鳴黨	4%

- () 56. 根據選舉結果，可知將由何者負責組織政府？ (A)陽光黨 (B)白雲黨 (C)雷鳴黨 (D)共同組織聯合政府。
- () 57. 根據上述資料可知，阿里國政黨制度的型態應屬於下列何者？ (A)一黨獨大 (B)一黨專政 (C)兩黨制 (D)多黨制。
- () 58. 根據選舉結果，白雲黨將負責下列何種事項？ (A)取得執政權成為執政黨 (B)與其他兩黨共組聯合政府 (C)監督政府施政 (D)推動施政與執行政策。

(三)請根據短文畫線部分的敘述，判斷該短文最符合政黨政治的何項運作原則。

A.依法組成、公平競爭 B.國家優先、人民第一
C.服從多數、尊重少數 D.和平溝通、理性協商

- () 59. 和協國的國會中，甲政黨雖然擁有過半席次，但是面對重大政策時，並不會一味的要求對政策進行表決，而是讓其他政黨充分表達意見。其他政黨則是能服從表決的結果，體認甲政黨擁有多數民意基礎的事實。
- () 60. 快樂國的甲政黨與乙政黨在能源政策上意見相左，甲政黨支持核能發電，乙政黨則反對核能發電，但是在鄰國發生嚴重的核能災害後，甲政黨為了保障人民生命財產安全，避免禍延子孫，決定不再支持核能發電。