

澎湖縣立文光國民中學 108 學年度第 2 學期第 1 次成績評量 8 年級國文科試卷

班級：

姓名：

座號：

讀卡 答案卷

請將第一頁答案卷繳回

一、國字注音(每題 1 分，共 20 分)

1.優「ㄨㄛˊ」：	2.朝「ㄠ」：	3.殆欲「ㄅㄨˋ」然：	4.創作不「輟」：
5.晨昏定「省」：	6.「徬」徨：	7.「ㄇㄨㄥˊ」愇：	8.「惡」戲：
9.「ㄍㄨㄛˊ」捕：	10.哀「慟」：	11.交通「ㄐㄨㄥ」塞：	12.「窈」窕：
13.沃「ㄨㄛˊ」：	14.「逾」時不候：	15.申「悃」：	16.公「ㄨㄨˊ」：
17.胡「譎」：	18.先「ㄍㄨ」：	19.「寅」吃卯糧：	20.弔「唁」：

二、注釋(每題 2 分，共 20 分)

1. 無懈可擊：	2. 荷蓋：
3. 茫然：	4. 長「揖」：
5. 寒暄：	6. 參差：
7. 冉冉：	8. 受大而不苟取：
9. 駑鈍：	10. 秣不擇粟：

三、文意理解(每題 2 分，共 40 分)

1.	2.	3.	4.	5.	6.	7.	8.	9.	10.
11.	12.	13.	14.	15.	16.	17.	18.	19.	20.

四、閱讀理解(每題 1 分，共 6 分)

1.	2.	3.	4.	5.	6.
----	----	----	----	----	----

五、題組(每題 2 分，共 14 分)

1.	2.	3.	4.	5.	6.	7.
----	----	----	----	----	----	----

【第 1 頁結束 背面尚有試題】

三、文意理解(每題 2 分，共 40 分) **請將答案填寫在第一頁的答案欄裡**

1. 根據〈傘〉一詩，下列何者錯誤？(A)「闔則為竿為杖 開則為花為亭／亭中藏一個寧靜的我」，表現出「沉默是金」生命態度 (B)風雨、豔陽象徵人生境遇，但傘中之人無論如何都能表現出「無入而不自得」的人生修為 (C)「一傘在握 開闔自如」一句中，象徵「命運操之在己」 (D)「紅色朝暘 黑色晚雲／各種顏色的傘是載花的樹」運用視覺感官描寫
2. 根據〈風箏〉一詩，下列何者錯誤？(A)這首詩表達出的生命情懷是「以小搏大的積極熱情」(B)作者白靈以風箏象徵「勇敢追夢的希望人生」(C)「只是你遲到一千年，黃昏後就不會有夜」與「沿著河堤，我開始拉著天空奔跑」均採用「化抽象為具體」的轉化修辭技巧 (D)「細細一線，卻想與整座天空拔河」表現出「人類以微弱的力量對抗外在環境」
3. 根據〈良馬對〉一詩，下列何者正確？(A)「力裕而不求逞」比喻平庸之才自不量力，且好大喜功 (B)「自午至酉，猶可二百里，褫鞍甲而不息不汗，若無事然。」說明了「路遙知馬」道理 (C)「寡取易盈」比喻賢者可受託付，且操守廉潔 (D)「不息不汗」中的「汗」字，詞性由名詞變為動詞，此詞性轉變方式與「介而馳」的「介」不同
4. 根據〈偷靴〉一文，下列何者錯誤？(A)因為第一個歹徒喝醉了借酒裝瘋，將著新靴者的帽子丟到屋瓦上面 (B)「或著新靴行市上」和「著木屐踩雞子」的「著」字，字義相同 (C)這篇文章主要表達「害人之心不可有，防人之心不可無」(D)文中的兩名歹徒在大街上公然丟帽、偷靴，因為行人以為他們是好朋友，彼此只是在惡作劇，因此沒有人出面制止
5. 下列何者與「有村舍處有佳蔭，有佳蔭處有村舍」使用相同的修辭？(A)文章是案頭之山水，山水是地上之文章 (B)得之於人者太多，出之於己者太少 (C)像詩人依賴著月亮，像海豚依賴海洋 (D)名不正，則言不順；言不順，則事不成
6. 下列有關「筆記小說」，何者錯誤？(A)以記述異聞、瑣事為主的文言短篇小說 (B)袁枚《子不語》是屬於「志人」的筆記小說 (C)依內容，有「志人」、「志怪」兩類 (D)因其隨筆札記，且內容多與談修身治國等大道理的著述不同，故稱筆記小說
7. 根據〈我所知道的康橋〉一詩，下列何者錯誤？(A)「一層輕紗似的金粉糝上了這草、這樹、這通道、這莊舍。」這句話是在描寫「朝陽曙光」的景象 (B)「剎那間在我迷眩了的視覺中，這草田變成了……，不說也罷，說來你們也是不信的！」徐志摩寫這段話的心情應該「無話可說」(C)「享受這雙輪舞的快樂」，這是指「騎腳踏車」的樂趣 (D)「我心頭頓時感到神異性的壓迫，我真的跪下了，對著這冉冉漸隱的金光」，道出作者「對於自然偉大莊嚴景象的虔敬」之感
8. 〈風箏〉一詩中「長長一生莫非這樣一場遊戲吧」的「莫非」一詞，由「莫」和「非」兩個否定詞組成，但整體詞義作「都是」解。請判斷下列含有兩個否定詞的句子，何者是表達肯定的意思？(A)「沒有」人可以了解我「不」快樂的原因 (B)小陳在工作上表現出色，公司懸缺多時的經理職位「非」他「莫」屬 (C)法官判案時應秉持「毋」枉「毋」縱的原則，才能使人民信服 (D)張先生「不」慌「不」忙地走到站牌，公車卻已經開走了

【第 2 頁結束 背面尚有試題】

9. 根據〈良馬對〉一詩，下列何者正確？ (A)「啗芻豆數斗」的「啗」換成「啖」後意思不變 (B)岳飛在回答高宗的內容中，舉出良馬的特質說明賢才的條件，但良馬卻「不幸相繼以死」，想藉此表達「人才難留，需以封官進爵挽留」 (C)從「飲食」和「體型」來對比良馬和劣馬的差異，並用劣馬襯托良馬的可貴 (D)「日啗芻豆數斗，飲泉一斛，然非精潔即不受」此為劣馬的特徵

10. 下列何者不屬於「數大便是美」的景色？ (A)村舍與樹林是這地盤上的棋子，有村舍處有佳蔭，有佳蔭處有村舍 (B)手把著一家村莊的籬笆，隔著一大田的麥浪，看西天的變幻 (C)過來了一大群羊，放草歸來的，偌大的太陽在牠們後背放射著萬縷的金輝 (D)滿開著豔紅的罌粟，在青草裡亭亭地像是萬盞的金燈

11. 孟小良檢到一份稱謂用語祕笈，欣喜若狂。但其中只有一部分是正確的，請你幫孟小良找正確的。 (A)提到與自己有關的人，加一「愚」字。如：「愚喬梓」、「愚昆仲」，是指自己的父子、兄弟 (B)提到比自己年紀、輩分較小的親人時，加一「小」字。如：「小弟」、「小妹」、「小兒」、「小孫」，是指自己的弟妹兒孫 (C)提到自己的尊長時，加一「令」字。如：「令嚴」、「令慈」、「令兄」、「令姊」，是指自己的父母兄姊。 (D)提到與自己有關的居處、師友，加一「敝」字。如：「敝校」、「敝縣」、「敝業師」、「敝友」，是指自己的學校、居住地及師友

12. 小恩和朋友打算到文化中心聽演講，她們在下午兩點四十五分到達文化中心，請問剛好趕上下列哪一場演講？ (A)巳時開始的中國道家哲學與人生智慧 (B)酉時開始的關於馬的種種不可思議 (C)午時開始的愛上數位生活 (D)申時開始的冰雪中的植物奇觀

13. 以下對話中，「」內所使用的稱謂，何者完全正確？ (A)宛小蓉：「令郎」才高八斗，不知在何處高就？ 蔡大宸：「小犬」大學剛畢業，正準備參加研究所的考試。 (B)曉宣萱：聽說「寒舍」裝潢得非常漂亮！ 林小揚：哪裡哪裡！有空歡迎光臨「貴府」。 (C)辛小翰：好久沒有見到「令兄」了，請代我向他問好。 華小綺：「愚兄」前幾天還提起您呢！ (D)楊小銘：「令堂」在家嗎？ 小蕊蕊：「家父」在書房，請稍待。

14. 「春秋時代，齊桓公帶兵出征，好不容易贏得勝利，然而，當軍隊回程時氣候大變，軍隊因此迷失方向。這時相國管仲說：『老馬能認得走過的路。』於是讓幾匹老馬走在前面，果然帶領大家找到原路，順利返國。」這篇故事要表達的意涵，與下列何者相同？ (A)阿偉老師即使面對放牛班的叛逆，也絕不放棄教學的信念 (B)大洛在業務上屢屢受挫，只好向前輩請教改進的方法 (C)小月得了不治之症，決定用生命的最後時光完成自己的夢想 (D)阿德將原本經營不善的工廠，一路打拚，終於將生意擴展開來

15. 紅樓夢中有一詩：「階下兒童仰面看，清明裝點最堪宜。遊絲一斷渾無力，莫向東風怨別離。」請問詩中所描述的活動應是何者？(A)放水燈 (B)釣魚 (C)放煙火 (D)放風箏

16. 具有美術才華的小明設計了一組「生肖&地支&時辰」的LINE貼圖，自信滿滿地投稿之後，竟被退貨，原因是審核貼圖的人發現其中有個時辰有錯誤，請問是哪一組弄錯了呢？ (A)豬／丑／1~3時 (B)猴／申／15~17時 (C)虎／寅／3~5時 (D)蛇／巳／9~11時

【第3頁結束 背面尚有試題】

17. 在蘇芮牽手的歌詞中「幸福著你的幸福。」第一個「幸福」由名詞變為動詞，這種詞性轉換的情形稱為「轉品」。下列各句「」中的詞語，何者是由名詞變為動詞的轉品？(A)小鳥的喧鬧，逐漸「燦爛」了這一季的春光 (B)他到處向商家要保護費的行為，簡直就是「魚肉」鄉民 (C)機器的叫囂，逐漸「陰黯」了吾鄉的月光 (D)江南的水鄉很「威尼斯」
18. 下列有關我所知道的康橋一文的說明，何者錯誤？(A)用四個「你如愛」——表現出作者眉飛色舞、津津樂道的神情 (B)連用三個「頃刻間」——表示初曉景色瞬息萬變 (C)「彷彿是朝來人們的祈禱，參差地翳入了天聽」——是用視覺印象表現聽覺印象 (D)全文使用熱情活潑的筆調，描繪手法採濃重的色彩寫成
19. 下列何項敘述錯誤？(A)我們稱沈復與其妻子陳芸為「賢伉儷」 (B)側書在提及自己或與己有關的人事物時使用，縮小字體是表示謙遜 (C)不管撰寫哪種書信，都宜遵守「單字不成行，單行不成頁」的原則 (D)明信片中欄可用「啟封詞」(啟)
20. 蔡小中畢業後，想起許久未聯絡的國中同學許瑋，於是寫了一封信給他，他應如何書寫信封「中欄」最為恰當？(A)許瑋先生 道啟 (B)許瑋先生 安啟 (C)許瑋先生 臺啟 (D)許瑋先生 敬啟

四、閱讀理解(每題1分，共6分)

請將答案填寫在第一頁的答案欄裡

1. 「我們的情緒狀態有很大一部分是取決於我們在注意什麼，一般是聚焦於目前正在做的事情上。例如想從吃得到快樂，必須注意到自己正在吃。否則，花同樣時間在吃東西，但是把吃和別的活動綜合在一起，吃的快樂就被稀釋了。」下列何者與這段文字的涵義最接近？(A)人的好惡常因外在事物改變 (B)專注於情緒的控制就能得到快樂 (C)主觀感受與關注的事情密切相關 (D)追求物質享受無法得到真正的快樂
2. 「她躲在峽谷／她站在山崖上／你不理她／她不理你／你喊她，她喊你／你罵她／她罵你／千萬不要和她吵嘴／最後一聲總是她的」(丁時祺回聲)。這首詩中透露什麼樣的哲理？(A)無言的純樸所表示的情感，才是最豐富的 (B)你如何待人，人如何待你 (C)勝利屬於堅持到最後的人 (D)謙受益，滿招損
3. 「媽媽的愛是永遠看不到的寶物／藏在保險箱裡(甲)／靜靜的散發出愛的光芒(乙)／寶物已經黯淡無光(丙)／當我找到這些寶物(丁)／但她還是我永遠珍惜的無價之寶」。這首題為「媽媽的愛」的童詩，依照詩意，正確的順序應該是什麼？(A)甲乙丁丙 (B)乙甲丁丙 (C)乙丁甲丙 (D)甲丙乙丁
4. 隋煬帝善屬文¹，而不欲人出其右，司隸薛道衡由是得罪。後因事誅之，曰：「更能作『空梁落燕泥』否？」注1.屬文：連綴字句而成文，指寫文章
- 根據上段文字，可以推知下何者？(A)煬帝命薛道衡作詩，薛因抗命而被殺 (B)薛道衡死後，煬帝感嘆再也無人能出其右 (C)薛道衡因事被誅，臨刑以「空梁」一詩明志 (D)煬帝嫉妒薛道衡能有「空梁落燕泥」這等佳句
5. 「齊大饑，黔敖為食於路，以待餓者而食之。有餓者蒙袂輯屨，貿貿然來。黔敖左奉食，右執飲，曰：『嗟！來食。』揚其目而視之，曰：『予唯不食嗟來之食，以至於斯也。』從而謝焉。終不食而死。」故事中餓者「不食而死」的原因是什麼？(A)身體疲乏，無精打采 (B)不吃別人無禮的施捨 (C)不願意認錯、低頭 (D)甘於貧窮，不慕榮利

【第4頁結束 背面尚有試題】

6. 「莫聽穿林打葉聲，何妨吟嘯且徐行。竹杖芒鞋輕勝馬，誰怕？一簑煙雨任平生。料峭春風吹酒醒，微冷，山頭斜照卻相迎。回首向來蕭瑟處，歸去，也無風雨也無晴。」（蘇軾定風波）在這闕詞中，蘇東坡表達了豁達自適的人生態度。下列徐志摩詩句中何者也表達了同樣的人生態度？（A）我是在夢中，在夢的輕波裡依洄（B）夏蟲也為我沉默，沉默是今晚的康橋（C）我說你是人間的四月天，笑響點亮了四面風（D）我揮一揮衣袖，不帶走一片雲彩

五、題組（每題 2 分，共 14 分）

請將答案填寫在第一頁的答案欄裡

題組 《笑林廣記》

一官遇生辰，吏典聞其屬鼠，乃釀黃金鑄一鼠為壽。

官甚喜，曰：「汝等可知奶奶生日，亦在目下乎？」

眾吏曰：「不知，請問其屬？」

官曰：「小我一歲，丑年生的。」

注：①吏典：指地方衙門的官員。②釀：音ㄌㄨㄥˋ，聚集。此處指湊錢。③奶奶：指官夫人。

1. 由文中官吏所曰「丑年生的」，可知「奶奶」的生肖為何？（A）豬（B）牛（C）馬（D）羊
2. 由文中人物的對答可知，此位官吏的個性如何？（A）貪得無厭（B）大度能容（C）知足常樂（D）冥頑不靈

題組 南渡十將傳（改寫）

岳飛，字鵬舉，相州湯陰人也。生時，有大禽若鵠①，飛鳴室上，因以為名。未彌月，河決內黃，水暴至，母姚氏，抱飛坐巨甕中，衝濤乘流而下，及岸，得不死。

飛少負氣節，沉厚寡言。天資敏悟，強記書傳，尤好左氏春秋及孫吳兵法。家貧，拾薪為燭，誦習達旦不寐②。生有神力，未冠，能挽弓三百斤。學射於周同。同射三矢，皆中的，以示飛；飛引弓一發，破其筈③；再發，又中。同大驚，以所愛良弓贈之。飛由是益自練習，盡得同術。

未幾，同死，飛悲慟不已。每值朔望，必具酒肉，詣④同墓，奠而泣；又引同所贈弓，發三矢，乃酌⑤。父知而義之，撫其背曰：「使汝異日得為時用，其殉國死義乎？」應曰：「惟大人許兒以身報國家，何事不可為？」

註：①鵠：音ㄉㄨˋ，天鵝②寐：睡③筈：音ㄍㄨㄥˋ，箭的末端搭扣弦的部分④詣：前往⑤酌：音ㄓㄨㄛˋ，以酒灑地而祭。

3. 下列文句，何者主詞與其他三者不同？（A）拾薪為燭，誦習達旦不寐（B）未冠，能挽弓三百斤（C）以所愛良弓贈之（D）必具酒肉，詣同墓，奠而泣
4. 讀完岳飛的傳記後，對岳飛的認識下列看法何者正確？（A）岳飛得到周全的弓後，功力大增（B）師父逝後，岳飛每月會祭拜兩次（C）岳飛喜看孫吳這個人寫的兵法且能過目不忘（D）半夜時，岳飛會點燃燭火通宵達旦研讀兵書

題組

小孩可愛，大多數寫小孩的文字都在歌頌他們，讚美童心純真無邪。寫的人的出發點大約和歌頌星光、鮮花、青春……一樣，愛的是這些東西表相的純美可喜，至於童心裡頭真有些什麼，說時恐怕未必想到。

其實，所有成人可能有的東西，小孩的小小心裡必也一應俱全。因此小孩也是可怖的，他們是所有不可知的未來的決定者，【甲】純美的表相下隱藏無窮或善或惡的可能。

【第 5 頁結束 背面尚有試題】

當然，小孩還別有可憎處。范德之教授說不曾為人父母的，沒資格寫小說，因為「還沒有真正經歷過人生的苦難」。他是我所熟知的人當中，對小孩的喧鬧最深惡痛絕的一位。蘇軾《東坡集》裡有一個對付小孩吵鬧的辦法：「塗巷小兒薄劣，為其家所厭苦，輒與數錢，令聚坐聽說古話。」為當時的街巷說書留下了一個難得的紀錄，也證明童心自來就是「不古」的，【乙】戲嬰圖裡那些肥嘟嘟、一團和氣的小孩，是千百年來大人們從來沒有實現過的夢。

【丙】文人當中特別喜歡小孩和特別厭苦小孩的都有。前者如寫《愛麗絲漫遊奇境記》的路易斯·卡羅，後者如英國詩人拉肯。卡羅一生結交無數小朋友，其不朽之作《愛麗絲漫遊奇境記》便是他說給他最鍾愛的小女孩愛麗絲聽的故事發展出來的。拉肯則正相反，「小孩無非自私、吵鬧、殘忍與粗俗」，【丁】生命對於他，只是一代代把悲慘傳遞下去。

巧合的是，卡羅和拉肯有許多相似之處，兩人都口吃，生性羞怯，有反社會的傾向。拉肯的飯桌前據說從來沒有過一張以上的椅子，因為深怕客人會留下來吃飯。卡羅有坐立不安的毛病，不善交際，只有面對小朋友時才諧趣自在。

兩人更大的相似是都終生未婚，固然也各自有他們的理由。但，也許，識得了孩子的真相——不管是最可愛的還是最不可愛的——也就臨近了生命的真相。這，使人在面對由自己來延續生命的可能時，會悚然心驚舉足不前吧。

——改寫自黃碧端〈愛憎童蒙〉

5. 依本文所舉古今文人對小孩的好惡，下列敘述何者正確？ (A) 范德之教授認為，面對小孩的喧鬧是一種人生苦難 (B) 從《東坡集》可知蘇軾喜歡說故事安撫吵鬧的小孩 (C) 卡羅雖不喜歡小孩，卻是享譽國際的兒童文學家 (D) 拉肯與卡羅對小孩的看法相近，所以都終生未婚

6. 文中畫線處，何者最能呼應末段「不管是最可愛的還是最不可愛的」這句話？ (A) 甲 (B) 乙 (C) 丙 (D) 丁

題組 <船> 楊喚

像一首詩，
被寫在沉默的稿紙上；
像一張犁，
划行過哄笑著的土地；
你，掙脫了港口和繩索，
向藍眼睛的海走去。
當我想到自己
是怎樣匍匐在人生的峽谷，
我乃失聲痛哭了。
不，不是呀，那紛紛滾落的不是眼淚，
而是一場來考驗自己的大雷雨！

7. 當楊喚說「想到自己是怎樣匍匐在人生的峽谷」時，他可能有著什麼樣的心境？ (A) 人生有挫折、坎坷 (B) 前程似錦 (C) 山窮水盡 (D) 柳暗花明又一村

【試題結束—文光 八年級、國文】

澎湖縣立文光國民中學 108 學年度第二學期第一次段考八年級英文科題目卷

班級

姓名

座號

一、聽力測驗：請依據所聽到的內容，選出一個最適合的回應(每題 2 分，共 10 分)

1. (A) They will last ten to fourteen days. (B) They didn't see each other last week.
(C) Do you want me to send roses to you?
2. (A) Yes, you can order any food. (B) Yes, one glass of strawberry milk, please.
(C) Yes, give me some pickled cabbage.
3. (A) I'm a little afraid of the smell. (B) Would you like to take a bite?
(C) Well, I'd like to see the menu first.
4. (A) Yes, I feel hot. (B) Yes, it's cold outside. (C) Yes, you block my way.
5. (A) We can use Dad's computer. (B) We can do our homework today.
(C) We can't finish our homework before tomorrow.

二、文意字彙(每題 2 分，共 20 分)

1. _____ A red rose is a s _____ n of love. Many girls get red roses from their lovers on Valentine's Day.
2. _____ Chris joins the d _____ n boat races with his friends every year.
3. _____ Ben is from Taiwan. However, he never eats rice. His favorite meal is s _____ i.
4. _____ Houses in Taipei are too e _____ e. Lots of people don't have enough money to buy one.
5. _____ This meal was delicious. After the meal, I even had some cake for d _____ t.
6. _____ Don't be so s _____ y. You should buy something for your children.
7. _____ I like the Moon F _____ l because I can eat moon cakes and get together with my family.
8. _____ A : How did you finish the difficult work last night?
B : A great idea c _____ sed my mind, and then I finished the work.
9. _____ English and French are the official (官方的) l _____ es in Canada.
10. _____ A : Is the girl your classmate? B : No. She is a s _____ r. I never saw her before.

三、文法測驗(每題 2 分，共 20 分)

1. () A : Look! Isn't that _____ dog? B : No, it isn't mine. It's _____.
(A) yours; my cousin's (B) a; a cat (C) my; a dog (D) your; Tina's
2. () Ricky _____ tall and strong after he plays basketball a lot every day.
(A) gets (B) got like (C) became (D) became like
3. () A : _____ did the bread smell? I made it this morning. B : It smelled terrible.
(A) What (B) How (C) Why (D) Who
4. () Why do you keep making the same mistakes? You may not _____ good grades if you go on like this.
(A) get (B) to get (C) getting (D) can get
5. () If Tom _____ the birthday party tomorrow, we will have a lot of fun.
(A) join (B) joined (C) will join (D) joins
6. () _____ there aren't any famous actors in the movie, it is still popular around the world.
(A) Because (B) When (C) Though (D) If
7. () The house is _____ for Andy and Jenny. They don't need too many rooms.
(A) enough small (B) small enough (C) enough large (D) large enough

8. () A : Why not _____? Roses are her favorite. B : Great idea.
 (A) buy to Amy some roses (B) give some roses for Amy
 (C) buy Amy some roses (D) give Amy to some roses
9. () The little boy isn't able _____ the heavy bell on the door. Let's help him.
 (A) hanging (B) hung (C) hangs (D) to hang
10. () Ricky is a serious man, and he doesn't _____.
 (A) show his feelings to people (B) show his feelings people
 (C) show for people his feelings (D) show people to his feelings

四、閱讀測驗(每題 2 分, 共 8 分)

1. Everyone must read *The Bundle of Sticks* now. It tells the story of an old man and his sons. The sons are always fighting with each other. The old man tells them over and over to stop, but it doesn't work. They never listen to their father. Then, he gets very sick and may not be around for much longer. However, he is not done just yet. If it doesn't kill him, he will try again to get through to his sons about their fighting.

One day, when it is really bad, he calls his sons to him, and he gets one of them to bring a bundle of sticks. He gives it to his oldest son and tells him to break it. Though the oldest son tries with all his might, he can't break the bundle. After that, the father has his other sons try, but they aren't successful, either. Then, he unties the bundle and gives each of his sons a stick. When he has them break their sticks, they do so very easily, and their father's lesson finally sticks in their brains. In fact, we can all learn from the old man's lesson.

bundle 束;捆 stick 木條 done 完成的 get through to someone 使某人明白
 might 力量 untie 解開 easily 輕易地 brain 頭腦

- () 1. What does "it" refer to(意指)?
 (A) The sons' fighting with people in town. (B) The oldest son's fight with a cold.
 (C) The old man's work with his sons. (D) The fighting between the old man's sons.
- () 2. What is the old man's lesson?
 (A) If the sons work alone, they will be really successful.
 (B) If the sons do things one by one, the job will get done quickly.
 (C) If the sons help each other, it will be easy for bad people to break them.
 (D) If the sons work together, it will be hard for bad people to break them.
2. We just finished reading *The Lion's Share* in class. If you want to know my feelings about the story, I will tell you. The story's lesson is a hard one to take although it is a fact of life and often happens in the real world. Seeing the lion, fox, wolf, and jackal work together to kill a stag was something else. Their agreeing to share everything was also surprising. However, if these four animals can do that, then different kinds of people can do the same, too.

I wasn't ready for the end, but I had a feeling about it from the story's name. After they cut the stag into four same-size parts, the lion came up and said something. As the king of all animals, he took one piece for himself. Then, he took a second for being part of the team and a third for leading the hunt. He then put his foot on the fourth piece and dared the others to come and take it from him. I didn't like any of that. Although the lion was the biggest and strongest, the stag wasn't all for him. He treated the other animals unfairly.

fox 狐狸 wolf 野狼 jackal 胡狼 stag 雄鹿 agree 同意 part 部分 hunt 狩獵
 dare 問……有無膽量 treat 對待 unfairly 不公平地

- () 3. What is the reading mainly (主要地) about?
 (A) A person's feelings about a story with a lesson.
 (B) A story about a person fighting the king of animals.
 (C) The order(秩序) of animals in the real world.
 (D) The idea of sharing with everyone around you.
- () 4. How did the writer feel about the group of animals?
 (A) Their working together is not very surprising.
 (B) If they can work together, people will be able to, too.
 (C) Although they are a team, they are part of the real world.
 (D) He wasn't ready for them to kill each other.

五、配合題:寫出相符的句子代號(每題1分,共6分)

1. He is really something.
2. He is a brown-nose.
3. He is a yes-man.
4. He is a night owl.
5. He is so stuck.
6. He is dating another girl on the side.

- A. 他是個馬屁精。
- B. 他總愛捉弄人。
- C. 他真有兩把刷子。
- D. 他是隻應聲蟲。
- E. 他很臭屁。
- F. 他劈腿。
- G. 他是一個夜貓子。

六、填充題

(1-6 介係詞, 每題1分; 7-11 動詞變化每題2分, 共16分)

1. Mr. Wang will make a big meal _____ his dear wife.
2. Maggie prepared a big meal for us. It was fit _____ a king.
3. Helen's trip to Japan sounds _____ a lot of fun.
4. To thank you for helping me, the pearl milk tea is _____ me.
5. The chicken soup really goes well _____ the food. It's perfect. (完美的)
6. Tom Cruise is Betty's favorite movie star. She is really crazy _____ him.
7. Never forget _____ (wash) your hands more often in order to prevent(預防) COVID-19 (新型冠狀病毒)
8. Hurry up! I am afraid of _____ (be) late for school.
9. Although only a few people came to the party, everyone still _____ (feel) very happy that night.
10. Judy _____ (not have) an interest in music if you want him to practice the guitar eight hours a day.
11. You must _____ (say) sorry to Alex because your words do harm(傷害) to him.

七、依提示回答問題(每題2分,共20分)

1. These locks are Jerry's. (依畫線部分造原問句)
2. Jim looks like a heavy bear. (依畫線部分造原問句)
3. Why can't you go hiking with us? (用 How come 起首改寫句子)
4. Ben isn't smart, but he studies hard. (用 ...though... 改寫句子)
5. How do people celebrate Valentine's Day in France? (按課文回答)
6. He steals the show in his class. (翻成中文)
7. Diamond cuts diamond. (翻成中文)
8. 在昨天嚐完一口豬血糕之後, 我便愛上它了。
9. 如果後天沒有下雨的話, 我就要去日本旅行。
10. 要把鈴鐺掛在一隻獅子的脖子上是不可能的。(It's...)

澎湖縣立文光國民中學108學年度第二學期第一次段考八年級英文科答案卷

班級

姓名

座號

一、聽力測驗10%

1.	2.	3.	4.	5.
----	----	----	----	----

二、文意字彙20%

1.	2.	3.	4.	5.
6.	7.	8.	9.	10.

三、文法測驗20%

1.	2.	3.	4.	5.	6.	7.	8.	9.	10.
----	----	----	----	----	----	----	----	----	-----

四、閱讀測驗8%

1.	2.	3.	4.
----	----	----	----

五、配合題6%

1.	2.	3.	4.	5.	6.
----	----	----	----	----	----

六、填充題16% (1-6題1分;7-11題2分)

1.	2.	3.	4.	5.	6.
7.	8.	9.	10.	11.	

七、依提示回答問題20%

1.
2.
3.
4.
5.
6.
7.
8.
9.
10.

澎湖縣立文光國民中學 108 學年度第 2 學期第 1 次成績評量 8 年級數學科試卷

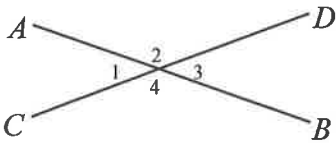

班級：

姓名：

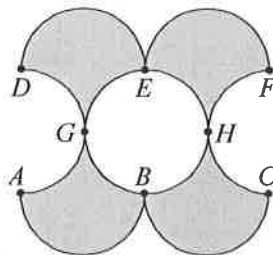
座號：

讀卡 V 答案卷

一、選擇題 (每題 4 分, 共 40 分)

- () 1. 下列何者為等差數列?
 (A) $1, \frac{1}{2}, \frac{1}{3}, \frac{1}{4}, \dots$
 (B) $\frac{1}{2}, \frac{1}{4}, \frac{1}{8}, \dots$
 (C) $\frac{1}{2}, 1, 1\frac{1}{2}, 2, \dots$
 (D) $1, -1, 1, -1, \dots$
- () 2. 一個六邊形的對角線共有幾條?
 (A) 6 (B) 9 (C) 12 (D) 18
- () 3. 已知 $\frac{6}{13} = 0.461538$, 則小數點後第 100 個數字是多少?
 (A) 4 (B) 6 (C) 5 (D) 8
- () 4. 已知一等差級數 $S_n = a_1 + a_2 + a_3 + \dots + a_n$. 若 $S_{10} = 380$, 且 $a_1 = 7$, 則 $a_{10} =$?
 (A) 29 (B) 31 (C) 33 (D) 35
- () 5. 如附圖, 已知 \overline{AB} 與 \overline{CD} 相交於一點。若 $\angle 1 = 40^\circ$, 則 $\angle 2 - \angle 3 =$?

 (A) 40° (B) 80° (C) 100° (D) 120°
- () 6. 已知數線上三點 $A(-5)$ 、 $B(2)$ 、 $C(8)$ 。若 M 是 \overline{AB} 的中點, 且 N 是 \overline{BC} 的中點, 則 $\overline{MN} =$?
 (A) 5 (B) 5.5 (C) 6 (D) 6.5
- () 7. 下列選項中的圖形有一個為線對稱圖形, 判斷此圖形為何?


- () 8. 下列敘述何者是錯誤的?
 (A) 圓中最長的弦是直徑
 (B) 兩個直角可以組成一個平角
 (C) 半徑是圓中的一個弦
 (D) 鈍角三角形中, 有兩個內角是銳角
- () 9. 一等差級數共有 12 項, 其和為 -156 , 且末項比首項小 44, 則此級數之首項為多少?
 (A) 7 (B) 8 (C) 9 (D) 10
- () 10. 如附圖, \overline{AB} 、 \overline{BC} 、 \overline{DE} 、 \overline{EF} 、 \overline{AGD} 、 \overline{BGE} 、 \overline{BHE} 、 \overline{CHF} 皆為直徑為 2 的半圓。求灰色部分面積為何?



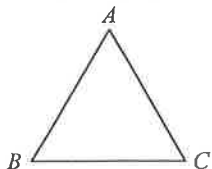
- (A) 4 (B) 8 (C) 2π (D) 4π

二、填充題 (每格 4 分, 共 40 分)

1. 求下列各等差級數的和:
 (1) $1 + 5 + 9 + 13 + 17 + 21 + 25 + 29 =$ _____。
 (2) $(-27) + (-19) + (-11) + (-3) + 5 + 13 + 21 =$ _____。
2. 請完成下列的等差數列:
 (1) 597, 398, 199, _____, -199
 (2) $b - 3d, 2b - d, \underline{\hspace{2cm}}, \underline{\hspace{2cm}}, 5b + 5d$ 。
3. 如附圖, 在 x 與 20 之間插入 11 個數, 使其成一等差數列。已知插入的第 6 個數為 8, 則 $x =$ _____。
4. 若 $\angle A$ 和 $\angle B$ 互補, 且 $3\angle A + 2\angle B = 500^\circ$, 則 $\angle B =$ _____ 度。

背面尚有試題

5. 如附圖，已知正 $\triangle ABC$ 中， $\overline{AC} = 6$ cm，則此正三角形的高為_____cm，面積為_____ cm^2 。



6. 小新參加單車環島的活動，首日騎了50公里，其後每日減少2公里。若活動結束時，小新共騎540公里，則她共騎了_____天。

三、計算題（每題4分，共20分）

1. 已知 a 、 b 的等差中項為 -2 ，且 $a+3b=2$ ，求 a 、 b 兩數。

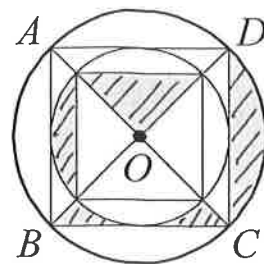
2. 已知一扇形的面積為 30π 平方公尺，半徑為12公尺，則：

- (1) 該扇形的圓心角度數為何？
- (2) 該扇形的周長為多少公尺？

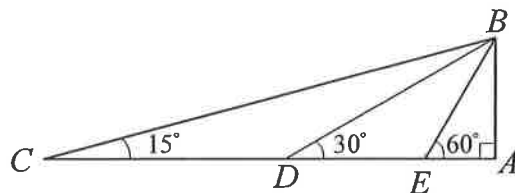
3. 有一等差級數的 $a_1 = -40$ ， $a_{17} = 8$ ，試問：

- (1) 從第幾項開始為正數？
- (2) 若前 n 項的和為最小，此時和為多少？

4. 如附圖，大圓 O 半徑為20公分， $ABCD$ 為正方形，求灰色部分的面積。



5. 如附圖， $\overline{AB} \perp \overline{AC}$ ，且 $\angle C = 15^\circ$ ， $\angle BDA = 30^\circ$ ， $\angle BEA = 60^\circ$ 。若 $\overline{AE} = 1$ ，則 $\overline{CD} = ?$



試題結束
祝各位考試順利~

澎湖縣立文光國中 108 學年度第二學期第一次段考 理化科 考試卷

八年 班 座號： 姓名：




答案請填在第 4 頁的答案欄上

一、選擇題：(每題 2 分，共 52 分)

- 某化學反應式： $3A+2B\rightarrow 2C$ ，今有 x 公克的 A ，與 y 公克的 B 恰好完全反應，可生成 z 公克的 C ，則下列何者正確？ (A) $x+y=z$ (B) $3x+2y=2z$ (C) $\frac{x}{3}+\frac{y}{2}=\frac{z}{2}$ (D) $2x+3y=3z$ 。
- 12 公克的甲與 8 公克的乙反應，其反應方程式為：甲+2 乙 \rightarrow 3 丙+丁，反應後甲完全用完，乙會剩下 2 公克，生成 3 公克的丁，請問反應後所產生的丙為若干公克？ (A)5 (B)7 (C)7.3 (D)15。
- 鎂帶在氧氣中燃燒會產生強烈的白光，並生成氧化鎂。右表是鎂帶與氧氣完全反應後產生的氧化鎂之關係表。若取 12 公克的鎂帶在 6 公克的氧氣中燃燒，請問可產生多少公克的氧化鎂？ (A)15 (B)18 (C)20 (D)25。

鎂	6.0g	9.0g	12.0g	15.0g
氧化鎂	10.0g	15.0g	20.0g	25.0g

- 某物質 A 的氧化物為 AO_2 ，若 11 公克的 AO_2 中含有 3 公克的 A ，則 A 可能為下列何種原子？(原子量： $C=12$ ， $N=14$ ， $S=32$ ， $P=31$) (A) C (B) N (C) S (D) P
- A 元素原子對 B 元素原子的質量比為 3：2，而 B 元素原子對碳原子之質量比為 4：3，則 A 元素的原子量為何？ (A)0.5 (B)2 (C)6 (D)24
- 取 50 g 的 $CaCO_3$ ，則裡面含有多少個氧原子？(原子量： $Ca=40$ ， $C=12$ ， $O=16$) (A)3 (B)9 (C) 3×10^{23} (D) 9×10^{23}

- (甲)  ; (乙)  ; (丙)  ; \bigcirc 為 A 原子， \bullet 為 B 原子，且 A 的原子量為 4， B 的原子量為 6。若有甲、乙、丙三分子堆，且所含的 A 原子數相同時，則三分子堆的質量比為何？ (A)3：2：1 (B)16：7：6 (C)24：14：9 (D)6：3：2

- 化學反應式中的係數，下列有關其作用的敘述何者正確？ (A)加上係數，使反應物的總體積等於生成物的總體積 (B)加上係數，使左右兩邊的分子數目相等 (C)加上係數，使左右兩邊相同原子的原子總數相等 (D)加上係數，使反應物的總莫耳數等於生成物的總莫耳數
- 設 X 、 Y 、 Z 分別代表三種相異之元素，若下列為已平衡之化學反應式： $XY_2+2Z\rightarrow 2$ 甲+ X ，則依據道耳頓之原子說，甲的化學式為下列何者？ (A) YZ (B) YZ_2 (C) Y_2Z (D) Y_2Z_2
- 氫氣加氧氣，反應後可生成水，取 4 公克的氫氣及 16 公克的氧氣，反應後可生成多少公克的水？ (A)17 (B)18 (C)19 (D)20
- 博物館中商代的銅器比宋、明的鐵器多，主因為何？ (A)銅器較容易製造 (B)銅比鐵活性小、易保存 (C)鐵活性小、較容易鏽蝕 (D)宋、明的鐵器製造較少
- 下列有關硫粉在空氣中燃燒的結果，何者錯誤？ (A)火焰呈藍紫色 (B)燃燒生成 SO_2 (C)燃燒生成物溶於水形成 H_2SO_4 (D)燃燒生成物溶於水使藍色石蕊試紙呈紅色
- 就 P 、 Q 、 R 、 S 四種金屬及氧化物 PO 、 QO 、 RO 、 SO ，兩兩混合並隔絕空氣加熱，其反應結果如下表所示 (\bigcirc ：有反應； \times ：沒反應)，請問四種金屬活性大小順序為何？ (A) $S>Q>R>P$ (B) $P>R>Q>S$ (C) $S>R>Q>P$ (D) $P>Q>R>S$

	PO	QO	RO	SO
P		\times	\times	\times
Q	\bigcirc		\bigcirc	\times
R	\bigcirc	\times		\times
S	\bigcirc	\bigcirc	\bigcirc	

【第 1 頁結束 背面尚有試題】

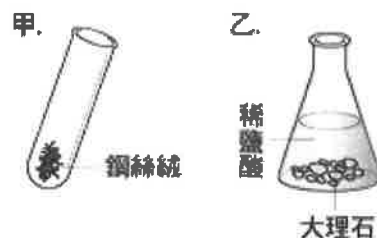
14. 碳粉和氧化銅粉末混合共熱前後物質的顏色，下列何者錯誤？
 (A)碳為黑色 (B)氧化銅為紅棕色 (C)銅為紅棕色 (D)二氧化碳為無色
15. 將點燃的鎂帶分別放入在裝有(甲)空氣、(乙)純氧、(丙)氮氣、(丁)二氧化碳的四個廣口瓶中，會使鎂帶繼續燃燒的共有幾瓶？ (A)1 (B)2 (C)3 (D)4
16. 將 A、B 兩種金屬及氧化物 AO、BO、CO、DO，隔絕空氣混合加熱，其反應結果如下表所示 (○：有反應；×：沒反應)，請問四種金屬氧化物對氧的活性大小順序為何？
 (A)DO > CO > AO > BO (B)DO > AO > CO > BO (C)BO > AO > CO > DO
 (D)BO > CO > AO > DO

	AO	BO	CO	DO
A		×	×	○
B	○		○	○

17. 以下為有關氧化還原反應的敘述：(甲)氧化與還原反應必相伴發生；(乙)在氧化還原反應中，本身被氧化的物質稱為氧化劑；(丙)在冶煉礦物時，常利用還原劑把金屬還原出來。請問哪些敘述是正確的？ (A)甲乙 (B)乙丙 (C)甲丙 (D)甲乙丙
18. 下列何者不能當作氧化劑？ (A)氧氣 (B)雙氧水 (C)木炭 (D)漂白水
19. 列哪一項反應過程，必須加入氧化劑？(註：各式中僅列出主要反應，未平衡)
 (A) $\text{Fe}_2\text{O}_3 \rightarrow \text{Fe}$ (B) $\text{H}_2 \rightarrow \text{H}_2\text{O}$ (C) $\text{MgO} \rightarrow \text{Mg}$ (D) $\text{CaCO}_3 \rightarrow \text{CaO}$
20. 已知甲、乙、丙三種金屬燃燒難易度由難到易為甲、乙、丙，則下列敘述何者正確？
 (A)甲的密度最大 (B)乙的氧化物比甲的氧化物更適合當氧化劑
 (C)乙比丙更適合當還原劑 (D)丙對氧的活性為三者中最大
21. 將鐵礦、灰石與煤焦置於高爐中煉鐵的過程，下列敘述何者錯誤？
 (A)碳對氧的活性大於鐵對氧的活性 (B)氧化鐵在此反應中被還原
 (C)碳在此反應中為還原劑 (D)鐵在此反應中被氧化
22. 冶煉鐵礦時，加入灰石的主要目的為下列何者？
 (A)作為還原劑 (B)作為催化劑 (C)作為氧化劑
 (D)除去鐵礦中的泥沙，同時可防止液態鐵被氧化
23. 關於日常生活中常見的氧化還原應用，下列敘述何者錯誤？
 (A)呼吸作用中的葡萄糖是還原劑 (B)可用來漂白竹筴、金針的二氧化硫為氧化劑
 (C)食品中添加胡蘿蔔素作為抗氧化劑 (D)鐵生鏽時，鐵是還原劑，氧氣為氧化劑
24. 有關 4 莫耳 NaOH 分子所含的分子個數、質量等敘述，下列何者錯誤？
 (原子量：Na=23，O=16，H=1)
 (A)含有 4 個 Na 原子、4 個 O 原子、4 個 H 原子 (B)含有 2.4×10^{24} 個 NaOH 分子
 (C)含有 160 公克的 NaOH 分子 (D)含有 2.4×10^{24} 個 Na 原子。
25. 硫粉在空氣中燃燒產生二氧化硫，其反應式為「 $\text{S} + \text{O}_2 \rightarrow \text{SO}_2$ 」，則有關此反應的敘述，下列何者錯誤？
 (A)1 公克的硫原子與 1 公克的氧分子反應，將產生 1 公克的二氧化硫
 (B)1 個硫原子與 1 個氧分子反應，將產生 1 個二氧化硫分子
 (C)1 莫耳硫原子與 1 莫耳氧分子反應，將產生 1 莫耳二氧化硫分子
 (D)整個反應過程將符合「質量守恆定律」
26. 承上題，16 公克的硫粉完全燃燒，將生成多少公克的二氧化硫氣體？
 (原子量：S=32，O=16)
 (A)16 (B)32 (C)48 (D)64

二、題組:(每題 3 分, 共 24 分)

■甲. 試管中放入浸溼後的鋼絲絨, 乙. 錐形瓶中放入大理石碎塊和稀鹽酸(如右圖), 兩者皆不加蓋, 靜置一星期後, 請問:



27. 甲試管的總質量、乙錐形瓶的總質量變化為何?

- (A)甲: 增加、乙: 減少
- (B)甲: 減少、乙: 增加
- (C)甲: 不變、乙: 不變。

28. 甲、乙的反應何者遵守質量守恆定律?

- (A)僅甲 (B)僅乙 (C)甲、乙皆遵守 (D)甲、乙皆不遵守。

■汽車的安全氣囊含有 MoS_2 、 S_8 及 NaN_3 之顆粒, MoS_2 是潤滑劑, 當強烈碰撞時, S_8 燃燒產生熱能, 熱能促使產生分解 $\text{NaN}_3 \rightarrow \text{Na} + \text{N}_2$ (此反應式尚未平衡), 請回答下列問題:

(原子量: $\text{N} = 14$, $\text{Na} = 23$)

29. 將 $\text{NaN}_3 \rightarrow \text{Na} + \text{N}_2$ 平衡之後, 此反應方程式係數的最簡單整數和為多少?

- (A)5 (B)6 (C)7 (D)8。

30. 若安全氣囊中置入 65 公克 NaN_3 , 經完全反應之後, 可產生多少公克的氮氣?

- (A)14 (B)28 (C)42 (D)84

■ 早期科學家解釋物質的燃燒是由於物質中含有叫燃素的東西, 認為物質放出燃素產生燃燒現象。科學家拉瓦節認為「物質的燃燒並非物質放出燃素, 而是易燃物和空氣或其中一部分的物質結合。」於是拉瓦節將一定量的金屬錫放入大燒瓶內, 蓋上瓶蓋, 測量其重量; 然後用火加熱燒瓶, 等到裡面的錫完全燒成灰後, 冷卻再測其重量, 他發現實驗前後的重量相同。當他打開燒瓶瓶蓋時, 瓶口發出了尖銳的聲音, 那是空氣快速擠進燒瓶的聲音, 表示瓶內的空氣變少了, 它們到哪裡去了呢? 拉瓦節得到一個結論: 「所有參與化學變化的物質, 其總質量在變化前後是相等的」, 這就是現在的質量守恆定律。

31. 文章中, 當燒瓶加熱到金屬錫變成「灰」後再冷卻, 然後測量整個大燒瓶的重量, 科學家拉瓦節發現了什麼? (A)燃燒前的總質量 > 燃燒後的總質量 (B)燃燒前的總質量 = 燃燒後的總質量 (C)燃燒前的總質量 < 燃燒後的總質量 (D)兩者總重量之間沒有一定關係存在。

32. 文中拉瓦節打開燒瓶時發現裡面的空氣減少了, 它們到哪去了?

- (A)被火燒掉了 (B)由瓶蓋處跑掉了 (C)和錫化合成錫的氧化物 (D)被錫放出的燃素用掉了。

33. 金屬錫在燒瓶中加熱後變成「灰」, 在這個過程中, 我們可以說是:

- (A)錫和氧產生氧化反應, 錫被氧化了 (B)錫和氧產生氧化反應, 錫被還原了
- (C)錫和氧產生還原反應, 錫被還原了 (D)錫和氧產生還原反應, 錫被氧化了。


34. 氧化銅和氫作用的反應式如下: $\text{CuO} + \text{H}_2 \rightarrow \text{Cu} + \text{H}_2\text{O}$, 以上這個反應中, 何者被氧化了?

- (A) CuO (B) H_2 (C) Cu (D) H_2O

選擇題的答案請寫在第 4 頁的答案欄上

【第 3 頁結束 背面尚有試題】

澎湖縣立文光國中 108 學年度第二學期第一次段考 理化科 答案卷
八年 ___ 班 座號：___ 姓名：_____ 分數：



一、選擇題(每題 2 分，共 52 分)

1	2	3	4	5	6	7	8	9	10	11	12	13
14	15	16	17	18	19	20	21	22	23	24	25	26

二、題組(每題 3 分，共 24 分)

27	28	29	30	31	32	33	34

三、請寫出下列物質的化學式，並計算下列分子的分子量(每個答案 1 分，共 9 分)
(原子量:H=1, C=12, O=16, S=32, N=14, Na=23)

	化學式	分子量
1. 雙氧水	H ₂ O ₂	
2. 葡萄糖		
3. 氫氣		
4. 氧化鈉		
5. 碳酸鈉		

四、使用平衡的化學反應式表示下列化學反應：(每題 3 分，共 15 分)

1. 碳酸鈣 (CaCO₃) 和鹽酸 (HCl) 反應產生氯化鈣 (CaCl₂)、水 (H₂O) 與二氧化碳 (CO₂)

2. 鈉 (Na) 和水 (H₂O) 反應產生氫氧化鈉 (NaOH) 與氫氣 (H₂)

3. 氫氣+氧氣→水

4. 雙氧水——→氧氣+水 (請標示出二氧化錳的位置)

5. 碳和氧化銅反應產生二氧化碳和銅

【試題結束】

澎湖縣立文光國民中學 108 學年度第 2 學期第 1 次成績評量 8 年級歷史科試卷

班級：

姓名：

座號：

讀卡 答案卷

一、單選題(題 1-10，每題 2 分，共 20 分)

- () 1. 一場中法戰爭，清朝失去了哪兩個藩屬？(A)越南、朝鮮 (B)朝鮮、琉球 (C)緬甸、琉球 (D)越南、緬甸。
- () 2. 馬涼是北洋艦隊的士兵，在黃海海戰中，他的艦艇被敵方擊沉，而不幸戰死。請問：馬涼應該是於哪場戰爭中殉職？ (A)中法戰爭 (B)鴉片戰爭 (C)英法聯軍 (D)甲午戰爭。
- () 3. 附圖呈現清中葉以後，朝廷允許外國傳教士在華活動範圍逐漸改變的情形。造成此轉變的原因，最可能是下列何者？ (A)清朝對外條約的簽訂 (B)太平天國的傳教影響(C)清朝接受美國的門戶開放政策 (D)中國經濟重心由沿海轉向內地。
- () 4. 〈討粵匪檄〉是曾國藩向太平軍宣戰的出師文告，當中強調了湘軍的使命，並且以下列何者作為號召，來募集戰力？ (A)維護傳統文化 (B)提倡宗教自由 (C)反對政教合一 (D)抵制土地公有。
- () 5. 自強運動期間，官員在各地籌辦鐵路，卻有人認為築鐵路會破壞龍脈。請問：由此例可推斷哪項自強運動失敗的原因？ (A)改革重心偏向軍事與經濟 (B)政策缺乏完整規畫 (C)忽視西方的政治制度與思想觀念 (D)守舊派人士的攻擊。
- () 6. 中國改革運動的推動，皆有受到一些外來事件的刺激。請問：以自強運動、戊戌變法而言，這兩次的改革分別是受到什麼樣的刺激？ (A)英法聯軍、甲午戰爭 (B)鴉片戰爭、甲午戰爭 (C)鴉片戰爭、英法聯軍 (D)牡丹社事件、中法戰爭。
- () 7. 戊戌變法僅僅推動一百多天便宣告失敗，參與新政的人士不是被逮捕，便是被迫逃往海外。請問：導致新政失敗的最大原因為何？(A)強調軍事武器的革新不符合實際需求 (B)地方督撫敷衍塞責 (C)外國勢力的干預 (D)慈禧太后發動戊戌政變。
- () 8. 詹姆士是乾隆時期的英國商人，他來到中國經商。請問：下列哪一個狀況是他會遇到的？ (A)到中國北京去買賣古董 (B)與福建巡撫討論貿易事宜 (C)面見清朝皇帝，達成通商協議 (D)與公行進行交易。
- () 9. 下列清代領土或藩屬喪失的先後順序排列為何？(甲)烏蘇里江以東(乙)香港島(丙)琉球 (丁)臺灣及澎湖 (A)甲丙丁乙 (B)乙甲丙丁 (C)丙乙甲丁 (D)丁乙甲丙。
- () 10. 一份歷史資料提到：「清末的國難愈來愈嚴重，雖然政治上有改革的聲音出現，但真正支持改革的仍舊只是少數，多數人還是抱持著反對的態度，原因是八股文取士一旦廢棄，多數士人的前途會因此斷送，所以這樣的改革無法得到知識分子的認同。」請問：資料上說的應該是什麼改革？ (A)自強運動 (B)戊戌變法 (C)大化革新 (D)皇民化運動。

傳教士僅能在廣州的指定區域活動

傳教士可以在上海等通商口岸傳教

傳教士可以到中國內地遊歷、傳教

【第 1 頁結束 後面尚有試題】

二、題組(題 11~20，每題 1.5 分，共 15 分)

1. 中國的自強運動是清末以來推動的第一場改革運動。請根據你對此運動的了解，回答下列相關問題：
- () 11. 此運動已經開始設立訓練翻譯人才的機構。此機構為何？ (A)總理各國事務衙門 (B)輪船招商局
(C)軍事學校 (D)廣方言館。
- () 12. 由此改革的內容來看，此運動應該屬於哪個層次？ (A)文化 (B)思想 (C)制度 (D)器物。
2. 一本書上寫道：「中國一直以來被視為是東方的古老大國，然而清朝在改革中的失敗，使得列強對清朝的軍事實力更加輕視，甚而漸漸展露他們侵略的野心，終於使得中國的主權完整性受到極大的威脅……」請問：
- () 13. 列強之所以開始輕視中國的軍事實力，是因為中國在哪場戰爭受到挫敗，顯示出改革的成效不彰？
(A)鴉片戰爭 (B)英法聯軍 (C)太平天國之亂 (D)甲午戰爭。
- () 14. 上文中提到列強展現了侵略中國的野心，這個「侵略中國的野心」指的是什麼？(A)奪據中國東北的廣大土地 (B)迫使中國簽訂喪權辱國的不平等條約 (C)迫使中國開放通商口岸 (D)瓜分中國
- () 15. 在諸多侵略中國領土的國家中，哪個國家並不包含在內？(A)英國 (B)法國 (C)美國 (D)德國。
3. 雅君在暑假時到中國大陸旅遊，其中一個參觀景點是中國近代史遺址博物館。這個博物館的前身，最早在明洪武皇帝朱元璋時代，為王府所在地。清朝年間，這裡為兩江總督署和江南織造署所在地。太平天國時期被擴建為氣勢恢宏的天王洪秀全宮殿。辛亥革命後成為臨時大總統府。博物館中展示了天京宮殿中以天王寶座、書房、后宮、機密房等模擬景觀，可以看出太平天國宮殿昔日的輝煌。請回答下列問題：
- () 16. 雅君到什麼地方參觀這個博物館呢？ (A)北京 (B)南京 (C)西安 (D)長沙。
- () 17. 太平天國的領袖洪秀全模仿何宗教的教義，在家鄉創立反清的組織？(A)佛教 (B)道教 (C)回教 (D)基督教。
- () 18. 為何太平天國可以得到許多貧苦農民的支持？ (A)基督教的號召 (B)企圖反清復明 (C)公有共享的理想 (D)對於傳統文化的失望。
4. 中國在自強運動期間面臨日趨嚴重的外患威脅，列強對中國虎視眈眈，藉由各種事端來奪據中國的藩屬，使中國在此期間逐漸喪失其宗主國的地位。請由附圖來回答下列問題：
- () 19. 日本在維新運動以後，開始積極的對外擴張，最先侵略圖中哪個地區？
(A)甲 (B)乙 (C)丙 (D)丁。
- () 20. 光緒 20 年，中日爆發嚴重的衝突事件，當時的導火線是因哪個地區而起？ (A)甲 (B)乙 (C)丙 (D)丁。



【試題結束—文光八年級、歷史科】

澎湖縣立文光國民中學 108 學年度第 2 學期 第 1 次成績評量 8 年級公民科試卷

班級：_____ 姓名：_____ 座號：_____ 讀卡 答案卷

一、單一選擇題（十五題，每題 2 分，共 30 分）

- () 21. 每年颱風來襲時，經常造成斷橋意外，為了避免危險情況再次發生，交通部特別宣布提高「封橋標準」，將原本水位警戒線向下修正。請問：交通部所修正的「封橋標準」屬於廣義法律中的哪一項？
(A)狹義法律 (B)通則 (C)憲法 (D)命令
- () 22. 在公民課時，老師介紹說明人民的基本權利，同學紛紛發表自己的看法。請問：下列哪一位同學的說法才是正確的？
(A)輝夜：「因為《憲法》保障祕密通訊自由，故父母不能查看未成年子女的簡訊。」
(B)御行：「山區原住民同學在基本學測時加分，符合《憲法》所保障的實質平等精神。」
(C)千花：「為保障人民的表現自由權，政府不可取締仿冒和盜版的電腦軟體。」
(D)石上：「政府實施國民就業的社會福利，可以落實《憲法》保障的人民生存權。」
- () 23. 我們常會遇到警務人員來家裡「戶口調查」，來訪的員警多會站在家門外完成訪談工作，因為即使是警務人員，也不得任意侵犯民眾的居住處所。上述屬於《憲法》對於人民何種權利的保障？
(A)人身自由權 (B)居住自由權 (C)遷徙自由權 (D)結社自由權。
- () 24. 在我國法律或命令是否牴觸《憲法》而有疑義時，是由下列何者負責解釋？
(A)行政院大法官 (B)立法院大法官 (C)司法院大法官 (D)地方法院法官。
- () 25. (甲)農田水利會組織通則 (乙)六堆客家文化園區場地設施使用收費標準 (丙)中華民國憲法增修條文 (丁)組織犯罪防治條例 (戊)社區發展工作綱要 (己)中華民國憲法。若依照法律的位階由高到低排列，下列何者正確？
(A)甲戊己 (B)丙乙丁 (C)丁戊己 (D)己甲戊
- () 26. 下列何者不屬於經濟上的受益權？
(A)財產權 (B)生存權 (C)訴訟權 (D)工作權。
- () 27. 茂伯的祖厝坐落在捷運機場支線預定地上，政府依法徵收，但他基於對家園的情感，屢次帶著家人去抗爭，最後經相關單位多次溝通，他終於點頭同意。政府能依法徵收其祖厝，是由於下列哪種原因限制了茂伯的基本權利？
(A)避免緊急危難(B)防止妨礙他人自由(C)維持社會秩序(D)增進公共利益
- () 28. 受益權是指人民有權積極向政府請求維護其基本權利的四大權利之一。某知名人物經常因一些爭執而與他人「法院見！」這種請求政府裁判對錯、主持公道的權利，屬於《憲法》保障的哪種受益權？
(A)司法上(B)行政上(C)教育上(D)經濟上
- () 29. 《中華民國憲法增修條文》規定，全國不分區及僑居國外國民立委共 34 人，依政黨名單投票選舉之，由獲得百分之五以上政黨選舉票之政黨依得票比率選出之，各政黨當選名單中，婦女不得低於二分之一。此一規定是在保障婦女的哪項基本權利？
(A)自由權(B)請願權(C)參政權(D)受益權

【第 3 頁結束—背面尚有試題】

- () 30. 中央流行疫情指揮中心建議，開學後高級中等（含）以下學校、幼稚園、補習班、及托育機構，於3天內同一班級有2名以上（含2名）學生經醫師臨床診斷為感染流感時，建議該班停課5天（含例假日），簡稱「325標準」。依據上述內容判斷，這項宣布在法律的位階上與下列何者相同？

(A) 憲法 (B) 通則 (C) 辦法 (D) 條例

- () 31. 淑芬在電視新聞上看到「遞交請願書」、「提起訴願」的相關報導，進而與班上同學討論「請願」與「訴願」的差異，並整理成右表，不過卻錯誤百出。請問：關於右表，哪項最正確？

選項	請願	訴願
提起人	權益無損的人	任何人皆可提
權利	集會結社的自由	司法上的受益權
受理機關	向警察機關提出	向司法機關提出
提起次數	同件事可重複提出	同件事只能提出一次

(A) 提起人 (B) 權利 (C) 受理機關 (D) 提起次數

- () 32. 《憲法》是國家根本大法，下列關於《憲法》的相關敘述，何者正確？

(A) 由立法院提出《憲法》修正案 (B) 其條文非常詳細 (C) 其修改程序簡單容易 (D) 需經由立法院投票複決。

- () 33. 出久說：「我國《憲法》是國家根本大法，因此法律及命令不得抵觸憲法，如有抵觸之疑慮，應依照法律聲請某院裡面的某職位做釋憲的動作。」

請問出久所敘述的這段話，表現了憲法的何種特性？

(A) 原則性 (B) 強制性 (C) 最高性 (D) 固定性

- () 34. 因應武漢肺炎，衛福部部長陳時中宣布禁止師生出國，依據《嚴重特殊傳染性肺炎防治及紓困振興特別條例》第7條「指揮官應變權」，該法條內容為「中央流行疫情指揮中心指揮官為防治控制疫情需要，得實施必要之應變處置或措施」。依照此段說明，請問政府基於哪種情況限制人民的基本權利？

(A) 防止妨礙他人自由 (B) 避免緊急危難 (C) 維持社會秩序 (D) 增進公共利益

- () 35. 新聞報導：「服務於憲兵指揮部的亞妮，在司法官考試中脫穎而出，成為國軍第一位通過國家司法官考試的女性官兵，未來退伍後經受訓，可以擔任檢察官或法官。」上述內容最能說明《憲法》保障人民的哪種權利？

(A) 受益權 (B) 參政權 (C) 平等權 (D) 自由權

二、題組：(五題，每題1分，共5分)

憲法為了維護人民的尊嚴及價值，明確規定不可侵犯的事項，以及可以向國家請求給予利益之權利。有了權利，人民也應履行憲法所規定之基本義務。判斷下列各項敘述，若為

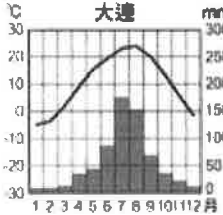
基本「權利」，請填(A)；**基本「義務」**，請填(B)；**既是「權利」也是「義務」**，則填(C)。

- () 36. 身為邊緣人的義勇，在大學畢業時收到兵單，準備成為國軍一員。
 () 37. 父母選了一間有排球隊的國小，讓年滿六歲的翔陽就讀。
 () 38. 承太郎為了生病的媽媽，與外公及同學出國至埃及尋求解藥秘方。
 () 39. 為了促進社會利益吹雪組織吹雪組為民服務。
 () 40. 崎玉身無分文，想要去參加就業輔導，拿到一份工作養活自己。

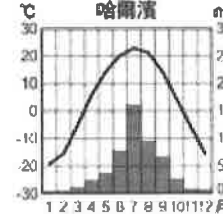
澎湖縣立文光國民中學 108 學年度第 2 學期 第 1 次成績評量 8 年級地理科試卷

班級：_____ 姓名：_____ 座號：_____ 讀卡 答案卷

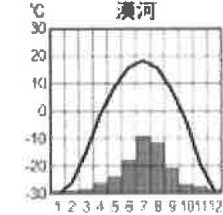
一、單一選擇題（十題，每題 2 分，共 20 分）

- () 41. 若同時考量中國各區的位置、自然環境和社會條件，則中國的南部區域呈現怎樣的特徵？
 (A)氣候乾燥且寒冷 (B)地形以盆地、丘陵為主 (C)人口稠密，產業發達 (D)發展程度較低，速度較慢。
- () 42. 雲南、貴州及廣西三省區石灰岩地形發達的原因可能有：(甲)地表植被覆蓋(乙)氣候高溫多雨(丙)河川水流湍急(丁)石灰岩層廣布。以上哪些是正確的？
 (A)甲、乙 (B)乙、丙 (C)甲、丁 (D)乙、丁。
- () 43. 雲貴高原的昆明環境幽靜，四季如春，其氣候比緯度差不多的廣州涼爽宜人的主要原因是什麼？
 (A)位於寒帶季風氣候區 (B)地勢較高，山上的溫度因而較低 (C)白天日照時間比較短 (D)四周有涼流的經過。
- () 44. 南部區域大部分都是哪兩個水系的流域範圍？
 (A)長江、黃河 (B)黃河、淮河 (C)淮河、海河 (D)珠江、長江
- () 45. 某天下午一群人正在討論中國地理分區，利路姆說：「中國東半部可依秦嶺、淮河一線分成南部區域和北部區域。」哥布塔接著說：「其中北部區域包括東北和西北。」嵐牙趕緊接話：「南部區域在長城、山海關之外，一般稱為關外。」此時加畢爾經過也插了一句話：「華中地區主要為黃河流域，是孕育中華文化的搖籃。」請問：哪個人的說法才是對的？
 (A)利路姆 (B)哥布塔 (C)嵐牙 (D)加畢爾
- () 46. 附圖為北部區域三個都市氣候圖，緯度由高而低排列的順序為何？
- 

大連



哈爾濱

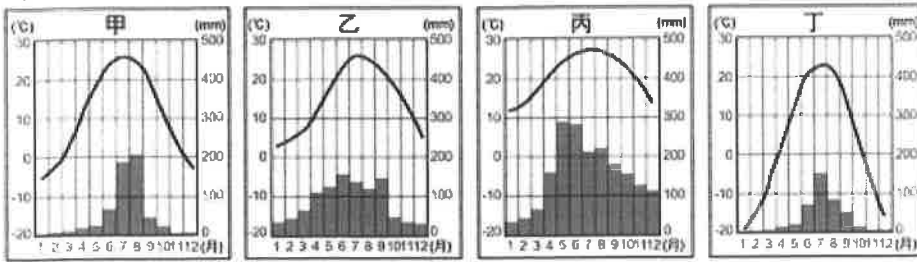


漠河
- (A)漠河→哈爾濱→大連 (B)哈爾濱→漠河→大連 (C)大連→哈爾濱→漠河 (D)漠河→大連→哈爾濱
- () 47. 中國有一地區，四周被高山環繞，內部卻有一處良田，世人俗稱此地為「天府之國」請問此處為何？
 (A)成都平原 (B)華北平原 (C)東北平原 (D)珠江三角洲
- () 48. 婉蓉上網搜尋專題報告的資料，輸入「長江流域」、「湖廣熟，天下足」等關鍵字，試問其報告的地區為何？
 (A)鄱陽盆地 (B)長江三角洲 (C)兩湖盆地 (D)山東丘陵
- () 49. 一群學生在討論降低黃河一帶環境災害的威脅所採取的防治作法。健洪：「上游處應當截彎取直，防止水流溢出。」臨俊：「中游處需要加高堤防，以免過量的河水造成水患。」瑩芳：「當地居民需要退田還湖，讓湖泊的調水能力提升。」雨宸：「下游處可以開闢分洪區，使河流帶來的泥沙及水量分散。」何者敘述正確？
 (A)健洪 (B)瑩芳 (C)臨俊 (D)雨宸
- () 50. 此處為第一個設立的經濟特區，與澳門隔水相望，長期受中國政策影響經濟成長快速，請問此處為何？ (A)香港 (B)廣州 (C)上海 (D)深圳

【第 5 頁結束—背面尚有試題】

二、題組：(十題，每題1分，共10分)

(一)下列是中國東半部某四個都市的氣候圖，請回答下列問題：



- () 51.依據圖中資料判斷，這四個都市若由南而北排列，則正確的順序如何？
 (A)甲乙丙丁 (B)乙丙甲丁 (C)丙乙甲丁 (D)丁甲丙乙？
- () 52.甲、乙、丙、丁四個都市何者的年溫差最大？
 (A)甲 (B)乙 (C)丙 (D)丁？
- () 53.甲、乙、丙、丁這四個都市冬季溫差甚大，主要受下列哪項因素的影響？
 (A)地形 (B)緯度 (C)季風 (D)距海遠近

(二)附圖(一)為中國南部區域地圖，請依圖回答下列問題。



圖(一)

- () 54.三峽大壩位於圖中何處？
 (A)甲 (B)乙 (C)丙 (D)丁
- () 55.下列哪種現象不是三峽大壩所帶來的影響？
 (A)上游集水區水位下降 (B)發電量上升
 (C)古蹟與居民必須搬遷 (D)河口泥沙量減少
- () 56.下列哪個城市位於在「丙」區？
 (A)瀋陽 (B)上海
 (C)廣州 (D)昆明

(三)附圖(二)為中國區域簡圖，請依圖回答下列問題。



圖(二)

- () 57.丙處由於煤鐵礦產豐富，因此素有「能源流域」之稱，請問關於此處配對何者錯誤？
 (A)上游：水力 (B)中游：煤鐵
 (C)下游：天然氣 (D)中游：石油
- () 58.某處因地勢低窪、排水不暢，早期荒草漫漫，是中國沼澤最大分布區域，故有「北大荒」之稱。後來政府實施一連串的排水改善工程，改善排水後，利於耕作，後稱「北大倉」，此處為何？
 (A)甲 (B)乙 (C)丙 (D)丁
- () 59.中國為了向西部區域開發，把此處列為中繼站，並且在三峽大壩完成後升格為直轄市，此處位於？
 (A)甲 (B)乙 (C)丙 (D)丁
- () 60.附表為維鳴去中國某地旅遊的氣候，依照表格資料，請問此地最有可能在哪個流域？
 (A)甲-熱帶季風氣候
 (B)乙-副熱帶草原氣候
 (C)丙-溫帶草原氣候
 (D)丁-溫帶季風氣候

高度	1月月均溫	7月月均溫	年雨量
1508公尺	-6.5°C	20.9°C	337公釐