

澎湖縣立文光國民中學 108 學年度第 2 學期第 2 次成績評量七年級國文科試題卷

班級： 姓名： 座號： ■答案卷

一、國字注音：(每一個「」1分，共20分)

1. 修「く一、」房屋： 2. 壁立萬「口ㄣ、」： 3. 冰「雹」： 4. 隱「晦」：
5. 「彳弓ノ」繞： 6. 「弓、」然神傷： 7. 「渺」小： 8. 結實「纍纍」：
9. 鏗「鏘」有力： 10. 「籠」罩： 11. 「紮」實： 12. 「擁」擠：
13. 「彳又ノ」悵不已： 14. 「出又、」立： 15. 「拚」命： 16. 拮「ㄣ口」：
17. 濃「口、」： 18. 溫「丁口ㄣノ」： 19. 「冂一、」食： 20. 繁「一弓ノ」：

二、注釋：(每題2分，錯字1分，共10分)

1. 安分守己： 2. 闐然： 3. 盡釋前嫌： 4. 生氣勃勃： 5. 祕訣：

三、成語配合題：(請根據句子的描述，填入正確答案的代號，每題1分，錯字不給分，共10分)

【(子)欲蓋彌彰 (丑)古道熱腸 (寅)囫圇吞棗 (卯)目不暇給 (辰)絃歌不輟
(巳)傾囊相授 (午)如膠似漆 (未)鶉衣百結 (申)明月清風 (酉)洗淨鉛華】

- 甲、雖然飽受天災的威脅，但在校長和老師的努力下，這個小學校仍然 (1)。
乙、經過此番經歷，堅貞的友誼使得她們更是 (2)地黏在一起，誓言永不分離。
丙、大家原本只是懷疑他而已，但他忙於辯解的樣子反而是 (3)，不打自招。
丁、應豪為人 (4)，慈善義舉一向不落人後，周邊的人都很尊敬他。
戊、難民們顛沛流離，如今各個 (5)，面黃肌瘦，看來令人神傷不已。
己、像他這樣循序漸進地學習，雖然成效可能較慢，總比 (6)、不求甚解要好。
庚、育嘉將他的人生經驗 (7)，只為了不要讓更多人走向錯誤的道路。
辛、他寧可到山上隱居，過著 (8)的生活，也不願回到城市中與他人爾虞我詐。
壬、這位當紅女明星自從告別演藝圈後，(9)，回歸樸實的樣貌，恬淡生活。
癸、人生就像一趟豐富精彩、(10)的旅程，一定要好好珍惜當下的每一刻。

四、翻譯：(四題，共14分)

1. 見藐小微物，必細察其紋理，故時有物外之趣。(3分)
2. 徐噴以煙，使之沖煙飛鳴，作青雲白鶴觀，果如鶴唳雲端，為之怡然稱快。(4分)
3. 又常於土牆凹凸處、花臺小草叢雜處，蹲其身，使與臺齊。(3分)
4. 忽有龐然大物，拔山倒樹而來，蓋一癩蝦蟆也。舌一吐而二蟲盡為所吞。(4分)

五、選擇：(每題2分，共34分)

1. () 落花生的性格文中先說明落花生柔弱的外表，再寫落花生堅韌的生命力，這樣的寫作手法屬於下列何者？
(A)先抑後揚法 (B)先揚後抑法 (C)抑揚並舉法 (D)首尾呼應法。
2. () 「落花生安分守己，發展得很慢，腳步卻踏得最堅實，它很少碰到失敗。」下列何者意思與此句意旨相同？
(A)坐而言不如起而行 (B)驚馬十駕，功在不舍 (C)鍥而不舍金石可鏤 (D)按部就班一步一腳印。
3. () 「落花生在平凡裡有雄奇，在渺小裡有偉大。」以上要表達的是什麼？
(A)落花生雖然外表平凡，卻有吸引人的魅力；雖然果實渺小，卻有高度的繁殖能力 (B)落花生雖然出身平凡，卻有偉大的適應力；雖然價錢低廉，卻有各式各樣的用途 (C)落花生雖然外表平凡，卻有強大的生命力；雖然形體小價錢賤，卻有可貴的德性 (D)落花生雖然外表粗糙，卻有極深厚的光澤；雖然形體小價錢賤，卻有廣泛的用途。
4. () 落花生的性格一文主旨在說明什麼？
(A)提醒大家要注意儀表，自重重人 (B)勉勵大家要功成不居，分享榮耀 (C)勸勉眾人要信賴他人，注重團隊 (D)暗示人們要腳踏實地，樸實守分。
5. () 有一回忍俊不住，就近摘了熟透的一顆，不過李子般大，試咬之，腐熟軟塌的果肉，自齒間傳出，口感欠佳。」由此可推斷，土芭樂具有何種缺點？
(A)土芭樂果實過小，賣相不佳 (B)土芭樂過熟，口感軟爛 (C)土芭樂滋味如李子，沒有特色 (D)土芭樂未熟，口感生澀。
6. () 「不若時下珍珠芭樂的脆實，果肉熟度亦不均勻。再摘一顆皮硬青綠的，盡是粗澀之感，但它繼續報以芳醇之味，教人憶起兒時摘食的快樂。」作者明知土芭樂口感不佳，為何還是摘採？
(A)作者喜歡土芭樂酸澀的口感，故還是會摘採食用 (B)作者覺得土芭樂口感芳醇，故還是摘採食用 (C)作者認為土芭樂改良後口感有提升，故摘採食用 (D)作者認為土芭樂是兒時的滋味，故摘採食用。
7. () 「但年紀老大了，再吃到這種童年貧窮時充饑的小水果，智慧難免略有增長，因而竟然有了牛頓在蘋果樹下，被掉落的蘋果打到頭後的那種頓悟。」作者為何突然對土芭樂改觀了？
(A)作者因年歲漸增而成長，因而能體會土芭樂為了生存的用心 (B)作者就像牛頓一樣，被樹上的土芭樂砸中，因而開竅 (C)作者隨著年歲的增長見識也開闊，因此能接受更豐富的口味 (D)作者仰慕牛頓，故想從土芭樂悟出特別的人生道理。
8. () 詠物類的文章常透過描寫客觀事物，來抒發和傳達作者的某種情感、思想和志趣。請判斷下列各句，何者是作者在詠物時，明顯表達其內在蘊藏的情感？
(A)記得過去曾經在颱風過後的山林中看到了不少的斷枝殘幹，為什麼這片竹林中沒有這種景象呢 (B)昂起頭來向上望，看看它是以一種什麼樣子的姿勢挺拔起來的，希望能從它的身上學一點點如何才能挺拔的祕訣 (C)竹林就是竹林，純得很，除了竹子，別無其他，就是一棵野花草野什麼的，要想在這些竹林中立足，也是很不容易的 (D)竹子們是喜歡跑到山頭上去聚居的，但是我從來沒有看到過溪頭山上的竹子這樣地稠密，這樣地擁擠。
9. () 「溪頭是一簇迷人的風景，而擁簇在這裡的那些茂密的竹林，乃是風景中的風景。」關於這段課文的解釋，何者最正確？
(A)臺灣最美的風景在溪頭 (B)溪頭的竹林是溪頭的美景之一 (C)溪頭的旅客都是為了竹林而來 (D)溪頭的竹林是溪頭最美的風景。

10. () 下列何者不是作者舉出的「溪頭竹子的特性」？
 (A)爭高直指的姿態 (B)抵擋強風的團結精神 (C)為了生長，拚命爭奪養分的決心 (D)講究秩序，固守領域的精神。
11. () 下列何者最能呼應沈復在兒時記趣中以「豐富的想像力」，把尋常事物幻想成新奇的景象？
 (A)余憶童稚時，能張目對日，明察秋毫 (B)夏蚊成雷，私擬作群鶴舞空 (C)神定，捉蝦蟆，鞭數十，驅之別院 (D)昂首觀之，項為之強。
12. () 「人們可支配自己的命運，若我們受制於人，那錯不在命運，而是在我們自己。」這段話的文意，與下列何者相同？
 (A)人的命運操之在己 (B)人們應該聽天由命 (C)人要學會與世浮沉 (D)人要識時務而改變。
13. () 「沒有大膽的猜測，就做不出偉大的發現。」根據本文判斷，猜測與發現的說明下列何者錯誤？
 (A)大膽的猜測為發現的基礎 (B)大膽的猜測能產出新發現 (C)大膽的猜測才能有所發現 (D)大膽的猜測是偉大的發現。
14. () 「我們處於什麼方向不要緊，要緊的是我們正朝什麼方向移動。」關於本文的說明下列何者正確？
 (A)「處於什麼方向」指的是我們的目的地 (B)「處於什麼方向不要緊」說明出身決定成敗 (C)「正朝什麼方向移動」指過程中必會經歷困難 (D)「要緊的是我們正朝什麼方向移動」指的是明白並決定目標。
15. () 有關漢字形體的演變，下列敘述何者正確？
 (A)甲骨文又叫鐘鼎文 (B)隸書徹底擺脫了圖畫性而成為純粹的符號，為方塊漢字定型的轉折點 (C)王羲之的蘭亭集序，堪稱名聞千古的「天下第一草書」 (D)秦國一統天下，大篆成為全國統一使用之文字。
16. () 有關中國書法的各種字體描述：「□如立，□如趨，□如奔」，上文□中書法字體的正確排列順序依序為何？
 (A)楷／行／草 (B)草／楷／行 (C)行／隸／草 (D)楷／篆／行。
17. () 中國文字的演變，可從書法上觀其一二，請辨識出以下甲到丁的書體：



- (A)甲骨文、楷書、草書、隸書 (B)金文、隸書、行書、楷書 (C)小篆、隸書、行書、楷書 (D)大篆、楷書、行書、隸書。

六、閱讀測驗：(一題2分，共12分)

食蔥有時

農曆正月倏忽將至，大啖青蔥的好時節又來了。

老一輩臺灣人有句琅琅上口的農諺，「正月蔥，二月韭，三月莧……」一路數到十二月的大白菜，闡述出先人的智慧：萬物有定時，食亦應合時。正月收成的蔥栽種於農曆十月，成長期間逢冬，氣溫較低，因而蔥白特長，最是美味。

記得母親在世而我尚未出國時，有一年跟她上菜市場辦年貨，攤上大捆大捆的青蔥，蔥白修長挺直，蔥葉碧綠柔嫩，看得我目不轉睛，擠過去買了一大把，須兩手才合握得住。

媽媽說：「怎麼買這麼多？蔥不經擺，會枯掉。」

「燒幾條蔥烤鯽魚，半把就用掉了。再炒個蔥爆牛肉或京醬肉絲，又是小半把。剩下來當調味料，不必等過年，兩天就吃光了。」

「妳就是愛吃蔥。記得妳上小學以前偏食，簡直什麼都不吃，就愛從菜裡挑出蔥段來吃，還專舀漂在湯上的蔥花。」

媽媽不知怎的，想起了我這個當事人幾乎快遺忘的遠年往事。天底下為人母者多半是這樣吧，她們深知每一個子女的習慣、嗜好與不同的個性，更把有關兒女的一些瑣細小事都記得牢牢的。

在那天以前，我並未覺察自己有此偏嗜——雖然直到現在我仍保有吃菜先挑蔥段、喝湯先舀蔥花的習慣。燒中國菜時加蔥，於我始終是那麼自然而然的事。我總愛在燒菜前，先起油鍋放蔥段爆香，青蔥乍下鍋時帶著刺激意味的茲啦一聲，以及頃刻後瀰漫整個廚房、微帶焦味的蔥香，往往叫我還沒做好一道菜，便已飢腸轆轆。

喜以青蔥添味增香者何止我一人而已，蔥早已是烹調中國菜不可或缺的基本調味料。只不過它多半居於陪襯地位，充其量是舞臺上的小配角，在戲將落幕、菜臨上桌時方上陣，以蔥花或蔥絲的姿態驚鴻一瞥。然而你可別小覷這看似微不足道的青蔥，沒有它來畫龍點睛，紅燒牛肉麵、皮蛋豆腐和清蒸魚等多到不及細數的菜色，好像就失去該有的滋味。

臺灣市面上常見的青蔥有北蔥和日蔥兩種。前者蔥白較短，質地稍粗，用來爆香還不錯，切成蔥花灑在熱湯或菜肴上亦佳，但較不宜切大段生食，有點辛辣。日蔥蔥白較長，質嫩且味較甜，身價自然也較高，宜蘭三星蔥即是日蔥的一種，用來爆炒固然好吃，即使佐烤鴨或捲大餅生食也並不很噁。

可惜我旅居的荷蘭只買得到北蔥，價錢貴不說，蔥白還特短，偶爾看到有蔥白長逾五吋的青蔥，簡直如獲至寶，趕緊買上三、四束。一束切除部分蔥葉，整根塗以橄欖油，炙烤到軟後，澆上更多的橄欖油、一點白酒醋，灑鹽和胡椒醃漬起來，冷透且入味後便是帶有義式風味的開胃小菜。其餘的蔥只留極少的蔥綠，切斜段，和以醬油、糖與酒醃過的牛肉片一同爆炒，佐以墨西哥烙餅，再來碗灑了蔥花的蝦皮蘿蔔湯，就是不中不西卻好吃到夫妻倆幾乎停不了嘴的家常美食。

() 1. 在食蔥有時一文中，哪一段的描述較無法證明作者愛蔥且嗜蔥如命？(2分)

- (A) 農曆正月倏忽將至，大啖青蔥的好時節又來了
- (B) 偶爾看到有蔥白長逾五吋的青蔥，簡直如獲至寶，趕緊買上三、四束
- (C) 妳就是愛吃蔥，記得妳上小學以前偏食，簡直什麼都不吃，就愛從菜裡挑出蔥段來吃，還專舀漂在湯上的蔥花
- (D) 攤上大捆大捆的青蔥，蔥白修長挺直，蔥葉碧綠柔嫩，看得我目不轉睛，擠過去買了一大把，須兩手才合握得住。

() 2. 關於食蔥有時一文的寫作，下列說明何者不正確? (2分)

- (A) 雖以尋常可見的青蔥為題材，但卻細膩寫出烹調與食用的樂趣
- (B) 母女對話一段，除顯示出作者對青蔥的偏愛，也呈現出母愛的溫馨
- (C) 首段點出十月是食蔥的最佳時節，認同「萬物有定時，食亦應合時」的觀點
- (D) 文中時空轉換變化，凸顯出對青蔥的喜愛卻始終如一。

3. 為什麼當作者在荷蘭只能買到北蔥時，卻把它當成「好吃到幾乎停不了嘴的家常美食」? (2分)

石頭的价值

他很普通，沒有什麼大作為，因此一直覺得活著沒有什麼意義。

一天，他向一位哲學家請教：「你能告訴我，像我這樣的人，活著有什麼意義嗎？」哲學家想了想，便隨便拾起樹底下的一塊石頭來，遞給他說道：「你把這塊石頭拿到市場上去賣，但是記住，無論別人出多少錢，你都不要賣。」他這樣做了。沒想到的是，由於他堅決不肯出售，人們反而認為他的石頭裡藏著什麼秘密，因此價錢越出越高。

第二天，按照哲學家的意思，他又把石頭拿到了玉石市場來賣。結果，由於他還是不肯出售，價格又是一路飆升，已經遠遠超過一般玉石的行情了。

第三天，哲學家又告訴他到珠寶市場去賣這塊石頭。最後，奇蹟出現了，這塊本來一文不值的普通石頭成了整個珠寶市場價格最高的商品，人們甚至以為它是千年不遇的珍奇化石。

「怎麼會這樣呢？」這人非常奇怪地問哲學家，「這明明是一塊再普通不過的石頭嘛！」

「但是，」哲學家回答道：「當你非常珍惜它，把它當作稀世珍寶時，它便擁有了無上的價值。生命不也一樣嗎？」

這人一下子明白了。人生的價值，是由人自己決定的。一個人只有做到自我珍視，逐步充實和完善自身，不斷提高自己的修養和品味，世界才會越來越認同他的價值。

(再笨，也要想一想：給你提神醒腦的人生極短篇)

() 4. 關於本文敘述，下列何者「正確」? (2分)

- (A) 全文使用第一人稱敘述故事
- (B) 本文使用藉事說理的寫作手法
- (C) 石頭價格攀升是因為主角欺騙人們
- (D) 最後石頭被鑑定是千年不遇的珍奇化石。

() 5. 下列何者與本文的主旨最「相近」? (2分)

- (A) 人生的價值在於創造一個有價的人生
- (B) 工作就是人生的價值，也是幸福的所在
- (C) 學者的一天比不學無術的人一生還有價值
- (D) 真理是我們所擁有的東西中，最有價值的東西。

6. 造成主角的石頭價格一路攀升的主要原因為何? (2分)

澎湖縣立文光國民中學 108 學年度第 2 學期第 2 次成績評量七年級國文科答案卷

班級： 姓名： 座號：

一、國字注音：(每一個「」1分，共20分)

1.	2.	3.	4.	5.	6.	7.	8.	9.	10.
11.	12.	13.	14.	15.	16.	17.	18.	19.	20.

二、注釋：(每題2分，錯字1分，共10分)

1. 安分守己：
2. 闐然：
3. 盡釋前嫌：
4. 生氣勃勃：
5. 祕訣：

三、成語配合題：(請根據句子的描述，填入正確答案的代號，每題1分，錯字不給分，共10分)

1.	2.	3.	4.	5.	6.	7.	8.	9.	10.
----	----	----	----	----	----	----	----	----	-----

四、翻譯：(第一題3分，第二題4分，第三題3分，第四題4分，共14分)

1.
2.
3.
4.

五、選擇：(每題2分，共34分)

1.	2.	3.	4.	5.	6.	7.	8.	9.	10.
11.	12.	13.	14.	15.	16.	17.	加	油	!

六、閱讀測驗：(一題2分，共12分)

1.	2.
----	----

3.答：_____

4.	5.
----	----

6.答：_____

澎湖縣立文光國民中學108學年度第二學期第2次成績評量七年級英語科試卷 **題目卷**

【題目卷共3頁，答案請寫在作答卷上】

一、聽力測驗：(每題2分，共10分)

★基本問答：每題均有三個選項，請依據所聽到的內容，選出一個最適合的回應

- (A) My dad comes here on weekends.
(B) It is on the eighth floor.
(C) It is in August.
- (A) It's yummy.
(B) It's one hundred dollars.
(C) I need two bowls of rice.
- (A) I have three. Juice, milk, and water.
(B) I have three. English, math, and PE.
(C) I have three. Red, blue, and brown.

★言談理解：每題均有三個選項，請依據所聽到的對話與問題，選出一個最適當的答案

- (A) Fifty dollars.
(B) A cup.
(C) Two.
- (A) It's in July.
(B) It's this weekend.
(C) It's on June eighth.

二、文意字彙：(每題2分，共20分)

- _____ My grandma is a good cook. Her dishes are d_____, and we want to eat more (更多).
- _____ May is the fifth month of the year, and it comes after A_____l.
- _____ There are five s_____ps to wash your hands (雙手). First, you need to wet (弄濕) your hands.
- _____ We don't have e_____h food for next week. Let's go to the supermarket (超市) tonight.
- _____ A: Happy birthday. This cake is for you.
B: Thank you so much. Let me cut (切) it into p_____es. Then I can share them with everyone.
- _____ My family shares the h_____k. I do the dishes, my sister mops the floor, and my brother cleans the bathroom.
- _____ Double Tenth Day (雙十節) is the birthday of the ROC. It is on O_____r tenth.
- _____ You have a little problem with your car. It's not d_____t for me. I can fix (修理) it in three minutes.

七年 _____ 班 座號：_____ 姓名：_____

- _____ There are twelve m_____hs in a year, and January is the first one.
- _____ A: Do you use jam (果醬) to go with toast (烤吐司)?
B: No, I don't have jam at home. I eat toast only with b_____r.

三、文法測驗：(每個答案2分，共10分)

- () A: _____ is there in the box?
B: There _____ five bags.
(A) How many bags of salt; are
(B) How much salt; is
(C) How many bags of salt; is
(D) How much salt; are
- () A: There _____ a lot of fish in the pond. _____ fish do you have?
B: About sixty.
(A) are; How many
(B) is; How much
(C) is; How many
(D) are; How much
- () A: Do we need _____ drinks for the party?
B: Yes, we need _____ tea and juice.
(A) any; some
(B) some; any
(C) a lot; much
(D) much; many
- () There are _____ floors in this building, and my uncle lives (住在) on the _____ floor.
(A) twenty; twentieth
(B) twentieth; twentieth
(C) twenty; twenty
(D) twentieth; twenty
- () A: Is this Meg's hat or _____?
B: It's _____. Mine is on the sofa.
(A) your hat; her (B) you; hers
(C) your; her hat (D) yours; hers

四、對話與完成句子：(每個答案2分，共10分)

- () A: Who wants hot dogs, Jimmy or Ted?
B: _____
(A) Jimmy wants both.
(B) Eating too many hot dogs is bad for you.
(C) Jimmy does. He wants a pet dog.
(D) Ted does. He is very hungry.

【第1頁結束，背面尚有試題】

2. () A : Do you want to try (試) this cake?
B : Sure. Wow, it is delicious. _____
A : First, I put an egg into a bowl with a cup of flour. Second, I mixed them together, and then....
(A) How many eggs are there in the kitchen?
(B) How much flour do we have?
(C) How did you make it?
(D) How much is it?
3. () A : How many eggs are there in the box?
B : There are twelve in it.
A : Can I have two eggs, please?
B : _____
A : Thanks a lot.
(A) They're not mine.
(B) There's only one.
(C) They're David's boxes.
(D) Sure. Here you are.
4. () A : Can you help me with the English homework?
B : _____ Can you wait for me?
A : Sure. I will(將會)come to you later.
(A) Sorry, I don't have time until three.
(B) Oops. Math is hard for me.
(C) Of course not. English is difficult for me.
(D) You're right. I teach English at a junior high school.
5. () A : I'm so thirsty. Is there any water?
B : _____
(A) Of course. Let's water the flowers together.
(B) Which do you want, the glass of juice or the cup of tea?
(C) No, but there are some cans of orange juice. Do you want some?
(D) Yes, there is some apple juice on the table. I can get some for you.

五、克漏字選擇：(每個答案 2 分，共 26 分)

1. Sandra : Why are you buying the dolls?
Kenji : They are gifts for my daughter. She's in Japan, and it's Girls' Day there today.
Sandra : Girls' Day? What's that?
Kenji : People in Japan celebrate it 1-1. March 3rd only for girls.
Sandra : 1-2. Your daughter must be very happy when she sees these dolls. But isn't it too late?
Kenji : Too late? What do you mean?
Sandra : 1-3.
Kenji : It's March 3rd.

- Sandra : And 1-4.?
Kenji : It's 8 p.m.
Sandra : You're right. But now we're in Hawaii, not in Japan.
Kenji : Oops. It's already March 4th in Japan. I missed Girls' Day.
📖 why 為什麼 buy 購買 celebrate 慶祝
when 當.....的時候 already 已經 miss 錯過
- () 1-1. (A) in (B) at (C) from (D) on
() 1-2. (A) Of course.
(B) Can I join you?
(C) I see.
(D) I am very proud.
() 1-3. (A) When is their birthday party?
(B) What's the date today?
(C) When is Girls' Day?
(D) Which day do they celebrate it?
() 1-4. (A) what time is it
(B) do you have time
(C) whose watch is it
(D) how old is she

2. Lucy : We need some desserts for our kids.
What about making some strawberry pies?
David : That's a good idea.
Lucy : 2-1. flour do we need?
David : Three bags. Look! There are some banana cakes. Can I get some?
Lucy : OK. 2-2. cakes do you want?
David : Two cakes are enough. Wow! There are some apple pies, too. Let's get some.
Lucy : No, you can choose only one kind from these two desserts. 2-3. do you like, banana cake or apple pie?
David : I like banana cake and apple pie. 2-4.
Lucy : No, you can't. We didn't bring enough money with 2-5.

- 📖 dessert 甜點 kid 小孩 choose 選擇
kind 種類 bring 帶來
- () 2-1. (A) How many (B) How much
(C) How about (D) How old
() 2-2. (A) Are there any (B) Is there some
(C) How many (D) How much
() 2-3. (A) Whose (B) Who (C) What
(D) Which
() 2-4. (A) Do you like them?
(B) Can I have both?
(C) Do you like it?
(D) How much are they?
() 2-5. (A) us (B) we (C) our (D) ours

3. Dear Sir / Madam,

My name is Wyatt Lopez. I am a sports car driver and will 3-1. a car race in Japan next month. Your company helped me book flights and hotels. Today is 3-2. twenty-eighth. My flight to Japan is only five days 3-3. But I want to make a change: please tell the airline to prepare vegan meal for me. My flight to Japan is on March fifth. The flight back to America is 3-4. March twentieth. I hope it is not too late to make this change. Thank you very much.

Sincerely,

Wyatt Lopez

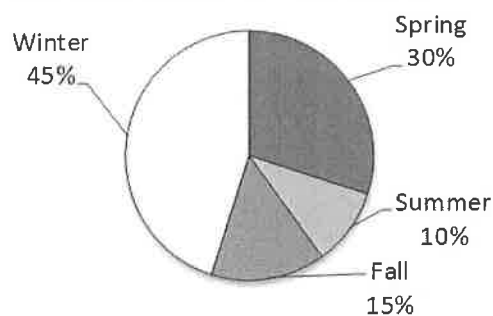
will 將會 company 公司 book 預定 flight 航班 change 更改 airline 航空公司 vegan meal 素食餐 sincerely 謹啟

- () 3-1. (A) work (B) do (C) join
(D) make
- () 3-2. (A) January (B) February
(C) March (D) April
- () 3-3. (A) off (B) away (C) on
(D) from
- () 3-4. (A) for (B) in (C) at (D) on

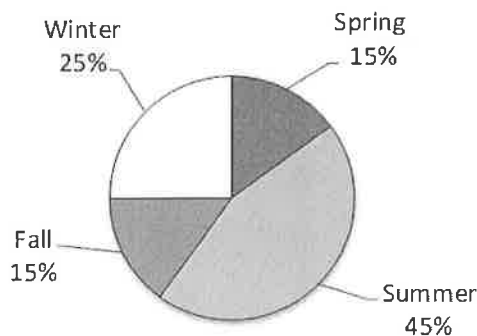
六、閱讀測驗：(每題 2 分，共 6 分)

Here is a survey. We asked 200 students in Sakura School and 200 students in Himawari School.

The Best Season to Visit Korea



Sakura School



Himawari School

survey 調查 best 最佳的 season 季節 visit 造訪 spring 春季 summer 夏季 fall 秋季 winter 冬季

- () 1. For the most students of Sakura School, when might be the best time to visit Korea?
 most 最多數的 might 可能
(A) December twenty-fifth.
(B) March eleventh.
(C) July seventh.
(D) September first.
- () 2. For the most students of Himawari School, when might be the best time to visit Korea?
 most 最多數的 might 可能
(A) February twenty-eighth.
(B) May fourth.
(C) August fifteenth.
(D) November twenty-seventh.
- () 3. How many students of Sakura School would like to visit Korea in fall?
 would like 想要
(A) 15.
(B) 20.
(C) 25.
(D) 30.

七、依提示作答：(1-3 題，每題 2 分；4-6 題，每題 4 分，共 18 分)

- Our pencils are short.
Their pencils are long.
(將畫線部分改成所有格代名詞並用連接詞合併句子)
- My daughter wants milk tea, not grape juice.
(用 Which 造原問句)
- It's June seventeenth this Tuesday.
(依畫線部分造原問句 What...)
- Tina 的雙親在台灣工作，她的奶奶每天照顧她。(中翻英)
- 將平底鍋加熱並用糊狀物來製作小圓鬆餅。(中翻英)
- 誰的十二歲生日派對是在十二月第二個星期天?(中翻英)

【試題到此結束，請確實檢查，並將答案寫在作答卷上】

澎湖縣立文光國民中學108學年度第二學期第2次成績評量七年級英語科試卷 作答卷

七年 __ 班 座號：__ 姓名：_____

一、聽力測驗：(每題 2 分，共 10 分)

1	2	3	4	5
---	---	---	---	---

二、文意字彙：(每題 2 分，共 20 分)

1	2	3	4	5.
6.	7.	8.	9.	10.

三、文法測驗：(每個答案 2 分，共 10 分)

1	2.	3	4.	5
---	----	---	----	---

四、對話與完成句子：(每個答案 2 分，共 10 分)

1	2.	3	4.	5
---	----	---	----	---

五、克漏字選擇：(每個答案 2 分，共 26 分)

1-1	1-2.	1-3	1-4.	2-1	2-2	2-3	2-4	2-5	3-1
3-2	3-3	3-4							

六、閱讀測驗：(每題 2 分，共 6 分)

1	2.	3
---	----	---

七、依提示作答：(1-3 題，每題 2 分；4-6 題，每題 4 分，共 18 分)

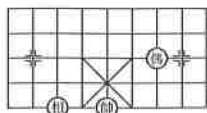
1	
2	
3	
4	
5	
6	

澎湖縣立文光國民中學 108 學年度第 2 學期第 2 次成績評量 7 年級數學科試卷

班級： 姓名： 座號： 讀卡 V 答案卷

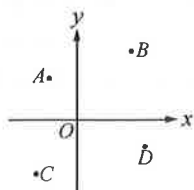
一、選擇(每題 4 分，共 48 分)

1. () 如圖，如果「帥」位於坐標 $(-2, 3)$ ，「相」位於坐標 $(-4, 3)$ ，且向右為 x 軸的正向，向上為 y 軸的正向，則象棋盤上的「馬」應位於下列哪一個坐標？



- (A) $(0, 5)$ (B) $(5, 0)$ (C) $(0, -5)$ (D) $(-5, 0)$

2. () 如圖，在坐標平面上有 A 、 B 、 C 、 D 四個點，請問下列哪一個點坐標是正確的？

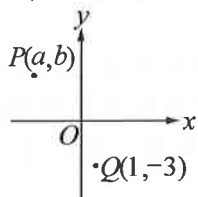


- (A) $A(-2, -3)$ (B) $B(4, -5)$
(C) $C(-3, 4)$ (D) $D(5, -2)$

3. () 下列哪一個點不在 $x+3=0$ 的直線上？

- (A) $(-3, 0)$ (B) $(0, -3)$
(C) $(-3, 3)$ (D) $(-3, 2)$

4. () 在坐標平面上有一點 $P(a, b)$ ，若把 P 向下移 10 個單位長，再向右移 4 個單位長，再往上移 4 個單位長，最終坐標為 $Q(1, -3)$ ，則 $a+b=?$



- (A)0 (B)-5 (C)7 (D)-4

5. () 某棒球選手的打擊率是三成六，在一次比賽中他打擊 22 次，至少得擊出幾支安打才算打出水準？(A)7 (B)8 (C)9 (D)10

6. () 若 $ab > 0$ ，則點 (a, b) 必在哪一象限？

- (A)第一或二象限 (B)第一或三象限
(C)第二或四象限 (D)第一或四象限

7. () 若有一點 Q 與 x 軸相距 7 個單位，與 y 軸相距 3 個單位，且 Q 點在第四象限，則 Q 點坐標為何？

- (A) $(-3, 7)$ (B) $(-7, 3)$
(C) $(3, -7)$ (D) $(-7, 3)$

8. () 若 $(y-3)$ 與 $(x+5)$ 成正比，且 $x=-6$ 時， $y=1$ ，則當 $x=1$ 時， $y=?$

- (A)12 (B)15 (C)18 (D)21

9. () 判別下列何者的 y 與 x 成反比？

x	9	7	4
y	1	3	6

x	3	6	9
y	1	2	3

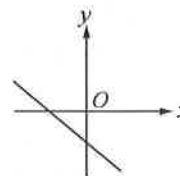
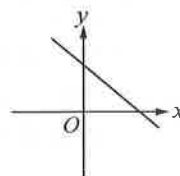
x	2	3	18
y	9	6	1

x	1	7	13
y	1	3	5

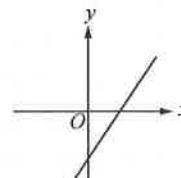
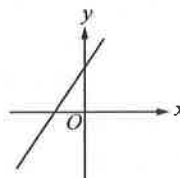
10. () 如果 $a:3=8:b=18:9$ ，那麼 a 、 b 兩數的大小關係為何？

- (A) $a > b$ (B) $a < b$ (C) $a = b$ (D)無法比較

11. () 若 $a < 0$ ， $b > 0$ ，則下列哪一個圖形可能是直線 $ax+by=2$ 的圖形？



- (A) (B)



- (C) (D)

12. () 一杯咖啡是由 180 公克的熱水加上 20 公克的咖啡粉泡成的，請問這杯咖啡的重量百分濃度為多少？

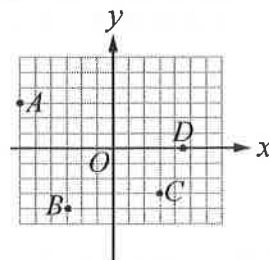
- (A)8% (B)10% (C)11.1% (D)15.3%

[*重量百分濃度定義為：

咖啡粉重量/(咖啡粉重量+水重量)]

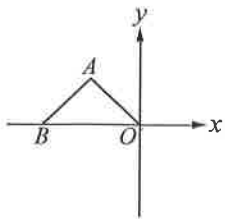
二、填充(每題 4 分，共 32 分)

1. 每格皆為一單位長，寫出下圖在坐標平面上各點的坐標。(各 1 分)



A : _____ ; B : _____ ;
C : _____ ; D : _____ 。

2. 如圖， $\triangle ABO$ 為一個等腰三角形， $\overline{AB} = \overline{AO}$ ， O 為原點， B 點坐標為 $(-8, 0)$ ，且其面積為 15 平方單位，則 A 點之 x 坐標為_____、 y 坐標為_____。(各 2 分)



3. 設 x 與 y 成正比，若 $x=4$ 時， $y=10$ ，則 y 與 x 的關係式為_____，且當 $y=15$ 時， $x=_____$ 。(各 2 分)

4. 設 y 與 x 成反比，而且 $x=-5$ 時， $y=-15$ ，則：
 (1) 當 $x=25$ 時， $y=_____$ 。
 (2) 當 $y=-40$ 時， $x=_____$ 。

5. 已知 y 與 x 成反比，請在下列各空格中填入「正」或「反」：(各 1 分)

(1) x 與 y 成_____比。(2) $\frac{1}{x}$ 與 y 成_____比。

(3) $\frac{1}{y}$ 與 x 成_____比。(4) $\frac{1}{x}$ 與 $\frac{1}{y}$ 成_____比。

6. 小佑平常都是早上 7:00 出門，以固定速率走路，7:30 準時到學校，今日小佑因睡過頭，遲至 7:10 才出門，為了準時到學校，小佑的速率應為原來的幾倍？_____

7. 爸爸想用籬笆圍成一個面積為 90 平方公尺的三角形花園，如果花園的底為 x 公尺，高為 y 公尺，則 y 與 x 的關係式為_____，且 y 與 x 成_____。(填正比或反比)(各 2 分)

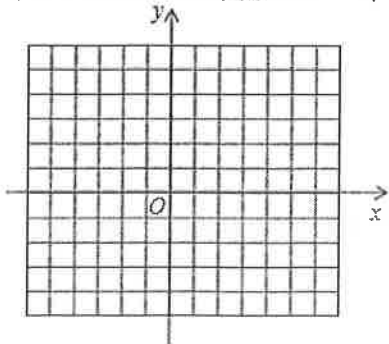
8. 在坐標平面上有三條直線 $L_1: y = -2x + 8$ ， $L_2: 3x - y = -3$ 、 $L_3: -2x + ay = -14$ ，若通 L_1 、 L_2 與 L_3 三直線交於一點，則：(各 2 分)

- (1) L_1 與 L_2 的交點坐標為_____。
 (2) $a = _____$ 。

三、計算(每題 4 分，共 20 分)

1. 若直線通過 $(0, -2)$ 、 $(4, -4)$ 兩點，則：
 (1) 求此直線方程式為何？(2 分)

- (2) 此直線與兩軸所圍成之三角形面積為多少？
 (以下坐標方格為輔助用，計算正確即可，2 分)

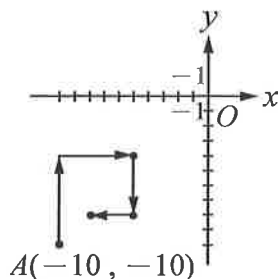


2. 為了防範流感，大創想製作乾洗手以供家人消毒用，已知每 100 毫升的乾洗手含純酒精 75 毫升，試回答下列問題：(各 2 分)

- (1) 若大創想製作 2 公升的乾洗手，則他需要多少毫升的純酒精？(1 公升=1000 毫升)
 (2) 若皓皓也想製作乾洗手，且他購買了 450 毫升的純酒精，則他可以製作出多少毫升的乾洗手？

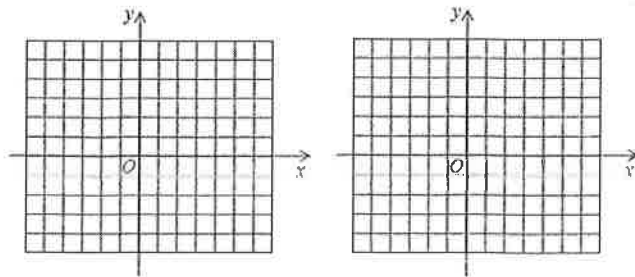
3. 如圖，在坐標平面上，宇睿從 $A(-10, -10)$ 出發，第一天向上走 6 單位，第二天向右走 5 單位，第三天向下走 4 單位，第四天向左走 3 單位，之後的每四天都依照這個方式前進。求計算下列問題：(各 2 分)

- (1) 第八天後的坐標為何？
 (2) 於第幾天首次到達第一象限？請說明你的理由。



4. 賣噹噹連鎖速食店套餐的中薯單價 35 元，加 10 元可以升級大薯，但欣伶閒來無事數起薯條，發現中薯一包有 70 根薯條，大薯一包 84 根，請問
 (1) 加價購買是否划算？
 (2) 若要符合比例，大薯應要有幾根薯條？(各 2 分)

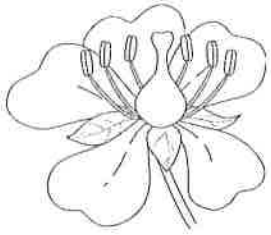
5. 畫出下列方程式的圖形，須用尺畫，否則不予計分
 (1) $y = 2x - 4$ (2) $y = -x + 3$
 (各 2 分)



一、選擇題。全部 38 題(1-38)。每題 2 分。共 76 分

() 01. 下圖是某種植物的花，請問該植物具有下列哪種特徵？

- (A) 種子有兩枚子葉 (B) 葉脈為平行脈 (C) 莖內維管束為散生 (D) 根為鬚根系。



() 02. 承上題，請問該植物應為何種植物？

- (A) 單子葉植物 (B) 雙子葉植物 (C) 裸子植物 (D) 蕨苔植物。

※狗的分類階層為：動物界、脊索動物門、哺乳綱、食肉目、犬科、犬屬、犬種。請回答下列問題：3-4

() 03. 請問下列哪個分類階層所包含的生物種類較多？(A) 犬屬 (B) 食肉目 (C) 犬科 (D) 哺乳綱。

() 04. 請問下列哪個分類階層所包含的生物親緣關係最近？(A) 犬屬 (B) 食肉目 (C) 犬科 (D) 哺乳綱。

() 05. 科學家將原生生物界中的生物分成三類，其主要分類依據為何？

- (A) 運動方式 (B) 個體大小 (C) 獲得養分的方式 (D) 生長環境。

() 06. 有關日常食用的香菇，下列敘述何者不正確？

- (A) 屬於蕈類 (B) 可行光合作用 (C) 屬於真菌界生物 (D) 具有菌絲構造。

() 07. 醫學上可用哪一種生物來提煉抗生素？(A) 黑黴菌 (B) 酵母菌 (C) 結核桿菌 (D) 青黴菌。

() 08. 下列那種動物的特徵屬於【身體柔軟、不分節，有肌肉構成的足，具有可保護身體的外殼】？

- (A) 蜻蜓 (B) 鯊魚 (C) 海星 (D) 蝸牛。

() 09. 請問，下列哪一種生物屬於沒有翅膀的昆蟲？(A) 蜻蜓 (B) 蚊子 (C) 衣魚 (D) 蟬。

() 10. 下列關於細菌的敘述，何者正確？

- (A) 具有細胞核
(B) 對人類有害無利
(C) 依形態可分為球菌、桿菌和螺旋菌
(D) 屬於原生生物界

() 11. 五大界中，哪一界的生物構造最簡單，是地球上最早出現的生物？

- (A) 原核生物界 (B) 植物界 (C) 真菌界 (D) 原生生物界。

() 12. 下列何者是藍綠菌？(A) 昆布 (B) 色球藻 (C) 巨藻 (D) 水綿。

() 13. 請問，海星屬於哪種動物類別？(A) 刺絲胞動物門 (B) 棘皮動物門 (C) 節肢動物門 (D) 軟體動物門。

() 14. 請問，紅魚具有哪一項分類上的分類特性？(A) 羽毛 (B) 鰓蓋 (C) 鰾 (D) 鰓裂。

() 15. 下列各層次中，其組成由簡單至複雜的排列順序為何？

甲. 生態系；乙. 個體；丙. 群落；丁. 族群。

- (A) 乙→丁→丙→甲 (B) 甲→乙→丙→丁 (C) 丙→丁→乙→甲 (D) 丁→乙→丙→甲。

() 16. 在越古老的地層中發現的生物化石，可能具有以下哪種特性？

- (A) 構造越近似人類 (B) 體型越大 (C) 構造越簡單 (D) 種類越多。

() 17. 關種子特性的敘述，下列何者正確？

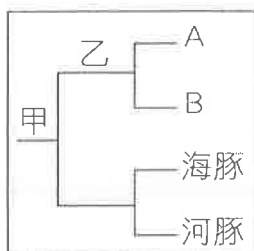
- (A) 發芽所需養分來自於土壤 (B) 種子的形成必須以水為媒介
(C) 可以抵抗乾燥環境並長期保存 (D) 是每一種植物都有的生殖器官

() 18. 請問蘇鐵可以看到下列哪一項構造？(A) 孢子囊堆 (B) 花 (C) 果實 (D) 毬果。

- () 19. 鳥類具有哪項構造，在活動時可閉起以保護眼睛？(A)羽毛 (B)翅膀 (C)瞬膜 (D)鱧蓋。
- () 20. 關於藻類的敘述何者錯誤？(A)具細胞壁 (B)部分種類可食用 (C)能行光合作用 (D)皆為綠色。
- () 21. 請問下列何者屬於原生菌類成員？(A)黏菌 (B)根瘤菌 (C)乳酸菌 (D)藍綠菌。
- () 22. 生物圈範圍包含海平面上下各多少範圍？(A)5 公里 (B)10 公里 (C)15 公里 (D)20 公里。
- () 23. 環境中族群的出現或增加、消失或減少，此種情形稱為什麼？
(A)演化 (B)大滅絕 (C)遺傳 (D)消長。
- () 24. 請問下列哪種植物屬於單子葉植物？(A)油菜花 (B)向日葵 (C)竹子 (D)花生。
- () 25. *Prunus mume* 是梅花的學名，請問下列敘述何者正確？
(A)*mume* 是名詞 (B)*mume* 是屬名 (C)*Prunus* 是梅花的俗名 (D)*Prunus mume* 是拉丁文。
- () 26. 二名法是哪一位學者所提出？(A)林奈 (B)拉馬克 (C)達爾文 (D)孟德爾。
- () 27. 請問，蟬具有下列哪一項分類上特性？
(A)具有外骨骼 (B)具有刺絲胞 (C)身體有環節 (D)腹背扁平的型態。
- () 28. 請問，下列哪一種生物屬於卵生哺乳類？(A)鴨嘴獸 (B)無尾熊 (C)袋鼠 (D)象。
- () 29. 植物界的成員中，何者因沒有維管束，個體通常比較矮小？
(A)蘚苔植物 (B)蕨類植物 (C)裸子植物 (D)被子植物。
- () 30. 請問孢子囊堆可以在下列哪種植物成員中發現？
(A)地錢 (B)鳥巢蕨 (C)台灣二葉松 (D)竹子。
- () 31. 在地球的長久歷史中，生物的體型和構造會隨著環境的變化而改變，這種改變的過程稱為什麼？
(A)演化 (B)突變 (C)遺傳 (D)育種。
- () 32. 請問，那一門是動物界中種類最多、分布最廣的一門？
(A)軟體動物門 (B)節肢動物門 (C)刺絲胞動物門 (D)扁形動物門。
- () 33. 以下是三種生物的學名：甲.*Penaeus japonicus*，乙.*Scomber japonicus*，丙.*Scomber australasicus*
根據二名法規則判斷，哪兩種生物的親緣關係較為接近？
(A)甲、乙 (B)乙、丙 (C)甲、丙。
- () 34. 某種生物的學名為 *Bos domesticus*，則自然情況下此生物可與下列哪種生物交配，並產生具有生殖能力的子代？(A)*Felis domesticus* (B)*Felis tigris* (C)*Bos domesticus* (D)*Bos familiaris*。
- () 35. 依據一般對生物的定義，病毒是生物五界分類法中的哪一界？
(A)原核生物界 (B)原生生物界 (C)真菌界 (D)不屬於任何一界。
- () 36. 下列哪一種疾病是病毒所引起？(A)肺結核 (B)愛滋病 (C)傷寒 (D)紅綠色盲。
- () 37. 目前科學家能夠了解馬的演化，其主要原因為何？
(A)發現到許多同一年代馬的化石 (B)發現到許多不同年代馬的化石
(D)發現到許多不同年代馬的壁畫 (C)找到許多不同種類的現代馬。
- () 38. 下列何者屬於不具菌絲的真菌界成員？(A)香菇 (B)黑黴菌 (C)酵母菌 (D)靈芝。

二、選擇題。全部 8 題(39-46)。每題 3 分。共 24 分

- () 39. 下圖的檢索表中，甲處以脊椎的有無來區分，而乙處則以受精場所來區分，若 A 生物是蝴蝶，那麼 B 生物應為下列何者？(A)螞蟻 (B)蜥蜴 (C)白鷺鷥 (D)珊瑚



() 40. 下列何者是獨角仙與螃蟹的共同特徵?

(A)都是水生 (B)都有外骨骼 (C)都是內溫動物 (D)都是六隻腳。

() 41. 景太要估算森林中兔子的數目，他先捉了 20 隻兔子，綁上項圈後再放回森林；一週後再度設置陷阱捕捉，共捉到 45 隻兔子，而其中有 5 隻帶有項圈，請問這個森林的兔子大約有多少隻?

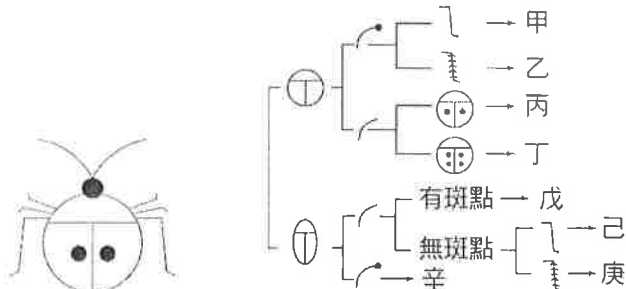
(A)80 (B)180 (C)225 (D)990。

() 42. 請問捉放法不適合用在估計下列哪一種生物的數量?

(A)魚池中的石斑魚 (B)森林中的野兔 (C)紫蝶谷的紫斑蝶 (D)操場上的咸豐草。

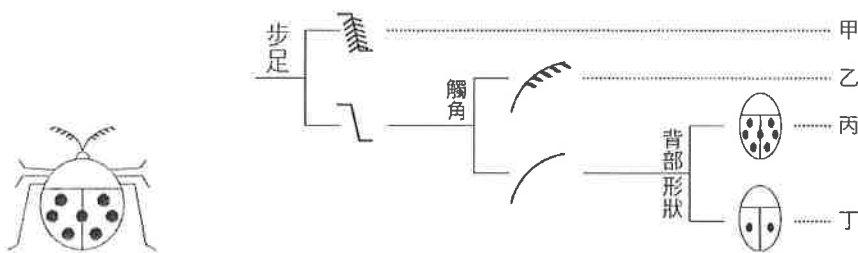
() 43. 阿政在樹林中發現如下圖之昆蟲，根據檢索表可查出圖中昆蟲所屬的類別為下列何者?

(A)昆蟲甲 (B)昆蟲乙 (C)昆蟲丙 (D)昆蟲己。



() 44. 根據下表中所示之檢索表，可查出下圖昆蟲所屬的類別為下列何者?

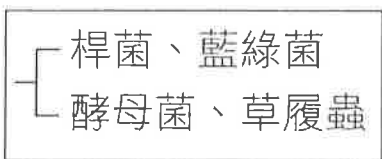
(A)甲 (B)乙 (C)丙 (D)丁。



() 45. 地球上最早的生命可能出現在下列何處? (A)海洋中 (B)大氣中 (C)土壤中 (D)火山岩漿中。

() 46. 阿勳將四種生物分類如下圖，其分類依據應為何?

(A)是否有核膜 (B)是否有遺傳物質 (C)是否有菌絲 (D)是否有細胞壁。



【試題結束—文光、七年級、自然科】

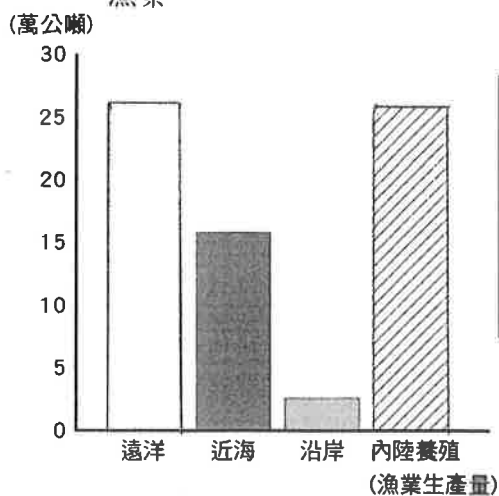
澎湖縣立文光國民中學 108 學年度第二學期七年級社會科第二次段考試題卷

班級：七年__班 座號：_____ 姓名：_____

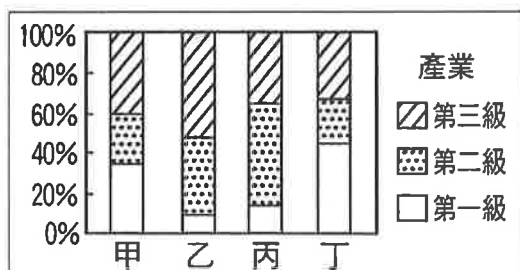
■讀卡 □題目卷

一、單選題：44 題，每題 2 分，共 88 分。

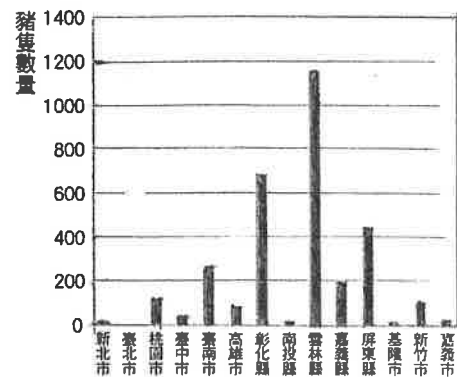
- 下列何種行業屬於第一級產業？ (A)金融業 (B)農業 (C)營建業 (D)運輸業。
- 關於農夫、司機、小販、工頭、銀行櫃檯人員、牧羊人、汽車裝配員與藝人，請問上述職業中第一、二、三級產業各有多少人？ (A)2, 2, 4 (B)2, 3, 3 (C)2, 5, 1 (D)2, 1, 5。
- 臺灣的農業隱藏兩大隱憂，一是會帶來農產損失，另一則是可能造成未來農村缺工。請問：題目中所謂的隱憂，其實也符合了臺灣農業的哪兩項特色？(甲)受自然環境影響大 (乙)集約耕作 (丙)農業技術先進 (丁)農村勞力老化 (戊)加入 WTO 導致農村人口外流與老化 (A)甲乙 (B)乙丙 (C)乙丁 (D)甲丁。
- 下列何者為世界貿易組織的主要功能？ (A)追求國際間的自由貿易 (B)主導各國的貿易政策 (C)統一貿易的獲益比例 (D)干涉貿易過程牟取暴利。
- 下列臺灣農業經營的特性中，何者是臺灣加入 WTO 後，對農業發展產生最大衝擊的主因？ (A)農村勞力外流 (B)生產成本較高 (C)稻米生產過剩 (D)農產品價格偏低。
- 有鑑於臺灣發展養殖漁業時常造成地層下陷的環境問題，政府推廣何種漁業方式以期能夠緩和這項問題？ (A)遠洋漁業 (B)近海漁業 (C)漁塭養殖漁業 (D)海上箱網養殖漁業。
- 「養雞場利用雞糞與其他廢棄物進行沼氣發電，同時還可向附近的農民提供液態的肥料，除了減少自己的用電成本，還可創造更多其他收入。」請問：關於以上畜牧業轉型的案例，與下列哪一個畜牧業轉型的敘述最為類似？ (A)將畜牧業跨足其他產業，如結合生態教學與經營休閒農場 (B)結合官、產、學資源，如民間業者和農委會共同培育出桂丁雞 (C)利用新型態的方式管理畜牧業，如電腦控溫、自動給料等 (D)為保護臺灣畜牧業，積極管控相關威脅，如防範非洲豬瘟侵臺。
- 依照漁業的作業方式及捕撈範圍，大致可分為四種類型。附圖一為西元 2018 年漁業各類型的生產量統計圖表，請問下列何者的生產量最低？ (A)遠洋漁業 (B)近海漁業 (C)沿岸漁業 (D)養殖漁業。



▲圖一



▲圖二



▲圖三

- 附圖二是四個地區的人口就業結構圖，請問圖中哪一個地區的工商業活動最發達？ (A)甲 (B)乙 (C)丙 (D)丁。
- 附圖三為西元 2018 年臺灣豬隻相關調查統計表，圖中縱軸為豬隻數量，請問依據圖中資訊判斷，臺灣養豬業主要集中在哪一個縣市？ (A)彰化縣 (B)雲林縣 (C)屏東縣 (D)嘉義縣。

【背面尚有試題】

11. 奶奶是(甲)虔誠的基督徒，一早到教會參加聚會；我則忙著(乙)線上遊戲；爸媽準備陪堂哥(丙)去提親，扮演好媒婆的角色；哥哥(丁)幫家裡裝了一盞新燈，使家中明亮許多。上述畫線部分有哪些是屬於物質文化的內涵？ (A)甲乙 (B)甲丁 (C)乙丙 (D)乙丁。
12. 「豎起大拇指的手勢，在我國表示『真棒』，但在孟加拉卻是侮辱人的意思。」上述顯示了文化具有何種特性？ (A)創新性 (B)差異性 (C)累積性 (D)約制性。
13. 人類打掃居家環境的器具，由早期的掃帚演進成今日的吸塵器，顯示了文化的何種特性？ (A)普遍性 (B)差異性 (C)累積性 (D)約制性。
14. 民眾到泰國、寮國等地旅遊，須知碰觸別人的頭是一種禁忌。上述習俗具約束作用，而泰國人也都遵守此一習俗，表現出合乎習俗的行為，這是文化的何種特性？(A)約制性 (B)普遍性 (C)差異性 (D)累積性。
15. 近來青少年有許多特殊網路用語常讓人摸不清頭緒，例如：臺北大學為即將落成的新宿舍舉行投票決定名稱，「是在哈樓」雀屏中選，讓人議論紛紛。下列對「次文化」的敘述，何者正確？ (A)是比主流文化較低等的文化 (B)是屬於個別團體的特殊文化 (C)是社會上多數人認同的文化 (D)皆為來自對主流文化的反動。
16. 歷史課時，老師提到日本在臺實施皇民化運動，並鼓勵臺人改成日式姓名。日治時期結束，臺灣省行政長官公署頒布「臺灣省人民回復原有姓名辦法」，規定已改為日式姓名者，恢復原有的命名；至於原住民也應依規定更改為中國姓名。根據上述內容，此時期政府的政策展現何種文化內涵？ (A)保留原住民傳統姓名文化 (B)更改原住民姓名展現文化創新 (C)為減緩本省人民與原住民姓名差異形成的文化衝突 (D)規定改為中國姓名隱含文化位階概念。
17. 人人應學習了解、欣賞，並尊重不同文化，消除性別、族群、宗教等偏見。我們應培養下列何種胸懷，才能維持人際及族群間的和諧？ (A)歧視排斥 (B)理解包容 (C)敬而遠之 (D)強化差異。
18. 文化資產是指具有歷史、文化、藝術、科學等價值，並經指定或登錄的資產。依此判斷，下列何者是文化資產？ (A)網路書店的暢銷新書 (B)收視第一的電視節目 (C)一級古蹟的馬公天后宮 (D)文光國中的英文課程。
19. 傳統建築修復工法是祖先的智慧結晶，因此澎湖縣政府文化局邀請專業師傅，在南甲海靈殿傳承「木工榫接工法」的建築技巧，讓民眾了解傳統建築修復的重要性。上述澎湖縣政府的作為，主要是為了達到下列何種目的？ (A)文化傳承 (B)文化創新 (C)文化的交流 (D)文化衝突。
20. 身處多元文化的社會，面對不同的文化，應以下列何種觀點來營造共存共榮的社會？ (A)尊重與包容 (B)同化與排斥 (C)歧視與偏見 (D)排擠與分化。
21. 在印度，習慣用右手抓食物吃；在日本，吃麵會發出聲響表示好吃。我們應如何面對不同社會的習俗？ (A)尊重不同的社會規範 (B)嗤之以鼻 (C)改變當地習俗 (D)堅持原來習慣。
22. 社會規範的種類很多，如果違反某些社會規範，雖然不會受到法律的處罰，但是將會受到良心的責備與社會輿論的批評。下列哪項行為符合上述情形？(A)小明酒後駕車 (B)小華常打太太 (C)小花搶銀行 (D)小美在公車上不讓座給老奶奶。
23. 《道路交通管理處罰條例》規定，坐在汽車後座亦須繫安全帶，大部分民眾雖然覺得麻煩但仍會遵守該項規定的原因為何？(A)公權力的介入 (B)神明指示 (C)良心譴責 (D)超自然力量發威。
24. 「不論是家庭、學校或社會，都有各自的行為準則，使人與人之間的互動行為有所依循，藉以維持團體的秩序與和諧。」根據上述「每個團體都有各自的行為準則」判斷，這最可能是在探討下列哪項議題？ (A)社會化 (B)社會規範 (C)志願結社 (D)公民德性。

【請換下一張繼續答題】

25. (甲)超速違規被開罰單 (乙)佛教徒主張不殺生 (丙)扶著老夫妻過馬路 (丁)過年發紅包給晚輩 (戊)出門買菜帶環保袋，上述哪些屬於倫理道德的規範？(A)甲乙 (B)乙丙 (C)丙戊 (D)丁戊。
26. 請問下列何者屬於社會規範中的風俗習慣？ (A)清明節掃墓祭祖 (B)每日睡前必禱告 (C)汽車後座乘客須繫上安全帶 (D)三人以上共用之室內工作場所全面禁菸。
27. 請問下列關於「宗教信仰」敘述，何者錯誤？(A)宗教常透過超自然力量來約束個人的行為 (B)宗教常以「舉頭三尺有神明」來勸世人為善 (C)「孝順」屬於宗教信仰的範圍 (D)宗教信仰屬於社會規範之一。
28. 下列有關「法律」的敘述，何者錯誤？(A)是社會中所有成員應共同遵守的行為準則 (B)「應該做」與「不應該做」有明文的正式規定 (C)國家經由一定程序所制定 (D)主要在啟迪人的內在良知。
29. 大雄到超商買東西時，看到超商內貼了一個如附圖四所示的標示，這是屬於何種社會規範？(A)風俗習慣 (B)倫理道德 (C)宗教信仰 (D)法律。



▲圖四



▲圖五

30. 蒞婷常利用假期出國旅行，附圖五為她到三個國家比 OK 手勢所得到的不同經歷。根據圖片內容判斷，下列相關描述何者正確？ (A)OK 手勢為各國的正式規範 (B)社會規範不會改變，相同手勢各國通用 (C)社會規範會隨時間或空間而發生改變 (D)我們無須了解各國社會規範。
31. 西元 1926 年，謝東閔與一群朋友到日本接受大學教育。當時像他們離開家鄉到日本求學的人還有很多。請問：下列哪項原因造成當時此種風潮？ (A)臺人在臺灣升學不易 (B)日本教育制度較為公平 (C)臺灣沒有高等教育學校 (D)日本倡導學術研究政策。
32. 日本治臺初期的教育，依日人、漢人、原住民的不同而有差異。請問：專門供臺灣漢人就讀的學校為何？ (A)小學校 (B)公學校 (C)蕃童教育所 (D)中學校。
33. 小文在書上讀到臺灣歷史上對某個時期的敘述為「戰後，全球瀰漫著民族自決思潮，因此林獻堂與蔣渭水等人成立臺灣文化協會，希望提升臺灣文化，爭取政治權益。」請問：文中的「戰後」，指的是哪次戰爭之後？ (A)英法聯軍 (B)甲午戰爭 (C)第一次世界大戰 (D)第二次世界大戰。
34. 「臺灣文化協會」舉辦各種文化活動，藉以啟發民智，改良風俗習慣，並發行何種刊物作為宣傳工具？ (A)《臺灣新報》 (B)《臺灣民報》 (C)《新民叢報》 (D)《申報》。
35. 一九二〇年代起，臺灣人民從武裝抗日，轉變為從事合法的社會運動。在有識之士的努力推動下，總督府終於在西元 1935 年有限度的舉辦哪種選舉，使臺灣民眾的普選等參政觀念更加落實？ (A)總督 (B)保正甲長 (C)地方議員 (D)地方首長。
36. 日治時期總督府改進臺灣人的風俗習慣，其中最重要的包含下列哪些？(甲)不守時 (乙)纏足 (丙)辮髮 (丁)男尊女卑 (A)甲乙丙 (B)甲乙丁 (C)甲丙丁 (D)甲乙丙丁。
37. 家中的長輩常提及：「我們那時代要參加定期的社區環境清潔活動，保正、甲長會來監督，警察也會來檢查，打掃若不合格，還要重掃！」這樣的衛生觀念，在哪個時代建立？ (A)鄭氏在臺時期 (B)清帝國時期 (C)日治時期 (D)中華民國時期。

【背面尚有試題】

38. 學者指出，過去的原住民大半以「部落」為認同對象，一直到某時代起，才將文化相似的部落劃為同一族群，形成今日對原住民的分類。請問：「某時代」是指何時？ (A)荷蘭在臺時期 (B)鄭氏在臺時期 (C)清帝國時期 (D)日治時期。
39. 西元 1931 年，大稻埕有臺灣人開設的「維特咖啡」，也成了文人相邀聚集的場所。請問：這個現象和下列何者最相關？ (A)都會文化引進相關的時髦活動 (B)纏足、辮髮風氣難以徹底根除 (C)新舊社會的衝突始終不易解除 (D)臺灣改制為行省的現代化轉變。
40. 一九二〇年代後，隨著醫療進步、社會安定，臺灣的人口除了呈現大幅成長外，也出現人口向都市集中的現象，即所謂的「都市化」。到了一九四〇年代年代，臺灣的五大都市已然形成，下列何者不在其中？ (A)基隆 (B)高雄 (C)臺南 (D)嘉義。
41. 「山胞的知識貧乏，風氣閉塞，對受教育一事並不感覺興趣，或者不願送子弟入學，這也是足以阻礙山地教育發展的一個因素。政府為了普及山地教育，改進山地文化，就應該對落後地區力行強迫教育……」上述內容為某份政府的調查報告，由此段內容可看出當時政府的施政方針與態度為何？ (A)實施理蕃政策以教化山區的風俗文化 (B)設立蕃童教育所教導原住民兒童 (C)政府認為漢人文化水準優於原住民 (D)政府違法強迫原住民就學。
42. 民國 68 年，下列哪個事件爆發，使得許多黨外人士被捕？(A)美麗島事件 (B)雷震事件 (C)二二八事件 (D)霧社事件。
43. 何人主持《自由中國》雜誌，提倡民主制度與政黨政治，並試圖組織政黨，卻遭到政府壓制？ (A)蔣渭水 (B)雷震 (C)林獻堂 (D)陳儀。
44. 從民國七十年代後期以來，臺灣的民主政治有著長足的進步。下列相關敘述何者正確？(A)民國 76 年，李登輝取消戒嚴 (B)民國 76 年，蔣經國宣布廢止《動員戡亂時期臨時條款》 (C)民國 80 年，李登輝宣布終止動員戡亂時期 (D)民國 81 年，開始總統由人民直選。

二、題組：共 6 格，每格 2 分，共 12 分。

***二二八事件是臺灣的一個重大歷史事件。對於二二八事件的起因、發生經過，以及造成的影響，至今仍有許多研究者從事相關史料的整理。中華民國政府也對於受難者進行賠償措施。**

45. 關於二二八事件爆發的主要原因，不包含下列何者？ (A)政府接收時貪汙腐敗 (B)臺灣物價飛漲 (C)兩地人民整體素質與文化差異頗大 (D)臺灣人民一直不願接受日本戰敗的事實。
46. 當二二八事件爆發時，在臺灣的最高行政長官陳儀處置態度為何？ (A)以寬容態度對待參與的群眾 (B)運用臺灣軍隊鎮壓 (C)從中國大陸調派軍隊來臺進行清鄉活動 (D)在各地設立紀念碑。
47. 政府最早於下列何時終於公開承認對二二八事件處置失當，並由總統公開道歉？ (A)民國五十年代 (B)民國六十年代 (C)民國七十年代 (D)民國八十年代。

***自中央政府播遷來臺，臺灣由初期實施戒嚴到近來總統直選，民主政治日趨成熟。請問：**

48. 民國四、五十年代，在戒嚴體制下，情治單位常以「反叛政府」、「為匪宣傳」等藉口，任意逮捕異議分子，造成許多冤獄，造成何者的出現？ (A)二二八事件 (B)共產思想蔓延 (C)白色恐怖 (D)士紳要求政府改革。
49. 蔣中正連續擔任五任總統，直到民國 64 年逝世，但依據《中華民國憲法》規定總統只可連任一次，而他連任四次的法源依據為何？ (A)戒嚴令 (B)臺灣省各縣市實施地方自治綱要 (C)解嚴令 (D)動員戡亂時期臨時條款。
50. 下列有關戒嚴時期的各項敘述，何者與事實不符？ (A)總統為了經濟發展，而宣布實施 (B)長期限制人民言論、集會、出版等自由 (C)實施黨禁與報禁 (D)阻礙了民主憲政的發展。

【試題到此結束，考試加油】