

澎湖縣立文光國民中學 108 學年度第 2 學期第 3 次成績評量 7 年級國文科試卷

班級：

姓名：

座號：

讀卡 答案卷

一、字形字音（每題 1 分，共 20 分）

1. 「ㄍㄨㄥ」古 2. 熨「ㄩㄥ」 3. 「ㄉㄨㄟ」質蘭心 4. 病入膏「ㄉㄨㄟ」 5. 十惡不「ㄩㄥ」
6. 焦「ㄉㄨㄟ」 7. 謙「ㄩㄥ」 8. 一片「ㄉㄨㄟ」然 9. 力挽狂「ㄩㄥ」 10. 禁「ㄩㄥ」
11. 羞「報」 12. 「矇」騙 13. 半絲半「縷」 14. 「臂」力 15. 「咱」們
16. 「掙」錢 17. 「摒」除 18. 「嘈」雜 19. 諷「諭」 20. 「佣」人

二、解釋配合（每題 1 分，共 10 分。請填代號。）

- A. 老天爺說的這些話 B. 味道不甘美 C. 剛強與柔和二種手段互相調劑、配合 D. 遭受恥辱
E. 內心不好受 F. 泛指魚肉等未經料理的食材 G. 關於老天爺的這些話 H. 距離遙遠而模糊不清
I. 仔細看看 J. 人沉迷於物質享受，不思振作 K. 泛指魚肉等煮熟的食物 L. 大略看看
M. 驚訝的樣子 N. 本質，實在的內容 O. 顯明的樣子

- ()1. 剛柔並濟 ()2. 腐化 ()3. 不是滋味 ()4. 赫然 ()5. 蒙辱
()6. 老天爺也者 ()7. 瀏覽 ()8. 渺茫 ()9. 肴 ()10. 實質

三、成語配合（每題 1 分，共 10 分。請填代號，代號寫錯字不給分。）

- 子. 捉襟見肘 丑. 義憤填膺 寅. 車水馬龍 卯. 遺珠之憾 辰. 虛懷若谷 巳. 沐猴而冠
午. 虎尾春冰 未. 一隅之見 申. 暴殄天物 酉. 大相逕庭 戌. 柳綠桃紅 亥. 數典忘祖

1. 你居然把這麼好的木料當成柴火來燒，簡直是()！
2. 隨著暑假的到來，馬公市區裡遊人如織，()，冬日冷清蕭條的景象已消失得無影無蹤了。
3. 如果你能量入為出，自然可避免每到月底就出現()的窘態。
4. 看看這鳥語花香，()的春日美景，此刻正宜走進大自然，享受造物主的恩賜。
5. 在販毒集團裡當臥底的阿龍，時時保持著()之感，事事都得提防小心。
6. 我們常常對社會上見利忘義的情況()，殊不知自己也成了其中的一員。
7. 雖然各個種族在膚色、髮色等外表上()，但內心裡對於真善美愛的追求並無二致。
8. 每年的國語文競賽都人才輩出，佳作連連，評審們雖已盡力公正品評，但難免有()。
9. 他雖然身為主管，卻隨時都能()地接納部屬意見，真是難能可貴。
10. 你只知西方的聖誕節由來，卻不曉得傳統端午節的典故，真有點()了！

四、選擇（每題 2 分，共 36 分）

- ()1. 「創業的人都會自然而然地想到上天，而敗家的人卻無時不想到自己。」原因為何？
(A)前者創業艱難，後者守成不易 (B)前者能飲水思源，後者不知感恩惜福
(C)往者不諫，來者可追 (D)順境不足喜，逆境不足憂
- ()2. 「像我祖母之於我家」的「於」字用法，與下列何者相同？
(A)留蚊「於」素帳中 (B)取葫蘆置「於」地
(C)得之「於」人者太多 (D)不戚戚「於」貧賤
- ()3. 愛因斯坦發表相對論至今恰好滿 101 年，臺北一〇一大樓舉辦紀念活動，只要參加者能舉出與其「謙讓」精神相同的歷史名人，就贈送精美禮物一份。請問下列何者舉例正確？
(A)「願無伐善，無施勞」的顏回 (B)「醉翁之意不在酒」的歐陽脩
(C)「舉世皆濁我獨清」的屈原 (D)「魚與熊掌不可兼得」的孟子
- ()4. 「我非幫你不可」是以雙重否定達到「肯定句」的效果。下列何者不是雙重否定的「肯定句」？
(A)非自己插嘴不可 (B)不得不令人嘆為觀止
(C)與愛因斯坦本人不相干 (D)敗家的人無時不想到自己

- () 5. 「我這才發現，我視力良好，因此我偏見猶在，多麼不幸的事！」這段話在說明什麼？
 (A)視力良好的人，比較容易產生偏見 (B)憑藉良好的視力，可以克服偏見的產生
 (C)憑藉視力以貌取人，造成偏見的謬誤 (D)擁有良好的視力，是件很不幸的事
- () 6. 關於視力與偏見一文，下列敘述何者有誤？
 (A)作者「藉事說理」來闡明文意 (B)運用大量名言及典故加強說服力
 (C)全文以老先生的失明為分界點 (D)對話發生在紐約到波士頓的火車上
- () 7. 下列的句子中，何者最沒有偏見或歧視的意味？
 (A)這裡是黑人區，千萬不要落單，以免發生危險 (B)車子這樣亂開，開車的多半是女人
 (C)公司提供外國勞工學習中文的機會，避免語言隔閡
 (D)有刺青的人大多混幫派，別跟他們走太近
- () 8. 阿基在搭高鐵時遇上當機，情況一度十分危急，嚇出一身冷汗的他，下車後到一家彩券行買樂透，結果中了第一特獎。以上情況可用下列哪一句話來形容？
 (A)大難不死，必有後福 (B)禍不單行，福無雙至
 (C)過五關斬六將 (D)屋漏偏逢連夜雨
- () 9. 天堂與地獄：「它使你沒有理想、沒有創造、沒有前途，逐漸腐化，這種心靈的煎熬，要比上刀山下油鍋的皮肉之苦，更令人受不了啊！」，這句話的旨意為何？
 (A)感慨人生變化的無奈 (B)人要有一技之長才可以生存
 (C)應把抱怨環境的心情，化為上進的力量 (D)心靈的腐化比肉體的折磨更令人難受
- () 10. 有關寓言體的說明，下列何者正確？
 (A)取材廣泛多元，多以故事呈現 (B)作者必在故事結尾說明道理
 (C)作品多抒發個人情感與志向 (D)故事通常不合邏輯，荒謬離譜
- () 11. 「枯魚過河泣，何時悔復及！作書與魴鱖，相教慎出入！」(佚名枯魚過河泣)依據以上寓言詩的內容，枯魚何以泣、何以悔？(注：魴鱖：音ㄉㄤ ㄨㄛˋ，泛指魚類。)
 (A)行事太過輕忽 (B)不知如何寫信 (C)事多而紛雜 (D)疏遠魴鱖
- () 12. 下列何者是「西塔琴」故事中智者想說的生命的真諦？
 (A)生命的真諦在於人們怎麼生活，生活的品質決定生活的真諦
 (B)不起眼的事物，經過工匠巧手安排，也能成為不朽的作品
 (C)美好的人生乃是由平凡的事物搭配而成，關鍵在於你怎麼去演奏
 (D)演奏的琴聲中透露出長者的智慧，富含時間淬鍊後的生命結晶
- () 13. 「如果你喝過咖啡，那你是否發現，人生就好比到咖啡店喝咖啡？」作者將人生比喻成到咖啡店喝咖啡，這樣行為有何用意？
 (A)世界上的所有人都去過咖啡店，所以能理解這樣的比喻
 (B)咖啡的滋味所有人都喜歡，就像人生也充滿各式的滋味
 (C)從日常經驗出發，說明自己人生最大的享受是享用咖啡
 (D)藉由疑問句引起讀者的興趣，順便提出自己的獨特見解
- () 14. 「你不能坐在那裡等待有什麼『服務生』來提供你生命的歡樂。」請問下列何者文句與本句題旨最為相近？
 (A)人生不可能一帆風順，遭遇困難是常有的事
 (B)人生處處有溫情，遭遇苦難會有貴人相助
 (C)人生是掌握在自己手中的，必須自己開創
 (D)人生想要順利成功，必須要依靠他人的協助
- () 15. 「要想成功，你需要朋友，要想非常成功，你需要的是敵人」請問敵人能提供什麼進步的動力？ (A)敵人會不斷的攻擊自己 (B)敵人能點出自己的缺點
 (C)敵人造謠使自己陷入困境 (D)敵人帶不走真心的朋友
- () 16. 以下賣油翁中的「之」字，何者是指「熟能手巧的道理」？
 (A)見其發矢十中八九，但微頷「之」 (B)以我酌油知「之」
 (C)以錢覆其口，徐以杓酌油瀝「之」 (D)康肅笑而遣「之」

- () 17. 下列賣油翁文句「」內的字，何者不是「代詞」？
 (A)公亦以「此」自矜 (B)「汝」亦知射乎 (C)見「其」發矢 (D)無他，但手熟「爾」
- () 18. 動作的描繪，可令讀者揣想人物當時的神態。請問：下列文句「」內的人物動作，何者分析正確？
 (A)「睨」之，久而不去：刻畫賣油翁對陳堯咨為人的讚賞
 (B)但微「頷」之：可見賣油翁對陳堯咨的箭法僅略表稱許
 (C)以錢「覆」其口：暴露賣油翁輕佻神情與傲慢心態
 (D)康肅「笑」而遣之：表現陳堯咨對賣油翁的酌油技術充滿懷疑

五、閱讀選擇題組(每題 2 分，共 12 分)

(一) 據說以前在義大利拿坡里，有一名工人買了一杯咖啡，卻付了二杯的錢。老闆問他為什麼，他說：「今天我走運，手上多了些閒錢，我想把好運分享給別人，所以多付一杯，送給想喝咖啡卻沒錢的客人。」後來，這成為當地的傳統，客人經常會買第二杯咖啡，把一杯「寄放」給窮人，只要有人來詢問，老闆便會說：「有人已經付過錢了！我現在為你烹煮好嗎？」

送咖啡的人與喝到下一杯咖啡的人可能從來不會見面，但彼此傳遞了溫暖。這傳統後來廣為流傳，現在每年到了節慶，歐美許多咖啡店都會舉辦「下一杯咖啡」的活動。

(二) 哈瑞斯是一名流浪漢，有一天，一位小姐投了些零錢在他的杯子裡，但她的鑽石戒指也跟著掉了進去。當哈瑞斯發現時，那位小姐早已不知去向。「那顆鑽石值得多錢！但感謝上帝，我窮歸窮，起碼還有點骨氣，不會把它賣掉！」於是他每天在同一個地方守候，直到那位小姐再出現時，把戒指交還給她。

小姐非常感恩，立刻告訴了記者，哈瑞斯一下子成了名人。而且這位小姐還在募款網站上設立了一個捐款專案，最後為他募得十九萬美金！如今，他有工作，還買了房，結束流浪的生活。你說，誰比較幸運？
 (改寫自劉軒《Get Lucky! 助你好運》)

- () 1. 「下一杯咖啡」的活動，主要具有什麼意義？
 (A)傳遞人間真摯無私的溫情 (B)為節慶活動增添娛樂效果
 (C)讓人人都能喝到溫熱的咖啡 (D)提供窮人參加節慶活動的機會
- () 2. 第一則故事中，工人的義舉引起社會回響的現象，可用下列何者形容？
 (A)舉一反三 (B)拋磚引玉 (C)一傳十，十傳百 (D)牽一髮而動全身
- () 3. 第二則故事給了我們什麼啟示？
 (A)只要成名，就能帶來財富 (B)只要付出，就能得到收穫
 (C)助人往往也幫助了自己 (D)遇到貴人才有機會改變命運

楊生養一狗，甚愛憐之，行止與俱。生因暗行，墮於空井中，狗呻吟徹曉。有人經過，怪此狗向井號，往視，見生。生曰：「君可出我，當有厚報。」人曰：「以此狗見與，便當相出。」生曰：「此狗不得相與。餘即無惜。」人曰：「若爾，便不相出。」狗遂低頭目井。生知其意，乃與路人云：「以狗相與。」人即出之，繫之而去。卻後五日，狗夜走歸。 (《搜神後記》卷九)

- () 4. 「有人經過，怪此狗向井號」句中的「怪」字的字義，應是下列何者？
 (A)責難 (B)驚訝 (C)非常 (D)妖魔
- () 5. 「君可出我，當有厚報」一句中的「君」，不可用與下列何字替換？
 (A)余 (B)你 (C)爾 (D)汝
- () 6. 依路人的要求，要他從空井裡把楊生救出來的條件是什麼？
 (A)事成後，除了狗以外，楊生其餘的財寶都要給路人
 (B)救楊生時，狗不可以一起跟來
 (C)事成後，狗借路人玩五天，之後再歸還
 (D)把這隻狗給路人，路人就救楊生出井

六、閱讀問答題組（第 1~8 題每題 1 分，第 9 題 4 分，共 12 分）

2020 澎湖國際海上花火節
 PENGHU INTERNATIONAL FIREWORKS FESTIVAL FEATURING MARVEL
 漫威宇宙 隆重呈現

7/6 ▶▶ 9/3 (每週一、四) 主場地馬公市觀音亭園區
 (主場) 煙火燃放時間 21:00 (離島場) 煙火燃放時間 20:00

7/6 閉幕 - 煙火 + 漫威無人機秀	7/27 煙火 + 漫威無人機秀	8/15 望安 - 煙火 + 無人機秀
7/9 煙火 + 無人機秀 (澎坊之夜)	7/30 煙火 + 無人機秀	8/17 煙火 + 無人機秀 (福朋喜來登之夜)
7/13 煙火 + 漫威無人機秀	8/1 七美 - 煙火 + 無人機秀	8/20 煙火 + 無人機秀
7/16 煙火 + 無人機秀	8/3 煙火 + 漫威無人機秀	8/24 煙火 + 無人機秀 (新光人壽之夜)
7/18 古貝 - 煙火 + 無人機秀	8/8 煙火 + 無人機秀	8/27 煙火 + 漫威無人機秀
7/20 煙火 + 漫威無人機秀	8/10 煙火 + 漫威無人機秀	8/31 煙火 + 無人機秀
7/23 煙火 + 無人機秀	8/13 煙火 + 無人機秀	9/3 閉幕 - 煙火 + 漫威無人機秀

子瑜計劃到澎湖旅遊，最想親眼看到「海上花火節」和「七美島雙心石滬」。她乘坐的班機在 7 月 30 日下午 15 時抵達澎湖機場，8 月 1 日下午 16 時離開澎湖。請參考上列「花火節煙火燃放時間」及子瑜的心願，來安排下列行程，並將行程內容填入表格中。

【行程內容】

欣賞海上花火節、浪漫七美島之行、黃昏奎壁山賞摩西分海、環澎湖本島之旅、林投悠閒午茶時光、馬公市區觀光

【備註】

1. 每日馬公來回七美各兩船班。單程航程一小時。
馬公往七美：7:00、15:30；七美往馬公：9:00、17:00。
2. 環澎湖本島之旅，8:30 從馬公出發，沿途遊覽白沙、西嶼各景點，15:00 回到馬公。

時間	7 月 30 日 日間	7 月 30 日 晚間	7 月 31 日 日間	7 月 31 日 晚間	8 月 1 日 日間	8 月 1 日 午後
行程	1.	2.	3.	4.	5.	林投悠閒午茶時光

* 上表寫錯字或漏字則不給分。

武漢肺炎：最早公開疫情「吹哨人」李文亮去世（節錄）

（2020年2月6日 BBC NEWS 中文）

最早公開武漢疫情的「吹哨人」李文亮醫生因染上新冠病毒肺炎，於當地時間周四（6日）病逝。

綜合中國官方《人民日報》、《環球時報》、《新京報》、界面新聞等報道，李文亮當晚9時30分心跳停止。他年僅34歲，留下妻子和5歲的孩子。中國官方媒體在宣佈李文亮去世後的兩小時內，網絡上眾多相關帖子遭到刪除。多家中國媒體甚至紛紛改口稱，李文亮「仍處於搶救狀態」。武漢市中心醫院官方微博隨後再次發佈消息稱，「我院眼科醫生李文亮，在抗擊新型冠狀病毒感染的肺炎疫情工作中不幸感染，經全力搶救無效，於2020年2月7日凌晨2點58分去世，對此我們深表痛惜和哀悼。」世界衛生組織（WHO）通過官方推特網頁第一時間對李文亮去世表示哀悼，並感謝他在「此次疫情中所做的工作」。

李文亮是武漢市中心醫院的一名眼科醫生，因最早於2019年12月30日向外界發出防控預警，而被稱為疫情「吹哨人」。2020年1月初，絕大多數中國人還都在上班，並沉浸在即將到來的春節的準備和憧憬當中。但許多人有所不知的是，一種新型冠狀病毒正在中國大城市武漢悄然肆虐。

2019年12月30日，他在同學群中發了一條關於華南海鮮市場疫情的信息。因為他看到一份病人的檢測報告，顯示檢出SARS冠狀病毒高置信度陽性指標，出於提醒同為臨牀醫生同學注意防護的角度，他發出了警告信息。其實，他當時有所不知的是，它並不是SARS病毒，而是一種全新的病毒。

但不久後，他就被當地派出所因「在互聯網發佈不實言論」，提出警示、批評。公安局找到他，要求他簽了訓誡書，並對他提出嚴厲警告，訓誡他如果不聽從勸告和悔改，繼續從事違法活動，將會受到法律制裁。武漢警方發佈通告稱：一些網民在不經核實的情況下，在網絡上發佈、轉發不實信息，造成不良社會影響。公安機關經調查核實，已傳喚8名違法人員，並依法進行處理。李文亮就是這8名「違法人員」之一。

簽署了訓誡書之後的李文亮繼續留在醫院工作。而此時此刻的武漢當局也試圖阻止人們「造謠傳謠」，穩定人心。但隨著病毒疫情的發酵，死亡和感染病例的與日俱增，武漢實行了前所未有的封城計劃。沒有人再說這8名「吹哨人」是造謠者。但問題是，這已經為時過晚，病毒疫情已經在武漢和全中國蔓延。

將〈楚人養狙〉的內容與上面報導的情境相對照，並推論狙公、眾狙、小狙分別可用來比喻報導中的哪些對象。

故事中的人物	狙公	眾狙	小狙
報導中的對象	6.	7.	8.

*** 上表寫錯字或漏字則不給分。**

9.承上題，請說明小狙有什麼特質和你認為的比喻對象相似，所以小狙可拿來比喻該對象？

【試題結束，答案請寫在答案卷】

澎湖縣立文光國民中學 108 學年度第 2 學期第 3 次成績評量 7 年級國文科答案卷

班級：

姓名：

座號：

讀卡

答案卷

一、字音字形 (每題 1 分, 共 20 分)

1.	2.	3.	4.	5.
6.	7.	8.	9.	10.
11.	12.	13.	14.	15.
16.	17.	18.	19.	20.

二、解釋配合 (每題 1 分, 共 10 分。請填代號。)

1.	2.	3.	4.	5.	6.	7.	8.	9.	10.

三、成語配合 (每題 1 分, 共 10 分。請填代號, 代號寫錯字不給分。)

1.	2.	3.	4.	5.	6.	7.	8.	9.	10.

四、選擇 (每題 2 分, 共 36 分)

1.	2.	3.	4.	5.	6.	7.	8.	9.
10.	11.	12.	13.	14.	15.	16.	17.	18.

五、閱讀選擇題組 (每題 2 分, 共 12 分)

1.	2.	3.	4.	5.	6.

六、閱讀問答题組 (第 1~8 題每題 1 分, 第 9 題 4 分, 共 12 分)

時間	7月30日 日間	7月30日 晚間	7月31日 日間	7月31日 晚間	8月1日 日間	8月1日 午後
行程	1.	2.	3.	4.	5.	林投悠閒午 茶時光

故事中的人物	狙公	眾狙	小狙
報導中的對象	6.	7.	8.

9.答：_____

班級：_____ 座號：_____ 姓名：_____

請將所有答案填寫在答案卷上，否則不予計分

一、基本問答：每題均有三個選項，請依據所聽到的內容，選出一個最適合的回應。(每題 2 分，共 10 分)

1. () (A) Their cars are clean.
(B) Juliet has more cars.
(C) They both have cars.
2. () (A) Yes, that's a terrible idea.
(B) No. Can you show me later?
(C) We can do that in my free time.
3. () (A) Sure. I clean it every day.
(B) Don't you have any toilet seats?
(C) Yuck. It may has lots of germs on it.
4. () (A) There are four seasons there.
(B) It was windy and hot here.
(C) It's cold and windy, but it is warm sometimes.
5. () (A) No, Miss Lee isn't our teacher.
(B) Yes, she was in the classroom.
(C) No, she was a student then.

二、文意字彙 (每題 2 分，共 20 分)

1. _____ There are a lot of delicious foods from the night m_____ts in Taiwan. You can also play some fun games there.
2. _____ Reggey: What's that on your f_____r?
Are you hurt(受傷的)?
Josh: Yes. I played with a knife last night and cut my hand accidentally(不小心地), so I put on a bandage(繃帶).
3. _____ Tony: Hey, tell me the a_____r to this math question.
Irene: No! You should(應該) do it by yourself.
4. _____ Don't tell lies(謊言), or people will never b_____e you anymore.
5. _____ Kevin is tired(厭倦的) of his look now. He wants to make a c_____e next month.
6. _____ Among the four seasons, I like s_____r the most. In that season, I can eat lots of ice cream and swim, and don't have to worry about cold weather.
7. _____ Playing with snow and skiing(滑雪) are my favorite a_____ies in winter.
8. _____ That f_____y caused(造成) too much air pollution(汙染), so it was shut down(關閉) three weeks ago.
9. _____ Tai-ming Kuo(郭台銘), Bill gates, Mark Zuckerberg are famous and successful(成功的) b_____n. They are my idols.

10. _____ There are a lot of v_____rs coming to my home to wish(祝福) me and my family health(健康) and luck every Chinese New Year.

三、文法與對話選擇 (每題 2 分，共 30 分)

1. () Hank usually talks _____ his teacher after class.
(A) X (B) at
(C) for (D) with
2. () Jeffy likes to travel around the world. He was just _____ a trip to Japan again last week.
(A) at (B) in
(C) on (D) with
3. () There is a circus _____ town. Let's check out later!
(A) in (B) on
(C) for (D) with
4. () I like to read _____ work or _____ my free time.
(A) at; on (B) at; in
(C) in; at (D) on; at
5. () During the graduation(畢業) ceremony(典禮) last week, there _____ many students and their teachers and parents.
Lyla: Fine.
(A) is (B) was
(C) are (D) were
6. () Ten years _____, I _____ just a three-year-old boy. But now I am thirteen years old. I need to take more responsibly(責任).
(A) ago; was (B) ago; were
(C) before; was (D) before; were
7. () Winston: I like to walk _____ the street and buy some snacks there after school. Do you want to come with me?
Vera: OK.
(A) in (B) for
(C) even (D) along
8. () Whenever(無論何時) you are sad, I _____ here for you.
(A) can; always; be (B) always; can; be
(C) can; be; always (D) be; always; can
9. () _____ be a good child. _____ let your parents worry about you.
(A) Often; Never (B) Always; Never
(C) Often; Seldom (D) Always; Seldom

背面尚有試題

10. () Eva: Do you usually study in the classroom every morning?
Jacob: No, I _____.
(A) do; sometimes (B) do; seldom
(C) sometimes; do (D) seldom; do
11. () Ray: I touched(觸碰) Jolin's hand at her concert(演唱會) last week! And I didn't wash my hands since(自從) then.
Alex: _____
(A) I can't go now.
(B) It was sunny last week.
(C) Yuck! Go wash your hands now!
(D) Well, do you usually wash your hands?
12. () Louis: How often do you take a trip to the U.S.?
Jimmy: _____.
(A) No, I never do.
(B) Three times a year.
(C) Yes, I sometimes take a trip to the U.S.
(D) I never do. I take a trip to the U.S. four times a year.
13. () Gina: I study English for twelve hours and only sleep for two hours every day.
Kelly: _____
(A) Yeah, right.
(B) Was it fun?
(C) Sorry, it's true.
(D) Really? I am, too.
14. () Diana: _____
Jean: I was at my home and prepared for my birthday party with my family.
(A) Where are you?
(B) What are you doing?
(C) Where were you last weekend?
(D) Were you home last Wednesday?
15. () Vivi: _____
Erica: It is cold and rainy in Australia.
(A) How is Australia?
(B) How is the weather now?
(C) How was the weather in Australia?
(D) Was it cold and rainy in Australia?

四、閱讀測驗(每題2分,共12分)

1. Jerry: Hello, is this Ben?

Ben: Yes. Hello, Jerry. What's up?

Jerry: Where were you last night? I called you but no one answered.

Ben: Sorry, I was at a nice restaurant with my wife. There were no one at home at that time.

Jerry: I see. Look, I called because I needed your help. I'm planning to go back to Wenguang Town this afternoon. But I don't know what to wear during these four days. I need to know how the weather is there.

Ben: Sure I can help you! Look, it was sunny and hot last week. So I think it is still the same in the following days.

Jerry: Wonderful. Now I know what to put in my luggage. Thanks.

Ben: No problem. Call me again when you arrive. I will take Mom to pick you up. I am sure she will be happy to see you.


Jerry: OK!

plan 計畫 during 在...的期間 wear 穿
luggage 行李 arrive 抵達 will 將會

1-1. () Where was Ben last night?

- (A) At home.
(B) At a restaurant.
(C) At Jerry's place.
(D) In the dining room.

1-2. () Which was Ben most likely to wear last week?



1-3. () Which is true?

- (A) Jerry and Ben are family.
(B) Jerry was out last night with his wife.
(C) Jerry will stay in Wenguang Town for two days.
(D) Jerry lives in Wenguang Town and never moves out.

請翻至下一面,繼續作答

2. How often do you drink water? And how much water do you drink? Do you drink at least 1500 milliliters of water per day? Now you must drink it every day because it is good for you.

Studies show that there are so many benefits of drinking water. For example, it can help you relax your brain and body. Second, it can keep your skin healthy and beautiful. What's more, it can also help regulate your body on hot or cold days.

But drinking too much water is not always a good way to keep you healthy; it can damage your body, too. Some studies show that women should drink about 1500 milliliters per day, and men should drink about 2000 milliliters. Drinking more may cause a burden to your body.

Nowadays, people choose drinks over water very often. But since you know drinking water can benefit your body a lot. Next time, try to get more water to drink and drink it in a right way.

at least 至少 milliliter 毫升 benefit 益處；對... 有益 brain 大腦 skin 皮膚 regulate 調節 damage 破壞 cause 造成 burden 負擔 nowadays 現今 choose 選擇 since 既然

- 2-1.() What does a it mean?
 (A) Drinking water.
 (B) A kind of drinks.
 (C) Drinking too much water.
 (D) Drinking water in a right way.
- 2-2.() Which is not benefits of drinking water?
 (A) Keeping your skin beautiful.
 (B) Regulating your body on hot days.
 (C) Relaxing your brain and body.
 (D) Making you feel bad about everything.
- 2-3.() Which is not true?
 (A) Drinking water can benefit our bodies a lot.
 (B) People like to drink water more than(較) drinks.
 (C) Men should drink about 2000 milliliters of water per day.
 (D) Water is good for our body, so we can drink more and more every day.

五、依提示作答 (每題 3 分, 共 18 分)

1. 昨天澎湖的天氣如何? (中翻英, 並以 What 開頭)

2. How often does Louis drink tea? (請以「大約一天一次或兩次」詳答)

3. Jane 每天都會把她的筆從鉛筆盒拿出在桌子上。(中翻英)

4. 從現在起, 別再打破你的好習慣。(中翻英)

5. 許多世界各地的人們會在夏天的時候造訪台灣。(中翻英)

6. 昨天早上天氣仍是多雲的, 而今天就下雨了。(中翻英)

六、填充 (每格 1 分, 共 10 分)

1. 填入正確的次數:

(1) Hower: How often do you go jogging?

Andy: 1-1 a month. It's my favorite time of the month.

(2) Jeff: How often do you visit your grandma?

Jay: 1-2 a week. I visit my grandparents on Wednesdays and Sundays.

(3) Amanda: How often do you brush your teeth?

Tina: 1-3 1-4 a day, after breakfast, after lunch, and after dinner.

2. 填入 ago、before 或 now:

(1) Greg lives (住) in a fishing town 2-1.

(2) Five days 2-2, I was in Japan. But now I am in Taiwan.

(3) The rice at this restaurant was good 2-3, but it's terrible now.

3. 填入正確的 be 動詞:

Mike: Is it your dog, Leon?

Leon: Yes, it is.

Mike: It 3-1 small six months ago. Now, it is a big dog. Its legs 3-2 short before, but they 3-3 long now.

試題結束

澎湖縣文光國民中學 108 學年度第二學期第三次段考 七年級英語科 答案卷

班級：_____ 座號：_____ 姓名：_____

★請將所有答案填寫在答案卷上，否則不予計分★

一、基本問答：每題均有三個選項，請依據所聽到的內容，選出一個最適合的回應。(每題 2 分，共 10 分)

1.	2.	3.	4.	5.
----	----	----	----	----

二、文意字彙 (每題 2 分，共 20 分)

1.	2.	3.	4.	5.
6.	7.	8.	9.	10.

三、文法與對話選擇 (每題 2 分，共 30 分)

1.	2.	3.	4.	5.
6.	7.	8.	9.	10.
11.	12.	13.	14.	15.

四、閱讀測驗 (每題 2 分，共 12 分)

1-1.	1-2.	1-3.	2-1.	2-2.	2-3.
------	------	------	------	------	------

五、依提示作答 (每題 3 分，共 18 分)

1.	
2.	
3.	
4.	
5.	
6.	

六、填充

1-1.	1-2.	1-3.	1-4.	2-1.
2-2.	2-3.	3-1.	3-2.	3-3.

班級：

姓名：

座號：

一、 選擇：(每題 3 分，共 63 分)

1. () 下列有一面國旗是線對稱圖形，根據選項中的圖形，判斷此國旗為何？



2. () 在小於 10 的正整數中，有幾個數是不等式 $2x - 3 > 9$ 的解？ (A)3 個 (B)4 個 (C)5 個 (D)6 個

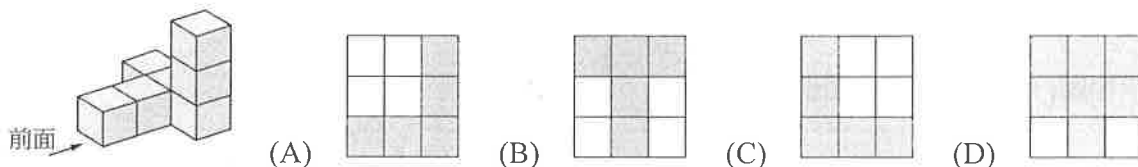
3. () 若 $a > 0 > b$ ，則下列哪一個式子是錯誤的？

(A) $a + 3 > b + 3$ (B) $3a > 3b$ (C) $-3a > -3b$ (D) $-3 + a > -3 + b$

4. () 設 a 是整數，且 $|a| < 3$ ，則有幾個整數 a 為不等式 $5(x - 1) - 4x < -3$ 的解？

(A)3 個 (B)4 個 (C)5 個 (D)6 個

5. () 附圖是一個立體圖形，則它的前視圖是下列哪一個選項？



6. () 若 a, b, c 都是負整數，且 $a > b$ ，則下列何者正確？

(A) $axc > bxc$ (B) $a \div c > b \div c$ (C) $(a - b) \div c > 0$ (D) $(a - b) \times c < 0$

7. () 若 (a, b) 在第二象限內，則不等式 $ax \geq b$ 之解為下列何者？

(A) $x \leq \frac{a}{b}$ (B) $x \geq \frac{a}{b}$ (C) $x \leq \frac{b}{a}$ (D) $x \geq \frac{b}{a}$

8. () 在 \square 內填入相同的負整數，使不等式 $3x(\square - 4) < 5x\square - 3$ 成立，請問符合的負整數共有幾個？

(A)1 (B)2 (C)3 (D)4

9. () $x = 3$ 是方程式 $4x - a = ax - 12$ 的解，則下列哪一數是不等式 $ax - 1 < x + 6$ 的解？

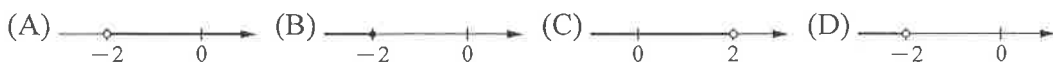
(A)-2 (B)3 (C)8 (D)13

10. () 軒軒這個月花掉零用錢 x 元且不超過 1200 元，則 x 的範圍為何？

(A) $x > 1200$ (B) $x \geq 1200$ (C) $0 < x < 1200$ (D) $0 < x \leq 1200$

11. () 小奇爬好漢坡，上坡與下坡都走同一條路線，且下坡速度比上坡快，若上坡用了半小時，則下坡時間為下列何者？(A)大於半小時 (B)小於半小時 (C)等於半小時 (D)無法判斷

12. () 下列何者為不等式 $-5x - 8 > 2x + 6$ 的圖解？



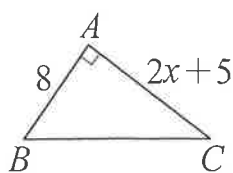
13. () 解一元一次不等式 $12 - (2x - 5) \geq 7x - 3$ ，得其解的範圍為何？

(A) $x \geq \frac{10}{9}$ (B) $x \geq \frac{20}{9}$ (C) $x \leq \frac{10}{9}$ (D) $x \leq \frac{20}{9}$

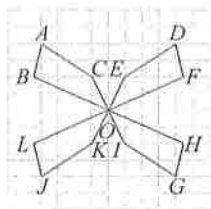
14. () 某計程車上車起跳價為 70 元，超過 1 公里每 500 公尺，加收 5 元，阿弘搭乘此計程車，付 250 元有找，請問阿弘能乘坐的最遠距離是多少公里(取至個位)？

(A)19 公里 (B)18 公里 (C)17 公里 (D)16 公里

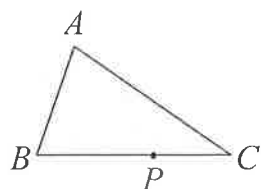
15. () 如下圖(一)， $\triangle ABC$ 為一直角三角形， $\angle A=90^\circ$ ， $\overline{AB}=8\text{cm}$ 、 $\overline{AC}=(2x+5)\text{cm}$ ，若 $x \geq 3$ ，則 $\triangle ABC$ 的面積最少為多少？(A) 24cm^2 (B) 42cm^2 (C) 44cm^2 (D) 48cm^2



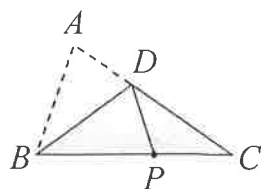
圖(一)



圖(二)

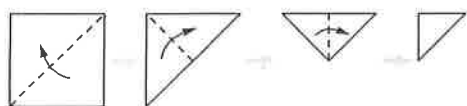


圖(三)

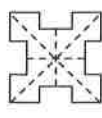


圖(四)

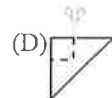
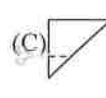
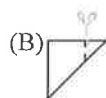
16. () 如上圖(二)是一個線對稱圖形，若 $\angle B$ 是 110° ，則下列哪一個角也一定是 110° ？
 (A) $\angle H$ (B) $\angle E$ (C) $\angle K$ (D) $\angle I$
17. () 如上圖(三)為一張三角形 ABC 紙片， P 點在 \overline{BC} 上。今將 A 摺至 P 時，出現摺線 \overline{BD} ，其中 D 點在 \overline{AC} 上，如上圖(四)所示。若 $\triangle ABC$ 的面積為 80， $\triangle DBC$ 的面積為 50，則 \overline{BP} 與 \overline{PC} 的長度比為何？
 (A) 3 : 2 (B) 5 : 3 (C) 8 : 5 (D) 13 : 8
18. () 將一張正方形色紙如下步驟對摺成圖(五)，並從(A)到(D)的選項中，選出下面問題的答案。若淑仁想剪出如圖(六)的圖形，請問她該怎麼剪？



圖(五)



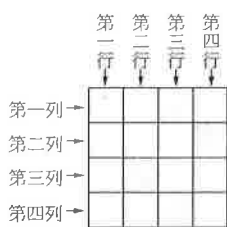
圖(六)



19. () 下圖(七)為某餐廳的價目表，今日每份餐點價格均為價目表價格的九折。若恂恂今日在此餐廳點了橙汁雞丁飯後想再點第二份餐點，且兩份餐點的總花費不超過 200 元，則她的第二份餐點最多有幾種選擇？(A) 5 (B) 7 (C) 9 (D) 11

狗仔魚養生粥	番茄蛋炒飯	鳳梨蛋炒飯	酥炸排骨飯	和風燒肉飯	蔬菜海鮮麵	香脆炸雞飯	清蒸鱈魚飯	香烤鯛魚飯	紅燒牛腩飯	橙汁雞丁飯	白酒蛤蜊麵	海鮮墨魚麵	嫩烤豬腳飯
60元	70元	70元	80元	80元	90元	90元	100元	100元	110元	120元	120元	140元	150元

圖(七)

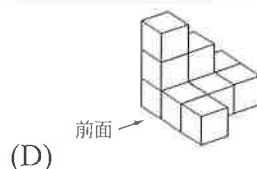
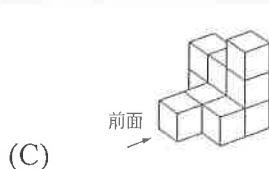
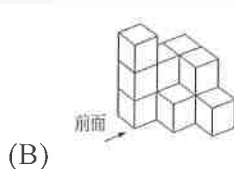
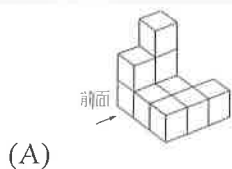


圖(八)



圖(九)

20. () 小明將一正方形紙片畫分成 16 個全等的小正方形，且上圖(八)為他將其中四個小正方形塗成灰色的情形。若小明想再將一小正方形塗成灰色，使此紙片上的灰色區域成為線對稱圖形，則此小正方形的位置為何？
 (A) 第一列第四行 (B) 第二列第一行 (C) 第三列第三行 (D) 第四列第一行
21. () 根據上方圖(九)所給的視圖，判斷下列哪一個選項可能是對應的立體圖形？



二、 填充：(每個答案 2 分，共 16 分)

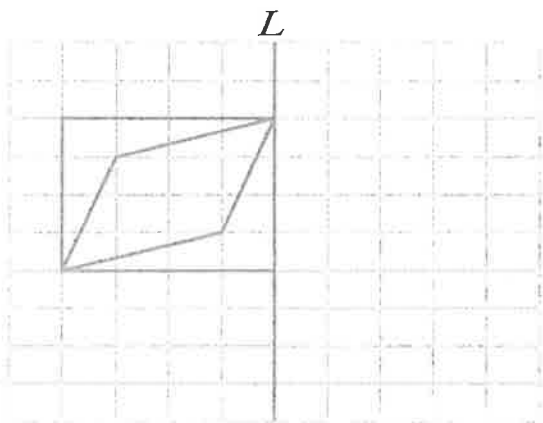
- 解一元一次不等式 $-2x+1 \leq 5$ ，其解為_____。
- 請利用不等符號，將下面的敘述改寫成數學不等式。
 - $2x-1$ 大於 $100 \Rightarrow$ _____。
 - $3-5y$ 至多是 $-6 \Rightarrow$ _____。
 - $-4\frac{1}{4}$ 不小於 $8-\frac{1}{3}a \Rightarrow$ _____。
 - $\frac{1}{3}b$ 小於 $\frac{1}{4}b \Rightarrow$ _____。
- 土豆想要購買一臺筆記型電腦，老闆跟他介紹說：「這部電腦依定價再打八折之後，最少可以讓你省 3600 元。」則這部電腦定價最少是_____元。
- 妹妹現年 x 歲，而姐姐年齡比妹妹的 2 倍還多 3 歲，則：(1)以 x 的一次式表示姐姐的現年為_____歲。(2)若姐姐與妹妹現年年齡和不超過 20 歲，根據此敘述列出 x 的不等式為_____。

三、計算：(每題 4 分，共 16 分)

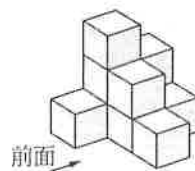
- 若有一 15 層樓的百貨公司，每層樓的高度都在 3 公尺以上，但未滿 4 公尺，設百貨公司總樓高為 h 公尺，則 h 的範圍為何？
- 真愛老師將一包糖果分給小朋友，如果每人分 8 個，則不夠分；若每人改分 7 個，則剩下 25 個，試問小朋友至少有幾人？
- 解不等式 $x+2x+3x+\dots+10x \geq 110$ ，並在數線上畫出其解的圖形。(須以直尺作圖，否則不予計分)
- 解一元一次不等式 $\frac{3x+4}{2}-1 \leq \frac{x+2}{3}+2$ 。

四、作圖題：(第(1)題 2 分，第(2)題 3 分，共 5 分)

- 利用方格完成以直線 L 為對稱軸的線對稱圖形。(須以直尺作圖，否則不予計分)



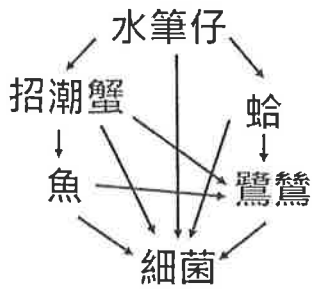
- 下圖是一個立體圖形，請繪製它的三視圖。



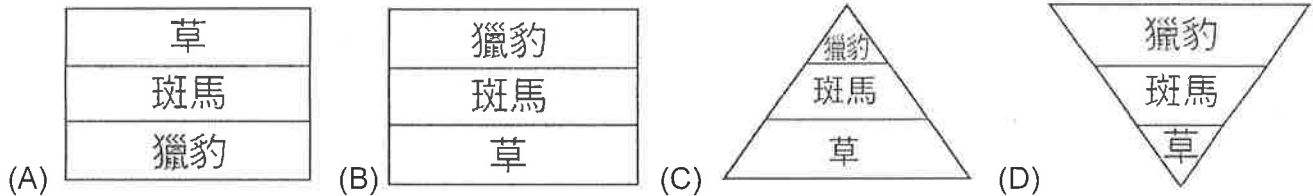
前視圖	右視圖	上視圖

一、選擇題。全部 38 題(1-38)。每題 2 分。共 76 分

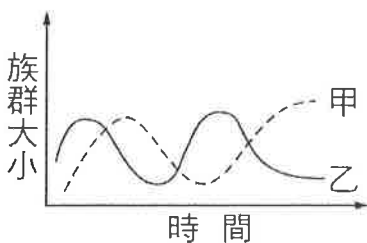
※小夫觀察某地區紅樹林生態，並將其中生物的關係繪成食物網，如下圖所示：請回答 1-4



- () 01. 根據生物獲得能量的方式，請問，細菌屬於哪種角色？
 (A) 分解者 (B) 生產者 (C) 消費者。
- () 02. 根據生物獲得能量的方式，請問，哪一種生物可屬於三級消費者？
 (A) 魚 (B) 鷺鷥 (C) 蛤 (D) 招潮蟹。
- () 03. 根據食物網判斷，若水筆仔被砍光，食物網中的哪種生物會有消失的危機？
 (A) 鷺鷥 (B) 蛤 (C) 魚 (D) 所有生物。
- () 04. 請問，此食物網中何者可屬於較高階的消費者？
 (A) 招潮蟹 (B) 蛤 (C) 鷺鷥 (D) 細菌。
- () 05. 依照食物鏈「草→斑馬→獵豹」的能量多寡畫出塔狀構造時，應會畫出下列何種圖形？



- () 06. 下圖是同一種生態系中，甲、乙兩種動物的族群大小變化圖，由圖中可知，甲、乙間的關係是屬於下列何者？(A) 掠食、被掠食 (B) 互利共生 (C) 片利共生 (D) 兩者沒有任何關係。



- () 07. 碳循環中，植物透過哪種方法將大氣中二氧化碳轉換到體內？
 (A) 燃燒化石燃料 (B) 呼吸作用 (C) 消化作用 (D) 光合作用。
- () 08. 請問，水域優養化嚴重時，將會發生下列何種現象？
 (A) 水底下的植物可行光合作用 (B) 水中溶氧量減 (C) 魚、蝦大量繁殖 (D) 藻類大幅減少。
- () 09. 關於植物對環境溫度的調節，下列敘述何者「錯誤」？
 (A) 植物的蒸散作用可帶走環境中的熱
 (B) 植物的根吸收了土壤中的水分，使地表更熱
 (C) 人站在樹蔭下，感覺較涼快
 (D) 樹葉可遮陽，使地表降溫。
- () 10. 水域環境依據哪種因子分為海洋、河口與淡水生態系？(A) 溶氧量 (B) 深度 (C) 光照 (D) 鹽度。

- () 11.對於生物多樣性的敘述，下列何者正確？
 (A)生態系中，單一種的生物數量越多，代表生物多樣性越高
 (B)生態系中所存在的生物種類是固定不變的
 (C)地球上不同的環境中存在著各式各樣、形形色色的生物，稱為生物多樣性
 (D)生態系中，生物多樣性越高就越不穩定。
- () 12.蚜蟲會分泌蜜液給螞蟻食用，而螞蟻會幫助蚜蟲抵禦瓢蟲的攻擊。請問螞蟻和蚜蟲的關係為何？
 (A)片利共生 (B)互利共生 (C)競爭 (D)寄生。
- () 13.下列敘述何者「不符合」綠建築的概念？
 (A)增加冷、暖空調的使用 (B)可在建築物的牆面或屋頂種植植物
 (C)垂藤植物可遮陽 (D)可降低室內溫度。
- () 14.當生物個體間須爭取相同的資源時，便產生哪種關係？
 (A)寄生 (B)互利共生 (C)競爭 (D)片利共生
- () 15.下列哪一種措施，對減少垃圾量最有幫助？
 (A)開闢垃圾掩埋場 (B)減少垃圾產生 (C)建造焚化爐 (D)減少使用塑膠製品。
- () 16.為了管制野生動植物的非法貿易，各國訂定了下列何者？
 (A)京都議定書 (B)拉姆薩國際溼地公約 (C)華盛頓公約 (D)蒙特婁議定書。
- () 17.菟絲子攀附在榕樹上，並由榕樹身上獲得水分和養分，但卻未提供榕樹任何好處，請問兩者之間為何種交互關係？(A)寄生 (B)片利共生 (C)捕食 (D)互利共生。
- () 18.地球上大多數生物的能量來源為何？(A)陽光 (B)空氣 (C)水 (D)雷電。
- () 19.依據能量塔的定義，每一階層約有多少能量向上傳遞？
 (A)1/5 (B)1/10 (C)1/15 (D)百分之百。
- () 20.一些有機菜園常利用食肉性的瓢蟲來捕食危害農作物的蚜蟲，這種防治害蟲的方法稱為什麼？
 (A)化學防治 (B)物理防治 (C)有機防治 (D)生物防治。
- () 21.榕樹下樹幹周邊區域，小草長得稀稀落落，則榕樹和小草間存在何種交互關係？
 (A)互利共生 (B)競爭 (C)寄生 (D)捕食。
- () 22.下列關於生物防治的敘述何者錯誤？
 (A)生物防治是利用生物之間的交互關係來達到防治病蟲害的目的
 (B)可減少化學農藥的使用，對生態環境較友善
 (C)效果一定比使用農藥好，而且能立即見效
 (D)「鴨稻農法」是一種生物防治的方法。
- () 23.生長在沙漠地區的仙人掌上有許多「針」，這些「針」其實是葉子，這種針狀葉對仙人掌適應乾燥的沙漠有什麼影響？
 (A)減少水分的散失 (B)增加水分的吸收 (C)減少陽光的傷害 (D)加快養分輸送的速度。
- () 24.胖虎在課堂上報告關於物種多樣性的介紹，其中哪一項敘述是「錯誤」的？
 (A)個體數相同的兩個地區，物種越多的區域，生態系越穩定
 (B)熱帶雨林與草原生態系比較，熱帶雨林的物種多樣性較高
 (C)物種多樣性越高的地區，食物網越複雜，生態系就越穩定
 (D)開發沼澤地為良田，可增加物種多樣性。
- () 25.地球上的人口近一世紀暴增了許多，尤其以低開發國家更為嚴重，下列何者應不是因為人口過多所造成的問題？(A)環境汙染 (B)生物棲地被破壞 (C)資源被大量消耗 (D)地震頻繁。
- () 26.生態學家們努力保護現存的物種，其主要目的為下列何者？
 (A)成立自然保留區或國家公園 (B)以利將來的開發 (C)供人類觀賞 (D)維護生物多樣性。

- () 27.從國外引進福壽螺和美國螯蝦後，對臺灣的生態環境所造成的影響，下列何者「錯誤」？
 (A)可增加當地的物種數量
 (B)成為優勢的水生動物
 (C)對原來生活在水田、池塘和河溝中的其他生物造成嚴重威脅
 (D)使原有生態系發生改變。
- () 28.下列何者不是應在日常生活中落實的環保觀念？
 (A)使用免洗餐具 (B)不任意棄養或放生 (C)搭乘大眾運輸系統 (D)使用碳足跡較小的產品。
- () 29.請問，陸域生態系分為沙漠、草原、森林的主要依據為何？
 (A)年雨量 (B)溫度 (C)緯度 (D)地形。
- () 30.請問，蒸發速率遠大於降雨量的地方，最容易形成下列何種生態系？
 (A)森林生態系 (B)沙漠生態系 (C)針葉林生態系 (D)草原生態系。
- () 31.若將危害生物多樣性的五個因素英文字首組起，恰好與英文「河馬 HIPPO」相同，請問【外來物種】的英文字首是哪個字母？(A)P (B)I (C)O (D)H。
- () 32.國際自然保護聯盟為了評估現存生物的瀕危等級，制定了下列何者？
 (A)文化資產保存法 (B)瀕危物種紅色名錄 (C)京都議定書 (D)蒙特婁議定書。
- () 33.關於森林對生態環境的影響，下列敘述何者「錯誤」？
 (A)森林可淨化水質 (B)森林提供生物生存的空間
 (C)森林是生態系中的生產者之一 (D)砍伐森林對環境影響不大。
- () 34.海洋生態系中，淺海區和大洋區以海平面下水深多少公尺為分界？
 (A)50 (B)100 (C)150 (D)200
- () 35.環境優養化的程度可以做為哪一種污染的指標？
 (A)空氣汙染 (B)垃圾汙染 (C)土壤汙染 (D)水汙染。
- () 36.植物與水土保持的關係，下列敘述何者「錯誤」？
 (A)植物的根可抓住土壤 (B)植物的葉片可阻擋雨水直接沖刷土壤
 (C)每一種植物對水土保持的作用都是相同的 (D)植物覆蓋越密集，水土保持的效果越好。
- () 37.已知某生態系存在一食物鏈：浮游藻類→小魚→大魚→鷹，若該生態系受到農藥汙染，則此生態系中的哪一種生物體內累積的農藥量最多？(A)小魚 (B)浮游藻類 (C)鷹 (D)大魚。
- () 38.因生存環境中較缺乏高大樹木作為隱蔽處所，故擅長奔跑或躲藏以躲避敵害的動物，較容易在下列哪種生態系中發現？(A)河口生態系 (B)森林生態系 (C)草原生態系 (D)海洋生態系。

二、題組題。全部 8 題。每題 3 分。共 24 分

- () 39.生物之間除了攝食與被攝食的關係，還存在許多種交互作用，請問，以下哪種組合屬於共生關係？
 (A)水牛、牛背鷺 (B)馬、水牛 (C)水牛、牛蝨 (D)牛背鷺、草。
- () 40.關於植物與空氣環境的描述，下列何者正確？
 (A)植物能夠透過光合作用吸收二氧化碳，釋放氧氣
 (B)植物的蒸散作用能減少空氣中的懸浮微粒
 (C)所有植物皆能有效分解空氣中對人體有害的物質
 (D)植物能透過呼吸作用，減少空氣中的甲醛。
- () 41.下列何者不是應在日常生活中落實的環保觀念？
 (A)物品回收再利用以減少自然資源的消耗 (B)砍伐森林，以木材取代所有房屋建材
 (C)搭乘大眾運輸系統 (D)以個人餐具取代免洗餐具

- () 42. 下列關於生物多樣性的敘述，何者「錯誤」？
- (A) 同一地區的生物種類越多，生態系就越穩定
 - (B) 當環境具有多樣性可提供各種生物棲息，有利於各種生物生存
 - (C) 個體間性狀與特徵差異越大，該物種對環境的適應能力越差
 - (D) 物種多樣性替人類保存了未來可用的資源。
- () 43. 有關生物資源的敘述，下列何者正確？
- (A) 野生動、植物因其繁殖力強，故可取之不盡
 - (C) 民眾常使用犀牛角、虎骨、魚翅等作為藥材與食材的行為，會使這些生物瀕臨絕種
 - (C) 海洋的資源是無限的，人類應高度發展漁業技術，捕獵大量魚類，以解決人類糧食不足的問題
 - (D) 為了促進經濟活動，我們可以大量向國外購買象牙、動物毛皮。
- () 44. 在某針葉林中，主要的食物鏈為「松果→松鼠→老鷹」，請問在此食物鏈中，三種生物所含總能量關係下列何者正確？
- (A) 松果 = 松鼠 = 老鷹
 - (B) 松果 < 松鼠 < 老鷹
 - (C) 松果 > 松鼠 > 老鷹
 - (D) 松果 > 松鼠 = 老鷹。
- () 45. 有關溪流生態系的敘述，下列何者正確？
- (A) 生產者包含紅樹林植物
 - (B) 常自成一個獨立的生態系，不與其他水體相連。
 - (C) 下游水流較急，所以含氧量較低
 - (D) 消費者包含鳥類和魚類。
- () 46. 下列為國際間為了維護地球環境與生物所成立的組織或簽定的公約與其內容，何者配對正確？
- (A) 國際自然保護聯盟：管制野生動、植物的貿易
 - (B) 瀕臨絕種野生動植物國際貿易公約：評估現存生物危險等級
 - (D) 生物多樣性公約：保育綠蠵龜
 - (C) 拉姆薩溼地公約：保育溼地。

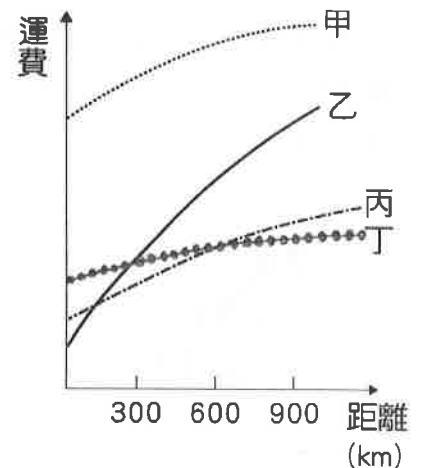
【試題結束—文光、七年級、自然科】

澎湖縣立文光國民中學 108 學年度第二學期七年級社會科第三次段考試題卷

*題目共 50 題，每題 2 分。

班級：七年__班 座號：__ 姓名：__

- () 傳統工業主要可分為輕工業和重工業，其分類依據為何？(A)產品重量 (B)原料重量 (C)技術高低 (D)產值高低。
- () 下列哪一個工廠地點設置的選擇，最能說明「原料」對其影響最大？
(A)臺北的麵包工廠 (B)新竹的科學園區 (C)高雄的煉鋼廠 (D)嘉南平原的糖廠。
- () 下列哪些工業屬「輕工業」？(甲)紡織工業 (乙)食品加工業 (丙)石油化學工業 (丁)鋼鐵工業
(A)甲乙 (B)甲丙 (C)乙丙 (D)丙丁。
- () 民國五十年代，臺灣的電子零件組裝工業賺取了豐厚的外匯，此一工業應屬於何種產業類型？
(A)第一級產業 (B)第二級產業 (C)第三級產業 (D)第一、二級產業。
- () 近年來，由於臺灣產業結構以及生產條件的改變，許多產業紛紛外移，下列何者為臺灣勞力密集工業工廠的主要外移地？(A)中國與東南亞 (B)美國與日本 (C)韓國與印度 (D)韓國與新加坡。
- () 批發、零售、量販皆屬於第幾級的產業活動？ (A)第一級 (B)第二級 (C)第三級。
- () 「民國 107 年我國對外貿易總額 6,226 億 4 千萬美元，其中出口 3,359 億 1 千萬美元，進口 2,863 億 3 千萬美元。」上文敘述可知，該年我國國際貿易具有下列哪項特色？ (A)國際貿易有出超現象 (B)以內銷為主 (C)進口貨物以礦產原料為大宗 (D)進口產品總值大於出口產品總值。
- () 一個聚落若要發展成為都市，必須符合的條件項目，不包括下列哪一項？
(A)人口數較多 (B)土壤肥沃 (C)交通便利 (D)產業活動以二、三級為主。
- () 請問：關於都市與鄉村之間的關係，下列何者正確？ (A)都市提供糧食給鄉村 (B)都市提供勞力給鄉村 (C)鄉村提供商品、服務給都市 (D)鄉村提供原料給都市。
- () 有 80%的臺灣人想到的第一個通訊軟體就是 LINE。請問：LINE 的使用，是屬於通訊中的何種方式？ (A)郵政 (B)傳真 (C)大眾傳播 (D)網際網路。
- () 西元 2014 年，高雄發生震驚全國的氣爆事件，石化原料及天然氣等運輸路線的中斷，對相關產業影響甚大。請問：上述工業原料在國內的運輸方式主要為下列何者？ (A)鐵路 (B)公路 (C)捷運 (D)管線。
- () 附圖為空運、水運、鐵路、公路各自依其運輸距離與所需運費所繪製出的關係圖，請問圖中的哪一條線代表的是「水運」？ (A)甲 (B)乙 (C)丙 (D)丁。
- () 月琪在畢業後就從澎湖縣到臺北市找工作，目前定居於臺北。請問：月琪從鄉村移往都市定居的人口移動模式，符合下列何種概念？ (A)全球化 (B)都市化 (C)郊區化 (D)專業化。
- () 都市的生活機能雖然方便，但隨著都市化程度提升，可能會帶來下面哪一些問題？ (甲)交通壅塞 (乙)地價下跌 (丙)環境惡化 (丁)噪音充斥 (A)甲乙丙 (B)甲乙丁 (C)甲丙丁 (D)乙丙丁。
- () 下列哪一個都市是帶動臺灣中部區域發展的火車頭？ (A)苗栗市 (B)臺中市 (C)彰化市 (D)斗六市。
- () 「這個都市是南部區域發展的重要核心，有全臺第一大港，西元 1993~1999 年該港口的貨櫃進出口量高居世界第三，但近年來卻陸續被韓國釜山、中國上海、深圳等港口超越。」請問：上文所描述的最可能是下列哪一個都市？ (A)基隆市 (B)臺中市 (C)臺南市 (D)高雄市。



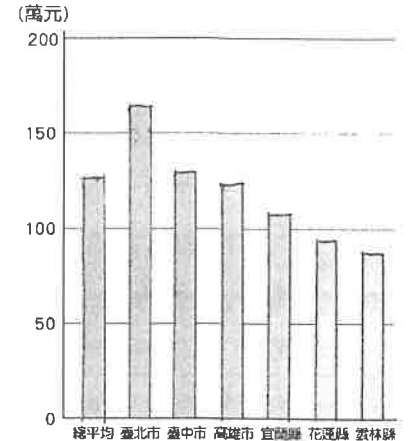
17. () 正式成為「世界最美麗海灣」組織會員，此地在西元 2011 年，被「寂寞星球雜誌」評選為「全球非去不可的 10 大祕密島嶼」，而國際知名度大增。該地以花火節、玄武岩地景、綠蠵龜洄游產卵等活動聞名。請問：指的是何處？ (A)澎湖 (B)東沙 (C)金門 (D)馬祖。

18. () 就全臺灣而言，東部區域擁有一項最大的優勢？(A)少受汙染的自然環境 (B)廣大的漁業資源 (C)良好穩定的氣候 (D)完善開發計畫。

19. () 臺灣哪一區域因地緣關係，受兩岸「小三通」的政策影響較大？
(A)北部區域 (B)南部區域 (C)金馬地區 (D)東部區域。

20. () 臺灣各區域因受到產業結構的影響，出現平均每戶可支配所得高低的差異，其中哪一區域的家庭平均所得最高？ (A)東部區域 (B)南部區域 (C)中部區域 (D)北部區域。

21. () 附圖為西元 2018 年臺灣與部分縣市平均每戶家庭所得比較統計圖。請問：根據此一資訊判斷，下列有關臺灣各區域的經濟發展敘述，何者正確？ (A)東部區域所得最低 (B)北部區域都高於全國平均 (C)高雄市所得高於全國平均 (D)直轄市所得較高。



22. () 子恩在報告中指出：「在臺灣的中華民國政府於 1954 年簽署一份文獻。之後，在經濟上獲得約 15 億美元的援助，包括物資、設備與技術等；在軍事上，臺灣成為西太平洋反共陣線的前鋒。」她說的文獻應是下列何者？(A)《中美共同防禦條約》 (B)《馬關條約》 (C)《聯合國憲章》 (D)《動員戡亂時期臨時條款》。

23. () 根據上題，美國先派軍艦協防臺灣海峽，之後簽署上述文獻，是因為哪場戰爭的爆發？
(A)韓戰 (B)八二三炮戰 (C)第二次世界大戰 (D)古寧頭戰役。

24. () 子恩閱讀到一則相關聲明，如下列表格所示，請問：此聲明最有可能是在民國哪一年所發布的？
(A)36 年 (B)38 年 (C)60 年 (D)68 年。

- 雙方都希望減少國際軍事衝突的危險。
- 任何一方都不應該在亞洲—太平洋地區以及世界上任何地區謀求霸權，每一方都反對任何國家或國家集團建立這種霸權的努力。
- 任何一方都不準備代表任何協力廠商進行談判，也不準備同對方達成針對其他國家的協議或諒解。
- 美利堅合眾國政府承認(acknowledges)中國的立場，即只有一個中國，臺灣是中國的一部分。
- 雙方認為，中美關係正常化不僅符合中國人民和美國人民的利益，且有助於亞洲和世界的和平事業。

25. () 承上題：子恩也得知在聲明發布的這一年，中國對兩岸問題有新想法，此後海峽兩岸關係產生了何種變化？(A)中國以強大武力砲轟金門 (B)中國對臺灣改採和平統戰策略 (C)中國對臺灣提出三不政策 (D)中國取得聯合國的中國席位。

26. () 近年來，海峽兩岸交流日漸頻繁。請問：關於下列敘述，何者不符合現況？(A)政府開放民眾赴中國探親，正式開啟兩岸交流的序幕 (B)海峽兩岸的人民從隔絕走向交流 (C)「大陸委員會」和「海峽兩岸關係協會」皆屬於我國處理兩岸交流事務的機構 (D)我國政府已放棄不接觸、不談判、不妥協的三不政策。

27. () 近年來，臺灣市面上的異國料理餐廳越來越多，如炎炎夏日中午胃口不佳，彥斤與禹璠都喜歡利用假日糾集朋友，一起到泰式或越南餐廳享用口味清爽的涼麵或春捲，讓人胃口大開！請問：此種現象說明現今臺灣社會具有哪一種特色？ (A)大中華主義色彩濃厚 (B)強烈排外 (C)文化多元 (D)閉關自守。

28. () 請問：美國對臺灣的經濟援助後續影響，下列選項何者是錯誤的？(A)幫助臺灣恢復基礎建設 (B)平抑物價上漲潛在壓力 (C)幫助臺灣推動十大建設 (D)直接給予物資的支援。
29. () 維芯看到臺灣一位導演拍攝的短片，內容描述現今臺灣導演希望拍攝的國片能到中國上映，為了不被中國的審查機關封殺，只好暫時拆除場景中，學校圍牆上的中華民國國旗，沒想到千辛萬苦拆掉的國旗，背後的牆面卻寫著「反共抗俄」、「解放大陸同胞」等精神標語，讓劇組白忙一場，卻又感到諷刺無比。由此可知，這些精神標語代表當時政府對海峽兩岸抱持何種態度？(A)三通四流 (B)反攻大陸 (C)一國兩制 (D)開放大陸探親。
30. () 韻文的外婆回憶道：「在臺灣光復初期，我們家的土地不算少，光讓子孫後代靠收地租維生，一點問題也沒有！可是後來政府覺得這樣不公平，強制收購我們家的土地，分配給佃農。沒想到政府給的土地補償是股票，偏偏我們家剛開始不知道股票的使用方法，最後就這樣無疾而終，也不知如何是好。」請問：這是政府實施下列哪一項政策的結果？ (A)設置加工出口區 (B)三七五減租 (C)公地放領 (D)耕者有其田。
31. () 當時政府在高雄設置加工出口區，吸引外國廠商與資金進駐，按照工業區位條件來說，這主要應是哪兩項條件的取向？(甲)原料 (乙)政策 (丙)市場 (丁)勞工 (A)乙丁 (B)乙丙 (C)丙丁 (D)甲乙。
32. () 淑媛一家想去臺灣東部遊玩，他們走雪山隧道抵達宜蘭，之後從蘇澳港乘船出海釣魚，享用最新鮮的海鮮；再搭乘北迴鐵路到花蓮，從花蓮港搭乘賞鯨船出海，以最不打擾的方式欣賞海中的哺乳類動物，最後走中橫公路進到太魯閣國家公園內，欣賞東部壯麗的地形景觀。請問上述行程中，他們會遇到十大建設中的幾項建設？(A)1項 (B)2項 (C)3項 (D)4項。
33. () 民國六十年代，被迫退出聯合國的外交失利，促使民眾重新思考臺灣存在的價值，在文學創作有了風格上的突破。此時的創作主題以下列何者為主？(A)翻譯西方小說 (B)反共思潮 (C)讚揚中國故土 (D)臺灣鄉土題材與農村生活。
34. () 近年來，臺灣民眾愈來愈勇於為自己發聲與爭取自身權益，如廢核、婦女權利與原住民等方面皆有相關運動。請問：社會運動在下列哪件事後，才能夠不受太多限制且蓬勃發展？(A)土地改革 (B)產業轉型 (C)解除戒嚴 (D)正名運動。
35. () 臺灣原住民近幾十年也正逐漸為自己的權利發聲。請問：下列關於臺灣原住民爭取權益與政府回應的敘述，何者正確？ (A)權益爭取運動自民國八十年代陸續展開 (B)其中包含廢名運動、還我土地運動等等 (C)政府於民國 85 年成立原住民族委員會 (D)平埔族群並未一同要求恢復原住民身分。
36. () 俞琳和好友平時除了用電話聯絡外，她們最常用的還是網路通訊軟體Line，不但省錢而且方便。上述情形最能說明社會變遷中哪個層次的改變？ (A)風俗習慣 (B)器物生活 (C)社會制度 (D)價值觀念。
37. () 近年來，智慧型手機、大螢幕手機與平板電腦不斷推陳出新，民眾幾乎人手一機，到處可見「低頭族」在滑動螢幕，改變了民眾使用手機的習慣。上述現象是何種原因所引起的社會變遷？(A)自然環境的變化 (B)科學技術的發展 (C)外來文化的刺激 (D)社會運動的推動。
38. () 曉梅的婆婆是位長期洗腎的患者，一家五口的生活全依靠曉梅的先生，所以手頭並不寬裕。曉梅常說：「還好有政府有全民健康保險制度的福利措施，要不然龐大的醫療費用早就把全家給拖垮了。」上述曉梅所說的「全民健康保險制度」應該是指下列何項社會福利政策？(A)健康與醫療照護 (B)獨居老人關懷訪視 (C)社會救助 (D)社會保險。

39. () 近年來，手機日益普及，隨之帶動民眾建立廢手機與電池回收的觀念。上述現象顯示社會變遷的何種面向？ (A)器物變遷帶動制度變遷 (B)器物變遷帶動理念變遷 (C)理念變遷帶動制度變遷 (D)制度變遷帶動理念變遷。
40. () 現行《入出國及移民法》規定，並非自願離婚的外籍配偶，如果沒有拿到家暴保護令或是小孩的監護權，就失去居留權，必須被迫出境。內政部回應移民團體多年來的呼籲，提出修正草案，放寬離婚外籍配偶可以繼續居住在臺灣的限制，以提升婚姻移民的權益保障。移民署說，在該法修法完成前，對於遭遇類似困境的新住民，移民署各地服務站都將依照修正草案的原則與精神來提供各式協助。上述政府是採取何種方式來改善其不公平的處境？ (A)以新住民角度思考政策保護權益 (B)從新住民立場提供經濟上的協助 (C)縮小新住民所面臨的不公平競爭 (D)努力爭取新住民平權觀念的普及。
41. () 都會區的房價持續向上飆漲，大多數的民眾都覺得無力負擔高房價、買不起房子，然而高收入者則擁有豪宅。此種社會變遷繼續發展下去，會造成何種影響？ (A)少子化現象 (B)貧富差距擴大 (C)犯罪率上升 (D)環境汙染嚴重。
42. () 要在社會變遷過程中促成社會正義，請問：下列哪些是可以努力的方向？ (A)甲乙丙 (B)甲乙丁 (C)乙丙丁 (D)甲乙丙丁。
- (甲)政府制定法律與政策 (乙)民間團體的投入 (丙)個人的努力 (丁)黑道的介入
43. () 社會中的團體可以透過哪些方式，督促政府制定相關的法律與政策，並且積極監督政府施政？ (甲)傳播媒體 (乙)集會遊行 (丙)威脅利誘 (丁)自行立法 (A)甲乙 (B)甲丙 (C)乙丙 (D)丙丁。
44. () 臺北市政府社會局為聽障朋友提供手語翻譯服務，這是以何種精神對待聽障朋友？ (A)平等互惠 (B)服從多數 (C)社會正義 (D)排擠少數。
45. () 以社會福利的發展歷程而言，「社會上雇主壓榨勞工、失業和貧窮等問題日益嚴重，政府開始制定社會福利政策，落實相關措施以保障弱勢者的權益」，是在下列哪個時期？ (A)我國古代 (B)中世紀時期 (C)工業革命後 (D)二十世紀後。
46. () 政府實施與推動社會福利政策的經費，主要是來自何者？ (A)企業捐助 (B)善心人士捐款 (C)稅收與社會保險的保費 (D)民間團體的營利收入。
47. () 下列哪個民間團體為無力支付高額醫藥費用的患者募款，協助其接受應有的醫療照護，使病患享有應有的尊重與關懷？ (A)藥師公會 (B)罕見疾病基金會 (C)消費者文教基金會 (D)創世社會福利基金會。
48. () 周家一家五口住在鐵皮搭建的違章建築裡，每逢雨天，屋內就不斷漏水。根據上述，周家最需要哪項社會福利政策的協助？ (A)社會保險 (B)就業安全 (C)居住正義 (D)健康與醫療照護。
49. () 政府在社會保險給付項目之外，針對有特殊需求的人民，採行社會津貼的措施。下列何者屬於社會津貼？ (A)無歧視與無障礙空間 (B)生育津貼及育兒津貼 (C)低收入戶醫療補助 (D)貸款利息補貼。
50. () 政府應制定合宜的社會福利政策，盡力滿足人民的心理、社會和經濟等方面的需要。下列何者不屬於我國現行的社會福利政策？ (A)社會保險 (B)就業安全 (C)社會救助 (D)9年國民教育。

【考題到此結束】