

澎湖縣立文光國民中學一百零八學年度第二學期第三次段考國文科試題【題目卷】

八年 班 座號： 姓名：

讀卡 答案卷

一、國字注音：10%（共10字，每字一分）【請將答案寫在答案卷中】

1. 褻「ㄉㄨㄨ」 2. 「ㄩㄛㄣ」永 3. 「ㄩ」皮 4. 鶴「ㄩ」 5. 「ㄉㄨ」汗
6. 「綸」巾 7. 陶「冶」 8. 「箴」銘 9. 言簡意「賅」 10. 「枵」腹從公

二、解釋：10%（共5題，每題二分）【請將答案寫在答案卷中】

1. 笑容可掬 2. 變數 3. 自視非凡 4. 鴻儒 5. 駭然

三、翻譯：10%（共3題，1.2題三分，3題四分）【請將答案寫在答案卷中】

1. 得不為司馬懿所擒乎 2. 斯是陋室，惟吾德馨 3. 無絲竹之亂耳，無案牘之勞形

四、配合題：10%（共5題，每題二分）【請將答案寫在答案卷中】

◆請選出「對應的歇後語」或「與課文文意相近的成語」。

1. 諸葛亮大擺空城計——（ ）
2. 司馬昭之心——（ ）
3. 過五關斬六將——（ ）
4. 在企圖駕馭他人之前，先能駕馭自己。——（ ）
5. 不要以願望代替實際作為。——（ ）

參考選項：

- (A)化險為夷
(B)腳踏實地
(C)問心無愧
(D)所向無敵
(E)不自量力
(F)反求諸己
(G)路人皆知

五、選擇題：40%（共20題，每題二分）【請將答案寫在答案卷中】

- () 1. 下列詞語「」中的字，何者讀音錯誤？
(A)「狷」急：ㄩㄛㄣ (B)手「絹」：ㄩㄛㄣ
(C)「孺」子：ㄉㄨ (D)怯「懦」：ㄉㄨ
- () 2. 麥克阿瑟為子祈禱文：「然後，作為他的父親的我，才敢低聲說道：『我已不虛此生！』」句中「我已不虛此生」的涵義為何？
(A)表達自己的人生過得非常充實 (B)表示自己是個問心有愧的父親
(C)表達自己責任已了的放鬆心情 (D)表現出對自己所作所為的讚賞
- () 3. 下列何者未使用「倒裝」修辭？
(A)春日繁魚鳥，江天足芰荷 (B)公亦以此自矜
(C)父母唯其疾之憂 (D)子何恃而往
- () 4. 下列選項中的「之」字，何者不當代名詞使用？
(A)蓋因不得已而用「之」 (B)若某等「之」見，必棄城而走矣
(C)事「之」以禮 (D)自飛馬遠遠望「之」。
- () 5. 柏榮穿越時空回到了清代，突然聽到旁人大喊「護駕！」，請問這個「駕」字的詞性和下列何者相同？
(A)並「駕」齊驅 (B)騰雲「駕」霧 (C)「駕」馭自己 (D)「駕」鶴西歸
- () 6. 老師為了測試同學們是否已熟讀空城計，將綱要印出打散如下：(甲)孔明指揮時神情自若、處變不驚(乙)司馬懿兵臨城下，雙方對峙(丙)魏軍遠去，眾官駭然，孔明釋疑(丁)飛馬速報：敵眾我寡，西城危急(戊)司馬懿疑懼伏兵，引兵退去。如果依照情節發展，正確順序應如何排列？
(A)甲乙戊丁丙 (B)乙丁甲戊丙 (C)丁甲乙戊丙 (D)丁乙甲戊丙

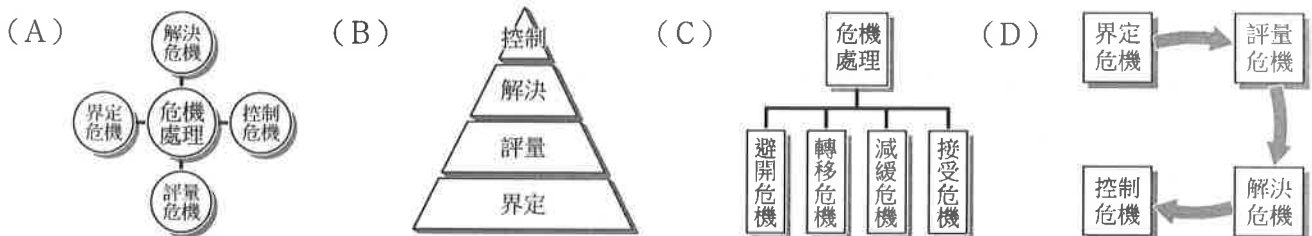
【第一頁結束，背面尚有試題】

- () 7. 下列詞語的結構，何者與「焚香操琴」不同？
 (A)按部就班 (B)說長道短 (C)去蕪存菁 (D)飛沙走石
- () 8. 政新新居落成，在其門上張貼陋室銘的：「南陽諸葛廬，西蜀子雲亭」。請問政新的心思為何？
 (A)表達憤世嫉俗的處事態度 (B)表達居平淡，甘平凡的想法
 (C)想隱居離群，與世隔絕 (D)待時機成熟，一展抱負
- () 9. 下列哪一個選項最能傳達出碧翠絲的羊一文所要表達的主旨？
 (A)知識就是力量 (B)勿以善小而不為
 (C)錢財乃身外之物 (D)成功並非偶然
- () 10. 同學玩「說書人」桌遊，必須要說出劉禹錫在陋室銘中要表達的文意，下列何人說錯了，成為輸家？
 (A)凡恩：「草色入簾青」寫出陋室的草木盎然，綠意十足
 (B)蘭鐸：「往來無白丁」描述主人的交友對象都不是等閒之輩
 (C)拉維爾：「無案牘之勞形」寫出面對繁雜公務時要用悠閒的態度去處理
 (D)卡芬妮：「何陋之有」隱含外表的缺陷不足以掩蓋心靈的真善美
- () 11. 麥帥為子祈禱文與朱自清 背影的比較，下列何者錯誤？
 (A)本課和背影二篇文章都從父親的立場來抒發父愛
 (B)本課以為子禱告來表達父愛；背影使用橘子來象徵父愛
 (C)本課直接敘述父親立場來抒發父愛；背影回顧父子相處的具體事件，間接地顯示父愛
 (D)文體上，本課形式上為應用文，內容上為抒情文；背影為記敘兼抒情
- () 12. 關於三國演義的敘述，下列何者錯誤？
 (A)是一部歷史章回小說，取材於三國志
 (B)作者為元末明初的羅貫中
 (C)書中所謂三絕指的是「曹操奸絕、張飛義絕、孔明智絕」
 (D)與西遊記、水滸傳、金瓶梅合稱小說界「四大奇書」
- () 13. 兩軍交戰時，有一種策略是「先轉移敵人目標，使他們疏於防範，然後乘其不意，攻其不備，取得勝利」。這種策略最適合用下列哪一個成語來形容？
 (A)拋磚引玉 (B)裡應外合 (C)趁火打劫 (D)聲東擊西
- () 14. 課後全班將進行空城計的戲劇演出，維德負責劇中道具，請問他的安排何者正確？
 (A)孔明：旌旗 (B)司馬懿：琴
 (C)軍士：掃帚 (D)童子：糧草
- () 15. 「苔痕上階綠，草色入簾青」一句裡，使用「上」、「入」二字讓靜態的描繪中呈現出動態感，下列何者亦是使用這種摹寫手法？
 (A)返景入深林，復照青苔上 (B)床前明月光，疑是地上霜
 (C)前不見古人，後不見來者 (D)夕陽無限好，只是近黃昏
- () 16. 有關空城計寫作手法的說明，何者正確？
 (A)用主觀者立場寫成，引人入勝
 (B)用懸疑的小說技巧，故布疑陣
 (C)寫孔明的傳令用連續短句，顯出其內心惶恐
 (D)故事後半段用許多對話，營造曲折離奇之感
- () 17. 犯罪學理論中所謂的「破窗效應」是指，環境中的不良現象如果被放任存在，會誘使人們仿效，甚至變本加厲。下列何者即根據「破窗效應」的理論？
 (A)紐約市警局為降低犯罪率，嚴格取締地鐵逃票情形，而使整體治安轉好
 (B)國內食用油污染事件，使家庭主婦紛紛轉向購買昂貴的進口橄欖油
 (C)近年來酒駕意外頻傳，民間團體要求立法院儘速通過法案，加重懲處肇事者
 (D)美國科學家發現，堪薩斯州因大量建造風車發電，改變當地氣候與環境生態，造成另類傷害

- () 18. 「陶」本指製瓦器，「冶」本指鑄金屬，兩字合起來引申為「塑造化育」之義。依此原則，下列哪一選項中的詞語都適用此法則？
 (A) 圭臬、砥礪、切磋 (B) 嫵媚、污穢、樞紐
 (C) 規矩、枷鎖、土阜 (D) 跋涉、參差、桎梏
- () 19. 下列文句，何者文意通暢、用詞最為恰當？
 (A) 在我軍堅守防線之下，敵軍難以越瑤池一步
 (B) 她性格豪邁直爽，英姿煥發，彷彿小家碧玉
 (C) 他成功的振興經濟，解民倒懸，獲得眾人愛戴
 (D) 教育小孩的方法必須剛烈並濟，才能達到效果
- () 20. 某古物專家在電視上介紹著：「這一件應該是商、周時代的文物，是一種三足、兩耳、刻有精細紋飾的青銅器。上面還有幾個字……。」根據描述，這個器物上的文字應該被稱為什麼？
 (A) 小篆 (B) 金文 (C) 隸書 (D) 甲骨文

六、閱讀理解測驗：20% (共 13 題，1~6 每題一分，7~13 每題二分)【請將答案寫在答案卷中】

- () 1. 「諸葛武侯文采不豔，然其〈出師〉二表至今為學者膾炙，有志之士擊節讀之，有至於嗟嘆流涕者。六朝、隋、唐文人動輒百數十篇，穠華纖巧，極其雕飾，或卒無一語可傳。然則文之為文，豈必多且麗乎哉？」根據這段文字，下列何者最符合作者的觀點？
 (A) 文章之優劣，取決於作者的學識修養與文采表現
 (B) 寫作不宜過度雕章琢句，當以抒發情志、感動人心為佳
 (C) 六朝文人多投注心力於雕飾辭藻，以致作品質精而量少
 (D) 諸葛武侯文采不豔，唯〈出師〉二表典麗華美，膾炙人口
- () 2. 「子路曰：『南山有竹，弗揉自直，斬而射之，通於犀革，又何學為乎？』孔子曰：『括而羽之，鏃而砥礪之，其入不益深乎？』」這段文字的涵義，與下列何者最接近？
 (A) 羅曼·羅蘭：「生命像一股激流，沒有岩石和暗礁，就激不起美麗的浪花。」
 (B) 愛因斯坦：「一個人的價值，應當看他貢獻什麼？而不是取得什麼。」
 (C) 但丁：「道德能彌補智慧的缺陷，而智慧卻彌補不了道德的缺陷。」
 (D) 莎士比亞：「無知是種罪惡，而知識便是我們用來飛向天堂的翅膀。」
- () 3. 「面對危機，你可以依循以下四個步驟沉著處理：第一、界定危機，釐清危機的起因及影響。第二、評量危機，進一步分析危機的層級，以及決定因應的先後順序。第三、解決危機，善加運用四種因應策略（避開危機、轉移危機、減緩危機、接受危機）。第四、控制危機，保持戒備狀態，避免情況失控惡化。」如果以圖表來呈現以上引文，下列何者為佳？



- () 4. 「巴提族人群居在巴基斯坦北部最險惡的高山河谷，六百年前來自西藏。原先信奉的佛教在途中漸被拭去，取而代之的是嚴峻的伊斯蘭教 什葉派，但仍保有原有的語言。他們體型瘦小、耐力驚人，具有生存在鮮有人造訪的高海拔地區的卓越能力，這些都不免讓人聯想起巴提族在東邊的遠親——尼泊爾的雪巴族。不過巴提人的其他特質，例如對外人的沉默懷疑以及毫不妥協的宗教信仰，則迥異於信奉佛教的雪巴人。」根據這段文句，下列何者最可能是巴提族和雪巴族都具有的特色？
 (A) 信奉嚴峻的伊斯蘭教 什葉派 (B) 住在巴基斯坦北部高山地區
 (C) 對外人沉默懷疑、毫不妥協 (D) 體型瘦小，且有驚人的耐力

- () 5. 「逆流來時，不要猶豫，(甲)只有如此，才有生存的機會，(乙)堅決地迎接它，(丙)勇敢的衝破它！(丁)迅速的面對它，才有生存的意義。」依照文意，排列最恰當的選項為何？
 (A)甲乙丙丁 (B)丁乙甲丙 (C)丙乙丁甲 (D)丁乙丙甲
- () 6. 「冬天的我，特別想吃蚵仔麵線，想念著在翠意盎然的香菜上，澆一些辣椒醬，將麵線的香氣激迸出來。吃不到麵線的異鄉夜晚，我竟有了輾轉難眠的焦慮，這是不是就是所謂的□□呢？」(張曼娟 想念) 以上缺空處宜填入下列何詞？
 (A)食欲 (B)相思 (C)鄉愁 (D)失眠

市場上真正重要、甚至可以救命的藥品其實正日漸稀少。一旦被藥廠認定不會帶來利潤的藥，馬上就會停止生產。有時候，藥廠決定停止生產重要藥品的原因，是想騰出生產線來製造其他更有利潤的藥物。

美國食品藥物管理局規定：藥廠決定停產具有「醫療必要」的專賣藥品時，需要在六個月前提出。但這項規定卻形同具文，無人遵守。2001年就有很多重要藥品出現嚴重短缺，包括一些麻醉藥、治療蛇毒的抗蛇毒血清、早產兒用的類固醇、血友病的抗凝血藥、心臟衰竭用的注射藥，以及成人流感與肺炎疫苗。

短缺情況最嚴重的是小兒疫苗。在2000年時，白喉、破傷風、百日咳三合一的疫苗數量不足，美國疾病管制局只好建議：嬰兒只需要接種標準五劑中的前三劑就好，並取消追加注射。疾管局還建議延期注射麻疹、腮腺炎和德國麻疹疫苗，以及天花疫苗的二次接種。2002年底，疫苗供應情況稍稍回穩，疾管局才又建議回歸原始的接種程序。這個問題一直無法徹底解決，原因是製造疫苗的藥廠越來越少，比起二十年前約十六家的榮景，現在只有區區四家在生產。——改寫自瑪西亞·安卓《藥廠黑幕》

- () 7. 根據本文，藥廠生產藥物的原則為下列何者？
 (A)以民眾的需求為考量 (B)以疾病的輕重為依據
 (C)以政府的規定為準則 (D)以利潤的追求為優先
- () 8. 根據本文，無法推知下列何者？
 (A)治療蛇毒的抗蛇毒血清利潤不夠高
 (B)利潤愈來愈低，所以藥廠越來越少
 (C)天花疫苗原本的標準接種次數不只一次
 (D)美國疾管局建議延期注射是因為疫苗供應不足

大聯盟的挑戰

王建民：「要達到進入大聯盟的夢想，只有□□□□□。」

胡金龍：「大聯盟是我畢生的夢想，進入道奇則是夢想的第一步。」

鄭錡鴻：「再難熬也得撐下去，因為這條路是自己選的。」

羅國輝：「短短幾年就能使人蛻變，有機會自己也要去試試看。」

耿伯軒：「一步一步來，準備好了，機會來了，就可以達到你的夢想。」

羅錦龍：「只要不斷地努力，我一定會站在大聯盟的投手丘上。」(摘自公視網頁)

- () 9. 王建民為了進入大聯盟，所付出的心血不亞於胡金龍等人。由此推測，文中的□□□□□應填入什麼？
 (A)努力再努力 (B)克勤又克儉
 (C)非得撐下去 (D)一步又一步
- () 10. 文中每個人所說的話，無法印證哪一句名言？
 (A)人生有夢，築夢踏實 (B)創業維艱，守成不易
 (C)精誠所至，金石為開 (D)只要立志堅，平地可成山

- () 11. 如果你是雜誌編輯，你覺得下列哪一個選項最適合當做本文的標題？
- (A) 大聯盟人才濟濟，洋基隊再創佳績
 - (B) 臺灣人的驕傲：王建民風靡棒壇
 - (C) 一失足成千古恨，再回首已百年身
 - (D) 旅美追夢的心聲，迎接挑戰的誓言

【甲】 司馬昭專權，帝欲殺之，反為賈充、成濟所害。昭入殿中，召群臣會議。尚書左僕射陳泰不至，昭使其舅尚書荀顛召之，泰曰：「世之論者以泰方於舅，今舅不如泰也。」子弟內外咸共逼之，乃入，見昭，悲慟，昭亦對之泣曰：「卿何以處我？」泰曰：「獨有斬賈充，少可以謝天下耳。」昭久之曰：「卿更思其次。」泰曰：「惟有進於此，不知其次。」昭乃不復更言。——改寫自《資治通鑑·魏紀九》

【乙】 帝崩，內外喧譁。司馬昭問陳泰曰：「何以靜之？」泰云：「唯殺賈充以謝天下。」昭曰：「可復下此否？」對曰：「但見其上，未見其下。」——改寫自《世說新語·方正》

- () 12. 關於甲篇中的人物，下列推論何者最恰當？
- (A) 賈充是司馬昭陣營的人馬
 - (B) 陳泰為了救荀顛而見司馬昭
 - (C) 司馬昭與陳泰因權臣橫行而對泣
 - (D) 眾人認為陳泰應比荀顛早一步進宮
- () 13. 根據甲篇內容，可推測乙篇陳泰所言「但見其上，未見其下」的涵義最可能是下列何者？
- (A) 指出賈充屢獲晉升卻未曾被貶官
 - (B) 認為殺賈充是最起碼的處置方式
 - (C) 批評司馬昭遇事時未能顧及下屬
 - (D) 諷刺司馬昭只知媚上卻無法服眾

【試題結束，請再檢查答案是否完整、正確！】

澎湖縣立文光國民中學 108 學年度第二學期第三次段考八年級英文科題目卷

班級 座號 姓名

一、聽力測驗：請依據所聽到的內容，選出一個最適合的回應(每題 2 分;共 10 分)

1. (A) Sorry. I won't do that again. (B) Let's drop out of the game. (C) Let's put ourselves in her shoes.
2. (A) You think so, too? Let's ask her right away.
(B) I joined the anti-bullying club.
(C) I agree with her. She's right.
3. (A) I love the last one. (B) Most of them are lonely. (C) Both of them are unhappy.
4. (A) Really? Is it dead? (B) It's at the age of ten. (C) Wow. It's so bright.
5. (A) Beats me. I don't have any money, either.
(B) Great! I always want to experience a king's life.
(C) Wait a minute. Don't we need to pay for the shipping?

二、文意字彙：(每題 1 分;共 10 分)

1. _____ The Earth is the only place for us to live now. We should take a _____ n to protect (保護) it.
2. _____ The sun s_____e brightly in the morning, but now it looks like rain.
3. _____ It's not easy to f_____e and forget. In other words, it is hard to make friends with your enemies (敵人).
4. _____ Last night, my parents finally a_____ed to let me go camping with my friends.
5. _____ The teacher wrote several sentences on the b_____d. She asked the students to read them out loudly.
6. _____ A : Mr. Bloom was my teacher when I was eleven years old.
B : So, he was your e_____y school teacher.
7. _____ Lisa usually dries her body with a t_____l after she takes a shower.
8. _____ A : My English is really poor. What can I do?
B : You can join some English p_____ms after school. They may help.
9. _____ It rains a lot in Taipei in winter. If you want to take a trip to Taipei, you should put an u_____a in your bag.
10. _____ A : The food in this restaurant is really good. How did you know it?
B : I saw an a_____t for this restaurant in a newspaper last night, so I decided to give it a try.

三、文法測驗：(每題 2 分;共 40 分)

1. () _____ thirty minutes practicing English every day, and you can speak it well.
(A) Take (B) Spend (C) Cost (D) Pay
2. () John swims _____ in his class. He often helps _____ his classmates to swim with the PE teacher.
(A) the best; teaching (B) better; to teach (C) better; teach (D) best; to teach
3. () There are _____ people standing in line and waiting for the famous singer.
(A) Two hundreds (B) Three hundred of (C) Hundred of (D) Five hundred
4. () It's kind of Mr. Morgan to donate _____ of his money to the charity (慈善機構).
(A) lot (B) both (C) much (D) the most
5. () _____ your health, you should do more exercise.
(A) With (B) By (C) As (D) For
6. () A : I felt sorry about _____ to you. Would you forgive me? B : All right. Don't do it again.
(A) lie (B) lied (C) lies (D) lying

【第一頁結束，背面尚有試題】

7. () A : Why did you talk on the phone _____ yesterday?
B : Because Simon was late for the meeting again. He was never on time.
(A) angry (B) the angriest (C) angrier (D) angrily
8. () _____ of the questions looks very difficult. No one can get the correct answer.
(A) One (B) All (C) Most (D) Few
9. () The dress _____ Alice much money. She decided (決定) to wear it to the party tomorrow.
(A) spent (B) cost (C) took (D) paid
10. () You'd better _____ him to the hospital because his feet hurt.
(A) send (B) sent (C) to send (D) sending
11. () Leo bought two books yesterday. _____ of the books were interesting.
(A) One (B) Two (C) Both (D) All
12. () Mandy always spends a lot of time _____ TV, and her mother makes her study harder.
(A) Watch (B) to watch (C) watching (D) to watching
13. () Joe is looking _____ at his children. They are playing baseball.
(A) unhappy (B) happy (C) unhappily (D) happily
14. () Your T-shirt is so special. Where did you get _____? I want _____, too.
(A) one; one (B) one; it (C) it; one (D) it; it
15. () My mom always tells me _____ home alone at night.
(A) not go (B) not to go (C) not going (D) don't go
16. () If Justin _____ you tomorrow, remember to give him my phone number.
(A) call (B) will call (C) calls (D) called
17. () Though it cost me NT\$50,000 _____ a trip to Japan, MI still want to go there again.
(A) taking (B) to take (C) took (D) take
18. () Stop _____ at Ben. Though he can't play basketball _____, he always does his best.
(A) laughing; well (B) to laugh; well
(C) laughing; good (D) to laugh; good
19. () A: What do you do online? B: _____
(A) I download games and MP3. (B) That's the only way.
(C) The computer crashed again. (D) The software you are using is outdated.
20. () A: _____ B: Purple Bat.
(A) You hung out in the internet café for too long.
(B) Have you found out the way to fix my computer?
(C) What's your handle on the net?
(D) How could I mess up burning the disc again?

四、閱讀測驗：(每題 2 分; 共 8 分)

1. Hey Michael,

I just got my order, and I have some bad news to tell you. Some of the items were missing. Also, a few of them were completely wrong.

The missing ones are the whale hand puppets, the shark fin hats, and the zebra pattern bags. It was strange to see them missing from the order because that never happened before.

Now for the wrong ones. All of the hobbyhorses are brown, but we specifically asked for some black ones and a few white ones. Next, three of the cow toys don't have tails, and only one of the ducks make any noise. Last, few of the snakes have eyes, and none of the kangaroos have pockets or babies in them. What's with all of these mistakes? Are you having trouble with your workers, or are you training a new group of people?

Anyway, I need you to solve this for me and fast. Christmas is around the corner, and I need to make sure our shelves are full and ready to go. Get back to me when you get this.

Regards,
Vincent

☐ item 品項 missing 不見了 hand puppet 手偶 fin 魚鰭 pattern 花紋 hobbyhorse 木馬
specifically 特意 none 沒有一個 mistake 錯誤 shelf 架子

【第二頁結束，背面尚有試題】

- () 1. What does “completely” mean?
 (A) Never. (B) All. (C) Seldom. (D) Both.
- () 2. What does Vincent ask Michael to do?
 (A) Fix his problem quickly.
 (B) Make new shelves for his store.
 (C) Meet him around the corner.
 (D) Send him some workers for Christmas.
2. Woman : I'd like to buy a washing machine because my old one doesn't work very well anymore.
 Clerk : Are you looking for anything in particular?
 Woman : I'd like a powerful one, but it also shouldn't cost too much.
 Clerk : How much are you looking to spend?
 Woman : I don't want to pay more than NT\$10,000. Is that possible?
 Clerk : Absolutely! Some of our popular washing machines are right around that price.
 Woman : Great! Can you show me a few of them and tell me their pros and cons?
 Clerk : It would be my pleasure. Just step this way, please. Here, we have the cheapest one on the market. It's only NT\$5,990, and if you get it today and pay in cash, the shipping is free.
 Woman : That sounds like a good deal. However, does it get dirty clothes really clean?
 Clerk : Yes, but it will take longer than the slightly more expensive models.
 Woman : If they are still in my price range, then I'd like to see those ones.
 Clerk : This one here is only NT\$3,000 more, and it only takes thirty minutes to wash a lot of clothes.
 Woman : That sounds perfect!
- in particular 特別地 absolutely 那當然 pros and cons 優缺點 pleasure 榮幸 cash 現金
 deal 買賣 slightly 稍微 range 範圍
- () 3. Why doesn't the woman like the first machine?
 (A) It is out of her price range. (B) It costs more than NT\$10,000.
 (C) It takes too long to get clothes clean. (D) It doesn't come with free shipping.
- () 4. Which is true about the woman?
 (A) Her old washing machine still works. (B) She knows nothing about washing machines.
 (C) It takes her a long time to decide. (D) She asks the clerk for free shipping.

五填充題:答案可能不只一個字(每題2分;共12分)

- Mr. Lin is not careful when he drives. He drives _____. (terrible)
- Cleaning the house _____ Nick all morning on Mondays.
- Luke: Wow, your shoes are so cool. Jenny: Thank you. My mom bought _____ for me yesterday.
- _____ his mother, he became a famous dancer. 因為他的媽媽,他成為一個有名的舞者。
- A: _____ did Iris spend on the book? B: NT\$250.
- Of all these actresses, Lily dresses _____. (beautiful)

六、依提示回答問題:6-9題為翻譯題,請翻成英文(數字請用英文表示)(每題2分;共20分)

- Nick should use his money wisely. (依畫線部分造原問句)
- some/here/ice cream/delicious/taste (組成一個完整的句子)
- It took me two days to do the report. (依畫線部分造原問句)
- The car cost me only nine thousand dollars. (用 spend 改寫)
- According to Lesson 8, what did Paul McCartney's mother do when he had problems with math?
- 如果 Nick 現在付錢,他會得到七折的折扣。
- 把我家改變成現代城堡花了我一百萬元。(It...)
- 我有我自己的思考方式,所以我常常跟我媽媽吵架。
- 把游標移到圖示上,並按下滑鼠。
- He is a mouse potato. (翻成中文)

【試題結束—文光國中八年級英文】

澎湖縣立文光國民中學108學年度第二學期第三次段考八年級英文科答案卷

班級

姓名

座號

放大B4
獨立1張

一、聽力測驗10%

1.	2.	3.	4.	5.
----	----	----	----	----

二、文意字彙：10%

1.	2.	3.	4.	5.
6.	7.	8.	9.	10.

三、文法測驗40%

1.	2.	3.	4.	5.	6.	7.	8.	9.	10.
11.	12.	13.	14.	15.	16.	17.	18.	19.	20.

四、閱讀測驗：8%

1.	2.	3.	4.
----	----	----	----

五、填充題：12%

1.	2.	3.	4.	5.	6.
----	----	----	----	----	----

六、依提示回答問題20%

1.
2.
3.
4.
5.
6.
7.
8.
9.
10.

澎湖縣立文光國民中學 108 學年度第 2 學期第 3 次成績評量 8 年級數學科試卷

班級：

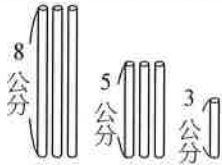
姓名：

座號：

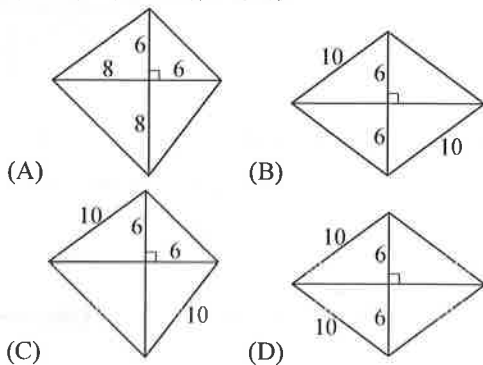
讀卡 V 答案卷

一、選擇(每題 4 分，共 40 分)

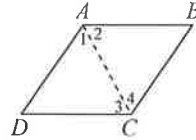
1. () 在同一平面上，若 $L_1 \perp L_2$ 、 $L_2 \perp L_3$ 、 $L_3 \perp L_4$ 、 $L_4 \perp L_5$ 、 $L_5 \perp L_6$ ，則下列敘述何者錯誤？
 (A) $L_3 \parallel L_5$ (B) $L_2 \parallel L_6$ (C) $L_1 \perp L_4$ (D) $L_4 \perp L_6$
2. () 如圖， $L_1 \parallel L_2$ ，若 $\overline{BC} = 9$ 公分， $\triangle ABC$ 面積 = 36 平方公分， $\overline{CE} = 4$ 公分，則 $\triangle CDE$ 的面積為多少平方公分？
3. () 在 $\triangle ABC$ 中，若 $\overline{AB} : \overline{BC} : \overline{CA} = 1 : \sqrt{2} : \sqrt{3}$ ，則下列關於 $\angle A$ 、 $\angle B$ 、 $\angle C$ 的敘述何者正確？
 (A) $\angle A > \angle B > \angle C$ (B) $\angle C > \angle B > \angle A$
 (C) $\angle B > \angle C > \angle A$ (D) $\angle B > \angle A > \angle C$
4. () 小艾手中有不同長度的吸管，如圖所示，請問以這些吸管可以組合成多少種不同的三角形？



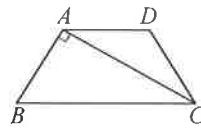
- (A) 5 種 (B) 6 種 (C) 7 種 (D) 8 種
5. () 如圖， $\triangle ABC$ 是邊長為 a 的正三角形紙張，今在各角剪去一個三角形，使得剩下的六邊形 $PQRSTU$ 為正六邊形，則此正六邊形的周長為何？
6. () 一直角三角形的三邊長為 3、4、5，其邊長為 5 的對角是 90° 。若 $\triangle ABC$ 中， $\overline{AB} = 3$ ， $\overline{BC} = 4$ ， $\overline{AC} = 6$ ，則下列何者正確？
 (A) $\angle B < 90^\circ$ (B) $\angle B = 90^\circ$ (C) $\angle B > 90^\circ$
 (D) 無法判斷
7. () 下面哪一個四邊形為菱形？



8. () 有一四邊形，既是長方形，又是菱形，則其為何種四邊形？
 (A) 平行四邊形 (B) 梯形 (C) 正方形 (D) 等形
9. () 如圖，已知 $ABCD$ 為平行四邊形，請問要加上下列哪一個條件才可說明 $ABCD$ 為菱形？

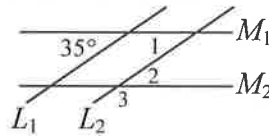


- (A) $\angle B = \angle D$ (B) $\angle 1 = \angle 4$
 (C) $\angle 3 = \angle 4$ (D) $\angle BAD = \angle BCD$
10. () 如圖，梯形 $ABCD$ 中， $\overline{AD} \parallel \overline{BC}$ ， $\angle BAC = 90^\circ$ ，若 $\overline{AB} = \overline{CD} = 1$ ， $\overline{AC} = \sqrt{3}$ ，則此梯形的面積為何？
- (A) $\frac{1}{2}\sqrt{3}$ (B) $\frac{3}{4}\sqrt{3}$ (C) $\sqrt{3}$ (D) $\frac{3}{2}\sqrt{3}$



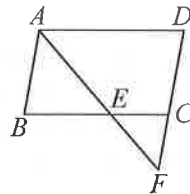
二、填充(每題 4 分，共 40 分)

1. 如圖， $L_1 \parallel L_2$ ，且 $\angle 1 + \angle 3 = 180^\circ$ ，則： (各 2 分)

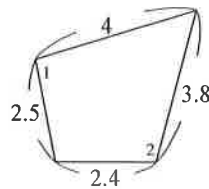


- (1) $\angle 1 =$ _____ 度，
 (2) $\angle 3 =$ _____ 度。

2. 如圖，平行四邊形 $ABCD$ 中，若 $\angle B = 80^\circ$ ， $\overline{AB} = \overline{BE} = 12$ 公分， $\overline{DF} = 20$ 公分，則： (各 2 分)

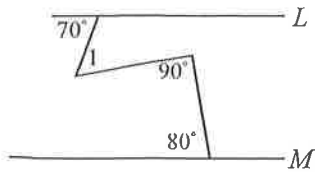


- (1) $\overline{CE} =$ _____ 公分
 (2) $\angle EFC =$ _____ 度
3. 四邊形各邊長如圖所示，則：
 $\angle 1$ _____ $\angle 2$ 。(填入 $>$ 、 $<$ 或 $=$)

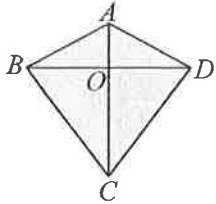


4. $\triangle ABC$ 中，若 $\overline{AB} = 7$ 公分， $\overline{AC} = 16$ 公分， $\overline{BC} = a$ 公分，其中 a 為正整數，則 a 的最小值為 _____，最大值為 _____。(各 2 分)

5. 如下圖, $L \parallel M$, 則 $\angle 1 =$ _____ 度。



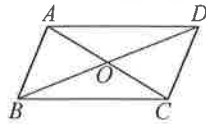
6. 如下圖, 四邊形 $ABCD$ 的兩對角線相交於 O 點。若 $\overline{AB} = \overline{AD} = 17$, $\overline{BC} = \overline{CD} = 25$, $\overline{BO} = 15$, 則四邊形 $ABCD$ 的面積 = _____。



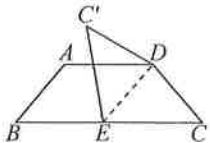
7. $\triangle ABC$ 中, 已知 $\overline{AB} = \overline{BC}$, \overline{AC} 最短, 判斷 $\triangle ABC$ 三內角的大小。 (各 2 分)

- (1) $\angle C$ _____ $\angle A$ 。
 (2) $\angle B$ _____ $\angle C$ 。
 (請填入 $>$ 、 $=$ 或 $<$)

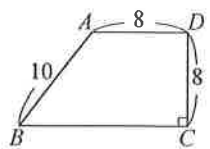
8. 如圖, 四邊形 $ABCD$ 中, O 為兩對角線的交點, 且兩對角線互相平分。若 $\triangle COD$ 的面積為 6 平方公分, 則四邊形 $ABCD$ 的面積為 _____ 平方公分。



9. 如圖, 梯形 $ABCD$ 中, $\overline{AD} \parallel \overline{BC}$, $\overline{AB} = \overline{CD}$, 今沿 \overline{DE} 摺疊, 使 C 點落在 C' 上, 且 $\overline{DE} \parallel \overline{AB}$, 若 $\angle B = 50^\circ$, 則 $\angle C'DE =$ _____ 度。



10. 如圖, 梯形 $ABCD$ 中, $\overline{AD} \parallel \overline{BC}$, $\overline{CD} \perp \overline{BC}$, 已知 $\overline{AB} = 10$, $\overline{AD} = \overline{CD} = 8$, 求梯形 $ABCD$ 的: (各 2 分)

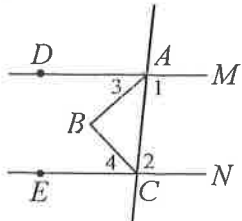


- (1) 兩腰中點的連線段長 = _____。
 (2) 面積 = _____。

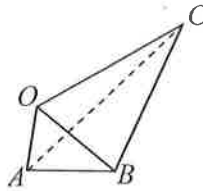
三、計算(每題 4 分, 共 20 分)

1. 如圖, 直線 M 平行 N , \overline{AB} 平分 $\angle DAC$, \overline{BC} 平分 $\angle ECA$, 若 $\angle 1 = (4x + 10)^\circ$, $\angle 2 = (5x - 19)^\circ$, 則 (各 2 分)

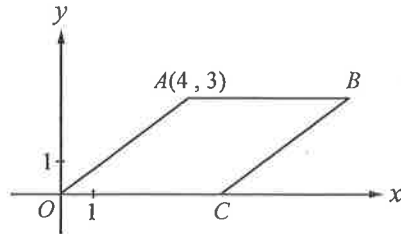
- (1) $x = ?$ (2) $\angle B = ?$



2. 如圖, 在四邊形 $OABC$ 中, $\angle OAB = 80^\circ$, $\angle AOB = 60^\circ$, $\angle BOC = 70^\circ$, $\angle OBC = 75^\circ$, 請比較 \overline{OA} 、 \overline{AB} 、 \overline{BC} 、 \overline{OC} 四個邊長的大小關係?

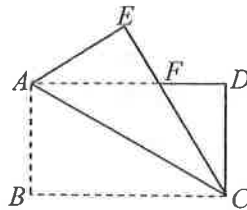


3. 如下圖, 坐標平面上, 四邊形 $OABC$ 為菱形, 其中 O 為原點, A 點坐標為 $(4, 3)$, B 點在第一象限, C 點在 x 軸上。
 (1) 菱形 $OABC$ 的邊長為多少? (各 2 分)
 (2) B 點的坐標為多少?



4. 如下圖, 將長方形 $ABCD$ 的色紙沿對角線 \overline{AC} 對摺, B 點落在 E 點, F 為 \overline{AD} 與 \overline{CE} 的交點。若 $\angle ACB = 30^\circ$, $\overline{AB} = 5$, 則: (各 2 分)

- (1) $\angle EFD = ?$
 (2) $\triangle ACF$ 的面積為何?



5. 假設三角形的三邊長分別為 $(6-x)$ 、 $(2x+1)$ 、 8 , 請求出 x 的範圍。

澎湖縣立文光國中 108 學年度第二學期第三次段考 理化科 考試卷

八年 ___ 班 座號：___ 姓名：_____

分數：

一、是非題(答案直接寫在前面空格中，每格 2 分)共 10 分

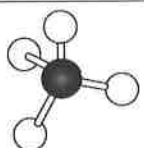
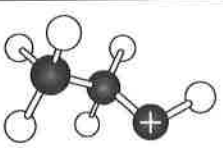
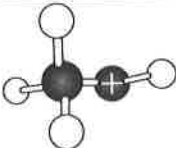
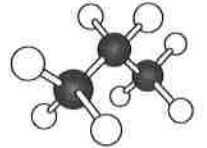
- () 1. 力圖表示時，以直線的粗細表示力量的大小。
- () 2. 兩力大小相等，方向相反，作用在同一物體上，物體呈靜止狀態。
- () 3. 物體移動時，移動方向的水平施力越大，動摩擦力越大。
- () 4. 木塊置於水中的浮力小於置於海水中的浮力。木塊在水中及海水中皆是浮體。
- () 5. 壓力和推力是相同的物理量。

二、填充題(答案直接寫在空格內，每格 2 分)共 22 分

1. 只含碳、氫兩種元素的化合物統稱為_____。此類有機化合物難溶於水中，完全燃燒後會產生_____與_____。

2. 請依下圖中的原子排列方式填入寫出此物質正確的化學式。

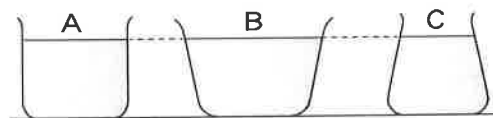
(註：●代表碳原子、○代表氫原子、⊕代表氧原子)

化學式	(1) _____	(2) _____	(3) _____	(4) _____
原子排列圖示				

3. 油脂在氫氧化鈉水溶液中會反應形成_____與丙三醇，稱為皂化反應。

4. 澱粉、蛋白質和塑膠等有機化合物的分子通常含有數千到數十萬個原子，分子量非常大，這種巨大分子稱為_____。

5. 如下圖，三容器底面積相同，重量也相同，當加入等高的水時，容器底面給桌面的壓力大小依序為何？答：_____。



6. 水平桌面上有一個原本靜止不動的木塊，分別以四種方式施力，如下圖所示。附有箭號的線段皆代表 1kgw 的力，木塊重為 3kgw。施力後，乙圖的木塊仍然不動，而在其他三種施力情況下，木塊均沿水平方向運動。在這四種情形下，木塊所受到的摩擦力大小不同，分別為 $f_{甲}$ 、 $f_{乙}$ 、 $f_{丙}$ 、 $f_{丁}$ ，其由大到小的順序為：_____。



三、題組答案欄(每格 2 分)共 32 分

(1)		(2)		(3)		(4)		(5)		(6)		(7)		(8)	
(9)		(10)		(11)		(12)		(13)		(14)		(15)		(16)	

四、單選題答案欄(每格 2 分)共 36 分

1		2		3		4		5		6	
7		8		9		10		11		12	
13		14		15		16		17		18	

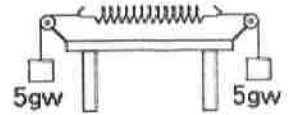
【第 1 頁結束 背面尚有試題】

三、題組(答案請填在上方題組的答案欄內)

■ 一彈簧下掛砝碼，砝碼重(F)與彈簧長(L)的關係如附表，試回答下列問題：

F (gw)	20	40	60	80	100	120
L (cm)	5.0	6.0	7.0	8.0	10.0	13.0

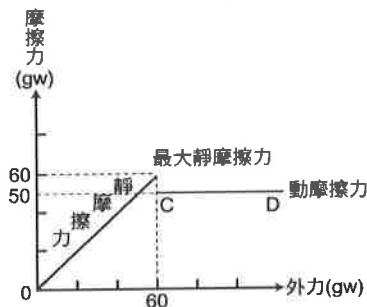
- (1)彈簧的原長為多少 cm？ (A)4.0 (B)3.0 (C)2.0 (D)1.0。
 (2)掛 70 gw 時，彈簧的伸長量為多少 cm？ (A)7.5(B)2.5(C)3.5(D)4.5
 (3)若將同一彈簧裝置如右圖，兩端分別懸掛一個 5gw 木塊，當呈現靜止狀態時，彈簧伸長量會是 _____公分



■ 小惠將乙酸和戊醇倒入試管中混合，再滴入幾滴濃硫酸，接著把試管放入水中加熱 3~5 分鐘，試回答下列問題：

- (4)經過幾分鐘之後，試管飄來一陣香蕉油的味道，請問此香味來自於下列何者？
 (A)酸類 (B)酯類 (C)烴類 (D)醇類。
 (5)加熱及加入濃硫酸的目的各為何？ (A)兩者皆是為了加快反應速率 (B)加熱是為了加快反應速率，濃硫酸是反應物 (C)加熱是為了使反應產生的水蒸發，濃硫酸是為了脫水 (D)加熱是為了使戊醇汽化，濃硫酸是為了加快反應速率。

■ 有一 200 公克重之物體置於水平桌面上，摩擦力和所受外力的關係如附圖所示。請根據所提供的資料，回答下列問題：



- (6)若對此靜止的物體施予：甲.20 公克重；乙.40 公克重；丙.55 公克重；丁.70 公克重等四種水平作用力，則哪幾個作用力將使物體產生運動？ (A)甲乙丙 (B)乙丙丁 (C)丙丁 (D)僅丁。
 (7)若對此靜止物體施予向右 30 公克重的水平推力，則關於此物體所受的摩擦力，下列敘述何者正確？ (A)物體所受靜摩擦力為 0 (B)物體所受最大靜摩擦力為 30 公克重，方向向左 (C)物體所受靜摩擦力為 30 公克重，方向向左 (D)物體所受動摩擦力為 30 公克重，方向向右。
 (8)若以 100 公克重的水平推力推動物體一段時間，則此時的摩擦力大小應為何？
 (A)0 公克重 (B)50 公克重 (C)60 公克重 (D)100 公克重。

■ 使用鋁箔將竹筴包覆後，尾端留開口，其他的部分盡量將鋁箔內的空氣擠出，再利用坩堝鉗夾起包好的鋁箔，將竹筴前端 2~3 公分處放在酒精燈上加熱，經過幾分鐘後，開口開始冒出白煙，接著轉成濃濃的黃煙，點火時可以燃燒；將黃煙通入澄清的石灰水中，則使石灰水呈現混濁。待反應結束之後，打開鋁箔，鋁箔上覆蓋著一層黑褐色的黏稠物，以藍色石蕊試紙測試呈紅色，而竹筴最後成為黑色的木炭。這些產物測試後的結果記錄如附表。請回答下列問題：

氣體部分	氫氣、甲烷、一氧化碳、二氧化碳
液體部分	焦油、醋酸
固體部分	碳

- (9)使藍色石蕊試紙測試會變成紅色的，是下列哪一種產物？(A)焦油(B)醋酸(C)甲烷(D)木炭。
 (10)竹筴分解的過程屬於何種變化？(A)吸熱的化學變化(B)吸熱的物理變化(C)放熱的化學變化 (D)放熱的物理變化

【第 2 頁結束 背面尚有試題】

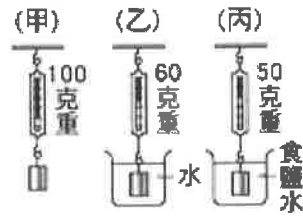
■右圖為阿南以彈簧秤實驗的結果，當物體完全沒入食鹽水中時：

(11)此物體受到的浮力有多少？

答：_____gw。

(12)推算食鹽水的密度？

答：_____g/cm³。



■附表為四種纖維的組成與特性，請回答下列問題：

纖維種類	纖維組成	特性、優缺點	檢驗結果
甲	纖維素	織品可以保暖、通風、保持乾爽、不易皺、不易火。	燃燒時燃的，有燒氣，如紙味。
乙	蛋白質	柔澤、不防、易皺、有光。	燃燒時燃的，有燒氣，如羽毛味。
丙	使用某種纖維溶解後抽成	吸水性佳、易染色及、洗滌防、稱人造絲。	燃燒時燃的，有燒氣，如紙味。
丁	原料為石油	強韌、不怕蟲咬、不易起皺、化學及藥水、透水性差、不易吸防。	燃燒時燃的，有燒氣，纖維成球。

(13)這四種纖維中，哪幾種為天然纖維？ (A)甲乙 (B)丙丁 (C)甲乙丙 (D)甲丁。

(14)丙纖維在纖維組成中的說明是「使用某種纖維溶解後抽絲形成」，試問某種纖維是指下列何者？ (A)植物纖維 (B)動物纖維 (C)再生纖維 (D)合成纖維。

(15)杜邦公司宣稱：「一種由煤、碳、水及空氣製作而成的纖維誕生了，其比蜘蛛絲更細，比鋼鐵更強韌，比蠶絲更柔軟。」此纖維即為耐綸(nylon)，屬於表中的哪一種？

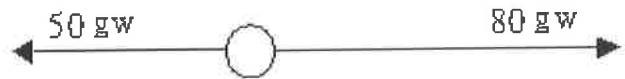
(A)甲 (B)乙 (C)丙 (D)丁。

(16)如果這四種纖維中，有一種是從蠶繭中抽出來的蠶絲，試問應是表中的哪一種？

(A)甲 (B)乙 (C)丙 (D)丁。

四、單選題(答案請填在第一頁的答案欄內)

1.一個物體受到兩力作用，如右圖所示，則此兩力的合力大小和方向為何？



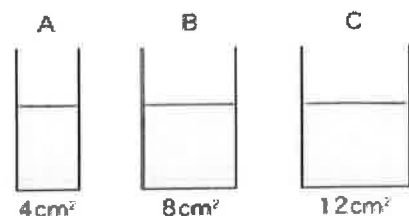
(A)30 gw，向左 (B)30 gw，向右
(C)130 gw，向左 (D)130 gw，向右。

2.下列哪一個實驗無法證明大氣壓力的存在？

- (A)在廣口瓶內裝滿水，用塑膠板蓋緊後瓶口朝下，塑膠板不會掉下來
- (B)馬德堡半球實驗
- (C)密閉針筒擠壓後放手，針筒活塞自動向外推
- (D)將充滿水蒸氣的封閉鋁罐放入水中冷卻後，鋁罐將被擠壓變形

3.如右圖所示，三個底面積不同的容器，裝有同深度的水，則三容器內底部所受的壓力比為何？

(A)1 : 1 : 1 (B)1 : 2 : 3 (C)3 : 2 : 1 (D)6 : 3 : 2。



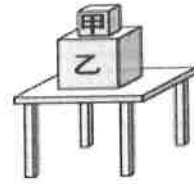
【第 3 頁結束 背面尚有試題】

4. 下列哪一項是應用「連通管原理」的裝置？

- (A) 自來水的供水系統 (B) 裁紙鋤刀 (C) 喇叭門鎖 (D) 汽車的煞車系統。

5. 如右圖所示，兩個立方體疊置在桌面上，已知甲邊長為 3 公分、450 公克重，乙邊長為 5 公分、1550 公克重。此時桌面所受的壓力為多少公克重 / 平方公分？

- (A) 400 (B) 172 (C) 80 (D) 16。



6. 在 1 atm 下，將托里切利實驗玻璃管的半徑由 1 cm 換成 2 cm，則水銀柱高將為多少？

- (A) 152 cm (B) 76 cm (C) 38 cm (D) 19 cm。

7. 「物體在液體中所受的浮力等於其所排開的液體重」，此為何原理的內容？

- (A) 連通管原理 (B) 帕斯卡原理 (C) 阿基米德原理 (D) 托里切利原理。

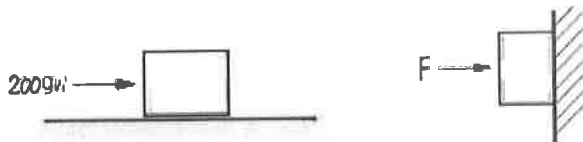
8. 同質量的保麗龍（密度 0.25 g/cm^3 ）及木塊（密度 0.6 g/cm^3 ）投入水中，何者所受的浮力較大？

- (A) 保麗龍 (B) 木塊 (C) 一樣大 (D) 無法比較

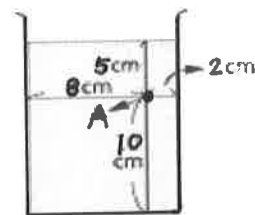
9. 關於肥皂的製造，下列敘述何者正確？

- (A) 製造出來的肥皂呈弱酸性 (B) 利用飽和食鹽水可以讓肥皂更容易析出 (C) 製造肥皂主要的反應物有油脂、酒精與氫氧化鈉 (D) 肥皂能去汙是因為可以與油汙分子反應，使其消失

10. 附圖左的木塊重 700 gw，平放時最大靜摩擦力為 200 gw，若將其直立如附圖右，欲使木塊不會下滑，則接觸面應產生多少 gw 的摩擦力？ (A) 2450 (B) 700 (C) 500 (D) 200。



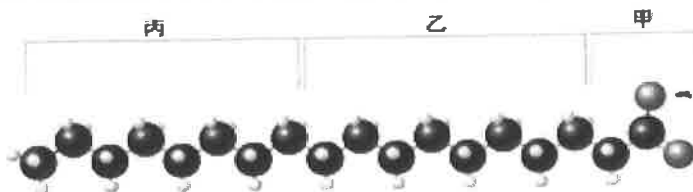
11. 如圖所示，在一杯靜置的液體中，A 點距液面 5 cm，距底面 10 cm，距左右兩端各為 8 cm 與 2 cm，則下列關於 A 點壓力的敘述，何者正確？ (A) 向左的側壓力小於向右的側壓力 (B) 上壓力小於下壓力 (C) 上壓力大於下壓力 (D) 上壓力等於下壓力。



12. 市售的碗裝泡麵其麵條含有澱粉，而部分裝麵的碗其材質為保麗龍(保利綸)，是由苯乙烯(C_8H_8)聚合再塑形而成。關於澱粉和保麗龍的敘述，下列何者正確？

- (A) 均為有機物 (B) 均為烴類 (C) 均為天然聚合物 (D) 均為合成聚合物。

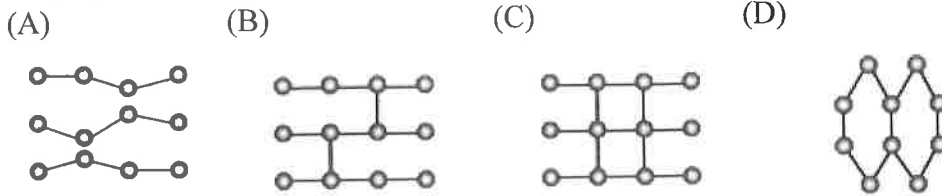
13. 如圖所示，圖中肥皂分子何者是親水性的部分？ (A) 僅甲 (B) 僅乙 (C) 僅丙 (D) 乙丙。



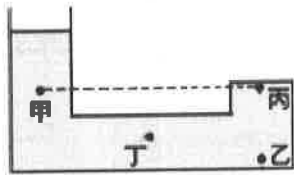
14. 下列何種食品不是利用發酵作用所製造出來的？

- (A) 紹興酒 (B) 優酪乳 (C) 楊桃汁 (D) 醬油。

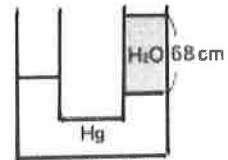
15. 小美在野炊時，不小心將裝水的寶特瓶接觸火苗，並發現寶特瓶迅速變形，由此現象可以推知，寶特瓶的分子結構示意圖最有可能為下列何者？



16. 如右圖所示，在容器中盛水，則圖中甲、乙、丙、丁四點所受水的壓力，其大小關係應為何？
 (A) 乙 > 丁 > 甲 > 丙 (B) 甲 = 乙 = 丙 = 丁 (C) 乙 > 丁 > 丙 = 甲 (D) 乙 > 丙 > 丁 > 甲。

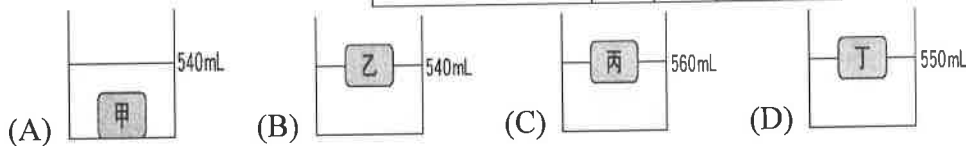


17. 如右圖所示，一 U 形管內倒入水銀與水，若水柱高度 68 cm，請問 U 形管兩側高度差應為多少 cm？（水銀的密度為 13.6 g/cm^3 ） (A) 5 (B) 34 (C) 54.4 (D) 63



18. 甲、乙、丙、丁四個實心物體，其質量和體積關係如右表，安妮在一個有刻度的燒杯中裝 500 mL 的水，並分別將四物體投入燒杯中，則有關物體的沉浮情形及最後燒杯水面的刻度，下列哪一個圖是正確的？

項目 \ 物體	甲	乙	丙	丁
質量 (g)	40	20	60	80
體積 (cm^3)	30	40	80	50



【試題結束】

澎湖縣立文光國民中學 108 學年度第 2 學期第 3 次成績評量 8 年級歷史科試卷

班級： 姓名： 座號： 讀卡 答案卷

一、 單選題(題 1-10，每題 2 分，共 20 分)

() 1. 文化大革命對中國傳統社會倫理的破壞與下列哪一事件最為相似？

(A) 太平天國 (B) 黃巢之亂 (C) 戊戌變法 (D) 安史之亂。

() 2. 光翰整理一份「早期國共關係」，如下表。其中合乎史實的選項為何？

關係	背景	結果
(A) 合：容共	對抗蘇聯	因清黨、寧漢分裂而結束
(B) 分：戡亂	寧漢分裂後共黨武裝暴動	共黨因西安事變而解危
(C) 合：聯共	抗日	共黨坐大
(D) 分：剿共	抗戰結束後	兩岸分裂

() 3. 有一份電報內容如下：「父仇未報，更釀內亂，何以為子？以怨報德，威劫主帥，何以為將？」以下四人，何者對此電報的認知正確？ (A) 平平：電報的收件人是袁世凱，指責接受「二十一條要求」 (B) 安安：電報的收件人是張學良，指責「西安事變」 (C) 乖乖：電報的收件人是張勳，指責主導「復辟事件」 (D) 東東：電報的收件人是溥儀，批評「滿州國」的成立。

() 4. 育芯在歷史課時報告：「大家好！我今天要介紹中國收回關稅自主的相關內容……。」育芯應該是在報告哪個時期的中國歷史？(A) 十年建設期間 (B) 八年抗戰期間 (C) 二次大戰期間 (D) 國共內戰期間

() 5. 公共電視臺《將相浮沉錄》談到某位將領：「二次大戰之後，極力說服美國各界援助歐洲重建……這個計畫讓殘破的歐洲重新站了起來。這時已經計畫退休，但是他又受到總統請託出使中國，調停國共間的衝突……。」請問：所指的將領，前往中國的結果為何？ (A) 調停成功，國共雙方言歸於好 (B) 美國覺得國民黨處境堪憐，持續給予援助 (C) 調停失敗，國共衝突未止 (D) 中國政府聘他為官員，協助外交拓展。

() 6. 各地所採用的時區及標準時間名稱，有時會隨著當地的政治勢力改變而有所不同。右圖為二十世紀時，某座城市在十餘年內所屬時區及標準時間名稱的轉變。此城市最可能為下列何者？ (A) 香港 (B) 臺北 (C) 重慶 (D) 瀋陽。



() 7. 孫中山在過世前曾交代『革命尚未成功，同志仍須努力』。請問：孫中山所說的革命尚未成功，是因為當時何項問題還未解決？(A) 袁世凱 (B) 軍閥 (C) 日本 (D) 共產黨

() 8. 在著名作家柏楊的作品《異域》中，男主角鄧克保為了參加戰爭，離開未婚妻，孰料效忠對象一路戰敗，輾轉來到中緬交界，等候在臺灣的人前來支援。《異域》的時代背景最有可能是哪個時期的中國？(A) 軍閥割據時期 (B) 八年抗戰時期 (C) 寧漢分裂時期 (D) 抗戰結束後，國共衝突時期

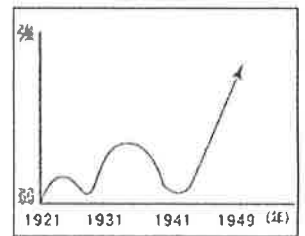
() 9. 在改革或活動中，總會出現一些讓人印象深刻的口號，下列口號依出現時間排列，正確順序為何？(甲) 超英趕美 (乙) 革命無罪，造反有理 (丙) 中國人不打中國人 (丁) 外爭主權，內除國賊 (A) 甲乙丙丁 (B) 丁丙乙甲 (C) 丁丙甲乙 (D) 甲丁丙乙

() 10. 《長城謠》的歌詞：『萬里長城萬里長，長城外邊是故鄉。高粱肥 大豆香，遍地黃金少災殃。自從大難平地起，姦淫擄掠苦難當。苦難當 奔他方，骨肉離散父母喪。…』。請問，歌詞中所稱『大難平地起』的大難，可能是下列哪一事件？(A) 瀋陽事變 (B) 西安事變 (C) 一二八事變 (D) 七七事變。

【第 1 頁結束 後面尚有試題】

二、題組(題 11~20，每題 1.5 分，共 15 分)

1. 有一本自傳中提到：「龍袍從北京的太妃那裡拿來了，但是關東軍卻對我說，日本承認的是『皇帝』不是『大清皇帝』，因此我不能穿清朝龍袍，只能穿關東軍指定的『陸海空軍大元帥正裝』。」請根據上文，回答下列問題：
- () 11. 文中的空格應填入下列何者？ (A)日本帝國 (B)中華民國 (C)滿洲國 (D)臺灣民主國。
- () 12. 本文主角於民國成立後共稱帝兩次，各是在何時？ (A)軍閥割據期間、八年抗戰期間
(B)軍閥割據期間、北伐統一後 (C)北伐統一後、八年抗戰期間 (D)八年抗戰期間、國共內戰期間。
- () 13. 日本要求本文主角穿日式軍服，代表什麼含義？ (A)顯示本文主角地位之崇高 (B)表示日本以平等、共榮的態度對待中國人 (C)日本不願承認本文主角曾當過滿清皇帝 (D)日本將本文主角視為傀儡而任其擺布。
2. 中共於六四事件中鎮壓許多參與者，嚴重違反人權，因而被國際社會嚴厲譴責。請問：
- () 14. 若想參觀並遙想當時的情景，應該到下列哪一個城市？ (A)廣州 (B)上海 (C)南京 (D)北京。
- () 15. 「六四天安門事件」發生在下列何人掌權時？ (A)毛澤東 (B)鄧小平 (C)胡錦濤 (D)江澤民。
3. 民國十七年到二十六年，國民政府在內憂外患的侵擾下，推動各項國家建設，在財政、交通等方面都有所進展。請問：
- () 16. 若根據孫文的《建國大綱》，題幹所述的時期屬於國家建設的哪個階段？
(A)軍政時期 (B)訓政時期 (C)憲政時期 (D)法政時期
- () 17. 民國二十四年，汪達帶著銀元到街上購物，卻被老板告知必須要拿去銀行兌換成四家銀行發行的鈔票才能購物。這是因為政府實施何種政策？(A)發行法幣(B)廢元改兩(C)新生活運動(D)統一度量衡
- () 18. 這段期間，中國面臨的主要內憂外患為何？
(A)中共/日本 (B)軍閥/日本 (C)中共/蘇聯 (D)軍閥/蘇聯
4. 右圖是中國共產黨成立後的勢力消長圖，請問：
- () 19. 西元 1921 年~1931 年，中共的勢力一度上升後又告衰弱，西元 1931 年中共幾近瓦解，請問：導致中共勢力衰弱的原因為下列哪一事件？
(A)清黨、剿共 (B)九一八事變 (C)西安事變 (D)一二八事變。
- () 20. 中共的實力在一九四〇年代以後成長快速，請問：下列何者最能解釋此一現象？(A)毛澤東建立的政權獲得國際普遍承認 (B)國民政府忙於北伐無暇顧及中共 (C)中共利用抗戰發展自身實力 (D)中共與蘇聯合作侵略亞洲各地。



【試題結束—文光八年級、歷史科】

澎湖縣立文光國民中學 108 學年度第 2 學期 第 3 次成績評量 8 年級地理科試卷

班級：_____ 姓名：_____ 座號：_____ ■ 讀卡 □ 答案卷

一、單一選擇題（十題，每題 2 分，共 20 分）

- () 41. 「西元 2011 年 3 月 11 日，日本近海發生芮氏規模 9.0 的地震。此現象反映出日本地質不穩定的特徵。」請問：日本地質不穩定的因素，與下列哪項最有關係？
 (A)地質古老，歷經長期侵蝕 (B)位於季風氣候區，多颱風雨侵蝕劇烈
 (C)位於大陸板塊與海洋板塊的接觸帶 (D)多溶蝕性的石灰岩，海底火山容易爆發。
- () 42. 據報導：「臺灣雇主強迫來自□□的穆斯林外勞吃豬肉，否則就扣薪水，國際媒體紛紛報導，□□政府也表達關切，此事件嚴重影響臺灣國際形象。」上文中所述之來自□□的外勞因為宗教信仰關係禁吃豬肉，其最有可能來自下列哪些國家？
 (甲)印尼 (乙)泰國 (丙)巴基斯坦 (丁)越南 (戊)馬來西亞
 (A)甲乙丙 (B)丙丁戊 (C)乙丁戊 (D)甲丙戊。
- () 43. 日本最主要的人口精華區位於群島中的何處？
 (A)九州島的南端 (B)四國的北部沿海 (C)本州島的東南沿海 (D)北海道的西南地帶。
- () 44. 宸妤發現冬季時中國四川盆地較同緯度長江三角洲顯得溫暖，而南亞的印度大平原也較同緯度亞洲溫暖，造成此種氣候特徵的共同主因為何？
 (A)距海遠近 (B)副熱帶高壓籠罩 (C)植被多寡 (D)北有高山屏障。
- () 45. 印度的氣候類型可分為熱季、涼季、雨季三類。若從一月到當年的十二月，依各季節分布的時間加以排列，其先後順序應該為下列何者？
 (A)熱季、涼季、雨季、熱季 (B)熱季、雨季、涼季、熱季
 (C)涼季、熱季、雨季、涼季 (D)涼季、雨季、熱季、涼季。
- () 46. 宇翔到南亞的印度半島地區自助旅行，從溼熱的三角洲到乾燥的沙漠，經歷了許多不同類型的自然環境。請問：在她行程中的哪個地區，因為受到副熱帶高氣壓的籠罩，而形成乾燥少雨的熱帶沙漠氣候區？
 (A)恆河流域 (B)印度河流域 (C)北部高山區 (D)德干高原內部。
- () 47. 日本重要工業區多位於東側太平洋沿岸地區。請問：目前日本的行政中心與第一大都市——東京，位於圖中哪個工業區域？ (A)甲 (B)乙 (C)丙 (D)丁。



- () 48. 下列何者為東南亞積極發展的區域經濟整合組織的簡稱？
 (A)ACER (B)ASEAN (C)APEC (D)ASUS
- () 49. 丁卉為了更好的生活，遂到臺灣工作，由於中文不好，所以在與雇主溝通時，常以故鄉常用的英文輔助。她的故鄉過去曾被歐洲某個國家占領，殖民者帶來的宗教，現在也成為丁卉的信仰，週日時，她常到教堂望彌撒。請問：由此判斷，丁卉應是來自於附圖中的何處？
 (A)甲 (B)乙 (C)丙 (D)丁。
- () 50. 中南半島的地形為中國何地的延伸？
 (A)青藏高原 (B)橫斷山脈 (C)嶺南丘陵 (D)長白山地。

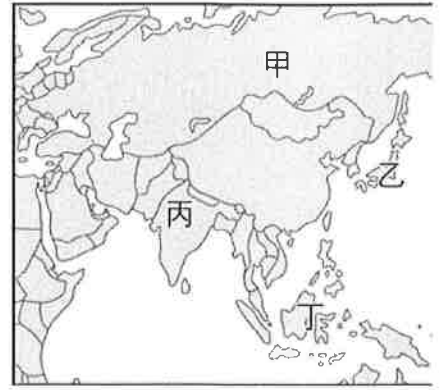


【第 5 頁結束—背面尚有試題】

二、題組：(十題，每題1分，共10分)

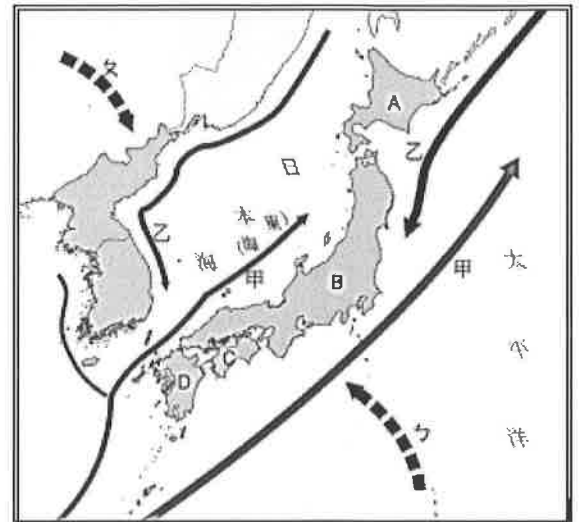
(一) 為因應暑假來臨，環球旅行社推出「東南亞十日遊，心動價只要一萬元」的行程回饋老顧客。請問：

- () 51. 附圖為亞洲地圖，該優惠行程是位在是圖中哪個地區？
 (A)甲 (B)乙 (C)丙 (D)丁
- () 52. 林緯若想欣賞衣著華麗，儀表姣好，體態動人，載歌載舞的人妖秀，並參觀佛教之都，欣賞金碧輝煌的佛寺建築，他應前往哪個國家才能如願？
 (A)印度 (B)越南 (C)泰國 (D)柬埔寨



(二) 附圖(一)為東北亞區域圖，請依圖回答下列問題。

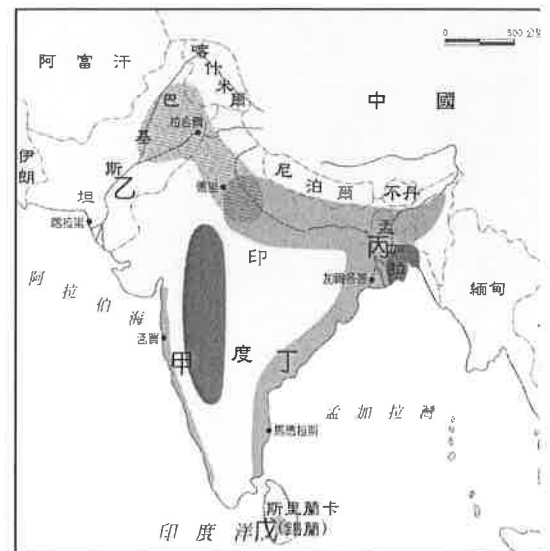
- () 53. 東北亞區域包含韓國及日本，近年來南、北韓越來越緊張，又因南韓脫北者團體在停戰線散播反北韓傳單導致北韓下令炸毀位於開城工業區的兩韓聯絡辦公室，朝鮮半島一夕間戰雲密布，引起世界高度關注。試問南北韓國界線為何？
 (A)北緯 36 度 (B)北緯 38 度
 (B)北緯 37 度 (D)北緯 39 度
- () 54. 日本春天櫻花盛開，許多遊客喜愛到日本觀光時享受賞櫻的樂趣，由於日本橫跨緯度多，導致櫻花盛開時間會有時間差，請問櫻花盛開之際由早到晚依序為？
 (A) D→C→B→A (B) A→B→C→D
 (C) D→B→C→A (D) C→D→A→B
- () 55. 光翰是一位日本漁民，由於日本的自然環境優勢，海岸線曲折有許多優良的港口、灣澳以外，又因位處寒暖流交會處，導致漁獲量眾多，試問圖中甲、乙為哪條洋流？
 (A)甲:黑潮 乙:親潮 (B)甲:親潮 乙:黑潮
 (C)甲:土潮 乙:風潮 (D)甲:低潮 乙:高潮
- () 56. 日本及韓國都屬於溫帶季風氣候，請問ㄅ、ㄆ是何種時期的風向？
 (A)ㄅ:冬天 (B)ㄅ:夏天(C)ㄆ:秋天(D)ㄆ:春天



圖(一)

(三) 宛容和凱甯來到充滿神祕色彩的印度半島進行探險，在眾多的傳說及迷人故事下，他感受到這個國度的浪漫與熱情。附圖為印度半島的簡圖，請問：

- () 57. 印度半島的地形主要分成 3 個區塊，由南而北的地形依序為何？
 (A)山地→平原→高原 (B)山地→高原→平原
 (C)高原→平原→山地 (D)高原→山地→平原。
- () 58. 哪個地點是印度半島降水最豐沛的地方？
 (A)戊 (B)乙 (C)丁 (D)丙。
- () 59. 宛容若想了解熱帶沙漠的生態環境，則圖中何處是他最佳的探索地點？ (A)甲 (B)乙 (C)丙 (D)戊。
- () 60. 當凱甯來到戊小島時，可品嚐到此地哪種聞名全球的產物？ (A)柑橘 (B)蘋果 (C)葡萄 (D)茶葉。



【試題結束—文光八年級、社會科】

澎湖縣立文光國民中學 108 學年度第 2 學期 第 3 次成績評量 8 年級公民科試卷

班級：_____ 姓名：_____ 座號：_____ ■ 讀卡 □ 答案卷

一、單一選擇題（十五題，每題 2 分，共 30 分）

- () 21. 下列哪一項是民事糾紛並可以上訴到最高法院？
(A)俊佑向銀行借貸 100 萬元，因故無法償還 (B)庭宇撞壞鄰居汽車，被要求損害賠償 50 萬元 (C)建志未經朋友同意，擅自偷走其平板電腦 (D)名彥花費 3 千萬元購買別墅，後來發現竟是海砂屋。
- () 22. 為了追查犯罪，一般是由被害人向警察機關報案，由警察機關為初步的調查，將調查結果移送檢察官，進行偵查。試問檢察官在法庭上身穿什麼顏色邊的黑色長袍？
(A)白色 (B)黑色 (C)藍色 (D)紫色。
- () 23. 有的人想要主張自己的權利，卻沒有能力支付訴訟或辯護費用，因此國家設立法律扶助制度，由 J 院捐助成立財團法人法律扶助基金會。請問 J 院為何？
(A)監察院 (B)行政院 (C)立法院 (D)司法院。
- () 24. 財團法人法律扶助基金會簡稱法扶會，對需要保障或爭取應有權利，卻無力負擔訴訟費用及律師報酬的人民給予法律援助。嘉鑫騎腳踏車時被冠穎開車撞到，嘉鑫卻沒錢提起訴訟，因此嘉鑫可以撥打法扶會全國專線尋求幫助，請問法扶會全國專線為何？
(A)412-5252 (B)412-9889 (C)412-8080 (D)412-8518。
- () 25. 某日晚間俞安在公園散步時，目睹肖彤出手將哲維打成重傷。若其中有人要提起訴訟，下列何項敘述正確？
(A)俞安可以向檢調機關提出上訴(B)俞安可直接向法院提出自訴(C)哲維可向調解委員會提出告發(D)哲維可以向檢察官提出告訴
- () 26. 根據我國法律規定，行政法院審理案件，原則上應採「三級二審制」。下列是行政法院層級的排列，由低至高排列依序為何？
(A)高等法院（第一審）→最高行政法院（第二審）
(B)最高行政法院（第一審）→高等行政法院（第二審）
(C)高等行政法院（第一審）→最高行政法院（第二審）
(D)地方行政法院（第一審）→高等法院（第二審）。
- () 27. 健宏跟鄰居因為騎樓擺放私有物品的問題時常發生口角，最後兩人自行決議各退讓一步，並達成騎樓的使用協議。這種解決衝突的途徑稱為什麼？
(A)調解(B)訴願(C)和解(D)訴訟
- () 28. 民事訴訟的進行，須經過哪種「程序」，法院才會開始審理及裁判？
(A)檢察官主動偵查並握有證據(B)經由民眾主動的告發(C)權益受損的當事人主動向法院提起訴訟(D)法官主動協助處理民眾糾紛
- () 29. 「權利救濟」是指當我們法律上的權利受到不法侵害時，可以利用法律規定的方法確保自己的權利。下列何種救濟途徑的結果不具法院判決同等效力，當事人一方仍可反悔提告？(A)法官面前所達成的和解(B)送交法院核定的調解書(C)雙方私下訂立的和解書(D)仲裁庭作出的仲裁結果

【第 3 頁結束—背面尚有試題】

- () 30. 依據我國現行法律的規定，下列四人遇到的問題，其中哪個案件可以上訴到最高法院？
 (A) 家維使用聿凱的遊戲帳號，將聿凱的遊戲幣全部取走。
 (B) 聰仁向朋友借新臺幣 100 萬元，事後卻不還錢
 (C) 德潔在路上被不明人士拿刀刺傷，最後不幸身亡
 (D) 懷萱的悠遊卡被路人撿到卻被據為己有。
- () 31. 依據現行相關法律規定，對於財產權訴訟的第二審判，如因上訴所得利益未超過新臺幣多少元，即不得再上訴？
 (A) 80 萬元 (B) 150 萬元 (C) 120 萬元 (D) 100 萬元
- () 32. 瑜庭今年滿 15 歲，有關她在「法律上的權利、義務」的敘述，下列哪項正確？
 (A) 若因偷錢犯竊盜罪，將依《少年事件處理法》處置 (B) 可以利用打工所賺來的錢，自行買下一間套房 (C) 可以開始到夜店、電動玩具店等場所打工賺錢
 (D) 可自行決定與男友結婚，其婚姻具法律效力。
- () 33. 在我國，7 歲以上未滿 14 歲的人如果犯罪，在《刑法》上雖不罰，但仍要依照哪種法律來規範其行為？
 (A) 《兒童及少年福利與權益保障法》 (B) 《少年事件處理法》 (C) 《民法》 (D) 《社會秩序維護法》
- () 34. 下列哪些人若有犯罪行為，且觸犯《刑法》中最輕本刑為 5 年以上有期徒刑的犯罪，須依《少年事件處理法》的少年刑事案件程序處理？(甲)小六的佩豈 (乙)14 歲的冠芝 (丙)有選舉權的敏中 (丁)現為童工的詣程
 (A) 乙丁 (B) 甲丙 (C) 乙丙 (D) 丙丁。
- () 35. 現年已滿 15 歲的玉琳因[甲]可向政府要求提供就業資訊或是輔導。但是依照[乙]的規定，玉琳不得在晚上 8 點過後工作。儘管 2 年後玉琳過了童工的年紀，在未滿 18 歲的情況下，因[丙]不得從事坐檯陪酒或色情伴遊等工作而且[丁]有規定任何人不得讓兒童及少年出入不良場所。請問下列配對何者正確？
 (A) 丁:少年事件處理法 (B) 丙:兒童及少年性剝削防制條例
 (C) 乙:兒童及少年福利與權益保障法 (D) 甲:勞動基準法

二、題組：(五題，每題 1 分，共 5 分)

人民的權利若受到侵害，可依法定程序提起救濟。當人民彼此之間發生紛爭時，用自力救濟的方式不但不容易解決問題，更容易引發更多糾紛。國家有提供完整的法律制度像是訴訟、和解、請願、仲裁...等許多方式。但是不同的紛爭，也是需要不同的救濟方式，因此我們需要了解自己處在何種糾紛。下列情況若為：

「民事紛爭」，請填(A)； 「刑事紛爭」，請填(B)； 「行政紛爭」，則填(C)。

- () 36. 志緯和志勇有 5 億遺產可以繼承，但是志勇不願意將遺產五五平分。
- () 37. 唯銘出外小酌後與愷祥發生擦撞心生不滿，將愷祥打成重傷。
- () 38. 冠丞借 500 元給承謀，冠丞要求承謀還錢時，承謀卻否認有向冠丞借錢。
- () 39. 騏碧與矜凌到海邊玩耍時，一名路過的男子，把她們的錢包偷走。
- () 40. 政震因為撞到老師被老師記三支大過，政震覺得這處罰太過頭。

【第 4 頁結束—背面尚有試題】