

澎湖縣立文光國中109學年度第一學期第一次成績評量七年級國文科試題卷

壹.國字與注音：14% 每字一分

七年()班 座號： 姓名：

1. 「闔」第光臨 ()
2. 山「巒」 ()
3. 四肢痠力又弓ノ ()
4. 吸尸又ㄣˇ ()
5. 「撒」手人寰 ()
6. 不虞巧又ㄟ、乏 ()
7. 不亦「說」乎 ()
8. 「聆」聽 ()
9. 功虧一巧又ㄟ、 ()
10. 一「哄」而散 ()
11. 連「哄」帶騙 ()
12. 白首「偕」老
13. 眾星«又ノノ月 ()
14. 談「一」世ノ逗趣 ()

貳.解釋：6% 每題1分

1. 朦朧：

2. 為山：

3. 平地：

4. 哄堂大笑：

5. 不禁：

6. 至於犬馬皆能有養：

參.請將以下論語原文「白話語譯」：「吾日三省吾身：為人謀而不忠乎？與朋友交而不信乎？傳不習乎？」4% *請師長斟酌給分。

答：

肆.成語填充：5% 每題1分 ※請選擇正確的成語代號填入。

提示：A. 孑然一身 B. 不讓鬚眉 C. 匹夫之勇 D. 月滿則虧 E. 披星戴月 F. 付之一炬
G. 斗筭之人 H. 錙銖必較 I. 從諫如流 J. 車胤囊螢 K. 休休有容 L. 勞燕分飛

1. 歷史故事中的英雄人物以男性居多，其實 () 的女子，亦所在多有。
2. 關於「向學」一事，端看當事者能否下定決心，而非取決於優渥的物質條件—— ()、孫康映雪就是最佳典範。
3. 救援隊伍一路上 ()、跋山涉水，終於把救濟物資送到災民手中。
4. 這間公司對員工的整體待遇 ()，連請個病假也要扣減薪酬。
5. 近日火災新聞頻傳：許多人的生命財產 ()，令人一掬同情之淚。

伍.單一選擇題之答案欄：52% 每題2分

1.	2.	3.	4.	5.	6.	7.	8.	9.
10	11	12	13	14	15	16	17	18
19	20	21	22	23	24	25	26	——

陸.閱讀題組之答案欄：19% 每題1分

(1)	(2)	(3)	(4)
(5)	(6)	(7)	(8)

(9) 答：

(10)	(11)	(12)	(13)	(14)
(15)	(16)	(17)	(18)	(19)

伍. 單一選擇題：52% 每題 2 分 *請將答案填入答案欄, 否則不予計分。

1. 夏夜一詩的作者透過兒童的口吻及擬人的筆法, 描繪出夏夜的何種特色? (A) 沉悶與寂寥 (B) 美麗與涼爽 (C) 朦朧與幽暗 (D) 熱鬧與囂喧
2. 夏夜一詩中寫南瓜、小河及夜風「還醒著」, 這樣的描述有何用意? (A) 營造陰森恐怖的氣氛 (B) 表現夜晚的熱鬧嘈雜 (C) 襯托夜的寧靜與生機 (D) 呈現自然生態的風貌
3. 夏夜: 「撒了滿天的珍珠和一枚又大又亮的銀幣。」這句描述的景色和下列何者最相近? (A) 月光如水 (B) 星月交輝 (C) 披星戴月 (D) 星火燎原
4. 「飄流的雲沒有家, 天一陰就急得不住地流眼淚」句中用「沒有家」與「流眼淚」將雲「人性化」, 下列選項何者也使用這種寫作手法? (A) 只是你遲到一千年, 黃昏後就不會有夜 (蘇打綠演唱遲到千年) (B) 你就像天使一樣, 給我依賴, 給我力量 (五月天演唱天使) (C) 聽! 海哭的聲音, 這片海未免也太多情, 悲泣到天明 (張惠妹演唱聽海) (D) 一碗熱湯, 溫暖了我一個晚上 (李玟演唱刀馬旦)。
5. 夏夜一詩中藉景象的描述帶出時間的移轉, 下列關於時間移轉的說明何者有誤? (A) 從黃昏寫到夜的來臨, 再寫到深夜的景象 (B) 「當街燈亮起來向村莊道過晚安」宣告夜的到來 (C) 由火紅的夕陽寫到銀白的星月, 暗示黃昏到入夜的時間移轉 (D) 用蝴蝶、蜜蜂、牛羊、太陽「回家(來)了」, 暗示深夜的來臨。
6. 子游問孝中最能表現核心概念的「關鍵字」是什麼? (A) 別 (B) 今 (C) 敬 (D) 養
7. 吾日三省吾身的主旨為何? (A) 曾子提醒自己學習不可半途而廢 (B) 曾子提醒時人應及時行孝 (C) 曾子以賢德之人為模範 (D) 曾子敘述自我反省的面向
8. 論語中「止, 吾止也」與「進, 吾往也」二句主要在凸顯什麼? (A) 「止」與「進」的學習成效不同 (B) 學習成敗與否操之在己 (C) 學習步調要適時調整 (D) 學習態度的反反覆覆。
9. 孔子以「不敬, 何以別乎?」反問子游的用意有哪些: 甲. 稱許子游力行孝道 乙. 引導子游思辨孝的真諦 丙. 凸顯口體奉養與恭敬孝親的差別 丁. 強調對待犬馬與父母應一視同仁? (A) 甲乙 (B) 乙丙 (C) 丙丁 (D) 甲丁
10. 以下是崇倫的上課筆記, 關於論語一書的簡介有一處寫錯了。請告訴他錯誤的項目是下列何者? (A) 篇數、篇名: 全書二十篇, 各篇通常取首章開頭的二、三字作為篇名 (B) 編輯者: 由孔子及孔子弟子紀錄編輯而成 (C) 體裁: 為語錄體, 記述孔子和弟子及時人應答談論的內容 (D) 價值: 透過本書可了解孔子的思想、言行, 是儒家的重要經典
11. 關於論語選三則的作法, 下列何者有誤? (A) 子游問孝一則, 孔子透過「今之孝者, 是謂能養」及「犬馬皆能有養」的比較, 凸顯孝親的真義 (B) 譬如為山一則, 孔子以譬喻和對比闡明學貴有恆的道理 (C) 吾日三省吾身一則, 曾子以連續問句反思自己在進德修業上是否盡心 (D) 三則皆透過師生一問一答的方式, 呈現進德修業的道理
12. 國文老師請同學蒐集西方名言來詮釋論語文句的涵義, 以下是同學繳交的作業。請問下列何者不恰當? (A) 與朋友交而不信乎? / 如果要別人誠信, 首先自己要誠信 (英國 莎士比亞) (B) 譬如平地, 雖覆一簣, 進, 吾往也。 / 人們缺乏的不是力量而是意志 (法國 雨果) (C) 學而時習之, 不亦說乎? / 讀一本好書, 就是和許多高尚的人說話 (德國 歌德) (D) 為人謀而不忠乎? / 要把敬業盡責當作做人的根本, 當作做人的靈魂 (美國 馬克·吐溫)
13. 一放暑假, 小雄就和同學去海水浴場玩。他剛換穿泳褲, 還沒做暖身運動, 就急著下水, 游不到幾十公尺腳就抽筋了, 差一點減頂, 幸好救生員及時前來救援, 才沒有造成遺憾。請問小雄的行為可以用下列論語中的哪句話來形容? (A) 勇者不懼 (B) 欲速則不達 (C) 小不忍, 則亂大謀 (D) 工欲善其事, 必先利其器。

14. 雅量一文，作者認為不同的人對同一件衣料有不同的聯想，其原因為何？ ①性格與生活環境不同 ②受他人意見的影響 ③經濟條件有所不同 ④性別與年齡的關係
15. 雅量文中的鞋店老闆說不怕鞋子賣不出去，其自信來自於什麼？ ①老闆的銷售技術一流 ②每個人的審美觀不同 ③充分掌握每位顧客喜好 ④鞋子品質優良無懈可擊。
16. 雅量一文，作者透過舉例、說明的方式來闡述什麼的重要？ ①開拓視野 ②尊重包容 ③培養美感 ④聯想創造。
17. 唐朝 貞觀年間，有一個和尚，名叫寒山，有一天他問拾得和尚說：「老兄，我苦惱得很啊！世人都謗我、欺我、笑我、輕我、賤我，我怎麼辦呢？」拾得說：「老弟，你忍他、讓他、由他、避他、耐他、敬他、不理他，再過些年，你且看他還能如何？」此則故事想傳達的涵義最貼近下列何者？ ①忍耐記心間，煩惱不沾邊（中國諺語） ②謙遜是最高的克己功夫（英國 莎士比亞） ③要做真正的知己，就必須互相信任（俄國 托爾斯泰） ④無論何人，若是失去了耐心，就失去了靈魂（英國 培根）

18.

戰士說，為了防衛和攻擊 / 詩人說，為了美 / 你看，那水牛頭上的雙角 / 便這般莊嚴而娉婷的產生了 （周夢蝶 角度）

本詩所隱含的旨意為何？ ①人應該堅持自己的看法，不受他人影響 ②從不同角度看事物，常會有不同的看法 ③不論戰士或詩人都應該培養審美的能力 ④每個人都應該堅守崗位，盡力奉獻己長。

19. 文章裡用來標明語意轉變、聲音的延續，或補充說明的符號，稱為破折號。下列各句破折號的使用，何者不當？ ①噹——噹——噹——，鐘聲響了，學生魚貫進入考場。 ②我們擁有秀麗的山川——豐富的物產，多元的文化，安樂的生活。 ③人人都成了一個差不多先生——然而中國從此就成了一個懶人國。 ④有出版社為了古籍普及化，除了將其內容改寫成白話外，並為書名添加新標題，如取經的歷險——西遊記，以彰顯該書的特色，使讀者樂於接近。
20. 下列各選項的標點符號使用，何者正確？ ①燕子去了，有再來的時候，楊柳枯了，有再青的時候；桃花謝了，有再開的時候 ②唯有在心態上放下自己的身段，才能以『同理心』了解對方的學習障礙，設法幫助他一一解開 ③到空中拍照，最關鍵的條件是：天氣狀況。不只要天晴，還要能見度夠，空氣中懸浮粒子不能太多，否則不能拍到好照片 ④這位服務生驚奇莫名，他說話突然變得結結巴巴：「你——是不是有什麼條件？為——為什麼選擇我呢？你到底是誰？」
21. 下列各選項的標點符號使用，何者最恰當？ ①孔子曾說：「學而時習之，不亦說（悅）乎？」這段話告訴我們：學習是一件令人喜悅的事。 ②孔子曾說「學而時習之，不亦說（悅）乎？」這段話告訴我們：學習是一件令人喜悅的事。 ③孔子曾說「學而時習之，不亦說（悅）乎？」這段話告訴我們：「學習是一件令人喜悅的事。」 ④孔子曾說：學而時習之，不亦說（悅）乎？這段話告訴我們——學習是一件令人喜悅的事。
22. 下列選項中，何者涵義與其他三者相差最遠？ ①孔子說他要帶著學生去周遊列國 ②孔子說：「我要帶著學生去周遊列國。」 ③孔子說：「他要帶著學生去周遊列國。」 ④孔子告訴學生：「我要帶著你們去周遊列國。」
23. 下列有關「先秦寓言」的敘述，何者正確？ ①作者以真實的歷史故事表達抽象的道理 ②寓言可視為中國小說的先河 ③寓言為小說的一種 ④與先秦寓言同時期的西方類比著作為古希臘的格林童話

- 24.由濫竽充數一文，假如你是南郭先生的朋友，你會給予什麼勸告？
 ①行事宜熱心助人，切勿幸災樂禍
 ②做人宜謙沖自牧，勿驕傲自大
 ③處事宜兢兢業業，勿偷雞摸狗
 ④凡事宜未雨綢繆，勿臨渴掘井
- 25.戰國策·燕策—鵲曰：「今日不雨，明日不雨，即有死蚌。」蚌亦謂鵲曰：「今日不出，明日不出，即有死鵲。」上文中鵲和蚌的情形可用下列哪一個詞語形容？
 ①不容置喙
 ②雙方對峙
 ③步步為營
 ④好整以暇
- 26.「今日不雨」中的「雨」字本義是雨水，為名詞，在此處的意思為下雨，詞性轉變為動詞。下列「」中的字，何者也是動詞？
 ①「濫」竽充數
 ②春風又「綠」江南岸
 ③鵲蚌相爭，漁翁得「利」
 ④循循「善」誘

陸.閱讀題組：19% 每題1分 *請將答案填入答案欄, 否則不予計分.

1.

七彩的虹

楊 喚

接到了太陽國王的大掃除的命令，
 小雨點們就都坐上飛跑著的烏雲，
 賽跑著離開了天上的宮廷。

他們給稻田和小河加足了水，
 他們給骯髒的山谷洗過了澡，
 就又來洗淨了清道夫永遠也掃不完的城市，
 也洗淨了悶熱的飛滿了塵土的天空。

太陽國王為了獎賞他們真能幹，
 就送給他們一條美麗的長彩帶，
 那就是掛在明亮的雨後的天空中的
 紅、橙、黃、綠、青、藍、紫的七彩的虹。
 (選自楊喚詩集)

- (1)本詩主要在描寫什麼？
 ①下雨前後的景象
 ②太陽的強大威力
 ③天氣的變化多端
 ④小雨點無所不在
- (2)根據本詩，下列敘述何者正確？
 ①全詩表現小雨點的嬉鬧調皮
 ②首節「飛跑著的烏雲」是指放晴的徵兆
 ③「美麗的長彩帶」是用擬人法描繪彩虹
 ④次節描寫雨水能夠滋潤萬物、洗淨大地
- (3)巧巧依照本詩的內容，整理出天氣的變化：(甲)大雨滂沱(乙)出現彩虹(丙)雨過天晴(丁)烏雲密布。請問發生的順序為何？
 ①(甲)(乙)(丙)(丁)
 ②(乙)(丙)(丁)(甲)
 ③(丙)(甲)(丁)(乙)
 ④(丁)(甲)(丙)(乙)

2.孔門四科十哲：據史記記載，孔子有學生三千餘人，身通「六藝」(禮、樂、射、御、書、數)者七十餘人。孔子從事教育數十年，培養出許多優秀學者和政治、軍事、外交等人才。他會按品行和專長將學生分為四科，請看完以下介紹，回答問題。

孔門十哲

德行

顏淵：

- 姓顏，名回，字子淵。
- 魯國人，小孔子三十歲。
- 安貧樂道、好學、不遷怒、不貳過，是孔子的得意門生。

閔子騫：

- 姓閔，名損，字子騫。
- 魯國人，小孔子十五歲。

· 大方穩重，以孝順聞名鄉里。

冉伯牛：

- 姓冉，名耕，字伯牛。
- 魯國人，小孔子七歲。
- 以美德著稱。

仲弓：

- 姓冉，名雍，字仲弓。
- 魯國人，小孔子二十九歲。
- 為人敦厚、氣度寬宏。

——七年級國文科試題卷 請繼續作答.p8-4——

言語

宰我：

- 姓宰，名予，字子我。
- 魯國人，小孔子二十九歲。
- 口才好，長於辯論。
- 曾因白天睡覺，被孔子訓斥：「朽木不可雕也。」

子貢：

- 姓端木，名賜，字子貢。
- 衛國人，小孔子三十一歲。
- 聰明伶俐，口才佳，善於經商，是孔子弟子中最富裕者。

政事

冉有：

- 姓冉，名求，字子有。
- 魯國人，小孔子二十九歲。
- 個性拘謹，多才多藝，勇武善戰，曾在魯國任官。

季路：

- 姓仲，名由，字子路，一字季路。
- 魯國人，小孔子九歲。
- 正直率真，見義勇為，曾在衛國任官。
- 個性魯莽，好逞血氣之勇。

文學

子游：

- 姓言，名偃，字子游。
- 吳國人，小孔子四十五歲。
- 胸襟開闊，勤奮好學，熟讀古代文獻，深通古禮。

子夏：

- 姓卜，名商，字子夏。
- 衛國人，小孔子四十四歲。
- 篤實謹慎，好學深思，曾於魏國講學，為孔門中重要的傳承弟子。

- (4)有關孔門四科十哲的敘述，下列何者正確？
①孔子的學生年齡皆相近 ②孔子的學生都是魯國人
③孔子的學生皆口才極佳 ④孔子門下有不同專才的學生。
- (5)若這些學生在同一班，以下班級幹部或活動代表的配對，何者最適切？
①季路：學藝股長 ②子夏：國文小老師
③顏淵：辯論比賽選手 ④宰我：品德模範生。
- (6)從上述的介紹中可以看出誰的個性較為衝動、急躁？()

3.

顏淵、季路侍①。

子曰：「盍各言爾志②？」

子路曰：「願車、馬、衣、裘③，與朋友共④，敝之而無憾⑤。」

顏淵曰：「願無伐善，無施勞⑥。」

子路曰：「願聞子之志。」

子曰：「老者安之，朋友信之，少者懷之⑦。」

(論語 公治長)

注：①侍：侍候在尊長身邊。

②盍各言爾志：何不各自說說自己的志願呢？盍，何不。爾，你。

③裘：皮衣。

④共：分享、合用。

⑤敝之而無憾：就算破舊、損壞了，也不覺得遺憾。

⑥無伐善而施勞：不誇耀自己的才能或優點，不張揚自己的功勞。伐，誇耀。施，張揚。

⑦老者安之三句：老人能得到奉養並享受安樂，朋友能以誠信交往，少年人能得到關懷愛護。

- (7)由文中可判斷季路是個怎樣的人？
①不慕榮利 ②熱情豪爽 ③膽大粗魯 ④好出風頭
- (8)根據文中孔子的言論，孔子最樂於見到的是什麼？
①人人長壽健康 ②朋友廣布天下
③社會安詳和樂 ④小孩天真活潑。
- (9)這次班際大隊接力賽，最後一棒的勁騰追過多位選手，被全班公認為奪冠大功臣，勁騰卻說是隊友通力合作的結果。勁騰的態度和文中何人最接近？請說明理由。

答：

——七年級國文科試題卷 請繼續作答. p6-5——

4.論語變身秀：論語文字簡潔，許多篇章都轉為琅琅上口的成語，如「溫故而知新，可以為師矣」演變成「溫故知新」。請先在表格中寫出由該則演變而來的成語，再將各成語填入乙大題的句子中。 ※提示：舉一反三 患得患失 循循善誘

甲、判別

(10)子曰：「舉一隅不以三隅反①，則不復②也。」（述而篇） 答：（ ）

注釋：①舉一隅不以三隅反：提示一個角，卻不能類推出其餘三個角。隅，音ㄩˇ，角，角落。

②不復：指不再教導他。

(11)顏淵曰：「夫子循循然善誘人①，博我以文②，約我以禮③，欲罷不能④。」（子罕篇） 答：（ ）

注釋：①循循然善誘人：善於循序漸進地引導教育我。誘，引導。

②博我以文：用文章典籍來增廣我的學識。

③約我以禮：用禮儀法度來規範我的行為。

④欲罷不能：指想要停止學習卻做不到。

(12)子曰：「其未得之也，患得之①；既得之，患失之②。苟患失之，無所不至矣③。」（陽貨篇） 答：（ ）

注釋：①未得之也患得之：還沒有得到時，就擔心得不到。患，憂慮、擔心。

②既得之患失之：已經得到了，又擔心會失去。

③苟患失之無所不至矣：如果擔心失去，就沒有什麼事做不出來了。苟，音ㄍㄡˇ，如果。

乙、運用

(13)在張老師的（ ）之下，同學們對數學這門科目就不再畏懼了。

(14)學習任何事物，先要了解基本原理，還要融會貫通、（ ），才能有更好的成效。

(15)導師叮嚀我以平常心面對明日的演講比賽，不要（ ），以免因緊張過度而失常。

5.猜猜我是誰：下列所選錄的都是揚喚的詩句，請將他所歌詠的對象代號填入（ ）中。

(A)肥皂 (B)雲 (C)雨 (D)小蜘蛛 (E)小蝸牛 (F)小螞蟻

() (16)我們是一群不偷懶的小工人，

搬不動哥哥的故事書，

拉不走姐姐的花毛線，

我們來抬小妹妹吃剩下的碎餅屑。

() (17)來，讓我們做個好朋友吧！

讓我每天替你們洗乾淨那又黑又髒的小手，

再高興地看著你們穿著洗得又乾淨又漂亮的衣裳去上學校！

() (18)要黏住小蚊子討厭的尖嘴巴。

要黏住小蒼蠅亂飛的小翅膀。

蜜蜂姐姐小心呀，

可別飛到這裡來給我送蜜糖！

() (19)憂愁夫人的灰色的面紗，

快樂王子的痛苦的眼淚，

把我屋子裡的太陽輕輕網住，

把我窗外的夜叮叮噹噹地敲響，

哎，我再也不能入睡，再也不能入睡。

——七年級國文科試題卷結束 請仔細檢核答案

p6-6——

澎湖縣立文光國中 109 學年度第一學期第一次定期評量七年級英語科試題

Class : _____ Number : _____ Name : _____

一、聽力測驗：言談理解（每題均有三個選項，請依據所聽到的對話與問題，選出一個最適當的答案）10%（每題 2 分）

- () 1. (A) The man's doctor.
(B) The doctor's daughter.
(C) Bruce's new doctor.
- () 2. (A) Mimi is a small dog.
(B) Cola is the girl's pet.
(C) The boy's pet is a cat.
- () 3. (A) They are PE teachers.
(B) They are from Australia.
(C) They are English teachers.
- () 4. (A) In a zoo.
(B) At a school.
(C) In a kitchen.
- () 5. (A) The milk cakes.
(B) The orange cakes.
(C) The banana cakes.

二、文意字彙：20%（每題 2 分）

- _____ 1. My dad is cooking lunch in the k_____n. It smells (聞起來) good.
- _____ 2. Lily has a b_____l heart (心). She is nice to others (其他人).
- _____ 3. A: The singer (歌手) is just (只) twelve years old. B: Wow! She is y_____g.
- _____ 4. Z_____as run fast (快速地). They look like (像) horses.
- _____ 5. Emma is an orphan (孤兒). Her p_____ts are dead (去世的).
- _____ 6. I like this book. Can (可以) I read it a_____n?
- _____ 7. Henry and Peggy are h_____d and wife. That boy is their son.
- _____ 8. K_____as are not bears. They can (會) climb trees (爬樹) and like to sleep.
- _____ 9. Today is my b_____y, and I'm thirteen years old now.
- _____ 10. A: What's this? B: My p_____e. It's old and not clear (清楚的).

三、填充：10%（每題 1 分）

A. 填入下列名詞的複數

1. wolf → _____
2. sandwich → _____
3. country → _____
4. sheep → _____

B. 填入正確的疑問詞

5. A: _____ is your name? B: Ted.
6. A: _____ are you? B: Fine. Thank you.
7. A: _____ are you from? B: Taiwan.

C. 填入正確的代名詞或所有格

8. I like Mom's watch. → I like _____ watch.

9. The desk is red. → _____ is red.

10. Is Mary your student? → Is _____ your student?

四、文法測驗：20% (每題 2 分)

() 1. Jack is _____ one-year-old boy. He is so cute.

(A) a (B) an (C) × (D) these

() 2. A: Is _____? B: No, it isn't.

(A) this red pen my (B) my pen this red

(C) my this red pen (D) this my red pen

() 3. A: _____ your brother my student? B: Yes.

(A) Are (B) Am (C) Is (D) Aren't

() 4. 選出正確的句子。

(A) This books is nice.

(B) They are my pen.

(C) A monkey is an animal.

(D) My mom are very short.

() 5. 選出正確的句子。

(A) Cole's and Stella's uncles is a PE teacher in Starry Junior High School.

(B) Julia and Betty's dog is black, not white.

(C) Fiona is the girl's mother, and I'm their teacher.

(D) Mr. Brown is those student's PE teacher.

() 6. Andy: Isn't your sister thin? Rachel: _____.

(A) Yes, she is fat (B) No, she is thin

(C) No, the thin girl is my sister (D) Yes, she is very thin

() 7. A: _____ in the classroom? B: Bella and Kate are.

(A) What are (B) Where are (C) Who is (D) What is

() 8. A: Mom, this is Susan. She is my good friend.

B: _____, Susan.

(A) Nice to meet you (B) Thank you

(C) Happy birthday (D) You are a teacher

() 9. A: _____ Alex and Diana's husband young? B: Yes, _____

(A) Is; he is (B) Are; they are (C) Is; he's (D) Are; they're

() 10. A: Are _____ your friends?

B: Yes. And we're playing a ball game.

(A) those; man (B) those; men (C) they; men (D) they; man

五、克漏字測驗：10%（每題2分）

(On Facebook Live)

Hello, everyone. Now, my family and I are visiting my dad's good friend, Ted. He is ___1.___ cook, and he is cooking lunch for us. Ted is from the USA. ___2.___ hometown is famous for its great hamburgers and sweet apples. They are Ted's favorite. Hey! That's Mindy. ___3.___ She is not from the USA. ___4.___ She is a good cook, too. Her apple pies are great. Look! It is their cat, Minnie. It's very old. ___5.___ It is fifteen years old. OK. We're having our lunch. That's it for today. Bye!

📖 everyone 各位 visit 拜訪 the USA 美國 hometown 家鄉 famous 有名的 favorite 最喜愛的

- () 1. (A) good (B) a good (C) not a good (D) too good
() 2. (A) Their (B) My (C) His (D) Its
() 3. (A) He is Ted's pet. (B) She isn't a cook.
(C) He is Ted's brother. (D) She is Ted's wife.
() 4. (A) She is Mandy. (B) She is from Taiwan.
(C) Where is she from? (D) How are her apple pies?
() 5. (A) You're right! (B) Where is it from? (C) How old is it? (D) Is it their cat?

六、閱讀測驗：12%（每題2分）

A.

David : What is that, Helen?

Helen : It is my photo.

David : Wow! Can I have a look at it?

Helen : Yes.

David : Who is the farmer?

Helen : He is my grandfather. And this lady is my grandmother.

David : Is she a farmer, too?

Helen : No, she isn't. She is a housewife.

David : I see. Is the tall man your father?

Helen : Yes, he is. And the tall lady is my mother.

David : Are they farmers, too?

Helen : No, they aren't. My father is a cook, and my mother is a teacher.

David : What about you? Are you in this photo?

Helen : Yes, I am. The baby is me.

📖 photo 相片 can 可以 lady 女士 housewife 家庭主婦 baby 嬰兒

- () 1. There are (有) _____ people in the photo.
(A) four (B) five (C) six (D) seven
() 2. What are Helen and David talking (談論) about?
(A) Helen's photo. (B) Helen's baby.
(C) David's family. (D) David's career (職業).
() 3. Is Helen's father a farmer?
(A) Yes, he is a cook. (B) No, he is a doctor.
(C) Yes, he is a farmer. (D) No, he is a cook.

B.

The fox and the elephant live in a forest. They are good friends. One day, the King of the forest, the lion, announces, "Let's have a running competition in the forest. The fastest animal can marry my beautiful daughter." The fox and the elephant are very happy. They like the lion's daughter a lot. On the day of the running competition, the fox calls the elephant. "Sorry, brother. I am so sick. I can't go to the competition," the fox says. "What's wrong? Is there anyone at your house now?" the elephant asks. "No. My parents are not home. But that's OK. I can take care of myself," says the fox. "The poor fox. He is my friend. I should take care of him," the elephant thinks. So, the elephant goes to the fox's house with some fresh fruit and hot soup instead. However, on his way to the fox's house, he sees the news about the fox. That is, the fox can marry the lion's daughter now. The elephant is sad. He and the fox are not friends anymore.

📖 forest 森林 announce 宣告 fastest 最快的 marry 娶 call 打電話
sick 病的 can't 無法 take care of 照顧 instead 相反地 anymore 不再

- () 4. Who is the winner of the running competition? 📖 winner 贏家
(A) The fox. (B) The lion. (C) The elephant. (D) The lion's daughter.
- () 5. What is a "competition"?
(A) A lion. (B) A book. (C) A game. (D) A tree.
- () 6. Which is right?
(A) The fox isn't sick.
(B) The elephant can't run fast.
(C) The elephant is at the lion's home.
(D) The elephant can marry the lion's daughter.

七、依提示完成句子：18% (1~3 題每題 2 分, 4~7 題每題 3 分)

1. That is a car.
That car is orange. (用 That is ... 開頭合併句子, 不可用 and)
2. No, those aren't elephants in the zoo. (改成單數並依畫線部分造原問句)
3. teacher, / you / too? / Are/ an / English (句子重組)
4. William 來自一個溫暖的家庭。
5. 這些寵物鼠是給我堂弟的。
6. 在 Kevin 的眼中, Lisa 是位美麗的女人。
7. 在照片裡的動物是隻令人害怕的獅子。

澎湖縣立文光國中 109 學年度第一學期第一次定期評量七年級英語科試題答案卷

Class : Number : Name :

一、聽力測驗：10% (每題 2 分)

1.	2.	3.	4.	5.
----	----	----	----	----

二、文意字彙：20% (每題 2 分)

1.	2.	3.	4.	5.
6.	7.	8.	9.	10.

三、填充：10% (每題 1 分)

1.	2.	3.	4.	5.
6.	7.	8.	9.	10.

四、文法測驗：20% (每題 2 分)

1.	2.	3.	4.	5.
6.	7.	8.	9.	10.

五、克漏字測驗：10% (每題 2 分)

1.	2.	3.	4.	5.
----	----	----	----	----

六、閱讀測驗：12% (每題 2 分)

1.	2.	3.	4.	5.	6.
----	----	----	----	----	----

七、依提示完成句子：18% (1~3 題每題 2 分, 4~7 題每題 3 分)

1.
2.
3.
4.
5.
6.
7.

澎湖縣立文光國民中學 109 學年度第 1 學期 7 年級數學科第 1 次段考試卷

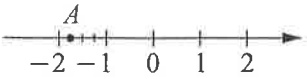
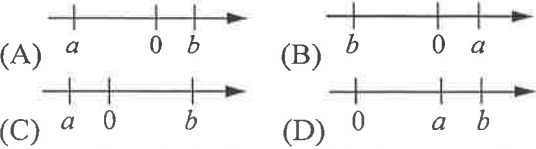
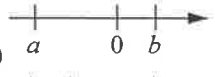
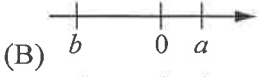
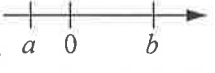

班級：

姓名：

座號：


讀卡 V 答案卷

一、選擇(每題 4 分，共 40 分)

- () 1. 比 $-8\frac{3}{4}$ 大，且比 $9\frac{1}{3}$ 小的整數共有多少個？(A)16 (B)17 (C)18 (D)19
- () 2. 下列哪一個敘述不正確？
 (A)數線上愈右邊的點，所代表的數愈大
 (B)零大於所有的負數 (C)負數的相反數仍是負數 (D)負數的絕對值是一個正數
- () 3. 如附圖，數線上 A 點的坐標為何？

 (A) $-1\frac{2}{3}$ (B) $-1\frac{3}{4}$ (C) $-2\frac{1}{4}$ (D) $-2\frac{3}{4}$
- () 4. 數線上兩點 A(a)、B(b)，已知 $a+b < 0$ 、 $a-b < 0$ ，試問下列何者可能是 A、B 兩點在數線上的位置？

 (A)  (B) 
 (C)  (D) 
- () 5. 數線上有一隻蜜蜂在 P 點向左飛 5 個單位，再向右飛 10 個單位，再向左飛 12 個單位，最後停在代表「-4」的 Q 點上，則原來位置 P 點所表示的數是多少？
 (A)0 (B)1 (C)2 (D)3
- () 6. 計算 $(-53) \times 118 \times 0 - (-54) \div 6 \div (-3)$ 的值為何？(A)4 (B)3 (C)-4 (D)-3
- () 7. 某城市某日清晨 4 點的氣溫是 -20°C ，到了中午 12 點的氣溫是 -4°C ，試問該城市的氣溫平均每小時升降多少？
 (A)上升 1°C (B)上升 2°C (C)下降 1°C
 (D)下降 2°C
- () 8. 下列哪一個結果與其他三個不同？
 (A) $2 \times 2 \times 2 \times 2 \times 2 \times 2$ (B) 4^3 (C) 8^2 (D) 2×6
- () 9. 1 奈米 = 10^{-9} 米，那麼 0.00058 米相當於多少奈米？
 (A) 5.8×10^2 (B) 5.8×10^3 (C) 5.8×10^4
 (D) 5.8×10^5

- () 10. 若 $n = 3.606 \times 10^{-8}$ ，則 n 從小數點以下第幾位開始出現第一個不為 0 的數字？
 (A)6 (B)7 (C)8 (D)9

二、填充(每題 4 分，共 40 分)

1. 數線上有 A、B、C 三點，其所代表的數分別為 2.5、 $-\frac{3}{10}$ 、 $1\frac{1}{5}$ ，則 A、B、C 三點在數線上，由左而右的順序為_____。
 (順序全對才給分)
2. 若台北 101 金融大樓高出海平面 508 公尺，可記為 +508 公尺。那麼世界第一高峰珠穆朗瑪峰 (又稱聖母峰) 高出海平面 8848.13 公尺，可記為_____公尺。最深的海溝馬里亞那海溝 低於海平面 11022 公尺，可記為_____公尺。
 (每格 2 分)
3. 數線上有兩點 A、B，若 A 點坐標為 5，A、B 的中點坐標為 -2，則 B 點坐標為_____。
4. 數線上 A 和 B 兩點的距離為 18 個單位。若 B 點的坐標為 -13，則 A 點的坐標為_____或是_____。
 (每格 2 分)
5. 小益班上規定：平時表現記「優點」一次者，團體活動成績加 3 分；記「缺點」一次者，則團體活動成績扣 2 分。小益於學期結束時，共記「優點」21 次，「缺點」5 次，則她的團體活動總成績應為_____。
6. 比較下列各題中兩數的大小 (在空格中填入 >、=、<)：
 (每格 2 分)
 (1) 9.999×10^3 _____ 1×10^4 。
 (2) 7.5×10^{-4} _____ 3.2×10^{-3} 。
7. 寫出下圖數線上各點的坐標： (每格 2 分)

 (1) B (_____) (2) C (_____)
8. 從 1、2、-3、-4、-5、-6、-7 中任取三個數相乘，則最大乘積為_____，最小乘積為_____。
 (每格 2 分)

9. 將下列各數以科學記號表示：(每格 2 分)

(1) $23000000 = \underline{\hspace{2cm}}$ 。

(2) $0.00000057 = \underline{\hspace{2cm}}$ 。

10. 計算 5^{100} 的結果中，個位數字為 $\underline{\hspace{1cm}}$ ；

計算 6^{200} 的結果中，個位數字為 $\underline{\hspace{1cm}}$ 。

(每格 2 分)

三、計算與應用題(每題 4 分，共 20 分)

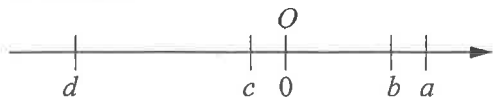
1. 某商人在葡萄的產地買進每台斤 30 元的葡萄 80 台斤，在搬運途中壓壞了 4 台斤無法賣出，只好在剩下的葡萄中挑出較好的 45 台斤以每台斤 40 元賣出，其餘的每台斤以 20 元賣出，試問全部賣完後此商人賺或賠多少元？

2. 計算下列各式：(每小題 2 分)

(1) $10 - |-6| \times (-3)$

(2) $(-75) \div 5^2 - 2 \times |-98 - 100|$

3. 下表是， a 、 b 、 c 、 d 在數線上的位置，請回答以下問題：



(1) 哪一點距離原點最近 $\underline{\hspace{1cm}}$ ；哪一點距離原點最遠 $\underline{\hspace{1cm}}$ 。(每格 1 分)

(2) 將 a 、 b 、 c 、 d 四個數的絕對值按大小排出順序。
(a 、 b 、 c 、 d 要加絕對值符號，順序全對才給分，此題 2 分)

4. 計算下列各式：(每小題 2 分)

(1) $11^2 + (-3)^3 = \underline{\hspace{1cm}}$ 。

(2) $4^2 - (-6)^3 = \underline{\hspace{1cm}}$ 。

5. 已知光 1 秒約走 30 萬公里 (每小題 2 分)

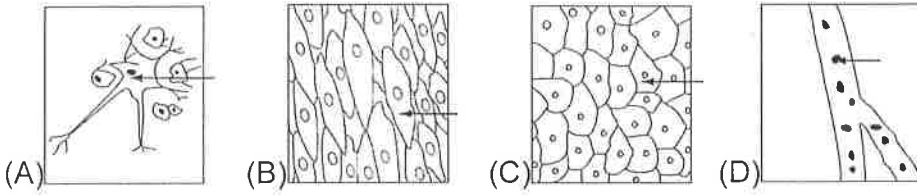
(1) 請將 30 萬公里寫成科學記號，單位以公尺表示

(2) 已知太陽光照射到地球大約需要 500 秒，請由此換算地球到太陽的距離。(答案以科學記號表示，單位為公里)

試題結束

一、選擇題。全部 38 題。每題 2 分。共 76 分

() 01. 不同組織中的細胞形狀不同，功能也不同。在人體中，下列箭頭所指的細胞何者最可能具有快速傳遞訊息的功能？



() 02. 請問下圖為人體中哪種細胞？(A)神經細胞 (B)肌肉細胞 (C)紅血球細胞 (D)保衛細胞。



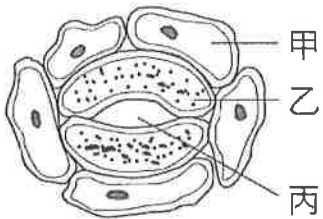
※右上圖為植物細胞構造示意圖，請回答

() 03. 戊構造含有遺傳物質，是細胞生命中樞，請問是哪個名稱？

(A)細胞核 (B)細胞質 (C)葉綠體 (D)細胞壁。

() 04. 哪一個構造可能是細胞壁，具有保護和維持細胞形狀等功能？(A)乙 (B)丙 (C)丁 (D)戊。

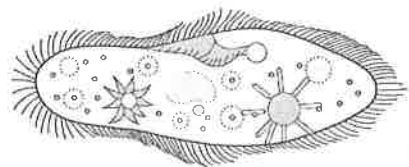
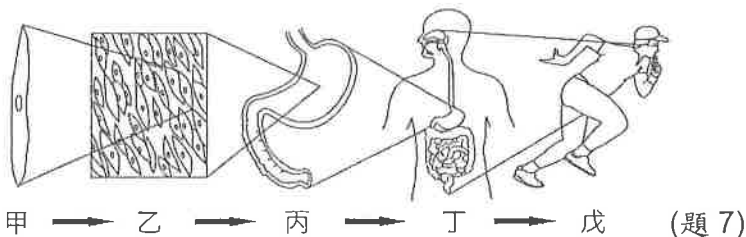
※下圖為植物細胞示意圖，請回答 5-6



() 05. 請問氣體由何處進出？(A)甲 (B)乙 (C)丙。

() 06. 請問何者是保衛細胞？(A)甲 (B)乙 (C)丙。

() 07. 下圖是人體組成層次示意圖，請問植物缺乏哪種組成層次？(A)甲 (B)乙 (C)丙 (D)丁。



() 08. 右上圖為顯微鏡視野下所觀察到的草履蟲，下列相關敘述何項正確？

(A)草履蟲具有複雜的器官系統

(B)在顯微鏡中可觀察到草履蟲的部分生命現象

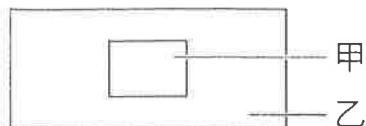
(C)草履蟲有特定形狀，故其細胞具細胞壁

(D)草履蟲的細胞具有多項功能，屬於多細胞生物。

() 09. 請問，何者須藉由許多細胞分工合作，才能表現生命現象？

(A)多細胞生物 (B)單細胞生物 (C)非生物。

() 10. 生物實驗課時，老師示範玻片標本的製作，如下圖所示。請問下列敘述何者有誤？



(A) 甲稱為蓋玻片

(B) 乙稱為載玻片

(C) 若畫面中出現氣泡，可以用鉛筆輕壓乙構造，將氣泡壓出

(D) 甲在觀察物之上，乙在觀察物之下。

() 11. 若有甲、乙、丙、丁 4 顆星球分別和地球距離： 9×10^{10} 公尺、 6×10^{11} 公尺、 1×10^{11} 公尺和 3×10^8 公尺。根據以上所述，何者的位置離地球最遠？

(A) 甲 (B) 乙 (C) 丙 (D) 丁。

() 12. 承上題，假如 4 個星球都能散發等量的光和熱，那麼地球上的生物接受哪一個星球的光與熱最多？

(A) 甲 (B) 乙 (C) 丙 (D) 丁。

() 13. 科學方法包含很多步驟與流程，而前四項步驟包括：

(甲) 提出假說；(乙) 觀察；(丙) 參考文獻資料；(丁) 設計實驗。請問正確順序為：

(A) 乙→丙→甲→丁 (B) 甲→乙→丙→丁 (C) 丙→乙→甲→丁 (D) 丁→丙→乙→甲。

() 14. 依據生物體的組成層次，請問「不同功能的組織可以彼此聯合，構成具有特定型態與功能的何者」？

(A) 細胞 (B) 器官 (C) 器官系統 (D) 個體。

() 15. 請問，下列哪一個選屬於植物的「生殖器官」？(A) 葉 (B) 莖 (C) 果實 (D) 根。

() 16. 科學家在做一項有關細菌引起疾病的實驗，許多試管中有一支不含細菌，請問不含細菌的試管在實驗操作過程中有何作用？(A) 形成結論 (B) 對照比較 (C) 方便計算 (D) 形成可測試的假說。

() 17. 下列哪一樣食物最可能是「器官」的層次？(A) 一顆雞蛋 (B) 一顆火龍果 (C) 一片火腿 (D) 一隻麻雀。

() 18. 下列哪一個數值代表的長度最短？(A) 39 毫米 (B) 39 公里 (C) 39 微米 (D) 39 公尺。

() 19. 這幾週的實驗課，同學們「使用顯微鏡觀察標本並畫下來」，這是屬於科學方法中的？

(A) 觀察與紀錄 (B) 文獻探討 (C) 討論與分析 (D) 操作實驗與紀錄數據。

() 20. 下列何者不是孕育地球生命的有利條件？

(A) 適宜的大氣 (B) 大量的金屬礦藏 (C) 充足的陽光 (D) 液態水。

() 21. 美美發現珊瑚礁區域的生物種類和數量比沙漠豐富，請問：造成這種差異的主要原因是什麼？

(A) 沙漠地區距離城市較遠 (B) 沙漠地區分布的緯度較高。

(C) 珊瑚礁地區較溫暖有水 (D) 珊瑚礁地區分布的海拔高度較低

() 22. 實驗設計中，實驗組與對照組只有一項變因不同，其餘變因完全相同，這些相同的變因稱為？

(A) 應變變因 (B) 操縱變因 (C) 控制變因 (D) 不變變因。

() 23. 校園中的南洋杉是生物，是因為它表現了哪些生命現象？(甲) 生長；(乙) 代謝；(丙) 感應；(丁) 生殖。

(A) 乙丙丁 (B) 甲丙丁 (C) 甲乙丙丁 (D) 甲乙丙

() 24. 生物圈的最大範圍是海平面上下各約多少公尺？(A) 10 (B) 100 (C) 1000 (D) 10000。

() 25. 大雄在內政部的網站上看見民國 105 年臺灣有 210000 個嬰兒出生，請問：大雄應如何利用科學記號表示該年度的新生兒人數呢？

(A) 210 千人 (B) 210000 人 (C) 2.1 百萬人 (D) 2.1×10^5 人。

() 26. 哪一位科學家利用自製的顯微鏡觀察從樹皮切下的軟木片。進而發現細胞的存在？

(A) 許來登 (B) 許旺 (C) 達爾文 (D) 虎克。

() 27. 甲：細胞；乙：蛋白質；丙：二氧化碳；丁：氫原子。若將上述四者由大到小排列，下列何者正確？

(A) 甲乙丙丁 (B) 乙丙丁甲 (C) 丙甲丁乙 (D) 丁甲丙乙。

() 28.關於生活在不同環境中的生物，下列敘述何者正確？

- (A)北極熊體內厚厚的脂肪有禦寒的功能 (B)平地和高山的植物種類都一樣
(C)企鵝生活在沙漠中 (D)石門水庫中可發現招潮蟹的蹤跡。

() 29.下表是靜香整理所觀察細胞的構造特徵，則何種細胞最可能是水蘊草葉片細胞？

- (A)甲細胞 (B)乙細胞 (C)丙細胞 (D)丁細胞。

構造細胞	甲	乙	丙	丁
細胞核	有	有	無	有
粒線體	有	有	有	有
葉綠體	無	有	無	無
細胞壁	有	有	無	無

() 30.關於生物圈的敘述，下列何者正確？

- (A)生物圈內的生存環境皆具有陽光
(B)生物圈為海平面上、下共 20 公里，此範圍可能因為生物滅絕而改變
(C)生物皆平均分布在生物圈中
(D)生物圈範圍占整個地球非常大的比例。

() 31.「仙人掌」是澎湖島嶼的特色植物。大雄到澎湖旅遊時觀察到仙人掌的葉片是針狀的，和一般常見的植物不太相同。她認為仙人掌形成針狀葉片主要的目的為何？

- (A)可儲存水分 (B)增加光合作用的速率 (C)減少水分的蒸散 (D)增加吸收水分的面積。

() 32.下列各種元素及其通用符號的配對，何者正確？(A)碳：H (B)氧：C (C)氫：O (D)氮：N。

() 33.承上題，下列何者是只由同一種元素組成的分子？(A)水 (B)葡萄糖 (C)氧氣 (D)二氧化碳。

() 34.依據生物體的組成層次，請問下列何者為單細胞生物？(A)新月藻 (B)榕樹 (C)人 (D)狗。

() 35.小恩參加 2020 菊島澎湖跨海馬拉松的 42 公里綠蠟龜組，若用科學記號表示，是多少公尺？

- (A) 4×10^2 (B) 4×10^4 (C) 4.2×10^2 (D) 4.2×10^4 。

() 36.若某細胞的直徑大小為 $10 \mu\text{m}$ ，等於多少 m？(A) 10^{-4} (B) 10^{-5} (C) 10^{-6} (D) 10^{-7} 。

() 37.「保久乳的保存期限為什麼比鮮奶還長呢？」括號內的敘述為科學方法中的哪個步驟？

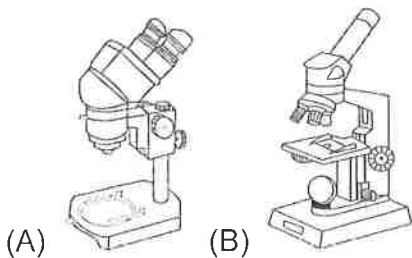
- (A)觀察 (B)參考文獻資料 (C)提出假說 (D)提出問題。

() 38.「細胞皆需在顯微鏡下才能看見」，這句話是否正確？

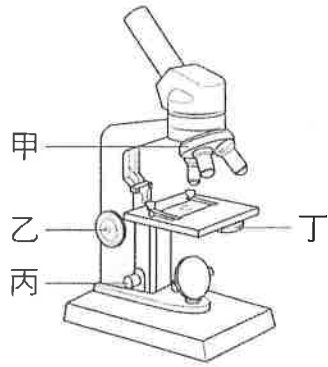
- (A)錯誤，雞卵黃就是一個細胞，且肉眼清楚可見
(B)正確，細胞皆無法由肉眼直接看見
(C)錯誤，植物細胞可由肉眼直接觀察
(D)正確，顯微鏡的發明就是為了觀察細胞。

二、實驗題。全部 8 題。每題 3 分。共 24 分

() 39.大雄想要觀察蒼蠅腳上的味毛，請問：大雄應該選擇何種工具較為適當呢？



() 40. 下圖為複式顯微示意圖，請問粗調節輪是哪一個代號? (A)甲 (B)乙 (C)丙 (D)丁。



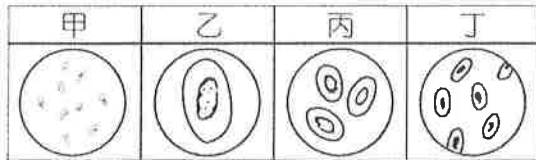
() 41. 承上題，請問哪一個構造可以更換物鏡? (A)甲 (B)乙 (C)丙 (D)丁。

() 42. 下列四種的目鏡與物鏡的組合中，請問哪一種組合的放大倍率可達 80 倍?

(A)A (B)B (C)C (D)D。

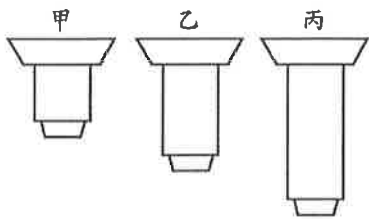
組合代號	目鏡	物鏡
A	10X	4X
B	10X	10X
C	20X	4X
D	20X	40X

() 43. 承上題，觀察同一片標本玻片，得到以下四種影像結果，請問透過組合代號 D 觀察到的影像可能是哪一種? (A)甲 (B)乙 (C)丙 (D)丁。

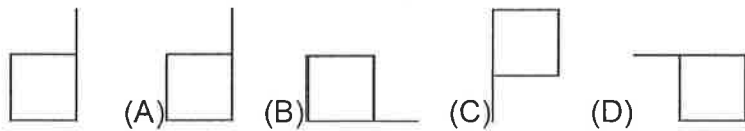


() 44. 大雄在實驗室使用複式顯微鏡觀察水蘊草細胞，有三種物鏡可以選擇，請問哪種物鏡的倍率最高?

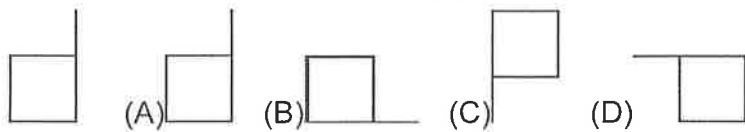
(A)甲 (B)乙 (C)丙。



() 45. 當使用複式顯微鏡觀察以下的圖像(左下圖)，請問觀察到的影像可能是何者(不考慮放大結果)?



() 46. 當使用解剖顯微鏡觀察以下的圖像(左下圖)，請問觀察到的影像可能是何者(不考慮放大結果)?



澎湖縣立文光國民中學 109 學年度第 1 學期 第 1 次成績評量 7 年級地理科試卷

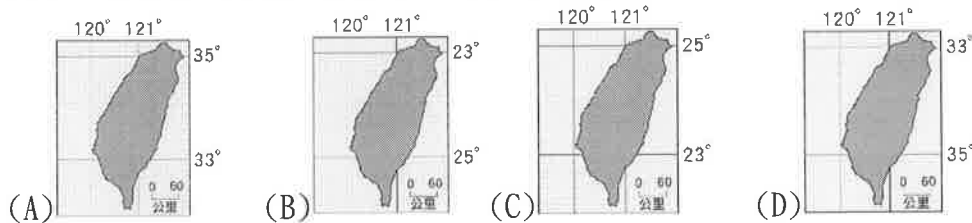
班級：_____ 姓名：_____ 座號：_____ ■ 讀卡 □ 答案卷

一、單一選擇題（十二題，每題 2 分，24 分）

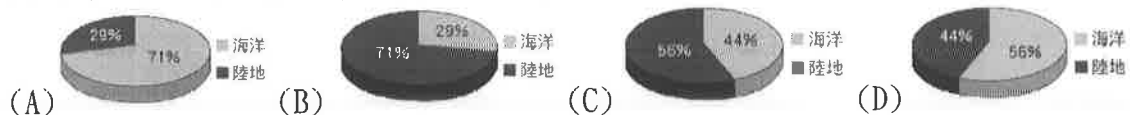
- () 「雅婷坐在小貞的前面」，這樣的說法屬於哪種位置概念的敘述？ (A)絕對位置 (B)相對位置 (C)網格座標 (D)經緯度位置。
- () 地圖上常利用互相垂直的直線，將地圖劃分成許多大小相同的方格，稱之為何？ (A)網格 (B)比例尺 (C)等高線 (D)方向標。
- () 地圖上的方位通常是以英文來標示。請問：哪個英文字母代表的是北方？ (A)「N」 (B)「E」 (C)「W」 (D)「S」。
- () 關於位置的描述方式，有相對位置與絕對位置兩種。下列關於位置的描述，何者屬於「絕對位置」？ (A)庭芳坐在威廷的左後方 (B)煥傑家距離學校兩個街口 (C)屏東縣位於臺灣最南端 (D)澎湖群島位於東經 119 度，北緯 23 度。
- () 阿得拿了一張比例尺標明 1:3,600 的地圖，根據對地圖的認識，判斷下列何者正確？ (A)圖上 1 公分是實際上的 3,600 公分 (B)圖上的 1 公分是實際上的 3,600 公尺 (C)圖上的 1 公分是實際上的 3,600 公里 (D)圖上的 1 公分是實際上的 60 公分
- () 下列哪個縣市不位在臺灣本島？ (A)南投縣 (B)花蓮縣 (C)臺東縣 (D)澎湖縣。
- () 附圖為基隆市街道圖，依圖中資料無法判讀出下列哪個地理資訊？ (A)位置 (B)距離 (C)面積 (D)地勢高度。



8. () 以下四幅表現臺灣經緯度位置的簡圖中，何者正確？

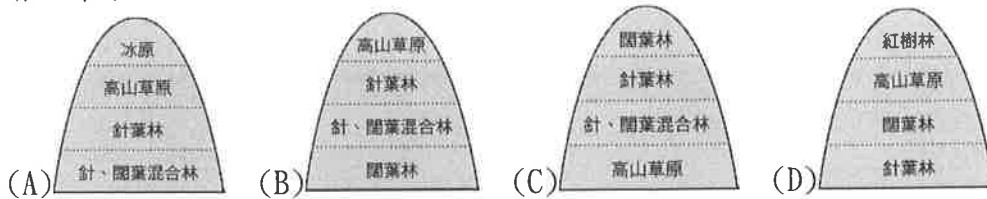


- () 花媽一家人正為了「地球」的海陸分布特徵爭論不休。請問：下列誰的說法是正確的？ (A)花媽：「依據計算，全球陸地面積占地球的 2/3 以上。」 (B)花爸：「陸地面積來說，北半球陸地所占的比例較大。」 (C)花姐：「南、北半球的海洋面積占全球總面積的比例不到 50%。」 (D)花弟：「陸地面積占南半球總面積一半以上。」
- () 附圖為四張地球海陸分布的圓餅圖。請問：哪張圖的比例是正確的？



【第 1 頁結束—背面尚有試題】

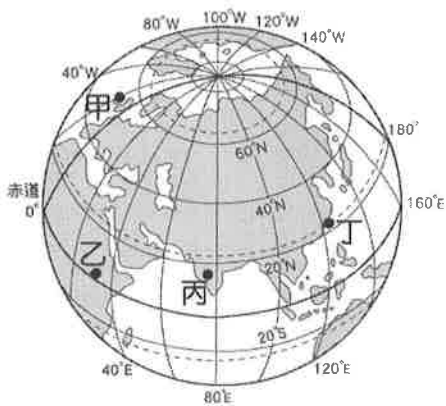
11. () 臺灣山區天然植物景觀相當豐富。請問：下列四張由平地至山區的植物分布示意圖，何者正確？



12. () 小柚住在沿海地區，她見到出海口有一大片低矮的植物，後來才知道這些植物對環境及生態的保護功能頗大。請問：這些植物最可能為下列何者？ (A)紅檜 (B)榕樹 (C)冷杉 (D)紅樹林。

二、題組(六題，每題 2 分，共 12 分)

(一)、附圖是地球經緯線的簡圖。請問：

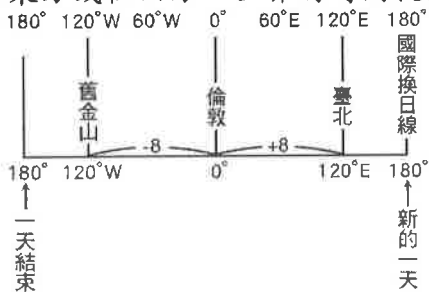


13. () 圖中甲、乙、丙、丁四點的位置，何者與臺灣最接近？ (A)甲 (B)乙 (C)丙 (D)丁。

14. () 圖中甲、乙、丙、丁四點的位置，何者緯度最低？ (A)甲 (B)乙 (C)丙 (D)丁。

15. () 圖中甲、乙、丙、丁四點的位置，何者位於西半球？ (A)甲 (B)乙 (C)丙 (D)丁。

二、經度影響地球每一時區的時間，為了使全球有一可共用與比對的時間，國際上以英國倫敦格林威治天文臺的時間為國際標準時間，也以經過該地的經度 0 度為東、西半球的劃分線，而由此線往東方或往西方，世界的時間就開始有了不同。附圖是時差示意圖。請問：



16. () 本初經線的時間為 3 月 5 日早上 9 點，東經 60 度的時間為何？ (A)3 月 4 日早上 3 點 (B)3 月 5 日早上 5 點 (C)3 月 5 日下午 1 點 (D)3 月 5 日下午 3 點。

17. () 此時國際換日線(180 度經線)的時間為何？ (A)3 月 4 日早上 9 點 (B)3 月 5 日早上 3 點 (C)3 月 5 日下午 3 點 (D)3 月 5 日晚上 9 點。

18. () (3) 同時間而言，西經 120 度的地方標準時間為何？ (A)3 月 4 日晚上 11 點 (B)3 月 5 日早上 1 點 (C)3 月 5 日早上 5 點 (D)3 月 5 日晚上 8 點

班級： 姓名： 座號： 讀卡 答案卷

一、 單一選擇題（第 19 題～第 26 題，每題 2 分，共 16 分）

19. 「新石器革命」是英國考古學家 V.G.Childe 提出的概念。請問：「新石器革命」主要的意義為何？(A)開始使用文字，明確記載當時人們的各種活動 (B)已知用火取暖、照明與熟食，使生命得以延長 (C)發展嚴密的軍事及國家組織 (D)進入產食時代，人們開始有閒暇從事文化創造。
20. 早期台灣原住民沒有文字，而傳說與神話是了解其發展的重要材料，我們應該如何看待他們的口述傳說與神話？(A)部分原住民稱自己祖先從裂開的石頭而出，不符合科學原理，不值得採信 (B)祖先曾遭遇洪水災難的傳說，顯示台灣原住民從中國黃河流域遷徙而來 (C)部分傳說可以推知原住民可能從其他島嶼移居至台灣，再遷徙至其他地區 (D)許多台灣原住民都有洪水氾濫的傳說，證明其祖先相同並來自同一地區。
21. 台灣原住民族屬於南島語族，其由來與發展的特色為何？(A)南島語族是目前台灣人數最多的族群 (B)南島語族是台灣的舊石器時代文化的創造者 (C)南島語族分布很廣，主要在歐亞大陸活動 (D)南島語族於數千年前陸續遷至台灣，又擴散到其他地區。
22. 承上題：下列哪一個地點不屬於「南島語族」的範圍？(A)日本列島 (B)馬達加斯加島 (C)紐西蘭 (D)復活節島。
23. 顏老師欲以「顏思齊」作為論述主題。請問：下列哪一份書籍文獻不能提供參考之用？(A)海商傳奇：中國東南沿海的海上爭霸 (B)農業年鑑：雲、嘉地區漢人開墾實錄 (C)壯志未酬：細數近代那些反抗異族的漢人們 (D)海禁政策：明初以來對中國海洋政策之檢討。
24. 在臺灣的某個時期，臺灣南部一位頗負聲望的社會領袖，向漢人民眾說道：「臺灣以前是個蠻荒之島，幸好有我們漢人的農業開墾。如今紅毛喧賓奪主，據地為有並且橫徵暴斂，逼我們走上絕路，與其束手待斃，不如奮起一戰。」於是議決起事。因為此時期統治者招募了大批漢人來臺灣開墾，卻對漢人非常刻薄並收取重稅，才引發此場大動亂。請問：這個主張起事的社會領袖是誰？(A)鄭成功 (B)鄭芝龍 (C)沈有容 (D)郭懷一。
25. 西班牙曾經也是佔領臺灣的國家之一。請問：下列何者為其退出臺灣經營的原因？(A)中國實施鎖國政策，對外貿易受挫 (B)漢人結合原住民，共同破壞經營成效 (C)荷蘭攻勢不斷，不堪其擾 (D)擴展成效不彰，勢力範圍僅侷限於基隆一帶。
26. 鄭氏治台期間，除了拓墾荒地外，還透過何種方式來維持財政改革？(A)對外貿易 (B)課徵重稅 (C)對外侵略 (D)財政改革。

二、 題組（第 27 題～第 35 題，每題 2 分，共 18 分）

* 顏老師在寒假時計畫進行「台灣史前文化」的考古研究，預計探訪下列史前遺址（甲）圓山文化（乙）長濱文化（丙）大坌坑文化（丁）十三行文化（戊）卑南文化，請根據題意，回答下列問題：

27. 顏老師對貝塚很有興趣，請問：他可以從哪一個文化遺址中探詢？(A)甲 (B)乙 (C)丙 (D)丁
28. 上述遺址中，哪些遺址屬於新石器時代遺址？(A)甲乙丙 (B)甲乙丁(C)甲丙戊 (D)甲乙戊
29. 上述遺址中，何處的文化發展已進入金屬器時代，且有熟練的航海技術與貿易？(A)甲 (B)丙 (C)丁 (D)戊
30. 上述遺址中，位於台灣北部的遺址有？(A)甲乙戊 (B)甲丙丁 (C)乙丙戊 (D)乙丁戊

* 顏老師閱讀一段文獻，其中提到：「十七世紀以來，歐洲人前仆後繼的前來亞洲，為的就是實踐他們無意中發現的『賺錢公式』。一趟航行下來，只要把甲地盛產的物品，轉賣到乙地，然後將現金帶到印度，再把從印度購買當地棉布，交換東南亞盛產的香料，然後帶回歐洲，就可以獲利數千倍。...首先來到亞洲的是葡萄牙人，他們佔據了甲地中的某個地點，作為與其貿易的根據地。而後來到亞洲的是西班牙人，他們佔據了菲律賓的馬尼拉。而荷蘭人最後才來到，陰錯陽差之下佔領了台灣，卻因獲利甚多，稱台灣真是公司的一頭好乳牛。而荷蘭人佔領台灣後，讓西班牙在亞洲貿易之路受阻，因此決定北上發展，一方面與荷蘭人對抗，另一方面方便與乙地貿易...。」請依據題意，回答下列問題：

31. 請問：題目中的「甲地」很有可能是指哪一個地方？(A)日本 (B)中國 (C)印度 (D)東南亞
32. 請問：題目中的「乙地」很有可能是指哪一個地方？(A)日本 (B)中國 (C)印度 (D)東南亞
33. 請問：下列哪一個名勝古蹟的興建與荷蘭人無關？(A)安平古堡 (B)赤崁樓 (C)淡水紅毛城 (D)澎湖天后宮
34. 請問下列關於荷蘭聯合東印度公司的敘述，下列何者有誤？(A)簡稱為 V O C (B)有對外宣戰及媾和之特權 (C)亞洲總部設於台灣 (D)可以任命官員統治殖民地
35. 「臺灣真是公司的一頭好乳牛」這種說法，表示臺灣為荷蘭帶來相當大的利益。請問：這是因為荷蘭人輸出下列哪些臺灣的特產？(甲)蔗糖 (乙)稻米 (丙)茶葉 (丁)鹿皮。(A)甲乙丙 (B)甲乙丁 (C)甲丙丁 (D)乙丙丁

【～ 試題結束，文光七年級、歷史科～】

澎湖縣立文光國民中學 109 學年度第 1 學期第 1 次成績評量 7 年級公民科試卷

班級： 姓名： 座號： 讀卡 答案卷

一、 單一選擇題（第 36 題～第 45 題，每題 2 分，共 20 分）

36. 「被遺忘權」是指人們有權利要求網路中有關於自己的負面信息，或過時的個人身份資訊搜尋結果。其目的是讓各得以保護私密生活資訊不被他人知曉。請問：關於上述的內容，與下列何項人性尊嚴的內涵有關？(A)個人的生命與身體應該維持完整 (B)個人享有身為人應有的生存權利 (C)個人具備價值選擇的自由與權利 (D)個人擁有自我決定的能力與機會
37. 根據知名求職網站的調查，大部分進行工作面試的人，最常被公司主管問的三個問題分別是：「你認為你有什麼優缺點？」、「你平常的興趣是什麼？」、「你覺得自己的個性如何？」。請問：上述公司主管提出這些問題時，最有可能為下列何者？(A)想知道求職者對自我有多少認識 (B)想知道求職者對外來工作規劃 (C)想知道求職者對自己的自信程度 (D)想知道求職者是否具備工作的熱情。
38. 「以銅為鏡，可以正衣冠；以古為鏡，可以知興替；以人為鏡，可以明得失。」這種藉由別人的看法來檢視自己的特質，稱之為下列何者？(A)肯定自我 (B)認識自我 (C)尊重自我 (D)展現自我。
39. 有民間的人權團體為了監督政府是否妥善落實人權責任，透過研究各國的人權指標，以建立適合我國的人權指標。同時藉由觀察我國在各項指標中的表現，判斷我國人權保障與落實情形，向政府提出興革建議。請問：下列何者最有可能是該人權團體報告之內容？(A)國立與私立大學設立比例調查統計 (B)我國歷年違反動物保護法案件統計 (C)我國法院歷年司法誤判案件統計 (D)我國民眾租屋購屋比例調查統計
40. 某位女性運動選手在奧運奪金後，某電台主播在報導提及：「她退休後應該把頭髮留長，穿上裙子才可愛。」請問：上述言論存在何種性別不平等的概念？(A)社會性別 (B)性別刻板印象 (C)性別偏見 (D)性別歧視。
41. 小軒軒不像一般社會期待的陽剛男生，他喜歡編織、烹飪，這也使得他常常受到班上其他男同學的排擠，罵他「娘娘腔」，脫他褲子，以至於他後來不敢出去上廁所。某天，他趁著上課時間去廁所後就沒再回來，後來被人發現他倒在血泊中去世。從性別的觀點來看，下列對於發生在小軒軒身上的描述，何者正確？(A)小軒軒在學校遭受到同學欺負的情況屬於性騷擾 (B)小軒軒因生理與社會性別不同而產生性別偏見 (C)現行法律可交由學校性別平等教育委員會調查處理 (D)可從利益分配的角度檢視小軒軒受不公平的處境。
42. 俗諺有云：「女人何苦為難女人」、「媳婦熬成婆」等。說明了有些女性在獲得某些社會給予的地位或是好處後，常會反過來變成加害者，幫助男性欺凌其他弱勢的女性，使得性別不平等的現象變得更加嚴重。針對此現象，下列解釋何者較為妥當？(A)此現象說明性別不平等與社會環境

的關係 (B)這是因為性別角色僵化後產生的刻板印象 (C)透過法律制度能夠改善此種不平等的現象 (D)由於利益分配不平均進而加速不平等現象。

43. 關於性騷擾的敘述，下列何者正確？(A)性騷擾只發生在異性之間 (B)同學之間不會發生性騷擾 (C)熊抱或親吻同學可能構成性騷擾 (D)對同學講黃色笑話不算是性騷擾。
44. 在美國有爸爸在網路上貼出在地板跟蹲在廁所幫小孩換尿布的照片，引起共鳴，之後紐約州通過相關法律，要求未來無論男、女廁都要加裝安全、乾淨的尿布台。請問：上述做法是根據何項原則而通過該法律？(A)需求滿足 (B)責任承擔 (C)貢獻肯定 (D)利益分配。
45. 性別平等教育所要發展的核心內涵之一是「性別角色的學習與突破」，下列何者最能達到此目標？(A)家政課程：女生只適合上烹飪課程，男生只適合上木工課程 (B)國文課程：女生朗讀一定要溫柔秀氣，男生朗讀一定要鏗鏘有力 (C)數學老師：只要努力學習，不論男女，數學一定可以一樣好 (D)體育課程：男生跑操場 5 圈，女生跑操場 3 圈。

二、 題組（第 46 題～第 50 題，每題 2 分，共 10 分）

* 生長在離島的小侯，從小就立志要當醫生，因此非常努力用功唸書。長大後，他靠著努力達成理想成為醫生。近年來，他更積極前往離島進行巡迴義診，有鑒於離島交通不變，他更自購船隻，為離島鄉民進行醫療服務，只可惜後來因罹癌離世，為一代仁醫的典範。請依上述回答下列問題：

46. 上述「小侯發揮才能並實現當醫生的理想」，此成果最符合下列何種概念？(A)認識自我 (B)心理發展 (C)展現自我 (D)肯定自我。
47. 小侯自購船隻，為離島居民進行巡迴義診的做法，有助於維護離島民眾那項人性尊嚴的面向？(A)個人享有身為人應有的生存條件 (B)個人擁有自我決定的能力與機會 (C)個人具備價值選擇的自由與權利 (D)個人的生命與身體應該維持完整。
48. 根據上文的敘述，何者正確？(A)離島民眾的人權無法獲得保障 (B)離島因人數眾多而受到不公平待遇 (C)離島與都市民眾的資源分配相同 (D)離島民眾資源分配屬於弱勢。

* 現行世界各國，均有「男性」也可以請「育嬰假」的做法。在瑞典，只要父或在小孩八歲以前的任何時間點皆可申請。而在我國，只要任職滿三個月，小孩於三歲以前亦可申請。請依上文敘述，回答下列問題：

49. 請問：我國的法規中，哪一部法律規定父母可以向公司申請「育嬰假」，在家照顧子女？(A)性別工作平等法 (B)性騷擾防治法 (C)性別平等教育法 (D)民法。
50. 關於「男性」也可以請「育嬰假」的作法，主要是要達到下列何項目的？(A)促進性別平等 (B)利益分配平均 (C)協助社會弱勢 (D)扭轉生理性別。

【～ 試題結束，文光七年級、公民科～】