

澎湖縣立文光國民中學 109 學年度第 1 學期第 2 次成績評量 7 年級國文科試卷

班級： 姓名： 座號： 讀卡 答案卷

一、國字注音(每題 1 分，共 12 分)

1. 旁「出厶」博引： 2. 眼「翳」病： 3. 「舐」憤情深： 4. 「褫」奪公權：
5. 轉「捩」點： 6. 並駕齊「く口」： 7. 風聲鶴「力一へ」：
8. 「彳弓」扶： 9. 「厶又へ 厶又へ」流淚： 10. 「厶又乙へ」然開朗：
11. 杯盤狼「力一へ」： 12. 眾口「尸又乙へ」金：

二、注釋(每題 1 分，共 8 分)

1. 說嘴： 2. 大去： 3. 蹣跚：
4. 賦閒： 5. 神遊：
6. 呀然 7. 「蓋」一癩蛤蟆 8. 輕薄：

三、翻譯題(每題 5 分，共 10 分，請斟酌扣分)

1. 余憶童稚時，能張目對日，明察秋毫。見藐小微物，必細察其紋理，故時有物外之趣。
2. 夏蚊成雷，私擬作群鶴舞空，心之所向，則或千或百，果然鶴也。昂首觀之，項為之強。

四、成語應用(每題 1 分，共 10 分，填入代號)

A. 破釜沉舟 B. 木已成舟 C. 醫石罔效 D. 成人之美 E. 言不及義 F. 狐假虎威
G. 責無旁貸 H. 巧奪天工 I. 近悅遠來 J. 不苟言笑

1. 俗語說：「君子有()，不成人之惡。」結婚這件好事你就答應他們吧。
2. 面臨大學聯考，他展現()的決心，將手機、電腦都收起來，決心好好念書。
3. 安寧病房的病人都是()的情況，我們只能希望他們走得尊嚴。
4. 公共安全是縣政府()的施政重點。
5. 故宮博物院展出的每一件收藏品都是()、獨一無二的。
6. 既然()，你就不要再反對了。
7. 這群人每天聚在一起，講一些沒營養的話，真是()。
8. 他是一個有威嚴的長者，從來就()，讓大家都非常敬畏。
9. 《多拉 A 夢》中的小夫是胖虎的跟班，每次都()欺負大雄。
10. 開設民宿總是希望()，生意才會興旺。

答案欄(請將答案填入，否則不予計分)

1	2	3	4	5	6	7	8	9	10
11	12	13	14	15	16	17	18	19	20
21	22	23	24	25	26	27	28		
29.									

五、 單選題(每題 2 分，共 25 題，50 分。答案填入上方答案欄)

- () 1. 「一般十月懷胎，吃盡辛苦，不論男女，總是骨血，何忍淹棄。為父者你自想，若不收女，你妻從何而來？為母者你自想，若不收女，你身從何而活？且生男未必孝順，生女未必忤逆。」這段文字主要是說明下列何者？
A. 養兒防老乃過時觀念 B. 男輕女乃不智之舉
C. 婦女懷胎十月的辛苦 D. 父母養育子女的辛勞。
- () 2. 古代和現代都有同樣的工作，但是名稱不同。請問下列古今的職稱何者配對有錯？
A. 茶房=服務生 B. 大夫=醫生 C. 伶人=傭人 D. 捕快=警察。
- () 3. 胡適認為母教對他一生影響最深的，下列何者不包括在內？
A. 學得好脾氣 B. 能勤勉向學 C. 能寬恕、體諒他人 D. 學得待人接物的和氣。
- () 4. 有關〈兒時記趣〉文意的說明何者正確？
A. 「見藐小微物，必細察其紋理」，顯見作者個性吹毛求疵
B. 「余年幼，方出神，不覺呀然驚恐」，可看出作者小時候膽小怕事
C. 「昂首觀之，項為之強」可知作者觀看的时间不短
D. 「使之沖煙飛鳴，作青雲白鶴觀」，可見作者觀察入微。
- () 5. 〈兒時記趣〉充分表現出沈復的觀察力與想像力。請問下列何者是想像力？
A. 必細察其紋理 B. 私擬作群鶴舞空 C. 昂首觀之，項為之強 D. 舌一吐而二蟲盡為所吞。
- () 6. 〈兒時記趣〉以什麼為主題貫串全文？
A. 欣賞自然生態 B. 勇於伸張正義 C. 體會物外之趣 D. 觀察昆蟲之美。
- () 7. 〈兒時記趣〉中提到作者「昂首觀之，項為之強」，可見當時作者的狀態是？
A. 戰戰兢兢，神經緊繃 B. 姿勢不良，疲憊不堪
C. 樂在其中，專注忘我 D. 體質虛弱，無法負荷
- () 8. 下列句子何者使用「誇飾」修辭法？
A. 哪個年輕的心不對愛情懷抱憧憬？
B. 一沙一世界，剎那可為永恆
C. 池中的那對天鵝，是水上的芭蕾舞者，動作優雅，引人注目
D. 等他下一步棋，我睡一場覺都來得及。
- () 9. 下列各店名的廣告詞都使用了巧妙的諧音雙關，請問配對正確的是哪一家？
A. 冰冰有禮—飲料店 B. 茶言觀舍—房地產公司
C. 挑衫揀飾—服飾店 D. 紙最今迷—電影院。
- () 10. 下列歇後語的涵義正確的是？
A. 落水狗上岸—六神無主 B. 玉皇大帝請假—抖起來了

- C. 八十歲照鏡子—唱高調 D. 閻王嫁女兒—鬼才要。
- ()11. 請問下列文句共有幾個錯字？
「『女子無才便是德』是搏統社會既定的映象，但教育普極後，女人的才華承現多元發展，對各行各業的貢獻不可輕忽。」 A. 7 字 B. 6 字 C. 5 字 D. 4 字。
- ()12. 下列詞語何者與其他三者不同？
A. 行將就木 B. 一命嗚呼 C. 撒手人寰 D. 駕鶴西歸。
- ()13. 「寫詩就像在幫□□造字，把每個當下拉住，所以回看舊作我感到不後悔，很慶幸把年輕的心情都留下來！」根據文意，句中□□處填入下列何者最恰當？
A. 文學 B. 世界 C. 知音 D. 時間。
- ()14. 〈母親的教誨〉中，下列何者可以看出胡適的母親管教孩子時，會顧及孩子的自尊心？
A. 母親管束我最嚴。她是慈母兼任嚴父 B. 她從來不在別人面前罵我一句，打我一下
C. 我做錯了事，她只對我一望 D. 天剛亮時，我母親便把我喊醒，叫我披衣坐起。
- ()15. 有關〈背影〉一文的敘述，下列何者正確？
A. 詳述攀爬月臺買橘子的過程凸顯父親安全觀念不足 B. 寫作背景是父親工作順利的時候
C. 「背影」是全文焦點，用來象徵父愛 D. 本文以父親的角度表達對兒子的關愛與想念。
- ()16. 請判斷下列詞語前後意思是否相同？
A. 戀人總是希望彼此能常相「左右」不分開。/你不能老是受他人「左右」。
B. 目前國內政局處於「動盪」不安的局勢。/長期的政局不穩，「動盪」著國內的經濟。
C. 你應該學會「料理」自己的生活。/她擅長烹調各式「料理」。
D. 他倆情同「手足」，總是形影不離。/突如其來的惡耗，讓大家「手足」無措。
- ()17. 下列是一段新詩，請依照文意排列出最適當的順序：
早安，陽光！早安，芬多精
甲、無聲的問候：我笑、招手 乙、讓晨風輕輕朗讀整座隱形的山林
丙、每天我準時喚醒圖書館，如揭開封面 丁、照例是穿越書櫃間，聽見作者與精靈們
細細揮除落塵如親吻一位位老友。
A. 甲丁乙丙 B. 甲丙乙丁 C. 丙乙丁甲 D. 丙丁甲乙。
- ()18. 「小草□□地從土裡鑽出來，嫩嫩的，綠綠的。園子裡，田野里，瞧去，一大片一大片滿是的。坐着，躺着，打兩個滾，踢幾腳球，賽幾趟跑，捉幾回迷藏。風輕□□的，草軟□□的。」依順序空格中適合填入？
A. 快快/慢慢/輕輕 B. 偷偷/悄悄/綿綿 C. 偷偷/爽爽/綠綠 D. 悄悄/冰冰/黏黏。
- ()19. 以具體意象作為媒介，間接加以陳述抽象的觀念、情感或事物的表達方式，就叫做「象徵」。請問下列「」中象徵意義說明錯誤的是？
A. 我最不能忘記的是他的「背影」/象徵父愛
B. 「梅花」梅花滿天下，越冷它越開花/象徵堅貞的愛情
C. 度過漫漫長夜，「黎明」就在眼前/象徵希望、成功
D. 「鳳凰花」開，學子生涯終有時/象徵畢業
- ()20. 下列哪一組詞語的意思關係，與其他三組不同？
A. 說嘴/說大話 B. 跌股/出洋相 C. 輕薄/笑面虎 D. 博學/活字典。
- ()21. 下列關於歇後語利用諧音雙關產生的聯想，何者錯誤？
A. 和尚打傘：無法無天 B. 廁所裡撐竿跳：照舊
C. 棉花店失火：免談 D. 賣布不帶尺：存心不良。
- ()22. 朱自清回想往事說：「唉！我現在想想，那時真是太聰明了！」由這段話可以看出他的心情為何？
A. 自信滿滿 B. 後悔自責 C. 低落消沉 D. 擔心焦急。
- ()23. 想要在網路上搜尋「顏淵」的相關事蹟，下列關鍵字何者無法查到？

A. 孔門弟子 B. 不貳過 C. 周遊列國 D. 杜陵野老。

()24. 圖書館中有許多書，下列那一本是工具書？

A. 哈利波特全集 B. 未來少年雜誌 C. 聯合文學季刊 D. 大英百科全書。

()25. 「回憶當年我養兒，我兒今又養孫兒，我兒餓我由他餓，莫教孫兒餓我兒。」詩中第四句的主旨在表達什麼？

A. 子女有奉養父母的責任 B. 父母對子女無悔的關愛
C. 任何好行為皆從孝順來 D. 父母有教養子女的責任。

六、閱讀題組(每題2分，第29題4分，共10分，答案填入第2頁答案欄)

透過石虎斑紋的辨識，有助於調查石虎分佈範圍與族群量。每隻石虎兩側斑紋不同，因而須在獸徑兩邊都架設自動相機，但這些設備對經費拮据的研究人員而言，幾乎是不可能的任務。除了自動相機，利用毛髮陷阱並結合分子生物技術也可以辨識不同個體。但毛髮陷阱這類被動式的等待，往往效率不彰，因此近年有人嘗試透過偵測犬主動出擊，搜索貓科動物的排遺，再利用分子生物技術辨識排遺屬於哪一物種，甚至哪隻個體。這些非侵入式調查法，皆能提供保育所需的資訊，但也各有其限制。若能對動物進行定位追蹤，則可獲得活動範圍、移動模式、繁殖處所等更全面的資訊。雲豹在臺灣已難再現，而石虎正在苦苦掙扎，只要我們繼續努力，石虎就有希望。(改寫自姜博仁〈重返山林〉)

()26. 依據上文，何者是調查石虎數量宜先克服的問題？

A. 研究設備老舊 B. 研究經費有限 C. 研究人員缺乏 D. 研究步驟混亂。

()27. 關於石虎保育研究的敘述，何者符合上文的看法？

A. 單憑毛髮陷阱無法獲悉石虎個體差異 B. 偵測犬的追蹤力能精確掌握石虎動態
C. 透過排遺能直接判斷石虎的繁殖處所 D. 非侵入式調查能取代定位追蹤的功能。

長頸鹿的睡眠時間是所有哺乳動物中最短，一天睡眠總時間低於兩小時，進入深度睡眠狀態只有幾分鐘。牠們通常站著打瞌睡，長長的脖子往下垂或掛在樹梢，就是牠們最奢侈的休息。因為當睡夢階段醒來、在地上站起來，長頸鹿要花一分鐘，這很危險，嚴重地減低牠的逃生能力。所以，當長頸鹿真想趴著睡時，它的三條腿彎曲在肚子下，留另一條後腿伸展在一邊，長脖子呈弓形彎向後腿。這種奇特的睡姿既能縮小目標，又可在緊急情況下一躍而起。不只如此，長頸鹿還能睜著眼睛睡覺。

要在非洲活下來，目前數量超過十萬隻的長頸鹿，已練就了多項本事。

相較之下，獅子每天能睡十五至二十個小時，三分之二的時間都在睡覺，沒人能拿牠如何。這就是叢林法則。如果你無法成為叢林之王，就要是永不鬆懈的長頸鹿。很嚴酷，你只有三分鐘睡眠，完全沒有貪睡的權利，貪睡的下場，就是出局。在大自然，不只長頸鹿，草食性動物的平均睡眠時間都是比肉食性動物短。
(自學選文二 貪睡的長頸鹿)

()28. 「當長頸鹿真想趴著睡時，它的三條腿彎曲在肚子下，留另一條後腿伸展在一邊，長脖子呈弓形彎向後腿。這種奇特的睡姿既能縮小目標，又可在緊急情況下一躍而起。不只如此，長頸鹿還能睜著眼睛睡覺」，其意與下列何者最為相關？

A. 為維持體態必須如此 B. 是肉食性動物的物種特性
C. 表現出特有的憂患意識 D. 需要藉此消耗充沛的活力。

29. 長頸鹿和獅子可以用來譬喻職場上擔任什麼任務的人？他們要如何才能勝任自己的工作？請分別寫出。(本題4分)

【試題結束—文光 7 年級國文】

澎湖縣立文光國中 109 學年度第一學期第二次定期評量七年級英語科試題答案卷

Class : Number : Name :

一、聽力測驗：10% (每題 2 分)

1.	2.	3.	4.	5.
----	----	----	----	----

二、文意字彙：20% (每題 2 分)

1.	2.	3.	4.	5.
6.	7.	8.	9.	10.

三、填充：10% (每題 1 分)

1.	2.	3.	4.	5.
6.	7.	8.	9.	10.

四、文法測驗：20% (每題 2 分)

1.	2.	3.	4.	5.
6.	7.	8.	9.	10.

五、克漏字測驗：10% (每題 2 分)

1.	2.	3.	4.	5.
----	----	----	----	----

六、閱讀測驗：12% (每題 2 分)

1.	2.	3.	4.	5.	6.
----	----	----	----	----	----

七、依提示完成句子：18% (1~3 題每題 2 分, 4~7 題每題 3 分)

1.
2.
3.
4.
5.
6.
7.

澎湖縣立文光國中 109 學年度第一學期第二次定期評量七年級英語科試題

Class : _____ Number : _____ Name : _____

一、聽力測驗：聽 CD 中的題組，選出正確的答案 10% (每題 2 分)

- () 1. (A) It's in the bedroom.
(B) It's next to the bathroom.
(C) It's in the living room.
- () 2. (A) It's big.
(B) It's old.
(C) It's small.
- () 3. (A) The sofa is near the door.
(B) The sofa is small and hard.
(C) The sofa is the woman's bed, too.
- () 4. (A) It is some people's home.
(B) It is the woman's favorite playground.
(C) There are different small animals in the castle.
- () 5. (A) A gate.
(B) A pond.
(C) A playground.

二、文意字彙：20% (每題 2 分)

- ___ 1. My twin (雙胞胎) sister and I are d____t. I am tall, but (但是) she isn't.
- ___ 2. We're going to Australia for a trip (旅行). My w____e family is happy.
- ___ 3. The s____n of the cellphone is big. I often (常常) watch videos (影片) on it.
- ___ 4. A: The c____e is big. B: Yeah, King (國王) Louis built (建造) it.
- ___ 5. "Let It Be" is my f____e song (歌曲). I love (喜愛) it a lot.
- ___ 6. The article (報導) in the n____r is wrong. The man is not the murderer (兇手).
- ___ 7. Peter is a s____l song writer (作曲家). His songs are one of a kind (獨一無二的).
- ___ 8. Sharon's house is big. She is looking for (找) a r____e to share (分享) the house.
- ___ 9. The m____ns are really high. They're not just hills (丘陵).
- ___ 10. I'm cold. I need (需要) a b____t.


三、填充：10% (每題 1 分)

A. 將 any 或 some 填入適當空格

1. There are ___ people in the house. Who are they?
2. A: Are there ___ students in the gym?
B: Yes, there are a lot of students there.
3. There aren't ___ animals in the picture.
4. There is a lot of fruit (水果) on the table. Would you like to eat ___?
5. There are not ___ mice and cats in the kitchen.

B. 看圖填入正確的介系詞（一格只限一字）

6. Ying is standing ____ Ann and Lara.
 7. The ball is ____ the table.
 8. Peter's keys are ____ the table, not under it.
 9. The dog is ____ the box.
 10. Sue is ____ Tim.



四、文法測驗：20%（每題 2 分）

- () 1. A : _____ the mice? B : Behind the chair.
 (A) What are (B) What is (C) Where are (D) Where is
- () 2. A : _____ any trash (垃圾) in the kitchen?
 B : No. I clean (清潔) it every day (每天).
 (A) Are there (B) Is there (C) Is it (D) Are they
- () 3. It's very dark (昏暗的). There _____ any people at the park now.
 (A) isn't (B) is (C) aren't (D) are
- () 4. A : _____ there _____ fish in the pond? B : Yes, there are sixty fish in it.
 (A) Is; two (B) Are; sixteen (C) Is; a lot of (D) Are; any
- () 5. 選出正確的句子。
 (A) There is a lot of snack (零食) in that store (商店).
 (B) There are lots of snacks in that store.
 (C) It is a lot of snacks in that store.
 (D) The store have lot of snacks.
- () 6. A : Is your cousin on the bus, too? B : Yes, he's _____ the bus.
 (A) in front of (B) on the front (C) in the front of (D) on the front of
- () 7. Terry's ruler is under Peter's jacket (外套). And Bob's book is under Terry's ruler. Bob's book is _____ Peter's jacket.
 (A) under (B) on (C) next to (D) between
- () 8. A : My sister is not in her room. She's _____.
 B : What is she doing there?
 A : She's washing the dog.
 (A) in my room
 (B) in the bathroom
 (C) in the living room
 (D) cooking in the kitchen
- () 9. A : Where _____ the sheep?
 B : Look! The black dog is chasing (追趕) it.
 (A) be (B) is (C) am (D) are
- () 10. A : Is there a koala in the tree? B : Yes, _____ is. _____ is cute.
 (A) there; It (B) there; There (C) it; There (D) it; It

五、克漏字測驗：10%（每題 2 分）

【第 2 頁結束 尚有試題】

Mom : What are you doing?

Liam : Mom, I can't find Jerry. Where 1. it?

Mom : Your pet mouse, Jerry? I don't know. 2.

Liam : No, I checked there, and Jerry is not there.

Mom : Is it in the 3.? Maybe Jerry is hungry.


Liam : No.

Mom : Is it on the 4.?

Liam : No. It is not. I can't find Jerry anywhere.

Mom : Oh! I stepped on something warm and soft.

Liam : That's Jerry! It's 5. your foot!

 find 找到 checked 檢查 (check 的過去式) maybe 也許 hungry 飢餓
anywhere 到處；任何地方 stepped 踩 (step 的過去式) something 某事物

() 1. (A) are (B) is (C) be (D) am

() 2. (A) Isn't it behind the sofa?
(B) Isn't it next to the library?
(C) Isn't it near the basketball court?
(D) Isn't it in the newspaper?

() 3. (A) bathroom (B) classroom (C) bedroom (D) dining room

() 4. (A) magic (B) pond (C) stairs (D) lake


() 5. (A) next to (B) between (C) under (D) in front of

六、閱讀測驗：12% (每題 2 分)

A

Follow the hints and find out the answers.

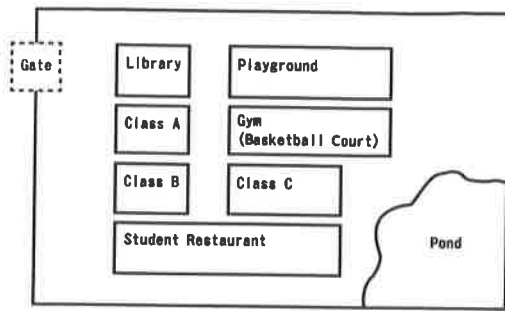
1. The hat is in the blue box.
2. The blue box is in back of the ball.
The robot is between **them**.
3. The dog is under the table.
4. The schoolbag is beside the green box.
The cage is in the green box.
5. The cup is in back of the orange box.
6. The orange box is under the table, too.

 hint 線索 answer 答案 cage 籠子

- () 1. What are "**them**"?
(A) The ball and the cage. (B) The blue box and the ball.
(C) The robot and the hat. (D) The green box and the orange box.
- () 2. Where is the schoolbag?
(A) In back of the orange box. (B) In front of the robot.
(C) Beside the green box. (D) Between the box and the ball.
- () 3. Which is **TRUE**?
(A) The ball is in the blue box.
(B) The cage is in back of the blue box.
(C) There isn't any box under the table.
(D) There is a cage in the green box.

B.

The Map of St. Paul Junior High School



map 地圖 restaurant 餐廳

- () 4. There are ten students in every class. How many students are there in St. Paul Junior High School?
(A) 5. (B) 10. (C) 15. (D) 30.
- () 5. Sally is a new student in Class C. Where is her classroom?
(A) Next to the gym.
(B) Next to the library.
(C) In the front of the student restaurant.
(D) Between the gate and the library.
- () 6. What is right?
(A) There aren't any basketball courts in St. Paul Junior High School.
(B) The gym is next to the pond.
(C) There are four classes in St. Paul Junior High School.
(D) Class A is next to Class B.

七、依提示完成句子：18% (1~3 題每題 2 分,4~7 題每題 3 分)

1. { There are a lot of apple trees. (合併句子並改成否定句)
The trees are in the park.

2. Are the pens in front of the TV? (否定簡答，再以「我的手機和娃娃之間」回答)

3. Your ruler is on the desk. (依畫線部分造原問句)

4. 那個大箱子裡有 20 本故事書嗎?

5. 在這間魔法學校的學生來自世界各地。

6. 在螢幕上照片裡的女子是誰?

7. 那些人在這裡是為了這間特別的圖書館。

班級： 姓名： 座號： 讀卡 V 答案卷

一、選擇題 (每題 4 分，共 40 分)

- () 1. 下列敘述何者正確?
 (A) 1 是質數 (B) 質數一定奇數
 (C) 2 是質數 (D) 偶數一定是合數
- () 2. 已知世運會、亞運會、奧運會分別於西元 2005 年、2006 年、2008 年舉辦。若這三項運動會均每四年舉辦一次，則這三項運動會均不在下列哪一年舉辦?
 (A) 西元 2066 年 (B) 西元 2067 年
 (C) 西元 2068 年 (D) 西元 2069 年
- () 3. 1~100 的整數中，與 2 或 5 互質的整數共有多少個?
 (A) 33 (B) 40 (C) 60 (D) 67
- () 4. $(48, 60, 72) + [48, 60, 72] = ?$
 (A) 722 (B) 732
 (C) 742 (D) 752
- () 5. 品辰用短除法求最大公因數的過程如附圖所示，則下列敘述何者錯誤?

$$\begin{array}{r|l} 3 & a \quad b \\ \hline c & 15 \quad 20 \\ & d \quad e \end{array}$$

 (A) a 為 5 的倍數 (B) d 與 e 互質
 (C) $(a, b) = 12$ (D) $[a, b] = 180$
- () 6. 澤言、竑鈞去童軍露營時，參加尋寶遊戲。澤言拿到的提示是：「以隊旗為中心，先向東走 0.6 公里取得寶箱鑰匙，再向西走 2.5 公里取得寶箱。」竑鈞拿到的提示是：「以隊旗為中心，先向西走 2.5 公里取得寶箱鑰匙，再向東走 0.6 公里取得寶箱。」請問下列何者正確?
 (A) 取得鑰匙的位置相同
 (B) 取得寶箱的位置相同
 (C) 取得寶箱的位置不同
 (D) 澤言取得鑰匙的位置較竑鈞取得鑰匙的距離遠
- () 7. $\frac{3}{5}$ 的分母加上 30 後，則分子應加多少，其值才不會變?
 (A) 24 (B) 18 (C) 21 (D) 15

- () 8. $(-2\frac{1}{4})$ 的倒數與 $(-\frac{4}{9})$ 的相反數之和為何?
 (A) $-\frac{8}{9}$ (B) 0 (C) $-\frac{18}{4}$ (D) -1
- () 9. 下列哪一個算式的值最小?
 (A) $(-3) \div (-\frac{5}{6})$ (B) $(-\frac{3}{4}) \times \frac{8}{5}$
 (C) $(-\frac{2}{7}) \div 3$ (D) $(-\frac{6}{5}) \times (-18)$
- () 10. $1\frac{2}{7}$ 的相反數為 a，倒數為 b，則 $axb = ?$
 (A) $-\frac{9}{7}$ (B) $-\frac{7}{9}$ (C) 1 (D) -1

二、填充題 (共 40 分)

1. 「最小的質數」與「最小的合數」的和為_____。(每格 4 分)
2. 炭治郎、善逸、伊之助三個人各自出任務分別每 20 天、30 天、12 天回家一次。若他們三人同時在 3 月 29 日回家相聚，則：
 (每格 2 分)
 (1) 最快要_____天之後，他們三人才會再次同時回家。
 (2) 承(1)，他們三人同時回家的日期是 5 月_____日。
3. 附圖是亞設利用短除法求最大公因數與最小公倍數的過程。根據此過程，可求得：(每格 2 分)
 (1) $(54, 60, 90) = \underline{\hspace{2cm}}$ 。
 (2) $[54, 60, 90] = \underline{\hspace{2cm}}$ 。

$$\begin{array}{r|l} 3 & 54 \quad 60 \quad 90 \\ \hline 2 & 18 \quad 20 \quad 30 \\ \hline 5 & 9 \quad 10 \quad 15 \\ \hline 3 & 9 \quad 2 \quad 3 \\ & 3 \quad 2 \quad 1 \end{array}$$
4. 舒媿用短除法求 a、b 的最大公因數，計算過程如附圖，則 $a+b-c-d = \underline{\hspace{2cm}}$ 。(每格 4 分)

$$\begin{array}{r|l} 7 & a \quad b \\ \hline 3 & 21 \quad c \\ & d \quad 5 \end{array}$$

背面尚有試題

5. 已知甲 = $\frac{19}{13}$ ，乙 = $\frac{23}{17}$ ，丙 = $\frac{25}{19}$ ，則甲、乙、丙的大小關係為_____。(每格 4 分)

6. 數線上 $G(-1\frac{3}{4})$ 、 $H(-5\frac{5}{12})$ 兩點之間的距離為_____。(每格 4 分)

7. 計算下列各式(化成最簡分數)：(每格 4 分)

(1) $\frac{4}{7} + \frac{3}{7} \div \frac{3}{4} \times (-\frac{1}{3})^2 =$ _____。

(2) $1\frac{9}{10} - [(-\frac{1}{10}) + \frac{8}{9}] =$ _____。

8. 家銘有存款 3600 元，買運動用品花了全部的 $\frac{1}{5}$ ，剩餘的 $\frac{1}{8}$ 買文具，其餘的存進存錢筒，則家銘存進存錢筒_____元。(每格 4 分)

9. 奕佳已知一正方形的邊長為 32 公分，如果其面積是 2^m 平方公分，則 $m =$ _____。(每格 4 分)

三、計算題 (每題 5 分，共 20 分，需有計算過程)

1. 如果七位數 $432\square905$ 是 11 的倍數，那麼 \square 內可以填入哪些數字？

2. 均唯是個大好人，身上的現金超過 300 元。有一天遇到一堆乞丐，如果把身上所有的錢平均分給 7 個人，會剩下 3 元；平均分給 8 個人，也剩 3 元；平均分給 12 個人，還是剩 3 元，則均唯最少有多少元？

3. 如附圖，翊婷利用自己的生日設計一個四位數的密碼，他分別將月分與日期寫成兩個質數的和，再將此四個質數相乘，所得數字即為密碼。若吟蓁的密碼為 2618，則吟蓁的生日是幾月幾日？



$3+5 \quad 11+13$

$3 \times 5 \times 11 \times 13 = 2145$

4. 在某次考試，國文及格的同學占全班的 $\frac{2}{3}$ ，數學及格的同學占全班的 $\frac{3}{4}$ ，兩科都及格的占全班一半。若全班 24 人，則有多少人是兩科皆不及格的？

試題結束

祝各位考試順利~

澎湖縣立文光國中 109 學年度第一學期第二次段考 生物科 考試卷

七年 ___ 班 座號：___ 姓名：_____ 讀卡

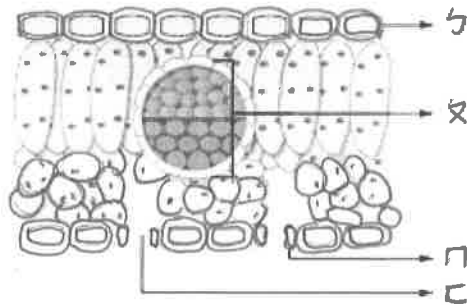
答案請填在答案卡上

- 構成植物細胞壁的主要成分，屬於何種養分類型？
(A) 醣類 (B) 水 (C) 維生素 (D) 脂質
- 附表為四種人工食品的內容物及總質量。若取此四種人工食品，何種食品所提供的熱量最多？

人工食品	內容物	總質量
甲	蔗糖 2.5 公克 + 維生素 2.5 公克	5 公克
乙	蔗糖 4 公克 + 礦物質 1 公克	5 公克
丙	維生素 4 公克 + 礦物質 1 公克	5 公克
丁	維生素 1 公克 + 蔗糖 7 公克 + 礦物質 2 公克	10 公克

(A) 甲 (B) 乙 (C) 丙 (D) 丁

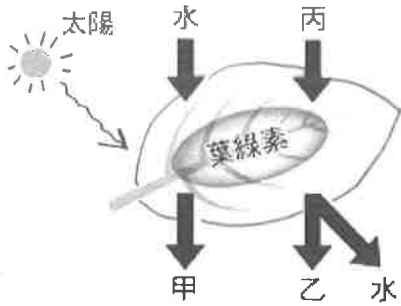
- 將同種食物分別放在冰箱內、外存放，發現冰箱外的食物腐敗較快，可能為下列何項原因所致？
(A) 低溫能讓食物永久保鮮 (B) 低溫讓食物產生酸性物質而防腐 (C) 低溫將所有微生物殺死 (D) 低溫不利微生物的代謝作用
- 「吃酵素能夠補充人體細胞產生的酵素」，依據酵素的原理知識，這種說法是否適當？
(A) 適當，我們所吃的酵素能直接進入人體的細胞 (B) 適當，我們所吃的酵素在人體內的活性最高 (C) 不適當，我們所吃的酵素無法在人體內發揮作用 (D) 不適當，我們所吃的酵素會被我們消化道中的酵素分解
- 附圖為某植物葉片構造示意圖。圖中何種構造能協助提供光合作用所需的水分？



- (A) ㄅ (B) ㄆ (C) ㄇ (D) ㄏ
- 上圖中何者能分泌角質層，以避免水分過度散失？
(A) ㄅ (B) ㄆ (C) ㄇ (D) ㄏ
- 光合作用產生的氧氣從第 5 題的圖中，何處離開植物？
(A) ㄅ (B) ㄆ (C) ㄇ (D) ㄏ
- 光合作用活動中先以鋁箔遮住葉片幾天之目的為何？
(A) 加速澱粉合成 (B) 阻隔光線，使原有的澱粉分解 (C) 軟化葉片 (D) 破壞葉綠素
- 下列何種器官屬於消化道，但不具有消化腺？
(A) 食道 (B) 胃 (C) 膽囊 (D) 胰臟
- 小慧表示：「當胃液和食物一起進入小腸之後，胃液中的酵素就會逐漸失去活性。」關於小慧的這段話，是否合理？
(A) 合理，因為小腸和胃的溫度大到相差 20 度 (B) 合理，胃液中的酵素在鹼性環境活性較低 (C) 不合理，小腸能產生鹽酸，有助於胃液中的酵素分解養分 (D) 不合理，所有酵素在小腸內具有較佳的活性
- 植物蒸散作用是植物吸收水分最重要的動力來源，有關蒸散作用，下列何者錯誤？
(A) 韌皮部負責蒸散作用的進行 (B) 蒸散作用有助於根部對水分的吸收 (C) 摘除植物葉片會減緩蒸散作用 (D) 蒸散作用時，水分移動的方向是由下往上運輸
- 下列何者選項能獲得最多能量？(A) 100 克地瓜葉 (B) 100 克地瓜 (C) 100 克馬鈴薯 (D) 100 克花生

【第一頁結束，背面尚有試題】

■ 附圖為植物產生養分的作用示意圖，請回答第 13~15 題：

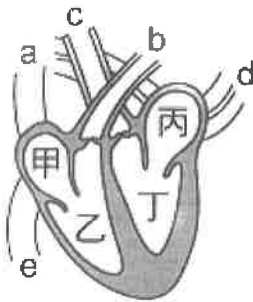


13. 此作用較可能發生於何種細胞？ (A)洋蔥表皮細胞 (B)紫背草的葉下表皮細胞
(C)蘆薈的保衛細胞 (D)榕樹葉中的輸導細胞
14. 關於甲、乙、丙三種物質的描述，下列何項正確？ (A)甲無法直接通過細胞膜 (B)本氏液和丙混合後加熱會變色 (C)乙被分解可產生能量 (D)葉綠體在此作用過程的功能是產生能量
15. 若是水中植物大量進行此作用，則下列何種現象較可能發生？(A)水中的澱粉濃度增加 (B)水中的環境逐漸轉變成酸性 (C)水中的葡萄糖濃度降低 (D)水中的含氧量增加
16. 阿德到醫院進行血液檢查，護士採血並放入適當藥物使血液不會凝固，也不會改變血液原始狀態。之後將血液進行分層後，發現液體會分成兩層，上層即血漿部分，收集上層的液體後最不容易發現下列何者？ (A)水 (B)激素 (C)葡萄糖 (D)血小板
17. 原木地板上有深淺不同的條紋，加上木頭的顏色，總是給人溫暖的感覺。取一原木地板上的紋路如附圖，圖中甲和乙各屬於植物體的哪一構造？



- (A)甲為木質部、乙為韌皮部 (B)甲、乙皆為木質部
(C)甲為韌皮部、乙為木質部 (D)甲、乙皆為韌皮部

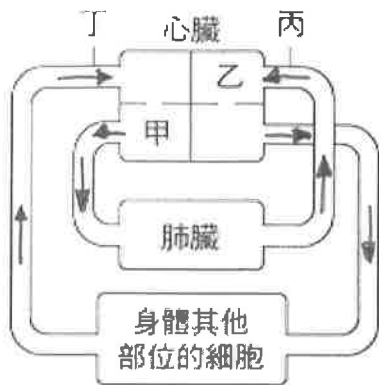
18. 血液藉由心臟和血管流經全身，下列何者不是血液的功能？
(A)運送二氧化碳 (B)運送葡萄糖 (C)分解養分 (D)防禦病菌感染
19. 心臟在人體內擔任著血液流動的原動力來源，共分成四個腔室，分別和血管相連。請問附圖中，哪些血管或腔室內為充氧血？ (A)c、d (B)a、b (C)甲、乙 (D)乙、丁



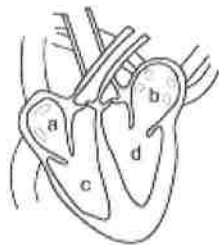
20. 請問上題附圖中，哪兩個構造之間具有防止血液逆流的瓣膜？
(A)丙、丁之間 (B)甲、e 之間 (C)甲、a 之間 (D)d、丙之間
21. 血液在經過不同的器官前後，其內的氧氣含量會有變化，有的是充氧血變成缺氧血，有的是缺氧血變成充氧血。請判斷人體哪一條動脈中的血液屬於缺氧血？
(A)腎動脈 (B)肝動脈 (C)肺動脈 (D)胃動脈
22. 下列有關動脈、靜脈和微血管的比較，何者正確？ (A)靜脈血的氧濃度皆較低 (B)動脈血皆流離心臟，靜脈血皆流向心臟 (C)微血管的血液流速最快 (D)靜脈可收縮產生脈搏
23. 人體除了血液循環系統外，尚有淋巴循環系統。下列何者不是人類淋巴系統的主要功能？
(A)回收組織液 (B)運輸養分 (C)運輸葡萄糖 (D)過濾病原體
24. 淋巴球的功能與何者相似？ (A)紅血球 (B)白血球 (C)血小板 (D)血漿
25. 按壓手腕會感覺血管有搏動現象，是來自何處搏動？(A)動脈(B)靜脈(C)微血管(D)淋巴管

【第二頁結束，背面尚有試題】

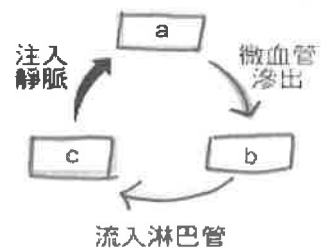
26. 附圖為人體心臟、肺臟和其他細胞之間血液循環的示意圖，箭頭代表血液流動的方向，甲、乙、丙及丁分別代表不同的血管。根據附圖的血液流動方向，分別比較甲和乙、丙和丁中的血液二氧化碳濃度，下列何者最合理？



- (A) 甲 < 乙, 丙 < 丁 (B) 甲 < 乙, 丙 > 丁 (C) 甲 > 乙, 丙 < 丁 (D) 甲 > 乙, 丙 > 丁
27. 翔真將一棵生長旺盛的植物充分澆水後，用塑膠袋套起來，一段時間後，發現塑膠袋內壁上有很多水珠，試問這些水從何而來？ (A) 植物行光合作用，水蒸氣由表皮排出 (B) 植物行蒸散作用，水蒸氣由氣孔排出 (C) 植物行擴散作用，水蒸氣由表皮排出 (D) 植物行呼吸作用，水蒸氣由葉子邊緣排出
28. 梨子果肉所含的養分從何而來？ (A) 根毛吸收土裡的礦物質，經維管束運輸儲存於果肉 (B) 果實行光合作用儲存於果肉 (C) 葉子行光合作用，再經韌皮部運送至果肉 (D) 去年儲存於根的養分送至果肉儲存
29. (甲)水(乙)二氧化碳(丙)氧氣 若將固體油脂塗抹葉背將造成上述哪些氣體無法進出？ (A) 甲 (B) 甲乙 (C) 甲丙 (D) 甲乙丙
30. 花卉時常浸於水中操作，是避免氣泡進入維管束，若不慎進入將會如何？ (A) 若氣泡進入韌皮部，無法進行光合作用 (B) 若氣泡進入木質部，影響蒸散作用 (C) 氣泡可由氣孔排出，不影響植物生存 (D) 氣泡中的二氧化碳被當作光合作用的原料
31. 人類血球的敘述，下列何者有誤？ (A) 紅血球具細胞核，可運送氧氣 (B) 有些白血球可離開血管進入組織間隙 (C) 血小板無細胞核，能促進血液凝固 (D) 白血球可抵禦病原體，為血液中數量最少的血球
32. 曉華因頭痛吃了一顆止痛藥。請問藥物由小腸吸收後，會經過哪些構造才到腦部？ (A) 小腸→心→肺→心→腦 (B) 小腸→肺→心→腦 (C) 小腸→肝→肺→腦 (D) 小腸→心→肝→心→腦
33. 下圖中哪兩處血液含氧量較高？ (A) ab (B) ac (C) bd (D) cd



34. 右圖為淋巴循環關係圖，a、b、c 為淋巴、組織液、血漿其中一者，試問 a、b、c 的敘述何者正確？ (A) a 中富含紅血球 (B) b 中富含血小板 (C) c 中富含淋巴球 (D) a 中富含白血球

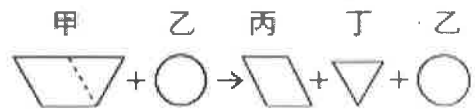


35. (甲)米飯磨泥；(乙)加入本氏液；(丙)加入碘液；(丁)隔水加熱；(戊)呈藍黑色；(己)呈紅色；(庚)呈淺藍色；(辛)呈黃褐色。若欲測定米飯中是否含有澱粉，應如何進行實驗？ (A) 甲乙己 (B) 甲丙辛 (C) 甲乙丁戊 (D) 甲丙戊

【第三頁結束，背面尚有試題】

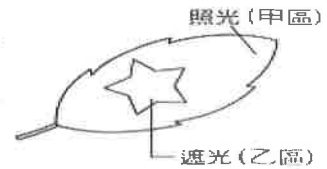
36. 右列為一反應的圖式，下列敘述何者正確？

- (A) 此為合成作用 (B) 可使用乙將丙丁組合成甲
(C) 甲為受質 (D) 反應後乙不可再利用



37. 右圖中，若實驗假設「光合作用需要光」則何者為對照組？

- 以碘液測試反應顏色為何？ (A) 甲區，黃褐色
(B) 甲區，藍黑色 (C) 乙區，黃褐色 (D) 乙區，藍黑色



右圖有一人體構造圖，請回答 38-41 題：

38. 乳化脂質的場所位在右圖中的何處？

- (A) 甲 (B) 丁 (C) 丙 (D) 庚

39. 哪些腺體與消化醣類有關？

- (A) 甲乙 (B) 丙丁 (C) 甲庚 (D) 戊辛

40. 人體攝入的水分，大多於何處被吸收？

- (A) 甲 (B) 己 (C) 庚 (D) 戊

41. 具有吸收水分，並將未消化的食物殘渣及腸道中的細菌形成糞便的地方為何？

- (A) 己 (B) 丙 (C) 戊 (D) 辛



42. 各消化腺分泌的酵素作用場所配對，何者有誤？

- (A) 唾腺—口腔 (B) 胃腺—胃 (C) 腸腺—小腸 (D) 胰臟—胰臟

43. 有時可能於脖子觸摸到腫脹的顆粒，一般來說可解釋為何者較為常見？

- (A) 淋巴結腫大 (B) 腫瘤產生 (C) 長青春痘 (D) 寄生蟲寄生

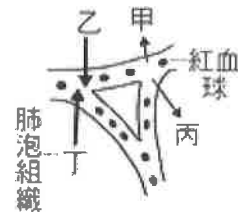
44. (甲) 皮膚；(乙) 黏膜；(丙) 血液中的白血球；(丁) 淋巴球，以上參與身體防禦的有幾種？

- (A) 1 (B) 2 (C) 3 (D) 4

45. 激素在人體內運送，主要是由何者運送？ (A) 紅血球 (B) 白血球 (C) 血小板 (D) 血漿

46. 右圖此為肺泡氣體交換示意圖，甲乙丙丁各自代表何種物質？

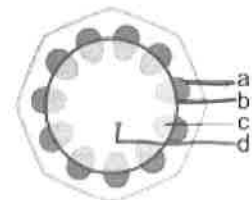
- (A) 甲為二氧化碳 (B) 乙為含氮廢物
(C) 丙為氧氣 (D) 丁為氮氣



47. 維管束呈散生排列的植物，莖無法加粗的主要原因是因為缺乏何種構造？

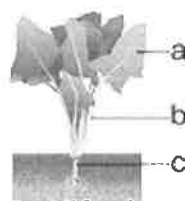
- (A) 木質部 (B) 形成層 (C) 韌皮部 (D) 木材

48. 右為向日葵維管束分布在莖的橫切面圖示，運輸礦物質的構造為？ (A) a (B) b (C) c (D) d



49. 右圖中，哪些部位能找得到維管束的構造？

- (A) a (B) ab (C) abc (D) 以上皆非



50. 小腸絨毛主要功能為何？

- (A) 增加吸收表面積 (B) 增加摩擦力 (C) 蠕動推進食物 (D) 使無法消化的食物殘渣形成大便

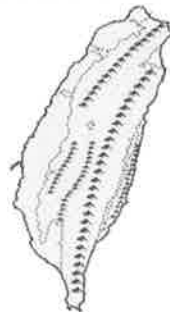
【試題結束】

澎湖縣立文光國民中學 109 學年度第 1 學期 第 2 次成績評量 七年級地理科試卷

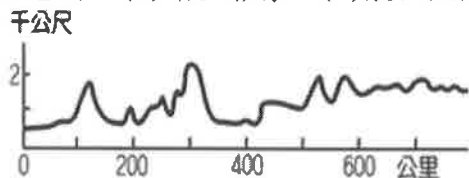
班級：_____ 姓名：_____ 座號：_____ ■ 讀卡 □ 答案卷

一、單一選擇題(十八題，每題 2 分，共 36 分)

- () 臺灣島有許多高山，此現象主要是因為下列哪些板塊互相擠壓所造成？(甲)歐亞板塊 (乙)菲律賓海板塊 (丙)非洲板塊 (丁)澳洲板塊 (A)甲乙 (B)甲丁 (C)乙丙 (D)丙丁。
- () 臺灣主要河川呈現東西分流，與下列哪一因素最相關？(A)主要山脈呈南北走向 (B)平原多分布於西部 (C)北部有火山地形 (D)人口集中西部地區。
- () 參考右圖，臺灣五大山脈幾乎是南北走向，據了解是因為板塊推擠，產生褶皺而造成。由臺灣山脈的走向來推測，菲律賓海板塊是以下列哪種方向朝臺灣推擠？(A)↙ (B)↘ (C)↑ (D)↗。
- () 臺灣時常有地震發生，此種現象在東部區域非常明顯。請問：臺灣時常有地震發生，與下列哪項地理因素最有關係？(A)人為過度開發坡地 (B)河流侵蝕作用旺盛 (C)位居板塊接觸地帶 (D)颱風產生次數頻繁。



- () 縱貫臺灣島的脊梁為下列哪座山脈？(A)中央山脈 (B)海岸山脈 (C)玉山山脈 (D)阿里山山脈。
- () 臺灣最高峰位於下列哪座山脈之中？(A)阿里山山脈 (B)中央山脈 (C)玉山山脈 (D)雪山山脈。
- () 下圖是地理老師要阿國繪製的地圖作業。請問：這項作業屬於何種的地形表示方式？(A)分層設色圖 (B)衛星影像 (C)航空照片 (D)地形剖面圖。



- () 由臺灣的領海基線向外延伸多長的範圍內，臺灣能在此海域具有探勘、開發、管理等權利？(A)100 公里 (B)200 公里 (C)12 浬 (D)200 浬
- () 關於澎湖群島的特色敘述，何者錯誤？(A)雙心石滬為重要的文化景觀 (B)柱狀玄武岩是海底火山熔岩堆積而成 (C)拼板舟與飛魚季為當地特色 (D)島嶼類型屬於火山島。
- () 附圖為臺灣某個離島與各國之間的距離示意圖，因位置關係，此離島有國際主權爭議及常發生經濟海域重疊的問題，請問主要是下列哪一個離島的爭議？(A)金門列嶼 (B)太平島 (C)釣魚臺列嶼 (D)澎湖群島。
- () 「我們現在所在的小島原本是一個小丘陵，因為海平面上升使得我們跟陸地看起來分隔開了。」請問：上文所敘述的島嶼最可能是下列何者？(A)馬祖列嶼 (B)龜山島 (C)澎湖 (D)琉球嶼。
- () 下列何者對臺灣東部海岸的描述錯誤？(A)主要為岩岸 (B)東臨太平洋 (C)海岸線陡直 (D)多天然良港。

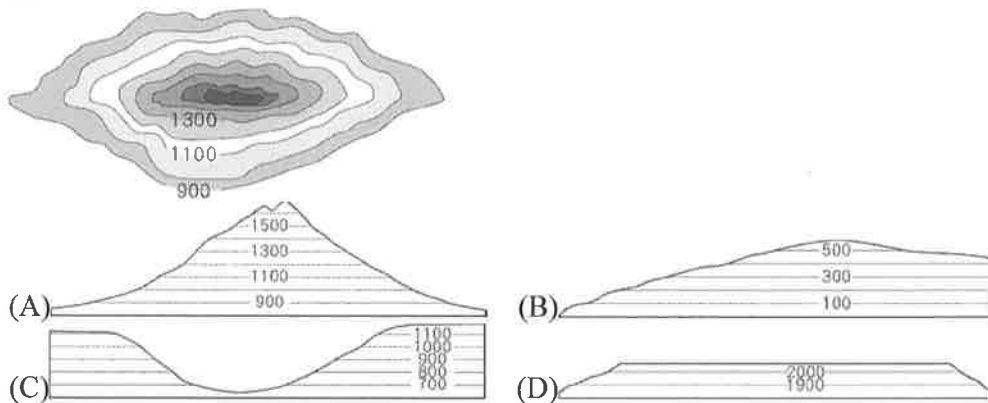


【第 1 頁結束—背面尚有試題】

13. () (甲)八八風災 (乙)冰島火山噴發 (丙)中國西南五省大乾旱 (丁)日本東北大地震。上述事件中，哪些屬於「內營力」的影響？ (A)甲乙 (B)甲丙 (C)乙丙 (D)乙丁。
14. () 臺灣東部的「花東縱谷平原」位在哪兩座山脈之間？ (A)中央、海岸山脈 (B)中央、雪山山脈 (C)雪山、海岸山脈 (D)玉山、阿里山山脈。
15. () 小新在某國家風景區的網站看到許多像圖片中的景觀，請問此國家風景區最可能在地圖的何處？ (A)甲 (B)乙 (C)丙 (D)丁。



16. () 若以分層設色圖來表現地形的起伏，則下列哪個地區所使用的顏色會最少？ (A)臺北盆地 (B)蘭陽平原 (C)中央山脈 (D)苗栗丘陵。
17. () 北門井仔腳瓦盤鹽田是臺灣現存歷史最悠久的鹽田，因人工短缺及成本過高，在西元 2000 年時廢曬，後來濱海國家風景區管理處復育鹽場，找回舊鹽工，繼續生產天日鹽，也成為沿海地區的熱門旅遊景點。請問：上文中的沿海地區應該位於右圖何處？ (A)甲 (B)乙 (C)丙 (D)丁。
18. () 附圖為某地形的等高線圖。若轉繪成地形剖面圖來表示，則下列哪張圖正確？



【第 2 頁結束—背面尚有試題】

班級：

姓名：

座號：

讀卡

答案卷

一、 單一選擇題 (第 19 題~第 28 題，每題 2 分，共 20 分)

19. 早在歐洲勢力來到台灣前，台灣原住民就已經在這塊土地上生活許久。關於歐洲人來到台灣之前，原住民生活型態，下列敘述何者正確？(A)實施軍屯制度 (B)已有文字發明，流通於全台 (C)多信奉基督教 (D)漁獵、游耕維生。
20. 「熱蘭遮城日誌」是荷蘭聯合東印度公司派駐台灣長官所寫的日記，目前留存在荷蘭國家檔案館，是十七世紀台灣史珍貴史料之一。請問：「熱蘭遮城日誌」中會記載下列哪一件事件？(A)日本要求高山國進貢 (B)荷蘭人在台灣傳教與貿易 (C)馬尼拉的社會經濟現況 (D)鄭成功歸降清政府。
21. 顏老師帶領文光國中學生參觀台灣歷史博物館，看到了一份台灣十八世紀中期的文件，這份文件是漢人與原住民的土地契約，文件上以雙語呈現，一邊是漢文，一邊是新港文，並用圖畫標示土地的位置。請問：關於這份土地契約的敘述，下列何者錯誤？(A)新港文是西班牙籍傳教士，為了傳教方便創設的文字 (B)這份土地契約又稱為番仔契 (C)最初發現的地點應該是在台灣西南部 (D)新港文字的內容以「聖經」為基礎，教導原住民閱讀及書寫。
22. 鄭氏治臺期間，原住民曾多次起義反抗，此與原住民的何種遭遇有關？(A)被迫配合出兵征伐 (B)原住民娶妻不易(C)生活空間受到侵擾 (D)被迫集體開墾荒地。
23. 大肚王為台灣早期部落領袖，下列關於大肚王的敘述，何者錯誤？(A)曾幫助西班牙人取得商貿利益 (B)為中部原住民部落領袖 (C)曾領導部落反抗統治 (D)荷蘭來台以前，曾統轄二十多個原住民部落。
24. 鎮平是光緒年間生活在臺灣的漢人，請問：他可能有什麼樣的遭遇？(A)遇到日本派來台灣招降高山國使節，利益驅使下為其帶路 (B)跟隨吳沙前往台灣東部一帶開墾，遭遇海盜與原住民侵擾 (C)政府解除來台禁令，使他居住的地方突然增加了許多新移民 (D)搭乘火車前往花東旅遊，發現原住民生活方式和自己很像。
25. 重修台灣縣誌記載：「客頭夥同不肖船家，用濕漏小船載運數百人，並讓他們全擠入艙中，將艙蓋封釘，不讓這些人出來。船隻乘著黑夜出洋，若遇到大風浪，可能會船翻人亡。快到岸時，因此靠近沙岸，就會將人群趕下船，稱之為『放生』」。請問：這段描述的是哪一個歷史情景？(A)移民來台普遍出現拋妻棄子的行為 (B)渡台禁令導致台灣性別比例失衡 (C)移民偷渡過程相當困難且危險重重 (D)清廷消極管理使台灣社會動盪不安。
26. 清朝統治台灣初期，對於人民渡海來台曾頒布相關政令：「禁止無照渡台，且有照者亦不得攜帶家眷。」在來台者多為男性的情況下，使得台灣社會漢人男女人口比例嚴重失衡。請問：當時清廷頒布此政令最主要的原因為何？(A)限制移民開墾，防止漢人叛亂 (B)台灣地理條件差，不適合移居 (C)倡導族群融合，鼓勵漢人與原住民通婚 (D)重男輕女觀念盛行，不准婦女參與墾殖。

27. 顏老師來到澎湖旅遊，深夜遊蕩時，在中正國小的路旁看到一個寫著外文的紀念盃，上面寫著：「A LA MEMOIRE DE LA MIRAL COURBET ET DES BRAVES.....AUX PESCADORES. (為了紀念在百世多麗這塊島嶼上壯烈犧牲的將軍及英勇的戰士們.....)」。請問：這個紀念碑跟哪一個事件有關？(A)開港通商 (B)清法戰爭 (C)施琅攻台 (D)牡丹社事件。
28. 有關清朝統治台灣時期，漢人與原住民之間的關係，下列敘述何者錯誤？(A)漢人常以通婚、強占等方式取得原住民的土地，使原住民的生存空間受到威脅 (B)「番界」是指漢番界線，禁止番人進入 (C)清朝統治前期，曾實施「劃界封山」政策，促進漢人與原住民之間更加緊密融合 (D)漢番居住區邊界常立有界碑或挖掘土牛溝作為標記，形成特殊景觀。

二、題組 (第 29 題~第 35 題，每題 2 分，共 14 分)

* 顏老師閱讀以下三段文獻，內容分別如下。資料一：「(台灣) 孤懸海外，易茲賊。欲棄之，專守澎湖」資料二：「(台灣) 乃江浙閩粵四省之佐護。雖屬外島，實關四省之要害，欲棄之，必釀成大禍，留之，則永保固邊疆。」資料三：「(台灣) 乃海外泥丸，不足為中國之加廣。裸體紋身之番，不足與共守。日費天府金錢無意，不若徙其人而空其地。」請依據文意，回答第29~32題：

29. 請問：這三段資料的爭議點出現於何時？(A)荷蘭人攻取台灣之後 (B)明朝剛滅亡時 (C)鄭成功攻取台灣後 (D)鄭克塽投降清朝之後
30. 請問：資料二主張「留下」台灣，主要考量為何？(A)戰略地位重要 (B)族群和諧共處 (C)資源取之不竭 (D)地大物博，礦產豐富。
31. 請問：資料一、三主張「放棄」台灣，下列何者非其考量？(A)耗損金錢甚巨 (B)人口眾多，管理不易 (C)文化野蠻落後 (D)位置偏遠
32. 請問：後來執政當局最終採取何種措施？(A)留下台灣，但採取消極管理措施 (B)專守澎湖，將漢人撤離台灣 (C)撤離台灣與澎湖，專心治理中國大陸 (D)將台灣租借給英國，換取金錢援助。
- * 顏老師在課堂上請同學演一齣戲劇，請同學分別扮演兩個國家的使者。對於一件重大涉外事件的對話如下：甲國使者：「生番都是化外之民，不屬於我國政府管轄。」乙國使者：「生番殺人，貴國卻置之不理，故我國將出兵代替其興師問罪，只是生番居住地區與貴國府至相鄰，為免傷兩國和氣，所以先行奉告。」甲國使者：「生番既屬我國化外，問不問罪，由貴國裁奪。」不久，乙國乃向外界公告軍事行動，派兵攻打台灣。請依據文意，回答第 33~35 題：
33. 關於這齣戲劇中，甲、乙兩國分別代表什麼國家？(A)甲：清朝、乙：法國 (B)甲：清朝、乙：英國 (C)甲：清朝、乙：日本 (D)甲：清朝、乙：美國。
34. 此事件後，清朝派沈葆楨來台督辦防務。關於沈葆楨的統治方式，下列何者為非？(A)廢止渡台禁令，鼓勵沿海居民來台開墾經營 (B)進行開山撫番，並開鑿北、中、南三條通往後山的公路 (C)加強國防建設，興建新式炮台於基隆、澎湖 (D)改變行政區劃，增設府、縣、廳以加強治理。
35. 此事件之後，接續治理台灣的清朝官員，例如劉銘傳對臺灣的建設也有很大的貢獻。請問：關於劉銘傳在台的建設，下列何者為非？(A)購置輪船，發展航運 (B)設立郵政總局，建制郵政系統 (C)奏請台灣建省，提高行政層級 (D)完成基隆到新竹間的鐵路。

【~ 試題結束，文光七年級、歷史科 ~】

澎湖縣立文光國民中學 109 學年度第 1 學期第 2 次成績評量 7 年級公民科試卷

班級： 姓名： 座號： 讀卡 答案卷

一、 單一選擇題（第 36 題～第 44 題，每題 2 分，共 18 分）

36. 課堂中老師請四位同學介紹家中同住成員，請問：下列哪位同學的家庭屬於「折衷家庭」？(A) 吳文：我的家裡有爸爸、媽媽、姊姊和我 (B) 允喬：我的家裡只有媽媽、弟弟和我 (C) 吉力：我的家裡有爺爺、奶奶、爸爸、媽媽、姊姊和我 (D) 可青：我的家裡有爺爺、奶奶、伯伯、伯母、堂哥、爸爸、媽媽、妹妹和我。
37. 碩民與親屬外出時已知與他同住的有堂哥，姊姊與表妹住在隔壁房，父親與母親住在上面的樓層。請問：碩民與上述五人之間存在哪些親屬關係？(A) 直系血親、旁系血親 (B) 姻親、法定血親 (C) 配偶、直系血親 (D) 姻親、直系血親、旁系血親。
38. 請問下列何者「非」屬於姻親的類型？(A) 配偶的血親的配偶 (B) 血親的配偶 (C) 配偶的血親 (D) 血親的配偶的血親。
39. 下列關於「親權」的敘述，何者正確？(A) 指父母年老時，子女必須負起扶養父母的責任 (B) 指延續家族血緣、維繫社會生存的親屬關係 (C) 指父母對於未成年子女有保護及教養的權利與義務 (D) 是提供家庭成員食衣住行等基本需求的滿足
40. 隨著社會變遷，家庭型態也越來越多元化，家庭功能也因之產生變化。下列有關於家庭功能轉變的敘述，下列何者為非？(A) 現代夫妻多不願生育小孩，使「頂客家庭」的型態因之產生 (B) 現代家庭的經濟功能逐漸以生產為主 (C) 在職父母申請育嬰假，可發揮保護與照顧功能 (D) 由於雙薪家庭的增加，大眾傳播媒體與教育機構補充了部分的家庭教育功能。
41. 小玲跟大偉結婚 15 年尚無小孩，他們決定收養一名育幼院小孩，給他一個完整的家庭。請問：關於這個小孩與小玲、大偉之間的關係，何者正確？(A) 他們跟小孩之間的關係屬於「自然血親」(B) 此種家庭屬於「隔代教養家庭」(C) 若後來大偉的媽媽搬來與他們同住，就成為了「祖孫家庭」(D) 須經法律程序才能生效，而成為親屬關係。
42. 根據聯合國的標準，當一地區（甲）歲以上的人口，占總人數的比例超過（乙）%時，稱為「高齡社會」；占總人數比例超過（丙）%時，稱為「高齡化社會」，上述（甲）、（乙）、（丙）依序應該填入下列何者？(A) 65、7、14 (B) 70、14、7 (C) 70、7、14 (D) 65、14、7。
43. 下列關於「家庭暴力」的敘述，何者正確？(A) 有偏差行為的人才會對家人施暴 (B) 對子女嚴厲管教絕不可能構成家暴 (C) 對家庭成員的精神傷害也算是家暴 (D) 經濟能力差的人才會使用暴力。
44. 在社會快速變遷下，現代家庭面臨許多問題與挑戰，政府也會提出政策來因應。請問：下列敘述何者錯誤？(A) 保護令是由警察機關核發，違反者將被判刑 (B) 政府推動長期照顧十年計畫來解決老人照顧問題 (C) 由於生育率下降，政府推動育嬰假、發放生育津貼來鼓勵生育 (D) 為了讓大家了解多元文化，邀請新住民擔任活動講師。

二、 題組（第 45 題～第 50 題，每題 2 分，共 12 分）

* 顏老師舉辦在文光國中舉辦「親屬關係大考驗」活動，題目如下：「期待已久的暑假終於來臨了！這天，我來到了位於台北的（甲）外公家，外公住在台北 101 旁邊，這邊真的好熱鬧喔！第一天，我先和（乙）表哥與（丙）舅媽來到微風南山，我買了我最喜歡的 switch 遊戲主機，順便加購動物森友會這款熱門遊戲。接下來我們跑去誠品信義店跟（丁）小阿姨與他的（戊）男朋友 Johnny 會合，Johnny 買了一本最新的哈利波特原文書送我，勉勵我要好好唸好英文。最後，我們與（己）嬸嬸和（庚）乾媽約在信義威秀影城會合，觀看最新上檔的鬼滅之刃……這一趟台北遊真的好好玩啊，下次放假我還要來玩！」請同學依上述內容，回答第 45~47 題：

45. 根據我國民法規定，上述親友中哪些是「血親」？(A)甲丙戊 (B)乙丙庚 (C)甲乙丁 (D)乙戊己。
46. 根據我國民法規定，上述親友哪些是「姻親」？(A)乙丁 (B)丙己 (C)乙戊 (D)丙庚。
47. 若（丁）與（戊）結婚後，因為工作的關係，時常分隔兩地，只有假日或特殊節日才能相見，也因為這樣，一直沒有機會生小孩，後來他們決定，領養兩隻可愛的小貓咪作為陪伴，取名為「糰糰」與「緣緣」，以充實他們的婚姻生活。請問：關於（丁）與（戊）結婚後家庭的敘述，下列何者為非？(A)此為「兩地家庭」，又稱為「通勤家庭」 (B)此種現象顯示家庭的「生育」功能逐漸減弱 (C)他們決定領養小貓咪的行為，亦符合「頂客家庭」的特徵 (D)若（丁）為了要照顧（甲）搬至與其同住，則形成了「隔代教養家庭」。

* 平平家住的社區住著王姓夫妻及其年幼的小孩，平平經常在深夜聽見他們夫妻吵架摔家具、玻璃碎裂聲，以及他們的小孩王小弟驚恐淒厲的哭喊聲，甚至看到王太太臉書上有被施暴後臉上瘀傷的照片。這些情形都讓平平感到害怕，很想打電話報警處理。後來平平請教顏律師，希望他提供法律意見。請依上文敘述，回答第 48~50 題：

48. 請問：根據家庭暴力防治法的規定，所謂「家庭成員」不包含下列何者？(A)王太太 (B)平平 (C)王小弟 (D)王先生。
49. 後來王太太聲請保護令，經核發後，請問：下列何者不是保護令的內容？(A)命令被害人遷出住居所 (B)禁止加害人對被害人的暴力行為 (C)命令加害人對被害人保持特定距離 (D)禁止加害人對被害人為非必要之聯絡。
50. 關於上述案例的敘述，下列何者最為正確？(A)王先生毆打妻兒屬於家務事，政府機關無法介入 (B)王太太只有哭喊而無求救，故平平不便介入 (C)目睹家暴的王小弟雖未直接被攻擊，但也會對其造成傷害 (D)王太太可以向社會局提出依法剝奪王先生對小孩的親權。

【～ 試題結束，文光七年級、公民科～】