

澎湖縣立文光國民中學 109 學年度第 1 學期第 2 次成績評量 8 年級國文科 **答案卷**

班級：

姓名：

座號：

一、國字注音(每題 1 分，共 16 分)

1.	2.	3.	4.	5.	6.	7.	8.
9.	10.	11.	12.	13.	14.	15.	16.

二、注釋(1-6，每題 2 分；7-9，每題 1 分，共 15 分)

1. 具體而微：	
2. 天籟：	3. 從從容容：
4. 賠小心：	5. 奏當：
6. 天下之平：	7. 「瑰」寶：
8. 「白」瞪著眼：	9. 民安所「錯」其手足：

三、成語配合題(每題 1 分，共 10 分。請填入正確代號)

1	2	3	4	5	6	7	8	9	10

四、文意理解(每題 2 分，共 36 分)

1	2	3	4	5	6	7	8	9
10	11	12	13	14	15	16	17	18

五、閱讀理解(每題 2 分，共 20 分)

1	2	3	4	5	6	7	8	9	10

六、問答題(一題，共 3 分)

在司馬遷〈張釋之執法〉一文中，張釋之展現出的人物性格為何？請說明理由。

【作答完畢，請記得檢查！】

澎湖縣立文光國民中學 109 學年度第 1 學期第 2 次成績評量 8 年級國文科試卷

班級： 姓名： 座號： 讀卡 答案卷

一、國字注音(每題 1 分，共 16 分)

1. 芋「ㄍㄨㄛˇ」	2. 罰「錢」	3. 口「ㄔㄨ」筆伐	4. 「屬」之廷尉
5. 「ㄅㄨ」下	6. 「諷」刺	7. 牛角「ㄍㄨㄚˋ」書	8. 錢「鋪」
9. 兩腳一「ㄉㄨ」	10. 「傾」斜	11. 「ㄅㄨ」稱	12. 「夥」計
13. 牡「ㄉㄨ」	14. 乘「輿」馬驚	15. 牛「ㄉㄨ」歌	16. 「詭」計

二、注釋(1-6，每題 2 分；7-9，每題 1 分，共 15 分)

1. 具體而微：	
2. 天籟：	3. 從從容容：
4. 賠小心：	5. 奏當：
6. 天下之平：	7. 「瑰」寶：
8. 「白」瞪著眼：	9. 民安所「錯」其手足：

三、成語配合題(每題 1 分，共 10 分。請填入正確代號)

A. 反求諸己	B. 風雨如晦	C. 舌綻蓮花	D. 馬耳東風	E. 力有未逮
F. 馬首是瞻	G. 風馳電掣	H. 曇花一現	I. 沉李浮瓜	J. 明日黃花
K. 涇渭分明	L. 頤養天年	M. 伯仲之間	N. 獨占鰲頭	

- 凡事要 ()，不要老是苛責別人。
- 他處事幹練，是非判斷 ()，絕不含混。
- 飆車雖可享一時 () 的快感，發生意外卻得付出一輩子的幸福。
- 她的運動細胞很發達，十項全能，多次比賽都是由她 ()。
- 節目主持人 ()，妙語如珠。
- 劃過天際的流星，短暫而絢爛，猶如 ()。
- 本想在此次比賽奪魁，可惜 ()，最後還是落敗了。
- 隨著年華的消逝，過去恃以為傲的美貌已成 ()。
- 大家向來行事以他 ()，是因為他為人公正無私，又有才識。
- 爺爺退休回鄉下後，每天散散步、下下棋，過著 () 的生活。

四、文意理解(每題 2 分，共 36 分)

- () 1. 關於陳黎〈聲音鐘〉的敘述何者最適當？(A)「聲音鐘」指的是「布穀、布穀」的報時聲 (B)在寫作手法上尾段與首段相呼應，多一個「聽」字顯現聆聽的滿足 (C)「聲音鐘」的報時，準確且一成不變，構築的是物理的時間 (D)全文僅用外來語，讓人物形象更鮮明
- () 2. 陳黎〈聲音鐘〉：「他們像陽光、綠野、花一樣，是這有活力的城市，有活力的人間，不可或缺的色彩。」這段文字說明小販的叫賣聲具有何種特色？(A)如同陽光、空氣、水一般不可或缺 (B)像是每日所需，呼吸般自然 (C)街頭巷尾，搬弄是非的地方 (D)是生命力的象徵，為生活增添美麗的色彩

【第 1 頁結束 背面尚有試題】

- () 3. 「沙發、吉他、夾克、培根、三明治、巧克力、無法度、阿奇毛、歐巴桑、少年家」以上詞語有幾個「外來語」？(A)十個 (B)九個 (C)八個 (D)七個
- () 4. 關於陳黎〈聲音鐘〉一文的說明，何者**錯誤**？(A)「宛轉有致的抑揚頓挫卻讓你以為回到了古典臺灣」，這句話表現出了「惆悵」心境 (B)「這簡直是人間天籟，臺語的瑰寶」，這句話是「讚頌」的語氣 (C)「那些小販們總是在這個小空間最需要他們時適時地出現。」這句話寫出小販們能配合居民作息，適時出現服務，掌握商機 (D)對早該出現的叫賣聲卻一直都沒有出現的心情變化：懷念→擔心→疑惑納悶→放心釋懷
- () 5. 下列關於胡適〈差不多先生傳〉一文中的文句詮釋，何者**正確**？【(甲)「只好明天再走了，今天同明天走，也還差不多」——暗諷國人缺乏時間觀念 (乙)透過事例來描繪差不多先生的差不多心態，其中對「得急病找大夫」著墨最多 (丙)「差不多先生的相貌，和你和我都差不多」——諷刺大家都是差不多先生 (丁)「大家都說他一生不肯認真，不肯算帳，不肯計較，真是一位有德行的人。」——這句使用了「倒反」修辭法 (戊)「千字比十字只多一小撇，不是差不多嗎？」——這句話凸顯出差不多先生是個「不計得失」的人】 (A)甲乙丙丁 (B)乙丙丁戊 (C)甲乙丁戊 (D)甲丙丁戊
- () 6. 下列關於胡適〈差不多先生傳〉一文的寫作手法敘述，何者**正確**？【(甲)以事件描寫來表現人物性格 (乙)差不多先生確有其人 (丙)文章目的在糾正國人的處事態度 (丁)差不多先生正是五四新文化運動的典範 (戊)主旨啟示我們要認真踏實】 (A)甲乙丙 (B)甲丙丁 (C)乙丙戊 (D)甲丙戊
- () 7. 下列有關司馬遷〈張釋之執法〉的寫作手法分析，何者**正確**？(A)透過對話描寫事件過程 (B)運用倒敘法寫審案經過 (C)以大篇幅介紹故事主角 (D)採用第一人稱記敘觀點
- () 8. 關於司馬遷〈張釋之執法〉一文的說明，何者**錯誤**？(A)「令他馬，固不敗傷我乎？而廷尉乃當之罰金」——表現漢文帝認為處罰太輕，而生氣、不滿的質問情緒 (B)「縣人來，聞蹕，匿橋下。久之，以為行已過，即出，見乘輿車騎即走耳」——語氣短促，顯示犯人作賊心虛 (C)主旨為「法律之前，人人平等」 (D)「屬之廷尉」的「之」和「而廷尉乃當之罰金」的「之」一樣，都是代詞指「人犯」
- () 9. 關於《史記》一書的描述，何者**正確**？【(甲)作者是司馬遷 (乙)記載黃帝到漢武帝年間大約三千年的歷史 (丙)全書總共一百三十篇，內容分為「本紀、表、書、世家、列傳」五類，且〈張釋之執法〉取自「世家」中 (丁)是中國通史之祖，也是紀傳體之祖 (戊)以人物傳記為主，其書寫體例為後代正史所沿用】 (A)甲乙丙丁 (B)乙丙丁戊 (C)甲乙丁戊 (D)甲丙丁戊
- () 10. 根據吳敬梓〈王冕的少年時代〉一文中，下列哪段描述最能看出王冕的進取心？(A)我在學堂坐著，心裡也悶，不如往他家放牛，倒快活些 (B)或遇秦家煮些醃魚、臘肉給他吃，他便拿塊荷葉包了，回家孝敬母親 (C)王冕看了一回，心裡想到：「古人說：『人在畫圖中』，實在不錯」 (D)天下哪有個學不會的事？我何不自畫他幾枝

【第2頁結束 背面尚有試題】

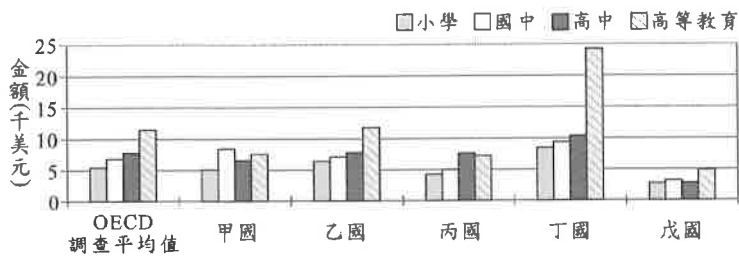
- () 11. 「敬詞」是指語氣恭敬的詞語，用來表達對他人的敬意，或是表現說話者謙遜的品德。下列文句何者正確？(A)阿蕙回鄉探親，巧遇國小好友，臨別前阿蕙對她說：「改日我再到『府上』拜訪」 (B)大振到醫院探望開刀住院的舅舅，真誠地說：「祝福您早日康復、『金身』平安」 (C)小銘謙遜地向同學們說：「我第一次當班長，若有什麼需要改進的地方，還請不吝『討教』。」 (D)主席對著會議桌前的代表們說：「大家若有『管見』，請盡量提出來。」
- () 12. 根據吳敬梓〈王冕的少年時代〉一文中，母親與王冕的對話內容推論，下列選項何者的詮釋最為正確？(A)兒啊！不是我有心要耽誤你——顯示母親的決定是故意的 (B)只因你父親亡後，我一個寡婦人家——透露母親獨自養家的辛苦 (C)年歲不好，柴米又貴——呈現貧富差距太大，物價飛漲的無奈 (D)這幾件舊衣服和舊傢伙，當的當了，賣的賣了——表示家中境況不錯，還能賣物賺錢
- () 13. 吳敬梓〈王冕的少年時代〉一文中，下列敘述何者錯誤？(A)以敘述的順序來看，這篇是用順敘法 (B)「就買幾本舊書，逐日把牛拴了，坐在柳樹蔭下看。」意指「王冕希望有朝一日能求取功名」 (C)王冕「嶽峙磊落」，是指他「品格清高，胸懷坦蕩」 (D)「針黹」之於「裁縫」的詞義關係，猶如「須臾」之於「彈指」
- () 14. 請判斷下列選項，何者是「句子」？(A)響不停的鬧鐘 (B)海上那一艘客輪 (C)一種樂觀的生活態度 (D)他的舉止優雅得體
- () 15. 下列敘述何者正確？(A)句子的基本結構，包含主語和謂語 (B)表態句是用來表明事物的有無或存在與否的句子 (C)「色彩繽紛。」句中的「色彩」是主語，「繽紛」是述語 (D)「我喜歡他。」句中的「我」是主語，「他」是賓語，「喜歡」是表語
- () 16. 「主語」是句子的主體，作為被說明的對象。請判斷下列句子何者對於主語的圈選是錯誤？(A)「葉落」的「葉」是主語 (B)「靜極了，這朝來水溶溶的大道！」的「這朝來水溶溶的大道」是主語 (C)「古宅大院中的光影變化美不勝收」的「古宅大院」是主語 (D)「我最不能忘記的是他的背影」的「我最不能忘記的」是主語
- () 17. 下列句型的說明，哪一項錯誤？(A)「宅邊有五柳樹」——有無句 (B)「釋之為廷尉」——判斷句 (C)環堵蕭然——表態句 (D)生活沉悶單調——敘事句
- () 18. 「天地有情」、「蒼天無眼」屬於「有無句」，下列文句何者也屬於此類句型？(A)無理取鬧的小明常招惹許多是非 (B)他以慵懶無比的姿勢躺在沙發上 (C)欲言又止的他顯然心中有所顧忌 (D)人有時候難免會忽略他人的存在

五、閱讀理解(每題2分，共20分)

- () 1. 「人生何嘗不像一場競賽。跑得慢的人有些會怨天尤人，一路上窩囊委屈；有的卻抱著龜兔賽跑的精神，努力不懈直到終點。而那些跑得快的也不見得永遠領先，有的後繼無力被人超前，有的半路摔倒一蹶不起，選擇放棄。因此，_____。」根據文意，畫線處填入下列何者最恰當？(A)人生的競賽往往是暗潮洶湧的 (B)臺前風光是背後汗水累積而成 (C)勝敗皆由天定，無須怨天尤人 (D)堅持到底的人才是最後的贏家

【第3頁結束 背面尚有試題】

- () 2. 以下圖表，是某年經濟合作與發展組織（OECD）針對各國各階段教育每人所
 分得經費的調查結果：

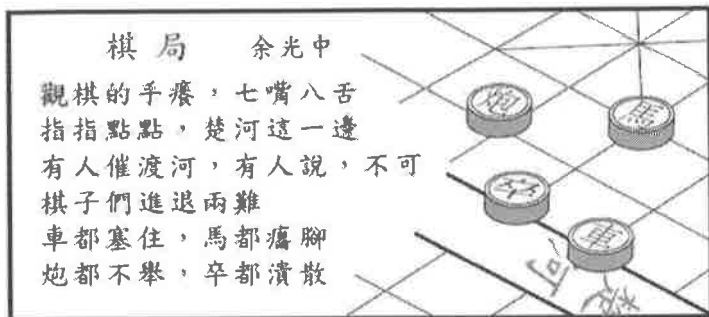


根據這張圖表，下列敘述何者正確？ (A)甲國小學生所分得的教育經費高於OECD調查平均值 (B)丙國國中生所分得的教育經費高於OECD調查平均值 (C)各國高等教育學生所分得的經費皆多於其他階段學生 (D)相較於其他國家，丁國高中生所分得的教育經費最高

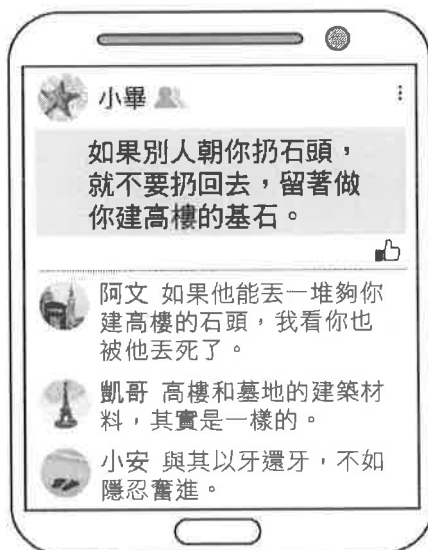
- () 3. 「野生動物隨著環境會發展出新的生活方式。城市中的灰色松鼠比鄉下的較快對威脅產生反應，牠們不吱吱叫驅趕敵人，而是垂下尾巴來警示敵人。」根據這段文字，下列敘述何者最不恰當？(A)城市松鼠會因環境改變毛色 (B)城市松鼠會以垂下尾巴示警 (C)鄉下松鼠對威脅的反應較慢 (D)鄉下松鼠以吱吱叫驅趕敵人
- () 4. 「每一種異常，與其說是一種『缺陷』，不如說是一種『特質』，能為自己提供一扇特別的窗。帶著笑容往外看，你將看到一個別人看不到的世界。」這段話的觀點與下列何者最接近？(A)以不同角度看自己與他人的差異 (B)所謂的正常其實也就是一種異常 (C)包容他人，就可為自己打開一扇窗 (D)某人的缺點，可能是他人眼中的優點
- () 5. 林懷民悼念雲門舞集燈光設計師張贊桃：「你的燈光輕聲細語，除非必要，絕不大聲號叫。典雅寫意，呼吸般起落的燈光成為雲門的特色。臺灣舞評少，評舞也不提燈光。國外談雲門不讚美你的舞評極少。他們說你是大師，你一笑置之。等到有人說，你的燈光讓他想起林布蘭，你就如逢知音，開懷咧口笑了。那幾年，你吃林布蘭睡林布蘭，到了美術館，幾乎把鼻子貼到他的畫作上。」根據這段文字，下列關於張贊桃燈光設計的敘述何者正確？(A)以林布蘭的畫當作舞臺背景 (B)作品在臺灣舞評界享有盛名 (C)能恰如其分的襯托舞臺演出 (D)國外舞評極少注意他的設計
- 注：①林布蘭：巴洛克美術的代表畫家。
- () 6. 網路上流傳著一則寓言故事：從前在一座島上有四個人，他們的名字分別是：「每個人」、「某個人」、「其他人」和「沒有人」。現在有一件很重要的工作要「每個人」去做，但「每個人」以為「某個人」一定會去做，雖然「每個人」可以做得很好，但到最後是「沒有人」去做這個工作。「某個人」後來很生氣，因為那原本是「每個人」的工作，但「每個人」卻想「其他人」會去做，而「沒有人」知道「每個人都沒去做，事情的結局是「每個人」都在責怪「某個人」。以上這篇短文中的「每個人」所指的是哪一類人？ (A)攀附權貴的人 (B)推諉塞責的人 (C)放浪形骸的人 (D)阿諛奉承的人

【第4頁結束 背面尚有試題】

- () 7. 老師最不希望看見學生對於自己的事情一副無所謂、毫不在乎的樣子，一句「不是都差不多」代表著苟且隨便、敷衍塞責。對於學校裡眾多的差不多先生，芳薇老師應該用哪一句話來勸諫他們？ (A)因害怕失敗而不敢放手一搏，永遠不會成功 (B)唯有認真做好每個細節，成功才會與你不期而遇 (C)成功的祕訣就是每天都比別人努力一點 (D)人生成功的祕訣就是當好機會來臨時，立刻抓住它



- () 8. 根據左邊這段詩句的內容，可推知作者的觀點與下列何者最接近？ (A)棋手應在深思熟慮之後，才進行下一步 (B)對弈之前應布局周延，使對方進退兩難 (C)棋局陷入膠著時，旁觀者方能出語指點 (D)觀棋者當冷靜旁觀不語，置身棋局之外



- () 9. 關於左邊這則貼文與留言，下列解讀何者最恰當？ (A)小畢認為善惡終有報 (B)阿文的想法傾向樂觀 (C)凱哥同意小畢的觀點 (D)小安的看法近於小畢

此時周進哭的住了。那客人道：「這也不難。現放著我這幾個兄弟在此，每人拿出幾十兩銀子借與周相公納監進場。若中了做官，那在我們這幾兩銀子。就是周相公不還，我們走江湖的人，那裡不破掉了幾兩銀子！何況這是好事。你眾位意下如何？」眾人一齊道：「『君子成人之美。』」又道：「『見義不為，是為無勇。』」俺們有甚麼不肯？只不知周相公可肯俯就？」周進道：「若得如此，便是重生父母，我周進變驢變馬，也要報效！」爬到地下，就磕了幾個頭。眾人還下禮去。金有餘也稱謝了眾人。又喫了幾碗茶，周進再不哭了，同眾人說說笑笑，回到行裡。

- () 10. 關於上述這段文字的敘述，何者正確？ (A)眾人一齊道：「君子成人之美。」是欲助周進走江湖 (B)金有餘的態度就是尖酸刻薄，寫出世人嫌貧愛富的涼薄 (C)客人們的行為正是雪中送炭，給絕望的周進一線曙光 (D)「周進再不哭了」是因為他放棄了考試，下定決心要改變志向

【第 5 頁結束 背面尚有試題】

六、問答題(一題，共3分)

在司馬遷〈張釋之執法〉一文中，張釋之展現出的人物性格為何？請說明理由。

【試題結束—文光 八年級、國文】

澎湖縣立文光國民中學109學年度第一學期第2次成績評量八年級英語科試卷 **作答卷**

八年 __ 班 座號：__ 姓名：__

一、聽力測驗：(每題 2 分，共 10 分)

1	2	3	4	5
---	---	---	---	---

二、文意字彙：(每題 2 分，共 20 分)

1	2	3	4	5.
6.	7.	8.	9.	10.

三、文法測驗：(每個答案 2 分，共 10 分)

1	2.	3	4.	5
---	----	---	----	---

四、對話與完成句子：(每個答案 2 分，共 6 分)

1	2.	3
---	----	---

五、克漏字選擇：(每個答案 2 分，共 16 分)

1-1	1-2.	1-3	1-4.	2-1	2-2	2-3	2-4
-----	------	-----	------	-----	-----	-----	-----

六、閱讀測驗：(每題 2 分，共 12)

1-1	1-2.	1-3	2-1	2-2.	2-3
-----	------	-----	-----	------	-----

七、依提示作答：(1-3 題，每題 2 分；4-5 題，每題 3 分，共 12 分)

1
2
3
4
5

八、填充：填入正確的動詞形式或時態(每個答案 2 分，共 14 分)

1	2	3	4
5	6	7	

澎湖縣立文光國民中學109學年度第一學期第2次成績評量八年級英語科試卷 **題目卷**

【題目卷共4頁，答案請寫在作答卷上】

一、聽力測驗：(每題2分，共10分)

★聽CD，配合圖片選出最適當的答案。

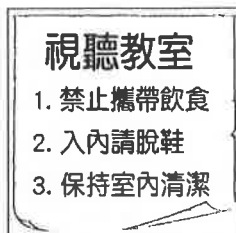
1.



2.



3.



★言談理解：每題均有三個選項，請依據所聽到的對話與問題，選出一個最適當的答案

4. (A) Money isn't always important.
(B) Your favorite job can bring you a lot of money.
(C) Being a secretary can't make you rich.
5. (A) She watched TV all night.
(B) Her pet made too much noise.
(C) When she was sleeping, the man called her.

二、文意字彙：(每題2分，共20分)

1. _____ People usually eat three m_____ls a day. They are breakfast, lunch, and dinner.
2. _____ Ann is a p_____r singer. Many people like her songs and listen to her music.
3. _____ A: Where's that s_____e smell (味道) from?
B: It's from Peter's dirty shoes.
4. _____ H_____f a thousand (千) is five hundred.
5. _____ My grandpa used a c_____a to take photos before, but now he uses his cellphone to do that.

七年 _____ 班 座號：_____ 姓名：_____

6. _____ Mrs. Lo is a h_____e. She has to do housework and take care of kids. She is busy at home.
7. _____ The businessman is too busy. He needs a s_____y to help him with his work.
8. _____ There are four people here, so everyone can get a q_____r of the cake.
9. _____ Water is very i_____t to us because we need to drink it every day.
10. _____ Tina likes kids and math, so she wants to be a math teacher in the f_____e.

三、文法測驗：(每個答案2分，共10分)

1. () _____ the swimming race, Gina keeps practicing five hours a day, seven days a week.
(A) Winning (B) Win (C) Won
(D) To win
2. () Eric enjoys _____ to music and _____ homework at the same time.
(A) listen; do (B) listening; doing
(C) listening; to do (D) to listen; does
3. () My parents always tell my brother and me _____ each other. They want us _____ each other.
(A) not to fight; to be nice to
(B) to not fight; to be nice to
(C) not fighting; being nice to
(D) fighting; being nice to
4. () A: How _____ you feel now?
B: I _____ better (比較好) after I _____ the medicine.
(A) do; feel; took (B) did; felt; took
(C) were; was feeling; was taking
(D) do; am feeling; take
5. () A: Ivy _____ to our house _____ you went to bed last night.
B: Really? Why didn't you wake me up (叫醒我) then?
(A) gets; when (B) got; before
(C) gets; because (D) got; after

四、對話與完成句子：(每個答案2分，共6分)

1. () Tony: Dad, I helped a boy find his way home today.
Dad: _____, Tony. I'm so proud of you.

【第1頁結束，背面尚有試題】

- (A) Too bad (B) Nice catch
(C) Good job (D) Poor you
2. () A : Why didn't your cat eat anything?
B : She must be afraid.
A : What happened?
B : _____
A : Poor thing.
(A) Mice are her good friends.
(B) She took me home because I got lost.
(C) Her favorite food was fish.
(D) A big dog barked and ran after her this morning.
3. () A : _____ B : At ten to seven.
(A) What time is it?
(B) How many people were there in the park?
(C) How much money do you have?
(D) When did you have breakfast this morning?

五、克漏字選擇：(每個答案 2 分，共 16 分)

1. (In India)
Raj : 1-1. your hands before you eat is important in India.
Molly : 1-2., too.
Raj : Sure, but you and your people use knives and forks to take food. Here, we usually eat 1-3. them.
Molly : What do you use to take food then?
Raj : We use our fingers.
Molly : 1-4.
Raj : No, it's wrong to use your left hand to do that.
Molly : Why not?
Raj : Because we use our left hands to clean our bodies, not to take food.
Molly : Really? I didn't know that before I came here.
☐ knife 刀 fork 叉 left 左邊的
() 1-1. (A) Be washing (B) Wash (C) Washing (D) Washes
() 1-2. (A) It's not hard to clean our hands (B) That's important in my country (C) We have to brush our teeth before that (D) Setting the table is hard for me
☐ set the table 擺放餐桌
() 1-3. (A) without (B) by (C) with (D) for
() 1-4. (A) But what about our legs? (B) Which is your right hand? (C) Do you mean using both hands? (D) Why not using a fork?

2. Jimmy : Why 2-1. you 2-1. the floor, Ben? What happened?
Ben : George just fell over 2-2.. Someone splashed the milk tea here. Now, people have to be very careful 2-3. they walk past. And look, the floor is dirty, too! I need to clean it right away, or our classmates may fall down.
Jimmy : You're so nice. But who did this? Do you know?
Ben : No, I don't. Maybe it was someone in Class 802. 2-4.
Jimmy : Let's ask their teacher tomorrow. And thank you, Ben.
☐ fell over 摔倒 (fall over 的過去式)
someone 某人 splash 使濺開
careful 小心的 tomorrow 明天
() 2-1. (A) was; mopping (B) can; mop (C) are; mopping (D) ×; mop
() 2-2. (A) before he is washing his hands (B) after he was in the classroom (C) because he was sitting in his seat (D) when he was coming out of the classroom
() 2-3. (A) so (B) when (C) because (D) after
() 2-4. (A) They were mopping the floor this afternoon. (B) They bought many cups of milk tea this afternoon. (C) They were singing this afternoon. (D) They had a picnic this afternoon.

六、閱讀測驗：(每題 2 分，共 12 分)

1. Let's Fight Measles
When you :
* have a high fever
* cough for a long time
* find spots in your mouth
* find spots on your face
You need to go to the hospital right now. To stay away from measles, you have to do the followings :
* Wash your hands often.
* Don't put your hands on / around your eyes, nose, or mouth.
* Get your kids the measles vaccination twice when they are :
- one year old
- between the ages of five and seven

* You can't get the measles vaccination when you

- are allergic to eggs
- have a baby

To be healthy, please follow these rules.

☞ measles 麻疹 cough 咳嗽 spot 斑點
vaccination 疫苗接種 allergic 過敏的
baby 嬰兒

- () 1-1. Who might have measles?
- (A) Alice. She has a baby now.
 - (B) Tom. He eats two eggs every day.
 - (C) Hank. He didn't brush his teeth last night.
 - (D) Gina. There are a lot of spots on her face.
- () 1-2. Fiona's son is four years old. When did he get a measles vaccination last time?
- (A) Last year.
 - (B) Two years ago.
 - (C) When he was one year old.
 - (D) He never gets the measles vaccination.

- () 1-3. Which is NOT the way to fight measles?
- (A) Don't eat eggs.
 - (B) Don't touch your mouth or eyes.
- ☞ touch 觸摸
- (C) Wash your hands many times a day.
 - (D) Get the measles vaccination.

2. **Tom**: Thank you for being with us this morning. I'm Tom Anderson. We have breaking news. Our reporter Cindy Liu is reporting live at the scene.

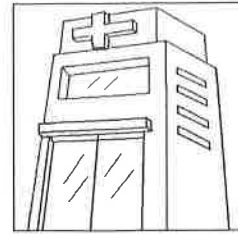
Cindy: Thanks Tom. We are here on Zhongxiao East Road, Taipei City. There are always many cars on this road from 7 a.m. to 9 a.m. from Monday to Friday. A woman was hurrying to work, so she traveled at speed on the road. When the police officer saw the woman, he waved his arms and stopped her. Because she was driving very fast then, she couldn't stop her car. She just hit the police officer. Then two cooks, Jason and Terry, ran out of their restaurants and sent the police officer to the hospital. And the woman, Jessica, is at the police station now. The police are asking some questions. Back to you, Tom.

Tom: Thank you, Cindy. We will keep watching this story. OK, let's go on the next story...

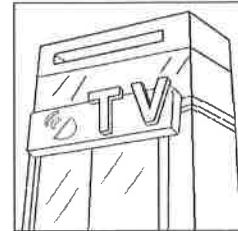
☞ breaking news 突發新聞 scene 現場
fast 快速地 hit 撞擊 will 將會

() 2-1. Where does Tom Anderson work?

(A)



(B)



(C)



(D)



() 2-2. What does "travel at speed" mean in the reading?

- (A) Drive fast.
- (B) Don't be late.
- (C) Take a trip often.
- (D) Run to the finish line first.

() 2-3. Which is true?

- (A) Both Tom Anderson and Cindy Liu work at night.
- (B) Both Jessica and the police officer are at the hospital because a car hit them.
- (C) Cindy Liu is talking to the cooks, Jason and Terry.
- (D) There are always a lot of cars on Zhongxiao East Road at 8 a.m. on Monday.

七、依提示作答：(1-3 題，每題 2 分；4-5 題，每題 3 分，共 12 分)

1. It is exciting to watch baseball games.
(用動名詞當主詞改寫句子)
2. Dora / the guitar / playing / night. / practices / every (句子重組)
3. 扮演和拍攝好笑的影片是有趣的。(用虛主詞 it 開頭)
4. 當奶奶看到我時，她對著我微笑，並且把我擁抱入懷。(中翻英)
5. 校隊裡的每個人日以繼夜練習打籃球，而他們終於贏得球賽。(中翻英)

八、填充：填入正確的動詞形式或時態(每個答案 2 分，共 14 分)

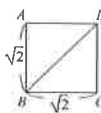
1. Stopping Larry eating ice cream _____ (be) not easy because he won' t listen.
2. Stella is smart(聰明的) and beautiful. Many girls in my school want _____ (be) like her.
3. Grace is good at _____ (dance). She is a famous dancer (舞者).
4. It's nice of you _____ (help) me with my work. Thank you.
5. Jim _____ (play) the guitar when Jane saw him at one o'clock yesterday afternoon.
6. Darren is from India (印度). He takes food and eats with his right hand, so he always _____ (wash) hands before he has meals.
7. Monica was full(飽的) after she _____ (eat) three pies.

【試題到此結束，請確實檢查，並將答案寫在作答卷上】

澎湖縣立文光國民中學 109 學年度第一學期第 2 次成績評量八年級數學科試題卷

班級：_____ 座號：_____ 姓名：_____ 得分：_____

一、選擇題(每題 4 分，共 44 分)

- () 1. 下列何者是最簡根式？(A) $\frac{2}{9}\sqrt{7}$ (B) $\sqrt{75}$ (C) $\frac{3}{\sqrt{6}}$ (D) $\sqrt{\frac{5}{19}}$ 。
- () 2. 下列何者不是 $\sqrt{3}$ 的同類方根？(A) $\sqrt{12}$ (B) $\frac{1}{3}\sqrt{24}$ (C) $\frac{6}{\sqrt{3}}$ (D) $\sqrt{16\frac{1}{3}}$ 。
- () 3. 若 $\sqrt{53-a}$ 為正整數，則 a 可能是下列哪一個數字？(A) 15 (B) 16 (C) 17 (D) 18。
- () 4. 如右圖，已知正方形 $ABCD$ 的邊長為 $\sqrt{2}$ 公分，求對角線 \overline{BD} 的長度—？(A) 5 公分 (B) 4 公分 (C) 3 公分 (D) 2 公分。
- 
- () 5. 若 $a = \sqrt{3} + 2$, $b = \frac{1}{\sqrt{3}-2}$, 則 a 與 b 的關係為下列何者？(A) 相等 (B) 互為倒數 (C) 乘積為 -1 (D) 互為相反數
- () 6. 已知 A 、 B 兩個多項式，其中 $A = (2x+3)(3x-1)$ 、 $B = (3x-1)(4x-3)$ ，試問下列各多項式中，哪個是 A 與 B 的公因式？(A) $x-3$ (B) $3x-1$ (C) $2x+3$ (D) $4x-3$ 。
- () 7. 下列各多項式中，哪個是 $(3x+1)^2$ 和 $(3x+1)(x+5)$ 的公因式？(A) $(3x+1)(x+5)$ (B) $(3x+1)^2$ (C) $x+5$ (D) $3x+1$ 。
- () 8. 若一個二次多項式可因式分解成 $(2x-a)(x+b)$ ，則此二次多項式的一次項係數為何？(A) $-a+2b$ (B) $a-2b$ (C) $a+2b$ (D) $2a+b$ 。
- () 9. 若 $195x^2+4x-4$ 可因式分解成 $(15x+a)(bx+c)$ ，其中 a 、 b 、 c 均為整數，則下列敘述何者錯誤？(A) b 是 195 的因數 (B) 4 是 c 的倍數 (C) a 、 c 是異號數 (D) $ab > 15c$ 。
- () 10. 下列哪一個式子的因式分解是正確的？(A) $3x^2+22x+7 = (x+7)(3x+1)$ (B) $x^2-14x+32 = (x-2)(x-16)$ (C) $2x^2-4x+12 = (2x-3)(x-4)$ (D) $x^2-5x-6 = (x+3)(x-2)$ 。
- () 11. 4. 已知 P 、 Q 、 R 三個多項式，其中 $P = (x+1)(x-2)$ 、 $Q = (x+2)(x-3)$ 、 $R = 2x^2-4x$ ，則下列選項中何者有一次公因式？(A) P 、 Q (B) Q 、 R (C) P 、 R (D) 以上皆無。

二、計算題(每題 3 分，共 36 分)

1. 計算下列各式的值，並化為最簡根式：(12%)

(1) $\frac{\sqrt{5}}{2} \times (-\frac{\sqrt{2}}{5})$	(2) $\sqrt{12} + \sqrt{18} - \sqrt{27} + \sqrt{50}$	(3) $(-\sqrt{6}) \times \frac{\sqrt{1}}{3} \div (2\sqrt{2})$	(4) $\frac{1}{\sqrt{2}+\sqrt{3}} + \frac{2}{\sqrt{5}+\sqrt{3}} + \frac{3}{2\sqrt{2}+\sqrt{5}}$
---	---	--	--

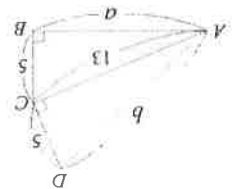
2. 因式分解下列各式(24%)

(1) $(x-6)(2x+4)-(6-x)^2$	(2) $25y^2-120y+144$	(3) $2(3x+1)^2-50$	(4) x^2+x-56
(5) $(x-3)(x-2)-(x-4)(2-x)$	(6) $x^2-8x+15$	(7) $60x^2-6x-18$	(8) $-5x^2+36x-7$

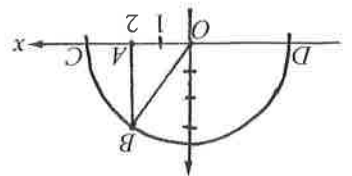
三、應用問題(共20分)

1. 若3、4、 x 是直角三角形的三邊長，則 x 可能值為何？(4%)

2. 如圖，求出下列各線段長 a 、 b 、 c 、 d 所代表的值。(8%)



3. 在一直角坐標平面上，花花連接 $O(0, 0)$ 、 $A(2, 0)$ 、 $B(2, 3)$ 三點，畫出直角 $\triangle AOB$ ，接著再以 O 為圓心， OB 為半徑畫弧，與 x 軸正向交於 C 點、與 x 軸負向交於 D 點，如圖。(4%)
則：(1) C 點的坐標為多少？ (2) CD 的長度為多少？



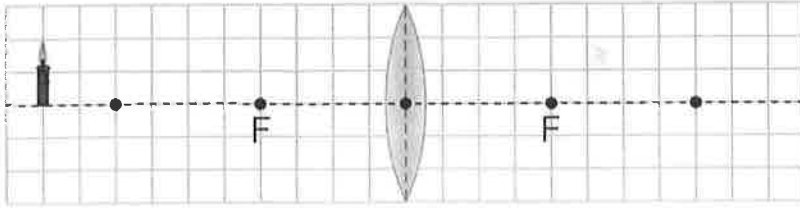
4. 若 $x-2y-3=0$ ，則 $x^2-4xy+4y^2-6x+12y+5=?$ (2%)

5. 若 $2x+3y=\sqrt{11}-\sqrt{3}$ ， $5x-2y=\sqrt{11}+\sqrt{3}$ ，則 $100x^2+110xy-60y^2=?$ (2%)

班級： 座號： 姓名： 得分：

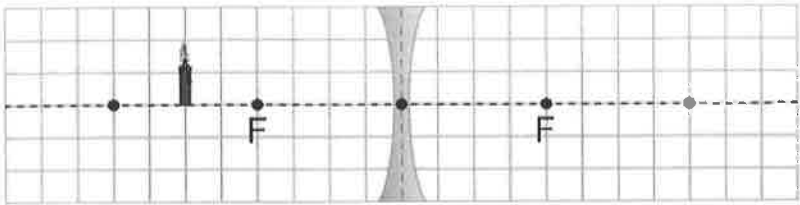
一、作圖題 (每題 3 分，共 6 分)：試利用透鏡的兩條特殊光線，

畫出蠟燭在以下不同位置時的成像，並勾選成像性質



1. 凸透鏡：2 倍焦距外

- 實像 虛像
正立 倒立
放大 縮小 等大



2. 凹透鏡：焦距~2 倍焦距間

- 實像 虛像
正立 倒立
放大 縮小 等大

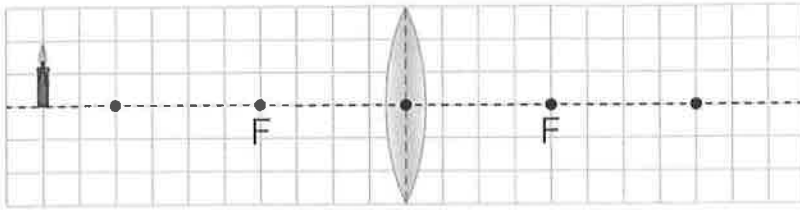
二、單選題 (每題 2 分，共 74 分，請將答案依序填入下表中)

1.	2.	3.	4.	5.	6.	7.	8.	9.	10.
11.	12.	13.	14.	15.	16.	17.	18.	19.	20.
21.	22.	23.	24.	25.	26.	27.	28.	29.	30.
31.	32.	33.	34.	35.	36.	37.			

三、填充題 (共 20 分，每格 2 分)

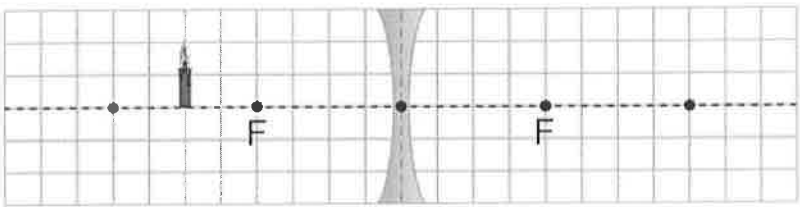
A	B	C	D	E
F	G	H	I	J

一、作圖題 (每題 3 分, 共 6 分): 試利用透鏡的兩條特殊光線, 畫出蠟燭在以下不同位置時的成像, 並勾選成像性質



1. 凸透鏡：2 倍焦距外

- 實像 虛像
正立 倒立
放大 縮小 等大

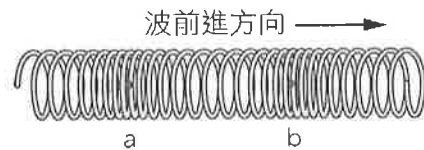


2. 凹透鏡：焦距~2 倍焦距間

- 實像 虛像
正立 倒立
放大 縮小 等大

二、單選題 (每題 2 分, 共 74 分)

1. () 使一彈簧沿其長度方向, 來回振動後產生的彈簧波如右圖所示, 則下列敘述何者**錯誤**?
 (A) a、b 兩點間的距離為一個波長
 (B) 當波向前傳播時, 彈簧也隨波向前移動
 (C) 能量沿圖中箭頭所指方向, 朝右方傳播
 (D) 所產生的波為縱波。



2. () 下列有關聲音的敘述, 何者正確? (A) 在空氣中傳播的聲波是一種橫波 (B) 聲音只能在空氣中傳播 (C) 聲音在空氣中傳播時, 空氣隨聲波前進 (D) 聲音在空氣中傳播時, 空氣隨聲波振動。

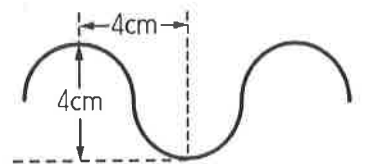
3. () 沛沛帶狗狗散步時, 狗狗不小心跑到遠方, 於是使用犬笛發出哨音來呼喚狗狗回來, 但沛沛卻聽不見哨音。試根據附表數據, 判斷該哨音的頻率可能為多少赫?
 (A) 10 (B) 1000 (C) 30000 (D) 300000。

動物	聽覺頻率範圍
人	20~20000 Hz
狗	50~50000 Hz

4. () 小提琴的旋律輕快流暢, 長笛的音色優雅純淨, 喇叭的聲音宏亮有力。有關這些樂器發聲的特性, 下列敘述何者正確? (A) 若小提琴的音調最高, 代表其頻率最低 (B) 長笛只能發出單一頻率的聲音, 其波形最單純規律 (C) 喇叭聲音的響度大小與其振幅成反比 (D) 三種樂器的聲音在空氣中傳播速率是一樣的。

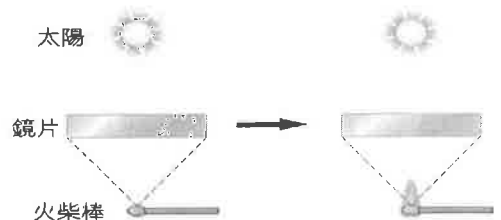
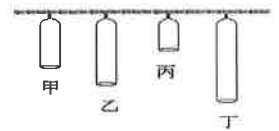

5. () 下列有關波動的敘述, 何者**錯誤**? (A) 繩波、聲波分別屬於橫波、縱波 (B) 根據介質被傳遞出去的方向分成橫波跟縱波 (C) 波動在傳遞能量的同時, 介質會產生振動 (D) 地震也是波傳遞的一種情形。

6. () 如附圖, 一波動之頻率為 5 赫, 若波峰至波谷的水平距離為 4 公分, 垂直距離為 4 公分, 當波上的介質分子每做一次完整的振動時, 波行進的距離總共為多少公分? (A) 4 (B) 6 (C) 8 (D) 10。



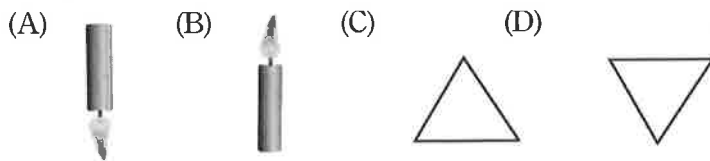
7. () 在 25 °C 的空氣中, 敲擊頻率分別為 100 Hz 的甲音叉與 300 Hz 的乙音叉, 已知甲音叉所發出的聲音波長為 3.4 公尺, 則兩音叉之速率比為何?
 (A) 1 : 3 (B) 3 : 1 (C) 1 : 1 (D) 4 : 1。

8. () 下列關於聲波的產生與傳播性質的敘述何者並非完全正確? (A)蝴蝶振翅慢、蚊子振翅快，證明：物體振動頻率越快，人耳越能聽見 (B)將空氣自一密閉容器中抽出，容器內的電鈴聲會漸漸消失，證明：空氣需要靠介質傳播 (C)將一發出聲音的音叉放入水中，水面會激起水花，證明：聲音的產生需要物體快速振動 (D)趴在鐵軌上會比在空氣中更早聽到來自火車的聲音，證明：聲音的速度會依介質種類而改變。
9. () 小明與小華分別在金屬圍籬的兩端。小華將耳朵貼在圍籬上，當小明用力敲打圍籬一下時，小華在另一端聽到第一次聲響後，經 0.7 秒鐘後又聽到第二次聲響。已知空氣中的聲速為 340 公尺/秒，而此金屬圍籬中的聲速為 5100 公尺/秒，則此圍籬長度為多少公尺?
(A)238 (B)255 (C)3332 (D)3570。
10. () 如果看見閃電之後，經過 6 秒鐘才聽見雷聲，請估計發生閃電處距離觀測的地點大約多少公尺?(假設當時聲速為 343 m/s) (A)2058 (B)2040 (C)1029 (D)570。
11. () 如附圖是臺中科學博物館千里傳音示意圖，圖中可表示出聲音的哪一個現象? (A)反射 (B)折射 (C)漫射 (D)共振。
12. () 自海平面垂直向下發出 25000 赫的超聲波，2 秒後收到回聲，則海底深度為多少公尺?(假設海中聲速為 1500 m/s) (A) 150 (B) 750 (C) 1500 (D) 3000
13. () 一般大型的音樂廳或歌劇院，如何消除回聲的干擾? (A)空間挑高，加寬加大 (B)四周牆壁掛吸音板或絨布幔 (C)將四周牆壁處理平整且無瑕疵 (D)使用麥克風增加音量。
14. () 將一金屬管切割成長短不同的四段，並懸掛在天花板下，如附圖，若用錘子敲打時，哪一根管子發出的聲音會最低? (A)甲 (B)乙 (C)丙 (D)丁。
15. () 下列關於聲音的敘述，何者錯誤? (A)樂器引起空氣的振動越大者，聲音越強 (B)響度的大小，取決於頻率的高低 (C)聲音傳得越遠，振幅越小，頻率不變 (D)大部分的樂器都有共鳴箱，其目的在增強聲音的音量。
16. () 電影「十面埋伏」中有一個橋段「仙人指路」，盲眼的女主角可依照音色不同來判別此聲音來自於哪一個鼓，試問「音色」不同是指聲波的哪一個特性不同? (A)波形 (B)波速 (C)強弱 (D)悅耳程度。
17. () 下列有關光傳播的敘述，何者正確? (A)光在真空中無法傳播 (B)光在不同物質中傳播速率均相同 (C)影子的形成為光直線傳播的結果 (D)水中倒影為光直線傳播的結果。
18. () 光入射到凹凸不平的水泥牆表面並發生反射時，其入射角和反射角的大小關係為何?
(A)入射角大於反射角 (B)入射角等於反射角 (C)入射角小於反射角 (D)視水泥牆表面的凹凸情況而定。
19. () 夏日晴天正午時分，沛沛取一鏡片置於未點燃火柴棒正上方，發現火柴棒上有一個小亮點，不久後火柴棒燒了起來，如右圖所示。則下列敘述何者正確?
(A)鏡片為凹透鏡，火柴棒的起火點位於透鏡焦點內 (B)鏡片為凸透鏡，火柴棒的起火點位於透鏡焦點內 (C)鏡片為凹透鏡，火柴棒的起火點位於透鏡焦點上 (D)鏡片為凸透鏡，火柴棒的起火點位於透鏡焦點上。
20. () 下列有關眼睛與眼鏡的敘述，何者正確? (A)眼睛中的水晶體構造相當於凸透鏡 (B)近視眼是指較遠處的物體成像在視網膜後方 (C)水晶體的焦距過短會導致遠視眼 (D)近視眼可配戴適當焦距的凸透鏡來補救。

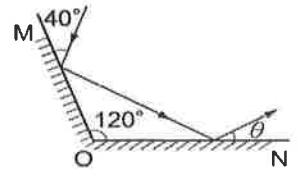


21. () 陽光下番石榴會顯現綠色，是因為番石榴的表面具有下列哪一種特性？ (A)吸收綠光 (B)反射綠光 (C)折射綠光 (D)發出綠光。

22. () 阿正利用如右圖的裝置，作針孔成像實驗，若阿正在杯底鑽一個三角形(▲)的小孔，則在紙屏上的成像應為下列何者？

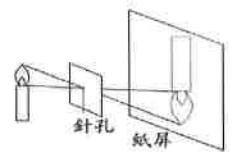


23. () 右圖為光線反射之示意圖，兩鏡面夾角為 120° ，有一光線射向鏡面，且與鏡面之夾角為 40° ，則角度 θ 為多少度？ (A) 20 (B) 40 (C) 50 (D) 60



24. () 下列哪些現象跟光線的直進性有關？甲.皮影戲；乙.雨後的彩虹；丙.太陽光透過樹葉縫隙所形成的圓形亮點；丁.游泳池的水深比實際看到的還要深；戊.立竿見影 (A)乙丁戊 (B)甲乙丙 (C)甲丙戊 (D)甲丙丁。

25. () 附圖為針孔成像的實驗裝置，當針孔向右移動時，紙屏上的像有何改變？ (A)放大 (B)縮小 (C)不變 (D)先縮小再放大。

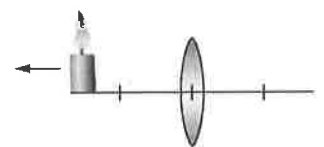


26. () 當太陽光由窗外射進屋內時，我們可以看到空氣中的灰塵飛揚，原因是： (A)灰塵有顏色 (B)灰塵太黑了 (C)灰塵吸收太陽光 (D)灰塵反射太陽光。

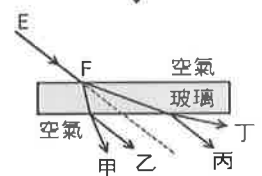
27. () 手電筒、車燈可以照得很遠是因為光源裝在哪種鏡面前？ (A)平面鏡 (B)凸面鏡 (C)凹面鏡 (D)凹凸面鏡。

28. () 如果有一個沒有數字的指針時鐘，在平面鏡中的時間是2時40分，請問時鐘正確的時間為何？ (A)2時40分 (B)9時20分 (C)9時40分 (D)10時20分。

29. () 一蠟燭放在凸透鏡一倍焦距外，如右圖所示，今若將蠟燭往左移動，試問成像將如何變化？ (A)像往右移動，變大 (B)像往右移動，變小 (C)像往左移動，變大 (D)像往左移動，變小



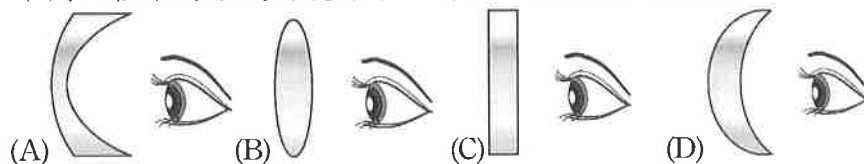
30. () 如附圖所示，入射光線EF經過一置於空氣中的長方形透明玻璃後折射，其行進路徑應為下列何者？ (A)甲 (B)乙 (C)丙 (D)丁。



31. () 阿群買了一支愛瘋14的手機，手機上面鏡頭的焦距最短為10cm，阿群如果想拍攝近物，則物體與鏡頭間，最少需要多遠以上的距離呢？ (A) 5cm (B) 10cm (C) 15cm (D) 20cm。

32. () 利用複式顯微鏡所見到的影像是何種像？ (A)正立放大虛像 (B)倒立放大虛像 (C)正立放大實像 (D)倒立放大實像。

33. () 下列四種不同形式的鏡片中，何者可用以矯正近視眼？



34. () 阿俊在白紙上畫了一幅「紅日」、「藍雲」、「綠山」的圖送給爺爺，如附圖所示，而調皮的小原拿著發出紅色光的手電筒照射，則爺爺所看的圖應為下列何者？



- (A) (B) (C) (D)

35. () 阿宣分別將紅、橙、黃、綠、藍、靛、紫七種色光照射綠色植物，研究色光對植物生長的影響，結果在哪種色光的照射下生長情形最差？ (A)紅光 (B)綠光 (C)紫光 (D)藍光。

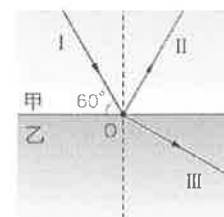
36. () 因為老花眼，所以爺爺在看報紙的時候都必須拿一個放大鏡才能看得比較清楚，試問在報紙上的一個英文字母「P」，透過放大鏡無法看到下列哪一個像？

- (A) (B) (C) (D)

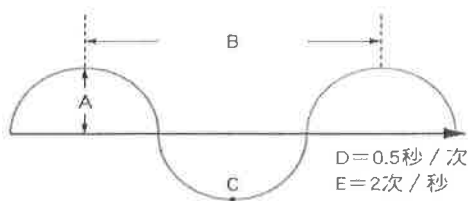
37. () 子婕中午躺在校園中一棵枝葉茂密的榕樹下，發現樹蔭裡有許多亮亮的小圓點，關於此小亮點的敘述，何者正確？ (A)因光的反射，樹葉縫隙所產生的像 (B)因光的折射，樹葉縫隙所產生的像 (C)因光的反射，太陽所產生的像 (D)因光的直進，太陽所產生的像

二、填充題：(每格 2 分，共 20 分)

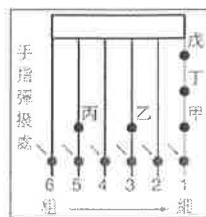
- 火車巡軌員趴在鐵軌上聽到火車自鐵軌傳來聲響後，經過 21 秒才聽到火車自空氣傳來的聲音，已知在當時環境下，聲音在空氣中的速度為 340 m/s，在鋼鐵中的速度為 5100 m/s，則巡軌員一趴下來時，火車距離他多遠？ A 公尺。
- 請依據圖一填入正確的名稱：(1) 圖中「A」代表 B；(2) 圖中「D」代表 C。
- 圖二為吉他的六條弦線，且每條弦鬆緊度一樣。手指固定在每條弦的紅點處彈撥，則另一手在甲、乙、丙三個位置，發出的音調由高到低依序為 D。
- 一雷射光束由甲介質斜射向乙介質，在兩交界面上同時發生反射與折射，如圖三，請問：
 - 入射角等於 E°；(2) 折射線為 F (填 I、II、III)；
 - 光在甲介質中行進速率 G 光在乙介質的行進速率。(填 >、=、<)
- 用複式顯微鏡觀察草履蟲時，發現牠即將向右上方向出視野，時，玻片應向 H 方移動。
- 當物體由遠處逐漸靠近時，眼睛水晶體的焦距將會隨著逐漸變長、變短或是維持不變呢？ I
- 將紅、藍、綠三種顏色的玻璃紙疊在一起，包住一發出白光的日光燈，則哪些色光可以透出呢？ J。



射與折射，
III)；
>、=、
時，玻片應



圖一



圖二

圖三

澎湖縣立文光國民中學 109 學年度第 1 學期 第 2 次成績評量 8 年級地理科試卷

班級：_____ 姓名：_____ 座號：_____ ■ 讀卡 □ 答案卷

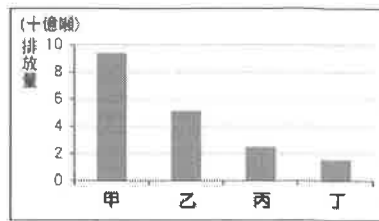
一、單一選擇題（十五題，每題 2 分，共 30 分）

1. () 中國在一九八〇年代實施經濟改革開放後，陸續於東南沿海設立經濟特區，當時因具備哪些優勢，能吸引外商投資，成功帶動經濟發展？(甲)廉價勞力 (乙)便利交通 (丙)管理經驗 (丁)優惠條款 (戊)豐富礦產 (A)甲乙丙 (B)甲乙丁 (C)乙丙丁 (D)丙丁戊。
2. () 「該礦產提供山西省一半以上的財政收入，可說是山西的經濟之本。」請問：該礦產指的是下列何者？(A)鐵礦 (B)銅礦 (C)煤礦 (D)石油。
3. () 中國經濟快速成長，「中國製造」的產品在世界市場占有重要位置，這可說明下列何者是中國貿易收入的最主要來源？(A)重工業 (B)運輸業 (C)出口貿易 (D)進口貿易。
4. () 下列哪一個經濟帶人口眾多，對外交通便利，進出口貿易發達，科技產業密集且居民文教水準較高，是中國經濟發展的核心地區？(A)東部經濟帶 (B)中部經濟帶 (C)西部經濟帶。
5. () 臺灣在一九七〇年代末期後，由於生產條件的改變，許多紡織、製鞋等類型工廠紛紛遷往中國設廠，形成一波波的臺商潮。請問：早期遷往中國設廠的企業，主要考量的因素為下列何者？(A)市場廣大 (B)交通便利 (C)礦藏豐富 (D)工資低廉。
6. () 早期有句順口溜說：「寧要浦西一張床，不要浦東一間房」，現在則是「浦東一年一個樣，三年變大樣」。下列有關上海發展的敘述何者正確？(A)浦東以發展能源密集度高的產業為主 (B)帶動了周圍的地區發展，形成珠三角經濟圈 (C)浦東新區有許多大型建設，如浦東機場與迪士尼樂園 (D)浦西地區世上海近年急速發展的地帶，商業興盛。
7. () 中國為解決華北日益嚴重的缺水問題，在二十世紀末期展開南水北調工程，將哪一條河川的水資源引入黃河流域？(A)長江 (B)海河 (C)淮河 (D)珠江。
8. () 附圖為近年來中國相當普及的商業消費支付方式，此類支付方式的蓬勃發展需要有下列哪一個環境支持？(A)發達的電子金融系統 (B)民主開明的政策制度 (C)發展興盛的國際貿易 (D)廣大遼闊的國土面積
9. () 中國排放大量廢氣，也進而影響臺灣、南韓、日本的空氣品質。這些空氣中的污染物質主要經由下列何者飄向受影響的國家？(A)夏季季風 (B)冬季季風 (C)夏秋颱風 (D)春季龍捲風。
10. () 中國在一帶一路的開發和出資，幾乎都是史詩般的工程和創舉。這些四通八達的交通網路中，除了能增加國際貿易幫中國賺錢外，下列哪一個因素也是中國實施此政策的最主要目的？(A)提高社會增加率 (B)擴大文化影響面 (C)發展手機通訊業 (D)增加國際影響力。
11. () 長江沿岸地帶工商業發達，尤以長江三角洲最為富庶，其主要的優勢不包括下列哪一項？(A)氣候溫和溼潤 (B)水陸交通便利 (C)勞力十分充足 (D)最早對外開放。



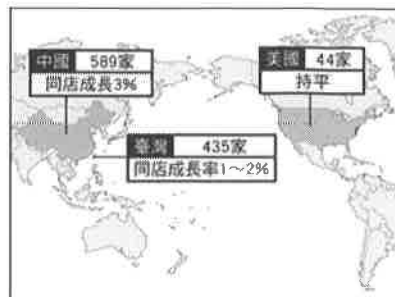
【第 1 頁結束—背面尚有試題】

12. () 附圖為西元 2018 年全球二氧化碳量排名前四的國家之數據資料。其中有「世界工廠」及「世界市場」之稱的國家應為下列何者？ (A)甲 (B)乙 (C)丙 (D)丁。



13. () 「近年來中國積極發展與南韓及日本的經貿關係，其中環渤海地區的都市因距離這些國家較近，是中國規畫的發展區。」上文提及的環渤海地區都市不包括下列何者？ (A)北京 (B)大連 (C)天津 (D)上海。

14. () 85 度 C 是從臺灣起家的連鎖咖啡麵包業。附圖為該集團西元 2018 年在全球三大國家的分店數量，其中中國該年度的銷售金額占集團總金額 62%，達 150 多億臺幣。當初選擇前往中國投資主要是該國的哪一種優勢？ (A)工資低廉 (B)市場廣大 (C)原料豐富 (D)技術優異。



15. () 中國為了加快了西部地區經濟發展，縮小與東部地區的發展差距，努力推廣觀光旅遊產業。中國四大重點工程中，何者對促進西部的旅遊業助益最大？ (A)西氣東輸 (B)南水北調 (C)西電東送 (D)青藏鐵路。

二、題組(五題，每題 1 分，共 5 分)

(一)西元 1997 年，許多國家為遏止全球暖化趨勢，於日本簽署《京都議定書》，當時中國因工業剛開始發展，被視為開發中國家，沒被賦予相應責任。請問：

16. () 西元 2015 年，多數聯合國的成員國為了遏止全球暖化趨勢，而在下列哪一個地方簽署協定，訂定更明確的目標以取代《京都議定書》？ (A)倫敦 (B)巴黎 (C)紐約 (D)東京。

17. () 在有關氣候變遷的國際環境公約簽署上，中國的態度往往顯得消極，其主要原因為何？ (A)土地資源有限，無法遷移工廠 (B)環保團體抗爭，導致工廠生產停頓 (C)為了爭取本土企業家支持，無法讓外國環保工廠入駐 (D)為了維持經濟高度成長，無法立即改變生產模式。

(二)「一帶一路」是中華人民共和國政府於西元 2013 年倡議並主導的跨國經濟帶。其範圍涵蓋歷史上絲綢之路和海上絲綢之路行經的中國、中亞、北亞和西亞、印度洋沿岸、地中海沿岸、南美洲、大西洋地區的國家。附圖為「一帶一路」路線示意圖。請問：



18. () 由圖中可知「一帶」從中國出發，沿著陸上絲綢之路以下列哪一個洲為終點？ (A)歐洲 (B)非洲 (C)美洲 (D)大洋洲。

19. () 中國和「一帶一路」上的國家經濟合作，主要以下列何者作為外交手段？ (A)投資貸款 (B)石油供應 (C)勞力提供 (D)穀物供給。

20. () 「一帶一路」的經濟合作導致下列何種結果？ (A)美洲的穀物生產不足 (B)美國的友邦逐漸喪失 (C)英國的油田被中國搶奪 (D)參與的國家欠下大量債務。

【第 2 頁結束—背面尚有試題】

澎湖縣立文光國民中學 109 學年度第 1 學期 第 2 次成績評量 8 年級公民科試卷

班級：_____ 姓名：_____ 座號：_____ ■ 讀卡 □ 答案卷

一、單一選擇題(十五題，1~10 題每題 2 分，11~15，每題 1 分，共 25 分)

21. () 地方政府推動國民教育、社會教育，舉辦各種藝文活動等，這是屬於地方政府的何種自治事務範圍？ (A)社會服務 (B)經濟發展 (C)教育文化 (D)安全衛生。
22. () 地方政府修造道路，提供人民更便利的生活，這是屬於地方政府的哪一項自治事務？ (A)安全衛生 (B)教育文化 (C)經濟發展 (D)社會服務
23. () 關於中央與地方的權限劃分，具有因地制宜性質的事務由地方負責。依此規定，地方政府具有哪些權力而設有行政機關與立法機關？ (A)司法權、考試權 (B)考試權、行政權 (C)行政權、立法權 (D)立法權、司法權。
24. () 我國現行地方自治組織，分為直轄市、縣(市)、鄉(鎮、市)。經行政院審定通過六個縣市改制升格案後，下列哪組屬同一層級？ (A)臺北市、新北市、桃園市 (B)基隆市、嘉義市、彰化市 (C)臺南市、臺中市、彰化市 (D)桃園市、臺南市、花蓮市。
25. () 老師請同學分析，國家為何要設立各級地方政府來推動地方自治？下列四位同學的說法，何者最為正確？ (A)君君：地方層級愈多，政府效率愈高 (B)小龍：地方政府愈多，就業機會愈多 (C)芳芳：有利提升中央政府政績以爭取連任 (D)大雄：可針對不同地區的需要提供服務。
26. () 阿偉在校外教學時參觀某市議會，下列各項事務，何者是他在議場中不會看到的？ (A)審查市政府提出的教育預算 (B)質詢市政府教育處處長 (C)對市政府的不當施政提出糾正案 (D)審查發展觀光產業的各項地方法規。
27. () 依照《地方制度法》，新北市烏來區為直轄市山地原住民區。下列關於「烏來區」的敘述，何者正確？ (A)為行政院的派出機關 (B)行政機關為新北市政府 (C)立法機關為烏來區民代表會 (D)烏來區公所負責審議地方法規與預算。
28. () 【甲】透過團體的力量，採取共同行動對政府形成壓力，企圖影響政策的制定，故又稱「壓力團體」。上述的【甲】是指下列何者？ (A)政黨 (B)利益團體 (C)民意代表 (D)部落聯盟。
29. () 一直以來民眾對於食品安全議題的關注度都相當高，疫情的影響更使得像是外送平臺這樣的宅經濟，開始變成許多民眾生活的習慣，現在幾乎可以看到外送員在路上滿街跑。針對外送食安的問題，議員呼籲政府正視民眾共同面對的問題，政府應儘速訂定規範詳細管理。上述議員呼籲政府正視民眾共同關心外送食安的問題，呈現了公共意見的何種特性？ (A)議題性 (B)複雜性 (C)影響性 (D)變動性。
30. () 臺北市政府為落實「開放政府 全民參與」理念，推出 i-Voting 網路投票平臺，針對一些市政議題，在網路上讓市民進行投票。上述臺北市政府的目的是希望能制訂符合多數民眾意見的政策，以顯示民意的哪一項特性？ (A)議題性 (B)影響性 (C)複雜性 (D)變動性。
31. () 依照我國《憲法》，中央政府與地方政府若發生權限劃分的爭議，須交由下列哪一個機關處理？ (A)立法院 (B)總統府 (C)考試院 (D)行政院。

【第 3 頁結束—背面尚有試題】

32. () 關於中央與地方的權限劃分，具有因地制宜性質的工作，是屬於地方政府的職權。下列何者不是地方自治的工作範圍？ (A) 充實國防軍備 (B) 加強就業輔導 (C) 辦理社會救濟 (D) 推動都市計畫。
33. () 大選過後，天龍國的主要政黨得票情形為：A 黨 62%、B 黨 32%、其他 6%，A 黨成功翻轉新政局。而在政權完成交接後，A、B 兩黨的新角色依序為何？ (A) 執政黨，組織政府；在野黨，監督政府 (B) 在野黨，監督政府；執政黨，組織政府 (C) 執政黨，監督政府；在野黨，組織政府 (D) 在野黨，組織政府；執政黨，監督政府。
34. () 新聞報導：「國內多家傳播媒體共同舉辦政黨電視辯論會，希望讓選民藉由各政黨的理性辯論，了解各政黨理念與各項政策內容，達到深化民主的目的。」上述作法主要是想達成何種目的？ (A) 匯集民意與服務選民 (B) 提名候選人參與選舉 (C) 組織政府或監督政府 (D) 爭取選民支持，及增進民眾對公共事務的參與。
35. () 阿光為了專題報告而上網搜尋「直轄市山地原住民區」的資料，下列何者為正確的資訊？ (A) 臺灣每個直轄市都設有山地原住民區 (B) 直轄市山地原住民區並非地方自治團體 (C) 直轄市山地原住民區的區長由民選產生 (D) 直轄市山地原住民區的立法機關為區公所。

二、題組(五題，每題 1 分，共 5 分)

(一) 新聞報導：桃園市龜山區省道臺 1 縣上有一棵百年老樟樹，見證龜山地區發展史。日前地方團體發現老樟樹被圍上圍籬且遭斷根，通知農業局卻未得到合理的答覆，因此幾位市議員結合地方力量，要將老樹留下來。請回答下列問題：

36. () 依據我國《地方制度法》，桃園市與下列哪一個行政區的層級相同？ (A) 宜蘭市 (B) 苗栗市 (C) 嘉義市 (D) 新北市。
37. () 關於桃園市議會的職權，下列何者不屬之？ (A) 制定地方法規 (B) 監督行政機關施政 (C) 審議地方預算 (D) 推動地方自治工作。
38. () 桃園市農業局進行老樟樹維護工作的經費，應由下列何機關負責議決？ (A) 市政府 (B) 市議會 (C) 縣政府 (D) 縣議會。

(二) 超級颱風來襲，因為風狂雨急，各機關學校都停止上班上課。這次颱風引發土石流，帶來嚴重的災情，許多山區道路和橋梁都被沖毀，山中居民受困，沒有糧食可食用，必須派遣直升機空投食品或將居民撤離、安置。颱風遠離之後，政府趕緊派人搶修道路。請回答下列問題：

39. () 宣布因應颱風是否停止上班上課等事務，應由下列何者規畫辦理？ (A) 總統府 (B) 立法院 (C) 考試院 (D) 各地方政府。
40. () 派遣直升機空投食品或將居民撤離、安置等救災工作，是地方政府哪些方面的重要自治事務？ (A) 教育文化、經濟發展 (B) 教育文化、社會服務 (C) 經濟發展、安全衛生 (D) 安全衛生、社會服務。

【第 4 頁結束—背面尚有試題】

- ()54. 十四世紀被譽為「最偉大的旅行家」的伊本·巴杜達到中國時，竟在當地遇到一位舊識——來自印度的布什里。想當年，布什里因為年輕又聰慧而被巴杜達推薦給印度統治者，沒想到布什里卻婉拒了統治者的聘任，決定前往中國。如今於中國再度相見，他已經事業有成，生活富足。像布什里這般在中國落地生根的穆斯林並不算少數，這是因為穆斯林多半具有何特質，令中國的統治者願意禮遇他們，覺得會是統治上很有力的助手？ (A)強悍的騎術武功 (B)謹慎的處事態度 (C)堅忍不拔的毅力 (D)豐富的理財知識。歷史老師說：
- ()55. 歷史老師上課時配合課程播放一部電影，內容描述一名勇敢的領導者及其子孫，率領著部族軍隊不斷向外征戰，最終建立人類歷史上最大的帝國。請問：這名領導者可能有何作為？(A)消滅六國，建立第一個大一統帝國(B)罷黜百家，透過儒家思想鞏固統治(C)統一部族，建立蒙古國並展開西征(D)攻滅宋朝，劃分階級實施差別統治。

二、題組(每題2分，共10分)

1. 請閱讀短文，回答下列問題：

西元1004年，遼國的蕭太后親自率軍南下，直撲黃河沿岸的澶州，距離首都汴京已不遠，消息傳到朝廷內，朝野震驚，多數大臣主張遷都南移，唯獨宰相寇準認為皇帝親征才能扭轉局勢。

皇帝在催促下，終於親臨戰地，並登上澶州北城門樓，加上遼軍大將已被射殺，軍隊士氣大振，遼軍便派人轉達想罷兵息戰的意願。宰相寇準與部分官兵認為遼國已是強弩之末，應該趁勝追擊，但皇帝卻急於求和，雙方簽下「澶淵之盟」。

其內容如下：

1. 雙方互為兄弟之國。
 2. 每年給遼國銀十萬兩，絹二十萬匹。
 3. 雙方於邊境設置榷場(由官方管理的貿易)，開展互市貿易。
- 而兩國遵守盟約至少達百餘年。

- ()56. 請問上文中的「皇帝」應該是下列何人？ (A)唐太宗 (B)宋太祖 (C)宋真宗 (D)北魏孝文帝。
- ()57. 從盟約中的內容可知，雙方的關係為何？ (A)建立不對等的外交體系 (B)以財物換取和平的關係 (C)透過其他國家達成協議 (D)貿易關係僅對一方有利。
- ()58. 根據史實，最後兩國的關係由於何族的介入產生變化？(A)契丹 (B)蒙古 (C)阿拉伯 (D)女真。

2. 西元2017年8月一則新聞報導：

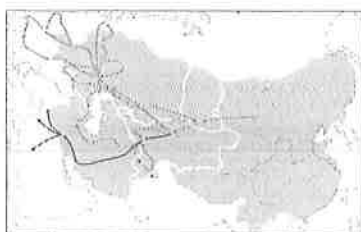
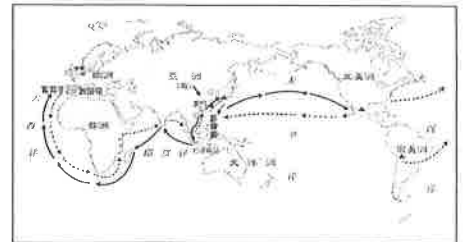
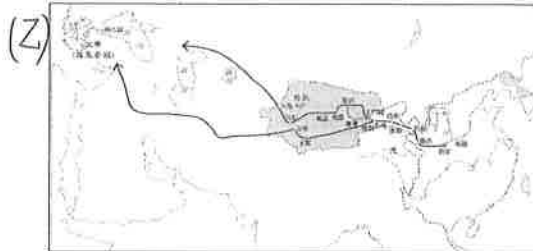
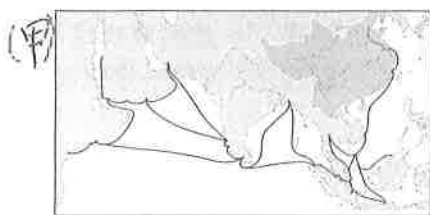
- ()59. 請問，以你所學的歷史知識，應如何看待此新聞報導？ (A)唐帝國對外貿易興盛，許多國家自海外來華貿易 (B)宋元時期，海上貿易發達，政府鼓勵移民 (C)明初頒布渡臺禁令，促成許多居民前往海外發展 (D)鄭和下西洋的成果，意外打通南洋與印度洋航線。

< 非洲發現中國血緣遺骸 >

西元2017年8月初，由中國、美國和肯尼亞的考古學家組成的團隊，在肯尼亞拉穆縣的曼達島挖掘出了擁有中國血緣的人骨遺骸。

發現的這些人骨遺骸，具有東亞人獨有的鑿形門齒，同時經DNA技術鑒定，均具有中國血緣，雖然出土這幾具遺骨的墓葬沒有發現隨葬品，但是在島上發現了不少中國瓷器以及貨幣。曼布魯伊遺址出土的中國銅錢上頭刻有「永樂通寶」四字。

- ()60. 請問，此新聞報導與下列哪一路線圖關係密切？(A)甲(B)乙(C)丙(D)丁。



(J)

【試題結束—文光八年級、歷史科】

澎湖縣立文光國民中學 109 學年度第 1 學期第 2 次成績評量 8 年級歷史科試卷

班級： 姓名： 座號： 讀卡 答案卷

一、 單選題(41~50 題，每題 1.5 分，51~55 題，每題 2 分；共 25 分)

- () 41. 唐代為了因應國際海上貿易的發展，開始在港口設置「市舶司」，主要功能為檢察入港貨物與徵稅。請問：此單位的職權與今日的哪一個機構相當？(A)海軍司令部(B)海關(C)移民署(D)海巡署。
- () 42. 右圖為中國歷史上某一史事的相關內容，根據內文判斷，該史事最可能是下列何者？(A)鄭和下西洋 (B)台灣開港通商 (C)日本下令鎖國 (D)清世宗下令禁教。
- () 43. 明朝中期與清朝初期，中國政府都曾實施海禁政策，這分別是用來防範哪些對象？(A)流寇，女真人 (B)蒙古，契丹人 (C)流寇，西方傳教士 (D)倭寇，鄭氏政權。
- () 44. 關於永嘉之禍與靖康之禍的比較，下列敘述何者正確？(A)兩者均使國家領土往北遷移，定都現今北京市 (B)兩者均使皇帝被外族所擄，國家滅亡 (C)兩者均令愛國之士致力北伐，終至救回皇帝 (D)兩者結束後新即位的君主，均有賢能的宰相輔政。
- () 45. 悅悅計畫寫一篇小論文，向圖書館借閱的書籍中有右方幾張圖片：請問：悅悅的小論文主題最可能與何者相關？(A)鄭和下西洋 (B)耶穌會傳教士東來(C)明清帝國的朝貢貿易(D)漢人海商的貿易網路
- () 46. 十四世紀的義大利商人在商業旅行手冊中寫道：「不管是白天還是夜晚，到中國去的旅行之路都是絕對安全的。商旅們可以在花刺子模用麻換取銀錠，然後到中國時再兌換成紙幣，以購買絲綢。」彥仁想為此手冊增加補充說明，下列何者是他應該選擇的內容？(A)義大利商人來自南歐，到中國後會被歸為「南人」(B)十四世紀的陸路安全，是因為當時蒙古帝國沿路設立「市舶司」(C)在被蒙古征服的城市當中，花刺子模位處最西方 (D)十四世紀時中國所使用的紙幣名為「寶鈔」。
- () 47. 文天祥於蒙古滅南宋時被擄至元朝首都，在獄中作〈正氣歌〉以明其愛國之心。文天祥常上殿和元朝皇帝辯論中華文化存續問題，皇帝對其志氣才學讚賞有加，無奈他仍難逃被處死的命運。請問：下列敘述何者正確？(A)文天祥被關於今日南京市 (B)與文天祥論辯的皇帝為鐵木真 (C)南宋被滅的史事即為靖康之禍 (D)文天祥被擄前，西夏與金國已被蒙古所滅。
- () 48. 明朝海上貿易興盛之後，購買絲綢的資金大量流入，這些資金主要以哪種貨幣為主？(A)銅錢 (B)紙鈔 (C)白銀 (D)黃金。
- () 49. 元朝時，來自福建的大雄經過數年的寒窗苦讀，赴京趕考。請問：他在準備科舉考試期間，最該研讀的是下列何人的著作？(A)朱熹 (B)岳飛 (C)畢昇 (D)忽必烈。
- () 50. 承上題，根據元朝的種族階級制度，請問大雄在當時應該是處於哪一個階級？(A)蒙古人 (B)色目人 (C)漢人 (D)南人。
- () 51. 自新航路發現後，對世界歷史的發展造成重大影響。下列何者是其對當時中國的影響？(A)為了購買美洲作物，白銀因而大量流出中國 (B)中國對外貿易增加，解決了走私貿易的問題 (C)中國沿海的居民開始大量移民到東南亞地區 (D)世界各地與中國的聯繫增強，貿易蓬勃發展。
- () 52. 鄭和七次下西洋象徵著明代發展朝貢貿易的重要時期，鄭和的船隊雖配備強大的武裝，但並不用武力，而是利用瓷器、絲綢、金屬貨幣等，交換各國的珍珠寶石、香料及珍禽異獸，藉此贏取各國的信任。許多國家在鄭和訪問後，派遣使團甚至是搭乘鄭和的船隻來中國「朝貢」，並與明代建立邦交及貿易往來。根據上述可知，明代在處理對外關係上，維持著什麼樣的態度？(A)平等對待 (B)天朝上國 (C)兼容並蓄 (D)有求必應。
- () 53. 歷史課堂上，同學們在討論某一朝代盛世的特色。甲同學：「此時君主的權力達到極盛，但在盛世的表象下，有一股嚴厲的政風。」乙同學：「朝廷表面上支持學術事業，不少讀書人卻因文字獄慘遭迫害。」丙同學：「這長達一百多年的盛世，在平定地方諸王的叛亂後，內部的統治愈見鞏固；對西北多次用兵，將今日的蒙古、新疆、西藏納入版圖。」請問：同學們所討論的是哪一個朝代？(A)宋代 (B)元代 (C)明代 (D)清代。



【第 1 頁結束 後面尚有試題】