

澎湖縣立文光國民中學一百零九學年度第一學期第二次段考國文科試題【題目卷】

九年 班 座號： 姓名：

讀卡 答案卷

一、國字注音：14%（共14字，每字一分）【請將答案寫在答案卷中，否則不予計分】

★請將下列各題「」中的國字寫上注音，注音寫上國字。

1. 油「ㄩㄛˊ」 2. 盜「ㄉㄠˋ」 3. 聰「ㄘㄨㄥ」 4. 縱虎出「ㄗㄨ」 5. 挑「ㄊㄧㄠ」
6. 編「ㄅㄧㄢ」 7. 時「ㄕㄨㄛˊ」 8. 崩「ㄅㄨㄥ」 9. 「雋」才 10. 「扞」格
11. 摩頂「放」踵 12. 日不移「晷」 13. 五「殺」大夫 14. 經濟「拮」据

二、解釋：11%（1~5題每題一分，6~8題每題二分）【請將答案寫在答案卷中，否則不予計分】

1. 狐「假」虎威 2. 卒「餒」而死 3. 法家「拂」士 4. 「行」拂亂其所為
5. 而後「喻」 6. 以術使民 7. 動心忍性 8. 揮金如土

三、選擇題：60%（共30題，每題二分）【請將答案寫在答案卷中，否則不予計分】

- () 1. 中國文字常有「一字多義」的情況，請分辨下列各組「」中的字，何組意思相同？
(A)「旦」日必部分眾狙于庭／「旦」辭黃河去
(B)吾何假于彼而「為」之役乎／吾若「為」司馬懿，必不便退也
(C)「惟」其昏而未覺也／萬般皆下品，「惟」有讀書高
(D)其術「窮」矣／「窮」則獨善其身。
- () 2. 下列各選項中，何者用字完全正確？
(A)看他一幅事不關己的態度，真令人心寒不已 (B)爸爸總是默默行善，不冀望任何回報
(C)老人常常坐在家門前，雙眼呆志地望著前方 (D)由於得不到尊重，在會議上他奮而離席。
- () 3. 「(眾狙)破柵毀柙，取其積，相攜而入于林中，不復歸。」這段文字主要在表達什麼意涵？
(A)群猴不能適應大自然的生活 (B)群猴內心對公平自由的渴望
(C)群猴對人類領導缺乏認同感 (D)群猴天性頑劣，無法受約束。
- () 4. 楚人養狙一文中，作者刻意安排由小猴提出質疑，下列何者可做其注解？
(A)良禽擇木而棲 (B)好馬不吃回頭草 (C)殺雞焉用牛刀 (D)初生之犢不畏虎。
- () 5. 楚人養狙以「養狙」作故事背景點出主旨，關於故事的分析，下列何者正確？
(A)以「狙」比喻人民，「狙公」比喻在上位者 (B)狙公採溫和手段管理，導致老狙有膽反抗
(C)小狙思想周密，深謀遠慮後對狙公提出質疑 (D)眾狙因循苟且懼苛政，始終不敢違逆狙公。
- () 6. 劉基的郁離子一書主要揭露官員的腐敗、貪婪，下列哪一個選項的內容也是屬於諷刺小說？
(A)論起榮華富貴，原不過是過眼煙雲，但自古聖賢，以人品根柢為重
(B)清官則自以為不要錢，何所不可，剛愎自用，小則殺人，大則誤國
(C)她不但是個正道人，竟是一副兒女情腸，英雄本領，更兼一團的聖賢學問
(D)一人二人，有心無心。有心為善，雖善不賞；無心為惡，雖惡不罰。
- () 7. 廖鴻基的作品「鯨生鯨世」其實就是「今生今世」的諧音，請問下列選項何者並非使用這種方式？
(A)今年的元宵燈會熱鬧滾滾，「燈峰造吉」，吸引不少民眾前來參觀
(B)交通警察宣導「醉不上道」勸導民眾酒後不開車，否則後悔莫及
(C)小明是個容易害羞的男孩子，總是「近香情怯」不敢和女生交談
(D)他是一個「誨人不倦」的國中老師，所以桃李滿天下，備受尊敬。
- () 8. 關於下列各句的語氣說明，何者有誤？
(A)「但是，在海上，牠們是如此的不同」：感嘆
(B)「看到了！是兩隻壯碩的奶油鼻子擦過船尖」：興奮
(C)「牠的眼神、笑容像一泓清水流入胸腔」：悲傷
(D)「我好想放下相機高聲狂嘯」：喜悅。

- () 9. 「船長吹響一陣沙啞的口哨後喘著氣說：『無法度咧，再吹下去強要斷氣了。』」這句話**意思**為何？
(A)船長對海豚無善意回應感到無奈 (B)海豚難對付，船長被惹得火冒三丈
(C)船長精疲力竭，決定要放棄「尋鯨計畫」 (D)船長對於海豚的調皮感到好氣又好笑。
- () 10. 請問下列選項中，哪個並**不是**閩南語詞彙？
(A)昨天老張的「摩托車」半路拋錨了 (B)做任何事情都要按部就班，以免「呷緊弄破碗」
(C)你「秀逗」了嗎？竟然忘了家裡的電話號碼 (D)棒球場上球迷非常多，現場氣氛「強強滾」。
- () 11. 下列文句「 」中的**顏色詞**，何者運用正確？
(A)哥哥繪畫功力高，曾獲得國際大獎，是位「殺青」聖手
(B)弟弟因為感情受挫，近日顯得「人老珠黃」，非常憔悴
(C)爸爸只要一喝酒就「紅得發紫」，每次都會被媽媽發現
(D)妹妹得到媽媽的真傳，「青出於藍」的表現，令人讚嘆。
- () 12. 下列與「魚」有關的**成語**，何者使用**有誤**？
(A)國際巨星來臺，只要一出現，歌迷和記者便「魚貫而行」爭相上前拍照
(B)阿武到了美國後就「魚沉雁杳」，大家都聯絡不到他，不知現在過得如何
(C)現在有許多不肖商人「魚目混珠」，將假水晶充作天然水晶以賺取暴利
(D)這個惡霸成天「魚肉鄉民」，不只欺壓百姓還強佔民女，行為令人不齒。
- () 13. 「嗶嗶剝剝」是狀聲詞，可以用來形容敲擊或爆裂的聲音。下列疊字何者不是**狀聲詞**？
(A)小中一個人坐在教室裡「喃喃」自語，嚇壞經過的老師
(B)阿華走入山林，小溪「潺潺」流動，心情不禁舒暢起來
(C)在極地中等待極光的小民冷得發抖，牙齒「咯咯」發顫
(D)聽聞老師一番稱讚，阿國抬起頭「沾沾」自喜得意洋洋。
- () 14. 黑龍船長說：「那真是賊頭賊腦的一群『搞怪』海豚。」下列哪一描述可看出這群海豚的「**搞怪**」？
(A)拍落水面的剎那旋即翻身朝牠們切入的方向飛快離去
(B)匯聚成尖錐型的群體，替船尖穿刺水流
(C)表演時用來取悅觀眾的聰黠全用來在海上戲耍船隻
(D)用驚人的爆發力跳出驚人的高度，連續三次。
- () 15. 廖鴻基：「我感覺到內臟都在融化，牠的眼神、笑容像一泓清水流入胸腔，我好想放下相機高聲狂嘯。」作者此刻的**心情**與下列哪一選項最接近？
(A)月落烏啼霜滿天，江楓漁火對愁眠。姑蘇城外寒山寺，夜半鐘聲到客船
(B)劍外忽傳收蓟北，初聞涕淚滿衣裳。卻看妻子愁何在？漫卷詩書喜欲狂
(C)清明時節雨紛紛，路上行人欲斷魂。借問酒家何處有？牧童遙指杏花村
(D)葡萄美酒夜光杯，欲飲琵琶馬上催。醉臥沙場君莫笑，古來征戰幾人回。
- () 16. 「人恆過，然後能改；困於心，衡於慮，而後作；徵於色，發於聲，而後喻。」本段**含義**為何？
(A)人必須經歷錯誤，才能懂得反省改過 (B)人必須在困苦的環境，才能有所成就
(C)人必須經由別人提攜，才能有所成就 (D)人必須在艱難的環境，才能積極向上。
- () 17. 明太祖取得天下之後，藉各種理由誅殺功臣以防範帝權被取代。他的行為可用哪一個成語形容？
(A)兔死狗烹 (B)投鼠忌器 (C)狐假虎威 (D)兔死狐悲。
- () 18. 下列選項所歌詠的人物，何者為「**亞聖**」？
(A)勝敗兵家事不期，包羞忍恥是男兒。江東子弟多才俊，捲土重來未可知
(B)德配天地，泗水文章昭日月；道貫古今，杏壇禮樂冠華夷
(C)千里而來何必曰利，亦有仁義而已矣；百世之下莫不興起，況於親炙之者乎
(D)功垂萬季，觀於海者難為水；道冠百王，譬猶天之不可階。
- () 19. 周芬伶在傘季一文中充分發揮想像力，渲染自己的感情，下列何者**不是**發揮**想像力**而寫成的文句？
(A)在多雨的木柵住四年，最高紀錄是一星期換四把傘
(B)撐著它，好像從遙遠的古代走出來，走出古典與韻致
(C)遐想也許在下個街角，會迎面撞見尋覓愛情的白蛇娘子和小青
(D)買傘付錢時，我會有種罪惡的快感，覺得自己是揮金如土的浪蕩子
- () 20. 「買傘付錢時，我會有種罪惡的快感，覺得自己是揮金如土的浪蕩子。」這種行為像什麼樣的人？
(A)敗家子 (B)暴發戶 (C)登徒子 (D)落破戶。

- () 21. 下列何者是傘季一文的主旨？
 (A)描述買傘的喜悅，丟傘的無奈 (B)抒發在雨季裡對傘的種種情懷
 (C)藉傘敘說一段淒美的愛情故事 (D)藉雨中撐傘憶兒時的快樂時光。
- () 22. 下列哪一組選項「 」中的數字都是實數？
 (A)「三」姑六婆／「一」行白鷺上青天 (B)策勳「十二」轉／「十二萬」分感激
 (C)煙花「三」月／垂涎「三」尺 (D)「三百六十」行，／「三十六」計走為上策。
- () 23. 「一隻鮪，將你罩住，小小的一片黑暗竟是你而今而後頭上的蒼穹。娘，我在惡夢中驚醒千回，在那分窒息中掙扎。都說雷峰塔會在夕照裡，千年萬世，只專為鎮一個女子的情痴，娘，鎮得住嗎？我是不信的。」這段文字是敘述哪一個人的故事？
 (A)西施 (B)嫦娥 (C)白素貞 (D)蘇三。
- () 24. 傘季一文中說：「這時就該撐把傘，去看無邊的細雨如何化為點點愁思，看花兒跌落時是否摔疼了？」作者在此並未表現出對世間萬物的何種態度？
 (A)同理心 (B)慈悲心 (C)惻隱之心 (D)感恩之心。
- () 25. 「所以動心忍性，曾益其所不能。」關於這句話的說明，下列何者正確？
 (A)修養好的人做事能力一定強 (B)困苦的環境能增強一個人的能力
 (C)容易受感動的人只要多忍耐，就能增強能力 (D)忍耐力夠的人才可以通過考驗。
- () 26. 下列何者與「生於憂患，死於安樂。」的含義無關？
 (A)沒有風暴，船帆不過是一塊破布
 (B)逆境能強化人的挫折容忍力，激發潛能；順境使人失去戒心，導致毀滅
 (C)人各有命，富貴在天，凡事盡力就好，不必杞人憂天
 (D)賴東進生在乞丐家庭，卻能克服萬難力爭上游，成為傑出青年的代表，是「生於憂患」的實例。
- () 27. 下列對孟子的敘述，何者正確？
 (A)孟子名軻，戰國時代宋國人 (B)畢生闡揚孔子思想，主張「性惡」
 (C)勸導諸侯實施仁政，主張「民貴君輕」 (D)他的言論和行事，大多記載在孟子一書中。
- () 28. (甲)曇花一現(乙)海枯石爛(丙)桑蔭不徙(丁)河清難俟(戊)彈指之間(己)不消一刻(庚)經年累月。以上詞語含有「時間短暫」之意的，共有幾個？
 (A)三個 (B)四個 (C)五個 (D)六個。
- () 29. 下列文句「 」中的詞語，何者屬於表示數學中「分數」的用法？
 (A)他念書時，只顧打工賺錢，荒廢學業，結果慘遭「二一」退學的命運
 (B)每到放學時，便可常見「三五」成群的好友，嘻嘻哈哈相偕走出校門
 (C)世界展望會每年都會舉辦飢餓「三十」的活動，以救助需要幫助的人
 (D)她小時候很愛哭，如今女大「十八」變，已經是聞名商界的女強人了。
- () 30. 「我像一頭□□的鯨魚／困在人云亦云世界裡／對於愛情使不上力氣／想念遠方海洋的氣息。」依據上述歌詞的文意，缺空處填入下列哪一詞語最適當？
 (A)擱淺 (B)溫馴 (C)頑皮 (D)跳躍。

四、題組：15% (共 10 題，1~5 每題二分 6~10 每題一分)【答案請寫在答案卷中，否則不予計分】

東施效顰

莊子

西施病心而顰其里。其里之醜人，見而美之，歸亦捧心而顰其里。其里之富人見之，堅閉門，而不出；貧人見之，挈妻子而去之走。彼知顰美，而不知顰之所以美。

【注】：①顰：音ㄉㄨㄛˋ，皺眉。

②挈：音ㄑㄧˋ，帶領。

- () 1. 本文的寓意為何？
 (A)不要盲目學習別人 (B)勿以外表斷定人的善惡 (C)要注重真材實學 (D)內在美很重要。
- () 2. 「見而美之」的「美」字，其詞性為何？
 (A)形容詞 (B)副詞 (C)動詞 (D)名詞。
- () 3. 根據本文，醜人模仿西施的結果，可用以下哪句話來形容？
 (A)畫蛇添足 (B)差強人意 (C)他山之石，可以攻錯 (D)畫虎不成反類犬。

海上之人有好漚鳥者，每旦之海上，從漚鳥游。漚鳥之至者，百住而不止。其父曰：「吾聞漚鳥皆從汝游，汝取來，吾玩之。」明日之海上，漚鳥舞而不下也。（列子 黃帝）

【注】：①漚：水鳥。通「鷗」。 ②旦：天剛亮的時候。

- () 4. 本文應屬於下列哪一種文學體裁？
(A) 神話 (B) 童話 (C) 傳奇 (D) 寓言。
- () 5. 「明日之海上，漚鳥舞而不下也。」是因為什麼緣故？
(A) 人有心機，連漚鳥都能感覺到 (B) 漚鳥想戲弄海上之人
(C) 海上之人的父親想觀賞漚鳥成群飛舞的景象 (D) 漚鳥厭惡海上之人的父親。

鮭去來兮——生與死的大河戀 佚名

每年初夏，生活於北大西洋以及太平洋的鮭魚，會神祕地從幾千哩之外，游向自己幼時孵化的河流，成群結隊地溯河返回上游原鄉繁殖後代。

根據統計，一對鮭魚平均產下四千個卵，約有八百個幸運孵化為魚苗，在河流或湖泊生活約一年後，便順河游向大海，這些幼鮭約有二百條能活著進入海洋成長，再經過二至三年，熬過各種災險，準備返鄉產卵的成魚約剩十條，其中八條會在返鄉途中遭到捕食，最後能回到出生地產卵的只剩二條，一旦完成產卵任務，鮭魚的生命也跟著結束，葉落歸根地物化為故鄉的塵土。

綜觀鮭魚一生，自幼年由河入海，兩年或數年後，生理成熟的鮭魚又由海返河產卵，似乎說明鮭魚有「回家本能」這項生態奧祕。天賦具有記憶、解讀、適應不同環境空間的能力，所以才呈現出依其生命週期各階段的需求，適時遷徙至地表不同的生態空間生活。

鮭魚返鄉產卵，成功率百不及一，但沿途卻哺育了地球上無數的生命，鮭魚的一生，比任何可歌可泣的故事更令人感動。

- () 6. 鮭魚的一生可以用下列何者來形容？
(A) 悠然自得 (B) 隨波逐流 (C) 見異思遷 (D) 艱苦奮鬥。
- () 7. 「總有一天／我將如返航的鮭魚……／回到部落」究其詩意，與下列敘述何者不同？
(A) 積極研究，養殖鮭魚 (B) 葉落歸根，老死家鄉
(C) 回到家鄉，結婚生子 (D) 搬回部落，服務族人。

宋人有閔①其苗之不長而揠②之者，芒芒然③歸，謂其人④曰：「今日病⑤矣！予助苗長矣！」其子趨⑥而往視之，苗則槁⑦矣！天下之不助苗長者寡矣。以為無益而舍之者，不耘苗者也。助之長也，揠苗者也，非徒⑧無益，而又害之。（節錄自《孟子·公孫丑上》）

【注】①閔：擔心、憂心。 ②揠：拔。 ③芒芒然：疲憊的樣子。 ④其人：他的家人。 ⑤病：疲憊。
⑥趨：快步走、趕著向前走。 ⑦槁：乾癟枯瘦的。 ⑧徒：但、只。

- () 8. 由本文可知，宋人揠苗最後的結果如何？
(A) 使秧苗長高 (B) 使秧苗枯萎 (C) 使秧苗生病 (D) 使秧苗變矮。
- () 9. 本文主要在告訴我們什麼道理？
(A) 做事應講究技巧 (B) 凡事應循序漸進 (C) 凡事應矢志力行 (D) 做事應三思而行。
- () 10. 下列敘述，何者屬於「揠苗助長」的行為？
(A) 阿澤是一位神童，從小學跳級讀高中，現在已獲得美國名校的入學許可
(B) 阿南參加跳高比賽，自信以實力直接挑戰二點三公尺，可惜以失敗收場
(C) 媽媽讓三歲的小翰學習多種才藝，小翰卻因為無法負荷而出現厭學情緒
(D) 老師鼓勵害羞的小康參加比賽，他不但結交好友，作品也在比賽中得名。

【試題結束，請再檢查答案是否完整、正確！】

澎湖縣立文光國民中學109學年度第一學期第二次段考九年級英文科答案卷

班級

姓名

座號

一、聽力測驗10%

1.	2.	3.	4.	5.
----	----	----	----	----

二、文意字彙：20%

1.	2.	3.	4.	5.
6.	7.	8.	9.	10.

三、文法測驗40%

1.	2.	3.	4.	5.	6.	7.	8.	9.	10.
11.	12.	13.	14.	15.	16.	17.	18.	19.	20.

四、閱讀測驗：10%

1.	2.	3.	4.	5.
----	----	----	----	----

五、依提示回答問題20%

1.
2.
3.
4.
5.
6.
7.
8.
9.
10.

文光國民中學 109 學年度第一學期第二次段考九年級英文科題目卷

班級： 座號： 姓名：

一、聽力測驗：請依據所聽到的對話與問題，選出一個最適當的答案(每題 2 分, 共 10 分)

1. _____ (A) He was saved by Justin. (B) He was found by Justin. (C) He was kicked by Justin.
2. _____ (A) The boy failed the math test.
(B) The boy studied hard for the math test.
(C) The boy got a good grade on the math test.
3. _____ (A) The twelfth floor. (B) The thirteenth floor. (C) The fourteenth floor.
4. _____ (A) He is pale and weak. (B) He never exercises. (C) He can do many things at home.
5. _____ (A) She dropped a very important thing into the lake.
(B) She forgot why she was sitting on the bench.
(C) She didn't know if she should wear a ring or not.

二、文意字彙(每題 2 分, 共 20 分)

1. _____ The baseball player s_____g too slow to hit the baseball.
2. _____ Don't play on the r_____y. Trains may come at any time.
3. _____ Online shopping is c_____t. I don't need to go out for food.
4. _____ A : Can you give me a piece of paper and an e_____e? I want to write a letter. B : Sure.
5. _____ Every student in my class e_____t Katy knows how to ride a bike. She is still learning.
6. _____ That black cats would bring bad luck is a s_____n. It's groundless (沒有根據的).
7. _____ A: How old is Scott? B: He will turn 13 this year and become a t_____r.
8. _____ When Alex learned the bad news, he was so surprised that he became s_____s. He stood there and said nothing for a while.
9. _____ I still remember the first time that I kissed Alice. It was a great m_____t.
10. _____ It was lucky for Becky to find a job right after she g_____ed from school.

三、文法測驗(每題 2 分, 共 40 分)

1. () When Amanda heard her favorite songs, she always feels like _____.
(A) dance (B) to dance (C) dancing (D) danced
2. () The little boy shouted and waved his hands at his grandparents in the car, but he _____ and they just drove away.
(A) isn't seen (B) won't be seen (C) wasn't seen (D) hasn't been seen
3. () Can you tell me _____? B : You should call your parents first.
(A) how to do it (B) what I to do (C) where should I go (D) who ask to
4. () Mom : The walls of your room are dirty. They must _____ before dinner. Son : Yes, Mom.
(A) clean (B) be cleaned (C) to cleaned (D) to be cleaned
5. () No one knows _____ the superstar will show up at the concert. All the fans are waiting for him.
(A) what (B) who (C) when (D) why
6. () We were having _____ a good time that we didn't want to leave. Then my mom called, and I had to go.
(A) such (B) so (C) too (D) that
7. () Ten years ago, Mr. Smith _____ a farm in front of the open land by my house.
(A) owned (B) was owned (C) has owned (D) was going to own
8. () Can you help Daniel _____ his Facebook account?
(A) to set up (B) sets up (C) setting up (D) be be set up

【第一頁結束, 背後尚有試題】

四、閱讀測驗(每題2分,共10分)

1. Millions of people around the world are affected by blindness. A small number of them are completely blind and can't see a thing. However, most of them have some sight. Some of those people are only able to tell where there is light, while others can see quite a bit more. This leads people to think about them and dreams. Do they dream, and if they do, do they dream like people with sight?

Dreams are made inside the brain, and they happen during REM sleep. That means they are not directly connected to people's eyes or sight. So, it's no surprise that the blind do dream, and they dream just as much as people with sight do. What they dream about is a little different, though. That's because they experience smell, sound, taste, and touch more, just as they do when they are up. This is not to say that they don't see when they dream. Some blind people can and do have pictures in their dreams. If someone came into the world blind or went blind by the age of five, pictures aren't seen, but they are seen if someone loses their sight after the age of five.

affect 影響	blindness 眼盲	completely 完全地	while 然而	brain 頭腦
REM 快速動眼期	directly 直接地	connect 聯結		

() 1. What is this reading mainly about?

- (A) How people without sight dream. (B) What dreams most people have.
(C) When people start to see light. (D) Why some people are blind.

() 2. What is true about dreams?

- (A) They never have pictures. (B) They happen in the brain.
(C) They are seen with the eyes. (D) They are formed by sight.

() 3. Why can blind people have dreams?

- (A) Dreams and sight don't go hand in hand.
(B) Their eyes help them see the pictures.
(C) Their sight tells them what to dream.
(D) Dreams happen because of what people see.

2. Do you have a Facebook account or a favorite blog? Do you like what you see on them? Maybe you do and maybe you don't.

Recently, a simple picture with some simple sentences has been posted on the Internet. It says, "Bill is on the Internet. Bill sees something bad, and it offends him. Bill moves on because Bill is smart. Be like Bill." It's interesting because all the sentences have the name Bill. Some people don't think it is very interesting, but others do and start thinking about why they should be like Bill.

The Internet is a powerful tool, and it can reach almost every corner of the world. Not only the news but also all kinds of information moves fast through the Internet. For example, if you post an article, it will spread everywhere in no time. Also, anyone in the world can even leave a message below your article. Some of them may show respect but others may not be so friendly or kind. They may post some mean words, so you may get mad and feel like fighting back. However, that is the moment when you need to be like Bill. Their comments are not that important, so you should just ignore them and live your own life.

recently 近來	article 文章	spread 傳播; 散佈	message 訊息
respect 尊重	moment 片刻	comment 評論	ignore 忽略

【第三頁結束,背面尚有試題】

9. () In order _____ the soccer game, John practices five hours every weekend.
 (A) win (B) winning (C) wins (D) to win
10. () A : Is my lunch ready? B : No, it is not.
 A : But it _____ for two hours. I'm really hungry now.
 (A) cooked (B) has cooked (C) was cooked (D) has been cooked
11. () All of the dishes are _____ clean _____ I can see myself in them. How did you manage (設法) to do that?
 (A) too; to (B) so; that (C) if; or not (D) too; that
12. () Rosa wants to know _____ when her uncle will buy her a present from India.
 (A) whether (B) that (C) too (D) ×
13. () Janet's best friend moved to another city, so she doesn't know who _____ in class.
 (A) can she talk to (B) talks to (C) to talk to (D) can talk to
14. () The flu (流行性感冒) _____ thousands of people since last December. And my brother _____ to the hospital this morning because of it, too.
 (A) was killed; was taken (B) killed; has taken
 (C) has been killed; took (D) has killed; was taken
15. () Don't ask me _____ the movie Dave and Amanda saw was interesting. I have no idea because I wasn't there.
 (A) what (B) × (C) whether (D) when
16. () Linda _____ do the dishes by her mother.
 (A) makes (B) made (C) has made to (D) was made to
17. () Dorothy was not sure _____, so she asked her brother for help.
 (A) whether she get the information (B) where she could get the information
 (C) where could she get the information (D) whether could she get the information
18. () A : Tell me _____. B:OK.
 (A) what is needed to make a cake (B) whether to go to high school
 (C) where to catching a bus (D) where is the movie theater
19. () It's too hard _____.
 (A) that Bill can't ride a bike (B) that Bill to ride a bike
 (C) for Bill to ride a bike (D) to ride a bike for Bill
20. () A: May I help you? B: I would like to take some specialties in Penghu. A: _____
 (A) Take a big bite.
 (B) You can choose salted crackers and peanut cakes.
 (C) How about some basalt pillars?
 (D) If you come to Penghu, I will do the honours.

【第二頁結束, 尚有試題】

- () 4. What does “offends” mean in the article?
(A) Leave a message. (B) Lend someone a hand.
(C) Be friendly to someone. (D) Make someone angry or sad.
- () 5. According to the article, who is most likely to be Bill?
(A) Eric is a ninety-year-old man, and he never uses a computer.
(B) Jeff got a text message from a friend and felt bad because of that.
(C) Rachel writes articles online and is not bothered by other people’s words.
(D) Helen and her best friend Monica had a fight last week, and they haven’t talked to each other for two days.

bother 使惱怒

五、依提示回答問題(每題 2 分, 共 20 分)

1. Does the cook throw away much of the food every week? (改為被動語態)
2. Why did Jeff and Kate buy the apartment? (句首用 Does anybody know 改寫句子)
3. The dress is so small for Jessie to wear. (用 so...that...改寫句子)
4. Why don’t some Taiwanese people want to live on the 4th floor? (依照事實回答)
5. How did people use beepers twenty years ago? (依照事實回答)
6. What is chiu-kong(九孔)called in English? (依照事實回答)
7. 有了智慧型手機，我們可以用不同形式的社群媒體來聯絡朋友們。(翻成英文)
8. 多數臺灣人認為在農曆新年前清潔房子是很重要的。(翻成英文)
9. 小管和澎湖絲瓜是我的最愛。(翻成英文)
10. 牡蠣住在海底的硬殼中。 (翻成英文)

【試題結束—文光國中九年級英文】

澎湖縣立文光國民中學 109 學年度第 1 學期第 2 次成績評量 9 年級數學科試卷

班級： 姓名： 座號： 讀卡 答案卷

一、填充題(每格 4 分，共 64 分)

1. 圓 O 的半徑為 5，且有 $A、B、C、D、E$ 五點，若 $\overline{OA} = 5$ 、 $\overline{OB} = 4$ 、 $\overline{OC} = 6$ 、 $\overline{OD} = 3$ 、 $\overline{OE} = 8$ ，則：(1)在圓外的點有_____。(2)在圓內的點有_____。(填 $A、B、C、D、E$)

2. 圓 O 的直徑為 15 公分，而圓心 O 到直線 L 距離為 5 公分，則圓 O 與 L 交_____個點。

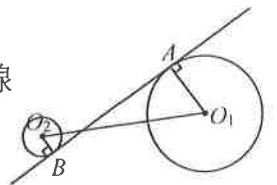
3. 已知圓 O_1 、圓 O_2 的半徑分別為 7、3，試根據所給的條件，完成下列空格。

(填外離、外切、交兩點、內切、內離)

連心線段長($\overline{O_1O_2}$)	12	8	4
兩圓位置關係			

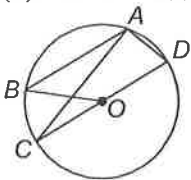
4. 若兩圓外離，則此兩圓有_____條公切線。

5. 如圖，若圓 O_1 、圓 O_2 的半徑分別為 6 公分、2 公分， $A、B$ 分別為內公切線切兩圓的切點，且 $\overline{AB} = 15$ 公分，則 $\overline{O_1O_2} =$ _____。

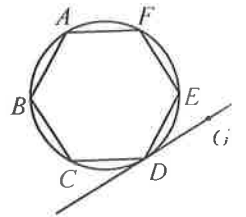


6. 如圖，在圓 O 中，已知 $\angle BAC = 25^\circ$ ， \overline{CD} 為直徑，且 $\overline{AB} \parallel \overline{CD}$ ，求：

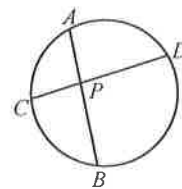
(1) $\angle BOC$ 的度數 = _____ 度。(2) $\angle CAD$ 的度數 = _____ 度。(3) \widehat{AD} 的度數 = _____ 度。



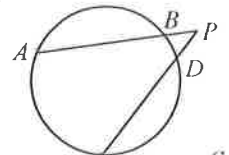
8. 右圖，正六邊形 $ABCDEF$ 的六個頂點均在圓上，求弦切角 $\angle EDG =$ _____ 度。



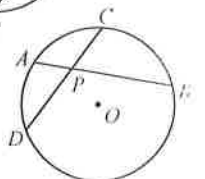
9. 如圖， $\widehat{AC} = 39^\circ$ 、 $\widehat{BD} = 111^\circ$ ，求圓內角 $\angle BPD =$ _____ 度。



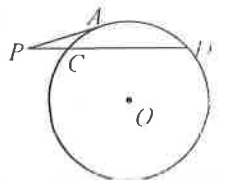
10. 如圖， $\widehat{AC} = 95^\circ$ 、 $\widehat{BD} = 45^\circ$ ，求圓外角 $\angle P =$ _____ 度。



11. 如圖， \overline{AB} 、 \overline{CD} 為圓 O 的兩弦，若 $\overline{AP} = 3$ ， $\overline{BP} = 10$ ， $\overline{DP} = 6$ ，則 $\overline{CP} =$ _____。

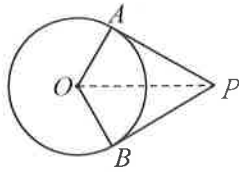


12. 如圖， \overline{PA} 切圓 O 於 A 點， \overline{PD} 為割線，交圓 O 於 $C、D$ 兩點。若 $\overline{PC} = 2$ ， $\overline{CD} = 6$ ，則 \overline{PA} 的長度 = _____。

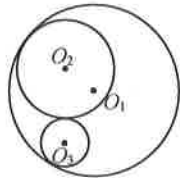


二、非選題(依照算式給分，第 9、10 題一題 2 分，其餘每題 4 分，共 36 分)

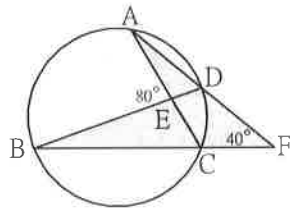
1. 如圖， P 點在圓 O 外， \overline{PA} 和 \overline{PB} 分別與圓 O 相切於 A 、 B 兩點。已知圓 O 的半徑為 7，且 $\overline{PA} = 24$ ，求 \overline{AB} 的長度。



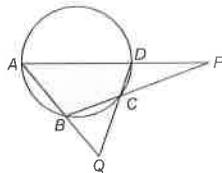
2. 圓 O_2 與圓 O_3 外切，且兩圓分別與圓 O_1 內切，已知圓 O_1 的半徑為 9、圓 O_3 的半徑為 1、 $\overline{O_1O_2} = 4$ ，求 $\triangle O_1O_2O_3$ 的周長。



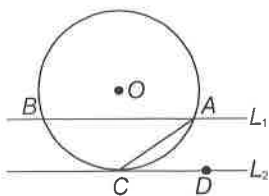
3. 如圖， F 點在圓外， \overline{FA} 與 \overline{FB} 分別交圓於 D 點和 C 點， \overline{AC} 與 \overline{BD} 交於 E 點。已知 $\angle F = 40^\circ$ ， $\angle AEB = 80^\circ$ ，求 \widehat{CD} 的度數。



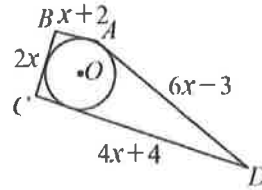
4. 如圖，圓內接四邊形 $ABCD$ 中， \overleftrightarrow{AD} 與 \overleftrightarrow{BC} 交於 P 點， \overleftrightarrow{AB} 與 \overleftrightarrow{CD} 交於 Q 點。若 $\angle P = 20^\circ$ ， $\angle Q = 50^\circ$ ，求 $\angle A$ 的度數。



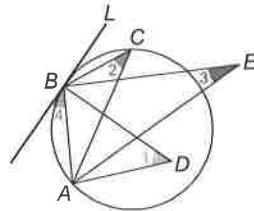
5. 已知 $L_1 \parallel L_2$ ，且 L_1 與圓 O 交於 A 、 B 兩點， L_2 與圓 O 相切於 C 點。若 $\widehat{AC} = 66^\circ$ ，求：
(1) $\angle ACD$ 的度數。 (2) \widehat{BC} 的度數。(各 2 分)



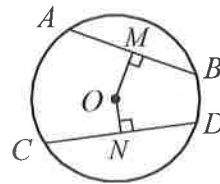
6. 如圖，圓 O 是四邊形 $ABCD$ 的內切圓，已知 $\overline{AB} = x+2$ ， $\overline{BC} = 2x$ ， $\overline{CD} = 4x+4$ ， $\overline{AD} = 6x-3$ ，求 $\overline{AB} = ?$



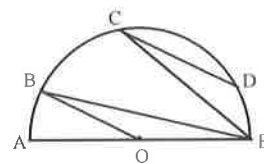
7. 如圖， A 、 B 、 C 三點在圓上， D 點在圓內， E 點在圓外，直線 L 切圓於 B 點。試判斷 $\angle 1$ 、 $\angle 2$ 、 $\angle 3$ 、 $\angle 4$ 的大小。



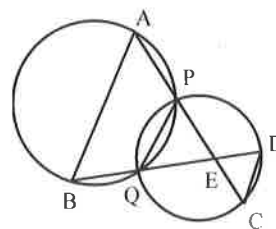
8. 如圖，若 $\overline{AB} = 16$ ， $\overline{OM} = 6$ ， $\overline{ON} = 5$ ，則(1)圓半徑 = ? (2) $\overline{CD} = ?$ (各 2 分)



9. \overline{AE} 為半圓 O 的直徑， B 、 C 、 D 為圓上三點，若 $\widehat{AB} : \widehat{BC} : \widehat{CD} = 2 : 5 : 8$ ， $\overline{BO} \parallel \overline{CD}$ ，則 $\angle BEC = ?$ (2 分)



10. 如圖， A 、 B 、 C 、 D 為圓周上的點，兩圓相交於 P 、 Q 兩點。 \overline{AC} 通過 P 點， \overline{BD} 通過 Q 點， \overline{AC} 與 \overline{BD} 相交於 E 點。若 $\overline{AE} = 30$ 、 $\overline{BE} = 28$ 、 $\overline{DE} = 10$ ，則 $\overline{CE} = ?$ (2 分)



澎湖縣立文光國中109學年度第一學期第二次段考自然科試題
《答案需填入答案卷》

9年 ___班 座號：___ 姓名：_____

一、選擇題：每題2分 共80分

1	2	3	4	5	6	7	8	9	10
11	12	13	14	15	16	17	18	19	20
21	22	23	24	25	26	27	28	29	30
31	32	33	34	35	36	37	38	39	40

二、填充題：每格2分 共20分

1	2	3	4	5
6	7	8	9	10

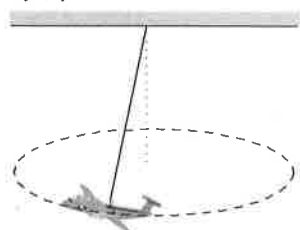
澎湖縣立文光國中109學年度第一學期第二次段考自然科試題

《答案需填入答案卷》

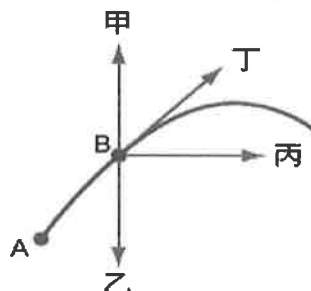
9年 ___ 班 座號：___ 姓名：_____

一、選擇：每題2分 共80分

- () 關於人與地球間的萬有引力，下列敘述何者錯誤？ (A)人的體重即是地球對人的萬有引力大小 (B)人吸引地球的引力小於地球吸引人的引力 (C)人在赤道的重量小於人在南北極的重量 (D)越接近地表，人的體重越重。
- () 某星球的質量為其衛星的9倍，則該星球吸引其衛星的力 F_1 與其衛星吸引該星球的力 F_2 ，兩者大小的比為何？ (A)81:1 (B)1:81 (C)1:1 (D)9:1。
- () 王博士在繞地球運轉的太空船中做液滴實驗時，液滴懸浮於船中，則下列敘述何者錯誤？ (A)王博士也可懸浮於船中 (B)若以船中的磅秤稱王博士的體重，則磅秤上的讀數必為零 (C)王博士及液滴皆不受地球引力的作用 (D)王博士及液滴皆受向心力的作用。
- () 如附圖所示，有一玩具飛機懸吊在一條細繩下端，繞水平圓形軌道做等速率運動，則下列敘述何者正確？ (A)飛機的速度保持不變 (B)飛機的加速度指向前進方向 (C)飛機所受向心力的方向指向繩子拉力的方向 (D)飛機瞬間的運動方向為圓形軌道的切線方向。



- () 由地面上A點將石頭拋出，若不計空氣阻力，則當石頭到達B點時，石頭的加速度方向為下列何者？ (A)甲 (B)乙 (C)丙 (D)丁。



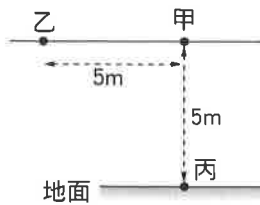
- () 小東騎著腳踏車沿筆直的水平馬路等速前進，下列相關的敘述何者錯誤？ (A)腳踏車受力卻沒有加速，是因為有摩擦力 (B)腳踏車動能不變 (C)小東對腳踏車沒有作功 (D)小東對腳踏車有作功，但皆變成熱能。
- () 關於功的敘述，下列何者正確？ (A)當物體受外力而改變運動方向，則外力作功必不為零 (B)當物體同時受很多力，但沒有移動，則作功為零 (C)當物體的受力方向和移動方向不平行時，作功一定為零 (D)牛頓是功的常用單位。
- () 如附圖所示，施3公斤重的力，水平作用於8公斤重的靜止物體，若5秒內物體沿受力方向移動了10公尺，則此力作功為多少焦耳？(1公斤重=9.8牛頓) (A)30 (B)80 (C)235.2 (D)294。



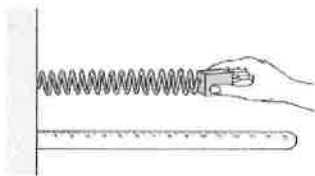
- () 有一個1公斤的物體在光滑水平面上做等速度運動，當其移動10公尺時，合力對物體作功為多少焦耳？ (A)0 (B)10 (C)98 (D)980。
- () 若施以100牛頓的水平力，在4秒內將木塊水平移動32公尺，則此力對木塊作的功和功率分別為多少？ (A)3200 J、800 W (B)320 J、8000 W (C)32 J、8 W (D)8000 J、400 W。

【背面尚有試題】

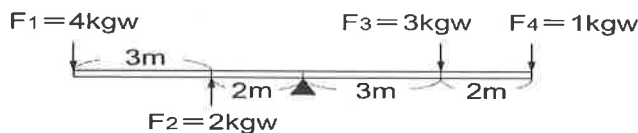
11. () 甲、乙、丙三處的位置如附圖所示，若將一質量為 10 公斤的物體由地面丙處抬高至 5 m 高的甲處，再將物體由甲處移至乙處，則重力所作的功分別為多少焦耳(重力加速度 $g=9.8 \text{ m/s}^2$)? (A) -490; 490 (B) -490; 0 (C) 490; 490 (D) 0; -490。



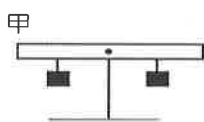
12. () 在具有摩擦力的水平面上推動物體，使其等速移動一段距離，則推力對物體作的功 W 與物體增加的動能 K 的大小關係為何? (A) $W > K$ (B) $W < K$ (C) $W = K$ (D) 以上均有可能。
13. () 下列哪一種情形將可使物體的動能變小? (A) 運動中的物體受到摩擦力而停止 (B) 高空中自由落下的雨滴 (C) 警車一直加速追逐超速車輛 (D) 將貨車載滿貨物後，以同樣速率行駛。
14. () 一輛 500 公斤的汽車以 108 km/h 的等速度行駛，試問此時汽車具有多少焦耳的動能? (A) 225000 (B) 450000 (C) 1458000 (D) 2916000。
15. () 下列哪一個物體具有最大的重力位能? (A) 位於高 2 公尺處、重 5 公斤重的甲物體 (B) 位於高 3 公尺處、重 4 公斤重的乙物體 (C) 位於高 1 公尺處、重 9 公斤重的丙物體 (D) 位於高 8 公尺處、重 1 公斤重的丁物體。
16. () 下雨時，雨滴從空中等速度下降，關於該雨滴落地前能量變化的敘述，下列何者正確? (A) 重力位能漸減，動能漸增 (B) 重力位能漸增，動能漸減 (C) 重力位能漸減，動能漸減 (D) 重力位能漸減，動能不變。
17. () 如附圖所示，有一條彈簧一端固定在牆壁上，另一端掛上一木塊。試問下列何種情形下，當手放開時，木塊可以產生最大的速率?(假設彈簧拉長或壓縮時，皆不超過彈性限度)



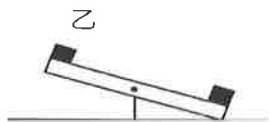
- (A) 彈簧拉長 7 公分 (B) 彈簧拉長 4 公分 (C) 彈簧壓縮 3 公分 (D) 彈簧壓縮 5 公分。
18. () 一個物體受到數個力的作用而發生轉動，但沒有移動的現象，這是何種原因造成的? (A) 合力與合力矩皆為零 (B) 合力為零，但合力矩不為零 (C) 合力不為零，但合力矩為零 (D) 合力與合力矩皆不為零。
19. () 如附圖所示，有一槓桿受到四個作用力作用，試問哪一個作用力產生力矩的方向和其他三者不同?



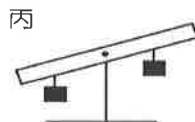
- (A) F_1 (B) F_2 (C) F_3 (D) F_4 。
20. () 如附圖所示，下列三種槓桿的狀態，何者的順時鐘方向力矩等於逆時鐘方向力矩? (A) 僅有甲 (B) 甲乙 (C) 甲丙 (D) 甲乙丙皆是。



保持水平靜止



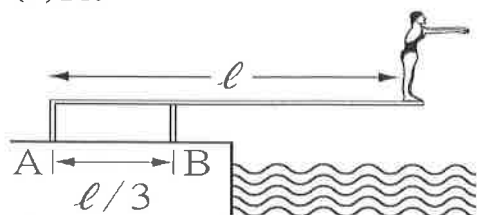
右端著地靜止



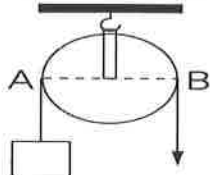
保持傾斜靜止

【背面尚有試題】

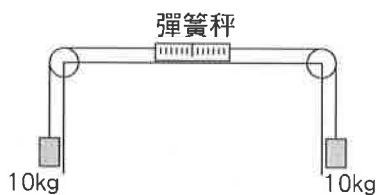
21. () 如附圖所示，一位 60 公斤重的跳水選手站在一長 l 公尺、重量可忽略的跳板前端，此板由 A、B 兩個基座固定，則基座 B 所受的作用力為多少公斤重？ (A)60 (B)120 (C)180 (D)240。



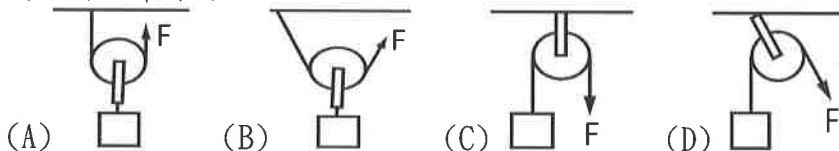
22. () 若於附圖的 A 點處掛一個 150 公斤重的物體，則需於 B 點處向下施力多少公斤重才可達平衡？(摩擦力忽略不計) (A)50 (B)75 (C)100 (D)150。



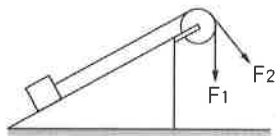
23. () 如附圖所示，一彈簧秤的兩端用兩條細繩跨過兩個定滑輪，繩子的兩端分別繫上 10 公斤重的物體，繩子的質量及繩與滑輪之摩擦力不計，則此時彈簧秤之讀數為多少公斤重？ (A)0 (B)5 (C)10 (D)20。




24. () 利用下列各滑輪來拉動相同物體時，若滑輪的重量都可忽略，則利用下列何種方式所需的施力 F 最小？



25. () 如附圖所示，若將光滑斜面上的物體分別以 F_1 、 F_2 的力將物體等速提升，則此兩種狀態下的施力大小關係為何？ (A) $F_1 > F_2$ (B) $F_1 < F_2$ (C) $F_1 = F_2$ (D)無法判斷。



26. () 附圖以細線連接重量相同的兩物體，將其跨繞在光滑斜面上端的定滑輪，放開雙手後整個系統將如何運動？ (A)往左端下滑 (B)往右端下滑 (C)靜止不動 (D)開始轉動。



27. () 太陽能、石油、煤、天然氣、核能、風、水、地熱、潮汐；以上有幾種屬於非再生能源？ (A)2 種 (B)3 種 (C)4 種 (D)5 種。

28. () 甲. 火力發電；乙. 水力發電；丙. 核能發電；丁. 風力發電；戊. 地熱發電；己. 生質能發電。上述何者是利用再生能源來發電？ (A)乙丁戊己 (B)丙丁戊 (C)甲乙己 (D)甲丁己。

29. () 目前臺灣地區的核能電廠用來發電的能量，來自於下列何者？ (A)原子核的電子轉移 (B)原子核與電子的撞擊反應 (C)原子核的分裂反應 (D)原子核的融合反應。

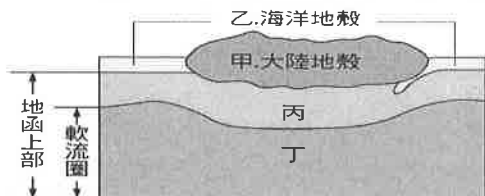
【背面尚有試題】

30. () 關於水力發電的敘述，下列何者錯誤？ (A)利用水力發電時，水和發電機之間要具有高度差 (B)水由高處落下，損失的位能僅有部分可轉換成電能 (C)水由水庫到發電廠的過程中，直接由位能轉換成電能 (D)水力發電的總電量會受水庫水量所限制。
31. () 關於地球內部構造的敘述，下列何者錯誤？ (A)地核大部分為鐵、鎳所組成，密度是地層中最大者 (B)由於海流的作用，岩石圈每年會流動數公分 (C)地殼為固體地球的最外層，由固態岩石構成 (D)地函由岩石構成，部分岩石因高溫而熔融具有流動性，形成軟流圈。
32. () 關於地殼性質的敘述，下列何者正確？ (A)海洋地殼主要由沉積岩構成 (B)大陸地殼平均厚度比海洋地殼厚 (C)大陸地殼主要由變質岩構成 (D)海洋地殼與大陸地殼均浮在海面上。

33. () 關於中洋脊和海溝所在地的地球內部熱對流運動方向，下列何者正確？

選項	中洋脊	海溝
(A)	熱對流上升	熱對流下降
(B)	熱對流下降	熱對流上升
(C)	熱對流上升	熱對流上升
(D)	熱對流下降	熱對流下降

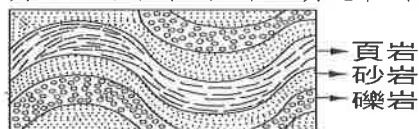
34. () 附圖是固體地球表面附近的垂直分層結構圖，請問板塊的範圍涵蓋了圖中哪些部分？ (A)甲乙 (B)丙丁 (C)甲乙丙 (D)乙丙丁。



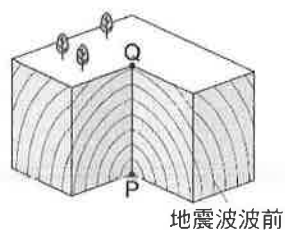
35. () 附圖為某處之地層剖面示意圖，若此區域的地層未經倒轉，則有關地質事件發生的先後順序，下列何者正確？ (A)X-Y 斷層形成比甲岩脈早 (B)甲岩脈形成比礫岩層早 (C)頁岩形成比甲岩脈早 (D)X-Y 斷層形成比砂岩層早。



36. () 臺灣有許多呈彎曲的岩層裸露出地表如附圖所示，關於此現象的敘述，下列何者正確？ (A)此彎曲現象為泥沙順著原先高低起伏之地勢沉積形成 (B)此彎曲現象發生於地下深處，因岩石受力產生可塑性 (C)岩層受侵蝕作用產生下凹，受沉積作用形成凸起 (D)頁岩因顆粒較小所以填充在礫岩的裂隙中。

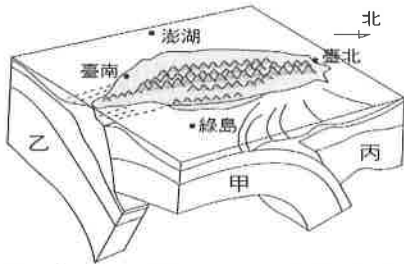


37. () 下列關於地震規模與地震強度的表示方式，何者正確？ (A)3 級、3 級 (B)3、3.3 級 (C)3.3、3 級 (D)3 級、3。
38. () 附圖為地震波傳播情形示意圖，試問下列敘述何者正確？ (A)P 為震央 (B)Q 為震源 (C)PQ 間的距離越長，地震規模越大 (D)地震波會向四面八方傳播。



【背面尚有試題】

39. () 臺灣位於兩板塊的交界處，試問關於板塊構造的敘述，下列何者為非？ (A)臺灣大部分面積屬於歐亞板塊 (B)中央山脈為兩板塊的交界 (C)海岸山脈屬於菲律賓海板塊 (D)花東縱谷為兩板塊的交界。
40. () 如圖所示的澎湖、臺北、嘉義、綠島四個地點，何處位於菲律賓海板塊上？

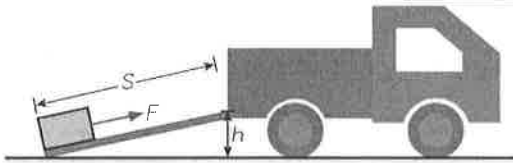


(A)澎湖 (B)臺北 (C)嘉義 (D)綠島。

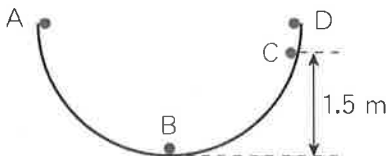
二、填充：每格 2 分 共 20 分

1. 搬運工人利用附圖斜面把重物搬運到貨車上，貨車車廂底板高度 h 為 2 公尺，斜面長度 S 為 5 公尺，若工人施力 F 為 1200 牛頓，沿斜面方向把 2000 牛頓的重物等速推動到車上，請回答以下問題：

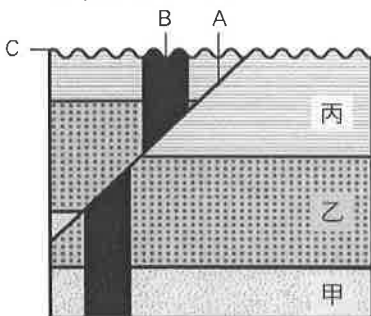
- (1) 物體增加多少重力位能為 1 焦耳。
 (2) 物體所受的摩擦力大小為 2 牛頓。



2. 一半徑為 2 公尺的半圓形軌道，將一個 0.1 公斤的小球，從 A 點靜止釋放，使小球沿著軌道下滑，如附圖所示。若忽略所有的摩擦力與小球半徑，重力加速度為 10 m/s^2 ，則：
- (1) 若小球滑到軌道最低點 B 時的速率為何？ 3。
 (2) 小球滑到 C 點時的力學能為何？ 4。
 (3) 小球滾到與 A 等高之 D 點時的速率為何？ 5。



3. 兩個板塊迎面互相推擠時，形成 6 板塊交界。如果交界處一邊是大陸地殼，另一邊是海洋地殼，則會在交界處的海底形成 7，而在大陸側形成 8。
4. 試根據附圖回答問題：



圖中的岩層標出了 6 個地質事件請將這 6 個地質事件最可能的發生順序由先到後排出。

9。(填 A、B、C、甲、乙、丙)

5. 海底地形可分為大陸邊緣、洋底盆地、10 三大部分。

【試題結束、九年級、自然科】

澎湖縣立文光國民中學 109 學年度第 1 學期 第 2 次成績評量 9 年級公民科試卷

班級：_____ 姓名：_____ 座號：_____ 讀卡 答案卷

一、單一選擇題（十五題，每題 2 分，共 30 分）

- 我國《民法》於民國 91 年修正夫妻財產制，強調家庭財產的分配上應享有相同的權利。下列何者為該制度的規定？
(A)各自保有財產，各自管理和使用 (B)妻子的財產皆歸先生所有
(C)先生的財產皆歸妻子所有 (D)先生與妻子的財產完全不可分割。
- 眾多理財工具中，集合多數投資人之資金，由專業投資機構來管理運用，以謀求投資人在合理風險範圍內長期之最高資本利得，我們稱這種理財工具為何？
(A)股票 (B)債券 (C)外幣 (D)共同基金。
- 下列哪些是現代人常利用的適當理財工具？
(甲)銀行存款 (乙)債券 (丙)共同基金 (丁)預借現金
(A)甲乙丙 (B)甲乙丁 (C)甲丙丁 (D)乙丙丁。
- 一般而言，從事理財行為時，「報酬」與「風險」之間有何關係？
(A)報酬愈高，風險愈低 (B)報酬愈高，風險愈高
(C)報酬愈低，風險愈高 (D)報酬高低與投資風險無關。
- 右側是老師在課堂上展示的圖卡——
根據內容判斷，這是指哪種企業經營的型態？
(A)合夥企業 (B)無限公司
(C)獨資企業 (D)股份有限公司。
- 公民老師：「隨著商業活動的興盛，生產的規模愈來愈大，所需要的資金也愈來愈多，因此發行股票向社會大眾募集，而每個股東對公司的責任，只有其所投入的資金。」上述主要在說明哪種企業的經營型態？
(A)無限公司 (B)獨資企業 (C)合夥企業 (D)股份有限公司。
- 企業除了獲取利潤創造盈餘，也應擔負社會責任。下列四位公司經營人，何者的作為不符合企業應有的社會責任？
(A)王老闆在公司成立免費托兒所，使家有幼兒的員工安心上班
(B)辛老闆設立溫水游泳池，提供員工運動休閒
(C)洪老闆提供優良的產品及完善的售後服務
(D)李老闆為開源節流，增加員工工作量，不給付加班費。
- 新聞報導：「針對過勞死及工安意外，勞動部將展開勞動檢查，包括工資、工時，還有投保薪資，都是勞檢重點，違規業者不但要被重罰，還會公布企業名稱。」根據內容判斷，勞動部加強勞動檢查，主要是希望業者善盡下列哪方面的責任？
(A)維護消費權益 (B)從事公益活動 (C)落實員工福利 (D)重視環境保育。
- 企業在獲取利潤的同時，也應該負擔相對的企業社會責任。下列哪些是企業應負擔的責任？
(A)甲乙丙 (B)甲乙丁 (C)甲丙丁 (D)甲乙丙丁。



甲、誠實繳納稅款
乙、贊助社區營造
丙、聯合哄抬物價
丁、注重員工培訓

【第 1 頁結束—背面尚有試題】

10. () 小李看到下列四則報導，其中何者屬於企業社會責任？
 (A) 行政院設立「國家永續發展獎」
 (B) 小王實行「資源回收、垃圾減量」
 (C) 阿滿獨資經營小吃店，獨自承擔風險
 (D) 鄭老闆遵守法律保障員工最低薪資。
11. () 日前李叔叔花了將近 10 萬元，請人安裝一臺「太陽能熱水器」，業者表示，和電熱水器相比，一個月可省下 800 元以上的電費，全年最多可省下近萬元。上述李叔叔的做法，符合下列何種觀念？
 (A) 炫耀性消費 (B) 生產性消費 (C) 綠色消費 (D) 過度消費。
12. () 為了減少地球資源的浪費，並降低化學汙染，政府多鼓勵民眾購買「低汙染、省能源、可回收」的綠色產品。下列哪些東西屬於可以回收再利用的資源？
 (甲) 寶特瓶 (乙) 玻璃瓶 (丙) 廚餘 (丁) 舊報紙
 (A) 甲乙丙 (B) 甲乙丁 (C) 乙丙丁 (D) 甲乙丙丁。
13. () 下列對失業的敘述，何者錯誤？
 (A) 經濟不景氣會提高失業率
 (B) 造成失業的主因是失業者好吃懶做
 (C) 失業率太高會影響國家經濟
 (D) 失業人口影響的不只是個人，也會影響家庭收支。
14. () 經濟不景氣，許多公司行號紛紛裁員精簡人事。王小姐被公司裁員以後，天天上網尋找新的工作機會。根據上述內容判斷，王小姐最可能是到下列何種網站？
 (A) 好新奇拍賣網站 (B) 好居住租屋網站
 (C) 好人才人力網站 (D) 好順利購物網站。
15. () 甲：「經濟不景氣，我被公司資遣，短期間又找不到工作，家庭經濟頓失依靠，怎麼辦？」
 乙：「政府為保障失業勞工面臨生活的困境，制定法律，規定符合一定條件的勞工，在失業時可向公立就業服務機構申請失業給付。你不妨到相關單位詢問看看？」
 根據內容判斷，乙所說法律是指下列何者？
 (A) 《性別工作平等法》 (B) 《勞動基準法》
 (C) 《就業保險法》 (D) 《社會秩序維護法》。

二、配合題(五題，每題 1 分，共 5 分)

1. 下列是有關「家庭經濟規畫」的各項敘述。請從答案選項中做正確的配對。
- A. 開源
 B. 節流
- ()16. 隨手關燈、節約能源。
 ()17. 大學生利用課餘兼家教。
 ()18. 出門盡量步行或改搭大眾交通工具。
 ()19. 努力工作以獲取績效獎金。
 ()20. 婚喪喜慶力求簡樸。

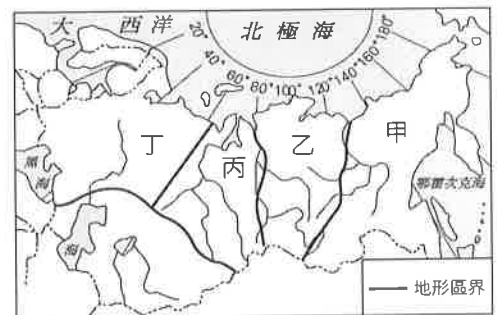
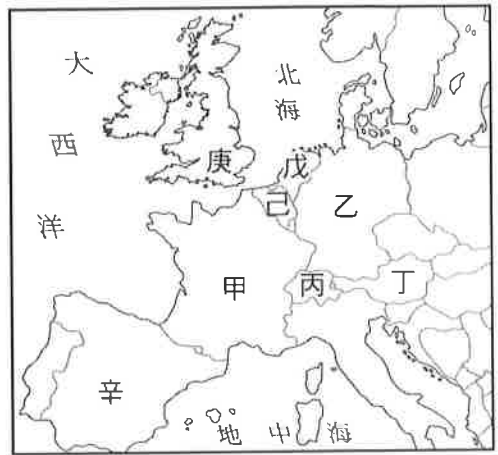
【第 2 頁結束—背面尚有試題】

澎湖縣立文光國民中學 109 學年度第 1 學期 第 2 次成績評量 9 年級地理科試卷

班級：_____ 姓名：_____ 座號：_____ 讀卡 答案卷

一、單一選擇題（十題，每題 2 分，共 20 分）

- () 21. 「該國的銀行一直被認為是全球最令人信賴的銀行，世界上約有四分之一的個人財富存放在這裡，各國政要、商界鉅子和演藝明星對存款放在該國感到安心，這造就了該國聞名於世的金融業。鐘錶生產也是該國著名的產業，Swatch 及勞力士手錶，都出於此。」上述這個國家是指何者？ (A)英國 (B)瑞士 (C)法國 (D)德國
- () 22. 下列哪二項因素最可能造成西歐境內水氣豐沛、溫和溼潤的氣候特色？
(A)西風吹拂、北太平洋暖流流經 (B)東北信風吹拂、北太平洋暖流流經
(C)西風吹拂、北大西洋暖流流經 (D)東北信風吹拂、北大西洋暖流流經
- () 23. 品右夫婦新婚蜜月假期打算以「鬥牛表演→塞納河左岸喝咖啡→堤防看風車群」這三個主題為主，右圖為歐洲簡圖，他們度假的先後順序應為下列何者？ (A)甲乙丙 (B)甲庚丁
(C)乙丙丁 (D)辛甲戊
- () 24. 瓦特發明了蒸汽機被視為拉開了工業革命的序幕，若想要遊覽瓦特的故鄉並與其紀念雕像合照，應該前往下列哪個國家？
(A)西班牙 (B)葡萄牙 (C)義大利 (D)英國
- () 25. 美美到歐洲某個城市旅遊，在這個城市內可以喝到香醇的紅酒，買到最流行的服飾及包包，高級的化妝品與香水，而且有「花都」之稱。上文所描述的是哪個城市？
(A)阿姆斯特丹 (B)倫敦
(C)維也納 (D)巴黎
- () 26. 右圖為俄羅斯地形簡圖，圖中哪個地區為俄羅斯的精華區？
(A)甲 (B)乙 (C)丙 (D)丁
- () 27. 關於東歐的氣候特徵的描述，下列何者正確？
(A)西風吹拂，終年有雨 (B)深居內陸溫差極大
(C)雨量由東向西遞減 (D)因涼流流經使氣流穩定，降水不足
- () 28. 「最近一場《開拓東歐商機》的研討會中，分析師一致推薦東歐的投資環境，包括臺灣的科技廠商在內，許多世界級大廠早已紛紛前進東歐。」根據引文中描述，下列何者不屬於在此次的投資範圍內？
(A)義大利 (B)捷克 (C)羅馬尼亞 (D)匈牙利
- () 29. 多瑙河與萊茵河是歐洲最重要的兩條河流，然而多瑙河雖然河流的長度較長，航運價值卻不如萊茵河來得高，這應該是多瑙河哪項缺點所導致的結果？
(A)冬季易結冰 (B)出口方向不佳 (C)水量季節變化大 (D)洪患頻繁
- () 30. 東歐暴動、鎮壓事件層出不窮，政治情況相當不安定，成為「歐洲的火藥庫」。造成該區動盪不安最根本的原因為何？
(A)地形破碎，不利統治 (B)爭奪出海控制權 (C)礦產豐富，引人覬覦
(D)民族、宗教複雜



【第 3 頁結束—背面尚有試題】

二、題組：(十題，每題1分，共10分)

(一) 2004年時曾有經濟學者大膽預言，巴西、俄羅斯、印度和中國經濟崛起，成為四大經濟強國，稱為「金磚四國」。不過現在這四國都面臨或多或少的問題，經濟成長已經趨緩。請問：

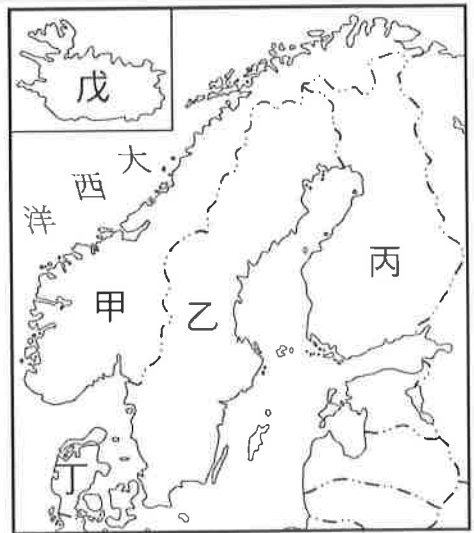
- () 31. 俄羅斯與其他三國相比，在哪個方面較具優勢？
 (A) 規模龐大的勞動力資源
 (B) 豐富石油、天然氣礦產
 (C) 廉能有效率的政府機構
 (D) 英語能力佳的軟體人才

	人口(億)	領土面積(平方公里)
甲	2.06	852萬
乙	13.3	329萬
丙	1.44	1,710萬
丁	13.76	960萬

- () 32. 右表為金磚四國的基本資料。請判斷何者為俄羅斯？(A)甲 (B)乙 (C)丙 (D)丁

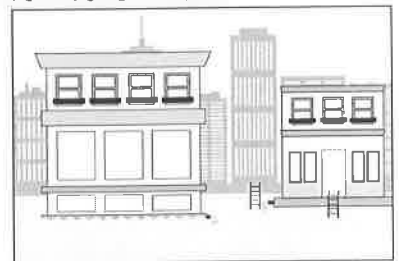
(二) 近年來，走訪北歐的人數與日俱增。到了北歐，可以參觀安徒生的童話王國、享受滑雪的樂趣、遊覽壯麗的峽灣景色等，豐富的自然與人文資源，使得北歐成為旅遊勝地。請問：

- () 33. 世界知名手機大廠 NOKIA 的發跡地是在哪個國家？(A)甲 (B)乙 (C)丙 (D)丁
- () 34. 哪個國家藏有豐富的鐵礦和森林，也是 IKEA 家具發源地？(A)甲 (B)乙 (C)丙 (D)丁
- () 35. 北歐的冰河地形隨處可見，該種地形和海岸對經濟活動的發展，最具有直接關係的是哪個國家的產業？
 (A) 甲的海運業 (B) 乙的漁業
 (C) 丁的工礦業 (D) 戊的畜牧業
- () 36. 冰河作用造成哪個國家形成許多冰蝕湖，有「千湖國」之稱？(A)甲 (B)乙 (C)丙 (D)丁
- () 37. 關於戊的說明，下列何者正確？
 (A) 利用地熱、溫室栽種蔬果、花卉
 (B) 位於南極圈內，可看到午夜的陽光
 (C) 地勢平坦，畜牧業發達
 (D) 為北歐人口最多的國家



(三) 全球暖化帶來的海平面上升，使低窪或島國面臨被淹沒的危機。附圖是西歐某國家建造的「漂浮屋」，房屋會隨水位上升或下降，能積極防洪並適應氣候變遷。請問

- () 38. 在全球暖化下，馬爾地夫同樣面臨被淹沒的危機。為了解決國土危機，可向下列哪個國家取經，學習與水共存，打造出水上城市的夢想？
 (A) 瑞士 (B) 荷蘭 (C) 法國 (D) 德國
- () 39. 這個歷史上以治水聞名的「低地國」，昔日利用風車產生動力，以填海造陸，爭取更大的生活空間。試問當地風車的葉片，大多面向何方？
 (A) 東方 (B) 南方 (C) 西方 (D) 北方
- () 40. 有關該國的地理特色，下列敘述何者正確？
 (A) 地控萊茵河出海口 (B) 工業革命的發源地
 (C) 葡萄酒生產聞名全球 (D) 八大工業國家之一



【第4頁結束—背面尚有試題】

班級：

姓名：

座號：

■讀卡 □答案卷

一、 單選題(41~50 題，每題 1.5 分，51~55 題，每題 2 分；共 25 分)

() 41. 右列三圖均是歷史上疆域跨三洲的大帝國，若依出現的時間先後排列應該為何？(A)甲丙乙(B)乙丙甲(C)丙乙甲(D)甲丙乙。

() 42. 「這個組織為壟斷當地市場，嚴格限制外地商人在當地的貿易，對內則保持一穩定的、沒有競爭的經濟制度，故對內統一價格，嚴懲個人壟斷。一般手工業者都要經歷學徒—幫工—行東(師傅)的過程。……其行規主要反映經濟方面的內容，對生產規模、學徒幫工數量、工資、生產過程、價格、原料、市場都有規定。」請問：此組織最可能為下列何者？(A)大航海時代的英國東印度公司 (B)清朝負責對外交涉的公行 (C)中世紀西歐的行會 (D)清領時期臺灣的行郊。

() 43. 中西歷史時常交互影響。中國在秦漢時北伐匈奴，匈奴戰敗西逃，迫使日耳曼民族遷徙，結果導致下列哪一帝國的滅亡？(A)波斯帝國 (B)亞歷山大帝國 (C)西羅馬帝國 (D)阿拉伯帝國。

() 44. 語真來到著名的米蘭大教堂頂端欣賞風景，她發現這裡是文藝復興發源地之一，請問：當時的米蘭有什麼條件能夠發展文藝復興？(A)寧靜安祥的田園城鎮，使希臘、羅馬古籍得以保存 (B)軍事重鎮，捍衛文化發展(C)位於貿易要衝，同時商業繁盛，助長精緻文化的推廣 (D)宗教聖地，促使傳教速度加快。

() 45. 西元 1095 年教宗烏爾班二世作出下列宣告：「……與神隔絕的民族，猛烈地侵犯基督教的領域，燒殺擄掠當地的居民，他們將部份的俘虜帶回自己的國家，又以酷刑將其餘殺害……但願你們先祖查理曼大帝和其餘君主光榮宏偉的功業激勵你們，但願那陷於不潔之民手中的我們救主的聖墓，以及那被玷汙的聖地喚醒你們。」下列相關敘述何者正確？(A)查理曼大帝為拜占庭帝國著名的君主 (B)「與神隔絕的民族」是指鄂圖曼土耳其人 (C)在教宗的激勵下組成的十字軍，每場戰役均獲得空前勝利。(D)「被玷汙的聖地」位於巴勒斯坦地區

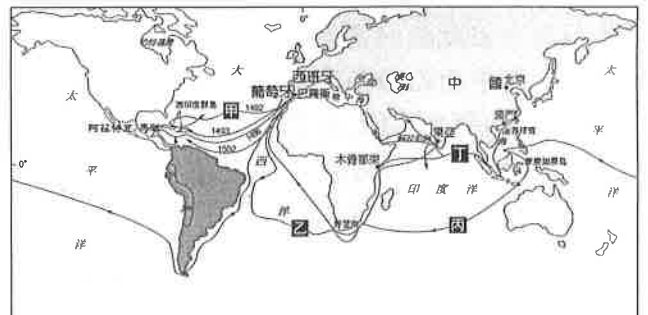
() 46. 關於右圖中「丙」路線的敘述，下列何者錯誤？(A)船隊橫渡太平洋，最後繞回西班牙 (B)船隊完成環繞世界一周的壯舉 (C)由西班牙出發，繞過非洲東行(D)麥哲倫領隊出航，但在中途不幸遇害

() 47. 十五世紀時，最早以官方力量從事大規模航海活動，航路甚至遠達非洲東岸的是哪一國家？(A)中國 (B)英國 (C)西班牙 (D)葡萄牙。

() 48. 小銘認為日耳曼民族進入歐洲，造成古羅馬帝國文化全面消失，但小緯提出反駁，認為古羅馬的文化仍然繼續延續。請問：小緯反駁的論點，不應該包括下列何者？(A)教會保存了古典文化 (B)封建領主負起教育工作的全責 (C)中世紀教士抄寫古籍，成為知識的傳播者 (D)阿拉伯人翻譯古希臘、羅馬典籍，為基督教世界保存知識。

() 49. 一本歷史書中對某帝國有以下描述：「這帝國盛行伊斯蘭教，商人擁有能在逆風中航行的商船，從非洲運來黑奴，從印度輸入米、棉及蔗糖，從唐帝國進口絲綢，首都巴格達因此成為當時重要的大都會。」此帝國最可能為下列何者？(A)拜占庭帝國 (B)阿拉伯帝國 (C)神聖羅馬帝國 (D)鄂圖曼土耳其帝國。

() 50. 中世紀後期有一種人擁有財富，地位介於農民與貴族之間，關於此階級的民眾之敘述何者錯誤？(A)由於商業復甦、城市擴張而形成的新階級 (B)為「市民階級」，包括商人、銀行業者等 (C)為古典文化復興的重要支持者(D)重視財富的追求，對文化藝術不感興趣

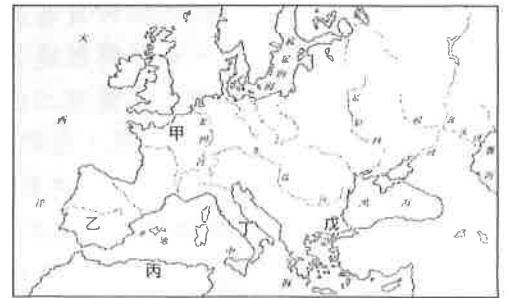


- () 51. 與文化交流有關的戰爭如下：(甲)十字軍東征 (乙)亞歷山大東征 (丙)恒羅斯之役(丁)蒙古西征，依時間順序排列為何？(A)乙丙甲丁 (B)乙甲丙丁 (C)丙乙甲丁 (D)丙甲乙丁。
- () 52. 有關英、法、西班牙以及葡萄牙形成王權國家的經過，下列敘述何者正確？ (A)都是在驅逐異教徒之後才形成王權國家 (B)均與伊斯蘭教勢力對抗 (C)這些國家都是以數個民族為基礎建立王權國家 (D)他們都是透過戰爭而形成王權國家。
- () 53. 松閱在書店裡拿起一本西洋文學名著《十日談》，他看前言後，得知這本書在描寫十四世紀時，人民籠罩某個恐懼中。請問：文中的「恐懼」應是下列何者？ (A)蒙古西征帶來黃禍 (B)十字軍東征的衝突 (C)黑死病造成人口的死亡 (D)歐洲因天災頻繁導致饑荒。
- () 54. 文藝復興時期有位政治學者認為君王統治人民是以實力為原則，為實現目的可以不擇手段，如同狐狸般狡猾、獅子般勇猛。此學者的論點和中國春秋戰國時代何者的思想最為接近？ (A)孟子 (B)老子 (C)韓非 (D)墨子。
- () 55. 十六世紀歐洲宗教改革運動如火如荼展開，也使得天主教遭逢莫大的衝擊，亟思增加威望、回復昔日優勢。請問：下列何者為宗教改革發生的最主要原因？ (A)民眾對羅馬公教統治下的教會不滿 (B)羅馬教宗鑑於教會腐敗而主動發起改革 (C)伊斯蘭教的擴張對天主教產生威脅 (D)地理大發現使民眾開拓視野而不再虔誠信奉天主教。

二、題組(每題 2 分，共 10 分)

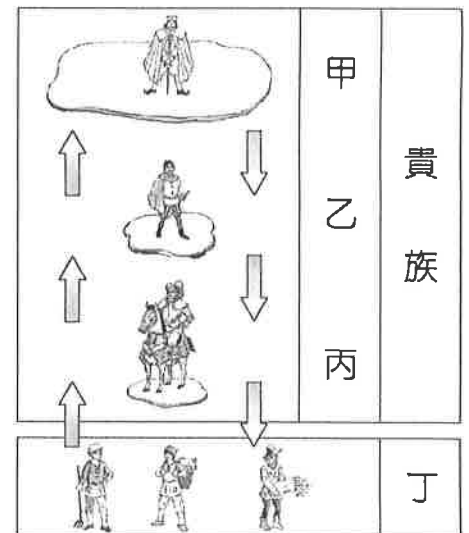
1. 請根據附圖，回答下列問題：

- () 56. 日耳曼民族建立的國家中，哪一國實力最強，其君主查理曼於八世紀末時建立龐大的帝國？ (A)甲國 (B)乙國 (C)丙國 (D)丁國。
- () 57. (甲)使用拉丁文 (乙)政教合一 (丙)信仰羅馬公教 (丁)政治為中央集權。上述哪幾項屬於「戊國」的特色？ (A)甲乙 (B)甲丙 (C)乙丁 (D)丙丁。



2. 右圖為中世紀歐洲某種制度的示意圖。

- () 58. 圖中的乙和丙之間有主從關係；對丙而言，乙被稱為什麼？ (A)領主 (B)大宗 (C)附庸 (D)教士。
- () 59. 丙從小接受各種武藝和待人接物的禮節與風度，之後被冊封為哪一種身分？(A)伯爵 (B)諸侯 (C)農奴 (D)騎士。
- () 60. 此圖所繪的是中世紀歐洲何種制度？(A)封建制度 (B)行會制度 (C)莊園制度 (D)宗法制度



【試題結束—文光九年級、歷史科】