

澎湖縣立文光國民中學 109 學年度第 2 學期第 1 次成績評量 7 年級國文科試卷

班級： 姓名： 座號：  讀卡  答案卷

一、生字題(每題 1 分，共 12 分)

1. 天「ㄉㄛˋ」：	2. 「ㄇㄧㄣˇ」懷：	3. 「ㄕㄨㄛˋ」藍：	4. 「淘」米：
5. 「撇」嘴：	6. 蒙「ㄅㄨˋ」：	7. 繁「ㄇㄨㄣˊ」：	8. 「一ㄩˋ」苗助長：
9. 「ㄩㄛˋ」香貓：	10. 「ㄕㄨㄣˇ」轉難眠：	11. 肉「ㄍㄨㄥ」麵：	12. 義憤填「ㄥ」：

二、解釋題(每題 1 分，共 3 分)






1. 乍暖還寒：	2. 蕭鬱：	3. 契機：
----------	--------	--------

三、成語題(每題 1 分，共 10 分，請填入正確的成語)

提示：A. 負荊請罪 B. 一氣呵成 C. 愛屋及烏 D. 舐犢情深 E. 巴蛇吞象 F. 孜孜不倦  
G. 休戚與共 H. 礎潤而雨 I. 釜底抽薪 J. 孤芳自賞 K. 動如參商 L. 南轅北轍

- 人生短短幾個秋，好朋友總是( )般的無法相見。
- 警察局長展現掃黑決心，決定( )，直搗犯罪集團總部。
- 這兩個人的個性( )，絕對無法成為好朋友。
- 這篇書法大作是他( )的作品，堪稱代表之作。
- 詐騙集團已經得手千萬元，卻仍然繼續詐騙，真是( )，人心不足。
- 我和他本不相識，由於同鄉的緣故，( )，備受招待。
- 自命不凡的人經常是( )，很難融入團體。
- 夫妻本就是( )，有福同享，有難也要同當。
- 事情發生之前，必有預兆。正所謂「月暈而風，( )」。
- 林老先生日夜守候在生病的兒子床前，真是( )，令人動容。

四、國學題(依據圖案所表示，寫出正確文字，共 5 分)

				
1.	2.	3.	4.	5.

【第 1 頁結束 翻開背面繼續作答】

答案欄(請將第五、六大題的答案填入下列答案欄中，否則不予計分)

1.	2.	3.	4.	5.	6.	7.	8.	9.	10.
11.	12.	13.	14.	15.	16.	17.	18.	19.	20.
21.	22.	23.	24.	25.	26.	27.	28.	29.	
30.							31.	32.	33.

五、 單選題(1-29 每題 2 分，共 58 分；30-33 每題 3 分，共 12 分)

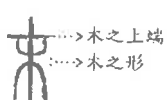


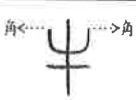
- ( ) 1. 「我們不是讓自己活得悲慘，就是讓自己活得堅強。兩者所花的力量是一樣的。」「命運與機會無關，而是與選擇有關。它不是等著發生的東西，而是等著努力達成的東西。」這兩句話共同傳達出的涵義，與下列何者最接近？ A. 人生方向可由自己掌握 B. 以堅強的態度接受失敗 C. 快樂與痛苦是一體兩面 D. 機會是可遇而不可求的。

靈感/爬上一畝一畝泥土/種植一排一排的/防風林/執著的樵夫/用智慧的斤斧/歷經春夏秋冬/築成一幢幢/詩的小屋

〈稿紙〉王詔觀

- ( ) 2. 「靈感／爬上一畝一畝泥土／種植一排一排的／防風林」，這是運用何種修辭法？ A. 排比 B. 誇飾 C. 引用 D. 轉化。
- ( ) 3. 上題詩中的「樵夫」是指？ A. 伐木工人 B. 詩人 C. 建築工人 D. 畫家。
- ( ) 4. 下列成語意思何者與其他三者不同？ A. 青雲直上 B. 扶搖直上 C. 夸父逐日 D. 飛黃騰達。
- ( ) 5. 數學中「負負得正」的道理也可以應用在國文中，請問下列成語何者不是？ A. 無微不至 B. 非你莫屬 C. 無可厚非 D. 不清不楚。
- ( ) 6. 「□□端午節是粽子的主場作秀日，□□中秋節就是月餅的獨佔時間了。」請問句中的□□處依序宜填入下列何者？ A. 若說、那麼 B. 要說、終於 C. 與其、不如 D. 假如、那就。
- ( ) 7. 「只有羽翼/而無身軀的鳥/在哭和笑之間/不斷飛翔」請問這首詩描寫的對象是？ A. 眉毛 B. 鼻子 C. 耳朵 D. 嘴巴。
- ( ) 8. 「沒有石虎，山林彷彿被掏空心臟，靜寂地存在」。這句話的含意是？ A. 石虎會破壞山林景觀 B. 石虎在行動時，總是無聲無息 C. 石虎會嚇阻進入山林的遊客 D. 石虎的存在象徵山林的生機。
- ( ) 9. 澎湖在觀光季時的垃圾量很多，想要減少垃圾量時，下列何項建議較沒有用處？ A. 詠捷：宣導垃圾量嚴重問題，請商家減少提供一次性垃圾 B. 昀軒：加強垃圾、資源、廚餘分類的觀念 C. 薇安：減少提供觀光客來澎湖的機位以減少垃圾產生 D. 宜玲：發起 1 人背 1 公斤的垃圾離開澎湖的運動。
- ( ) 10. 「只有等到最後一株樹被砍掉了，最後一條河被污染了，最後一條魚被捕食了，人們才會發現金錢不能充飢。」下列何者最適合做為這段文字的標題？ A. 與自然共舞吧 B. 人定能勝天 C. 一葉可以知秋 D. 奉獻的種子。
- ( ) 11. 「根據相關單位研究發現，臺灣每年約兩百隻擱淺的海龜，幾乎每隻胃裡都有不少垃圾，從最常見的塑膠袋、保麗龍、漁網等應有盡有，這些垃圾會導致牠們消化不良，甚至無法進食而生病或死亡。」蘇醒看到這則報導後，想透過 IG 的貼文來呼籲朋友共同關注此議題並付諸行動，以下哪個標題最適合這則貼文的訴求？ A. 尋找大海龜的家 B. 減「塑」不減速 C. 海龜海龜何時歸 D. 垃圾分類要澈底。
- ( ) 12. 下列哪一選項的詞語全是外來語？ A. 宅急便／沙發／卡哇伊 B. 迷你裙／便當／杯子 C. 脫口秀／豆花／油條 D. 基因／雨傘／幽默。
- ( ) 13. 下列何者不是作者認為的「聲音鐘」特性？ A. 提醒星期或季節變換 B. 與社區居民的

- 生活緊密結合在一起 C. 報時方式機械且刻板 D. 出現時機和這有情世界一樣充滿變化。
- ( )14. 「叫賣聲就正好穿過你推開的窗戶，不客氣地進來。」上述文句運用的修辭，與下列何者相同？ A. 日子安靜得像掛在壁上的月曆 B. 當街燈亮起向村莊道過晚安，夜就悄悄地來臨了 C. 牠像現實世界的龍貓，幫我們為淺山鑲嵌了一顆璀璨的寶石 D. 沿著河堤，我開始拉著天空奔跑。
- ( )15. 「發現石虎的蹤跡，真的是一種庇佑。」本句話的涵義為何？ A. 慶幸自然尚未被破壞殆盡 B. 石虎已被同化變得相當親人 C. 臺灣復育有功，石虎已不再瀕臨絕種 D. 石虎出現象徵神明即將帶來好運。
- ( )16. 依據造字法則的歸納，請問下列選項何者為同一造字法則？ A. 牛/田/家 B. 陽/滾/火 C. 燈/莊/安 D. 珠/銀/幣。
- ( )17. 下列何字不是「象形字」？ A. 眉 B. 眼 C. 耳 D. 口。
- ( )18. 「黃河遠上白雲間」這七個字不包含何種造字法則？ A. 象形 B. 指事 C. 會意 D. 形聲。
- ( )19. 根據下列文字的結構說明，判斷何者是指事字？

A. 末	B. 肉	C. 山	D. 牛
			

- ( )20. 請將「文光國中」四個字的造字方法依序排出，何者正確？ A. 象形、指事、會意、形聲 B. 象形、會意、會意、指事 C. 象形、指事、象形、指事 D. 象形、會意、象形、會意。
- ( )21. 下列有關〈聲音鐘〉的敘述，何者錯誤？ A. 首尾呼應，再度表達對聲音鐘的喜愛 B. 寄託作者對鄉土人物的關懷 C. 聲音中構築的是心情的時間 D. 以小販的販售內容貫串全文。
- ( )22. 「昨天晚上你也許還吃著燒仙草，今天你忽然聽到他改叫『冷豆花哦』」這段文句中不同內容的叫賣聲，隱含著什麼訊息？ A. 年華的流逝 B. 工作的辛酸 C. 季節的轉換 D. 物價的波動。
- ( )23. 下列臺灣地名中，何者兩字皆為形聲字？ A. 高雄 B. 金門 C. 竹山 D. 澎湖。
- ( )24. 「人生的磨難有兩種型態：一是狂風暴雨，時遭顛沛；一是風平浪靜，凡事順遂。後者可能才是真正的不幸。」下列何者可用來詮釋本段文字所指的「真正的不幸」？ A. 沒有反省的人生不值得活 B. 懶惰是一切過失和不幸的源頭 C. 最大的危險，往往是在勝利的瞬間 D. 沒有磨難的人生，是另一種磨難。
- ( )25. 「國立自然科學博物館已進行一年半的臺中市惠來遺址的開挖工作，挖掘到十九具骨骸及一些陶片等物品，經過碳十四檢測，這些骨骸與物品都有超過一千年的歷史，值得進一步開挖。」關於這段文字的說明，下列何者正確？ A. 碳十四可以用來檢測地質與保存遺址 B. 可知臺中距今一千年前即有人類居住 C. 陶片的出土表示當時人類已使用文字 D. 科博館表示開挖活動已全部告一段落。

中國古典小說的產生最早可以溯源到古代的神話和先秦寓言，它們是筆記小說的源頭。筆記小說盛行於漢魏六朝，以篇幅短小、故事簡潔、隨筆雜錄為其特色，又分志人與志怪兩類。

志人小說又稱軼事小說，主要記載人物的言行和軼聞瑣事，世說新語是最有名的代表作品。志怪小說則是記述神鬼妖怪、奇人奇事或靈異現象為主，因為秦漢以來神仙之說盛行，加上佛教於漢代傳入中土，這些都為志怪小說的創作注入了養分，重要的作品有列異傳、搜神記、續齊諧記等。

- ( )26. 關於筆記小說的介紹，以下何者有誤？ A. 篇幅短小，隨筆雜錄 B. 志人小說盛行之因與佛道思想有關 C. 筆記小說的源頭可追溯到神話和寓言 D. 筆記小說的作者創作意識較不強烈。

## 六、閱讀理解題(請將答案填入答案欄中)

熊掌，是中國珍貴的傳統食材，八珍之一。傳統上熊掌多產於中國東北的長白山區，特別是吉林東部。以黑熊、

棕熊腳掌為多，特別是左前掌最為肥腴，掌花明顯，被列為上品。其性平、味甘，為名貴的大補食品。

魚翅，是中國菜中的名貴食材之一。鯊魚鰭是魚翅的原料，由於魚翅市場廣大導致鯊魚被濫捕。因為魚翅和鯊魚肉的價值差異甚遠，鯊魚被割下魚翅後會被捕獵者棄回海中。因無力巡游而窒息死亡或遭同類獵食。近年陸續推動鯊魚保育的措施，包括各國禁止進口貿易並開發仿製的替代品。

象牙是一種貴重的材料，用來製作藝品或用具，是奢侈的象徵。為防止大象滅絕，環保主義者希望在國際禁止象牙貿易，他們的口號是「沒有買賣，就沒有殺害」。一些非洲國家，包括辛巴威和南非，強調基於民生經濟和維護農業理由，象牙貿易是必要的。

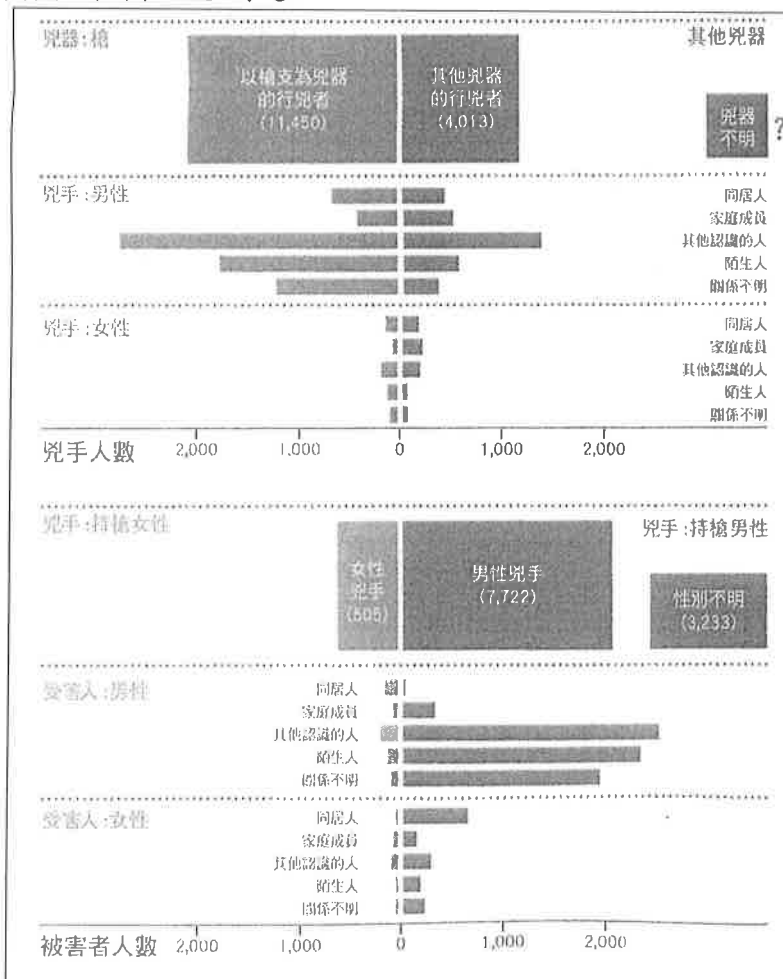
皮革是用動物的毛皮所製成的服裝，是最原始的服裝材料。人喜愛皮革，因為它溫暖而奢侈，也有更多人從動物權利的角度抵制皮革，認為皮革的生產對動物殘忍、不道德。例如一件花栗鼠皮衣要奪去 200 隻花栗鼠的生命，代價相當昂貴。人工仿製的皮革是近年流行的替代方案，但有人質疑其所含的化學原料將對環境造成傷害。

資料來源：維基百科

- ( ) 27. 這篇文章最可能出現在何處？ A. 動物市場相關商品的告示 B. 科學雜誌動保現況的專文 C. 報紙版面黑市交易的報導 D. 環保團體呼籲環保的傳單。
- ( ) 28. 依據文本，辛巴威和南非等國強調象牙交易的必要性，其原因為何？ A. 大象是當地農業生產的動力來源 B. 大象糞便是當地重要的農業肥料 C. 當地民眾倚賴販賣象牙維持生計 D. 當地居民經常受大象攻擊而受傷。
- ( ) 29. 關於本文對於皮革的敘述，可以概括成下列哪一個標題？ A. 仁傑：冬季禦寒新聖品，高貴奢華又尊榮 B. 宏銘：仿生技術大突破，假皮革幾可亂真 C. 宇鉉：花栗鼠兩百壯士，可愛模樣成往事 D. 侑軒：你要美麗的殘酷，還是污染的仁慈。

30. 依據文本所述，鯊魚被割去魚鰭後，放回海中往往都會死亡，是因為那些原因？

閱讀下列圖表回答問題



( ) 31. 根據文本內容，請問下列何者最適合作為標題？ A. 真相只有一個 B. 小心危險枕邊人 C. 兇手就在你身邊 D. 提防週遭陌生人。

( ) 32. 根據文本內容，請問圖表中的「？」所代表的數字最有可能是？ A. 500 B. 1,000 C. 4,000 D. 5,000

( ) 33. 請問下列哪一項案件的資料不會被列入圖表？ A. 警察追捕通緝犯的過程不慎將對方擊斃 B. 科羅拉多州倫拜高中發生的校園槍擊事件 C. 知名影星因過度吸食毒品而猝死在家中浴室 D. 受虐婦人基於自我防衛不慎刺死施暴同居人。

一、聽力測驗：依據聽到的對話與問題，選出一個最適當的答案(每題 2 分;共 10 分)

1. (A) He isn't like his son. (B) His eyes and nose are big. (C) He can't play tennis.
2. (A) She can't see a doctor. (B) She can't stand or walk. (C) She can't eat.
3. (A) Nine hundred and fifty dollars. (B) Three hundred and fifty dollars. (C) Six hundred dollars.
4. (A) He goes to bed at eight p.m. (B) He plays the guitar for two hours. (C) He is busy.
5. (A) She can write on a piece of paper (一張紙).
- (B) She can use her brother's computer.
- (C) She can use her father's computer.

二、文意字彙(每題 2 分;共 20 分)

1. \_\_\_\_\_ We must win the game, we can't l\_\_\_\_\_ e.
2. \_\_\_\_\_ He is taking a s\_\_\_\_\_ r in the bathroom.
3. \_\_\_\_\_ A : What's your favorite s\_\_\_\_\_ t? B : I like soccer.
4. \_\_\_\_\_ A: What does Mr. Wang t\_\_\_\_\_ h? B: Math.
5. \_\_\_\_\_ A : Hi, here's the menu. What do you want for b\_\_\_\_\_ t this morning?  
B : A hamburger (漢堡) and apple juice. Thanks.
6. \_\_\_\_\_ Rachel is a science (自然科學) teacher. She teaches in a c\_\_\_\_\_ e.
7. \_\_\_\_\_ Leo and Tina are in the same (相同的) class. They are c\_\_\_\_\_ es.
8. \_\_\_\_\_ Mike is brushing his t\_\_\_\_\_ h in the bathroom. He does that after each meal  
(每餐)
9. \_\_\_\_\_ The s\_\_\_\_\_ ies are red and fresh(新鮮的). I like the fruit.
10. \_\_\_\_\_ Tina is my neighbor (鄰居). We walk to school t\_\_\_\_\_ r every morning.

三、文法測驗(每題 2 分;共 36 分)

1. ( ) Julia is a high school student \_\_\_\_\_ a busy life.  
(A)of (B)about (C)for (D) with
2. ( ) Peter \_\_\_\_\_ fruit every evening. He is healthy. (健康的)  
(A)have (B) has (C) is having (D) does have
3. ( ) A : \_\_\_\_\_ you like grapes? B : Yes.  
(A) Don't (B) Aren't (C) Isn't (D) Not
4. ( ) Study hard (努力), and you can \_\_\_\_\_ a great student.  
(A) are (B) do (C) be (D) ×
5. ( ) A : \_\_\_\_\_ your father play soccer well (好地)? B : Sure.  
(A) Is (B) Does (C) How (D) What
6. ( ) My brothers help me \_\_\_\_\_ my math homework on Mondays.  
(A)in (B)to (C) doing (D) with
7. ( ) A: \_\_\_\_\_ Lisa sleeping in her room? B: No, she's reading storybooks.  
(A)Does (B)do (C) Is (D) Are
8. ( ) Robert and Sherry \_\_\_\_\_ their junior high school life, and his friend, Helen, \_\_\_\_\_, too.  
(A) enjoys; does (B) enjoy; does (C) doesn't enjoy; doesn't (D) doesn't enjoy; do

9. ( ) Does your daughter \_\_\_\_\_ the dog or \_\_\_\_\_ with it at the park every Saturday afternoon?  
(A) walks; plays (B) walk; playing (C) walk; play (D) walks; is playing
10. ( ) They \_\_\_\_\_ to help Greg, and I don't, either.  
(A) want (B) wants (C) are wanting (D) don't want
11. ( ) A: Can't you sing a song for me? B: \_\_\_\_\_.  
(A) Yes, I can't. (B) Yes, I can. (C) No, I can. (D) No, I don't.
12. ( ) Julia \_\_\_\_\_ in her room now. Don't talk to her.  
(A) study (B) studies (C) is studying (D) are studying
13. ( ) A: Do your cousins \_\_\_\_\_ TV with you? B: No.  
(A) watch (B) watches (C) watching (D) are watching
14. ( ) My son \_\_\_\_\_ at kindergarten (幼兒園) every day, and he doesn't have any friends. What can I do?  
(A) cry (B) is crying (C) to cry (D) cries
15. ( ) A: \_\_\_\_\_ studies English every day. B: No wonder (難怪). His English is so good.  
(A) They (B) Ben and Jerry (C) My uncle (D) My brothers
16. ( ) A: What \_\_\_\_\_ your favorite animals in the zoo? B: I like bears, and my brother \_\_\_\_\_ tigers.  
(A) are; likes (B) are; like (C) does; likes (D) does; like
17. ( ) A: \_\_\_\_\_ they \_\_\_\_\_ baseball at the park or at school?  
B: At the park. Do you want to join (加入) them?  
(A) Do; play (B) Is; playing (C) Does; play (D) Can; playing
18. ( ) Sara: \_\_\_\_\_ can Lily's cat do? Belle: It can shake hands (握手).  
Sara: \_\_\_\_\_ can it do that? Belle: Lily taught (教導) it.  
(A) What; What (B) What; How (C) How; What (D) How; How

**四、字體轉換書寫：請將印刷體轉換成書寫體，小寫字體請相連**  
(每字 2 分，錯一字母即扣 1 分；共 8 分)

1.Zootopia 2.refrigerator 3.Wen Guang 4.Elizabeth

**五、閱讀測驗(每題 2 分; 共 10 分)**

1. Chris: What do you do on Saturdays, Tracy?

Tracy: I watch basketball games on TV with my dad on Saturdays.

Chris: Do you want to come to the game when I play for our school?

Tracy: No way! Are you on the school team?

Chris: Yes, and I have two tickets for the final next Saturday.

Tracy: Of course! It's a big game!

Chris: Yes, it is. We will play at the National Stadium, so make sure you know the rules.

Tracy: What do you mean?

Chris: Here, check out the back of the tickets. It tells you what is not allowed in the stadium, like don't bring your pets.

Tracy: Thanks! I will cheer for you!



No way! 不會吧! final 決賽 will 將會  
of course 當然 make sure 確定 stadium 體育場  
check out 檢查 back 後面 tell 告訴 bring 帶來  
allowed 被允許 bring 帶來 cheer 歡呼

- ( ) 1. Which is true? (何者正確?)  
 (A) Tracy plays basketball on Saturdays. (B) Tracy is on the school basketball team.  
 (C) Chris is a basketball player in his school. (D) Chris and Tracy don't enjoy basketball games.
- ( ) 2. What might the workers say at the stadium?  
 (A) "You can leave your knife in your pocket."  
 (B) "You have to take off your baseball cap."  
 (C) "You can't use a camera to take pictures."  
 (D) "You can't bring an umbrella when it's raining."

might 可能 worker 工作者 leave 留下 knife 刀 have to 必須 take off 脫掉  
 camera 相機 take pictures 照相 umbrella 雨傘 rain 下雨

2. Do you play badminton? Are you a fan of badminton? Then you must know Tai Tzuying for sure. She is a talented badminton player. And in fact, she is NO. 1 badminton player in the world.

Tai Tzuying comes from Kaohsiung, Taiwan. Her father likes to play badminton in his free time. Because of his father, Tai Tzuying loves badminton, too. She started to play badminton when she was nine years old. She joined lots of games and got good rankings. She reached World NO. 1 for the first time in 2016. A lot of people in Taiwan were happy for her. Tai Tzuying is really the pride of Taiwan.

Meet Tai Tzuying in Taipei

Time : May 6th, 10 : 30 to 12 : 00 in the morning

Place : Taipei Jhong Jheng Sports Center

- \* Listen to Tai Tzuying talk about her stories.
- \* You can shake hands with her.
- \* You can take pictures with her.

Come and join us!

fan (球) 迷 talented 有天賦的 free 空閒的  
 because of 由於 start 開始 join 加入  
 ranking 排名 reach 達到 first 第一 (的)  
 pride 驕傲 shake hands 握手

- ( ) 3. What is this reading about?  
 (A) A badminton star in Taiwan. (B) The badminton history in Taiwan.  
 (C) How to be a good badminton player. (D) A story about a woman tennis player.
- ( ) 4. What is correct about the "meet-and-greet" from the poster?  
 (A) The meet-and-greet is in Kaohsiung.  
 (B) The meet-and-greet is in the evening.  
 (C) Fans can take a picture with Tai Tzuying.  
 (D) Only ten fans can shake hands with Tai Tzuying.
- ( ) 5. What can we know from the reading?  
 (A) Tai Tzuying's father is her coach.  
 (B) Tai Tzuying's father can play badminton.  
 (C) Only Tai Tzuying's parents are happy for her.  
 (D) Tai Tzuying's father doesn't want her to play badminton.

star 明星 history 歷史 which 何者 correct 正確的 meet-and-greet 見面會 coach 教練

【第三頁結束--尚有試題】

## 六、依提示回答問題(每題 2 分, 共 16 分)

1. No, Mike can't play video games. (依畫線部分造原問句)
2. I'm not preparing lunch now. (把畫線用 every day 改寫)
3. 我對我們的棒球隊感到驕傲。(翻成英文)
4. Scott 每天早上 7 點洗臉, 然後準備上學。(翻成英文)
5. Joe 星期六下午練習棒球嗎? (翻成英文)
6. 那一定很辛苦, 但是他不放棄。。(翻成英文)
7. What time does your first class start? (依照事實回答, 數字請用英文表示)
8. Come on. Give me a break. (翻成中文)

【試題結束—文光國中七年級英文】



澎湖縣立文光國民中學109學年度第二學期第一次段考七年級英文科答案卷

班級

姓名

座號

一、聽力測驗10%

1.	2.	3.	4.	5.
----	----	----	----	----

二、文意字彙：20%

1.	2.	3.	4.	5.
6.	7.	8.	9.	10.

三、文法測驗36%

1.	2.	3.	4.	5.	6.	7.	8.	9.	10.
11.	12.	13.	14.	15.	16.	17.	18.		

四、書寫體寫作：8%

1. 2.

---

---

---

3. 4.

---

---

---

五、閱讀測驗：10%

1.	2.	3.	4.	5.
----	----	----	----	----

六、依提示回答問題16%

1.
2.
3.
4.
5.
6.
7.
8.

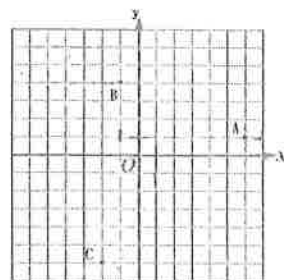
一、選擇題(32分，每題4分)

( )1. 已知陳群老師住家的西方 100 公尺處為車站，住家的北方 200 公尺處為學校，且從學校往東方走 100 公尺，再往南方走 400 公尺可到達公園。若陳群老師將住家、車站、學校分別標示在坐標平面上的  $(3, 0)$ 、 $(0, 0)$ 、 $(3, 6)$  三點，則公園應標示在此坐標平面上的哪一點？

- (A)  $(6, -6)$  (B)  $(6, 18)$  (C)  $(0, -6)$  (D)  $(0, 18)$

( )2. 坐標平面上有 A B C D 四點，其中 A B C 點位置如圖所示，若 A B C D 四點的 x 坐標總和為 0，且 y 坐標總和也為 0，則 D 點應在此坐標平面上的第幾象限？

- (A) 第一象限 (B) 第二象限 (C) 第三象限 (D) 第四象限



( )3. 下列哪個式子不是二元一次式？

- (A)  $3x - 2y + 1$  (B)  $5x + 3y$  (C)  $\frac{1}{x} + 2y - 7$  (D)  $-3x - 5 - \frac{2y}{5}$

( )4. 下列何者為二元一次方程式  $x - 2y = 10$  的解？

- (A)  $(x, y) = (4, -7)$  (B)  $(x, y) = (4, -3)$  (C)  $(x, y) = (4, 5)$  (D) 無解

( )5. 已知  $P(a, b)$  在坐標平面上的第三象限內，則下列那一點會在第二象限內？

- (A)  $(b, -a)$  (B)  $(a^2b, ab^2)$  (C)  $(\frac{a}{b}, |a|)$  (D)  $(ab, a+b)$

( )6. 下列有關  $3x + 4y - 9$  的敘述，何者錯誤？

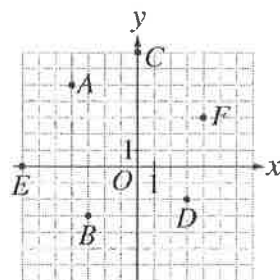
- (A)  $3x$  為  $x$  項 (B) 常數項為  $-9$  (C)  $y$  項係數為 4 (D)  $3x + 4y - 9$  為二元一次方程式

( )7. 老師說：「三年前，我父親的年齡剛好是我的年齡的兩倍。」設今年老師  $x$  歲，父親  $y$  歲，試問下列何者列式正確？

- (A)  $2(y - 3) = x - 3$  (B)  $y - 3 = 2x - 3$  (C)  $y - 3 = 2(x - 3)$  (D)  $2y - 3 = 2x - 3$

( )8. 已知 1 台斤 = 0.6 公斤，若  $x$  公斤 =  $y$  台斤，則下列敘述何者正確？

- (A)  $y = 0.6x$  (B)  $x = 0.6y$  (C)  $y = 6x$  (D)  $x = 6y$



二、填充題(答案要化為最簡分數)(52分，每格4分)

1. 如右圖，寫出各點的坐標：

B 點坐標為 \_\_\_\_\_，C 點坐標為 \_\_\_\_\_

2. P 點的坐標為  $(-7, 8)$ ，由 P 點沿著與  $y$  軸平行的方向向上移動 2 個單位，再沿著與  $x$  軸平行的方向向左移動 5 個單位，可到達 Q 點，則 Q 點的坐標為 \_\_\_\_\_

3. 坐標平面上，在第四象限內有一點 P，且 P 點到  $x$  軸的距離是 4，到  $y$  軸的距離是 5，則 P 點坐標為 \_\_\_\_\_

4. 化簡下列二元一次式：

(1)  $(5x - 3y) + (2x - 7y + 6) =$  \_\_\_\_\_

(2)  $2(5x + 3y - 1) - 2(3x - 2y - 4) =$  \_\_\_\_\_

(3)  $\frac{3x + 2y - 1}{2} + \frac{2x - y + 2}{3} =$  \_\_\_\_\_

5. 已知  $x=-3$ 、 $y=4$  及  $x=3$ 、 $y=-2$  為方程式  $y=mx+k$  的兩組解，則  $m+k=$  \_\_\_\_\_。

6. 已知文光福利社巧克力麵包1個20元，焗烤吐司1個30元。若陳群老師花了320元買這兩種商品，則陳群老師共有 \_\_\_\_\_ 種買法

7. 已知  $x=2$ 、 $y=3$  是二元一次方程式  $ax+by=5$  的一組解，則  $6a+9b-50=$  \_\_\_\_\_。

8. 在右表之空格中填入適當的數，使配對的  $x$ 、 $y$  值是二元一次方程式  $3x-4y=12$  的解。(每格4分)

x	0	
y		0

9. 已知早餐店每日準備500個包子販售，每個包子原價為20元，且晚上關店時未售出的包子一律丟棄。為了減少未售出而丟棄的包子數量，晚上六點後到八點一律打七折，晚上八點後到關店前一律打五折。已知昨晚六點時店裡剩50個包子，晚上八點時剩  $x$  個，關店時剩  $y$  個。若隔日所有包子在晚上六點前即售完，請問早餐店這兩天販售包子的收入差 \_\_\_\_\_ 元（以  $x$  及  $y$  的二元一次式表示）

三、計算及應用題，試求下列方程式的解（需寫計算過程，且答案要化為最簡分數）（16分，每題4分）

1. 
$$\begin{cases} 5x-3y=8 \\ 3x-4y=7 \end{cases}$$

2. 
$$\begin{cases} 197x+4y=11 \\ 197x=19-2y \end{cases}$$


3. 
$$|-5x-6y+27|+|5x-y-13|=0$$

4. 陳群老師想要減重，於是制定甲和乙兩個運動計畫，如圖所示，若他計畫每天從甲乙兩個方案中選擇一個執行，且希望執行30天後，計畫中騎自行車的總距離為380公里，則陳群老師游泳的總距離為多少公里？


<b>甲方案</b>	<b>乙方案</b>
慢跑 5公里 	游泳 2公里 
+	+
騎自行車 10公里 	騎自行車 15公里 

一、選擇題。全部 38 題(1-38)。每題 2 分。共 76 分

( ) 01. 下圖為某生物皮膚細胞內的染色體示意圖，請問傷口皮膚經細胞分裂產生新細胞後，新細胞的染色體如何？



( ) 02. 承上題，傷口皮膚進行細胞分裂時，請問染色體在複製階段，會呈現哪一種形式？



( ) 03. 下列有關試管嬰兒與複製羊之比較，何者正確？

選項	試管嬰兒	複製羊
(A) 生殖方式	有性生殖	無性生殖
(B) 胚胎發育場所	試管中	母體子宮
(C) 遺傳特性	完全和母體相同	完全和母體相同
(D) 進行細胞分裂的母細胞	單套	雙套

( ) 04. 橘子在放一段時間後表面長滿了青黴菌。請問青黴菌可以使用下列哪一種繁殖方式？

(A) 出芽生殖 (B) 分裂生殖 (C) 孢子繁殖 (D) 營養器官繁殖。

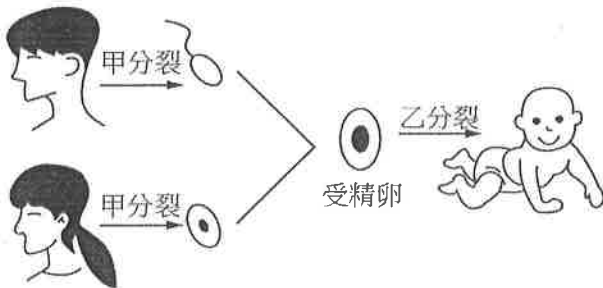
( ) 05. 小香用顯微鏡觀察水中生物，發現到一種微生物的形狀像倒置的草鞋，生物老師說這種生物稱為「草履蟲」。請問此生物的無性生殖方式與下列何種生物相似？

(A) 渦蟲 (B) 水螅 (C) 變形蟲 (D) 黴菌。

( ) 06. 下列何者不是基因轉殖的運用？

- (A) 將耐鹽基因轉殖到水稻中，培育出耐鹽水稻
- (B) 將防蟲害的基因植入蔬果中，可增加蔬果產量
- (C) 將人類胰島素基因轉殖到細菌身上，利用細菌製造出人的胰島素
- (D) 利用雜交的方式挑選出果肉特別甜的木瓜。

( ) 07. 下圖為人類生殖過程的示意圖，請問乙分裂是哪一種分裂？(A) 細胞分裂 (B) 減數分裂。



( ) 08. 請問有性生殖相較於無性生殖的優點為何？

(A) 子代具有親代所有性狀 (B) 子代遺傳有多樣性 (C) 子代數目多 (D) 子代生命力強。

( ) 09. 下列何種動物的雌體產生卵的數目最多？

(A) 鳥類—麻雀 (B) 哺乳類—海豚 (C) 魚類—翻車魚 (D) 爬蟲類—鱷魚。

( ) 10. 一對夫妻育有三個子女，血型分別為 A 型、B 型和 O 型。就血型而言，這一對夫妻的基因型為何？

(A)  $I^A I^A \times I^B I^B$  (B)  $I^A I^A \times I^B i$  (C)  $I^A i \times I^A I^A$  (D)  $I^A i \times I^B i$ 。


- ( ) 11.下列那一項疾病不是屬於遺傳性疾病?(A)腸病毒 (B)海洋性貧血症 (C)軟骨發育不全症 (D)白化症。
- ( ) 12.利用生物技術製造胰島素，是把人類細胞內的什麼物質，植入細菌體內，使細菌產生原本在人體內才能產生的胰島素?(A)基因 (B)細胞核 (C)激素 (D)酵素。
- ( ) 13.據報導，第二匹複製馬是英國科學家從賽馬場中，選出常勝的冠軍馬所複製出來的。關於複製馬的敘述，下列何者錯誤?  
(A)這是一種生物技術的產物 (B)和試管嬰兒一樣是體外受精  
(C)胚胎需在母馬的子宮內發育 (D)毛色和冠軍馬的顏色相同。
- ( ) 14.下列哪一種造成突變的因素是屬於化學因素?(A)X光 (B)亞硝酸鹽 (C)核輻射 (D)紫外線。
- ( ) 15.祝賀他人「弄瓦之喜」是表示生女孩的意思，請問生下女孩是由哪種組合的精子/卵所造成?  
(A)22+X，22+Y (B)22+X，22+X (C)44+XX，44+XX (D)44+XX，44+XY。
- ( ) 16.大雄在賽跑時不小心摔倒，大腿的皮膚有輕微擦傷。請問經過一段時間後，傷口復原的皮膚細胞內應該會具有下列何種染色體形式?  
(A)46條染色體 (B)46對染色體 (C)48條染色體 (D)48對染色體。
- ( ) 17.人類胎兒在母體內發育的過程中，主要是藉由什麼構造與母體交換物質?  
(A)胎盤與臍帶 (B)子宮內膜 (C)卵巢 (D)直接與母體血液交換。
- ( ) 18.開花植物的有性生殖中，植物的精細胞透過哪一種構造進入胚珠，與卵結合以完成受精?  
(A)柱頭 (B)花粉管 (C)胚珠 (D)花藥。
- ( ) 19.下列何者「不是」細胞分裂的主要目的?  
(A)更新衰老細胞 (B)產生卵細胞 (C)使個體生長 (D)修補受傷的組織。
- ( ) 20.下列有關突變的敘述，何者正確?  
(A)近親結婚會生下容易突變的小孩  
(B)突變對生物體都是有害的  
(C)突變若發生在皮膚細胞，則不會遺傳給下一代  
(D)防腐劑和戴奧辛是可能誘發突變的物理因素。
- ( ) 21.請問人類一般在懷孕的過程中，胚胎在母體內發育的場所為何?  
(A)卵巢 (B)輸卵管 (C)腹腔 (D)子宮。
- ( ) 22.大雄解剖某一朵花的子房，觀察到許多個胚珠，則下列哪一種花的子房切開後，可以觀察到類似的結果?(A)荔枝 (B)棗子 (C)龍眼 (D)芭樂。
- ( ) 23.哪一位學者藉由豌豆實驗歸納出遺傳法則，被後人尊稱為遺傳學之父?  
(A)孟德爾 (B)虎克 (C)達爾文 (D)龐尼特。
- ( ) 24.胖虎和小夫都是國一學生，但他們的身高、體重、血型都不同，請問這兩位學生這些特徵上的差異，在遺傳學上稱之為：  
(A)特色差異 (B)性狀差異 (C)樣式差異 (D)性向差異。
- ( ) 25.請問控制性狀遺傳的基本單位是麼?(A)染色體 (B)DNA (C)基因 (D)細胞核。
- ( ) 26.假設父親細胞內的遺傳因子組合為Bb，則產生的精子有：  
(A)「B」1種可能 (B)「b」1種可能 (C)「B」或「b」2種可能 (D)不一定。
- ( ) 27.小張患有色盲，若想知道將來他的子女是否會患色盲，小張應到何處諮詢?  
(A)眼科診所 (B)眼鏡行 (C)衛生所 (D)遺傳諮詢中心。
- ( ) 28.開花植物的有性生殖過程中，受精後，胚珠會發育成哪一種構造?  
(A)花粉管 (B)果實 (C)種子 (D)花粉。
- ( ) 29.人類細胞中與決定性別有關的「性染色體」有幾對?(A)23 (B)22 (C)11 (D)1。

※阿軒正在實作棋盤方格法的計算，其中高莖為顯性特徵(T)，矮莖為隱性特徵(t)。

假設親代為 Tt 及 Tt，請回答 30-31

	T	t
T	30 題	
t		31 題

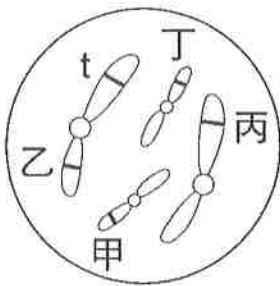
- ( ) 30. 請問該組合的基因型為何? (A)TT (B)Tt (C)tt (D)不能確定。
- ( ) 31. 請問該組合的表現型為何? (A)只有高莖 (B)只有矮莖 (C)高莖及矮莖 (D)不能確定。
- ( ) 32. 大雄在草莓園採草莓，發現草莓可由匍匐莖的節處長出新的根及芽，請問此種繁殖新個體的方式為下列何者? (A)營養器官繁殖 (B)分裂生殖 (C)斷裂生殖 (D)孢子繁殖。
- ( ) 33. 下列何者為渦蟲的斷裂生殖、人類生小寶寶，以及石蓮以葉片繁殖的共通點?  
(A)有減數分裂 (B)有細胞分裂 (C)有受精作用 (D)有斷裂生殖。
- ( ) 34. 1 個女孩在正常情況下，皮膚細胞中的染色體組合應是下列何者?  
(A)44 條+XX (B)44 條+XY (C)22 條+X (D)22 條+Y。
- ( ) 35. 下圖為某生物肌肉細胞內的染色體示意圖，請問染色體數量【單套染色體】的示意圖應該是哪個?



※下表是細胞分裂和減數分裂的比較，請回答 36-37

	細胞分裂	減數分裂
染色體的複製	第 36 題	1 次
子細胞的數目	2 個	第 37 題
子細胞染色體數目	雙套	單套

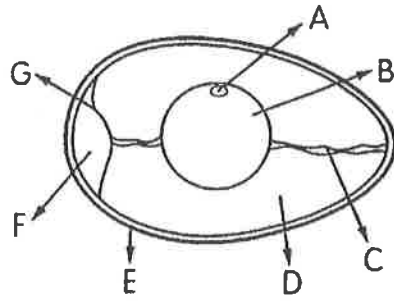
- ( ) 36. 為了完成細胞分裂，請問過程中染色體會複製幾次? (A)1 次 (B)2 次 (C)3 次 (D)4 次。
- ( ) 37. 當完成減數分裂後，請問子細胞數目為何? (A)1 個 (B)2 個 (C)3 個 (D)4 個。
- ( ) 38. 若下圖代表豌豆細胞內的 2 對染色體，遺傳因子 t 的位置如圖所示，遺傳因子 T 應位於染色體上何處? (A)甲 (B)乙 (C)丙 (D)丁。



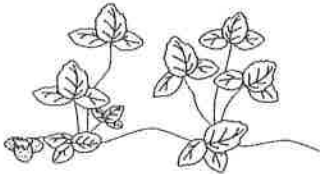
二、選擇題。全部 8 題(39-46)。每題 3 分。共 24 分

- ( ) 39. 以 T 代表玉米的高莖遺傳因子，t 代表玉米的矮莖遺傳因子。將一棵不知遺傳因子組合的高莖玉米與一棵矮莖玉米交配，若產生 500 棵子代，則高莖最多可能有多少棵?  
(A)250 (B)500 (C)750 (D)1000。
- ( ) 40. 大雄有美人尖(Aa)，靜香沒有美人尖(aa)，請問他們結婚生下的第一個孩子，出現沒有美人尖特徵的機率為何? (A) 0 (B) 3/4 (C) 1/4 (D) 1/2。

※下圖為雞蛋構造，請回答 41-44



- ( ) 41. 請問氣室是哪一個代號? (A)F (B)D (C)E (D)C。
- ( ) 42. 已受精的雞蛋，胚胎發育時所需的養分由何處供應?  
(A)B、E (B)B、D (C)A、C (D)B、F。
- ( ) 43. 請問小白點是哪一個代號? (A)F (B)C (C)A (D)B。
- ( ) 44. 請問，可以固定卵黃的位置，是哪一個構造? (A)F (B)B (C)A (D)C。
- ( ) 45. 如下圖所示，取遺傳因子組合為 AA 的草莓植株(甲)，以匍匐莖產生子代(乙)；  
若甲與遺傳因子組合 aa 的植株授粉，產生草莓果實之種子(丙)，則乙和丙的遺傳因子組合分別為下列何者?



丙 甲 乙

- (A)乙為 Aa，丙可能為 Aa (B)乙為 Aa，丙可能為 AA  
(C)乙為 AA，丙可能為 Aa (D)乙為 aa，丙可能為 Aa。
- ( ) 46. 控制人類 ABO 血型，共可產生 Y 種基因型和 Z 種表現型，請問 Y+Z=?  
(A)7 (B)8 (C)9 (D)10。

【試題結束—文光、七年級、自然科】

澎湖縣立文光國民中學 109 學年度第 2 學期第 1 次成績評量 7 年級歷史科試卷

班級：                      姓名：                      座號：                      讀卡    答案卷

一、 單一選擇題（第 19 題～第 26 題，每題 2 分，共 16 分）

19. 西元 1895 年，一群台灣士紳發布某篇文章，上頭寫著：「吾台民，誓不服倭，與其事敵，寧願死亡」隨後，他們成立台灣民主國。請問：關於台灣民主國的敘述，下列何者錯誤？(A)顯示台人追求民主自由精神的決心 (B)說明台人企圖自救，避免被日人統治的命運 (C)旗幟為藍地黃虎旗，年號永清 (D)日軍登台後，台灣民主國迅速瓦解，最後以失敗收場。
20. 顏老師趁著連假期間到北部濱海公園遊玩，在貢寮看見「澳底鹽寮的紀念碑」屹立在公園中。請問：這個紀念碑與下列何事的發生有關？(A)日軍藉口牡丹社事件，武力犯臺 (B)甲午戰敗，台灣因馬關條約而被割讓 (C)英法聯軍後，臺灣開港通商 (D)中法戰爭時，台灣被法軍偷襲。
21. 下列有關於「霧社事件」的敘述，何者錯誤？(A)總督府為了開發山林資源，入侵原住民生活領域 (B)當地的日本警察因語言、文化的不同，時有衝突 (C)主事者余清芳趁著當地學校舉辦運動會的時候發動攻擊，造成大量傷亡 (D)事發後，台灣總督以及許多高級官員下台負責。
22. 「第一愁，愁種甘蔗乎會社磅」請問：關於這句諺語敘述的背景，下列何者為非？(A)會社人員會在磅秤上動手腳讓蔗農吃虧 (B)會社經常刻意壓低甘蔗的採收價格 (C)蔗農可將甘蔗自由轉賣給區域內的會社 (D)橋仔頭糖廠是當時第一座現代化的新式糖廠。
23. 自 1897 年以後，台灣總督府的財政收入逐年增加，日本對台灣的補助逐年減少，至 1905 年總督府財政得以獨立。請問原因是下列何者？(甲)推動工業建設 (乙)總督府實施商品專賣 (丙)嘉南大圳的完工 (丁)推動基礎建設 (A)甲乙 (B)乙丙 (C)乙丁 (D)甲丙。
24. 關於日治時期「保甲制度」的敘述，下列何者正確？(A)為日治時期首創的制度 (B)實施連坐責任法 (C)保設保長，甲設甲正 (D)十戶為一保，十保為一甲。
25. 日本殖民統治台灣時期，為了掌控山林資源，實施「理蕃」政策，請問此政策可能造成什麼影響？(A)西來庵事件爆發 (B)原住民生活空間受侵奪 (C)漢人武裝抗日更為激烈 (D)漢人與原住民衝突加劇。
26. 清帝國統治後期，台灣開始推動一些近代化建設；日治時期，進一步拓展了台灣的建設規模，為日後經濟發展奠定基礎。下列何者是這兩個時共同建設項目？(A)公共衛生 (B)改革幣制 (C)興築鐵路 (D)人口普查。

二、 題組（第 27 題～第 35 題，每題 2 分，共 14 分）

\* 顏老師閱讀賴和的代表作《一桿秤仔》看到下列段落：「…巡警們，專在搜索小民的細故，來做他們的成績，犯罪的事件，發見的愈多，他們的高升就快。所以無中生有的事故，含冤莫訴的人們，向來是不勝枚舉。什麼通行取締、道路規則、飲食物規則、行旅法規、度量衡規紀，舉凡日常



生活中的一舉一動，通在法的干涉、取締範圍中…。」據此內容，回答第27題～第29題：

27. 由賴和的作品中可看出，此時期的巡警對人們日常生活的影響極大。請問：下列何者屬於警察的工作內容？(A)從事道路修建工程 (B)協助打掃環境清潔 (C)調查各地戶籍資料 (D)提供各式經濟援助。
28. 地方上的巡警常會藉助某團體來防範匪徒與救災，其團員多由地方上身強體健、品行端正的青壯年男子組成，皆為義務職，沒有報酬。上述應是指此時期的什麼團體？(A)壯丁團 (B)義勇隊 (C)鄉勇團 (D)巡衛隊。
29. 日治時期的巡警工作內容如此繁雜，他們之所以能有效執行工作，有賴於什麼制度的配合？(A)六三法 (B)守望相助 (C)鄰里制度 (D)保甲制度。

\* 西元1777年間建廟的臺北三峽宰樞廟，在二戰期間，被迫將來自福建安溪的泥塑玄天上帝祖佛藏在正殿的神龕之上，免得遭政府破壞。日前廟方管委會意外發現這尊祖佛及一封信，揭露這段臺灣人被殖民的幽暗歷史。日本政府要求臺灣人放棄臺灣民間信仰、改信日本神道教並參拜神社。不少廟宇都把廟裡主祀的神像藏起來，免得遭到各庄役場搜索破壞。據此內容，回答第30題～第32題：

30. 日本政府要求臺灣人放棄臺灣民間信仰、改信日本神道教並參拜神社。請問：當時是受到哪一個事件影響所致？(A)中日戰爭的爆發 (B)民族自決思潮的流行 (C)第二次世界大戰結束 (D)霧社事件的爆發。
31. 請問：除了上述的信仰限制外，下列何者非當時日本政府推行的措施？(A)實施土地調查 (B)強迫婦女充當慰安婦 (C)徵召台人擔任軍伕 (D)鼓勵台人參拜神社。
32. 若要進行日治時期的古蹟巡禮，請問下列何者不會列入於行程之中？(A)總統府 (B)淡水紅毛城 (C)橋仔頭糖廠 (D)台灣銀行。

\* 1930年代以後，總督府大量開發台灣資源，以利日本向外擴張所需，達成「南進基地化」的目標，因此，台灣的工業發展也因此興盛起來。請就當時的工業發展概況，回答第33題～第35題：

33. 請問日本政府積極在台灣推動工業化措施的目的為何？(A)將台灣視為日本進軍南洋地區的重要跳板 (B)台灣的農業遭遇困境，因此轉向工業發展 (C)台灣的工礦資源豐富，相當適合發展工業 (D)吸引外國投資，使台灣有發展工業的潛力。
34. 日本政府統治時期，曾經設立台灣電力株式會社，並著手電力的開發工作。請問：當時進行電力開發計畫的目的為何？(A)台灣從日本引進許多新電器用品，用電量因而大增 (B)為配合日本的南進政策，台灣工業的用電需求增加 (C)日本已工業化，希望台灣能供應日本工業化的需求 (D)欲開發台灣的廉價電力，以供應東南亞國家的需求。
35. 日本政府積極在台灣發展工業，所造成的影響為何？(A)台灣成為工業強國 (B)台灣不再生產農產品 (C)台灣出口大量農業產品 (D)台灣逐漸邁入工業社會。


【～ 試題結束，文光七年級、歷史科～】

澎湖縣立文光國民中學 109 學年度第 2 學期 第 1 次成績評量 七年級地理科試卷

班級：\_\_\_\_\_ 姓名：\_\_\_\_\_ 座號：\_\_\_\_\_  讀卡  答案卷

一、單一選擇題(十八題，每題 2 分，共 36 分)

1. ( ) 附圖為某國的人口金字塔圖。由圖研判，該國的人口特徵最接近下列何者？ (A) 出生率高、死亡率高 (B) 出生率低、死亡率低 (C) 出生率高、死亡率低 (D) 出生率低、死亡率高。



2. ( ) 下列何種現象與臺灣邁入「高齡化社會」最無關？ (A) 死亡率下降 (B) 婦女生育數降低 (C) 醫療衛生進步 (D) 性別比上升。

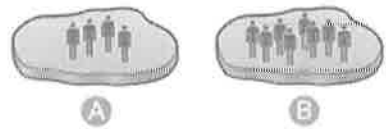
3. ( ) 人口遷移主要有兩個原動力，一是移出的推力，另一是移入的拉力。請問：下列哪一項屬於「推力」？ (A) 工業發達，就業機會眾多 (B) 人口眾多，房價居高不下 (C) 氣候宜人，生活品質優越 (D) 物產豐富，產業經濟活絡。

4. ( ) 若一地的自然增加率為負值，所代表的意義為何？ (A) 出生 > 死亡 (B) 出生 < 死亡 (C) 移入 > 移出 (D) 移入 < 移出。

5. ( ) 出生人數與死亡人數的差額，大致可稱為什麼？ (A) 人口增加 (B) 社會增加 (C) 自然增加 (D) 人口密度。

6. ( ) 臺灣近年來設立許多養生村、護理之家及安養中心，主要原因和臺灣出現的何種人口現象最相關？ (A) 人口老化 (B) 現代化 (C) 都市化 (D) 工業化。

7. ( ) 若 A、B 兩地的面積大小相同，單就圖中人口數量判斷，顯示兩地有何種人口現象差異？ (A) 人口結構 (B) 人口素質 (C) 人口密度 (D) 人口遷移。



8. ( ) 花花是一名轉學生，以下是她到新學校第一天時對班上同學所做的自我介紹：「我是這學期新來的轉學生，因為家人退休後想要較好的生活品質，所以選擇到人口較沒這麼密集的鄉村居住。以後還請各位同學多加指教！」請問：根據自我介紹內容，請問花花一家的遷徙主因是下列何者？ (A) 鄉村拉力 (B) 鄉村推力 (C) 都市拉力 (D) 都市推力。

9. ( ) 國家會視人口變化的情形，在不同的時期制定出不同的人口政策。附圖是臺灣某年代以家庭計畫為主題的郵票，其圖中繪製的內容是當時政府所提倡的家庭計畫人數，主要是希望家庭人口不超過三個小孩，而且在三十三歲前生育完畢。請問：這張郵票最可能於何時發行？ (A) 民國三十年代 (B) 民國五十年代 (C) 民國七十年代 (D) 民國九十年代。



10. ( ) 在計算一地的扶養比時，會把下列何者視為從事生產的主要人力？ (A) 60 歲的男性 (B) 70 歲的女性 (C) 14 歲的男性 (D) 66 歲的女性。

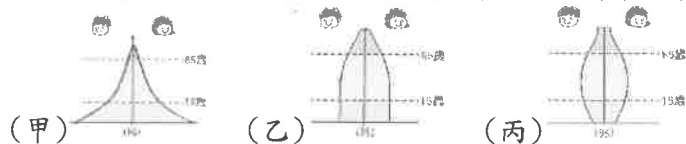
11. ( ) 小新家有 5 個人，年齡分別是小新 14 歲，姐姐 22 歲，媽媽 45 歲，爸爸 48 歲，奶奶 67 歲。請問：小新家有多少人屬於壯年人口？ (A) 1 (B) 2 (C) 3 (D) 4。

【第 1 頁結束—背面尚有試題】

12. ( ) 剛考上大學的馬拉，決定利用暑假到美國進行為期兩個月的打工遊學；此在人口遷移的分類上，應屬於下列何種分類？ (A)暫時、國內遷移 (B)暫時、國際遷移 (C)永久、國內遷移 (D)永久、國際遷移。

13. ( ) 針對臺灣眾多的人口問題，政府致力建立完善的兒童照顧體系，並提供育嬰假等福利，主要是為了達成下列哪一項目標？ (A)提高生育率 (B)降低死亡率 (C)提高扶養比 (D)提高社會增加率。

14. ( ) 若將附圖中甲、乙、丙三種人口金字塔類型，依國家經濟發展程度低到高排列，順序應為下列何者？ (A)甲乙丙 (B)甲丙乙 (C)乙甲丙 (D)丙甲乙。



15. ( ) 臺灣目前有許多縣市開始開設中文課程、技職訓練、子女教養研習等課程，另外像是桃園市也推出異國料理外燴的服務，廣受大家歡迎。請問：上述活動主要是希望增進臺灣哪一個族群的交流？ (A)閩南人 (B)原住民 (C)新住民 (D)客家人。

16. ( ) 臺灣東部人口比西部少很多，原因除了東部地區受地形阻隔外，尚與下列哪項因素關係密切？ (A)地震頻繁 (B)資源稀少 (C)開發較晚 (D)颱風太多。

17. ( ) 臺灣的政府設置了原住民歷史正義與轉型正義委員會，與各族代表共同面對歷史課題、對等協商後續政策方向。而目前經常被拿出來討論的議題就是原住民保留地之認定與使用權利。請依照目前臺灣原住民的分布，推論上述所說的原住民保留地發生最多爭議的地方最可能為下列何者？ (A)彰化縣 (B)苗栗縣 (C)花蓮縣 (D)嘉義縣。

18. ( ) 坤達寫了一篇有關西元 2017 年臺灣人口議題的報告，最後他得到下列幾點結論，其中哪一項有誤？ (A)人口總數仍持續增加 (B)出生率居高不下 (C)已進入高齡社會 (D)未來可能出現勞動力不足的現象。

【第 2 頁結束—背面尚有試題】

澎湖縣立文光國民中學 109 學年度第 2 學期第 1 次成績評量 7 年級公民科試卷

班級：                      姓名：                      座號：                      讀卡 答案卷

一、 單一選擇題（第 36 題～第 48 題，每題 2 分，共 26 分）

36. 在熙來攘往的車站中，經常可以看到許多熱心志工的身影，他們付出自己的時間和體力，為旅客指引方向並協助其安全上下車。請問這些志工的行為展現了下列哪一項公民德性？(A)相互尊重 (B)發揮道德 (C)促進公益 (D)理性思考。
37. 顏老師每天生活都很忙碌，以下是他本週六的行程：(甲) 06：00 起床晨跑 (乙) 08：00 前往學校圖書館唸書，準備課程資料 (丙) 10：00 進行例行性社區清掃工作 (丁) 14：00 前往市公所聆聽市長、市議員候選人政見發表會 (戊) 18：00 跟好朋友王鮭魚至著名餐廳吃壽司 (己) 20：00 參加社區管理委員會所召開的居民大會。請問：下列哪些事項屬於生活中的公共事務？(A)甲丙戊 (B)乙丙丁 (C)甲丁戊 (D)丙丁己。
38. 個人在群體生活中，學習和自己相關角色應有的行為及如何與他人互動，在互動的過程中，逐漸習得相關的知識、技能與規範，請問：這樣的學習過程稱之為？(A)角色衝突 (B)社會化 (C)性別角色 (D)社會流動
39. 在青春期時，個人的觀念、行為舉止等容易受到周遭同學的影響。請問：這是受到哪一個社會化途徑的影響？(A)家庭或部落 (B)學校 (C)同儕團體 (D)傳播媒體。
40. 小柔與小萱兩人，看到學校公告：「為提供民眾一個更舒適的休閒空間，政府將於山水沙灘舉行淨灘環保活動，請在校學生踴躍參與。」請問：他們的作為，做能展現何種公民德性？(A)理性溝通 (B)增進公益 (C)充實知能 (D)遵守法律。
41. 我們積極的鼓勵大家參與公共事務，請問下列何者非其主要原因？(A)公共事務與社會成員密切相關 (B)增加每一位社會成員負擔 (C)可讓決定與社會成員的需求更貼近 (D)有助於監督執行、避免少數人操弄。
42. 為了杜絕流浪動物的問題，相關政府單位及民間志願團體召開座談會，希望持續推動絕育、多元領養、改善收容所環境等計畫，希望打造一個人類與動物共榮的環境。請問：有關上述公共事務，下列何者態度較為正確？(A)公共事務由國家決定即可 (B)我家沒有飼養寵物，故此項議題與我無關 (C)此項議題會增加生活支出，少碰為妙 (D)參與公共事務使決定更貼近成員需求。
43. 下列關於「團體」的敘述，何者錯誤？(A)班級、社區、學校木球隊皆屬於團體 (B)加入團體有助於個人融入社會生活 (C)狹義公民才可以參加團體的運作 (D)個人透過加入團體來實現特定目標。

44. 團體是個人融入社會生活的重要途徑，我們藉由參與團體滿足不同需求，請問：下列關於團體對個人重要性的說明何者正確？(A)為了滿足人際互動需求，應該要參與工作取向的團體 (B)參加澎湖同鄉會，可以讓人在陌生城市有被接納的感覺 (C)校友會是只能達成建立人際關係、滿足感情需求的團體 (D)參加工作取向的團體，無法建立關係，只能達成目標。
45. 志願結社是具有共同興趣、目標或利益的個人基於自由意願所組成的團體，請問：下列關於志願結社特徵的配對，何者正確？(A)志願性：是人民基於自願結合的非強制性團體 (B)自主性：人們基於自由意願與認同形成的團體 (C)民間性：人民主動探究公共事務，並監督政府 (D)組織性：由人民組成，不受任何政府組織支配。
46. 參加團體的主要目的，可分為工作取向與關係取向，但在實際運作的過程中，團體經常能滿足此兩種需求。請問：下列哪個團體進行的活動符合工作取向與關係取向的需求？(A)顏氏宗親會舉辦烤肉活動凝聚家族情感 (B)海洋公民基金會前往淨灘，實踐自然保育工作 (C)台灣大學澎湖校友會舉辦關懷獨居老人活動，發起募款救濟貧苦 (D)伊甸基金會提供身心障礙者居家照顧服務。
47. 主婦聯盟環境保護基金會長期關心環境議題，展開反空汙大遊行，呼籲政府應正視燃煤所造成的空氣品質惡化的問題，應儘速擬定相關的環保政策。以上志願結社對公共生活帶來何項影響？(A)提升個人參與團體的能力 (B)建立人際關係 (C)監督政府施政 (D)政府提高對團體經費的補助。
48. 台灣新住民關懷基金會成立的目的是為舉辦社會公益活動，教導服務觀念，反對歧視，爭取平等社會尊嚴，提供新住民各項諮詢及急難救助等。請問：下列有關於台灣新住民關懷協會的敘述，何者正確？(A)可發揮影響公共生活的力量 (B)以營利為目的所成立的團體 (C)其成員不是基於個人自由意願而加入 (D)為政府組織的一部分。

二、 題組 (第 49 題 ~ 第 50 題，每題 2 分，共 4 分)

\* 根據統計，青少年接觸毒品、抽菸、騎機車通常會有兩個原因：第一：親子溝通不良；第二：受到父母親影響或父母疏於跟子女對話、傾聽子女心聲。另外，青少年需要同儕，如果遇到年齡相近的藥頭慫恿，在好奇心驅使下就會嘗試看看。又例如第一次騎機車覺得很刺激，又很方便。然而就這樣慢慢上癮了。請同學依上述內容，回答第 49~50 題：

49. 根據上文第一行提及青少年會接觸毒品的兩個原因，主要是因為下列哪一個社會化途徑產生了問題？(A)學校 (B)傳播媒體 (C)家庭 (D)同儕團體。
50. 下列事件社會化途徑的影響，何者與本篇報導所提及的兩個途徑不同？(A)小張：買衣服時會模仿電視裡日本動漫的服飾穿著 (B)小明：隔壁的小禾買了新的 PS5 電視遊戲主機，也央求家人幫他買一個 (C)阿蘭：出生於書香世家，家人重視閱讀教育，因此養成良好的閱讀習慣 (D)小瑞：受到學校籃球校隊隊友的影響，也支持美國職籃的湖人隊。

【~ 試題結束，文光七年級、公民科 ~】