

澎湖縣立文光國民中學一百零九學年度第二學期第一次段考國文科試題【題目卷】

九年 班 座號： 姓名： 讀卡 答案卷

一、國字注音：10%（共 10 字，每字一分）

1. 殺「ㄉㄨㄨˋ」 2. 「一又ㄨˋ」料 3. 「ㄇㄨㄨˋ」款 4. 驚「ㄕㄨㄛˊ」 5. 廣「ㄇㄨㄨˋ」無垠
6. 執「ㄉㄨㄨˋ」 7. 翁「ㄨㄨˋ」 8. 「臧」否人物 9. 避「ㄉㄨㄨˋ」 10. 「控」德

二、選詞：5%（共 5 題，每題一分）

斯琴是智慧 哈斯是玉／賽痕和高娃都等於美麗
如果我們把女兒叫做／（1）和哈斯高娃
其實／就一如你家的美慧和美玉
額赫奧仁是國 巴特勒是英雄
所以 你我之間／有些（2）幾乎完全相同
我們給男孩取名奧魯絲溫巴特勒
你們也常常喜歡叫他 國雄

鄂慕格尼訥是悲傷 巴雅絲納是欣喜
海日楞是去愛 嘉嫩是去恨
如果你們是有悲有喜有血有肉的生命
我們難道就不是／有歌有淚有渴望也有夢想的（3）
當你獨自前來 我們也許 可以成為一生的（4）
為什麼 當你隱入（5） 我們卻必須世代為敵？
節錄自 席慕蓉 蒙文課

- () 1. (A) 斯琴高娃 (B) 賽痕高娃 (C) 哈斯賽痕 (D) 斯琴哈斯。
() 2. (A) 心願 (B) 禁忌 (C) 幻想 (D) 習俗。
() 3. (A) 動物 (B) 靈魂 (C) 物種 (D) 人物。
() 4. (A) 隊友 (B) 室友 (C) 摯友 (D) 教友。
() 5. (A) 園區 (B) 地獄 (C) 人間 (D) 群體。

三、選擇題：60%（共 30 題，每題二分）

- () 1. 下列成語中，哪一個選項皆與春天有關？
(A) 惠風和暢，萬紫千紅 (B) 六出飛花，桃紅柳綠
(C) 火傘高張，沉李浮瓜 (D) 金風玉露，鶯啼燕語。
- () 2. 「我縮回差點踩到牠的右腳，蹲下來，仔細端詳這條毛毛蟲趕路」可見作者的性格為以下何者？
(A) 粗枝大葉，不拘小節 (B) 小心謹慎，處處留心
(C) 多愁善感，容易感動 (D) 大而化之，豪放大方。
- () 3. 「我起身離開，那條毛毛蟲卻一直還在我心中蜿蜒爬行。」此句的意涵主要為何？
(A) 作者仍然惦記著那條毛毛蟲 (B) 作者對毛毛蟲型態深惡痛絕
(C) 作者喜歡觀察毛毛蟲的行為 (D) 作者熟知毛毛蟲的生態行跡。
- () 4. 我邂逅了一隻毛毛蟲一文，作者為何會將「過河卒子」與「毛毛蟲」聯想在一起？
(A) 毛毛蟲的宿命任人擺布 (B) 毛毛蟲不畏退蛻變的艱辛勇往直前
(C) 毛毛蟲的生命短暫虛無 (D) 毛毛蟲具有士兵般無悔奉獻的精神。
- () 5. 我邂逅了一隻毛毛蟲一文，作者行文時依照下列何種順序，逐層深入中心思想？
(A) 感嘆——巧遇——端詳——蛻變 (B) 趕路——相逢——感懷——體悟
(C) 觀察——思考——邂逅——省思 (D) 邂逅——觀察——聯想——啟示。
- () 6. 下列的詞語，何者依照原字義判斷，「」中的字義並不具有「方位詞」的用法？
(A) 意見相「左」 (B) 聘為「西」席
(C) 「南」柯一夢 (D) 「東」窗事發。
- () 7. 下列選項「」中的字，何組音義皆同？
(A) 「施」人慎勿念／受「施」慎勿忘 (B) 行之「苟」有恆／臨財毋「苟」得
(C) 無「道」人之短／邁向康莊大「道」 (D) 柔弱生之「徒」／嗟哉斯「徒」輩。

- () 8. 關於座右銘一文的說明，下列何者正確？
 (A)「隱心而後動」，勸人即使隱居，也應為大眾服務
 (B)「在涅貴不緇」，謂人要內在充實，不應注重外表
 (C)「守愚聖所臧」，勉人不應該恃才逞能，以智傲物
 (D)「行行鄙夫志」，說逞強稱能的人，必定卑鄙淺薄。
- () 9. 下列選項關於座右銘一文相互呼應的句子說明，何者正確？
 (A)「柔弱生之徒」呼應「隱心而後動」 (B)「慎言」呼應「無道人之短，無說己之長」
 (C)「無道人之短」呼應「謗議庸何傷」 (D)「世譽不足慕」呼應「久久自芬芳」。
- () 10. 比較劉禹錫的陋室銘與崔瑗的座右銘二文，下列敘述何者正確？
 (A)前者志得意滿，後者慚愧後悔 (B)兩者均具有濃厚的釋、道思想
 (C)後者多用對仗句子，前者則無 (D)兩者皆期許自己成為有德君子。
- () 11. 「散文好比走路，詩就像舞蹈。」意思是指詩的表達方式具有何種特色？
 (A)抽象難解 (B)娛樂大眾 (C)淺白通順 (D)聯想跳躍。
- () 12. 「讓我與你握別／再輕輕抽出我的手／華年從此停頓／熱淚在心中匯成河流」以下敘述何者錯誤？
 (A)「讓我與你握別／再輕輕抽出我的手」複沓是為了強調分別的依依難捨
 (B)「再輕輕的抽出我的手」表現不管再怎麼捨不得，卻不得不放手的感傷
 (C)「華年從此停頓」因為對方離去，兩人相處的美好時光只能停在記憶中
 (D)「熱淚在心中匯成河流」敘述離別讓人悲傷，淚水便如同河流一般流出。
- () 13. 「是那樣萬般無奈的凝視」中的「萬般」是「極甚、非常」的意思，與下列何者相同？
 (A)看著你的背影孤單地離去，心中「萬般」不捨卻也無可奈何
 (B)走過千山萬水只為了看了她一眼，有「萬般」柔情湧上心頭
 (C)「萬般」皆是命，半點不由人，像這樣的憾事還是看開點好
 (D)「萬般」皆下品惟有讀書高，讓許多學子只會讀書不懂做事。
- () 14. 渡口這首詩所描述的情感脈絡，依正確順序應為下列何者？
 (A)思念 → 感傷 → 祝福 (B)感傷 → 祝福 → 思念
 (C)控訴 → 感傷 → 祝福 (D)無奈 → 不捨 → 感傷。
- () 15. 「是那樣萬般無奈地凝視」中的「凝視」，其表現手法與情感與下列何者相似？
 (A)兒童相見不相識，笑問客從何處來 (B)天階夜色涼如水，臥看牽牛織女星
 (C)紗窗日落漸黃昏，金屋無人見淚痕 (D)孤帆遠影碧山盡，唯見長江天際流。
- () 16. 依據你對元曲格律和特色的認識，請問下列選項哪一首是元曲？
 (A)江南可採蓮，蓮葉何田田，魚戲蓮葉間。魚戲蓮葉東，魚戲蓮葉西，魚戲蓮葉南，魚戲蓮葉北
 (B)舊酒沒，新醅潑。老瓦盆邊笑呵呵。共山僧野叟閒吟和。他出一對雞，我出一個鵝。閒快活
 (C)江南好，風景舊曾諳。日出江花紅勝火，春來江水綠如藍。能不憶江南
 (D)故園東望路漫漫，雙袖龍鍾淚不乾。馬上相逢無紙筆，憑君傳語報平安。
- () 17. 有關馬致遠天淨沙秋思的敘述，下列何者錯誤？
 (A)以不同的景物烘托，表現一種淒涼之美 (B)由景入情，襯托遊子浪跡天涯的情懷
 (C)藉由時間推展到空間的鋪敘，層次分明 (D)平行靜態事物，讓悲涼之氣充塞其間。
- () 18. 有關曲的說明，下列何者正確？
 (A)曲分為雜劇和散曲，都有科、白 (B)曲牌只標明曲子的音樂性，和內容無關
 (C)曲是金、元以前的新文體 (D)散曲可分為小令、中調和長調。
- () 19. 下列詩詞，何者未運用「誇飾」修辭技巧？
 (A)愁腸已斷無由醉。酒未到，先成淚 (B)別來半歲音書絕，一寸離腸千萬結
 (C)劍外忽傳收蓴北，初聞涕淚滿衣裳 (D)勸君更盡一杯酒，西出陽關無故人。
- () 20. 下列文句「 」中的詞語，何者應用不恰當？
 (A)由這首詩可「窺見」詩人細膩的心思 (B)這對父母為意外溺斃的兒子哭「斷腸」
 (C)年少氣盛的小武，最喜歡冒險「患難」 (D)大師作畫時常以淡墨「烘托」出遠山。
- () 21. 「黃蘆岸白蘋渡口，綠楊堤紅蓼灘頭」句中使用了四種顏色，其作用不包括下列何者？
 (A)寫隱居環境的風光之美 (B)反襯捕魚生活艱辛不易
 (C)烘托出漁父愉悅的心情 (D)展現大自然盎然的生機。

- () 22. 下列文句「 」中的詞語，何者經替換後文意不變？
 (A) 經歷官場的紛紛擾擾，他有了「遁世」歸隱的念頭 → 入世
 (B) 這位將軍因戰功彪炳，時常以高姿態「傲殺」群英 → 睥睨
 (C) 阿武夢想成為「江湖」俠客，享受無拘無束的生活 → 高閣
 (D) 秋日午後的公園裡有幾位「老叟」正在乘涼、下棋 → 垂髫。
- () 23. 關於第四課天淨沙與沉醉東風二曲的比較，下列何者敘述正確？
 (A) 主角皆為漂泊異鄉的遊子 (B) 天淨沙與沉醉東風都是曲牌名
 (C) 兩首曲皆未再添加任何襯字 (D) 皆先寫自然景物再敘寫人事。
- () 24. 馬致遠的天淨沙所描寫的季節與下列何者相同？
 (A) 沾衣欲溼杏花雨，吹面不寒楊柳風 (B) 岸容待臘將舒柳，山意沖寒欲放梅
 (C) 晝長吟罷蟬鳴樹，夜深燼落螢入幃 (D) 初聞征雁已無蟬，百尺樓高水接天。
- () 25. 「青少年對異性充滿了好奇，對愛情更是□□□□，有些人甚至把功課拋到腦後，□□□□談起戀愛來，令師長□□□□。」上述文字缺空處，依序應填入下列何者？
 (A) 興高采烈／歡天喜地／心滿意足 (B) 躍躍欲試／天崩地裂／雀躍不已
 (C) 興高采烈／憂心忡忡／歡天喜地 (D) 躍躍欲試／昏天黑地／憂心忡忡。
- () 26. 歇後語常以「諧音」造成趣味，例如：「和尚打傘——無法（髮）無天」，取「法」與「髮」諧音，下列何者亦屬諧音歇後語？
 (A) 外甥打燈籠——照舊 (B) 小和尚念經——有口無心
 (C) 飛機上點燈——高明 (D) 肉包子打狗——有去無回。
- () 27. 依據文意，下列這段文句以哪一種次序排列最為通順恰當？
 「學習的方法非常重要，
 甲、別人失去了信心
 乙、是因為他與別人共處逆境時
 丙、偉人之所以偉大
 丁、他卻下決心實現自己的目標
 (A) 甲乙丙丁 (B) 甲丁丙乙 (C) 丙丁甲乙 (D) 丙乙甲丁。
- () 28. 「沙灘是頑皮的孩子／海浪是盡職的媽媽／夜深了／海浪一次又一次／為沙灘蓋上棉被／沙灘一次又一次／踢掉棉被」，下列哪一個成語最適合詮釋這首童詩所表達的感情？
 (A) 手足情深 (B) 伉儷情深 (C) 舐犢情深 (D) 刎頸之交。
- () 29. 古人送別時常折柳相送，「柳」就成了送別詩常用的意象。下列詩句哪一個「柳」與送別無關？
 (A) 臘日常年暖尚遙，今年臘日凍全消。侵陵雪色還萱草，漏泄春光有柳條
 (B) 渭城朝雨浥輕塵，客舍青青柳色新。勸君更盡一杯酒，西出陽關無故人
 (C) 楊柳青青著地垂，楊花漫漫攬天飛。柳條折盡花飛盡，借問行人歸不歸
 (D) 灞岸晴來送別頻，相偎相倚不勝春。自家飛絮猶無定，爭解垂絲絆路人。
- () 30. 馬克吐溫：「一般人缺乏獨立的意見。他並不想去研究或深思，構成自己的意見，只是急於得知鄰居的意見，然後盲目跟從。」這段話主要在說明下列何者？
 (A) 人群盲從的理由 (B) 個人選擇的智慧
 (C) 人難獨立的原因 (D) 大眾喜好的趨勢。

四、題組：25%（共 12 題，1~11 每題二分，12 題簡答題三分）

長亭外，古道邊，芳草碧連天。晚風拂柳笛聲殘，夕陽山外山。
 天之涯，地之角，知交半零落，一瓢濁酒盡餘歡，今宵別夢寒。

（李叔同）

- () 1. 下列何者為這首歌詞主要旨意？
 (A) 親子因兩地相隔，希望重逢時刻早日來臨 (B) 夫妻生離死別，天涯海角，兩地相思之苦
 (C) 餞別友人，抒發朋友老死聚少離多的無奈 (D) 情人遠行，感情零落，嘆別時容易見時難。

- () 2. 關於這首歌曲內容的賞析，下列何者錯誤？
 (A)「長亭、古道、芳草、柳」暗含別離的意思 (B)「今宵別夢寒」有春宵一刻值千金的期待
 (C)「晚風拂柳笛聲殘，夕陽山外山」給人無限感傷 (D)「知交半零落」感傷人生無常，好友多凋零。
- () 3. 根據內容及主旨，下列何者最可能為這首歌曲的歌名？
 (A) 送別 (B) 聚散 (C) 笛聲 (D) 再會。

朱子治家格言 朱柏廬

黎明即起，灑掃庭除①，要內外整潔；既昏便息，關鎖門戶，必親自檢點。一粥一飯，當思來處不易；半絲半縷②，恆念物力維艱。

宜未雨而綢繆，毋臨渴而掘井。自奉必須儉約，宴客切勿留連。器具質而潔，瓦缶③勝金玉；飲食約而精，園蔬愈珍饈④。

【注釋】①庭除：大廳前臺階下的院子。除，臺階。②半絲半縷：絲、縷都是織布的線。半是極言其少。
 ③瓦缶：粗糙的食具。缶，音ㄈㄨˇ又ㄨˇ。④珍饈：珍奇美味的菜肴。饈，音ㄒ一ㄨˋ。

- () 4. 「半絲半縷，恆念物力維艱。」這句話是勸我們要如何？
 (A) 勤勞工作 (B) 服務大眾 (C) 不穿華服 (D) 愛惜財物。
- () 5. 「黎明即起」、「既昏便息」是在告誡世人什麼道理？
 (A) 晨昏定省，孝順父母 (B) 睡眠充足，養精蓄銳
 (C) 早睡早起，生活規律 (D) 披星戴月，焚膏繼晷。
- () 6. 下列行為，何者是屬於文中所說的「臨渴掘井」？
 (A) 考試成績不佳便怨天尤人 (B) 平日做好防颱準備
 (C) 為了比賽循序漸進的練習 (D) 考試前開夜車讀書。

四塊玉 閒適 關漢卿

南畝耕，東山臥，世態人情經歷多。閒將往事思量過。賢的是他，愚的是我，爭什麼？

- () 7. 這首曲中押韻的字有哪些？
 (A) 耕、臥、多、他、我 (B) 臥、多、過、他、我
 (C) 臥、多、過、我、麼 (D) 多、過、他、我、麼。
- () 8. 曲中「爭什麼」一句，表現了作者何種人生觀？
 (A) 憤世嫉俗 (B) 消極頹廢 (C) 淡泊名利 (D) 自閉苦悶。
- () 9. 「南畝耕，東山臥」表現了怎樣的生活？
 (A) 疲累煩忙 (B) 燈紅酒綠 (C) 奔波勞苦 (D) 悠閒逍遙。

陳元方答客問 劉義慶


陳太丘與友期行，期日中。過中不至，太丘舍去，去後乃至。元方時年七歲，門外戲。客問元方：「尊君在不？」答曰：「待君久不至，已去。」友人便怒曰：「非人哉！與人期行，相委而去。」元方曰：「君與家君期日中，日中不至，則是無信；對子罵父，則是無禮。」友人慚，下車引之。元方入門不顧。

- () 10. 請問本篇強調的是何種為人應有的基本態度？
 (A) 誠信 (B) 大方 (C) 正直 (D) 孝順。
- () 11. 下列何者解釋有誤？
 (A)「待君久不至，已去」的「去」，指離開 (B)「下車引之」的「之」，指陳元方
 (C)「非人哉」的「哉」，句末語氣詞，表示感嘆 (D)「元方入門不顧」的「不顧」，指不照顧。
12. 【簡答題】甲. 請問陳太丘和陳元方兩人的關係為何？ 1%
 乙. 請問文中的友人犯了那些過錯？ 2%

【試題結束，請再檢查答案是否完整、正確！】

請交答案卷即可

一：聽力測驗題；聽CD，若符合圖意的選 A，否則選 B 10% (每題二分)



二：A 字彙填充 20% (每題二分)

- ☺ Thomas didn't r 1. t to your call because he didn't hear that. He was sleeping then.
- ☺ Typhoons and earthquakes made thousands of people h 2. s. They didn't know where to spend the night.
- ☺ Chinese is now becoming a g 3. l language. More and more people around the world can speak Chinese.
- ☺ **Angelina** : Why were you so late? You just missed an important meeting.
Bella : Let me e 4. n. I was late because my car broke down on my way here.
- ☺ Believe me. This is not an a 5. t. Someone did it on purpose.

B:翻譯填充

- ☺ Samantha 就是一個工作狂。或許努力工作是她的天性。
Samantha is a workaholic 工作狂. Maybe working hard is 6.
- ☺ 因為塞車，我們很晚抵達機場。
7, we arrived at the airport late.
- ☺ 根據今天的電視新聞，很多人在這次海嘯中受傷。
8, many people got hurt in this tsunami.
- ☺ Amanda 沒對我說謊。她實踐諾言。
Amanda did not lie to me. She 9.
- ☺ AB 型的人很容易改變心意。
Blood type AB people 10.

三：選擇題 50% (每題二分)

- ☺ A set of stickers 1 what she wants for her birthday.
(A)is (B)are (C)be (D)have been
- ☺ Everyone, I will write some sentences on the blackboard. Please 2.
(A)take down them (B)take them down (C)put down them (D)put them down
- ☺ The painter is famous. Have you ever 3?
(A)heard of him (B)heard him of (C)heard for him (D)heard him for
- ☺ My grandma is a vegetarian. She eats 4 meat 4 fish.
(A)both; and (B)neither; nor (C)not only; but also (D)either; or
- ☺ The woman 5 because she had stolen some money from the store.
(A)is caught (B)caught (C)was caught (D)will be caught
- ☺ It's not my habit 6 asking gifts from others.
(A)with (B)of (C)for (D)on
- ☺ Don't 7! It's very impolite.
(A)laugh at (B)laugh them at (C)laugh at others (D)laugh others at
- ☺ I have some trouble 8 English. Can you help me?
(A)learn (B)learning (C)learned (D)to learn

- ☺ **Angel**: Don't watch TV. 9 Now!
Billy: But it's my favorite program.
 (A) Turn it off. (B) Turn on it. (C) Turn it on. (D) Turn off it.
- ☺ The old woman was hit by the taxi when she 10 the street.
 (A) had crossed (B) was crossing (C) crosses (D) has crossed
- ☺ **Emily**: Why is Terry so thirsty? He wants 11 glass of water after drinking up one.
Kate: He didn't catch the school bus and just ran here from school.
 (A) one (B) other (C) another (D) the other
- ☺ **Jack**: Did you see my glasses?
Lillian: Look, 12.
 (A) here it is
 (B) here they are
 (C) here is it
 (D) here are they
- ☺ I have to pick up my children later, and 13.
 (A) so does Jane
 (B) neither does Jane
 (C) so has Jane
 (D) neither has Jane
- ☺ **Joe**: Will Mary come to the party?
Kate: Sure. Look! Here 14.
 (A) comes she (B) Mary comes (C) comes Mary (D) Mary is
- ☺ **Mrs. Chen**: I haven't seen our lovely daughter for a week since she went to senior high school.
 I miss her a lot.
Mr. Chen: 15
Mrs. Chen: What's that? You mean I can talk to her face to face?
Mr. Chen: That's right.
 (A) Let's send a message to her.
 (B) Why not make a video call?
 (C) You can buy some cute stickers..
 (D) There is no way I can reach her.
- ☺ Most students hate tests and homework. However, homework helps us learn better, and 16.
 (A) tests do, too
 (B) tests don't, either
 (C) so are tests
 (D) neither do test
- ☺ Alice hasn't finished her homework, and 17 her brothers. So, they cannot go out.
 (A) so has (B) so have (C) neither has (D) neither have

Sagging trousers are popular among the youth these years. Sagging is a kind of wearing style that trousers drop below the waist 腰. A person who wears sagging trousers is called a sagger.

Sagging began from the United States prison 監獄 where belts are not allowed in order to stop people in there from using them as weapons 武器 or hanging themselves. Prisoners 囚犯 who got clothes in bigger size still have to wear them. The loose style later became popular for people in art business in the 1990s. Then, it started to mean "being free" and became an important idea for some young people. However, some places in America stop people from wearing sagging trousers because some people don't want to see their underwear 內褲, especially in public.

18. Which is the picture of sagging trousers?

(A)



(B)



(C)



(D)



19. A sagger's underwear can be seen because his trousers are _____.
 (A) short (B) tight (C) loose (D) pretty
20. Belts are not allowed 允許 in prison because someone may be _____.
 (A) young (B) dead (C) thin (D) fat
21. Which is true?
 (A) Sagging trousers are cool, and everyone likes to wear them.
 (B) Sagging trousers were made especially for prisoners.
 (C) It is polite to show your underwear when you wear sagging trousers.
 (D) There are places where you cannot wear sagging trousers

It was 11p.m. and Molly walked out of her bakery. She turned and looked at her store one last time. She wanted to remember what it 22 at the moment. A few hours later, people would come and clean out everything in the store. A young man had bought it. He 23 it into a flower shop.

Before it was a bakery, this place 24 a small coffee shop. Molly worked in the shop as a waitress. But taking orders was never Molly's dream; baking was. When she knew her boss planned to sell the shop, she borrowed money and bought it.

Her bakery had been open for thirty years. Thirty very wonderful years. However, it would all come to an end tonight. Molly 25 the bakery to be a family business. But her daughter was never interested in baking. Molly did not want her business in a stranger's hands, so after some serious thinking, she decided to close it.

"Goodbye, my dear old friend," Molly looked at the store, whispering 低語.

【105教育會考】

22. (A) had looked like (B) looked like (C) would look like (D) has looked like
23. (A) had changed (B) changed (C) was going to change (D) has changed
24. (A) used to be (B) would be (C) has been (D) is
25. (A) had wanted (B) has wanted (C) would want (D) will want

四. 寫作練習；請根據提示作答 20% (每句二分)



【試題結束—文光國中九年級英文】

Class : Number :

Name :

一:聽力測驗題:聽 CD, 若符合圖意的選 A, 否則選 B 10% (每題二分)

1.	2.	3.	4.	5.
----	----	----	----	----

二:填充題:1-5 單字填充&6-10 翻譯填充(答案不只一個字) 20% (每題二分)

1.	2.	3.
4.	5.	
6.	7.	
8.	9.	
10.		

三:選擇題 50% (每題二分)

1.	2.	3.	4.	5.	6.	7.	8.	9.	10.
11.	12.	13.	14.	15.	16.	17.	18.	19.	20.
21.	22.	23.	24.	25.					

四. 寫作練習 20% (每題二分)

1. As a junior high school student, what can you do to help people in need? (依事實回答; 勿用簡句回答)
2. Harry will say sorry to Sara. Sara will forgive Harry. (用...as long as...合併兩句)
3. Here comes <u>the train</u> . Let's get on <u>the train</u> . (將畫底線部分改為代名詞並用 and 合併兩句)
4. Before I arrived at the airport, the plane had already <u>taken off</u> . (請翻成中文)
5. What did the girl do? (見圖 A; 勿用簡句回答)
6. What should you do if you want to contact more people on LINE at the same time? (依事實回答; 勿用簡句回答)
7. As soon as the man saw his dog appearing at the gate, he ran to it. (用...as soon as ...改寫此句; 句意不變)
8. Gina fell in love with the tall man. Gina's sister said so. (用 that 及過去完成式合併兩句)
9. These kids were shocked by the noise, but soon they appeared to forget about it. (請翻成中文)
10. Lily ate little during the meal. (請寫出 I 的附和句)

澎湖縣立文光國民中學 109 學年度第 2 學期 9 年級數學科第 1 次段考試卷

班級：

姓名：

座號：

讀卡 V 答案卷

一、選擇(每題 4 分，共 40 分)

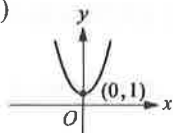
() 1. 下列何者 不是 x 的二次函數？

(A) $y=2x^2+4$ (B) $y=\sqrt{4x^2-6x}$

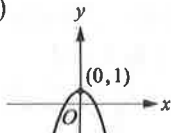
(C) $y=\frac{1}{4}x^2-6$ (D) $y=2^x-5$

() 2. 下列何者可能為二次函數 $y=-x^2+1$ 的圖形？

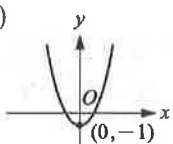
(A)



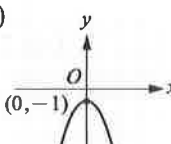
(B)



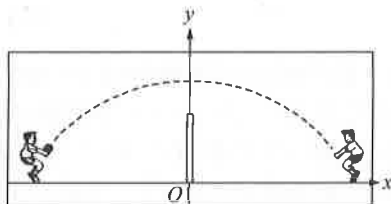
(C)



(D)



() 3. 附圖是唯銘與承孝打排球時，排球過網的路徑圖。假設 O 點為原點，試問此路徑圖是下列哪一個二次函數的圖形？



(A) $y=-\frac{1}{16}x^2+6$ (B) $y=-\frac{1}{16}x^2-6$

(C) $y=\frac{1}{16}x^2+6$ (D) $y=\frac{1}{16}x^2-6$

() 4. 若 $y=f(x)=4+x+x^2$ ，則 $f(10)=?$

(A) 114 (B) 411 (C) 214 (D) 34

() 5. 二次函數 $y=1600(x-1)^2-5$ 的圖形和 x 軸有幾個交點？

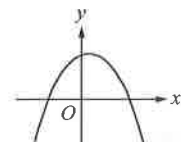
(A) 0 (B) 1 (C) 2 (D) 無法判別

() 6. 下列哪一個二次函數沒有最大值？

(A) $y=-\frac{2}{3}(x-5)^2+8$ (B) $y=-3+2x+x^2$

(C) $y=-10x^2$ (D) $y=8x+2-x^2$

() 7. 附圖為二次函數 $y=ax^2+bx+c$ 的圖形，則下列何者為真？



(A) $a > 0$ (B) $c < 0$ (C) $b^2-4ac > 0$

(D) $b^2-4ac < 0$

() 8. 若二次函數 $y=a(x-h)^2+k$ 圖形的對稱軸為 $x=4$ ，則 x 為多少時， y 會有最大值或最小值？

(A) 1 (B) 4 (C) 5 (D) 6

() 9. 有兩整數之和為 40，其兩數之積的最大值為何？

(A) 200 (B) 300 (C) 400 (D) 600

() 10. 李老師要同學心中想一個數字，現把這個數減 3 後再平方，再把剛剛的結果乘以 (-2) 後再加上 5。若無計算上的錯誤，最後不可能得到下列哪一個答案？

(A) 13 (B) -13 (C) 3 (D) -3

二、填充(每題 4 分，共 40 分)

1. (A) $y=x^2-2$ (B) $y=2x^2+3$ (C) $y=-\frac{1}{2}x^2-3$

(D) $y=-3x^2+5$

(1) 圖形開口向下的有哪些？答：_____、_____。

(2) 圖形開口最大的為何？答：_____。

(3) 圖形開口最小的為何？答：_____。

(填代號，各 1 分)

2. 二次函數 $y=-2(x+1)^2-3$ 圖形的頂點坐標為_____，對稱軸方程式為_____。

(各 2 分)

3. 在坐標平面上，與 $y=-\frac{11}{4}x^2$ 的圖形對稱於 x 軸的二次函數為_____；與 $y=2x^2+4$ 的圖形對稱於 x 軸的二次函數為_____。

(各 2 分)

4. 有一二次函數為 $y=-4x^2+24x$ ，則其有最_____值(填大或小)，其值為_____。

(各 2 分)

5. 將 $y=-2(x-3)^2+1$ 的圖形向左平移 2 個單位，再向上平移 4 個單位，則經過平移後，新的頂點坐標為_____，平移後的方程式為_____。

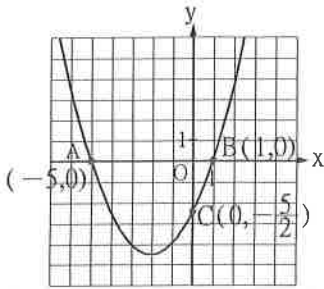
(各 2 分)

6. 對應值表中的各點皆在二次函數 $y=2x^2+4x-1$ 的圖形上，則數對 $a=_____$ ， $b=_____$ ， $c=_____$ ， $d=_____$ 。

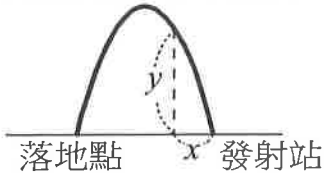
x	3	2	-1	0	1
y	a	b	c	-1	d

(各 1 分)

7. 若二次函數 $y=a(x-h)^2+k$ 圖形的頂點為 $(-2, 3)$ ，則 $h=$ _____， $k=$ _____。(各 2 分)
8. 若二次函數 $y=f(x)=ax^2+bx+c$ 的圖形與兩軸的交點分別為 A 、 B 、 C ，如附圖，試完成下列空格：



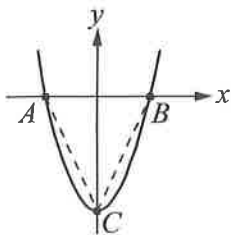
- (1) $f(0)=$ _____。(2 分)
- (2) $f(x)=0$ 的解為 $x=$ _____ 或 _____。(各 1 分)
9. 若 $(a, -3)$ 在拋物線 $y=-x^2+1$ 的圖形上，則 $a=$ _____ 或 _____。(各 2 分)
10. 凱甯試射一支由右向左發射的水火箭，已知距離發射站 x 公尺處的高度為 y 公尺，如附圖所示。若 x 與 y 的關係式為 $y=-2x^2+4x$ ，則(1)此水火箭在離發射站 _____ 公尺的地方落地(2)此水火箭發射的最大高度為 _____ 公尺。(各 2 分)



三、計算與應用題(每題 4 分，共 20 分)

1. 若二次函數 $y=ax^2+bx+c$ 的圖形通過 $(0, 0)$ 、 $(1, 5)$ 與 $(-1, 3)$ 三點，求 $a-b+c=$?

2. 已知二次函數 $y=x^2-5$ 圖形的頂點為 C ，且與 x 軸相交於 A 、 B 兩點，如附圖，求： (各 2 分)

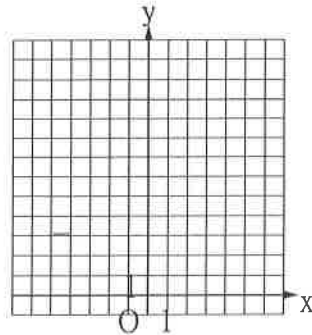


- (1) A 、 B 兩點坐標。(2) $\triangle ABC$ 面積。

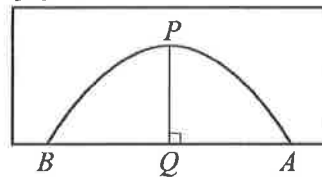
3. 求下列二次函數圖形與 x 軸的交點坐標：(各 2 分)

(1) $y=x^2-6x+9$ (2) $y=5x^2-x-3$

4. 在坐標平面上畫出二次函數 $y=3x^2+1$ 的圖形(1)並求其(2)開口方向(答上或下)(3)對稱軸方程式(4)頂點座標。(各 1 分)



5. 如圖，有一拱門的造型為拋物線 $y=ax^2+bx+c$ 的圖形，拱門寬 $\overline{AB}=25$ 公分，拱門高 \overline{PQ} 為 10 公分。已知又綺的玩具車寬為 15 公分，車高為 h 公分，如果想要通過這個拱門，則最大整數 h 為多少？



試題結束

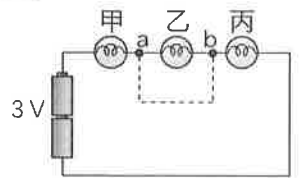
澎湖縣立文光國民中學 109 學年度第二學期第一次段考九年級自然科試卷

班級： 座號： 姓名： 讀卡 答案卷

一、單選題 (每題 2 分，共 80 分，請填至第五頁答案卷)

- () 下列哪一種電器不是電流熱效應原理的應用？ (A)電暖爐 (B)微波爐 (C)保麗龍切割器 (D)電鍋。
- () 廚房裡有電鍋(110 V、1000 W)、電燈(110 V、100 W)、烘碗機(110 V、200 W)。若將這三個電器並聯，並同時使用，則下列敘述何者錯誤？(A)總電壓為 (110+110+110) V (B)總消耗功率為 (1000+100+200) W (C)總供應電流為 [$(\frac{1000}{110}) + (\frac{100}{110}) + (\frac{200}{110})$] A (D)總電阻為 $(\frac{110^2}{1000+100+200}) \Omega$ 。
- () 若發電廠輸出的電功率保持一定，且輸送線路全程符合歐姆定律，當輸出電壓變為原來的 100 倍時，則輸送線路上電能損失的功率變為原來的多少倍？ (A) $\frac{1}{10}$ (B) $\frac{1}{100}$ (C) $\frac{1}{1000}$ (D) $\frac{1}{10000}$ 。

- () 在右圖的電路中，若以一條粗銅線連接 a 點和 b 點 (圖中虛線)，則下列敘述何者正確？ (A)乙燈泡亮度將增加 (B)流過甲燈泡的電流會減小 (C)甲、丙燈泡亮度增加 (D)電路消耗的電功率減少。

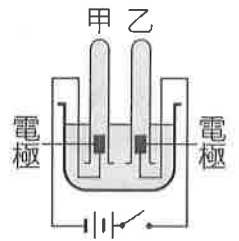


- () 市售電池大多是利用化學反應產生電能的裝置，下列有關化學電池的敘述，何者錯誤？ (A)電池一定包含正極與負極 (B)在電池負極產生的電子經由導線傳至正極 (C)在電池正極產生的正離子經由導線傳至負極 (D)電池中含有電解質溶液，所以用完後應回收不可隨意丟棄。

- () 鉛蓄電池的總反應式為「 $Pb + PbO_2 + 2H_2SO_4 \rightleftharpoons 2PbSO_4 + 2H_2O$ 」，關於此電池的敘述，下列何者正確？ (A)充電時，正極為 PbO_2 變成 $PbSO_4$ ，負極為 H_2SO_4 變成 H_2O (B)充電時，電解液必須補充適量濃硫酸 (C)放電時，正極為 PbO_2 變成 $PbSO_4$ ，負極為 Pb 變成 $PbSO_4$ (D)放電時，鉛蓄電池的總質量會減少。

- () 水在常溫常壓下進行電解，反應式為「 $2H_2O \rightarrow 2H_2 + O_2$ 」。關於水的電解，下列敘述何者正確？ (A)2 公克的水完全電解，可得 2 公克的氫氣 (B)2 毫升的水完全電解，可得 2 毫升的氫氣 (C)電解產生的氫氣與氧氣質量比為 2:1 (D)電解產生氫氣與氧氣分子數比為 2:1。

- () 右圖為電解水的實驗裝置，若將開關切下開始實驗，則下列敘述何者正確？ (A)可加入少量的氫氧化鈉來幫助導電 (B)甲試管的氣體為氧氣 (C)若甲試管收集到 10 毫升的氣體，則乙試管會收集到 20 毫升的氣體 (D)此裝置可用來作為家用電源。



- () 下列哪些氣體在低層大氣中的含量比例會隨著時間、地點改變？ 甲.氫氣；乙.氧氣；丙.臭氧；丁.水氣。 (A)甲乙 (B)甲丙 (C)乙丙 (D)丙丁。

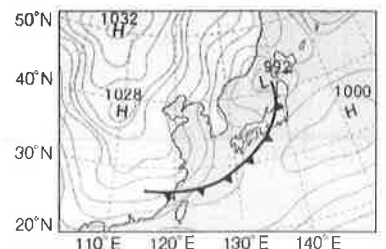
- () 有關組成地球大氣氣體的敘述，下列敘述何者正確？ (A)氧氣能吸收大部分太陽輻射的紫外線 (B)二氧化碳和氫氣是變動氣體 (C)水氣是造成天氣變化的主要氣體 (D)氮氣是植物進行光合作用的必要氣體。

- () 下列哪一種方法可以促使空氣中的水氣含量達到飽和？ (A)降低空氣的高度 (B)提高空氣的溫度 (C)降低空氣的溫度 (D)減少空氣中的水氣。

- () 甲.空氣中水氣達到飽和；乙.一團未飽和的空氣受熱上升；丙.水氣凝結形成小水滴；丁.此團空氣壓力大於外界環境氣壓；戊：此團空氣體積膨脹，溫度下降。關於雲的形成，甲~戊排列依序為何？ (A)乙丁甲戊丙 (B)乙丁戊甲丙 (C)乙戊丁甲丙 (D)戊丁甲乙丙。

- () 若將主要影響臺灣 5、6月天氣的鋒面稱為鋒面甲，影響 11、12月天氣的鋒面稱為鋒面乙，則下列敘述何者錯誤？ (A)鋒面甲和乙均會造成過境地區降雨 (B)鋒面甲和乙均會造成過境地區的氣溫大幅降低 (C)鋒面乙的移動速度較鋒面甲快，常於一、二天之內通過臺灣地區 (D)鋒面甲、乙都是氣團的交界處，只因氣團的強弱不同而形成不同鋒面。

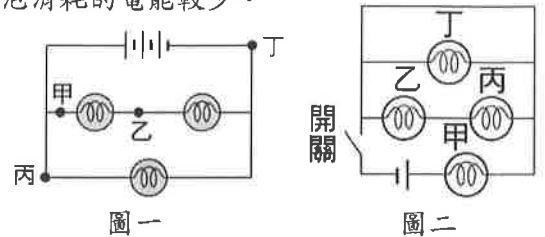
- () 若右圖中鋒面前進方向不變，則未來幾天臺灣的天氣狀況可能為何？ (A)低溫多雲陣雨 (B)午後雷陣雨 (C)強風豪大雨 (D)高溫晴朗。



1【背面尚有試題】

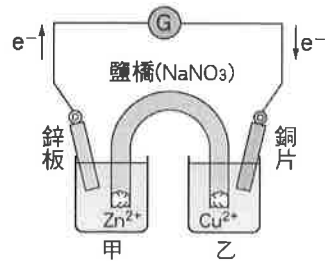
15. () 一個電熱器在 5 分鐘內損耗了 900 焦耳，已知流過電熱器的電流為 1 安培，則此電熱器的電壓應為何？
 (A) 0.9 伏特 (B) 1 伏特 (C) 3 伏特 (D) 90 伏特。
16. () 有甲、乙兩熱水壺，已知甲的電阻比乙大，今在相同的電壓下，欲將 5 公升的冷水由常溫加熱到沸騰，則下列敘述何者正確？ (A) 甲較省電 (B) 乙較省電 (C) 甲較省時 (D) 乙較省時。
17. () 檯桌上的檯燈原使用 110 V、40 W 的鎢絲燈泡，經更換 110 V、60 W 的鎢絲燈泡後，室內變得較為明亮了，試問使用 60 W 燈泡較 40 W 燈泡亮的主要原因為何？ (A) 60 W 燈泡兩端的電壓較小 (B) 60 W 燈泡的電阻較小 (C) 通過 60 W 燈泡的電流較小 (D) 60 W 燈泡消耗的電能較少。

18. () 右圖一的電路接通後，保險絲置於甲、乙、丙、丁中哪一點，保險絲最易熔斷？ (A) 甲 (B) 乙 (C) 丙 (D) 丁。



19. () 四個相同的燈泡和一電池連接成電路，如右圖二所示，按下開關接成通路後，其中有幾個燈泡會亮？ (A) 1 個 (B) 2 個 (C) 3 個 (D) 4 個。

圖一

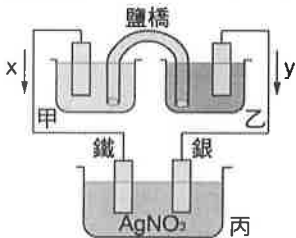


20. () 鋅銅電池的裝置如附圖三所示，下列敘述何者錯誤？
 (A) 鋅片是負極 (B) Cu^{2+} 移向銅片 (C) 鹽橋中 Na^+ 流向燒杯乙
 (D) 鋅片減少的重量等於銅片增加的重量。

21. () 下列有關常見電池的敘述，何者正確？
 (A) 乾電池（碳鋅電池）以鋅作為正極
 (B) 鉛蓄電池充電過程中，電解液碳酸水溶液的濃度變小
 (C) 鹼性電池以氫氧化鉀為電解液，電壓穩定，使用壽命較碳鋅電池長
 (D) 鎳氫電池可充電且不易造成污染，只是體積龐大，在使用上受限。

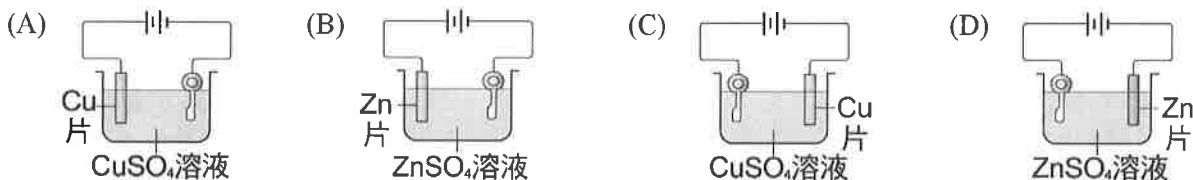
圖三

22. () 康康想利用鋅銅電池當電源在鐵上鍍銀，裝置如圖所示，以 AgNO_3 為電鍍液，則下列敘述何者錯誤？



- (A) 電子流方向為 y (B) 甲杯的水溶液為 ZnSO_4 ，乙杯的水溶液為 CuSO_4 (C) 甲金屬片與 Ag 金屬片質量逐漸減少 (D) 金屬離子濃度的變化情形，甲杯逐漸增加，乙杯逐漸減少，丙杯維持不變。

23. () 某生欲在鐵質鑰匙表面鍍上一層鋅，試問下列電鍍裝置何者正確？



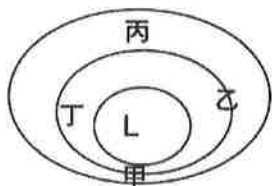
24. () 下列關於大氣層的敘述，何者正確？ (A) 大氣主要是由氧氣和氮氣所組成 (B) 高山上容易覺得耳朵不舒服是因為氣壓的關係 (C) 大氣的壓力和溫度都是隨高度升高而降低 (D) 大氣中的臭氧、二氧化碳等氣體因為所占比例很低，因此並不具重要性。

25. () 下列何者不是對流層的特性？ (A) 氣溫隨高度的增加而遞減 (B) 含有大量的水氣和灰塵 (C) 大多數生物活動於此層中 (D) 含有許多能吸收紫外線的臭氧，保護生物不受過量紫外線照射。

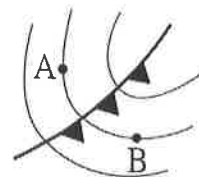
26. () 就北半球而言，有關於高、低氣壓中心的相關敘述，下列何者錯誤？

種類	高氣壓	低氣壓
(A)氣壓狀態	中心氣壓最高	中心氣壓最低
(B)水平氣流	逆時鐘向外	順時鐘向外
(C)垂直氣流	下沉氣流	上升氣流
(D)中心附近天氣	通常為晴天	通常為陰雨

27. () 附圖中哪個地區的風速最大？



(A)甲 (B)乙 (C)丙 (D)丁。



28. () 右圖為北半球某地區的地面氣象圖，則關於 A、B 兩測站的氣象資料比較何者正確？ (A) A 測站氣溫較 B 測站高 (B) A、B 兩測站風向相同 (C) A、B 兩測站氣壓相同 (D) A、B 兩測站累積雨量相同。

29. () 下列對於氣團的概念何者為非？ (A) 氣團是指一團在垂直方向上溫度、溼度相當一致的空氣 (B) 氣團在離開源地之後性質會受到經過的地理環境影響而產生改變 (C) 冬季影響到臺灣地區的冷氣團大多發源于西伯利亞、蒙古一帶 (D) 大陸冷氣團屬於高氣壓。

30. () 小玉家中電路總表使用的電壓為 110V，最大輸入電流為 40A，現在家中正使用以下電器，試問最多還能使用 100W 的燈幾盞？ (A)5 (B)4 (C)3 (D)2。

電器	電磁爐	烤箱	電子鍋	電視機	吹風機
消耗功率	1300W	1000W	600W	400W	200W
數量	1	1	1	2	1

31. () 最近天氣陰晴不定，除溼機屬於熱銷家電之一，某品牌除溼機的規格如右圖，下列相關敘述何者正確？ (A) 此除溼機在 110V、220V 的電源下均可正常使用 (B) 此除溼機正常使用時，電流量約為 3.36A (C) 此除溼機使用一小時後，約用了 37 度電 (D) 此除溼機使用一小時後，約用了 370 焦耳的能量。

機型：MJ-E175AF-TW
額定電壓/頻率 110V/60Hz
總額定消耗電功率 370W

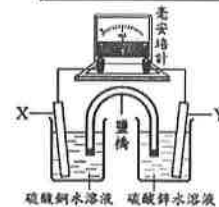


32. () 小婕家的浴室中有一面除霧鏡，如附圖所示，此除霧鏡需插電才能正常使用除霧功能，其所消耗的電功率為 10 瓦特。若每天通電使用此除霧鏡的除霧功能 2 小時，連續使用 30 天，1 度電需付 3 元，則所需的電費為下列何者？(1 度=1 千瓦·小時) (A)0.6 元 (B)1.8 元 (C)600 元 (D)1800 元。



33. () 右圖為兼具環保又可愛的生活小物：手壓發電手電筒。若此手電筒燈泡電功率標示為 15W，將手把壓下一次可以輸出 90J，若想要燈泡持續發亮 10 分鐘，不考慮任何能量散失，手把共需壓下幾次？ (A)50 (B)60 (C)90 (D)100。

34. () 小梅在實驗室看到如圖(十)的裝置，X 為銅片電極、Y 為鋅片電極，依據此裝置，她做了以下描述：「反應發生後，X 處會有紅褐色的物質析出、Y 處的電極質量變輕，此時氧化與還原反應同時進行，並有電子流通過毫安培計，使指針偏轉。經過一段時間後，指針的偏轉角度會變小，硫酸銅水溶液的藍色變深。」



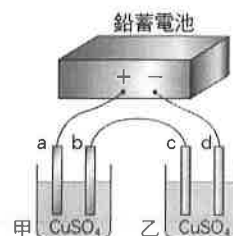
圖(十)

甲 乙

上述畫線的描述，何者與事實不符？(A)甲 (B)乙 (C)丙 (D)丁。

◎如右圖裝置，鉛蓄電池、甲杯(兩極均以銅極為電極)、乙杯(兩極均以碳棒為電極)、兩杯均為硫酸銅水溶液。試回答下列 35~36 題：

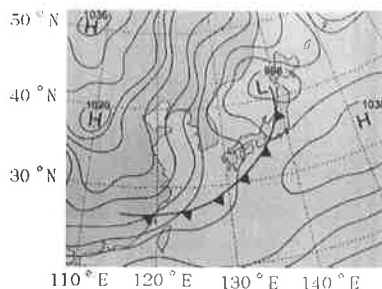
35. () 在此實驗裝置中鉛蓄電池作為供電電源，關於鉛蓄電池的敘述何者錯誤？ (A) 放電過程中，正極重量變輕、負極重量變重 (B) 鉛蓄電池的正極材料是 PbO₂ (C) 若需要充電時，外電源正極連接鉛蓄電池正極 (D) 放電過程中，硫酸的濃度變低。



36. () 若此裝置中，接上鉛蓄電池後試問兩杯溶液的顏色變化何者正確？ (A)甲、乙兩杯都變深 (B)甲、乙兩杯都變淡 (C)甲杯變淡、乙杯不變 (D)甲杯不變、乙杯變淡。

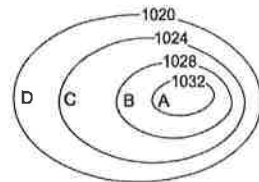
◎附圖是冬季某日上午8時臺灣附近的地面天氣圖，請根據此圖回答下列37~38題：

37. () 由圖中可得知日本北緯40度附近的氣壓狀況為何？ (A)高氣壓，約1036百帕 (B)高氣壓，約1020百帕 (C)低氣壓，約992百帕 (D)低氣壓，約1030百帕。
38. () 如果圖中鋒面前進方向不變，預測未來幾天臺灣的天氣狀況可能為何？ (A)午後雷陣雨 (B)豔陽高照 (C)雲量多，可能下雨 (D)氣溫上升。



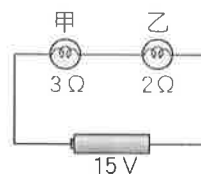
◎附圖是一張某地區的地面天氣圖，請根據此圖回答下列問題：

39. () 請問A處的中心位置，其附近垂直氣流的運動方式為何？ (A)下沉氣流 (B)上升氣流 (C)向左氣流 (D)向右氣流。
40. () 如果這個地面天氣圖是代表今天臺北上空的天氣，請問在臺北的小華要出門時是否應該準備雨具呢？ (A)要，因為低氣壓中心處最容易出現雲雨天氣 (B)不用，因為低氣壓中心處通常為晴朗天氣 (C)要，因為高氣壓中心處最容易出現雲雨天氣 (D)不用，因為高氣壓中心處的天氣通常較晴朗。



二、填充題 (每格2分，共20分)

1. 將3歐姆與2歐姆的甲、乙兩燈泡串聯如附圖中的電路，已知電池電壓為15伏特，乙燈泡兩端的電壓為6伏特，若通電4分鐘，且通電時導線並未損耗電能，則乙燈泡消耗多少電能？ (A)。



2. 小新家的冷氣機使用110V的電源，電功率為1250W。若此冷氣的專用電錶在7月19日和21日的讀數分別為09198與09223 (單位為度)，試問三天內此冷氣機約運轉了多少小時？ (B)。

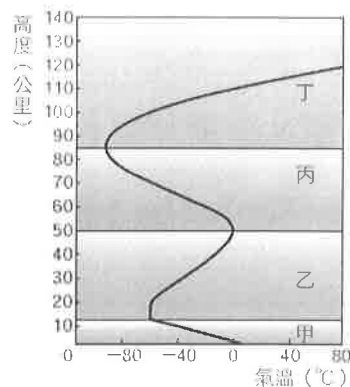
3. 冠良利用不同的金屬片及電解質溶液，製作成如附圖的化學電池，若放置一小時之後，發現鋅片的質量前後相差0.13公克，則：(1)銅片的質量應該 (C) (填增加或減少)；(2)檢流計上的讀數應為 (D) 毫安培。(提示：請先、根據正負極的半反應計算出此反應的電子莫耳數，再依時間換算電流。原子量：Cu=63.5, Zn=65；電子電量為 1.6×10^{19} 庫倫)



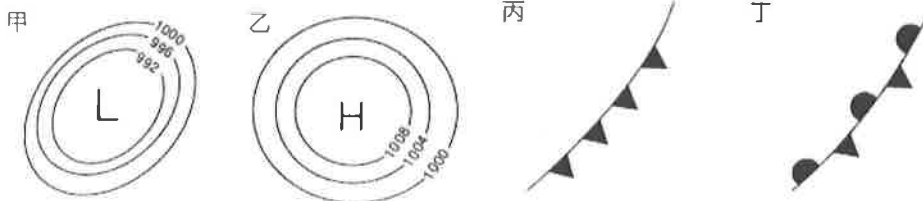
4. 附圖為中緯度地區大氣的垂直分層示意圖，請根據此圖回答下列問題：

(第一、二題，請填完整名稱，非代號)

- (1) 大氣層中的最低溫發生在哪一層？ (E)
- (2) 風、與、雷、電等天氣現象均發生在哪一層？ (F)
- (3) 乙層溫度為何會隨高度增加而升高呢？ (G)



5. 請寫出下列氣象符號的名稱。



上圖乙為 (H)；圖丁為 (I)。

6. 一般而言，冷鋒是 (J) 降雨。(填入鋒前或鋒後)

澎湖縣立文光國民中學 109 學年度第二學期第一次段考九年級自然科答案卷

班級： 座號： 姓名： 得分：

一、單選題 (每題 2 分，共 80 分)

1.	2.	3.	4.	5.	6.	7.	8.	9.	10.
11.	12.	13.	14.	15.	16.	17.	18.	19.	20.
21.	22.	23.	24.	25.	26.	27.	28.	29.	30.
31.	32.	33.	34.	35.	36.	37.	38.	39.	40.

二、填充題 (每格 2 分，共 20 分)

A	B	C	D	E
F	G	H	I	J

澎湖縣立文光國民中學 109 學年度第 2 學期第 1 次成績評量 9 年級歷史科試卷

班級： 姓名： 座號： 讀卡 答案卷

一、 單選題(41~45 題，每題 1 分，46~55 題，每題 2 分；共 25 分)

- () 41. 西元 1914 年發生於巴爾幹半島的「塞拉耶佛事件」，原本是奧、塞兩國的衝突，結果卻演變為第一次世界大戰的導火線，造成這種情況的原因為何？(A)不同國家結盟對立 (B)民族自決思潮高漲 (C)美國實行孤立主義 (D)民族獨立運動興盛。
- () 42. 羅勃是倫敦一家船運公司的老闆，西元 1917 至 1918 年間，他總共有十艘商船慘遭外國海軍擊沉，因此宣告破產。導致羅勃破產的罪魁禍首最有可能是哪個國家的軍隊？ (A)法國 (B)德國 (C)俄國 (D)奧國。
- () 43. 日本在近代化過程中，先後在哪些戰役中擊敗中國和俄國，因而得以躋身列強之林？
(A)鴉片戰爭、日俄戰爭(B)鴉片戰爭、南北戰爭(C)甲午戰爭、南北戰爭(D)甲午戰爭、日俄戰爭。
- () 44. 右圖是一幅諷刺性的政治漫畫，描繪美國的擴張政策，標題是「這裡除了我以外，任何人不許插手」。請問：這圖是在嘲諷美國的何項外交策略？
(A)自由主義 (B)門戶開放 (C)姑息主義 (D)門羅主義。
- () 45. 以下哪一組人物和主張的配對是正確的？ (A)俾斯麥：「現謹將我們軍隊征服的南部地區，獻給我們最誠實的國王—薩丁尼亞國王。」
(B)加里波底：「當前各種重大問題，不是說空話或多數議決所能解決的，復興日耳曼，只有靠鐵與血。」 (C)門羅：「帝國就是和平！只要我當皇帝，我將帶給你們昔日法蘭西民族光榮的神話。」 (D)狄更斯：「我的《孤雛淚》是在描寫英國工業革命後的社會問題，以喚醒大眾的注意！」
- () 46. 附圖是十九世紀末的地圖，關於當時此地的描述，何者正確？
(A)島上的居民多為信奉羅馬公教的斯拉夫人(B)半島上的國家未獨立前受信仰伊斯蘭教的阿拉伯人統治(C)半島上的國家獨立後團結抵抗歐洲列強的入侵(D)歐洲列強覬覦巴爾幹半島與其戰略地位重要有關
- () 47. 豪豪是某部歷史小說的主角，生於十八世紀的長崎；他想要到國外遊歷，便偷偷登上一艘停泊於港口的外國船隻，打算偷渡出國。依據史實，他後來最有可能隨船抵達哪個國家？ (A)美國 (B)荷蘭 (C)英國 (D)西班牙。
- () 48. 十九世紀的馬克思共產主義學說與小說家狄更斯寫實主義作品，對當時人們思想有極大的影響力，下列何者最可能是二人在學說及作品上的主要共同點？(A)支持歐洲帝國主義在各地殖民擴張 (B)強調個人情感抒發與崇拜英雄事蹟 (C)對法西斯政權的專制作為表示質疑 (D)對工業革命下的歐洲社會提出反省。
- () 50. 右表為近代日本史事，若按時間先後排列，下列順序何者正確？
(A)甲乙丙丁 (B)乙丙丁甲 (C)丙丁乙甲 (D)丁丙乙甲。
- () 51. 中世紀以來，日耳曼地區為神聖羅馬帝國所控制；而在拿破崙征服神聖羅馬帝國之後，日耳曼地區即有知識分子鼓吹統一運動。維也納會議之後，由奧國與普魯士為首組成一個鬆散的日耳曼邦聯。請問：下列有關德意志帝國統一的進程，何者敘述正確？ (A)普魯士為促進工商業發展，倡導「關稅同盟」，成為統一的基礎 (B)俾斯麥集合包含奧國在內的日耳曼各邦勢力，促成統一的共識 (C)俾斯麥倡導「鐵血政策」，在經過國會同意後，徵稅加強軍事力量 (D)西元 1871 年，普魯士聯合奧匈帝國擊敗法國勢力，隨之成立德意志帝國。
- () 52. 在第一次世界大戰後的國際會議場合中，三個國家的代表吵得不可開交。甲：「無論如何，這麼多錢是借給貴國的，你們一定要歸還。」乙：「戰爭既然是別國發起的，就讓他們代償給貴國吧。」丙：「我國就算日夜不停的印鈔票，也還不起你們要的巨款。」請問：甲乙丙各代表何國？
(A)甲為英國，乙為法國，丙為德國 (B)甲為美國，乙為英國，丙為德國
(C)甲為德國，乙為美國，丙為英國 (D)甲為美國，乙為德國，丙為英國。

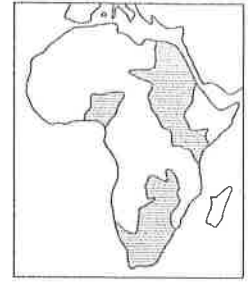


(甲)明治維新
(乙)大政奉還
(丙)鎖國時期
(丁)尊王攘夷運動

【第 1 頁結束 後面尚有試題】

- ()53 下列有關義大利統一三傑的敘述，何者正確？ (A)伊曼紐二世曾組織青年義大利黨，鼓吹統一 (B)馬志尼以外交與軍事手段排除奧國的勢力 (C)加富爾提出恢復古羅馬光榮，啟發民族意識 (D)加里波底將土地獻給薩丁尼亞國王。

- ()54. 下列哪個國家除了侵略印度，也曾在十九世紀末占領附圖中的深色區域？ (A)德國 (B)英國 (C)法國 (D)西班牙。



- ()55. 一位學者提出某國際組織的失敗原因：
 (1)會員國並未包括所有重要的國家：發起國美國未加入。
 (2)每一會員國權利平等，各有否決權，所以運作效率不彰。
 (3)組織缺乏武力來制裁國際侵略行為。

由上述內容判斷，此組織最可能是下列何者？

- (A)聯合國 (B)國際聯盟 (C)華沙公約組織 (D)北大西洋公約組織。

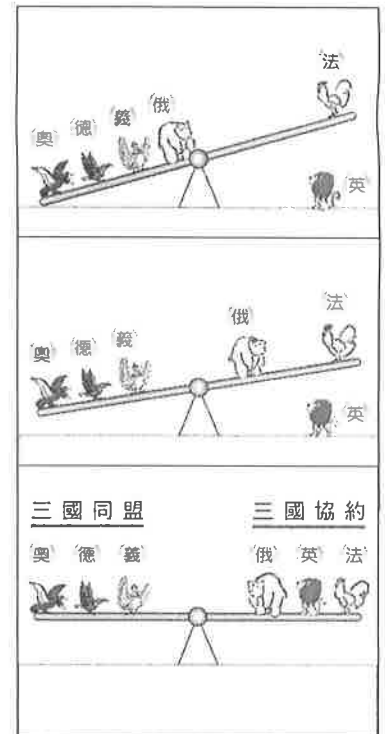
二、題組(每題2分，共10分)

1. 十九世紀以後，歐洲各國為爭奪市場與原料，重新展開殖民活動，掀起新一波帝國主義。請問：

- ()56. 下列何者不是新帝國主義向外侵略的目的？ (A)爭奪原料 (B)搶奪市場 (C)教化落後民族 (D)推動民族自決。
- ()57. 下列何者是新帝國主義的主要侵略目標？ (甲)北美洲 (乙)歐洲 (丙)亞洲 (丁)非洲 (A)甲乙 (B)甲丙 (C)乙丁 (D)丙丁。
- ()58. 當時列強為爭奪殖民地，甚至不惜發動戰爭；其中，日俄戰爭是為爭奪中國的哪一地區而發生的？ (A)西南地區 (B)長江流域 (C)華北地區 (D)東北地區。

2. 附圖為十九世紀後期的國際情勢變化圖。請問：

- ()59. 造成上圖中法國孤立一旁的戰爭為？ (A)美國獨立戰爭 (B)拿破崙戰爭 (C)普法戰爭 (D)第一次世界大戰。
- ()60. 中圖演變至下圖，是因為德國施行什麼政策？ (A)經濟封鎖 (B)大海軍政策向海外發展 (C)與奧結盟 (D)發明坦克。



【試題結束—文光九年級、歷史科】

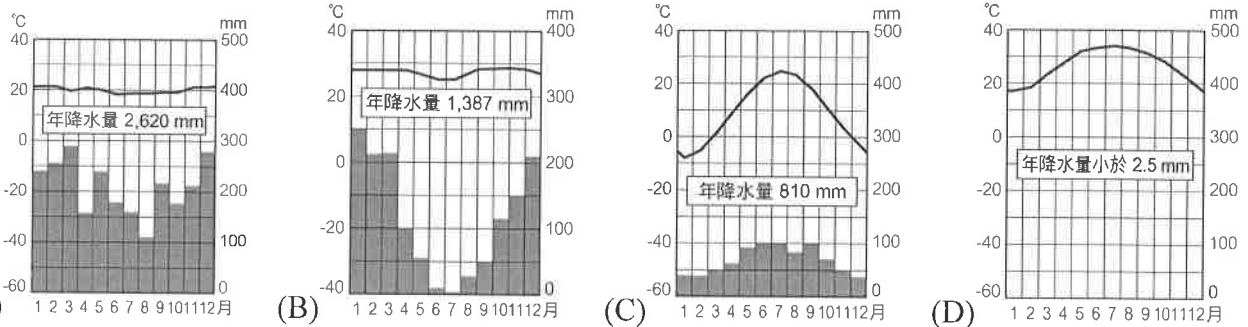
澎湖縣立文光國民中學 109 學年度第 2 學期 第 1 次成績評量 9 年級地理科試卷

班級：_____ 姓名：_____ 座號：_____ 讀卡 答案卷

一、單一選擇題（十題，每題 2 分，共 20 分）



- () 21. 地塹是地球上的疤痕，為一種張裂性板塊作用而成，而東非大裂谷是地球上最明顯的地塹。東非大裂谷位於何處？
 (A)甲 (B)乙 (C)丙 (D)丁
- () 22. 撒哈拉盆地因北回歸線通過，副熱帶高氣壓籠罩而有著世界上最大的沙漠，請問此沙漠所在區域氣候是對應到下列哪張氣候圖中？



- () 23. 豆子在電影《獅子王》當中，發現片中主要的野生動物多分布於廣大的草原當中，其間有一些低矮的林木分布，也成為花豹的棲息地。而炎熱的太陽在乾季時更是把地表晒得出現龜裂的現象。根據這些環境的特色判斷，應該是下列哪種氣候的分布地區？(A)熱帶雨林氣候 (B)熱帶沙漠氣候 (C)熱帶高地氣候 (D)熱帶莽原氣候
- () 24. 埃及蘇伊士運河縮短了大西洋與印度洋的航程，是因為它連結了哪兩個海域？
 (A)黑海、紅海 (B)裏海、地中海 (C)地中海、黑海 (D)地中海、紅海
- () 25. 非洲有一種傳統的耕種方式，耕作方法如下：「尋找土地→砍伐森林→放火焚燒林木→整地播種→不施肥、不除草→收成→三、五年後地力枯竭→放棄原有耕地→另尋新土地……」此種循環不已的耕作方式稱為什麼？
 (A)游耕 (B)土耕 (C)水耕 (D)械耕
- () 26. 1970 年完工的亞斯文水壩，在埃及與蘇丹交界處的尼羅河上形成了長達 600 公里的巨大人工湖。水庫形成的效益和影響極大，下列哪些現象，不是受到水壩興建所帶來的影響？ (A)尼羅河三角洲淤積沃土增加，面積擴大 (B)使用肥料需求增加，農民負擔變重 (C)部分歷史文物古蹟，永沉於庫底 (D)解決水患問題，並擴大灌溉面積
- () 27. S 牌電腦是由日本設計，並且在中國設廠，利用中國的原料與勞工進行電腦製造。S 牌電腦不在日本國內製造，而選擇在中國設廠的主要考量為何？
 (A)可不使自己國家受到工業汙染 (B)降低生產所需的成本
 (C)日本與中國政府有貿易協定 (D)中國勞工擁有高技術
- () 28. 美國、加拿大、墨西哥共同簽訂「NAFTA」，其中，美國扮演的角色為下列何者？
 (A)提供技術、資金 (B)提供充足原料 (C)提供便捷的交通 (D)提供廉價的勞工
- () 29. 右圖為某區域性經濟組織的標誌，這個組織為下列何者？ (A)歐洲聯盟 (B)北美自由貿易協定
 (C)亞太經濟合作會議 (D)石油輸出國家組織



【第 3 頁結束—背面尚有試題】

- () 30. 右圖為世界某兩個國家的小朋友所寫下的日記，由這兩篇日記我們可看出什麼現象？
 (A)環境破壞 (B)人口分布不均
 (C)貧富差距 (D)國際貿易發達

我是住在非洲史瓦濟蘭的祖魯，今天來自臺灣世界展望會的阿姨姊姊們，帶了好多衣服、食物跟玩具分送給我們，村莊裡的小朋友都很開心……

今天，爸爸帶我跟姊姊去麥當勞吃早餐，吃完再去新光三月買玩具，爸爸買了我最喜歡的變形金剛，姊姊買了他最愛的Hello Kitty。

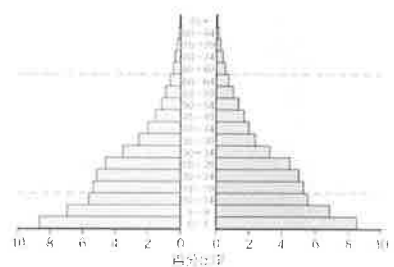
二、題組：(十題，每題1分，共10分)

- (一)非洲大部分地區屬熱帶氣候，年平均氣溫在20°C以上的地方約占全洲面積95%。請問：
 () 31. 形成此氣候特色的主要背景原因為何？

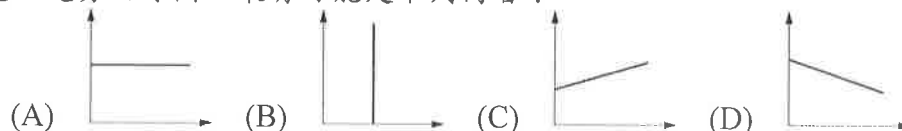
- (A)多位低緯度區 (B)終年盛行西風 (C)丘陵山地交錯 (D)地處板塊交接
 () 32. 「此地雖然位於熱帶地區，但因地勢高而終年涼爽……」，上述是哪個氣候類型的特點之一？ (A)熱帶季風氣候 (B)草原氣候 (C)熱帶莽原氣候 (D)高地氣候

- (二)由於地理環境的影響，使非洲傳統產業型態受限，加上人口素質及醫療水準普遍低落，使得非洲的出生率、死亡率及人口成長率位居全球之冠，其龐大的人口數量，讓原本就匱乏的物資更顯不足，大多數民眾長期飽受貧窮與飢餓之苦。

- () 33. 歐洲各國在非洲殖民統治後，於各地開採豐富的礦產資源，並發展了何種產業，使非洲的傳統生活型態產生極大的改變，造成糧食不足，饑荒頻繁？
 (A)水稻農業 (B)熱帶栽培業 (C)休閒農業
 (D)商業性養殖漁業



- () 34. 右圖為非洲的人口金字塔圖，下列選項中，哪個是幼年人口數量眾多的原因？(A)政府政策 (B)幼年人口移入者暴增 (C)社會增加率一直不斷上升 (D)非洲許多人民不懂節育觀念
 () 35. 近年來，由於醫療水準的提升，非洲的死亡率逐漸下降。未來非洲青壯年扶養比的變化趨勢曲線圖，最有可能是下列何者？



- (三)運輸與通訊技術的革新讓地球實際空間距離大幅縮短，形成「地球村」的感受。請問：

- () 36. 跨國企業是指國外進行直接投資，設立子公司或附屬機構以從事生產、銷售的企業，為現代企業主要的經營形式之一。關於跨國企業的敘述，下列何者正確？

- (A)國際分工明確 (B)不考慮在落後國家設廠 (C)資訊封閉排外
 (D)只帶動經濟發展，不帶動文化
 () 37. 當石油輸出國家組織協議減少原油的生產時，全球的油價就會大漲，這種經濟現象係因哪種特性所致？ (A)各國對石油依賴程度下降 (B)區域性組織與全球性組織的競爭 (C)貿易全球化所產生的骨牌效應 (D)跨國公司壟斷金融性商品的結果

- (四)《世界是平的》這部電影描述：「在『某些因素』的考量下，主角陶德所屬的公司將客服部門外包到印度，陶德便被派到印度訓練承包的銷售公司員工如何以美國方式工作、說話。然而，孟買的混亂、街童的乞討、名字被唸成『蟾蜍』等等文化上的種種不適應都讓陶德抓狂。」請問：

- () 38. 印度在全球分工體系之下有何優勢？(甲)低廉勞力；(乙)英語能力；(丙)眾多宗教；(丁)高科技技術 (A)甲乙 (B)乙丙 (C)丙丁 (D)甲丁
 () 39. 全球分工體系之所以可以實現，與下列何項因素關係最大？
 (A)人口增加 (B)全球暖化 (C)政策轉變 (D)交通革新
 () 40. 文中的「某些因素」是指下列何者？ (A)交通便利 (B)提高產品知名度
 (C)降低生產成本 (D)打開國際市場

【第4頁結束—背面尚有試題】

澎湖縣立文光國民中學 109 學年度第 2 學期 第 1 次成績評量 9 年級公民科試卷

班級：_____ 姓名：_____ 座號：_____ 讀卡 答案卷

一、單一選擇題（十五題，每題 2 分，共 30 分）

- () 1. 下列是對於現今文化交流的介紹：「二十世紀中葉以來，電腦與網路的發展，加速全球化的進程。全球各地的政治、經濟、文化等訊息，都可以透過網路而獲取，資訊社會的來臨與全球化的腳步，讓每個人接觸其他國家訊息的機會大增。」由上述內容判斷，下列何者是促成當今國際文化交流最主要的原因？ (A)傳播科技的發達 (B)通商傳教的頻繁 (C)國外旅遊的盛行 (D)引進大量國外書籍
- () 2. 十八世紀末一直到十九世紀初的歐洲，存在著「法國一感冒，全歐洲打噴嚏」的現象，這種說法與現代的「蝴蝶效應」（亞馬孫河的一隻蝴蝶振動翅膀，會掀起密西西比河流域的一場風暴）有異曲同工之妙。以上的敘述與下列哪個說法有關？ (A)接納各自多元文化(B)莫管他人瓦上霜(C)全球化時代來臨(D)生態保育的重要
- () 3. Discovery 頻道和國家地理頻道經常播出歷史、地理、生態、科技與人文風俗介紹等節目，對於平日甚少接觸工作之外事物的上班族，提供了另一種新鮮的學習管道。這是大眾傳播媒體的哪項功能？(A)提供訊息(B)監督政府(C)教育文化(D)休閒娛樂
- () 4. 永達公司的員工，為了要求資方合理的調整工時，而進行罷工抗議。此時，針對這個事件，某媒體只片面報導資方立場，而未公正報導勞方的需求，這是忽視了勞動方的哪種權利？ (A)著作權 (B)媒體接近使用權 (C)隱私權 (D)專利權
- () 5. 某電視節目專門受理民眾的投訴，報導政府施政不夠周延之處，像是違規侵占騎樓的路霸、交通號誌標示不清的路段等，以督促政府相關單位予以改善。這是利用下列何項傳播媒體的功能？(A)提供訊息 (B)監督政府 (C)教育文化 (D)休閒娛樂
- () 6. 氣候影響人類生活至鉅，古代農民看天生活，即使到了現在，每個人都還是會看氣象報告來決定出門是否多攜帶一件外套或者雨具。上述氣象報告是屬於大眾傳播媒體提供的哪項功能？ (A)提供訊息 (B)監督政府 (C)教育文化 (D)休閒娛樂
- () 7. 韓劇《來自星星的你》描述來自外太空的男子都敏俊和身為知名女明星的千頌伊陷入愛情的故事。此劇不僅在韓國創下收視奇蹟，也在兩岸三地掀起一股「星星旋風」。上述韓劇的熱播現象，主要是發揮了媒體的哪項功能？ (A)提供訊息 (B)休閒娛樂 (C)教育文化 (D)監督政府
- () 8. 走在臺灣的都市街頭，處處可見日本拉麵、酸辣的泰國菜和美國口味的漢堡，各式餐廳林立，這種現象顯示了臺灣人對外來文化抱持著何種態度？ (A)崇洋與同化 (B)自由與理性 (C)開放與包容 (D)競爭與比較
- () 9. 為了杜絕日益猖獗的網路犯罪行為，避免網路使用者以破壞他人磁碟、竊取他人帳號及密碼的方式侵犯他人權益，我國在《刑法》中訂有哪種罰則？ (A)詐欺罪 (B)妨害自由罪 (C)公共危險罪 (D)妨害電腦使用罪
- () 10. 網路上經常流傳一些似是而非的消息，而這些訊息在接收者未加以查證的情況下，又再一次的被廣為傳遞。在這過程當中，訊息是否被加油添醋，再次接收者無從得知。像這樣盲目傳遞訊息的人，缺乏何種道德素養？ (A)環境倫理 (B)家庭倫理 (C)生命倫理 (D)資訊倫理
- () 11. 我國立法院三讀通過某修正案，將個人的醫療紀錄、基因、健康檢查結果、犯罪前科等列為個人敏感個資。上述應屬於何種法律的修正案？ (A)《個人資料保護法》 (B)《商標法》 (C)《社會秩序維護法》 (D)《著作權法》

【第 1 頁結束—背面尚有試題】

- () 12. 新聞報導：「無線射頻標籤是由微小無線電天線的電腦晶片所組成，儲存著許多資料，可經由掃描器加以判讀。在美國與德國護照上，早已植入此種晶片。但近日卻遭到破解，不僅可以遠端監控，甚至還能複製晶片資料。」上述內容，最可能在討論哪項議題？
 (A)科技發展與隱私的難題 (B)全球化資訊傳播的好處 (C)科技發展促進經濟成長 (D)資訊時代裡的國際合作
- () 13. 行政院院會日前通過修法草案，將數位及網路盜版的侵權行為，包括散布如 CD、DVD、音樂或影音檔案的重製品等，列為非告訴乃論罪，檢察官將主動偵辦。上述散布如 CD、DVD、音樂或影音檔案的重製品，違反了何部法律的規範？
 (A)《專利法》 (B)《著作權法》 (C)《商標法》 (D)《所得稅法》
- () 14. 開設「西堤牛排館」的王品餐飲公司認為，臺中大坑的「溪隄咖啡」登記使用「溪隄」，與「西堤」讀音相同，向智慧財產局申請評定，希望撤銷溪隄咖啡的品牌註冊。上述「溪隄」咖啡最有可能侵犯「西堤」牛排的何種權利？
 (A)著作權 (B)專利權 (C)商標權 (D)工作權
- () 15. 美國科學家利用未受精的卵和皮膚細胞，首次成功複製出人類胚胎幹細胞，未來可望為器官移植患者量身訂做器官。上述內容最可能引發下列哪項爭議？
 (A)企業倫理 (B)生命倫理 (C)環境倫理 (D)資訊倫理

二、題組(五題，每題 1 分，共 5 分)

(一)許多臺灣民眾因為寵物兔的價格及飼養門檻低，所以常在逛夜市時就順手買回家飼養。一段時間後，有些人則因無力飼養或飼養觀念不正確，讓許多兔子遭到棄養或受到不人道的對待。自稱「愛管閒事」的海綾月於是開始藉由網路部落格，專門媒合有意送養及認養兔子的飼主，並發表正確的飼養觀念。就這樣，她促成一千七百多個成功認養的案例，讓這些寵物兔找到新家庭，免於無法預料的命運。而她的部落格也因此成為臺灣重要的寵物社群平臺。時至今日，海綾月仍在為兔子的權利與福利奔走，而她的首要目標就是推動動物保護法及特定寵物業管理辦法的修法，讓兔子在繁殖、買賣、棄養、結紮等方面有較好的法律保障。根據上述短文內容，回答下列問題：

- () 16. 有些人基於新鮮感而飼養寵物，卻在一段時間後就任意棄養。此作法已經違反哪種倫理的要求？ (A)生命倫理 (B)資訊倫理 (C)校園倫理 (D)經濟倫理
- () 17. 海綾月經營網路部落格，媒合有意送養及認養兔子的飼主，並發表正確的飼養觀念，這樣是藉助哪種科技的力量來愛護動物？
 (A)生物科技 (B)資訊科技 (C)醫療科技 (C)生活科技
- () 18. 海綾月在部落格撰文發表正確的飼養觀念，任何人在超出合理使用範圍之外，未經她授權，不得任意轉載其文章或圖片，否則將會觸犯哪項法律？
 (A)《刑法》 (B)《商標法》 (C)《專利法》 (D)《著作權法》

(二)美國科學家米歇爾·科茲曼曾說過：「十九世紀是鐵路時代，二十世紀是高速公路時代，而二十一世紀是寬頻網路的時代。」人類的進步，帶動生活型態的轉變。請問：

- () 19. 下列哪種生活型態最能用來說明二十一世紀網路時代？ (A)利用臉書 FB 和同學聊天 (B)打電報向家裡報平安 (C)寫信向喜歡的人告白 (D)飛鴿傳書通知訊息
- () 20. 人類的生活方式不斷的進步，其中最主要的因素為何？
 (A)營養充足 (B)科技進步 (C)國力富強 (D)文化交流