

澎湖縣立文光國民中學 110 學年度第 2 學期第 2 次成績評量 7 年級國文科試卷

壹. 國字與注音：9% 每字 1 分.

七年 () 班 姓名： 座號：()

1. 名聞「ㄊㄨㄣˊ」ㄉㄨㄥˊ」： 2. 戰戰「兢兢」： 3. 風流 ㄊㄨㄣˊ、儻： 4. 綢「繆」：
5. 暴「殄」天物： 6. ㄉㄨㄥˊㄨㄟ 灰塵： 7. 白雪「皚皚」： 8. ㄉㄨㄣˊ、忽：

貳. 解釋：8% 每題 2 分.

1. 卻看妻子： 2. 「莽莽」乾坤：
3. 安內攘外： 4. 歷歷如繪：

參. 成語填充：15% 每題 1 分. *請依據下列所示成語，將合乎句意者於 () 內填入代號。

- A. 囫圇吞棗 B. 無的放矢 C. 自顧不暇 D. 目不暇給 E. 頤指氣使 F. 披肝瀝膽 G. 動輒得咎 H. 茲事體大
I. 仁心仁術 J. 作育菁莪 K. 破釜沉舟 L. 躊躇滿志 M. 傾囊相授 N. 古道熱腸 O. 爾虞我詐 P. 光風霽月
Q. 民脂民膏 R. 強弩之末 S. 野人獻曝 T. 高風亮節 U. 弦歌不輟 V. 披沙揀金 W. 天涯若比鄰 X. 船到橋頭自然直

1. 張老師投注畢生心血，()，提攜後進，在教育方面貢獻卓著。
2. 這位得到「奧斯卡」最佳女主角的女明星，()地舉起獎座，接受全場歡呼。
3. 打鐵鋪的老師傅將一身絕學()，希望能把這項傳統技藝傳給下一代。
4. 商場如戰場——為了攫取最大利益，商人們總是()，無所不用其極。
5. 李醫師自入行來不僅醫術精湛並且視病如親，堪稱()、是杏林之光。
6. 他擁有()的品格，是擔任兩造調人的不二人選。
7. 公部門編列的預算都是()，若未能把錢用在刀口上，便難逃輿論撻伐。
8. 在跨年晚會上，各式表演節目應有盡有，令人()。
9. 新上任的主管對員工總是()，難怪爆發一陣離職潮。
10. 這只是個人的淺見，()，請勿見笑。
11. 難度較高的書籍不可()，要細嚼慢嚥、一再反芻，才能體會個中滋味。
12. 科技發達，網路無遠弗屆，讓相隔兩地的人們，也能()。
13. 你先不要杞人憂天，所謂()，事情總會有解決的辦法。
14. 即使你有再大的志向，但若欠缺()的決心，也是無法成功的。
15. 公司面臨轉型期，王總經理想要有所作為卻()；但他決定置個人榮辱於度外，繼續推動改革的政策。

肆. 綜合測驗與伍. 閱讀題組 答案欄：68% 每題 2 分. *請將答案填入答案欄，否則不予計分.

1	2	3	4	5	6	7	8	9	10
11	12	13	14	15	16	17	18	19	20
21	22	23	24	25	26	27	28	29	30
31	32	33	34 答：						

肆. 綜合測驗：62% 每題 2 分 *請將答案填入答案欄，否則不予計分.

1. 關於書法家和其作品的敘述，何者有誤？

- (A)張旭的草書稱為「狂草」，代表作有肚痛帖等(B)王羲之被尊為「書聖」，以楷書最知名，其代表作是蘭亭集序(C)唐代楷書名家輩出，顏真卿、柳公權、歐陽詢等尤為著名(D)曹全碑碑文秀麗而有骨力，是學習隸書的範本

2. (甲)𨋖 (乙)𨋖 (丙)𨋖 (丁)𨋖 請將上列各種「車」字的形體依時代先後排列：(A)甲乙丙丁 (B)甲丙乙丁 (C)甲丙丁乙 (D)丙甲丁乙。
3. 「即從巴峽穿巫峽，便下襄陽向洛陽」句中連用四個地名顯示何種意義？
(A)歸心似箭 (B)路途遙遠 (C)遍遊名勝 (D)四處逃難。
4. 詩詞裡經常同時表達「時間」與「空間」意識。下面哪個選項只點明了「空間」呢？
(A)故人西辭黃鶴樓，煙花三月下揚州 (B)桃花潭水深千尺，不及汪倫送我情
(C)姑蘇城外寒山寺，夜半鐘聲到客船 (D)朱雀橋邊野草花，烏衣巷口夕陽斜。
5. 黃鶴樓送孟浩然之廣陵與贈汪倫都是贈別詩。關於兩首詩的比較，下列何者正確？(A)都點出送別的地點與季節 (B)二詩的作者都是送行人 (C)都用具象的「水」表達深厚的情誼 (D)均運用視覺與聽覺摹寫
6. 關於近體詩選三首詩歌作法下列敘述何者錯誤？(A)杜甫使用「穿、下、向」等字，表現出輕快飛馳的返鄉畫面 (B)「桃花潭水深千尺」與「初聞涕淚滿衣裳」皆運用誇飾手法 (C)李白藉具體的桃花潭水襯托出朋友間的深厚情誼 (D)賴和以倒反手法來凸顯對抗殖民統治的堅毅不屈
7. 聞官軍收河南河北一詩，深刻表達杜甫的何種心境？(A)急欲返家與妻子兒女相聚的渴望 (B)及時行樂，盡情放歌縱酒的瀟灑 (C)聽聞家園收復，急欲返鄉的歡快 (D)聽到消息，也想殺敵平亂的壯志
8. 出獄歸家一詩的主旨為何？(A)表達返家之後與家人相聚的歡喜 (B)抒寫獄中感受到的人情冷暖 (C)藉出獄所見所感表達反殖民意識 (D)描述出獄後生活的種種困境
9. 有關聞官軍收河南河北一詩的內容，下列說明何者正確？(A)首聯點出作者在薊北聽到捷報 (B)領聯寫聽聞消息後的心情反應 (C)頸聯說明與友同賀且結伴返鄉 (D)尾聯四地名凸顯歸程漫長遙遠
10. 紙船印象一文是以甚麼面向為抒懷的主軸？(A)手足情深 (B)感念親恩 (C)甜蜜愛情 (D)真摯友情
11. 紙船印象一文作者說：「有一些事，卻像夏日的小河、冬天的落葉……似無所見，又非視而不見」，下列何者屬於這類往事？(A)消逝快速，不留痕跡的事 (B)漸去漸遠，逐漸淡忘的事 (C)感受深刻，永生難忘的事 (D)不起眼卻易勾起回憶的事
12. 「只盼望自己能以母親的心情，為子女摺出一艘艘未必漂亮但卻堅強的、禁得住風雨的船」，句中「堅強的、禁得住風雨的船」意指為何？(A)加強孩子的專長，以備將來有最佳的競爭力 (B)期望自己能盡最大的能力來護衛子女 (C)為子女摺出堅固且別出心裁的紙船 (D)希望孩子能增強體魄，抵禦病魔侵擾
13. 有關紙船印象一文的作法，下列敘述何者錯誤？(A)全文的脈絡由「物」而「人」而「情」，層次分明 (B)「這些紙船都是有感情的」為全文轉折處，由抒情轉為記敘 (C)用譬喻法描述對往事的印象 (D)以排比句法描繪紙船下水的情景
14. 「我時常看見你穿著白衣／在往診的道路上顛簸／專注構思社會診斷書／在寂寞的夜晚／熬成一篇一篇新文學的先聲／歲末天寒迎接年節／家家戶戶焚燒紙錢賄賂鬼神／你卻在自家庭院／默默點燃／貧苦病患無力償還的帳單」從以上詩句判斷，應是吟詠那位文學家？(A)楊喚 (B)胡適 (C)賴和 (D)楊逵
15. 杜甫曾經歷「安史之亂」，作品能深切關懷民生疾苦，反映時代苦難，下列何者最可能是杜甫寫的詩句？
(A)焉得鑄甲作農器，一寸荒田牛得耕 (B)大都好物不堅牢，彩雲易散琉璃脆
(C)憑君莫話封侯事，一將功成萬骨枯 (D)可憐無定河邊骨，猶是春閨夢裡人
16. 「這種美麗的感情要到年事稍長後才能體會出來」，紙船印象中此話涵義與下列何者相近？(A)為了未來，不要讓孩子輸在起跑點上 (B)我是當爸爸後，才知道怎麼做爸爸的 (C)孩子的成長只有這一次，不能夠重來 (D)喜歡嗎？喜歡嗎？爸爸全部都買給你
17. 紙船印象中描寫紙船在水道上航行時的樣貌，下列何者氣勢最壯盛？(A)比肩齊步 (B)千里單騎 (C)曹操的戰艦 (D)列隊而出


18. 徐仁修先生創立荒野保護協會，下列哪個選項不適合當作協會的宣傳標語？(A)除了照片，什麼都不帶走 (B)除了回憶，什麼都不製造 (C)除了楓葉，什麼都不拿取 (D)除了足跡，什麼都不留下
19. 關於森林最優美的一天之寫作手法，下列敘述何者錯誤？(A)文中大量運用誇飾、排比等技巧，來描寫落花紛飛的特殊景致 (B)「五月山花香」一段結合童年的記憶，呈現出溫馨可愛的一面 (C)運用嗅覺、視覺等摹寫手法，呈現出森林的清幽與美妙 (D)用動態描寫呈現油桐花飄落的生動意象
20. 根據放天燈是傳統，還是為山林製造更多垃圾？一文，有關平溪放天燈的敘述，下列何者正確？(A)利用冷空氣上升的原理讓天燈冉冉升空 (B)不僅浪漫美好且創造出龐大的觀光效益 (C)是中元節最受大家歡迎的民俗節慶活動 (D)是國外觀光客來臺體驗文創藝術的首選
21. 承上題，關於美麗天燈背後的隱憂，下列敘述何者不正確？(A)產生的龐大垃圾，加重消防局清理的負擔 (B)天燈如果落到河川內，會造成棲地的破壞 (C)可能引發火災，威脅當地居民的生命安全 (D)殘骸四處散落，破壞景觀且可能造成危險。
22. 有關放天燈是傳統，還是為山林製造更多垃圾？一文的說明，下列敘述何者正確？
 (A)天燈相傳是三國時代的諸葛亮為了軍事所需而設計，用以探測「星象」
 (B)天燈又名「孔明燈」、「平安燈」、「祈福燈」，其上升原理與熱氣球相同
 (C)放天燈源自一種宗教儀式，也是讓臺灣躍上世界舞臺的重要文化活動之一
 (D)平溪天燈據傳是清朝時，山區的居民為了對抗盜匪入侵而設計的防禦武器
23. 孟浩然過故人莊是一首著名的田園詩。詩人因朋友邀約而欣然前往，詩中由農村之美寫到人情之濃，並約定擇日再訪，表現出好友間的情誼。下列敘述何者有誤？(A)本詩题目的「故人」和「故人西辭黃鶴樓」，兩個「故人」意思相同 (B)「把酒話桑麻」一句使用「借代」修辭 (C)「具雞黍」代表朋友盛情款待 (D)從詩句的敘述可知：作者去農家拜訪是在秋季

24. 黃河遠上白雲間，
 一片孤城①萬仞②山。
 羌笛何須怨③楊柳④，
 春風不度⑤玉門關。(王之渙 涼州詞)
 *注釋①孤城：指涼州城。②萬仞：在此形容山勢極高。③怨：指透過笛聲表達哀怨之情。
 ④楊柳：指折楊柳歌。⑤不度：吹不到。


這是一首邊塞詩的名作，前兩句描繪邊塞蒼茫遼闊的景象，後兩句傳達戰士們的心聲。請問本詩想凸顯邊塞戰士的何種心境？(A)思鄉感傷 (B)豪情壯志 (C)閒適自得 (D)忠君愛國。

25. 唐代重要詩派與代表性詩人之配對，何者錯誤？(A)浪漫派：李白 (B)寫實派：杜甫 (C)田園派：王維、李商隱 (D)邊塞派：王之渙、王昌齡
26. 關於近體詩的敘述，下列何者錯誤？(A)是盛行於唐代的一種詩歌體裁，分為「絕句」與「律詩」 (B)「律詩」每兩句為一聯。領聯、頸聯須對仗 (C)無論絕、律偶數句末字必須押韻 (D)用字有平仄限制，但可換韻
27. 關於漢字的流變史，下列敘述何者錯誤？(A)「甲骨文」主要出土於殷都遺址，所以也稱「殷墟文字」 (B)周代的代表性銘文出自「毛公鼎」，現存於故宮博物院 (C)大篆是在小篆的基礎上發展、簡化而成，由秦相李斯主導 (D)「隸書」擺脫古文字的圖畫性成為純粹的符號，為方塊漢字奠定基礎
28. 學作品或生活用語中提到年齡，有時會以特定的詞語作為代稱，例如「而立」代表三十歲。下列年齡代稱請將對應年歲由幼而長排列：甲.及笄之年 乙.始髫之年 丙.古稀之年 丁.襁褓之年 戊.耄耋之年 己.不惑之年 庚.知命之年 辛.花甲之年 (A)丁甲乙辛丙己庚戊 (B)丁乙辛庚己甲丙戊 (C)丁乙甲己庚辛丙戊 (D)戊甲乙丙辛庚己丁

29. 李白「孤帆遠影碧山盡」中「帆」即指「船」，為中文寫作中的「借代」修辭。下列「借代」修辭的配對，何者錯誤？(A)「烽火」連三月：戰爭 (B)無「絲竹」之亂耳：音樂 (C)渾欲不勝「簪」：青春 (D)「黃髮垂髫」，並怡然自樂：老人、小孩
30. 教書法的陳老師每到一處古蹟名勝，總習慣順手將景點的匾額、對聯拍攝下來。上課時他跟同學分享了一幅作品——他說這幅作品的字體講究點畫、結構和墨色的變化，筆勢與字形介於楷書與草書之間，比草書端莊，運筆又比楷書自由。請問張老師分享的作品應該是下列何者？



31. 下列是四幅不同字體的圖片。請按照它們演變的時代先後順序加以排列。



- (A) 甲乙丙丁 (B) 甲丙丁乙 (C) 乙丁甲丙 (D) 乙甲丙丁。

伍. 閱讀題組：6% *請將答案填入答案欄，否則不予計分。

(甲) 拒清存漢族，闢地逐荷蘭。弔古①生餘恨，東寧②落日寒。(連橫 詠□□□)

(乙) 春愁難遣③強看山，往事驚心淚欲潛④。四百萬人同一哭，去年今日割臺灣。(丘逢甲 春愁)

*注釋①弔古：感念往昔的人事。②東寧：指臺灣。③遣：排解、消除。④潛：流淚的樣子。

32. 請從(甲)詩內容判斷，□□□內的歷史人物是誰？(A)鄭成功 (B)劉銘傳 (C)沈葆楨 (D)孫中山。

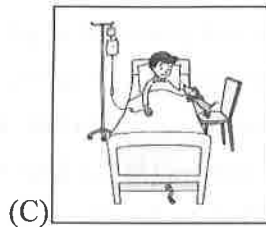


33. 關於上述兩詩之分析，下列何者錯誤？(A)(甲)詩作者透過三、四句來表達臺灣被外族統治的痛心 (B)「往事驚心淚欲潛」的「往事」指的是「割讓臺灣」 (C)(乙)詩藉「淚欲潛」「同一哭」等動作表達內心強烈感受 (D)兩首詩都藉景物變化來暗示臺灣遭受外族統治的情況。

34. (甲)(乙)兩詩與出獄歸家，請按照詩中提及的臺灣歷史背景排列先後順序。

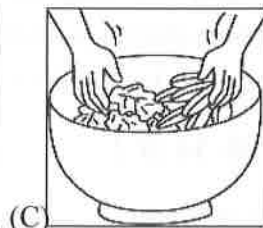
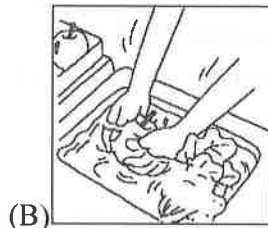
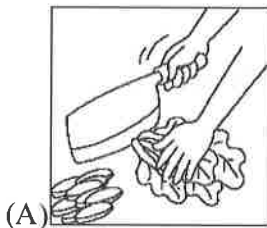
一、 聽力測驗（第 1 部份每題 1 分；第 2 部分每題 2 分，共 10 分）

1. 辨識句意：每題均有三張圖片，請依據所聽到的句子，選出符合描述的圖片。


(1) _____





(2) _____



(3) _____



(4) _____



2. 言談理解：每題均有三個選項，請依據所聽到的對話與問題，選出一個最適當的

答案。

- (1). (A) The man's father's. (B) The woman's. (C) The man's.
- (2). (A) At a fruit stand. (B) At a restaurant. (C) At a juice stand.
- (3). (A) He doesn't like the woman's dishes.
(B) He doesn't want to eat lunch.
(C) He wants to eat different food.

二、文意字彙 (每題 2 分, 共 20 分)

- _____ Peace Memorial Day (228 紀念日) is on F_____y 28th.
- _____ The coffee is too bitter (苦). Can you p_____t some sugar (糖) in it?
- _____ These soft boiled eggs (溏心蛋) are so d_____s. Can I have more?
- _____ Hsuan is writing a l_____r to his girlfriend in Australia.
- _____ Ben: Mom, could you buy a new cellphone for me, please?
Mom: Sure, but you need to get good grades (成績) f_____t.
- _____ Christmas is in D_____r, and it is a western (西方的) festival (節日).
- _____ English is not d_____t for me. It is also my favorite (最喜愛的) subject.
- _____ My family always (總是) does h_____k together on weekends. Mom and I mop the floor, and Dad washes the car.
- _____ Aaron's birthday is coming! Let's throw a birthday p_____y for him.
- _____ Joe: Dad, what's this? It looks like mud (泥漿).
Dad: It's b_____r. Your mom is making wheel pies (車輪餅) with it.

三、語法測驗 (每題 2 分, 共 34 分)

- () Principal's Office (校長室) is _____ the second floor of the school
(A) in (B) of (C) on (D) at
- () A: When is Hugo and Angela's wedding?
B: It's in _____, but I can't remember (記得) the specific (詳細的) date.
(A) March 26th (B) six thirty (C) October (D) Saturday
- () A: _____ are you doing? B: Great!
(A) What (B) How (C) Why (D) Who
- () There are _____ students in the line, and the _____ student is my neighbor (鄰居).
(A) twenty-five; twenty-fifth (B) twenty-five; twenty-five
(C) twenty-fifth; twenty-five (D) twenty-fifth'; twenty-fifth
- () Stanley is hungry. He wants an _____, two apples and a lot of _____.
(A) guava; rice (B) egg; noodles (C) guava; fish (D) eggs; noodles
- () A: _____ glasses are these? B: _____.
(A) What; They are Lisa's (B) Whose; It's Lisa's
(C) Whose; They are Lisa's (D) What; It's Lisa's
- () A: _____ do you like, water, juice __ cola? B: Water, please.
(A) When; and (B) How; or (C) Which; or (D) What; and
- () A: Who is _____ girl over there? B: She is my little cousin, Cindy.
(A) third (B) the three (C) three (D) the third
- () A: What time do you practice basketball on weekends? B: At _____.
(A) the morning (B) April (C) Sundays (D) 9 a.m.
- () Don't eat too much _____. It's harmful (有害的) for your health (健康).
(A) pies (B) noodles (C) apples (D) junk food
- () _____ of the students like this teacher.
(A) One-second (B) Two-third (C) Three-fourths (D) Four-five

12. () Today is _____ July _____.
 (A) on; tenth (B) X; ten (C) in; tenth (D) X; tenth
13. () How many textbooks (課本) _____ there on the desk?
 B: There _____ only one textbook on the desk.
 (A) are; is (B) is; is (C) is; are (D) are; are
14. () Chinese New Year (農曆新年) is _____. I can't wait for it!
 (A) away ten days (B) for ten days (C) ten days away (D) ten days for
15. () A: How _____ milk tea do you want? B: I want two _____ milk tea.
 (A) many; X (B) much; cups of (C) much; X (D) many; cups of
16. () A: _____ fish are there in the pond (池塘)? B: There are fifty.
 (A) How much (B) How (C) What (D) How many
17. () Let's buy (購買) some _____. Mom likes it very much.
 (A) guava (B) oranges (C) pancakes (D) butter

四、克漏字 (每題 2 分, 共 10 分)

(At a hospital)

Karen: Is this a health insurance card? __1. __?

Mark: Excuse me! That's mine.

Karen: Mark? Why are you here?

Mark: I am so sick.

Karen: What's wrong? Are you OK?

Mark: Not good. I __2. __ care of my little brothers every day. My parents work in the USA.

Karen: You __3. __ the role of parents. It's not easy.

Mark: What about you? Are you sick, too?

Karen: No. My eyes aren't good. I come to make an appointment with Dr. Jackson.

Mark: __4. __ is your appointment?

Karen: It's __5. __ August 6th.

Mark: Oh! But now it's still July. Dr. Jackson is so busy!

- () 1. (A) Who is the card? (B) Whose card is it? (C) Where is the card? (D) What card is it?
- () 2. (A) take (B) takes (C) looks (D) look
- () 3. (A) work (B) join (C) add (D) play
- () 4. (A) How (B) What's the date (C) When (D) What time
- () 5. (A) from (B) of (C) on (D) in

五、閱讀測驗 (每題 2 分, 共 10 分)

1. Jessie is a 16-year-old girl from Taiwan. She is studying in a language school in Brisbane, Australia. She misses her family and friends in Taiwan very much. She calls them every day and talks about her life in Brisbane. She is really homesick. Her school teacher, Mr. Peter, is trying to help her make new friends in class. Jessie does homework with them after school every day and goes out with them on weekends. They do everything together. Jessie is very happy to hang out with them.

Today is Teacher's Day, and Jessie wants to make a thank-you card for Mr. Peter. She wants to show her gratitude and tell him, "You are a great teacher!"

- () 1. Where is Jessie now?
 (A) In Taiwan (B) In the USA (C) In Australia. (D) In China
- () 2. Which description(描述) is right?
 (A) Mr. Peter is Jessie's uncle.
 (B) Jessie helps her classmate do homework.
 (C) Jessie doesn't like Mr. Peter at all.
 (D) Jessie has lots of fun with her new friends.

language 語言 call 打電話
 homesick 想家的 try 嘗試
 hang out with 常和...出去玩
 show 表現 gratitude 感激

2. (On October 13th)

Hello, everyone. Welcome to watch "Home Cook" every Friday. I am your host Sam. Today we are making Taiwanese fried rice, and we need:

- 2 bowls of rice
- 1 egg
- 1 teaspoon of soy sauce
- 1/3 teaspoon of oil
- 1/2 teaspoon of salt
- 2 canned pineapple pieces



Now let's follow the steps and make Taiwanese fried rice:

1. Put oil into the pan and heat it up.
2. Cut the two canned pineapple pieces.
3. Scramble the egg.
4. Put rice and pineapple pieces into the pan and fry them.
5. Add the soy sauce and the salt, and then fry the dish for 15 seconds.

host 主持人, fried rice 炒飯
 teaspoon 茶匙 soy sauce 醬油
 oil 油 canned 罐裝的 cut 切
 scramble 炒(蛋) fry 炒 second 秒

Finally, we have a plate of yummy fried rice. I'm Sam. See you next Friday!

- () 3. What is "Home Cook"?
 (A) A name of the host (B) A TV show (節目)
 (C) A book about cooking (D) A Taiwanese restaurant (餐廳)
- () 4. Which step should (應該) you do before (在...之前) you scramble the egg?
 (A) Add salt.
 (B) Fry the pineapple pieces.
 (C) Put rice into the pan.
 (D) Put oil into the pan.
- () 5. This is the calendar (日曆) of October. When we can watch "Home Cook"?

- (A) October 14
 (B) October 15
 (C) October 20
 (D) October 26

October						
Sun	Mon	Tue	Wed	Thu	Fri	Sat
1	2	3	4	5	6	7
8	9	10	11	12	13	14
15	16	17	18	19	20	21
22	23	24	25	26	27	28
29	30	31				

六、完成句子(須以全英文回答, 寫數字扣分)(每題2分, 共16分)

【題目列印於答案卷上】

【試題結束—文光國中七年級英文】

澎湖縣立文光國民中學 109 學年度第二學期第二次段考七年級英文科答案卷

班級： 姓名： 座號：

一、聽力測驗（第 1 部份每題 1 分；第 2 部分每題 2 分，共 10 分）

1.

1.	2.	3.	4.
----	----	----	----

2.

1.	2.	3.
----	----	----

二、文意字彙（每題 2 分，共 20 分）

1.	2.	3.	4.	5.
6.	7.	8.	9.	10.

三、語法測驗（每題 2 分，共 34 分）

1.	2.	3.	4.	5.	6.	7.	8.	9.
10.	11.	12.	13.	14.	15.	16.	17.	

四、克漏字測驗（每題 2 分，共 10 分）

1.	2.	3.	4.	5.
----	----	----	----	----

五、閱讀測驗（每題 2 分，共 10 分）

1.	2.	3.	4.	5.
----	----	----	----	----

六、完成句子(須以全英文回答，寫數字扣分)（每題 2 分，共 16 分）

1.	What's the date today? (以今天的日期回答)
2.	When is Eso's birthday? (以 9 月 30 日回答)
3.	How much tea is there on the table? (以五罐茶回答)
4.	Sean drinks <u>ten</u> glasses of water every day. (依畫線部分造原問句)
5.	Your new watch is black, but <u>Coco's new watch</u> is white. (畫線部分以所有格代名詞改寫)
6.	A friend can play the role of a teacher, too. (以 also 改寫句子且句意不變)
7.	A: 那輛汽車是誰的? B: Emma 的。那是她的第五輛車。(中翻英)
8.	Ivy 有三袋麵粉和一些鹽巴。(中翻英)

【恭喜完成~交卷前記得多檢查幾次!】

選填題(每題 2 分，共 10 分。)

下列各題中，若 y 與 x 的關係是正比填「A」，是反比填「B」，都不是則填「C」。

- () 1. 當速率固定時，行走時間 x 與距離 y 的比。
 () 2. x 、 y 為任意兩個不為 0 的數，滿足 $7 : x = y : 2$ 。
 () 3. 一天 24 小時中，白天長為 x 小時，夜長為 y 小時。
 () 4. 邊長 x 公分的正方形，周長為 y 公分。
 () 5. 妍蛋和姐姐歲數相差 3 歲，設 x 為妍蛋歲數， y 為姐姐歲數。

是非題(每題 2 分，共 12 分。)

- () 1. 菱形必定四邊等長。
 () 2. 射線的長度是可以測量的。
 () 3. 平行四邊形有 2 條對稱軸。
 () 4. 正方形是長方形的一種。
 () 5. 六邊形有 6 條對角線。
 () 6. 如果 x 與 y 成正比，則 x 增加時， y 也會跟著增加。

選擇題(每題 4 分，共 24 分。)

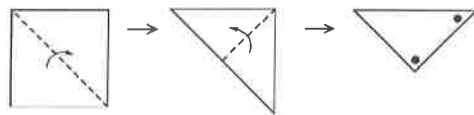
() 1. 下列哪一個方程式的圖形沒有通過 $(1, 2)$?

- (A) $x+3y=7$ (B) $4x+y=6$ (C) $6x-y=4$ (D) $x-2y=3$

() 2. 設 a 、 b 、 c 、 d 都不為 0，且 $ad=bc$ ，則下列何者可能不成立？

- (A) $d : b = c : a$ (B) $a : c = d : b$ (C) $b : a = d : c$ (D) $a : c = b : d$

() 3. 有一張正方形紙，如下步驟對摺兩次後，在上面打兩個洞，依照步驟操作正確完成後，展開圖會得到下列哪一個圖形？



- (A) (B) (C) (D)

() 4. 下列哪一個直線方程式的圖形會通過 $(7, -3)$ 且與 y 軸平行？

- (A) $x=7$ (B) $y=7$ (C) $x=-3$ (D) $y=-3$

() 5. 直線 $L: -4x+3y=12$ 不通過哪一個象限？ (A)一 (B)二 (C)三 (D)四

() 6. 爸爸以每小時 90 公里的平均速率，從甲地出發開車到乙地需 30 分鐘。如果嘜鈴行駛同一路程需 25 分鐘，則嘜鈴開車的平均速率為每小時多少公里？

- (A)108 (B)102 (C)95 (D)75

填充題(每題3分,共18分。)

1. 將 $1.2 : 1.35$ 以最簡整數比表示。

答: _____:_____。

2. 已知 y 與 x 成反比, 而且當 $x=2$ 時, $y=9$, 則當 $x=6$ 時, $y=$ _____。

3. 已知 $3 : x = 11 : y$, 則 $x : y =$ _____:_____。

4. 已知 $(x-2y) : (3x+y) = 2 : 1$, 則 $x : y =$ _____:_____。

5. 大、小兩圓的半徑比為 $9 : 4$, 則: 大小兩圓的面積比為_____:_____。

6. 6 公斤 : 1800 公克的比值為_____。

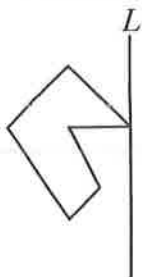
非選題(依算式給分,每題4分,共36分)

1. 已知 $(2y+1)$ 與 $(x-2)$ 成正比, 且當 $x=5$ 時, $y=7$, 則 $x=-1$, $y=?$

2. 坐標平面上有一直線 $y=ax+b$ 通過 $A(2, 1)$ 、 $B(4, 13)$ 、 $C(k, 2k+1)$ 三點。求 $k=?$

3. 已知荷鹿和媽媽兩人現在的年齡比是 $1 : 4$, 且五年後兩人的年齡比是 $1 : 3$ 。則荷鹿現在多少歲?

4. 以直線 L 為對稱軸完成線對稱圖形。

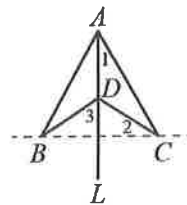


5. 試求兩二元一次方程式 $-3x+2y=12$ 、 $3x+5y=9$ 的圖形與 x 軸所圍成的三角形面積。

6. 若寶石的價值與重量的平方成正比, 猩魚有一塊寶石重量 6 公克, 價值 18000 元, 結果猩魚不小心將此寶石摔裂成重量比為 $1 : 2$ 的兩塊, 請問寶石的價值損失多少元?

7. 如圖, 直線 L 為圖形的對稱軸, B 、 C 互為對稱點。若 $\angle 1 = 30^\circ$, $\angle 2 = 32^\circ$ 則:

(1) $\angle 3 = ?$ (2分) (2) $\angle ABD = ?$ (2分)



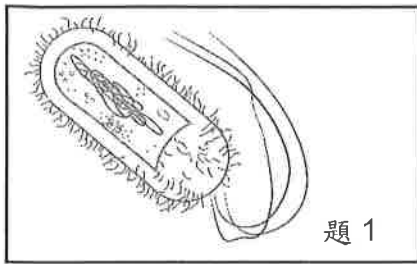
8. 在坐標平面上, 若二元一次方程式 $2x+2y=10$ 的圖形 L 和 $3x-ay=0$ 的圖形 M , 其交點坐標為 $(b, 3)$, 則 a 、 b 之值分別為何?

9. 螞宮國中男、女生學生人數比為 $7 : 8$, 蚊光國中男、女生學生人數比為 $5 : 7$, 如將兩所國中男、女生分別合計後, 得男、女之比為 $17 : 22$, 則螞宮、蚊光兩所國中生總數之比為何?

一、選擇題。全部 38 題(1-38)。每題 2 分。共 76 分

() 01. 某一種生物的 DNA 位在細胞質中，如左下圖所示，請問該生物可能屬於哪一界的生物？

(A) 菌物界 (B) 原核生物界 (C) 植物界 (D) 原生生物界。




() 02. 大雄觀察一種植物，如右上圖所示，請問這可能是哪一種植物界成員？

(A) 裸子植物 (B) 蘚苔植物 (C) 蕨類植物 (D) 被子植物。

() 03. 承 02 題，在此植物成熟葉下表皮(甲)，能夠觀察到哪一種構造？

(A) 種子 (B) 胚珠 (C) 花粉 (D) 孢子囊堆。

() 04. 阿萱種的白蘿蔔開了如下圖所示的漂亮花朵，請依圖推測下列有關白蘿蔔的敘述，何者正確？



(A) 是裸子植物 (B) 是單子葉植物 (C) 根為軸根系 (D) 莖內維管束呈散生排列

() 05. 請問，單子葉植物在比較上，有哪些分類特徵？

(A) 1a、2b、3a (B) 1a、2b、3b (C) 1a、2a、3a (D) 1b、2b、3b。

葉脈	莖內維管束	子葉數目
1a 	2a 	3a
1b 	2b 	3b

() 06. 請問，哪一種生物具有【刺絲胞】，可用於捕食或防禦？(A) 蝸牛 (B) 水螅 (C) 蚯蚓 (D) 螃蟹。

() 07. 古代生物死亡後最不易形成化石的應是哪一部分？

(A) 始祖鳥的肌肉 (B) 蕨類植物的細胞壁 (C) 馬的骨骼 (D) 原始人的牙齒。

() 08. 下列有關乳酸桿菌、藍綠菌和黑黴菌的比較，何者正確？

選項	比較項目	乳酸桿菌	藍綠菌	黑黴菌
(A)	分類地位	原核生物界	原核生物界	原核生物界
(B)	葉綠體	無	有	無
(C)	菌絲	有	有	無
(D)	細胞核	無	無	有

() 09. 依據化石的定義或形成環境，下列何者應不屬於化石？

(A) 冰層中完整的長毛象 (B) 阿里山的千年神木 (C) 岩層中恐龍的腳印 (D) 琥珀中的小昆蟲。

() 10. 「HIV 病毒、藍綠菌、黏菌、金黃色葡萄球菌、酵母菌、乳酸桿菌和矽藻」，

以上生物中，有幾種屬於原核生物界？(A)1 (B)2 (C)3 (D)4。

() 11. 下列那種動物的特徵屬於【身體分節且各節形態不同，並有分節的附肢和堅硬的外骨骼】？

(A) 珊瑚蟲 (B) 烏賊 (C) 海膽 (D) 蜻蜓。

() 12. 請問，下列哪一種類別的生物屬於具有育兒袋哺乳類？(A) 無尾熊 (B) 狗 (C) 鴨嘴獸 (D) 蝙蝠。

() 13. 下列敘述哪些為「蟾蜍」和「蜥蜴」的共同點？

(甲) 有脊椎骨；(乙) 體表具有鱗片；(丙) 體內受精；(丁) 卵生；(戊) 成體以肺呼吸。

(A) 甲乙丙 (B) 乙丙丁 (C) 甲丙戊 (D) 甲丁戊。

() 14. 進行一項活動或製造一項產品的過程中，直接或間接排放二氧化碳的量，稱為什麼呢？

(A) 碳循環 (B) 碳足跡 (C) 固碳量 (D) 碳計量。

() 15. 下列有關菌物界生物的敘述，何者正確？

(A) 都具有菌絲 (B) 都是單細胞生物 (C) 又稱為真菌 (D) 都可以食用。

() 16. 請問下面哪一種植物屬於雙子葉植物？(A) 玉米 (B) 紅檜 (C) 蔥 (D) 向日葵。

() 17. 根據決定當地優勢植被的因素，落葉林經常分布在哪種區域？

(A) 高溫、乾燥少雨 (B) 高溫、潮濕多雨

(C) 四季分明、潮濕多雨 (D) 四季分明、乾燥少雨。

() 18. 請問臺灣獼猴的學名正確寫法為：

(A) *MACACA CYCLOPIS* (B) *macaca myclopis* (C) *Macaca cyclopis* (D) *macaca Cyclopis*。

() 19. 植物界成員中，請問哪一成員沒有維管束？(A) 蕨類植物 (B) 蘚苔植物 (C) 裸子植物 (D) 被子植物。

() 20. 蘇鐵在進行生殖時，會產生哪一種構造？(A) 花蕊 (B) 毬果 (C) 果實 (D) 孢子囊。

() 21. 請問，海參有哪一種分類上的特性？(A) 刺絲胞 (B) 附肢 (C) 管足 (D) 羽毛。

() 22. 下列何者是活化石？(A) 只有銀杏 (B) 只有腔棘魚 (C) 只有鱶 (D) 以上皆是。

() 23. 請問，衣魚屬於哪一分類的生物？(A) 節肢動物門 (B) 刺絲胞動物門 (C) 軟骨魚 (D) 硬骨魚。

() 24. 請排列出，昆蟲的完全變態歷程。(甲) 蛹；(乙) 成蟲；(丙) 卵；(丁) 幼蟲。

(A) 甲→乙→丙→丁 (B) 丙→丁→甲→乙 (C) 乙→丁→甲→乙 (D) 丁→甲→丙→乙。

() 25. 菌物界中，請問哪一成員屬於單細胞、不具菌絲？(A) 酵母菌 (B) 黑黴菌 (C) 金針菇 (D) 毒蠅鵝膏。

() 26. 下列哪一種生物具有葉綠素，可行光合作用？(A) 藍菌 (B) 黏菌 (C) 酵母菌 (D) 乳酸桿菌。

() 27. 有關下列生物的敘述，何者正確？

(A) 變形蟲是一種細菌，沒有細胞核 (B) 草履蟲是原生動物，不可行光合作用

(C) 昆布是褐色的藻類，不具有葉綠體 (D) 酵母菌是原生菌類，可行光合作用。

() 28. 請問下列何者屬於【原生菌類】成員？(A) 葡萄球菌 (B) 黑黴菌 (C) 藍綠菌 (D) 黏菌。

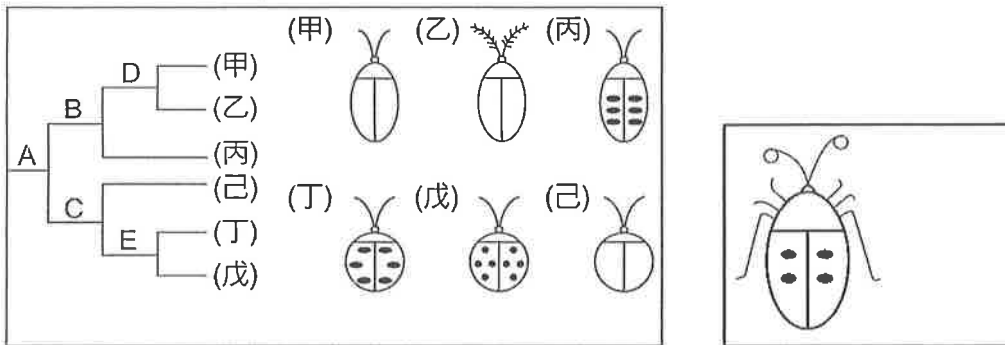
() 29. 下列有關觀霧山椒魚 (*Hynobius fucus*) 的敘述，何者正確？

(A) *Hynobius* 是英文名稱 (B) *Hynobius* 是種小名 (C) *fucus* 是名詞 (D) 「觀霧山椒魚」是俗名。

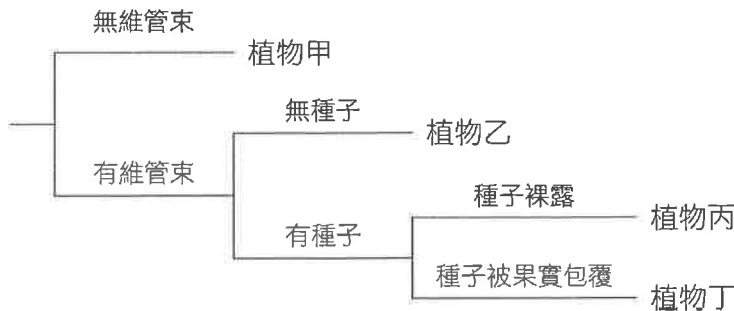
- () 30. 下列哪個階層所包含的生物種類較多? (A)節肢動物門 (B)鹿科 (C)偶蹄目 (D)昆蟲綱。
- () 31. 阿耕在便利商店買了一個洋菜凍，請問是由下列哪種生物體所製作出來的?
(A)石花菜 (B)海帶 (C)新月藻 (D)紫菜。
- () 32. 大雄觀察水中微生物時，看到課本上介紹過的「草履蟲」。關於此生物的敘述，何者有誤?
(A)為單細胞生物 (B)無法行光合作用，養分須由外界獲得
(C)可以利用偽足運動 (D)具有完整的細胞核。
- () 33. 最早的抗生素是由什麼生物提煉出來的? (A)酵母菌 (B)青黴菌 (C)黑黴菌 (D)黏菌。
- () 34. 地表上那些氣體可吸收地表輻射出的熱能，形成溫室效應?
(A)只有甲烷 (B)只有二氧化碳 (C)只有水氣 (D)以上皆可。
- () 35. 哪一位學者採用二名法為生物命名? (A)林奈 (B)達爾文 (C)拉馬克 (D)孟德爾。
- () 36. 承上題，按照此學者為生物命名概念，下列哪一個應為瓢蟲學名?
(A)七星瓢蟲 (B)*Coccinella septempunctata* (C)ナナホシテントウ (D)칠성무당벌레。
- () 37. 博美犬和吉娃娃犬能交配產生具有生殖能力的後代，下列有關此兩者的敘述，何者正確?
(A)牠們的屬名不同 (B)牠們的遺傳因子組合完全相同
(C)牠們是同種生物 (D)牠們的種小名不同。
- () 38. 請問，哪一種生物【身體柔軟、細長且分節，每節的外形都很相似】?
(A)海葵 (B)蟬 (C)水蛭 (D)海星。

二、選擇題。全部 8 題(39-46)。每題 3 分。共 24 分

※有甲乙丙丁戊己六種昆蟲，分類如下圖左，請回答



- () 39. 哪一個選項的代號可能是以【體型為圓或橢圓】作為分類依據? (A) A (B) D (C) B、C (D) E。
- () 40. 哪一個選項的代號可能是以【體背有無斑點】作為分類依據? (A) A (B) D (C) B、C (D) E。
- () 41. 哪一個選項的代號可能是以【體背斑點數目】作為分類依據? (A) A (B) D (C) B、C (D) E。
- () 42. 哪一個選項的代號可能是以【觸角形狀】作為分類依據? (A) A (B) D (C) B、C (D) E。
- () 43. 根據此檢索表，上圖右的昆蟲和下列哪一種昆蟲的關係最親近? (A) 乙 (B) 丙 (C) 丁 (D) 戊。
- () 44. 如下表所示，有關植物甲乙丙丁的敘述，何者正確?



- (A)植物甲可能是地錢 (B)植物乙可能是紅檜
(C)植物丙可能是過溝菜蕨 (D)植物丁可能是筆筒樹。

() 45. 下列有關鐵線蕨和土馬駝的比較，何者正確？

選項	比較項目	鐵線蕨	土馬駝
(A)	是否具有葉綠體	否	是
(B)	是否具有角質層	否	是
(C)	是否具有維管束	是	否
(D)	是否具有種子	是	是

() 46. 下列有關臺灣二葉松和杜鵑花的比較，何者錯誤？

選項	比較項目	臺灣二葉松	杜鵑花
(A)	是否具有維管束	是	是
(B)	是否具有花粉管	否	是
(C)	是否具有種子	是	是
(D)	是否具有果實	否	是

【試題結束—文光、七年級、自然科】

澎湖縣立文光國民中學 109 學年度第 2 學期第 1 次成績評量 7 年級歷史科試卷

班級： 姓名： 座號： 讀卡 答案卷

一、 配合題 (第 19 題~第 28 題，每題 2 分，共 20 分)

* 顏老師在翻閱「台灣日治時期教育史」這本書時，出現以下的學校名稱：(甲) 台中中學校 (乙) 台北帝國大學 (丙) 嘉義農林學校 (丁) 澎湖廳馬公第一公學校 (戊) 桃園國民學校 (己) 台中洲明治尋常高等小學校。請從以下的文字敘述中，回答第19題~第22題：

19. 關於「甲」的敘述，下列何者錯誤? (A)今日台中一中的前身 (B)屬於「職業教育」的一環 (C)第一所專收台人的中學校 (D)由仕紳林獻堂等人籌劃。
20. 關於「乙」的敘述，下列何者錯誤? (A)為國立台灣大學的前身 (B)為了配合南進政策及方便日人子弟在台就讀而設立 (C)台人與日人公平競爭，入學機會平等 (D)後來的總督府醫學校併入其中，成為現在的台大醫學院。
21. 西元 1930 年，10 歲的藤子不二雄隨著家人由日本來臺定居。請問：當時如果他要入學校就讀，應該要讀何種學校? (A)丙 (B)丁 (C)戊 (D)己。
22. 關於「戊」的敘述，下列何者錯誤? (A)為配合皇民化運動而設置 (B)奠定國民義務教育的基礎 (C)大幅提升台灣人的就學率與知識普及率 (D)日治時期結束後，國民義務教育也隨之結束。
- * 顏老師觀看著名電視劇「紫色大稻埕」後，深刻體會1920~1930 年代的台灣，在政治、經濟、文學、藝術、音樂各方面，是一個蓬勃發展的黃金時代。尤其是在政治社會運動的演進中，出現了以下幾個著名的團體：(甲) 台灣地方自治聯盟 (乙) 台灣文化協會 (丙) 台灣民眾黨 (丁) 台灣議會設置請願運動。請從以下的文字敘述中，回答第23題~第28題：
23. 哪一個團體試圖透過各種手段，喚起台灣人的民族意識。並透過演講會、讀報社等活動，提升台灣人民的文化知識水準為宗旨? (A)甲 (B)乙 (C)丙 (D)丁。
24. 哪一個團體主張民本政治，企圖結合農、工對總督府進行抗爭? (A)甲 (B)乙 (C)丙 (D)丁。
25. 這項訴求的前身為「廢除六三法運動」，後來台灣知識份子大規模的集結，逐漸向總督府發表達訴求，甚至還跑到東京，對日本人表達台灣知識份子的想法。請問：以上敘述係指哪一個團體舉辦的活動? (A)甲 (B)乙 (C)丙 (D)丁。
26. 西元 1935 年台灣進行首次選舉，唯一美中不足的地方是，被選舉人數中，半數是民選，另外半數則為官派。而且在選舉人當中，也有性別及身份上的歧視。儘管如此，民主政治的想法逐漸台灣人心目中萌芽。請問：這是哪一個團體努力的結果? (A)甲 (B)乙 (C)丙 (D)丁。
27. 日治時期，藉由總督府的推動，臺灣人接受現代西方文化、科技，以及新思想、新制度，而使臺灣社會與文化產生改變。下列有關臺灣總督府促進臺灣現代化的措施，何者正確? (A)設置法院，推廣法治教育 (B)臺灣女性開始纏足，加上現代審美觀的建立，穿著更加多樣化 (C)為發展臺灣農業，統一採用中國陰曆與二十四節氣 (D)為增加總督府的收入，開放鴉片自由販售。

28. 臺灣地處副熱帶，傳染病猖獗，總督府如何防止疾病的流傳？(甲)各地設公共醫院 (乙)定期防疫工作(丙)推廣中醫 (丁)倡導個人衛生的養成 (A)甲乙丙 (B)甲乙丁 (C)甲丙丁 (D)乙丙丁。

二、史料分析題 (第 29 題~第 35 題，每題 2 分，共 14 分)

*資料一：「1947 年 3 月初，號稱『高雄屠夫』的高雄要塞司令彭孟緝，在國軍還沒抵達前，就開始派遣軍隊在高雄街頭開槍亂殺人。不僅殺害當時前來調解的台籍菁英份子，更指揮砲兵部隊砲擊高雄體育場，造成數千人傷亡。最後，還脅迫受害者家屬在高雄火車站前觀看他們的家人公開被軍隊槍決……」。資料二：「著名暢銷電腦遊戲『返校』(Detention) 描述在那一個時代，沒有人敢公開批評時政。校園裡因為有老師與一些學生秘密組成讀書會，閱讀政府不允許的禁書，談論政府嚴禁的思想。遭到檢舉後，導致一連串悲劇發生的故事……」。資料三：「1986 年 9 月 28 日，『黨外人士』以『牙醫師公會』的名義去台北圓山大飯店租借場地。後來開會到一半，突然有人提議要組政黨。經過熱烈討論後，決定以『民主進步黨』的名義作為這個新政黨的名稱，開啟了台灣政治史上的新篇章……」。請同學根據上述資料，回答第 29~35 題：

29. 下列何者非「資料一」發生的背景？(A)國民政府遷台後，施政不佳導致人民反感 (B)官員貪污，政風敗壞，軍隊擾民 (C)戰爭破壞，日資撤離，通貨膨脹嚴重 (D)本省人與外省人間因語言、文化的不同，屢生衝突。
30. 根據「資料一」的敘述，下列何者錯誤？(A)查緝私煙，誤傷民眾，引爆全島暴動與衝突 (B)後來執政當局以「清鄉」的名義，殺害更多台籍菁英份子 (C)事發後，將政府改組，並將主事者調離台灣 (D)立即進行賠償並道歉，以彌平受害者家屬的傷痛。
31. 根據「資料二」的敘述，下列何者錯誤？(A)此時期又稱之為「白色恐怖時期」 (B)情治機關不依正當法律程序，未經法院審判即可逮捕人民 (C)人民的思想、言論受到限制主要是因為動員戡亂臨時條款的關係 (D)通常受害者都會被冠以「包庇匪諜」、「知匪不報」等罪行加以逮捕。
32. 某部法律規定：「基隆、高雄兩港市，每日上午一時起至五時止，為宵禁時間；非經特許，一律斷絕交通。嚴禁聚眾集會、罷工、罷課及遊行請願等行動。嚴禁以文字標語，散佈不法言論…」請問：此法律制定的目的為何？(A)防止共產思想傳播與共產滲透 (B)阻止國內親日分子的反政府活動 (C)因應人民反日與安定秩序需求 (D)避免群眾活動過多，干擾船隻進出。
33. 根據「資料三」的敘述，下列何者錯誤？(A)美麗島事件扮演關鍵的影響力 (B)為台灣史上第一個合法的政黨 (C)成立當時仍為戒嚴體制 (D)當時的總統為蔣經國先生。
34. 請問：下列何者非台灣解除戒嚴體制後的現象？(A)報紙、雜誌的發行種類變多 (B)開放地方民意代表及行政首長選舉，人民爭相投入競選活動 (C)人民集會遊行的次數增多 (D)政黨如雨後春筍般的成立。
35. (甲)美麗島事件 (乙)首次實現政黨輪替 (丙)實施地方自治 (丁)首次由人民直選總統 (戊)宣布開放黨禁、報禁。上述史事依時間先後順序排列，正確的是下列何者？(A)甲乙丙丁戊 (B)丙甲戊丁乙 (C)丙甲乙戊丁 (D)戊丙甲丁乙。

【~ 試題結束，文光七年級、歷史科 ~】

澎湖縣立文光國民中學 109 學年度第 2 學期 第 2 次成績評量 七年級地理科試卷

班級：_____ 姓名：_____ 座號：_____ ■ 讀卡 □ 答案卷

一、單一選擇題(十八題，每題 2 分，共 36 分)

1. () 下列何種行業屬於第一級產業？ (A)量販業 (B)畜牧業 (C)營建業 (D)運輸業。
 2. () (甲)資訊工業 (乙)紡織業 (丙)石化業。若依據臺灣的工業發展階段，上述產業發展先後依序為何？ (A)甲乙丙 (B)乙丙甲 (C)丙甲乙 (D)丙乙。
 3. () 依漁業的作業距離範圍，可將漁撈漁業類型整理為下列表格，其中「甲」漁業應屬於下列何者？ (A)遠洋 (B)近海 (C)沿岸 (D)養殖。
- | 種類 | 範圍 |
|-----|----------|
| 甲漁業 | >200 浬 |
| 乙漁業 | 12~200 浬 |
| 丙漁業 | <12 浬 |
4. () 下列哪一些產業屬於將第一級產業的產品再加工製造的產業？ (甲)農業 (乙)牧業 (丙)工業 (丁)營建業 (戊)運輸業 (A)甲乙 (B)乙丙 (C)丙丁 (D)丁戊。
 5. () 小新的爸爸是證券公司總經理，媽媽是紡織廠的員工，爺爺是農場主人，大伯是超市經理。請問：小新的家族成員中，哪幾位是從事第三級產業？ (A)爸爸、爺爺 (B)媽媽、爺爺 (C)爸爸、大伯 (D)媽媽、大伯。
 6. () 臺灣的工業區大多集中於西部地區，東部的工業發展則受地形限制，因此工業區較少。請問：影響東部工業區較少，主要是由於缺乏何種有利的設置因素？ (A)原料 (B)交通 (C)動力 (D)勞力。
 7. () 臺灣許多食品業者如麵包、飲料業者紛紛前往東京、紐約和上海等世界大城市設立據點販售商品，這些臺灣廠商克服困難，前往海外設立據點最主要的原因是衡量哪一項設廠要素？ (A)原料 (B)市場 (C)勞力 (D)交通。
 8. () 臺灣北部臺北市、新北市、桃園市和新竹縣市為臺灣最大的工業地帶，該地區目前主要的工業類型為何？ (A)電子、資訊 (B)化學、紡織 (C)鋼鐵、石化 (D)水泥、製糖。
 9. () 養殖漁業因為大量抽取地下水，造成沿海地區地層下陷嚴重。為了舒緩此問題，養殖漁業目前已逐漸轉型，改採用下列哪一種水資源養殖，以減少對地下水的依賴？ (A)湖水 (B)河水 (C)雨水 (D)海水。
 10. () 「不需要店面，商品以照片呈現，故經營成本較低，因此商品價格較低廉，但也存在著較大的風險，在購買時應注意其信譽，以保障消費者的權益。」上文所述應是哪一種商業行為？ (A)批發 (B)零售 (C)量販 (D)網路購物。
 11. () 近年來，臺灣出現許多新興的服務業種類，多元的產業型態可以反映下列何項事實？ (A)臺灣國際地位進步 (B)臺灣人口數量增加 (C)臺灣經濟發展程度提升 (D)臺灣失業問題減緩。
 12. () 下列關於臺灣產業的敘述，何者錯誤？ (A)漁撈漁業中，以遠洋漁業的產值最高 (B)愈來愈多的一級產業結合觀光、休閒的特色 (C)酪農業以乳製品為主，供應居民需求 (D)臺灣漁獲量逐年下降主要是因為大陸棚地形減縮。

【第 1 頁結束—背面尚有試題】

13. () 「此工業園區的開發建設工程於民國 92 年展開，針對土地使用、交通運輸、水電及電信、廢棄物處理等相關建設工程進行規畫，提供高科技產業優質環境，鼓勵研究發展及製造高科技工業產品。範圍包括臺中國區、后里園區、虎尾園區、二林園區及中興新村高等研究園區，共計五處。」文中敘述的工業園區最可能為下列何者？ (A)內湖科技園區 (B)新竹科學工業園區 (C)中部科學工業園區 (D)南部科學工業園區。
14. () 臺灣適合發展漁業的條件有下列哪一些？(甲)四面環海 (乙)東部大陸棚廣大 (丙)沿海有寒、暖洋流交會 (丁)有大河流入海洋 (A)甲乙 (B)甲丙 (C)乙丙 (D)乙丁。
15. () 附圖為民國 107 年臺灣出口到世界各國的貿易值比例。根據圖中的資料，下列敘述何者錯誤？ (A)臺灣最大的出口地是歐洲的國家 (B)臺灣與北美地區亦有貿易活動 (C)臺灣出口至亞洲國家的比例最高 (D)該年臺灣出口比例居第二高的地區是東南亞地區國家。
16. () 俗諺往往可表達出一地居民的生活體驗。例如：閩南語俗諺「甘蔗無雙頭甜」、「甘蔗粕，哺無汁」、「甘蔗隨目嚙」等。請問：下列哪一個地區因是甘蔗主要產地，使當地居民對上述諺語感受最為深刻？ (A)澎湖沿海地區 (B)嘉義阿里山山區 (C)臺南嘉南平原區 (D)屏東瑪家山區部落。
17. () 目前臺灣農業發展的對策，以下列何者可行性最低？ (A)擴大耕地面積 (B)發展安全無毒的農業 (C)發展有機、休閒農業 (D)提升栽培技術。
18. () 苗栗縣以「稻鴨共作」稻田的方式在田間放養鴨群，讓鴨群可以吃蟲害、鴨糞做為肥料，稻作也不必噴灑農藥。請問：此種農業轉變，與下列哪一項作法的目標最吻合？ (A)飼養豬隻，不使用抗生素、生長激素、瘦肉精 (B)豬舍採取電腦控溫、自動給料 (C)培育新品種 (D)設立畜牧示範區，結合休閒觀光。



【第 2 頁結束—背面尚有試題】

班級： 姓名： 座號： 讀卡 答案卷

一、配合題（第 36 題～第 46 題，每題 2 分，共 22 分）

* 文化係指人類為了求生存，適應或改變環境所創造一切生活方式的總稱。一般而言，文化具有下列特性：（甲）差異性（乙）普遍性（丙）累積性（丁）約制性。請從以下的文字敘述中，回答第 36 題～第 40 題：

36. 陳楓上課學習到史前時代的台灣可以分為舊石器時代、新石器時代及金屬器時代，其所使用的工具越來越精緻，甚至發展出陶器和打磨的金屬器。請問：歷史學家這樣區分，顯示文化何種特性？(A)甲 (B)乙 (C)丙 (D)丁。
37. 「烏鴉」這種動物在某些地方認為是不吉利的動物，反之在某些地方則被認為是吉祥的象徵。請問：這顯示文化哪種特性？(A)甲 (B)乙 (C)丙 (D)丁。
38. 一般而言，不同族群雖然生活環境各有差異，但都會發展出婚喪喜慶的儀式，請問：這顯示文化哪種特性？(A)甲 (B)乙 (C)丙 (D)丁
39. 穆斯林不吃豬肉、印度教信徒不吃牛肉，上述情形是因為文化具有哪些特性所致？(A)甲乙 (B)乙丙 (C)甲丙 (D)甲丁。
40. 橋頭糖廠的前身是「橋仔頭糖廠」，是臺灣第一座現代化機械式製糖工廠，創建至今已有 112 年歷史。後來被列為市定（原高雄縣）文化景觀。其中製糖工場、日式木屋、防空洞、紅磚水塔等昔日古物保存完好，沿襲自日治時代的社宅事務所與俱樂部不但具有歷史意義，更是親子假日郊遊踏青的最佳景點。請問：以上說明，主要是希望達成哪一種目的？(A)引進外來文化 (B)尊重多元精神 (C)保存文化資產 (D)促進產業升級。

* 社會規範係指個人與個人、個人與團體、團體與團體間經由社會互動而產生的行為規準。一般而言，社會規範有下列幾個種類：（甲）風俗習慣（乙）倫理道德（丙）宗教信仰（丁）法律。請從以下的文字敘述中，回答第 41 題～第 46 題：

41. 「端午節吃粽子、中秋節吃月餅」，這些支配你我生活的規範稱之？(A)甲 (B)乙 (C)丙 (D)丁。
42. 打造「有孝人間、尊師重道」為目標的心靈改造運動，主辦單位在母親節舉辦「為長輩洗腳」活動，希望藉由此活動，使民眾重新體驗何種社會規範的重要性？(A)甲 (B)乙 (C)丙 (D)丁
43. 警方查獲嫌犯涉嫌吸食毒品，並利用針孔攝影機在公共廁所進行偷拍，並製作影片在公開網路上散播相關不雅影片。最後依刑法、毒品危害防制條例等相關規定移送法辦。請問：上述行為皆是因為違反了哪一項社會規範？(A)甲 (B)乙 (C)丙 (D)丁
44. 在斯里蘭卡，有許多沙彌學校，孩子從小在生活中接觸佛法，所以青少年問題少了許多。以上敘述，表達出何種社會規範的重要性？(A)甲 (B)乙 (C)丙 (D)丁

45. 傳統的廟宇慶典大多燃放鞭炮，但隨者環保意識抬頭，許多廟宇已減少放鞭炮或以播放鞭炮聲取代。上述內容是指哪些社會規範間相互影響？(A)非正式規範是正式規範的基礎 (B)非正式規範間會相互影響 (C)正式規範是非正式規範的基礎 (D)以正式規範來改變不合時宜的非正式規範。
46. 請問下列哪些為社會規範存在的重要性？(甲)促進經濟成長 (乙)維護社會和諧 (丙)提高社區參與 (丁)約束個人行為 (戊)避免糾紛或解決衝突(A)甲乙丁 (B)乙丙戊 (C)乙丁戊 (D)丙丁戊。

二、 題組 (第 47 題 ~ 第 50 題，每題 2 分，共 8 分)

* 德國的合法婚姻年齡是 18 歲，經過特別允許，可以在 16 歲結婚。因此兒童結婚是違法的。但在德國收容 120 萬民多數是穆斯林難民時，是否應該承認這些難民兒童新娘的婚姻，成為難題。2016 年，德國巴伐利亞法院正式承認一位 14 歲的敘利亞難民與其 21 歲的表哥的婚姻關係，使這場兒童婚姻受到矚目。後來當地的青年福利處因兩人違反德國法律將其拆散，並把女孩的監護權交由地方法院。男方提出上訴，後來法院判決他們的婚姻有效，因為其婚姻符合敘利亞的法律。請同學依上述內容，回答第 47~第 48 題：

47. 根據上文可判斷，兒童婚姻在敘利亞有效，但在德國可能無效的原因是兩哪種社會規範的衝突？
~ (A)敘利亞風俗習慣 VS 德國風俗習慣 (B)敘利亞法律規範 VS 德國倫理道德 (C)敘利亞宗教信仰 VS 德國風俗習慣 (D)敘利亞法律規範 VS 德國法律規範。
48. 上述文章內容，最能彰顯社會規範的何種意義？ (A)某個社會規範，在另一個社會可能被視為不合時宜 (B)社會規範能啟迪人的內在良知，不要做違背良心的事 (C)社會規範的形式並非一成不變，會隨著時代變遷而改變 (D)透過法治觀念加強，才有助於社會和諧穩定的發展。

* 根據統計，2018 年底在臺灣的外籍移工已超過 70 萬人，主要來自於印尼、越南、菲律賓及泰國等東南亞國家，這些移工飄洋過海來台參與臺灣社會的勞動、生產或提供家庭照顧服務等，成為臺灣不可或缺的人力資源，政府近年來逐步修法以保障其人權。請回答第 49~第 50 題：

49. 文中提及政府逐漸修法保障外籍移工的人權，使其受到平等的對待，這是以何種方式來營造多元文化社會？(A)制定法律保障多元文化 (B)秉持尊重與包容的態度 (C)肯認自我文化 (D)落實文化傳承與創新。
50. 來自印尼的移工因宗教因素不吃豬肉，我們應理解及尊重他們的生活方式，此一作法可達成下列何項目標？(A)保存文化資產的多樣性 (B)避免產生自我文化中心 (C)了解並認同自我文化 (D)以自身文化評價其他文化。

【~ 試題結束，文光七年級、公民科 ~】