

澎湖縣立文光國民中學 109 學年度第二學期第二次成績評量八年級國文科試卷

□讀卡 ■答案卷

八年 班 座號： 姓名：

一、注音國字 16% (每字1分)

1. 可「汗」： 2. 雄「雌」： 3. 震「懾」： 4. 「圳」溝： 5. 「瞅」一眼：
6. 「縫」縫： 7. 「籠」罩： 8. 「扳」回： 9. 「夕一」殺： 10. 「夕ㄟ」頭：
11. 「出亡」咬： 12. 「一廿ノ」掄： 13. 「一弓」堤： 14. 「尸弓」養：
15. 赴「ㄇㄨㄥ」機： 16. 向地面「ㄐㄨㄛ」來：

二、注釋配合題 14% (每題2分，請填入正確代號)

- A. 濺濺 B. 肆虐 C. 陰霾 D. 唧唧 E. 滂沱 F. 霎時間 G. 霹靂環起
H. 懾服 I. 蟄伏 J. 行潦川流 K. 偃旗息鼓 L. 氣勢萬鈞 M. 行禮如儀

夏日午後，正當酣睡之際，(1.)，一場突如其來的(2.)大雨，伴隨(3.)，在這大自然驚心動魄的轟炸之下，原野狼藉一片，道路早已(4.)，到處可見大雨(5.)的痕跡，令人(6.)不已。但雨勢來去匆匆，片刻之間，天空一掃(7.)，雨過天青，大地又恢復祥和景象。

三、成語配合題 10% (每題1分，請填入正確代號，選項不重覆)

- A. 言簡意賅 B. 驚弓之鳥 C. 鋌而走險 D. 反掌折枝 E. 初出茅廬 F. 尸位素餐 G. 懸梁刺股
H. 觥籌交錯 I. 滄海桑田 J. 玉潔冰清 K. 謙沖自牧 L. 滿腹經綸 M. 韜光養晦 N. 緣木求魚

1. 要解開這些數學題目，對他來說猶如()，輕而易舉。
2. 在現今社會中，不辦事只拿錢，()的人亦所在多有。
3. 他學識豐富，經驗足夠，是一位()十分優秀的公司領導者。
4. 上次的車禍使他成了()，現在只要聽到煞車聲便全身發抖。
5. 想要成績好，卻不用心學習，豈不是如()般達不到目的。
6. 幾年前，這裡還是一片荒蕪，如今成了繁華的蛋黃區，真是()！
7. 人生如酒宴，()間，早已時光荏苒，物是人非！
8. 即使位高權重，他依然()，沒有半點架子。
9. 考試要到了，我決心效法古人()的精神，努力學習。
10. 來日方長，年輕人不應急功近利，而應靜下心來()，他日定能成就一番事業。

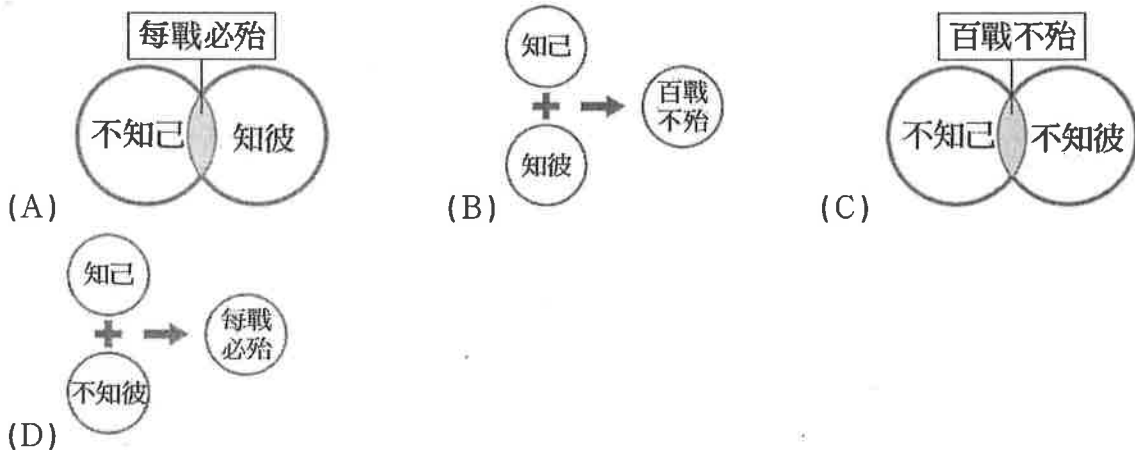
四、選擇題 50% (每題2分)

- ()1. 「朔氣傳金柝，寒光照鐵衣。」二句的情境，與下列何者最為相似？
(A)孤帆遠影碧山盡，唯見長江天際流 (B)回樂峰前沙似雪，受降城外月如霜 (C)花徑不曾緣客掃，蓬門今始為君開 (D)不識廬山真面目，只緣身在此山中
- ()2. 下列哪一個選項「」中的數字都是實數？

【第 1 頁結束 背面尚有試題】

是陳家莊的「地頭蛇」，仗著家裡有權有勢，魚肉鄉里 (C) 范式與張劭約定畢業兩年後造訪張家，張母相當懷疑范式會不會對張劭「開天窗」(D) 陳漢典原本只是康熙來了節目中「跑龍套」的無名小卒，因為愛現敢秀，也在演藝圈闖出了名堂

- () 11. 朵朵老師在國文課上請同學說出與「霎時間」意思相近的詞語，請問下列何人舉例錯誤？
 (A) 貝多芬：咫尺、剎那 (B) 莫札特：彈指、一剎那 (C) 巴哈：轉瞬間、片刻 (D) 蕭邦：俄頃、須臾
- () 12. 田園之秋選一課文末，作者以彷彿聽見貝多芬田園交響曲描寫雨過天青的景色，此是以「聽覺印象來表達視覺印象」的寫作手法，請問下列何者也有異曲同工之妙？
 (A) 昨夜的月色，至少有一半是甜的 (B) 秦淮河的水卻盡是這樣冷冷的綠著
 (C) 塘上的月色並不均勻，但光與影有和諧的旋律 (D) 微風過處送來縷縷清香，彷彿遠處上高樓的歌聲
- () 13. 「知己知彼，百戰不殆；不知彼而知己，一勝一負；不知彼不知己，每戰必殆。」如果以圖表來呈現以上引文，下列何者正確？



- () 14. 「數據顯示，受新冠肺炎影響，全球手遊在收入方面，2020 年第二季透過應用商店支出的金額達到 190 億美元，這是有史以來最高的一季。」根據上文，下列推論何者最為恰當？
 (A) 手遊的利潤每年皆有穩定的成長 (B) 購買手遊的金額在 2020 第二季來到最高峰
 (C) 新冠肺炎導致許多實體遊戲店面倒閉 (D) 只要肺炎疫情沒有停止，手遊的收益就會繼續增加
- () 15. 深藍的憂鬱一文中，當深藍電腦被棋王擊敗而放聲大哭時，深藍電腦的設計者卻喜出望外，其中的原因為何？ (A) 表示設計者電腦設計能力更上一層樓 (B) 表示人類的潛能具有不可限量的特質 (C) 表示終於發現深藍電腦程式中的缺陷 (D) 表示將可繼續深究深藍電腦的程式設計
- () 16. 深藍的憂鬱一文中，棋王因為與深藍對弈的慘敗，因而「信心全失，沮喪得無地自容」。倘若想以一句話來勸勉棋王，下列何者較為適當？

【第 3 頁結束 背面尚有試題】

- (A)人生得意須盡歡，莫使金樽空對月 (B)花開堪折直須折，莫待無花空折枝
(C)山重水複疑無路，柳暗花明又一村 (D)黑髮不知勤學早，白首方悔讀書遲
- ()17. 下列是深藍的憂鬱一文的内容，若根據行文邏輯將本文排列順序，下列選項何者正確？
1. 對電腦即將超越人類智慧產生憂慮 2. 世界棋王與深藍電腦對弈失敗的心境
3. 世界棋王在腦部植入晶片打算再戰深藍 4. 世界棋王再度對弈深藍
(A)1234 (B)2134 (C)2341 (D)3421
- ()18. 下列有關深藍的憂鬱一文的說明，何者正確？
(A)採用第三人稱寫作 (B)文中以科學家與棋王為主角 (C)敘事平鋪直述情節單純
(D)是科幻極短篇小說
- ()19. 以下「 」內的代詞屬於第一人稱的有哪幾組？(甲)「汝」輩焉知(乙)若「某」等之見(丙)「吾」生平謹慎(丁)「儂」今葬花人笑痴(戊)「爾」獨哀怨深(己)「余」憶童稚時
(A)乙丙戊己 (B)甲乙丁戊 (C)甲乙丙己 (D)乙丙丁己
- ()20. (甲)「望」西城蜂擁而來(乙)孔明登城「望」之(丙)「望」北山路而退，三個「望」字的意思關係為何？
(A)皆同 (B)皆異 (C)甲丙相同 (D)乙丙相同
- ()21. 下列關於三國志和三國演義的比較，何者錯誤？
(A)前者為紀傳體的正史，後者為歷史類的章回小說 (B)前者以「蜀漢」為正統，後者以「曹魏」為正統 (C)前者作者為西晉的陳壽，後者作者為元末明初的羅貫中 (D)前者為「四史」之一，後者為「四大奇書」之一
- ()22. 下列何者與「司馬懿乃魏之名將」屬於相同句型？
(A)偉大的城市都有自己的靈魂 (B)我看見你在我窗外徘徊 (C)回家的感覺真好
(D)三國演義是一部膾炙人口的章回小說
- ()23. 能正確地判別文句的語氣，將有助於融入文章情境中。下列各組文句傳達的語氣，何組前後不同？
(A)莫非諸葛亮無軍，故作此態／大約大去之期不遠矣 (B)如有妄行出入，及高聲言語者，立斬／我買幾個橘子去，你在此地不要走動 (C)我軍若進，中其計也，汝輩焉知？宜速退／吾數年來欲買舟而下，猶未能也。子何恃而往 (D)吾若為司馬懿，必不便退也／嗟哉斯徒輩，其心不如禽
- ()24. 日常溝通時，我們常語出冗言贅語而不自知。請問：小新一家人的對話中，何人用字最為精簡？
(A)廣志：剛剛那部電影真的給他很好看，再看個幾千遍我也不厭倦 (B)美冪：超市打烊前大特價，我要立刻馬上跳上鐵馬前去搶購 (C)小新：動感超人是我的偶像，若能握到他的手，我一個月不洗手也沒關係 (D)小葵：我最喜歡繽紛燦爛耀眼奪目的閃亮寶石，就算只是DM，也令我愛不釋手

【第4頁結束 背面尚有試題】

- () 25. 「有了印刷術，人們從此有了書與報紙；有了錄影技術，人們從此有了電視與電影；有了手機，帶來行動便利；如今 VR（虛擬實境）所擘畫的人類大未來，突破了時間與空間的限制，帶來了比書報、電影還要豐富的內容體驗，就像哆啦 A 夢的任意門，能讓人瞬間移動登上火星，爬進火山口。」根據上文所述，下列哪一項最適合作為這段文字的標題？ (A) VR 技術大躍進，登上火星不再只是電影科幻情節 (B) 出版業岌岌可危，便利的手機全面取代傳統書報 (C) 手機搭載 VR，透過虛擬實境親身體驗電影中的場景 (D) 未來科技新革命，VR 即將突破人類對於時空的概念

五、閱讀測驗 10% (每題2分)

(一) 民國初年民歌

自從離別心焦碎，為的卻是誰。
滿腹的憂愁，告訴與誰，對景好傷悲。
口兒說是不傷悲，眼中常含傷心淚，緊皺雙眉。
嘆氣入羅幃，翠被生寒如何睡，盼郎郎不歸。
廢寢忘餐，減瘦了腰圍，懶耽茶酒杯。
低聲恨月眉，鴛鴦不知何日會，不與奴心隨。
青春去不回，虛度光陰，又添一歲，光陰似箭催。

- () 1. 這首歌的主旨是什麼？
(A) 分離的朋友之情 (B) 分離的夫妻之情 (C) 對童年的留戀 (D) 對父母的思念
- () 2. 以下關於這首歌的說明何者正確？
(A) 這首歌有押韻 (B) 這類民歌有固定格式 (C) 這首歌的平仄一定 (D) 這首歌有用對偶句
- () 3. 「廢寢忘餐，減瘦了腰圍」和以下哪一句所表示的意義最相近？
(A) 路上行人欲斷魂 (B) 衣帶漸寬終不悔 (C) 古來征戰幾人回 (D) 恰似飛鴻踏雪泥

(二) 蜀相 杜甫

丞相祠堂何處尋？錦官城外柏森森。
映階碧草自春色，隔葉黃鸝空好音。
三顧頻煩天下計，兩朝開濟老臣心。
出師未捷身先死，長使英雄淚滿襟。

- () 4. 此詩所描寫的三國人物是誰？ (A) 劉備 (B) 杜甫 (C) 司馬懿 (D) 諸葛亮
- () 5. 對於本詩的分析何者正確？
(A) 首聯描寫祠堂古舊陰森 (B) 領聯呈現此地少有遊人 (C) 頸聯總括出劉備的成就
(D) 末聯感傷自己懷才不遇

~~~試題結束~~~

澎湖縣立文光國民中學 109 學年度第二學期第二次成績評量八年級國文科試卷

■答案卷

八年

班

座號：

姓名：

一、注音國字 16 % (每字1分)

|   |    |    |    |    |    |    |    |
|---|----|----|----|----|----|----|----|
| 1 | 2  | 3  | 4  | 5  | 6  | 7  | 8  |
|   |    |    |    |    |    |    |    |
| 9 | 10 | 11 | 12 | 13 | 14 | 15 | 16 |
|   |    |    |    |    |    |    |    |

二、注釋配合題 14% (每題 2 分)

|   |   |   |   |   |   |   |
|---|---|---|---|---|---|---|
| 1 | 2 | 3 | 4 | 5 | 6 | 7 |
|   |   |   |   |   |   |   |

三、成語配合題 10% (每題1分，請填入正確代號，選項不重複)

|   |   |   |   |   |   |   |   |   |    |
|---|---|---|---|---|---|---|---|---|----|
| 1 | 2 | 3 | 4 | 5 | 6 | 7 | 8 | 9 | 10 |
|   |   |   |   |   |   |   |   |   |    |

四、選擇題 50% (每題2分)

|    |    |    |    |    |    |    |    |    |    |
|----|----|----|----|----|----|----|----|----|----|
| 1  | 2  | 3  | 4  | 5  | 6  | 7  | 8  | 9  | 10 |
|    |    |    |    |    |    |    |    |    |    |
| 11 | 12 | 13 | 14 | 15 | 16 | 17 | 18 | 19 | 20 |
|    |    |    |    |    |    |    |    |    |    |
| 21 | 22 | 23 | 24 | 25 |    |    |    |    |    |
|    |    |    |    |    |    |    |    |    |    |

五、閱讀測驗 10% (每題2分)

|   |   |   |   |   |
|---|---|---|---|---|
| 1 | 2 | 3 | 4 | 5 |
|   |   |   |   |   |

作答完畢，請詳細檢查！

請將所有答案填寫在答案卷上，否則不予計分

一、聽 CD 中的題組，選出正確的答案。  
(每題 2 分，共 10 分)

- ( ) (A) How do we run a restaurant business?  
(B) How do we become great cooks?  
(C) How do we make fresh and delicious food?
- ( ) (A) A cook.  
(B) A teacher.  
(C) A restaurant waiter.
- ( ) (A) They will be able to work together.  
(B) The woman is not going to help the man.  
(C) The man will keep working on his restaurant business.
- ( ) (A) She cooks well.  
(B) She runs a restaurant well.  
(C) She works hard in a restaurant.
- ( ) (A) He likes to work crazily.  
(B) He's able to make delicious food.  
(C) He is sick of working for Mr. Wang.

二、文意字彙 (每題 2 分，共 20 分)

- \_\_\_\_\_ Wow, we're so lucky. It is a s\_\_\_\_\_y night. There is no cloud in the sky. We can watch the moon and the stars clearly.
- \_\_\_\_\_ Paddy: Hey! Guess! Which is heavier, a kilogram(公斤) of iron(鐵) or a kilogram of cotton(棉花)?  
Alex: Are you kidding? They have the same w\_\_\_\_\_t!
- \_\_\_\_\_ May: Close the door g\_\_\_\_\_y. Dad is sleeping. Don't wake him up.
- \_\_\_\_\_ Shawn: Do you want some juice?  
Jerry: No, thanks. People now add too much s\_\_\_\_\_r in it. It's not that healthy anymore for us to drink juice.
- \_\_\_\_\_ Hank is a funny person. His jokes can always make people l\_\_\_\_\_h.
- \_\_\_\_\_ Oh, no. The sky is getting dark. It is p\_\_\_\_\_ly going to rain in the afternoon. We should bring the umbrellas.
- \_\_\_\_\_ C\_\_\_\_\_bing a mountain is not an easy job. You have to learn a lot of skills(技能), prepare a lot of equipment(裝備), and also exercise a lot beforehand(事先).
- \_\_\_\_\_ Josh: How would you like your s\_\_\_\_\_k?  
Reggey: Medium-rare(三分熟的) will be fine. Thank you.
- \_\_\_\_\_ Jay likes to lie on the g\_\_\_\_\_d in the sun. It helped him get a suntan(曬黑).

班級：\_\_\_\_\_ 座號：\_\_\_\_\_ 姓名：\_\_\_\_\_

10. \_\_\_\_\_ Jasper: There is a word "stop" in this s\_\_\_\_\_n. What does it mean?

Leon: It means before you cross the road, you need to stop and wait until(直到) there are no cars around.

三、文法與對話選擇 (每題 2 分，共 30 分)

- ( ) Listen! This is my favorite song. It always makes me think \_\_\_\_\_ my parents.  
(A) at (B) in  
(C) on (D) of
- ( ) Mason: Louis, you didn't have your sandwich this morning. Are you okay?  
Louis: Don't worry \_\_\_\_\_ me. I'm fine.  
(A) X (B) on  
(C) for (D) about
- ( ) Tony: Dad, I invited my friends \_\_\_\_\_ our home to play this afternoon.  
Jeff: OK. Then let's clean our house and prepare some snacks for them.  
(A) in (B) to  
(C) of (D) with
- ( ) Hung: Hurray! My mom gave me a lot of pocket money for this month.  
Gina: You should try to save it, or you'll run out of(用盡) money again \_\_\_\_\_ the end of the month.  
(A) at (B) in  
(C) on (D) with
- ( ) Greg: Mom, what is this?  
Mom: This is a tape recorder. You can record your voice \_\_\_\_\_ it.  
(A) for (B) use  
(C) with (D) about
- ( ) Your room \_\_\_\_\_ dirty. Clean it before I come back.  
(A) get (B) is getting  
(C) getting like (D) is getting like
- ( ) Jessica dances \_\_\_\_\_ than Tony.  
(A) beautiful (B) beautifully  
(C) more beautifully (D) much more beautiful
- ( ) Gale: I made these buns this morning. \_\_\_\_\_ do they taste? Do you like them?  
Dannis: Well... They taste \_\_\_\_\_. I like them.  
(A) How; sweet (B) How; like sweet  
(C) What; cookies (D) What; like cookies

**背面尚有試題**

9. ( ) Kelly: Beck looks \_\_\_\_\_. What happened to him?  
Gina: Ms. Wu shouted at him \_\_\_\_\_ today.  
Kelly: Poor Beck.  
(A) sad; angry (B) sad; angrily  
(C) sadly; angry (D) sadly; angrily
10. ( ) Andy went to school \_\_\_\_\_ today because he had his breakfast too \_\_\_\_\_.  
(A) late; slow (B) lately; slow  
(C) late; slowly (D) lately; slowly
11. ( ) Tom: Uh, oh. I didn't bring my money today.  
Lucas: \_\_\_\_\_. The drink is on me. You don't have to pay for it anyway(反正).  
(A) It doesn't matter.  
(B) That sounds good.  
(C) Aren't you thirsty?  
(D) You can bring it to me next time.
12. ( ) Vera: Vivi, I just got a discount coupon(折價券) for Cam Steakhouse. We can have steak there at a lower price. And my father doesn't have to work today. He can give us a ride there.  
Vivi: Wow! \_\_\_\_\_.  
(A) What a lucky day!  
(B) Let me try it again.  
(C) Are we able to drive?  
(D) In the end, we don't have the coupon.
13. ( ) Jane: I'm afraid of Dannis.  
Jero: Why do you say so?  
Jane: He looks like a bad guy.  
Jero: You shouldn't judge(評斷) a book by its cover(封面). \_\_\_\_\_.  
(A) You can say that again.  
(B) In fact, he is very friendly.  
(C) He likes to read in the library.  
(D) You should report him to the police.
14. ( ) Agnes ordered a lot of food on the Internet because she got hungry. However, \_\_\_\_\_. What a waste!  
(A) she didn't have time to cook.  
(B) she didn't eat up everything in the end.  
(C) she gave away all her food to poor kids.  
(D) she didn't waste any money on the cake.
15. ( ) Gary wanted to be an actor when he was little. \_\_\_\_\_. It's a dream come true.  
(A) He is a waiter in a restaurant now.  
(B) It makes him become an art teacher.  
(C) Now he works in the show business.  
(D) He shared his future dreams with his parents.

四、克漏字測驗 (每題 2 分, 共 8 分)

- Diana: How was your vacation in Yilan? Did you have fun?  
Jean: Of course, I did. It was a \_\_\_1\_\_\_ place.  
Diana: Did you try the food there?  
Jean: Sure. We went to a traditional restaurant and tried smoked duck. It was really delicious.  
Diana: Did you try \_\_\_2\_\_\_?  
Jean: Yes, we also tried some preserved fruit. My grandma loved it, but I didn't like it at all.  
Diana: Why not?  
Jean: It's too sweet for me. \_\_\_3\_\_\_ when they preserve the fruit.  
Diana: I never tried any of that before.  
Jean: Don't worry. Here. I bought you a box of it. \_\_\_4\_\_\_  
Diana: OK. I'm going to try this red one. Well, it tastes really sweet. It's not for me.

|                                                                                                                                                                            |
|----------------------------------------------------------------------------------------------------------------------------------------------------------------------------|
| <input type="checkbox"/> traditional 傳統的<br><input type="checkbox"/> smoked duck 鴨賞<br><input type="checkbox"/> preserved fruit 蜜餞<br><input type="checkbox"/> preserve 醃漬 |
|----------------------------------------------------------------------------------------------------------------------------------------------------------------------------|

- ( ) 1. (A) loud (B) careful  
(C) quick (D) wonderful
- ( ) 2. (A) the other food  
(B) anything else  
(C) other thing  
(D) another something
- ( ) 3. (A) They added too much salt  
(B) They used a lot of oil  
(C) They always put a lot of sugar  
(D) They wasted too much flour
- ( ) 4. (A) Let's boil it together.  
(B) I'll share my future dream with you.  
(C) You should hang it out to dry right away.  
(D) Why don't you take a bite now?

五、填充 (每格 1 分, 共 7 分)

填入正確的副詞原級、比較級或最高級:

1. Mike ate \_\_\_\_\_ (much) than his brother.
2. Amanda runs \_\_\_\_\_ (fast) of all the students in her school. She is good at running.
3. I spent \_\_\_\_\_ (little) of all my friends because I want to save money.
4. Shane treats us \_\_\_\_\_ (terrible). He is not nice at all.
5. Kevin got up \_\_\_\_\_ (late) and missed the school bus.
6. Lynn arrived at school \_\_\_\_\_ (early) than Greg.
7. The fried chicken in this restaurant is popular. It sells very \_\_\_\_\_ (good).

請翻下一張繼續作答

六、依提示作答 (每題 3 分, 共 15 分)

1. Wendy looks very thin in this pair of black pants. (依畫線部分造原問句)

\_\_\_\_\_

2. John sang loudly. Steven sang more loudly than John. Joanna sang more loudly than Steven. (用 Joanna 與最高級合併句子)

\_\_\_\_\_

3. 這披薩嚐起來比牆壁還要硬。(中翻英)

\_\_\_\_\_

4. 為了贏得這場遊戲, 每個人必須盡可能地跳得高。(中翻英)

\_\_\_\_\_

5. 綠色代表大自然。此外, 它能讓人想到健康的餐點。(中翻英)

\_\_\_\_\_

七、閱讀測驗 (每題 2 分, 共 10 分)

1. Jimmy: Erica, is that your lunch? It looks so beautiful.

Erica: Thank you. My mom made it this morning.

Jimmy: Wow. The rice ball looks like a bear. The carrot looks like a heart. And the eggs and the broccoli look like flowers and grass. It's amazing.

Erica: My mother is good at making my lunch look colorful. What about yours?

Jimmy: Forget it.

(Jimmy opened the lunch box)

Erica: What? Is that hotdogs in the shape of fingers? Oh, and there are even rice balls in eyeball shapes and sea sedge in a hair shape. So horrible!

Jimmy: Yes. My mom likes to play pranks on me with my lunch. She thinks it's funny.

Erica: But it must be delicious, right?

Jimmy: Not always. Sometimes it tastes as terrible as it looks.

Erica: Maybe you can suggest to your mom that she could go to cooking classes. Then she will be able to make adorable and tasty lunch for you every day.

Jimmy: OK. I'll tell her about it.

rice ball 飯糰 carrot 紅蘿蔔 broccoli 花椰菜  
eyeball 眼球 sea sedge 海苔 pranks 惡作劇  
adorable 可愛的 suggest 建議

1-1. ( ) What's inside Jimmy lunch?

- (A) Eggs (B) Flowers.  
(C) Fingers. (D) Rice balls.

1-2. ( ) According(根據) to the conversation, which is true about Jimmy?

- (A) He doesn't like Erica's lunch.  
(B) He thinks his lunch tastes as yummy as it looks.  
(C) He thinks Erica is good at making delicious lunch.  
(D) He may ask his mother to go to cooking classes soon.

2. Dear Diary,

You are looking at the happiest person in the world. Do you want to know why? I am on cloud nine right now because I am in love with someone. Yeah, I feel surprised, too.

This boy makes me feel like a queen. He listens to my thoughts and feelings carefully, and he's not afraid to share his with me. I like his voice because it is very deep, and he sounds like heaven to me. When I ask for my favorite drink, milk tea, he always buys it for me. Besides, he really enjoys holding my hand, and I don't mind because his hands feel strong yet soft.

However, there is one thing different about him. When you first see him, he isn't much to look at. But when he smiles, he looks just like a puppy. I just melted when I saw that for the first time. He looked so cute, and I just wanted to go out with him.

surprised 感到驚訝的 deep 低沉的  
heaven 天堂 mind 介意 yet 然而 melt 融化

2-1. ( ) What does "on cloud nine" mean?

- (A) Very thirsty.  
(B) Very quiet.  
(C) Really sad.  
(D) Really happy.

2-2. ( ) What is the person writing about?

- (A) A cute puppy.  
(B) The people in her class.  
(C) A new person in her life.  
(D) Her favorite teacher at school.

2-3. ( ) What happens when the boy smiles?

- (A) He looks like a puppy.  
(B) He melted slowly.  
(C) Everybody wants to dance with him.  
(D) He looks and sounds really scary.

試題結束



澎湖縣文光國民中學 109 學年度第二學期第二次段考 八年級英語科 答案卷

班級：\_\_\_\_\_ 座號：\_\_\_\_\_ 姓名：\_\_\_\_\_

★請將所有答案填寫在答案卷上，否則不予計分★

一、聽 CD 中的題組，選出正確的答案。(每題 2 分，共 10 分)

|    |    |    |    |    |
|----|----|----|----|----|
| 1. | 2. | 3. | 4. | 5. |
|----|----|----|----|----|

二、文意字彙 (每題 2 分，共 20 分)

|    |    |    |    |     |
|----|----|----|----|-----|
| 1. | 2. | 3. | 4. | 5.  |
| 6. | 7. | 8. | 9. | 10. |

三、文法與對話選擇 (每題 2 分，共 30 分)

|     |     |     |     |     |
|-----|-----|-----|-----|-----|
| 1.  | 2.  | 3.  | 4.  | 5.  |
| 6.  | 7.  | 8.  | 9.  | 10. |
| 11. | 12. | 13. | 14. | 15. |

四、克漏字測驗 (每題 2 分，共 8 分)

|    |    |    |    |
|----|----|----|----|
| 1. | 2. | 3. | 4. |
|----|----|----|----|

五、填充 (每格 1 分，共 7 分)

|    |    |    |    |    |
|----|----|----|----|----|
| 1. | 2. | 3. | 4. | 5. |
| 6. | 7. |    |    |    |

六、依提示作答 (每題 3 分，共 15 分)

|    |  |
|----|--|
| 1. |  |
|    |  |
| 2. |  |
|    |  |
| 3. |  |
|    |  |
| 4. |  |
|    |  |
| 5. |  |
|    |  |

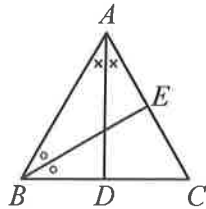
七、閱讀測驗 (每題 2 分，共 10 分)

|      |      |      |      |      |
|------|------|------|------|------|
| 1-1. | 1-2. | 2-1. | 2-2. | 2-3. |
|------|------|------|------|------|

考試注意事項：可使用尺及圓規。不可以使用量角器。

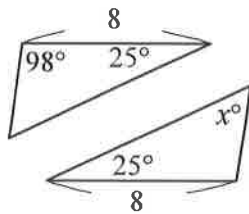
一、選擇：(每題 4 分，共 40 分)

1. ( ) 如圖，在  $\triangle ABC$  中，若  $\overline{AB} = \overline{AC}$ ，且  $\overline{AD}$ 、 $\overline{BE}$  分別為  $\angle A$  與  $\angle B$  的角平分線，則下列何者不一定成立？



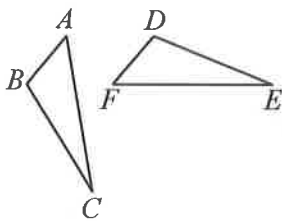
- (A)  $\overline{BD} = \overline{CD}$  (B)  $\overline{AD} \perp \overline{BC}$   
 (C)  $\angle CBE = \angle BAD$  (D)  $\triangle ABD \cong \triangle ACD$

2. ( ) 如圖，已知兩個三角形全等，則  $x = ?$



- (A) 47 (B) 57 (C) 67 (D) 98

3. ( ) 如圖， $\triangle ABC \cong \triangle FDE$ ， $A$  和  $F$ 、 $B$  和  $D$ 、 $C$  和  $E$  是對應頂點，已知  $\angle B = 108^\circ$ 、 $\angle E = 22^\circ$ ，則  $\angle F = ?$

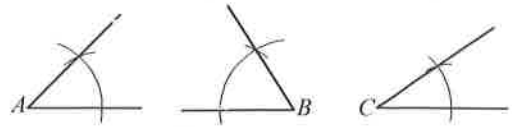


- (A)  $22^\circ$  (B)  $32^\circ$  (C)  $40^\circ$  (D)  $50^\circ$

4. ( ) 關於「尺規作圖」的敘述，下列何者正確？

- (A) 限用量角器、直尺作圖  
 (B) 限用圓規、游標卡尺圖  
 (C) 限用量角器、游標卡尺作圖  
 (D) 限用圓規、直尺作圖

5. ( ) 利用尺規作圖測量  $\angle A$ 、 $\angle B$ 、 $\angle C$  的大小關係為何？



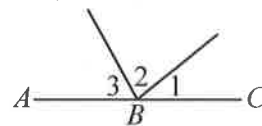
- (A)  $\angle A > \angle B > \angle C$   
 (B)  $\angle B > \angle A > \angle C$   
 (C)  $\angle C > \angle B > \angle A$   
 (D)  $\angle B > \angle C > \angle A$

6. ( ) 下列哪些對應關係不能稱為函數？

- 甲：每人對應其本身的體重  
 乙：每一位父親對應其小孩  
 丙：班上學生對應其導師  
 丁：任意一個骰子對應其投擲後出現的點數

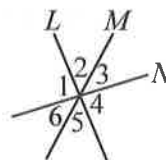
- (A) 甲、乙 (B) 丙、丁 (C) 甲、丙 (D) 乙、丁

7. ( ) 如圖所示， $A$ 、 $B$ 、 $C$  三點在一直線上， $\angle 1 = (3x)^\circ$ ， $\angle 2 = (5x + 15)^\circ$ ， $\angle 3 = (5x - 4)^\circ$ ，則  $x = ?$



- (A) 11 (B) 13 (C) 15 (D) 17

8. ( ) 平面上三條直線交於一點，請問共有幾組對頂角？

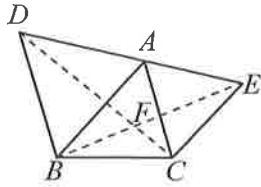


- (A) 3 (B) 6 (C) 9 (D) 12

9. ( ) 某水管每分鐘可注入水  $x$  公升，若注滿 2400 公升容量的水槽需  $y$  小時，則  $x$  與  $y$  的關係式為下列何者？

- (A)  $y = 2400x$  (B)  $xy = 2400$   
 (C)  $y = 40x$  (D)  $xy = 40$


10. ( ) 如圖， $\triangle ABC$  中，分別以  $\overline{AB}$ 、 $\overline{AC}$  為一邊，作正  $\triangle ABD$  與正  $\triangle ACE$ ，連接  $\overline{BE}$ 、 $\overline{CD}$ ，則  $\angle CFE = ?$



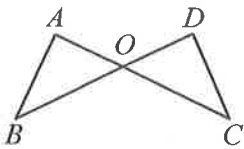
(A)45° (B)50° (C)60° (D)65°

二、填充：(每個答案4分，共40分)

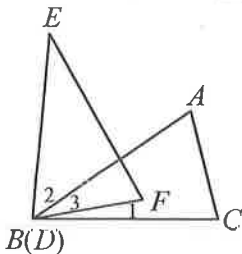
- 設  $y=5-2x$ ，則：
  - 在  $x=6$  時，函數值  $y=$ \_\_\_\_\_。
  - 在  $x=-3$  時，函數值  $y=$ \_\_\_\_\_。
- 若  $\angle 1 + \angle 2 + \angle 3 = 180^\circ$ ，且  $\angle 1 = (3x-9)^\circ$ ， $\angle 2 = 5x^\circ$ ， $\angle 3 = (2x-1)^\circ$ ，則  $\angle 2 =$ \_\_\_\_\_度， $\angle 2$  的補角 = \_\_\_\_\_度。
- 設  $y$  為常數函數，且在  $x=5$  及  $x=-5$  時，所求得的函數值之和為 10，則在  $x=-10$  時，函數值  $y=$ \_\_\_\_\_。
- 如圖， $\triangle ABC$  中， $\overline{BD}$  為  $\angle ABC$  的角平分線， $\overline{CD}$  為  $\angle ACB$  的角平分線， $\overline{BE}$  為  $\angle DBC$  的角平分線， $\overline{CE}$  為  $\angle DCB$  的角平分線，若  $\angle A = 36^\circ$ ，則  $\angle BEC =$ \_\_\_\_\_度。



- 如圖， $\angle A = \angle D$ ， $\overline{AB} = \overline{CD}$ ，則  $\triangle ABO \cong$  \_\_\_\_\_，是利用 \_\_\_\_\_ 全等性質。

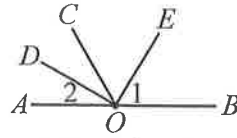


- 已知  $\triangle ABC \cong \triangle DEF$ ，其中  $A, B, C$  的對應頂點分別為  $D, E, F$ ，今將  $B$  點和  $D$  點重疊，如右圖所示。若  $\angle 1 = 10^\circ$ ， $\angle C = 75^\circ$ ， $\angle E = 35^\circ$ ，則  $\angle 2 =$ \_\_\_\_\_度。



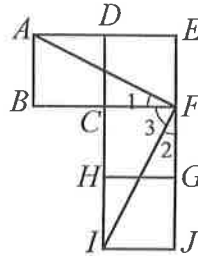
- 如圖， $A, O, B$  三點在同一條直線上，若  $\overline{OD}$ 、

$\overline{OE}$  分別是  $\angle AOC$  與  $\angle BOC$  的角平分線，則  $\angle 1 + \angle 2 =$ \_\_\_\_\_度。

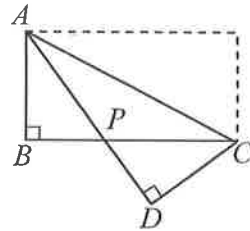


三、計算：(每題5分，共15分)

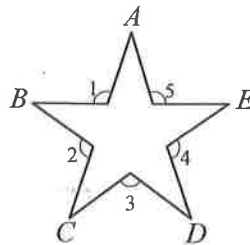
- 如圖，四邊形  $ABCD, CDEF, CFGH$  及  $GHIJ$  均為正方形。  
說明： $\overline{AF} \perp \overline{FI}$



- 如圖，將長方形紙條  $ABCD$  紙條沿著對角線  $\overline{AC}$  對摺。  
說明： $\overline{AP} = \overline{CP}$ 。



- 如圖，若  $\angle A + \angle B + \angle C + \angle D + \angle E = 180^\circ$ ，則  $\angle 1 + \angle 2 + \angle 3 + \angle 4 + \angle 5$  為多少度？



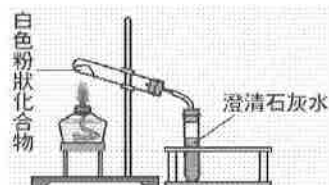
四、作圖：(每題5分，共5分)

- 利用尺規作圖，作一個  $135^\circ$  的角。

一、單選題（每題 2 分，共 80 分，請填至答案卷）

- ( ) 媽媽炒了一盤紫色高麗菜，菜汁剛開始呈紫色，後來因為加了醋，顏色變成粉紅色。吃完後用肥皂水沖洗盤子時，菜汁又變成藍色。如果將紫色高麗菜汁加在下列哪一種溶液中，顏色會變成藍色？  
(A)小蘇打 (B)檸檬汁 (C)米酒 (D)食鹽。
- ( ) 今有兩杯水溶液，經測定後得知甲溶液 pH 值為 4，乙溶液 pH 值為 6，則哪一杯溶液中的  $[H^+]$  較大？  
(A)甲較大 (B)乙較大 (C)兩者相等 (D)條件不足，無法比較。
- ( ) 下列哪一項是酸鹼中和的離子反應式？  
(A) $H^+ + OH^- \rightarrow H_2O$  (B) $H_2O \rightarrow H^+ + OH^-$  (C) $2H_2O \rightarrow 2H_2 + O_2$  (D) $2H_2 + O_2 \rightarrow 2H_2O$ 。
- ( ) 關於鹽類的敘述，何者正確？  
(A)氯化鈉是透明無色晶體，又稱食鹽，只能從酸鹼中和產生  
(B)硫酸鈣是白色固體，易溶於水，為製作石膏像的原料之一  
(C)碳酸鈉是白色固體，可作為清潔劑，所以又稱洗滌鹼  
(D)碳酸鈉遇熱會分解出二氧化碳氣體。
- ( ) 關於「把食物切得越小塊，就越容易煮熟」這句話的主要原理，與下列哪一種現象類似？  
(A)放入冰箱的食物比較能保持新鮮 (B)削成羽毛狀的火煤棒比竹筷容易點燃 (C)哈柏法利用鐵粉催化製造氨氣 (D)藍色氯化亞鈷加水，變成紅色的氯化亞鈷。
- ( ) 下列有關酵素的敘述何者正確？  
(A)蛋白質分子皆可稱為酵素 (B)酵素皆可加快各種反應速率  
(C)酵素可改變反應平衡狀態 (D)酵素為生物體內的催化劑。
- ( ) 一個加蓋的廣口瓶靜置一週後，發現水位沒有變化，下列關於此廣口瓶的敘述何者錯誤？  
(A)再靜置一週水位也不會改變 (B)溫度升高時，水位不再變化 (C)此時為一種動態平衡 (D)水的蒸發過程與水蒸氣的凝結過程繼續進行。
- ( ) 已知某可逆反應式為： $A + B \rightleftharpoons C + D + \text{熱}$ ，請問下列敘述何者錯誤？  
(A) $A + B \rightarrow C + D$  為吸熱反應 (B)溫度上升時，逆反應速率大於正反應速率 (C)溫度下降時，C、D 的量會增加 (D)反應達新平衡後，正反應速率等於逆反應速率。
- ( ) 下列各元素中，何者為組成有機化合物必要的元素？  
(A)氫 (B)碳 (C)氧 (D)氮。
- ( ) 下列含碳化合物中，哪些屬於有機化合物？甲. $Na_2CO_3$ ；乙.CO；丙. $CH_4$ ；丁. $CH_3COOH$ ；戊. $C_2H_5OH$   
(A)甲乙丙戊 (B)乙丙丁 (C)丙丁戊 (D)乙丁戊。
- ( ) 下列哪一項因素會影響有機化合物的性質？甲.組成元素的種類；乙.組成的原子個數；丙.組成原子的排列方式；丁.組成元素的來源  
(A)只有甲 (B)甲、乙 (C)甲、乙、丙 (D)全部。
- ( ) 丙酸和乙醇反應產生的酯稱為什麼？  
(A)乙酸乙酯 (B)乙酸丙酯 (C)丙酸丙酯 (D)丙酸乙酯。
- ( ) 有 A、B、C 三杯不明水溶液，A 杯使藍色石蕊試紙呈紅色，B 杯使酚酞呈紅色，C 杯使廣用試紙呈綠色，請問三杯水溶液的酸鹼性為何？  
(A)A 為酸性，B 為中性，C 為鹼性 (B)A 為酸性，B 為鹼性，C 為中性  
(C)A 為鹼性，B 為中性，C 為酸性 (D)A 為鹼性，B 為酸性，C 為中性。
- ( ) 慶輝以廣用試紙測試甲、乙、丙、丁四種溶液的酸鹼性，結果如附表，則哪一溶液的 pH 值最高？  
(A)甲 (B)乙 (C)丙 (D)丁。
- ( ) 小健想測試某種白色粉狀化合物為何，於是他取部分粉末加水溶解後，測知其水溶液可導電；接著置少量於試管，並依附圖之裝置加熱，結果觀察到澄清石灰水變混濁，加熱後試管上端生成無色的液滴。請問此化合物為何？  
(A)碳酸氫鈉 (B)氯化鈉 (C)氫氧化鈉 (D)氫氧化鈣。

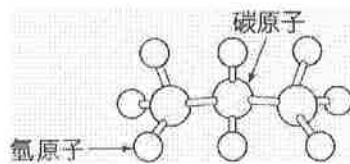
| 甲  | 乙  | 丙  | 丁  |
|----|----|----|----|
| 深藍 | 紅色 | 綠色 | 黃色 |



16. ( ) 有關碳酸鈉、碳酸氫鈉、碳酸鈣的比較，下列哪一項敘述是錯誤的？ (A)三者皆為白色固體 (B)對水的溶解度以碳酸鈉最大 (C)水溶液的 pH 值以碳酸鈣最大 (D)加酸之後，三者皆會產生二氧化碳
17. ( ) 已知二氧化錳(MnO<sub>2</sub>)是 H<sub>2</sub>O<sub>2</sub>→H<sub>2</sub>O+O<sub>2</sub> 反應的催化劑，今做雙氧水(濃度一定)分解實驗，比較反應速率，條件如附表所列。則下列敘述何者正確？

| 實驗代號 | 溫度 | 是否加入二氧化錳 | 反應速率 |
|------|----|----------|------|
| 甲    | 30 | 否        | 慢    |
| 乙    | 40 | 是        | 最快   |
| 丙    | 40 | 否        | 次之   |

- (A)乙比甲快的原因只因為乙的溫度高 (B)乙比丙快的原因只因為乙加入催化劑 (C)甲、丙的控制變因是溫度 (D)乙、丙的控制變因為溫度和催化劑。
18. ( ) 下列關於事例與影響反應速率的因素配對關係，何者錯誤？ (A)黃金因為不易與氧反應，所以被用來製成戒指…活性 (B)X X 樂園發生粉塵爆炸事件…濃度 (C)藍墨水在熱水中擴散速率較快…溫度 (D)在雙氧水製氧的實驗中，可以利用二氧化錳來加快反應速率…催化劑。
19. ( ) 下列平衡中，何者進行括弧內的操作時會向左移動？  
 (A)Cr<sub>2</sub>O<sub>7</sub><sup>2-</sup> + H<sub>2</sub>O ⇌ 2CrO<sub>4</sub><sup>2-</sup> + 2H<sup>+</sup> (加入 NaOH) (B)2CrO<sub>4</sub><sup>2-</sup> + 2H<sup>+</sup> ⇌ Cr<sub>2</sub>O<sub>7</sub><sup>2-</sup> + H<sub>2</sub>O (加入 H<sup>+</sup>)  
 (C)H<sup>+</sup> + Br<sup>-</sup> + HBrO ⇌ Br<sub>2</sub> + H<sub>2</sub>O (加入 Na<sub>2</sub>CO<sub>3</sub>) (D)H<sup>+</sup> + Br<sup>-</sup> + HBrO ⇌ Br<sub>2</sub> + H<sub>2</sub>O (加入 NaCl)。
20. ( ) 已知反應：四氧化二氮(無色)+熱⇌二氧化氮(紅棕色)，今有一密閉的錐形瓶中裝有二氧化氮氣體，若要讓此氣體的紅棕色變淡，應使用下列哪一種方式？ (A)將錐形瓶放入冰水中 (B)將錐形瓶放入熱水中 (C)將錐形瓶倒立放置 (D)將錐形瓶放置一段時間，氣體的顏色自然會變淡。
21. ( ) 已知氯水的化學平衡反應式為 Cl<sub>2</sub>+H<sub>2</sub>O ⇌ H<sup>+</sup>+Cl<sup>-</sup>+HClO；因氯氣有劇毒，則必須如何處理氯水才可抑制氯氣的產生？ (A)加入適量的氯化鈉 (B)加入適量的氯化氫 (C)加入適量的氫氧化鈉 (D)加入適量的氯化鉀。
22. ( ) 有關「有機化合物」與「含碳的化合物」，下列敘述何者正確？ (A)含碳化合物皆為有機化合物 (B)有機化合物皆為含碳化合物 (C)有機化合物包含含碳的化合物與不含碳的化合物 (D)有機化合物皆為不含碳的化合物。
23. ( ) 某有機化合物在空氣中燃燒時，以澄清石灰水與藍色氯化亞鈷試紙檢驗，其結果為澄清石灰水變混濁且氯化亞鈷試紙變成粉紅色，試問造成澄清石灰水變混濁，以及讓氯化亞鈷試紙變成粉紅色的物質分別是什麼？ (A)二氧化碳和水 (B)碳和氫氣 (C)氫氣和氧氣 (D)二氧化碳和氧氣。
24. ( ) 某分子的結構模型如附圖所示，圖中大球表碳原子，小球表氫原子。下列有關此分子的敘述，何者錯誤？  
 (A)此分子是有機化合物 (B)此分子的分子式是 C<sub>3</sub>H<sub>6</sub> (C)此分子在常溫、常壓下是液體 (D)此分子是液化石油氣的主要成分。

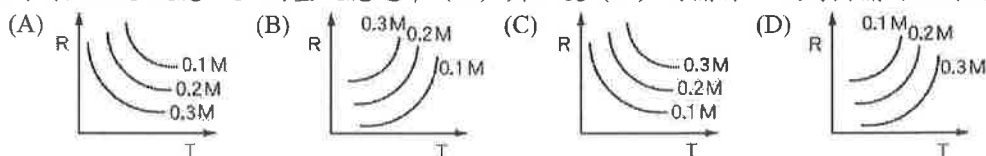


25. ( ) 關於酒精與醋酸的比較，下列敘述何者錯誤？

|        | 酒精                               | 醋酸                   |
|--------|----------------------------------|----------------------|
| (A)分子式 | C <sub>2</sub> H <sub>5</sub> OH | CH <sub>3</sub> COOH |
| (B)特性  | 容易燃燒                             | 刺鼻酸味                 |
| (C)應用  | 消毒                               | 食用                   |
| (D)俗稱  | 乙醇                               | 蟻酸                   |

26. ( ) 日常生活中，天然氣、石油是和我們密不可分的有機物質，有關這兩者的敘述，下列何者正確？  
 (A)家庭使用的「瓦斯桶」，其裡面裝的是天然氣 (B)天然氣的主要成分為丙烷 (C)汽機車所加各種汽油是石油提煉出的產品 (D)石油直接汽化後，即為「瓦斯桶」內所裝的燃料。

27. ( ) 新聞報導：「某校的水管因長年未清理，所以已經堵塞、難以使用，因此在排水孔倒入一罐含氫氧化鈉的疏通劑，但倒入後沒過多久，水管就爆炸了。」試問水管爆炸的原因最可能為何？ (A)水管疏通劑遇到污垢等酸性物質放出大量的熱 (B)水管的油汙產生的氣體過多 (C)水管中的油汙因劇烈摩擦而爆炸 (D)有駭客在水管中放置炸彈，偽裝成爆炸事件。
28. ( ) 小胖的手因為車禍，所以上了石膏，但他卻不小心將石膏撞裂了。於是急急忙忙從化妝品櫃拿出姊姊珍藏的珍珠粉，加水調和後把石膏裂縫補滿。結果隔天小胖淋到一點酸雨，石膏原來的裂縫又裂開了，其可能的原因為何？ (A)石膏的成分是碳酸鈣，遇水會溶解 (B)珍珠粉的成分為碳酸鈣，會溶解在酸雨中 (C)小胖塗的技術不好 (D)石膏的成分是硫酸鋁，不會溶於水。
29. ( ) 體積莫耳濃度為 1 M 的蔗糖水溶液，代表 2 公升溶液中含有多少莫耳的蔗糖（已知蔗糖的分子量為 220）？ (A)1 (B)2 (C)220 (D)440。
30. ( ) 在其他控制變因均相同下，將相同體積但濃度分別為 0.1 M、0.2 M、0.3 M 的鹽酸與顆粒大小及質量均相同的大理岩反應，並測量反應速率 (R) 與溫度 (T) 的關係，試問其關係曲線應為下列何者？



小蔚參加學校的自然科學營，老師在甲、乙、丙、丁四支試管中，隨機裝入無色的煙類液體、乙醇、醋酸、酯類，並且在每支試管中加入 5 mL 的水，小蔚經由實驗與觀察獲得以下的結果，試回答 31~32 題：

| 試管編號 | 試管中液體是否分層 | 和藍色石蕊試紙反應 | 和紅色石蕊試紙反應 | 有無水果香味 |
|------|-----------|-----------|-----------|--------|
| 甲    | 不分層       | 紅色        | 紅色        | 沒有     |
| 乙    | 不分層       | 藍色        | 紅色        | 沒有     |
| 丙    | 分層        | 藍色        | 紅色        | 有      |
| 丁    | 分層        | 藍色        | 紅色        | 沒有     |

31. ( ) 哪一支試管中的液體，屬於煙類？ (A)甲 (B)乙 (C)丙 (D)丁。
32. ( ) 哪兩支試管內的液體混合後滴入濃硫酸，經隔水加熱後會產生香味？ (A)乙丙 (B)甲乙 (C)乙丁 (D)甲丙。

錐形瓶內加入定量的硫代硫酸鈉溶液及鹽酸，用手輕搖錐形瓶並計時，直至瓶中溶液顏色恰可遮住白紙上的十字為止，實驗結果如附表，請回答第 33~34 題：

| 實驗次數 | 甲       | 乙                                                    | 丙          | 丁        |
|------|---------|------------------------------------------------------|------------|----------|
|      | 溫度 (°C) | Na <sub>2</sub> S <sub>2</sub> O <sub>3</sub> 濃度 (M) | HCl 濃度 (M) | 時間 t (秒) |
| 1    | 30      | 0.20                                                 | 0.30       | 40       |
| 2    | 40      | 0.20                                                 | 0.30       | 30       |
| 3    | 50      | 0.20                                                 | 0.30       | 15       |
| 4    | 60      | 0.20                                                 | 0.30       | 5        |

33. ( ) 本實驗的目的是在探討哪兩種量之間的關係？ (A)甲、乙 (B)乙、丙 (C)丙、丁 (D)甲、丁。
34. ( ) 承上題，若四次實驗在停止計時瞬間，遮住十字的產物的量分別為 W、X、Y、Z，下列何者正確？ (A)W>X>Y>Z (B)W<X<Y<Z (C)W=X=Y=Z (D)無法判斷。
35. ( ) 下列何者可用來判定水溶液是否為酸性？ (A)水溶液只含有 H<sup>+</sup> (B)水溶液只含有 OH<sup>-</sup> (C)水溶液中 [H<sup>+</sup>] > [OH<sup>-</sup>] (D)水溶液中 [H<sup>+</sup>] < [OH<sup>-</sup>]。
36. ( ) 所謂化學平衡是指什麼？ (A)反應物、生成物濃度相等 (B)反應物、生成物質量相等 (C)反應物、生成

物體積相等 (D)正逆反應速率相等。

37. ( ) 已知澱粉是有機化合物，經過燃燒後可以產生水和二氧化碳。由此可以判斷澱粉中必定含有哪兩種元素？ (A)碳、氧 (B)碳、氫 (C)氫、氧 (D)碳、硫。
38. ( ) 酸鹼中和時，不一定會發生下列何種現象？ (A)pH=7 (B)放熱 (C)產生鹽類 (D)發生化學變化。
39. ( ) 用木炭生火烤肉時，需要在大塊木炭上方散布一些小塊的碎木炭，升火時會先點燃較易燃燒的碎木炭，再引燃大塊木炭。其中碎木炭較易點燃的原因與下列何者相同？ (A)金紙散開時較整疊時容易燃燒 (B)將鮮奶放到冰箱內冷藏較不易變質 (C)二氧化錳可以使雙氧水更快產生氣泡 (D)鐵製品較黃金製品易氧化。
40. ( )  $S_2O_3^{2-} + 2H^+ + \text{熱} \rightleftharpoons SO_2 + H_2O + S$  的反應中，下列何種做法無法使硫的沉澱量增加？ (A)加熱 (B)在系統之中加入氫氧化鈉 (C)在系統之中加入更多的  $Na_2S_2O_3$ ，以解離出  $S_2O_3^{2-}$  (D)設法減少溶液 pH 值。

## 二、填充題 (每格 2 分，共 20 分)

1. 常見酸鹼指示劑及變色範圍：

| 指示劑 \ 變色情形 | 變色範圍                                                        | 顏色                | 變色範圍        | 顏色         |
|------------|-------------------------------------------------------------|-------------------|-------------|------------|
| 石蕊指示劑      | 酸 (pH < 5)                                                  | <u>          </u> | 鹼 (pH > 8)  | <u>(A)</u> |
| 酚酞指示劑      | 酸 (pH < 8)                                                  | <u>          </u> | 鹼 (pH > 10) | <u>(B)</u> |
| 廣用試劑       | 酸 (pH=1 開始增加) 到鹼<br>顏色變化： <u>          </u> → 黃 → 綠 → 藍 → 紫 |                   |             |            |

2. 酸鹼中和：請寫出此鹽類的化學式

|    |     |   |      |   |            |   |                  |
|----|-----|---|------|---|------------|---|------------------|
|    | 酸   | + | 鹼    | → | 鹽          | + | 水                |
| 反應 | HCl |   | NaOH |   | <u>(C)</u> |   | H <sub>2</sub> O |

3. 物質若要發生化學反應，兩物質的粒子必定先發生 (D)。
4. 定溫下，杯內裝入少許水，並以玻璃片蓋住，使水分子不能進出，靜置一段時間後，可見杯內水位不再改變，此時杯內的水蒸發的速率與水蒸氣 (E) 速率相等，從分子角度看是呈現 (F)，而非靜止。
5. 子韻在廚房裡發現了下列物質：全對始給分  
A.食鹽 B.奶粉 C.麵粉 D.蔗糖 E.豬油  
當他以上述物質進行加熱實驗時，會得到黑色物質的有哪幾種？答：(G) (填入代號)
6. 乙醇又稱酒精，為無色液體，可作為溶劑與燃料，化學式為 (H)；乙酸具刺鼻酸味，溶於水會產生氫離子，化學式為 (I)；若有機化合物只由碳與氫組成時，稱為碳氫化合物，簡稱烴，常溫常壓下的形態決定於含碳的數量；數量少者大多為 (J) 態。

澎湖縣立文光國民中學 109 學年度第二學期第二次段考八年級自然科答案卷

班級：      座號：      姓名：      得分：

一、單選題（每題 2 分，共 80 分）

|     |     |     |     |     |     |     |     |     |     |
|-----|-----|-----|-----|-----|-----|-----|-----|-----|-----|
| 1.  | 2.  | 3.  | 4.  | 5.  | 6.  | 7.  | 8.  | 9.  | 10. |
| 11. | 12. | 13. | 14. | 15. | 16. | 17. | 18. | 19. | 20. |
| 21. | 22. | 23. | 24. | 25. | 26. | 27. | 28. | 29. | 30. |
| 31. | 32. | 33. | 34. | 35. | 36. | 37. | 38. | 39. | 40. |

二、填充題（每格 2 分，共 20 分）

|    |    |    |    |
|----|----|----|----|
| A. | B. | C. | D. |
| E. | F. | G. | H. |
| I. | J. |    |    |



澎湖縣立文光國民中學 109 學年度第 2 學期第 1 次成績評量 8 年級歷史科試卷

班級： 姓名： 座號： 讀卡 答案卷

一、 題組 (第 41 題~第 51 題, 每題 2 分, 共 22 分)

\*顏老師查閱兩則史料, 發現竟然同一件事情, 會有兩種不同的解釋記載。史料一: 「西元1927年4月, 蔣司令的軍隊以『工人內訌』為由, 打傷打死三百多餘人, 第二天許多工人與學生遭到血腥大屠殺, 隨後蔣司令下令逮捕共產黨員, 這就是著名的『四一二反革命政變』」。史料二: 「民國16年4月, 蔣司令佔領上海後, 鑑於共產黨陰謀奪權, 依據中國國民黨中央監察委員會護黨救國的決議, 逮捕共黨, 實行清除國民黨內之共產黨份子的事件, 謂之『清黨』」。請依據題意, 回答第41~45題:

41. 由上述資料可知是指哪一間史事?(A)容共 (B)北伐 (C)清黨 (D)剿共。
42. 有從資料的時間判斷, 當時中國內政、外交面臨何種局勢?(A)學生團體發起抗議運動, 控訴國際社會對山東問題處理不公 (B)北方將領張作霖被日軍炸死, 其子張學良憤而歸順國民政府 (C)日軍為削弱中國的抵抗, 在中國首都屠殺許多百姓, 引發眾怒 (D)受軍閥長期混戰影響, 致使國內民生經濟困難、社會動蕩不安。
43. 有關於「四一二反革命政變」與「清黨」的敘述, 下列何者正確?(A)「清黨」是指國民黨的說法 (B)「政變」是指國民黨的說法 (C)「政變」是指美國的說法 (D)「清黨」是指中共的說法
44. 上述事件的發生源自於孫中山採行的「聯俄容共」政策, 雖然該政策有助於解決當時國民黨面臨的困境, 但後來也導致了後來與共黨不容的嚴重後果。請問: 關於這項政策的敘述, 何者錯誤?(A)此政策是指容許共產黨員以個人身分加入國民黨 (B)國共前後總共有兩次的合作 (C)此政策給予國民黨建立黨軍的機會 (D)此政策讓國民黨內部更加團結。
45. 上述資料都是在指同一個事件, 但為何會有兩種不同的說法?(A)政治影響歷史解釋, 立場敵對的國共雙方作出不同論述 (B)國共停止合作, 中共為報復國民黨刻意扭曲歷史的事實 (C)美國、蘇聯各自影響國民黨與中共, 因此產生理解差異 (D)戰亂頻繁, 導致史料遺失, 雙方無法正確了解事件始末。

\*顏老師在幫大家整理「中國歷史上著名城市大全」時, 不小心把資料弄混亂了。請根據下列的資料 (甲) 廣州 (乙) 南京 (丙) 重慶 (丁) 武漢 (戊) 上海, 回答題第46~第49題:

46. 1937 年 12 月 13 日《東京日日新聞》報導: 「日軍少尉向井敏明和野田毅在進軍○○途中相約『殺人競賽』, 商定在占領○○時先殺滿 100 人者為勝。最後到達○○時, 兩人各稱殺了 106 人和 105 人; 但是不知道誰先殺滿 100 人, 所以決定不分勝負, 重新比賽誰殺滿 150 名中國人。」請問: 報導中的○○應是下列何者?(A)甲 (B)乙 (C)丙 (D)丁。
47. 1924 年, 黃埔軍校開訓典禮中, 孫中山曾說: 「要聯合世界上以平等待我之民族共同奮鬥。」請問: 該校校址選在何處?(A)甲 (B)乙 (C)丙 (D)丁。
48. 對日抗戰發生後, 在以「空間換取時間」的策略下, 國民政府宣布遷都至何處?(A)甲 (B)乙 (C)丙 (D)丁。
49. 民國 16 年, 國民政府在北伐途中發生了分裂。因政治理念的不同, 後來分別在何地各自成立政府?(A)甲乙 (B)丙戊 (C)乙丁 (D)丙丁。

\*有一幅形容張學良與蔣中正兩人關係的對聯如下: 「關懷之情如同骨肉, 政見之爭宛如仇讎。」請根據上述資料回答第 50~第 51 題:

50. 下列哪項「政見之爭」造成兩人關係「宛如仇讎」?(A)編遣軍隊 (B)剿共安內 (C)聯俄容共 (D)清黨分共。
51. 兩人關係從「情同骨肉」演變成「宛如仇讎」, 對於中國政局造成的影響為何?(A)中共絕處逢生 (B)日本出兵東北 (C)國共內鬥加劇 (D)軍閥勢力坐大。

二、 單一選擇題 (第 52 題~第 55 題，每題 2 分，第 56 題~第 60 題，每題 1 分，共 5 分，共 13 分)

52. 自民國 18 年美國發生金融風暴以來，經濟的恐慌瀰漫全世界，各國相繼修訂貨幣政策，企圖解決經濟困境。中華民國亦捲入這場國際經濟動盪的漩渦中，當時財政部於是積極思考改進方法，一方面因應世界趨勢，另一方面則配合國內的情況，規劃新的貨幣，並於民國 24 年 11 月 3 日公布實施。請問：上述的政策應為何項？(A)推動專賣，增加政府財政收入 (B)銀銅並用，因應國際匯率變化 (C)發行新台幣，停止與法幣兌換 (D)發行法幣，解決幣制混亂問題。
53. 顏老師收藏了許多中國與臺灣的貨幣，某日他向朋友展示十年建設時期的貨幣，卻被朋友說有一張發行銀行是錯誤的。應是下列哪一張？(A)土地銀行 (B)交通銀行 (C)中央銀行 (D)中國銀行。
54. 陳同學在做關於國民革命軍討伐軍閥時的報告，請問：下列敘述何者錯誤？(A)討伐對象有吳佩孚、孫傳芳、張作霖 (B)過程中曾經出現兩個國民政府，使北伐一度中斷 (C)戰爭的路線由南向北 (D)日本趁機製造九一八事變。
55. 文化大革命時紅衛兵所帶來的破壞，不僅是對於中國歷史文物及倫理道德的摧殘，他們也影響了人民生活及社會秩序，交通、生產活動等。請問：紅衛兵主要是哪一種身分的人所組成的？(A)國家軍隊 (B)商業團體 (C)政府官員 (D)青年學生。
56. 如果要製作一份中共在 1949 年之後的大事年表，下列哪件事不該被放進這份年表中？(A)在沿海建設經濟特區 (B)向東北軍宣傳「停止內戰，一致抗日」 (C)因為朝鮮問題與美國發生韓戰 (D)進入聯合國取代中華民國席次。
57. 美國總統羅斯福曾發表一篇演說，當中提到：「昨天，西元 1941 年 12 月 7 日，美利堅合眾國遭到了日本帝國海空軍預謀的突然襲擊。美國當時與日本處於和平狀態，而且應日本的請求，與其政府進行對話，希望夠維持太平洋和平。……不論要用到多長的時間才能戰勝這次預謀的侵略，美國人民與正義之師必贏的徹底勝利。……」羅斯福發表此演說的背景為何？(A)日軍攻入南京，殘殺軍民行為缺乏正義 (B)日本攻擊珍珠港，破壞太平洋和平 (C)日本終止美國石油進口，引發商貿衝突 (D)日本成功占領台灣，阻礙美國勢力發展。
58. 蔣中正曾說：「現在我們國家正處於內憂外患相逼之時，一方面國內有狂暴的土匪，天天拼命的殺人放火；一方面國外有日本帝國主義，天天向我們猛烈侵略。日寇敢來侵略我們的土地，甚至公然要來滅亡我們整個國家，就是因為我們國內有土匪擾亂，不能統一。」請問：下列哪一場行動及與前述考量的情形最有直接關係？(A)建立以黨治國的方針 (B)規劃聯共抗日策略 (C)積極展開剿共戰爭 (D)結盟美國對抗日本。
59. 中華人民共和國有一個時期流行的順口溜如下：「生活集體化，食堂如我家」、「吃飯不花錢，努力搞生產」、「人人進入新樂園，吃喝穿用不要錢；雞鴨魚肉味道鮮，頓頓可以吃四盤；天天可以吃水果，各樣衣服穿不完。」這些順口溜的內容是指下列何者？(A)外資到上海建設大型遊樂園 (B)台商在中國所投資設立的工廠 (C)共產主義社會實施的人民公社 (D)中國創辦的新式綜合型大賣場。
60. 同學們在學習近代史的過程中，曾經出現過許多關於「數字」的事件，例如 (甲)九一八事件 (乙)七七事變 (丙)五九國恥 (丁)五四運動 (戊)五三慘案。請問：上述事件中，請按發生的先後順序依序排列為何？(A)丙戊丁乙甲 (B)戊丙乙甲丁 (C)丙丁戊甲乙 (D)戊乙甲丙丁。

【~ 試題結束，文光八年級、歷史科 ~】

澎湖縣立文光國民中學 109 學年度第 2 學期 第 2 次成績評量 8 年級地理科試卷

班級：\_\_\_\_\_ 姓名：\_\_\_\_\_ 座號：\_\_\_\_\_ ■ 讀卡 □ 答案卷

一、單一選擇題（十五題，每題 2 分，共 30 分）

1. ( ) 世界各地的麥當勞都有不一樣的菜單，巨無霸漢堡一般用的是牛肉，但是在印度則是把牛肉換成了雞肉，其他漢堡主要有羊肉、魚肉等，還有專供素食的蔬菜。請問：麥當勞在印度的菜單做了些許調整，主要是為了下列何種因素？ (A) 形勢封閉 (B) 人口眾多 (C) 宗教制度 (D) 殖民影響。
2. ( ) 「這個國家近年來，每年大約產出 1,600 部電影，以平均每天產出 4.3 部的數量，成為世界第一的電影產出國家，而一般都以寶萊塢(Bollywood)電影統稱該國電影。」請問：文中提及的國家為何？ (A) 美國 (B) 中國 (C) 印度 (D) 泰國。
3. ( ) 東南亞地區成為世界上重要的熱帶栽培作物產地，主要是因具有下列哪些環境優勢？ (甲) 火山多，地震頻繁 (乙) 熱量足，降水豐沛 (丙) 人口多，勞力低廉 (丁) 港口多，運輸便利 (A) 甲乙 (B) 甲丙 (C) 乙丙 (D) 丙丁。
4. ( ) 美國在西元 2018 年正式提出「印太戰略」，以與中國的「一帶一路」互別苗頭。請問：印太戰略所在的區域位在哪二大洋之間？ (A) 太平洋、大西洋 (B) 大西洋、印度洋 (C) 太平洋、印度洋 (D) 太平洋、北極海。
5. ( ) 柬埔寨的吳哥窟結合了印度教文化，越南河內的孔廟以漢字撰寫匾額，上述現象的形成與哪一個因素最相關？ (A) 地理位置 (B) 季風風向 (C) 地勢起伏 (D) 河流流向。
6. ( ) 進入二十一世紀後，東南亞各國以東南亞國家協會為基礎，進一步推動「東南亞自由貿易區(AFTA)」，其主要目標為何？ (A) 與歐洲聯盟分庭抗禮 (B) 實現與美國貿易全面零關稅 (C) 達到區域內使用統一貨幣 (D) 全面實現區域內自由貿易。
7. ( ) 印度雖為世界人口第二大國，更為世界四大古文明之一，卻也難逃被西方強權殖民的命運。早期在英國的統治下，印度主要輸出下列哪兩種作物？ (A) 稻米、小麥 (B) 甘蔗、咖啡 (C) 橡膠、油棕 (D) 棉花、茶葉。
8. ( ) 南亞氣候在世界氣候分類中，主要屬於下列何種類型？ (A) 高地氣候 (B) 熱帶沙漠 (C) 熱帶雨林 (D) 熱帶季風。
9. ( ) 某研究顯示：「今日印度『該政策』除了經濟層面外，還增加了政治、戰略及文化層面。印度將與印尼、馬來西亞、日本、南韓、澳洲、新加坡及東協的關係升級成為戰略夥伴，建立更緊密互動。東協、東亞高峰會、環孟加拉灣多領域技術暨經濟合作倡議、亞洲合作對話機制，以及環印度洋區域合作聯盟等，都是印度積極參與的多邊機制。」上述提到印度的「該政策」，與印度—太平洋戰略不謀而合，構成了美國安全防禦圈的外圍，該政策應是下列何者？ (A) 西進政策 (B) 東進政策 (C) 南向政策 (D) 南進政策。
10. ( ) 印度獨立後，因某些因素影響，產業轉型無法順利推展。請問：目前印度的產業轉型有下列何項特徵？ (A) 持續停留在第一級產業為主 (B) 持續停留在第二級產業為主 (C) 從第一級產業轉變成以第二級產業為主 (D) 從第一級產業轉變成以第三級產業為主。

【第 1 頁結束—背面尚有試題】

11. ( )在南亞地區若想要見到熱帶風情的珊瑚礁島國景觀，應前往下列哪一個國家？ (A)印度 (B)孟加拉 (C)巴基斯坦 (D)馬爾地夫。
12. ( )南亞大部分國家的傳統社會結構，具有明顯的階級制度，下列哪一個宗教源自於印度，卻主張打破階級制度，追求人人平等，是世界四大宗教之一？ (A)佛教 (B)基督教 (C)印度教 (D)伊斯蘭教。
13. ( )印度擁有豐富的礦產，但卻因為長年限制外國資金進入，導致國內基礎設施不足，生產效能低落，工業化速度緩慢。請問：此一經濟發展狀況，導致印度社會產生何種現象？ (A)貧窮人口眾多 (B)勞動人口不足 (C)佛教信仰為主 (D)茶葉生產量小。
14. ( )「這個國家的菜色料理非常多元，受到中國影響而有春捲、粽子、糕點都食物，甚至廟內文字也用漢字書寫，也曾受到法國殖民，改以煉乳調味的咖啡配上加入醃蘿蔔、蔬菜以及豬肉的法國麵包，超有飽足感。」請問：文中所述是下列哪一個國家？ (A)越南 (B)印尼 (C)菲律賓 (D)馬來西亞。
15. ( )印度首都新德里的居民在政府為了防堵疫情而全境封鎖 21 天、工廠停止的三週以來，空氣品質大改善，往北望去有 200 公里遠的世界屋脊都能清晰看見，就連山頂上白雪、山稜線都一清二楚！請問：首都居民所望見的山脊最有可能是哪一座山脈？ (A)中央山脈 (B)太白山脈 (C)橫斷山脈 (D)喜馬拉雅山。

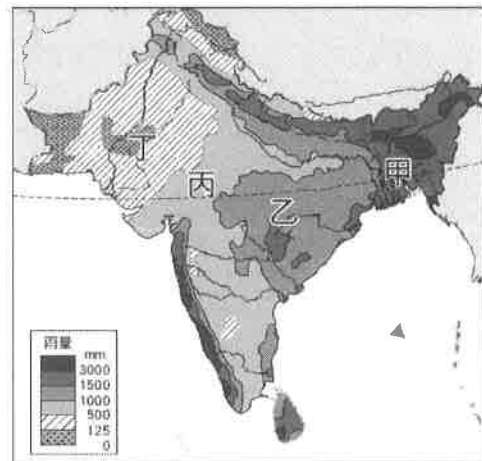
二、題組(五題，每題 1 分，共 5 分)

(一) 附圖為東南亞簡圖，甲~丁代表不同國家。請問：



16. ( )圖中哪一個國家主要受佛教文化薰陶，人民多數信奉佛教？ (A)甲 (B)乙 (C)丙 (D)丁。
17. ( )圖中甲~丁四國具有下列哪兩項共同特色？ (甲)皆為石油主要出口國 (乙)皆為熱帶雨林氣候 (丙)皆為新興工業化國家 (丁)皆是東南亞國家協會成員國 (A)甲乙 (B)乙丁 (C)乙丙 (D)丙丁。

(二) 附圖是印度半島的降水量分布圖。請問：



18. ( )印度半島的降雨主要是由什麼季風帶來？ (A)東北季風 (B)西南季風 (C)東南季風 (D)西北季風。
19. ( )承上題，該地區降水量多的原因為何？ (A)距海較近 (B)海岸線長 (C)盛行風迎風坡 (D)蒸發旺盛，氣流升騰致雨。
20. ( )圖中的甲、乙、丙、丁四區何地可能有熱帶沙漠的分布？ (A)甲 (B)乙 (C)丙 (D)丁。

【第 2 頁結束—背面尚有試題】

澎湖縣立文光國民中學 109 學年度第 2 學期 第 2 次成績評量 8 年級公民科試卷

班級：\_\_\_\_\_ 姓名：\_\_\_\_\_ 座號：\_\_\_\_\_ ■ 讀卡 □ 答案卷

一、單一選擇題(十五題，21~30 題每題 2 分，31~35，每題 1 分，共 25 分)

21. ( ) 下列何種說法，符合「罪刑法定」的精神？ (A)任何人在行使權利或履行義務時，不能為了圖利自己而犧牲他人的利益 (B)法律必須因應時空環境的變遷而有所調整 (C)行為之處罰，以行為時之法律有明文規定者為限 (D)法律規範人民的權利義務。
22. ( ) 每一項法律都有主要的規範目的與責任。《刑法》是規範什麼的法律？ (A)各種重要的基本人權 (B)政府與人民之間的關係 (C)構成犯罪的行為與處罰 (D)各種常見的行政糾紛。
23. ( ) 依照《勞動基準法》的規定，所謂的「童工」年齡為何？ (A)15 歲以下 (B)18 歲以下 (C)12 歲以上未滿 15 歲 (D)15 歲以上未滿 16 歲。
24. ( ) 「刑罰」係指《刑法》規範對犯罪者的處罰方式，主要以剝奪犯罪者既有權利，以造成其權益減損的方式為之，下列何者不屬於刑罰剝奪的人民權利 (A)犯罪行為人之財產 (B)犯罪行為人之生命 (C)犯罪行為人之信仰 (D)犯罪行為人之自由。
25. ( ) 新聞報導：一間超商發生打架事件，6 名少年將店員拖出店外毆打，只因為他們想購買香菸，卻被店員要求出示證件。下列敘述何者正確？ (A)店員要求少年出示證件是遵守法律的行為 (B)店員並沒有權力要求少年出示證件 (C)買菸的少年態度不佳，店員因而拒賣 (D)對於購買香菸一事，法律並無相關限制。
26. ( ) 為增進出獄者順利就業的機會，臺灣更生保護會提供就業資訊，協助出獄者做好生涯規畫，儘速融入就業市場。根據上述內容判斷，臺灣更生保護會的做法是為了達到下列何種目的？ (A)報復他人 (B)懲罰犯罪 (C)嚇阻犯罪 (D)幫助犯罪行為人回歸社會。
27. ( ) 警方查獲 16 歲的青青從事性交易，此時應依下列何種法律來給予青青保護安置？ (A)《兒童及少年福利與權益保障法》 (B)《性別平等教育法》 (C)《家庭暴力防治法》 (D)《兒童及少年性剝削防制條例》。
28. ( ) 《刑法》雖然明文規定，犯罪者應受刑事制裁，但刑罰立法的目的並不包括下列何者？ (A)懲罰犯罪 (B)掌控人民 (C)嚇阻犯罪 (D)矯正犯罪。
29. ( ) 在《刑法》所規定的主刑中，有關金錢的處罰為下列何者？ (A)無期徒刑 (B)拘役 (C)罰鍰 (D)罰金。
30. ( ) 從刑是指附加於主刑所科處的刑罰，除有特別規定外，不得單獨科處。下列何者為刑罰的從刑？ (A)有期徒刑 (B)拘役 (C)罰金 (D)褫奪公權。
31. ( ) 新聞報導：韓國爆發一起震驚社會的犯罪事件，主嫌誘拐包含 16 名未成年人拍攝性侵害、性虐待影片，於社群軟體開設不同空間分級觀看，並分級收費。某節目邀請來賓以我國的法律看此事件，下列何者提出的看法並不正確？ (A)甲：民眾發現類似狀況都可以撥打 113 通報 (B)乙：我國會對遭受身心損害的兒少提供心理輔導 (C)丙：嫌犯可能會被依《兒童及少年性剝削防制條例》處以刑罰 (D)丁：觀看影片的網友會被送緊急短期的收容安置。
32. ( ) 下列何者的行為已經違反《刑法》的規定，屬於犯罪行為？ (A)王媽騎機車沒戴安全帽 (B)張爸邊開車邊滑手機 (C)李弟把零用錢都拿去買零食 (D)王姐開車不慎撞死他人。

【第 3 頁結束—背面尚有試題】

33. ( ) 早期童星透過經紀合約從事演藝工作並不適用《勞動基準法》，形成童工保障的漏洞，因而有 6 歲童星連續工作 20 個小時還不能睡覺。後來修法將童星納入《勞動基準法》準用童工保護規定，童星如果超時工作，雇主將受罰。依照《勞動基準法》規定，童工每日工作時間不得超過幾小時？ (A)6 (B)8 (C)10 (D)12。
34. ( ) 《兒童及少年福利與權益保障法》規定，父母或監護人應負保護、教養的責任，如果父母沒有善盡保護兒童及少年的責任，將受到處罰。下列何者為處罰內容？ (A)罰鍰 (B)罰金 (C)拘役 (D)接受職業訓練。
35. ( ) 老張的工廠為了因應耶誕節飾品需求，且為了節省生產成本，雇用幾位國中學生在晚上到工廠趕工，此舉可能會觸犯下列何種法律？ (A)《勞動基準法》 (B)《性別平等教育法》 (C)《接受職業訓練》 (D)《兒童及少年性剝削防制條例》。

## 二、題組(五題，36~40 每題 1 分，共 5 分)

(一)新聞報導：「一名包商在國有林班地內施作工程時，看見有一株因施工需要被挖除的七里香，他認為這株樹放在地上也活不了，便載運回家種植，卻在路上被警方查獲，檢方將其依違反《森林法》起訴，最後被法官判處 4 個月刑期，另併科罰金。」請回答下列問題：

36. ( ) 上述包商被判處 4 個月刑期，這是屬於下列何種刑罰？ (A)死刑 (B)無期徒刑 (C)有期徒刑 (D)罰金。
37. ( ) 包商被判處罰金，表示他應負起下列何種責任？ (A)政治責任 (B)刑事責任 (C)行政責任 (D)道義責任。
38. ( ) 依照《森林法》規定，違法者除判刑，另併科罰金。此一明確的刑罰規範，讓大眾不敢輕易以身試法，最主要是想達到下列何種目的？ (A)報復犯罪者 (B)懲罰犯罪 (C)嚇阻犯罪 (D)幫助犯罪行為人改過自新。

(二)以下是網維在電視上看到的一則新聞內容

請根據內容，回答下列問題：

39. ( ) 網路的發達使兒童遭到性剝削的案件迅速增加。政府為了防制兒童及少年遭受性剝削，因此制定下列哪項法律？ (A)《勞動基準法》 (B)《兒童權利公約施行法》 (C)《兒童及少年性剝削防制條例》 (D)《兒童及少年福利與權益保障法》。
40. ( ) 若兒童或少年在網路上閱讀不良出版品，父母不加以制止，未善盡保護責任，會因為違反下列哪部法律規定，而被處以罰鍰？ (A)《性別平等教育法》 (B)《兒童權利公約施行法》 (C)《家庭暴力防治法》 (D)《兒童及少年福利與權益保障法》。

……根據警方統計，在查獲的未成年網路犯罪案件當中，兒童性交易案和妨害風化案的增加率最為驚人。警方表示，青少年利用虛擬身分，在網路上的言談愈來愈大膽，且年齡層逐漸降低。警方呼籲，父母應多花時間關心子女，主動了解他們上網的內容，以免將來後悔莫及。

【第 4 頁結束—背面尚有試題】